

资料分析

刷题部分

目 录

刷题练习【一】	2
刷题练习【二】	14
参考答案.....	26

刷题练习【一】

(一) 2015年,全国居民人均可支配收入为21966元,比上年增长8.9%,增长率比2014年下降1.2个百分点。按常住地分,城镇居民人均可支配收入为31195元,比上年增长8.2%,增长率比2014年下降0.8个百分点;农村居民人均可支配收入为11422元,比上年增长8.9%,增长率比2014年下降2.3个百分点。全年农村居民人均纯收入为10772元。全国农民工人均月收入为3072元,比上年增长7.2%。全国居民人均消费支出为15712元,比上年增长8.4%。按常住地分,城镇居民人均消费支出为21392元,增长7.1%;农村居民人均消费支出为9223元,增长10.0%。

2015年,全国参加城镇职工基本养老保险人数为35361万人,比上年末增加1236万人,比2013年末增加3133万人;参加城乡居民基本养老保险人数为50472万人,增加365万人,比2013年末增加772万人;参加城镇基本医疗保险人数为66570万人,增加6823万人,比2013年末增加9525万人。其中,参加职工基本医疗保险人数为28894万人,增加598万人;参加城镇居民基本医疗保险人数为37675万人,增加6225万人。参加失业保险人数为17326万人,增加283万人。参加工伤保险人数为21404万人,增加765万人,其中参加工伤保险的农民工为7489万人,增加127万人。参加生育保险人数为17769万人,增加730万人。

1. 2013年,城镇居民人均可支配收入约为多少万元? ()

- A. 1.9 B. 2.2 C. 2.6 D. 3.0

2. 2015年,下列指标中同比增长最快的是 ()。

- A. 全国农民工人均月收入 B. 城镇居民人均消费支出
C. 农村居民人均可支配收入 D. 农村居民人均消费支出

3. 2014 年，参加城镇职工基本养老保险人数比上年同期约增长了（ ）。

- A. 4.4% B. 4.9% C. 5.4% D. 5.9%

4. 2014 年，参加城镇居民基本医疗保险的人数约占当年参加城镇基本医疗保险人数的（ ）。

- A. 59% B. 53% C. 42% D. 36%

5. 能够从上述资料中推出的是（ ）。

- A. 2014 年，参加工伤保险人数多于参加生育保险人数
B. 2015 年，参加失业保险的人数比上年增长 2% 以上
C. 2015 年，城乡居民基本养老保险人数同比增量高于 2014 年
D. 2015 年，城镇居民人均消费支出金额不到人均可支配收入的 $\frac{2}{3}$

(二)截至 2017 年末,全国就业人员 77640 万人,比上年末增加 37 万人;其中城镇就业人员 42462 万人,比上年末增加 1034 万人。全国就业人员中,第一产业就业人员占 27.0%;第二产业就业人员占 28.1%;第三产业就业人员占 44.9%。2017 年全国农民工总量 28652 万人,比上年增加 481 万人,其中外出农民工 17185 万人。

2012—2016 年末按三次产业分就业人员情况表 单位:万人

年份	2012	2013	2014	2015	2016
就业人员	76704	76977	77253	77451	77603
第一产业	25773	24171	22790	21919	21496
第二产业	23241	23170	23099	22693	22350
第三产业	27690	29636	31364	32839	33757

2012—2017 年末按经济类型分城镇就业人员情况表 单位:万人

年份	2012	2013	2014	2015	2016	2017
城镇就业人员	37102	38240	39310	40410	41428	42462
其中:国有单位	6839	6365	6312	6208	6170	6064
城镇集体单位	589	566	537	481	453	406
有限责任公司	3787	6069	6315	6389	6381	6367
股份有限公司	1243	1721	1751	1798	1824	1846
私营企业	7557	8242	9857	11180	12083	13327
其他	17087	15277	14538	14354	14517	14452

1. 2017 年末,全国第一产业就业人员约为多少万人? ()

- A. 11465 B. 11963 C. 20465 D. 20963

2. 2012~2017 年,下列经济类型中,全国城镇就业人员增速最快的是 ()。

- A. 私营企业 B. 有限责任公司 C. 国有单位 D. 股份有限公司

3. 2017 年末，国有单位和城镇集体单位城镇就业人员约占全国城镇就业人员的（ ）。

- A. 13% B. 15% C. 17% D. 19%

4. 2012~2016 年，我国第三产业就业人员占全国就业人员比例最大的年份是（ ）。

- A. 2013 年 B. 2014 年 C. 2015 年 D. 2016 年

5. 能从上述资料中推出的是（ ）。

- A. 2012~2017 年，全国有限责任公司城镇就业人员逐年递增
B. 2016 年，全国第二产业就业人员比 2012 年减少超过 1000 万人
C. 2017 年，外出农民工约占全国农民工总量的 80%以上
D. 2013~2017 年，全国城镇就业人员数量增长最多的年份是 2013 年

(三)

2015—2017 年我国旅游业相关指标及同比增速

指标	单位	2015 年		2016 年		2017 年	
		总量	增速	总量	增速	总量	增速
国内旅游人数	亿人次	40.00	10.8%	44.40	11.0%	50.01	12.6%
国内旅游收入	万亿元	3.42	12.9%	3.94	15.2%	4.57	16.0%
入境旅游人数	亿人次	1.34	4.7%	1.38	3.0%	1.39	0.7%
实现国际旅游收入	亿美元	1136.50	7.8%	1200.00	5.6%	1234.00	2.8%
出境旅游人数	亿人次	1.17	9.3%	1.22	4.3%	1.31	7.4%
出境旅游花费	亿美元	1045.00	16.6%	1098.00	5.1%	1152.90	5.0%
全年实现旅游业总收入	万亿元	4.13	10.7%	4.69	13.6%	5.40	15.1%
全国旅游业对 GDP 的综合贡献	万亿元	7.34	11.0%	8.19	11.6%	9.13	11.5%
直接就业	万人	2798.00	0.7%	2813.00	0.5%	2825.00	0.4%
直接和间接就业	万人	7911.00	0.5%	7962.00	0.6%	7990.00	0.4%

1. 2015~2017 年, 表中我国旅游业相关指标中, 3 年增长率均超过 6% 的有几个? ()

- A. 2 B. 3 C. 4 D. 5

2. 2015 年、2016 年及 2017 年这 3 年的旅游业总收入同比增量均值 ()。

- A. 不到 4000 亿元 B. 在 4000~6000 亿元之间
 C. 在 6000~8000 亿元之间 D. 超过 8000 亿元

3. 2017 年，国内旅游平均每人次创造旅游收入比 2015 年（ ）。

- A. 增加不到 100 元
- B. 增加 100 元以上
- C. 减少不到 100 元
- D. 减少 100 元以上

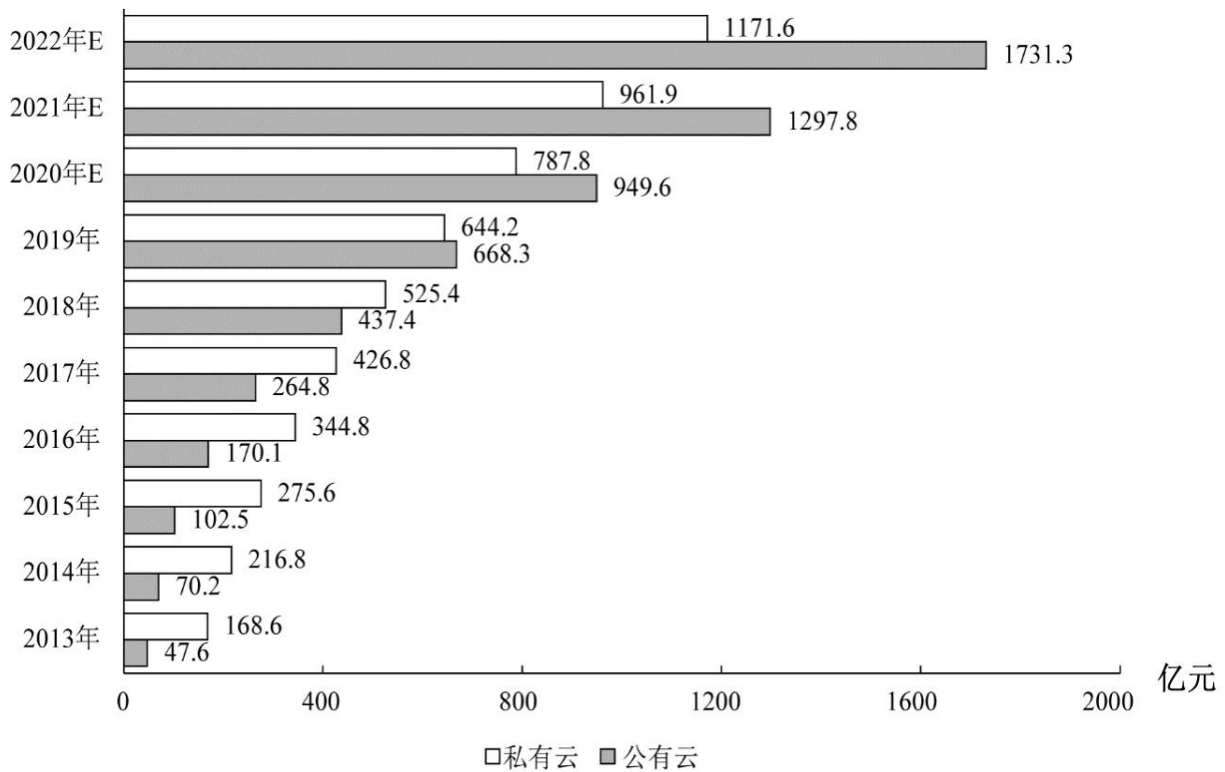
4. 2014~2017 年，出境旅游平均每人次花费最多的年份是（ ）。

- A. 2014 年
- B. 2015 年
- C. 2016 年
- D. 2017 年

5. 能够从上述资料中推出的是（ ）。

- A. 2016 年，入境旅游人数增速比 2015 年降低 1.7 个百分点
- B. 2017 年，旅游业直接就业占直接和间接就业的比重不到 30%
- C. 2015~2017 年，全国旅游业对 GDP 的综合贡献同比增速逐年增大
- D. 2015~2017 年，每年出境旅游花费同比增速都高于国际旅游收入同比增速

(四)



2013~2022年某地区云计算市场规模现状及预测

注：含“E”的年份为预估或者预测数值。

1. 2014年该地区私有云市场规模和公有云市场规模之比最接近以下哪一项？（ ）

- A. 1 : 4 B. 4 : 1 C. 1 : 3 D. 3 : 1

2. 根据预测，2021年该地区云计算整体市场规模最接近以下哪个数字？（ ）

- A. 1300 亿元 B. 1700 亿元 C. 2300 亿元 D. 2900 亿元

3. 根据资料中所给数据和预测，2014~2022 年间该地区公有云市场规模同比增速超过 50%的年份有几个？（ ）

- A. 6 B. 5 C. 4 D. 3

4. 根据预测，2022 年该地区云计算市场整体规模同比增长（ ）。

- A. 22.6% B. 28.5% C. 32.3% D. 34.5%

5. 根据材料中所给数据和预测，能够从上述资料中推出的是（ ）。

- A. 2022 年该地区公有云和私有云市场规模差距将超过 500 亿元
B. 2020 年该地区公有云市场规模将首次超过私有云市场规模
C. 2019~2022 年该地区私有云市场规模同比增量逐年递减
D. 2022 年该地区私有云市场规模较 2017 年将增长 300%以上

(五)

2011—2018 年全国各地区风力发电年末累计装机容量

单位：万千瓦

	2011	2012	2013	2014	2015	2016	2017	2018
华北	2686.6	2995.4	3345.9	3855.7	4477.5	5030.1	5532.1	6076.6
东北	1226.0	1438.0	1602.6	1729.1	1899.8	1977.2	2029.2	2097.0
华东	861.2	1090.9	1329.0	1665.3	2066.8	2536.4	2987.9	3474.0
华中	52.3	87.3	200.3	343.6	558.8	765.4	1082.4	1491.0
华南	163.8	219.9	288.4	354.6	427.3	532.4	665.4	855.5
西南	124.9	271.4	402.1	627.4	1060.4	1387.8	1563.8	1681.0
西北	1135.4	1443.1	1986.6	2898.9	4059.5	4658.0	4978.0	5278.1

1. 2018 年华北地区风力发电年末累计装机容量约占全国的 ()。

- A. 18% B. 23% C. 29% D. 36%

2. 2012~2018 年间，东北地区风力发电年末累计装机容量同比增速超过 10% 的年份有多少个？

()

- A. 2 B. 3 C. 4 D. 5

3. 2014 年末~2018 年末，西部地区（含西南和西北）风力发电累计装机容量年均增长（ ）。

- A. 不到 800 万千瓦
B. 在 800~850 万千瓦之间
C. 在 850~900 万千瓦之间
D. 超过 900 万千瓦

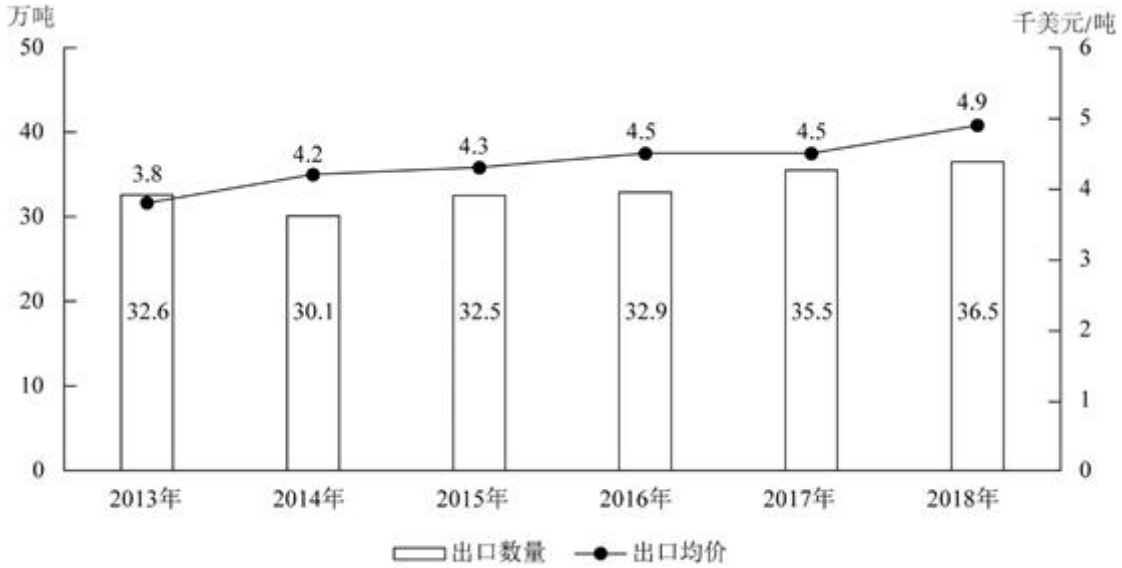
4. 2012~2018 年间华中地区风力发电年末累计装机容量同比增速最快的一年，当年年末华东地区风力发电累计装机容量同比增量约是华南地区的多少倍？（ ）

- A. 2.6
B. 3.5
C. 4.1
D. 5.1

5. 能够从上述资料中推出的是（ ）。

- A. 2014 年全国风力发电年末累计装机容量同比增量最大的地区是华北
B. 2017 年华北地区风力发电年末累计装机容量同比增长了一成以上
C. 华中和华南地区风力发电年末累计装机容量之和在 2015 年末首次超过 1000 万千瓦
D. 如保持 2018 年末同比增速，2020 年华中地区风力发电年末累计装机容量将高于东北

(六) 2018 年全球茶叶产量 585.6 万吨, 同比增长约 3%, 中国茶叶产量 261.6 万吨, 同比增长 0.7 万吨。2018 年, 中国茶叶国内销售量为 191 万吨, 同比增长 5.1%, 国内销售总额为 2661 亿元, 出口量为 36.5 万吨, 同比增长 2.8%, 出口总额为 17.89 亿美元 (合人民币 120 亿元), 同比增长 (?)。



2013年~2018年我国茶叶出口量及出口均价走势图

1. 2018 年中国茶叶产量占全球茶叶产量的比重与 2017 年相比 ()。

- A. 上升了约 1 个百分点
- B. 上升了约 10 个百分点
- C. 下降了约 1 个百分点
- D. 下降了约 10 个百分点

2. 设中国茶叶国内销售量和出口量与当年中国茶叶产量的比值分别为 x 和 y , 则 2018 年的 x 和 y 值与 2017 年分别相比 ()。

- A. 两者均下降
- B. 两者均上升
- C. 只有 x 值上升
- D. 只有 y 值上升

3. 资料中“（？）”处应当填入的数值最可能是以下哪一个？（ ）
- A. 12% B. 16% C. 20% D. 24%
4. 2016~2018 年我国茶叶月均出口量约比 2013~2015 年间高多少万吨？（ ）
- A. 3.2 B. 1.5 C. 0.8 D. 0.3
5. 能够从上述资料中推出的是（ ）。
- A. 2018 年全球茶叶产量同比增长了 20 万吨以上
- B. 2014~2018 年间中国茶叶出口均价增速最快的年份，出口量也为正增长
- C. 2017 年中国茶叶出口总额同比增长了不到 10%
- D. 2018 年国内销售的茶叶平均价格超过 120 元/市斤

刷题练习【二】

(一) 2016年全国女性就业人员占全社会就业人员的比重为43.1%，其中城镇单位女性就业人员6518万人，比2010年增加1656万人。

2016年公有制企事业单位中女性专业技术人员1480万人，比2010年增加211万人，所占比重达47.8%，提高2.8个百分点；其中女性高级专业技术人员161万人，比2010年增加59.3万人，所占比重38.3%，提高3个百分点。

2016年企业董事会中女职工董事占职工董事的比重为39.9%，企业监事会中女职工监事占职工监事的比重为40.1%，比2010年分别提高7.2和4.9个百分点；企业职工代表大会中女性代表比重为28.7%，略低于2010年0.3个百分点。

2016年女性参加生育保险的人数达8020万人，比2010年增长49%。2016年，参加城镇职工基本医疗保险的女性1.4亿人，比2011年增长21.5%；参加城镇居民基本医疗保险的女性1.9亿人，比2011年增长了1.5倍。

2016年全国参加城镇职工基本养老保险人数3.8亿人，其中女性1.8亿人，占比比2010年提高3个百分点；2016年，参加城乡居民基本养老保险人数5.1亿人，其中女性超过1.7亿人。

2016年全国参加失业保险的人数超过1.8亿人，其中女性7551万人，分别比2010年增加4713万人和2402万人，增长约35%和47%；参加工伤保险人数2.2亿人，其中女性8129万人，分别比2010年增加5728万人和2429万人，增长约35%和43%。

1. 2010~2016年全国城镇单位女性就业人员年均增加约多少万人？（ ）

- A. 207 B. 237 C. 276 D. 331

2. 2016年公有制企事业单位中，高级专业技术人员占专业技术人员的比重约为（ ）。

- A. 7.5% B. 13.6% C. 22.9% D. 36.1%

3. 2016 年参加城镇职工和城镇居民基本医疗保险的女性比 2011 年增长了约多少倍? ()

- A. 0.7 B. 1.2 C. 1.7 D. 2.2

4. 如 2017 年及以后年份同比增量保持不变, 同比增量按照 2011~2016 年间同比增量的平均值计算, 全国参加失业保险的女性将在哪年超过 1.2 亿人? ()

- A. 2024 B. 2026 C. 2028 D. 2030

5. 能够从上述资料中推出的是 ()。

- A. 2016 年全国参加工伤保险的人中, 女性占比低于 2010 年水平
B. 2010 年全国参加城镇职工基本养老保险的人中, 女性占比低于 40%
C. 2010 年女职工董事占职工董事的比重高于女职工监事占职工监事的比重
D. 2010 年公有制企事业单位中男性高级专业技术人员不到 210 万人

(二)

2017 与 2019 年全球医疗器械销售额

(单位: 亿美元)

序号	细分市场	2017 年	2019 年
1	创伤护理	130	145
2	耳鼻喉科	89	100
3	骨科	365	408
4	IVD	526	588
5	内镜	185	207
6	肾病	117	129
7	神经外科	86	96
8	糖尿病	117	132
9	心血管	469	524
10	牙科	139	155
11	眼科	277	310
12	药物传输	185	207
13	医疗软件	118	133
14	影像	395	442
15	整形	221	247
16	其他	631	706
销售总额		4050	4529

1. 若 2017 年全球医疗器械销售总额同比提高 4.6%，IVD 医疗器械销售额在全球医疗器械销售总额中占比同比提高 3 个百分点，则 2016 年 IVD 医疗器械的销售额约为（ ）亿美元。

- A. 354 B. 387 C. 407 D. 421

2. 2017 年，除其他类外，在全球医疗器械销售总额中占比超过 5%的细分市场有（ ）个。

- A. 4 B. 5 C. 6 D. 7

3. 2019 年，除其他类外，排名前五的细分市场销售额之和约占全球医疗器械销售总额的（ ）。
A. 35.5% B. 40.0% C. 45.6% D. 50.2%

4. 与 2017 年相比，除其他类外，2019 年全球医疗器械销售额增幅最小的细分市场是（ ）。
A. 肾病 B. 心血管 C. 骨科 D. 医疗软件

5. 根据上表，下列说法正确的是（ ）。

A. 2017~2019 年，全球医疗器械销售总额年均增长率大于 6%

B. 2019 年，牙科医疗器械销售额在全球医疗器械销售总额中的占比较耳鼻喉科高 2.1 个百分点

C. 与 2017 年相比，2019 年糖尿病医疗器械销售额在全球医疗器械销售总额中的占比有所上升

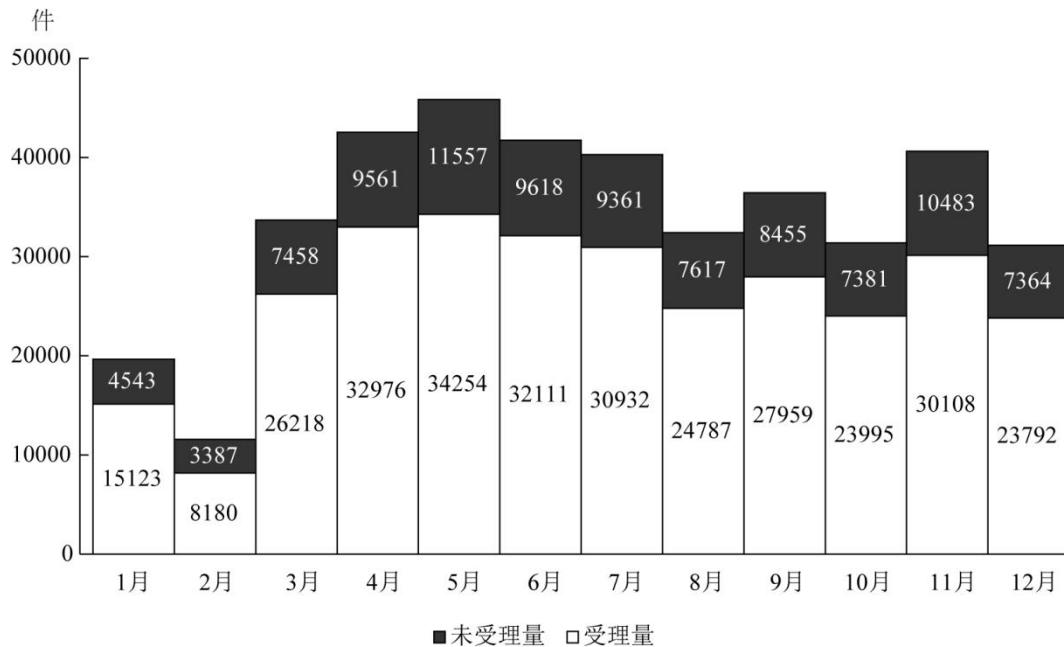
D. 与 2017 年相比，2019 年医疗器械销售额增长超过 50 亿美元的细分市场有 4 个

(三) 2020 年 12 月, 全国“12369 环保举报联网管理平台”共接到环保举报 31156 件, 环比下降 23.2%, 同比下降 10.3%。其中, 受理量 23792 件, 较 11 月减少 6316 件; 因举报线索不详或不属于生态环境部门职责范围而未受理 7364 件, 较 11 月减少 3119 件。

2020 年各月不同途径的环保举报数量

单位: 件

	电话举报	微信举报	网上举报	其他渠道举报
1 月	7759	9410	2365	132
2 月	2993	7288	1223	63
3 月	12310	18588	2540	238
4 月	16898	22585	2707	347
5 月	19113	23657	2628	413
6 月	18441	19676	2724	888
7 月	18160	18888	2569	676
8 月	12222	17276	2413	493
9 月	15265	17646	2554	949
10 月	12512	15195	2923	746
11 月	14862	20213	4573	943
12 月	11970	14069	4116	1001



2020 年各月环保举报受理情况

1. 2020 年 1 月, 全国“12369 环保举报联网管理平台”接到环保举报件数比上个月 ()。
- A. 下降了不到 30% B. 下降了 30%以上
- C. 上升了不到 30% D. 上升了 30%以上

2. 2020 年 1~4 月，通过微信举报的件数占当月环保举报件数比重最高的月份是（ ）。

- A. 1 月 B. 2 月 C. 3 月 D. 4 月

3. 2020 年下半年，环保举报的受理率超过 75%的月份有几个？（ ）

- A. 3 B. 4 C. 5 D. 6

4. 如同一个月内各类举报的受理率彼此相同，则 2020 年 12 月通过电话的环保举报被受理的件数在以下哪个范围内？（ ）

- A. 低于 7501 件 B. 7501~8500 件之间
C. 8501~9500 件之间 D. 高于 9500 件

5. 以下折线图反映了 2020 年第二季度各月哪类环保举报件数环比增量的变化趋势？（ ）

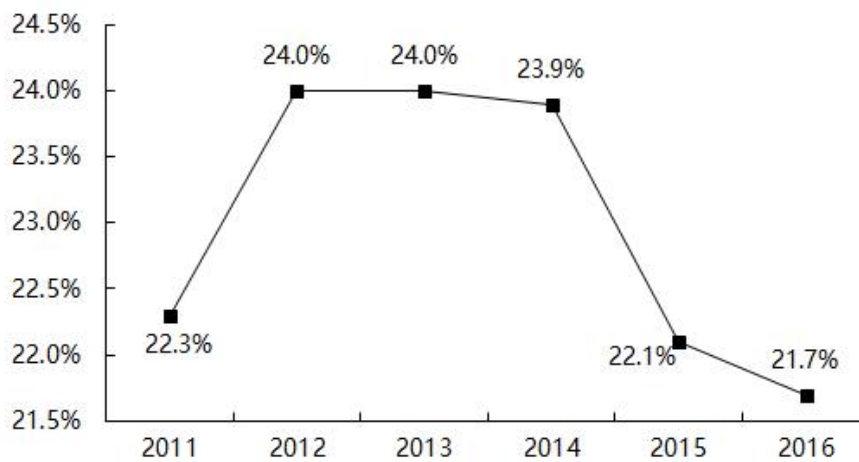


- A. 电话举报 B. 微信举报 C. 网上举报 D. 其他渠道举报

(四) 2016年“一带一路”沿线64个国家GDP之和约为12.0万亿美元,占全球GDP的16.0%;人口总数约为32.1亿人,占全球总人口的43.4%;对外贸易总额(进口额+出口额)约为71885.6亿美元,占全球贸易总额的21.7%。

2016年东南亚“一带一路”沿线国家情况

	人口 (万人)	GDP (亿美元)	进口额 (亿美元)	出口额 (亿美元)
总计	63852.5	25802.2	11267.2	11798.5
新加坡	558.4	2945.6	2968.9	3468.1
泰国	6898.1	4097.2	1957.4	2136.1
越南	9263.7	2013.6	1909.5	1865.0
马来西亚	3152.3	3092.6	1685.4	1895.7
印度尼西亚	25880.2	9369.6	1426.9	1502.8
菲律宾	10419.5	3103.1	859.4	563.1
缅甸	5225.4	740.1	219.1	131.1
柬埔寨	1577.6	194.8	141.7	135.4
文莱	42.3	91.0	32.4	63.4
老挝	716.3	133.6	60.4	34.4
东帝汶	118.7	21.0	6.1	3.4



2011—2016年“一带一路”沿线国家对外贸易占全球份额

1. 2016年东南亚“一带一路”沿线国家人口总数约占“一带一路”沿线64个国家人口总数的()。

- A. 35.6% B. 29.7% C. 19.9% D. 8.6%

2. 2016 年“一带一路”沿线国家人均 GDP 约是全球水平的多少倍？（ ）

- A. 2.7 B. 1.6 C. 0.9 D. 0.4

3. 2016 年东南亚“一带一路”沿线国家有几个呈现贸易逆差（进口额高于出口额）？（ ）

- A. 5 B. 6 C. 7 D. 8

4. 2016 年东南亚人均 GDP 最低的“一带一路”沿线国家，当年其进出口额约占东南亚“一带一路”沿线国家（ ）。

- A. 不到 0.1% B. 0.1%~1%之间
C. 1%~5%之间 D. 5%以上

5. 以下信息，可从资料中推出的有几条（ ）。

- ①2012~2016 年，每年“一带一路”沿线国家对外贸易占全球份额均低于上年水平
- ②2016 年东南亚“一带一路”沿线国家 GDP 占全球 GDP 的比重在 4%~6%之间
- ③2016 年东南亚“一带一路”沿线国家中，人口最多的 2 个国家进出口总额均未排进前三

- A. 0 B. 1 C. 2 D. 3

(五) 2018年,某市实现地区生产总值24221.98亿元,比上年增长7.6%。其中,第一产业增加值22.09亿元,增长3.9%;第二产业增加值9961.95亿元,增长9.3%;第三产业增加值14237.94亿元,增长6.4%。现代产业中,现代服务业增加值10090.59亿元,增长7.1%;先进制造业增加值6564.83亿元,增长12.0%;高技术制造业增加值6131.20亿元,增长13.3%。四大支柱产业中,金融业增加值3067.21亿元,增长3.6%;物流业增加值2541.58亿元,增长9.4%;文化及相关产业(规模以上)增加值1560.52亿元,增长6.3%;高新技术产业增加值8296.63亿元,增长12.7%。七大战略性新兴产业增加值合计9155.18亿元,比上年增长9.5%,占地区生产总值比重37.8%。其中,新一代信息技术产业增加值4772.02亿元,增长10.9%;数字经济产业增加值1240.73亿元,增长3.8%;高端装备制造产业增加值1065.82亿元,增长10.7%;绿色低碳产业增加值990.73亿元,增长11.7%;海洋经济产业增加值421.69亿元,下降11.3%;新材料产业增加值365.61亿元,增长8.6%;生物医药产业增加值298.58亿元,增长22.3%。

全市年末常住人口1302.67万人,其中常住户籍人口454.70万人,增长4.6%,占常住人口比重34.9%;常住非户籍人口847.97万人,增长3.6%,占比重65.1%。年末城镇登记失业率为2.3%。全年居民消费价格比上年上涨2.8%。全年完成一般公共预算收入3538.41亿元,比上年增长6.2%。其中税收收入2899.60亿元,增长9.2%。一般公共预算支出4282.54亿元,下降6.8%。

1. 2017年,该市三大产业增加值同比增速最快的是()。

- A. 第一产业 B. 第二产业 C. 第三产业 D. 无法判断

2. 2018年,下列产业对该市地区生产总值增长的贡献率最大的是()。

- A. 第三产业 B. 现代服务业
C. 文化及相关产业(规模以上) D. 高新技术产业

3. 2018 年，从产业增加值的同比增量看，该市七大战略性新兴产业中，高端装备制造产业和（ ）最接近。

- A. 新一代信息技术产业
- B. 数字经济产业
- C. 绿色低碳产业
- D. 生物医药产业

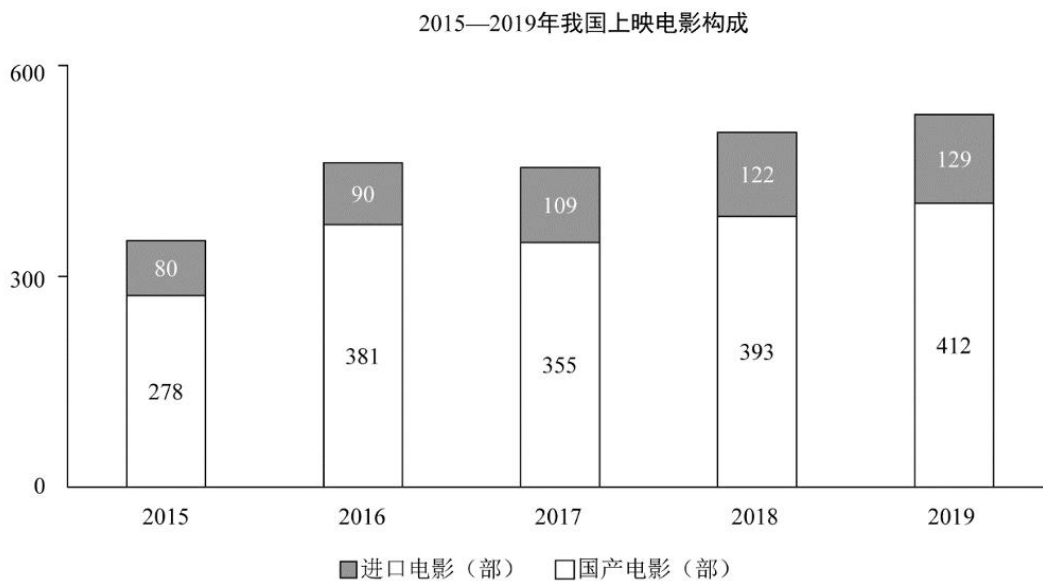
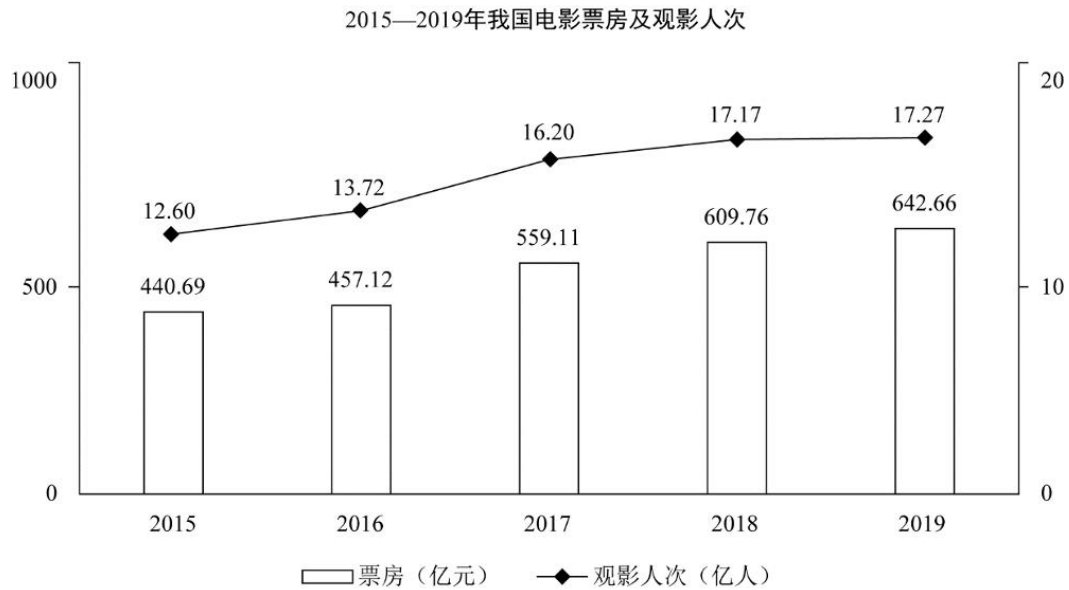
4. 2018 年，该市年末常住人口同比增长约（ ）。

- A. 3.6%
- B. 3.9%
- C. 4.1%
- D. 4.2%

5. 根据上文，下列说法正确的是（ ）。

- A. 2018 年，该市第二产业增加值占地区生产总值比重同比下降
- B. 2017 年，该市四大支柱产业中，物流业增加值最大
- C. 2018 年，该市年末城镇登记失业人口 29.96 万人
- D. 2018 年，该市一般公共预算收入中，非税收收入同比负增长

(六)



1. 若电影票房按“观影人次×平均票价”计算，则2019年电影平均票价比2015年（ ）。
- A. 高2.2元 B. 高3.9元 C. 低2.2元 D. 低3.9元

2. 2016~2019年，电影票房同比增幅最低的年份，当年观影人次的同比增幅为（ ）。

- A. 0.6% B. 6.9% C. 8.9% D. 18.1%

3. 2016~2019年，上映电影数同比增幅超过10%的年份有（ ）个。

- A. 1 B. 2 C. 3 D. 4

4. 2016~2019年，下列指标中，与下方折线图的变化趋势最相符的是（ ）。



- A. 上映国产电影数 B. 电影观影人次同比增量
C. 电影平均票价 D. 上映进口电影数同比增量

5. 根据上图，下列说法正确的是（ ）。

- A. 2015~2019年，上映电影数与电影票房的变化趋势一致
B. 2016~2019年，观影人次同比增长最快的一年，其电影票房及上映电影数均同比增长最快
C. 2015~2019年，上映电影平均票房均超1亿元/部
D. 2015~2019年，当年电影票房超过五年年均电影票房的年份有3个

参考答案

刷题一

- (一) CDDBA (二) DABDD (三) CBACA
(四) DCCBA (五) CACBD (六) CBADC

刷题二

- (一) CBACD (二) BCDAC (三) BBCCD
(四) CDBC B (五) DDCBD (六) ACBB D