

# 2025 年江西省公务员录用考试

## 笔 试 题 本

科目：行政职业能力测验

(试卷总分：100 分 考试时长：120 分钟)

姓 名：\_\_\_\_\_ 准考证号：\_\_\_\_\_

报考单位：\_\_\_\_\_ 报考岗位：\_\_\_\_\_

## 考试须知

1. 本次考试，共 135 题，满分 100 分，总时限为 120 分钟。
2. 考生必须携带本人身份证原件、准考证，按规定时间提前 20 分钟到达考场参加考试，并凭准考证和身份证对号入座，配合监考人员核实身份。
3. 本次考试为闭卷考试，应试人员不得携带任何资料进入考场，随身携带物品（手机必须关机）放在指定位置，本次考试中不允许使用计算器。
4. 考生自备 2B 铅笔、签字笔。请在答题前用签字笔在答题卡（纸）指定位置如实填写姓名、准考证号等。姓名、准考证号等不按规定填写或填写错误的，考试成绩无效。
5. 本次考试题目全部用签字笔在答题卡（纸）上作答，或用 2B 铅笔填涂客观题，未用规定的纸、笔作答的题目，作答无效。
6. 答题卡（纸）上不准留下任何无关的图案、文字，否则答题卡（纸）无效。
7. 宣布考试开始后，考生方可开始答题。题本、答题卡（纸）和草稿纸由监考老师于考试结束后分类统一收集。
8. 监考老师宣布考试结束时，考生应立即放下笔，将题本、答题卡（纸）和草稿纸留在桌上，不得带走，否则取消考试成绩。
9. 考生不得旁窥、议论和大声喧哗；考生必须服从监考工作人员的管理，有疑问请举手示意。
10. 违反考场纪律者给予警告，严重者取消考试资格。

## 展鸿 2025 年江西省公务员录用考试模拟卷（一）

### 《行政职业能力测验》

#### 第一部分 政治理论

根据题目要求，在四个选项中选出一个最恰当的答案。

请开始答题：

1. 2024 年 7 月，中国共产党第二十届中央委员会第三次全体会议在北京举行。全会提出，法治是中国式现代化的重要保障。关于法治建设的要求，下列说法错误的是（ ）。

- A. 必须全面贯彻实施宪法
- B. 全面推进政府各方面工作法治化
- C. 健全法律面前人人平等保障机制
- D. 协同推进立法、执法、司法、守法各环节改革

2. 2024 年 10 月，中共中央党史和文献研究院编辑的《习近平关于治水论述摘编》出版。党的十八大以来，以习近平同志为核心的党中央站在实现中华民族永续发展和国家长治久安的战略高度，从全局角度寻求新的治理之道。关于从全局角度寻求新的治理之道，下列说法正确的是（ ）。

- ①坚持民生为上、治水为要
  - ②全面提升水安全保障能力
  - ③统筹推进水灾害防治、水资源节约、水生态保护修复、水环境治理
  - ④明确“治污优先、空间均衡、系统节水、两手发力”的治水思路
- A. ①③④                      B. ②③④                      C. ①②④                      D. ①②③

3. 国家主席习近平向联合国贸易和发展会议成立 60 周年庆祝活动开幕式发表视频致辞并指出，当前，世界百年变局加速演进，和平和发展面临新的挑战。我们要以对历史和人民负责的态度，把准正确方向，携手构建人类命运共同体。关于我们的做法，下列正确的有（ ）。

- ①营造和平发展的国际环境                      ②顺应开放发展的时代潮流
  - ③把握创新发展的历史机遇                      ④紧扣推进中国式现代化主题
- A. ①③④                      B. ②③④                      C. ①②③                      D. ①②④

4. 习近平总书记在中国共产党第二十届中央纪律检查委员会第三次全体会议上发表重要讲话，他强调目前反腐败斗争的形势依然严峻复杂，对反腐败斗争的新情况新动向要有清醒认识，对腐败问题产生的土壤和条件要有清醒认识，要精准发力、持续发力，坚决打赢反腐败斗争攻坚战持久战。下列符合新征程反腐败斗争总的要求的是（ ）。

- ①坚持一体推进不敢腐、不能腐、不想腐
- ②深化标本兼治、系统施治
- ③不断拓展反腐败斗争深度广度
- ④对症下药、精准施治、多措并举

⑤让反复发作的老问题逐渐减少，让新出现的问题难以蔓延

⑥推动防范和治理腐败问题常态化、长效化

A. ①③⑤⑥                      B. ②④⑤⑥                      C. ①②③④⑤                      D. ①②③④⑤⑥

5. 根据党的二十大报告，到二〇三五年我国发展的总体目标不包括下列哪一项？（ ）

A. 完成脱贫攻坚，全面建设小康社会的历史任务

B. 实现高水平科技自立自强，进入创新型国家前列

C. 建成现代化经济体系，形成新发展格局，基本实现新型工业化、信息化、城镇化、农业现代化

D. 广泛形成绿色生产生活方式，碳排放达峰后稳中有降，生态环境根本好转，美丽中国目标基本实现

6. 2024年8月，《中共中央 国务院关于加快经济社会发展全面绿色转型的意见》发布，其中提出“推动消费模式绿色转型”，下列举措不属于此项内容的是（ ）。

A. 开展节能灶具下乡活动

B. 加强绿色产品和服务认证管理

C. 推广“光盘行动”，抵制过度包装

D. 实施农业减排固碳行动，优化种养结构

7. 中共中央总书记、国家主席、中央军委主席习近平近日在甘肃考察时强调，甘肃要深入贯彻落实党中央关于西部大开发、黄河流域生态保护和高质量发展的决策部署，完整准确全面贯彻新发展理念，坚持稳中求进工作总基调，着力在多方面下功夫。关于具体方面，下列说法正确的有（ ）。

①加强生态保护修复

②加快绿色低碳转型发展

③进一步全面深化改革开放

④推动乡村全面振兴

⑤促进世界和平

A. ①③⑤                      B. ②④⑤                      C. ①②④⑤                      D. ①②③④

8. 在第七个“中国农民丰收节”到来之际，习近平总书记强调，推进中国式现代化，必须坚持不懈夯实农业基础，推进乡村全面振兴。关于各级党委和政府做法的描述，下列说法正确的有（ ）。

①学习运用“枫桥经验”

②深入贯彻落实党中央关于“三农”工作的决策部署

③切实抓好粮食和重要农产品稳定安全供给

④千方百计推动农业增效益、农民增收、农村增活力

A. ①②③④                      B. ②③④                      C. ①②④                      D. ①②③

9. 2024年7月15日至18日，中国共产党第二十届中央委员会第三次全体会议在北京举行。全会提出，高质量发展是全面建设社会主义现代化国家的首要任务。关于高质量发展的要求，下列说法错误的是（ ）。

A. 以新发展理念引领改革

B. 深化供给侧结构性改革

C. 塑造发展新动能新优势

D. 完善党的自我革命制度规范体系

10. 党的二十届三中全会对进一步全面深化改革要贯彻的原则，下列说法正确的是（ ）。

①坚持党的全面领导、坚持以人民为中心

②坚持守正创新、坚持以制度建设为主线

③坚持全面依法治国、坚持系统观念

④坚持全面开放、坚持胸怀天下

A. ①②

B. ②③

C. ①②③

D. ①②③④

11. 民主集中制是民主基础上的集中和集中指导下的民主相结合。关于民主集中制的实施，下列正确的是（ ）。

①发挥各级党组织和广大党员的积极性创造性

②牢固树立政治意识、大局意识、核心意识、看齐意识

③党在自己的政治生活中正确地开展批评和自我批评

④增强党内政治生活的政治性、时代性、原则性、战斗性

⑤从组织上保证党的基本理论、基本路线、基本方略的贯彻落实

A. ①②③④

B. ①②④⑤

C. ②③④⑤

D. ①②③④⑤

12. 我国意识形态领域形势发生全局性、根本性转变，全党全国各族人民文化自信明显增强，全社会凝聚力和向心力极大提升，为新时代开创党和国家事业新局面提供了坚强思想保证和强大精神力量。下列关于新时代文化建设成就描述正确的是（ ）。

①为英雄模范颁授党和国家功勋荣誉，评选表彰一大批道德模范、时代楷模和最美人物

②建好用好新时代文明实践中心、县级融媒体中心 and “学习强国” 学习平台

③先后推出电影《闪闪的红星》《长津湖》、电视剧《觉醒年代》《山海情》等一批精品力作

④围绕中国共产党成立 100 周年、中华人民共和国成立 70 周年等重大历史节点，系列庆祝和纪念活动成功举办

A. ①②③

B. ①②④

C. ①③④

D. ②③④

13. 《中共中央关于进一步全面深化改革 推进中国式现代化的决定》指出，要深化金融体制改革。下列关于金融领域改革，说法错误的是（ ）。

A. 加快完善中央银行制度，畅通货币政策传导机制

B. 加强对重大战略、重点领域、薄弱环节的优质金融服务

C. 健全服务实体经济的激励约束机制

D. 加快拓展金融市场互联互通，优化合格境外投资者制度

14. 2024 年 7 月 15 日至 18 日，中国共产党第二十届中央委员会第三次全体会议在北京举行。下列哪项不是会议提出的内容？（ ）

A. 要构建区域统一大市场，完善市场经济基础制度

B. 强调构建高水平社会主义市场经济体制，健全推动经济高质量发展体制机制

C. 要深化教育综合改革，深化科技体制改革，深化人才发展体制机制改革

D. 开放是中国式现代化的鲜明标识，要完善推进高质量共建“一带一路”机制

15. 2024 年 11 月 2 日，深入学习贯彻习近平总书记全过程人民民主重大理念座谈会在上海召开。下列关于“全过程人民民主”的说法正确的有几项？（ ）

①2019 年 11 月，习近平总书记在上海考察时首次提出“人民民主是一种全过程的民主”重大理念

②2020 年，“发展全过程人民民主”被写入《中共中央关于党的百年奋斗重大成就和历史经验的决议》

③党的二十大对“发展全过程人民民主，保障人民当家作主”作出全面部署

④二十届三中全会把“发展全过程人民民主”作为推进中国式现代化的战略重点，纳入进一步全面深化改革系统部署之中

- A. 1 项                      B. 2 项                      C. 3 项                      D. 4 项

## 第二部分 常识判断

根据题目要求，在四个选项中选出一个最恰当的答案。

**请开始答题：**

16. 几年来，各地纷纷上调当地的最低工资标准。此举措的目的是（ ）。

- A. 维护效率优先、兼顾公平的社会分配原则  
B. 完善生产要素按贡献参与分配的制度  
C. 提高劳动报酬在初次分配中的比重  
D. 提高劳动报酬在再次分配中的比重

17. 小吴是刚毕业的大学生，入职前与企业签订劳动合同。该合同的内容中，符合我国相关法律规定的是（ ）。

- A. 小吴的试用期为一年  
B. 试用期间，小吴的工资是合同约定工资的百分之五十  
C. 小吴和企业共同协定入职后不购买社会保险  
D. 在职期间，小吴要保守该企业的商业秘密

18. 承租人应当按照约定的方法使用租赁物。对租赁物的使用方式没有约定或者约定不明的，依照租赁物的性质进行使用。在没有事先约定使用方式的前提下，下列选项中属于正当使用租赁物的是（ ）。

- A. 小明将租来的礼服重新裁剪                      B. 小红将租来的手机赠予他人  
C. 小张将租来的汽车拿去抵押                      D. 小李将租来的房屋用作宿舍

19. 中华人民共和国地方各级人民代表大会是由中国共产党领导的中华人民共和国国家权力机关。我国地方各级人民代表大会包括（ ）。

- ①省、自治区、直辖市的人民代表大会  
②设区的市、自治州的人民代表大会  
③县、自治县、不设区的市、市辖区的人民代表大会  
④乡、民族乡、镇的人民代表大会

- A. ①②③④                      B. 仅②③④                      C. 仅①②③                      D. 仅①③④

20. 下列行为属于交通肇事罪的是（ ）。

- A. 甲驾驶电动车在市区道路逆向行驶，造成重大交通事故  
B. 乙在自家车库倒车时不小心将邻居家孩子撞死  
C. 丙醉酒后在道路上挪动车位

D. 丁为了杀死情敌戊，故意开车撞死戊

21. 中国有着悠久的烹饪历史。下列关于烹饪的说法与历史事实不符的是（ ）。

- A. “豆”在商周之时更多是指一种盛食物的器具
- B. “蒸”这种烹饪方法直到北宋时期才得以普及
- C. 春秋时期的中国人在烹饪时已经会使用醋来调味
- D. 被后世称作“庖厨祖师”的厨师是春秋时的易牙

22. 下列关于军事知识的说法，错误的是（ ）。

- A. 高超音速导弹飞行速度可达 10 马赫以上
- B. 强激光武器具有不受外界电磁波干扰的特点
- C. 中国自行设计制造的第一艘核潜艇隶属于北海舰队
- D. 制导武器都按照发射前预先设定的飞行轨道打击目标

23. 中国特色社会主义开创于改革开放新时期，建立在我们党九十多年长期奋斗的基础上，而其思想、理论和实践的源头，则可追溯到更远。下列选项与上述说法最为相符的是（ ）。

- A. 千磨万击还坚劲，任尔东南西北风
- B. 江河万里总有源，树高千尺也有根
- C. 万物得其本者生，百事得其道者成
- D. 绳短不能汲深井，浅水难以负大舟

24. 关于党史知识，下列说法不正确的一项是（ ）。

- A. 中共五大选举产生了党的历史上第一个中央监察机构——中央监察委员会
- B. 1938 年毛泽东同志总结经验，作了《论持久战》的长篇演讲
- C. 在抗日战争战略相持阶段，共产党正面战场成为主要抗日作战方式
- D. 平型关大捷打破了侵华日军所谓的“不可战胜”的神话

25. 下列各项形容的是哪次会议？（ ）

- ①会议通过了《关于目前形势与党的任务的决定》《抗日救国十大纲领》
- ②会议决定组成中共中央革命军事委员会，毛泽东为军委主席
- ③是在全国抗战刚刚爆发的历史转折关头召开的一次重要会议

- A. 遵义会议
- B. 瓦窑堡会议
- C. 古田会议
- D. 洛川会议

### 第三部分 言语理解与表达

本部分包含表达与理解两方面的内容。根据题目要求，在四个选项中选出一个最恰当的答案。

**请开始答题：**

26. 藏书是万年百世之事，今世赖以知古，后世赖以知今。任何古籍的散佚、\_\_\_\_\_，对中华民族的记忆而言，都将是难以\_\_\_\_\_的裂缝。

依次填入划横线部分最恰当的一项是（ ）。

- A. 尘封 忘却
- B. 流失 修复
- C. 损毁 掩盖
- D. 湮灭 弥合

27. 当你打开书想在书中找到平静的时候，最初的几页是很难读进去的，最初的几页读完后，你就会觉得好书真像是一堵墙，把街面上的\_\_\_\_\_还有喧嚣的声音阻拦在了外边。你似乎可以在\_\_\_\_\_



里闻到花香、听到鸟鸣，大自然仿佛又回到了你的身边。

依次填入划横线部分最恰当的一项是（ ）。

- A. 车水马龙 白纸黑字                      B. 纸醉金迷 字里行间  
C. 灯红酒绿 语言文字                      D. 红男绿女 字字句句

28. 识才爱才敬才用才，是我们党的优秀传统。我们必须积极营造尊重人才、\_\_\_\_\_的社会环境，公正平等、竞争择优的制度环境，待遇适当、保障\_\_\_\_\_的生活环境，为人才\_\_\_\_\_钻研业务创造良好条件。

依次填入划横线处最恰当的一项是（ ）。

- A. 唯才是举 合理 坚定不移                      B. 任人唯贤 全面 凝神聚力  
C. 求贤若渴 有力 心无旁骛                      D. 量才录用 完善 竭尽所能

29. 生命在进化过程中要经历自然选择，也就是达尔文提出的“适者生存”。病毒感染对于生命来说就是一种选择压力，在病毒面前\_\_\_\_\_的个体会被淘汰掉，病毒因而成了生物进化的强大驱动力，它们\_\_\_\_\_和保留下免疫力强大的个体，由此推动生命的\_\_\_\_\_。

依次填入划横线部分最恰当的一项是（ ）。

- A. 娇生惯养 挑选 进化                      B. 弱不禁风 筛选 演化  
C. 节节败退 精选 进展                      D. 不堪一击 甄选 延续

30. 每个时代都有自己的流行语，网络热词则是互联网时代最普遍的副产品。与以往不同，网络热词的更替速度令人\_\_\_\_\_，“来得快，去得更快”成为网络热词的集体\_\_\_\_\_。

依次填入划横线部分最恰当的一项是（ ）。

- A. 目不暇接 宿愿                      B. 眼花缭乱 宿命  
C. 顾此失彼 结局                      D. 不堪重负 命运

31. 社会的和谐，是以人与人之间的爱即仁爱为\_\_\_\_\_基础的，也是以执政者怀抱民本思想执政为民、惠及民生为基础的。可以说，正是传统仁爱思想和民本思想的有力\_\_\_\_\_，才确保了中华民族5000年历史的\_\_\_\_\_。

依次填入划横线部分最恰当的一项是（ ）。

- A. 思想 维护 革故鼎新                      B. 情感 维系 绵延不绝  
C. 精神 维持 历久弥新                      D. 理论 维稳 山高水长

32. 要解决我国食品安全有效供给不足的问题，单纯依赖孤立的政府监管机制是不可行的。必须充分发挥而不是\_\_\_\_\_市场治理的作用，挖掘政府监管与市场治理的内在关联\_\_\_\_\_，激发政府监管对市场治理的协同优势，食品安全的政府监管才能\_\_\_\_\_。

依次填入划横线部分最恰当的一项是（ ）。

- A. 压制 互动性 准确到位                      B. 抑制 互助性 有理有据  
C. 替代 互补性 事半功倍                      D. 取代 互通性 水到渠成

33. 影视作品理应通过精湛新颖的艺术表现手法潜移默化地走进广大观众的情感深处，浸润他们的心灵。然而在文化消费日趋多样、媒介环境\_\_\_\_\_的情况下，部分创作者的观念未能\_\_\_\_\_，对作品的定位仍停留在“观念的传声筒”层面，主题先行、题材陈旧、剧情高悬等问题层出不穷。即便某些



作品拥有一定的艺术质量和思想内涵，也往往因表现手法、选材内容无法契合新时代观众的观赏需求，而难以被市场所接纳。

依次填入划横线部分最恰当的一项是（ ）。

- A. 瞬息万变 推陈出新                      B. 变幻莫测 更新换代  
C. 日新月异 与时俱进                      D. 纷繁复杂 乘势而上

34. 读书可以提高我们的眼光、境界、格局、胸怀。读书的好处，是可以让我们跳出此时此地的\_\_\_\_\_，穿透一时一地的迷雾，从更大的格局和更长远的眼光来把握眼前的各种\_\_\_\_\_，从而把不解和不安化成豁然开朗和淡定从容，最后养成战略上的\_\_\_\_\_。

依次填入划横线部分最恰当的一项是（ ）。

- A. 奴役 骚乱 毅力                      B. 束缚 骚动 耐力  
C. 局限 扰乱 致力                      D. 限制 扰动 定力

35. 胰岛素是由胰岛分泌的一种激素，功能是促进细胞\_\_\_\_\_葡萄糖。如果胰岛细胞受到损害，不能分泌足量胰岛素，那么人体血糖含量就会升高，多余的血糖会进入尿中，这就是糖尿病。糖尿病是一种对人体危害很大的慢性病，对于糖尿病患者来说，注射胰岛素显然是最\_\_\_\_\_的疗法。

依次填入划横线部分最恰当的一项是（ ）。

- A. 合成 直接                      B. 消耗 主流                      C. 转化 简单                      D. 分解 有效

36. 我们是有着五千年文明传承的东方大国，儒家的“仁义礼智信”思想\_\_\_\_\_于民族精髓之中，社会主义核心价值观正是在\_\_\_\_\_传统思想精华的基础上应运而生。当下，改革释放出的红利推动中国经济的迅猛发展，与此同时，物欲膨胀带来的拜金主义、享乐主义、个人主义等一系列负面影响也\_\_\_\_\_着文明底线。

依次填入划横线部分最恰当的一项是（ ）。

- A. 扎根 吸收 触碰                      B. 孕育 继承 挑战  
C. 深植 汲取 冲击                      D. 蕴藏 提炼 腐蚀

37. 条纹，作为最简洁而又生机勃勃的视觉设计语言，自石器时代便被广泛运用。彩色条纹依旧不断\_\_\_\_\_于当今时装界，新锐设计师们拒绝了浮华，但同样\_\_\_\_\_着高调。

依次填入划横线部分最恰当的一项是（ ）。

- A. 风靡 保持                      B. 时兴 延续                      C. 流行 维持                      D. 活跃 蕴含

38. 石油峰值论认为，石油产量会达到最高点，之后不可避免地开始下降。石油峰值几乎是确定的事，但仍然存在两个问题：它究竟何时出现？世界是否能够及时研发出代替能源？\_\_\_\_\_的观察家并不相信石油峰值会在 2020 年前出现，但一些石油公司承认他们此前夸大了地下石油储量。因此，这更引起人们的\_\_\_\_\_：我们可能已经过了这个峰值。

依次填入划横线部分最恰当的一项是（ ）。

- A. 乐观 担忧                      B. 激进 争议                      C. 冷静 怀疑                      D. 理智 恐慌

39. 2012 年 8 月，美国“好奇号”火星车在火星表面着陆，这是人类迄今在其他星球登陆的最精密的移动科学实验室。“好奇号”将测量火星岩石和泥土中不同化学元素的丰富度，\_\_\_\_\_火星表面的辐射环境及其对未来登陆火星宇航员的危害，\_\_\_\_\_火星是否具有适宜生命存在的环境，\_\_\_\_\_行

星变化的线索。

依次填入划横线部分最恰当的一项是（ ）。

- A. 评价 找寻 跟踪                      B. 判断 考察 挖掘  
C. 测算 探究 注意                      D. 评估 探索 寻找

40. 好的作品会对一些人的人生产生重大和深远的影响。它能让人变得更加坚强，让人生目标更加\_\_\_\_\_。曾几何时，一部《钢铁是怎样炼成的》，一部《平凡的世界》，成为许多青年人精神世界的“圣经”，成为他们一生中经受\_\_\_\_\_，战胜苦难的强大精神动力。

依次填入划横线部分最恰当的一项是（ ）。

- A. 笃定 磨难              B. 确定 波折              C. 淡定 磨炼              D. 镇定 挫折

41. 生命之所以美丽，正在于它有血有肉的过程中，始终高扬着一个美丽的主题。美丽之所以\_\_\_\_\_，正在于生命的底蕴中，始终流动着人类对世界最\_\_\_\_\_的良知与渴望。

依次填入划横线部分最恰当的一项是（ ）。

- A. 恒久 基本              B. 永恒 纯粹              C. 迷人 坚定              D. 可贵 率真

42. 细节决定差异。但是，过早地\_\_\_\_\_于细节，会使你迷失在不重要的事物中，所以首先要抓住基础，\_\_\_\_\_细节。

依次填入划横线部分最恰当的一项是（ ）。

- A. 集中 发现              B. 致力 考虑              C. 沉溺 摒弃              D. 纠结 忽略

43. 新技术和新媒体的出现，使人的阅读内容、阅读媒介、阅读习惯发生了变化，呈现多元化、数字化、个性化的特点，读者被多样化地细分，“界面”阅读受到年轻人\_\_\_\_\_。伴随便利而来的是娱乐化的泛滥，这是一个泛娱乐化的时代，一切文化都心甘情愿地成为娱乐的\_\_\_\_\_，以分得一杯娱乐的残汁，而思考愈发远遁。

依次填入划横线部分最恰当的一项是（ ）。

- A. 追捧 附庸              B. 认可 陪衬              C. 青睐 注脚              D. 欢迎 随从

44. 人类的寿命与基因有关，体内有多个基因\_\_\_\_\_着你的生命长短。研究表明，那些在恶劣环境下控制机体防御功能的基因，能够显著地改善多种生物的健康状况并且延长其寿命。了解这些基因的运作\_\_\_\_\_，或许可以帮助我们找到消除老年疾病、延长人类生命的秘诀。

依次填入划横线部分最恰当的一项是（ ）。

- A. 操控 规律              B. 支配 原理              C. 决定 机制              D. 主宰 流程

45. 经济全球化促使世界主要国家实力对比关系发生深刻变化，出现强与弱、盛与衰的实力转换，国际角色与位序的\_\_\_\_\_，最终会导致国际社会中的权力分配结构产生调整。同时，彼此间的机制化、制度化、常态化的\_\_\_\_\_与相互协调已经成为处理国家间关系、解决国家间经济利益矛盾的主要方式。

依次填入划横线部分最恰当的一项是（ ）。

- A. 善变 对话              B. 演变 商榷              C. 嬗变 磋商              D. 变迁 协商

46. 一些科学家认为，户外活动和近视关联证据并不充分，大部分流行病学研究都是根据问卷调查估算孩子们待在室外的时间。来自加州大学伯克利分校的验光师克里斯汀·怀尔索耶表示，这种数据的可靠性有待商榷。在一项关于可穿戴光传感器的小规模实验中，她发现人们往往会错误估计自己待在户

外的时间。

下列说法符合文意的是（ ）。

- A. 流行病学研究中间卷调查方法往往是不科学的
- B. 人们对自己户外活动时间的估算可能存在偏差
- C. 户外活动时间长短和是否近视之间不存在关联
- D. 可穿戴光传感器实验主要用于记录户外活动时间

47. 结核病是由结核分枝杆菌引起的慢性传染病，可侵及许多脏器，以肺部结核最为常见。世界上约有 1/3 的人口感染了结核菌，其中有大约 5%~10% 会发展成结核病。对于艾滋病毒携带者、营养不良或糖尿病等免疫系统受损的人，或者烟草使用者，结核菌容易在体内大量复制，患病风险就会高很多。

下列说法不符合文意的是（ ）。

- A. 绝大多数人感染结核菌后并不发病
- B. 身体虚弱者患结核病的可能性较高
- C. 结核病可能发生在肺部或其他脏器
- D. 身体健康的人一般不会携带结核菌

48. 大多数桥梁是向公众开放的。尽管一些桥梁要收取通行费，但是对于绝大多数车辆来说并不禁止通行。然而，多数网络系统对公众却是不开放的。原因显而易见——这些网络系统是用来储存和处理个人通信、财务数据、医疗记录和商业秘密等敏感信息的，这些信息都跟个人和机构密切相关。

这段文字重在说明（ ）。

- A. 大多数桥梁向公众开放的事实依据
- B. 桥梁和网络在开放程度方面的差别
- C. 网络系统的存储功能及其基本特点
- D. 多数网络系统对公众关闭的合理性

49. 在将中国文学作品译介给国外读者时，中国媒体与公众往往因文化焦虑及传播压力，过于强调译者对中国本土文化的熟悉知晓程度，对译者在翻译过程中未能再现文学作品原汁原味的中国元素心存芥蒂。事实上，不同语言的文学之间具有某种审美的和人性的通约性，使得作家们能以各自的方式抵达文学的人性殿堂。

下列表述不符合文意的是（ ）。

- A. 媒体和公众自身的文化焦虑会影响到对译者资质的考量
- B. 译者对中国本土文化的了解程度并不必然影响翻译质量
- C. 能否保留纯正中国元素是考量翻译作品质量的关键因素
- D. 不同语言的文学作品之间具有通约性有助于跨语种翻译

50. 虽然现代医学已经相当发达，但对导致儿童性早熟的原因却还知之甚少。因为找不到原因，也就给了人们胡乱猜想的空间。但是，科学理论和实践都显示，植物激素不会是原因。而所谓奶粉中的雌激素，也不是原因——因为，所有检测过的奶粉中的雌激素含量，比母乳中的雌激素含量还要低。而“奶粉导致婴儿性早熟”的新闻，后来已被曝出是某些奶粉企业为陷害竞争对手而编造的。

以下概括与文意不符的一项是（ ）。

- A. 很多关于儿童性早熟的说法并不符合事实
- B. 现代医学尚未对儿童性早熟原因进行研究
- C. 母乳中含有的雌激素比很多奶粉中的还要高
- D. 植物激素不会导致儿童性早熟已被研究证明

51. 如今一个不争的事实是，家庭医生的数量并不充足，社区人口与家庭医生的配置比例存在失衡。即便家庭医生能够为居民提供医疗服务，但囿于客观原因的羁绊和影响，也难以满足居民的心理预期。更为重要的是，从社区居民角度来说，其首要目的是获得高质量的医疗服务，那么家庭医生的质量和水平如何，则显得尤为重要。假如，家庭医生不是“全科医生”，对居民各种各样的疾病缺乏全面高水平的诊疗，必然不能调动居民签约家庭医生的积极性。

根据文意，影响居民签约家庭医生最重要的因素是（ ）。

- A. 家庭医生的数量是否与居民需求相匹配
- B. 家庭医生是否能够满足居民的心理预期
- C. 家庭医生是否能够提供高质量的医疗服务
- D. 家庭医生是否能够诊治居民所患所有疾病

52. 汉服不是静态的出土文物，而是活态的社会习俗。如果说传统汉服是汉民族的服饰，新时代汉服则是以传统汉服为基本规范，吸收其他民族服饰元素，适合当代人着装需要，承载中华民族共同体的文化基因，象征整个中华民族共同符号的服饰。当前，汉服穿戴还属于在特定文化空间展示艺术美的范畴。要加强汉服研究阐释工作，着力构建有中国底蕴、中国特色的汉服理论体系和话语体系，将汉服作为礼服向国家、社会、人生仪式，以及文化、教育、科技等方面推广，最后推向人民群众的日常生活起居。

这段文字意在说明（ ）。

- A. 当前应加强汉服理论研究和推广
- B. 新时代汉服设计应体现时代精神
- C. 汉服是体现中国传统文化的典型符号
- D. 汉服理论研究要形成自己的话语体系

53. 研究人员耗时 2 年在圣诞岛周围的珊瑚礁进行调查，在热浪袭来和减弱时，分别对两种常见珊瑚的藻类共生体进行 6 次采样。从某一时间节点开始，2 个月内气温上升约 1℃。正如预期的那样，拥有热敏感藻类的珊瑚比拥有耐热藻类的珊瑚更快白化。随着海水持续变暖，甚至连耐热的藻类也被珊瑚排出体外。但圣诞岛上的这两种珊瑚在海水仍然异常温暖的情况下从白化中恢复了过来。此前，海洋生物学家发现只有海水冷却到正常温度后，白化珊瑚才能恢复。而圣诞岛珊瑚的意外复苏则意味着即使在长时间热浪中，其中一些珊瑚还是有救的。

研究人员最主要的实验目的是（ ）。

- A. 探索珊瑚对海水温度变化的敏感度
- B. 研究珊瑚在长期热浪中的生存能力
- C. 讨论海水水质对珊瑚生存的影响
- D. 调查白化珊瑚如何重新恢复活力

54. 在任何国家的城市化进程中，都会伴随着一些传统大城市的衰落与新兴大城市的崛起，这是一个十分正常的现象。例如，那些资源枯竭型城市，如果产业转型不顺利，难免就会在城市化大潮中掉队。与之相反，赶上互联网经济红利的城市，也可能一跃而起。某些地区的不少城市长期依赖第二产业，又无法尽快适应产业升级换代的大潮，难免会出现人才流失的问题。久而久之，没有人气的城市即使有辉煌的往昔，最终难免会被时代抛弃，走向衰落。

这段文字意在说明（ ）。

- A. 城市衰退的主因是人才流失
- B. 城市兴衰有一定的客观规律
- C. 衰落城市发展应紧跟经济热点
- D. 资源枯竭型城市转型面临困境

55. 传统意义上的国家主权管辖以属地划界为主，政府对本国境内的活动享有管辖权，对来自境外



的安全威胁享有防卫权，但在互联互通的网络虚拟空间，信息的传递和网络活动往往会超越地理边界，内部事务与外部事务的界限在网络空间逐渐消融，原本属于国家内政的活动与政策常常具有溢出属性。

这段文字主要介绍（ ）。

- A. 国家主权在地理与网络空间的差异
- B. 国家内政在网络上的特殊表现形式
- C. 国家地理边界在网络空间的消融
- D. 政府在虚拟空间行使主权的途径

56. 有人认为，知识本来是一个整体，学科拆散了它，跨学科便是将分散的知识重新整合，是对过度专业化的反对。不过，我们可能低估了跨学科的难度。使用几个不同学科的概念，或与其他学科的研究者合写一篇论文，把那些本无多少新意的内容转换成混杂多个学科术语的表述，并不是真正的跨学科研究。“跨学科”不同于“多学科”，后者指两个或两个以上学科的简单组合，例如由不同学科教师团队讲授的特定课程。在这种情况下，学科之间仅是一种相邻关系，并没有真正结合。

这段文字意在说明（ ）。

- A. 跨学科需要对知识重新整合
- B. 跨学科需不同学科的交叉融合
- C. 多学科和跨学科存在着差异
- D. 当下对跨学科的认识存在误区

57. 瑞典厨师发现，浅蓝色的餐布作为对比色，更加凸显橙色和黄色，能使菜肴看起来没有那么咸，增加咖喱和鸡蛋的香味；而珊瑚色能减少葡萄柚等食材的苦味，让其尝起来更甜；粉色和玫瑰红色搭配甜点，使食物尝起来更香甜。利用餐布颜色互补的优势搭配菜肴，这种方法简单、有创意，还能为食物锦上添花。

这段文字意在说明（ ）。

- A. 国外餐饮重视运用色彩
- B. 餐布的颜色会影响味觉
- C. 要注重不同食材的色彩搭配
- D. 利用色彩互补能影响用餐者心情

58. 我们在阅读时，大脑左右半球的分工不同：左脑先理解后记忆，记住慢、遗忘快，更适合记忆的消化、吸收；而右脑则会将语言变成图像，可以大量、快速地记忆，且记忆质量很高，一旦记住就很难忘掉。也就是说，当右脑分析一个词时，比如阅读到“猫”这个词时，就会自动在右脑影像库中搜寻猫的形象，然后将猫这个词与它的图片链接在一起，加深印象。如果是分析一句话，比如“猫在睡觉”，影像库中可能出现的就是一只猫在太阳底下蜷成一团睡觉的图像，或许还夹杂着轻微的鼾声。因此，语言对大脑会有更进一步的刺激，所以听书有时比阅读还多出了一道工序——声音的符号化。

这段文字接下来最可能讲的是（ ）。

- A. 听书比阅读对大脑的要求更高
- B. 听书没有阅读容易集中注意力
- C. 听书和阅读都是对信息的处理
- D. 听书时大脑会将语言变成图像

59. 丝绸之路连通了亚洲各国，各种文明在交流互鉴中互通有无、携手前行，饮食是其中重要的一部分。人类从荒昧走向文明，学会驯化动植物是成因之一；文明的发展与繁荣，则在于这种技艺的传播与改进。原产于西南亚的小麦和大麦沿东西向传播，支撑起亚欧非无数个古典文明；诞生于中国的稻米，至今仍哺育着世界近一半的人口；现在餐桌上常见的玉米、大豆、马铃薯、西红柿、黄瓜等，都是从初始的驯化地沿着贸易路线最终遍布全球的。换言之，\_\_\_\_\_。

填入划横线部分最恰当的一项是（ ）。

- A. 饮食的发展史与文明的发展史有着相同的脉络

- B. 亚洲人民在饮食文化传播方面做出了积极贡献
- C. 世界各地的饮食中镌刻着文明的印记
- D. 美食将亚洲乃至世界连成了一个整体

60. ①既然是团圆饭，春晚的味道如何显然已不是最重要的

②它年复一年地陪伴百姓迎接新年钟声、陪伴无数家庭包饺子、吃年夜饭，陪伴一代代孤独的海外游子感受浓浓的中国年味儿

③如今，春晚就像过年回家的车票、大年三十晚上的团圆饭一样，一样都不能少

④从 1983 年至今，从“全民联欢”到“全民吐槽”，春晚这桌“年夜饭”已经做了 30 多年

⑤相反，如果不看春晚，这个春节或许会让人觉得多少有些遗憾

⑥实际上，一道已经吃了 30 多年的大餐，要想年年有新意、场场有突破，要想让每一名观众都满意，根本没有可能

将以上 6 个句子重新排列，语序正确的是（ ）。

- A. ③②④⑥①⑤      B. ③④②①⑤⑥      C. ④②③①⑤⑥      D. ④③②①⑥⑤

61. 艺术生的培养目前存在一个很矛盾的现象：一方面学习艺术表演的学生人数很多，就业压力大；另一方面却是人民群众对文艺演出的需求越来越强烈，对好的文艺作品期待值很高，这是一个不争的事实。其实各大艺术院校每年的艺术创作成果并不少，其中不乏精品，但是，\_\_\_\_\_。因此，在艺术生的培养过程中可以给学生创造更多的社会演出机会。

填入划横线部分最恰当的一项是（ ）。

- A. 大部分艺术院校没有建立一个长效的舞台演出机制
- B. 院校的艺术作品虽然普通，却倾注了教师与学生的心血
- C. 艺术创作成果与人民群众生活之间缺少一个通畅的交流渠道
- D. 每个艺术人才的培养，都需要艺术理论和舞台实践的有机结合

62. ①这种教育地位的提高是由经济发展而催生的，并非是因为教育自身的贡献或价值的充分彰显而实现的

②换言之，它是被动地依附于经济活动的，其背后蕴含着淡化教育实体性地位，弱化教育相对独立性的危险

③教育经济主义思潮通过对人力资本生产价值的分析使教育的地位日益凸显

④而且，由于过分强调经济功能，教育规模扩大的同时，教育质量却难以得到保证

⑤不过，其背后也隐藏着一种忧患

⑥教育经费和规模由此得到了前所未有的增长和扩张，这是令人欣喜的

将以上 6 个句子重新排列，语序正确的是（ ）。

- A. ⑥⑤③②①④      B. ⑥③②⑤①④      C. ③⑤①⑥②④      D. ③⑥⑤①②④

63. 如今，写论文、投稿、出书，常有一个字数的下限要求。这固然有一定合理性，但另一方面，也是一种奇怪心理在作祟：仿佛字数多了才显得有学问，篇幅长了才能体现思考的深度，长篇大论才会把问题分析透彻。很多时候，文章字数的多少，并不能代表理论修养和学识储备。洋洋洒洒的长篇大论，如果缺乏独创性的理论贡献，只能算是文字的堆砌和知识的罗列。而许多有影响力的著作，就很短小精

悍、简明扼要。《共产党宣言》仅仅一万多字，比现在一篇硕士生的论文字数都少，但这一万多字，却成为世界无产阶级的锐利思想武器。

最适合做这段文字标题的是（ ）。

- A. 莫以字数论长短  
B. 浓缩的往往是精华  
C. 文章贵在少而精、简而深  
D. 归纳和总结，写作的两大利器

64. ①人文关怀，是一所大学最可爱的地方

②正直的情操、完满的人格，勇于担当责任，敢于坚守真理……到底该成为什么样的人，是远比学习具体知识更为重要的大学课程

③大学不仅要教书，更要育人，最高远的渴求除却知识，更应有智慧

④于细微处淌露的真情与责任背后，是一所大学所秉持的价值观和所追求的精神气象

⑤虽然无形，却充盈各处，虽然柔软，却无比坚韧

⑥舆论场里热议的“清华温度”恰恰说明了今天人们对于“大学之道，在明明德”的向往与共识

将以上6个句子重新排列，语序正确的是（ ）。

- A. ②⑤⑥③①④  
B. ①⑤④⑥③②  
C. ③②⑥④⑤①  
D. ⑥②①③⑤④

65. 荆轲，那个“风萧萧兮易水寒，壮士一去兮不复还”的勇士，在我国历史上是个特有的文化符号。然而，在手游里，“荆轲”二字变成了刺客家族世代传承的名号；刘备变成了肩扛火枪身穿风衣的黑帮教父；“刺秦”的故事也被胡编乱造得南辕北辙……在手游里，几千年来人们熟知的历史人物变得面目全非。这对缺少历史知识的少年儿童来说很容易产生迷惑，历史在这里，真成了可以“被随意打扮的小姑娘”。

最适合做以上文字标题的一项是（ ）。

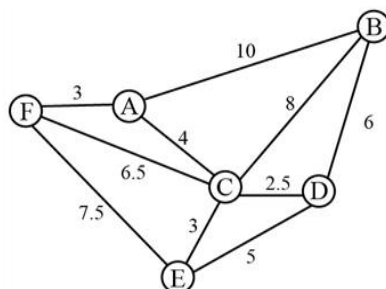
- A. 手游也需要尊重历史  
B. 手游不该“游戏”历史  
C. 对历史的演绎不能过火  
D. 历史不该被手游过度消费

#### 第四部分 数量关系

在这部分试题中，每道题呈现一段表述数量关系的文字，请在四个选项中选出一个正确答案。

**请开始答题：**

66. 燃气公司欲在某新建楼盘内铺设天然气管道连通所有住宅楼，楼与楼之间可铺设管道的路线如图所示，圆圈表示各住宅楼，线段及线上数字表示路线及其长度（单位：百米），则铺设的管道最短长度是（ ）。



- A. 1800 米  
B. 1850 米  
C. 1950 米  
D. 2000 米



67. 某企业 4 个分公司今年的销售额之和是去年的 1.2 倍。其中，甲分公司的销售额增长了 50%，乙分公司的销售额与去年相同，丙和丁分公司的销售额均增长了 25%。已知去年甲、丙、丁三个分公司的销售额之比为 2:3:5，则乙分公司今年的销售额占 4 个分公司总量的（ ）。

- A.  $\frac{1}{3}$                       B.  $\frac{2}{7}$                       C.  $\frac{3}{14}$                       D.  $\frac{5}{18}$

68. A 工程队的效率是 B 工程队的 2 倍，某工程交给两队共同完成需要 6 天。如果两队的工作效率均提高一倍，且 B 队中途休息了 1 天，问要保证工程按原来的时间完成，A 队中途最多可以休息几天？（ ）

- A. 4                              B. 3                              C. 2                              D. 1

69. 老林和小陈绕着周长为 720 米的小花园匀速散步，小陈比老林速度快。若两人同时从某一起点同向出发，则每隔 18 分钟相遇一次；若两人同时从某一起点相反方向出发，则每隔 6 分钟相遇一次。由此可知，小陈绕小花园散步一圈需要多少分钟？（ ）

- A. 6                              B. 9                              C. 15                              D. 18

70. 把 12 棵同样的松树和 6 棵同样的柏树种植在道路两侧，每侧种植 9 棵，要求每侧的柏树数量相等且不相邻，且道路起点和终点处两侧种植的都必须是松树，问有多少种不同的种植方法？（ ）

- A. 36                              B. 50                              C. 100                              D. 400

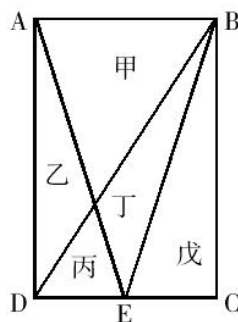
71. 单位工会组织拔河比赛，每支参赛队都由 3 名男职工和 3 名女职工组成。假设比赛时要求 3 名男职工的站位不能全部连在一起，则每支队伍有几种不同的站位方式？（ ）

- A. 432                              B. 504                              C. 576                              D. 720

72. 某房间共有 6 扇门，甲、乙、丙三人分别从任一扇门进去，再从剩下的 5 扇门中的任一扇出来，问甲未经过 1 号门，且乙未经过 2 号门，且丙未经过 3 号门进出的概率为多少？（ ）

- A.  $\frac{125}{216}$                       B.  $\frac{8}{27}$                       C.  $\frac{27}{64}$                       D.  $\frac{64}{125}$

73. 一块种植花卉的矩形土地如下图所示，AD 边长是 AB 的 2 倍，E 为 CD 边的中点，甲、乙、丙、丁、戊区域分别种植白花、红花、黄花、紫花、白花，问种植白花的面积占矩形土地面积的（ ）。



- A.  $\frac{3}{4}$                               B.  $\frac{2}{3}$                               C.  $\frac{7}{12}$                               D.  $\frac{1}{2}$

74. 将一个棱长为整数的正方体零件切掉一个角，截面是面积为  $100\sqrt{3}$  的三角形，问其棱长最小为多少？（ ）

- A. 6                              B. 8                              C. 10                              D. 15

75. 某次军事演习中，一架无人机停在空中对三个地面目标进行侦察。已知三个目标点在地面上的

连线为直角三角形，两个点之间的最远距离为 600 米。问无人机与三个点同时保持 500 米距离时，其飞行高度为多少米？（ ）

- A. 300                      B. 400                      C. 500                      D. 600

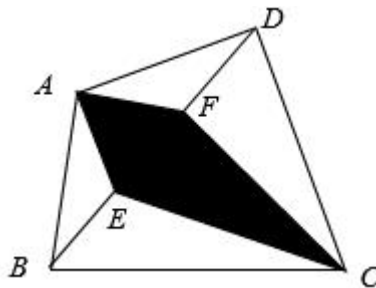
76. 袋子里有 6 个红球和 4 个白球，随机取出 3 个球，问取出的球中红球不超过 1 个的概率最接近以下哪个？（ ）

- A. 0.1                      B. 0.2                      C. 0.3                      D. 0.4

77. 某单位共有四个科室，第一科室 20 人，第二科室 21 人，第三科室 25 人，第四科室 34 人，随机抽取一人到外地考察学习，抽到第一科室的概率是多少？（ ）

- A. 0.3                      B. 0.24                      C. 0.2                      D. 0.15

78. 一块不规则土地 ABCD，中间 AECF 种植玉米，其余区域种植大豆。已知四边形 ABCD 的一条对角线 BD 被 E、F 三等分。且玉米种植面积为 15 亩，求不规则土地的总面积是（ ）亩。



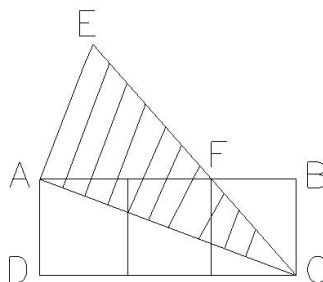
- A. 30                      B. 40                      C. 45                      D. 50

79. 如图所示，一块农田被分成了四个区域，其中 10 平方米的区域种植茄子，12 平方米的区域种植辣椒，15 平方米的区域种植大白菜，最后一个区域种植西红柿，则西红柿的种植面积为多少？（ ）



- A. 12 平方米                      B. 18 平方米                      C. 20 平方米                      D. 24 平方米

80. 如图所示，矩形 ABCD 由三个小正方形组成，每个正方形的边长均为 20cm，且阴影部分  $\triangle AEC$  为直角三角形，且 EC 过正方形的顶点 F，则阴影部分的面积是多少？（ ）



- A.  $600\text{cm}^2$                       B.  $800\text{cm}^2$                       C.  $900\text{cm}^2$                       D.  $1000\text{cm}^2$



二、定义判断。每道题先给出定义，然后列出四种情况，要求你严格依据定义，从中选出一个最符合或最不符合该定义的答案。注意：假设这个定义是正确的，不容置疑的。

请开始答题：

86. 限制性营销，是指面对超过了企业的供应能力的产品或服务时的企业营销对策。企业一般通过提高价格，减少促销活动来“低调”营销，其目的是通过企业行为来协调市场需求。抵制性营销与限制性营销不同，限制性营销是限制过度的需求，而不是否定产品或服务本身；抵制性营销则是强调产品或服务本身的有害性，从而抵制这种产品和服务的生产和经营。

根据上述定义，以下属于限制性营销的是（ ）。

A. 节假日某私营艺术馆人满为患，降低了游客欣赏艺术的舒适感，因此该艺术馆实行网上预约制，没有预约不得进入

B. 鉴于香烟、烈酒对健康的不利影响，法律禁止 18 岁以下的人购买这些商品

C. 近日交管局加强了对没有经营执照的个人营运出租车的管理，禁止其运营

D. 人们对皮草、象牙制品的趋之若鹜刺激了生产，象牙、犀牛角等制品被禁止入关

87. 百姓讲师：指基层单位选用普通群众，用喜闻乐见的形式宣传党和政府的方针政策。

根据上述定义，下列属于百姓讲师的是（ ）。

A. 镇政府经常邀请熟悉乡情乡风的村民为新入职的干部介绍农村基本情况，讲解在农村落实上级政策的办法

B. 村支书老陈每天准时收看《新闻联播》，通过和村民聊天宣传党和国家的方针政策，并解答他们的疑问

C. 朱老师退休后长期走街串巷，宣传移风易俗、乡村振兴的道理，被乡政府授予“乡村文化名人”称号

D. 市民蒋先生受街道办委托把新医保政策编成快板，并录成视频，每天都发布在微信公众号及朋友圈中

88. 求助者有两种求助动机：执行性求助和工具性求助。前者是自己不作任何尝试或努力，只想知道答案或让他人代自己完成任务；后者是借助其他人的力量以达到自己解决问题或实现目标的目的。

根据上述定义，下列属于工具性求助的是（ ）。

A. 妈妈为五岁的小明报了很多兴趣班，小明在兴趣班中结识了许多新朋友

B. 家教老师耐心讲解了这道题的思路和原理后，小斌还是请老师直接给出答案

C. 综合了多家咨询机构提供的意见，小峰拟定了符合自身条件的出国学习规划

D. 小文每次阅读英语文章遇到生词时都会查阅电子词典，掌握生词的读音和意思

89. 环境移民，是指人类生存的自然环境和人居环境受到突发或渐进式的不利影响而产生的各种人口迁移行为，包括自愿的、非自愿的，事后被迫的、预先计划的，暂时的、永久性的，个体和家庭自发的、政府主导的移民类型。

根据上述定义，以下不属于环境移民的是（ ）。

A. 切尔诺贝利核污染区域居民集体撤离家园

B. 为了保护三江源地区而限制放牧后的生态移民

- C. 安史之乱时期中原人民大量南迁
- D. 元朝定都大都之后大量牧民南迁

90. 即发侵权，是指侵权活动开始之前，权利人证据证明某行为很快就会构成对自己知识产权的侵犯，或该行为的正常延续必然构成侵权行为，权利人可依法予以起诉。

根据上述定义，以下事例可以以即发侵权进行起诉的是（ ）。

- A. 知名乐队黑眼豆豆新出的专辑“夜空”正在大卖，同时，另一个知名度不高且取名为黑米果果的乐队也正抓紧制作名为“星空”的专辑
- B. 小雪人形状的雪糕深受孩子们喜爱，最近市面上又出现一种形状非常相似的山寨小雪人雪糕
- C. 小张是某软件开发公司的研发部经理，掌握该公司某项专利产品的核心技术，后来小张被另一公司高薪挖走，正在开发类似的产品
- D. 小小读书郎的电子产品上市之后深受好评，另一家公司也紧跟着研发小小状元人机互动学习机

91. 研究型病房是指在具备相关条件的医院内，设立的以临床研究为导向的病房，医务人员在其中开展药物和医疗器械的临床试验、生物医学新技术的临床应用观察等研究工作。该病房与普通病房有着本质性的区别，它是重要的科技基础设施，是开展新技术、新方法、新药品和新器械创新研究的策源地和试验田，也是全产业链布局医药健康产业体系的重大举措。

根据上述定义，以下描述中涉及的病房符合研究型病房特征的是（ ）。

- A. 为研究剧烈运动对脑功能的影响，王教授在所属大学科研楼内建立一间设施完备的病房，研究健康大学生剧烈运动后的脑功能变化
- B. 某精神科病房专门收治阿尔茨海默症患者，病房主任收集到大量患者的检查数据，研究阿尔茨海默症患者不同发展阶段的脑功能变化
- C. 刘医生是肿瘤科医生，目前国内治疗某肿瘤有3种常用手术方式，刘医生想知道哪种方式对提高生活质量效果更好，在病房内开展对照研究
- D. 某地重金属污染较为严重，重度患者治疗效果一直都不理想，该地中心医院建立专门的病房，配备周全的设备，积极探索重金属中毒治疗的新模式和新药物

92. “翻异别勘”是宋代为防止冤假错案而规定的复审制度，是指犯人如果在录问或行刑时提出申诉，案件必须重新审理。宋代的“翻异别勘”分为原审机关的“移司别勘”和“差官别勘”两种形式。“移司别勘”是指由原审机关将案子交给另一个同级的司法机关复审。“差官别勘”是指原审机关将案子申报到上级机关，由上级机关负责差派与原审机关不相干的另外一个机关的官员重新审理。这种情况下，往往或者是差派上级机关的官员前往原审机关主审，或者将案子移往上级机关复审。

根据上述定义，下列不属于“翻异别勘”的是（ ）。

- A. 犯人对州县审理的案件提出申诉，可以将案件移交至州县的上级——路的长官进行重审
- B. 宋代中央司法机关刑部分左、右两厅，对其中一厅审理的案件，若犯人提出申诉，则由另一厅重审
- C. 犯人对州县审理的案件提出申诉，州县的上级——路的长官可以亲至州县对案件进行重审
- D. 宋代地方司法机关从上至下分为路、州、县三级，对由县上诉至州的案件作出判决后，若犯人提出申诉，则由州发回县重审

93. 零次文献是指未经过任何加工的文献。一次文献是指以作者本人的研究或研制成果为依据而创

作的文献。二次文献是指对一次文献进行加工整理后产生的文献。三次文献是指在一次文献或二次文献的基础上，经过分析和综合而编写出来的文献。

根据上述定义，下列说法正确的是（ ）。

- A. 文献综述是一次文献
- B. 论文摘要是二次文献
- C. 会议记录是三次文献
- D. 分析报告是零次文献

94. 流体能力是指信息加工和问题解决过程中所表现的能力，它较少依赖于文化和知识的内容，而决定于个人的先天能力。一般在 20 岁以后，流体能力达到顶峰，30 岁之后将随着年龄增长而降低。

根据上述定义，以下属于流体能力的是（ ）。

- A. 天赋异禀
- B. 自古英雄出少年
- C. 大器晚成
- D. 书读百遍其义自见

95. 风险知觉，是指消费者在购买产品时，对他所意识到的风险（而非实际存在的风险）的知觉。知觉风险的程度因消费者的个性、商品的性质、购买的情境和方式的不同而变化。因此，广告宣传除传播商品信息外，还应当主动参与购买决策，帮助消费者克服风险感，即进行风险知觉干预。

根据上述定义，以下广告语中未涉及风险知觉干预的是（ ）。

- A. “手中有房，心中不慌”
- B. “两年内只退不换，五年内免费保修”
- C. “xx 汽水，带给你儿时的味道”
- D. “xx 牛奶，好在天然，贵在品质”

三、类比推理。每道题先给出一组相关的词，要求你在备选答案中找出一组与之在逻辑关系上最为贴近、相似或匹配的词。

**请开始答题：**

96. 立柱：承重

- A. 谷物：饥饿
- B. 肠胃：消化
- C. 高温：细菌
- D. 考试：录取

97. 甘蔗：红糖

- A. 芝麻：汤圆
- B. 橘子：橙汁
- C. 高粱：白酒
- D. 面粉：馒头

98. 高回报：高风险

- A. 高水平：高强度
- B. 高产出：高投入
- C. 高标准：高质量
- D. 高效能：高负荷

99. 春暖：花开

- A. 和风：细雨
- B. 雨后：天晴
- C. 天寒：地冻
- D. 彩云：易散

100. 田野：水稻：稻谷

- A. 水池：锦鲤：金鱼
- B. 果园：桃树：桃子
- C. 牧场：草地：牛群
- D. 海洋：磷虾：鲸鱼

101. 木：鱼：木鱼



- A. 舵：手：舵手  
C. 糖：人：糖人  
102. 台灯：灯泡：开关  
A. 军舰：潜艇：导弹  
C. 汽车：车轮：发动机  
103. 哺乳纲：偶蹄目：水牛  
A. 立法：司法：守法  
C. 食品：预制菜：外卖  
104. 绿豆：黄豆：黑豆  
A. 月饼：月亮：月盘  
C. 何首乌：蒲公英：决明子  
105. 锂电池 对于 ( ) 相当于 ( ) 对于 发达国家  
A. 驱动 贸易  
C. 太阳能 美国  
B. 茶：杯：茶杯  
D. 铁：锤：铁锤  
B. 浙江：农村：城市  
D. 货币：人民币：美元  
B. 古代诗歌：近体诗：七言律诗  
D. 气压带：洋流：气候带  
B. 九州：苏州：泉州  
D. 小学教育：义务教育：高等教育  
B. 化石能源 朝鲜  
D. 新能源 富裕

四、逻辑判断。每道题给出一段陈述，这段陈述被假设是正确的，不容置疑的。要求你根据这段陈述，选择一个答案。注意：正确的答案应与所给的陈述相符合，不需要任何附加说明即可以从陈述中直接推出。

**请开始答题：**

106. 5000 多年前某地是大汶口文化，但在距今约 4400 年的时候，为龙山文化所替代。是什么原因导致这两种文化的更迭？考古人员发现，在距今约 4400 年的时候，发生了一次严重的“冷事件”，环境由原来的温暖湿润转变为寒冷干燥，植被大量减少，藻类、水生植物基本绝迹了，大汶口文化向南迁移，而龙山文化由北迁到此地。他们据此认为，距今 4400 年左右的极端气候变化，可能是导致这次文化变迁的主要原因。

以下哪项如果为真，最能支持上述论证？ ( )

- A. 大汶口文化有不断向南方迁移的传统  
B. 龙山文化刚迁来时，人口较多，但之后逐渐减少，在距今约 4000 年的时候消失了  
C. 大汶口文化的族群以藻类和水生植物作为食物的主要来源  
D. 不同生存方式的族群对气候和环境都有相对稳定的需求

107. 有一支排球队分为人数相同的两个组，在上个赛季中，A 组队员为球队赢得了 60% 的得分，B 组赢得了 40% 的得分，两组队员的上场时间一样多。

下列判断正确的是 ( )。

- A. 教练没有交换过两组队员  
B. B 组队员经常遇到更强劲的对手  
C. B 组队员平均每分钟得分少于 A 组队员  
D. 在上半个赛季中，A 组队员得分高于 B 组

108. 在不同语言中，数字的发音和写法都不一样。一些科学家认为，代表不同文化背景的语言，会对人们大脑处理数学信息的方式产生影响。



以下哪项如果为真，最能支持上述结论？（ ）

- A. 相比欧洲，亚洲地区的人们在进行数量大小比较时，大脑中个别区域的活跃程度有所不同
- B. 在同一国家，不同方言区的人们进行数学运算时，大脑语言区的神经传递路线并不十分一致
- C. 研究发现，以英语为母语的人进行心算时主要依赖大脑的语言区，而以中文为母语的人主要动用了大脑的视觉信息识别区
- D. 研究发现，不同专业背景的人们在计算数学题时会选择不同的思考方法，但都会不同程度地依赖大脑的语言区

109. 美妆品牌营销借助新媒体已是大势所趋。除社交平台外，许多美妆品牌入驻短视频平台，在短视频平台投入的营销费用越来越高，与此同时，这些品牌的销售额也有明显的增长。有人认为，美妆品牌销售额的增长，得益于短视频平台的宣传推广作用。

以下哪项如果为真，最能削弱上述结论？（ ）

- A. 社交平台的用户数量多于短视频平台的用户数量
- B. 在美妆品牌的消费者中，关注这些品牌短视频的比例很低
- C. 有人在短视频平台看到美妆品牌的广告后就去购买相应的产品
- D. 这些品牌在短视频平台的营销费用并没有比在其他平台的营销费用低

110. 随着航天技术的发展，许多人开始打小行星的主意，认为人类可以通过开采小行星“发家致富”。各国科学家提出了多种开发小行星资源的方案，基本想法都是将探测器发射到小行星上，航天员开采资源后带回地球，或直接在太空用于建设。

以下各项如果为真，哪一项不能驳斥科学家的观点？（ ）

- A. 大多数小行星重力很弱，常规挖掘的撞击力足以将设备反推到太空中，进入小行星内部开采资源，目前难以实现
- B. 即使是近地小行星，距离地球最近时也常有数百万公里，人类访问一次可能需要几个月时间，航天员生活有很大困难
- C. 航天计划耗资巨大，而可以带回来的样本极其有限，开采小行星资源能带来的效益远远不及开采过程消耗的资源
- D. 从小行星岩石中提取可以制作推进剂的物质，或是可用的材料，可以直接在现场生产制造航天器的燃料，为航行提供补给

111. “葫芦娃，葫芦娃，一根藤上七个瓜，风吹雨打都不怕……”藤上七个葫芦瓜的颜色分别是红、橙、黄、绿、青、蓝、紫，葫芦爷爷透露藤上的葫芦位置信息如下：

- (1) 橙葫芦是第三个葫芦；
- (2) 红葫芦和黄葫芦相邻，青葫芦和紫葫芦不相邻；
- (3) 绿葫芦在紫葫芦和黄葫芦的前面；
- (4) 青葫芦在黄葫芦之前一位。

根据上述信息，下列推论一定正确的是（ ）。

- A. 蓝葫芦在红葫芦后面
- B. 紫葫芦在绿葫芦后一位
- C. 绿葫芦在第一位或者第二位
- D. 红葫芦在青葫芦前面

112. 最近有技术研发团队推出了一款“AI（人工智能）浓缩书”应用软件，宣称可以“提取全书干货”，文字量大约只占整书的10%，“为你提炼出这本书的结构、精华和观点，把作者的基本思路和整本书的框架都理出来。”研发团队认为，该软件能够帮助读者完成最初的选择过程，读者通过阅读浓缩的框架、观点、精华，判断这本书到底是不是自己需要的，是否值得进一步细致阅读。

以下各项如果为真，哪项最能驳斥研发团队的观点？（ ）

- A. 浓缩过程中语句的选择无法完全客观，同时浓缩后原文的逻辑和思考也无法保留，无法做到客观呈现作品
- B. 经对比，大部分知识类书籍经过浓缩后的版本，只能保留原书大约85%的内容
- C. 经过浓缩的小说，只有故事梗概而缺乏细节描写，读者无法体会到人物之间细致的情感交流和互动，难以被感动
- D. 经过浓缩的文史、哲学等书籍，只能保留知识框架而不能呈现具体思维过程，不利于读者的判断思维能力发展

113. 不少人喜欢拍摄照片后上传到各种社交平台，但专家警告这些照片有可能泄露个人隐私，给用户带来潜在的安全风险，因为每一张数码照片中都可能包含一组在拍摄时自动生成的可交换图像文件格式的信息（简称Exif），建议用户上传图片时尽量避免“原图”上传。

以下陈述如果为真，哪项是上述观点的前提？（ ）

- A. Exif 信息包括拍摄时的准确位置和时间，以及拍摄设备的唯一 ID 号
- B. 主流社交平台会默认对上传照片进行裁剪或压缩处理，原始的 Exif 信息会被修改
- C. 数码照片在进行后期的数字化编辑时，Exif 记录的专业数据可辅助摄影爱好者做专业调试
- D. Exif 是一种标准信息，它可帮助用户在查找、管理、使用照片的过程中进行分类处理

114. 在日常生活中，人们所说的“肉”往往特指来自猪、牛、羊等哺乳动物身上的肉，在营养学上这些肉被称为“红肉”，它们均含较多肌红蛋白，肉因而呈红色，显然，红肉并不包括鱼肉。吃红肉容易让人长胖，主要原因是肉中含有大量脂肪，脂肪摄入过多，不但增肥，而且还会严重影响人们的身体健康。基于这一考虑，很多家庭主妇表示，吃鱼肉要比红肉更健康。

以下哪项如果为真，最能支持家庭主妇的观点？（ ）

- A. 世卫组织曾将红肉当作“疑似致癌物”，而将加工过的红肉当作“一级致癌物”
- B. 红肉含有多种对人体有益的铁、锌等元素，红肉中“瘦肉”的脂肪含量并不高
- C. 鱼肉中脂肪含量较低，蛋白质丰富，还特别富含对人体有益的不饱和脂肪酸
- D. 有害物质甲基汞在鱼肉中总会找到一点，而在红肉中却找不到

115. 甲、乙、丙、丁4位中学同学毕业30年后相聚。现在，他们已成为企业家、大学教师、歌手和会计师，且每人只有一种身份，并不重复。他们在中学时代就各人的未来职业有过如下预言：

甲：乙不会成为歌手；

乙：丙会成为会计师；

丙：丁不会成为企业家；

丁：乙不会成为大学教师。

现在看来，他们当中只有会计师的预言是正确的。

根据上述信息可以推断，甲、乙、丙、丁的职业分别是（ ）。

- A. 企业家、大学教师、歌手、会计师      B. 大学教师、歌手、企业家、会计师  
C. 企业家、歌手、会计师、大学教师      D. 会计师、大学教师、歌手、企业家

## 第六部分 资料分析

所给出的图、表、文字或综合性资料均有若干个问题要你回答。你应根据资料提供的信息进行分析、比较、计算和判断处理。

**请开始答题：**

### 一、根据以下资料，回答 116~120 题。

2020 年，我国规模以上互联网和相关服务企业（以下简称互联网企业）业务收入 12838 亿元，同比增长 12.5%，增速低于上年同期 8.9 个百分点。

2020 年，互联网企业实现营业利润 1187 亿元，同比增长 13.2%，增速低于上年同期 3.7 个百分点；得益于成本控制较好，营业成本仅增长 2.4%，行业营业利润高出同期收入增速 0.7 个百分点。

2020 年，互联网企业信息服务收入共 7068 亿元，同比增长 11.5%，增速低于上年同期 11.2 个百分点。互联网接入及相关服务收入 447.5 亿元，同比增长 11.5%，增速低于上年同期 20.8 个百分点；互联网数据服务（包括云服务、大数据服务等）收入 199.8 亿元，同比增长 29.5%，增速较上年同期提高 3.9 个百分点。

2020 年，东部地区互联网业务收入 11227 亿元，同比增长 14.8%，增速较上年同期回落 9 个百分点，中部地区互联网业务收入 448.1 亿元，同比增长 3.4%，增速较上年同期回落 53.1 个百分点。西部地区互联网业务收入 497.2 亿元，同比增长 6.9%，增速较上年同期回落 15.2 个百分点。东北地区互联网业务收入 47.1 亿元，同比增长 9.1%。

2020 年，互联网业务累计收入居前 5 名的广东（增长 5.2%）、北京（增长 21.5%）、上海（增长 20.9%）、浙江（增长 24.4%）和江苏（增长 8.0%）共完成互联网业务收入 10706 亿元，同比增长 15.1%，增速超过全国平均水平 2.6 个百分点，占全国（扣除跨地区企业）比重达 87.6%，占比较上年同期提高 0.8 个百分点。

116. 2020 年，互联网企业收入同比约增长了（ ）。

- A. 1187 亿元      B. 1309 亿元      C. 1426 亿元      D. 1605 亿元

117. 2019 年，互联网企业互联网接入及相关服务收入同比增速比同年信息服务收入同比增速（ ）。

- A. 高不到 10 个百分点      B. 高 10 个百分点以上  
C. 低不到 10 个百分点      D. 低 10 个百分点以上

118. 在东部、中部、西部和东北四个地区中，2019 年和 2020 年互联网业务收入占全国比重均高于上年水平的地区有几个？（ ）

- A. 0      B. 1      C. 2      D. 3

119. 2020 年，东部地区除广东、北京、上海、浙江和江苏之外的省市互联网业务收入约比 2019 年（ ）。

- A. 增长 9%                      B. 增长 19%                      C. 减少 9%                      D. 减少 19%

120. 关于我国互联网企业业务状况，能够从上述资料中推出的有几条？（     ）

- ①2019 年实现利润超过 1000 亿元  
 ②2020 年，互联网数据服务收入比 2018 年增长了不到 70%  
 ③2018 年及 2019 年，中部地区互联网业务收入均低于西部地区

- A. 0                                  B. 1                                  C. 2                                  D. 3

二、根据以下资料，回答 121~125 题。

2021 年第一季度全国 15 个重点旅游城市星级饭店经营情况统计表

目标 地区	数量 (家)	营业收入 (亿元)	餐饮收入 比重(%)	客房收入 比重(%)	平均房价 (元/间夜)	平均出租 率(%)	每间可供出租 客房收入(元/ 间夜)	每间客房平摊 营业收入 (元)
全国	2650	165.50	39.07	39.31	394.07	35.07	138.20	27790.85
北京	286	12.65	25.84	39.46	455.69	18.80	85.67	17757.42
天津	67	3.16	29.66	45.01	414.38	29.98	124.24	24861.28
石家庄	41	2.85	45.24	38.07	323.59	40.80	132.04	27513.31
秦皇岛	23	0.22	45.26	25.72	229.09	7.28	16.67	5018.16
太原	13	0.73	41.18	22.19	282.65	29.82	84.30	33473.51
呼和浩特	22	0.85	46.05	39.78	271.87	32.14	87.38	17812.27
沈阳	47	1.50	37.81	40.63	261.62	31.33	81.97	14192.06
大连	78	2.61	31.27	36.76	282.67	27.93	78.95	17287.21
长春	22	0.72	41.68	39.98	312.38	30.88	96.47	15470.04
哈尔滨	38	0.76	26.05	52.53	226.95	35.36	80.25	12543.00
上海	173	25.20	34.88	38.69	577.99	38.92	224.97	51872.78
南京	46	7.61	29.00	25.98	464.10	43.32	201.03	57708.81
无锡	12	1.63	63.68	23.10	374.48	39.96	149.64	44743.88
苏州	50	4.36	64.46	28.36	399.31	31.50	125.80	35276.42
杭州	102	7.40	40.83	35.63	390.21	38.94	151.93	35295.96

注：东北地区城市（沈阳、大连、长春、哈尔滨）、华北地区城市（北京、天津、石家庄、秦皇岛、太原、呼和浩特）、华东地区城市（上海、南京、无锡、苏州、杭州）

121. 2021 年第一季度 15 个重点旅游城市中，星级饭店平均房价高于全国平均房价的有几个？（     ）。

- A. 3                                  B. 4                                  C. 5                                  D. 6

122. 2021 年第一季度 15 个重点旅游城市中，华北地区星级饭店平均营业收入最高的城市为（     ）。

- A. 石家庄                          B. 天津                                  C. 太原                                  D. 北京

123. 2021 年第一季度 15 个重点旅游城市中，高于全国平均出租率的城市的星级饭店平均数量约为多少家？（ ）

- A. 60                                      B. 64                                      C. 69                                      D. 72

124. 2021 年第一季度 15 个重点旅游城市中，华东地区星级饭店的餐饮收入比重约是东北地区的几倍？（ ）

- A. 1.15                                      B. 1.28                                      C. 1.36                                      D. 1.51

125. 2021 年第一季度 15 个重点旅游城市中，下列哪座城市星级饭店的每间可供出租客房收入，既低于华东地区的平均水平又高于全国平均水平？（ ）

- A. 上海                                      B. 南京                                      C. 苏州                                      D. 杭州

三、根据以下资料，回答 126~130 题。

图 1 2018 年 7 月~2019 年 6 月我国摩托车产量及同比增速

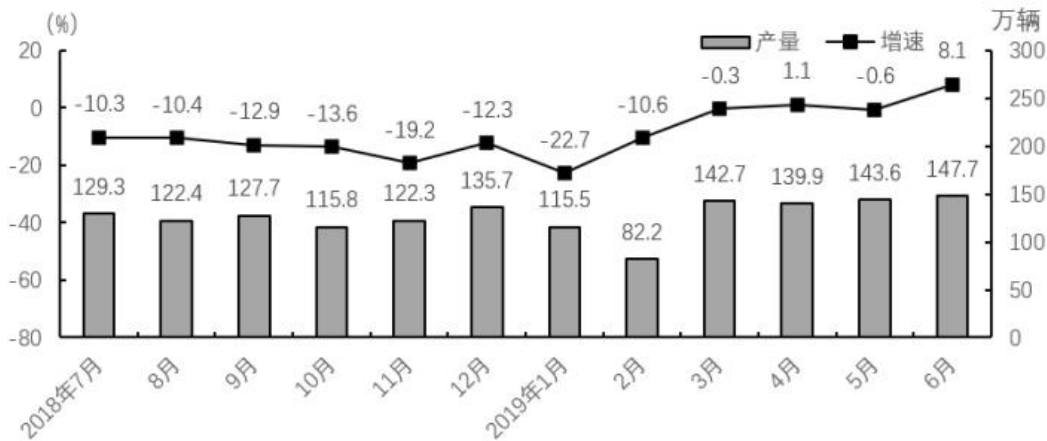
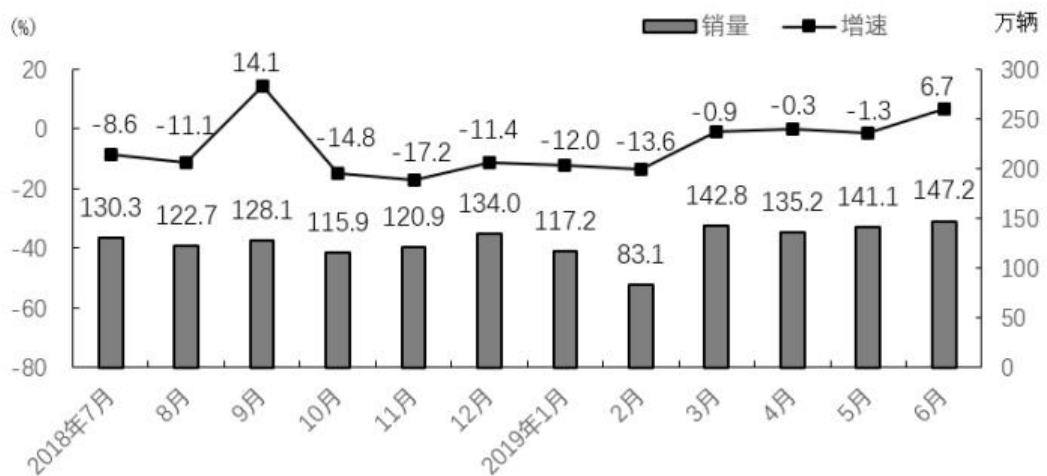


图 2 2018 年 7 月~2019 年 6 月我国摩托车销量及同比增速



126. 2018 年 7 月~2019 年 6 月，我国摩托车产量与销量相差不超过 0.5 万辆的月份有多少个？（ ）

- A. 4                                      B. 5                                      C. 6                                      D. 7





- A. 第一季度                  B. 第二季度                  C. 第三季度                  D. 第四季度

133. 2015 年，电子信息制造业销售产值比上年增长（    ）。

- A. 5.5%                      B. 7.5%                      C. 10.7%                      D. 11.0%

134. 根据给定资料，不能推出的是（    ）。

- A. 2015 年一至四季度，电子计算机行业销售产值持续增长  
B. 2015 年一至四季度，电子计算机行业产业规模持续扩大  
C. 2015 年一至四季度，电子计算机行业销售产值增速震荡回落  
D. 2015 年一至四季度，电子计算机行业销售产值增速均高于电子信息制造业

135. 根据给定资料，下列说法不正确的是（    ）。

- A. 2015 年，电子计算机行业的各季度销售产值均同比增长  
B. 2015 年，电子信息制造业的各季度销售产值均同比增长  
C. 2015 年，笔记本类和非笔记本类的微型计算机产量均同比增长  
D. 2015 年，电子计算机行业和电子信息制造业的销售产值均同比增长