

2019 年江西省法检书记员考试笔试试题

考试时间：2019 年 5 月 11 日

1. 我国现行宪法是（ ）宪法。

- A. 1954 年
- B. 1975 年
- C. 1978 年
- D. 1982 年

参考答案：D【解析】我国自从新中国成立以来共颁布四部宪法，分别是 1954 年宪法（我国社会主义类型第一部宪法）、1975 年宪法、1978 年宪法、1982 年宪法（我国现行宪法）。

2. 2018 年 3 月 11 日，第十三届全国人民代表大会第一次会议通过了《中华人民共和国宪法修正案》，该修正案共 21 条，此次对宪法的修改是（ ）修改。

- A. 第六次
- B. 第五次
- C. 第四次
- D. 第三次

参考答案：B【解析】我国自从新中国成立以来共颁布四部宪法，五部宪法修正案：1988 年 4 月，1993 年 3 月，1999 年 3 月，2004 年 3 月，2018 年 3 月等五次修正案。2018 年 3 月 11 日是第五次宪法修正案。

3. 《中华人民共和国宪法修正案》第 37 条规定：“国家行政机关，监察机关，审判机关，检察机关都由（ ）产生，对它负责，受它监督。”

- A. 人大常委会
- B. 国务院
- C. 人民代表大会
- D. 最高人民法院

参考答案：C【解析】《中华人民共和国宪法修正案》第 37 条规定：“国家行政机关，监察机

关，审判机关，检查机关都由人民代表大会产生，对它负责，受它监督。”

4. 根据我国宪法规定，有权提出宪法修正案的是（ ） A.

全国人民代表大会

B. 五分之一以上的全国人民代表大会代表C.

国务院

D. 中华人民共和国国家主席

参考答案：B【解析】根据宪法规定：“宪法修正案提案由全国人常或者五分之一以上的全国人民代表大会代表提出”。本题 B 项入选。

5. 《中华人民共和国宪法》第 33 条第 1 款规定，凡具有中华人民共和国（ ）的人都是中华人民共和国公民。

A. 国籍

B. 住所

C. 居所

D. 经常居住地

参考答案：A【解析】《中华人民共和国宪法》第 33 条第 1 款规定，凡具有中华人民共和国国籍的人都是中华人民共和国公民。

6. 根据我国宪法第 41 条的规定，由于国家机关和国家工作人员侵犯公民权利而受到损害的公民，有依照法律规定取得（ ）的权利。

A. 物质赔偿

B. 精神赔偿

C. 民事赔偿

D. 国家赔偿

参考答案：D【解析】我国宪法第 41 条的规定，由于国家机关和国家工作人员侵犯公民权利而受到损害的公民，有依照法律规定取得国家赔偿的权利。本题所述国家机关及工作人员对于公民权利的伤害，故应国家赔偿。

7. 根据我国宪法规定，国务院的领导体制是（ ） A.

合议制

B. 集体负责制

C. 总理负责制

D. 双重从属制

参考答案：C【解析】国务院实行总理负责制：（1）总理全面领导国务院工作，总理代表国务院对全国人大及其常委会负责。（2）国务院工作中的重大问题，总理具有最后决策权。（3）总理有权向全国人大及其常委会提出副总理、国务委员、各部部长、各委员会主任、审计长、秘书长的任免人选。（4）国务院发布的决定、命令和行政法规，向全国人大及其常委会提出的议案，任免行政人员，须由总理签署，才具法律效力。

8. 我国的国家结构形式属于（ ）

A. 民族区域自治

B. 单一制

C. 联邦制

D. 邦联制

参考答案：B【解析】我国采取单一制的国家机构形式，建立统一的多民族国家，既是我国历史发展的必然结果，也是我国民族状况的必然要求，符合各族人民的根本利益，故 B 正确。A 项民族区域自治是统一多民族国家下实现民主的重要形式。C 项，联邦制是由几个成员国（如共和国或邦、州等）联合组成统一国家的政治体制，如美国。D 项，邦联制是指若干个独立的主权国家为实现某种特定目的（如军事、经济方面的要求）而组成的一种松散的国家联合，如独联体。

9. 我国的政权组织形式是（ ）

A. 人民代表大会

B. 人民代表大会制

C. 民主集中制

D. 政治协商制度

参考答案：B【解析】人民代表大会制是指中华人民共和国政权的组织形式。我国的根本政治制度，它以民主集中制为基本组织原则，由广大选民按照人口比例直接或间接选举人民代表组成全国人民代表大会和地方各级人民代表大会，是国家的权力机关。因此，B项正确。

10. 下列职权中应由中华人民共和国主席行使的是（ ） A.

解释法律

B. 批准废除同外国缔约的条约和重要协定C.

制定和修改基本法律

D. 审查和批准国民经济和社会发展计划及计划执行情况的报告

参考答案：B【解析】A项解释宪法属于全国人常的职权；B项，国家主席根据全国人民代表大会常务委员会的决定，派遣和召回驻外全权代表，批准和废除同外国缔结的条约和重要协定，故正确。C项属于全国人大的基本职权；D项属于全国人大的基本职权。

11. 根据我国宪法规定，中央军事委员会主席对（ ）负责。 A.

全国人民代表大会

B. 国家主席

C. 全国人民代表大会和全国人民代表大会常务委员会 D.

全国人民代表大会常务委员会

参考答案：C【解析】中华人民共和国中央军事委员会领导全国武装力量；中央军事委员会由主席，副主席若干人，委员若干人组成；中央军事委员会实行主席负责制；中央军事委员会每届任期同全国人民代表大会每届任期相同；中央军事委员会主席对全国人民代表大会和全国人民代表大会常务委员会负责。故C项正确。

12. 2019年4月23日修订通过的《中华人民共和国法官法》第26条规定，法官等级分为十二级，其中高级法官分为（ ）

A. 三级

B. 四级

C. 五级

D. 六级

参考答案：B【解析】法官实行单独职务序列管理。法官等级分为十二级，依次为首席大法官、一级大法官、二级大法官、一级高级法官、二级高级法官、三级高级法官、四级高级法官、一级法官、二级法官、三级法官、四级法官、五级法官。

13. 2019年4月23日修订通过的《中华人民共和国检察官法》第12条规定了担任检察官必须具备的若干条件，下列不属于该条规定的条件是（ ）

A. 年满二十三岁

B. 具有中华人民共和国国籍

C. 从事法律工作满五年

D. 具有正常履行职责的身体条件

参考答案：A【解析】担任检察官必须具备下列条件：（1）具有中华人民共和国国籍；（2）拥护中华人民共和国宪法，拥护中国共产党领导和社会主义制度；（3）具有良好的政治、业务素质和道德品行；（4）具有正常履行职责的身体条件；（5）从事法律工作满五年。（6）初任检察官应当通过国家统一法律职业资格考试取得法律职业资格。

14. 根据我国宪法规定，连续任职不得超过两届的有（ ）

A. 国家主席、国务院总理、全国人大常委会委员长、国家监察委员会主任 B.

国务院总理、副总理、国务委员、各部部长以及国务院秘书长

C. 国务院总理、全国人大常委会委员长、中央军委主席及中央军委其他组成人员

D. 国务院总理、全国人大常委会委员长、最高人民法院院长、最高人民检察院检察长

参考答案：D【解析】A项，2018年宪法修正案规定国家主席取消连任不超过两届的限制。B

项，国务院总理、副总理、国务委员连任不超过两届，各部部长以及国务院秘书长则没有该限制。

C项，中央军委主席及中央军委其他组成人员没有连任不超过两届的限制。

D项，国务院总理、全国人大常委会委员长、最高人民法院院长、最高人民检察院检察长每届任期五年，连续不得超过两届。

15. 下列行为中，构成诈骗罪的是（ ） A.

使用伪造的信用证进行诈骗，数额较大

B. 冒充高干子弟，骗取他人财物，数额较大C.

盗窃他人信用卡并使用，数额较大

D. 投保人编造未曾发生的保险事故，骗取保险机构的保险金，数额较大

参考答案：B【解析】B项：诈骗罪是指以非法占有为目的，用虚构事实或隐瞒事实真相的方法，骗取数额较大的公私财物的行为。冒充高干子弟，骗取他人财物，数额较大，构成诈骗罪。所以，B项正确。A项：使用伪造的信用证进行诈骗是诈骗罪的特殊情形，属于特殊罪名，构成信用证诈骗罪。所以，A项错误。C项：盗窃他人信用卡并使用，数额较大，应构成盗窃罪。所以，C项错误。D项：构成保险诈骗罪，也是诈骗罪的特殊罪名。所以，D项错误。综上所述，本题正确答案是B。

16. 王某绑架他人，在转移被绑架人的过程中遭遇车祸，导致被绑架人受撞击后因颅脑损伤而死亡。可见，王某的绑架行为与被绑架人的死亡之间（ ）因果关系。

A. 不具有

B. 具有

C. 可能具有 D.

可能不具有

参考答案：A【解析】王某绑架他人，在转移被绑架人的过程中遭遇车祸，导致被绑架人受撞击后因颅脑损伤而死亡。在此王某不成立致使被绑架人死亡，不适用于死刑，因为死亡结果不是绑架本身导致的，而是由一个独立的第三人行为导致的。

17. 最高人民法院最高人民检察院公安部司法部制定的《关于办理恶势力刑事案件若干问题的意见》第6条规定：恶势力一般为（ ）人以上，纠集者相对固定。

A. 3

B. 4

C. 5

D. 6

参考答案：A【解析】恶势力一般为三人以上，纠集者相对固定，违法犯罪活动主要为强迫交易、故意伤害、非法拘禁、敲诈勒索、故意毁坏财物、聚众斗殴、寻衅滋事等，同时还可能伴随实施开设赌场、组织卖淫、强迫卖淫、贩卖毒品、运输毒品、制造毒品、抢劫、抢夺、聚众扰乱社会秩序、聚众扰乱公共场所秩序、交通秩序以及聚众“打砸抢”等。

18. 近期，一些案件被有关机关认定为正当防卫，决定不起诉。以下不在这些案件之列的是（）

- A. “涞源反杀案”
- B. “赵宇案”
- C. “盛春平案”
- D. “于欢案”

参考答案：D【解析】“涞源反杀案”女生父母认定正当防卫，决定不起诉，故 A 项属于正当防卫。2019 年 3 月 1 日，检察机关对福建省福州市晋安区人民检察院就赵宇见义勇为一案的处理作出纠正，认定赵宇的行为属于正当防卫，依法不负刑事责任，故 B 项属于正当防卫。2019 年 3 月 22 日，浙江省杭州市检察院对涉嫌故意伤害罪的盛春平作出不起诉决定。检察机关认定盛春平属于正当防卫，盛春平不负刑事责任，故 C 项属于正当防卫。于欢的行为具有防卫的性质，但明显超过必要限度造成重大损害，属于防卫过当，故 D 项入选。

19. 《中华人民共和国刑法》第 9 条规定：“对于中华人民共和国缔结或者参加的国际条约所规定的罪行，中华人民共和国在所承担条约义务的范围内行使刑事管辖权的，适用本法。该条规定体现的是（）原则。

- A. 属地管辖
- B. 保护管辖
- C. 普遍管辖
- D. 属人管辖

参考答案：C【解析】对于中华人民共和国缔结或者参加的国际条约所规定的罪行，中华人民共和国在所承担条约义务的范围内行使刑事管辖权的，适用本法，体现的是普遍管辖原则。

20. 詹某在 14 岁生日当天，邀集几个朋友到一饭馆吃饭。饭后回家途中，詹某看到一行人手拿一个提包，即掏出随身携带的弹簧刀将持包人刺伤并把包抢走，包内有手提电话一部、现金 5000 余元。詹某对其抢劫行为（）。

- A. 应负刑事责任
- B. 相对负刑事责任
- C. 部分负刑事责任
- D. 不负刑事责任

参考答案：D【解析】我国刑法规定：“不满十四周岁的人不管实施何种危害社会的行为，都不负刑事责任，为完全不负刑事责任年龄。”14 岁生日当天仍是不满 14 周岁，从第二日起即满 14 周岁，因此，詹某在 14 岁生日当天抢劫时不满十四周岁，无需承担刑事责任。

21. 近日，某检察院以走私普通货物罪和行贿罪对钟某提起公诉。受案法院认定罪名成立，分别判处无期徒刑和有期徒刑 10 年。本案执行刑罚的期限是（）

- A. 无期徒刑
- B. 有期徒刑 10 年
- C. 有期徒刑 25 年
- D. 有期徒刑 20 年

参考答案：A【解析】在《刑法》中，适用吸收原则的主要有以下两种情形：1、判决宣告的数个主刑中有数个死刑或者最重刑为死刑的，采用吸收原则，仅执行一个死刑，而不得决定执行两个以上的死刑或者其他主刑。2、判决宣告的数个主刑中有数个无期徒刑或者最重刑为无期徒刑的，采用吸收原则，仅执行一个无期徒刑，而不得决定执行两个以上的无期徒刑或者其他主刑。还有一个情形，就是附加刑也存在吸收原则。即当判处几个没收全部财产刑；或者判处没收全部财产，又同时判处罚金刑的，只执行一个没收财产。本题为情形 2，故选择 A。

22. 黄某驾车行驶时突见前方五米处一人挑担向右横穿马路，黄某一面紧急刹车，一面向右急打方向盘，车身将路边一电线杆撞断，将路边一行人砸成重伤。黄某导致他人受伤的行为

属于 ()

- A. 过失重伤罪
- B. 紧急避险 C.
- 意外事件 D.
- 不可抗力

参考答案：B【解析】《刑法》第条规定，为了使国家、公共利益、本人或者他人的人身、财产和其他权利免受正在发生的危险，不得已采取的紧急避险行为，造成损害的，不负刑事责任。故本题答案为 B。

23. 《中华人民共和国刑法》第 19 条规定，又聋又哑的人或者盲人犯罪，可以 ()

- A. 从轻、减轻处罚
- B. 从轻或者免除处罚
- C. 减轻或者免除处罚
- D. 从轻、减轻或者免除处罚

参考答案：D【解析】我国刑法规定：“又聋又哑的人或者盲人犯罪，可以从轻、减轻或者免除处罚”。

24. 党的十八届三中全会提出，“逐步减少适用死刑罪名”。中央关于深化司法体制和社会体制改革的任务也要求，完善死刑法律规定，逐步减少适用死刑的罪名。据此，《刑法修正案

(九)》进一步减少适用死刑的罪名，对走私武器、弹药罪，走私核材料罪等 () 个罪的刑罚规定作出调整，取消死刑。

- A. 9
- B. 11
- C. 10
- D. 13

参考答案：A【解析】新法进一步减少适用死刑的罪名。对走私武器、弹药罪、走私核材料罪、走私假币罪、伪造货币罪、集资诈骗罪、组织卖淫罪、强迫卖淫罪、阻碍执行军事职务罪、战时造谣惑众罪等 9 个罪的刑罚规定作出调整，取消死刑。

25. 我国是建立“世界知识产权日”提案的提出者之一。我国和阿尔及利亚在 2000 年 10 月世界知识产权组织第 35 届成员大会上提出相关提案并获得通过。世界知识产权日设在每年的 ()

- A. 2 月 26 日
- B. 3 月 26 日
- C. 4 月 26 日
- D. 5 月 26 日

参考答案：C【解析】2000 年 10 月，世界知识产权组织第 35 届成员大会系列会议通过了建立“世界知识产权日”的提案，决定从 2001 年起将每年的 4 月 26 日定为“世界知识产权日”。

26. 江西省南昌市某镇居民朱某与姚某是邻居，姚某常年在外地做生意。一年夏天多雨时节连下暴雨，姚某家房屋由于年久失修，很难抵御暴风雨。朱某便和儿子一起拉料为姚某加固房屋。在加固过程中，朱某意外摔伤，花去医疗费 2000 多元，朱某立即将此情况打电话告诉姚某。姚某只答应给朱某修房钱但拒绝偿付医疗费。朱某的行为在法律上称为 ()

- A. 无因管理
- B. 不当得利
- C. 侵权行为
- D. 合法行为

参考答案：A【解析】朱某为钱某加固房屋的行为在民法上称为无因管理。无因管理是指无法定或约定的义务，为避免他人利益受损失而进行的管理或服务的行为，故 A 项正确。不当得利，是指没有合法依据，有损于他人而取得利益，显然 B 不正确。在本案例中，没有事先约定的义务，不构成侵权行为，故 C 项不正确。

27. 《民法总则》第 9 条规定：“民事主体从事民事活动，应当有利于节约资源、保护生态境。”该条规定确立了民法 ()

- A. 自愿原则
- B. 绿色原则

C. 诚信原则

D. 公平原则

参考答案：B【解析】自愿原则的实质，就是在民事活动中当事人的意思自治。即当事人可以根据自己的判断，去从事民事活动，国家一般不干预当事人的自由意志，充分尊重当事人的选择，故 A 不正确。民事主体从事民事活动，应当有利于节约资源、保护生态境，体现了生态环境保护即绿色原则，故 B 正确。诚实信用，其本意是要求按照市场制度的互惠性行事。在缔约时，诚实并不欺不诈；在缔约后，守信用并自觉履行，故 C 不正确。公平原则是指在民事活动中以利益均衡作为价值判断标准，在民事主体之间发生利益关系摩擦时，以权利和义务是否均衡来平衡双方的利益，故 D 不正确。

28. 乙公司就其全部财产向保险公司投保企业财产保险，交纳保险费 5 万元，约定保险金额 500 万元。当年夏天，因洪水灾害致乙公司财产损失 700 万元。下列表述正确的是（ ）

A. 乙公司与保险公司的保险合同自乙公司交纳全部保险费时成立

B. 保险公司应向乙公司赔付保险金 500 万元

C. 保险公司应向乙公司赔付保险金 700 万元

D. 因洪水为不可抗力，保险公司不承担赔付责任

参考答案：B【解析】保险公司在保险事故发生后，仅在约定保险金额限额内承担责任，对于超过保险金额的部分则不承担赔偿责任，故 B 项正确。

29. 《最高人民法院关于适用〈中华人民共和国合同法〉若干问题的解释（二）》第 29 条第 2 条规定：“当事人约定的违约金超过造成损失的（ ）的，一般可以认定为合同法第一百一十四条第二款规定的“过分高于造成的损失”。”

A. 百分之十

B. 百分之二十

C. 百分之三十

D. 百分之四十

参考答案：C【解析】当事人主张约定的违约金过高请求予以适当减少的，人民法院应当以实际损失为基础，兼顾合同的履行情况、当事人的过错程度以及预期利益等综合因素，根据

公平原则和诚实信用原则予以衡量，并作出裁决。当事人约定的违约金超过造成损失的百分之三十的，一般可以认定为合同法第一百一十四条第二款规定的“过分高于造成的损失”。

30. 甲单位接受丙单位委托的研究任务完成一项发明创造。在双方事前无协议约定的情况下，该成果的专利申请权应属于（）

- A. 甲、丙两单位中先提出专利申请者
- B. 丙单位
- C. 甲、丙两单位共同拥有
- D. 甲单位

参考答案：D【解析】《合同法》第339条：“委托开发完成的发明创造，除当事人另有约定的以外，申请专利的权利属于研究开发人。研究开发人取得专利权的，委托人可以免费实施该专利。研究开发人转让专利申请权的，委托人享有以同等条件优先受让的权利。”在技术开发合同中，技术成果的归属是关键，请考生注意。

31. 甲、乙、丙三人买了一辆汽车跑运输，后因甲、乙闹矛盾，遂决定终止共有关系，但谁也不愿意要汽车。对此，应采用（）方法处理。

- A. 实物分割
- B. 恢复原状
- C. 变价补偿
- D. 变价分割

参考答案：D【解析】汽车是不可分物，实物分割不可用，任意分割纯属错误；应在变价分割与作价补偿二者之间选择。因合伙人谁也不愿要汽车，作价补偿失去条件，只能出卖即变价，然后分割价款，故答案是D。

32. 2019年3月15日，第十三届全国人民代表大会第二次会议通过了（）

- A. 《中华人民共和国中外合资经营企业法》
- B. 《中华人民共和国中外合作经营企业法》
- C. 《中华人民共和国外资企业法》

D. 《中华人民共和国外商投资法》

参考答案：D【解析】《中华人民共和国外商投资法》已由中华人民共和国第十三届全国人民代表大会第二次会议于 2019 年 3 月 15 日通过，现予公布，自 2020 年 1 月 1 日起施行。

33. 古某与殷某于 2012 年 8 月登记结婚，婚后殷某用出售自己婚前房屋的款项购买了某小区房屋一套，总价款为 181800 元，房屋产权登记在殷某的名下，用于家庭居住。2015 年判令双方离婚，并对夫妻共同财产依法分割，包括分割殷某出售婚房后所购房屋的增值收益。殷某同意离婚，但认为该房屋及其增值收益属于自己个人财产，与古某无关。该房屋及其增值收益属于（）

- A. 夫妻共同财产
- B. 该房屋属夫妻共同财产，其增值收益属殷某个人财产
- C. 殷某个人财产
- D. 该房屋属殷某个人财产，其增值收益属夫妻共同财产

参考答案：C【解析】在财产分割方面，案涉房屋是殷某用其出售自己婚前房屋的款项购买，属于一方的婚前财产在婚后进行了转化，即由殷某一方的婚前房产转化为货币形式，然后再由货币形式转化为案涉房产，不应影响其个人财产的性质认定，故房屋应该归殷某个人所有。殷某购买案涉房屋用于家庭居住，并非投资，其将该房屋卖给他人的增值部分，依照《最高人民法院关于适用〈中华人民共和国民事诉讼法〉若干问题的解释（三）》（以下简称《婚姻法解释（三）》）第五条规定，该增值属于自然增值，离婚时应归殷某个人所有。

34. 根据法律规定，相互有继承关系的几个人在同一事件中死亡，如果不能确定死亡先后时间的，推定（）先死亡

- A. 晚辈
- B. 有遗产的人
- C. 没有继承人的人
- D. 长辈

参考答案：C【解析】我国《继承法》第 2 条规定：“继承从被继承人死亡时开始。被继承人死亡包括自然死亡和宣告死亡。如果相互有继承关系的几个人在同一事件中死亡，并且不能

确定死亡时间的，推定没有继承人的先死亡。死亡人各自都有继承人的，如果几个死亡人辈分不同，推定长辈先死亡；几个死亡人辈分相同，推定同时死亡，彼此不发生继承，由他们各自的继承人分别继承。”

35. 某公司委托其员工李某、陈某共同购买年终福利商品。陈某突发疾病，李某便单独到某超市购买商品，恰逢该超市举办购物抽奖活动，李某抽到了一等奖购物卡 4000 元。该购物卡应当（）

- A. 归李某所有
- B. 归陈某、李某共同所有
- C. 归公司所有
- D. 归李某与公司共同所有

参考答案：C【解析】某公司委托其员工李某、陈某共同购买年终福利商品，由此而产生的后果由公司承担，包括李某抽到了一等奖购物卡 4000 元也属于公司所有。

36. 相比《民法通则》，《民法总则》有许多新变化，其中之一是将限制民事行为能力的最低年龄由十岁调整为（）岁。

- A. 六
- B. 七
- C. 八
- D. 九

参考答案：C【解析】相比《民法通则》，《民法总则》有许多新变化，其中之一是将限制民事行为能力人的最低年龄由十岁调整为 8 岁。

37. 我国民法总则规定，涉及遗产继承、接受赠与等胎儿利益保护的，胎儿（）。

- A. 具有民事权利能力
- B. 视为具有民事权利能力
- C. 不具有民事权利能力
- D. 可能不具有民事权利能力

参考答案：B【解析】我国民法总则规定，涉及遗产继承、接受赠与等胎儿利益保护的，胎儿视为具有民事权利能力。

38. 《中华人民共和国民事诉讼法》第5条第1款规定：“外国人、无国籍人、外国企业和组织在人民法院起诉、应诉，同中华人民共和国公民、法人和其他组织有同等的诉讼权利义务。”该条款规定体现的是（ ）原则。

- A. 国民待遇 B.
- 最惠国待遇C.
- 对等待遇 D.
- 同等待遇

参考答案：D【解析】《民事诉讼法》第5条规定：“外国人、无国籍人、外国企业和组织在人民法院起诉、应诉，同中华人民共和国公民、法人和其他组织有同等的诉讼权利义务。外国法院对中华人民共和国公民、法人和其他组织的民事诉讼权利加以限制的，中华人民共和国人民法院对该国公民、企业和组织的民事诉讼权利，实行对等原则。”平等原则与同等原则、对等原则：平等原则针对的是诉讼当事人双方之间的关系，适用于所有的民事诉讼中；同等和对等原则针对的是国内与涉外、中国当事人与外国当事人的关系，适用于涉外民事诉讼领域。

39. 小张在凯跃超市购买了价值 300 元的精装礼盒装大米，回家后小张发现该大米内外包装均无生产日期、保质期等。小张与超市沟通要求超市对其进行赔偿。沟通未果后，小张对超市提起仲裁，后来仲裁庭裁决：凯跃超市退还货款并进行（ ）赔偿。

- A. 二倍
- B. 五倍
- C. 十倍
- D. 八倍

参考答案：C【解析】中华人民共和国食品安全法第一百四十八条消费者因不符合食品安全标准的食品受到损害的，可以向经营者要求赔偿损失，也可以向生产者要求赔偿损失。接到消费者赔偿要求的生产经营者，应当实行首负责制，先行赔付，不得推诿；属于生产者责

任的经营者赔偿后有权向生产者追偿；属于经营者责任的，生产者赔偿后有权向经营者追偿。生产不符合食品安全标准的食品或者经营明知是不符合食品安全标准的食品，消费者除要求赔偿损失外，还可以向生产者或者经营者要求支付价款十倍或者损失三倍的赔偿金；增加赔偿的金额不足一千元的，为一千元。但是，食品的标签、说明书存在不影响食品安全且不会对消费者造成误导的瑕疵的除外。

40. 熊某，12岁，一天在学校不慎将同学颜某眼睛弄伤，双方父母因赔偿问题诉至法院。本案当事人是（）

- A. 颜某为原告；熊某为被告
- B. 颜某父母为原告；熊某父母为被告
- C. 颜某父母为原告；熊某为被告
- D. 颜某为原告；熊某父母为被告

参考答案：A【解析】颜某为原告；熊某为被告，但小孩是未成年人，由监护人代理诉讼。

41. 甲县居民李某与乙县某房地产公司在丙县售房处签订了房屋买卖合同，购买该房地产公司在丁县所建住房1套。双方约定合同发生纠纷后，可以向甲县法院或者丙县法院起诉。后因房屋面积发生争议，李某欲向法院起诉。关于此案管辖权，下列正确的是（）

- A. 甲县和丙县法院有管辖权
- B. 只有丁县法院有管辖权
- C. 乙县和丁县法院有管辖权
- D. 丙县和丁县法院有管辖权

参考答案：B【解析】专属管辖指法律强制规定某些案件只能由特定的人民法院管辖，其他法院无管辖权，当事人也不得协议变更管辖法院。不动产纠纷：不动产所在地人民法院管辖。

42. 2018年10月26日修订通过的《中华人民共和国刑事诉讼法》新增了一些制度，其中之一是（）

- A. 未成年人审判制度
- B. 缺席审判制度

- C. 公开审判制度
- D. 两审终审制度

参考答案：B【解析】未成年人审判制度、公开审判制度、两审终审制度都是以前的刑事诉讼法就规定的了，缺席审判制度是新增加的制度。

43. 刑事诉讼法属于（）

- A. 程序法
- B. 实体法
- C. 特别法
- D. 临时法

参考答案：A【解析】实体法与程序法是以法所规定的内容不同为标准对法所作的分类。1. 实体法一般指以规定主体的权利、义务关系或职权、职责关系为主要内容的法。2. 程序法通常指以保证主体的权利和义务得以实现或保证主体的职权和职责得以履行所需程序或手续为主要内容的法。刑事诉讼法属于程序法。

44. 我国刑事诉讼法规定，人民法院依照法律规定独立行使（），人民检察院依照法律规定独立行使（），不受行政机关、社会团体和个人的干涉。

- A. 检察权；审判权
- B. 审判权；侦查权
- C. 审判权；检察权
- D. 侦查权；审判权

参考答案：C【解析】我国刑事诉讼法规定，人民法院依照法律规定独立行使审判权，人民检察院依照法律规定独立行使检察权，不受行政机关、社会团体和个人的干涉。

45. 公安机关在侦查过程中，发现不应对犯罪嫌疑人追究刑事责任的，（）。

- A. 应当报请人民检察院作出处理
- B. 应当撤销案件
- C. 应当结案，并写出结案报告

D. 应当通知犯罪嫌疑人其不再受到刑事追诉，同时撤销案件

参考答案：B【解析】《中华人民共和国刑事诉讼法》第一百三十条规定：在侦查过程中，发现不应追究犯罪嫌疑人刑事责任的，应当撤销案件；犯罪嫌疑人已被逮捕的，应当立即释放，发给释放证明，并且通知原批准逮捕的人民检察院。

46. 《中华人民共和国行政诉讼法》第5条规定：“人民法院审理行政案件，以事实为根据，以法律为准绳。”该条款规定中的“事实”是指（）

- A. 基本事实
- B. 客观事实
- C. 法律事实
- D. 真实事实

参考答案：C【解析】在法律事实和客观事实关系上，客观事实是不依赖人们的认识的事实真相，法律事实是依照法律程序、被合法证据证明了的案件事实。有时法律真实几乎等同于客观真实，但有时候又与客观真实完全相悖。有证据支撑的事实才叫法律事实，法院采信必须是法律事实。

47. 根据我国行政诉讼法规定，行政机关委托的组织所作的行政，（）是被告。

- A. 受委托的行政机关
- B. 委托的行政机关
- C. 委托的组织
- D. 其他行政机关

参考答案：B【解析】根据《行政诉讼法》第二十五条的规定，由行政机关委托的组织所作的具体行政行为，委托的行政机关是被告。

48. 根据我国行政诉讼法规定，对限制人身自由的行政强制措施不服提起的诉讼，（）人民法院管辖。

- A. 被告所在地
- B. 原告所在地

C. 最初作出行政行为的行政机关所在地D.

被告所在地或者原告所在地

参考答案：D【解析】《中华人民共和国行政诉讼法》第十九条规定：对限制人身自由的行政 强制措施不服提起的诉讼，由被告所在地或者原告所在地人民法院管辖。

49. 一间简陋的房屋，因为一本书的存在，而散发出_____的馨香，那馨香就点燃的_____心瓣，将亘古浓缩为一瞬投影在山峦之上，从而让一块蛮荒拥有了历史。

填入划线部分最恰当的一项是（ ）

- (A. 悠远 沉寂
- B. 悠久 沉没
- C. 悠久 沉静
- D. 悠远 激动

参考答案：A【解析】这是一道逻辑填空题，解题的关键在于结合文段的语境，辨析选项。第一空形容的香味，味道只能飘的很远，并不能用悠久形容，排除 BC。第二空与“点燃”对应，只能是沉寂的，所以选 A。

50. ①其共享单车市场从最初的野蛮生长”到规范有序发展，诚信在其中发挥了_____的作用。

②渔村发展到一个现代化的大城市，创新意识成为了深圳人_____精神财富。

填入划线部分最恰当的一项是（ ）

- A. 至关重要 缺一不可
- B. 举足轻重 不可或缺
- C. 不可估量 非常重要
- D. 大有可观 无法替代

参考答案：B【解析】这是一道逻辑填空题，解题的关键在于结合文段的语境，辨析选项。第一空形容的是作用，发挥重要作用不可以用“不可估量”和“大有可观”排除 CD；第二空形容“财富”，“缺一不可”程度过重，且不符合语境要求，排除 A。代入 B，符合语境，所以选 B。

51. 新一代信息技术与制造业的深度_____，带来了制造模式、生产组织方式和产业形态的

深刻变革，智能制造也_____，智能制造就是把新一代信息技术贯穿于设计、生产管理、服务等制造活动的各个环节。

填入划线部分最恰当的一项是（ ）

- A. 融合 应运而生
- B. 交融 随之产生
- C. 融合 适时产生
- D. 融化 应运而生

参考答案：A【解析】第一空，形容技术，“融合”较为恰当。前文提到“新一代信息技术与制造业的深度融合，带来了……，智能制造也……”，根据语境，文段意思是智能制造伴随着信息技术和制造业的融合而产生。“应运而生”指随着某种形势（适应时机）而产生，符合语境。因此选择 A。

52. 历史是昨天的新闻，新闻是明天的历史。历史与新闻有如隔世兄弟，一脉相通。历史作为事实的_____，往往和文学相互补充，而文学的天赋是想象、虚构和夸张。因此沾上了文学的历史与新闻就像到了岔路口，不光是_____、可能还会走向对立。

填入划线部分最恰当的一项是（ ）

- A. 记录 深度融合
- B. 依据 分道扬镳
- C. 记载 分道扬镳
- D. 依据 深度融合

参考答案：C【解析】这是一道逻辑填空题，根据第二空的顿号可知，第二空的意思比走向对立语义较轻，排除 AD。第一空的意思是历史与事实之间的关系，不能是“依据”，而是“记载”。所以选 C。

53. 涓涓细流，汇成江海。每一个体都增进励精图治、_____的使命感和责任感，传承家国天下命运一体的爱国情怀、凝聚休戚与共的_____，就能汇聚起共筑中国梦的磅礴力量。A. 奋发有为 民族共识

- B. 攻坚克难 民族情感

- C. 自强不息 民族情怀
- D. 奋发图强 民族认同

参考答案：D【解析】这是一道逻辑填空题，根据第一空的顿号可知，第一空的意思与“励精图治”相并列排除 B，第二空与“家国情怀”相对应，只能是“民族认同”。所以选 D。

54. ①令群众不满的是，_____的管理者常常不受处罚，群众无法知道某些管理者下一个决策是不是还会像“小孩的脸——说变就变”。

②恰到好处，是一种哲学和艺术的结晶体。它代表的豁达和_____，是幸福门前的长廊。

填入划线部分最恰当的一项是（ ）

- A. 朝秦暮楚 淡化
- B. 能言善辩 坦然
- C. 朝令夕改 淡然
- D. 朝三暮四 坦然

参考答案：C【解析】这是一道逻辑填空题，第一空形容的是“管理者”而且后面提到了“说变就变”只可以用“朝令夕改”。所以选 C。

55. 生态兴则文明兴，生态衰则文明衰，杀鸡取卵、_____的发展方式走到了尽头，顺应自然，保护生态的绿色发展_____着未来。地球是全人类赖以生存的唯一家园。我们要像保护自己眼睛一样保护生态环境，像对待生命一样对待生态环境，共筑生态文明之基，同走绿色发展之路。

填入划线部分最恰当的一项是（ ）

- A. 不留余地 预示
- B. 竭泽而渔 昭示
- C. 饮鸡止渴 明示
- D. 焚林而猎 揭示

参考答案：B【解析】这是一道逻辑填空题，第一空与“杀鸡取卵”相并列，排除 AC。第二空形容的是未来，排除 D 项“揭示”；所以选 B。

56. ①必须加强对五四运动和五四精神的研究，以_____广大青年在五四精神激励下，为决胜全面建成小康社会，夺取新时代中国特色社会主义伟大胜利、实现中华民族伟大复兴的中国梦不懈奋斗。

②在人生的“拔节孕穗期”，在思想最开放、精神最活跃、精力最旺盛的年纪，如果不学更多本领、干一番事业、扣好人生的“第一粒扣子”，只会成为莫大的_____。

填入划线部分最恰当的一项是（ ）

- A. 指导 缺失
- B. 启发 缺点
- C. 指示 遗憾
- D. 引导 缺憾

参考答案：D【解析】这是一道逻辑填空题，根据第一空形容的是精神，“指导”和“指示”强调的是一种行为，排除；第二空形容的人生中没做某件事会成为遗憾，不能用“缺点”排除B。所以选D。

57. 时间不能倒流，但生活可以同样精彩，不一定是儿时的无知，却可以有当时的无邪；不一定是此时的四平八稳，却可以像小时候那样_____；不一定要抓住过往牢牢不放，却可以珍惜当下创造不凡。小时候的梦想和长大后的生活始终在一条时间线上，分不开更割不断，只要悉心浇灌，再_____的土壤都能变成沃土，向阳的花也总会美丽_____。

填入划线部分最恰当的一项是（ ）

- A. 天马行空 贫瘠 绽放
- B. 无拘无束 贫困 盛开
- C. 挥洒自如 贫穷 开放
- D. 异想天开 贫乏 绽开

参考答案：A【解析】这是一道逻辑填空题，第一空说的是小时候，不可以用消极词汇，排除“异想天开”；“挥洒自如”形容写文章不符合文意，排除；第二空形容土壤，不可以用“贫困”。所以选A。

58. ①眼下强调防风险的重要性，并不是山雨欲来、仓促应战，而是_____、防微杜渐。

②要想在创新上赢得先机，就需要看准创新方向和领域，毫不犹豫、尽快启动、_____、坚持不懈。

填入划线部分最恰当的一项是（ ）

- A. 居安思危 趁热打铁
- B. 未雨绸缪 一鼓作气
- C. 有备无患 连成一气
- D. 常备不懈 一气呵成

参考答案：B【解析】这是一道逻辑填空题，第一空与“防微杜渐”形成并列“居安思危”只强调在思想层面，排除；“常备不懈”不符合语境，排除；第二空与“尽快启动”形成并列，“连成一气”不符合语境，排除；带入 B 符合语境。所以选 B。

59. ①这是一个_____的多元社会，也是一个百争流的观点时代。

②在人工智能研究热潮中，国内外已经形成千帆竞发的局面，但总体上人工智能还处于发展的初级阶段。人们对于智能的本质和机理的认识还不够深刻、全面，尚未形成完善的理论体系。如果没有人工智能基础研究的支撑，应用层面上的技术创新和产业创新都将是_____。

填入划线部分最恰当的一项是（ ）

- A. 奋发图强 根基不牢
- B. 混乱不堪 无源之水
- C. 赢者通吃 本末倒置
- D. 千帆竞发 无源之水

参考答案：D【解析】D。第一空与“百争流”近义，“千帆竞发”符合，第二空根据“如果没有人工智能基础研究”的支撑，可知“无源之水”符合。所以选 D。

60. ①近年来因程序违法败诉的行政案件不少，尽管有前车之鉴，但是依然不乏职能部门_____。

②每一级单位部门、每一位领导干部都有自己的职责和任务，都应_____、守土尽责。

填入划线部分最恰当的一项是（ ）

- A. 赴汤蹈火 兢兢业业

- B. 屡试不爽 各尽其职
- C. 重蹈覆辙 恪尽职守
- D. 以身试法 兢兢业业

参考答案：C【解析】第一空根据“前车之鉴”可知后面自然有部门犯以前一样的错，“重蹈覆辙”符合，第二空根据顿号要填入与“守土尽责”意思相近的词，可知“恪尽职守”符合。

61. 在中国古代，乡村就是成熟社区，凝聚人心的是忠孝仁义诸价值观，联结人们的是宗族祠堂、城隍土地等文化性场所，在村民自愿联合的基础上，建立起一个个具有教化、救济与公共治理功能的村社自治共同体。而在西方很多国家，以教堂为核心形成了教区，每个教区自然形成一个社区。一些专业性的社区工作，如为老人、残疾人、妇女、儿童提供服务以及慈善事业，也往往以此为范围开展。

以上文字意在说明（ ）

- A. 中国乡村是具有教化、救济与公共治理功能的村社自治共同体 B. 中外社区治理的传统，都彰显了文化的重要性
- C. 西方国家的教堂承担了社区文化教育的功能 D. 中国乡村的宗族祠堂、城隍土地是文化性场所

参考答案：B【解析】文段为分分结构，分别说了中国乡村和西方国家教堂社区在文化方面的作用，全面概括可知正确答案选 B。

62. 现今青少年沉迷网络问题，已不仅仅是沉迷网络游戏这样的单一问题。直播等新形式的网络娱乐方式的兴起，让青少年所需要面对的网络诱惑越来越多。此前就有媒体报道小学生为打赏主播，偷偷花掉家里数万积蓄；农村少年正在被手机游戏吞没，手游瘾成为乡村“流行病”等。

以上文字意在说明（ ）

- A. 青少年沉迷网络游戏有了新形式
- B. 手游已成为乡村的“流行病”
- C. 解决青少年沉迷络问题已迫在眉睫
- D. 直播等网络娱乐形让青少年沉迷

参考答案：C【解析】文段首句提出青少年沉迷网络问题很严重，后面通过直播和手机游戏来分析问题的严重性，作者在文中提出问题，意在解决，所以正确答案选 C。

63. 在线教育驶入发展快车道，一点也不令人意外。一堂“慕课”，可容纳 10 万名学生注册学习；偏远山村，孩子们能够实时聆听千里之外的名师授课；遇到难题扫一扫即可得到方法解析……信息技术在教育领域应用的普及，打破了时空限制推倒了学校围墙，为教育开启了“魔法之门”。在这种背景下，在线教育日益为教育事业开拓着新的可能，前景十分广阔。

这段文字意在强调（ ）

- A. 在线教育发展迅速，前景无限
- B. 在线教育打破了时空限制，会颠覆传统教育
- C. 在线教育可以解决教育资源分配不均的问题
- D. 传统教育须借力信息技术才有发展的空间

参考答案：A【解析】文段前半部分陈述在线教育的积极作用，最后一句，通过这种背景指代前文，提出观点。根据最后一句选择 A。

64. 应该看到，互联网所提供给我们的，不仅是一个更便捷的沟通、交流、传播信息的工具，很大程度上也塑造了年轻一代的生活方式和价值观念。它在带给我们参与、分享、合作、协作的互联网精神的同时，也让目前尚属“非主流”的各种形态的亚文化潜滋暗长。而这些亚文化将给年轻一代带来什么样的价值观念？或许需要引起社会广泛关注。

这段文字意在强调（ ）

- A. 互联网具有“两面性”
- B. 亚文化需要引起社会广泛关注
- C. 互联网滋生了尚属“非主流”的各种形态的亚文化
- D. 互联网对年轻一代的生活方式和价值观念的巨大影响

互联网对年轻一代的生活方式和价值观念的巨大影响

参考答案：B【解析】文段第一句提出互联网带来的好处，第二句通过同时提出不好的亚文化潜滋暗长，接着提出问题，最后一句通过需要提出对策“需要引起社会广泛关注”，根据最后一句选择 B。

65. ①在对待文化旅游的问题上，最需提防的是心急。

②有心人将文化和旅游比作“诗和远方”，要真正到达那么诗意的境界，我们还需要日复一日的深耕，才能对得起见识和品位不断提升的消费者。

③人们去一些文化景点，往往是被与之相关的文化内涵所吸引，这当然蕴藏着商机，却不应被滥用。

④很多长盛不衰、风靡世界的文化旅游项目，背后往往有对文化品牌的敬畏，同时还有对服务细节的追求。

将以上 4 个句子重新排列，语序正确的是（ ）

- A. ①③②④
- B. ③①④②
- C. ③④②①
- D. ④③①②

参考答案：B【解析】③提出话题，适合做首句，②是对策，④分析，不适合做首句，排除AD，②提出还需要深耕，应该置于①后，所以正确答案选 B。

66. 近年来，我国一些城市也开始有意识地树立品牌形象，但由于品牌定位和诉求并不鲜明，且往往着眼于旅游、招商等浅层次，未能上升到服务国家战略、激发地方发展动能的高度。譬如，有的城市要引人引智，却单纯着眼于学历门槛，表面上很省力，而从长远看，吸引人才、资金和资源的关键，在于培育其他城市没有的优势、服务能力和文化氛围。

以上文字意在说明（ ）

- A. 我国城市品牌定位更多着眼于旅游、招商
- B. 我国城市品牌定位应根据城市特色优势提升定位高度
- C. 培育其他城市没有的优势、服务能力和文化氛围是引人引智的关键 D. 城市引人引智单纯着眼于学历门槛

参考答案：B【解析】文段第一句提出问题，后面通过举某些城市的例子来论证首句的问题，作者提出问题，意在解决，根据第一句提出的问题可知正确答案选 B。

67. 国家电影局数据显示，2018 年全国电影总票房为 609.76 亿元，同比增长 9.06%，相比

2017 年同比增长 13.45% 的速度进一步放缓。2016 年、2017 年，我国进口影片票房占比分别约为 42%、46%，仍然维持高位。

以上文字意在说明（ ）

- A. 电影市场增速放缓，进口影片票房占比维持较高
- B. 2018 年较 2017 年电影市场增长较大
- C. 2018 年电影市场增幅进一步放缓
- D. 我国电影市场进口影片占比较大

参考答案：A【解析】文段中陈述了全国电影总票房数据和进口影片票房仍维持高位，可知正确答案选 A。

68. 现代农业的发展不能脱离生态安全和产品安全两个基本要求，因此，农业污染防治应作为现代农业发展的重要任务之一。不同于工业污染和城市污染，农业污染涉及面广而隐蔽性强、评估难度大，不适合建立惩罚型机制。同时，由于农民收入水平相对较低，不可能进行“污染收费”。所以说，必须建立激励型经济补偿机制，从根本上提高农户防控污染的积极性。

对以上文字的主旨概括最准确的是（ ）

- A. 治理农业污染与工业污染的方法有所不同
- B. 转变农业发展模式是治理农业污染的前提
- C. 现代农业污染防治应树立激励补偿型理念
- D. 农业污染防治是现代农业发展的重要任务

参考答案：C【解析】文段第一句提出问题，第二句分析问题，第三句通过所以说提出对策，根据对策句可知正确答案选 C。

69、以下描写夏天的诗句是（ ）

- A. 乱花渐欲迷人眼，浅草才能没马蹄
- B. 黄梅时节家家雨，青草池塘处处蛙
- C. 西塞山前白鹭飞，桃花流水鳜鱼肥
- D. 沾衣欲湿杏花雨，吹面不寒杨柳风

参考答案：B【解析】A项，野花竞相开放就要让人眼花缭乱，形容充满生机的早春气象。出自于唐代白居易的《钱塘湖春行》。B项，“黄梅时节家家雨”，交待了当时的环境。黄梅时节乃是立夏后数日梅子由青转黄之时，江南多雨，俗称黄梅天。C项，西塞山前白鹭在自由地翱翔，江水中，肥美的紧鱼欢快地游着，漂浮在水中的桃花是那样的鲜艳而饱满。桃花盛开，繁鱼肥美的季节是春天。D项，把小船停放拴在岸边的古木树荫下；拄着拐杖走过桥的东边恣意观赏这春光。阳春三月，杏花开放，绵绵细雨像故意要沾湿我的衣装似的，下个不停。轻轻吹拂人面的，带着杨柳清新气息的暖风令人陶醉。

70. 关于中国湖泊，下列说法错误的是（ ）

- A. 都阳湖是中国最大的淡水湖
- B. 青海湖是中国最大的咸水湖 C.
- 大理洱海是中国海拔最高的湖D.
- 长白山天池是中国最深的湖

参考答案：C【解析】C项，我国海拔最高的湖是位于西藏的纳木错。

71. 国务院将每年4月24日设立为“中国航天日”，2019年中国航天日的主题是（ ）

- A. “中国梦，航天梦”
- B. “逐梦航天，合作共赢
- C. “航天创造美好生活”
- D. “共筑航天新时代

参考答案：B【解析】2019年“中国航天日”主场活动4月24日在长沙开幕，主题为“逐梦航天合作共赢”。

72. 2019年4月10日，包括中国在内，全球多地天文学家同步公布人类史上第一张黑洞照片。

关于黑洞，以下表述错误的是（ ）

- A. 黑洞这个名词，是1968年由美国天文学家惠勒提出
- B. 黑洞是爱因斯坦广义相对论预言存在的一种天体
- C. 质量天文学家将黑洞分成恒星级质量黑洞、超大质量黑洞和中等质量黑洞

D. 黑洞也是类似于太阳一样可以发光的质量极大的恒星体

参考答案：D【解析】黑洞（Black hole）这个名词，是 1968 年由美国天文学家惠勒在一个报告里面提出的。理论上，黑洞是爱因斯坦广义相对论预言存在的一种天体。黑洞在吸收宇宙中的其他天体时，这些天体会被这强大的引力撕碎。在这个过程中，天体裂解时会产生巨大的能量，这些能量有一部分就被转化为光能。但是这些光能只能在黑洞的外面发光，因为一旦进入黑洞的里面，那么就算是再大光亮也发射不出来了。黑洞是恒星生命终结后内核坍缩形成的高密度星体的引力场，严格来说黑洞不是恒星，恒星是指能自身发光发热，且具有一定体积和质量的星体。

73、苏就的《念奴娇·赤壁怀古》写到“羽扇纶巾，谈笑间，檣灰飞烟灭”，“羽扇纶巾”形容的历史人物是（ ）

- A. 关羽
- B. 诸葛亮
- C. 周瑜
- D. 鲁肃

参考答案：C【解析】周瑜字公瑾，是三国时吴军的统帅。三国时期正是魏晋风骨大肆流行的时期，士人均以峨冠博带、羽扇纶巾为时尚，所以首先要说，羽扇纶巾的装束在三国时期并不是诸葛亮的专利。纶巾，古时头巾名，幅巾的一种，以丝带编成，一般为青色。周瑜外号周郎，“郎”在古代是指年轻英俊的男子。又有言说，“曲有误，周郎顾”，就是说乐队演奏有了一点错误，周瑜都能分辨得出来。所以，周瑜应该是一位很风雅的儒将，他顺应时尚应该是很正常的。词中写周瑜戴着青色的头巾，微微摇着扇子，更能显示出他面对曹操八十万雄兵时的镇定自若的大将风度。历史上，诸葛亮没有直接参与到赤壁之战中去，是文学作品和民间故事让他在赤壁大出风头。

74. 习近平总书记所述“共产党人精神上的钙”是指（ ） A.

- 党性观念
- B. 宗旨意识
- C. 纪律观念

D. 理想信念

参考答案：D【解析】习近平总书记指出：“理想信念就是共产党人精神上的‘钙’，没有理想信念，理想信念不坚定，精神上就会‘缺钙’，就会得‘软骨病’”。

75. 党的十九大报告指出，从 2035 年到本世纪中叶，在基本实现现代化的基础上，再奋斗十五年，把我国建成（）

- A. 富强民主文明和谐幸福的社会主义现代化强国
- B. 富强民主文明和谐幸福的社会主义现代化国家
- C. 富强民主文明和谐美丽的社会主义现代化强国
- D. 富强民主文明和谐美丽的社会主义现代化国家

参考答案：C【解析】从二〇三五年到本世纪中叶，在基本实现现代化的基础上，再奋斗十五年，把我国建成富强民主文明和谐美丽的社会主义现代化强国。

76. 党的十九大报告指出，中国特色社会主义事业总体布局和战略布局是（）

- A. “四位一体”、“四个全面”
- B. “五位一体”、“四个全面”
- C. “五位一体”、“五个全面”
- D. “六位一体”、“五个全面”

参考答案：B【解析】习近平新时代中国特色社会主义思想明确中国特色社会主义事业总体布局是“五位一体”、战略布局是“四个全面”。“五位一体”总体布局，是经济、政治、文化、社会、生态全面发展的布局。“四个全面”，即全面建成小康社会、全面深化改革、全面依法治国、全面从严治党。

77. 增强党自我净化能力，根本靠强化（）。

- A. 党的自我监督和司法监督
- B. 党的自我监督和群众监督
- C. 党的自我监督和舆论监督
- D. 党的自我监督和民主监督

参考答案：B【解析】习近平总书记在党的十九大报告中指出：“增强党自我净化能力，根本靠强化党自我监督和群众监督”。这是对执政党建设规律和国家治理规律的深刻总结，具有很强的思想指导性和现实针对性。

78. 党的十九大报告指出，制定国家监察法，依法赋予监察委员会职责权限和调查手段，用于取代“两规”的措施是（ ）

- A. 调查
- B. 拘留
- C. 留置
- D. 三规

参考答案：C【解析】十九大报告指出，推进反腐败国家立法；制定国家监察法，依法赋予监察委员会职责权限和调查手段，用留置取代“两规”措施。

79. 中国共产党始终把为人类作出新的更大的贡献作为自己的（ ） A. 使命

- B. 目标
- C. 责任
- D. 动力

参考答案：A【解析】在十九大报告中，习近平总书记第一次把中国共产党的对外政策主张与中国共产党的性质紧密联系在一起，他说“中国共产党是为中国人民谋幸福的政党，也是为人类进步事业而奋斗的政党。中国共产党始终把为人类作出新的更大的贡献作为自己的使命”。明确要推动构建新型国际关系，推动构建人类命运共同体，故选择 A。

80. 全面推进依法治国的总目标是（ ）

- A. 建设中国特色社会主义法律体系、建设社会主义法制国家 B. 建设中国特色社会主义法治体系、建设社会主义法治国家 C. 建设中国特色社会主义法制体系、建设社会主义法制国家 D. 建设中国特色社会主义法律体系、建设社会主义法治国家

参考答案：B【解析】十八届四中全会提出，全面推进依法治国，总目标是建设中国特色社会主义法治体系，建设社会主义法治国家，故选择 B。

81. 两岸关系的政治基础是（ ）

- A. “九二共识”
- B. 和平统一
- C. 反对“台独”
- D. 一个中国原则

参考答案：D【解析】发展两岸关系政治基础是坚持一个中国原则。一国两制是党和政府制定的“和平统一，一国两制”的伟大方针，完成了香港、澳门顺利回归祖国的大业。一国两制的基本内容是坚持一个中国的原则。一国是两制的前提，实现祖国统一是一国两制的核心。一个中国，即中华人民共和国，故选择 D。

82. 习近平新时代中国特色社会主义思想的核心要义是（ ） A.

- 实现中华民族伟大复兴
- B 促进人类和平进步发展
- C. 坚持和发展中国特色社会主义
- D. 实现党的指导思想与时俱进

参考答案：C【解析】习近平新时代中国特色社会主义思想的核心要义，就是坚持和发展中国特色社会主义，具体体现在它从理论和实践结合上系统回答了新时代坚持和发展什么样的中国特色社会主义、怎样坚持和发展中国特色社会主义这个重大时代课题，回答了新时代坚持和发展中国特色社会主义的总目标、总任务、总体布局、战略布局和发展方向、发展方式、发展动力、战略步骤、外部条件、政治保证等基本问题，并且根据新的实践对经济、政治、法治、科技、文化、教育、民生、民族、宗教、社会、生态文明、国家安全、国防和军队、“一国两制”和祖国统一、统一战线、外交、党的建设等各方面作出理论分析和政策指导，为更好坚持和发展中国特色社会主义提供了思想武器和行动指南，故选择 C。

83. 党的十九大对我国社会主义所处历史阶段作出“两个没有变”的重大判断，具体是指（ ）

- ①我国改革开放的基本国策没有变
- ②我国现阶段社会主要矛盾没有变
- ③我国是世界上最大发展中国家的国际地位没有变
- ④我国仍处于并长期处于社会主义初级阶段的基本国情没有变

- A. ①③
- B. ③④
- C. ②④
- D. ①②

参考答案：B【解析】两个没有变：经过新中国成立以来特别是改革开放以来的不懈努力，我国取得了举世瞩目的发展成就，从生产力到生产关系、从经济基础到上层建筑都发生了意义深远的重大变化，但我国仍处于并将长期处于社会主义初级阶段的基本国情没有变，我国是世界上最大发展中国家的国际地位没有变。人民日益增长的物质文化需要同落后的社会生产之间的矛盾这一社会主要矛盾已经改变。改变为习近平强调，我国社会主要矛盾已经转化为人民日益增长的美好生活需要和不平衡不充分的发展之间的矛盾。

84. 马克思和恩格斯进一步发展和完善了英国古典经济学理论的是（ ） A.

辩证法

- B. 历史观
- C. 劳动价值论
- D. 剩余价值论

参考答案：C【解析】重点发展完善了李嘉图关于劳动价值论的理论，而剩余价值论是马克思最重要的发现之一，故选择 C。

85. 我们通过眼、耳、鼻、舌、身各种感官感觉到一个苹果的各种属性，在意识中把它们联系起来形成了关于这个苹果的感性形象，这种反映形式是（ ）

- A. 感觉
- B. 知觉
- C. 分析

D. 表象

参考答案：B【解析】通过人的感觉器官直接感知的事物的整体形象是感性认识中的知觉，故选择 B。不是感觉，因为感觉是对事物的个别属性而不是外部整体形象的直接反映，也不是表象，因为表象是在知觉形成的基础上，对已经感知过的事物的外部整体形象在人脑中的回忆和再现，故 AC 不当选。D 讲的是理性认识，故不当选。

86. 人民群众既是历史中的“剧中人”，又是历史的“剧作者”。这是（ ） A.

唯心主义观点

B. 折中主义观点

C. 历史唯物主义观点

D. 历史循环论的观点

参考答案：C【解析】历史唯物主义认为，人民群众是一个历史范畴。在社会历史发展过程中，人民群众起着决定性的作用。人民群众是历史的主体，是历史的创造者。历史是人民群众创造的，但人民群众创造历史的活动及作用，又受到社会历史条件的制约，故选择 C。

87. 毛泽东著名诗句“坐地日行八万里，巡天遥看一千河”包含的哲理是（ ） A.

时空的无限性和有限性的统一

B. 物质运动无限性和有限性的统一

C. 物质运动的客观性和时空的主观性的统一D.

运动的绝对性和静止的相对性统一

参考答案：D【解析】“坐地日行八万里”是说人们坐在赤道上，因为地球在自转，于是在不知不觉中，一日已经行了八万里路。人以地球为参照物，是相对静止的，而在整个宇宙之中，是运动的，体现了运动的绝对性与静止相对性的统一，故选择 D。

88. “白马非马”之说的错误在于割裂了（ ）。

A. 内因和外因的关系

B. 矛盾的普遍性和特殊性的关系

C. 矛盾的主要方面和次要方面的关系

D. 矛盾统性和斗争性的关系

参考答案：B【解析】“白马非马”是古代诡辩论的典型代表公孙龙的话，他说白马不是马，这句话在哲学上的错误就在于割裂了矛盾的普遍性与特殊性，即共性与个性的联系，白马是个性，马是共性，马是对各种不同的马所具有的共同特点的抽象和概括，故选择 B。

89. 光的反射，是指光从一种介质射向另一种介质表面时，在界面处有一部分光返回原介质的现象。

根据上述定义，下列属于光的反射现象是（ ） A.

凿壁偷光

B. 井底之蛙

C. 猴子捞月

D. 海市蜃楼

参考答案：C【解析】A. B 没有涉及介质反射，D. 属于光的折射。

90. 小概率事件，是指一个事件的发生概率很小，它在一次试验中是几乎不可能发生的，但在多次重复试验中是必然发生的。

根据上述定义，下列不属于小概率事件的是（ ） A.

张三购买五张彩票就中了头等奖

B. 小行星撞击地球

C. 2020 年元旦会下雨

D. 说曹操，曹操就到

参考答案：C【解析】C 选项的事件，不能用来进行试验。

91. 化学变化，是指相互接触的分子间发生原子或电子的转移或转换。生成新的分子并伴有能量的变化的过程，其实质是旧键的断裂和新键的生成。

根据上述定义，下列属于化学变化的是（ ） A.

千里冰封，万里雪飘

B. 野火烧不尽，春风吹又生

- C. 只要功夫深，铁杵磨成针
- D. 夜来风雨声，花落知多少

参考答案：B【解析】燃烧属于化学变化。

92. 法人，是指具有民事权利和民事行为能力，依法独立享有民事权利和承担民事义务的社会组织。

根据上述定义，下列不属于法人的是（）

- A. 王某与张某依照《公司法》设立一有限责任公司
- B. 李某与刘某作为发起人采取发起设立方式，依照《公司法》设立一股份有限公司
- C. 美国一家公司与中国一家公司依照《中外合资经营企业法》在中国境内设立一中外合资经营企业
- D. 涂某与荆某共同出资，依照《合伙企业法》设立一合伙企业

参考答案：D【解析】法人依法独立承担民事责任，合伙负责人和其他人员的经营活动，由全体合伙人承担民事责任，所以合伙企业不是法人。

93. 生态补偿，是指通过对损害资源的环境进行收费，提高行为的成本，从而促使损害行为的主体减少带来外部不经济性的行为，达到保护资源环境的目的。

根据上述定义，下列属于生态补偿的是（）

- A 在火车站等公共场所随地吐痰、乱扔垃圾的行人通常会被执勤人员拦住并罚款
- B 为避免有人随意游牧，管理部门规定，一旦有人违反则向其工作单位通报
- C 某政府用大型客运公司缴纳的各项税款和费用，修缮路况堪忧的国道
- D 为修复因游人过多对景区内绿色植被的破坏，某地区风景旅游区提高了门票价格

参考答案：A【解析】题干意思是通过通过对损害资源环境的行为进行收费，以减少该损害行为，从而保护资源环境。A 选项通过对随地吐痰、乱扔垃圾的行为进行收费以达到减少该种行为产生的目的，符合题干定义。

94. 行政许可，是指在法律一般禁止的情况下，行政主体根据行政相对方的申请，经依法审查，通过颁发许可证、执照等形式，赋予或确认行政相对方从事某种活动的法律资格或法律

权利的一种具体行政行为。

根据上述定义，下列不属于行政许可的是（ ）

- A. 小张从医学院本科毕业之后，参加卫生部医师资格考试，获得医师资格证书之后开始行医 B. 临近春节，小李向安全生产监督管理局申请生产经营烟花爆竹并获得批准
- C. 伦理审查委员会在详细查阅王教授进行人体试验的研究计划之后，认为符合伦理规范，批准该项研究
- D. 国家工商总局在对某进口企业的资质实行了审核之后，给予其进口认证

参考答案：C【解析】题干是指在法律禁止的情况下，赋予其从事某种活动的法律资格，而C选项是符合伦理规范，不属于法律范畴，不符合定义。

95. 精神赡养，是指在家庭生活中，子女理解、尊重、关心、体贴父母，尽力满足其精神生活方面的需要。

根据上述定义，下列不属于精神赡养的是（ ）

- A. 老孙最近专门买了 1 台液晶电视安装在父母房间，让二老看自己喜欢的节目，还为他们买了许多京剧光盘
- B. 尽管老吴没和父母住在一起，但他多年来已经养成了每天都去看望的习惯，无微不至地照顾好他们的生活，老人们感到很欣慰
- C. 春节临近，“夕阳红”敬老院的李院长请来朝阳小学的“小红花”乐团，孩子们的欢声笑语和精彩节目，为老人们带来了无尽的快乐
- D. 老姜的母亲已 70 多岁，但仍不服老，报名参加了交谊舞培训班，为避免老人生气并确保其安全，每次母亲去上课时，老姜都悄悄跟在后面

参考答案：C【解析】这是定义判断中的选非题 C 选项中的小红花乐团中的孩子们不属于题干中子女对父母精神方面的照顾和满足需要。主体不一致，不符合定义，所以选 C。

96. 某班进行演讲比赛，最后进入决赛的是 a、b、c、d、e 五位同学。关于谁是第一名，班上三位同学甲、乙、丙谈了自己的看法：

甲：b、c 都不可能是第一名

乙：第一名不是 b 就是 e

丙：第一名绝不是 e

比赛结果出来后，发现他们三人中只有一个人的看法是正确的，那么，这次演讲比赛的 第一名是（）

- A. a
- B. b
- C. c
- D. e

参考答案：C【解析】分析推理。

甲：b 且-c；乙： $\neg b \rightarrow e$ ；丙： $\neg e$ ；代入选项

若 a 夺冠，则甲真，乙假，丙真，两真一假

若 b 夺冠，则甲假，乙真，丙真，两真一假

若 c 夺冠，则甲假，乙假，丙真，一真两假若 e 夺冠，则甲真，乙真，丙假，两真一假故

C 项符合题意，所以选 C。

97. 只有小张、小谢和小李都参加马拉松比赛，小康才跟他们一起参加。如果上述断定是真的，那么，以下哪项也是真的？（）

- A. 如果小康没参加马拉松比赛，那么小张、小谢、小李三人中至少有一人没参加
- B. 如果小谢没参加马拉松比赛，那么小康和小李不会都参加
- C. 如果小李没参加马拉松比赛，那么小张和小谢不会都参加
- D. 如果小张、小谢、小李都参加马拉松比赛，那么小康也参加

参考答案：B【解析】翻译推理。

只有才后推前。翻译：康 \rightarrow 张且谢且李

- A. 否前得不出必然结论
- B. \neg 谢 \rightarrow \neg 康可以得出小康和小李不会都参加
- C. 否后只能推出否前结论。

98. 湖南人爱吃辣椒，小王爱吃辣椒，所以，小王是湖南人。能证明上述推理荒谬的是（） A.

某办公室所有人都能用英语交流，张三也会，所以，张三是该办公室的人

- B. 某办公室所有人都能用英语交流，张三是该办公室的人，所以，张三也能用英语交流 C.
某办公室不是所有人都能用英语交流，张三能用英语交流，所以，张三是该办公室的人 D.
会走路的动物都有腿，所以，凳子是会走路的

参考答案：A【解析】平行结构。

题干结构：所有 a 是 b，c 是 b，所以 c 是 a。

A 所有 a 是 b，c 是 b，所以 c 是 a 与题干结构一致；

B 所有 a 是 b，c 是 a，所以 c 是 b 结构不一致，排除；

C 有的 a 是 b，c 是 b，所以，c 是 a 结构不一致，排除；

D 所有 a 是 b，所以，c 是 a 结构不一致，排除。

99. 一个传动变速箱有 1-6 号齿轮受电脑程序控制，自动啮合传动。这些齿轮在传动中的

①只要 6 号转动，那么 2 号转，但是 1 号停。

②若 1 号或者 2 号转动，则 5 号停

③4 号和 5 号可以同时转，不能同时停。

④除非 3 号转动，否则 1 号才动

现在 6 号转动了，同时转动的 3 个齿轮是（）

A. 2 号、3 号和 5 号

B. 2 号、3 号和 4 号

C. 1 号、5 号和 4 号

D. 2 号、4 号和 5 号

参考答案：B【解析】分析推理

(1) 6→2 且-1

(2) 1 或 2→-5

(3) 4 或 5

(4) -1-3

已知 6 运转，则 (1) 2 运转，1 不动；(2) 则 5 不动；(4) 则 3 运转；(3) 则 4 运转；
所以 6，2，4，3 运转，选择 B。

100. 国际社会的多样性有利于国家间的取长补短，。无论社会制度相同还是不同，都可以而

且应当相互借鉴。一种文明的优点，不用强迫，别国也会学；反之，再强迫，别国不愿学。国家之间还应积极寻找利益的交汇点，合作解决人类没来得及解决的共同问题，这些领域十分广泛，诸如可持续发展、治理污染、反对恐怖活动等。

由此可以推出（）

- A. 国际社会的多样性为恐怖活动提供了便利
- B. 社会制度不同的国家存在不少共同问题
- C. 国家之间在文明程度上的差异正日益缩小
- D. 一个国家绝对不可能去学另一个国家的短处

参考答案：B【解析】归纳推理题

- A. 题干中并没有涉及到恐怖活动，话题不一致，排除。
- B. 第二句，无论社会制度……与题干信息表达一致，可以推出，当选。
- C. 题干中并没有涉及差异问题，话题不一致，排除。
- D. 过于绝对，题干中说的是不愿意，排除。

101. 如果月球表面曾经是岩浆海洋，那么许多元素的分布就应该是连续的。岩浆海洋掌握着解开月亮诞生之谜的钥匙。如果岩浆海洋的存在得到确认，那么“巨型冲击假说”将成为最有力的月亮起源说。

由此可以推出（）

- A. 如果月球表面不曾是岩浆海洋，那么月球表面的元素分布就不是连续的
- B. 如果“巨型冲击假说”没有成为最有力的月亮起源说，那么表明月球表面的元素分布都不是连续的。
- C. 如果月球表面的元素分布不是连续的，那么月球表面不曾是岩浆海洋
- D. 如果月球表面的元素分布是连续的，那么“巨型冲击说”将成为最有力的月亮起源说

参考答案：C【解析】根据题干有明显逻辑关键词可知属于翻译推理题，翻译题干，①月球曾是岩浆海洋→元素分部连续；②岩浆海洋确认存在→巨型冲击假说为最有力月亮起源说，

- A 项，前半句是对①的否前，根据逆否命题选择后半句为推不出，但是，选项是否后，排除；
- B 项，前半句是②的否后，但是后半句内容与题干翻译内容不一致，排除；
- C 项，前半句是对①的否后，根据否后必否前，月球表面不曾是岩浆海洋，选项后半句一致，当选；
- D 项，

前半句是对①的肯后，但是后半句与题干①内容不一致，排除。

102. 近年来，越来越多的大学开始尝试自主招生，进而有人呼吁彻底取消统一高考。相关专家表示：取消统一高考势必带来对于经济欠发达地区，特别是对广大农村地区考生的不公平待遇。

以下哪项如果为真，最能削弱上述观点？（ ）

- A. 自主招生在命题方面区别城乡考生，为农村考生拟定适合他们学习情况和生活经验的考题
- B. 大学自主招生题目灵活多变，农村孩子从阅读、见识到外语训练往往与城里孩子有巨大差距。
- C. 由于自主招生，目前农村学生在大学中的比例已经明显下降
- D. 如果大学都自主招生，到处赶考相关的吃穿住用行对农村孩子来说会是一个沉重的负担

参考答案：A【解析】属于削弱题型，论点是取消统一考试，对农村地区考生不公平，论据是越来越多大学自主招生，有人呼吁彻底取消统一高考。A项，自主招生会区分城乡考生，为农村考生拟定适合他们情况的考题，说明自主招生考虑到农村实情，进行区别对待，考题不存在不公平，是合理命题，能反驳专家观点；B项，大学自主招生题目多变，农村和城市考生有较大差距，说明对农村考生不公平，属于加强，排除；C项，农村学生在大学比例下降，与论点农村考生不公平无关，排除；D项，赶考吃穿等费用对农村考生是负担，与论点取消统一高考对农村考生不公平无关，排除。

103. 大雁一般排成整齐的人字形或一字形飞行，这是集群本能的表现。因为这样有利于防御敌害。雁群总是由有经验的老雁当“队长”，飞在队伍前面。在飞行中，带队的大雁体力消耗得很厉害，因而它常与别的大雁交换位置。幼鸟和体弱的鸟，总是插在队伍的中间。因此，飞行时它们不会受到敌害的攻击。

以下哪项如果为真，可以成为得出上述结论所需的前提？（ ） A.

- 大雁的飞行队形兼具防守和攻击两种功能
- B. 体弱的不可能成为带队的大雁
- C. 飞行时敌害不会攻击大雁飞行队伍的中间
- D. 雁群中需要有不止一只带队的大雁

参考答案：C【解析】属于前提假设，结论是幼鸟和体弱鸟在队伍中间不会受到敌害攻击。A项，飞行队伍具有防守和攻击两种功能，有对队伍中间的幼鸟是否会受到攻击不得而知，排除；B项，体弱不能带队与结论无关；C项，飞行时敌害不会攻击中间，只有这个前提存在，才能保证幼鸟和体弱鸟在中间时不会受到攻击这个结论成立，当选；D项，带队大雁不止一只，与结论无关，排除。

以下 104-110 题是类比推理。每道题先给出一组相关的词，要求你在备选答案中选出一组与之逻辑关系上最为贴近、相似或匹配的词。

104. 染色体：DNA：基因

- A. 正方形；长方形；平行四边形
- B. 动物；飞禽；鸡
- C. 生态系统；生产者；分解者
- D. 蔬菜；土豆；马铃薯

参考答案：B【解析】染色体包含 DNA，DNA 包含基因；B 项动物包含飞禽，飞禽包含鸡，符合。C 项生态系统包括生产者（绿色植物）和分解者（细菌、真菌）。

105. 南瓜；苦瓜

- A. 笔墨；纸砚 B. 教室；黑板 C. 鲨鱼；鲸鱼 D. 丝瓜；西瓜

参考答案：D【解析】反对关系。A 选项笔墨和纸砚为四物并列；B 选项黑板是教室的组成部分，组成关系；C 鲨鱼是鱼，鲸鱼是哺乳动物，不是鱼，不符合；D 西瓜属于水果，丝瓜属于蔬菜，虽不属同一品类，但二者都属于瓜果。

106. 毛毛虫；蝴蝶

- A. 丑小鸭；白天鹅
- B. 小米；大米

C. 蜻蜓：水重

D. 蝌蚪：青蛙

参考答案：D【解析】同一物种在先后不同阶段形态不同，而且属于变态发育。

107. 消防员：灭火；灭火器

A. 护士：手术；手术刀

B. 厨师：炒菜；炒勺

C. 农民：种地；犁 D.

老师：板书；粉笔

参考答案：B【解析】对应关系，消防员使用灭火器灭火，消防员的主要工作就是灭火，A选项护士不对应；B选项厨师使用炒勺炒菜，厨师的主要工作就是炒菜，关系一致；C犁是用于犁地而不是用来种地；D选项老师可以用粉笔进行板书，但是老师的主要工作不是板书。

108. 辽宁：沈阳；东方鲁尔

A. 湖南：怀化；芙蓉国

B. 四川：成都；天府之国

C. 青海：西宁；玉塞咽喉

D. 宁夏：宁；塞上江南

参考答案：B【解析】对应关系。辽宁省会沈阳，号称东方鲁尔；四川省会成都，号称天府之国。

109. () 对于效益相当于经营对于 ()

A. 投入利润

B. 成本税收

C. 生产规划

D. 资本管理

参考答案：A【解析】对应关系，投入可能会产生效益；经营可能会产生利润，其他不匹配。

110. () 对于计算机相当于大脑对于 () A.

网络身体

B. 鼠标小脑 C.

显示器脑干

D. CPU 人体

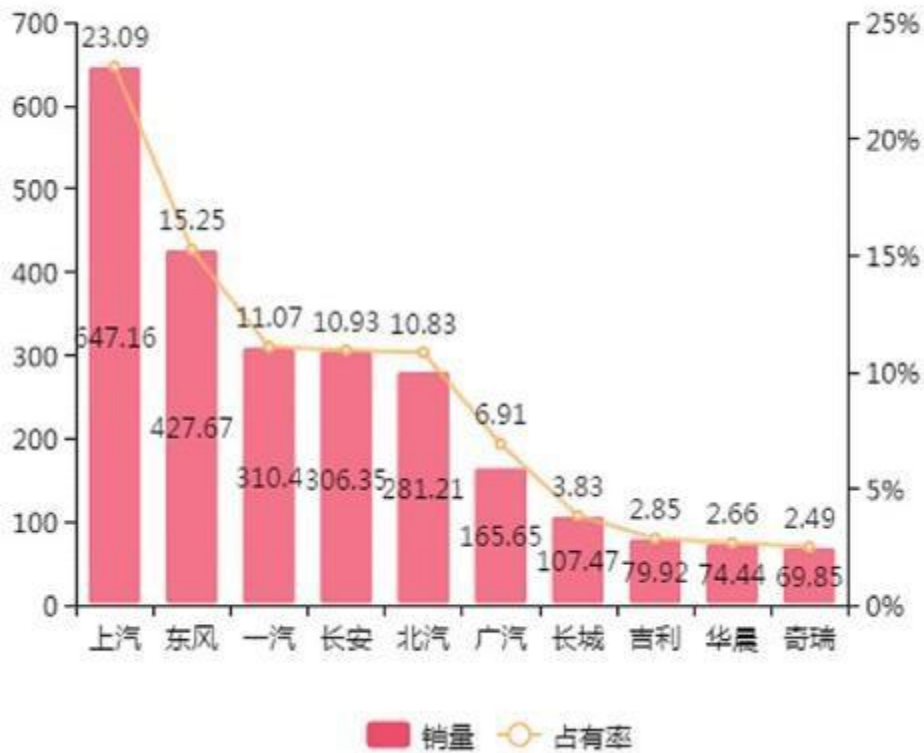
参考答案：D【解析】组成关系。CPU 是计算机的一部分，大脑是人体的一部分。

根据以下资料，回答 111-115 题。

据某市汽车工业协会统计分析，2016 年全国汽车工业产销分别完成 2811.88 万辆和 2802.82 万辆，同比分别增长 14.46%和 13.65%，增幅较上年分别增加 11.21 和 8.97 个百分点。其中乘用车产销分别完成 2442.07 万辆和 2437.69 万辆，比上年同期分别增长 15.5%和 14.93%，继续高于汽车的整体增速，而商用车产销分别完成 369.81 万辆和 365.13 万辆，相比去年 9.97%和 8.97%的降幅，今年则分别上升 8.01%和 5.80%。其中，中国品牌乘用车共销售 1052.9 万辆，同比上升 20.5%。

中国品牌占有率提高在于国产 SUV 表现强劲，2016 年销售 526.8 万辆，同比增幅高达 57.6%，在 SUV 车型中占有率达到 58.2%，而 MPV 销售 223.8 万辆，同比上升 19.9%，在同类车型中占有率 89.6%。

2016年前十汽车生产企业集团销量及市场占有率如下图（销量单位：万辆）



111. 2016 年汽车销量排名前 10 位的企业集团销量占全部汽车销售的百分比为多少？（ ）

- A. 25.8%
- B. 44.2%
- C. 88.1%
- D. 96.3%

参考答案：C【解析】考点：比重相关。

解法一：定位柱状趋势图，给出了前十企业的市场占有率。

$23.09\%+15.26\%+11.07\%+10.93\%+10.83\%+6.91\%+3.83\%+2.85\%+2.66\%+2.49\%=89.92\%$ ，与

C 最为接近，故选 C。

解法二：前十企业的销售量之和

$647.16+427.67+310.4+306.35+281.21+165.65+107.47+79.92+74.44+69.85=2470.12$

万辆，全部汽车销售量为 2802.82 万辆，则占比为 $2470.12/2802.82=88.1\%$ ，故选 C。

112. 2015 年全国商用车产量为多少万辆？（ ）

- A. 342.4
- B. 349.5
- C. 336.2
- D. 339.3

参考答案：A【解析】考点：基期量相关。

定位材料“商用车产销分别完成 369.81 万辆和 365.13 万辆，相比去年 9.97%和 8.97% 的降幅，今年则分别上升 8.01%和 5.80%。”可得2015 年全国商用车产量为 $369.81 / (1+8.01\%) \approx 342$ 故选 A。

113. 2016 年全国汽车生产企业集团市场占有率超过 10%的有几个？（ ）
- A. 6
 - B. 5
 - C. 4
 - D. 3

参考答案：B【解析】考点：简单读数问题。定位柱状趋势图，市场占有率超过 10%的前五家企业，故答案选 B。

114. 2016 年中国品牌乘用车销售量占乘用车销售总量的多少？（ ）
- A. 37.57%
 - B. 23.09%
 - C. 54.08%
 - D. 43.19%

参考答案：D【解析】考点：比重相关。定位材料“其中乘用车产销分别完成 2442.07 万辆和 2437.69 万辆。……其中，中国品牌乘用车共销售 1052.9 万辆，同比上升 20.5%。”可得 2016 年中国品牌乘用车销售量占乘用车销售总量的 $1052.9 / 2437.69 = 43.19\%$ ，故选 D。

115. 2016 年 SUV 车型销售量为多少万辆？（ ）
- A. 526.8

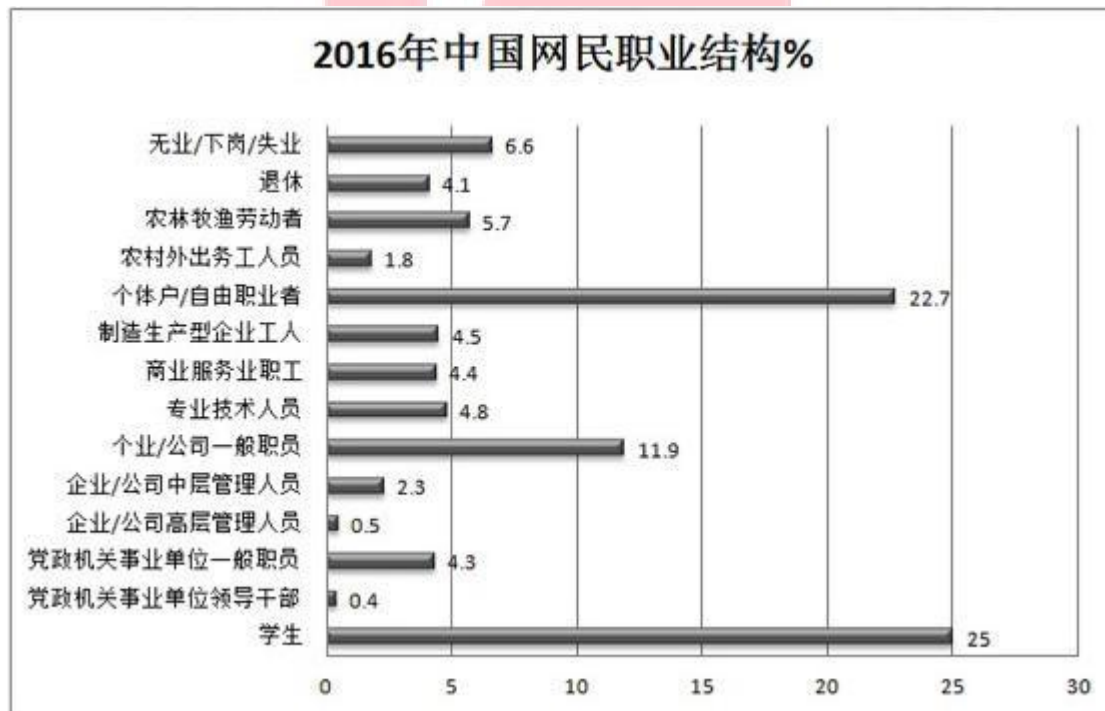
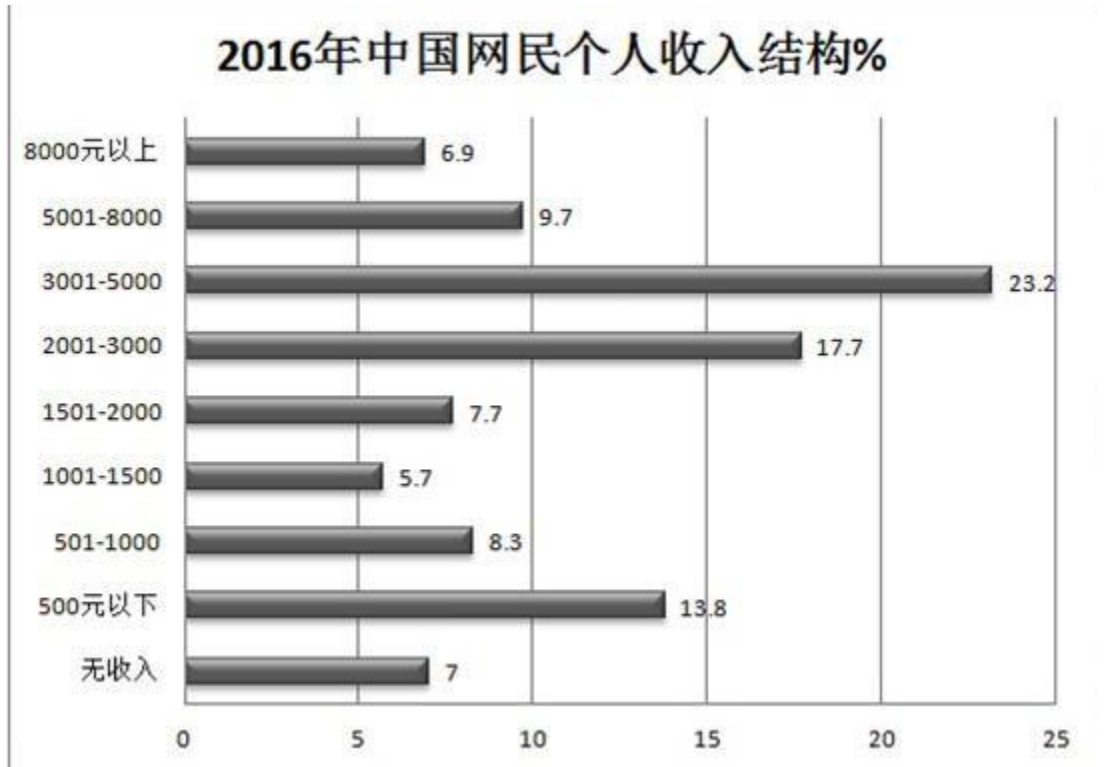
- B. 905. 2
- C. 306. 62
- D. 472. 5

参考答案：B【解析】定位材料“中国品牌占有率提高在于国产 SUV 表现强劲，2016 年销售 526.8 万辆，同比增幅高达 57.6%，在 SUV 车型中占有率达到 58.2%。”可得 2016 年 SUV 车型销售量为 $526.8/58.2\% \approx 905$ 万辆，故选 B。

根据以下资料，回答 116-120 题。

2017 年 1 月 22 日下午，中国互联网络信息中心（CNNIC）在京发布第 39 次《中国互联网络发展状况统计报告》（以下简称为《报告》）。《报告》显示，截至 2016 年 12 月，我国网民规模达 7.31 亿，全年共计新增网民 4299 万人。互联网普及率为 53.2%，较 2015 年底提升 2.9 个百分点。中国网民规模已经相当于欧洲人口总量。2016 年中国网民男女比例为 52.4：47.6，截至 2015 年底，中国人口男女比例为 51.2：48.8。农村网民占比为 27.4%，规模为 2.01 亿，较 2015 年底增加 526 万人；城镇网民占比 72.6%，规模为 5.31 亿，较 2015 年底增加 3772 万人。





116. 截至 2016 年底，30 岁以下的中国网民约有多少亿人？（ ）

- A. 3.93
- B. 4.68
- C. 2.23

D. 2. 90

参考答案：A【解析】考点：比重相关求部分值。定位资料中“截至 2016 年 12 月，我国网民规模达 7.31 亿”以及中国网民的年龄构成图，可得截至 2016 年底，30 岁以下的中国网民约有 $7.31 \times (3.2\% + 20.20\% + 30.30\%) = 53.7\% \times 7.31 \approx 7.31/2 = 3.65$ ，与 A 选项最为接近，故选 A。

117. 2016 年中国网民占比最高的是（ ）

- A. 个体户/自由职业者
- B. 学生
- C. 党政机关事业单位一般职员
- D. 无业/下岗/失业

参考答案：B【解析】考点：简单读数问题。定位资料中的 2016 年网民职业结构图，个体户/自由职业者的占比为 22.7%，学生的为 25%，党政机关事业单位一般职员 4.3%，无业/下岗/失业 6.6%，故占比最高的为学生，答案选 B。

118. 根据上述资料，下列说法正确的是（ ）

- 1. 2016 年中国网民继续向高学历人群扩散
 - 2. 2016 年我国网民以 10-39 岁群体为主
 - 3. 与 2015 年底相比，10 岁以下低龄群体和 40 岁以上中高年龄群体的占比均有所提升
- A. 1 B. 2 C. 3 D. 2、3

参考答案：D【解析】考点：综合分析。

1. 从职业结构并不能得到学历相关的信息，因此错误。

2. 定位中国网民年龄结构图，可知 10-39 岁群体占比超过 70%，故以这个年龄段为主，因此正确。

3. 定位中国网民年龄结构图，10 岁以下低龄群体和 40 岁以上中高年龄群体的占比均有所提升因此正确。

综合以上，答案为 D。

119. 2015 年，40 岁以上的网民人数与下列哪个年龄段的最接近？（ ）

- A. 10-19
- B. 20-29
- C. 30-39
- D. 50-59

参考答案：A【解析】考点：简单计算比较问题。定位资料中中国网民的年龄构成图，40 岁以上的网民人数占比为 $13.10\%+5.3\%+3.9\%=22.3\%$ ，与 10-19 岁的 21.40%最为接近，故选 A。

120. 根据上述资料，可以判断下列说法错误的是（ ）

- A. 2016 年月收入在中等水平的网民群体占比最高
- B. 2016 年欧洲人口总量约为 7 亿
- C. 2016 年的网民性别结构与人口性别比例接近
- D. 2016 年的农村网民较 2015 年的增幅为 7.7%

参考答案：D【解析】考点：综合分析。

定位材料中的 2016 年中国网民个人收入结构图，中等收入的 3001-5000 占比是最高的，故 A 正确。

定位资料“截至 2016 年 12 月，我国网民规模达 7.31 亿，全年共计新增网民 4299 万人……中国网民规模已经相当于欧洲人口总量。”故可得到 2016 年欧洲人口总量约为 7 亿，故 B 正确。

定位资料“2016 年中国网民男女比例为 52.4：47.6，截至 2015 年底，中国人口男女比例为 51.2：48.8。”可得 C 正确。

定位资料“农村网民占比为 27.4%，规模为 2.01 亿，较 2015 年底增加 526 万人”可得 2016 年的农村网民较 2015 年的增幅为 $526 / (20100 - 526)$ 首位上 2，故 D 错误。

综合以上，故选 D。