

## 展鸿事业单位招聘考试模拟卷

### 《职业能力倾向测验》（一）

#### 第一部分 数量关系

（共 15 题，参考时限 15 分钟）

一、数字推理。给你一个数列或图形，但其中缺少一项，要求你仔细观察其排列规律，然后从四个供选择的选项中选择你认为最合理的一项，来填补空缺项，使之符合原有的排列规律。

1. 1, 3, 6, 11, 18, ( )

A. 25                      B. 27                      C. 29                      D. 33

2. 2, 3, 10, 15, 26, 35, ( )

A. 43                      B. 44                      C. 48                      D. 50

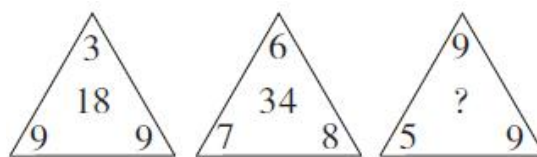
3.  $\frac{1}{16}$ ,  $\frac{1}{7}$ ,  $\frac{1}{4}$ ,  $\frac{2}{5}$ ,  $\frac{5}{8}$ , ( )

A.  $\frac{6}{7}$                       B. 1                      C.  $\frac{3}{2}$                       D. 2

4. 110, 121, 143, 385, ( )

A. 242                      B. 363                      C. 6126                      D. 8168

5.



A. 6                      B. 17                      C. 23                      D. 36

二、数学运算。在这部分试题中，每道题呈现一段表述数字关系的文字，要求你迅速、准确地计算出答案。

6. 如果定义： $4\triangle 2=10$ ， $5\triangle 6=9$ ， $10\triangle 13=17$ ，按此规律求  $7\triangle 11=( )$ 。

A. 10                      B. 14                      C. 18                      D. 21

7. 某企业在软件园区的分公司有甲、乙2个开发团队，现从乙团队调走25人，此时甲、乙团队人数比为4:3，然后又从甲团队调走42人，此时甲、乙团队人数比为2:5。问两次调动之前，甲、乙团队人数比为( )。

A. 3:4                      B. 6:7                      C. 1:2                      D. 2:5

8. 联欢会上, 有 24 人吃冰激凌、30 人吃蛋糕、38 人吃水果, 其中既吃冰激凌又吃蛋糕的有 12 人, 既吃冰激凌又吃水果的有 16 人, 既吃蛋糕又吃水果的有 18 人, 三样都吃的则有 6 人。假设所有人都吃了东西, 那么只吃一样东西的人数是多少? ( )

- A. 12                      B. 18                      C. 24                      D. 32

9. 超市采购两种不同口味的散装巧克力共  $x$  斤, 售价分别为 30 元/斤和 50 元/斤, 预计总收入为  $y$  元。如将其混合后以 40 元/斤的价格销售, 总收入将为  $1.25y$  元。问采购了 30 元/斤的巧克力多少斤? ( )

- A.  $0.9x$                       B.  $0.95x$                       C.  $0.75x$                       D.  $0.8x$

10. 甲、乙、丙三所学校的学生被安排在周一至周五参观某革命纪念馆。纪念馆每天最多只能安排一所学校, 其中甲学校连续参观两天, 其余学校均只参观一天, 那么共有多少种安排方法? ( )

- A. 12                      B. 24                      C. 36                      D. 60

11. 为维护办公环境, 某办公室四人在工作日每天轮流打扫卫生, 每周一打扫卫生的人给植物浇水, 7 月 5 日周五轮到小玲打扫卫生, 下一次小玲给植物浇水是哪天? ( )

- A. 7 月 15 日                      B. 7 月 22 日                      C. 7 月 29 日                      D. 8 月 5 日

12. 轮船顺流航行时的速度是 24 公里/小时, 逆流航行时的速度是 18 公里/小时, 那么水流的速度为 ( )。

- A. 8 公里/小时                      B. 3 公里/小时                      C. 6 公里/小时                      D. 2 公里/小时

13. 在一个不透明的布袋中, 有红色、黑色、白色的小球共 60 个。小明通过足够多次摸球试验后发现其中摸到红色球、黑色球的概率分别为 15%、40%。那么, 口袋中白色球的个数最可能是 ( )。

- A. 25                      B. 26                      C. 27                      D. 29

14. 将一块长 24 厘米、宽 16 厘米的木板分割成一个正方形和两个相同的圆形, 其余部分弃去不用。在弃去不用的部分面积最小的情况下, 圆的半径为多少厘米? ( )

- A. 4                      B.  $2\sqrt{2}$                       C. 8                      D.  $3\sqrt{2}$

15. 某公司要从信息部、销售部、人事部三个部门选 5 名员工参加一次培训活动, 三个部门分别有 3 名、4 名、5 名员工, 经理要求每个部门至少派 1 名员工参加。问不同的人员组成方案有多少种? ( )

- A. 590                      B. 680                      C. 1020                      D. 2160

## 第二部分 言语理解与表达

(共 25 题, 参考时限 20 分钟)

本部分包括理解与表达两方面的内容。请根据题目要求, 在四个选项中选出一个最恰当的答案。

16. 当初的救济性扶贫虽然有立竿见影的功效, 但救济的终结常常就是返贫的开始。后来的开发性扶贫有利于借助本土资源\_\_\_\_\_现代产业, 但也容易滋生资源掠夺经营、透支生态环境的隐患。在“输血”和“造血”之外, 我们还应有新的视角和新的思维。

填入划横线部分最恰当的一项是（ ）。

- A. 培养                      B. 扶植                      C. 培植                      D. 培育

17. 总理在两会上所作的政府工作报告是一个\_\_\_\_\_民心、\_\_\_\_\_民意、体现民情的报告，也是一个增强信心、鼓舞士气、催人奋进的报告。

依次填入划横线部分最恰当的一项是（ ）。

- A. 代表 反应              B. 表现 反映              C. 表现 反应              D. 代表 反映

18. 在新时代，我们要大力提升发展质量和效益，坚持质量第一、\_\_\_\_\_质量变革、\_\_\_\_\_质量优势、建设质量强国、\_\_\_\_\_高质量发展。

依次填入划横线部分最恰当的一项是（ ）。

- A. 发动 增强 追求                      B. 提倡 增加 达到  
C. 推动 增强 实现                      D. 倡导 增加 完成

19. 保险公司在新时期最大的变化就是缩短了理赔时间，遇到事故发生，经\_\_\_\_\_确定属保险责任，理赔人员于当日或次日就立即将赔款送交保户。

填入划横线部分最恰当的一项是（ ）。

- A. 查对                      B. 查访                      C. 查办                      D. 查勘

20. 民法基本原则是贯穿于整个民事法律制度和民事规范始终的根本原则，对民事立法、民事司法和当事人民事活动具有\_\_\_\_\_的指导意义。不同的法律部门由于所\_\_\_\_\_的对象不同，所应采取的基本原则也不同。

依次填入划横线处最恰当的一项是（ ）。

- A. 普遍 调整              B. 普适 针对              C. 全面 适用              D. 具体 覆盖

21. 无论是现代游戏，还是传统游戏，都\_\_\_\_\_出了一定的知识、社会和时代特征，同时也\_\_\_\_\_了团结、多样性和包容的价值。但随着社会变迁和时代发展，很多有价值的传统游戏正在一代又一代的\_\_\_\_\_中逐渐消逝。

依次填入划横线部分最恰当的一项是（ ）。

- A. 反射 传播 更新                      B. 折射 传递 更迭  
C. 影射 传承 更替                      D. 投射 传达 更动

22. 中国共产党第十九次全国代表大会，是在全面\_\_\_\_\_小康社会\_\_\_\_\_阶段，中国特色社会主义进入新时代的关键\_\_\_\_\_召开的一次十分重要的大会。

- A. 建设 决胜 时期                      B. 建设 决战 时刻  
C. 建成 决胜 时期                      D. 建成 决战 时刻

23. 下列各句中，有歧义的一句是（ ）。

- A. 据有关报道，近年来，邻近东经 124 度的黄海海域频繁发生中国渔船被朝鲜方面扣押的事件  
B. 据英国《每日邮报》报道，一名因脑瘫变为植物人的两岁男孩，通过干细胞疗法后，从植物人状态苏醒，并且能说话、走路  
C. 去年 12 月份，使用三菱电梯的某公司电梯维保小组向三菱电梯公司支付部分款项，技术人员测量后更换了电梯

D. 日本股市日经 225 指数继 23 日暴跌 7.32%后, 27 日再度大跌 3.22%, 日本股市连续三个交易日剧烈震荡, 风头正劲的“安倍经济学”首次遭遇市场的不信任

24. 下列没有语病的一项 ( )。

- A. 一进入体育场, 大家就看到了五颜六色的旗子和欢呼声
- B. 绍兴黄酒是全国最大的黄酒产地
- C. 这次回到故乡, 我又看到了阔别多年的母亲那熟悉的可爱的乡音和那爽朗的笑声
- D. 他的语言天赋早在三岁时就已经显露出来了

25. 下列加点成语使用恰当的一项是 ( )。

A. 鲁迅通过杂文自由地出入现代中国的众多领域, 迅速吸纳瞬息万变的时代信息, 然后作出政治的、伦理道德的以及审美的评价与判断

- B. 儒家终极关怀之道是通过尽孝的方式强调生命相续, 由此个体可以感受到一己生命的绵延流长
- C. 联合国大会曾召开会议讨论是否废除死刑, 但因各方立场南辕北辙, 讨论无果而终
- D. 水污染给人类的身体健康带来威胁, 还给社会带来极大的损失, 其危害性不可理喻

26. 下列句子中, 标点符号使用正确的一项是 ( )。

- A. 我们班的同学来自全国各地, 有山东的、浙江的、黑龙江的、贵州的……等。
- B. 为支援灾区, 全国各地为玉树灾区送去了帐篷、食物、药品、与一些恢复重建需要的其他物资。
- C. 这次出去旅游, 你打算去北京游长城呢? 还是去上海看世博会?
- D. 佛典里有一句话: “福不唐捐。” 唐捐就是白白地丢了。我们也应该说: “功不唐捐!” 没有一点努力是会白白地丢了的。

27. ①中国传统文人几乎都毫无例外地面临着仕与隐的人生抉择

②他之所以被人一次次提起而感慨不已, 缘由也是他照亮了文人的心路历程

③屈原代表了文人共有的一种文化心理和悲剧人格

④而赋诗作文毕竟等而下之, 于是就出现了一大批文化官僚

⑤屈原是个优秀诗人

⑥学而优则仕, 通常是文人追求的目标, 希望宦途可以实现自己的政治抱负

将以上句子重新排列, 语序正确的是 ( )。

- A. ③②①⑤④⑥
- B. ③②①⑤⑥④
- C. ⑤③②①⑥④
- D. ⑤②③①④⑥

28. 简单地说, 综述主要是面向圈内人的, 有时甚至主要是给业内同行看的, 所以完全用纯专业的语言来叙述。但元科普著作就不一样, 它的目标是本领域以外的人群, 为此就需要由最了解这一行的人将知识的由来和背景, 乃至科研的甘苦和心得, 都梳理清楚, 娓娓道来, 这就是非亲历者所不能为的缘故。

这段文字意在说明 ( )。

- A. 综述与元科普的联系
- B. 综述与元科普的内涵
- C. 综述与元科普的共性
- D. 综述与元科普的区别

29. 虚拟博物馆兴起于上世纪90年代, 相比实体博物馆, 虚拟博物馆可以展示所有的藏品, 观众无需与藏品保持距离, 只需轻点鼠标就可以从不同方位看到作品, 并实现人机交互, 因此不少人担心实体博物馆会逐渐失去魅力。而事实恰恰是, 通过数字化的复制, 人们了解到那些原作, 便更想走进实体博

物馆接触它们。

这段文字意在强调（ ）。

- A. 虚拟博物馆与实体博物馆并不存在冲突
- B. 虚拟博物馆使艺术传播的途径更加简单
- C. 复制作品不能取代原作给人的心灵震撼
- D. 博物馆虚拟化能极大实现艺术教育功能

30. 有人从法律操作的层面提出，农民画申遗会造成著作权认定的矛盾，因为国家和民族的文化遗产，作者是集体性和匿名性的。而农民画的作者非常明确，具有著作权法所规定的主客体条件。

根据文意，下列说法不正确的是（ ）。

- A. 农民画作者拥有作品的著作权
- B. 农民画不属于国家或民族的文化
- C. 文化遗产通常不能属于单一个体
- D. 著作权性质可能影响农民画申遗

31. 近年来，众筹商业模式快速兴起，股权众筹、奖励型众筹、捐赠性众筹等不同形式的众筹如雨后春笋般蓬勃发展。但是，2016年一些中小众筹平台却没有挺过“年关”，众筹联盟最近发布的研究报告显示，截至2016年年底，平台下线或众筹业务下架的平台数量达89家，占正常运营众筹平台数量的五分之一。

接下来最可能讲的是（ ）。

- A. 众筹平台怎样做到“曲不断，人不散”
- B. 火热上线的众筹平台缘何遇冷下架
- C. 众筹市场的未来为什么不容乐观
- D. 众筹市场如何应对新的严峻挑战

32. 戴维·洛克菲勒，1915年出生于两个世纪以来最有影响力的洛克菲勒家族。洛克菲勒家族是美国最显赫的家族之一，这一家族主要是通过石油生意积累了巨额财富。戴维·洛克菲勒是这个家族的第三代掌门人，是兄弟中最小的一个，也是最出色能干的一个。2015年，作为洛克菲勒家族“族长”的他迎来了百岁生日，成为世界上最年长的亿万富翁。

下列选项中，最适合做这段文字标题的是（ ）。

- A. 洛克菲勒家族最年长者戴维·洛克菲勒
- B. 洛克菲勒家族“族长”戴维·洛克菲勒的传奇一生
- C. 戴维·洛克菲勒是最出色能干的亿万富翁
- D. 世界最年长的亿万富翁戴维·洛克菲勒迎来百岁生日

33. 一线城市的高房价以及90后年轻人对生活品质的追求，催生了租赁公寓的兴起。租赁公寓迎合了年轻人的消费观念，租房由过去的不得已转变成享受生活的一种方式。据调查，虽然拥有自己的住房仍是90后的刚性需求，但他们当中只有30%愿意为了买房而降低生活质量；另有56%的90后不愿意买房，因为房贷过于沉重会降低生活质量。由此观之，这些更看重个人价值的90后，可能成为“不买房一代”。

这段文字意在强调（ ）。

- A. 许多90后不愿为了买房降低生活质量
- B. 90后年轻人未来的买房需求非常旺盛
- C. 租房是大多数人更易于接受的居住方式



D. 城市高房价影响多数年轻人的购房意愿

34. 历史表明，中国抗日战争是世界反法西斯战争的重要组成部分，中国战场是世界反法西斯战争的东方主战场。确立“十四年抗战”，更能完整地审视中国抗日战争与世界反法西斯战争的密切关联，更能完整地体现中国人民为夺取世界反法西斯战争的胜利、维护世界正义与进步事业所付出的巨大牺牲和作出的重大贡献，更能完整地讲好“中国抗战故事”。

这段文字主要介绍了（ ）。

- A. 确立“十四年抗战”的重要意义
- B. 中国抗日战争发挥了非凡的作用
- C. 如何完整讲好“中国抗战故事”
- D. 中国抗日战争在世界反法西斯战争中的重要地位

35. 在产业化过程中，植物的用水量实际并不大。比如滴灌技术，是目前世界上公认的节水效果最好的灌溉技术，但它一小时流量也达到2千克以上。它将水灌在地表，若水量小，还没渗入到植物根茎就蒸发了，水量大又会渗到根茎之下，存在很大的浪费。而固水技术的使用成本太高，很难大面积推广。

作者最认同的观点是（ ）。

- A. 现有的供水方式还是有些粗放
- B. 灌溉技术其实并没有那么复杂
- C. 滴灌效果不像传闻中那么理想
- D. 固水技术不适宜大面积推广

36. 全社会要形成抵制网络不良信息的“防火墙”。网络文化产品直接面向社会公众，经营者是否违法经营，受众最先知道、最具有发言权。对网络文化产业进行监管要依靠群众、发动群众。应健全群众举报体系，构建严密的社会监督网络，使网络文化产业发展中的违法行为无藏身之地；引导和教育广大网民增强鉴别能力，面对形形色色的网络文化产品保持清醒头脑，不受骗上当，不误入歧途；帮助网民提高自身道德修养，从思想上打造铜墙铁壁，自觉抵制通过网络传播的不良信息。

这段文字意在强调（ ）。

- A. 对网络文化产业进行监管要构建监管网络
- B. 对网络文化产业进行监管要依靠群众力量
- C. 网络文化产业经营者要自觉抵制不良信息
- D. 网络文化产业经营者要主动接受群众监管

37. 在中国城镇化进程中，传统戏曲面临着前所未有的生态变化。民间职业演出积极地适应农村娱乐需要，或者重新恢复传统民俗演剧形式，借助节庆礼俗，发挥戏曲传统的礼乐教化职能；或者与时俱进，以时尚流行的艺术元素充实戏曲本体，衍生出新的戏剧娱乐形态。体制内职业剧团在传统与创新中进行艺术传承，或者深入农村、送戏下乡，仍然维持在基层农村的演出；或者放弃农村，寻求多元的创新方式，勉力维持城市市场，导致戏曲在农村文化生活中趋于弱势和边缘。

这段文字意在说明（ ）。

- A. 戏曲艺术的传承与发展要寻求多元与时俱进
- B. 戏曲是传承和弘扬优秀传统文化的重要载体
- C. 政府要加大力度支持职业剧团在农村的演出
- D. 戏曲在农村的影响力出现了两极化发展趋势

38. 许多企业正遭遇来自网络罪犯前所未有的攻击。有数据显示，“想哭”病毒仅攻击网络一次，就能造成高达40亿美元的损失。网络罪犯擅长兜售自己成功的战略，他们将所谓的勒索软件当成一种

服务，其中涉及一种许可软件，可冻结公司的电脑文件直至对方付款。这些黑客不一定是自由职业者，事实上，当今绝大多数灾难性的网络攻击都有某些组织的支持。遭受攻击的企业寻求执法人员帮助存在风险，因为不但企业费时费钱，而且会增加将敏感信息公之于众的风险。因此，\_\_\_\_\_。

填入划横线部分最恰当的一项是（ ）。

- A. 政府应该加强监管，帮助企业应对黑客攻击
- B. 企业为了减少损失，寻找私人网络安全公司
- C. 新的行业应运而生，网络安全成为热门行业
- D. 要将黑客绳之以法，减少网络罪犯攻击企业

39. 研究结果令人吃惊地显示，所有 14 项评估中，使用宝宝多媒体阅读产品的小孩和对照组之间有 13 项没有差异。问题主要在于，9~18 月龄之间的年龄段，小孩的大脑发育程度还不足以承担“学习阅读”这一复杂任务。既然 14 项测验中有 13 项都没有显著差异，你一定忍不住要问，哪一项是有阳性结果的呢？惟一得到阳性结果的一个指标是，家长们对自己小孩的能力的感觉。尽管使用早期教育产品对宝宝的能力并没有显著影响，但使用这些产品的家长们真的相信他们的小孩获得了更好的阅读技能。

这段文字意在表明（ ）。

- A. 早教是大有益处的
- B. 早教并无益处
- C. 早教既无益处也无害处
- D. 早教既有益处也有害处

40. 典型的两栖动物幼年时期在水中靠鳃呼吸，长大后在陆地上用肺呼吸，我们通常把这个过程叫做完全变态。大部分的两栖动物繁殖时将卵产在水中并孵化出蝌蚪，刚孵化的蝌蚪有外鳃，能在水中呼吸。大部分的蝌蚪在几天的时间内外鳃便消失形成内鳃以供呼吸，后肢芽(后肢的前身)长出进入变态期。变态期蝌蚪的四肢逐渐代替尾行使运动的功能，肺慢慢长出后便取代鳃行使呼吸的功能。等鳃慢慢消失，其他生理结构调整好之后，两栖动物便开始了陆地生活。

与这段文字意思不符的一项是（ ）。

- A. 两栖动物进入变态期便慢慢长出四肢和肺
- B. 两栖动物在幼年时以卵孵化出蝌蚪的形态呈现
- C. 两栖动物从水中生活走向陆地生活
- D. 两栖动物开始陆地生活后便不再回到水里生活

### 第三部分 判断推理

(共 45 题，参考时限 40 分钟)

一、常识判断。共 10 题。根据题目要求，在四个选项中选出一个最恰当的答案。

41. 下列诗句描写的情景与端午节无关的一项是（ ）。

- A. 年年至日长为客，忽忽穷愁泥杀人
- B. 屈氏已沉死，楚人哀不容
- C. 国亡身殒今何有，只留离骚在世间
- D. 沅江五月平堤流，邑人相将浮彩舟

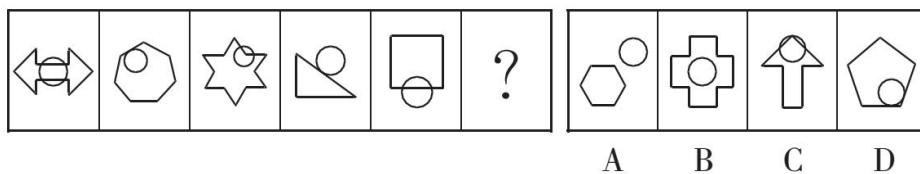
42. 对下列成语中的“五”解释错误的是（ ）。

- A. 五湖四海——五湖指洞庭湖、鄱阳湖、太湖、西湖、洪泽湖  
B. 五脏六腑——五脏指的是人的心、肝、脾、肺、肾  
C. 五音不全——五音指的是宫、商、角、徵、羽  
D. 五味杂陈——五味指的是酸、甜、苦、辣、咸
43. 下列矿物与其用途对应错误的是（ ）。
- A. 石英——制作半导体  
B. 石灰岩——生产水泥  
C. 燧石——取火  
D. 石棉——促进燃烧
44. 下列关于城市的气候特点，表述不正确的是（ ）。
- A. 山东青岛是温带季风气候  
B. 福建厦门是亚热带季风气候  
C. 贵州贵阳是高原山地气候  
D. 新疆乌鲁木齐是温带大陆性气候
45. 下列名胜与国家对应不正确的是（ ）。
- A. 卢浮宫——法国  
B. 奈良古迹——印度  
C. 庞贝古城——意大利  
D. 坎特伯雷大教堂——英国
46. 一般认为热带雨林是指阴凉、潮湿多雨、高温、结构层次不明显、层外植物丰富的乔木植物群落。下列关于热带雨林的说法正确的是（ ）。
- A. 热带雨林有春、夏、秋、冬四季  
B. 热带雨林有春季、夏季两个季节  
C. 热带雨林有雨季、干季两个季节  
D. 热带雨林没有季节之分，常年都是雨季
47. 下列四个节日中，杭州市白昼最长的是（ ）。
- A. 元旦  
B. 劳动节  
C. 儿童节  
D. 国庆节
48. 下列对日常生活现象的解释不正确的是（ ）。
- A. 生活中我们一般不会看到高度白酒凝固，是因为酒精的凝固温度低  
B. 天然气灶台火焰的外焰温度比内焰温度高，是因为外焰的燃烧更充分  
C. 水滴入滚热的油锅会立刻爆炸，是因为高温下水与油发生了剧烈的化学反应  
D. 打开冰箱门并不能给室内降温，是因为冰箱在制冷过程中会释放大量的热量
49. 下列四种人体体液中，酸性最强的是（ ）。
- A. 胆汁  
B. 唾液  
C. 血液  
D. 胃液
50. 神舟十号飞船是中国航天计划中的一艘载人宇宙飞船，是“神舟”号系列飞船之一。关于神舟十号，下列说法正确的是（ ）。
- A. 标志着我国全面掌握了空间交会对接技术  
B. 在酒泉卫星发射中心发射升空  
C. 第一次将我国女航天员载入太空  
D. 是中国第4艘载人飞船

**二、图形推理。共 10 题。请按每道题的答题要求作答。**

51. 从所给的四个选项中，选择最合适的一个填入问号处，使之呈现一定的规律性。







52. 从所给的四个选项中, 选择最合适的一个填入问号处, 使之呈现一定的规律性。



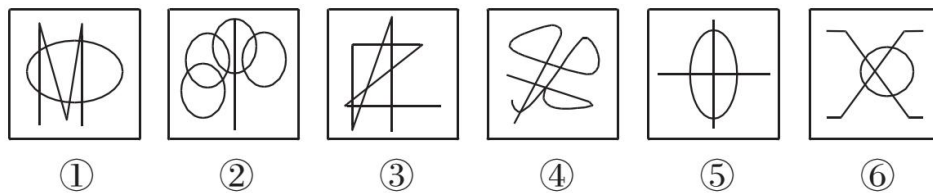
53. 从所给的四个选项中, 选择最合适的一个填入问号处, 使之呈现一定的规律性。



54. 从所给的四个选项中, 选择最合适的一个填入问号处, 使之呈现一定的规律性。

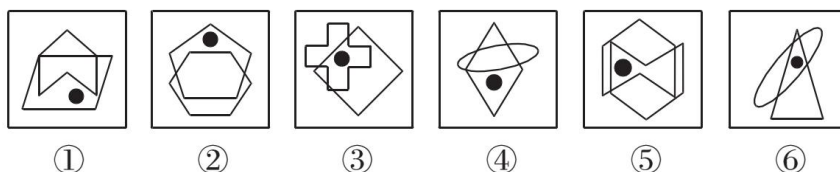


55. 把下面的六个图形分为两类, 使每一类图形都有各自的共同特征或规律, 分类正确的一项是 ( )。



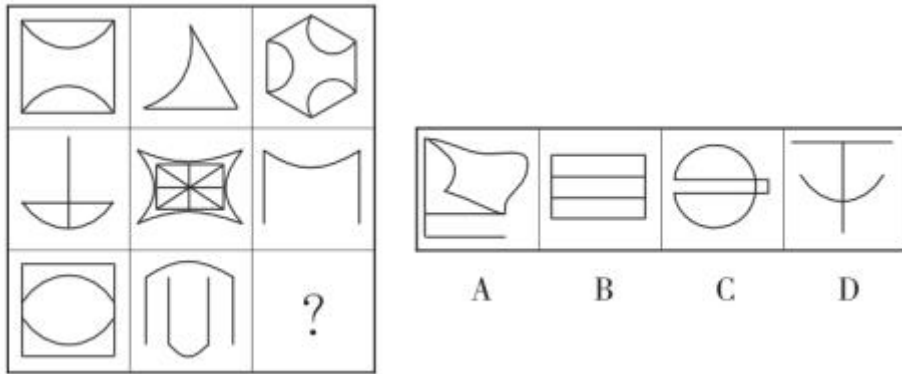
- A. ①②③, ④⑤⑥
- B. ①③④, ②⑤⑥
- C. ①②⑤, ③④⑥
- D. ①④⑤, ②③⑥

56. 把下面的六个图形分为两类, 使每一类图形都有各自的共同特征或规律, 分类正确的一项是 ( )。

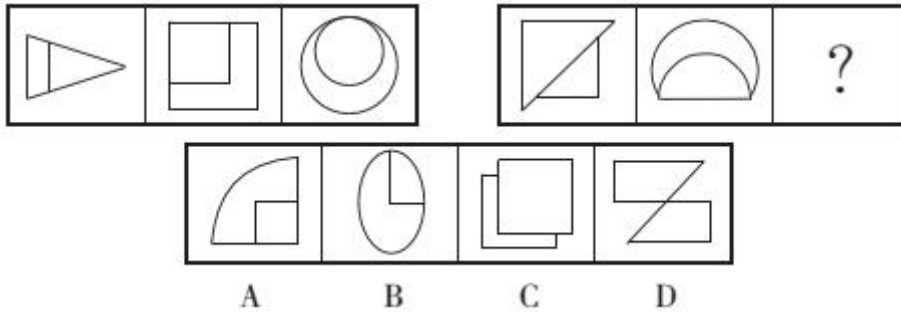


- A. ①④⑤, ②③⑥
- B. ①④⑥, ②③⑤
- C. ①②④, ③⑤⑥
- D. ①⑤⑥, ②③④

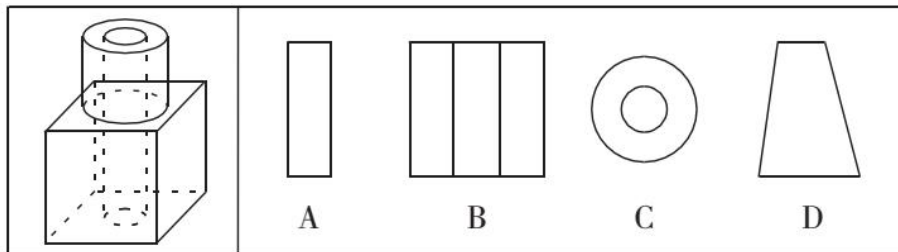
57. 从所给的四个选项中，选择最合适的一个填入问号处，使之呈现一定规律性。



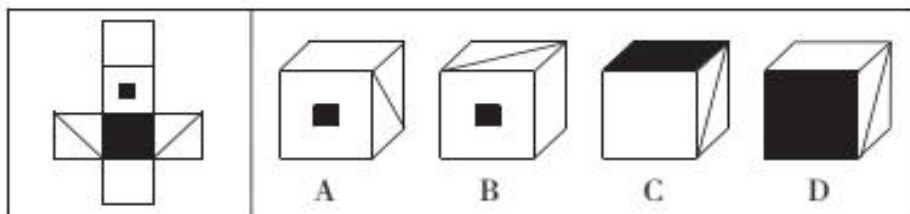
58. 从所给的四个选项中，选择最合适的一个填入问号处，使之呈现一定的规律性。



59. 如图所示，立方体上叠加圆柱体再打通一个圆柱孔，然后从任意面剖开，下面哪一项不可能是该立体的截面？（ ）



60. 左边给定的是纸盒的外表面，下列能由它折叠而成的一项是（ ）。



三、类比推理。共 10 题。每道题先给出一组相关的词，要求你在备选答案中找出一组与之在逻辑关系上最为贴近、相似或匹配的词。

61. 翠竹：高洁

A. 牡丹：华贵

B. 青松：高山

- C. 金属：金银  
62. 进士：状元  
A. 河水：海水  
C. 学位：博士  
63. 菡萏：荷花  
A. 蚍蜉：白蚁  
C. 西瓜：倭瓜  
64. 跳绳：运动  
A. 花椒：调料  
C. 太阳系：银河系  
65. 势均：力敌  
A. 旗鼓：相当  
C. 不相：上下  
66. 希望：渴望  
A. 精确：正确  
C. 讨厌：厌恶  
67. 左顾右盼：上下打量  
A. 南来北往：东西奔走  
C. 千叮万嘱：一心一意  
68. 生产：销售  
A. 收入：支出  
C. 救灾：抗灾  
69. 设计：发放：问卷  
A. 播放：快进：磁带  
C. 复制：修改：文字  
70. 多如牛毛：不胜枚举：比比皆是  
A. 实实在在：蓬蓬勃勃：原原本本  
C. 独占鳌头：独树一帜：别具匠心
- D. 青草：植物  
B. 银河：天文  
D. 宪法：民法  
B. 土豆：番薯  
D. 县衙：部门  
B. 开车：旅游  
D. 水稻：米粉  
B. 并驾：齐驱  
D. 平分：秋色  
B. 提升：提拔  
D. 接收：接受  
B. 纵横交错：中西合璧  
D. 天高地厚：山清水秀  
B. 起草：修改  
D. 闭幕：开幕  
B. 制定：执行：政策  
D. 预习：复习：考试  
B. 若暗若明：若即若离：若有若无  
D. 寥若晨星：屈指可数：硕果仅存

四、定义判断。共 5 题。每道题先给出定义，然后列出四种情况，要求你严格依据定义，从中选出一个最符合或最不符合该定义的答案。注意：假设这个定义是正确的，不容置疑的。

71. 人耳对一个声音的感受性会因另一个声音的存在而发生改变，一个声音能被人耳听到的最低值会因另一个声音的出现而提高，这种现象就是听觉掩蔽。

根据上述定义，下列符合听觉掩蔽的是（ ）。

- A. 吵闹的课间，老师得大声说话，同学们才能听到  
B. 长时间戴耳机听音乐，会觉得听到的音量逐渐变小

- C. 人类无法听到蝙蝠等动物发出来的超声波
- D. 安静的房间内，我们能够听到闹钟“滴答”的声音

72. 兴趣图谱是以人与人之间的共同兴趣为链接纽带的图谱，以分享共同兴趣为基础，但这种分享不以人与人之间的相识为基础。社交图谱是基于你个人认识的社交链接，故而圈子有限。

根据上述定义，下列属于社交图谱的是（ ）。

- A. 微信公众号
- B. 微信朋友圈
- C. 车友会
- D. 网络社区

73. 自然界有这样一种现象：当一株植物单独生长时，显得矮小、单调；与众多同类植物一起生长时，则根深叶茂，生机盎然。人们把类似植物界中这种相互影响、相互促进的现象，称为“共生效应”。

根据上述定义，下列最符合共生效应的是（ ）。

A. 某大学一寝室，六名同学入学成绩有高有低，四年里六人每天结伴学习，最后都考上了重点大学的研究生

- B. 和狼生活在一起，你只能学会嗥叫；和那些优秀的人接触，你就会受到良好的影响
- C. 某品牌为摆脱个体经营的局限，采取连锁经营的方式扩大经营范围，销量随之大大提高
- D. 亲小人，远贤臣，此后汉所以倾颓也

74. 鸟笼效应是一个心理学概念，它是指人们会在偶然获得一件原本不需要的物品的基础上，继续添加更多与之相关而自己不需要的东西。

根据上述定义，下列符合鸟笼效应的是（ ）。

- A. 雯雯在网上购物，为了参与“满减”活动比预期多买了好几件商品
- B. 刘阿姨去超市买菜，发现清洁用品正好在打折，忍不住买了一堆
- C. 丽丽买裙子送了条毛衣链，她觉得没有毛衣可以搭配，又买了件毛衣，但却从没穿过
- D. 小玲的男朋友送了她一束花，她很开心，还专门去买了个漂亮的花瓶

75. 定向销售是指商家出于特定目的，以低于市场同类商品的价格向特定客户出售商品的营销方式。下列属于定向销售的是（ ）。

A. 为打响知名度，吸引购车者，某汽车城决定开业当日给予医生、教师 2 万元的优惠，比许多 4S 店便宜了不少

B. 为庆祝公司成立十周年，某公司董事会决定给员工发放纪念品。经过与某皮具厂家协商，以优惠价格购买了一批时尚、高档的真皮包

- C. 为了避免浪费，某生鲜店规定：每天晚上 8 点后，所有非冰冻类的鲜鱼、鲜肉产品一律五折出售
- D. 某食品生产企业为了实现一季度销售业绩开门红，以行业底价线上线下同时开展促销活动，销售量大幅上升

**五、逻辑判断。共 10 题。每道题给出一段陈述，这段陈述被假设是正确的，不容置疑的。要求你根据这段陈述，选择一个答案。注意：正确的答案应与所给的陈述相符合，不需要任何附加说明即可以从陈述中直接推出。**

76. 甲、乙、丙三位老师分别教语文、数学和英语三门科目中的一门。已知英语老师是一个学生的叔叔；甲上课全用汉语；丙是女的，比数学老师年轻。

根据上述条件，甲、乙、丙各教什么科目？（ ）

- A. 甲：英语，乙：语文，丙：数学                      B. 甲：语文，乙：英语，丙：数学  
C. 甲：数学，乙：英语，丙：语文                      D. 甲：语文，乙：数学，丙：英语

77. 大约 30%接受化疗的癌症患者都曾饱受“化疗脑”的困扰。“化疗脑”指患者化疗后思维不清，典型的症状包括注意力、记忆力和视觉空间能力受损。有研究指出，癌症患者出现这些认知能力受损的症状系化疗所致。

以下哪项如果为真，最能加强上述研究结论？（ ）

- A. 10%~40%癌症患者的“化疗脑”症状由术后焦虑、抑郁或生理疲惫所引发  
B. 很多癌症患者大都年过半百，其认知能力下降是由自然衰老导致的  
C. 化疗药物对神经的毒性可直接作用于大脑，或间接引起免疫反应引发大脑炎症  
D. 癌细胞入侵大脑，致使大脑结构发生改变，进而影响认知功能

78. 对多个省份的调查研究发现，对于外向者而言，花大量时间用于网络社交并不会影响与他人面对面交流的意愿，而内向者即使不进行网络社交也不会变成社交达人。因此，有研究者认为，网络社交会妨碍传统社交的担忧是毫无必要的。

以下哪项为真，最有助于支持上述结论？（ ）

- A. 有许多花费大量时间在网络社交上的人不愿意与他人面对面交流  
B. 无论采用哪种方式，大多数人参与社会活动的总时间是相对固定的  
C. 在网络社交的帮助下，许多人在传统社交中的能力和自信得到了提升  
D. 该研究由某大学开展，而在该校学生中，网络社交并不是主要的社交方式

79. 人们常说，读书可以增长知识、陶冶性情。有专家指出，读书还可以治病，特别是对于一些社会因素引起的心理疾病，如抑郁、压抑、恐慌、烦恼等，读书有很好的疗效。

以下哪项如果为真，最能支持上述专家的观点？（ ）

- A. 读书能够促使患者转变思维方式，提高认识能力，重新认识世界和认识自己  
B. 患者能够从阅读中有意无意获得情感上的认同和慰藉，释放内心的焦虑和不安  
C. 汉代大学问家刘向十分重视读书的医疗作用，认为书犹药也，善读之可以医愚  
D. 阅读能使大脑中产生一种神经肽，可以增强细胞免疫力，有益于人的身体健康

80. 一些研究发现，女性相对于男性不仅在识别脸部的能力方面更好，而且在观察脸部时，大脑中与面部识别相关的区域具有更强的反应，在这些区域中有更密集的细胞组织。这些发现似乎印证了一个观点：一般情况下，女性比男性更擅长认人。

以下哪项如果为真，最能削弱上述观点？（ ）

- A. 参加实验的男性平均年龄为 30 岁，高出女性平均年龄 2 岁  
B. 一般来说，女性更注重细节，因此对于人面孔的特征，女性观察得更为细致  
C. 男性在识别人的面孔时速度较慢，但在时间充足的情况下有更准确的识别率  
D. 在一些类似刑侦的特殊职业中，男性与女性在识别面孔的表现中没有显著差别

81. 某单位要从甲、乙、丙、丁、戊、己 6 名工作人员中选派 3 名参加省职业技能大赛。有 4 位评委分别提出了自己的意见：



- (1) 甲、丙二人中至少选一人；                      (2) 乙、戊二人中至少选一人；  
(3) 乙、丙二人中至多选一人；                      (4) 甲、丁二人中至多选一人。

后来得知，戊因病不能参赛，并且上述 4 位评委的意见都得到了尊重。

根据上述信息，该单位选派的参赛选手是（     ）。

- A. 甲、乙、丙    B. 甲、乙、丁  
C. 甲、乙、己    D. 丙、丁、己

82. 所有市民都迫切希望加强城市绿化，但是需要市民们为一个绿化方案付费时，总有一些人认为即使他们不出钱也能享受到绿化的好处，所以他们拒绝承担费用。

以下哪项如果为真，是上述论证所需的前提？（     ）

- A. 这些人喜欢占小便宜                                      B. 这些人认为绿化应该由政府出资  
C. 为绿化方案出钱具有强制性                              D. 这些人认为总有人会付费

83. 色素主要为花色甙等酚类物质，它们的颜色构成了葡萄酒的色泽，并且给葡萄酒带来了它们自身的香气和细腻口感。陈年葡萄酒中的深色主要来源于单宁。单宁除了给酒的色泽作出贡献外，还能作用于口腔产生一种苦涩感，从而促进人们的食欲。单宁含量过高，苦涩味重且酒质粗糙，含量过低则酒体软弱而淡薄。此外，单宁还能掩盖酸味，所以红葡萄酒由于含有丰富的单宁，其酸味明显小于白葡萄酒。

由此可以推出（     ）。

- A. 陈年葡萄酒会促进食欲，色泽来源于单宁  
B. 苦涩味重且酒质粗糙的酒必含有过多单宁  
C. 酒体软弱而淡薄的酒中单宁含量必然过低  
D. 单宁能影响酒的色泽和饮者的味觉及食欲

84. 一般而言，猫的平均寿命比狗长 3 年，达 15 年。有研究认为，猫的“长寿之道”可能与它们独居的习性有关。

以下哪项如果为真，最能支持上述研究观点？（     ）

- A. 猫喜欢独自生活，从而减少了感染疾病的可能性  
B. 猫较少遭受掠食者攻击，因为它们具有很好的防御手段  
C. 无论是休息还是活动，猫比狗都要警觉，反应也更为敏捷  
D. 狗和人类一起生活时，其寿命会因为各种奇特的饲养方式而缩短

85. 一项针对近 1.65 万名中年职场人士的调查显示，在约占总人数 8% 的“工作狂”中，经常被焦虑症困扰的比例高达 34%，是那些总体上能保持工作生活平衡的人的 3 倍。此外，工作狂中也有更多的注意力缺失及多动症和强迫症患者。

关于中年职场人士，可以推出（     ）。

- A. 注意力缺失的人大部分是工作狂  
B. 不是工作狂的人没有受到焦虑症困扰  
C. 强迫症患者不容易保持工作生活的平衡  
D. 不能保持工作生活平衡的人更易得焦虑症

## 第四部分 资料分析

(共 15 题, 参考时限 15 分钟)

请根据资料提供的信息进行分析、比较、计算和判断处理。

### 一、根据所给资料, 回答 86~90 题。

据 A 市统计局初步核算, 2017 年上半年 Z 县地区生产总值为 39.09 亿元, 同比增长 8%, 比 1 季度回落了 0.1 个百分点, 低于全市 (8.4%) 0.4 个百分点, 居于全市第 9 位。其中, 第一产业增加值 4.09 亿元, 增长 3.4%; 第二产业增加值 8.97 亿元, 增长 2.3%; 第三产业增加值 26.03 亿元, 增长 11%。三次产业结构从上年同期的 11.9:23.7:64.3 调整为 10.5:22.9:66.6。

18 项核算基础数据中, 农林牧渔业增加可比价增速、建安工程增速、公路运输总周转量增速、零售业商品销售额增速、住宿业营业收入现阶段增速、人民币贷款余额增速、商品房销售面积增速、规上其他营利性服务业营业收入增速和财政预算支出中八项支出增速高于全市平均水平; 低于全市平均水平的指标中, 规上工业增加值增速、建筑业产值增速、邮电业务总量增速、批发业商品销售额增速、城镇单位房地产业从业人员增速和劳动报酬增速 6 项指标与市平均水平相差较大。

(一) 第一产业稳中有升。上半年, Z 县实现第一产业增加值 4.09 亿元, 增长 3.4%, 比 1 季度提高了 1.8 个百分点, 高于全市平均水平 1.8 个百分点, 在全市居于第 4 位。其中, 农业增加值 3.28 亿元, 增长 4.9%; 林业增加值 0.21 亿元, 增长 11.6%; 牧业增加值 0.59 亿元, 下降 5%。

(二) 第二产业增长乏力。上半年, Z 县第二产业增加值 8.97 亿元, 增长 2.3%, 虽然高于 1 季度 0.1 个百分点, 但依然处于全市末位, 低于全市平均水平 4.1 个百分点。其中, 工业增加值 4.27 亿元, 同比下降 1.8%, 降幅较 1 季度进一步扩大 0.9 个百分点; 建筑业增加值 4.7 亿元, 增长 6.8%。

(三) 第三产业贡献突出。上半年, Z 县第三产业增加值 26.03 亿元, 增长 11%, 高于 GDP 增速 3 个百分点, 增幅较 1 季度提高了 0.3 个百分点, 高于市平均水平 1 个百分点, 在全市位居第 2 位。第三产业增加值占 GDP 比重达到 66.6%, 对 GDP 贡献率高达 88.4%。其中, 多项基础指标增长较快; 人民币存贷款余额增长 17.9%, 规上其他营利性服务业营业收入增长 96%, 财政八项支出增长 24.9%。

86. 2017 年上半年, A 市地区生产总值同比增长 ( )。

- A. 7.9%                      B. 8.1%                      C. 8.4%                      D. 8.8%

87. 2017 年上半年, 18 项核算基础数据中, Z 县不高于 A 市全市的有 ( ) 项。

- A. 7                              B. 8                              C. 9                              D. 10

88. 2017 年上半年, Z 县牧业增加值约为林业增加值的 ( ) 倍。

- A. 2.8                              B. 5.1                              C. 6.9                              D. 3.2

89. 2016 年上半年, Z 县第三产业增加值约为 ( ) 亿元。

- A. 28.89                      B. 26.03                      C. 24.48                      D. 23.45

90. 根据上述资料, 可以推出 ( )。

- A. 2017 年上半年, Z 县的第三产业增加值是 A 市各地区最高的  
B. 2017 年上半年, Z 县商品房销售面积同比增速高于全市平均水平

- C. 2016 年上半年，Z 县三次产业结构为 10.5:22.9:66.6  
 D. 2017 年上半年，Z 县地区生产总值居于全市第 3 位

**二、根据所给资料，回答 91~95 题。**

2017 年一季度我国进出口贸易方式和企业性质情况

项 目		出 口		进 口	
		金额 (亿元)	同比 (%)	金额 (亿元)	同比 (%)
总值		33268	14.8	28718	31.1
贸易方式	一般贸易	17648	11.6	17217	37.8
	加工贸易	11434	15.6	6484	19.5
	其他贸易	4186	27.8	5017	25.9
企业性质	国有企业	3604	14.1	7410	50.8
	外商投资企业	14698	12.9	13229	21.1
	其他企业	14966	16.9	8065	32.9

91. 2017 年一季度我国出口额最大的贸易方式，其出口额占总出口额的比重约是 ( )。
- A. 52.3%                      B. 53.0%                      C. 53.7%                      D. 55.1%
92. 将下列我国进出口贸易项目按 2017 年一季度同比增长量从高到低排序，正确的是 ( )。
- A. 国有企业进口额、国有企业出口额、加工贸易出口额、一般贸易进口额  
 B. 一般贸易进口额、国有企业进口额、加工贸易出口额、国有企业出口额  
 C. 国有企业进口额、国有企业出口额、一般贸易进口额、加工贸易出口额  
 D. 一般贸易进口额、国有企业进口额、国有企业出口额、加工贸易出口额
93. 下列我国进出口贸易项目中，2016 年一季度数额最大的是 ( )。
- A. 加工贸易进口额                                      B. 其他企业进口额  
 C. 其他贸易出口额                                      D. 其他贸易进口额
94. 与 2016 年一季度相比，2017 年一季度外商投资企业进口额占我国总进口额的比重大约 ( )。
- A. 上升了 0.4 个百分点                                      B. 下降了 3.8 个百分点  
 C. 上升了 3.8 个百分点                                      D. 下降了 0.4 个百分点
95. 能够从上述资料中推出的是 ( )。
- A. 2016 年一季度其他企业出口额约为 12800 亿美元  
 B. 2017 年一季度加工贸易的贸易顺差为 5950 亿元  
 C. 2016 年一季度国有企业出口额占我国出口总额的比重超过一成  
 D. 在企业性质中，2017 年一季度外商投资企业进出口额在我国进出口总额中占比均最高

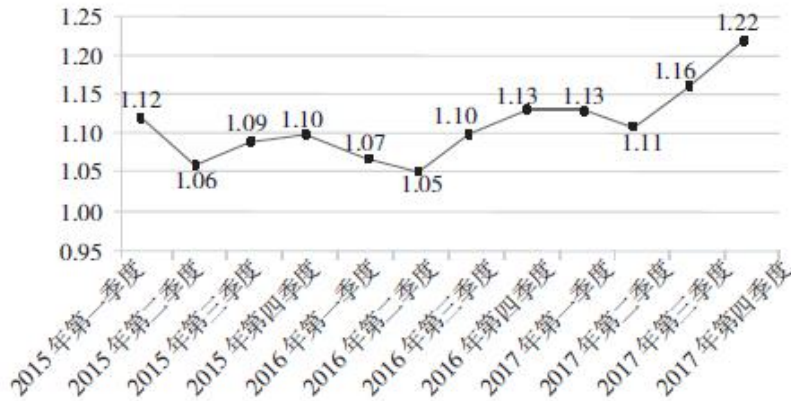
**三、根据所给资料，回答 96~100 题。**

2017 年第四季度，人力资源部门对东、中、西三大区域共 95 个城市的公共就业服务机构市场供求信息进行了统计分析，部分数据如下：

总体而言，用人单位通过公共就业服务机构招聘各类人员约 433.7 万人，进入市场的求职者约 354.2 万人，岗位空缺与求职人数的比率约为 1.22，比去年同期上升 0.09，市场需求略大于供给。

与去年同期相比，需求人数增加 15.6 万人，求职人数减少 17.3 万人。与上季度相比，需求人数和求职人数分别减少了 58.9 万人和 73.2 万人，各下降了 12% 和 17.2%。

2015 年第一季度~2017 年第四季度岗位空缺与求职人数比率变化趋势



分区域看，东、中、西部市场岗位空缺与求职人数的比率分别为 1.22、1.18、1.29，市场需求均略大于供给。

2017 年第四季度与去年同期相比东、中、西部市场供需变化情况

区域	市场用人需求		求职人数	
	增加量(万人)	增长率(%)	增加量(万人)	增长率(%)
东部	15	7.1	-12.2	-6.2
中部	0.5	0.4	-0.4	-0.4
西部	0.1	0.2	-4.7	-7.4

96. 2017 年第四季度岗位空缺与求职人数比率较第三季度上升了（ ）。
- A. 0.03                      B. 0.06                      C. 0.09                      D. 0.12
97. 2015~2017 年，各季度的岗位空缺与求职人数比率的平均值约为（ ）。
- A. 1.07                      B. 1.09                      C. 1.11                      D. 1.13
98. 2017 年第四季度求职人数比 2016 年第四季度下降了约（ ）。
- A. 5%                      B. 8%                      C. 10%                      D. 12%
99. 2015~2017 年，人力资源市场供给最能满足市场需求的是（ ）。
- A. 2015 年第三季度                      B. 2016 年第二季度
- C. 2017 年第一季度                      D. 2017 年第四季度
100. 根据材料，下列说法正确的是（ ）。
- A. 2015 年第一季度以来，东、中、西三大区域市场需求长期大于供给
- B. 2016 年第二季度以来，岗位空缺与求职人数比率总体呈“W”型变化趋势
- C. 2017 年第三季度东、中、西三大区域人才市场中，西部市场岗位空缺与求职人数的比率最大
- D. 2016 年第四季度，中部市场岗位空缺与求职人数的比率约为 1.25

## 展鸿事业单位招聘考试模拟卷

### 《职测》参考答案及解析

1. 【答案】C。解析：原数列后项减前项得到：2、3、5、7、（11），为连续质数列。因此原数列未知项为 $11+18=29$ 。故本题选C。

2. 【答案】D。解析：原数列可写成幂指数形式： $1^2+1$ 、 $2^2-1$ 、 $3^2+1$ 、 $4^2-1$ 、 $5^2+1$ 、 $6^2-1$ ，则原数列未知项为 $7^2+1=50$ 。故本题选D。

3. 【答案】B。解析：将原数列进行反约分得到： $\frac{1}{16}$ 、 $\frac{2}{14}$ 、 $\frac{3}{12}$ 、 $\frac{4}{10}$ 、 $\frac{5}{8}$ ，分子列：1、2、3、4、5、（6），为等差数列；分母列：16、14、12、10、8、（6），是公差为-2的等差数列。因此原数列未知项为 $\frac{6}{6}=1$ 。故本题选B。

4. 【答案】D。解析：原数列各项进行机械划分得到：1|1|0、1|2|1、1|4|3、3|8|5，各项第一部分+第三部分=第二部分，且第二部分1、2、4、8、（16）是公比为2的等比数列。观察选项，只有D项符合。故本题选D。

5. 【答案】D。解析：中间数字=上顶角数字×左下角数字-右下角数字，即 $18=3\times 9-9$ ， $34=6\times 7-8$ ，因此未知项为 $9\times 5-9=36$ 。故本题选D。

6. 【答案】A。解析：该定义满足如下规律： $a\triangle b=3a-b$ ，即 $4\triangle 2=3\times 4-2=10$ ， $5\triangle 6=3\times 5-6=9$ ， $10\triangle 13=3\times 10-13=17$ 。因此按照此规律， $7\triangle 11=7\times 3-11=21-11=10$ 。故本题选A。

7. 【答案】B。解析：设两次调动之后甲团队人数为 $2x$ ，则乙团队人数为 $5x$ 。第一次调动后，甲团队人数为 $2x+42$ ，乙团队人数为 $5x$ ，则 $\frac{2x+42}{5x}=\frac{4}{3}$ ，解得 $x=9$ 。因此两次调动前，甲团队人数为 $2x+42=2\times 9+42=60$ ，乙团队人数为 $5x+25=5\times 9+25=70$ ，两者人数之比为6:7。故本题选B。

8. 【答案】B。解析：根据容斥原理可知，参加联欢会的总人数为 $24+30+38-12-16-18+6=52$ 人，则只吃一样的人数为 $52-12-16-18+2\times 6=18$ 人。故本题选B。

9. 【答案】A。解析：设采购了30元/斤的巧克力 $a$ 斤，根据题意可得 $30a+50\times(x-a)=y$ ，即 $50x-20a=y$ ，又因为 $40x=1.25y$ ，两式联立解得 $a=0.9x$ 。故本题选A。

10. 【答案】B。解析：先确定甲学校，甲学校连续参观两天，则有4种安排方式（周一周二、周二周三、周三周四、周四周五），则题干所求为 $4\times A_3^2=4\times 6=24$ 种。故本题选B。

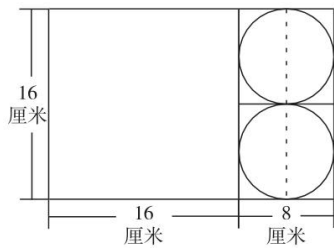
11. 【答案】C。解析：每周一打扫卫生的人给植物浇水，则题干所求为7月5日之后轮到小玲打扫卫生的那天刚好是周日的日期。该办公室4人在工作日每天打扫卫生，则每经过一周，小玲打扫卫生的星期数向前推一天，即下周四小玲打扫卫生；再过一周后，周三小玲打扫卫生。依次类推，7月5日之后的第四周的周一轮到小玲打扫卫生，即经过 $2+3\times 7+1=24$ 天，为7月29日。故本题选C。

12. 【答案】B。解析：根据流水行船公式可知，水流速度=（顺水速度-逆水速度） $\div 2=(24-18)\div 2=3$ 公里/小时。故本题选B。

13. 【答案】C。解析：摸到红色球的概率为15%，摸到黑色球的概率为40%，则摸到白色球的概率为 $1-15\%-40\%=45\%$ 。因此口袋中白色球的个数最可能是 $60\times 45\%=27$ 个。故本题选C。

14. 【答案】A。解析：要使弃去不用的部分面积最小，则应使切割出来的面积尽可能大，切割方式如下图所示：





此时，圆的半径为  $8 \div 2 = 4$  厘米。故本题选 A。

15. 【答案】A。解析：每个部门至少派 1 名，有以下 6 种情况：①信息部选 1 名、销售部选 1 名、人事部选 3 名，有  $C_3^1 \times C_4^1 \times C_5^3 = 120$  种方案；②信息部选 1 名、销售部选 3 名、人事部选 1 名，有  $C_3^1 \times C_4^3 \times C_5^1 = 60$  种方案；③信息部选 3 名、销售部选 1 名、人事部选 1 名，有  $C_3^3 \times C_4^1 \times C_5^1 = 20$  种方案；④信息部选 1 名、销售部选 2 名、人事部选 2 名，有  $C_3^1 \times C_4^2 \times C_5^2 = 180$  种方案；⑤信息部选 2 名、销售部选 2 名、人事部选 1 名，有  $C_3^2 \times C_4^2 \times C_5^1 = 90$  种方案；⑥信息部选 2 名、销售部选 1 名、人事部选 2 名，有  $C_3^2 \times C_4^1 \times C_5^2 = 120$  种方案。因此题干所求为  $120 + 60 + 20 + 180 + 90 + 120 = 590$  种。故本题选 A。

16. 【答案】C。解析：横线处的宾语是“现代产业”，“培养”通常搭配人才，“扶植”比喻以某种手段培养人才或某种势力的壮大，通常也不修饰“现代产业”，排除 A、B 项。比较 C、D 项，“培植”指栽种培育使之壮大，“培育”指培养幼小生物，使其发育成长，由此可知，“使之壮大”更符合文意，排除 D 项。故本题选 C。

17. 【答案】D。解析：直接看第一空，“代表”指代替个人或集体办事、发表意见，“表现”指显现出来，总理所作的政府工作报告是民心的集中体现，表达了广大民众的集体意见，“代表”更恰当，排除 B、C 项。再看第二空，“反应”是指事物所引起的意见、态度或行动，“反映”则指把客观事物的实质表现出来，显然“反映”更符合文意，排除 A 项。故本题选 D。

18. 【答案】C。解析：直接看第一空，“提倡”与“倡导”无法同“变革”搭配，排除 B、D 项。再看第三空，前文讲我们要提升发展质量，进行质量变革，从而增强发展优势，建设质量强国，“高质量发展”应为最终期望达到的结果，“实现”更恰当，排除 A 项。故本题选 C。

19. 【答案】D。解析：“查对”指检查核对；“查访”指调查打听（案情等）；“查办”指查明犯罪事实或错误情节，加以处理；“查勘”指实地查看或调查。显然，“查勘”最符合语义。故本题选 D。

20. 【答案】A。解析：直接看第一空，根据前文可知民法基本原则是“基本原则”，具有广泛的指导意义，“具体”不符合语境，排除 D 项。“普适”用于此处搭配不当，通常表述为“具有普适性”，排除 B 项。再看第二空，主语是“法律部门”，“调整”更恰当，表现出法律的整顿规范作用，且“调整对象”是法律方面的习惯用语，排除 C 项。故本题选 A。

21. 【答案】B。解析：直接看第一空，“折射”有反映之意，传统和现代游戏都能反映出一定的社会和时代特征，符合语义，锁定 B 项。反射、影射和投射均不能与“特征”搭配。验证后两空，“传递价值”搭配恰当，“更迭”指交换、更替，符合语义。故本题选 B。

22. 【答案】C。解析：首先看第三空，“中国特色社会主义进入新时代”是较长的一个时间段，而非某个短暂的时刻，因此“时期”更符合文意，排除 B、D 项。再看第一空，目前我国已经到了全面“建成”小康社会的阶段，排除 A 项。验证第二空，“决胜”指决定胜负，符合文意。故本题选 C。

23. 【答案】C。解析：“技术人员”有歧义，可以指使用三菱电梯的某公司的技术人员，也可以指三菱电梯公司的技术人员。故本题选 C。

24. 【答案】D。解析：A、B、C项均属于搭配不当。A项动宾搭配不当，“看到”不能搭配“欢呼声”；B项主宾搭配不当，提取主干后为“黄酒是产地”；C项动宾搭配不当，“看到”无法搭配“乡音”“笑声”。故本题选D。

25. 【答案】A。解析：A项使用恰当，“瞬息万变”形容极短的时间内变化快而多；B项使用不恰当，“绵延流长”指连续不断，不能修饰“一己生命”；C项使用不恰当，“南辕北辙”比喻行动和目的正好相反；D项使用不恰当，“不可理喻”形容蛮横或固执，可改为“不言而喻”。故本题选A。

26. 【答案】D。解析：A项的省略号与“等”不能同时使用；B项“药品”后面的顿号多余，应去掉；C项第一个问号应该改为逗号。故本题选D。

27. 【答案】B。解析：通读6个句子，④“而赋诗作文毕竟等而下之”是对⑥“希望宦途可以实现自己的政治抱负”的转折，⑥④绑定，排除A、D项。⑥中的“学而优则仕”承接⑤“屈原是个优秀诗人”，⑤⑥绑定，排除C项。验证B项，符合语句逻辑关系。故本题选B。

28. 【答案】D。解析：文段分别讲述了“综述”同“元科普”著作所面向的不同人群和写作方式，强调了两者之间的差别，D项表述正确。A项的“联系”和C项的“共性”文段未曾体现，B项的“内涵”文段有所涉及，但目的是为了更好的区分两者之间的不同，三项均不正确。故本题选D。

29. 【答案】A。解析：文段首先讲述虚拟博物馆的优点，并指出由此导致很多人担心实体博物馆会逐渐失去魅力，“而事实”引出作者的观点，即通过虚拟博物馆的体验，人们更想走进实体博物馆。由此可知，作者意在说明虚拟博物馆与实体博物馆并不存在冲突。故本题选A。

30. 【答案】B。解析：A项说法正确，由“农民画的作者非常明确，具有著作权法所规定的主客体条件”可知农民画作者拥有作品的著作权。B项说法不正确，由“农民画申遗会造成著作权认定的矛盾，因为国家和民族的文化遗产”可知农民画因为属于国家或民族文化遗产，才会造成著作权认定的矛盾，且“文化”偷换概念。C项说法正确，由“因为国家和民族的文化遗产，作者是集体性和匿名性的”可知文化遗产通常不能属于单一个体。D项说法正确，由“农民画申遗会造成著作权认定的矛盾”可知著作权性质可能影响农民画申遗。故本题选B。

31. 【答案】B。解析：文段讲近年来，众筹商业模式蓬勃发展，但2016年众筹联盟研究报告显示平台下线或众筹业务下架的平台数量达89家，占正常运营众筹平台数量的五分之一。可见文段指出的是蓬勃发展的众筹平台大量下架，因此下文最可能讲的是众筹平台下架的原因，B项正确。A项是“怎样做”，衔接到文段后显得突兀。C、D项的主体是众筹市场，而文段主体为众筹平台。故本题选B。

32. 【答案】D。解析：文段讲戴维·洛克菲勒是洛克菲勒家族的第三代掌门人，2015年他迎来百岁生日，成为世界上最年长的亿万富翁。由此可以提炼出来的关键词主要有“戴维·洛克菲勒”“世界上最年长”“亿万富翁”，只有D项符合。A项未体现“亿万富翁”；B项“传奇一生”无从体现；C项未体现“世界上最年长”。故本题选D。

33. 【答案】A。解析：文段主要强调很多90后面对高房价及租赁公寓模式的兴起，因而不愿意为了买房而降低生活质量，A项正确。B项错误，文段只提到拥有自己的住房仍是90后的刚性需求，但其中只有30%愿意为买房而降低生活质量，即需求并非旺盛。C项错误，“大多数人”概念模糊，偏离文段主体“90后年轻人”。D项错误，“城市高房价”仅为影响年轻人购房意愿的原因之一。故本题选A。

34. 【答案】A。解析：文段讲中国抗日战争在世界反法西斯战争中具有重要地位，确立“十四年抗战”更能够体现中国为世界反法西斯战争作出的巨大贡献，更能完整地讲好“中国抗战故事”。可见文段的主旨在于介绍确立“十四年抗战”的意义，A项正确。C项文段无从体现，B、D项为文段的部分内容。故本题选A。

35. 【答案】A。解析：文段首先讲滴灌技术是目前世界上公认节水效果最好的灌溉技术，但是也存在不合理的地方；接着又提到固水技术的使用成本太高，很难大面积推广。由此可知，作者认为现在的供水方式不是很理想，A项正确。从整个文段看，作者的态度倾向于质疑，B、D项明显不符合；C项“滴灌效果”仅针对滴灌技术，以偏概全。故本题选A。

36. 【答案】B。解析：文段为总一分结构，首句即为主旨句，强调了社会群众对网络不良信息要起到重要抵制和监督作用，B项正确。A项错误，“构建监管网络”缺乏主体，表意含混。C、D项错误，“网络文化产业经营者”并非文段论述主体，偏离文段重点。故本题选B。

37. 【答案】D。解析：文段是总一分结构，首句提出传统戏曲在中国城镇化进程中面临前所未有的生态变化，后文则从“民间职业演出”和“体制内职业剧团”两个角度展开论述，前者与时俱进努力衍生出新的戏剧娱乐形态，后者使戏曲在农村文化生活中处于弱势和边缘。由此可见，文段意在说明戏曲在农村的影响力出现了两极化发展趋势。故本题选D。

38. 【答案】C。解析：横线位于段尾处，由“因此”引导，起总结全段的作用。文段主要讲的是许多企业遭到网络罪犯的攻击，由于寻求执法人员的帮助存在风险，导致新的行业即网络安全成为热门，C项正确。A、D项均为针对网络攻击的应对措施，排除。B项中的“私人网络安全公司”属无中生有，排除。故本题选C。

39. 【答案】B。解析：文段通过接受早教儿童与一般儿童的14项对比评估发现，其中13项没有差异，而唯一有差异的一项是早教儿童的家长认为自己小孩获得了更好的阅读技能。由此可知，早教并不能对儿童自身产生任何益处，B项正确。A项与文意相悖，排除；C项“无害处”和D项“有害处”均无从体现，排除。故本题选B。

40. 【答案】D。解析：A项正确，由“变态期蝌蚪的四肢逐渐代替尾行使运动的功能，肺慢慢长出后便取代鳃行使呼吸的功能”可得知。B项正确，从“大部分的两栖动物繁殖时将卵产在水中并孵化出蝌蚪”可知，刚生出时的两栖动物都呈现蝌蚪形态。C项正确，从“等鳃慢慢消失，其他生理结构调整好之后，两栖动物便开始了陆地生活”可知，两栖动物经历了从水中到陆地生活的过程。D项错误，“便不再回到水里生活”无从体现。故本题选D。

41. 【答案】A。解析：“年年至日长为客，忽忽穷愁泥杀人”出自杜甫的《冬至》，该诗句描写了杜甫多年来作客他乡，生活穷困，人也渐渐老了，每到冬至就非常思念家乡亲人。故本题选A。

42. 【答案】A。解析：A项错误，“五湖”一般指洞庭湖、鄱阳湖、太湖、巢湖和洪泽湖，不包括西湖。故本题选A。

43. 【答案】D。解析：石棉具有高度耐火性、电绝缘性和绝热性，是重要的防火、绝缘和保温材料，D项对应错误。故本题选D。

44. 【答案】C。解析：C项表述错误，贵阳是亚热带湿润温和型气候。贵阳地处东经106° 07'至107° 17'，北纬26° 11'至26° 55'之间，海拔高度为1100米左右，常年受西风带控制，冬无严寒，夏无酷暑，年平均气温在15.3摄氏度左右。在中纬度的高原地区，由于海拔较高，终年低温，形成高原山地气候，如青藏高原、安第斯山脉等地区。故本题选C。

45. 【答案】B。解析：B项奈良古迹位于日本，奈良在公元710~784年间曾为日本首都，名“平城京”。故本题选B。

46. 【答案】D。解析：热带雨林主要分布于赤道南北纬5~10度以内的热带气候地区。这里全年高温多雨，无明显的季节区别。故本题选D。

47. 【答案】C。解析：夏至是白昼最长的一天，在每年公历6月21日或22日。夏至这天，太阳直射地面的位置到达一年的最北端，直射北回归线，此时，北半球的白昼达最长，且越往北越长。选项中，儿童节离夏至最近。故本题选C。

48. 【答案】C。解析：C项解释错误，水的密度比油大，水滴入油中会迅速沉入油的底部，同时水在高温作用下急剧汽化而变成水蒸气，水蒸气在热油中形成气泡并不断膨胀上升。由于气泡内部的压力比较大，从而导致气泡在热油表面爆裂开来，溅起油花，并发出爆裂的声音。该过程中发生的是物理反应，不是化学反应。A、B、D三项均正确。故本题选C。

49. 【答案】D。解析：当pH<7时，溶液呈酸性；当pH=7时，溶液呈中性；当pH>7时，溶液呈碱性。pH值越小，酸性越强，pH值越大，碱性越强。A项胆汁的pH值为6.8~7.4，B项唾液的pH值为



6.6~7.1, C项血液的pH值为7.35~7.45, D项胃液的pH值为0.8~1.5。因此胃液的酸性最强。故本题选D。

50. 【答案】B。解析：神舟十号飞船是中国“神舟”号系列飞船之一，是中国第5艘搭载太空人的飞船，于2013年6月11日17时38分，在酒泉卫星发射中心，由长征二号F改进型运载火箭（遥十）“神箭”成功发射，飞行乘组由男航天员聂海胜、张晓光和女航天员王亚平组成，B项正确，D项错误。神舟九号飞船与天宫一号的成功对接，标志着中国全面掌握了空间交会对接技术，A项错误。神舟九号第一次将我国女航天员——刘洋载入太空，C项错误。故本题选B。

51. 【答案】D。解析：题干各图形均由一个小圆形和另一个小图形组成，且小圆形与另一个小图形的关系依次为相交、相切、相交、相切、相交、（相切），只有D项符合。故本题选D。

52. 【答案】A。解析：题干图形中，一个依次逆时针旋转45度，另一个依次顺时针旋转45度。观察选项，只有A项符合。故本题选A。

53. 【答案】C。解析：奇数项图形均不含封闭空间，偶数项图形均含封闭空间，则问号处图形应含封闭空间，只有C项符合。故本题选C。

54. 【答案】A。解析：各图形线条数依次为1、3、5、7、（9），各选项线条数依次为9、6、3、4，只有A项符合。故本题选A。

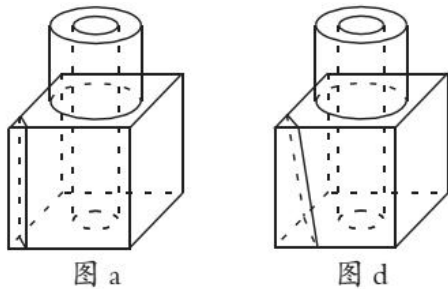
55. 【答案】A。解析：①②③图形均为一笔画图形，④⑤⑥图形均为两笔画图形。故本题选A。

56. 【答案】C。解析：题干各图形均由两个相交的小图形和一个小黑圆组成，①②④图形中的小黑圆均位于其中一个小图形内部，③⑤⑥图形中的小黑圆均位于两个小图形的相交部分。故本题选C。

57. 【答案】D。解析：各图形均由直线和曲线共同构成，且直线数均是曲线数的2倍，只有D项符合。故本题选D。

58. 【答案】C。解析：第一组图形均为轴对称图形，且对称轴依次沿顺时针方向旋转45°；第二组图形也遵循此规律，则问号处应为C项图形。故本题选C。

59. 【答案】B。解析：沿图a所示线条剖开可得A项，将上方圆柱水平剖开可得C项，沿图d所示线条剖开可得D项，只有B项不可能是该立体的截面。故本题选B。



60. 【答案】A。解析：A项正确。B项，假设正面和顶面正确，则右面应为全阴影面，排除。C项，假设顶面和右面正确，则正面应为阴影小正方形所在面，排除。D项，假设正面和右面正确，则顶面应为阴影小正方形所在面，排除。故本题选A。

61. 【答案】A。解析：翠竹象征着高洁，A项牡丹象征着华贵。故本题选A。

62. 【答案】C。解析：状元属于进士，是进士中第一名的称谓；C项博士属于学位，是学位中最高的一级。A项河水和海水是并列关系，排除。B项银河是天文学的研究对象，排除。D项宪法和民法也是并列关系。故本题选C。

63. 【答案】A。解析：菡萏是荷花的古称，A项蚍蜉是白蚁的古称。B项土豆指马铃薯，与番薯不同，排除。C项倭瓜一般指南瓜，排除。D项县衙是对清代县级官府的俗称，部门是一个组织的机构，排除。故本题选A。

64. 【答案】A。解析：跳绳是运动的一种，A项花椒是调料的一种。B项开车只是旅游时的一种交通方式，排除。C项太阳系是银河系的组成部分，排除。D项水稻是制作米粉的原材料，排除。故本题选A。

65. 【答案】B。解析：“势均”指势力相当，“力敌”指力量相等，二者为近义关系；B项“并驾”指几匹马一起拉着一辆车，“齐驱”指一齐快跑，二者为近义关系。故本题选B。

66. 【答案】C。解析：“希望”和“渴望”为近义关系，且“渴望”比“希望”词义程度更深；C项“讨厌”和“厌恶”为近义关系，且“厌恶”比“讨厌”的词义程度更深。A项“精确”的词义程度比“正确”更深。故本题选C。

67. 【答案】A。解析：“左顾右盼”与“上下打量”均有看的意思，且“左”与“右”、“上”与“下”为反义关系；A项“南来北往”与“东西奔走”均有走的意思，且“南”与“北”、“东”与“西”为反义关系。B、C、D三项前后两者均不含相同规律，排除。故本题选A。

68. 【答案】B。解析：先生产后销售，B项先起草后修改，均为顺承关系。A项收入和支出、C项救灾和抗灾均无先后之分，排除。D项闭幕应在开幕之后，排除。故本题选B。

69. 【答案】B。解析：设计、发放是问卷实施过程必然经历的两个步骤，且先设计后发放。B项制定、执行是政策实施过程必然经历的两个步骤，且先制定后执行。故本题选B。

70. 【答案】D。解析：“多如牛毛”“不胜枚举”“比比皆是”均形容数量很多；D项“寥若晨星”“屈指可数”“硕果仅存”均形容数量很少。故本题选D。

71. 【答案】A。解析：“听觉掩蔽”的定义要点是“一个声音能被人耳听到的最低值会因另一个声音的出现而提高”。A项“老师得大声说话，同学们才能听到”即老师声音能被同学们听到的最低值因四周吵闹的声音而提高，符合要点，属于听觉掩蔽。B、C、D三项均不涉及“另一个声音”，排除。故本题选A。

72. 【答案】B。解析：“兴趣图谱”的定义要点是“以分享共同兴趣为基础”“不以人与人之间的相识为基础”；“社交图谱”的定义要点是“基于你个人认识的社交链接”。A项微信公众号的关注者应是具有共同兴趣的，其分享不以人与人之间的相识为基础，属于兴趣图谱，排除。B项微信朋友圈是在朋友之间分享，是“基于你个人认识的社交链接”，属于社交图谱。C项车友会也属于兴趣图谱，排除。D项网络社区不是“基于你个人认识的社交链接”，排除。故本题选B。

73. 【答案】A。解析：“共生效应”的定义要点是“相互影响、相互促进”。A项寝室的六个人每天结伴学习，最后都考上研究生，体现了“相互影响、相互促进”，符合要点，符合共生效应。B项只涉及个体受他方的影响，未体现相互作用，不符合要点，排除。C、D项均未体现“相互影响、相互促进”，不符合要点，排除。故本题选A。

74. 【答案】C。解析：“鸟笼效应”的定义要点：①偶然获得一件原本不需要的物品；②继续添加更多与之相关而自己不需要的东西。A、B、D项均未体现“偶然获得一件原本不需要的物品”，不符合①，均排除。C项“买裙子送了条毛衣链”体现了毛衣链是偶然获得的，为此又买了一件毛衣却从没穿过，符合①②，符合鸟笼效应。故本题选C。

75. 【答案】A。解析：“定向销售”的定义要点是“低于市场同类商品的价格向特定客户出售商品”。A项，“医生、教师”为特定客户，“2万元的优惠”“比许多4S店便宜了不少”说明低于市场同类商品的价格，符合定义要点。B项，“优惠价格”不能明确是否低于市场同类商品的价格，不符合要点，排除。C项，“所有非冷冻类的鲜鱼、鲜肉产品一律五折”未体现向特定客户出售，不符合要点，排除。D项，“以行业底价线上线下同时开展促销活动”未体现向特定客户出售，不符合要点，排除。故本题选A。

76. 【答案】C。解析：由“英语老师是一个学生的叔叔”和“丙是女的，比数学老师年轻”，可知丙不是英语老师，也不是数学老师，则丙是语文老师。由“甲上课全用汉语”可知甲不是英语老师，则甲是数学老师，因此乙是英语老师。故本题选C。

77. 【答案】C。解析：题干论点：癌症患者出现这些认知能力受损的症状系化疗所致。论据：患者化疗后思维不清，典型的症状包括注意力、记忆力和视觉空间能力受损。A项指出部分患者“化疗脑”症状源于术后焦虑、抑郁或生理疲惫，与化疗无关，削弱题干论点，排除。B项指出“化疗脑”症状是由自然衰老导致的，削弱题干论点，排除。C项指出化疗药物对神经的毒性作用于大脑，或间接引起的



免疫反应引发大脑炎症，即化疗引起的这些症状导致了“化疗脑”，最能加强题干论点。D项指出对认知功能产生影响是由于癌细胞入侵大脑导致的，即不是化疗所致，削弱题干论点，排除。故本题选C。

78. 【答案】C。解析：题干论点：网络社交会妨碍传统社交的担忧是毫无必要的。论据：外向者花大量时间用于网络社交并不影响其与他人面对面交流的意愿，内向者即使不进行网络社交也不会变成社交达人。A项有许多人花费大量时间在网络社交上，而不愿意与他人面对面交流，说明网络社交影响了传统社交，削弱了论点，排除。B项说明参与社会活动的总时间是相对固定的，所以花时间在网络社交上会影响传统社交的时间，削弱了论点，排除。C项在网络社交的帮助下，许多人在传统社交中的能力和自信得到了提升，最能支持论点。D项该校学生中，网络社交不是主要社交方式，质疑了调查的客观性，削弱了论点，排除。故本题选C。

79. 【答案】B。解析：题干论点：读书可以治病，特别是对于一些社会因素引起的心理疾病，如抑郁、压抑、恐慌、烦恼等，读书有很好的疗效。A项讲的是读书在提高认识能力方面的作用，与读书能否治疗心理疾病无关，排除。B项指出读书能使患者释放焦虑和不安，说明读书能够治疗如抑郁、压抑、恐慌、烦恼等心理疾病，最能支持论点。C项是刘向的个人观点，且“医愚”不等同于治病，排除。D项讲的是读书在提高免疫力方面的作用，也与读书能否治疗心理疾病无关，排除。故本题选B。

80. 【答案】C。解析：题干论点：女性比男性更擅长认人。论据：女性在观察脸部时，大脑中与面部识别相关的区域具有更强的反应，在这些区域中有更密集的细胞组织。A项属于无关项，排除。B项指出女性更注重细节，所以女性比男性更擅长认人，属于加强项，排除。C项指出在时间充足的情况下，男性识别人的面孔具有更准确的识别率，即女性并不比男性更擅长认人，最能削弱题干论点。D项刑侦属于特例，不具有普遍性，不能削弱题干论点，排除。故本题选C。

81. 【答案】C。解析：题干信息可翻译为：①选甲∨选丙；②选乙∨选戊；③—选乙∨—选丙；④—选甲∨—选丁。已知4位评委的意见都得到了尊重，即①②③④命题均为真。又已知戊不能参赛，否定②的一个选言肢，可推出肯定另一个选言肢，即选乙，排除D项。选乙否定③的一个选言肢，同理可推出一选丙，排除A项。再根据①可推出选甲，又根据④可推出一选丁，排除B项。故本题选C。

82. 【答案】D。解析：题干论证：有一些人认为即使他们不出钱也能享受到绿化的好处，所以他们拒绝承担费用。D项，假设这些人不认为总有人会付费，那么他们不会认为不出钱也能享受到绿化的好处，论证无法成立，因此D项是题干论证所需的前提。A、B、C项均不是论证成立的必要条件，排除。故本题选D。

83. 【答案】D。解析：题干仅提及“陈年葡萄酒中的深色主要来源于单宁”和“单宁除了给酒的色泽作出贡献外，还能作用于口腔产生一种苦涩感，从而促进人们的食欲”，不代表陈年葡萄酒会促进食欲，A项不能推出。题干表述是“单宁含量过高，苦涩味重且酒质粗糙，含量过低则酒体软弱而淡薄”，不代表“苦涩味重且酒质粗糙的酒必含有过多单宁”，也不代表“酒体软弱而淡薄的酒中单宁含量必然过低”，B、C项均不能推出。由“单宁除了给酒的色泽作出贡献外，还能作用于口腔产生一种苦涩感，从而促进人们的食欲”可推出D项。故本题选D。

84. 【答案】A。解析：题干论点：猫长寿与它们独居的习性有关。A项指出猫独自生活减少了感染疾病的可能性，所以得以长寿，最能支持题干论点。B项指出猫由于具有很好的防御手段所以较少受到掠食者攻击，与猫是否独居无关，属于无关项，排除。C项属于无关项，排除。D项没有解释猫为什么长寿，与题干论点无关，排除。故本题选A。

85. 【答案】D。解析：题干仅提及“工作狂中也有更多的注意力缺失及多动症和强迫症患者”，不能推出“注意力缺失的人大部分是工作狂”，排除A项。题干仅提及工作狂中有部分人经常被焦虑症困扰，无法得知不是工作狂的人的情况，排除B项。题干未提及“强迫症患者”与“保持工作生活平衡”的关系，排除C项。由“经常被焦虑症困扰的比例高达34%，是那些总体上能保持工作生活平衡的人的3倍”可推出不能保持工作生活平衡的人更容易得焦虑症，D项正确。故本题选D。

86. 【答案】C。解析：根据材料第一段可知，2017年上半年A市地区生产总值同比增长8.4%。故

本题选 C。

87. 【答案】C。解析：根据材料第二段可知，18 项核算基础数据中 Z 县有 9 项高于全市平均水平，则 Z 县不高于 A 市全市的有  $18-9=9$  项。故本题选 C。

88. 【答案】A。解析：根据材料第三段可知，2017 年上半年 Z 县牧业增加值为 0.59 亿元，林业增加值为 0.21 亿元，前者是后者的  $\frac{0.59}{0.21} < 3$  倍，只有 A 项符合。故本题选 A。

89. 【答案】D。解析：根据材料第一段可知，2017 年上半年 Z 县第三产业增加值 26.03 亿元，增长 11%。因此 2016 年上半年 Z 县第三产业增加值为  $\frac{26.03}{1+11\%} \approx \frac{26}{1.11} \approx 23.4$  亿元，D 项与之最接近。故本题选 D。

90. 【答案】B。解析：根据材料最后一段可知，2017 年上半年 Z 县的第三产业增加值在全市位居第 2 位，A 项错误。根据材料第二段可知，Z 县商品房销售面积同比增速高于全市平均水平，B 项正确。根据材料第一段可知，2016 年上半年 Z 县三次产业结构为 11.9:23.7:64.3，C 项错误。根据材料第一段可知，2017 年上半年 Z 县地区生产总值居于全市第 9 位，D 项错误。故本题选 B。

91. 【答案】B。解析：根据表格数据可知，2017 年一季度我国出口额最大的贸易方式是一般贸易，其出口额为 17648 亿元，总出口额为 33268 亿元。因此题干所求为  $\frac{17648}{33268} \times 100\% \approx \frac{17648}{33300} \times 100\% \approx 53.0\%$ 。故本题选 B。

92. 【答案】B。解析：根据表格数据可知，2017 年一季度加工贸易出口额同比增长量为  $\frac{11434}{1+15.6\%} \times 15.6\% \approx \frac{11400}{1+\frac{1}{6.5}} \times \frac{1}{6.5} = \frac{11400}{7.5} = 1520$  亿元，一般贸易进口额同比增长量为  $\frac{17217}{1+37.8\%} \times 37.8\% > \frac{17000}{1.7} \times$

$37.8\% = 3780$  亿元，国有企业出口额同比增长量为  $\frac{3604}{1+14.1\%} \times 14.1\% \approx \frac{3600}{1+\frac{1}{7}} \times \frac{1}{7} = \frac{3600}{8} = 450$  亿元，国有

企业进口额同比增长量为  $\frac{7410}{1+50.8\%} \times 50.8\% \approx \frac{7410}{1+\frac{1}{2}} \times \frac{1}{2} = \frac{7410}{3} = 2470$  亿元。从高到低排序为一般贸易进

口额、国有企业进口额、加工贸易出口额、国有企业出口额。故本题选 B。

93. 【答案】B。解析：根据表格数据可知，2016 年一季度加工贸易进口额为  $\frac{6484}{1+19.5\%} \approx \frac{6480}{1.2} \approx 5400$  亿元，其他企业进口额为  $\frac{8065}{1+32.9\%} \approx \frac{8100}{1.33} \approx 6090$  亿元，其他贸易出口额为  $\frac{4186}{1+27.8\%} < 4186$  亿元，其他贸易进口额为  $\frac{5017}{1+25.9\%} < 5017$  亿元。比较可知，数额最大的是为其他企业进口额。故本题选 B。

94. 【答案】B。解析：根据表格数据可知，2017 年一季度外商投资企业进口额 13229 亿元，同比增长 21.1%，我国进口总额 28718 亿元，同比增长 31.1%。总体增速大于部分增速，则部分占总体的比重同比下降，可先排除 A、C 项。由比重变化公式  $\frac{N}{M} \times \frac{b\% - a\%}{1 + b\%} \times 100\%$  可得，题干所求为  $\frac{13229}{28718} \times \frac{21.1\% - 31.1\%}{1 + 21.1\%} \times 100\% \approx \frac{12000}{28000} \times \frac{-0.1}{1.2} \times 100\% = \frac{-1}{28} \times 100\% \approx -3.6\%$ ，即下降 3.6 个百分点，B 项与之最接近。故本题选 B。

95. 【答案】C。解析：根据表格可知，2016年一季度的其他企业出口额为  $\frac{14966}{1+16.9\%} \approx 12800$  亿元，单位是亿元，A项错误。根据表格可知，2017年一季度的加工贸易的贸易顺差为  $11434-6484=4950$  亿元，B项错误。根据表格可知，2017年一季度的国有企业出口额占我国出口总额的比重为  $\frac{3604}{33268} \times 100\% > 10\%$ ，2017年一季度的国有企业出口额同比增速（14.1%）小于全国出口额同比增速（14.8%），则比重同比下降，因此2016年一季度的国有企业出口额占我国出口总额的比重大于2017年占比，即超过一成，C项正确。根据表格可知，2017年一季度的其他企业出口额（14966亿元）大于外商投资企业出口额（14698亿元），D项错误。故本题选C。

96. 【答案】B。解析：根据折线图可知，2017年第四季度岗位空缺与求职人数比率为1.22，第三季度为1.16，则题干所求为  $1.22-1.16=0.06$ 。故本题选B。

97. 【答案】C。解析：根据折线图可知，2015~2017年，各季度的岗位空缺与求职人数比率的平均值为  $\frac{1.12+1.06+1.09+1.10+1.07+1.05+1.10+1.13+1.13+1.11+1.16+1.22}{12} = \frac{13.34}{12} \approx 1.11$ 。故本题选C。

98. 【答案】A。解析：根据文字材料第二段和第三段可知，2017年第四季度，进入市场的求职者约为354.2万人，与去年同期相比，求职人数减少17.3万人。则同比增长率为  $\frac{-17.3}{354.2-(-17.3)} \times 100\% \approx \frac{-17}{370} \times 100\% \approx -4.6\%$ ，即下降4.6%，A项与之最接近。故本题选A。

99. 【答案】B。解析：根据折线图可知，2015年第三季度比率是1.09，2016年第二季度是1.05，2017年第一季度是1.13，2017年第四季度是1.22，比较可知最小的是2016年第二季度（1.05）。故本题选B。

100. 【答案】A。解析：根据折线图可知，2015年第一季度至2017年第四季度岗位空缺与求职人数比率都大于1，即岗位空缺 > 求职人数，说明市场需求大于供给，A项正确。根据折线图可知，2016年第二季度以来，岗位空缺与求职人数比率呈“N”型变化趋势，B项错误。材料中无法求得2017年第三季度东、中、西部岗位空缺与求职人数比率，因此无法比较，C项错误。根据材料可知，2017年第四季度，中部市场岗位空缺与求职人数的比率为1.18。2017年第四季度与去年同期相比，中部市场用人需求（即岗位空缺）的增长量是0.5万人，而求职人数的增长量为-0.4万人，所以2017年第四季度的中部市场岗位空缺与求职人数的比率大于2016年同期，则2016年第四季度中部市场岗位空缺与求职人数的比率小于2017年第四季度（1.18），D项错误。故本题选A。