

准考证号：

姓名：

2024 年浙江省事业单位统一公开招聘考试 《职业能力倾向测验》

重要提示：

为维护您的个人权益，确保考试的公平公正，请您协助我们监督考试实施工作。

本场考试规定：监考老师要向本考场全体考生展示题本密封情况，并邀请 2 名考生代表签字后，方能开启试卷袋

条形码黏贴处

请将此条形码揭下，
贴在答题卡指定位置

展鸿 2024 年浙江省事业单位统考模拟卷（三）

《职业能力倾向测验》

第一部分 常识判断

（共 15 题，参考时限 10 分钟）

根据题目要求，在四个选项中选出一个最恰当的答案。

请开始答题：

1. 2023 年 3 月 5 日，十四届全国人大一次会议上的《政府工作报告》对过去一年的工作进行了回顾。

下列与之相关的说法，正确的有几项？（ ）

- ①货物进出口好于预期，实际使用外资有所下降
- ②新发放企业贷款平均利率降至有统计以来最低水平
- ③向更多中等收入群众发放价格补贴，约 6700 万人受益
- ④免除经济困难高校毕业生 2022 年国家助学贷款利息并允许延期还本

A. 1 B. 2 C. 3 D. 4

2. 下列有关《新时代的中国绿色发展》白皮书的说法有误的是（ ）。

- A. 白皮书全面介绍新时代中国绿色发展理念、实践与成效，分享中国绿色发展经验
- B. 自 2000 年以来，中国始终是全球“增绿”的主力军，全球新增绿化面积中约一半来自中国
- C. 中国坚持创新、协调、绿色、开放、共享的新发展理念，产业结构持续调整优化
- D. 中国正式设立三江源、大熊猫、东北虎豹、海南热带雨林、武夷山首批 5 个国家公园

3. 《中共中央 国务院关于做好 2023 年全面推进乡村振兴重点工作的意见》指出，强国必先强农，农强方能国强。要立足国情农情，体现中国特色，建设（ ）、竞争能力强的农业强国。

- ①供给保障强 ②科技装备强 ③经营体系强 ④产业韧性强
- A. ①②③ B. ②③④ C. ①③④ D. ①②③④

4. 下列关于中国地理中的世界之最，说法错误的是（ ）。

- A. 中国是水稻产量最大的国家 B. 世界最小的湖是中国的本溪湖
- C. 长江是世界上径流最大的河流 D. 中国是世界上最大生猪养殖地

5. 尚书是中国封建时代的政府高官名称。下列关于尚书的说法正确的是（ ）。

- A. 刑部尚书是掌管全国司法和刑狱的大臣
- B. 礼部尚书主要掌管国家经济，包括税收、统筹国家经费等
- C. 户部尚书是掌管全国屯田、水利、土木、交通运输的大臣
- D. 工部尚书是主管朝廷中的祭祀、宴餐、学校、科举和外事活动的大臣

6. 下列关于数字货币的说法正确的是（ ）。

- A. 数字货币是一种受管制的数字化货币

14. 下列河流及其发源地对应正确的是 ()。
- A. 亚马孙河——落基山脉 B. 密苏里河——安第斯山脉区
C. 叶尼塞河——蒙古高原 D. 黄河——唐古拉山脉
15. 下列脍炙人口的诗句中，描述谷雨节气的诗句是 ()。
- A. 家家麦饭美，处处菱歌长 B. 绿筠尚含粉，圆荷始散芳
C. 随风潜入夜，润物细无声 D. 春种一粒粟，秋收万颗子

第二部分 数量关系

(共 20 题，参考时限 20 分钟)

本部分包含两种类型的试题：

一、数字推理：共 5 题。给你一个数列，但其中缺少一项，要求你仔细观察数列的排列规律，然后从四个供选择的选项中选出你认为最合理的一项，来填补空缺项，使之符合原数列的排列规律。

请开始答题：

16. 0, 5, 13, 27, 50, ()
- A. 72 B. 85 C. 91 D. 97
17. -6, 5, -2, 2, -1, 0, ()
- A. 6 B. 3 C. -2 D. -3
18. 4, 18, 34, 52, (), 94
- A. 72 B. 74 C. 76 D. 78
19. $\frac{1}{8}$, 2, $\frac{1}{6}$, $\frac{3}{2}$, $\frac{8}{27}$, ()
- A. $\frac{9}{7}$ B. $\frac{3}{5}$ C. $\frac{27}{10}$ D. 4
20. 2, 4, 3, 6, 5, 8, 7, 10, (), 12
- A. 8 B. 9 C. 10 D. 11

二、数学运算：共 15 题。每道试题呈现一道算术式，或表述数字关系的一段文字，要求你迅速、准确地计算或论证出答案。

请开始答题：

21. “杨辉三角”是中国数学史上一个伟大成就，每行的端点与结尾数为 1，每个数字等于上方两数之和。假设某行最中间的数字为 20，则这是第 () 行。
- A. 5 B. 6 C. 7 D. 8
22. 我国古代常用“正”做计数单位，一个“正”代表 5 个。请问下面哪个数字出现后后面两笔都为“横”？ ()
- A. 115 B. 263 C. 157 D. 249
23. 为响应“助农扶贫”号召，某单位购买一批衣物慰问山区学校，如果给每位学生 6 套衣物，那么还剩下 32 套，如果每位学生分得 7 套，则最后一名学生衣物不足 5 套，则该山区学校至少有多少名

学生? ()

- A. 31 B. 35 C. 37 D. 38

24. 甲、乙、丙、丁共住在一个出租房内,他们每个月平摊电费,然后根据实际使用电费进行结算。已知10月份电费为280元,当月乙、丙、丁分别比甲多用40度、50度、70度电,最终结算时,丁将超过平均电费的21元给了甲,则丙应该付给甲()元。

- A. 35 B. 12 C. 7 D. 3

25. 某班有54名学生,将举行元旦晚会。据调查,其中28人会唱歌,12人会跳舞,5人既会唱歌又会跳舞,则该班学生中既不会唱歌又不会跳舞的学生有()人。

- A. 16 B. 17 C. 18 D. 19

26. 河道的一侧栽种了10棵松树,为使植物更加多样化,决定将其中4棵换成柳树,但是被替换掉的松树不能相邻且河道两端的松树不能被替换掉。问共有多少种替换方法?()

- A. 5 B. 35 C. 70 D. 120

27. 从去年元旦开始,某教育机构在网上销售数学与英语两门网课,据机构统计,自2月始,每月数学的销量都比上个月多400,英语的销量都比上个月多200,已知去年第一季度,数学的销量比英语多2100,则去年一整年英语的销量比数学()。

- A. 多不到两万 B. 多两万以上 C. 少不到两万 D. 少两万以上

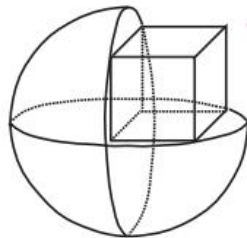
28. 有一条长5千米的道路,甲、乙两人沿着道路往返运动,甲每小时走3千米,乙每小时走2千米,若二人同时从道路两端出发,则第二次相遇时,经过了()。

- A. 4小时 B. 3小时 C. 2小时 D. 1小时

29. 6个人随机分为3组,每两人一组,三组随机前往A、B、C三地,一个地方只能去一组,问甲和乙一起前往A地的概率为()。

- A. $\frac{1}{45}$ B. $\frac{1}{90}$ C. $\frac{1}{15}$ D. $\frac{2}{45}$

30. 在如下立体组合体中,圆球直径为 $2\sqrt{5}$,正方体的面与切面内接,则该立体组合体的表面积为()。(π取3.14)



- A. 62.8 B. 66.8 C. 70.8 D. 78.8

31. 某公司结束一次会议后,某部门需要整理29份文件,部门经理将待整理的文件分给员工,如果其中至少有一人分到至少4份文件,那么这个部门最多有多少名员工?()

- A. 9 B. 8 C. 7 D. 6

32. 小陈决定买情侣手机壳,已知6元一对的情侣手机壳有6种,12元一对的情侣手机壳有8种,18元一对的情侣手机壳有2种,且手机壳必须成对销售,若小陈共消费了24元且每对手机壳不重复购

买，则小陈有（ ）种选择。

- A. 4 B. 60 C. 175 D. 678

33. 小明以往 8:00 准时从家骑自行车前往公司，刚好准时上班。某日当他醒来，发现快迟到了（不到 9:00），于是以平时的 1.2 倍的速度骑往公司（忽略起床时间），结果发现提早 26 分钟到公司。然后他想起来是把时针和分针看反了。问小明公司几点上班？（ ）

- A. 8:30 B. 9:00 C. 9:30 D. 10:00

34. 有一种金属工具由 1 个 A 工件和 1 个 B 工件组装而成，师傅每小时能制作 10 个 A 工件或 12 个 B 工件，徒弟每小时能制作 6 个 A 工件或 8 个 B 工件。两人同时开始工作，每小时只能做 A 工件或 B 工件，则 8 小时后，两人最多能制作多少个金属工具？（ ）

- A. 48 B. 60 C. 72 D. 84

35. 有一个内角为 30° 的直角梯形，上底是下底的 $\frac{2}{3}$ ，若沿着下底所在直线旋转，得到的立体图形表面积为 $(9+12\sqrt{3})\pi$ 平方厘米，则旋转体的体积为多少立方厘米？（ ）

- A. $12\pi + 8\sqrt{3}\pi$ B. 18π C. $21\pi + 4\sqrt{3}\pi$ D. 21π

第三部分 判断推理

（共 30 题，参考时限 25 分钟）

本部分包括四种类型的试题：

一、类比推理：共 7 题。先给出一对相关的词，要求你在备选答案中找出一对与之逻辑关系上最贴近或相似的词。

请开始答题：

36. 大豆：腐竹

- A. 大米：面粉 B. 高粱：红酒
C. 煤炭：木头 D. 棉布：衣服

37. 书桌：椅子

- A. 柜子：抽屉 B. 沙发：靠枕
C. 灯泡：插座 D. 窗户：玻璃

38. 中医：望闻问切

- A. 诗人：推敲琢磨 B. 厨师：麻辣鲜香
C. 京剧：唱念做打 D. 小品：说学逗唱

39. 峰：山峰：碳达峰

- A. 界：世界：思想界 B. 潮：海潮：移民潮
C. 子：儿子：菜篮子 D. 羊：山羊：领头羊

40. 候车：检票：乘车

- A. 复习：考试：批改
C. 贷款：购买：还款

- B. 请假：审批：销假
D. 运动：节食：减肥

41. 寻人启事：大众：失踪者

- A. 趣味游戏：趣味：游戏
C. 旅游：景点：游客

- B. 演唱会：歌手：舞台
D. 志愿活动：志愿者：困难者

42. 绿茶 对于 () 相当于 () 对于 清朝

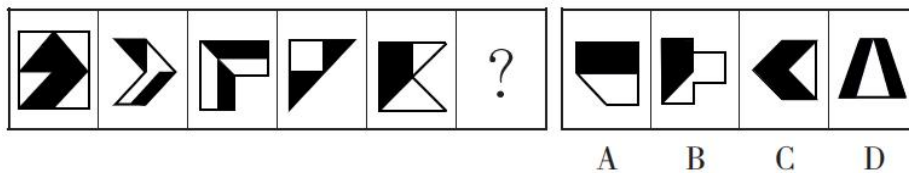
- A. 饮品 朝代
C. 梅花 宋朝

- B. 咖啡 明朝
D. 健康 封闭

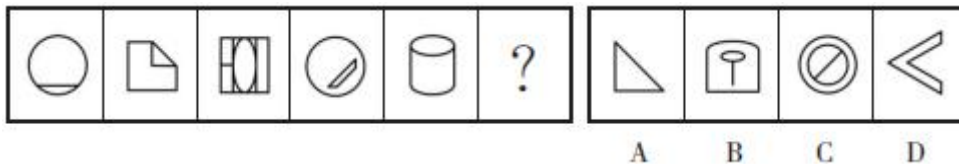
二、图形推理：共 8 题。请按每道题的答题要求作答。

请开始答题：

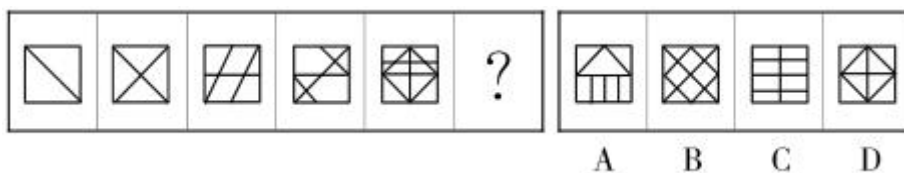
43. 请从四个选项中选出最恰当的一项填在问号处，使图形呈现一定的规律性。



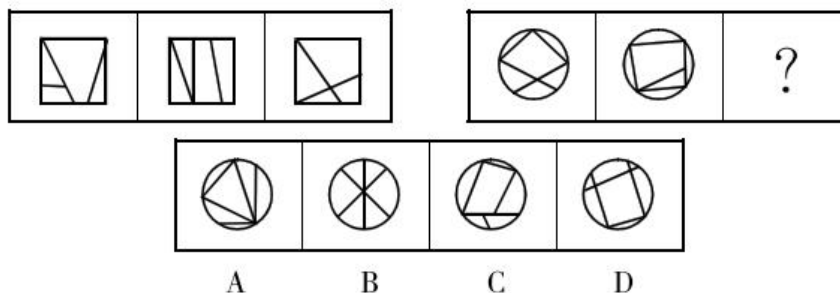
44. 请从所给的四个选项中，选出最恰当的一项填入问号处，使之呈现一定的规律性。



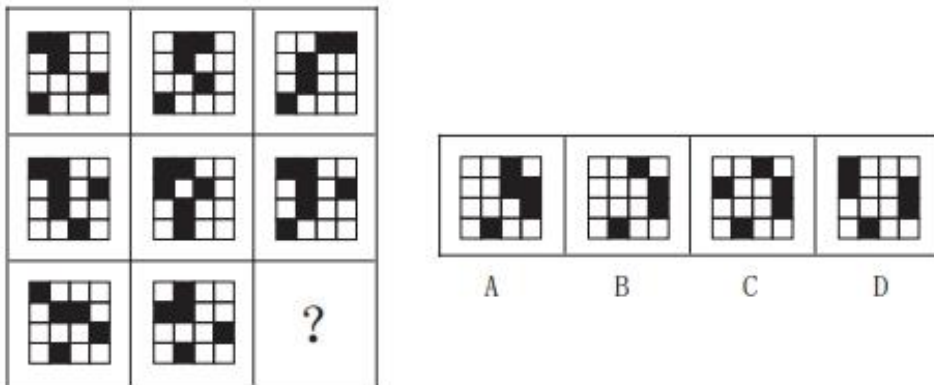
45. 从所给的四个选项中，选择最合适的一个填入问号处，使之呈现一定的规律性。



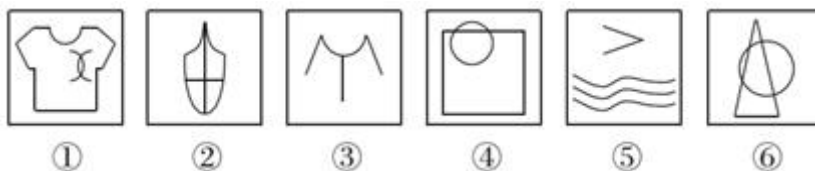
46. 从所给的四个选项中，选择最合适的一个填入问号处，使之呈现一定的规律性。



47. 从所给的四个选项中，选择最合适的一个填入问号处，使之呈现一定的规律性。

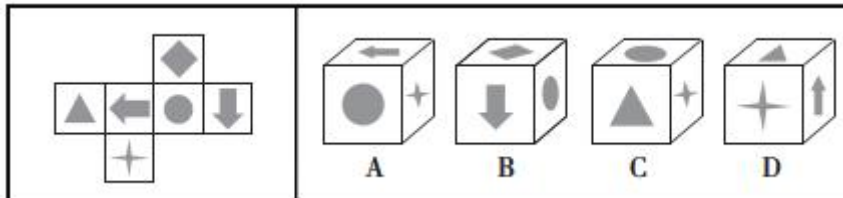


48. 把下面的六个图形分为两类，使每一类图形都有各自的共同特征或规律，分类正确的一项是 ()。

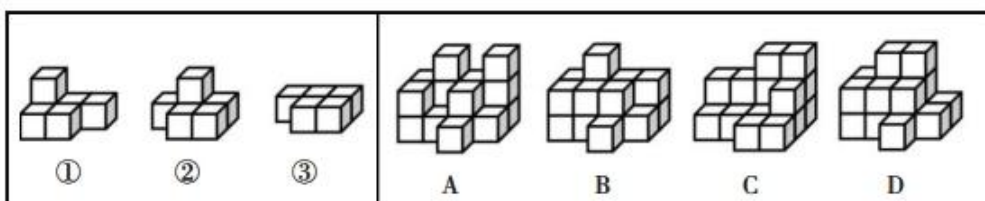


A. ①②④, ③⑤⑥ B. ①②⑤, ③④⑥ C. ①③⑥, ②④⑤ D. ①⑤⑥, ②③④

49. 左边给定的是纸盒的外表面，右边哪一项能由它折叠而成? ()



50. 下列立体图形能由①②③组成的是 ()。



三、逻辑判断：共 10 题。每题给出一段陈述，这段陈述被假设是正确的，不容置疑的。要求你根据这段陈述，选择一个答案。注意，正确的答案应与所给的陈述相符合，不需要任何附加说明即可以从陈述中直接推出。

请开始答题：

51. 有许多美丽的人并不善良，但没有一个善良的人是不美丽的。

以下不能从上述论断中推出的是 ()。

- A. 没有一个不美丽的人是善良的 B. 有些美丽的人是善良的
C. 有些善良的人不是美丽的 D. 有些不善良的人是美丽的

52. 随着经济社会的发展，人们对物质的要求越来越高，“月光族”“啃老族”早已屡见不鲜。然而，近年来，情况也正在发生着悄然变化。遵循“省钱而不降品位，省钱而不失时尚，省钱而不减体面”原则的“新节俭主义”开始被越来越多年轻人所推崇和青睐。

下列各项中，不能够支持“新节俭主义”观点的有几项？（ ）

- ①“新节俭主义”首先需要你会省钱，能省钱，这也并不是件容易的事情，所以推崇不代表践行
- ②不允许剩饭，这是传承的家风，无论传统节俭还是“新节俭主义”，都是勤俭节约美德的体现
- ③“新节俭主义”强调量入为出、“把钱用在刀刃上”，是一种返璞归真、更成熟、更健康的消费理念
- ④节俭并非只为了省钱，更是用环保的理念去生活，就像你买下一本二手书的同时，也为地球减轻一份重量，这也是“新”的一个体现
- ⑤“新节俭主义”源于社会生活压力，年轻人深感生活的不易，因此奉行“新节俭主义”
- ⑥就应该像传统节俭一样什么都省，“新节俭主义”说什么“该花的就花”，这实际上是浪费的一种托辞

A. 1 B. 2 C. 3 D. 4

53. 近期，某电脑公司推出了一款量子计算机，其算力超过了早期经典计算机。因此，该公司管理层断言，在不久的未来量子计算机将全面超越电子计算机，成为人们购买的首选。

以下哪项为真，最能质疑该公司管理层的判断？（ ）

- A. 该公司在制造量子计算机领域知名度较低
- B. 量子比特操纵数量未超过 25 个的量子计算机，其性能与现在的普通计算机相当
- C. 预计未来几年量子计算机操纵的量子比特数量将超过 50 个，算力相当于电子计算机的十倍
- D. 量子计算机制造成本高昂，短期内无法下降，而人们购买电脑主要考虑价格因素

54. 某医院门诊科周六有三位主治医生值班，分别是钟医生、张医生和沈医生，且三位医生只主治泌尿科、牙科和呼吸科中的一科。三位新来的护士对三位医生的主治科室进行猜测：

- 护士 A：钟医生主治呼吸科，张医生主治泌尿科。
- 护士 B：钟医生主治泌尿科，沈医生主治呼吸科。
- 护士 C：钟医生主治牙科，张医生主治呼吸科。

后来证实三位护士的猜测都只对了一半，那么钟医生、张医生和沈医生分别主治（ ）。

- A. 泌尿科、牙科和呼吸科 B. 呼吸科、牙科和泌尿科
- C. 牙科、呼吸科和泌尿科 D. 牙科、泌尿科和呼吸科

55. 一般而言，同一区域内，岛上的湿气较半岛来得重。有研究认为，岛上的湿气较半岛重可能与其四面环水的地理环境有关。

以下哪项如果为真，最能支持上述研究观点？（ ）

- A. 在定义上，只有四面环水的地方才叫作岛
- B. 有研究表明，岛四周的水汽更易汇聚在岛上而不是散开
- C. 夏季，生活在岛屿上的人们会比生活在半岛的人们感到更闷热
- D. 岛上湿气重是因为岛屿一般位于其所在区域的低洼处，易汇聚湿气

56. 研究发现，熬夜使人昼夜生活节律被打破，导致肠道中带有鞭毛的革兰氏阴性菌相对丰度提升，人体摄入的能量增多，增加了膳食脂肪酸的摄取以及脂肪的储存，因此熬夜会让人发胖。

以下哪项是以上结论基于的前提？（ ）

- A. 熬夜不会增加人体的能量消耗
- B. 熬夜使人体能量摄入多于能量消耗
- C. 熬夜会增加人的饥饿感
- D. 正常睡眠的能量消耗多于熬夜的能量消耗

57. 环氧乙烷是一种有毒的致癌物，可以用来制作杀菌剂，被广泛地应用于洗涤、制药、印染等行业。平时使用的口罩，一般都经过环氧乙烷杀菌的工序。有专家声称，戴口罩要谨慎，以防残留的环氧乙烷影响健康。

以下哪项如果为真，最不能质疑上述专家的观点？（ ）

- A. 口罩在环氧乙烷杀菌后，还会进行环氧乙烷的检测，符合国家标准后才能出厂
- B. 环氧乙烷与甲醛类似，并不是存在就会让人中毒，而是达到一定的量才有危害
- C. 环氧乙烷本身易挥发，从出厂到消费者拿到口罩，经历的时间足够气体完全挥发
- D. 并不是所有口罩都通过环氧乙烷消毒，也有一部分口罩是在无菌车间里制作的

58. 自从食盐放开专营以来，市场上的食盐品种越来越多。研究者发现，不少高价食盐添加了许多微量元素，如主打补血养颜的红枣盐、枸杞盐等。但专家指出，高价食盐和普通食盐其实没差别，靠食盐来进行养生既不靠谱也不合理。

以下哪项如果为真，不能加强专家的观点？（ ）

- A. 市场不少高价盐打着补钙、补锌等并不靠谱的噱头，误导、吸引消费者购买
- B. 所谓高价“养生盐”，只是工艺、品牌营销的不同，所谓添加的微量营养元素，对老百姓养生几乎没有多少帮助
- C. 对于老人、孕妇、孩子等特殊群体，需要根据自身的情况进行微量元素的补充，不能盲目地补，否则不仅达不到养生的效果，反而伤害了身体
- D. 高价“养生盐”对其他商品或服务价格市场与秩序，起了一个很坏的示范作用

59. 学中国语言文学的学生不是理科学生，所有理科的学生都要学习高等数学，因此中国语言文学专业的学生不用学习高等数学。

以下哪项论证与题干中的论证犯了同样的逻辑错误？（ ）

- A. 波斯猫不是狗，狗不是植物，因此波斯猫不是植物
- B. 哈士奇不是大象，大象喜欢玩耍，因此哈士奇不喜欢玩耍
- C. 所有会拉小提琴的人都懂五线谱，我懂五线谱，因此我会拉小提琴
- D. 所有喜欢古典音乐的人都不喜欢嘻哈音乐，我不喜欢古典音乐，因此我喜欢嘻哈音乐

60. 有 7 名到大美公司应聘的人员：甲、乙、丙、丁、戊、己和庚，他们被安排在同一天不同时段进行面试。每个人进行面试的时段各不相同，而且每人只进行一次面试。所有应聘人员不是硕士，就是博士。还知道如下条件：

- (1) 不存在面试顺序相邻两人都是硕士的情况；

- (2) 己的面试先于乙和丁，在己之前进行面试的人中恰好有两名硕士；
- (3) 甲是第 6 个进行面试的；
- (4) 庚的面试在丙之前进行。

据此可以得出，以下哪两人的面试不可能相邻？（ ）

- A. 戊和己
- B. 戊和丙
- C. 己和乙
- D. 己和庚

四、定义判断：共 5 题。每道题先给出定义，然后列出四种情况，要求你严格依据定义，从中选出一个最符合或最不符合该定义的答案。注意：假设这个定义是正确的，不容置疑的。

请开始答题：

61. 感情动机是指由于人的喜、怒、哀、乐等情绪和道德、情操、观念等情感所引起的购买动机。

根据上述定义，以下是出于感情动机的购买行为的是（ ）。

- A. 小赵准备买一辆代步车，本着“支持国货”“绿色环保”的理念，最终选择了一辆国产新能源汽车
- B. 小李带儿子逛商场时，儿子对一套奥特曼玩具爱不释手，哭闹着让爸爸买，小李看到价格之后，用一支冰淇淋把儿子哄出了商店
- C. 老张一家三代住了三十几年的老房子，承载了太多美好的回忆，因为拆迁，老张不得不重新购买临近的一套公寓房
- D. 小菲下载了一款电商比价软件，输入商品名就能自动呈现各大商城的价格，小菲买到了全网最低价的一款手机，心里特别开心

62. 数字营销是使用数字传播渠道来推广产品和服务的营销方式。数字营销的方式可以是互联网，也可以是非互联网，主要目的在于以一种及时、相关、定制化和节省成本的方式谋求新市场的开拓和消费者的挖掘。

根据上述定义，下列不符合数字营销的是（ ）。

- A. 为了解产品满意度，通过互联网搜集意见，并基于数据结果优化产品设计
 - B. 某电影公司在多家 3D 影院放映电影之前，投放本公司即将上映的其他类型电影预告片
 - C. 点击某网站后，网站会弹出广告或展示移动的横幅广告，以吸引用户关注商品
 - D. 某知名公司发布新品后，其他品牌商也在电商平台上快速抢占“热搜词条”，借机宣传自身品牌
63. 修饰式暗喻是指本体与喻体之间以修饰与被修饰、限制与被限制的形式来实现比喻关系。

根据上述定义，下列属于修饰式暗喻的是（ ）。

- A. 这是花的海洋
- B. 一只巨大的白丁香把花开在了屋顶灰色的瓦楞上，如雪，如玉，如飞溅的浪花
- C. 那溪水是那么清，溪水映着蓝天、白云，仿佛又是一片天空
- D. 青蛙叫了，就像在开演唱会似的

64. 元宇宙指的是利用科技手段进行链接与创造的，与现实世界映射与交互的虚拟世界，是具备创新型社会体系的数字生活空间。

根据上述定义，下列除哪项外均涉及元宇宙？（ ）

- A. 某大型超市将其真实场景数字化，客户在家中就可以实时观察、选购产品，提交后物流公司会及

时将商品送达客户

B. 某文旅公司和诸多景区合作，游客可以在景区虚拟相融的空间中获得沉浸感，另外人们还可以使用视觉仿真设备在不离开家的情况下“环游”世界

C. 某网游运营企业发行网游虚拟货币，游戏用户使用该货币在游戏中的商店、超市等购买装备，也可以卖掉装备获得网游虚拟货币，甚至可以将虚拟货币存入游戏中的银行获得利息

D. 某机械厂通过虚拟空间模拟运行工厂生产过程，公司经理可以确定和分析如何更高效、更安全地完成工作，而无需对更改直接进行物理测试

65. 强制型顾客参与是指为确保服务或生产的顺利完成或交付，在服务过程中将顾客被动摄入到服务或生产中，并使顾客投入体力、知识、信息、情感或其他资源。

根据上述定义，下列属于强制型顾客参与的是（ ）。

A. 电商提示顾客，填写商品高分评价可获得商家代金券

B. 网购买家要求卖家启动在线售后流程，以便寄回货物完成退换货

C. 热水器安装师傅在安装工作完成后，请求用户对其服务给满分评价

D. 眼镜店工作人员在配镜过程中，要求顾客全力配合以获取各项测试数据

第四部分 言语理解与表达

（共 20 题，参考时限 20 分钟）

本部分主要考查考生对语言文字的理解和驾驭能力。这种能力包括：对词、句子、短文一般意思和特定意义的理解；对比较复杂的概念和观点的准确理解；根据上下文，合理推断句子隐含的内容，准确地辨明句义，筛选信息等等。

请开始答题：

66. 电影是“文化名片”，生动地展示着一个国家的形象；也是“文化底片”，形象地显影着一个国家的_____；更是“文化芯片”，深刻地_____着一个国家的精神密码。电影并不提供解决方案，但却让陌生的心灵相通，成为我们彼此贴近、_____对方的“通行证”。

依次填入划横线部分最恰当的一项是（ ）。

A. 内涵 传递 理解

B. 底蕴 揭示 抵达

C. 神采 撰写 拥抱

D. 气质 建构 接纳

67. 新媒介新技术会让我们的文化生活更好吗？答案是肯定的。通过屏幕，人们能看书、读图、欣赏音乐、观看影像，甚至体验交互。屏幕为各类文化内容_____更便捷的创作条件和更充分的展示空间。例如，在一系列数字化“云展览”中，人们不需踏出屋门，仅凭_____的屏幕便可体验观展，由此引发公众呼吁建设“虚拟公共艺术空间”。

依次填入划横线部分最恰当的一项是（ ）。

A. 创造 一览无余

B. 营造 一步之遥

C. 提供 近在咫尺

D. 提升 触手可及

68. 野生动物是生态平衡中的重要一环，是世界的宝贵财富。肆意猎杀和食用野生动物，相应的痛

苦和磨难早晚会_____到人类自己身上。人与自然相安无事才是至高追求。每一个社会个体都应该对野生动物心存_____，任何一个文明社会都应该坚决禁绝野味市场。_____的教训，不能一次又一次地呈现。

依次填入划横线部分最恰当的一项是（ ）。

- A. 报应 慈悲 饮鸩止渴 B. 回报 畏惧 作茧自缚
C. 转移 敬畏 自食恶果 D. 投射 善意 买椟还珠

69. 珍视英雄就是珍视民族的未来。我们铭记一切英雄、英烈，弘扬他们的精神，秉承他们的_____，捍卫他们的事迹，坚守他们的信仰，一定能把对英雄的仰慕和对崇高的追求_____在民族的基因血脉里，推动民族复兴的航船驶向光辉彼岸。

依次填入划横线部分最恰当的一项是（ ）。

- A. 愿景 篆刻 B. 夙愿 刻印 C. 信念 镌刻 D. 理念 雕刻

70. 气候变化小说不是为了描写世界末日，地球文明终结，而是注重_____读者关注导致气候灾难的深层原因，以揭露、警示的方式强调生态危机的严峻性、紧迫性及全球性。究其根本，气候危机是一场社会危机，关乎人类普遍利益，需要全球秉持人类命运共同体理念_____应对。

依次填入划横线部分最恰当的一项是（ ）。

- A. 引导 沉着 B. 鼓励 积极 C. 启发 合力 D. 提醒 灵活

71. 尽管评职称会让自己名利双收，却依然有一些老师没有对评职称_____。他们朴素地认为，站好三尺讲台、倾心教书育人是教师的本分；即使职称看上去并不光鲜，只要无愧于心就好。

填入划横线部分最恰当的一项是（ ）。

- A. 竭尽全力 B. 殚精竭虑 C. 趋之若鹜 D. 蜂拥而至

72. 经验对于军事工作是一种宝贵财富，但那是一定条件下的产物，而不是_____的“定律”。过于依赖老经验，容易变成“经验主义”，就可能被惯性思维束缚创新创业的手脚。_____的结果，往往是“穿新鞋走老路”，导致新装备发挥不出应有战斗力、新技术得不到充分应用。

依次填入划横线部分最恰当的一项是（ ）。

- A. 四海皆准 闭门造车 B. 经久不衰 生搬硬套
C. 一成不变 因循守旧 D. 行之有效 削足适履

73. ①项目一期将提供约 15 万包蔬菜种子，后期可视民众参与程度增加发放量

②这些蔬菜既是广大民众爱吃的常见品种，同时也具有种植方便、生长迅速的特点

③新加坡国家公园局启动“食用园艺计划”，鼓励民众在家种菜，并将为感兴趣的民众免费提供蔬菜种子

④为帮助没有经验的人种好菜，政府还将提供网络培训材料，让菜鸟迅速成长为种菜高手

⑤可选的种子包括小白菜、芥蓝、黄瓜、西红柿等

⑥新冠肺炎疫情期间，许多人长期待在家里，采购遇到困难，因此民众对在家种菜的兴趣明显提升

将以上 6 个句子重新排列，语序正确的一项是（ ）。

- A. ③⑥①⑤②④ B. ⑥③①⑤②④ C. ③①⑤②⑥④ D. ⑥③⑤①②④

74. 语言的发展、维持或衰落从来不是一个纯粹的语言学问题，而是复杂的社会、政治和经济力量

相互博弈的结果。当前，学界主要从社会学、政治学以及经济学等视角探讨方言保护问题，而有关方言的法律保护尤其是行政法保护的研究尚不多见。因此，建立和完善我国方言保护的行政法机制，协调普通话与方言的冲突，从而在语言的通用性、规范性与多样性之间寻求均衡保护，具有重要的理论与应用价值。

这段文字之后最有可能讨论的是（ ）。

- A. 方言保护具有的理论与实践价值
- B. 语言规范化和多样化平衡的方法
- C. 普通话与方言的冲突并非不可调和
- D. 如何通过行政立法对方言进行保护

75. 随着考研人数的增多，考研目的也多种多样，不少学生为了“逃避”进入社会而读研。对此，有人忧心忡忡：大学生为逃避而读研，这样的研究生学习是否有价值？进入社会是迟早的事，总想着以逃避解决问题，读了硕士是不是还要读博士，那么读完博士以后岂非逃无可逃？其实，考研只是一条影响人生走向的道路。处在人生的三岔路口，逃避也好，积极应对也罢，都是面对时代洪流作出的选择。每个人都会有生活迷茫的时候，也会有对个人角色产生不适应的时候，调整自己的适应期，有助于作出更明智的决定。

最适合做这段文字标题的是（ ）。

- A. “逃避式考研”，可耻吗
- B. 逃避式考研？没你想象的那么严重
- C. 逃避式考研，能逃到什么时候
- D. “逃避式考研”这一说法合理吗

76. 蓝天白云、繁星闪烁渐成常态，我国仅用7年左右时间走过了发达国家十几年甚至30年的空气治理进程。2013年至2020年，我国首批实施新空气质量的74个城市PM2.5浓度下降48.6%，优良天数比率上升17.9个百分点，重污染天数下降八成以上。但在看到生态环境持续改善的同时，一定要清醒地认识到，我国生态环境保护所面临的严峻形势和艰巨的任务。生态环境质量的改善，还是在一个低水平上的提升，从量变到质变的拐点还没有到来，空气质量总体上仍未摆脱“气象影响型”。这样一个改善程度，离老百姓对美好生活的期盼、离建设美丽中国的目标还有很大的差距。

根据这段文字，下列说法错误的是（ ）。

- A. 我国空气治理进程比发达国家快
- B. 我国部分城市PM2.5浓度下降显著
- C. 发达国家空气治理过程漫长效率低下
- D. 我国现阶段生态环境质量尚无本质提升

77. 如果从1899年殷墟出土算起，甲骨文被发现已达120年。但对于跻身“中国近代史料的四大发现”的甲骨文，人们的了解还远远不够。先不说断片缀合、断代研究、社会历史研究等领域，单从认字量来看，目前整理出来的甲骨文单字中被释读、能与现在使用汉字相对应的不到1500字。甲骨文中，“日”“月”“山”能一眼看出，一把斧钺就是“王”，头上有角的大眼动物是“鹿”，鹿在土上走过变成“尘”……但甲骨文并非字字都能“看图说话”，而是包含《说文解字》中提到的会意、转注、假借等多种造字方法。中国文字博物馆破译一字，“悬赏”十万的征集，足见研究机构的重视，也从另一面窥出破译难度之高。

这段文字主要说明（ ）。

- A. 甲骨文中仅有少部分单字能与现在的汉字对应

- B. 综合运用多种造字方法的甲骨文破译难度极大
- C. 对甲骨文的研究和破译需要研究机构引起重视
- D. 成功破解甲骨文对社会历史研究具有重大意义

78. 可见光通信是战略新兴产业，可以实现用光上网，用光来做无线技术和有线技术能做的所有事情。加速发展可见光通信是有效解决智慧家庭网络建设问题的较好办法。基于可见光频率资源的通讯是新型智慧家庭网络的核心技术，这一技术有着宽带高速、泛在覆盖、绿色节能、精准定位的显著特点。近年，我国科研人员历经多年研究，推出的全球首款商品级可见光通信芯片组，扭转了可见光通信产业和应用市场长期徘徊不前的局面，突破了“最后 10 米”短距离超宽带无线光互联技术瓶颈，开创了以虚拟现实为基础功能的智慧家庭新型服务。

这段文字意在强调（ ）。

- A. 可见光通信技术是新型智慧家庭网络的核心技术
- B. 可见光通信芯片组的推出开创了智慧家庭的新型服务
- C. 构建开放共享的智慧家庭网络生态圈势在必行
- D. 可见光通信技术有望使智慧家庭网络更加智慧

79. 当我们花钱购买服务、享受服务的时候，这是市场契约下的公平交易。但在服务与被服务的过程中，每个人面对的都是和自己一样有血有肉、有喜怒哀乐的鲜活个体。市场并非是一个不存在温情的地方。按照亚当·斯密的观点，市场的本来含义，就是以己所长、补他人所短的互助体系。一个良性有序的市场，建立在买卖双方的理解之上，也会因这份共情与包容，为创造美好生活发挥更大作用。

这段话意在说明（ ）。

- A. 花钱购买与享受服务在市场中天经地义
- B. 市场应有温情，同时温情促进市场
- C. 市场是以己所长补他人之短的互助体系
- D. 市场是一个契约与温情并存的地方

80. _____。作为汉字这一文化载体的“载体”，媒体是汉字使用的“风向标”，是规范汉字使用的引领者、践行者和推动者。我国国家通用语言文字法明确规定，广播、电影、电视、公共场所的设施、招牌、广告等的用字应当以规范汉字为基本用字。媒体要严格遵从国家通用语言文字的法律法规和相关要求，建立、健全字体准入机制和使用机制，处理好创新与守正的关系，研发、制作或采用基于公共大众化应用平台的标准字库字体，让数字化字体既具有创新性、独特性，又具有规范性、标准性；同时要坚决抵制刻意追求标新立异、有悖规范汉字形体、缺乏美感的手写字体无监管、无门槛、无原则地进入媒体领域，破坏汉字应用生态。

填入划横线部分最恰当的一项是（ ）。

- A. 汉字规范发展，离不开媒体监督
- B. 网络信息技术助推汉字有序发展
- C. 使用规范汉字，媒体要“作则”
- D. 媒体为汉字发展插上了“翅膀”

81. 未成年人网络保护与未成年人保护一样，都需要社会、学校、家庭形成合力，才能破解未成年人网络安全的难题。其中，互联网企业要首先承担起社会责任，我们知道，用户数量对很多互联网公司来说就是生命，庞大的未成年人用户群体是这些公司主要的争夺对象，如果互联网公司不能承担起保护

未成年人的社会责任，那么未成年人的网络安全就无从谈起。未成年人网络保护立法就是要以法律责任倒逼企业履行社会责任，对互联网产品实行分级制、实名制，确保互联网公司安全健康的产品赢得用户信赖。

这段文字意在强调（ ）。

- A. 未成年人网络安全难题最终还需靠法律来解决
- B. 未成年人网络保护立法工作亟需互联网企业支持
- C. 互联网企业的行业自律是未成年人网络保护的前提
- D. 必须让互联网企业履行保护未成年人网络安全的责任

82. 为了成为最好的自己，最重要的是要发挥自己所有的潜力，追逐最感兴趣和最有激情的事情。当你某个领域感兴趣时，你会在走路、上课或洗澡时都对它念念不忘，你在该领域内就更容易取得成功。更进一步，如果你对该领域有激情，你就可能为它废寝忘食，连睡觉时想起一个主意，都会跳起来。这时候，你已经不是为了成功而工作，而是为了“享受”而工作了。毫无疑问，你将会因此得到成功。

《论语》中有一句话与这段文字阐述的观点相近，这句话是什么？（ ）

- A. 博学而笃志，切问而近思，仁在其中矣
- B. 知之者不如好之者，好之者不如乐之者
- C. 学而时习之，不亦说乎
- D. 三人行，必有我师焉，择其善者而从之，其不善者而改之

83. 乡村医生是医疗卫生人才队伍的一部分，应给予他们更完善的职业规划，让其工作更有奔头，岗位更有吸引力。《乡村振兴促进法》规定：“支持县乡村医疗卫生人员参加培训、进修，建立县乡村上下贯通的职业发展机制。”随着医改的深化，县乡村卫生“一体化”正在形成，乡村医生“乡聘村用”越来越常见。乡村医生是县、乡、村三级医疗卫生队伍的一部分。建立上下贯通的职业发展机制，才能有更多突破职业“瓶颈”的机会。同时，应进一步完善乡村医生培训机制，让乡村医生能定期参加高水平的培训和进修，提升临床能力和业务水平，从而更好地满足基层医疗卫生需求。

这段文字意在说明（ ）。

- A. 乡村医生是满足乡村基层医疗卫生需求的中坚力量
- B. 加强乡村医生队伍建设需完善乡村医生的职业发展机制
- C. 乡村医生应积极提升自身业务能力以满足基层医疗需求
- D. 强化基层医疗制度保障有利于激发乡村医生的积极性

84. 近年，随着手机的出现，戴手表的人越来越少。如今，手表卷土重来，不过，身份和功能早已今非昔比。大约四分之一的人戴手表并非用来看时间，而是让它成为展现时尚的配饰；富人更是把手表当作身份和地位的象征。此外，传统手表也面临着智能手表的挑战。花样繁多、能与智能手机相连的智能手表正成为时尚手表市场的大杀器，因为它能供人娱乐、社交、消费。为了在这个新兴市场分一杯羹，古奇、豪雅、万宝龙、Guess、Diesel 等时尚大牌纷纷与科技公司合作，推出自己品牌的智能手表。

根据这段文字，下列说法正确的是（ ）。

- A. 戴手表的人更重视手表的修饰功能
- B. 传统手表不能被当作身份和地位的象征

- C. 智能手表将有望取代传统手表占领市场
- D. 各大时尚品牌为迎合市场需求推出智能手表

85. 生态环境治理是一项复杂的系统工程，不能头痛医头，脚痛医脚，必须牢固树立山水林田湖草是一个生命共同体的理念，加强综合治理、系统治理、源头治理。党的十八大以来，以习近平同志为核心的党中央把生态文明建设放在突出位置，推动生态环境保护发生历史性、转折性、全局性变化，我国生态文明建设取得重大成就。但也要看到，生态文明建设仍然处于压力叠加、负重前行的关键期，更加需要强调综合治理理念、采取综合治理措施。

这段文字意在说明（ ）。

- A. 我国生态文明建设取得重大成就
- B. 生态文明建设必须转变思想观念
- C. 我国的生态文明建设任重道远
- D. 生态文明建设重在综合治理

第五部分 资料分析

(共 15 题，参考时限 15 分钟)

所给出的图、表或一段文字均有 5 个问题要你回答。你应根据资料提供的信息进行分析、比较、计算和判断处理。

请开始答题：

一、根据下列资料，回答 86~90 题。

图 1 2015~2020 年我国化学矿进口情况统计图



图2 2015~2020年我国化学矿出口情况统计图



86. 2020年我国化学矿每吨的进口价比上年约下降了多少美元? ()
- A. 36.3 B. 33.5 C. 28.3 D. 26.5
87. “十三五”时期,我国化学矿出口量在以下哪个范围内? ()
- A. 低于1900万吨 B. 1900~2300万吨
- C. 2300~2700万吨 D. 超过2700万吨
88. 2015~2020年,我国化学矿进口单价最高的年份与出口单价最高的年份相差多少年? ()
- A. 0 B. 1 C. 3 D. 4
89. 2017年我国化学矿进口金额同比增速比当年化学矿出口金额同比增速低多少个百分点? ()
- A. 12.2 B. 14.3 C. 15.6 D. 16.7
90. 根据上述资料,下列说法错误的是 ()。
- A. 2015~2020年,我国化学矿均表现为贸易逆差
- B. 2015~2020年,我国化学矿进口金额与出口金额表现出相同的增长趋势
- C. 2015~2020年,我国化学矿出口量最多的年份也是进口量最多的年份
- D. 2015~2020年,我国化学矿出口金额最多的年份的出口金额约为最低年份的1.8倍

二、根据下列资料,回答91~95题。

2020年8月份社会消费品零售总额主要数据

指 标	8月		1~8月	
	绝对量 (亿元)	同比增长 (%)	绝对量 (亿元)	同比增长 (%)
社会消费品零售总额	33571	0.5	238029	-8.6
其中:除汽车以外的消费品零售额	30158	-0.6	215139	-8.6
其中:限额以上单位消费品零售额	12136	4.4	85317	-7.0
其中:实物商品网上零售额	-	-	58651	15.8
按经营地分				
城镇	29273	0.5	206643	-8.7
乡村	4298	0.7	31386	-8.3
按消费类型分				

餐饮收入	3619	-7.0	21510	-26.6
其中：限额以上单位餐饮收入	796	-3.5	4628	-23.8
商品零售	29951	1.5	216519	-6.3
其中：限额以上单位餐饮收入	11340	5.1	80689	-5.8
粮油、食品类	1181	4.2	9734	11.0
饮料类	199	12.9	1410	10.9
烟酒类	306	3.1	2304	-1.3
服装鞋帽、针纺织品类	967	4.2	6936	-15.0
化妆品类	284	19.0	1996	3.2
金银珠宝类	235	15.3	1389	-15.6
日用品类	574	11.4	3982	6.3
家用电器和音像器材类	716	4.3	5131	-9.0
中西药品类	428	6.2	3359	5.8
文化办公用品类	291	9.4	2062	2.5
家具类	139	-4.2	929	-11.4
通讯器材类	482	25.1	3296	8.9
石油及制品类	1481	-14.5	10702	-17.3
汽车类	3413	11.8	22890	-8.8
建筑及装潢材料类	152	-2.9	1005	-8.7

注：1. 此表速度均为未扣除价格因素的名义增速；

2. 此表中部分数据因四舍五入，存在总计与分项合计不等的情况。

91. 2019年8月份，社会消费品零售总额绝对量约为多少亿元？（ ）
- A. 33404 B. 33500 C. 33598 D. 33734
92. 2019年8月份，城镇社会消费品零售总额绝对量约为乡村社会消费品零售总额绝对量的（ ）。
- A. 5倍 B. 6倍 C. 7倍 D. 8倍
93. 2019年1~8月份，商品零售总额绝对量比餐饮收入总额绝对量约多（ ）亿元。
- A. 165257 B. 174383 C. 186696 D. 201772
94. 2020年1~8月份，实物商品网上零售额绝对量比去年同期约增长多少亿元？（ ）
- A. 6254.3 B. 8002.5 C. 8523.1 D. 9215.3
95. 根据上述资料，下列说法错误的是（ ）。
- A. 2019年8月份，化妆品类零售总额绝对量为238.7亿元
- B. 2019年8月份，商品零售中同比增长率最高的为通讯器材类
- C. 2019年1~8月份，汽车类零售总额绝对量约为日用品类零售总额绝对量的6.7倍
- D. 2020年1~8月份，金银珠宝类零售总额绝对量比去年同期减少约257亿元

三、根据下列资料，回答96~100题。

2018年我国农民工总量为28836万人，比上年增加184万人，增长0.6%。在农民工总量中，在乡内就地就近就业的本地农民工11570万人，比上年增加103万人；到乡外就业的外出农民工17266万人，比上年增加81万人。在外出农民工中，进城农民工13506万人，比上年减少204万人，下降1.5%。

