

展鸿事业单位招聘笔试试卷

《职业能力倾向测验》模拟卷

第一部分 常识判断

(共 20 题, 参考时限 15 分钟)

根据题目要求, 请在四个选项中选出最恰当的答案。

请开始答题:

1. 2021 年 5 月 3 日, 人民日报发表《习近平与青年的故事》记述, 习近平总书记深知青年的渴望, 格外关心青年的成长, 习近平总书记给出“()”的要求, 成为当代青年修身立德的八字箴言。

- A. 勤学、修德、明辨、笃实
B. 超然、淡然、泰然、善然
C. 格物、致知、诚意、正心
D. 明德、修身、亲民、至善

2. 2021 年 3 月 25 日, 国务院印发《国务院关于落实〈政府工作报告〉重点工作分工的意见》, 下列有关说法错误的是()。

- A. 落实 2021 年经济社会发展, 要以满足人民日益增长的美好生活需要为根本目的
B. 发展疾病防治攻关等民生科技由科技部、国家发展改革委、国家卫生健康委牵头
C. 2021 年赤字率拟按 3.2%左右安排, 比去年有所下调, 继续发行抗疫特别国债
D. 完善和落实安全生产责任制, 深入开展安全生产专项整治三年行动

3. 2021 年 2 月 25 日, 全国脱贫攻坚总结表彰大会在北京人民大会堂隆重举行。中共中央总书记、国家主席、中央军委主席习近平为获得“脱贫攻坚楷模”荣誉称号的人颁发了奖章。下列“脱贫攻坚楷模”与其主要事迹对应正确的是()。

- ①张桂梅——献身教育扶贫、点燃大山女孩希望
②赵亚夫——40 年坚守科技兴农, 发展高效农业
③黄文秀——带领大家种植黄桃 8 万多亩, 走上脱贫致富路
④毛相林——历时 7 年, 带领乡亲们在绝壁上凿出一条通向外界的道路

- A. ①②③
B. ①②④
C. ①③④
D. ②③④

4. 在全党开展党史学习教育, 是党中央立足党的百年历史新起点、统筹中华民族伟大复兴战略全局和世界百年未有之大变局、为动员全党全国满怀信心投身全面建设社会主义现代化国家而作出的重大决策。关于这一重大决策的目的, 下列表述准确的是()。

- ①用党的奋斗历程和伟大成就鼓舞斗志、明确方向
②用党的光荣传统和优良作风坚定信念、凝聚力量
③用党的实践创造和历史经验启迪智慧、砥砺品格
④用党的红色基因和革命理论培元固本、守正创新

- A. ①②③
B. ①②④
C. ①③④
D. ②③④

5. 下列选项中，不属于我国改革开放以后取得的新成就是（ ）。
- A. 原子弹爆炸成功，提高了我国的国际地位和国际威信
B. 经济上的腾飞，基本解决了脱贫致富问题
C. 具有世界先进水平的高速铁路，形成比较完善的高铁技术体系
D. “神舟”系列宇宙飞船的成功发射，使中国成为第三个能将人类送上太空的国家
6. 下列行为中，并未违反《中华人民共和国劳动法》的是（ ）。
- A. 十四岁的小芳在一家书店工作试用期满后，已转为正式员工
B. 小彭与一家饲料公司签订了一份试用期为一年的劳动合同
C. 小泓欲 10 月底从公司离职，她已于 9 月中旬提交离职申请
D. 小杰所在的科技公司正处于上市的关键时期，该公司强制要求员工每天都必须到公司工作且加班
7. 小张利用财务工作之便，贪污了单位现金 3 万元，单位并未发现，小张在法律威慑下，主动向单位交回全部赃款，小张的行为构成（ ）。
- A. 犯罪预备 B. 犯罪中止 C. 犯罪未遂 D. 犯罪既遂
8. 当内需严重不足，社会总供给大于社会总需求时，用以下哪个措施可以促使总供给与总需求趋于平衡？（ ）
- A. 提高利率和缩减财政支出 B. 降低利率和扩大财政支出
C. 增加税收和减少投资需求 D. 提高存款准备金率和取消相关财政补贴
9. 下列说法不正确的是（ ）。
- A. 雷达是一种利用电磁波探测目标的电子设备
B. 患者需要服用药片时不宜用牛奶送服
C. “酒香不怕巷子深”反映了带有酒香的气体分子的扩散
D. 漂白粉和洁厕精混合在一起，去污力更强
10. 楚汉相争在我国历史文化中留下了深深的印迹。下列表述不正确的是（ ）。
- A. 象棋中的“楚河汉界”源自于这段历史
B. 成语“破釜沉舟”源于楚汉相争中的一场战役
C. 琵琶曲《十面埋伏》反映了楚汉垓下决战情形
D. 诗句“生当作人杰，死亦为鬼雄”以此为题材
11. 关于古汉语中的词汇，下列解释错误的是（ ）。
- A. 左迁——升职 B. 于归——女子出嫁
C. 乞骸骨——请求退休 D. 弥月——婴儿满月
12. “一三四五六七，万木生芽是今日。远天归雁拂云飞，近水游鱼迸冰出。”这一首诗描述的是哪一节气？（ ）
- A. 立春 B. 惊蛰 C. 谷雨 D. 清明
13. 台风是影响浙江省的主要灾害性天气之一，按照台风的风力大小、影响范围将台风预警级别分为四级，由低至高依次是（ ）。
- A. 蓝色、黄色、橙色和红色 B. 红色、橙色、黄色和蓝色

- C. 蓝色、橙色、黄色和红色 D. 黄色、橙色、红色和蓝色

14. 植物的六大器官，根、茎、叶、花、果实和种子都可以成为人类的食物，但不同植物被取食的器官各有不同。下列植物与被取食的器官对应关系，错误的是（ ）。

- A. 萝卜——根 B. 白菜——叶
C. 竹笋——茎 D. 西兰花——果实

15. 下列选项中的事件可能发生的是（ ）。

- A. 番茄蛋汤是唐朝百姓餐后的常见汤品
B. “穷丹青之妙”的吴道子临摹《清明上河图》
C. 苦瓜不但可以食用，还能入药，被收入《本草纲目》中
D. 左思作《三都赋》惊艳时人，争相用活字印刷术传印，导致洛阳纸贵

16. 下列关于京杭大运河的说法错误的是（ ）。

- A. 京杭大运河开掘于春秋时期，完成于隋朝，繁荣于唐宋
B. 京杭大运河贯通了海河、黄河、淮河、长江、钱塘江五大水系
C. 京杭大运河的流向、水源和排蓄条件在各段均不相同
D. 京杭大运河是中国仅次于长江、黄河的第三条“黄金水道”

17. 下列选项中，导弹与其发明研制国家搭配错误的是（ ）。

- A. “东风”系列导弹——中国 B. “飞鱼”反舰导弹——法国
C. “爱国者”导弹——俄罗斯 D. “烈火-5”导弹——印度

18. 下列关于天文知识的说法正确的是（ ）。

- A. 发现行星运动定律的是意大利天文学家伽利略
B. 黑洞是由质量足够大的行星在核聚变反应的燃料耗尽“死亡”后产生的
C. 人们平常看见的明亮耀眼的太阳盘面是太阳大气层的光球层
D. 1957 年美国在全球首次成功发射了人造地球卫星

19. 下列关于我国科技之父对应正确的是（ ）。

- A. 中国核潜艇之父——黄旭华 B. 中国航天之父——杨利伟
C. 中国氢弹之父——钱学森 D. 中国天眼之父——孙家栋

20. 下列与疫苗有关的说法正确的是（ ）。

- A. 疫苗通过三角肌注射才能产生作用 B. 免疫力弱的人不能接种疫苗
C. 疫苗的接种者必须是健康个体 D. 卡介疫苗是典型的活疫苗

第二部分 言语理解与表达

（共 30 题，参考时限 25 分钟）

本部分包括表达与理解两方面的内容。请根据题目要求，在四个选项中选出一个最恰当的答案。

请开始答题：

21. 一些地方加入“古代名人故里争夺战”，想延续文脉、塑造文化的举动可以理解，但很多古人

就算真的出生在某地，随着岁月_____，恐怕也早已没有半点遗迹。

填入划横线部分最恰当的一项是（ ）。

- A. 没落 B. 消亡 C. 消失 D. 流逝

22. 近年来，一系列失“礼”少“德”的行为和现象，不时_____着人们对于国民素质的认知。作为古文明发祥地的中国，“礼”的基因世代相承。日本“遣唐使”的脚步、丝绸之路的驼铃、郑和宝船的风帆……_____了中华礼仪流淌和播散的轨迹。

依次填入划横线部分最恰当的一项是（ ）。

- A. 刷新 延伸 B. 冲击 刻录 C. 改变 孕育 D. 变更 留存

23. 人生的“拔节孕穗期”，在青春岁月_____，才能在人生旅程厚积薄发。广大青年只有将远大理想厚植于生活，在_____的征程中锤炼出顽强拼搏的意志，脚踏实地干事创业，才能以青春之力助推伟大梦想，让伟大事业在青年的接续奋斗中_____。

依次填入划横线部分最恰当的一项是（ ）。

- A. 博观约取 跋山涉水 薪火相传 B. 博学多闻 负重涉远 一脉相承
C. 博闻强识 爬山越岭 继往开来 D. 博闻辩言 逾山越海 发扬光大

24. “诗意栖居”的境界离不开哲学思辨，它是_____人居理想和城市精神的统帅。“桃花源”模式之所以被长期追捧，主要原因是它_____着老庄哲学所谓“逍遥自在”“物我两忘”“追求宁静”的思想。

依次填入划横线处最恰当的一项是（ ）。

- A. 引导 浸润 B. 引领 浸透 C. 统领 浸染 D. 指引 渗透

25. “欲事立，须是心立”。为中国人民谋幸福，为中华民族谋复兴，是中国共产党人的初心和使命，是激励一代代中国共产党人_____、英勇奋斗的根本动力。正是因为我们党初心不改、_____，才能团结带领人民攻坚克难，创造出彪炳史册的业绩。

依次填入划横线部分最恰当的一项是（ ）。

- A. 锲而不舍 砥砺前行 B. 前赴后继 矢志不渝
C. 百折不挠 恪尽职守 D. 齐头并进 斗志昂扬

26. 我国古代的战国时期，集权国家形成，开始以编户的方式管理民间。原来属于氏族群体的民间宗教，或在氏族解体过程中趋向于_____，或因集权国家组织秩序的打压而_____。

依次填入划横线处最恰当的一项是（ ）。

- A. 卑微 沉寂 B. 些微 沉落 C. 式微 沉沦 D. 衰微 沉滞

27. 影片直白却备受关注，正是复杂而纠结的现实给了电影巨大创作_____，看电影不需要多长时间，改变现实却要全国每个人用无法丈量的长时间来实现。

填入划横线部分最恰当的一项是（ ）。

- A. 题材 B. 素材 C. 灵感 D. 空间

28. 中国特色社会主义制度和国家治理体系诞生并形成于中国共产党团结带领人民实现从站起来、富起来到强起来的伟大飞跃中；它_____并完善于马克思主义基本原理同中国具体实际相结合的实践中；它深深_____于960万平方公里的广袤土地中，_____着中华民族漫长奋斗积累的文化养分，

_____了近十四亿中国人民聚合的智慧力量。

依次填入划横线部分最恰当的是（ ）。

- A. 奠基 依附 吸取 凝结
B. 奠基 立根 汲取 汇集
C. 发展 扎根 吮吸 凝聚
D. 发展 植根 吮吸 集结

29. 学术、科技评价体系事关改革创新大局、国家兴衰，虽前路漫漫，_____，但只要我们立足中国国情，尊重科技和人才发展规律，勇于_____，自我变革，必然能够走出一条中国特色评价体系的康庄大道。

依次填入划横线部分最恰当的一项是（ ）。

- A. 任重道远 破旧立新
B. 艰难险阻 突破重围
C. 筚路蓝缕 摧枯拉朽
D. 云遮雾罩 不断进取

30. 中国的古代雕刻，向来深受人们的喜爱，有一种_____的艺术生命力，永远闪烁着_____的光彩，其缘由、因素与造诣固然是多方面的，但最根本的一条，是它来自于生活，牢固地扎根在生活的雄厚基础上，直接同人民的生活、感情紧紧地交融在一起，是真正从生活的肥沃土壤中萌长起来的艺术。

依次填入上述文段空缺处最恰当的一项是（ ）。

- A. 历久弥新 蓬勃生机
B. 生机蓬勃 光辉灿烂
C. 经久不衰 瑰丽夺目
D. 活力四射 璀璨多姿

31. 城市“抢人大战”是中国劳动力市场的新现象，催生了_____的人才吸引政策，各城市人才政策的实施效果_____，对此议题学界从不同视角展开了探讨。

依次填入划横线处最恰当的一项是（ ）。

- A. 五花八门 参差不齐
B. 不计其数 大相径庭
C. 不胜枚举 天壤之别
D. 层出不穷 各有千秋

32. 文明不仅是我们追求美好生活的高度，更是我们_____自身行为规范的尺度。素质的养成无法一蹴而就，也不可能_____，需要“化”、更要管，如果说传统美德是社会文明的“根”和“魂”。那么法治和规则就是它的“骨架”，二者缺一不可，_____。

依次填入划横线部分最恰当的一项是（ ）。

- A. 丈量 一劳永逸 相辅相成
B. 衡量 一笔勾销 珠联璧合
C. 测量 一了百了 相得益彰
D. 估量 一步登天 息息相关

33. “创新乡贤文化”确实有助于以乡情乡愁为纽带，吸引和凝聚各方人士支持家乡建设。此乃_____乡村现代化难题的有益尝试，这一点显然是_____的。

依次填入划横线处最恰当的一项是（ ）。

- A. 针对 显而易见
B. 缓解 举足轻重
C. 应对 弥足珍贵
D. 破解 毋庸置疑

34. 多年来，传统医学界孜孜不倦，却仍难跻身国际主流医学。将传统医学纳入《国际疾病分类》，标志着以世卫组织为代表的整个国际公共卫生系统对包括中医药以及来源于中医药的这部分传统医学价值的认可，同时也是对中医药在中国、在国际上应用越来越多这一现实的认可。尽管纳入《国际疾病分类》并不代表传统医学国际化将一片坦途，但这好比打通“任督二脉”，不仅有里程碑式意义，还有

进一步推动传统医学国际化的现实重要性。

这段文字意在说明（ ）。

- A. 传统医学在国际主流医学中处于尴尬地位
- B. 传统医学界应致力于将传统医学继续推向国际
- C. 传统医学被纳入《国际疾病分类》具有现实价值和重大意义
- D. 在国际上，部分传统医学价值正得到越来越多的认可

35. 此刻，我们经历的时光，将来都会变成从前。时光如落花，盛开时我们忽略它的美，反而在它凋落之时嗅到它的余香。不只是爱情，所有的事，都是如此。我们拥有的时候，往往是漠然的，等到一切成为从前，才恍然觉得珍惜。

对这段文字概括最恰当的是（ ）。

- A. 旧事物，总是被诗化
- B. 因为失去，所以珍惜
- C. 偏是人间留不住，只恨当时作寻常
- D. 逝水流年，拥有不如怀念

36. 年轻干部要摒弃守株待兔的“等闲”心态，争做一马当先的“接班人”。一些优秀年轻干部坐等提拔，关键还是在于责任感的缺失，缺乏担当。本应挥斥方遒，年少有为时却甘愿平凡，碌碌无为，进了后备干部名单，奉行少做事、多栽花，以“太平官”谋求“盛仕”，实际上是搬起石头砸自己的脚。提高年轻干部责任心要去掉“特殊群体”标签，摆正干部心态，明确年轻是奋斗担当的资本，要以时不我待只争朝夕的使命感担当向前奔跑，接力传递好党和国家的事业火炬。

这段文字意在强调（ ）。

- A. 年轻干部应提高对工作的责任心
- B. 各地提拔年轻干部时应慎重考虑
- C. 年轻干部应摆正心态虚心向前辈求教
- D. 年轻干部应敢于担当，勇于奋斗

37. 对于青少年科普教育，《科学故事会》执行主编提出，青少年科普杂志一方面要为学生服务，另一方面也要鼓励学生创作，引导他们的科学价值观。这就要求科普期刊想清楚该如何打通老师，从而带动青少年主动创作、积极投稿参与。同时，她表示现在青少年科技水平和阅读水平其实都很高，他们其实很容易理解刊物的内容。因此期刊不需要再简化内容，而要思考多方面的传播：“一次多元化创作、多平台来做，线上线下同时开展各种活动，把内容真正推向受众。”

这段文字意在说明（ ）。

- A. 青少年科普期刊应鼓励学生创作并进行多元化传播
- B. 科普杂志的内容应符合青少年的科技水平和阅读水平
- C. 青少年科普教育应注重对学生的服务以及鼓励学生创作
- D. 《科学故事会》对于青少年科普杂志有着精准定位

38. 有人说，诗词大会找到了中华传统文化的正确打开方式；也有人说，它更多只是一场表演，并不能改变优秀传统文化传承式微的现实。而更需要关注的是，在节目播出后，各种古诗词培训班又扎堆涌现，不少家长大有要将自己的孩子培养成下一个武亦姝和陈更的架势。对此，专家们虽有欣喜，但更多的是担忧。

根据这段文字，下列哪项最有可能是专家们的看法？（ ）

- A. 从兴趣入手，以志向的培养为重点，以健全的人格培养为目标

- B. 学古诗重在陶冶性情，绝不能跟风，盲目增加孩子负担
- C. 功利的目标不利于学生对于古诗文的学习与认知
- D. 享受古诗文带给心灵的陶冶和感悟，才是“正确打开方式”

39. 《文心雕龙》有言，“情者文之经，辞者理之纬；经正而后纬成，理定而后辞畅”。这是行文的典范，又何尝不是语言的真义？话语真情充沛、逻辑严谨，自然能生发出直抵人心的力量。穆青采访焦裕禄事迹时情动于中，挥洒热泪，多年后，其采访日记上仍依稀可见斑斑泪痕。有了真情的贯注，那么语言和作品就都有了永不枯竭的活力，可以抵御时光而历久弥新。

下列说法与文意不符的是（ ）。

- A. 言之成理是言辞畅达的基础
- B. 情理兼具是遣词造句的要点
- C. 语言的真义在于历久弥新
- D. 语言的力量贵在贯注真情

40. 作为发布广告的企业，在遭遇舆论危机时，急于洗清的心理是可以理解的。但最好的危机公关不是诿过于人，更不是鸵鸟政策，相反，积极的心理疏导和必要的改正措施才是正途。我们不奢望每个企业都卓越，但至少它应该是一个合格的企业才对，而合格的企业不能缺少社会责任感。

从上文的内容推断文中的“鸵鸟政策”应该是指（ ）。

- A. 急于洗清自己过错的政策
- B. 不敢正视现实的政策
- C. 把过错推诿给别人的政策
- D. 听之任之的放任政策

41. 随着年底交付季的到来，不少楼盘被发现严重的质量问题。一些精装修楼盘的隐蔽工程做得很糟糕，水管、电线、开槽，布线很不规范，十分凌乱。令人意外的是，这些问题是业主自己发现的！据媒体报道，相关业主为了维权，与开发商斗智斗勇，用记者的话说，“文能做PPT、开公众号，武能翻墙探工地。”一些业主为了搞懂建筑问题，自学成才，成了行家里手，让开发商都服气。读了相关报道，冒出一串问号：建设项目不是有监理单位的吗？相关工地的监理工程师在干什么？政府部门不是设有各级工程质量监督站吗？这些监督站如果尽到责任了，哪会有那么多的工程质量问题？

最适合作为本段文字标题的是（ ）。

- A. 业主为什么从购房者转变为维权者
- B. 业主与开发商斗智斗勇，监管部门哪去了
- C. 维权业主“自学成才”
- D. 降标减配成风，业主买房即维权

42. 古代有关三国的小说都蕴含了分合循环的历史宿命思想，民间流传的《三国志平话》，原来构想了一个历史寓言：由于西汉初年高祖刘邦残杀功臣，所以功臣们托生成为三国诸侯，最终颠覆了汉王朝。这种不切实际的前世因缘，蕴含着冤冤相报、道德报应的历史宿命，表现的是民间的善恶观念和因果观念。而《三国志演义》却用黄巾起义、三国归晋这种确凿的历史变迁，取代了《三国志平话》的历史寓言。

作者接下来最有可能讲述的是（ ）。

- A. 《三国志演义》如何用不同的方式展现分合循环的历史宿命思想
- B. 对比《三国志演义》和《三国志平话》表现方式的不同
- C. 《三国志演义》和《三国志平话》的历史渊源
- D. 《三国志演义》对后世的影响

43. ①显而易见，一个专业人士在一年之内进行多次重复实验

②但欧洲在改良并且推广印刷术之后，开始建立科学实验的制度，偶然的作用开始让位于必然

③有经济学家认为，古代中国和技术上一直领先，是因为古代中国人口规模庞大，偶然性的发明远远多于人口稀少的欧洲

④所获得的知识和发现，肯定要比一个工匠一辈子因为偶然和随机所获得的发现和成果多

⑤在印刷术发明之前，人类社会科技的进步主要靠大众在生产实践中的偶然发现

⑥无论在东方社会，还是西方社会，情况都是相似的

将以上 6 个句子重新排列，语序正确的是（ ）。

- A. ⑤⑥③②①④ B. ③⑥⑤②①④ C. ⑤⑥②①④③ D. ③⑤⑥①④②

44. ①许多拥有多个公众号的运营团队通过互相导流、多级跳转的方式，将夸张、惊悚标题文章

流量，吸引到自己的小说站，通过阅读充值方式实现流量变现

②为解决“标题党”乱象，早在 2017 年，国家网信办发布了《互联网新闻信息标题规范管理规定

（暂行）》，并联合相关部门多次进行整治

③显然，其背后隐藏着巨大的商业利益

④但朋友圈里的“标题党”乱象屡禁不止

⑤最近就有媒体作了详细调查：“标题党”文章只是吸引粉丝的手段，公众号吸引流量，为的是变现

将以上 5 个句子重新排列，语序正确的是（ ）。

- A. ②①④⑤③ B. ②④③⑤① C. ③④⑤②① D. ③⑤①②④

45. 正如有人所描述的，网络技术并不像我们希望的那么好，它经常会呈现出“青春期特有的狂野

特质”。除了职业道德的自我约束，如果没有法规政策的保驾护航，大数据时代的商业公司就容易迷失

方向，依靠信息高度垄断的优势，沦为一些利益集团的附庸。

文段中划横线处“青春期特有的狂野特质”指的是（ ）。

- A. 网络时代的新技术发展呈现出朝气蓬勃的青春气息

- B. 大数据时代缺少自律的莽撞行事和不计较后果的趋利行为

- C. 大数据企图囊括生活方方面面的信息，呈现高度垄断的野心

- D. 大数据对消费者利益和商业环境的极大冲击

46. 我们绝大多数人既不是有大笔财产可继承的“富二代”，也不是中得千万大奖的幸运儿，所以还是要咬紧牙关，去承担属于自己的那份责任，毕竟我们有父母需要赡养，有柴米油盐需要开支。但我们并非没有希望，我们希望通过今天的努力，能够得到职位的升迁，能够获得更丰厚的收入，然后让自己和家人过上更加富足的生活。_____。他们没有甘于啃老，没有不劳而获，只是用自己的汗水和智慧来让自己和家人过上更好的生活。这种普通的劳动者所迸发出来的力量，是推动整个社会往前发展的能量，是撑起我们这个时代更加美好的基石。

根据上述文字，填入划横线部分最恰当的是（ ）。

- A. 我们是非凡的普通人，都在努力生活着 B. 每个人，都有一颗坚强而勇敢的心

- C. 为小小的希望努力，是踏实而幸福的 D. 一个努力生活的人，是值得尊敬的

47. 造成客服乱象的一个重要原因，在于许多企业将客服中心视为“成本部门”。客服及其背后的培训、管理、流程协调，成本投入越来越高，有公司测算，“一个客户打了 5 分钟的投诉电话，企业就

花出9块钱”。因此，客服外包或者部分外包成为多数互联网企业的趋势性选择。然而，外包节省了成本，却会产生发包方与承包方协调不畅通、发包方赋予承包方处理权限不高、业务人员能力参差不齐等弊端，很容易造成投诉响应慢、问题解决效率低、用户体验差等问题。在“乐清女子滴滴打车遇害事件”中，滴滴外包客服备受诟病，便是例证。

根据这段文字，下列说法正确的是（ ）。

- A. 在互联网时代，客服愈发不重要
- B. 有些企业为节省成本将客服外包
- C. 客服外包并不会让用户体验变差
- D. 客服外包对企业形象不会造成影响

48. 对号入座是常识，也是高铁、剧院、电影院等公共场所的通行规则，大家都应该主动遵守。而屡屡上演的“高铁霸座”行为，大都未能及时得到处置，霸座者拒不相让，乘务员和乘警只是劝说调解，徒费口舌，没有采取进一步的强制措施，最后只能给被占座者另找位置安排。虽然此后铁路部门将“霸座者”列入“黑名单”，处以火车票禁售令和罚款等处罚，但霸座者的违规成本还是太低，因此难以遏制此类现象重演。

这段文字意在强调（ ）。

- A. 根据座位票对号入座是公民应遵守的基本规则
- B. 高铁乘务员和乘警对霸座者无法采取强制措施
- C. 多数霸座者在损害他人利益后未得到相应惩罚
- D. 应提高霸座者的违规成本来控制霸座现象

49. 人们如何可以判定一个人没有自信？就是他对别人的态度的过度敏感和过度反应，那是“自尊”的过度膨胀，其结果却可能适得其反。这位学者这次自尊失当，恰恰反映了他还缺乏自信。这不是在示弱而是示弱；不是别人在毁掉你，而是你自己在毁掉你自己的尊严。这个道理，应该是捍卫尊严者的最基础的课程。

这段文字主要说明的是（ ）。

- A. 缺乏自信是自己在毁掉自己
- B. 自尊和自信事实上是一回事
- C. 过度自尊实际上是没有自信
- D. 没有自信的人往往过度敏感

50. 记忆过程是复杂而有趣的。我们或许会认为记忆跟遗忘只是同一个加工过程的两面，当人们对内容记得更好的时候，就难以忘记。然而遗忘并不总是消极被动的，也并不总是作为记忆的副产品而存在。有意遗忘受到学术界普遍关注。主动而有意地忘掉不需要的内容，具有适应性。它不仅可以让人们适应学习和工作的需要，让无效的内容成为过去，还能促进人们保持需要记忆的知识，提高学习和工作的效率。

对这段文字最恰当的概括是（ ）。

- A. 记忆过程是复杂而有趣的
- B. 有意遗忘受到学术界关注
- C. 有意遗忘具有主动适应性
- D. 遗忘并不是记忆的副产品

第三部分 数量关系

(共 15 题, 参考时限 15 分钟)

本部分包括两种类型的试题:

一、数字推理: 给你一个数列, 但其中缺少一项, 要求你仔细观察数列的排列规律, 然后从四个选项中最符合规律的一项来填补空缺项。

请开始答题:

51. 1, 3, 12, 28, (), 81, 118

A. 38 B. 42 C. 51 D. 57

52. 3, 5, 4, 1, 9, ()

A. 36 B. 64 C. 49 D. 81

53. 31, 29, 23, 19, 17, ()

A. 11 B. 7 C. 15 D. 13

54. 2, -1, 3, 1, 7, 9, ()

A. 12 B. 17 C. 21 D. 23

55. 1, 1, $\frac{3}{4}$, $\frac{1}{2}$, $\frac{5}{16}$, $\frac{3}{16}$, ()

A. $\frac{1}{16}$ B. $\frac{3}{32}$ C. $\frac{7}{64}$ D. $\frac{1}{8}$

二、数学运算: 每道试题呈现一段表述数学关系的文字, 要求你迅速、准确地计算出答案。

请开始答题:

56. 一群人坐车出去旅游, 如果每辆车坐 22 人, 还剩 5 人没位置。如果每辆车坐 26 人, 则空出 15 个座位。问每辆车坐 25 人, 空出多少个座位? ()

A. 20 个 B. 15 个 C. 10 个 D. 5 个

57. 某商品成本为 200 元, 售价为 292 元, 公司根据市场情况调整了销售方案, 将售价调整为 268 元, 预计日销量将上涨 15%。现欲通过改进生产线降低成本, 以保持降价前的单日利润, 则单件产品的生产成本至少需要降低 ()。

A. 4% B. 5% C. 6% D. 8%

58. 加工一批零件, 原计划每天加工 100 个, 正好按期完成任务。由于改进了生产技术和工艺, 实际每天加工了 120 个, 这样不仅提前 3 天完成加工任务, 而且还多加工了 40 个。他们原计划加工 () 个零件。

A. 1600 B. 1800 C. 2000 D. 2200

59. 甲、乙两车从 A 向 B 行驶, 甲比乙晚出发 6 小时, 甲、乙速度比是 4:3。甲出发 6 小时后, 速度提高 1 倍, 甲、乙两车同时到达 B。则甲从 A 到 B 共走了多少小时? ()

A. 7.2 B. 7.8 C. 8.4 D. 9

60. 某村一口井可供 40 人饮用 6 年或 30 人饮用 10 年, 如果要保证该水井不会干枯 (假设地下水渗

入该水井的速度相对稳定)，最多可供（ ）人一直饮用。

- A. 10 B. 15 C. 20 D. 25

61. 某单位购买了 10 台新电脑，计划分配给甲、乙、丙 3 个部门使用。已知每个部门都需要新电脑，且每个部门最多得到 5 台，那么电脑分配方法共有（ ）种。

- A. 9 B. 12 C. 18 D. 27

62. 某单位的一个科室从 10 名职工中随机挑选 2 人去听报告，要求女职工人数不得少于 1 人。已知该科室女职工比男职工多 2 人，小张和小刘都是该科室的女性职工，则她们同时被选上的概率在以下哪个范围内？（ ）

- A. 3%到 5%之间 B. 小于 2% C. 2%到 3%之间 D. 大于 5%

63. 某单位所有员工都参加艺术、科学、人文三类书籍的阅读活动，每名员工至多阅读 2 种书籍，阅读 1 种书籍员工人数比阅读 2 种书籍的人数多一半，阅读艺术类书籍的人数是阅读科学类书籍人数的 $\frac{2}{3}$ ，阅读科学类书籍人数是阅读人文类书籍人数的 $\frac{4}{5}$ ，问该单位至少有多少人？（ ）

- A. 20 B. 25 C. 30 D. 50

64. 一公司 2018 年录用 75 名新员工，拟分配到公司的 6 个不同的部门，假设行政部门分得新员工人数比其他部门都少，则行政部门分得新员工人数至多为（ ）。

- A. 10 B. 11 C. 12 D. 13

65. 甲杯中有浓度为 18%的盐水溶液 400 克，乙杯中有浓度为 21%的盐水溶液 500 克。先从乙杯中取出 100 克溶液倒入甲杯，接着往乙杯中加入 200 克水，均匀混合后，再从乙杯中取出 300 克溶液倒入甲杯。最后甲杯中溶液的浓度是（ ）。

- A. 18% B. 16.875% C. 17.875% D. 21%

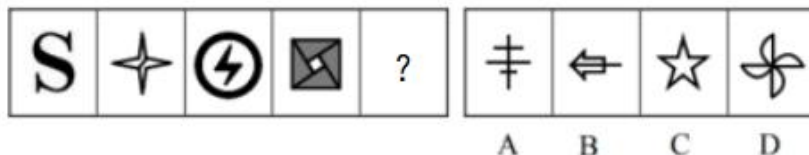
第四部分 判断推理

(共 25 题，参考时限 25 分钟)

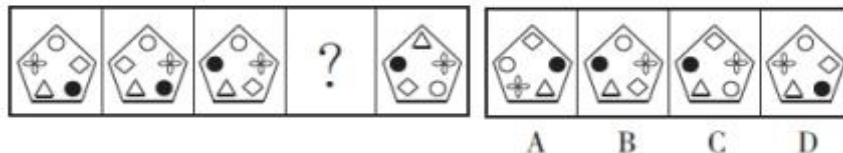
一、图形推理：从所给四个选项中，选择最合适的一个，使之呈现一定的规律性。

请开始答题：

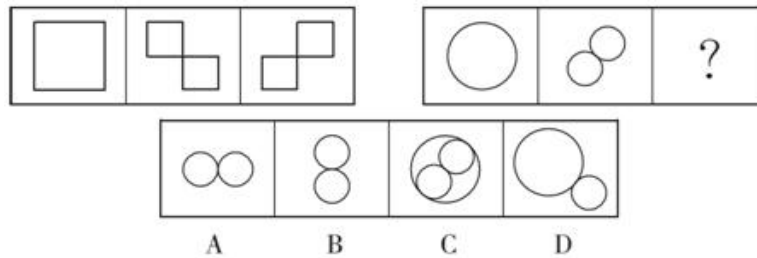
66. 从所给的四个选项中，选择最合适的一个填入问号处，使之呈现一定的规律性。



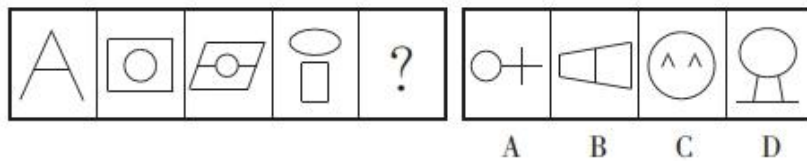
67. 从所给的四个选项中，选择最合适的一个填入问号处，使之呈现一定的规律性。



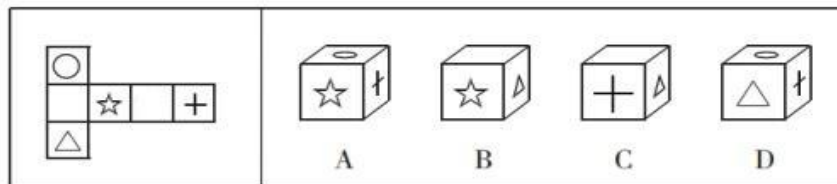
68. 从下列所给的四个选项中，选择最合适的一个填入问号内，使之呈现一定的规律性。



69. 从下列所给的四个选项中，选择最合适的一个填入问号内，使之呈现一定的规律性。



70. 左边给定的纸盒的外表面，下列哪一项能由它折叠而成？（ ）



二、定义判断：每道题先给出定义，然后列出四种情况，要求你严格依据定义，从中选出一个最符合或最不符合该定义的答案。注意：假设这个定义是正确的，不容置疑的。

请开始答题：

71. 法律援助是指由政府设立的法律援助机构组织法律援助的律师，为经济困难或特殊案件的人给予无偿提供法律服务的一项法律保障制度。

根据上述定义，下列属于法律援助的是（ ）。

- A. 小郑请了一位有名的律师为他打离婚的官司
- B. 某法院在节假日为阳光社区做义务法律咨询
- C. 周律师近年来一直在为农民工欠薪官司奔波，但收效甚微
- D. 盲人小钱因涉嫌盗窃被起诉，他无亲人，检察院委派一名律师担任其辩护人

72. 侧向思维是沿着正向思维旁侧开拓出新思路的一种创造性思维。通俗地讲，侧向思维就是利用其他领域里的知识和资讯，从侧向迂回地解决问题的一种思维形式，借助系统之外的信息、知识、经验来解决面临的难题。

根据上述定义，下列属于侧向思维的是（ ）。

- A. 小井是个上课很认真仔细的孩子，但是每次数学考试分数却不尽人意，原来是因为小井只懂得书本上的方法做题，当题目需使用别的方法做时他就不明白了
- B. 小泓平时很爱吃蛋糕，当她闻到甜香的味道时，第一时间想到的就是蛋糕的味道
- C. 小高上学的必经之路上有一个小坑，他时常因为小坑而摔倒，于是他拿了一块布将小坑盖住却不

做任何掩埋措施，第二天依旧还是摔倒了

D. 小张在某地承包了一个小型鱼塘，每月依靠卖鱼的收入并不高，于是想到举办一个钓鱼比赛推动营销，当月收入创出新高

73. 后喻时代指的是在当今高科技时代的某种条件下，晚辈（或学生）由于掌握了一定的新知识新技能，给先辈（或教师）传授知识和培养能力的时代。文化反哺是后喻时代的最基本特征。

根据上述定义，下列不属于后喻时代表现的是（ ）。

A. 学校引进了全新的多媒体技术，张老师没用过，班长小华非常热心地演示了一遍，张老师就学会了

B. 梅梅在幼儿园学会了 50 种动物的英文说法，英语专业出身的妈妈有很多都不知道，梅梅得意地教妈妈怎么读写

C. 韦斯是一名出色的脑科医生，从医十多年了，不过最近他碰到了一个非常棘手的手术，为了保证手术成功，他邀请了大学的博士生导师前来指导

D. 建辉去日本留学期间，学到了一种新的基因技术，学成之后，他迫不及待地回国跟身为生物学院士的爷爷分享

74. 语言规划是指政府或社会团体对语言文字及其使用进行的有组织、有目的、有计划的人工干预与管理，主要包括语言地位规划、语言本体规划。

根据上述定义，下列不属于语言规划的是（ ）。

A. 立法推广普通话

B. 制定简化字总表

C. 国家语委规范网络用语

D. 大力发展语言教育产业

75. 白化现象，指在正常环境下，植物由于某些内在因素不能形成叶绿素的现象。

下列属于白化现象的是（ ）。

A. 某地污染几年后，人们在当地不时会发现一种污染前从未出现过的白蛇

B. 某地农民发现当地向日葵的叶子变白了，这在化工厂未建时从没有发现过

C. 某地是世代玉米主产区，每年都发现一些玉米的叶子因遗传而出现局部白斑

D. 某人十多年前得了一种病至今未愈，皮肤、头发，甚至眉毛全都变白了

三、类比推理：每道题先给出一组相关的词，要求你在备选答案中找出一组与之在逻辑关系上最为贴近、相似或匹配的词。

请开始答题：

76. 桌子：抽屉

A. 客厅：厨房

B. 树：树叶

C. 动物：熊猫

D. 鞋：袜子

77. 玉兔：玉盘

A. 菊花：桂花

B. 铜剑：铜鼎

C. 子规：子鹃

D. 今天：当天

78. 海啸：地震

A. 医生：病人

B. 天平：砝码

- C. 经济危机：滞涨
79. 卧薪尝胆：勾践
A. 破釜沉舟：刘邦
C. 三顾茅庐：孙权
80. 与日俱增：每况愈下
A. 孜孜以求：前赴后继
C. 特立独行：亦步亦趋
81. 新疆棉花：中国棉花：棉农
A. 西部城市：二线城市：市民
C. 红木家具：实木家具：工人
82. 海水：盐分：细胞脱水
A. 树木砍伐：沙尘暴：植树造林
C. 汽车运输：二氧化碳：气温升高
83. 溶质：溶液：浓度
A. 总价：单价：数量
C. 工作时间：工作总量：单位效率
84. 口蜜腹剑 对于 () 相当于 () 对于 顽固
A. 阴险 执迷不悟
C. 单纯 泥古不化
85. 花木 对于 () 相当于 () 对于 假山
A. 树木 青山
C. 花盆 花园
D. 警察：骚乱
B. 入木三分：王羲之
D. 韦编三绝：吕不韦
B. 大公无私：光明磊落
D. 胸怀坦荡：优柔寡断
B. 物理学家：天文学家：学者
D. 国内市场：农村市场：商人
B. 碳酸饮料：二氧化碳：骨质疏松
D. 温室效应：臭氧层破坏：皮肤癌
B. 工作效率：速度：路程
D. 焦耳：卡：功率
B. 圆滑 摇摆不定
D. 狡猾 负材矜地
B. 木雕 假石
D. 盆景 石头

四、逻辑判断：每道题给出一段陈述，这段陈述被假设是正确的，不容置疑的。要求你根据这段陈述，选择一个答案。注意：正确的答案应与所给的陈述相符合，不需要任何附加说明即可以从陈述中直接推出。

请开始答题：

86. 某电子科技大学工程学院有教授 23 人，副教授 38 人，讲师 20 人，助教 26 人，另外 3 名行政教辅人员都是兼职教师。最近，该院要通过民主推荐的方式从张明和方敏两位候选人中产生一位院长。在正式投票的前夕，该学院总支书记说：“两人中谁能当选完全取决于教授们的投票。”

以下哪项如果为真，能最有力的支持该总书记的观点？（ ）

- A. 张明和方敏在教授、副教授以外的教师中的得票率是完全相同的
B. 张明和方敏谁当选，学校组织部及学校领导没有倾向性
C. 张明和方敏在副教授中的得票率是完全相同的
D. 比起张明，方敏更为教授们所欣赏

87. 研究表明，糖尿病是一种由多病因引起的以慢性高血糖为特征的代谢性疾病，是多种因素共同

作用的结果，有家族集聚现象。家族史是提示可能患糖尿病风险的重要依据，因此，了解家族史，有助于更好地预防糖尿病。

要得出上述结论，必须补充的前提是（ ）。

- A. 家族集聚现象体现在家族史中
- B. 了解患糖尿病风险有助于预防糖尿病
- C. 绝大多数人有途径了解自己的家族史
- D. 不健康的生活方式也是影响糖尿病发病的因素

88. 某医院护士小娟从抗疫前线胜利归来，单位同事小红、小丽和小明三人结伴来看望她。他们送给小娟一束鲜花及一些慰问品。小娟问这些礼物是谁买的？

三人笑着回答：

小红：我没有买，小丽也没有买；

小丽：我没有买，小明也没有买；

小明：我没有买，是她们两人共同买的。

后来小娟得知，他们三人每人说的话都是一半对、一半错。

根据上述信息，可以得出以下哪项？（ ）

- A. 礼物是小红买的
- B. 礼物是小丽买的
- C. 礼物是小明买的
- D. 礼物是三人共同买的

89. 世界的和平发展有利于世界经济的一体化，只有世界经济一体化并且建立了全球认可的新规范，才能有人类的民主。

从这段文字可以推出（ ）。

- A. 没有人类的民主就没有世界经济一体化
- B. 如果没有全球认可的新规范就没有人类的民主
- C. 没有人类的民主就没有世界的和平发展
- D. 没有世界经济的一体化就没有全球认可的新规范

90. 德国和瑞士的专家经过研究得出一个有趣的结论：餐具颜色能直接影响食欲，红色餐具可降低人们 40% 的食量。在人们的传统观念中，红色是极具进攻性的色彩，用红色餐具盛放食物往往会让人难以下咽，因为在潜意识中人们会给自己发出不能吃红色餐具中食物的心理暗示，从而令食欲下降。

如果以下各项为真，最能质疑上述论断的是（ ）。

- A. 快餐巨头常在大堂中使用大片鲜亮的红色图案，并没有影响快餐销量
- B. 红色易使人产生紧张感，暴饮暴食是人在紧张时放松自己的一种方式
- C. 试验表明，使用红色水杯者比使用蓝色水杯者平均饮水量要减少 44%
- D. 红色预示着不安和担忧，人们看到红色餐具会本能地担心食物有危险

第五部分 资料分析

(共 10 题, 参考时限 10 分钟)

所给出的图、表、文字或综合性资料均有若干个问题要你回答。你应根据资料提供的信息进行分析、比较、计算和判断处理。

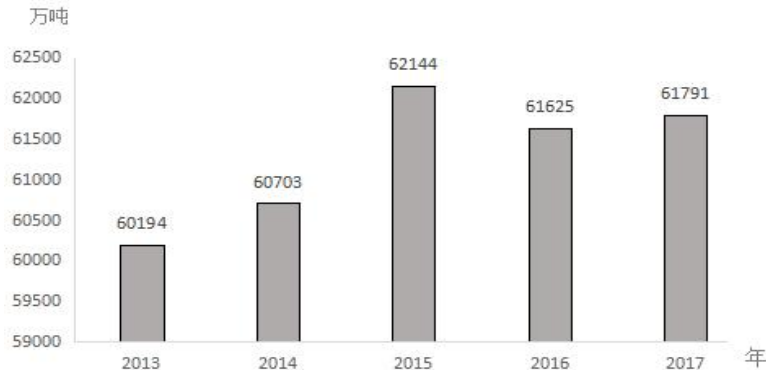
请开始答题:

一、根据所给资料, 回答 91~95 题。

我国 2017 年粮食种植面积为 11222 万公顷, 比上年减少 81 万公顷。其中, 小麦种植面积 2399 万公顷, 减少 20 万公顷; 稻谷种植面积 3018 万公顷, 减少 0.2 万公顷; 玉米种植面积 3545 万公顷, 减少 132 万公顷。棉花种植面积 323 万公顷, 减少 12 万公顷。油料种植面积 1420 万公顷, 增加 7 万公顷。糖料种植面积 168 万公顷, 减少 1 万公顷。

2017 年粮食产量 61791 万吨, 比上年增加 166 万吨, 增产 0.3%。其中, 夏粮产量 14031 万吨, 增产 0.8%; 早稻产量 3174 万吨, 减产 3.2%; 秋粮产量 44585 万吨, 增产 0.4%。全年谷物产量 56455 万吨, 比上年减产 0.1%。其中, 稻谷产量 20856 万吨, 增产 0.7%; 小麦产量 12977 万吨, 增产 0.7%; 玉米产量 21589 万吨, 减产 1.7%。全年棉花产量 549 万吨, 比上年增产 3.5%。油料产量 3732 万吨, 增产 2.8%。糖料产量 12556 万吨, 增产 1.7%。茶叶产量 255 万吨, 增产 6.0%。

2013~2017 年全国粮食产量



91. 2017 年, 我国小麦、稻谷、玉米、棉花四种农作物中, 种植面积减少速度最快的是 ()。
- A. 小麦 B. 稻谷 C. 玉米 D. 棉花
92. 2017 年, 我国棉花的产量比 2016 年约增产了 () 万吨。
- A. 7 B. 19 C. 31 D. 48
93. 2015 年全国粮食产量的增长率约为 ()。
- A. 2.4% B. 3.5% C. 1.7% D. 4%
94. 三种谷物中, 2017 年产量比上年增加最多的谷物, 其种植面积约占全国粮食种植面积的 ()。
- A. 12% B. 21% C. 27% D. 32%
95. 以下说法正确的是 ()。
- A. 2017 年, 我国各种粮食产量均有所增长
- B. 2017 年, 小麦, 稻谷, 玉米的产量总和为谷物的总产量

- C. 2017 年，小麦，稻谷，玉米这三种谷物中单位面积产量最高的是稻谷
- D. 2017 年，油料的产量增长率小于其种植面积增长率

二、根据所给资料，回答 96~100 题。

2018 年全年浙江省货物进出口总额 28519 亿元，比上年增长 11.4%。其中，出口 21182 亿元，增长 9.0%，出口占全国的 12.9%，份额比上年提高 0.2 个百分点；进口 7337 亿元，增长 19.0%。民营经济出口 16530 亿元，增长 10.6%，占出口总额的 78.0%，比重比上年提高 1.1 个百分点。机电产品出口 9214 亿元，增长 9.6%；高新技术产品出口 1408 亿元，增长 11.5%。对欧盟、美国进出口分别增长 9.3%、10.1%，其中，出口分别增长 7.8%和 12.2%。对“一带一路”沿线国家合计进出口 8967 亿元，增长 12.3%，其中出口 6822 亿元，增长 8.3%。中欧（义新欧）班列开行 320 列。推动中国（浙江）自由贸易试验区扩权，2018 年自贸区固定资产投资 419 亿元，新增注册企业 7413 家，新增油品企业 1998 家，大宗商品电子交易额 1487 亿元。

全年服务贸易进出口额 3815 亿元，比上年增长 83.5%，居全国第 4 位，服务贸易进出口额占货物和服务贸易总额的 11.8%。其中，出口 1069 亿元，增长 72.2%；进口 2745 亿元，增长 88.3%。

新批外商直接投资项目 3529 个，比上年增加 499 个；合同外资 430.6 亿美元，实际利用外资 186.4 亿美元，分别增长 24.1%和 4.1%。第二产业中，制造业实际利用外资 59.7 亿美元，增长 9.2%。第三产业投资项目 2940 个，比上年增加 502 个，占外商直接投资项目总数的 83.3%，合同外资 307.8 亿美元，实际利用外资 120.0 亿美元，分别增长 28.7%和 2.6%，占外资总额的比重分别为 71.5%和 64.4%。

全年经备案核准的境外企业和机构共计 737 家，比上年增加 210 家。境外直接投资备案额 1262 亿元，比上年增长 1 倍。国外经济合作完成营业额 518.9 亿元，比上年增长 9.0%。其中，对外承包工程完成营业额 506.9 亿元，增长 8.6%；新签合同额 273.0 亿元，下降 17.6%；共派出各类劳务人员 22589 人次，外派劳务人员实际收入 12.0 亿元。

96. 2017 年，全年服务贸易进出口额约为（ ）亿元。
- A. 2079 B. 2256 C. 2466 D. 2841
97. 2018 年，外派劳务人员实际平均收入约为（ ）万元。
- A. 4.1 B. 4.6 C. 5.3 D. 6.5
98. 2018 年货物进口额占货物进出口总额的比重较 2017 年所占比重约（ ）。
- A. 提高了 1.64 个百分点 B. 降低了 1.64 个百分点
- C. 提高了 2.15 个百分点 D. 降低了 2.15 个百分点
99. 2018 年机电产品的出口增长量约是高新技术产品的出口增长量的（ ）倍。
- A. 4.85 B. 5.56 C. 6.54 D. 6.87
100. 根据上述资料，下列说法错误的是（ ）。
- A. 2018 年新批外商直接投资项目个数的增长率约为 16.47%
- B. 2017 年第三产业中，合同外资约是实际利用外资的 2.04 倍
- C. 2018 年国外经济合作完成营业额的同比增长量约为 42.8 亿元
- D. 2017 年第二产业中，制造业实际利用外资不超过 53 亿元

展鸿事业单位招聘笔试试卷

《职测》模拟卷参考答案及解析

1. 【答案】A。解析：2021年5月3日，人民日报发表《习近平与青年的故事》记述，习近平总书记深知青年的渴望，格外关心青年的成长。与青年通信，同青年谈心，参加青年活动，常把青年记挂心间。青年的价值取向决定了未来整个社会的价值取向，习近平总书记给出“勤学、修德、明辨、笃实”的要求，成为当代青年修身立德的八字箴言。故本题选A。

2. 【答案】C。解析：A、B、D三项均正确。C项错误，《国务院关于落实〈政府工作报告〉重点工作分工的意见》指出，2021年赤字率拟按3.2%左右安排、比去年有所下调，不再发行抗疫特别国债。财政支出总规模比去年增加，重点仍是加大对保就业保民生保市场主体的支持力度。故本题选C。

3. 【答案】B。解析：③对应错误，黄文秀是在习近平新时代中国特色社会主义思想指引下成长起来的优秀青年代表。北京师范大学研究生毕业后，她毅然回到家乡，主动请缨到贫困村担任驻村第一书记，挨家挨户上门走访，跑项目、找资金、请专家，组织村民大力发展产业，带动全村实现整体脱贫。2019年6月，她在从百色市田阳区返回乐业县途中遭遇山洪因公殉职，年仅30岁。“带领大家种植黄桃8万多亩，走上脱贫致富路”对应的是“全国脱贫攻坚模范”黄诗燕。故本题选B。

4. 【答案】A。解析：我们党历来重视党史学习教育，注重用党的奋斗历程和伟大成就鼓舞斗志、明确方向，用党的光荣传统和优良作风坚定信念、凝聚力量，用党的实践创造和历史经验启迪智慧、砥砺品格。①②③表述均正确。故本题选A。

5. 【答案】A。解析：我国于1978年开始实行改革开放政策。A项错误，中国自行制造的第一颗原子弹于1964年10月16日在新疆罗布泊爆炸成功，属于我国改革开放前取得的成就。B项正确，改革开放30年来，我国经济实现了持续快速增长，经济上的腾飞，基本解决了脱贫致富问题。C项正确，2011年，我国首条具有世界先进水平的高速铁路——京沪高速铁路正式开通运营。D项正确，2003年，“神舟”五号飞船载人飞行任务圆满成功，使中国成为继前苏联和美国之后，第三个将人类送上太空的国家。故本题选A。

6. 【答案】C。解析：A项错误，根据《劳动法》第15条的规定，禁止用人单位招用未满十六周岁的未成年人。书店聘用未满十六周岁的小芳为正式员工，违反了《劳动法》。B项错误，《劳动法》第21条规定，劳动合同可以约定试用期，试用期最长不得超过六个月。饲料公司与小彭签订试用期为一年的合同，违反了《劳动法》。C项正确，《劳动法》第31条规定，劳动者解除劳动合同，应当提前三十日以书面形式通知用人单位。小泓已经提前半个月提交离职申请，并未违反《劳动法》。D项错误，《劳动法》第41条规定，用人单位由于生产经营需要，经与工会和劳动者协商后可以延长工作时间，一般每日不得超过一小时；因特殊原因需要延长工作时间的，在保障劳动者身体健康的条件下延长工作时间每日不得超过三小时，但是每月不得超过三十六小时。小杰所在公司属于强制要求加班，违反了《劳动法》。故本题选C。

7. 【答案】D。解析：犯罪预备是指为犯罪准备工具、制造条件的行为；犯罪中止是指在犯罪过程中，自动放弃犯罪或者自动有效地防止犯罪结果发生的行为；犯罪未遂是指犯罪分子已经着手实行犯罪，由于犯罪分子意志以外的原因而未得逞的行为；犯罪既遂是指行为人所实施的犯罪行为已经具备了刑法分则所规定的某一犯罪的全部构成要件。题干中，小张利用财务工作之便，贪污了单位现金3万元，该行为构成《刑法》第271条规定的职务侵占罪，属于犯罪既遂。故本题选D。

8. 【答案】B。解析：当内需严重不足，社会总供给大于社会总需求时，即发生了通货紧缩，此时需要实行扩张性财政政策和货币政策以促使总供给与总需求趋于平衡。扩张性财政政策主要是扩大财政支出，增加财政赤字，减少税收，采取补贴政策等；扩张性货币政策主要是降低利率、存款准备金率和

再贴现率等。故本题选 B。

9. 【答案】D。解析：A 项正确，雷达通过发射电磁波对目标进行照射并接收其回波，由此获得目标至电磁波发射点的距离、距离变化率（径向速度）、方位、高度等信息。B 项正确，牛奶及其奶制品中含有许多钙、铁等离子，这些离子和某些药物（如四环素类等）能生成稳定的络合物或难溶性的盐，使药物难以被胃肠道吸收，有些药物结构甚至被这些离子所破坏。如果用牛奶送服这些药物，会大大降低药物在血液中的浓度，影响治疗效果。C 项正确，酒中含有酒精，酒精是由分子构成的物质，酒精分子不断运动，向四周扩散，因此在远处就能闻到酒的香味。D 项错误，漂白粉的主要成分是次氯酸钙，洁厕精的主要成分是盐酸，二者混合使用会发生化学反应，从而导致去污能力下降，并且产生的氯气使人中毒。故本题选 D。

10. 【答案】B。解析：A 项正确，公元前 205 年夏，项羽在彭城（今徐州）大败汉军，刘邦退到黄河南岸重镇荥阳，楚军乘胜追击，在荥阳一带互相攻伐长达两年之久，“楚河汉界”就是出自于此。B 项错误，公元前 207 年，项羽的起义军与秦将章邯率领的秦军主力部队在巨鹿（今河北邢台市）展开大战，项羽命令全军破釜沉舟，最终大破秦军，成语“破釜沉舟”就是出自于此，并不是源于楚汉相争的战役。C 项正确，琵琶曲《十面埋伏》反映的是公元前 202 年楚汉战争垓下决战的情景，汉军用十面埋伏的阵法击败楚军，项羽自刎于乌江。D 项正确，诗句“生当作人杰，死亦为鬼雄”出自宋朝李清照的《夏日绝句》，指的就是项羽不肯偷生回江东。故本题选 B。

11. 【答案】A。解析：A 项错误，左迁，表示降低官职，即降官，汉代贵右贱左，将贬官称为左迁，以右迁表示升官。B 项正确，于归，指女子出嫁。C 项正确，乞骸骨，意为请求使骸骨归葬故乡，回老家安度晚年，表示自请辞职。D 项正确，弥月又称满月，指婴儿出生满一个月。故本题选 A。

12. 【答案】A。解析：题干中的诗句出自罗隐的《京中正月七日立春》，诗人以通俗、明快的笔触描述了立春的景象，万物开始生长，远方的大雁从南方飞回来，近处水塘里的鱼破冰而出，表明严寒的时节已经过去，天气开始回暖，百草回芽。故本题选 A。

13. 【答案】A。解析：台风预警信号分为四级，由低到高依次是蓝色、黄色、橙色和红色。故本题选 A。

14. 【答案】D。解析：A 项正确，“萝卜”是十字花科萝卜属二年或一年生草本植物，其食用部分为根。B 项正确，“白菜”属于十字花科蔬菜，其食用部分为叶。C 项正确，“竹笋”是多年生常绿禾本目植物竹的幼芽，其食用部分为茎。D 项错误，“西兰花”为二年生草本植物，是甘蓝的一种变种，其食用部分为花茎和花蕾，并非果实。故本题选 D。

15. 【答案】C。解析：A 项错误，番茄原产于南美洲，约在明朝时期传入中国，因此，唐朝不可能有番茄蛋汤。B 项错误，《清明上河图》是北宋画家张择端的作品，而“穷丹青之妙”的吴道子为唐代画家，不可能临摹此画作。C 项正确，苦瓜是郑和下西洋时（1405~1433 年）带入中国的，《本草纲目》是明代李时珍于 1552~1578 年撰写的，因此有可能发生。D 项错误，活字印刷术是北宋毕昇在总结唐朝雕版印刷经验的基础上发展、完善而成的，而左思的《三都赋》创作于西晋时期，当时没有活字印刷术。故本题选 C。

16. 【答案】D。解析：A 项正确，京杭大运河开掘于春秋时期，完成于隋朝，繁荣于唐宋，取直于元代，疏通于明清。B 项正确，京杭大运河贯通了海河、黄河、淮河、长江、钱塘江五大水系。C 项正确，京杭大运河的流向、水源和排蓄条件在各段均不相同，非常复杂，流向总体概括为四个节点、两种流向。D 项错误，京杭大运河是中国仅次于长江的第二条“黄金水道”。故本题选 D。

17. 【答案】C。解析：A 项正确，“东风”系列导弹，是中华人民共和国一系列近程、中远程和洲际弹道导弹。B 项正确，“飞鱼”反舰导弹是一款由法国研发制造的导弹，拥有舰射、潜射、空射等多种不同的发射方式。C 项错误，“爱国者”导弹是美国雷神公司制造的全天候多用途中程防空导弹系统。D 项正确，“烈火-5”导弹是印度自主研发的远程弹道导弹，可以携带核弹头。故本题选 C。

18. 【答案】C。解析：A 项错误，发现行星运动定律的是德国天文学家开普勒，该定律也称开普勒

定律。B项错误，黑洞是由质量足够大的恒星在核聚变反应的燃料耗尽而死亡后，发生引力坍缩产生的。C项正确，太阳大气层由里向外分别为光球层、色球层和日冕层，其中，光球层发出的可见光最强，人们平常看见的明亮耀眼的太阳盘面就是太阳大气层的光球层。D项错误，1957年10月4日，世界上第一颗人造地球卫星由苏联发射成功。故本题选C。

19.【答案】A。解析：A项正确，黄旭华为中国核潜艇事业的发展做出了重要贡献，在核潜艇水下发射运载火箭的多次海上试验任务中，作为核潜艇工程总设计师、副指挥，开拓了中国核潜艇的研制领域，被誉为中国核潜艇之父。B项错误，中国科学院及中国工程院院士钱学森，中国两弹一星功勋奖章获得者，被誉为“中国航天之父”“中国导弹之父”“中国自动化控制之父”和“火箭之王”。C项错误，于敏在中国的氢弹发展史上作出了巨大的贡献，被誉为“中国氢弹之父”。D项错误，南仁东创造出了世界最大最灵敏的单口径射电望远镜“天眼”，它比美国最先进的阿雷西博350米望远镜综合性高10倍，比德国波恩100米望远镜灵敏度高10倍，能收到1351光年外的电磁信号，被誉为“中国天眼之父”。孙家栋被誉为“中国北斗之父”。故本题选A。

20.【答案】D。解析：A项说法错误，不是所有的疫苗都要通过三角肌注射才能产生作用，如脊髓灰质炎疫苗是一种口服疫苗制剂，通过口服才能产生作用。B项说法错误，免疫功能低下或缺陷的人，一般不能接种减毒活疫苗，但可以接种灭活疫苗。C项说法错误，疫苗的接种对象普遍是健康个体，但也有部分疫苗的接种对象不是健康个体，如人被动物咬伤后接种狂犬疫苗和抗狂犬病血清，以预防感染狂犬病。D项说法正确，卡介苗是一种无毒牛型结核分枝杆菌活菌疫苗，用来预防结核病。故本题选D。

21.【答案】D。解析：文段讲随着时间的推移，很多古人就算真的出生在某地，恐怕也早已没有半点遗迹。“流逝”指像流水一样迅速消逝，常与“岁月”“时光”搭配，符合语意，锁定D项。验证其他三项，“没落”指衰败、趋向覆灭，“消亡”指灭亡、消失，“消失”指事物渐渐减少以至没有，事物不复存在，三者均无法与“岁月”搭配。故本题选D。

22.【答案】B。解析：先看第一空，“变更”多指某些方面（如尺寸、大小、进程、安排或倾向）变得不同，无法与“认知”搭配，排除D项。再看第二空，此处讲日本“遣唐使”的脚步、丝绸之路的驼铃、郑和宝船的风帆等等构成或记录了中华礼仪流淌和播散的轨迹，“延伸”指延长伸展，“孕育”比喻从既存事物中培养新生事物，二者均不符合语意，排除A、C项。故本题选B。

23.【答案】A。解析：先看第二空，“爬山越岭”形容野外工作或旅途的辛苦，无法形容“征程”，排除C项。再看第一空，“博闻辩言”形容道听途说、似是而非的言论，不符合语意，排除D项。最后看第三空，“一脉相承”指由一个血统或一个派别传下来，无法修饰“伟大事业”，排除B项。验证A项，“博观约取”指广泛地阅览，扼要地选取，“跋山涉水”形容走远路的艰苦，“薪火相传”比喻学问和技艺代代相传，三者均符合语意。故本题选A。

24.【答案】B。解析：直接看第二空，文段讲“桃花源”模式被长期追捧的主要原因是其自身含着老庄哲学的思想，“浸透”比喻饱含（某种思想感情等），符合语意。“浸润”“浸染”“渗透”三者均形容对他物的影响，不符合语意，排除A、C、D三项。验证第一空，“引领人居理想和城市精神的统帅”符合语意。故本题选B。

25.【答案】B。解析：先看第一空，“齐头并进”形容几件事情或几项工作同时进行，此处形容“一代代中国共产党人”明显不符合语意，排除D项。再看第二空，联系前文“中国共产党人的初心和使命”可知，填入的成语应与“初心不改”并列，同样表示共产党人的初心或者特有品质，“砥砺前行”未提及“初心”，语义上不如“矢志不渝”，“恪尽职守”明显不符合语意，排除A、C项。故本题选B。

26.【答案】C。解析：先看第一空，“卑微”指地位低下，“些微”指略微，均不符合语意，排除A、B项。再看第二空，“沉滞”指迟钝，不灵活，“沉沦”指陷入罪恶的、痛苦的境地，前者无法与“民间宗教”搭配，后者更符合语意，排除D项。故本题选C。

27.【答案】D。解析：“题材”、“素材”和“灵感”均无法用“巨大”修饰，排除A、B、C三项。验证D项，因为现实复杂而纠结，不能一语说透，使电影创作有了更多可发挥、可创作的空间，符合语

意。故本题选 D。

28. 【答案】C。解析：先看第一空，“奠基”意为奠定建筑物的基础，文段讲中国特色社会主义制度和国家治理体系在实践中逐渐发展，“实践”无法作为基础，排除 A、B 项。再看第四空，“集结”指聚集，特指军队等集合到一处，明显不符合语意，排除 D 项。验证 C 项，“扎根土地”“吸吮养分”“凝聚智慧力量”均符合搭配。故本题选 C。

29. 【答案】A。解析：先看第一空，“筚路蓝缕”形容创业的艰苦，填入此处不符合语意，排除 C 项。“云遮雾罩”比喻故弄玄虚，暧昧不明，不符合文段感情色彩，排除 D 项。再看第二空，“破旧立新”指破除旧的，建立新的，“突破重围”指突破他人的重重阻挠，完成某件事，前者更能与“自我变革”相呼应，排除 B 项。故本题选 A。

30. 【答案】C。解析：先看第一空，由“中国的古代雕刻，向来深受人们的喜爱”可知，中国的古代雕刻经历了长久的时间依然深受人们喜爱，“历久弥新”和“经久不衰”均体现经历长久的时间而更加鲜活和有活力，“生机勃勃”和“活力四射”均形容生命力旺盛，相比之下，前二者更符合语意，排除 B、D 项。再看第二空，此处应填入形容“光彩”的词语，“蓬勃生机”形容生命力旺盛，“瑰丽夺目”形容景色或者某个宝物色彩鲜艳，美丽无比，十分吸引人的眼球，显然后者更符合语意，排除 A 项。故本题选 C。

31. 【答案】A。解析：先看第一空，“不计其数”指无法计算数目，形容极多，“不胜枚举”指无法一个一个枚举出来，形容数量很多，此处用来形容“人才吸引政策”过于夸张，均不符合语意，排除 B、C 项。再看第二空，“各有千秋”比喻各人有各人的长处，各人有各人的特色，无法形容“实施效果”，排除 D 项。验证 A 项，“五花八门”比喻花样繁多，符合语意，“实施效果参差不齐”符合搭配。故本题选 A。

32. 【答案】A。解析：先看第一空，由“尺度”可知，此处应强调精准的意思，“估量”指估计，不符合语意，排除 D 项。再看第二空，此处讲素质的养成是个漫长的过程，没有办法一下子就成功，“一笔勾销”比喻把一切全部取消，“一了百了”指由于主要的事情了结了，其余的事情也跟着了结，二者均不符合语意，排除 B、C 项。验证 A 项，“丈量”指测量，“一劳永逸”指辛苦一次，把事情办好，以后就可以不再费力了，“相辅相成”指两件事物互相配合，互相辅助，缺一不可，三者均符合语意。故本题选 A。

33. 【答案】D。解析：直接看第二空，“显而易见”指（事情、道理）非常明显，很容易看清楚，与前文“显然”语意重复，排除 A 项；“举足轻重”指所处地位重要，一举一动都关系到全局，文段并未强调“创新乡贤文化”的重要性，不符合语意，排除 B 项；“弥足珍贵”形容非常珍贵，文段并未强调“创新乡贤文化”的珍贵，不符合语意，排除 C 项。验证 D 项，“破解难题”符合搭配，“毋庸置疑”指不必怀疑，符合语意。故本题选 D。

34. 【答案】C。解析：文段讲传统医学虽然经过多年努力仍未跻身国际主流医学，而其被纳入《国际疾病分类》，这好比打通“任督二脉”，不但具有里程碑式的意义，还在进一步推动传统医学国际化上具有现实的重要性。由此可见，文段意在说明传统医学被纳入《国际疾病分类》具有现实价值和重大意义，C 项正确。A 项“尴尬地位”偷换“难跻身国际主流医学”的概念，B 项无中生有，D 项不是文段的论述重点。故本题选 C。

35. 【答案】C。解析：文段讲我们经历的时光都会变成从前，但是在我们拥有的时候往往是漠然的，等到失去时才知道珍惜。可见，文段主要讲当时以为平常的事，等到成为从前才觉得珍惜，C 项正确。A 项未体现出要珍惜；B 项偏离文段重点；D 项与文段意思相悖。故本题选 C。

36. 【答案】D。解析：文段讲一些优秀的年轻干部缺失责任感，缺乏担当，一味坐等提拔，这样碌碌无为终将导致无所成就。应该摆正心态，努力向前奔跑，承接好党和国家的事业。由此可见，文段意在强调年轻干部应该努力奋斗，做时代的“奔跑者”，D 项正确。A 项概括不全面，B 项偏离论述主体，C 项只是努力奋斗的具体做法。故本题选 D。

37. 【答案】A。解析：文段讲青少年科普杂志既要为学生服务，也要鼓励学生创作，后文指出具体做法，即科普期刊应该带动青少年积极参与创作、投稿。同时，因为青少年很容易理解期刊的内容，因此期刊内容无需再简化，而应该思考多方面的传播。可见，文段意在说明科普期刊应该更加注重对学生创作的引导以及加强自身的多元化传播，A项正确。B、C项仅为文段部分内容。D项“《科学故事会》”不是文段的论述重点。故本题选A。

38. 【答案】B。解析：题干要求揣测专家们的看法，通过最后一句“专家们虽有欣喜，但更多的是担忧”可知，专家们对“各种古诗词培训班又扎堆涌现”的现象甚为担忧。分析四个选项，只有B项“绝不能跟风，盲目增加孩子负担”与专家们的担忧联系最密切、最直接。A、C项说法过于宽泛，没有针对性；D项古诗文的“正确打开方式”不是文段的论述重点。故本题选B。

39. 【答案】C。解析：“情者文之经，辞者理之纬；经正而后纬成，理定而后辞畅”意思是情理是文章的经线，文辞是情理的纬线；经线端正了纬线才织得上去，情理确定了文辞才会畅达。同理这也是语言的真义，后文进行具体解释说明，话语真情充沛、逻辑严谨，自然可以生发出直抵人心的力量，有了真情的贯注，语言和作品便可抵御时光而历久弥新，A、B、D三项均正确。C项错误，语言的真义在于有真情的贯注，历久弥新是最终形成的结果。故本题选C。

40. 【答案】B。解析：根据前文“急于洗清的心理是可以理解的”可知，鸵鸟政策是不可取、不能理解的，排除A项。根据前文“不是诱过于人，更不是鸵鸟政策”可知，鸵鸟政策不是指“诱过于人”（把过错推给别人）且比“诱过于人”语义更重，排除C项。根据后文“积极的心理疏导和必要的改正措施才是正途”可知，鸵鸟政策应是一种消极的状态，没有能够积极地思考解决措施，即不敢面对现实的困难，是否“放任”文段并未体现，B项更符合，排除D项。故本题选B。

41. 【答案】B。解析：文段讲随着年底交付季的到来，不少楼盘被发现有严重的质量问题，而这些问题都是业主自己发现的，相关业主为了维权和开发商斗智斗勇学习各种相关知识。后文对此现象提出疑问，列举了各监督部门，并指出如果这些监督站都做到位就不会有那么多工程质量问题。可见，文段主要介绍因相关监管的缺位，迫使业主与开发商斗智斗勇，B项作为文段标题最恰当。A项说法过于宽泛，不如B项具体。C、D项均无法体现相关监管的缺位。故本题选B。

42. 【答案】A。解析：文段的首句提出观点，即古代有关三国的小说都蕴含分合循环的宿命思想，随之以《三国志平话》论证说明，最后末句“而”引出《三国志演义》的论述话题。可见，作者接下来最有可能讲述的是《三国志演义》如何用不同的方式展现分合循环的历史宿命思想，A项正确。B、C、D三项文段均无从体现。故本题选A。

43. 【答案】A。解析：观察选项，可先判断首句。③讲古代中国在技术上领先是因为偶然性发明远多于欧洲，⑤讲人类社会科技进步靠大众在生产实践中偶然发现，按照逻辑顺序，应先总体讲人类社会科技进步的原因，再进一步讲中国科技领先的原因，因此⑤应在③之前，⑤更适合作为首句，排除B、D项。通读其余句子，③强调了偶然的作用，即偶然性发明使古代中国在技术上一直领先欧洲，②表示建立科学实验制度后，偶然的作用开始让位于必然，按照逻辑顺序，应先强调偶然的作用，再讲随着发展，偶然的作用正在逐渐减弱，因此③应在②之前，排除C项。验证A项，符合语句逻辑关系。故本题选A。

44. 【答案】B。解析：观察选项，可先确定首句。③含有代词“其”，指代不明，因此③不宜作为首句，排除C、D项。②讲为解决“标题党”乱象，国家网信办早已发布相关条例，并联合相关部门多次进行整治，④通过“但”转折指出朋友圈里的“标题党”乱象屡禁不止，④应是对②的转折，因此②④绑定且④在②后，排除A项。验证B项，符合语句逻辑关系。故本题选B。

45. 【答案】B。解析：作者在文段中以“青春期特有的狂野特质”形容网络技术“不像我们希望的那么好”的一面，A项“朝气蓬勃”含褒义，不符合作者意图倾向，排除。再根据就近原则，从“容易迷失方向”“沦为一些利益集团的附庸”可知指的是网络技术缺少法规政策约束的趋利乱象，B项概括正确。C项“高度垄断的野心”只是网络技术在目前阶段的自身优势体现，D项对消费者和商业环境产生的冲击属于网络技术未经有效约束的不良后果，均与划线内容无关，均排除。故本题选B。

46. 【答案】D。解析：横线部分位于文段中间，其内容应具有承上启下的作用。横线前文通过转折指出我们可以通过自己的努力，让自己和家人过上更加富足的生活，横线后文围绕通过努力过上更好的生活展开论述，因此整个文段主要围绕“努力生活”这一话题来进行论述，D项正确。A项主体“我们”与后文“他们”无法衔接，B项“坚强而勇敢的心”和C项“踏实”文段均无从体现。故本题选D。

47. 【答案】B。解析：A项错误，由“乐清女子滴滴打车遇害事件”可知，客服并非不重要。B项正确，由“客服及其背后的培训、管理、流程协调，成本投入越来越高……因此，客服外包或者部分外包成为多数互联网企业的趋势性选择”可知，有些企业为节省成本将客服外包。C、D项错误，由“很容易造成投诉响应慢、问题解决效率低、用户体验差等问题”“滴滴外包客服备受诟病”可得知。故本题选B。

48. 【答案】D。解析：文段讲对号入座是公共场所的通行规则，但屡屡出现的霸座行为大都未能得到及时处置，虽然霸座者事后被限制购买火车票，但由于违规成本太低还是难以遏制此类现象重演。可见，文段意在说明应提高霸座者的违规成本以控制霸座现象，D项正确。A、C项文段均无从体现，B项仅为文段论述的部分内容。故本题选D。

49. 【答案】C。解析：文段讲判断一个人是否没有自信，主要看他对他人的态度的敏感度，如果太过“自尊”，则实际上是没有自信的表现，后文是对“这位学者”的行为进行分析。可见，文段主要说明过度自尊实际上是没有自信，C项正确。B项无中生有，A、D项不是文段论述的重点。故本题选C。

50. 【答案】C。解析：文段首先指出遗忘并不总是记忆的副产品，并不总是消极被动的，以此引出了有意遗忘，接着具体说明了有意遗忘的特性，给人们学习和工作带来巨大作用，可见，文段主要表明有意遗忘具有主动适应性，C项正确。A、B项仅为文段部分内容，非文段论述重点；D项与文段意思不相符，文段讲遗忘“并不总是作为记忆的副产品而存在”，此处说法过于绝对。故本题选C。

51. 【答案】C。解析：原数列后项减前项得到：2、9、16、(23)、(30)、37，是公差为7的等差数列。因此原数列未知项为 $28+23=51$ ，验证后项， $81=51+30$ ，符合规律。故本题选C。

52. 【答案】B。解析：原数列满足如下规律： $a_{n+2}=(a_n-a_{n+1})^2$ ($n \in \mathbb{N}^+$)，即 $4=(3-5)^2$ ， $1=(5-4)^2$ ， $9=(4-1)^2$ 。因此原数列未知项为 $(1-9)^2=64$ 。故本题选B。

53. 【答案】D。解析：原数列各项为连续且递减的质数。因此原数列未知项为13。故本题选D。

54. 【答案】D。解析：原数列两两相加得到：1、2、4、8、16、(32)，是公比为2的等比数列。因此原数列未知项为 $32-9=23$ 。故本题选D。

55. 【答案】C。解析：原数列反约分得到： $\frac{1}{1}$ 、 $\frac{2}{2}$ 、 $\frac{3}{4}$ 、 $\frac{4}{8}$ 、 $\frac{5}{16}$ 、 $\frac{6}{32}$ ，分子列为等差数列；分母列：1、2、4、8、16、32，是公比为2的等比数列。因此原数列未知项为 $\frac{6+1}{32 \times 2} = \frac{7}{64}$ 。故本题选C。

56. 【答案】C。解析：设共有x辆车，根据题意可列方程 $22x+5=26x-15$ ，解得 $x=5$ ，则共有 $22 \times 5+5=115$ 人。当每辆车坐25人时，空出 $25 \times 5-115=10$ 个座位。故本题选C。

57. 【答案】C。解析：赋值原本销量为10个，则降价前单日利润为 $(292-200) \times 10=920$ 元；降价后的单个产品利润为 $920 \div [10 \times (1+15\%)]=80$ 元，则成本为 $268-80=188$ 元，降幅为 $(200-188) \div 200=6\%$ 。故本题选C。

58. 【答案】C。解析：设原计划加工时间为t天，则原计划加工零件数为100t个，根据题意有 $120(t-3)=100t+40$ ，解得 $t=20$ 。因此原计划加工零件数为 $100 \times 20=2000$ 个。故本题选C。

59. 【答案】C。解析：赋值甲、乙速度分别为4和3，设甲提速后走了t小时，则可列方程 $4 \times 6+8t=3 \times 12+3t$ ，解得 $t=2.4$ ，则甲从A到B共走了 $6+2.4=8.4$ 小时。故本题选C。

60. 【解析】B。解析：设每人每年的饮水量为1，每年井水渗入的量为x，最初的井水量为y。则可列方程组 $\begin{cases} y=(40-x) \times 6 \\ y=(30-x) \times 10 \end{cases}$ ，解得 $\begin{cases} x=15 \\ y=150 \end{cases}$ 。若要保证井水不会干枯，则最多可供 $15 \div 1=15$ 人饮用。故

本题选 B。

61. 【答案】C。解析：每个部门最多得到 5 台，共有以下几种情况：①三个部门分别得到 5 台、3 台、2 台，此时有 $A_3^3=6$ 种分配方式；②三个部门分别得到 5 台、4 台、1 台，也有 6 种分配方式；③三个部门分别得到 4 台、4 台、2 台，共有 $\frac{A_3^3}{A_2^2}=3$ 种分配方式；④三个部门分别得到 4 台、3 台、3 台，共有 3 种分配方式。综上，电脑共有 $6+6+3+3=18$ 种分配方式。故本题选 C。

62. 【答案】C。解析：根据题意可知，该科室有 6 名女职工、4 名男职工。总情况数可分两类：①1 名女职工、1 名男职工，则情况数为 $C_6^1 \times C_4^1=24$ 种。②2 名女职工，则情况数为 $C_6^2=15$ 种。综上，总情况数有 $24+15=39$ 种。小张和小刘同时被选上的情况只有一种，则所求概率为 $\frac{1}{39} \approx \frac{1}{40}=2.5\%$ ，在 2% 到 3% 之间。故本题选 C。

63. 【答案】B。解析：设阅读人文类书籍的人数为 $15x$ ，则阅读科学类书籍的人数是 $12x$ ，阅读艺术类书籍的人数是 $8x$ ；设阅读 2 种书籍的人数为 y ，则阅读 1 种书籍的人数为 $1.5y$ 。根据题意有 $1.5y \times 1 + y \times 2 = 15x + 12x + 8x$ ，化简得 $x:y=1:10$ ， $15x$ 、 $12x$ 、 $8x$ 若为整数，则 x 的最小值为 1， y 最小值为 10，因此该单位至少有 $10+1.5 \times 10=25$ 人。故本题选 B。

64. 【答案】B。解析：行政部分得的新员工数比其他部门都少，要使得行政部门分得的人数最多，则应使其他部门人数在不小于行政部门新员工人数的基础上尽可能的少，且人数尽量相同。设行政部门分得新员工人数为 x 人，其他部门人数均为 $(x+1)$ 人，则有 $x+5(x+1)=75$ ，解得 $x \approx 11.67$ ，因此行政部门分得新员工最多为 11 人。故本题选 B。

65. 【答案】B。解析：乙杯第一次倒入到甲杯中溶质有 $100 \times 21\%=21$ 克。乙杯加入 200 克水后，浓度为 $\frac{21\% \times 400}{400+200} \times 100\%=14\%$ ，此时倒入甲杯中的溶质有 $300 \times 14\%=42$ 克。综上，最后甲杯中的浓度为 $\frac{18\% \times 400 + 21 + 42}{400+100+300} \times 100\%=16.875\%$ 。故本题选 B。

66. 【答案】D。解析：题干各图形均为中心对称图形，则问号处图形也应为中心对称图形。观察选项，只有 D 项符合。故本题选 D。

67. 【答案】C。解析：题干各图形中元素相同，每个图形中均有 3 个小元素与前一个图形中位置相同。观察选项，只有 C 项符合。故本题选 C。

68. 【答案】C。解析：题干第一组图形中，前两个图形叠加去同存异，得到第三个图形，第二组图形遵循此规律。观察选项，只有 C 项符合，故本题选 C。

69. 【答案】A。解析：题干各图形均为两笔画图形，则问号处图形应为两笔画图形。观察选项，只有 A 项符合。故本题选 A。

70. 【答案】C。解析：A 项带五角星的面和带加号的面是对立面，不可能相邻，排除。B 项带五角星的面的右侧应为空白面，排除。C 项正确。D 项带三角形和带圆圈的面是对立面，不可能相邻，排除。故本题选 C。

71. 【答案】D。解析：“法律援助”的定义要点：①由政府设立的法律援助机构组织法律援助的律师；②为经济困难或特殊案件的人；③无偿提供法律服务。A 项小郑请了一位有名的律师为他打离婚的官司，不符合①②③，排除。B 项“阳光社区”不是经济困难或特殊案件的人，不符合②，排除。C 项没有体现周律师是否是法律援助机构的律师，也无法得知他是否是无偿服务，不符合①③，排除。D 项无亲人的盲人小钱符合②，检察院委派律师担任其辩护人符合①③，符合定义。故本题选 D。

72. 【答案】D。解析：“侧向思维”的定义要点是“利用其他领域里的知识和资讯，从侧向迂回地解决问题，借助系统之外的信息、知识、经验来解决面临的难题”。A项小井遇到题目需使用别的方法做时就不明白了，不是利用其他领域的知识解决问题，不符合定义，排除。B项小泓闻到甜香味道会想起蛋糕，不是利用其它领域的知识解决问题，不符合定义，排除。C项小高用布将坑盖住，并未真正解决问题，不符合定义，排除。D项小张卖鱼收入不高，于是策划钓鱼比赛推动营销，是利用了营销学的知识解决问题，符合定义，当选。故本题选D。

73. 【答案】C。解析：“后喻时代”的定义要点是“在当今高科技时代的某种条件下，晚辈（或学生）由于掌握了一定的新知识新技能，给先辈（或教师）传授知识和培养能力的时代”。A项小华（学生）给老师传授使用多媒体技术的能力，即晚辈教授先辈，符合定义要点，排除。B项梅梅（晚辈）教妈妈动物的英文说法，即晚辈教授先辈，符合定义要点，排除。C项“邀请了大学的博士生导师”不是晚辈教授先辈知识和能力，而是晚辈请先辈来指导，不符合定义要点。D项建辉（晚辈）学会了新的基因技术传授给身为生物学院的爷爷（先辈），即晚辈教授先辈，符合定义要点，排除。故本题选C。

74. 【答案】D。解析：“语言规划”的定义要点是“政府或社会团体对语言文字及其使用进行的有组织、有目的、有计划的人工干预与管理，主要包括语言地位规划、语言本体规划”。A项“立法推广普通话”即政府对语言地位的规划，符合定义要点，排除。B项“制定简化字总表”即对语言本体进行规划，符合定义要点，排除。C项“国家语委规范网络用语”即对网络用语本体进行规划，符合定义要点，排除。D项发展语言教育产业不属于对语言文字及其使用进行的干预和管理，不符合定义要点，当选。故本题选D。

75. 【答案】C。解析：“白化现象”的定义要点是“在正常环境下，植物由于某些内在因素不能形成叶绿素的现象”。A项“污染几年后”即环境不正常，且“白蛇”不是植物，不符合定义要点，排除。B项“化工厂”即环境不正常，不符合定义要点，排除。C项“因遗传”即植物由于内在因素而不能形成叶绿素，符合定义要点。D项“人”不是植物，不符合定义要点，排除。故本题选C。

76. 【答案】B。解析：抽屉是桌子的组成部分，B项树叶是树的组成部分。A项厨房和客厅为反对关系，排除。C项熊猫属于动物，排除。D项鞋和袜子为反对关系，排除。故本题选B。

77. 【答案】C。解析：玉兔和玉盘均指代月亮，C项子规和子鹃均指代杜鹃。A项菊花和桂花二者为反对关系，排除。B项铜剑和铜鼎二者为反对关系，排除。D项今天和当天二者无明显联系，排除。故本题选C。

78. 【答案】C。解析：地震可能会引发海啸，海啸是一种现象。C项滞涨可能会引起经济危机，经济危机是一种现象。A项医生与病人是两种不同身份，排除。B项砝码与天平没有因果关系，排除。D项骚乱可能会引来警察，但警察不是一种现象，排除。故本题选C。

79. 【答案】B。解析：卧薪尝胆出自勾践的故事；B项入木三分出自王羲之的故事。A项破釜沉舟出自项羽的故事，与刘邦无关，排除。C项三顾茅庐出自刘备和诸葛亮的故事，与孙权无关，排除。D项韦编三绝出自孔子的故事，与吕不韦无关，排除。故本题选B。

80. 【答案】C。解析：“与日俱增”和“每况愈下”为反义关系，C项“特立独行”和“亦步亦趋”为反义关系。A项“孜孜以求”与“前赴后继”无明显联系，排除。B项“大公无私”与“光明磊落”无明显联系，排除。D项“胸怀坦荡”与“优柔寡断”无明显联系，排除。故本题选C。

81. 【答案】C。解析：新疆棉花属于中国棉花，棉农种植棉花。C项红木家具属于实木家具，工人打造家具。A项西部城市与二线城市为交叉关系，排除。B项物理学家与天文学家为反对关系，排除。D项国内市场与农村市场为交叉关系，排除。故本题选C。

82. 【答案】B。解析：海水中含有盐分，盐分过高会导致细胞脱水。B项碳酸饮料中含有二氧化碳，二氧化碳过量会导致骨质疏松。A、C、D项前两个词均不是组成关系，排除。故本题选B。

83. 【答案】A。解析：溶质=溶液×浓度，A项总价=单价×数量。B项路程=速度×时间，与工作效率无关，排除。C项工作总量=工作效率×工作时间，与单位效率无关，排除。D项卡和焦耳均为能量单

位，排除。故本题选 A。

84. 【答案】A。解析：选项逐一代入。A 项，口蜜腹剑形容阴险，执迷不悟形容顽固，前后逻辑关系一致。B 项口蜜腹剑不形容圆滑，摇摆不定形容犹豫，前后关系不一致，排除。C 项口蜜腹剑与单纯无关，泥古不化形容顽固，前后逻辑关系不一致，排除。D 项口蜜腹剑形容狡猾，负材矜地形容自负骄傲，前后关系不一致，排除。故本题选 A。

85. 【答案】D。解析：选项逐一代入。A 项花木与树木二者是交叉关系，青山与假山是反对关系，前后逻辑关系不一致，排除。B 项部分花木经过加工后成为木雕，假石与假山二者之间为反对关系，前后逻辑关系不一致，排除。C 项花盆是种植花木的地方，花园是放置假山的地方，但前后词语位置相反，排除。D 项花木可以用来制作盆景，石头可以用来制作假山，前后逻辑关系一致，当选。故本题选 D。

86. 【答案】A。解析：题干论点：两人中谁能当选完全取决于教授们的投票。论据：教授 23 人，副教授 38 人，讲师 20 人，助教 26 人，另外 3 名行政教辅人员都是兼职教师，通过民主推荐的方式从张明和方敏两位候选人中产生一位院长。A 项排除了教授、副教授以外的教师的投票干扰，则两人中谁能当选完全取决于教授们的投票，直接支持题干论点。B、D 项与论点无关，均排除。C 项说明在副教授中得票率完全相同，不能排除教授、副教授以外的教师的投票干扰，排除。故本题选 A。

87. 【答案】B。解析：题干论点：了解家族史，有助于更好地预防糖尿病。论据：糖尿病是一种由多病因引起的以慢性高血糖为特征的代谢性疾病，是多种因素共同作用的结果，有家族集聚现象。家族史是提示可能患糖尿病风险的重要依据。A 项：假设该项不成立，家族集聚现象没有体现在家族史中，不能说明了解家族史是否能更好地预防糖尿病，排除。B 项：假设该项不成立，则了解糖尿病风险不能有助于预防糖尿病，则题干论证不成立，因此该项是论证成立的必要条件，当选。C 项：人们是否有途径了解自己的家族史与了解家族史是否有助于预防糖尿病无关，排除。D 项：其他引发糖尿病的因素与题干论证无关，排除。故本题选 B。

88. 【答案】B。解析：选项逐一代入。A 项若礼物是小红买的，则小丽说的话全对，排除。B 项若礼物是小丽买的，则小红前半句对，后半句错，小丽前半句错，后半句对，小明前半句对，后半句错，符合题意，当选。C 项若礼物是小明买的，则小明说的话全错，小红说的话全对，排除。D 项若礼物是三人共同买的，则小红和小丽说的话全错，排除。故本题选 B。

89. 【答案】B。解析：题干信息翻译为：①世界和平发展→世界经济一体化；②人类的民主→世界经济一体化。建立了全球认可的新规范。A 项否定②的前件，无法推出否定后件，排除。B 项否定②的后件，可以推出否定前件。C 项否定②的前件，无法推出否定后件，排除。D 项否定②的后件的一个联言肢，不能确定另一联言肢的真假，排除。故本题选 B。

90. 【答案】B。解析：题干论点：餐具颜色能直接影响食欲，红色餐具可降低人们 40% 的食量。论据：在人们的传统观念中，红色是极具进攻性的色彩，用红色餐具盛放食物往往会让人难以下咽，因为在潜意识中人们会给自己发出不能吃红色餐具中食物的心理暗示，从而令食欲下降。A 项与餐具无关，排除。B 项指出红色会让人紧张，而紧张时人可能会选择暴饮暴食，因此红色反而会增加人的食量，能够削弱题干论点。C、D 项均属于加强项，排除。故本题选 B。

91. 【答案】C。解析：根据文字材料第一段可知，2017 年小麦种植面积 2399 万公顷，减少 20 万公顷；稻谷种植面积 3018 万公顷，减少 0.2 万公顷；玉米种植面积 3545 万公顷，减少 132 万公顷。棉花种植面积 323 万公顷，减少 12 万公顷。则 2017 年小麦种植面积同比下降 $\frac{20}{2399+20} = \frac{20}{2419}$ ，稻谷同比下降 $\frac{0.2}{3018+0.2} = \frac{0.2}{3018.2}$ ，玉米同比下降 $\frac{132}{3545+132} = \frac{132}{3677}$ ，棉花同比下降 $\frac{12}{323+12} = \frac{12}{335} = \frac{120}{3350}$ 。根据分子分母反向变化比较优先排除 B 项 C、D 项的分子约为 A 项的 6 倍，但分母相差不到 1 倍，则 A 项分

数值小于 C、D 项，排除 A 项。用差分法比较 C、D 项，差分数为 $\frac{132-120}{3677-3350} = \frac{12}{327} = \frac{120}{3270} > \frac{120}{3350}$ ，即

$\frac{132}{3677} > \frac{120}{3350}$ ，排除 D 项。故本题选 C。

92. 【答案】B。解析：根据文字材料第二段可知，2017 年我国棉花产量为 549 万吨，比上年增产 3.5%。

因此 2017 年我国棉花的产量同比增长了 $\frac{549}{1+3.5\%} \times 3.5\% \approx 550 \times (1-3.5\%) \times 3.5\% \approx 18.6$ 万吨，B 项与之最接近。故本题选 B。

93. 【答案】A。解析：根据柱状图可知，2015 年全国粮食产量为 62144 万吨，2014 年为 60703 万吨。因此 2015 年全国粮食产量的增速为 $\frac{62144-60703}{60703} \approx \frac{621-607}{607} = \frac{14}{607} \approx 2.3\%$ 。A 项与之最接近，故本题选 A。

94. 【答案】C。解析：根据文字材料第二段可知，2017 年三种谷物中，稻谷产量 20856 万吨，增产 0.7%；小麦产量 12977 万吨，增产 0.7%；玉米减产 1.7%。稻谷和小麦的同比增速相同，但稻谷的现期量远大于小麦，则稻谷的同比增长量最大。根据文字材料第一段可知，2017 年我国粮食种植面积为 11222 万公顷，稻谷种植面积 3018 万公顷。后者占前者的比重为 $\frac{3018}{11222} \approx \frac{30}{112} \approx 26.8\%$ ，C 项与之最接近。故本题选 C。

95. 【答案】C。解析：A 项错误，根据文字材料第二段可知，2017 年玉米产量为 21589 万吨，减产 1.7%。B 项错误，根据文字材料第二段可知，2017 年谷物产量为 56455 万吨，稻谷产量为 20856 万吨，小麦产量为 12977 万吨，玉米产量为 21589 万吨，稻谷、小麦和玉米的产量之和为 $20856+12977+21589=55422$ 万吨 $\neq 56455$ 万吨。C 项正确，根据文字材料第一、二段可知，2017 年小麦单位面积产量为 $\frac{12977}{2399} \approx \frac{130}{24} \approx 5.4$ 吨/公顷，稻谷为 $\frac{20856}{3018} \approx \frac{210}{30} = 7$ 吨/公顷，玉米为 $\frac{21589}{3545} = \frac{216}{35} \approx 6.1$ 吨/公顷，最高的是稻谷。D 项错误，根据文字材料第一、二段可知，2017 年油料产量增长率为 2.8%，油料种植面积增长率为 $\frac{7}{1420-7} = \frac{7}{1413} \approx 0.5\%$ ，前者大于后者。故本题选 C。

96. 【答案】A。解析：根据材料第二段可知，2018 年全年服务贸易进出口额 3815 亿元，比上年增长 83.5%。因此 2017 年，全年服务贸易进出口额为 $\frac{3815}{1+83.5\%} \approx \frac{3815}{1.83} \approx 2084$ 亿元，A 项与之最接近。故本题选 A。

97. 【答案】C。解析：根据材料最后一段可知，2018 年共派出各类劳务人员 22589 人次，外派劳务人员实际收入 12.0 亿元。因此 2018 年外派劳务人员实际平均收入为 $\frac{12 \times 10^4}{22589}$ 万元，利用直除法，首位为 5，只有 C 项符合。故本题选 C。

98. 【答案】A。解析：根据材料第一段可知，2018 年全年浙江省货物进出口总额 28519 亿元，比上年增长 11.4%；其中，进口 7337 亿元，增长 19.0%。根据两期比重差值公式 $\frac{M}{N} \times \frac{m-n}{1+m}$ 可知，2018 年货物进口额占货物进出口总额的比重上升了 $\frac{7337}{28519} \times \frac{19\%-11.4\%}{1+19\%} = \frac{733}{2850} \times \frac{7.6\%}{1.2} \approx 25.7\% \times \frac{7.6\%}{1.2} \approx 20\% \times 7.6\% \approx 1.52\%$ ，即提高了 1.52 个百分点，A 项与之最接近。故本题选 A。

99. 【答案】B。解析：根据材料第一段可知，2018年机电产品出口9214亿元，增长9.6%；高新技术产品出口1408亿元，增长11.5%。因此2018年机电产品出口增量为 $\frac{9214}{1+9.6\%} \times 9.6\% \approx \frac{9214}{11.5} \approx 801$ 亿元，高新技术产品的出口增长量为 $\frac{1408}{1+11.5\%} \times 11.5\% \approx \frac{1408}{9.5} \approx 148$ 亿元，前者是后者的 $801 \div 148 \approx 5.4$ 倍，B项与之最接近。故本题选B。

100. 【答案】D。解析：A项正确，根据材料第三段可知，2018年新批外商直接投资项目个数同比增长 $\frac{499}{3529-499} \approx \frac{500}{3030} \approx 16.5\%$ 。B项正确，根据材料第三段可知，2017年第三产业合同外资是实际利用外资的 $\frac{307.8}{120} \times \frac{1+2.6\%}{1+28.7\%} \approx 2.55 \times 0.8 = 2.04$ 倍。C项正确，根据材料最后一段可知，2018年国外经济合作完成营业额同比增长 $\frac{518.9}{1+9\%} \times 9\% \approx \frac{519}{12} \approx 43$ 亿元。D项错误，根据材料第三段可知，2017年第二产业中，制造业实际利用外资为 $\frac{59.7}{1+9.2\%} \approx \frac{59}{1.1} \approx 53.6$ 亿美元，超过53亿元。故本题选D。