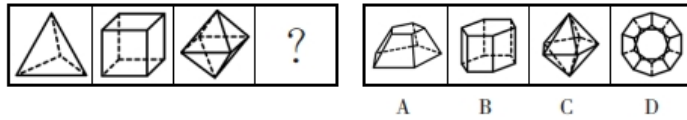


1、(单选题) 下列选项中，符合所给图形的变化规律的是 ()。



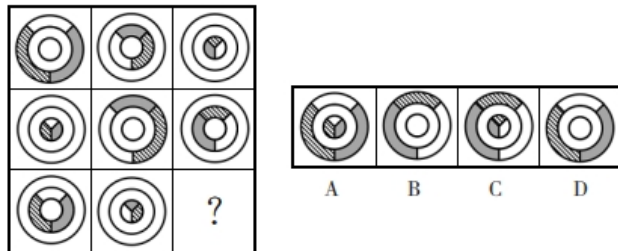
- A : A
- B : B
- C : C
- D : D

2、(单选题) 下列选项中，符合所给图形的变化规律的是 ()。



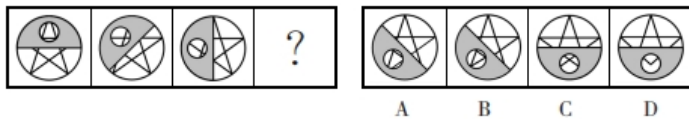
- A : A
- B : B
- C : C
- D : D

3、(单选题) 下列选项中，符合所给图形的变化规律的是 ()。



- A : A
- B : B
- C : C
- D : D

4、(单选题) 下列选项中，符合所给图形的变化规律的是 ()。

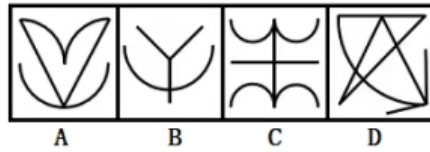


- A : A
- B : B
- C : C
- D : D

5、(单选题) 请从四个选项中最恰当的一项填在问号处，使图形呈现

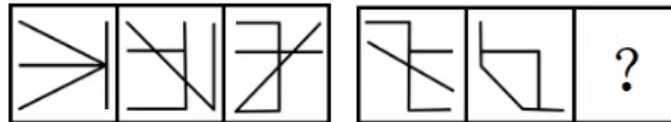


一定的规律性。

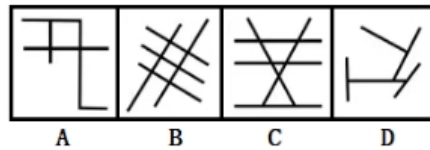


- A : A
- B : B
- C : C
- D : D

6、(单选题) 请从四个选项中最恰当的一项填在问号处，使图形呈现

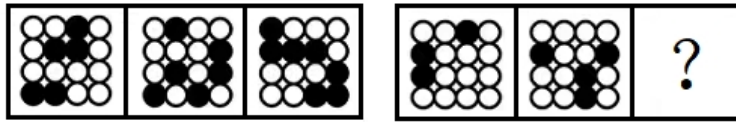


一定的规律性。

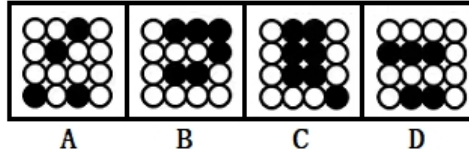


- A : A
- B : B
- C : C
- D : D

7、(单选题) 请从四个选项中最恰当的一项填在问号处，使图形呈现

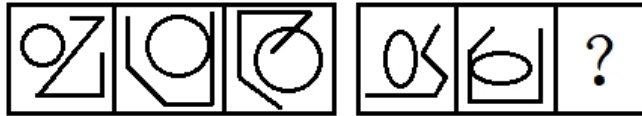


一定的规律性。

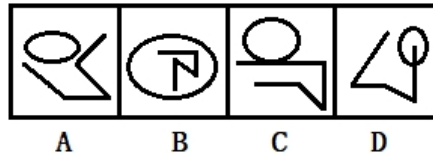


- A : A
- B : B
- C : C
- D : D

8、(单选题) 请从四个选项中最恰当的一项填在问号处，使图形呈现



一定的规律性。

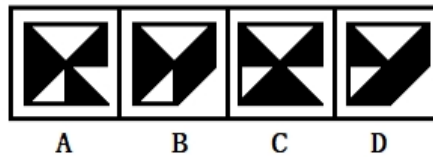


- A : A
- B : B
- C : C
- D : D

9、(单选题) 请从四个选项中最恰当的一项填在问号处，使图形呈现



一定的规律性。



- A : A
- B : B
- C : C
- D : D

材料：

三、类比推理：共10题。每道题先给出一组相关的词，要求你在备选答案中找出一组与之在逻辑关系上最为贴近、相似或匹配的词。

请开始答题：

:

10、(单选题) 荆棘 对于 () 相当于 () 对于 家乡

- A: 艰险 故乡
- B: 困难 桑梓
- C: 挫折 椿萱
- D: 灌木 亲人

材料:

三、类比推理: 共10题。每道题先给出一组相关的词, 要求你在备选答案中找出一组与之在逻辑关系上最为贴近、相似或匹配的词。

请开始答题:

:

11、(单选题) 乐器:竹子:洞箫

- A: 山水画:宣纸:湖笔
- B: 雕塑:泥土:泥塑
- C: 大豆:豆腐:腐竹
- D: 锅铲:熟铁:炒锅

材料:

三、类比推理: 共10题。每道题先给出一组相关的词, 要求你在备选答案中找出一组与之在逻辑关系上最为贴近、相似或匹配的词。

请开始答题:

:

12、(单选题) U盘:网盘:存储

- A: 插头:插座:充电
- B: 广播:电视:宣传
- C: 鼠标:键盘:输出
- D: 眼镜:墨镜:保护

材料:

三、类比推理: 共10题。每道题先给出一组相关的词, 要求你在备选答案中找出一组与之在逻辑关系上最为贴近、相似或匹配的词。

请开始答题:

:

13、(单选题) 重金属:汞:钠

- A: 哺乳动物:海牛:蜘蛛

B : 琵琶曲:十面埋伏:阳春白雪

C : 学校:操场:食堂

D : 汽车:自行车:电动汽车

材料:

三、类比推理:共10题。每道题先给出一组相关的词,要求你在备选答案中找出一组与之在逻辑关系上最为贴近、相似或匹配的词。

请开始答题:

:

14、(单选题) 大李杜:李白:杜甫

A : 小李杜:李贺:杜牧

B : 济南二安:李清照:辛弃疾

C : 元曲四大家:关汉卿:马致远

D : 史学双璧:史记:资治通鉴

材料:

三、类比推理:共10题。每道题先给出一组相关的词,要求你在备选答案中找出一组与之在逻辑关系上最为贴近、相似或匹配的词。

请开始答题:

:

15、(单选题) 不刊之论:不易之论

A : 不负众望:不孚众望

B : 蹉跎岁月:峥嵘岁月

C : 称心如意:差强人意

D : 身无长物:一无所长

材料:

三、类比推理:共10题。每道题先给出一组相关的词,要求你在备选答案中找出一组与之在逻辑关系上最为贴近、相似或匹配的词。

请开始答题:

:

16、(单选题) 白蟹:梭子蟹

A : 人参:西洋参

B : 蟋蟀:蝈蝈

C : 辣椒:朝天椒

D : 章鱼:乌贼

材料:

三、类比推理: 共10题。每道题先给出一组相关的词, 要求你在备选答案中找出一组与之在逻辑关系上最为贴近、相似或匹配的词。

请开始答题:

:

17、(单选题) 凉鞋:高跟鞋

- A: 藜蒿:茼蒿
- B: 棉被:空调被
- C: 牙刷架:置物架
- D: 飞机:火箭

材料:

三、类比推理: 共10题。每道题先给出一组相关的词, 要求你在备选答案中找出一组与之在逻辑关系上最为贴近、相似或匹配的词。

请开始答题:

:

18、(单选题) 书信:请柬

- A: 电子聘书:聘书
- B: 正数:负数
- C: 绿茶:安吉白茶
- D: 面试:面谈

材料:

二、定义判断: 共10题。每道题先给出定义, 然后列出四种情况, 要求你严格依据定义, 从中选出一个最符合或最不符合该定义的答案。注意: 假设这个定义是正确的, 不容置疑的。

请开始答题:

:

19、(单选题) 财产转让所得税是指个人转让有价证券、股权、建筑物、土地使用权、机器设备、车船以及其他财产取得的所得而征收的一种税, 财产转让所得税的计征方法: 按次计征。偶然所得税是对个人得奖、中奖、中彩以及其他偶然性质的所得而征收的一种税, 偶然所得应纳的个人所得税一律由支付单位扣缴。根据上述定义, 下列说法正确的是 ()。

- A: 老张外出经商, 将家中的仓库以十万元一年的价格出租给朋友, 老张按次计征财产转让所得税
- B: 小张在商场周年庆活动中抽中了特等奖, 领取奖品后他需要自己另外缴纳偶然所得税
- C: 张爷爷因退休回老家, 将自己名下的三套房子分两次卖出去, 需要缴纳三次财产转让所得税

D：张叔叔出售自己所持有的股票，每出售一次，都需要缴纳一次财产转让所得税

材料：

二、定义判断：共10题。每道题先给出定义，然后列出四种情况，要求你严格依据定义，从中选出一个最符合或最不符合该定义的答案。注意：假设这个定义是正确的，不容置疑的。

请开始答题：

：

20、(单选题) 巧缀是故意曲解一个词语或事物，然后就势说开去，从而把两个意义上没有联系的词语或事物巧妙地连缀起来的一种修辞手法。根据上述定义，下列没有运用巧缀的是（ ）。

A：甲：“武则天是数学家，四舍五入是她发明的。”乙：“没听说过。”甲：“四则舍，五则（武则天）嘛！”

B：甲：“我们单位的领导看我不顺眼，经常给我小鞋穿。”乙：“那可够难受。怪不得你走路老是一跛一跛的。”

C：有人说，我是把自己钉在马路上了，这话挺形象的。我爱马路，马路也爱我。我爱人那干脆你们俩一起过日子去

D：天冷了，给你寄了件大衣，邮局说太重，我就把扣儿较下来放口袋里了，你自己缝吧

材料：

二、定义判断：共10题。每道题先给出定义，然后列出四种情况，要求你严格依据定义，从中选出一个最符合或最不符合该定义的答案。注意：假设这个定义是正确的，不容置疑的。

请开始答题：

：

21、(单选题) 超限效应指刺激过多、过强或作用时间过久，从而引起被刺激者极不耐烦或逆反的心理现象。根据上述定义，下列不属于超限效应的是（ ）。

A：小华父母经常吵架，填高考志愿时小华毫不犹豫选择了外省学校

B：小雪和朋友闹了矛盾，长时间不解决便成了一种心病

C：小星偶尔“踩点”上班，被领导多次提醒后反而变本加厉甚至迟到

D：小晴因丢了一笔钱被母亲念叨一整天，她一气之下离家出走

材料：

二、定义判断：共10题。每道题先给出定义，然后列出四种情况，要求你严格依据定义，从中选出一个最符合或最不符合该定义的答案。注意：假设这个定义是正确的，不容置疑的。

请开始答题：

：

22、(单选题) 紧急避险是指为了使国家、公共利益、本人或者他人的人身、财产和其他权利免受正在发生的危险，不得已采取的紧急避险行为，造成损害的，不负刑事责任。其中关于避免本人危险的规定，不适用于职务上、业务上负有特定责任的人。根据上述定义，下列属于紧急避险的是（ ）。

- A：张大妈正在小区里散步，突然从草丛里窜出一条狗，她慌忙躲避，导致自己的脚扭伤
- B：某主治医生为了防止自己感染，拒绝为这名患有艾滋病的孕妇接生
- C：陈某为躲避仇人的追杀，推开正要骑车的王某，抢走了王某的电动车
- D：李某驾驶私家车送女友参加考试，因时间紧迫而闯了红灯，与另一辆私家车发生剐蹭

材料：

二、定义判断：共10题。每道题先给出定义，然后列出四种情况，要求你严格依据定义，从中选出一个最符合或最不符合该定义的答案。注意：假设这个定义是正确的，不容置疑的。

请开始答题：

：

23、(单选题) 无因管理，是指没有法定的或约定的义务，为避免他人利益受损失，自愿管理他人事务或为他人提供服务的行为。根据上述定义，下列属于无因管理的是（ ）。

- A：甲的猪丢失，误将他人的猪当作自家的猪饲养
- B：乙将自己5岁的侄子带到海边玩耍，小孩不慎落水，乙将其救起
- C：丙捡到一只小猫，爱猫心切的他将其抚养，并为其寻找失主
- D：丁作为一名入党积极分子，积极参加学校的志愿者活动

材料：

二、定义判断：共10题。每道题先给出定义，然后列出四种情况，要求你严格依据定义，从中选出一个最符合或最不符合该定义的答案。注意：假设这个定义是正确的，不容置疑的。

请开始答题：

：

24、(单选题) 观众效应是指在一些场合，有别人在场，活动效率发生明显变化的现象。社会心理学的研究证明，他人在场产生的“观众效应”，既有促进个体行为效率的一种，同时，在某种情况下，也有干扰个体活动效率的一种。根据上述定义，下列不属于观众效应的是（ ）。

- A：小张上台述职前已做好充分准备，上台后看到底下的观众却紧张得一句话也说不出
- B：小李单独做作业时效率很低，在母亲的监督下效率会提高不少
- C：小刘身为厂长，每天都坚持去生产线进行参观，对员工有督导作用
- D：做科学实验时，小王更喜欢小组合作，对他来说独自完成有难度

材料：

二、定义判断：共10题。每道题先给出定义，然后列出四种情况，要求你严格依据定义，从中选出一个最符合或最不符合该定义的答案。注意：假设这个定义是正确的，不容置疑的。

请开始答题：

：

25、(单选题) 红色旅游主要是以中国共产党领导人民在革命和战争时期建树丰功伟绩所形成的纪念地、标志物为载体，以其所承载的革命历史、革命事迹和革命精神为内涵，组织接待旅游者开展缅怀学习、参观游览的主题性旅游活动。根据上述定义，下列不属于红色旅游的是（ ）。

- A：小马暑假跟同学们去了南昌起义总指挥部的旧址，感受革命烈士的大无畏精神
- B：小叶曾跟随家人参观过广安市邓小平故居，被这位伟人的事迹所打动
- C：小王家住郑州二七区，每天上班都能经过二七纪念堂，每次经过都会抬头观望
- D：小杨因喜欢周恩来，去参观了天津觉悟社纪念馆，感受总理对革命活动的战斗历程

材料：

二、定义判断：共10题。每道题先给出定义，然后列出四种情况，要求你严格依据定义，从中选出一个最符合或最不符合该定义的答案。注意：假设这个定义是正确的，不容置疑的。

请开始答题：

：

26、(单选题) 程序性知识是一类动态的知识，是指个人没有有意识提取线索，只能借助某种作业形式间接推论其存在的知识。陈述性知识是一类静态的知识，是指个人有意识提取线索，因而能够直接加以回忆和陈述的知识。根据上述定义，下列属于程序性知识的是（ ）。

- A：计算机数据输入
- B：圆的周长与直径的比
- C：五四运动发生于1919年
- D：达尔文进化论

材料：

二、定义判断：共10题。每道题先给出定义，然后列出四种情况，要求你严格依据定义，从中选出一个最符合或最不符合该定义的答案。注意：假设这个定义是正确的，不容置疑的。

请开始答题：

：

27、(单选题) PPP模式是公共基础设施中的一种项目运作模式。在该模式下，鼓励私营企业、民营资本与政府进行合作，参与公共基础设施的建设。根据上述定义，下列属于PPP模式的是（ ）。

- A：某高校通过招标，决定由甲公司负责建造该校的体育馆
- B：某市行政机关通过了乙房地产开发公司关于在该市中心建造商场的审批

- C：某市交通管理部门与丙公司合作修建一公路，有效缓解了该市政府的投资压力
- D：某市政府与丁律师事务所签订合同，丁律师事务所将为该市政府提供法律咨询服务

材料：

二、定义判断：共10题。每道题先给出定义，然后列出四种情况，要求你严格依据定义，从中选出一个最符合或最不符合该定义的答案。注意：假设这个定义是正确的，不容置疑的。

请开始答题：

：

28、(单选题) 附属内驱力是指为了保持长者们（如教师、家长）或集体的赞许或认可，而表现出要把学习或工作做好的一种需要。这种动机特征在年幼儿童的学习活动中比较突出，表现为追求良好的学习成绩，目的就是要得到赞扬和认可。根据上述定义，下列涉及附属内驱力的是（ ）。

- A：小孙为了给弟弟做个好榜样，努力学习，被学校评选为了三好学生
- B：小赵在口语比赛中获得了第一名的好成绩，得到了老师和父母的夸奖
- C：小钱为了校运动会的接力赛，每天放学后和队友一起练习起步、接棒
- D：小李为了让语文老师选择自己当课代表，每次语文课都很积极认真

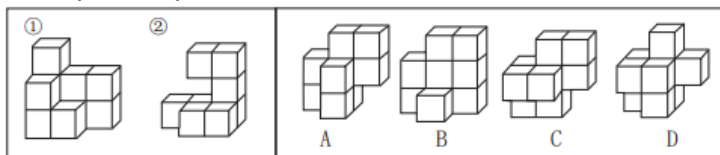
材料：

一、图形推理：共10题。请按每道题的答题要求作答。

请开始答题：

：

29、(单选题) 下列哪个选项可以与①和②组成一个立方体？（ ）



- A：A
- B：B
- C：C
- D：D

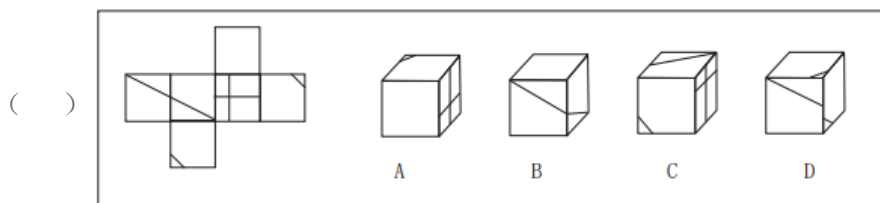
材料：

一、图形推理：共10题。请按每道题的答题要求作答。

请开始答题：

：

30、(单选题) 左边是给定纸盒的外表面，以下哪一项能由它折叠而成？



- A : A
 B : B
 C : C
 D : D

1、(单选题)

正确答案是： C

解析：

本题考查位置类规律。

第一步：观察图形。题干各图形组成基本相同，考虑位置类规律。题干各图形相邻比较发现，第一个图形左下角的六边形缩小，上方的正方形放大并逆时针移动1个位置到左下角，成为六边形的外框，其余保持不变；第二个图形右下角的五边形缩小，左下角的六边形放大并逆时针移动1个位置到右下角，成为五边形的外框，其余保持不变。则问号处图形应由第三个图形移动得到，即第三个图形上方的圆缩小，右下角的五边形放大并逆时针移动1个位置到上方，成为圆的外框，其余保持不变。

第二步：分析选项，确定答案。

A项：不符合题干移动规律，排除。

B项：不符合题干移动规律，排除。

C项：符合题干移动规律，当选。

D项：不符合题干移动规律，排除。

故本题选C。

2、(单选题)

正确答案是： C

解析：

本题考查数量类规律。

第一步：观察图形。题干各图形组成不相似，存在较多面，考虑数量类规律。题干各图形均为立体图形，且各立体图形的外表面数依次为：4、6、8，则问号处立体图形的外表面数应为10。

第二步：分析选项，确定答案。

A项：立体图形的外表面数为7，排除。

B项：立体图形的外表面数为8，排除。

C项：立体图形的外表面数为10，当选。

D项：仅底面已有10个面，排除。

故本题选C。

3、(单选题)

正确答案是： B

解析：

本题考查形状类规律。

第一步：观察图形。题干各图形组成相似，每列图形的花色重复出现，考虑形状类规律。题干九宫格前两列图形白色、灰色、阴影组成的圈依次出现在内圈、中间圈和外圈，且相对位置保持不变，第三列遵循此规律。则问号处图形的外圈应为白色、灰色、阴影组成的圈，中间圈与内圈均为白色。

第二步：分析选项，确定答案。

A项：不符合题干遍历规律，排除。

B项：符合题干遍历规律，当选。

C项：不符合题干遍历规律，排除。

D项：白色、灰色、阴影相对位置发生变化，排除。

故本题选B。

4、(单选题)

正确答案是： A

解析：

本题考查位置类规律。

第一步：观察图形。题干各图形组成相同，考虑位置类规律。题干图形均由上下两层叠加而成，上层为挖掉一个圆的灰色半圆，下层为一个含有内切五角星的圆。题干各图形下层均保持不变，上层图形依次逆时针旋转 45° 得到下一个图形，问号处图形遵循此规律。

第二步：分析选项，确定答案。

A项：符合题干旋转规律，当选。

B项：不符合题干旋转规律（通过上层被挖掉的小圆不可能看到下层内切五角星的整个角），排除。

C项：不符合题干旋转规律，排除。

D项：不符合题干旋转规律，排除。

故本题选A。

5、(单选题)

正确答案是： A

解析：

本题考查数量类规律。

第一步：观察图形。题干各图形组成不相似，线条凌乱，考虑数量类规律。题干第一组各图形的直线数依次为：4、4、2，曲线数依次为：2、3、2，直线数减曲线数依次为：2、1、0。第二组前两个图形的直线数依次为：6、3，曲线数依次为：5、3，直线数减曲线数依次为：1、0，因此问号处图形直线数减曲线数应为-1。

第二步：分析选项，确定答案。

A项：直线数减曲线数为-1，当选。

B项：直线数减曲线数为2，排除。

C项：直线数减曲线数为-2，排除。

D项：直线数减曲线数为5，排除。

故本题选A。

6、(单选题)

正确答案是： B

解析：

本题考查数量类规律。

第一步：观察图形。题干各图形存在明显封闭空间，优先考虑数量类规律。题干第一组图形的封闭空间数依次为：0、1、2，第二组前两个图形的封闭空间数依次为：0、1，则问号处图形的封闭空间数应为2。

第二步：分析选项，确定答案。

A项：封闭空间数为1，排除。

B项：封闭空间数为2，当选。

C项：封闭空间数为3，排除。

D项：封闭空间数为0，排除。

故本题选B。

7、(单选题)

正确答案是： D

解析：

本题考查数量类规律。

第一步：观察图形。题干各图形组成相似，黑球数量递增，考虑数量类规律。

题干第一组图形中黑球的数量依次为：5、6、7，第二组前两个图形的黑球数量依次为：3、4，则问号处图形的黑球数量应为5。

第二步：分析选项，确定答案。

A项：黑球数量为4，排除。

B项：黑球数量为6，排除。

C项：黑球数量为7，排除。

D项：黑球数量为5，当选。

故本题选D。

8、(单选题)

正确答案是： D

解析：

本题考查关系类规律。

第一步：观察图形。题干各图形均由1个圆和1条折线组成，元素之间存在明显相切、相交，考虑关系类规律。第一组图形中圆与折线的关系分别为：相离、相切、相交，第二组前两个图形中圆与折线的关系分别为：相离、相切，则问号处图形中圆与折线的关系应是相交。

第二步：分析选项，确定答案。

A项：圆与折线的关系为相离，排除。

B项：圆与折线的关系为包含，排除。

C项：圆与折线的关系为相切，排除。

D项：圆与折线的关系为相交，当选。

故本题选D。

9、(单选题)

正确答案是： A

解析：

本题考查形状类规律。

第一步：观察图形。题干各图形元素组成相似，且相同线条重复出现，优先考虑形状类规律。题干第一组前两个图形叠加得到第三个图形，且不同部分变为黑色。第二组图形遵循此规律，则问号处图形应由第二组前两个图形叠加得

到。

第二步：分析选项，确定答案。

A项：符合题干叠加规律，当选。

B项：不符合题干叠加规律，排除。

C项：不符合题干叠加规律，排除。

D项：不符合题干叠加规律，排除。

故本题选A。

10、(单选题)

正确答案是： B

解析：

选项逐一代入。

A项“荆棘”比喻艰险的境地，故乡与家乡为近义关系，前后关系逻辑不一致，排除。

B项荆棘象征困难，桑梓象征家乡，前后逻辑关系一致。

C项荆棘象征挫折，椿萱象征父母，而不是家乡，前后逻辑关系不一致，排除。

D项荆棘是一种灌木，家乡有亲人，前后逻辑关系不一致，排除。

故本题选B。

11、(单选题)

正确答案是： B

解析：

洞箫是一种乐器，竹子是洞箫的原材料；

B项泥塑是一种雕塑，泥土是泥塑的原材料。

A项宣纸与湖笔为反对关系，排除。

C项豆腐与腐竹的原材料都是大豆，排除。

D项锅铲与炒锅为配套使用关系，排除。

故本题选B。

12、(单选题)

正确答案是： B

解析：

U盘与网盘均有存储的功能，且U盘与网盘为反对关系；

B项广播和电视均有宣传的功能，且广播与电视为反对关系。

A项插头和插座需配套使用，排除。

C项鼠标和键盘均有输入的功能，而非输出，排除。

D项墨镜与眼镜为种属关系，排除。

故本题选B。

13、(单选题)

正确答案是： A

解析：

汞是重金属，钠不是重金属；

A项海牛是哺乳动物，蜘蛛不是哺乳动物。

B项《十面埋伏》和《阳春白雪》都是琵琶曲，排除。

C项操场和食堂都是学校的组成部分，排除。

D项汽车与自行车为反对关系，排除。

故本题选A。

14、(单选题)

正确答案是： B

解析：

“大李杜”指的是李白和杜甫，且只包含两位诗人；

B项“济南二安”指的是李清照和辛弃疾，且只包含两位诗人。

A项“小李杜”指的是李商隐和杜牧，排除。

C项“元曲四大家”指的是关汉卿、马致远、白朴、郑光祖，排除。

D项“史学双璧”指的是《史记》和《资治通鉴》，但二者为书籍，排除。

故本题选B。

15、(单选题)

正确答案是： C

解析：

“不刊之论”比喻不能改动或不可磨灭的言论，“不易之论”指不可更改的言论，二者为近义关系；

C项“称心如意”指完全合乎心意，“差强人意”指勉强使人满意，二者为近义关系。

A项“不负众望”指为人所信服，很争气，不辜负大家的期望，“不孚众望”指不能使大家信服，未符合大家的期望，二者为反义关系，排除。

B项“蹉跎岁月”指虚度光阴，“峥嵘岁月”形容不平凡的年月，二者无明显联系，排除。

D项“身无长物”指身边没有多余的东西，“一无所长”指没有一点儿特长，二者无明显联系，排除。

故本题选C。

16、(单选题)

正确答案是： B

解析：

白蟹与梭子蟹为全同关系，B项蟋蟀与蚰蚰为全同关系。

A项人参与西洋参为反对关系，排除。

C项朝天椒属于辣椒，排除。

D项章鱼与乌贼为反对关系，排除。

故本题选B。

17、(单选题)

正确答案是： B

解析：

凉鞋与高跟鞋为交叉关系，B项棉被与空调被为交叉关系。

A项藜蒿与茼蒿为反对关系，排除。

C项牙刷架属于置物架，二者为种属关系，排除。

D项飞机与火箭均属于飞行器，二者为反对关系，排除。

故本题选B。

18、(单选题)

正确答案是： C

解析：

请柬属于书信，C项安吉白茶属于绿茶。

A项电子聘书属于聘书，但词语前后位置与题干相反，排除。

B项正数与负数为反对关系，排除。

D项有的面试是面谈，有的面试（无领导小组）不是面谈，有的面谈是面试，有的面谈（相亲）不是面试，二者为交叉关系，排除。

故本题选C。

19、(单选题)

正确答案是： D

解析：

“财产转让所得税”的定义要点：①个人转让有价证券、股权、建筑物、土地使用权、机器设备、车船以及其他财产取得的所得而征收的一种税；②按次计征。“偶然所得税”的定义要点：①个人得奖、中奖、中彩以及其他偶然性质的所得而征收的一种税；②一律由支付单位扣缴。

A项老张将仓库出租给朋友，不属于转让，不符合“财产转让所得税”的定义要点，说法错误，排除。

B项“小张抽中特等奖”符合缴纳偶然所得税的情况，但“自己另外缴纳”不符合偶然所得税的缴纳方式，说法错误，排除。

C项张爷爷分两次卖了三套房子，根据“财产转让所得税”的定义要点②，应缴纳两次财产转让税，说法错误，排除。

D项张叔叔出售股票，按次缴纳财产转让所得税，符合“财产转让所得税”的定义要点，说法正确，当选。

故本题选D。

20、(单选题)

正确答案是：D

解析：

“巧缀”的定义要点：①故意曲解一个词语或事物；②把两个意义上没有联系的词语或事物巧妙地连缀起来。

A项将“五则添”曲解为“武则天”，符合①，四舍五入是武则天发明的，符合②，符合定义要点，排除。

B项甲的领导经常给甲小鞋穿的本意是领导经常在背后整甲，但乙却故意将“给我小鞋穿”曲解成它的字面意义“给我穿小尺码的鞋子”，并顺势展开说穿小尺码的鞋子走路不舒服，以至于老是一跛一跛的，符合①②，符合定义要点，排除。

C项“马路也爱我”是将马路拟人化，但是“我爱人”故意将马路曲解为一个人，说“那干脆你们俩一起过日子去”，符合①②，符合定义要点，排除。

D项邮局说大衣太重，“我”把大衣扣儿较下来本来是为了减轻邮件的重量，但把扣儿放在口袋里却又增加了重量，不但邮件的重量前后不变，并且还使大衣受到了损害，不存在故意曲解，而是直接制造错误，不符合①，当选。

故本题选D。

21、(单选题)

正确答案是：B

解析：

“超限效应”的定义要点是“刺激过多、过强或作用时间过久，从而引起被刺激者极不耐烦或逆反的心理现象”。A项小华因父母经常吵架而感到不耐烦，符合定义要点，排除。

B项小雪和朋友的矛盾不解决而成了心病，没有体现出不耐烦或逆反的心理，不符合定义要点，当选。

C项小星偶尔“踩点”上班，被领导多次提醒，他反而变本加厉甚至迟到，体现出了逆反心理，符合定义要点，排除。

D项小晴因丢了一笔钱被母亲念叨一整天而离家出走，体现出了逆反心理，符合定义要点，排除。

故本题选B。

22、(单选题)

正确答案是： C

解析：

“紧急避险”的定义要点是“为了使国家、公共利益、本人或者他人的人身、财产和其他权利免受正在发生的危险，不得已采取的紧急避险行为，造成损害的，不负刑事责任，不适用于职务上、业务上负有特定责任的人”。

A项仅指出张大妈为躲避狗导致自己的脚扭伤，未说明窜出的狗是否会导致危险，不符合定义要点，排除。

B项指出主治医生拒绝为患有艾滋病的孕妇接生，主治医生属于业务上负有特定责任的人，不适用紧急避险，排除。

C项“陈某为躲避仇人的追杀”符合本人的人身权利正在发生危险，“抢走了王某的电动车”符合不得已采取的紧急避险行为，符合定义要点，当选。

D项因时间紧迫而闯红灯，不是人身、财产和其他权利正在发生危险，不符合定义要点，排除。

故本题选C。

23、(单选题)

正确答案是： C

解析：

“无因管理”的定义要点是“没有法定的或约定的义务，为避免他人利益受损失，自愿管理他人事务或为他人提供服务”。

A项甲误将他人的猪当自家的猪饲养，不是为了避免他人利益受损失，不符合定义要点，排除。

B项乙将自己5岁的侄子带到海边玩耍，乙负有保护其安全的法定义务，不符合定义要点，排除。

C项丙捡到一只小猫将其抚养，并为其寻找失主，属于自愿管理他人事务并为人提供服务，符合定义要点，当选。

D项丁作为一名入党积极分子，积极参加学校的志愿者活动，不是为避免他人利益受损失，不符合定义要点，排除。

故本题选C。

24、(单选题)

正确答案是： D

解析：

“观众效应”的定义要点是“在一些场合，有别人在场，活动效率发生明显变化的现象”。

A项小张上台后因为有观众在场，紧张得一句话也说不出，说明被他人当场干扰，体现了观众效应，符合定义要点，排除。

B项小李在母亲的监督下，活动效率提高，体现了观众效应，符合定义要点，排除。

C项小刘监督生产线对员工有督导作用，体现了观众效应，符合定义要点，排除。

D项小王更喜欢小组合作，没有体现活动效率发生变化，不符合定义要点，当选。

故本题选D。

25、(单选题)

正确答案是： C

解析：

“红色旅游”的定义要点：①以中国共产党领导人民在革命和战争时期建树丰功伟绩所形成的纪念地、标志物为载体，以其所承载的革命历史、革命事迹和革命精神为内涵；②组织接待旅游者开展缅怀学习、参观游览。

A项南昌起义总指挥部旧址，符合①，感受革命烈士的大无畏精神，符合②，符合定义要点，排除。

B项邓小平故居，符合①，为这位伟人的事迹所打动，符合②，符合定义要点，排除。

C项每次经过都会抬头观望不等同于进行缅怀学习，且未体现参观游览，不符合②，当选。

D项天津觉悟社纪念馆，符合①，感受总理对革命活动的战斗历程，符合②，符合定义要点，排除。

故本题选C。

26、(单选题)

正确答案是： A

解析：

“程序性知识”的定义要点：①个人没有有意识提取线索；②只能借助某种作业形式间接推论其存在。

A项计算机数据输入是个人没有有意识提取线索，且只能借助“输入”这种作业形式间接推论其存在，符合定义要点，当选。

B项圆的周长与直径的比是能直接推论其存在的知识，不符合②，排除。

C项五四运动发生于1919年是能直接推论其存在的知识，不符合②，排除。

D项达尔文进化论是个人有意识提取线索，不符合①，排除。

故本题选A。

27、(单选题)

正确答案是： C

解析：

“PPP模式”的定义要点：①私营企业、民营资本与政府进行合作；②公共基础设施的建设。

A项高校的体育馆不属于公共基础设施，不符合②，排除。

B项行政机关通过乙房地产开发公司的审批，是行政机关的职能，并未体现合作，不符合①，排除。

C项市交通部门与丙公司合作，符合①，公路属于公共基础设施，符合②，符合定义要点，当选。

D项丁律师事务所为该市政府提供的法律咨询服务不属于公共基础设施，不符合②，排除。

故本题选C。

28、(单选题)

正确答案是： D

解析：

“附属内驱力”的定义要点是“为了保持长者们（如教师、家长）或集体的赞许或认可，而表现出要把学习或工作做好的一种需要”。

A项小孙努力学习是为了给弟弟做个好榜样，不符合定义要点，排除。

B项未体现小赵追求良好学习成绩的动机，不符合定义要点，排除。

C项未体现小钱追求良好成绩的动机，不符合定义要点，排除。

D项小李是为了获得语文老师的认可，上课积极认真，符合定义要点，当选。

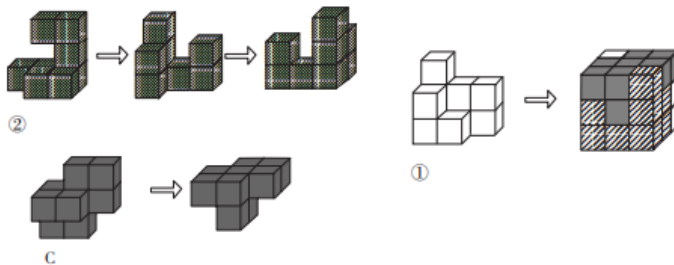
故本题选D。

29、(单选题)

正确答案是： C

解析：

题干图形为组合图，可画图进行拼凑。如下图所示，①、②和C项可以组成一个立方体。



故本题选C。

30、(单选题)

正确答案是： B

解析：

A项假设正面和右面正确，则顶面的三角形应位于左下角，排除。

B项能由题干展开图折叠而成，当选。

C项假设正面和右面正确，则顶面三角形的斜边应从右下角到左边中点，排除。

D项假设顶面和右面正确，则正面三角形的斜边应从右下角到左边中点，排除。

故本题选B。