

浙江农林大学继续教育学院考试卷 (A 卷)

教学点(分院): 绍兴前进站

课程名称: 阴影透视 层次: 专升本 学习形式: 函授 考试方式: 闭卷

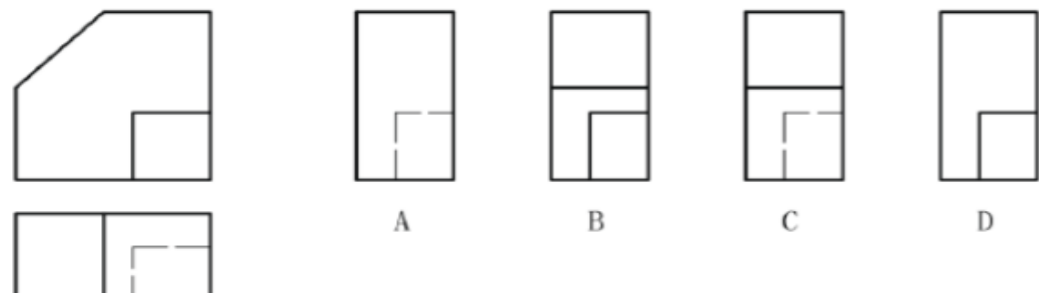
(2023 学年第一学期)

- 注意事项: 1、本试卷满分 100 分。
2、考试时间 120 分钟。

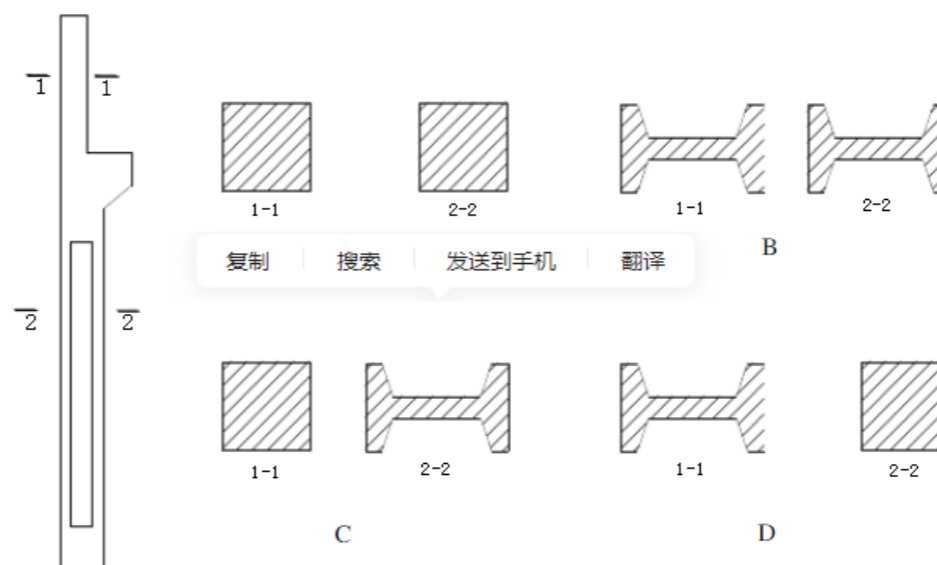
题号	一	二	三	四	五	六	七	八	得分
得分									
评阅人									

一、单项选择题 (20 分)

1. 详图符 $\frac{6}{3}$ 号 代表的含义是。()
- A. 对应本张图纸内编号为 6 的详图 B. 对应本张图纸内编号为 3 的详图
C. 对应第 6 张图纸内编号为 3 的详图 D. 对应第 3 张图纸内编号为 6 的详图
2. 图样的比例, 应为() 相对应的线性尺寸之比。
- A. 实物与图形 B. 图形与实物 C. 图形与建筑物 D. 模型与实物
3. 房屋建筑的各种视图主要是采用() 绘制的。
- A. 正投影法 B. 平行投影法 C. 斜投影法 D. 标高投影法
4. 根据形体的 H 面和 V 面投影 (左图所示), 选择正确的 W 投影 ()



5. 某构件及剖切位置如下图所示, 与之对应的断面图应为 ()

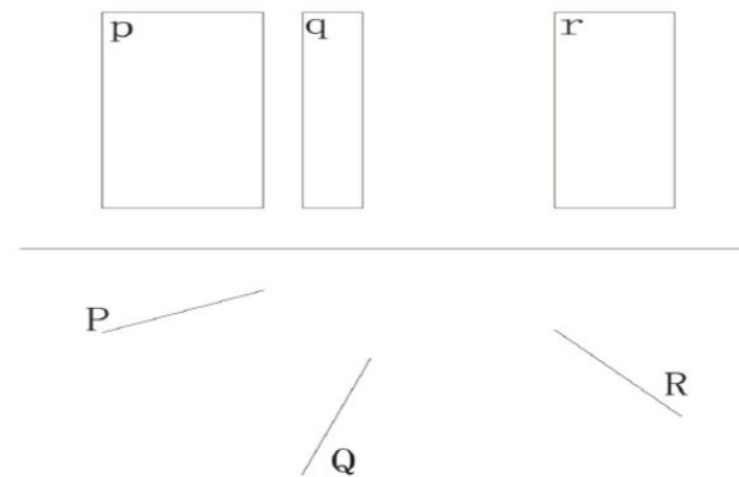


二、判断题 (在表述正确题目的括号内画“√”, 错误的画“×”, 15 分)

- () 1. 建筑形体透视图具有近大远小、近高远低、近疏远密的特性。
- () 2. 一点透视又称为平行透视。
- () 3. 折影点一定在两平面的交线上。
- () 4. 在透视图, 迹点在基线上, 灭点在视平线上。
- () 5. 常用光线的三个投影 s, s', s'' 与投影轴的夹角均为 45° 。

三、填空题 (25 分)

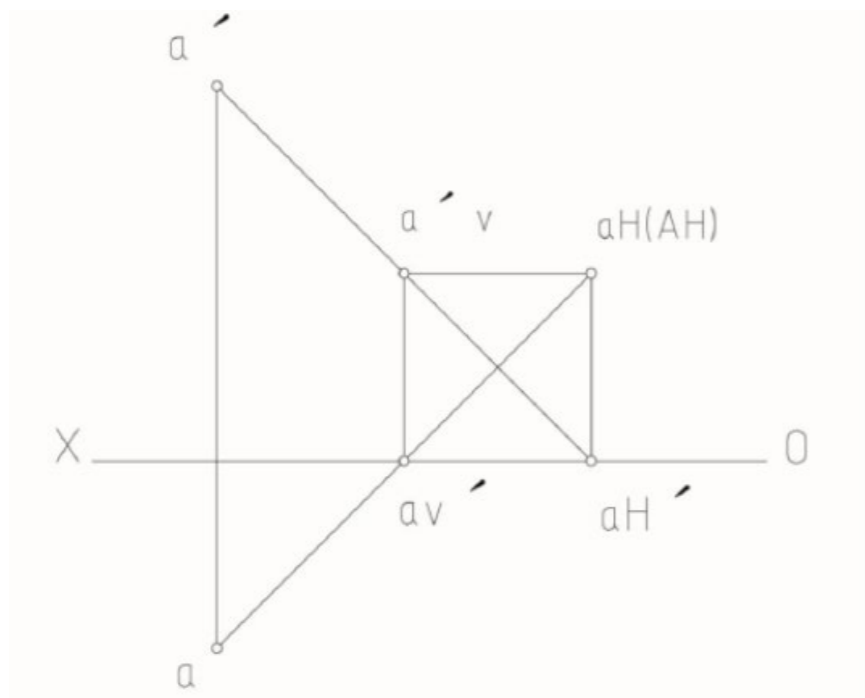
1. 判断以下各面的阴阳面 (在括号中填阴面或者阳面)



学号: _____ 姓名: _____ 专业班级: _____ 学院: _____

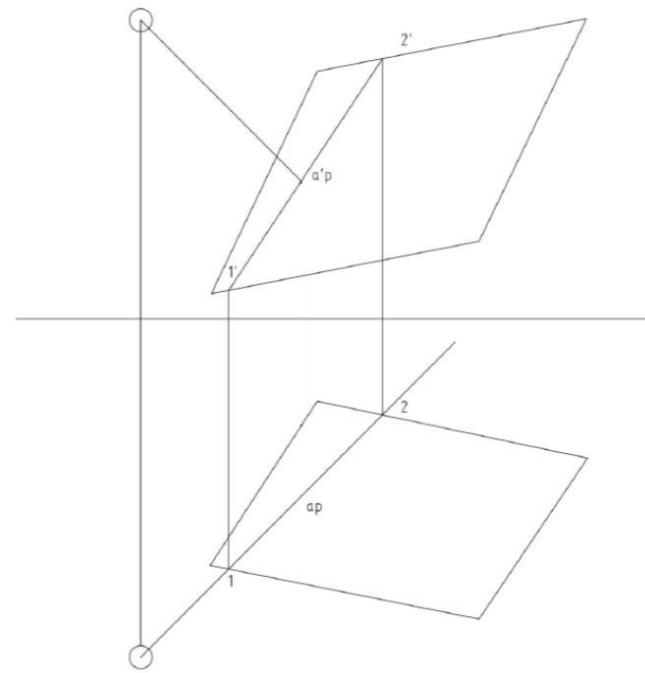
题 答 要 不 内 线 订 装

2. 判断正投影图中的真影和假影。

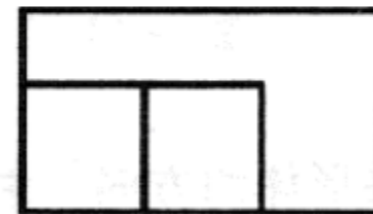
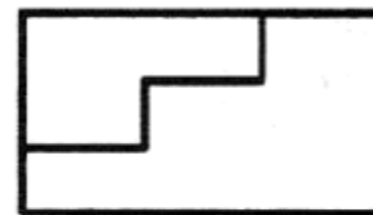


四、画图题 (20分)

1. 求 A 在平面上的落影。



2. 根据形体的两面投影图补第三个投影, 并作出形体的轴测图 (自选轴测图类型)。



五、看下图回答问题 (20分)

(1) 补全该施工图名、轴线编号。

(2) 该工程图中横向轴线编号自左到右是____轴到____轴；纵向轴线编号自下而上是____轴到____轴。

(3) 该工程东西向总长____，南北向总长____；楼梯间的开间尺寸____；主出入口洞口尺寸宽____；次出入口洞口尺寸宽____。

(4) 底层地面标高____，室内外各处标高分别是：室外____，中庭下沉空间____，车库____，室内外高差____，入口共____级台阶，每步高____。

(5) 该工程有____部楼梯，两跑，共____级。

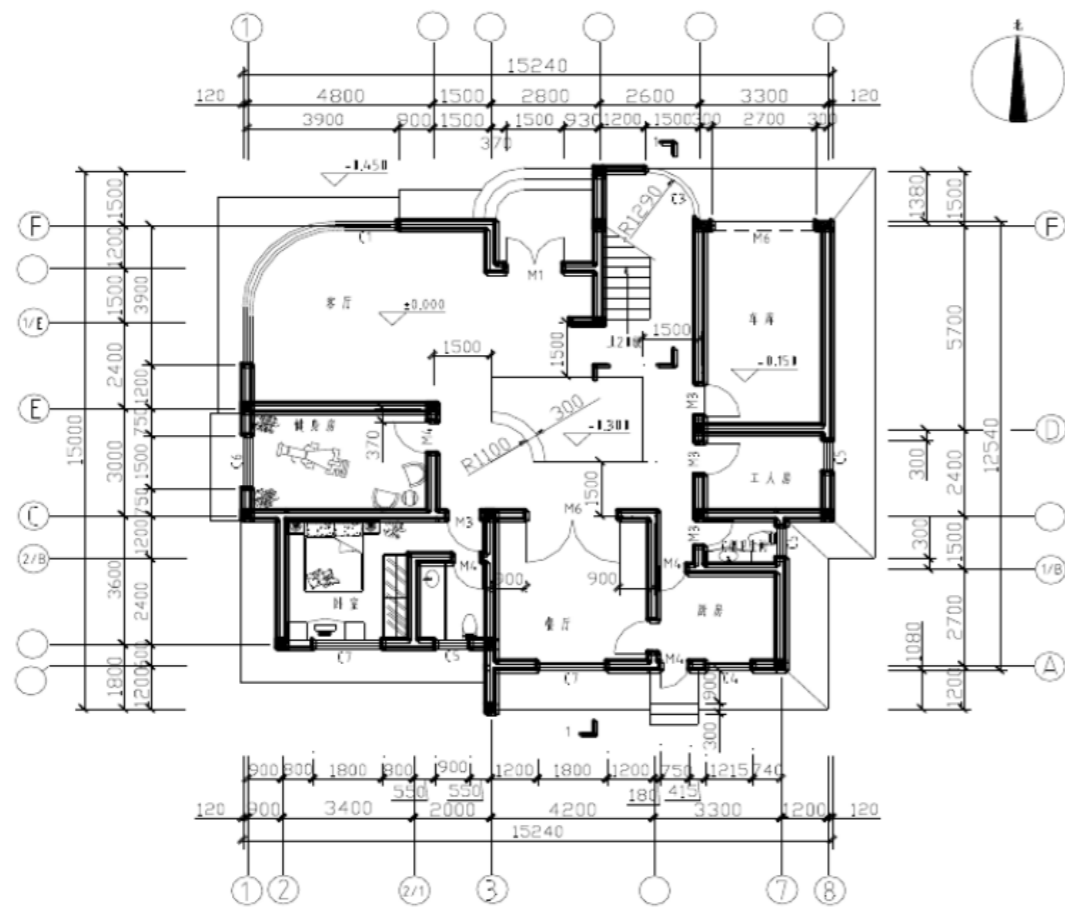


图 1:100