



扫码答题
只能用32学苑

APP扫码

一、言语理解与表达

1. 海洋酸化会影响珊瑚、贝类等钙化生物的正常生长，_____它们的碳酸钙外壳，甚至对它们造成_____的影响，进而破坏整个食物链。为了保护自己，这些钙化生物会长得越来越小、外壳越来越厚，这会对食用贝类养殖产业造成很大的打击。

依次填入划横线部分最恰当的一项是（ ）。

- A. 腐化 恶劣
- B. 腐蚀 致命
- C. 侵蚀 严重
- D. 侵入 深远

【答案】B

【解析】第一空的主语是“海洋酸化”，“腐蚀”或“侵蚀”含有“逐渐破坏”的意思，最符合语义。“腐化”多用于形容思想行为变化，无法与“海洋酸化”搭配，排除A项；“侵入”指外来的或有害的事物进入内部，此处的破坏对象是“外壳”，并没有进入到内部，排除D项。

再看第二空，由后文“破坏整个食物链”可知“严重”词义较轻，“致命”更符合语义，排除C项。故本题选B。

2. 在各种兼并方式中，如果两个公司实力悬殊，则多半是强势的一方直接收购弱势的一方。出钱多、实力雄厚的一方，最终还是会要求自己说了算，而实力较弱的一方虽然在名分上得到了“平等”二字，但大多也都知道自己需要_____。

填入划横线部分最恰当的一项是（ ）。

- A. 循规蹈矩
- B. 安分守己
- C. 亦步亦趋
- D. 安步当车

【答案】C

【解析】“循规蹈矩”原指遵守规矩，不敢违反；现也指拘守旧准则，不敢稍做变动。“安分守己”指规矩老实，守本分，不做违法的事。“亦步亦趋”比喻由于缺乏主张，或为了讨好，事事模仿或追随别人。“安步当车”指以从容的步行代替乘车。根据文段可知实力较弱的一方不敢有太多意见，需要照着做，“亦步亦趋”最恰当。

A项“循规蹈矩”侧重“规矩”，B项“安分守己”侧重“不违法”，D项明显错误。故本题选C。

3. 在充满变量的世界，我们是眼花缭乱的观望者，也是置身其间的推动者。曾经走街串巷的叫卖声不见了，只需手指轻轻一点即可享受送货上门的电商火了起来；全家人乃至几家人守着一台电视机等待每天一集电视剧的场景不见了，取而代之的是乱花渐欲迷人眼的多屏时代；人们获取信息的渠道不仅早

已多样化，而且信息芜杂难辨——“_____”，是我们生活中的常态，容不得视而不见，也容不得退避。

填入划横线部分最恰当的一项是（ ）。

- A. 难 B. 变 C. 乱 D. 散

【答案】B

【解析】文段是总一分一总结构，首句是中心句，讲在充满变量的世界中，我们既是观望者，也是推动者，接着通过具体例证加以说明，最后再总结概括。由此可知，横线处必然也围绕“充满变量”的意思展开，只有B项“变”符合语义。

A、D项明显不恰当；C项“乱”只是这个变量世界的其中一个方面。

故本题选B。

4. 全面的发展和自由却并不意味着毫无底线——尤其是一些媒体对西方工业化流水线生产的娱乐节目亦步亦趋，其作品之低俗令人愤怒。此时此刻，我们的监管部门更需_____，谨防不法分子借恶搞之名_____传统价值。

依次填入划横线部分最恰当的一项是（ ）。

- A. 严阵以待 颠覆 B. 全民皆兵 蚕食 C. 严防死守 侵蚀 D. 全线狙击 污蔑

【答案】A

【解析】先看第二空，“蚕食”指像蚕咬食桑叶一样，逐步侵占；“污蔑”指歪曲事实，造谣毁谤，败坏人家的名誉。二者均无法搭配“传统价值”，排除B、D项。

再看第一空，“严阵以待”指做好充分战斗准备，等待着敌人；“严防死守”表示非常坚定地守住。根据后文“谨防不法分子……”，可知此处监管部门是做好准备，“严阵以待”更贴切，排除C项。

故本题选A。

5. 纵观世界范围内的装饰艺术，每个国家都有其自身传统的经典装饰绘画门类。我们都知道埃及绘画中那_____的人物造型和姿态：侧面的头、四肢，正面的身体，还有动物和花卉的形态。在埃及绘画中，没有一样东西使人感觉没有计划，没有一样东西似乎可以挪动位置。就是这种_____的秩序感，使埃及人把形式美发挥到了极致。

依次填入划横线部分最恰当的一项是（ ）。

- A. 神奇 严格 B. 虚构 绝对 C. 独特 强烈 D. 固定 天生

【答案】C

【解析】先看第一空，根据“每个国家都有其自身传统的经典装饰绘画门类”，可知装饰绘画是具有特色的，“独特”最准确，“神奇”“虚构”“固定”均不符合语义，直接锁定C项。

验证第二空，由“没有一样东西使人感觉没有计划，没有一样东西似乎可以挪动位置”，可知埃及人的秩序感很“强烈”。

故本题选C。

6. 过去绘画覆盖了照相机和摄像机的职能，标准就是_____、栩栩如生。现在，绘画的这部分功能被照相机和摄像机_____掉了，绘画“下岗”了，就能重新定义自己的“工种”，有往纯视觉刺激走的，也有_____到讲故事传统的。

依次填入划横线部分最恰当的一项是（ ）。

- A. 活灵活现 替换 延伸
C. 绘声绘色 削减 退缩

- B. 惟妙惟肖 分担 回归
D. 呼之欲出 冲击 前进

【答案】B

【解析】先看第一空，“活灵活现”形容神态生动逼真；“惟妙惟肖”形容描绘或仿造得简直和真的一模一样；“绘声绘色”指叙述、描写极其生动逼真；“呼之欲出”形容所描绘的人物形象生动逼真。“照相机和摄像机”的特点就是“逼真”，先排除A、C项。

再看第三空，根据后文“讲故事传统”，说明是“回归”而不是“前进”，排除D项。

故本题选B。

7. 量子力学认为真空并非“_____”，而是充斥着大量“虚”的粒子和反粒子对。它们同时产生，刹那之间又相互_____。

依次填入下列横线处的词语，最恰当的一组是（ ）。

- A. 一无所有 淹没
C. 熙熙攘攘 吞噬

- B. 空谷幽兰 迸发
D. 空无一物 湮灭

【答案】D

【解析】第一空是对“真空”的否定，即并不是真的空，D项“空无一物”最恰当。“一无所有”指什么也没有，通常用来修饰“钱财”等，“空谷幽兰”和“熙熙攘攘”明显不符合语义，排除A、B、C项。

验证第二空，“湮灭”指埋没磨灭，符合粒子和反粒子对同时产生、刹那间又消失所形成的真空现象。

故本题选D。

8. 公共文化设施建设，不能为了城市而建设，而应为人民的生活需要而建设。在很多城市新建的公共文化设施，从规划开始就没有将文化设施当作文化来建设，只讲新城面貌，只图建筑的_____，甚至连相关文化部门和艺术家都没有介入，结果，建成后与整个城市的文化氛围_____，终于成了摆设。

依次填入划横线部分最恰当的一项是（ ）。

- A. 炫目 格格不入
C. 时尚 迥然不同

- B. 高端 大相径庭
D. 豪华 相去甚远

【答案】A

【解析】先看第一空，填入横线的词应该与前文“只讲新城面貌”相呼应，体现有些文化设施只追求外在的面貌，“高端”和“豪华”不符合文意，排除B、D两项。

再看第二空，“格格不入”形容彼此不协调、不相容；“迥然不同”形容相差得远，很明显不一样。根据文意可知，建成后的文化建筑与整个城市的文化氛围“格格不入”，最终成为摆设，A项更恰当。

故本题选A。

9. 在东西方的很多文化中，女性会被认为应该承担更多的家庭角色，因此真正走上商业舞台的女性首席执行官往往_____。近年来，中国整体经济实力的不断增强，激励女性成长的社会环境日益优化，越来越多女性首席执行官_____。

依次填入划横线部分最恰当的一项是（ ）。

- A. 令人瞩目 比比皆是
B. 寥寥无几 独当一面
C. 凤毛麟角 脱颖而出
D. 披荆斩棘 崭露头角

【答案】C

【解析】第一空根据前文“女性会被认为应该承担更多的家庭角色”，可知能“真正走上商业舞台的女性首席执行官”在数量上是很少的，直接排除A、D项。

第二空根据“激励女性成长的社会环境日益优化”，可知女性已经能够在商业舞台上大展其能，“脱颖而出”比喻本领全部显露出来，“独当一面”指单独负责一个方面的工作，前者更符合语境，排除B项。

故本题选C。

10. 如果你的生活中周围没有伟大的人、高贵的人和有智慧的人怎么办？请不要变得麻木，不要_____，不要放弃向生活学习的机会。因为至少在你生活的周围还有树——特别是大树，它会教会你许多东西。一棵大树，那就是人的亲人和老师，而且也可以毫不夸张地说，它就是伟大、高贵和有智慧的人。

填入划横线部分最恰当的一项是（ ）。

- A. 自以为是
B. 茫然失措
C. 随波逐流
D. 自暴自弃

【答案】C

【解析】辨析四个成语的意思：“自以为是”指总以为自己是对的，形容主观、不虚心；“茫然失措”指心中迷惑，不知怎么办才好；“随波逐流”比喻没有坚定的立场，缺乏判断是非的能力，只能随着别人走；“自暴自弃”指自己瞧不起自己，甘于落后或堕落。

文段讲如果周围没有伟大的人、高贵的人和有智慧的人，人们很容易“随波逐流”，并且“随波逐流”与“麻木”相呼应。

故本题选C。

11. 唐朝社会的各色人物在唐朝文人笔下_____，活灵活现，世界名著中有著名的四大吝啬鬼形象，即阿巴贡、泼留希金、夏洛克和葛朗台，而唐朝文人笔下的吝啬和贪婪之人亦_____。这些生活在社会各阶层的人，被唐代文人刻画得_____，读来呼之欲出，令人不禁莞尔。

依次填入划横线部分最恰当的一项是（ ）。

- A. 惟妙惟肖 不相上下 绘声绘色
B. 跃然纸上 大相径庭 酣畅淋漓
C. 栩栩如生 毫不逊色 入木三分
D. 引人入胜 风格各异 活灵活现

【答案】C

【解析】先看第一空，“引人入胜”多用来形容风景或者艺术作品特别吸引人，不能用来形容人物，排除D项。

再看第二空，“大相径庭”比喻相差很远，大不相同，文段讲唐朝文人笔下的吝啬和贪婪之人与世界名著中的四大吝啬鬼形象相差甚小，“大相径庭”与文段意思相悖，排除B项。

再看第三空，“绘声绘色”形容叙述或描写生动逼真；“入木三分”形容书法极有笔力，也用来形容议论、见解深刻。根据后文“读来呼之欲出，令人不禁莞尔”可知刻划得很深刻，“入木三分”更恰当，排除A项。

故本题选C。

12. 依次填入下列各句横线处的词语，最恰当的一组是（ ）。

云山雾霾之间，一定流动着_____的香火气息。登高一望，便会对“人间烟火”这四个常见的文字多了一重超拔的见解与_____。

A. 幽静 感悟

B. 清幽 感触

C. 幽静 感触

D. 清幽 感悟

【答案】D

【解析】先看第一空，“幽静”指深幽静寂，通常用来形容“环境”，此处的中心语是“香火气息”，“清幽”与之搭配更恰当，排除A、C项。

再看第二空，登高一望会使人对“人间烟火”这四个字多一些领悟，显然，“感悟”更贴切，且与“见解”并列。

故本题选D。

13. ①早期人们在地球上通过光学望远镜观察火星，看到火星上阴影的变化，误以为火星上有河流和植物，甚至还有“火星人”的存在

②长久以来，很多人一直在幻想这个类地行星可以成为地球人移民外星的第一个目的地

③人类最初产生对火星的兴趣几乎全都是出于误解

④火星的两极和中纬度地区有冰盖，地表拥有丰富的氧、硅、金属和组成岩石的各种元素

⑤即使后来证明这些猜想全都是误会，人类仍然对这个近邻怀有浓厚的兴趣

⑥人类希望在未来，火星可以为地球提供各种矿产

将以上6个句子重新排列，语序正确的是（ ）。

A. ①②③④⑥⑤

B. ③①⑤④⑥②

C. ①⑤③④②⑥

D. ③⑤②①⑥④

【答案】B

【解析】通读6个句子，⑥中的“可以为地球提供各种矿产”呼应的是④中的“地表拥有丰富的氧、硅、金属和组成岩石的各种元素”，则⑥紧随④后，排除C、D项。

再看其他句子，⑤中的“人类仍然对这个近邻怀有浓厚的兴趣”，后文必然有对此观点的展开论述，不宜作为结尾句，排除A项。

验证B项，符合语句逻辑关系。

故本题选B。

14. 将下列句子组成一段逻辑严谨、语言流畅的文字，排列顺序最合理的是（ ）。

①“快”似乎成了一种躲避不开的生活潮流，“快”也许是每个中国人对自己生活的最真切感受

②究其原因，与我们快速发展的生活节奏不无关系

③从容作为一种悠然、宽缓的生活态度，已然成为一种稀缺的东西且离我们的生活渐行渐远

④中国速度催生了我们生活的快节奏，我们在有意无意间做着压缩时间的工作

A. ①②④③

B. ①④③②

C. ③②④①

D. ④①②③

【答案】C

【解析】通读4个句子，②“究其原因，与我们快速发展的生活节奏不无关系”的前文应该讲我们的生活发生改变，只有③最符合，因此，②应在③后面，排除A、D项。

同时，②“快速发展的生活节奏”和④“生活的快节奏”均涉及生活的快节奏，应紧密衔接，排除B项。

验证C项，符合语句逻辑关系。

故本题选C。

15. 诗人从生活和大自然捕捉灵感，将语言剪裁成诗；知音的理解和回响，可以使诗的意象和隐藏其中的思想感情浮现出来。天地一沙鸥，海上生明月，悠然见南山，经由后人的吟诵品味，其意象更为深化；巴山夜雨，易水悲歌，汉关秦月，江山风光和人物诗文相互烘托，转化为跨时空的文化符号，丰富了文学的内容，影响一代代人的精神面貌。

这段文字的关键词是（ ）。

A. 诗 知音 意象

B. 自然 灵感 文化

C. 生活 感情 品味

D. 文学 符号 精神

【答案】A

【解析】文段共两句话，首句从诗人和知音两个角度谈论对诗的作用。第二句列举具体的诗词为例子，说明诗歌的意象经由吟诵后所产生的效果。那么，关键词应该是诗、知音和意象。

故本题选A。

16. 标语口号反映了一个国家的文明程度，标语不应该只是板着脸孔告诉人们不应该做什么，而应该用善意的语言引人向善。在语气和修辞上，口号的制定者应该多下功夫。放眼西方，充满人文关怀的口号不胜枚举。如美国某妇产医院正厅标语：“我们在爱中生长，爱也在我们中生长”；美国某老年公寓大厅内的标语：“爱一个人要付出很大代价，但不爱任何人时，代价就更大”。

这段文字意在说明（ ）。

A. 标语口号的运用可以体现一个国家的文明程度更高

B. 标语口号设计得更人文更合理需要制定者深入地思考

C. 西方国家经常会将更多的人文关怀融入其中

D. 西方国家在标语口号设计上比东方国家更胜一筹

【答案】B

【解析】文段讲标语口号反映一个国家的文明程度，因此在语气和修辞上，口号的制定者应该多下功夫，后文则列举西方的例子加以验证。

A项只是文段的部分内容，且“文明程度更高”无从体现；

B项是文段的同义转化。

C项仅是例子，不能概括文段的内容。

D项“更胜一筹”无从体现。

故本题选B。

17. 近年来跨境电商以30%左右的增速在持续高速发展，但进口商品增值税等税收占全国总税收比重却持续下降，2015年进口商品税收比2014年下降了近2000亿元，进口商品税收不仅未能伴随跨境电商的发展而同步增长，反而出现了较大幅度的下降。跨境电商税收新政有助于促进跨境电商与一般贸易税收体制的接轨，也有助于形成相关税收正常的增长机制。

这段文字意在说明（ ）。

- A. 进口商品税收与跨境电商发展密切相关
- B. 跨境电商税收新政出台有助于增加税收
- C. 跨境电商与一般贸易税收体制如何接轨
- D. 如何建立跨境电商税收正常的增长机制

【答案】B

【解析】文段讲跨境电商虽然在持续高速发展，但是进口商品税收不仅没有随跨境电商的发展而同步增长，反而出现大幅度下降。而跨境电商税收新政不仅有助于跨境电商与一般贸易税收体制接轨，而且有助于形成相关税收正常的增长机制。言外之意，跨境电商税收新政出台有助于增加税收，B项概括恰当。

A项不是文段的论述重点，且“密切相关”文段没有详细论述；

C、D项均属于无中生有。

故本题选B。

18. 晨练是一种好习惯，但未必人人适合。从人的生理特点来看，早上6点左右，人体的血压开始升高，心率逐渐加快，上午10点左右达到峰值。如果有冠心病、高血压的人此时锻炼，尤其是进行剧烈运动就有可能发生意外。清晨6点到8点，人体血小板的凝聚力明显增强，血液相对粘稠，这段时间运动可能会使心脑血管堵塞率增大。

这段文字意在强调（ ）。

- A. 晨练总的来说还是弊大于利
- B. 晨练不宜选在6至8点之间
- C. 晨练应尽可能避免剧烈运动
- D. 晨练时间和强度要因人而异

【答案】D

【解析】文段首句即中心句，讲晨练虽然是好习惯，但并非所有人都适合，因为从人的生理特点看，锻炼的时间段对一些人群的健康有很大的影响。由此可知，文段意在强调晨练时间和强度要因人而异。

A项主观臆断，且说法过于绝对；

B、C项均断章取义。

故本题选D。

19. 改革开放和市场经济扩展了农民的视野和接触空间，但经过潜移默化、世代相传而积淀的心理结构和文化传统并没有变化。大量研究表明，不仅留在农村从事农业生产劳动的农民仍然在延续着以己为中心、以亲情关系为纽带的差序格局，而且进城务工的农民工在很大程度上也保持着乡村社会的行为方式和思维方式。

这段文字意在说明（ ）。

- A. 进城务工农民仍然保持着乡村社会生活方式
- B. 农民的乡村社会行为和思维方式很难一下子改变
- C. 留守农民和进城农民的心理结构及文化传统是相同的

D.进城务工农民应该尽快转变行为方式和思维方式

【答案】B

【解析】文段首句即主旨句，讲述的是虽然改革开放和市场经济拓展了农民的视野和接触空间，但是世代积淀的心理结构和文化传统并没有变化，后文则从研究结果加以论证。由此可见，文段意在说明农民的乡村社会行为和思维方式很难一下子改变。

A项概括片面，不是文段的论述重点；

C项不是文段的论述重点，且“相同”说法过于绝对；

D项无中生有。

故本题选B。

20.如果把人的自然生命视为一条某一天开始流淌、某一天必须消失的河流，对于作家、诗人、画家等而言，从这条河流会派生出另外的一条河流来，那就是你活着时创作的作品的生命时间。曹雪芹活了大约40几岁，而《红楼梦》写就约250年，似乎今天才进入生命盛期。没有人能让曹雪芹重新活过来，也没有人有能力让《红楼梦》悄然死去。

这段文字想要表达的主要意思是（ ）。

A.生命的意义不在于结果而在于奋斗的过程

B.人生就是一条奔流不息的河流

C.一个伟大作家的伟大作品需要经过时间的检验

D.创作对于作家等群体而言可以增生自然生命存在的意义

【答案】D

【解析】文段开头指出对于作家、诗人、画家等而言，他们的自然生命会通过其作品的生命时间继续延续；接着以曹雪芹为例说明尽管作家的自然生命短暂，但其创作的作品的生命会延续下去，即强调创作对于作家而言的重要意义，D项是其同义转换。

A项“而在于奋斗的过程”和C项“需要经过时间的检验”文段均无从体现；B项是援引部分的内容，不是文段的重点。

故本题选D。

21.库兹涅茨的倒U曲线理论认为：“在经济增长的初期阶段，尽管人们的收入都不减少，但社会收入分配却变得不平等；随着经济的继续增长，收入分配不平等的程度逐渐减轻；经济增长达到更高水平以后，收入分配又变得平等。”这种理论假说在一定程度上符合西方发达国家经济增长的历史实际，但他又指出，重复发达国家以往的模式，以为收入不平等促进了经济增长，欠发达国家强化当前的收入不平等就是必要的，这是一种“危险的类比”。在西方经济发展实践中，解决公平问题不是搞自然而然的过渡，而是通过政府和社会的积极干预，消除工业化和城市化带来的不利影响，提高广大人民群众收入在国家不断增长的收入中所占的比例，对高收入者形成法律和政治压力，从而使得社会收入分配转向公正。

下列说法与这段文字最相符的一项是（ ）。

A.经济总量增长不会自发地促进社会收入公平分配

B.国家通过宏观调控可以有效监督和保证社会公平

C.发达国家的收入分配模式是遵循效率优先原则的

D.倒U曲线理论不适于欠发达国家的经济增长模式

【答案】B

【解析】文段首先讲库兹涅茨的倒U曲线理论在一定程度上符合西方发达国家经济增长的历史事实，但单纯重复发达国家的模式，是一种“危险的类比”，因为在西方经济发展实践中，其公平问题是通过政府和社会一系列措施来积极干预解决的，而非自然而然的过渡。因此，可以得出国家通过宏观调控可以促进社会公平的结论，B项正确。

A项“经济总量增长不会自发地促进社会收入公平分配”说法过于绝对，文段指出了“经济增长达到更高水平以后，收入分配又变得平等”在一定程度上符合西方国家经济增长的历史实际；

C项“发达国家的收入分配模式是遵循效率优先原则的”文段并未体现；

D项“倒U曲线理论不适于欠发达国家的经济增长模式”说法过于绝对，文段指出“重复发达国家以往的模式，以为收入不平等促进了经济增长，欠发达国家强化当前的收入不平等就是必要的，这是一种‘危险的类比’”，“危险的类比”并不等同于“不适合”。

故本题选B。

22. 从上世纪90年代初始，上海的幼儿园、中小学规定学生在校期间不准说上海话。在学习语言的最佳阶段，孩子们不能在交际中学会上海话，不能养成说上海话的习惯，自然不会关注说唱上海话的沪剧了。沪剧吸引不了观众，也就失去了从业人员的后继。业内人员趋于老化，而有才华的人才不愿进来受苦。好剧本难觅，好演员难觅，好编曲难觅……于是，以往一年中出现十几个新戏、一台戏中出现好几个新人的沪剧文化生态，再无踪影。

对上面语段的主要意思概括最准确的是（ ）。

- A. 揭示了沪语不被重视的“后遗症”
- B. 分析了沪剧创演人才和观众消减的原因
- C. 表达了沪剧舞台后继无人的感慨
- D. 回顾了沪剧文化生态每况愈下的历史

【答案】B

【解析】文段讲沪剧吸引不了观众，失去从业人员的后继是因为上海的幼儿园、中小学规定学生在校期间不准说上海话。“于是”后面是对整个文段内容的总结，即因为沪剧创演人才和观众消减的原因导致现在不容乐观的沪剧文化生态。由此可知，文段主要在分析沪剧创演人才和观众消减的原因。

A项“沪语”不是文段论述的重点；C项以偏概全，文段还涉及观众的减少；D项回顾历史仅出现在文段末处，旨在对比当今沪剧的文化生态。

故本题选B。

23. 财产安全一直是人们忧虑的一个问题，如果人们无法保障其个人财产的安全，就不可能有积极性去创造财富，即使创造财富，也会转移。个人财产的安全，既体现在保有环节，也体现在交易环节。为避免交易风险，需要通过国家机关的登记行为来确认其物权状态，从而保障其真实性。登记行为本身是以国家信用作担保的，而国家信用的背后又是法律信用。

这段文字的关键词是（ ）。

- A. 交易风险，物权登记
- B. 财产安全，交易环节
- C. 财产安全，物权登记
- D. 物权登记，法律信用

【答案】C

【解析】文段一开始便引出“财产安全”的论述主体，先排除A、D项。

再根据后半部分讲述的“需要通过国家机关的登记行为来确认其物权状态”，可知涉及的另一个关键词便是“物权登记”。B项“交易环节”文段没有重点论述。

故本题选C。

24. 一个寒冷的冬天，纽约一条繁华的大街上，有一个双目失明的乞丐。那乞丐的脖子上挂一块牌子，上面写着：“自幼失明”。有一天，一个诗人走近他身旁，他便向诗人乞讨。诗人说：“我也很穷，不过我给你点别的吧。”说完，他便随手在乞丐的牌子上写了一句话，那一天，乞丐得到很多人的同情和施舍。后来，他又碰到那诗人，很奇怪地问：“你给我写了什么呢？”那诗人笑笑，念那牌子上他所写的句子道：“春天就要来了，可我不能见到它。”

最适合这段文字标题的是（ ）。

- A. 幸运的乞丐 B. 温暖的冬天 C. 春天的收获 D. 诗歌的妙用

【答案】D

【解析】文段主要讲述一个双目失明的乞丐在乞讨过程中因为一个诗人的帮助从而获得很多人的同情和施舍，这主要是因为诗人在乞丐的牌子上写的那句话——春天就要来了，可我不能见到它。

由此可知，诗人的这句诗给乞丐乞讨带来了非常大的作用，即巧妙利用了诗歌的作用，D项最适合做文段标题。A、B、C三项均没有体现出诗人所写的那句诗的作用。

故本题选D。

25. 词藻的妙用，在乎能显示印象，从片段里生出完整来。有些境界可用白描的手法，有些非词藻不为功，这个道理自然也有人理会得。依我个人的偏嗜，词中的温飞卿是很懂得用词藻的；六朝文之所以大胜唐宋四六文者，会用词藻至少是一原因。词藻，文学的色泽，也是应付某种需要而生，并非无聊地东涂西抹，专以炫人耳目为业的。俗滥是不善用之故，不是词藻本身的毛病。

根据这段文字，下面说法中错误的是（ ）。

- A. 作者认为有些场合非用词藻不可 B. 作者认为温飞卿作词善用词藻
C. 作者认为六朝文远胜于唐宋文 D. 作者认为善用词藻不会俗滥

【答案】C

【解析】A项正确，由“有些境界可用白描的手法，有些非词藻不为功”可知作者认为有些场合必须要用词藻。

B项正确，由“词中的温飞卿是很懂得用词藻的”可得知。

C项错误，文段讲六朝文大胜“唐宋四六文”，而不是“唐宋文”。

D项正确，由“俗滥是不善用之故，不是词藻本身的毛病”可知作者认为善用词藻不会俗滥。

故本题选C。

二、数量关系

26. 11, 8, -1, -28, ()

- A. 54 B. -84 C. -102 D. -109

【答案】D

【解析】 本题考查多级数列。

第一步：观察数列。数列无明显特征，考虑作差。

第二步：原数列前项减后项得到：3、9、27、(81)，是公比为3的等比数列。因此原数列未知项为-28-81=-109。

故本题选D。

27. 6, 7, 12, 18, 29, ()

A. 52

B. 50

C. 48

D. 46

【答案】 D

【解析】 方法一： 本题考查多级数列。

第一步：观察数列。数列单调递增，各项之间差距较小，无明显倍数关系，优先考虑作差。

第二步：数列作差。原数列后项减前项得到：1、5、6、11，为和数列。因此原数列未知项为29+(6+11)=46。

故本题选D。

方法二： 本题考查递推数列。

第一步：观察数列。数列单调递增，相邻两项相加均比后一项大1，考虑求和递推。

第二步：原数列满足如下关系： $a_{n+2}=a_n+a_{n+1}-1$ ($n \in \mathbb{N}^+$)，即 $12=6+7-1$ ， $18=7+12-1$ ， $29=12+18-1$ 。因此原数列未知项为 $18+29-1=46$ 。

故本题选D。

28. 10, 21, 44, 65, ()

A. 122

B. 105

C. 102

D. 90

【答案】 C

【解析】 原数列各项因数分解得到：10=2×5，21=3×7，44=4×11，65=5×13，其中，乘号左侧：2、3、4、5、(6)，为等差数列；乘号右侧：5、7、11、13、(17)，为连续质数列。因此原数列未知项为6×17=102。

故本题选C。

29. 2, 4, 12, 48, 240, ()

A. 1645

B. 1440

C. 1240

D. 360

【答案】 B

【解析】 原数列后项除以前项得到：2、3、4、5、(6)，为等差数列。因此原数列未知项为240×6=1440。

故本题选B。

30. 1, 2, 6, 30, 210, ()

A. 1890

B. 2310

C. 2520

D. 2730

【答案】 B

【解析】 原数列后项除以前项得到：2、3、5、7、(11)，为连续质数列。因此原数列未知项为

$210 \times 11 = 2310$ 。

故本题选B。

31. 6, 14, 22, (), 38, 46

A. 30

B. 32

C. 34

D. 36

【答案】A

【解析】原数列是公差为8的等差数列，因此原数列未知项为 $22+8=30$ ，验证后项， $30+8=38$ 。

故本题选A。

32. 1, -5, 10, 10, 40, ()

A. -35

B. 50

C. 135

D. 280

【答案】D

【解析】原数列后项除以前项得到：-5、-2、1、4、(7)，是公差为3的等差数列。因此原数列未知项为 $7 \times 40 = 280$ 。

故本题选D。

33. 15, 20, 40, 65, (), 180

A. 110

B. 115

C. 120

D. 125

【答案】A

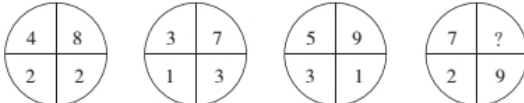
【解析】 本题考查递推数列。

第一步：观察数列。数列无明显特征，作差无规律，考虑递推。

第二步：原数列满足如下规律： $a_{n+2} = a_n + a_{n+1} + 5$ ($n \in \mathbb{N}^+$)，

即 $40 = 15 + 20 + 5$ ， $65 = 20 + 40 + 5$ 。因此原数列未知项为 $40 + 65 + 5 = 110$ ，验证后项， $65 + 110 + 5 = 180$ ，符合规律。

故本题选A。

34. 

A. 12

B. 15

C. 18

D. 24

【答案】C

【解析】 本题考查图形数列。

第一步：观察数列。可知为图形数列。优先考虑交叉关系，后考虑相邻关系。

第二步：通过考虑交叉关系可得：左上角数字+右下角数字=右上角数字-左下角数字。因此问号处数字为 $(7+9) + 2 = 18$ 。

故本题选C。

35. 28, 16, 20, 6, 17, ()

A. -2.5

B. -5

C. 6

D. 14

【答案】A

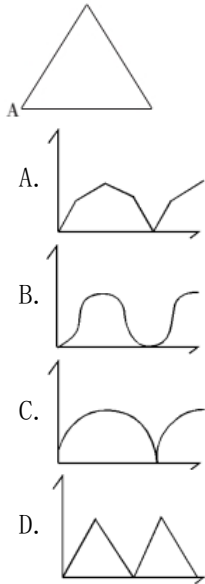
【解析】 本题考查递推数列。

第一步：观察数列。数列无明显特征，作差无规律，考虑递推。

第二步：原数列满足如下规律： $a_{n+2} = a_n - \frac{a_{n+1}}{2}$ ($n \in N^+$)，即 $20 = 28 - \frac{16}{2}$ ， $6 = 16 - \frac{20}{2}$ ， $17 = 20 - \frac{6}{2}$ 。因此原数列未知项为 $6 - \frac{17}{2} = -\frac{5}{2} = -2.5$ 。

故本题选A。

36. 一正三角形小路如下图所示，甲乙两人从A点同时出发，朝不同方向沿小路散步。已知甲的速度是乙的2倍，问以下哪个坐标图能准确描述两人之间的直线距离与时间的关系（横轴为时间，纵轴为直线距离）？（ ）



【答案】D

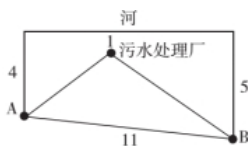
【解析】 本题考查基础应用问题。

第一步：审阅题干。本题出现“行走速度、两人距离、坐标示意图”，可知为基础应用问题。

第二步：甲的速度是乙的2倍，小路形状为正三角形，则甲走完小路的两条边后，乙刚好走完小路的一条边，即不存在两人走在同一边的情况。正三角形的三个角均为60度，而甲的速度正好是乙的2倍，因此，甲、乙两人之间的直线距离必定垂直于乙所在的边，则两人之间的直线距离呈线性变化，排除B、C项。设甲顺时针行走，乙逆时针行走，则甲第一次到达顶点过程中，甲、乙两人之间的距离逐渐变大，甲到达顶点时乙刚好到达底边的中点；同理可知后半段路程两人同时到达底边的顶点，且两人之间的距离逐渐变小。因此，两人之间的直线距离呈两段循环变化，排除A项。

故本题选D。

37. 如下图所示，某条河流一侧有A、B两家工厂，与河岸的距离分别为4km和5km，且A与B的直线距离为11km。为了处理这两家工厂的污水，需要在距离河岸1km处建造一个污水处理厂，分别铺设排污管道连接A、B两家厂。假定河岸是一条直线，则排污管道总长最短是（ ）。



A. 12km

B. 13km

C. 14km

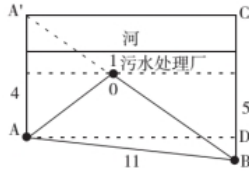
D. 15km

【答案】B

【解析】 本题考查几何最值问题。

第一步：审阅题干。本题出现“图形、直线长度”，可知为几何最值问题。

第二步：先过O点作一条与河岸平行的虚线，然后作点A关于这条虚线的对称点A'，如下图：



A'B即为题干所求， $A'A=2 \times (4-1)=6\text{km}$ ，则 $BC=5+(6-4)=7\text{km}$ 。在 $\triangle ADB$ 中， $AB=11\text{km}$ ， $BD=5-4=1\text{km}$ ，则 $AD=\sqrt{11^2-1^2}=\sqrt{120}\text{km}$ 。在 $\triangle A'BC$ 中， $A'C=AD=\sqrt{120}$ 米，则 $A'B=\sqrt{120+7^2}=13$ 米。

故本题选B。

38. 某公司管理人员、技术人员和后勤服务人员一月份的平均收入分别为6450元、8430元和4350元，收入总额分别为5.16万元、33.72万元和5.22万元。则该公司这三类人员一月份的人均收入是（ ）。

- A. 6410元 B. 7000元 C. 7350元 D. 7500元

【答案】C

【解析】本题考查基础经济问题。

第一步：审阅题干。本题出现“平均收入、收入总额、人均收入”，可知为基础经济问题。

第二步：该公司管理人员有 $51600 \div 6450=8$ 人，技术人员有 $337200 \div 8430=40$ 人，后勤服务人员有 $52200 \div 4350=12$ 人。因此该公司这三类人员一月份的人均收入为 $(51600+337200+52200) \div (8+40+12)=7350$ 元。

故本题选C。

39. 设a、b均为正整数，若 $11a+7b=84$ ，则a的值为（ ）。

- A. 4 B. 5 C. 7 D. 8

【答案】C

【解析】本题考查基础应用问题。

第一步：审阅题干。根据唯一等式求值可运用代入排除法解题。

第二步：a、b均为正整数，则 $1 \leq a \leq 7$ ，直接排除D项。当a=4时， $7b=40$ ，b不是正整数，排除A项；当a=5时， $7b=29$ ，b不是正整数，排除B项；当a=7时， $7b=7$ ，b=1，符合条件。

故本题选C。

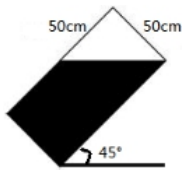
40. 已知一内直径为50cm，内高100cm的圆柱形木桶，灌满了浓度为20%的盐水溶液，使其倾斜45度倒出部分溶液后放平，再加满清水。问此时木桶内盐水溶液的浓度是多少？（ ）

- A. 10% B. 12.5% C. 13.3% D. 15%

【答案】D

【解析】 本题考查立体几何问题。

第一步：审阅题干。将木桶倾斜 45° 时，主视图如下，会溢出 $\frac{1}{4}$ 的溶液。



第二步：溢出容积的 $\frac{1}{4}$ ，溶剂和溶质都会溢出 $\frac{1}{4}$ ，剩下 $\frac{3}{4}$ 的溶质，那么加满清水后木桶内盐水溶液的浓度为 $\frac{3}{4} \times 20\% = 15\%$ 。

故本题选D。

41. 把一个正方形的四个角分别切除一个等腰三角形，剩下一个长宽不等的矩形。若被切除部分的总面积为400平方厘米，且切除的三角形的直角边的长度均为整数，则所剩矩形的面积为（ ）平方厘米。

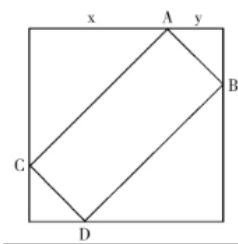
- A. 320
- B. 336
- C. 360
- D. 384
- E. 400
- F. 420
- G. 441
- H. 464

【答案】D

【解析】 本题考查平面几何问题。

第一步：审阅题干。一个正方形四个角被切去一个等腰三角形后，剩下一个矩形，则对角切去的一定是大小相等的等腰三角形，画图辅助理解。

第二步：根据题意，作如下示意图：



被切除部分的总面积为400平方厘米，即 $\frac{1}{2}x^2 \times 2 + \frac{1}{2}y^2 \times 2 = x^2 + y^2 = 400$ （ $x \neq y$ ，且 x 、 y 为正整数），解得 $x=16$ ， $y=12$ 。

因此矩形ABCD的面积为 $\sqrt{2}x \times \sqrt{2}y = 2xy = 2 \times 12 \times 16 = 384$ 平方厘米。

故本题选D。

42. 在数列 a_n ($n=1, 2, \dots$) 中， $a_1=1959$ ， $a_2=1995$ ，且从第三项起，每项是它前两项平均数的整数部分，则 $\lim_{n \rightarrow \infty} a_n =$ （ ）。

- A. 1980
- B. 1981
- C. 1983
- D. 1982

【答案】D

增加了20%。如两种商品去年的成本与前年相同，则前年A商品的定价为B商品定价的（ ）。

- A. 24% B. 25% C. 30% D. 36%

【答案】A

【解析】 本题考查基础经济问题。

第一步：审阅题干。本题出现“利润、销量、定价、总利润”，可知为基础经济问题。

第二步：设前年A商品的定价为x，B商品的定价为y，则A商品的利润和进价分别为0.3x和0.7x，B商品分别为0.4y和0.6y。前年的总利润为 $0.3x \times 10 + 0.4y \times 4 = 3x + 1.6y$ ，去年的总利润为 $[0.9 \times (x + y) - (0.7x + 0.6y)] \times 8 = 1.6x + 2.4y$ 。根据去年总利润比前年增加了20%可列方程为 $(3x + 1.6y) \times (1 + 20\%) = 1.6x + 2.4y$ ，解得 $x = 0.24y$ ，即前年A商品的定价为B商品定价的24%。

故本题选A。

三、判断推理

51. 雨鞋：雨伞：雨衣

- A. 铅笔：钢笔：中性笔 B. 长春：吉林：辽宁 C. 报纸：杂志：新闻 D. 乡试：殿试：举人

【答案】A

【解析】 本题考反对关系。

第一步：分析题干词语间的关系。雨鞋、雨伞和雨衣均属于雨具，三者为反对关系。

第二步：分析选项，确定答案。

A项：铅笔、钢笔和中性笔均属于笔，三者为反对关系，当选。

B项：长春属于市，而辽宁属于省，排除。

C项：报纸和杂志是新闻的载体，排除。

D项：举人是指古代通过乡试之人，排除。

故本题选A。

52. 婚礼：司仪：宾客

- A. 教学：学生：教师 B. 诉讼：法官：原告 C. 新闻：主持人：记者 D. 球赛：裁判：球迷

【答案】D

【解析】 司仪主持婚礼，宾客参加婚礼；裁判主持球赛，球迷观看球赛。

A项老师进行教学，学生参与教学，符合题干逻辑，但是与题干的对应位置相反。

故本题选D。

53. 飞机：汽油

- A. 手串：珠子 B. 蔬菜：种子 C. 手电筒：电池 D. 葡萄：健康

【答案】C

【解析】 本题考查其他关系。

第一步：分析题干词语间的关系。汽油为飞机提供动力。

第二步：分析选项，确定答案。

A项：珠子是手串的组成部分，排除。

B项：种子不能为蔬菜提供动力，排除。

C项：电池为手电筒提供电能，当选。

D项：葡萄与健康无明显联系，排除。

故本题选C。

54. 产品：销售：营利

A. 兴趣：培养：特长 B. 明星：宣传：媒体 C. 问题：解决：创新 D. 起义：发动：革命

【答案】D

【解析】销售产品以达到营利的目的，D项发动起义以达到革命的目的。

A项“特长”、B项“媒体”均为名词，与题干不符，排除。

C项解决问题和创新无明显联系，排除。

故本题选D。

55. 电：手机

A. 风：风车 B. 水：船 C. 光：植物 D. 螺旋桨：直升机

【答案】A

【解析】手机运行需要电提供动力，A项风车转动需要风提供动力。

B项水不是船的动力来源，C项有些植物生长在无光的环境里，D项螺旋桨是直升机的组成部分而不是动力来源，均排除。

故本题选A。

56. 时钟 对于 () 相当于 () 对于 导盲犬

A. 时间 盲杖 B. 闹钟 犬类 C. 制造 驯养 D. 时针 盲人

【答案】B

【解析】本题考查种属关系。

选项逐一代入。

A项：时钟显示时间，盲杖和导盲犬具有相同的功能，前后关系不一致，排除。

B项：闹钟是时钟的一种，导盲犬是犬类的一种，前后关系一致，当选。

C项：“制造时钟”和“驯养导盲犬”均为动宾结构，但前后词语位置相反，排除。

D项：时针是时钟的组成部分，导盲犬指引盲人，前后关系不一致，排除。

故本题选B。

57. 春天：开垦

A. 绿叶：花朵 B. 秋天：收获 C. 冰融：冬眠 D. 播种：成就

【答案】B

【解析】春天是开垦的季节，B项秋天是收获的季节。

故本题选B。

58. 蚕丝 之于 () 相当于 棉花 之于 ()

A. 珍贵 采摘 B. 村庄 盛开 C. 丝绸 棉被 D. 春蚕 城池

【答案】C

【解析】蚕丝可制成丝绸，棉花可制成棉被。

故本题选C。

59. 研究者对一万名平均年龄65岁的男性进行追踪研究，评估他们是否存在抑郁以及中风发病情况。研究开始时这些人均无中风史。研究发现，持续存在重度抑郁症状与中风风险增加一倍以上相关，而那些无抑郁症状或症状较轻的参与者的中风风险则并未增加。曾经存在重度抑郁症状的患者，即使其症状在访谈期间已然缓解，他们的中风风险仍然与那些始终存在重度抑郁症的人相比无显著差异。

以上陈述如果为真，可以推出（ ）。

- A. 重度抑郁症极有可能会发展演变为中风
- B. 中风患者人群中患抑郁症的几率也比较高
- C. 正患有或曾患有重度抑郁均是中风的风险因素
- D. 抑郁和中风作为老年常见疾病，经常一起发病

【答案】C

【解析】本题考查结论类。

第一步：审阅题干。题干给出部分信息，问法为“可以推出”型，确认考查结论类。

第二步：分析选项，确定答案。

A项：根据“持续存在重度抑郁症状与中风风险增加一倍以上相关”不能推出重度抑郁症极有可能会发展演变为中风，“极有可能”程度过重，排除。

B项：根据“持续存在重度抑郁症状与中风风险增加一倍以上相关”可知，重度抑郁患者中风的风险较高，不能推出中风人群中患抑郁症的几率比较高，排除。

C项：根据“曾经存在重度抑郁症状的患者，即使其症状在访谈期间已然缓解，他们的中风风险仍然与那些始终存在重度抑郁症的人相比无显著差异”可知，正患有或曾患有重度抑郁均是中风的风险因素可以推出，当选。

D项：题干并未提及抑郁和中风经常一起发病，不能推出，排除。

故本题选C。

60. 与传统的“汗水型”经济不同，创新是一种主要依靠人类智慧的创造性劳动。由于投入多、风险大、周期长、见效慢，创新并非是每个人自觉的行动，它需要强大的动力支持。如果有人可以通过资源炒作暴富，或者可以凭借权钱交易腐败发财，那么人们创新就不会有真正的动力。

根据以上概述，可以得出以下哪项？（ ）

- A. 如果有人可以通过土地资源炒作暴富，就有人可以凭借权钱交易腐败发财
- B. 如果没有人可以通过权钱交易腐败发财，人们创新就会有真正的动力
- C. 如果人们创新没有真正的动力，那么就有人可以通过土地资源炒作暴富
- D. 如果人们创新具有真正的动力，那么没有人可以凭借权钱交易腐败发财

【答案】D

【解析】本题考查翻译推理。

第一步：翻译题干信息。通过资源炒作暴富∨凭借权钱交易腐败发财→¬创新有真正的动力。

第二步：分析选项，确定答案。

A项：通过土地资源炒作暴富无法推出凭借权钱交易腐败发财，排除。

B项：¬凭借权钱交易腐败发财→创新就会有真正的动力，“¬凭借权钱交易腐败发财”否定前件的一个选言肢，无法推出否定后件，排除。

C项：¬创新有真正的动力→通过土地资源炒作暴富，“¬创新有真正的动力”肯定后件，无法推出必然性结论，排除。

D项：创新有真正的动力→¬凭借权钱交易腐败发财，“创新有真正的动力”否定后件，可推出否定前件，即“¬（通过资源炒作暴富∨凭借权钱交易腐败发财）”，等价于“¬通过资源炒作暴富∧¬凭借权钱交易腐败发财”，可以推出，当选。

故本题选D。

61. 英国“首席捕鼠官”虎斑猫拉里因为不勤于捕鼠，而被部分人以“未尽职工作”为由，要求下台。但同时一些媒体也发起支持行动，表示“权利义务不对等”，唐宁街（英国政府代称）没有任何理由让这位捕鼠官下台。

以下各项如果为真，最能支持媒体观点的是（ ）。

A. 调查显示，拉里任捕鼠官后全国得到收养的流浪猫增加了20%，拉里的任职起到了良好的社会示范作用

B. 拉里天生不善捕鼠，它被选为捕鼠官并未经过唐宁街工作人员仔细考察

C. 唐宁街并未支付拉里薪水，其口粮全部由唐宁街工作人员花费购买

D. 由于外形可爱，性格温顺，拉里经常被安排额外的外交接待任务

【答案】C

【解析】 本题考查加强类。

第一步：分析题干论点论据。

论点：媒体表示权利义务不对等，唐宁街没有任何理由让拉里下台。

论据：无。

第二步：分析选项，确定答案。

A项：仅指出拉里的任职有良好的社会示范作用，但与媒体的观点无关，排除。

B项：指出拉里没有经过仔细考察而上岗，因此其应被要求下台，属于削弱项，排除。

C项：唐宁街未支付拉里薪水，说明拉里履行了义务却未享受权利，即“权利义务不对等”，因此唐宁街无权要求拉里下台，最能支持题干论点，当选。

D项：额外的外交任务属于无关项，排除。

故本题选C。

62. 为了工作需要，某机关甲、乙、丙、丁、戊、己、庚等7名工作人员组成两个小组，到当地社区开展调研服务活动。已知：

（1）甲既不与乙在同一个小组，也不与戊在同一个小组；

（2）丙和丁不在同一个小组。

如果己与另外两人组成第二小组，那么可以得出以下哪项？（ ）

- A. 庚在第一小组 B. 甲在第一小组 C. 丁在第二小组 D. 戊在第二小组

【答案】A

【解析】由（1）“甲既不与乙在同一个小组，也不与戊在同一个小组”，可知甲在某一小组，乙、戊必然在另一小组，即在同一组。

又由（2）“丙和丁不在同一个小组”，可知丙和丁要各自分到甲所在小组和乙、戊所在小组，则乙、戊所在小组目前有3人，不满足“己与另外两人组成第二小组”，因此己和甲以及丙、丁中的一人组成第二小组，由此可知乙、戊、庚在第一小组。

故本题选A。

63. 某大湖是重要的候鸟越冬场所。近年来，该湖出现枯水期提前、枯水期持续时间延长等问题，枯水期水位过低，鱼类减少，影响了越冬的鸟类进食。有专家建议，应该在湖的入江水道处修建水闸，通过控制枯水期水位，增加湖区鱼类的生活空间，保护越冬的候鸟。

以下哪项如果为真，将最有力削弱专家的建议？（ ）

- A. 水闸影响了湖泊自然吞吐江河的能力，鱼类资源得不到江河的适时补充，自然繁殖会受到严重影响
- B. 研究指出，无论丰水期还是枯水期，高水位都会导致候鸟取食困难，有可能使候鸟数量减少
- C. 枯水期水位下降会给受珍禽价格飙升诱惑的盗猎者打开方便之门
- D. 水闸阻断了江豚在该湖和江河段的洄游路线，即使在水闸上留出过闸口，由于水流速度快，江豚也很难顺利钻过去

【答案】A

【解析】本题考查削弱类。

第一步：分析题干论点论据。

论点：应该在湖的入江水道处修建水闸，通过控制枯水期水位，增加湖区鱼类的生活空间，保护越冬的候鸟。

论据：某湖出现枯水期提前、持续时间延长等问题，枯水期水位过低，鱼类减少，影响越冬鸟类进食。

第二步：分析选项，确定答案。

A项：说明水闸会严重影响鱼类的自然繁殖，使枯水期鱼类减少的情况更严重，则不能保护越冬的候鸟，最能削弱题干论点，当选。

B项：指出高水位也不利于候鸟取食，只能说明要控制水位保证不过高，不能削弱题干论点，排除。

C项：说明枯水期盗猎增多，不利于保护珍禽，属于支持项，排除。

D项：指出水闸对江豚的影响，对题干论点的削弱力度较小，排除。

故本题选A。

64. 熟练掌握输入法技能对于提高打字效率至关重要。所以，打字员应参加专门教授五笔输入法的培训班。

以下哪项如果正确，最能削弱上述论证？（ ）

- A. 只有熟练掌握输入法技能的打字员才参加过专门教授五笔输入法的培训班
- B. 只有参加过专门教授五笔输入法培训班的打字员才能熟练掌握输入法技能

- C. 一些打字员能熟练掌握输入法技能，但从未参加过专门教授五笔输入法的培训班
- D. 有些教授其他计算机技能的机构比专门教授五笔输入法的培训班更有助于学员掌握输入法技能

【答案】C

【解析】题干论点：打字员应参加专门教授五笔输入法的培训班。

论据：熟练掌握输入法技能对于提高打字效率至关重要。

A项说明“参加过专门教授五笔输入法的培训班”是“熟练掌握输入法技能”的充分条件，即参加过培训的打字员都熟练掌握输入法技能，表明培训班有助于学员熟练掌握技能，支持论证，排除。

B项说明“参加过专门教授五笔输入法的培训班”是“熟练掌握输入法技能”的必要条件，即要熟练掌握技能就必须参加培训班，支持论证，排除。

C项削弱了“参加过专门教授五笔输入法的培训班”和“熟练掌握输入法技能”的关系，最能削弱论证。

D项说明专门教授五笔输入法的培训班在一定程度上有助于学员掌握输入法技能，不能削弱论证，排除。

故本题选C。

65. 目前，是否应该提升水价成为人们热议的问题，有学者认为水价应该上涨，其原因有两个。一是提升水价有利于节约用水，价格提高了，人们自然会节约成本。二是有利于水质的提升，虽然价格上去了，但是如果水质相应提升，可以达到纯净水的水质，对于大家来说，相当于购买纯净水。水质提升是需要成本的，因此水价上涨是可以接受的。

以下哪项如果为真，不能反驳该学者的论证？（ ）

- A. 基础资源提价的最终结果只能是百姓受损和通货膨胀
- B. 节水观念深入人心才是实现节约用水的根本途径
- C. 在现有的涨价幅度内还无法使水达到纯净水的水质
- D. 提升的水价实际上只占人们生活支出的很小一部分

【答案】D

【解析】本题考查削弱类。

第一步：分析题干论点论据。

论点：水价应该上涨且水价上涨是可以接受的。

论据：提升水价有利于节约用水，有利于水质的提升。

第二步：分析选项，确定答案。

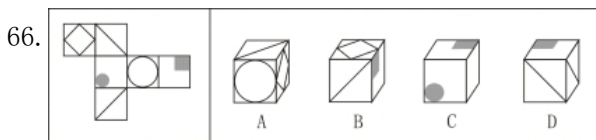
A项：说明水价上涨会使百姓受损，引起通货膨胀，直接反驳论点，排除。

B项：说明水价上涨并不是实现节约用水的根本途径，并不能起到多大作用，削弱了论据，可以反驳学者的论证，排除。

C项：说明水价上涨也达不到纯净水的水质，“相当于购买纯净水”的说法是错误的，削弱了论据，可以反驳，排除。

D项：说明提升的水价对百姓生活的影响很小，表明水价上涨是可以接受的，支持题干论点，当选。

故本题选D。



A. A

B. B

C. C

D. D

【答案】B

【解析】 本题考查空间类折叠图。

第一步：根据展开图可知，面与面之间存在对立和相邻的位置关系。

第二步：分析选项，确定答案。

A项：正面和右面是相对面，排除。

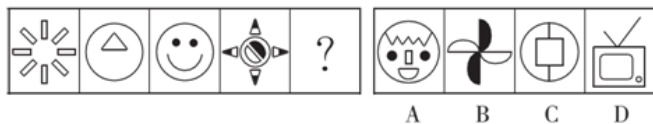
B项：可以由左边的展开图折叠而成，当选。

C项：正面和顶面是相对面，排除。

D项：正面和右面是相对面，排除。

故本题选B。

67. 从所给的四个选项中，选择最合适的一项填入问号处，使之呈现一定的规律性。



A. A

B. B

C. C

D. D

【答案】A

【解析】 本题考查数量类规律。

第一步：观察图形。题干组成元素多杂，且相对匀称，考虑对称及数量类规律。各图形均为轴对称图形，且组成元素种类数依次为1、2、3、4、（5）。

第二步：分析选项，确定答案。

A项：符合规律，当选。

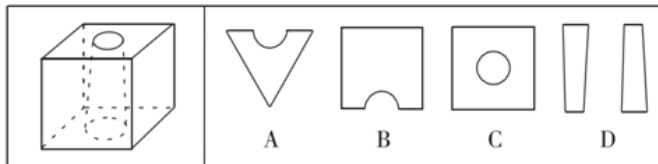
B项：非轴对称图形，排除。

C项：组成元素种类数为1，排除。

D项：非轴对称图形，排除。

故本题选A。

68. 下列的立体图形是立方体中挖出一个圆锥台孔后形成的，如果从任一面剖开，以下哪一个不可能是该立体图形的截面？（ ）



A. A

B. B

C. C

D. D

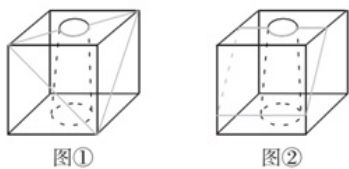
【答案】D

【解析】 A项，沿着上表面的对角线斜切割而成（如图①所示）；

B项，沿着上表面的中位线斜切割而成（如图②所示）；

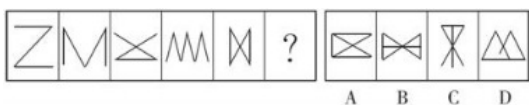
C项，水平切割而成；

D项无法切割形成。



故本题选D。

69. 从所给四个选项中，选择最合适的一个填入问号处，使之呈现一定规律性



A. A

B. B

C. C

D. D

【答案】D

【解析】本题考查数量类规律。

第一步：观察图形。题干图形都为线条图形，线条方式较为多样化，棱角分明，可以考虑图形数量类规律。各图形的锐角个数依次为2、3、4、5、6、（7），则问号处图形的锐角数应为7。

第二步：分析选项，确定答案。

A项：图形的锐角数为8，排除。

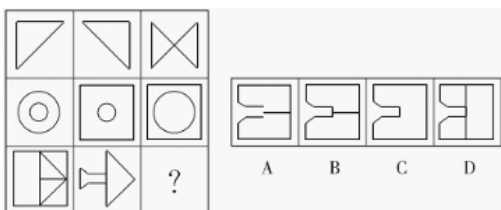
B项：图形的锐角数为8，排除。

C项：图形的锐角数为6，排除。

D项：图形的锐角数为7，当选。

故本题选D。

70. 从所给四个选项中，选择最合适的一个填入问号处，使之呈现一定规律性。



A. A

B. B

C. C

D. D

【答案】A

【解析】本题考查形状类规律。

第一步：观察图形。题干图形存在部分相同，可以考虑叠加类规律。每一行前两个图形叠加去同存异，得到第三个图形，则问号处应为第三排前两个图形去同存异。

第二步：分析选项，确定答案。

A项：符合题干要求，当选。

B项：中间存在一竖，排除。

C项：中间存在一竖，排除。

D项：中间存在一竖，排除。

故本题选A。

四、常识判断

71. 地球上的矿产资源非常丰富。关于矿产，以下认识不正确的是（ ）。

- A. 最坚硬的矿石是金刚石，最软的矿石是石膏
- B. 砂岩按照砂粒直径划分为微粒、细粒、中粒、粗粒和巨粒
- C. 煤、石油和天然气都是化石燃料，由动植物的遗体演变而成
- D. 大多数矿物是在熔融的岩石或炽热的熔体冷却结晶时形成的

【答案】A

【解析】最坚硬的矿石是金刚石，最软的矿石是滑石（另一说法是石墨），A项错误。

砂岩按砂粒的直径划分为巨粒砂岩（2~1mm）、粗粒砂岩（1~0.5mm）、中粒砂岩（0.5~0.25mm）、细粒砂岩（0.25~0.125mm）、微粒砂岩（0.125~0.0625mm），B项正确。

化石燃料是一种烃或烃的衍生物的混合物，其包括的天然资源为煤炭、石油和天然气等，是由死去的有机物和植物在地下分解而形成的，是不可再生资源，C项正确。

岩浆熔融体中会结晶析出橄榄石、辉石、闪石、云母、长石、石英等主要造岩矿物，D项正确。

故本题选A。

72. 对着电视画面拍照，应关闭照相机闪光灯和室内照明灯，这样照出的照片画面更清晰，这是因为（ ）。

- A. 闪光灯和照明灯在电视机屏上的反射光会干扰电视画面的透射光
- B. 闪光灯和照明灯在电视机屏上的反射光会干扰电视画面的散射光
- C. 闪光灯和照明灯在电视机屏上的透射光会干扰电视画面的散射光
- D. 闪光灯和照明灯在电视机屏上的透射光会干扰电视画面的反射光

【答案】A

【解析】对着电视画面拍照，应关闭照相机闪光灯和室内照明灯，这是因为闪光灯和照明灯所发出的反射光会对电视画面的透射光形成干扰。

故本题选A。

73. 下列关于生活常识的表述错误的是（ ）。

- A. 水在真空中会先沸腾后结冰
- B. 颜色深的汽车隔热膜，隔热效果好
- C. 纯水（只有水分子）在0℃时不会结冰
- D. 天凉时，湿润的地方比干旱的地方使人觉得更冷

【答案】B

【解析】水在真空中会先沸腾是因为气压低于当时水温的饱和蒸气压，持续的沸腾会使水的温度降低到它的凝固点，最后冻结成冰，A项正确。

车膜颜色的深浅与隔热性能并没有太大联系，车膜主要通过热阻隔层对阳光中携带的热量进行反射，从而阻隔热量进入车内，而不是靠染色层，B项错误。

水分子结冰除温度条件外，还要求在水中有冻结核。有了冻结核，无规则运动着的水分子才能按冰的晶体结构排列起来。因此，对于纯水而言，即使温度低于0℃，因为没有冻结核，也很难冻结成冰，C项正确。

气温较低时，湿度大的空气中的水分较多，因为水的比热容比空气大，会吸收更多的热量，因此湿度大的地方会感觉更冷，D项正确。

故本题选B。

74. 以下各项按时间先后顺序排列正确的是（ ）。
- A. 秦朝——南朝——北朝——唐朝
 - B. 三叠纪——泥盆纪——侏罗纪——白垩纪
 - C. 法国大革命——美国南北战争——辛亥革命——五四青年运动
 - D. 《论语》——《百年孤独》——《三国志》——《战争与和平》

【答案】C

【解析】南朝与北朝同时代并存，A项排序错误。

地球自形成以来可以划分为太古代、元古代、古生代、中生代和新生代，古生代从远到近划分为寒武纪、奥陶纪、志留纪、泥盆纪、石炭纪和二叠纪，中生代划分为三叠纪、侏罗纪和白垩纪，新生代划分为第三纪和第四纪，B项排序错误。

法国大革命发生于1789年，美国南北战争发生于1861年，辛亥革命发生于1911年，五四青年运动发生于1919年，C项排序正确。

《百年孤独》是哥伦比亚作家加西亚·马尔克斯的代表作，成书于1966年，《三国志》由西晋史学家陈寿所著，创作于280年，D项排序错误。

故本题选C。

75. 习近平同志重要讲话（文章）中引用了很多精典名句，以下引用的诗句，按其被创作的时间先后顺序，排序正确的是（ ）。

- ①苟利国家生死以，岂因祸福避趋之
- ②橘生淮南则为橘，生于淮北则为枳
- ③不识庐山真面目，只缘身在此山中
- ④安得广厦千万间，大庇天下寒士俱欢颜

- A. ④③①②
- B. ④②③①
- C. ②④③①
- D. ②④①③

【答案】C

【解析】①出自清朝诗人林则徐的《赴戍登程口占示家人》，②出自西汉刘向所整理的《晏子春秋·杂下之十》，③出自宋代诗人苏轼的《题西林壁》，④出自唐代诗人杜甫的《茅屋为秋风所破歌》。因此，正确的顺序应为②④③①。

故本题选C。

76. “正义不仅要实现，而且要以看得见的方式实现”，这句话体现了程序正义，即裁判结论要得到人们的普遍认可，裁判者必须确保判决符合公正、正义的要求。下列说法违背了程序正义的是（ ）。

- A. 刑事案件的判处要重证据，不轻信口供
- B. 罚款应当由作出罚款决定的行政机关收缴
- C. 与案件有利害关系的审判人员，应当回避
- D. 证人证言必须在法庭上经过询问、质证并查证属实后才能作为定案依据

【答案】B

【解析】《行政处罚法》第67条第一款规定，作出罚款决定的行政机关应当与收缴罚款的机构分离。B项不符合法律规定，违背了程序正义。

故本题选B。

77. 2014年5月10日，“聚焦丝绸之路经济带——2014甘肃国际经贸合作研讨会”在甘肃敦煌举行。下列关于“丝绸之路经济带”的表述有误的是（ ）。

- A. 是在“古丝绸之路”概念基础上形成的一个新的经济发展区域
- B. 其东边牵着亚太经济圈，西边系着欧洲经济圈，被认为是“世界上最长、最具有发展潜力的经济大走廊”
- C. 建设“丝绸之路经济带”能带动我国经济实力较为薄弱的西部地区发展，有望形成新的开放前沿
- D. 是紧密型一体化合作组织，在区域合作模式上，通过建立互惠的贸易和投资安排，确立统一的关税政策，然后建立超国家的机构来实现深入合作

【答案】D

【解析】2013年9月7日上午，习近平主席在哈萨克斯坦纳扎尔巴耶夫大学作重要演讲，提出共同建设“丝绸之路经济带”。发展“丝绸之路经济带”，各国可以就经济发展战略和对策进行充分交流，本着求同存异原则，协商制定推进区域合作的规划和措施，在政策和法律上为区域经济融合“开绿灯”。

D项“确定统一的关税政策，然后建立超国家的机构”说法错误。

故本题选D。

78. 冰冻的肉类在水中比在同温度的空气中解冻得快，这是因为（ ）。

- A. 水的热容量比空气大
- B. 水的密度比空气大
- C. 水和冰的化学成分完全相同
- D. 水的热传递性比空气好

【答案】D

【解析】水是液态，分子间距较小，从一个分子的热量传到另一个分子较容易；空气是气态，分子间距大，热量传递较困难。因此，冰冻的肉类在水中比在同温度的空气中解冻得快，是因为水的热传递性比空气好。

故本题选D。

79. 下列活动中所需的货币与其执行的职能对应错误的是（ ）。

- A. 商店里出售的T恤衫标价为90元——价值尺度
- B. 承租人交给出租人的8000元租金——贮藏手段
- C. 雇主每月发给保姆的3000元工资——支付手段
- D. 农民用卖粮的5000元钱购买种子——流通手段

【答案】B

【解析】价值尺度指货币衡量和表现一切商品价值大小的作用，它的表现为价格标签，A项正确。贮藏手段即货币退出流通领域作为社会财富的一般代表被保存起来的职能。8000元租金属于货币的支付手段，B项错误。

货币被用来清偿债务或支付赋税、租金、工资等，就是货币支付手段的职能，C项正确。

流通手段是货币充当商品交换媒介的职能，D项正确。

故本题选B。

80. 根据《宪法》的规定，下列表述不正确的是（ ）。

- A. 农村和城市郊区的土地，除由法律规定属于国家所有以外，属于集体所有
- B. 国务院有权批准省、自治区、直辖市的建置和区域划分
- C. 公民在年老、疾病或者丧失劳动能力的情况下，有从国家和社会获得物质帮助的权利
- D. 地方各级人民检察院对产生它的国家权力机关和上级人民检察院负责

【答案】B

【解析】根据《宪法》第62条的规定，全国人大有权批准省、自治区、直辖市的建置。

根据该法第89条的规定，国务院有权批准省、自治区、直辖市的区域划分，批准自治州、县、自治县、市的建置和区域划分。B项表述错误。

故本题选B。

81. 下列诗句描述的情景，发生在冬季的是（ ）。

- A. 月落乌啼霜满天，江枫渔火对愁眠
- B. 小荷才露尖尖角，早有蜻蜓立上头
- C. 忽如一夜春风来，千树万树梨花开
- D. 无可奈何花落去，似曾相识燕归来

【答案】C

【解析】A项错误，该诗句出自张继的《枫桥夜泊》，是诗人对所见到的江南深秋夜景的描述。


B项错误，该诗句出自杨万里的《小池》，生动、细致地描摹出初夏小池中富于生命和动态感的新景象。

C项正确，该诗句出自岑参的《白雪歌送武判官归京》，诗人以比喻的手法描写了北国突降大雪时的情形，这一片白雪皑皑、银装素裹的景象，就像是一夜春风吹来，漫山遍野的梨花盛开了。该诗句虽描写的是北国八月突降大雪，但雪景通常发生在冬季。

D项错误，该诗句出自晏殊的《浣溪沙·一曲新词酒一杯》，作者感受到在这暮春天气中，并不只是无可奈何的凋衰消逝，还有令人欣慰的重现，那翩翩归来的燕子就像是去年曾在此处安巢的旧时相识，惋惜与欣慰的交织中，蕴含着深广的人生哲理。

故本题选C。

82. 关于图中示意的降水方式，下列说法不正确的是（ ）。



锋面雨降水示意图

- A. 主要成因是地形抬升导致暖湿气流冷凝
- B. 常常形成呈带状分布的大范围降水区域
- C. 降水带的平均位置有随季节移动的特点
- D. 我国江淮流域的梅雨就是该类型的降水

【答案】A

【解析】A项错误，锋面雨形成的主要原因是不同性质气流的相遇，它们中间的交界面叫锋面，在

锋面上，暖、湿、较轻的空气被抬升到冷、干、较重的空气上面去。在抬升的过程中，空气中的水汽冷却凝结，形成的降水叫锋面雨。

B项正确，锋面降水的特点是水平范围大，常常形成沿锋而产生的呈带状分布的大范围降水区域，称为降水带。

C项正确，随着锋面平均位置的季节移动，降水带的位置也移动，从冬季到夏季，降水带的位置逐渐向北移动，从夏季到冬季，则向南移动。

D项正确，每年夏初，长江中游地区的冬夏季风势均力敌，锋面雨在此徘徊，阴雨连绵长达一个月之久，此时正值梅子黄熟的时节，所以人们又称之为梅雨季节。

故本题选A。

83. 张某是某服装公司的法人代表，与担任出纳职务的妹夫合谋将100万元公司资金挪用到股市炒股，并将盈利的20万元平分。张某的行为构成（ ）。

- A. 挪用公款罪 B. 挪用资金罪 C. 职务侵占罪 D. 贪污罪

【答案】B

【解析】根据《刑法》和相关司法解释规定，公司、企业或者其他单位工作人员，利用职务上的便利，挪用本单位资金归个人使用或者借贷给他人，数额较大、超过三个月未还的，或者虽未超过三个月，但数额较大，进行营利活动的，或者进行非法活动的，构成挪用资金罪。张某的行为符合挪用资金罪的构成要件，B项正确。挪用公款罪是指国家工作人员利用职务上的便利，挪用公款归个人使用，进行非法活动，或者挪用公款数额较大、进行营利活动，或者挪用公款数额较大、超过三个月未还的行为。

故本题选B。

84. 甲因与乙发生互殴，受伤入院治疗。两周后，甲即将痊愈出院，但在最后一次换药时，因主治医师丙操作医疗器具失误，甲伤口被感染而需继续留院治疗。第二天，医院病房因电线老化短路而引发火灾，甲不幸在火灾中遇难。按照法律，（ ）应对甲的死亡承担法律责任。

- A. 乙 B. 丙 C. 医院 D. 乙、丙和医院共同

【答案】C

【解析】本题中，造成甲死亡的主要因素是医院病房因电线老化短路而引起的火灾，乙、和丙的行为并不能直接造成甲死亡，因此该案件中医院应对甲的死亡承担法律责任。

故本题选C。

85. 关于下面两幅名画的说法不正确的是（ ）。





A. 出自拉斐尔之手 B. 是19世纪的作品 C. 反映法国农民的生活 D. 具有现实主义绘画风格

【答案】A

【解析】第一幅画是《拾穗者》，第二幅画是《晚钟》，这两幅画都是法国画家米勒的作品。

《拾穗者》是米勒在1857年创作的著名油画，画面描绘了农村秋季收获后，人们从地里拣拾剩余麦穗的情景，是现实主义艺术风格的典型代表作。

《晚钟》是米勒创作于1859年的布面油画。画面上，夕阳西下，一天辛勤的田野劳作结束了，一对农民夫妇刚听到远方的教堂钟响，便自然而然地、习惯地俯首摘帽祷告。这幅画深刻地反映了一种复杂的农民精神生活，体现了19世纪后半叶艺术家强烈的民主意识以及现实主义的求实精神。

因此A项错误，B、C、D项正确。

故本题选A。

五、资料分析

2012年，全国国内旅游人数29.57亿人次，比上年增长12.0%。其中，城镇居民19.33亿人次。2012年，全国国内旅游收入22706.22亿元人民币，比上年增长17.6%。2012年全国入境外国游客人数比上年增长0.3%，其中，亚洲市场入境人数1664.88万人次，与上年基本持平，占入境外国游客人数的61.2%；欧洲市场入境人数593.16万人次，增长0.2%；美洲市场入境人数317.95万人次，减少0.7%；大洋洲市场入境人数91.49万人次，增长6.5%；非洲市场入境人数52.49万人次，增长7.4%。

2012年主要客源国入境旅游情况

国 家	入境旅游人数 (万人次)	与上年比较 (%)
美 国	211.81	0.1
日 本	351.82	-3.8
俄罗斯	242.62	-4.3
韩 国	406.99	-2.8
英 国	61.84	3.8
德 国	65.96	3.5
马来西亚	123.55	-0.8
越 南	113.72	13.0
澳大利亚	77.43	6.6
蒙 古	101.05	1.6
菲律宾	96.20	7.6
新加坡	102.77	-3.3
加拿大	70.83	-5.3
意大利	25.20	7.2
印 尼	62.20	2.2
哈萨克斯坦	49.14	-2.9
緬 甸	20.59	7.8
泰 国	64.76	6.5
印 度	61.02	0.6
法 国	52.48	6.4

86. 2011年，全国国内的旅游收入约为（ ）。

- A. 15247.11亿元人民币
C. 18642.37亿元人民币

- B. 17354.03亿元人民币
D. 19308.01亿元人民币

【答案】D

【解析】本题考查基期计算。

第一步：查找相关材料。题干命题点的对应材料在第一段，即2012年，全国国内旅游收入22706.22亿元人民币，比上年增长17.6%。

第二步：根据已知条件解题。根据公式 $\text{基期量} = \frac{\text{现期量}}{1 + \text{现期增长率}}$ 列式，2011年全国国内的旅游收入为

$$\frac{22706.22}{1+17.6\%} \approx \frac{22706}{1.176} \approx \frac{22700}{1.18} \approx 19200 \text{ 亿元人民币，D项与之最接近。}$$

故本题选D。

87. 2012年，农村居民国内旅游人数占全国国内旅游人数的比例约为（ ）。

- A. 30.53% B. 32.43% C. 34.63% D. 38.83%

【答案】C

【解析】本题考查现期比重。

第一步：查找相关材料。题干命题点的对应材料在第一段，即2012年，全国国内旅游人数29.57亿人次，其中城镇居民19.33亿人次。

第二步：根据已知条件解题。2012年农村居民国内旅游人数占全国国内旅游人数的比例为

$$\frac{29.57 - 19.33}{29.57} \approx \frac{10}{30} \approx 33.3\%， \text{且略大于} 33.3\%， \text{C项与之最接近。}$$

故本题选C。

88. 2012年，欧洲各国入境游客量占欧洲入境游客总量比例超过11%的国家有（ ）。

- A. 1个 B. 2个 C. 3个 D. 4个

【答案】B

【解析】本题考查现期比重。

第一步：查找相关材料。题干命题点的对应材料在第一段和表格，即2012年，欧洲入境游客总量为592.16万人次。

第二步：根据已知条件解题。占比超过11%，则

$$592.16 \times 11\% = 592.16 \times (10\% + 1\%) = 59.2 + 5.92 \approx 65.12 \text{ 万人次，则超过的欧洲国家有俄罗斯 (242.62) 和德国 (65.96)，共两个。}$$

故本题选B。

89. 2011年，除美国、加拿大以外的美洲国家游客入境旅游人数约为（ ）。

- A. 13.8万人次 B. 23.8万人次 C. 33.8万人次 D. 43.8万人次

【答案】C

【解析】本题考查基期和差。

第一步：查找相关材料。题干命题点的对应材料在第一段和图表中，即2012年美洲市场入境人数317.95万人次，减少0.7%；美国入境人数211.81万人次，增加0.1%；加拿大入境70.83万人次，减少-5.3%。

第二步：根据已知条件解题。根据公式 $\text{基期量} = \frac{\text{现期量}}{1 + \text{现期增长率}}$ 列式，2011年除美国、加拿大以外的美洲国家游客入境旅游人数为 $\frac{317.95}{1-0.7\%} - \frac{211.81}{1+0.1\%} - \frac{70.83}{1-5.3\%} \approx 320 - 211 - 71 - 70 \times 5\% = 34.5$ 万人次，C项与之最接近。

故本题选C。

90. 根据上述资料，不能推出的是（ ）。

- A. 2012年，韩国为我国第一大入境客源国
- B. 2012年，在20个主要客源国中，六成来自亚洲
- C. 2012年，非洲市场入境游客量占入境外国游客总量的2%
- D. 2012年，越南是入境旅游人数增长最快的客源国

【答案】D

【解析】本题考查综合分析。

A项正确：根据表格可知，韩国入境人数为406.99万人次，人数最多，排除。

B项正确：根据表格可知，在20个主要客源国中共有12个亚洲国家， $\frac{12}{20} = 0.6$ ，即六成来自亚洲，排除。

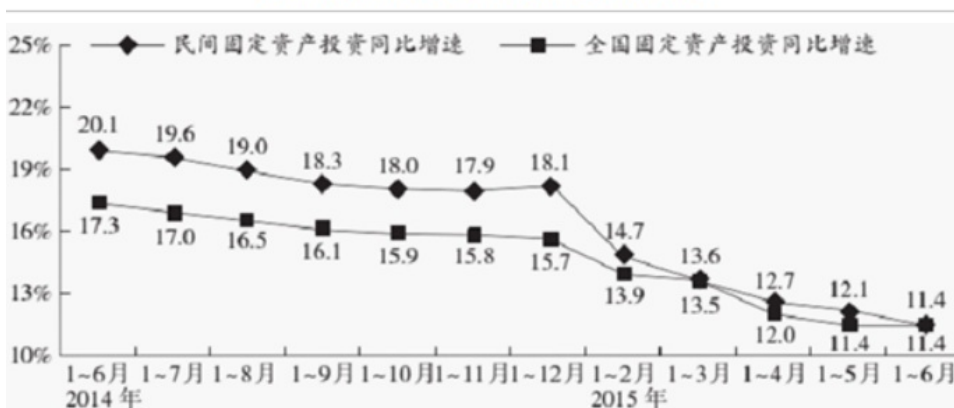
C项正确：根据表格可知，非洲市场入境游客量为52.49万人次，亚洲市场入境人数1664.88万人次，占入境外国游客人数的61.2%，非洲市场入境游客量占入境外国游客总量的 $52.49 \div \frac{1664.88}{61.2\%} \approx 52.49 \div 2720 \approx 2\%$ ，排除。

D项错误：根据表格可知，2012年，在主要客源国中越南是入境旅游人数增长最快的客源国，没有说明非主要客源国的情况，当选。

故本题选D。

2015年1~6月民间固定资产投资154438亿元，占全国固定资产投资的比重为65.1%，比1~5月下降0.3个百分点。

民间固定资产和全国固定资产投资同比增速



分产业看，2015年1~6月第一产业民间固定资产投资4992亿元，同比增长31.4%；第二产业77298亿元，增长10.8%；第三产业72148亿元，增长10.9%。

第二产业中，工业民间固定资产投资76464亿元，同比增长10.8%，增速比1~5月份回落0.4个百分点。

其中，采矿业3092亿元，下降7.9%，降幅比1~5月份收窄2.1个百分点；制造业69519亿元，增长10.7%，增速回落0.6个百分点；电力、热力、燃气及水生产和供应业3853亿元，增长32.8%，增速回落1.4个百分点。

91. 2014年1~6月全国固定资产投资约为多少万亿元？（ ）

A. 14

B. 16

C. 21

D. 24

【答案】C

【解析】本题考查基期计算。

第一步：查找相关材料。题干命题点的对应材料在文字材料第一段和折线图，即2015年1~6月民间固定资产投资154438亿元，占全国固定资产投资的比重为65.1%；2015年1~6月全国固定资产投资同比增速为11.4%。

第二步：根据已知条件解题。2014年1~6月全国固定资产投资为 $\frac{154438}{65.1\%} \div (1+11.4\%) \approx \frac{154440 \times 3}{1.11 \times 2} \approx 209000$ 万元 ≈ 21 万亿元。

故本题选C。

92. 2015年1~6月民间固定资产投资同比增速比上年同期回落多少个百分点？（ ）

A. 4.3

B. 5.9

C. 6.7

D. 8.7

【答案】D

【解析】本题考查简单计算。

第一步：查找相关材料。题干命题点的对应材料在折线图，即2015年1~6月民间固定资产投资同比增速为11.4%，2014年1~6月为20.1%。

第二步：根据已知条件解题。2015年1~6月民间固定资产投资增速较上年同期上升11.4%-20.1%=-8.7%，即回落8.7个百分点。

故本题选D。

93. 2015年上半年，三次产业中民间固定资产投资额占全国固定资产投资总额比重高于上年同期水平的有（ ）。

A. 第一产业

B. 第二产业

C. 第二产业和第三产业

D. 第一产业和第三产业

【答案】A

【解析】本题考查比重比较。

第一步：查找相关材料。题干命题点的对应材料在文字材料第二段和折线图，即分产业看，2015年1~6月第一产业民间固定资产投资同比增长31.4%；第二产业增长10.8%；第三产业增长10.9%。2015年1~6月全国固定资产投资总额同比增速为11.4%。

第二步：根据已知条件解题。根据部分增速大于整体增速，部分占整体的比重同比上升可知，占全国固定资产投资总额比重高于上年同期水平的只有第一产业（31.4%>11.4%）。

故本题选A。

94. 与2013年上半年相比，2015年上半年全国固定资产投资约上升了（ ）。

A. 11.4%

B. 17.3%

C. 28.7%

D. 30.7%

【答案】D

【解析】本题考查间隔增长率。

第一步：查找相关材料。题干命题点的对应材料在折线图，即2015年上半年全国固定资产投资同比增长率为11.4%，2014年上半年为17.3%。

第二步：根据已知条件解题。根据隔期增速公式 $r=a\%+b\%+a\% \times b\%$ 可知，2015年上半年全国固定

资产投资与2013年上半年相比上升了 $11.4\%+17.3\%+11.4\%\times 17.3\%\approx 30.7\%$ 。

故本题选D。

95. 根据资料，下列说法正确的是（ ）。

- A. 2015年3~6月，各月的全国固定资产累计投资额同比增速逐月递减
- B. 2015年6月民间固定资产投资占全国固定资产投资的比重小于65.1%
- C. 2015年1~4月民间固定资产投资同比增速比1~3月回落1.5个百分点
- D. 2015年1~5月采矿业民间固定资产投资同比增速比制造业低1.3个百分点

【答案】B

【解析】本题考查综合分析。

A项错误：根据折线图可知，2015年1~4月全国固定资产累计投资额同比增长率为12.0%，1~5月为11.4%，根据混合增长率可知，5月全国固定资产累计投资额同比增长率小于11.4%，同理可知6月的同比增长率等于11.4%，因此同比增长率并非逐月递减的，排除。

B项正确：根据文字材料第一段可知，2015年1~6月民间固定资产投资154438亿元，占全国固定资产投资的比重为65.1%，比1~5月下降0.3个百分点，则2015年1~5月民间固定资产投资占全国固定资产投资的比重为 $65.1\%+0.3\%=65.4\%$ ，根据混合增长率的性质可知，2015年6月民间固定资产投资占全国固定资产投资的比重小于65.1%，当选。

C项错误：根据折线图可知，2015年1~4月民间固定资产投资同比增速为12.7%，1~3月为13.6%，前者比后者低 $13.6\%-12.7\%=0.9\%$ ，即回落0.9个百分点，排除。

D项错误：根据文字材料第三段可知，2015年1~5月采矿业民间固定资产投资同比增速为 $-7.9\%+(-2.1\%)=-10\%$ ，制造业为 $10.7\%+0.6\%=11.3\%$ ，前者比后者低 $11.3\%-(-10\%)=21.3\%$ ，即低21.3个百分点，排除。

故本题选B。

2012年，全国国内旅游人数29.57亿人次，比上年增长12.0%。其中，城镇居民19.33亿人次。2012年，全国国内旅游收入22706.22亿元人民币，比上年增长17.6%。2012年全国入境外国游客人数比上年增长0.3%，其中，亚洲市场入境人数1664.88万人次，与上年基本持平，占入境外国游客人数的61.2%；欧洲市场入境人数593.16万人次，增长0.2%；美洲市场入境人数317.95万人次，减少0.7%；大洋洲市场入境人数91.49万人次，增长6.5%；非洲市场入境人数52.49万人次，增长7.4%。

2012年主要客源国入境旅游情况

国 家	入境旅游人数 (万人次)	与上年比较 (%)
美 国	211.81	0.1
日 本	351.82	-3.8
俄罗斯	242.62	-4.3
韩 国	406.99	-2.8
英 国	61.84	3.8
德 国	65.96	3.5
马来西亚	123.55	-0.8
越 南	113.72	13.0
澳大利亚	77.43	6.6
蒙 古	101.05	1.6
菲律宾	96.20	7.6
新加坡	102.77	-3.3
加拿大	70.83	-5.3
意大利	25.20	7.2
印 尼	62.20	2.2
哈萨克斯坦	49.14	-2.9
緬 甸	20.59	7.8
泰 国	64.76	6.5
印 度	61.02	0.6
法 国	52.48	6.4

96. 2011年, 全国国内的旅游收入约为 ()。

A. 15247.11亿元人民币

B. 17354.03亿元人民币

C. 18642.37亿元人民币

D. 19308.01亿元人民币

【答案】D

【解析】本题考查基期计算。

第一步: 查找相关材料。题干命题点的对应材料在第二段, 即2012年, 全国国内旅游收入22706.22亿元人民币, 比上年增长17.6%。

第二步: 根据已知条件解题。根据公式 $\text{基期量} = \frac{\text{现期量}}{1 + \text{现期增长率}}$ 列式, 2011年全国国内的旅游收入为

$\frac{22706.22}{1+17.6\%} \approx \frac{22706}{1.176} \approx \frac{22700}{1.18} \approx 19200$ 亿元人民币, D项与之最接近。

故本题选D。

97. 2012年, 农村居民国内旅游人数占全国国内旅游人数的比例约为 ()。

A. 30.53%

B. 32.43%

C. 34.63%

D. 38.83%

【答案】C

【解析】本题考查现期比重。

第一步: 查找相关材料。题干命题点的对应材料在第二段, 即2012年, 全国国内旅游人数29.57亿人次, 其中城镇居民19.33亿人次。

第二步: 根据已知条件解题。2012年农村居民国内旅游人数占全国国内旅游人数的比例为

$\frac{29.57 - 19.33}{29.57} \approx \frac{10}{30} \approx 33.3\%$, 且略大于33.3%, C项与之最接近。

故本题选C。

98. 2012年, 欧洲各国入境游客量占欧洲入境游客总量比例超过11%的国家有 ()。

A. 1个

B. 2个

C. 3个

D. 4个

【答案】B

【解析】本题考查现期比重。

第一步：查找相关材料。题干命题点的对应材料在第一段和表格，即2012年，欧洲入境游客总量为592.16万人次。

第二步：根据已知条件解题。占比超过11%，则

$592.16 \times 11\% = 592.16 \times (10\% + 1\%) = 59.2 + 5.92 \approx 65.12$ 万人次，则超过的欧洲国家有俄罗斯（242.62）和德国（65.96），共两个。

故本题选B。

99. 2011年，除美国、加拿大以外的美洲国家游客入境旅游人数约为（ ）。

- A. 13.8万人次 B. 23.8万人次 C. 33.8万人次 D. 43.8万人次

【答案】C

【解析】本题考查基期和差。

第一步：查找相关材料。题干命题点的对应材料在第一段和图表中，即2012年美洲市场入境人数317.95万人次，减少0.7%；美国入境人数211.81万人次，增加0.1%；加拿大入境70.83万人次，减少-5.3%。

第二步：根据已知条件解题。根据公式 $\text{基期量} = \frac{\text{现期量}}{1 + \text{现期增长率}}$ 列式，2011年除美国、加拿大以外的美洲国家游客入境旅游人数为 $\frac{317.95}{1 - 0.7\%} - \frac{211.81}{1 + 0.1\%} - \frac{70.83}{1 - 5.3\%} \approx 320 - 211 - 71 - 70 \times 5\% = 34.5$ 万人次，C项与之最接近。

故本题选C。

100. 根据上述资料，不能推出的是（ ）。

- A. 2012年，韩国为我国第一大入境客源国
B. 2012年，在20个主要客源国中，六成来自亚洲
C. 2012年，非洲市场入境游客量占入境外国游客总量的2%
D. 2012年，越南是入境旅游人数增长最快的客源国

【答案】D

【解析】本题考查综合分析。

A项正确：根据表格可知，韩国入境人数为406.99万人次，人数最多，排除。

B项正确：根据表格可知，在20个主要客源国中共有12个亚洲国家， $\frac{12}{20} = 0.6$ ，即六成来自亚洲，排除。

C项正确：根据表格可知，非洲市场入境游客量为52.49万人次，亚洲市场入境人数1664.88万人次，占入境外国游客人数的61.2%，非洲市场入境游客量占入境外国游客总量的 $52.49 \div \frac{1664.88}{61.2\%} \approx 52.49 \div 2720 \approx 2\%$ ，排除。

D项错误：根据表格可知，2012年，在主要客源国中越南是入境旅游人数增长最快的客源国，没有说明非主要客源国的情况，当选。

故本题选D。