

智能出题



扫码答题
只能用32学苑

APP扫码

一、言语理解与表达

1. 黄河下游原来是绕山东丘陵之南注入黄海的。后来，由于中游的黄土高原不断_____，下游的广大平原又不断沉降，黄土不断受到侵蚀，_____泥沙滚滚流入黄河。到了下游，水中的泥沙逐渐淤积，河床不断抬高，遇到汛期，便会漫溢泛滥，出现改道的现象。

依次填入划横线部分最恰当的一项是（ ）。

- A. 升高 掺杂
- B. 降低 含有
- C. 下降 大量
- D. 抬升 挟带

【答案】A

【解析】先看第一空，根据后文“下游的广大平原又不断沉降”，可知此处应填入与“沉降”意思相反的词语，排除B、C项。

再看第二空，主语是“黄土”，用“掺杂”（指混杂）更恰当，“挟带”通常搭配水流、风等流体，排除D项。

故本题选A。

2. 在充满变量的世界，我们是眼花缭乱的观望者，也是置身其间的推动者。曾经走街串巷的叫卖声不见了，只需手指轻轻一点即可享受送货上门的电商火了起来；全家人乃至几家人守着一台电视机等待每天一集电视剧的场景不见了，取而代之的是乱花渐欲迷人眼的多屏时代；人们获取信息的渠道不仅早已多样化，而且信息芜杂难辨——“_____”，是我们生活中的常态，容不得视而不见，也容不得退避。

填入划横线部分最恰当的一项是（ ）。

- A. 难
- B. 变
- C. 乱
- D. 散

【答案】B

【解析】文段是总一分一总结构，首句是中心句，讲在充满变量的世界中，我们既是观望者，也是推动者，接着通过具体例证加以说明，最后再总结概括。由此可知，横线处必然也围绕“充满变量”的意思展开，只有B项“变”符合语义。

A、D项明显不恰当；C项“乱”只是这个变量世界的其中一个方面。

故本题选B。

3. 中国互联网发展的过程中，“鼓励原创”的版权意识与互联网的免费共享精神，一直在_____中牵绊着发展，当众多网友对网络“免费午餐”津津乐道时，损害的却是创造者的创作热情以及出版业

的长远发展。

填入划横线部分最恰当的一项是（ ）。

- A. 逆境 B. 竞争 C. 矛盾 D. 挑战

【答案】C

【解析】本题根据文段意思解题。由前文“‘鼓励原创’的版权意识与互联网的免费共享精神”可知，“版权意识”和“免费共享精神”是矛盾的，不存在“逆境”“竞争”和“挑战”的意思。

故本题选C。

4. 这也许有些_____，男性和女性都把自己和对方看作平等的人，才是正常的、自然的态度。但文学本来有异于科学。文学家写的是活生生的人，是活的感受和感发，他们是否合乎科学，不是一眼看得出来的，有时看似_____，恰好包含着合乎科学的内容。

依次填入划横线部分最恰当的一项是（ ）。

- A. 矫枉过正 偏颇 B. 荒诞不经 偏私
C. 过犹不及 偏激 D. 无理取闹 偏执

【答案】A

【解析】先看第二空，此处讲文学异于科学，文学有时候不合乎科学，即文学家笔下的男性和女性也许是不平等的人，这种现象会显得有些不公平。“偏激”指思想、言论等过火、不适当，“偏执”指片面而又固执，二者均不符合语义，先排除C、D项。

再看第一空，“荒诞不经”形容言论荒谬，不合情理，不符合后文“才是正常的、自然的态度”的意思，排除B项。

故本题选A。

5. 很多体育运动都可以提高民族自豪感，但足球比赛的效果更为_____。在赛场上，有太多国家标志的体现——赛前的国歌、队服的颜色，更不用说看台上_____的球迷阵营。

依次填入划横线处最恰当的一项是（ ）。

- A. 明显 黑白分明 B. 突出 泾渭分明
C. 显著 与众不同 D. 明确 标新立异

【答案】B

【解析】第一空的中心语是“效果”，无法用“明确”修饰，先排除D项。

再看第二空，中心语是“球迷阵营”，C项“与众不同”通常形容一个事物，无法修饰“球迷阵营”，排除A项；“黑白分明”比喻是非界限很清楚，也无法修饰“球迷阵营”，排除。

验证B项，“效果突出”搭配恰当，“泾渭分明”比喻界限清楚或是非分明，符合语义。

故本题选B。

6. 对于美国频频挥舞“贸易大棒”，中国商务部多次强调，贸易保护主义不仅对他国不公，对本国企业也没有好处，希望美方不要以看似_____但实际带有很强政治背景的措施来实施贸易保护主义，而应恪守反对贸易保护主义的承诺，以更加_____的方法妥善处理贸易摩擦。

依次填入划横线部分最恰当的一项是（ ）。

- A. 不偏不倚 积极 B. 义正词严 务实 C. 大义凛然 理性 D. 冠冕堂皇 公平

【答案】D

【解析】先看第二空，根据前文“贸易保护主义对他国不公”以及“美方用带有很强政治背景的措施来实施贸易保护主义”，可知此处强调“公平”，直接锁定D项。

验证第一空，“冠冕堂皇”指外表庄严或正大的样子，一般用于贬义，符合文段对美国“带有很强政治背景的措施来实施贸易保护主义”的批判态度。

故本题选D。

7. 网络虚拟社会是现实社会在计算机网络上的_____和延伸，现实社会中的违法犯罪以及社会治安问题已经开始向网络虚拟社会_____，大大增加了政府管理的复杂性。

依次填入划横线部分最恰当的一项是（ ）。

A. 映衬 蔓生

B. 映照 蔓引

C. 映射 蔓延

D. 映带 蔓连

【答案】C

【解析】先看第一空，“映衬”指映照、衬托，“映带”指景物彼此衬托，都不符合语境，排除A、D项。

再看第二空，“蔓延”指像蔓草一样延伸扩展，呼应前文的“延伸”；“蔓引”指牵连，不符合语境，排除。

故本题选C。

8. 中国是文明古国，礼仪教化之邦。如果有人在大庭广众之下喧哗不止，则不免让_____。

填入下列横线处的词语，最恰当的一项是（ ）。

A. 侧目而视

B. 恨之入骨

C. 置若罔闻

D. 不以为然

【答案】A

【解析】“侧目而视”形容憎恨或又怕又愤恨；“恨之入骨”形容痛恨到极点；“置若罔闻”指不予理睬；“不以为然”表示不同意或否定。

联系语义，“在大庭广众之下喧哗不止”会让人觉得反感，“侧目而视”最贴切。“恨之入骨”词义过重，“置若罔闻”和“不以为然”均明显不符合语义。

故本题选A。

9. 条纹，作为最简洁而又生机勃勃的视觉设计语言，自石器时代便被广泛运用。彩色条纹依旧不断_____于当今时装界，新锐设计师们拒绝了浮华，但同样_____着高调。

依次填入划横线部分最恰当的一项是（ ）。

A. 风靡 保持

B. 时兴 延续

C. 流行 维持

D. 活跃 蕴含

【答案】A

【解析】先看第一空，“时兴”指一时流行，与前文“依旧不断”意思不符，排除B项；“活跃”的主语通常是有机体，无法与“彩色条纹”搭配，排除D项。

再看第二空，“保持”指维持（原状），使不消失或减弱；“维持”指使继续存在下去，通常形容弱小或衰微的事情。根据文意可知彩色条纹一直是“高调”的体现，“保持”形容维持这种状态，最贴切，

排除C项。

故本题选A。

10. 必须更加注重改革的系统性、整体性、协同性，让一切劳动、知识、管理、资本的活力竞相_____，让一切创造社会财富的源泉充分_____，让发展成果更多更公平惠及全体人民。

- A. 迸发 涌动
- B. 散发 涌流
- C. 迸发 涌流
- D. 散发 涌动

【答案】C

【解析】先看第一空，“迸发”指由内而外地突然发出、爆发，爆发的事物一般力度较大，“散发”仅仅指分发、发出，“劳动、知识、管理、资本的活力”是由内而外发出的，“迸发”更恰当，排除B、D项。

再看第二空，“涌动”一般用来形容心情，比喻人或事物像水一样冒出流动，“涌流”指喷涌流淌，与“源泉”相呼应，排除A项。

故本题选C。

11. 艺术的助人伦、成教化，不是如演说家那样带有着直接的_____。它在潜移默化中，使人们_____，趋向社会的崇高。

依次填入划横线部分最恰当的一项是（ ）。

- A. 功利性 身临其境
- B. 实用性 耳濡目染
- C. 功用性 心服首肯
- D. 目的性 心悦诚服

【答案】D

【解析】先看第一空，根据“不是”可知横线处填入的词与前文“助人伦、成教化”是相对立的，则“功利性”与“目的性”更符合语义。“实用性”侧重事物的应用价值，“功用性”侧重事物的功能，二者均不符合语义，排除B、C项。

再看第二空，“身临其境”指亲自到了那个境地，明显不符合语义，排除A项。

故本题选D。

12. 发光二极管对人类社会的贡献已经得到诺贝尔奖的_____，但这一发明对昆虫世界的危害却_____。发表于《生态学应用》上的最新研究指出，在LED光源旁设置的捕虫装置捉到的昆虫比钠汽灯旁的装置多48%。LED光源对昆虫导航能力的_____可能增加它们意外死亡的风险。

依次填入划横线部分最恰当的一项是（ ）。

- A. 认可 知之甚少 破坏
- B. 认定 不为人知 干预
- C. 肯定 鲜为人知 干扰
- D. 中肯 不予理睬 侵扰

【答案】C

【解析】先看第一空，此处需要填入一个动词，“中肯”是形容词，排除D项。

再看第二空，此处需要填入一个带有主语的成语，“知之甚少”填入句中缺乏主语，不符合语法，排除A项。

最后看第三空，“LED光源对昆虫导航能力”只能是“干扰”（指扰乱），“干预”指过问（别人的事），不符合语义，排除B项。

故本题选C。

13. ①提起“小清新”，或许很多人不屑
②“人生一场小清新，此生不改是天真。”
③天真，含义有褒有贬。既有纯真、简单之意，也有幼稚、不成熟之意。
④这位“网络红人”却难能可贵地在“小清新”中，发现了它最可爱又可贵的内核——天真。
⑤天真是好是坏？是多一点好还是少一点好？在不同的语境中答案当然不同。但在当前，窃以为这种品质不是太泛滥，而是太稀缺。
⑥这是不久前一位“网络红人”与网友互动时，在微博上写下的一句俏皮的“禅语”。
- 下列语序排列正确的是（ ）。

- A. ①⑥②④⑤③ B. ⑥④①⑤③② C. ②⑥①④③⑤ D. ③⑤②⑥①④

【答案】C

【解析】观察选项，可先判断首句。①“提起‘小清新’”必然承接前文关于“小清新”的内容，不适合作为首句，排除A项；⑥“这是”指代前文的内容，不适合作为首句，排除B项。

再比较C、D项，②第一次出现“天真”，则②在③前较合理，排除D项。

验证A项，符合逻辑。

故本题选C。

14. 将下列句子组成一段逻辑连贯、语言流畅的文字，排列顺序最合理的是（ ）。
- ①然而，繁华盛景背后的旧制度却已是风烛残年、百孔千疮
②德国总理默克尔赠给了中国贵宾一幅古老地图，在无数国人心中激起波澜
③在当时已经踏上现代化之路的欧洲人眼里，君权专制的中华帝国“翻来覆去只是一座雄伟的废墟”
④那幅绘于乾隆年间的中国地图，刻画的是中国封建史上最后一个辉煌的年代

- A. ②③①④ B. ①②④③ C. ②④①③ D. ③②④①

【答案】C

【解析】观察选项，可先确定首句。①出现关联词“然而”，③出现指代词“当时”，两句均不适合作首句，排除B、D项。

再看④，“那幅绘于乾隆年间的中国地图”显然承接②的“一幅古老地图”，排除A项。

验证C项，符合语句逻辑关系。

故本题选C。

15. 贫困有时不仅是收入低下，还是能力匮乏。能力的根本是素质。文明也是一种素质，而且是更重要的素质。“贫困文化”的研究者早就提出，不但要关注穷人的生活状态，而且要关注他们的价值观念、生活态度和行为模式。这种“亚文化”一旦形成，就会影响他们改变贫困的状况，而且会代代相传使贫困维持下去。当年民国乡村建设运动的先驱晏阳初先生，就认定乡村建设的根本之策在于治理“愚、贫、弱、私”，以培养农民的知识力、生产力、强健力和团结力。
- 这段文字意在说明（ ）。

- A. 国民素质的提高根本在于文明的发展 B. 要大力提升贫困群众的发展能力
C. 个人能力发展的根本是文明素质 D. 提升贫困群众的文明素质意义重大

【答案】D

【解析】文段首先讲贫困不仅是收入低下，也是能力匮乏，而能力的根本就是素质，接着讲文明作为素质的一种，是更重要的素质，如果不加以重视，则会影响穷人改变贫困的状况，还会代代相传使贫困维持下去。由此可知，文段意在说明提升贫困群众的文明素质意义重大。

A项“国民素质”和C项“个人能力发展”文段均无从体现；B项“发展能力”表述不明确，没有体现“文明素质”这一核心概念。

故本题选D。

16. 春秋末至战国时期，各家往往以早期记载的五帝、三代作为理想标准，衡量各诸侯国的治理效果。孔子欲恢复周礼，表明他心目中是认可周代文武之治的。荀子反对孟子言必称三代、盲目崇拜先王的历史观，而大讲“法后王”，认为今胜于古。汉代儒家的古今观主要是秉承了孔、孟先师祖述尧舜、宪章文武的是古非今论，而东汉前期思想家王充则旗帜鲜明地提出“汉盛于周”的历史发展标准。宋代以后，又多了个汉唐评价标准。到底三代与汉唐孰优孰劣，人们也辩论不已。其实，争论背后的实质是用什么样的模本看待当时的治理成效。

对这段文字的主旨概括最准确的是（ ）。

- A. 表明古代治国思想的历史借鉴
- B. 阐述各家对治国效果的评价依据
- C. 列举各家治理方案的主要差异
- D. 叙述了国家治理理念的历史沿革

【答案】B

【解析】文段首先介绍春秋末至战国时期，各家以五帝、三代作为衡量治理效果的理想标准，随后分别介绍了汉代儒家、东汉前期及汉唐的历史发展标准，最后指出“争论背后的实质是用什么样的模本看待当时的治理成效”，则文段强调的是评价治理成效的标准。显然，B项最恰当。

A项“历史借鉴”文段没有论及，文段仅提及作为评价的依据；C项概括不到位，文段重点不在于说明“差异”，而是评价治理效果的标准；D项“历史沿革”无中生有。

故本题选B。

17. 榜样的力量是无穷的，精神的力量是伟大的。50年来，在雷锋精神的感召下，涌现了一大批雷锋式的先进人物。“当代雷锋”郭明义就是其中的杰出代表。今天，无论是遍布全国的上百支郭明义爱心分队，还是郭明义微博上的690万“粉丝”，或是郭明义先进事迹报告会上泪流满面的听众，无不表明随着时代进步和社会发展，雷锋精神不但没有过时，而且越来越焕发出引领时代风尚的独特力量，越来越成为人们热切的心灵呼唤、强烈的道德自觉。

雷锋式先进人物的出现说明了（ ）。

- A. 榜样的力量是无穷的，精神的力量是伟大的
- B. 随着时代的进步和社会的发展，雷锋精神没有过时
- C. 新的时代，雷锋精神依然是引领时代风尚的独特力量
- D. 任何时代，人们都需要热切的心灵呼唤和强烈的道德自觉

【答案】C

【解析】文段的重点在后文“雷锋精神不但没有过时，而且越来越焕发出引领时代风尚的独特力量，越来越成为人们热切的心灵呼唤、强烈的道德自觉”，递进复句侧重后半部分内容，即强调“新的

时代，雷锋精神依然是引领时代风尚的独特力量”，C项正确。

A项作为文段的首句，作用是引出郭明义的事迹，与文段强调的雷锋精神没有紧密联系；B项没有抓住文段论述重点；D项没有涉及“雷锋精神”这一要点。

故本题选C。

18. 我觉得倘若苦闷而不致陷入悲观厌世，有矛盾而能解决，那么苦闷与矛盾并不可怕。所要避免的乃是因苦闷而致身心失常或者玩世不恭，变作游戏人生的态度。由此得出一个结论，我们不怕经常苦闷，经常矛盾，但必须不让这苦闷与矛盾妨碍我们愉快的心情。

作者认为我们对苦闷和矛盾应该抱有的态度是（ ）。

- A. 逃避退缩 B. 迎难而上 C. 视而不见 D. 坦然面对

【答案】D

【解析】根据文末“我们不怕经常苦闷，经常矛盾，但必须不让这苦闷与矛盾妨碍我们愉快的心情”，可知作者的态度是积极的。“逃避退缩”和“视而不见”显然与文段意思相悖，排除A、C项；文段仅强调“不怕经常苦闷，经常矛盾”，并没有提及“困难”，则“迎难而上”不符合，“坦然面对”更贴切。

故本题选D。

19. 德国人在中国人心目中的形象可谓已经超凡脱俗。中文网上流传的各种帖子说：青岛地下水道存在百年前的配件包，而且都用油纸妥善包好；德国人一年只有一半时间工作，依然能够保证强劲的经济实力……而德国自己的报纸《南德意志报》则惊叹“德国在中国被‘神话’了”。报道称，青岛地下水道的完备，德国人对其所做贡献不过3%。“德国制造”确实在当今世界赢得了相当高的美誉度，但其在19世纪的时候，“德国制造”还是一个贬义词，代表廉价与质量差。后来，德国人齐心协力打造“德国制造”的品质，才扭转了人们心中的印象。

最适合作这段文字标题的是（ ）。

- A. 中国，不用妄自菲薄 B. 钦佩，要适可而止
C. 德国，一个值得敬佩的国家 D. 赞赏，当在真实基础之上

【答案】D

【解析】文段首先讲德国人在中国人心目中有着超凡脱俗的形象，接着用“而”指出德国之前不像中国人说得那么“神”，只是后来通过努力才扭转了人们心中的印象。言下之意是评价德国应当客观、真实，D项符合语义。

A项“妄自菲薄”文段没有涉及，排除；B项“适可而止”形容过度，文段并没有强调“度”的问题，排除；C项偏离论述重点。

故本题选D。

20. 英国有着高福利的传统，1601年英国引入世界首部《济贫法》，1948年依据《贝弗里奇计划》，宣布建成世界上第一个福利国家，承诺提供“从摇篮到坟墓”全天候福利保障制度服务。但随着经济不景气，尤其是老龄化的日趋严重，英国65岁以上老年人口目前已达16%，养老金严重入不敷出，目前养老金缺口已达GDP的26%。养老金改革合情合理，但这无疑触动了国民养老费用的奶酪，遭至强烈反抗也在情理之中。显然，福利制度的刚性特征使得由简入奢易，由奢入简难。

对这段文字概括最准确的是（ ）。

- A. 描述英国养老金改革计划举步维艰的状况
- B. 揭示人口老龄化对英国政府提出的新要求
- C. 反思英国实行全天候福利保障制度的弊端
- D. 分析英国高福利传统难以为继的客观原因

【答案】A

【解析】文段讲英国承诺提供全天候福利保障制度服务，但是随着经济不景气以及老龄化的日趋严重，养老金严重入不敷出，为此而实行的养老金改革遭到国民强烈的反抗。

显然，文段的重点在“但”之后，论述重点是“养老金改革”，A项最恰当。

B、C项分析均过于宽泛，没有概括到位；

D项“客观原因”不是文段论述的重点。

故本题选A。

21. 默读电视新闻、广告和节目文稿的人，比观看电视节目本身的人能记住和回想起更多信息。你鄙视某杂志的价值原则，仍可以津津有味地读它，但如果电视节目出现这种情况，你就看不下去，赶紧换台。在这种情况下，我们不愿意把时间花在不同意的观点上，就不太可能进行反思，实际上对一切东西的质疑都将更为稀少。把两个书面记录摆在一起看，很容易就能发现不一致之处，甚至能很容易地辨别信息之间权威程度的差别。比较两个视频报道就比较麻烦了，在被要求从两个互相冲突的电视报道中加以选择时，观众要么依靠直觉，要么依靠他在观看之前相信的东西。

这段文字意在说明（ ）。

- A. 阅读文本比看电视更助于思考
- B. 信息接受途径影响人的行为习惯
- C. 电视有可能使人形成错误的价值观
- D. 喜欢阅读的人比爱看电视的人更冷静

【答案】A

【解析】文段通过对比阅读杂志和观看电视节目时的两种不同状态，引出阅读文本时更会进行反思，更容易辨别差别。从文段“进行反思”“质疑”“发现不一致之处”“辨别差别”等字眼可知，强调的是“思考”，只有A项符合题意。

B项“人的行为习惯”文段无从体现，C、D项明显错误。

故本题选A。

22. 李商隐说“美酒成都堪送老”，雍陶说“自到成都烧酒熟，不思身更入长安”，点名直夸成都酒好。客观来看，成都确实深受酒神的青睐：独有的弱酸性黄粘土，粘性强、保水性好，含铁、钙等金属离子少，是酿酒筑窖的最佳土壤。地下水和冰川融水形成的优质水源，浸润了美酒的灵魂，而盆地中湿润的气候，格外有利于酒窖里微生物的繁衍，为酿酒提供了得天独厚的外部环境。悠长历史，堆叠的不仅是酒窖的深、酒糟的浓、酒浆的冽，也是酿酒、沽酒、饮酒之人悠然享受生活的心态，这才使成都的酒，酝酿出至醇的香和韵。

对这段文字概括最恰当的一项是（ ）。

- A. 成都美酒从唐朝开始就已经闻名天下
- B. 独特的地理文化条件造就了成都美酒
- C. 产地的生活哲学塑造了酒文化的灵魂
- D. 气候形成了成都市井文化中慢的特质

【答案】B

【解析】文段主要讨论成都的酒之所以“美”的原因，包括土壤、水源、气候等，即有独特的地理条件；同时，悠久的历史给当地人养成的悠然享受生活的心态也使成都的酒更香醇。

由此可知，文段主要讲的是独特的地理文化条件造就了成都美酒。

A项“唐朝开始”文段没体现，且不是文段的论述中心；

C项仅概括“文化因素”，且偏离“成都美酒”的主题；

D项以偏概全，且同样偏离“成都美酒”的主题。

故本题选B。

23. 对“什么是优良的政治生活？”以及“如何实现优良的政治生活？”这两个问题作出鲜明的回答是政治哲学得以存在的合法性依据。作为西方早期马克思主义的代表，在“是”的问题上，葛兰西的回答尊奉了马克思的基本路径，即只有实现了人的全面而自由解放了的政治生活才是最优良的政治生活；而在“如何”的问题上，葛兰西从西欧的实际情况出发，提出了文化霸权的路径。

对这段文字概括最恰当的是（ ）。

- A. 葛兰西政治哲学的基本内容
- B. 葛兰西政治哲学是早期马克思主义的代表
- C. 葛兰西政治哲学对马克思主义传承、丰富和发展
- D. 政治哲学不仅要有好的规划，还要有实现的方法

【答案】C

【解析】文段主要讲述作为西方早期马克思主义代表的葛兰西对“什么是优良的政治生活？”以及“如何实现优良的政治生活？”这两个问题的回答，即第一个问题尊奉马克思的基本路径，第二个问题则从西欧的实际情况出发提出“文化霸权的路径”。

由此可知，葛兰西对马克思主义既有传承，也有丰富和发展，C项最恰当。

A项“政治哲学的基本内容”范畴太大，缺乏针对性；

B项没有深入分析，概括不到位；

D项偏离论述主题。

故本题选C。

24. 人类智力是无法获得完美认知的，一个开放的社会，应该承认人类容易犯错的特征，而封闭社会则会否认这一点。封闭社会也在努力消除或者不想承认不确定性，它会为历史设定一个单线性的目标。与之相比，开放社会承认不确定性，也承认整个社会目的的不确定性。如果我们承认未来是变化或者不确定的，那么对此我们或者接受，或者否定。前者为人们带来批判式思维模式，并且能够带领我们走向开放社会，后者则会导致教条式思维模式以及封闭的社会。

关于这段文字，以下理解准确的是（ ）。

- A. 如果我们能接受未来是变化的，那么就有可能获得批判性的思维模式
- B. 人们可以通过不断的批判和否定来确定社会的目的
- C. 封闭社会的教条式思想能消弥社会的不确定性，并使人们获得完美的认知
- D. 人类容易犯错的特征使我们不得不接受未来是变化的、不确定的

【答案】A

【解析】A项正确，由“如果我们承认未来是变化或者不确定的，那么对此我们或者接受，或者否定。前者为人们带来批判式思维模式……”，这里的“前者”指的就是“接受”。

B项“不断的批判和否定”无中生有。

C项错误，封闭社会的教条式思想是否能消弥社会的不确定性，且是否能使人们获得完美的认知，文段无从体现。

D项错误，“人类容易犯错的特征”与“不得不接受未来是变化的、不确定的”不构成因果关系。故本题选A。

25. 政府职能转变，关键在于处理好与市场和社会的关系，确保政府与市场、与社会的关系上不“越位”，在保障民生等基本公共服务、监管违法行为等方面不“缺位”。这就需要政府厘清与市场和社会之间的边界，明确政府该做什么，不该做什么。一方面，进一步简政放权，使市场在资源配置中起决定性作用；另一方面，政府可通过购买服务的方式，激发社会活力，增加民生福祉。

通过上述文字可以得知（ ）。

- A. 区分市场与社会的差异就能明确政府职能
- B. 简政放权有助于政府更好地监管违法行为
- C. 保障民生就是处理好市场和社会的关系
- D. 购买服务是政府职能转变的重要方式

【答案】D

【解析】A项错误，文段只论述政府与市场和社会的关系，没有论述“市场与社会的差异”。

B项错误，“有助于更好地监督违法行为”文段无从体现。

C项错误，文段没有论述“市场和社会的关系”。

D项正确，由“政府职能转变，关键在于处理好与市场和社会的关系”以及“另一方面，政府可通过购买服务的方式，激发社会活力，增加民生福祉”可得知。

故本题选D。

二、数量关系

26. -53, 28, 1, 10, 7, ()

- A. 9
- B. 3
- C. 8
- D. 13

【答案】C

【解析】 本题考查多级数列。

第一步：观察数列。原数列上下波动，数字之间差距较小，优先考虑作差。

第二步：数列作差。原数列后项减前项得到：81、-27、9、-3、(1)，是公比为 $-\frac{1}{3}$ 的等比数列。

因此原数列未知项为 $7+1=8$ 。

故本题选C。

27. 5, 6, 9, 18, 45, ()

- A. 96
- B. 106
- C. 116
- D. 126

【答案】D

【解析】原数列后项减去前项得到：1、3、9、27、(81)，为等比数列。因此原数列未知项为 $45+81=126$ 。

故本题选D。

28. 9997, 7964, 3463, 8447, 5632, ()

A. 8884

B. 8886

C. 8887

D. 8888

【答案】D

【解析】原数列每一项除以3的余数依次为：1、2、1、2、1，余数为1、2循环变化，因此下一项除以3的余数应为2，观察选项，只有D项符合。

故本题选D。

29. 1.1, 3.4, 6.9, 10.16, ()

A. 12.49

B. 15.25

C. 13.36

D. 14.49

【答案】B

【解析】原数列整数部分：1、3、6、10，后项减前项得到：2、3、4、(5)，为等差数列，则未知项的整数部分为 $10+5=15$ ；小数部分：1、4、9、16、(25)，为连续平方数列。因此原数列未知项为15.25。

故本题选B。

30. $\sqrt{2}$, $\frac{3}{2}$, $\frac{2\sqrt{7}}{3}$, $\frac{\sqrt{65}}{4}$, ()

A.

$$\frac{\sqrt{126}}{5}$$

B.

$$\frac{7\sqrt{5}}{5}$$

C.

$$\frac{4\sqrt{6}}{5}$$

D.

$$\frac{\sqrt{343}}{5}$$

【答案】A

【解析】原数列可写成： $\frac{\sqrt{2}}{1}$ 、 $\frac{\sqrt{9}}{2}$ 、 $\frac{\sqrt{28}}{3}$ 、 $\frac{\sqrt{65}}{4}$ ，分子列底数：2、9、28、65，满足如下规律：

$a_n = n^3 + 1$ ($n \geq 1$)，即 $2=1^3+1$ ， $9=2^3+1$ ， $28=3^3+1$ ， $65=4^3+1$ ，则未知项的分子为 $\sqrt{5^3+1} =$

$\sqrt{126}$ ；分母列：1、2、3、4、(5)，为等差数列。因此原数列未知项为 $\frac{\sqrt{126}}{5}$ 。

故本题选A。

31. 1, 10, 31, 70, 133, ()

A. 218

B. 210

C. 228

D. 226

【答案】D

【解析】本题考查多级数列。

第一步：观察数列。数列无明显特征，考虑作差。

第二步：原数列后项减前项得到：9、21、39、63，继续后项减前项得到：12、18、24、(30)，是公差为6的等差数列。因此原数列未知项为 $30+63+133=226$ 。

故本题选D。

32. 1, 3, 4, 8, 15, 27, ()

A. 45

B. 65

C. 58

D. 50

【答案】D

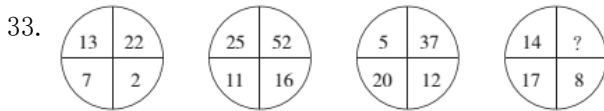
【解析】本题考查递推数列。

第一步：观察数列。数列作差后无明显规律，考虑递推数列。

第二步：原数列满足如下规律： $a_{n+3} = a_n + a_{n+1} + a_{n+2}$ ($n \in \mathbb{N}^+$)，即

$8 = 1 + 3 + 4$, $15 = 3 + 4 + 8$, $27 = 4 + 8 + 15$ 。因此原数列未知项为 $8 + 15 + 27 = 50$ 。

故本题选D。



A. 28

B. 31

C. 39

D. 41

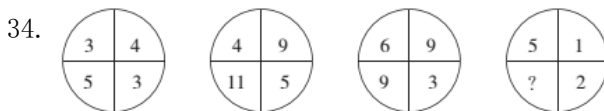
【答案】C

【解析】本题考查图形数列。

第一步：观察数列。可知为图形数列，优先考虑交叉关系，后考虑相邻关系。

第二步：通过考虑交叉规律可得：左上角数字+右下角数字=右上角数字-左下角数字，即 $13 + 2 = 22 - 7$, $25 + 16 = 52 - 11$, $5 + 12 = 37 - 20$ 。因此问号处数字为 $14 + 8 + 17 = 39$ 。

故本题选C。



A. 8

B. 9

C. 10

D. 11

【答案】B

【解析】本题考查图形数列。

第一步：观察数列。图形数列，综合考虑横向、纵向、交叉存在等式关系。

第二步：题干满足如下规律：左上角数字×右下角数字=左下角数字+右上角数字，即

$3 \times 3 = 5 + 4$, $4 \times 5 = 11 + 9$, $6 \times 3 = 9 + 9$ 。因此问号处数字为 $5 \times 2 - 1 = 9$ 。

故本题选B。

35. 82, 73, 64, 54, 44, 33, 22, () -2

A. 10

B. 11

C. 12

D. 13

【答案】A

【解析】本题考查多级数列。

第一步：观察数列。数列无明显规律，考虑作差。

第二步：原数列后项减前项得到： $-9, -9, -10, -10, -11, -11, (-12), (-12)$ ，因此原数列未知

项为 $-12 + 22 = 10$ ，验证后项， $-12 + 10 = -2$ ，符合规律。

故本题选A。

36. $(2017 \times 2017 + 2013) - 2015 \times 2015 = ()$ 。

A. 8064

B. 10077

C. 4070302

D. 8130527

【答案】B

【解析】 本题考查公式化简。

第一步：审阅题干。观察算式，可借助平方差公式计算。

第二步：

方法一：原式 = $2017^2 + 2013 - 2015^2 = 2017^2 - 2015^2 + 2013$

$$= (2017 + 2015) \times (2017 - 2015) + 2013$$

$$= 4032 \times 2 + 2013 = 10077。$$

方法二：通过尾数法，可知结果的尾数为 $7 \times 7 + 3 - 5 \times 5 = *7$ ，排除A、C项。然后进行估算，确定答案为B项。

故本题选B。

37. 如果从甲船看乙船，乙船在甲船的西偏北 65° 方向，那么从乙船看甲船，甲船在乙船的()。

A. 东偏南 75° 方向

B. 东偏南 65° 方向

C. 西偏南 75° 方向

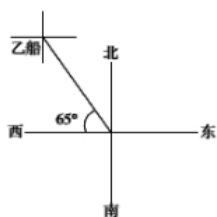
D. 北偏东 25° 方向

【答案】B

【解析】 本题考查平面几何问题。

第一步：审阅题干。题干涉及“西偏北”，且选项也是表示方向的表述，则可用坐标分析。

第二步：根据题意画如下坐标示意图：



根据坐标示意图，可知甲船在乙船的东偏南 65° 方向。

故本题选B。

38. A、B两地分别有10台和6台型号相同的机器，准备配送到E、F两地，其中E地11台，F地5台。若每台机器从A到E和F的物流费用分别为350元和550元，从B到E和F的物流费用分别为600元和900元，则配送这16台机器的总物流费用最少为()。

A. 7850元

B. 8100元

C. 8400元

D. 8700元

【答案】B

【解析】 本题考查经济优化问题。

第一步：审阅题干。此类经济优化问题，需考虑相对节省费用，并非看直接费用，需要先宏观规划，再微观计算。

第二步：由题意可知，每台机器从A到F比从A到E的物流费用高200元，从B到F比从B到E的物流费用高300元。要使总物流费用最少，则优先将A地的机器配送到F地，费用为 $550 \times 5 = 2750$ 元。A地剩下的5台和B地的6台都配送到E地，费用为 $350 \times 5 + 600 \times 6 = 5350$ 元。因此配送这16台机器的总物流费用最少为 $2750 + 5350 = 8100$ 元。

- B. $\frac{34}{35}$
 C. $\frac{69}{70}$
 D. $\frac{7}{8}$

【答案】B

【解析】考虑对立事件，即所取4个球只有一种颜色，其概率为 $\frac{C_4^4}{C_8^4} + \frac{C_4^4}{C_8^4} = \frac{1}{35}$ 。因此，所取4个球中包括两种不同颜色的球的概率为 $1 - \frac{1}{35} = \frac{34}{35}$ 。

故本题选B。

43. 某班级的一次考试阅卷后，发现有一道选择题的答案有误，正确答案应为A，但误写为C，此题分值为3分。调整答案时发现，此题未选A、C两个选项的人数为班级总人数的 $\frac{1}{3}$ ，修改分数后班级平均分提高了1分。问选择A答案的人数占班级总人数的多少？（ ）

- A. $\frac{1}{2}$
 B. $\frac{1}{3}$
 C. $\frac{1}{4}$
 D. $\frac{1}{5}$

【答案】A

【解析】设班级总人数为3，选择A答案的人数为x，则选择C答案的人数为 $3 - \frac{1}{3} \times 3 - x = 2 - x$ 。根据题意可知， $\frac{3x - 3 \times (2 - x)}{3} = 1$ ，解得 $x = \frac{3}{2}$ 。因此选择A答案的人数占班级总人数的 $\frac{3}{2} \div 3 = \frac{1}{2}$ 。

故本题选A。

44. 长江上游的A港与下游S港相距270千米，一轮船以恒定速度从A港到S港需6.75小时，返回需9小时。如果一只漂流瓶从A港顺水漂流到S港，则需要的时间是（ ）。

- A. 84小时 B. 50小时 C. 54小时 D. 81小时

【答案】C

【解析】根据流水行船公式可知， $V_{船} + V_{水} = 270 \div 6.75 = 40$ 千米/小时， $V_{船} - V_{水} = 270 \div 9 = 30$ 千米/小时，解得 $V_{水} = (40 - 30) \div 2 = 5$ 千米/小时。则漂流瓶从A港漂流到S港所需时间为 $270 \div 5 = 54$ 小时。

故本题选C。

45. 篮球队有12名队员，其中有中锋3人，前锋5人，后卫4人；上场5人中必有一名中锋，两名前锋，两名后卫；有一名中锋和一名后卫必上，则教练可选择安排上场的组合有多少种？（ ）

- A. 50 B. 30 C. 40 D. 20

【答案】B

【解析】有一名前锋和一名后卫必上，则还需选出两名前锋和一名后卫，两名前锋有 $C_5^2 = 10$ 种选择方式，一名后卫有 $C_{4+1}^1 = C_3^1 = 3$ 种选择方式。因此教练可选择安排上场的组合有 $10 \times 3 = 30$ 种。

故本题选B。

46. 将自然数1~100分别写在完全相同的100张卡片上，然后打乱卡片，先后随机取出4张，问这4张先后取出的卡片上的数字呈增序的几率是多少？（ ）

- A. $\frac{1}{16}$

- B. $\frac{1}{24}$
- C. $\frac{1}{32}$
- D. $\frac{1}{72}$

【答案】B

【解析】先后任取四张卡片，考虑先后顺序，有 $A_4^4=24$ 种情况，而先后取出的卡片上的数字呈增序的情况只有1种。因此卡片上数字呈增序的几率为 $\frac{1}{24}$ 。

故本题选B。

47. 某工厂员工周一到周五每天工作8小时，周六工作5小时，周日休息。小王某年6月下旬到该工厂上班，某天下班后算得已到该工厂上班500小时。如当年7月1日是星期六，问小王到该工厂上班的日期是（ ）。

- A. 6月21日
- B. 6月22日
- C. 6月23日
- D. 6月24日

【答案】D

【解析】 本题考查日期问题。

第一步：审阅题干。本题出现“几月几日、日期”，可知为日期问题。

第二步：该工厂员工一周的总工作时间为 $5 \times 8 + 5 = 45$ 小时， $500 \div 45 = 11 \cdots 5$ ，即小王工作了11周零5个小时，多出的5小时只能是第一天上班的5小时，所以小王上班的那天为周六。如当年7月1日是周六，那么6月下旬只有6月24日为周六。

故本题选D。

48. 某基层机关有甲和乙两个办公室，共有10名员工。其中甲办公室人数为乙办公室人数的1.5倍，现从这10名员工中随机抽出2人借调到上级机关，问借调的人来自同一办公室的概率为（ ）。

- A. $\frac{1}{3}$
- B. $\frac{2}{5}$
- C. $\frac{4}{9}$
- D. $\frac{7}{15}$

【答案】D

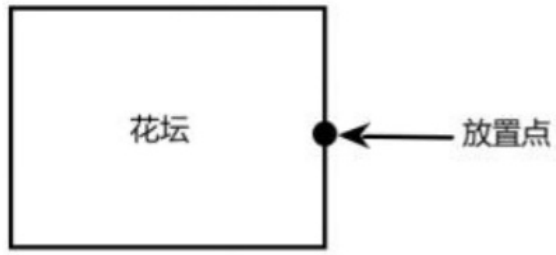
【解析】 本题考查古典概率问题。

第一步：审阅题干。本题出现“随机抽调、同一办公室、概率”，可知为古典概率问题。

第二步：根据题意可知，甲办公室人数为6人，乙办公室人数为4人。随机抽出2人借调到上级机关，借调的人来自同一办公室的概率为 $\frac{C_6^2 + C_4^2}{C_{10}^2} = \frac{7}{15}$ 。

故本题选D。

49. 某公园有一个周长为1千米的长方形花坛，计划在其周围每隔100米放置一个垃圾桶。现已将所需垃圾桶全部放在其中一个放置点(如图所示)，接下来要用手推车将垃圾桶运到每一个放置点。假如该手推车每次最多能运3个垃圾桶，则将最后一个垃圾桶运到放置点时手推车行程最少为()米。



- A. 1600 B. 1800 C. 1900 D. 2200

【答案】B

【解析】 本题考查思维统筹。

第一步：审阅题干。本题出现“每隔100米放置一个”“行程最少”，可知为思维统筹问题。

第二步：每隔100米有1个放置点，周长1千米，则共10个放置点。手推车从其中一个放置点出发，则只用放置另外9个放置点，每次最多运3个垃圾桶，从两边最近的各3个放置点开始，则手推车放置好再回到初始放置点的行程为 $300 \times 2 \times 2 = 1200$ 米。

还剩下3个放置点，手推车放好最后一个不用回到起始点，最远的放置点离起始点为600米。

因此将最后一个垃圾桶运到放置点时手推车行程最少为 $1200 + 600 = 1800$ 米。

故本题选B。

50. 一项足球比赛共有8支队伍参加，每两支队伍之间需要踢两场比赛，获胜得3分，打平得1分，落败不得分。在该项足球比赛中，获得第一名的队伍积分最多可能比第二名多()分。

- A. 40 B. 30 C. 20 D. 10

【答案】B

【解析】 本题考查基础最值问题。

第一步：审阅题干。题干涉及两两比赛、最多得分，可知为基础最值问题。

第二步：要让第一名比第二名得分最多，应使获得第一名的队伍积分尽可能多。每两支队伍之间需要踢两场比赛，共有8支队伍，获得第一名的队伍全胜则获得 $7 \times 2 \times 3 = 42$ 分。

应使获得第二名的队伍积分尽可能低，则应使剩下队伍得分相同，剩下7支队伍之间比赛均为平局，那么每支队伍均获得 $2 \times 0 + 6 \times 2 \times 1 = 12$ 分。因此获得第一名的队伍积分最多可能比第二名多 $42 - 12 = 30$ 分。

故本题选B。

三、判断推理

51. 生产：销售

- A. 收入：支出 B. 起草：修改 C. 救灾：抗灾 D. 闭幕：开幕

【答案】B

【解析】 本题考查顺承关系。

第一步：分析题干词语间的关系。先生产后销售，二者为顺承关系。

第二步：分析选项，确定答案。

A项：收入和支出无先后顺序，排除。

B项：先起草后修改，二者为顺承关系，当选。

C项：救灾和抗灾无先后顺序，排除。

D项：先开幕后闭幕，但词语位置与题干相反，排除。

故本题选B。

52. 1223△※xxHG

A. 6779☆&ssHg

B. 3449&@ddMW

C. 8829@☆kkJY

D. 3112◎&JjNH

【答案】B

【解析】题干前四个字符是数字，且第二和第三个数字相同，排除C项。

最后四个字符为字母，且第一个字母和第二个字母为相同的小写字母，排除D项；

最后两个字符为大写的不相同字母，排除A项。

故本题选B。

53. ddad7757KKLK

A. ssds2332LLJL B. pppc9919QQEQ C. zzvz9929GGHG D. kksk2282PPPG

【答案】C

【解析】第一、第二、第四个字符相同，排除B项；第五、第六、第八个字符相同，排除A项；第九、第十、第十一个字符相同，排除D项。

故本题选C。

54. 名茶：龙井

A. 桦树：树

B. 曼联：利物浦

C. 红楼梦：西游记

D. 驰名商标：娃哈哈

【答案】D

【解析】本题考查种属关系。

第一步：分析题干词语间的关系。龙井属于名茶，为种属关系。

第二步：分析选项，确定答案。

A项：桦树与树为种属关系，即词语位置与题干相反，排除。

B项：曼联与利物浦为并列关系，排除。

C项：《红楼梦》和《西游记》为并列关系，排除。

D项：娃哈哈属于驰名商标，为属种关系，与题干逻辑关系一致，当选。

故本题选D。

55. 大同小异：大相径庭：差异

A. 举世无双：比比皆是：人才

B. 背信弃义：恪守不渝：信任

C. 东施效颦：邯郸学步：模仿

D. 高瞻远瞩：鼠目寸光：视野

【答案】D

【解析】 本题考查反义关系。

第一步：分析题干词语间的关系。“大同小异”指大体相同，略有差异，“大相径庭”比喻相差很远，大不相同，即前者指差异小，后者指差异大，为反义关系。

第二步：分析选项，确定答案。

A项：“举世无双”“比比皆是”与“人才”均无明显联系，排除。

B项：“背信弃义”指违背诺言，不讲道义，“恪守不渝”指严格遵守，决不改变，与“信任”均无明显联系，排除。

C项：“东施效颦”比喻胡乱模仿，效果极坏，“邯郸学步”比喻模仿人不到家，反把原来自己会的东西忘了，二者为近义关系，排除。

D项“高瞻远瞩”比喻眼光远大，“鼠目寸光”形容目光短浅，没有远见，即前者指视野广阔，后者指视野狭隘，为反义关系，当选。

故本题选D。

56. 春夏：秋冬

A. 生老：病死

B. 昨天：今天

C. 日出：日落

D. 雷鸣：暴雨

【答案】 A

【解析】 “春夏”和“秋冬”四个字之间存在并列关系，A项“生老”和“病死”四个字之间存在并列关系。

故本题选A。

57. 美 对于 艺术 相当于 () 对于 ()

A. 真 科学

B. 法律 正义

C. 发明 创造

D. 模仿 抄袭

【答案】 A

【解析】 艺术追求美，A项科学追求真。

B项法律追求正义，但词语位置相反，排除。

C、D项明显与题干不符，排除。

故本题选A。

58. 男性：女性

A. 东：西

B. 生：死

C. 青年：老年

D. 红布：蓝布

【答案】 B

【解析】 男性和女性为矛盾关系，即要么是男性，要么是女性；

B项生和死也为矛盾关系，即要么生，要么死。

A、C、D项均不是矛盾关系，排除。

故本题选B。

59. 在一项实验中，研究者让大学生回忆他们在高中时期的成绩，告知他们研究者将会从高中获取其真实成绩，所以撒谎没有任何意义。结果显示：参与者回忆起的成绩有五分之一都和实际不符，而不同等级的成绩，被误记的概率也是不同的。分数越高越不容易记错：得了A的时候总是能准确地被回忆起来，但得了F的时候却难以被想起。

根据以上信息，可以推出的是（ ）。

- A. 错误的记忆可以保护我们对公平正义的信念
- B. 错误的记忆让我们自我感觉良好，利于健康
- C. 人们记忆中的成绩可能比真实的业绩更优秀
- D. 一般来说，人们最擅长的就是对细节的遗忘

【答案】C

【解析】 本题考查结论类。

第一步：分析题干，确定题型。本题为结论类题目，仔细阅读题干信息。

第二步：联系材料，分析选项。

A项：“保护我们对公平正义的信念”题干未提及，不能推出，排除。

B项：“让我们自我感觉良好，利于健康”题干未提及，不能推出，排除。

C项：由“分数越高越不容易记错：得了A的时候总是能准确地被回忆起来，但得了F的时候却难以被想起”可推出记忆中的成绩可能比真实的业绩更优秀。当选。

D项：题干未提及人们最擅长的是什么，排除。

故本题选C。

60. 据报道，国际上有不少科学家声称，在新西兰周围发现了一块名为“西兰洲”的新大陆，它符合大洲认定标准的全部要求，是世界第八大洲，相信在不久的将来，各国的地理课本将会被改写。

得出“各国的地理课本将会被改写”的结论必须基于的前提是（ ）。

- A. 各国地理课本会因为“大陆”“大洲”等相关知识内容变化而改写
- B. 认定大洲的标准具有权威性，并且在课本发行前不会改变
- C. 各国地理课本目前没有关于“世界第八大洲”等的内容
- D. 各国地理课本本身都有关于“大陆”“大洲”等的内容

【答案】A

【解析】 本题考查前提类。

第一步：分析题干论点论据。

论点：在不久的将来，各国的地理课本将会被改写。

论据：在新西兰周围发现了一块名为“西兰洲”的新大陆，是世界第八大洲。

第二步：分析选项，确定答案。

A项：假设其不成立，则各国地理课本不会因为“大陆”“大洲”等相关知识内容变化而改写，那么题干论证不成立，因此其实论证成立的必要条件，当选。

B项：与地理课本是否会被改写无关，属于无关项，排除。

C项：与地理课本是否会被改写无关，属于无关项，排除。

D项：与地理课本是否会被改写无关，属于无关项，排除。

故本题选A。

61. 面对能源危机，一些国家开始寻找替代能源，使用玉米加工车用乙醇汽油已不再是新鲜事了。因此不少人认为，使用玉米生产能源，既可以消化库存的陈化粮，又发展了石油替代能源，这将是未来能源发展的趋势之一，是利国利民的一项政策。

下列哪项如果为真，不能削弱上述结论？（ ）

- A. 目前看来，生产车用乙醇汽油将消耗大量的水资源
- B. 乙醇汽油会对车辆的发动机等关键部件造成严重腐蚀
- C. 使用玉米作为生产能源，可以适当提高玉米价格，进而增加农民收入和农民种粮的积极性
- D. 生产1吨乙醇要消耗3.3吨玉米，如此一来，每年就要消耗玉米近万吨，这将危及全国的粮食储备

【答案】C

【解析】本题考查削弱类。

第一步：分析题干论点论据。

论点：使用玉米生产能源将是未来能源发展的趋势之一，是利国利民的一项政策。

论据：使用玉米生产能源既可以消化库存的陈化粮，又发展了石油替代能源。

第二步：分析选项，确定答案。

A项：生产车用乙醇汽油将消耗大量的水资源，质疑使用玉米生产能源的可行性，能够削弱论点，排除。

B项：指出乙醇汽油的缺陷，质疑使用玉米生产能源的可行性，能够削弱论点，排除。

C项：指出使用玉米生产能源的益处，不能削弱论点，当选。

D项：危及全国的粮食储备削弱论点质疑使用玉米生产能源的可行性，能够削弱论点，排除。

故本题选C。

62. 某企业家说：“初创的互联网公司只有建立用户思维，才能发展壮大为一家成功的互联网公司。”

如果该企业家所述为真，则以下不可能出现的情况是（ ）。

- A. 某家初创互联网公司有用用户思维，没有成为成功的互联网公司
- B. 某家初创互联网公司没有用户思维，成为一家成功的互联网公司
- C. 某家初创互联网公司没有用户思维，没有成为成功的互联网公司
- D. 某家初创互联网公司有用用户思维，成为一家成功的互联网公司

【答案】B

【解析】本题考查翻译推理。

第一步：翻译题干信息。成功的互联网公司→初创的互联网公司建立用户思维。

第二步：分析选项，确定答案。

A项：“有用户思维”肯定后件，不能推出肯定前件，是否成功不能确定，即没有成为成功的互联网公司的情况可能出现，排除。

B项：“没有用户思维”否定后件，可以推出否定前件，即不可能成为成功的互联网公司，即成为一家成功的互联网公司的情况不可能出现，当选。

C项：“没有用户思维”否定后件，可以推出否定前件，即没有成为成功的互联网公司，即没有成为成功的互联网公司的情况一定出现，排除。

D项：“有用户思维”肯定后件，不能推出肯定前件，是否成功不能确定，即没有成为成功的互联网公司的情况可能出现，排除。

故本题选B。

63. 一项研究发现，一对同是右撇子的夫妻生出左撇子孩子的几率只有9.5%左右。如果父母中有一方是左撇子，那么孩子是左撇子的几率上升到19.5%。如果父母双方都是左撇子，那么孩子是左撇子的几率则为26%。因此研究者认为左右手的使用习惯是受遗传影响。

以下哪项如果为真，能够削弱上述观点？（ ）

- A. 一项针对双胞胎的研究发现，双胞胎中有50%是一个左撇子一个右撇子
- B. 观察发现，孩子一旦形成使用左手或右手的习惯就很难再改变
- C. 对大多数动物来说，对某侧肢体的使用习惯似乎是随机的
- D. 不同的左右手使用习惯很可能为不同的人带来不同的天赋

【答案】A

【解析】 本题考查削弱类。

第一步：分析题干论点论据。

论点：左右手的使用习惯是受遗传影响。

论据：父母是左撇子和孩子是左撇子之间有数据上的相关性。

第二步：分析选项，确定答案。

A项：说明左撇子和遗传并没有联系，最能削弱题干论点，当选。

B项：没有提到孩子的左撇子是否受遗传因素的影响，不能削弱题干论点，排除。

C项：动物和人没有给出可类比的条件，不能削弱题干论点，排除。

D项：讨论左右手使用习惯和天赋的关系，属于无关项，排除。

故本题选A。

64. 曹操又称魏武王，河南安阳西高穴大墓中出土了刻有“魏武王格虎大戟”的石碑以及刻有“魏武王常用魏项石”的石枕等随葬品。所以西高穴大墓就是曹操墓。

如果下列哪项为真，最能加强上述推断？（ ）

- A. 随葬品是证明墓穴墓主身份的重要证据
- B. 如果在墓穴中没有发现刻有“魏武王”之类字样的随葬品，就不能证明该墓穴是曹操墓
- C. 只有在墓穴中发现刻有“魏武王”之类的字样的随葬品，才能证明该墓穴是曹操墓
- D. 只要在墓穴中发现刻有“魏武王”之类字样的随葬品，那么该墓穴就是曹操墓

【答案】D

【解析】 论点：刻有“魏武王格虎大戟”的石碑以及刻有“魏武王常用魏项石”的石枕等随葬品→西高穴大墓就是曹操墓。

D项墓穴中发现刻有“魏武王”之类字样的随葬品→墓穴就是曹操墓，加强了论点。

A项也加强了论点，但是加强力度不如D项。

故本题选D。

65. 笔迹，广义上讲，是运用各种工具在一定界面上书写的带有文字规范限制的痕迹。狭义上讲，就是指在自然状态下由书写人留在纸张上的带有文字规范限制的书写痕迹。因为书写者的性格和心理特征是不同的，由此可以推测，研究人的笔迹可以分析书写者的性格特点和心理状态。

以下哪项如果为真，最能支持上述推测？（ ）

- A. 不同笔迹的连笔程度和笔画结构是不同的

- B. 近代以来，很多先进的理论和仪器被用来进行笔迹鉴定
- C. 据调查，现在很多公司在招聘员工时加入了笔迹分析这一项
- D. 书写的压力、笔画结构和字体大小能反映人的自我意识和对外部世界的态度

【答案】D

【解析】题干论点：研究人的笔迹可以分析书写者的性格特点和心理状态。

A项讲的是笔迹的连笔程度和笔画结构，与论点无关，排除。

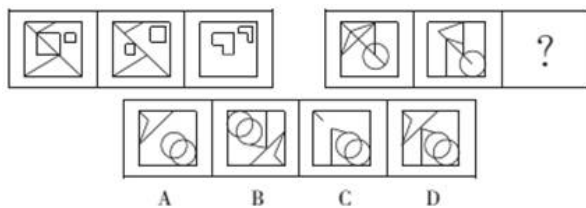
B项“笔迹鉴定”是鉴别书写人，而不是“分析书写者的性格特点和心理状态”，不能支持论点，排除。

C项招聘时进行笔迹分析并未表明笔迹分析的作用，不能支持论点，排除。

D项说明笔迹可以反映人的内心，支持论点。

故本题选D。

66. 下列选项中，符合所给图形的变化规律的是（ ）。



A. A

B. B

C. C

D. D

【答案】D

【解析】本题考查形状类规律。

第一步：观察图形。题干各组图形外部轮廓相似，可以考虑图形叠加规律。题干第一组图形中，前两个图形叠加，去同存异并保留外框，得到第三个图形；第二组图形遵循此规律。

第二步：分析选项，确定答案。

A项：图形中缺少一条竖线和斜线，排除。

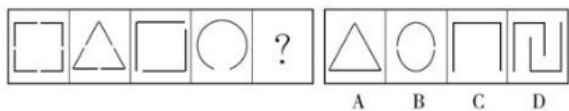
B项：图形中圆圈的位置错误，排除。

C项：图形中缺少两条斜线，排除。

D项：符合题干叠加规律，当选。

故本题选D。

67. 请选择最适合的一项填入问号处，使之符合之前四个图形的变化规律。



A. A

B. B

C. C

D. D

【答案】A

【解析】本题考查数量类规律。

第一步：观察图形。题干图形元素相对比较多，但存在共同的元素“缺口”，且其数量不一致，考虑数量类规律。题干各图形缺口个数依次为：4、3、2、1，则问号处图形缺口个数应为0。

第二步：分析选项，确定答案。

A项：缺口个数为0，当选。

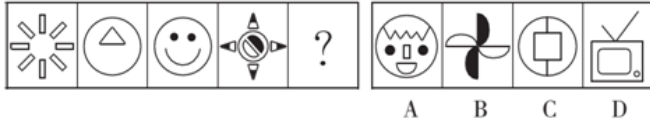
B项：缺口个数为2，排除。

C项：缺口个数为1，排除。

D项：缺口个数为2，排除。

故本题选A。

68. 从所给的四个选项中，选择最合适的一项填入问号处，使之呈现一定的规律性。



A. A

B. B

C. C

D. D

【答案】A

【解析】本题考查数量类规律。

第一步：观察图形。题干组成元素多杂，且相对匀称，考虑对称及数量类规律。各图形均为轴对称图形，且组成元素种类数依次为1、2、3、4、（5）。

第二步：分析选项，确定答案。

A项：符合规律，当选。

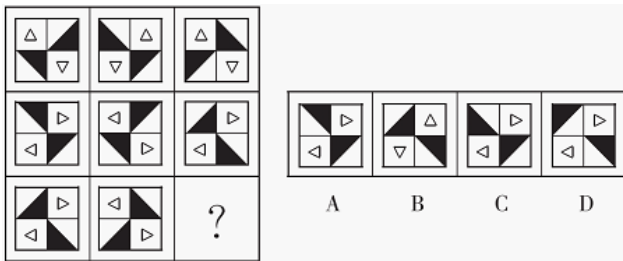
B项：非轴对称图形，排除。

C项：组成元素种类数为1，排除。

D项：非轴对称图形，排除。

故本题选A。

69. 从所给的四个选项中，选择最合适的一个填入问号处，使之呈现一定的规律性。



A. A

B. B

C. C


D. D

【答案】A

【解析】题干每行的第一个图形左右翻转得到第二个图形，第二个图形再上下翻转得到第三个图形。观察选项，只有A项符合。

故本题选A。

70. 从所给的四个选项中，选择最合适的一个填入问号处，使之呈现一定的规律性。



A. A

B. B

C. C

D. D

【答案】A

【解析】第一组图形中，第一个图形和第二个图形叠加得到第三个图形，颜色叠加规律：白+黑=白，黑+黑=黑，黑+白=白，白+白=黑。第二组图形遵循此规律，则问号处应为A项图形。

故本题选A。

四、常识判断

71. 在全部经济活动所创造的产值当中，20世纪70年代主要发达国家的服务业的产值贡献达到或超过全部产值的一半左右，到世纪之交的时候，已经占到将近三分之二的比重。这段话表明在发达国家（ ）。

- A. 经济活动的大部分内容是在提供服务
- B. 服务业是国民经济的基础
- C. 服务业有可能成为人类经济活动的全部
- D. 工农业产值均在下降

【答案】A

【解析】在全部经济活动所创造的产值当中，主要发达国家的服务业的产值贡献不断提高，表明发达国家经济活动的大部分内容是在提供服务，A项说法正确。

农业是国民经济的基础，B项说法错误。

C项“可能成为人类经济活动的全部”说法过于绝对。

D项题干无从体现。

故本题选A。

72. 2016年9月17日是全民国防教育日，北京市五环路外区域试鸣防空警报，这是本市第四次大规模鸣响防空警报。关于防空警报，下列说法中不正确的是（ ）。

- A. 防空警报信号分为预先警报、空袭警报、解除警报
- B. 战时是用于在城市受到空袭威胁时鸣响的提醒人们防空的警报
- C. 战时是各级政府实施人民防空指挥、组织人民疏散的基本手段
- D. 听到警报时在公共场所的居民，应立即回家，再次听到指令后可到临时疏散地域掩蔽

【答案】D

【解析】防空警报是城市防空工程的重要组成部分，平时用于抗灾救灾和突发事故情况下的灾情预报和紧急报知，战时用于人民防空，是各级人民政府实施人民防空指挥、组织人员疏散的基本手段，是在城市受到空袭威胁时鸣响的提醒人们防空的警报。B、C项正确。

防空警报分为预先警报、空袭警报和解除警报这三种，A项正确。

听到防空预先警报时，在公共场所的居民一般不宜立即回家，应就近防护或到临时疏散地域掩蔽，D项错误。

故本题选D。

73. 王某在公园与李某发生言语冲突，用小刀刺伤李某，强行抢走李某身上财物后逃跑。此时，李某紧追不舍，追出500米后用砖头将王某砸成轻伤，并夺回了自己的财物。李某的行为应当属于（ ）。

- A. 故意伤害
- B. 正当防卫
- C. 防卫过当
- D. 紧急避险

【答案】B

【解析】《刑法》第20条规定，为了使国家、公共利益、本人或者他人的人身、财产和其他权利免受正在进行的不法侵害，而采取的制止不法侵害的行为，对不法侵害人造成损害的，属于正当防卫，不负刑事责任。……对正在进行行凶、杀人、抢劫、强奸、绑架以及其他严重危及人身安全的暴力犯罪，采取防卫行为，造成不法侵害人伤亡的，不属于防卫过当，不负刑事责任。本题中，王某将李某刺伤，且抢走李某身上的财物，李某为夺回自己的财物将王某砸成轻伤，属于正当防卫，不负刑事责任。故本题选B。

74. 网格化管理是一种新型数字化城市管理模式，它借助信息技术和社会力量在政府层级、职能部门之间努力进行全方位的打通。下列关于网格化管理表述正确的是（ ）。

- A. 它是继“无缝隙政府”模式后在政府管理流程上的一个重大变革和突破
- B. 它利用信息技术推进信息共享，进而进一步打破职能的边界
- C. 它更加适合“对人的管理”而非“对事的管理”
- D. 目前，城市应急联动中心属于一种网格化管理模式

【答案】A, B, D

【解析】网格化管理依托统一的城市管理以及数字化的平台，将城市管理辖区按照一定的标准划分为单元网格。通过加强对单元网格的部件和事件巡查，建立一种监督和处置互相分离的形式。因此，网格化管理更加适用“对事的管理”，C项说法错误。A、B、D三项均正确。

故本题选ABD。

75. 《三十六计》是我国古代的三十六个兵法策略，起源于南北朝，成书于明清时期。下列选项中属于“三十六计”的是（ ）。

- ①上屋抽梯
- ②暗度陈仓③浑水摸鱼④攻心为上
- ⑤反戈一击⑥借尸还魂 ⑦指桑骂槐 ⑧反客为主

- A. ②③④⑤⑥
- B. ①②③⑥⑦⑧
- C. ①②③④⑧
- D. ②④⑤⑥⑦⑧

【答案】B

【解析】“三十六计”依次为金蝉脱壳、抛砖引玉、借刀杀人、以逸待劳、擒贼擒王、趁火打劫、关门捉贼、浑水摸鱼、打草惊蛇、瞒天过海、反间计、笑里藏刀、顺手牵羊、调虎离山、李代桃僵、指桑骂槐、隔岸观火、树上开花、暗度陈仓、走为上、假痴不癫、欲擒故纵、釜底抽薪、空城计、苦肉计、远交近攻、反客为主、上屋抽梯、偷梁换柱、无中生有、美人计、借尸还魂、声东击西、围魏救赵、连环计、假道伐虢。④攻心为上和⑤反戈一击不属于“三十六计”，排除A、C、D三项。

故本题选B。

76. 在日常生活中，佩戴饰品有一定的学问和讲究，下列不符合饰品佩戴礼仪的是（ ）。

- A. 同时佩戴多种饰品，一般不应超过3种
- B. 佩戴饰品应与性别、年龄、职业等匹配
- C. 戒指戴在中指上，一般表示已婚
- D. 佩戴两种以上饰品，一般要求同质

【答案】C

【解析】饰品佩戴礼仪：

①适应场合：高档珠宝首饰，适用于隆重的社交场合，不宜在工作、休闲时佩戴。

②适合身份：选戴首饰要与自己的性别、年龄、职业及角色相适应。

③扬长避短：选戴首饰要考虑自身的身材、肤色、衣服款式等因素，注意扬长避短。比如体型较胖、脖子较短的人应选佩较长而细的项链；身材苗条、脖子细长的人则最好选佩宽粗一些的短项链。

④量少为佳：若同时佩戴多种首饰，总量不可超过3种，只有新娘可以例外。

⑤色质相同：若同时佩戴多件首饰，应力求色彩、质地相同，以避免五花八门、眼花缭乱之感。

A、B、D项正确。戒指戴在中指上，一般表示正在恋爱中，戴在无名指上，表示已订婚或已婚，C项错误。

故本题选C。

77. 雷雨天躲在室内，有时也容易遭到雷击。下列关于室内预防雷击的说法，错误的是（ ）。

A. 关闭门窗可以阻止球形雷电进入

B. 靠墙壁的位置比房间中央更安全

C. 不宜靠近电器设备以及使用电器

D. 不使用淋雨冲凉或触摸金属管道

【答案】B

【解析】关于室内预防雷击的注意事项有：

(1) 关好门窗，防止球形雷蹿入室内造成雷击伤害；

(2) 切断室内电视机、电冰箱、空调机等电器设备的电源，以避免导电；

(3) 打雷时，坐在房间正中央最为安全，不要停留在电灯正下方，更不要靠在墙壁边、门窗边，以免打雷时产生的感应导致意外；

(4) 不要靠近室内金属设备，如暖气管道、自来水管、煤气管等，以防雷电流经它们蹿入人体，特别注意在雷雨天气不要洗澡，尤其是不要使用太阳能热水器洗澡；

(5) 要保持室内地面的干燥。

A、C、D项说法均正确，B项说法错误。

故本题选B。

78. 张某和李某因故结仇。一日，张某看到李某在路上行走，便找了一根铁棍来教训李某。李某看到张某迎面赶来，情急之下夺过一辆摩托车骑上就逃，造成摩托车主人腿部骨折。关于李某的行为，下列说法正确的是（ ）。

A. 属于紧急避险

B. 属于正当防卫

C. 构成抢夺罪

D. 构成故意伤害罪

【答案】A

【解析】《刑法》第21条第一款规定，为了使国家、公共利益、本人或者他人的人身、财产和其他权利免受正在发生的危险，不得已采取的紧急避险行为，造成损害的，不负刑事责任。李某的行为属于紧急避险，A项正确。

故本题选A。

79. 高鼎《村居》“草长莺飞二月天，拂堤杨柳醉春烟”与张敬忠《边词》“五原春色归来迟，二月垂柳未挂丝”。同是描写二月（农历），但景象却大相径庭，这是因为（ ）。

A. 纬度位置对气候有影响

B. 经度位置对气候有影响

C. 平原和山地有气候差异

D. 地形不同对植物有影响

【答案】A

【解析】《村居》的这两句诗是诗人高鼎归隐上饶闲居农村（位于江西省东北部）时，对所见到的一派生机勃勃的春景的描写。《边词》的这两句诗描写了五原（今内蒙古自治区五原县）的春天总是姗姗来迟，二月之间，垂杨还未发芽，一片荒寒的景象。五原所处的纬度位置高于上饶所处的纬度，纬度越高，气候越寒冷。因此，纬度位置对气候的影响造就了两首诗中完全不同的景象，A项正确。

故本题选A。

80. 根据民事诉讼法的规定，下列说法错误的是（ ）。

- A. 人民法院调解好的离婚案件，可以不制作调解书
- B. 修改后的民事诉讼法增加了“公益诉讼”的内容
- C. 人民法院可以根据实际情况，决定采取传真的方式送达判决书
- D. 修改后的民事诉讼法规定，当事人所在社区可推荐公民作为诉讼代理

【答案】C

【解析】C项错误，电子送达经受送达人同意，法院可以采用传真、电子邮件等能够确认其收悉的方式送达诉讼文书，但是，判决书、裁定书、调解书除外。传真、电子邮件等到达受送达人特定系统日期为送达日期。

故本题选C。

81. 古人常以梅花入诗，以此营造清高、孤傲、坚忍等意境。以下诗句描写梅花的是（ ）。

- A. 冲天香阵透长安，满城尽带黄金甲
- B. 疏影横斜水清浅，暗香浮动月黄昏
- C. 忽如一夜春风来，千树万树梨花开
- D. 乱花渐欲迷人眼，浅草才能没马蹄

【答案】B

【解析】A项描写的是菊花，出自黄巢的《不第后赋菊》，意思是盛开的菊花璀璨夺目，阵阵香气弥漫长安，满城均沐浴在芳香的菊意中，遍地都是金黄如铠甲般的菊花。

B项描写的是梅花，出自林逋的《山园小梅》，意思是稀疏的影儿，横斜在清浅的水中，清幽的芬芳浮动在黄昏的月光之下。

C项描写的是雪花，出自岑参的《白雪歌送武判官归京》，意思是就像一夜春风吹来，漫山遍野的梨花（将雪花比作梨花）盛开了。

D项描写的是春天的野花，出自白居易的《钱塘湖春行》，意思是眼观岸边野花，渐使游人为之着迷；路上浅浅绿草，仅能把马蹄遮盖。

故本题选B。

82. 吴稚晖在评论历史人物时说，有人“全靠一部《史记》”，而有人“全不在乎什么《通鉴》不《通鉴》”；又有人“有诗文集大见轻重”，而有人“有同样的诗文集，丝毫在其人是非不加轻重”。可以推知，吴稚晖所说的“全不在乎什么《通鉴》不《通鉴》”和“有同样的诗文集，丝毫在其人是非不加轻重”分别是指（ ）。

- A. 司马迁，王阳明
- B. 司马迁，王安石
- C. 司马光，王阳明
- D. 司马光，王安石

【答案】D

【解析】“《通鉴》不《通鉴》”中的《通鉴》指的是《资治通鉴》，其作者是北宋著名史学家司马光，排除A、B项。“有同样的诗文集，丝毫在其人是非不加轻重”是说王安石和苏轼均有诗文集，但

王安石的事迹功德足以传世，其立言方面的卓绝便不起决定作用。

故本题选D。

83. 下列各句与“塞翁失马，焉知非福”蕴含哲理相同的是（ ）。

- A. 尺有所短，寸有所长
- B. 乐极生悲，否极泰来
- C. 千里之行，始于足下
- D. 动中有静，静中有动

【答案】B

【解析】“塞翁失马，焉知非福”体现的是矛盾双方在一定条件下会互相转化。

A项错误，“尺有所短，寸有所长”比喻任何人都各有长处，也各有所短，体现的是矛盾的特殊性。

B项正确，“乐极生悲”形容一个人快乐到极点转而发生悲哀的事情，“否极泰来”指坏运到了尽头好运就来了，体现的是矛盾的对立方在一定条件下会相互转化。

C项错误，“千里之行，始于足下”比喻事情是从头做起，逐步进行的，体现的是量变引起质变。

D项错误，“动中有静，静中有动”指运动和静止的辩证统一关系，运动是绝对的、无条件的，静止是相对的、有条件的，运动和静止相互依赖、相互渗透、相互包含。

故本题选B。

84. 协调机制伴随着政府权力运行的每一个环节和层次，协调机制的目的是不断调整政府与市场、社会的关系。实现社会资源的优化配置、公共事务的良好治理，增强政府系统对外界环境的敏感性和回应性，提高政府权力运行的合法性和有效性。下列属于政府系统与外部系统环境系统协调方法的是（ ）。

- A. 党政联席会议
- B. 听证会
- C. 新闻发布会
- D. 政务微博

【答案】B, C, D

【解析】B、C、D三项均涉及政府系统和外部系统，当选。A项党政联席会议只涉及政府系统，属于政府内部沟通协调机制，排除。

故本题选BCD。

85. 毛泽东全面论述社会主义社会基本矛盾问题的著作是（ ）。

- A. 《实践论》
- B. 《矛盾论》
- C. 《论十大关系》
- D. 《关于正确处理人民内部矛盾的问题》

【答案】D

【解析】A项错误，《实践论》是毛泽东关于马克思主义认识论的代表著作，写成于1937年7月，毛泽东借用马克思主义的认识论观点揭露党内的教条主义和经验主义，特别是教条主义的主观主义错误。

B项错误，《矛盾论》是毛泽东继《实践论》后为同一目的而写的阐述唯物辩证法，特别是阐述它的实质和核心——对立统一规律的重要著作。

C项错误，《论十大关系》是毛泽东1956年4月25日在中共中央政治局扩大会议上的讲话。讲话初步总结了我国社会主义建设的经验，提出了探索适合我国国情的社会主义建设道路的任务。

D项正确，《关于正确处理人民内部矛盾的问题》是由1957年2月27日毛泽东在最高国务会议第十一次（扩大）会议上讲话修改和补充而成的。全文运用唯物辩证法科学地分析了社会主义社会的基本矛盾，第一次提出了正确处理人民内部矛盾的命题，阐述了社会主义建设中的一系列重大问题，为我国社会主义事业的发展奠定了理论基础。

故本题选D。

五、资料分析

2015年1~5月，B区规模以上文化创意产业完成收入46.2亿元，比上年同期增长10.8%，比1~4月增幅收窄0.8个百分点，从业人员平均人数1.3万人，比上年同期下降2.4%。

1~5月，B区规模以上文化创意产业实现利润总额-0.4亿元，亏损额比1~4月略有扩张，亏损额同比略有收窄。其中，新闻出版亏损额进一步扩大，实现利润总额-0.3亿元，比上年同期亏损额增加0.2亿元；软件、网络及计算机服务受个别企业业务整合的影响，降幅较大，实现利润0.2亿元，同比下降81.3%；其他辅助服务亏损额大幅收窄，实现利润-0.1亿元，亏损额同比减少1.1亿元。

截止到5月底，B区规模以上文化创意产业规模较小，法人单位只有84家，仅占全市的1.0%；大型企业匮乏，收入达亿元企业只有8家，中小型企业居多。

B区2015年1~5月文化创意产业部门按门类划分收入构成情况（单位：亿元）

产业类别	单位数	收入合计	比重(%)	增速(%)
合计	84	46.2	100	10.8
一、文化艺术	4	0.1	0.2	-27.9
二、新闻出版	18	7.9	17	-2.7
三、广播、电视、电影	3	0.4	0.9	-27.1
四、软件、网络及计算机服务	9	2.2	4.7	-23.5
五、广告会展	16	6.3	13.7	20
六、艺术品交易	0	0	0	0
七、设计服务	1	0.1	0.1	46.8
八、旅游、休闲娱乐	13	4.1	9	82
九、其他辅助服务	20	25.2	54.4	11.9

86. 2015年1~5月B区规模以上文化创意产业从业人员人均完成收入约比上年同期增长（ ）。

- A. 2.5% B. 8.4% C. 10.8% D. 13.4%

【答案】D

【解析】本题考查平均量的增长率。

第一步：查找相关材料。题干命题点的对应材料在文字材料第一段，即2015年1~5月，B区规模以上文化创意产业收入比上年同期增长10.8%，从业人员平均人数比上年同期下降2.4%。

第二步：根据已知条件解题。2015年1~5月B区规模以上文化创意产业从业人员人均完成收入比上年同期增长 $\frac{10.8\% - (-2.4\%)}{1 - 2.4\%} > 13.2\%$ ，只有D项符合。

故本题选D。

87. 该区规模以上文化创意产业中，以下哪个领域2015年1~5月平均每个单位创造的收入为各选项中最低？（ ）

- A. 新闻出版 B. 广告会展 C. 软件、网络及计算机服务 D. 旅游、休闲娱乐

【答案】C

【解析】本题考查平均量比较。

第一步：查找相关材料。题干命题点的对应材料在表格，即各项单位数和收入。

第二步：根据已知条件解题。2015年1~5月平均每个新闻出版单位创造的收入为 $\frac{7.9}{18} \approx \frac{1}{2}$ 亿元；广告会展单位为 $\frac{6.3}{16} \approx \frac{1}{3}$ 亿元；软件、网络及计算机服务单位为 $\frac{2.2}{9} \approx \frac{1}{4}$ 亿元；旅游、休闲娱乐单位为 $\frac{4.1}{13} \approx \frac{1}{3}$ 亿元，则平均每个软件、网络及计算机服务单位创造的收入最低。

故本题选C。

88. 2014年1~5月B区其他辅助服务产业亏损约是新闻出版业的多少倍？（ ）

A. 0.3

B. 2.4

C. 5.5

D. 12.0

【答案】D

【解析】本题考查基期比值。

第一步：查找相关材料。题干命题点的对应材料在文字材料第二段，即2015年1~5月B区新闻出版实现利润总额-0.3亿元，比上年同期亏损额增加0.2亿元；其他辅助服务实现利润-0.1亿元，亏损额同比减少1.1亿元。

第二步：根据已知条件解题。2014年1~5月B区其他辅助服务产业亏损 $0.1+1.1=1.2$ 亿元，新闻出版业亏损 $0.3-0.2=0.1$ 亿元，前者是后者的 $\frac{1.2}{0.1}=12$ 倍。

故本题选D。

89. 文化创意产业九大领域中，2015年1~5月收入增速最快的三个领域共有多少家单位？（ ）

A. 16

B. 30

C. 39

D. 54

【答案】B

【解析】本题考查简单计算。

题干命题点的对应材料在表格，即2015年1~5月收入增速最快的三个领域为广告会展、设计服务和旅游、休闲娱乐，共有 $16+1+13=30$ 家单位。故本题选B。

90. 根据上述材料，下列推断中正确的一项是（ ）。

A. 2015年1~5月该区广告会展业收入同比增长了1亿多元

B. 2015年5月底全市规模以上文化创意产业法人单位超过9000家

C. 2015年1~5月该区收入超过亿元的企业中有的来自广播、电视、电影业

D. 2015年5月该区平均每家规模以上文化创意产业法人单位拥有200多名从业人员

【答案】A

【解析】本题考查综合分析。

A项正确：根据表格可知，2015年1~5月该区广告会展业收入为6.3亿元，同比增长20%，同比增长了 $\frac{6.3}{1+20\%} \times 20\% = \frac{6.3}{6} > 1$ 亿元，当选。

B项错误：根据文字材料第三段可知，2015年5月底B区规模以上文化创意产业法人单位有84家，占全市的1.0%，则全市规模以上文化创意产业法人单位有 $\frac{84}{1\%} = 8400$ 家，不到9000家，排除。

C项错误：根据表格可知，2015年1~5月B区广播、电视、电影业领域收入合计只有0.4亿元，因此该领域不存在收入超过亿元的企业，排除。

D项错误：材料未给出5月份规模以上文化创意产业具体从业人数，无法求得2015年5月该区平均每家

单位从业人员数量，排除。

故本题选A。

	能源品种	计量单位	2015年	2017年	2020年	2030年
实物量	原煤	万吨	32010	32000	32000	34000
	原油	万吨	3600	3800	4200	4200
	天然气	亿立方米	270	350	450	700
	区外来电	亿千瓦时	1125	1500	2250	2500
	核电	亿千瓦时	280	280	700	1000
	可再生能源发电	亿千瓦时	195	310	360	460
比重	原煤	%	68.0	63.2	57.1	52.8
	原油	%	15.3	15.0	15.0	13.0
	天然气	%	10.5	13.8	16.1	21.8
	区外来电	%	4.1	5.1	6.8	6.5
	核电	%	1.0	0.9	2.1	2.6
	可再生能源发电	%	0.7	1.0	1.1	1.2

91. 从未来发展看，消费水平比重呈下降态势的能源品种有（ ）。

- A. 原煤与天然气 B. 原油与核电 C. 原煤与原油 D. 原油与区外来电

【答案】C

【解析】本题考查查找数据。

第一步：查找相关材料。题干命题点的对应材料在表格，即各年份各能源比重。

第二步：根据已知条件解题。消费水平比重呈下降态势的能源品种只有原煤和原油。

故本题选C。

92. 预测数据表明，天然气2030年比2015年增长了（ ）。

- A. 1倍 B. 1.6倍 C. 2倍 D. 2.6倍

【答案】B

【解析】本题考查基础增长率。

第一步：查找相关材料。题干命题点的对应材料在表格第四行，即2030年天然气实物量为700亿立方米，2015年为270亿立方米。

第二步：根据已知条件解题。根据公式增长率 = $\frac{\text{现期量} - \text{基期量}}{\text{基期量}}$ 可知，天然气2030年比2015年增长了

$$\frac{700 - 270}{270} \approx 1.6 \text{倍。}$$

故本题选B。

93. 预测结果显示，2030年原煤的消费水平所占比重比2015年下降了（ ）。

- A. 15.2个百分点 B. 52.8个百分点 C. 68.0个百分点 D. 10.0个百分点

【答案】A

【解析】本题考查简单计算。

第一步：查找相关材料。题干命题点的对应材料在表格第八行，即2030年原煤的消费水平所占比重为52.8%，2015年为68%。

第二步：根据已知条件解题。2030年原煤的消费水平所占比重比2015年下降68%-52.8%=15.2%，

即下降15.2个百分点。

故本题选A。

94. 从未来发展看，消费结构中上升最强劲的能源品种是（ ）。

A. 核电

B. 区外来电

C. 天然气

D. 可再生能源发电

【答案】A

【解析】本题考查增长率比较。

第一步：查找相关材料。题干命题点的对应材料在表格，即各能源实物量。

第二步：根据已知条件解题。求上升最强劲的能源品种即增长幅度最大的能源品种，估算可知2030年核电的消费量是2015年的3倍多，其余区外来电、天然气和可再生能源均为2倍多，因此核电的上升最强劲。

故本题选A。

95. 预测数据表明（ ）。

A. 原煤的消费绝对量和比重均呈现上升趋势

B. 天然气的消费绝对量和比重发展方向相反

C. 2030年与2015年相比，各种能源消费比重的顺序发生了变化

D. 2030年消费量最大的能源品种依然是原油

【答案】C

【解析】本题考查综合分析。

A项错误：根据表格可知，原煤的消费比重呈现下降趋势，排除。

B项错误：根据表格可知，天然气的消费绝对量呈现上升趋势，消费比重也呈现上升趋势，两者发展趋势相同，排除。

C项正确：根据表格可知，2015年原油的消费比重高于天然气，2030年原油的消费比重低于天然气，因此2030年与2015年相比，各种能源消费比重的顺序发生了变化，当选。

D项错误：根据表格可知，2030年消费量最大的能源品种是原煤，排除。

故本题选C。

抽样调查数据显示，2014年1~5月A区农村居民人均现金收入9053元，同比增长10.3%，增速较去年同期提高0.4个百分点，其中人均工资性收入为5421元，同比增长8.5%；人均家庭经营收入为760元，同比下降0.6%；人均财产性收入为1241元，同比增长28.7%；人均转移性收入为1631元，同比增长10%。

2014年1~5月A区农村居民人均消费性支出5081元，同比增长9.9%，增速较去年同期下降1.7个百分点。

2014年1~5月A区农村居民人均生活消费支出情况

	1~5月(元)	同比增长(%)
生活消费支出	5081	9.9
1. 食品消费	2250	4.8
2. 衣着	472	8.6
3. 居住	695	18.0
4. 家庭设备、用品及服务	314	1.1
5. 交通和通讯	491	22.9
6. 文化娱乐用品及服务	305	4.5
7. 医疗保健	416	22.3
8. 其他商品和服务	138	21.9

96. 2013年1~5月A区农村居民人均现金收入增速比人均消费性支出增速（ ）。

- A. 高0.4个百分点 B. 高2.1个百分点 C. 低1.3个百分点 D. 低1.7个百分点

【答案】D

【解析】本题考查简单计算。

第一步：查找相关材料。题干命题点的对应材料在文字材料，即2013年1~5月A区农村居民人均现金收入增速为 $10.3\%-0.4\%=9.9\%$ ，人均消费性支出增速为 $9.9\%+1.7\%=11.6\%$ 。

第二步：根据已知条件解题。2013年1~5月A区农村居民人均现金收入增速比人均消费性支出增速高 $9.9\%-11.6\%=-1.7\%$ ，即低1.7个百分点。

故本题选D。

97. 2014年1~5月A区农村居民四项人均现金收入同比增量由高到低依次为（ ）。

- A. 工资性收入、转移性收入、财产性收入、经营性收入
B. 财产性收入、转移性收入、工资性收入、经营性收入
C. 工资性收入、财产性收入、转移性收入、经营性收入
D. 经营性收入、工资性收入、转移性收入、财产性收入

【答案】C

【解析】本题考查增长量比较。

第一步：查找相关材料。题干命题点的对应材料在文字材料第一段，即2014年1~5月A区农村居民人均工资性收入为5421元，同比增长8.5%；人均家庭经营收入为760元，同比下降0.6%；人均财产性收入为1241元，同比增长28.7%；人均转移性收入为1631元，同比增长10%。

第二步：根据已知条件解题。根据公式 $\text{增长量} = \frac{\text{现期量}}{1 + \text{现期增长率}} \times \text{现期增长率}$ 可知，在比较增量时， $(1 + \text{现期增长率})$ 对式子影响较小，主要看现期量 \times 增长率，两者大则增量大，人均家庭经营收入增速为负数，说明该项增量最小，首先排除D项；比较转移性收入和工资性收入，后者现期 \times 增速更大，则可排除B项；比较财产性收入与转移性收入，前者现期 \times 增速更大，则可排除A项，符合的只有C项。

故本题选C。

98. 一个支出水平与平均水平相当的A区农村居民三口之家，其2014年1~5月月均居住支出为多少元？（ ）

- A. 139 B. 417 C. 695 D. 2085

【答案】B

【解析】本题考查现期平均量。

第一步：查找相关材料。题干命题点的对应材料在表格，即2014年1~5月人均居住支出为695元。

第二步：根据已知条件解题。因此2014年1~5月一个支出水平与平均水平相当的A区农村居民三口之家的月均居住支出为 $\frac{695 \times 3}{5} \approx \frac{2100}{5} = 420$ 元，B项与之最接近。

故本题选B。

99. 2013年1~5月A区农村居民8类生活消费支出中，人均支出最多的三类是（ ）。

- A. 家庭设备用品及服务、文化体育娱乐用品及服务、其他商品和服务
- B. 交通和通讯、居住、食品消费
- C. 交通和通讯、医疗保健、其他商品和服务
- D. 食品消费、衣着、居住

【答案】D

【解析】本题考查基期比较。

第一步：查找相关材料。题干命题点的对应材料在表格，即各项2014年1~5月消费支出及其同比增长速。

第二步：根据已知条件解题。根据公式基期量 = $\frac{\text{现期量}}{1 + \text{现期增长率}}$ 可知，2014年1~5月A区农村居民人均食品消费支出较其他支出大得多，且同比增长率较小，因此2013年1~5月A区农村居民人均食品消费支出也最多，首先排除A、C项；2013年1~5月人均衣着支出为 $\frac{472}{1 + 8.6\%}$ 元，人均交通和通讯支出为 $\frac{491}{1 + 22.9\%}$ 元，两者分子相差不大，但后者的分母明显大于前者，因此人均衣着支出更高，排除B项。故本题选D。

100. 下列关于2014年1~5月A区农村居民收入和支出情况的说法，正确的是（ ）。

- A. 人均现金收入比人均消费性支出高4000多元
- B. 人均食品消费支出超过生活消费支出的一半
- C. 人均医疗保健支出同比增量高于人均衣着支出同比增量
- D. 人均交通和通讯支出占消费性支出比重低于上年水平

【答案】C

【解析】本题考查综合分析。

A项错误：根据文字材料可知，2014年1~5月A区农村居民人均现金收入比人均消费性支出高9053-5081 < 4000元，排除。

B项错误：根据表格可知，2014年1~5月A区农村居民人均生活消费支出为5081元，人均食品消费支出为2250元，后者占前者的比重为 $\frac{2250}{5081} < 50\%$ ，排除。

C项正确：根据表格可知，2014年1~5月A区农村居民人均医疗保健支出同比增量为 $(\frac{416}{1 + 22.3\%} \times 22.3\%)$ 元，人均衣着支出同比增量为 $(\frac{472}{1 + 8.6\%} \times 8.6\%)$ 元，两者现期量相差不大，但是前者的增长率远高于后者，则前者的同比增量高于后者，当选。

D项错误：根据表格可知，2014年1~5月A区农村居民人均交通和通讯支出同比增长22.9%，人均生活消费支出同比增长9.9%，部分增速大于整体增速，部分占整体的比重同比上升，则人均交通和通讯支出占消费性支出比重高于上年水平，排除。

故本题选C。