



扫码答题
只能用32学苑

APP扫码

一、言语理解与表达

1. 文物是历史留下的印记，是过去写给今天和未来的“书信”，也是人类存在于历史中的_____。历史文化古迹损毁的后果是任何人都担不起的，每一次随意破坏文物的行为，都应被视作对文明传承的挑衅。因为，那些留在历史中的足迹都是_____的，没有备份，也没有重来的可能。依次填入划横线部分最恰当的一项是（ ）。

- A. 见证 唯一
- B. 记录 珍贵
- C. 痕迹 脆弱
- D. 标志 模糊

2. 古人早有“腹有诗书气自华”的_____，更直言过“士大夫三日不读书，则义理不交于胸中，对镜觉面目可憎，向人亦语言无味”。足见，读书对人心善良与审美韵味的_____价值。而且，不同的人生阶段赋予人不同的读书境界，这就更使人_____一生与书为伴。清人张潮就写过：“少年读书，如隙中窥月；中年读书，如庭中望月；老年读书，如台上玩月，皆以阅历之浅深，为所得之浅深耳。”人生历练助读书得真意，而读书本身_____不是借他人之笔丰富自我的人生。依次填入划横线部分最恰当的一项是（ ）。

- A. 感慨 培养 须 未尝
- B. 叹息 培育 需 如何
- C. 感叹 塑造 需 怎么
- D. 喟叹 养成 须 何尝

3. 虽然太阳黑子变弱和地球变冷表面看着有70年的重合，但没有证据表明“小冰期”是由太阳黑子无记录造成的。而实际上，与太阳活动周强弱有关的全球气温变化_____其实是很小的，根据经验，最近几次太阳活动周影响全球平均气温的变化大约只有0.1度。因此，千万别随便就断言太阳周期变化能直接影响地球气温的_____，意味地球马上就要进入新一轮“冰河期”了。依次填入划横线部分最恰当的一项是（ ）。

- A. 范畴 突变
- B. 幅度 骤变
- C. 范围 剧变
- D. 跨度 巨变

4. 市区排水设施系统不能发挥作用，这个问题并不是仅出现在北京一地，而是中国很多城市的_____，这几年各地频繁上演的“海景房”就是一个佐证。

- A. 硬伤
- B. 顽疾
- C. 通病
- D. 陋习

5. 公共艺术比之传统的博物馆、美术馆的艺术，其基本差异在于前者设立于_____的公共空间，面向不特定的社会公众，在_____的情境中与不同的观众会面，以多元的文化态度、审美经验与公众对话或互动、实现其公益价值。

填入划横线部分最恰当的一项是（ ）。

- A. 公开 不期而至
B. 宏大 意想不到
C. 开放 不期而遇
D. 露天 出乎意料

6. 以鸟类迁徙为话题的纪录片《迁徙的鸟》向我们充分展示了一个自然界的奇迹，虽然大部分地表已经被人类改造得_____。但鸟儿仍是主角，无论雪鹅、野鸭还是云雀，都自有其尊严，我们需要与自然界和平相处，因为人类不可能_____地生活在地球上，雅克贝汉如是说。

依次填入划横线部分最恰当的一项是（ ）。

- A. 面目全非 孤单
B. 支离破碎 傲慢
C. 元气大伤 自私
D. 体无完肤 麻木

7. 近代中外历史告诉我们，群众的民主权力就像一切个人权力一样，当它没有受到_____的宪政约束时，很容易转变为它的反面，成为一种暴虐的权力。因此，许多思想家对于各种群众领袖挟民意而行独裁的负面作用_____。

依次填入划横线部分最恰当的一项是（ ）。

- A. 严格 嗤之以鼻
B. 良好 讳莫如深
C. 恰当 忧心忡忡
D. 普遍 谈虎色变

8. 罗斯福的《正义论》被誉为20世纪最重要的政治哲学著作，_____着整个当代政治哲学的发展。罗斯福说，正义是社会制度的首要德性，一如真理是思想体系的最高价值。因此，当我们评价制度时，最重要的是看它是否合乎公正。如果不公正，我们便有责任改变甚至_____它。

依次填入划横线部分最恰当的一项是（ ）。

- A. 推动 淘汰
B. 影响 推翻
C. 激励 颠覆
D. 指导 优化

9. 依次填入下列横线处的词语，最恰当的一组是（ ）。

_____国防和军队改革，_____军事战略指导，_____现代军事力量体系。

- A. 完善 深化 加强
B. 深化 完善 加强
C. 加强 深化 完善
D. 深化 加强 完善

10. 今天，我们就要离开大学了，退回用旧的学生证，提着行李回头一望、空空荡荡的宿舍、行色匆匆的同学，校园时光，就这样结束了。青春总有不舍，但无需_____。4年前，我们相逢，共同拥有一段美好时光；如今，不如_____地挥手道别，祝福彼此，勇敢奔赴前程！

依次填入划横线部分最恰当的一项是（ ）。

- A. 遗憾 潇洒
B. 沮丧 洒脱
C. 后悔 淡然
D. 惋惜 淡定

11. 其实“拥有秘密”是成年的一个_____，孩子要长大成人，必然要进入一个拥有秘密的世界。这是一个_____的过程，最初，孩子并没分清哪些是秘密、不知道如何保守秘密、不懂得给秘密分级，但是他们又极为渴望拥有秘密。于是，他们的生活变得_____，好像每个人都守着很多不能告诉别人的秘密。

依次填入划横线部分最恰当的一项是（ ）。

A. 标志 学习 神秘兮兮 B. 界线 成长 神秘莫测

C. 特征 积累 莫测高深 D. 象征 变化 深不可测

12. 依次填入划横线部分最恰当的一项是（ ）。

①据此，我认为长期以来的疑惑已_____。

②我们要知道竹子的性质，就要特地栽种竹子，以研究它生长的过程，要把叶子切下来拿到显微镜下去观察，绝不是_____就可以得到的知识。

③这首诗之所以成为_____的名篇，无论如何不在于如专家所认为的在两句诗中罗列了三座桥和一座山。

④他的这种奇谈怪论，看来绝非是对历史的无知，而是_____地捏造谎言。

A. 毋庸置疑 一蹴而就 家喻户晓 居心叵测

B. 无可厚非 唾手可得 叹为观止 煞费苦心

C. 迎刃而解 袖手旁观 脍炙人口 别有用心

D. 不攻自破 不劳而获 流芳百世 千方百计

13. ①雨水刚刚过去，春的气息便扑面而来

②“好雨知时节，当春乃发生。”

③窗外淅沥的春雨，正映衬着杜甫的诗句，原来这春，已经来了

④也是，季节交替总是不经意悄悄地进行着，当你感觉到了时其实早已浸润了大地

⑤那春的讯息最先是在冬时就已经吐露花蕊的梅，所以才会有梅是专门来报春之说

将以上5个句子重新排列，语序正确的是（ ）。

A. ⑤③④①②

B. ①②③⑤④

C. ②①③⑤④

D. ③②①④⑤

14. ①这些被污染的鱼虾通过食物链又进入了动物和人类的体内

②汞具有食物链富集放大的作用

③甲基汞通过鱼虾进入人体，被肠胃吸收，侵害脑部和身体其他部位，尤以中枢神经系统损害最严重

④水俣湾地区由于常年的工业废水排放而被严重污染，水俣湾里的鱼虾也由此被污染了

⑤自然界中汞是普遍存在的，含量非常低

⑥但在水体里面，微量汞和甲基汞通过食物链逐渐富集，浓度提高到原来的几千倍或者上万倍

将以上6个句子重新排列，语序正确的是（ ）。

A. ②⑤⑥④①③

B. ④③⑤②⑥①

C. ⑤②⑥③④①

D. ④⑤⑥②①③

15. 中国经济发展进入新常态，最重要的是两个转变：一是经济增速从高速增长转向中高速增长，二是经济发展方式从规模速度型粗放增长转向质量效率型集约增长。第一个转变已接近完成，但第二个转变明显滞后，质量效率型集约增长模式尚未完全形成。我国发展过程中出现的不平衡不协调不可持续问题，与两个转变不同步有很大关系。延续中国经济发展奇迹，必须加快经济发展方式转变，推动经济从高速增长转向高效增长、实现由大到强的质的飞跃。

对这段文字理解有误的是（ ）。

A. 我国不少地方仍存在经济规模速度型粗放增长现象

B. 两个转变同步进行可减少我国经济发展的一些问题

- C. 新常态推动我国经济发展实现由大到强的质的飞跃
- D. 我国经济增速已经完成从高速增长转向中高速增长

16. 快递包装标准滞后、回收循环难度大、环保意识不足，是阻碍快递包装绿色化的三大瓶颈。要打破这些瓶颈，还有大量的工作要做。比如，必须解决现行标准多为推荐性指标、约束力不强、执行有难度等问题，出台国家级的强制性标准；要解决对快递的“五花大绑”、过度包装问题，首先得解决野蛮装卸、分拣问题；要提高包装物料的循环利用率，很重要的一环是，对消费者而言，可再利用的包装物如纸箱、塑料等垃圾，要有地方处理。

最适合做以上文字标题的一项是（ ）。

- A. 做好组合拳助力快递绿色包装
- B. 快递包装绿色化任重道远
- C. 实现快递包装绿色化还有三大瓶颈
- D. 快递包装绿色化需要社会综合治理

17. 中国历史上也曾有犀牛栖息。春秋时期气候温暖湿润，长江一带分布有许多苏门答腊犀牛。那时的楚国人捕猎犀牛，用它们的皮制作犀甲。《关尹子》中有一个为后人熟知的成语“犀牛望月”，说的就是犀牛因独角挡住视线而看不到月亮。《墨子·公输》中也有这样的描述：“荆有云梦，犀兕麋鹿满之。”但到了战国以后，气候开始转冷，加上人为捕猎的因素，犀牛一再南迁，最终在中国境内不再有它们的踪迹。

以下叙述不符合文意的是（ ）。

- A. 犀牛曾与麋鹿同时在我国生存
- B. 犀牛要在温暖湿润的地方生存
- C. 过度捕猎是导致犀牛南迁的主要因素
- D. 中国古人曾经因为军事用途捕猎犀牛

18. 我国儿童人数为2.3亿，占全国总人口的16.5%。未来受到“二胎政策”的影响，儿童人口数将呈现增长趋势，儿童用药市场潜力巨大。但国内儿童用药医疗市场90%以上的份额，被为数不多的外资企业如惠氏、罗氏、施贵宝等占领。发达国家在对儿童专用药品的开发、临床试验等方面都有相应的政策支持，对药企给予税收、专利、市场和研究资助等方面的优惠措施。

这段文字意在强调（ ）。

- A. 国内儿童用药医疗市场潜力大
- B. 国内儿童用药医疗市场基本上被外资企业垄断
- C. 发达国家通过各种措施支持儿童专用药品的开发
- D. 国内需配套出台相应的政策支持儿童用药医疗市场

19. 当中国还处在古典的地方主义文化中时，一方面家乡观念牢固地限制了人口迁徙，另一方面人口迁徙又是自由的。人口的迁徙未必一定会令被迁徙地获得发展，但是，考察人类历史，可以认为：凡是发展了的地区，一定是人口迁徙进入的结果。有西亚人口的迁入，才有了古希腊的辉煌。有欧洲大陆人口的迁入，才有了英伦三岛的崛起。有了潮水般的闯关东，才有了清朝晚期以后东北地区的富饶。地区的繁荣，离不开迁徙而来的人口的创造与建设。

关于这段文字，以下理解准确的是（ ）。

- A. 地区间的流动、迁徙人口就是“外来人口”
- B. 在中国的古代，人口迁徙是受到限制的
- C. 对于迁徙而来的人口，不应该歧视和排斥
- D. 没有人口迁入，就不会有地区的发展

20. 哈丁在《公地的悲剧》一书中提出一个概念：一群牧民一同在一块公共草场放牧。一个牧民想

多养一只羊增加个人收益，虽然他明知草场上羊的数量已经太多了，多养后将使草场的质量下降，但他不增加别人也会增加，所以，他肯定会选择多养羊获取收益，因为草场退化的代价由大家负担。如果每一位牧民都如此思考时，草场退化，所有牧民都会遭到损失，“公地悲剧”就上演了。解决公地悲剧的办法就是给草场找一个主人，主人自然会采取措施保护草场。

关于这段文字，以下理解准确的是（ ）。

- A. 所有的牧民都是自私的，只考虑个人利益
- B. 要避免“公地悲剧”，就要设置和落实岗位管理责任
- C. 解决“公地悲剧”的办法，就是实现草地的私有化
- D. 大家共同负担草地退化的代价，体现了社会的公平正义

21. 教育并不是越早越好，而是越合适越好。可是很多家长固执地相信，抢跑是在为孩子争分夺秒。自然界万物都按照生长规律自然生长，适当施加外力可以促其生长，倘若施用外力不当，就很容易出现倒退甚至枯萎现象。教育孩子也是一样的道理。

作者通过这段文字最想表达的意思是（ ）。

- A. 家长不要对孩子进行早期教育
- B. 要依据孩子现有的身心发展水平和知识水平对其进行教育
- C. 让孩子不受约束地自然成长是最好的教育
- D. 很多家长有一种错误的教育理念

22. 1927年胡适先生写道：“有一个时期，麻将竟成了西洋社会里最时髦的一种游戏，中国留学生没有钱的可以靠教麻将吃饭挣钱。”中国是麻将的发源地，但世界上惟一家麻将博物馆却坐落在日本。博物馆展示着收集来的1万多册中日欧美麻将书籍、麻将桌、麻将器具和形形色色的麻将牌。展台按地域分，中国是麻将的发源地，日本有发达的麻将文化，美国曾爆发过麻将热，欧洲麻将则成为贵人的游艺。按主题分，有麻将与人类和平、麻将与印章、麻将与历史、麻将与书籍等。

不能从这段文字直接推出的结论是（ ）。

- A. 麻将虽然源于中国却属于世界
- B. 中国留学生对传播麻将文化功不可没
- C. 日本比中国更重视麻将的文化价值
- D. 中国人更痴迷于麻将的浅层次娱乐活动

23. 去年年底以来，专车服务迅速成为人们热议的话题。借助互联网平台的“专车”，选择更加多样化、体验明显改善：预约时间、上门接送、乘坐舒适、多种车型和价位……方便、舒适的专车服务，成为缓解城市居民出行难的“及时雨”。但是，也有消费者提出担忧，最多集中在安全方面。专车上并未安装GPS定位系统，也没有强制的保险和车辆安全性能检测，出现纠纷后会出现“求助无门”的现象。

这段文字意在强调（ ）。

- A. 专车服务模式的创新
- B. 专车市场的发展瓶颈
- C. 专车市场的机遇与挑战
- D. 相关部门监管的缺失

24. 有一个很有名的投资理念，那就是“要投资具有护城河的公司”。大意是说，一家公司只有具备足够的竞争优势，才能抵御其他竞争对手对自己盈利空间的蚕食，投资者只有投资这样的公司才有可能带来超额收益。然而“护城河”往往存有陷阱，最常见的陷阱是市场份额。较高的市场份额，通常会

被投资者视为企业的“护城河”，但实践证明这并不可靠。市场份额只是说明了公司的过往业绩，并不代表将来，如果没有足够的力量抵御外来入侵，企业就不得不通过价格战来保持市场份额，结果一定是利润率大幅下降。

根据这段文字，以下说法正确的是（ ）。

- A. 将竞争优势理解为市场份额是片面的
- B. 市场份额的多少体现了企业竞争优势的大小
- C. 投资者应同时考虑利润率和企业的市场份额
- D. 企业的“护城河”并不能保证投资者的超额收益

25. 数据表明，我国目前团购网站数量不到2000家，去年高峰时期曾有10000家。但不到一年的时间就淘汰了40%的网站。分析师认为，经过两年的竞争，资源逐渐掌握在少数几家手里，市场集中度还将进一步提高，只有极少数网站能够存活下来。活下来的网站会逐渐捡回话语权，毛利会逐渐上抬。

这段文字主要介绍了团购行业的（ ）。

- A. 竞争方式
- B. 经营现状
- C. 发展趋势
- D. 市场前景

二、数量关系

26. 2, 3, 7, 34, 50, 175, ()

- A. 211
- B. 213
- C. 215
- D. 217

27. 12, 4, 8, 6, 7, ()

- A. 6
- B. 6.5
- C. 7
- D. 8

28. 3, 7, 9, 14, 27, 28, 81, ()

- A. 132
- B. 108
- C. 83
- D. 56

29. 24, 35, 55, 57, ()

- A. 64
- B. 68
- C. 75
- D. 79

30. 1, -2, -3, -2, 1, ()

- A. 6
- B. 3
- C. -1
- D. -4

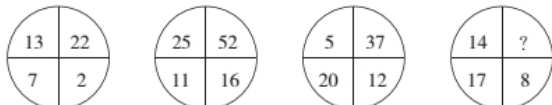
31. 下面各正方形中的四个数之间都有相同的规律，根据这种规律，可知m的值为（ ）。

1	5	3	7	5	9	11	
3	14	5	32	7	58			m

- A. 180
- B. 182
- C. 184
- D. 186

32. -16, 8, 4, 6, () $\frac{105}{2}$

- A. 15
- B. 30
- C. 45
- D. 60

33. 

- A. 28
- B. 31
- C. 39
- D. 41

34. 3, 11, 13, 29, ()

三、判断推理

51. 高雅：阳春白雪

- A. 自信：趾高气扬 B. 怀疑：三心二意 C. 矛盾：南辕北辙 D. 独立：自力更生

52. 恒河 之于 () 相当于 () 之于 金字塔

- A. 泰姬陵 尼罗河 B. 克里姆林宫 亚马逊河
C. 凯旋门 莱茵河 D. 科隆大教堂 伏尔加河

53. 教材：学生：课堂

- A. 教练：运动员：赛场 B. 法律：法官：法院 C. 袈裟：僧侣：寺院 D. 武器：军人：战场

54. 空气：人类

- A. 雾霾：风暴 B. 自由：思想 C. 明月：人脑 D. 真空：灵活

55. 翠竹：高洁

- A. 牡丹：华贵 B. 青松：高山 C. 金属：金银 D. 青草：植物

56. 扫描仪 之于 () 相当于 飞行器 之于 ()

- A. 仪器 速度 B. 速度 空间 C. 测绘 驾驶 D. 扫描 飞行

57. 铁路：火车：乘客

- A. 车间：机器：工人 B. 旅馆：房间：宾客 C. 田地：庄稼：农民 D. 海洋：潜艇：士兵

58. 灯：照明：装饰

- A. 房子：明亮：宽敞 B. 水：浇灌：饮用 C. 中国：湖南：山西 D. 门窗：玻璃：钢铁

59. 2008年上半年原油期货价格一度上涨到每桶147美元，是2000年同期价格的4.2倍，年均增长20%，而同期世界经济年均增长率在5%左右，世界石油消费需求并没有出现跳跃式的、急剧的增长。这说明原油价格的迅速攀升并不是由于世界石油供求关系的变化引起的，而是国际投机资本在石油期货市场进行疯狂投机的结果。

如果以下各项为真，哪项不能质疑上述推论？ ()

- A. 2000年至2008年，各国政府普遍加大了石油的战略储备量
B. 较小的经济增长率总带来较大的石油需求增长率
C. 石油需求变化率和石油价格变化率并不对称
D. 即便对于国际投机资本来说，投资石油期货也是风险巨大

60. 对于权力，有人这样主张：有实权干大事，有虚权干实事，没权了干好事。

以下哪项最不可能从上述主张中推出？ ()

- A. 没有权，不干好事 B. 没有虚权，不干实事 C. 有权了，干好事 D. 没有实权，不干大事

61. 一次，拿破仑对他的秘书说：“布里昂，你也将永垂不朽了。”布里昂迷惑不解，拿破仑又提示到：“你不是我的秘书吗？”布里昂明白了他的意思，微微一笑，从容不迫地反问他：“那么请问，亚历山大的秘书是谁？”拿破仑答不上来，便高声喝彩：“问得好！”

对于布里昂的回答，下列评价最恰当的是 ()。

- A. 针对对方提出的类比，转换一个角度，同样运用这两类事物进行类比推出完全不同的结论

- B. 运用真实可感的具体事例，通过事物间的微妙联系进行推理，使辩驳更具体直观，更形象生动
- C. 故意取两个在一系列属性上风马牛不相及的对象来进行比较以此来推论和驳斥对方的观点
- D. 不直接将两类事物进行对比，而是仅就其中一类事物进行说明，真正的结论留给对方去领悟

62. 在全球范围内，所有的大城市的生活成本都比较高，上海是一座大城市，因此上海的生活成本比较高。

以下哪一项与上述论证方式不一样？（ ）

- A. 要进入法院工作必须通过国家司法考试，小王在法院工作，因此小王已经通过了国家司法考试
- B. 某高校的硕士研究生只要通过毕业论文答辩就能获得硕士学位，小张今年获得了硕士学位，因此他已通过了毕业论文答辩
- C. 纵观世界历史，每一位杰出的国家领导人无不有着坚强的意志，华盛顿是一位杰出的国家领导人，因此他拥有着坚强的意志
- D. 城镇职工养老保险只要按规定缴费满15年就能在退休后按月领取养老金，李先生已按规定缴满20年的养老保险，因此他在退休后能按月领取养老金

63. 根据天气预报，本周只有三种天气，分别是晴天、雨天和多云天。现在已知：

- (1) 今天是周四，晴天；
- (2) 周一没有下雨；
- (3) 明天是多云天；
- (4) 明天以后要么是雨天，要么是多云天；
- (5) 这周有三天是晴天。

那么，以下推断错误的是（ ）。

- A. 为了避免被雨淋湿，这周最多只有三天需要带雨伞出门
- B. 如果周六和周日天气不相同，这周最多有三天是多云天
- C. 周二和周三天气不可能相同
- D. 如果周二是多云天，则周一是晴天

64. 某宾馆VIP休息室门外贴着一张醒目的提示语“吸烟者禁止入内”。一天，来了三位客人，他们都是不抽烟的。

如果上述提示语得到准确理解和严格执行，那么以下哪一项陈述一定是正确的？（ ）

- A. 他们一定会被允许进入
- B. 他们可能会被允许进入
- C. 他们一定不会被允许进入
- D. 他们不可能被允许进入

65. 品学兼优的学生不都读研究生。如果以上论述为真，则下列命题能判断真假的有几个？（ ）

- I. 有些品学兼优的学生读研究生
- II. 有些品学兼优的学生不读研究生
- III. 所有品学兼优的学生都读研究生
- IV. 所有品学兼优的学生都不读研究生

- A. 1
- B. 2
- C. 3
- D. 4

73. 下列诗句背景与科举制实行无关的是（ ）。

- A. 慈恩寺下题名处，十七人中最少年
B. 太宗皇帝真长策，赚得英雄尽白头
C. 黑发不知勤学早，白首方悔读书迟
D. 春风得意马蹄疾，一日看尽长安花

74. DNA检测技术的应用为执法部门侦破案件起到重要作用，有效的减少了错案的出现。下列有关遗传物质的说法正确的是（ ）。

- A. DNA是一种遗传物质，同一家族每个人都相同
B. DNA是一种蛋白质，每个人都不同
C. 只有染色体才是遗传物质，父子之间一模一样
D. DNA是一种遗传物质，它可由亲代遗传给子代

75. 小篆是中国第一个由国家规定的标准汉字形态，但是书写起来比较慢，不能够适应实际生活中快速书写的要求。随后（ ）简化了小篆的笔画和书写方式，从而得到广泛地采用。

- A. 行书
B. 隶书
C. 草书
D. 楷书

76. 下列有关传统文化常识的表述有误的一项是（ ）。

- A. 《四库全书》按照经、史、子、集四部分类，所以称为“四库”
B. “五岳”即东岳泰山、南岳黄山、西岳华山、北岳恒山、中岳嵩山
C. 京剧人物分为生、旦、净、丑四种行当
D. 我国古代的四大发明包括造纸术、火药、印刷术、指南针

77. 网格化管理是一种新型数字化城市管理模式，它借助信息技术和社会力量在政府层级、职能部门之间努力进行全方位的打通。下列关于网格化管理表述正确的是（ ）。

- A. 它是继“无缝隙政府”模式后在政府管理流程上的一个重大变革和突破
B. 它利用信息技术推进信息共享，进而进一步打破职能的边界
C. 它更加适合“对人的管理”而非“对事的管理”
D. 目前，城市应急联动中心属于一种网格化管理模式

78. 甲、乙、丙三人合伙开一饭店，店名为“客来香”，依法登记。甲全权负责饭店对外事务。顾客丁来店中用餐时，被服务员戊不小心烫伤，丁欲向法院起诉，则（ ）。

- A. 被告应为“客来香”饭店
B. 甲、乙、丙为共同被告，并注明“客来香”字号
C. 被告应为甲
D. 甲和戊为共同被告

79. 全国人大及其常委会和国务院行使不同的职权，其中全国人大常委会行使的职权是（ ）。

- A. 批准省、自治区、直辖市的区域划分
B. 决定省、自治区、直辖市的部分地区范围内进入紧急状态
C. 决定同外国缔结的条约和重要协定的批准和废除
D. 审查和批准国民经济和社会发展计划和计划执行情况的报告

80. 行政沟通行为的特点不包括（ ）。

- A. 交互性
B. 统一性
C. 目的性
D. 媒介性

81. 下列应急救护的处理方法中，不科学的是（ ）。

- A. 现场救治婴儿气道异物梗塞时，将婴儿置于“头低脚高”的体位

B. 成人心肺复苏时，以60次/分钟左右的频率进行胸外心脏按压

C. 踝关节严重扭伤时，立即用冷水或冰块进行冷敷

D. 地震后，对埋压时间较长的幸存者，先喂适量含盐饮料

82. 下列事件与相关人物对应错误的是（ ）。

A. 三藩之乱：吴三桂 康熙

B. 七国之乱：吴王刘濞 汉景帝

C. 八王之乱：苻坚 谢玄

D. 安史之乱：郭子仪 史思明

83. 2003年以来，北京、上海、浙江、无锡、广东等地方政府向社会组织购买公共服务的探索不断增多。国务院常务会议提出，要围绕着（ ）等重要目标进一步推进政府向社会力量购买公共服务。

A. 增加公共产品的供应，让人民群众更多地分享经济发展的成果

B. 加强社会建设，建立健全社会组织培育发展机制

C. 发展产业，主要是现代服务业

D. 政府自身的变革

84. 当海面上空气各层的密度有较大差异时，远处的光线通过密度不同的空气层发生折射或全反射，海面上会出现远处物体的影像，这一现象被称为海市蜃楼。海市蜃楼最有可能发生的季节是（ ）。

A. 春季

B. 夏季

C. 秋季

D. 冬季

85. 现代火炮按弹道特征可分为榴弹炮、迫击炮和加农炮，其中迫击炮弹道的特征是（ ）。

A. 初速小，弹道比较弯曲

B. 初速小，弹道比较平直

C. 初速大，弹道比较平直

D. 初速大，弹道比较弯曲

五、资料分析

据有关部门统计，2014年全国旅客运输总量为220.7亿人次，同比增长3.9%。其中，铁路运输总量为23.6亿人次，同比增长11.9%；公路运输总量为190.5亿人次，同比增长2.8%；水运运输总量为2.6亿人次，同比增长12.3%；民航运输总量为3.9亿人次，同比增长10.6%。全国旅客运输周转量为29994.2亿人公里，同比增长8.8%。其中，铁路运输周转量为11604.8亿人公里，同比增长9.5%；公路运输周转量为11981.7亿人公里，同比增长6.5%；水运运输周转量为74.4亿人公里，同比增长8.9%；民航运输周转量为6333.3亿人公里，同比增长12.0%。

2014年河北省旅客运输总量为6.1亿人次，同比下降1.5%。其中，铁路运输总量为1.0亿人次，同比增长9.2%；公路运输总量为5.1亿人次，同比下降3.4%；民航运输总量为64.28亿人次，同比增长11.7%。河北省旅客运输周转量为1276.7亿人公里，同比增长9.7%。其中，铁路运输周转量为985.9亿人公里，同比增长13.7%；公路运输周转量为290.5亿人公里，同比增长2.0%。

86. 2013年河北省旅客运输总量占全国的旅客运输总量的比重为（ ）。

A. 1.67%

B. 2.62%

C. 2.76%

D. 2.92%

87. 2014年河北省铁路旅客运输周转量占河北旅客运输周转量的（ ）。

A. 38.69%

B. 42.69%

C. 45.56%

D. 77.22%

88. 2014年全国旅客运输总量增长最少的是（ ）。

- A. 公路 B. 民航 C. 水运 D. 铁路

89. 2013年全国公路运输总量是（ ）亿人次。

- A. 184. 31 B. 185. 16 C. 185. 31 D. 186. 15

90. 下面说法错误的是（ ）。

- A. 2014年全国与河北省的民航运输量与其他运输方式相比都是最少的
 B. 2014年河北省公路运输完成旅客运输量同比下降
 C. 2014年河北省旅客运输周转量占全国的4. 3%
 D. 2014年全国各种运输方式同比均增长

2010年底，全国高速公路里程为7. 41万公里，居世界第二位，比“十一五”规划目标增加9108公里。其中，国家高速公路5. 77万公里，比上年末增加0. 54万公里。“五纵七横”12条国道主干线提前13年全部建成。全国有11个省份的高速公路里程超过3000公里。

图1 “十一五”期间全国高速公路年新增里程

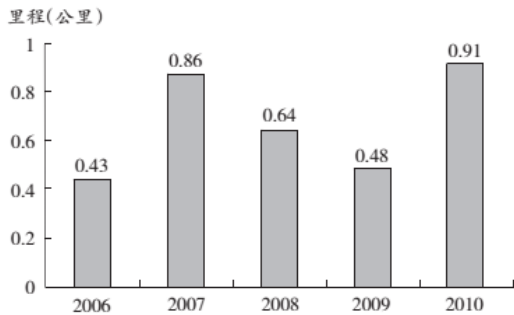
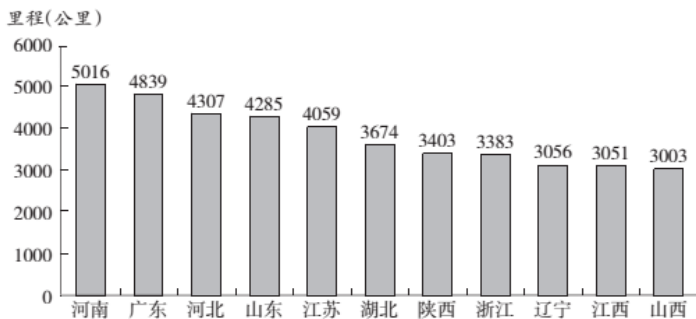


图2 2010年底部分省份高速公路里程



91. 根据“十一五”规划，2010年底全国高速公路里程应达到多少万公里？（ ）

- A. 5 B. 5. 5 C. 6 D. 6. 5

92. 2010年底，高速公路里程超过全国总里程5%的省份有几个？（ ）

- A. 5 B. 6 C. 7 D. 8

93. 2005年底，全国高速公路里程为多少万公里？（ ）

- A. 2. 46 B. 8. 39 C. 4. 09 D. 4. 53

94. 2010年底，图2中11省拥有高速公路的里程约占同期全国总里程的（ ）。

- A. 49% B. 57% C. 62% D. 70%

95. 关于我国“十一五”期间高速公路建设状况，能够从资料中推出的是（ ）。

- A. 高速公路里程每年同比增长率都超过10%

