

智能出题



扫码答题
只能用32学苑

APP扫码

一、 言语理解与表达

1. 在这个关键时刻，首先值得我们做的也许是_____改革共识，细细_____注册制对我国证券市场秩序的真实影响，探讨如何使我国资本市场成为更具吸引力的产品，吸引本地和国际企业家像消费者一样乐于使用它，从而对整个社会是经济的，最终有利于社会发展，而不是拘泥于所谓的前提条件，_____注册制改革的时机。

依次填入划横线部分最恰当的一项是（ ）。

- A. 发展 估算 耽误
- B. 形成 琢磨 荒废
- C. 汇集 预计 散失
- D. 凝聚 考量 延误

2. 故事拥有直抵人心的柔性力量。一个故事对_____知识世界的帮助可能微乎其微，对心灵世界的成长却可能_____。

依次填入划横线部分最恰当的一项是（ ）。

- A. 构造 无足轻重
- B. 建构 无关大局
- C. 建构 举足轻重
- D. 构造 事关大局

3. 人类成为万物之灵的主要条件是发展了语言。语言是最基本的信息_____, 文字、传声技术和电脑提高了语言的_____功能，国家共同语和国际共同语扩大了语言的_____范围。

依次填入划横线处最恰当的一项是（ ）。

- A. 符号 交际 交换
- B. 手段 形象 使用
- C. 载体 传播 流通
- D. 工具 互动 言说

4. 对于中国人来说，院落不仅是一个物理的空间，而且是家的核心。有院落的地方，就有我们最真实淳朴的情感与记忆。巷、道、瓦、檐、廊等这些_____, 形成了传统院落独具特色的形式美感和空间氛围。中国人几千年来形成的特有的生活方式、人文情怀，决定了我们对自己栖身的建筑有着自己独特的文明特征识别，而院落就可以将这一特征表达得_____。

依次填入划横线部分最恰当的一项是（ ）。

- A. 设计 一览无余
- B. 结构 尽善尽美
- C. 元素 淋漓尽致
- D. 标志 出神入化

5. 将下列选项中的词语依次填入各句横线处，最恰当的一句是（ ）。

- (1) 由达成共识到制订计划，_____欧盟在军事一体化道路上迈出了可喜的一步。
- (2) 虽然时间紧、任务重，但领导既然这样要求，我们也只能_____而为之了。

(3) 实践证明，人的大脑愈用愈发达，不用则会_____。

- A. 表明 勉励 蜕化
- B. 说明 勉力 蜕化
- C. 说明 勉励 退化
- D. 表明 勉力 退化

6. 近些年，传统文化，尤其是儒家经典，正在重新出场，有人对此_____，觉得儒家的这种出场违背自由与文明的现代趋势。他们的依据是，从周的封建式家天下到秦汉以来的皇权帝制式家天下，儒家学说与之_____。有人认为，讲究民本、限制君权的儒家与绝对尊君的法家皆为皇权专制的一体两面。

依次填入划横线部分最恰当的一项是（ ）。

- A. 颇有微词 相濡以沫
- B. 忧心忡忡 如影随形
- C. 左顾右盼 亦步亦趋
- D. 惴惴不安 并行不悖

7. 我们的生活不断“提速”，凡事追求_____，生活不自觉地迈入“加急时代”。“时间就是金钱，效率就是生命”演变成为一种普世的价值观。出差是飞机高铁，上网是极速体验，吃饭要争分夺秒，就连蹒跚学步的孩子，都不能输在起跑线上。这份急，夹杂着对结果的狂热、对过程的忽视，进而衍生出对规则的_____，同时催生出各种问题。

依次填入下面横线处的词语最恰当的是（ ）。

- A. 立竿见影 漠视
- B. 当机立断 解构
- C. 风风火火 褻渎
- D. 一步到位 歪曲

8. 一年以来，欧美国家示威、罢工活动_____，暴力事件频发，社会乱象_____，显示出经济持续不景气的背景下西方发达国家内部矛盾激化，社会危机加剧。

依次填入划横线部分最恰当的一项是（ ）。

- A. 此消彼长 惊心动魄
- B. 此起彼伏 层出不穷
- C. 如火如荼 变本加厉
- D. 愈演愈烈 屡见不鲜

9. 这个世界不是孤岛，谁都不可能真的“_____”，尤其是在网络时代，个人的生活越来越多地与他人关联，旁观他人的生活，感受别人的情绪，接受他们的“传播”。

填入划横线部分最恰当的一项是（ ）。

- A. 洁身自好
- B. 自得其乐
- C. 独善其身
- D. 一尘不染

10. 依次填入下列横线处的词语，最恰当的一组是（ ）。

践行群众路线、倾听民声，党员干部应该做到：倾听“赞许”，_____；倾听“牢骚”，_____；倾听“建议”，_____。

- A. 谦虚谨慎 平心静气 去糟取精
- B. 平心静气 谦虚谨慎 去糟取精
- C. 去糟取精 平心静气 谦虚谨慎
- D. 谦虚谨慎 去糟取精 平心静气

11. “正人心而后争天下。”这是南宋学者陈亮上书孝宗皇帝时所言。时隔八百多年，今天读来，依然_____。

填入划横线处最恰当的一项是（ ）。

- A. 石破天惊 B. 振聋发聩 C. 醍醐灌顶 D. 警钟长鸣

12. 创新型人才的一个突出特点，就是不简单_____既成事实，不_____固定的想法，具有求异思维和批判精神。

- A. 认同 拘泥 B. 认同 局限
C. 认可 拘泥 D. 认可 局限

13. ①干细胞的重要性奠定了其在医药卫生、科技产业、国防等领域内的重要地位

②美国总统奥巴马上任之初就宣布取消前任总统对干细胞研究的限制

③干细胞因其在生命科学、新药试验和疾病研究这三大生物医药领域的重要作用受到全世界医学界和政治人物的关注

④2009年，美国FDA批准了世界上首次人类胚胎干细胞治疗脊髓损伤的临床试验

⑤因此，干细胞的研究、开发和应用可以看作是人类的健康工程，预期在未来几年内会有很大的飞跃

⑥现在人们已经发现，癌症、糖尿病、帕金森氏症、心脑血管病、组织器官纤维化、自身免疫性疾病等一系列疾病都可能是干细胞数量减少或结构功能变异引起的

将以上6个句子重新排列，语序正确的是（ ）。

- A. ③②①⑤⑥④ B. ①⑤③②⑥④ C. ③②④⑥①⑤ D. ①⑤⑥④③②

14. ①国家和社会一切发展的根本都是为了让人民实现“文化的全面发展”

②人，从根本上来讲是文化的存在

③“文化立国”战略要求我们不能把文化当成手段，而是当成发展的目标

④所以实行“文化立国”战略是应有之义

⑤既然坚持以人为本，促进人的全面发展，是我们改革与发展的全部目的

将以上句子重新排列，语序正确的是（ ）。

- A. ②①③④⑤ B. ①③②⑤④ C. ③②①⑤④ D. ③①②④⑤

15. 以中国文人传统，艺术鉴赏从来讲究私藏和私赏，除去拜师，递藏是习得书画和精进技艺的重要途径。“雅集”就是古代文人常见的聚会形式，尤其北宋李公麟绘画、米芾题记的驸马王诜的“西园雅集”成为后来历代画家摹绘的母题。雅集主人多为书画大家或文坛领袖，选个合意的日子，将同门好友召集到宅第花园，摆酒吟诗，谈书品画。主人手里若是没有几件值得观赏的收藏，怎能应付得来这样的场面？

这段文字主要说明了（ ）。

- A. 古文人画士的高雅情趣 B. 雅集是书画的主要母题
C. 艺术鉴赏的方法与途径 D. 艺术鉴赏需要适量藏品

16. 有人说：“三百个齐白石，比不上一个鲁迅。”此言曾引起强烈争议，很多人对于这两位先贤的可比性提出质疑：文学和绘画怎么比呢？但是从社会功能讲来，如果没有鲁迅，我们这个民族的精神会大不相同。美术终究不能像文字那样直接用语言文字表达作者的思想意愿，并在读者心中刻下不可磨灭的深痕。例如鲁迅小说《呐喊》《彷徨》的插图，虽然有助于读者对小说中的人物、内涵产生具象感，促进对思想内容的理解，但不能替代小说本身。齐白石的画，以独特的艺术笔触描绘了自然与人间的生活意象，也有对社会不平的尖锐讽刺，但终究不能像鲁迅的小说、杂文那样对社会施以巨大的冲击

力。

这段文字意在说明（ ）。

- A. 文学和艺术有不同的艺术价值
- B. 美术是一种含蓄、间接的艺术表达形式
- C. 文学对社会的影响力较美术更胜一筹
- D. 鲁迅在民族性格的形成中有着不可动摇的地位

17. 起床后的第一件事是摸手机，吃饭先拿起手机拍照传微博，一桌人都对着手机，有一句没一句地聊天，半夜都要从枕头底下掏出手机来看看新闻……智能手机渗透到生活的方方面面，已经对个人生活和社会交往产生不良影响。针对人们日渐依赖智能手机的现象，专家呼吁要“数字节食”——人们应该合理利用智能手机，而不是被手机掌控，全民都需要认识到手机上瘾的危害。

根据这段文字，作者接下来最有可能（ ）。

- A. 介绍“数字节食”概念是如何出现的
- B. 就如何减少对智能手机的依赖给出建议
- C. 回顾传统手机时代人们简单而健康的生活
- D. 说明智能手机在哪些方面给生活造成了影响

18. 钙需求的推荐量是根据人体每天从汗液、尿液等途径损失的钙量，同时考虑钙的吸收效率估算出来的。欧美国家的推荐标准是青少年每天1300毫克，成年人每天1000毫克，而老年人则是1200毫克。不过WHO/FAO联合专家组指出这个标准是基于欧美人群的，并不一定适用于其他地方。他们指出，钙的需求量受多种因素的影响，在骨折高发的人群中，应该每天摄入400~500毫克以上的钙来减轻骨质疏松，但是对于骨折发生率低的地方则没有推荐。相比于欧美人群，亚洲人的骨折发生率就比较低。如果要直接回答“我们到底需要多少钙”的话，答案是对于以植物性食物为主的中国人，还缺乏确切的科学数据。

下列选项最适合作文字标题的是（ ）。

- A. 中国人要不要补钙
- B. 一般人群要补多少钙
- C. 中国人要补多少钙
- D. 正常体质者要不要补钙

19. 在深化改革过程中，调整利益分配方式，必然触动既有利益格局，削弱一部分人获取利益的权利和机会。这就难免使深化改革举措引起反弹，产生阻力。然而，改革的攻坚期、深水区绕不开、躲不过，必须以啃硬骨头、涉险滩的勇气，勇往直前。瞻前顾后、畏葸不前不仅不能前进，而且可能前功尽弃。

这段文字的主旨是（ ）。

- A. 改革已进入关键时期
- B. 既得利益者是阻碍改革的重要因素
- C. 改革的本质是利益的重新分配
- D. 深化改革就要去触动利益

20. 在金本位货币制度中，各国央行主要关注黄金储备，且很少积极干预金融市场，物价、利率、信贷、财政和贸易平衡基本可以自我调整。各国货币都有自己的含金量的法定基准，几乎不存在汇率波动的问题。在近半个世纪没有大规模战争和革命的情况下，国际贸易空前繁荣，全球资本自由流动。工业革命和城市化，在第一次全球化的浪潮中，将西方文明的成果迅速推向了世界的各个角落。

这段话的主要观点是（ ）。

- A. 金本位货币制度有着得天独厚的优势
- B. 金本位货币制度是西方文明的根本所在
- C. 金本位货币制度的形成是与工业革命分不开的

D. 金本位货币制度将西方文明推向了一个新的高度

21. 当我们不再以功利的态度来考虑问题时，当我们不再以职业的观点来面对生活时，当我们把业余的游戏精神引入办公室和教室时，美学便松动了刻板重复的日常生活。我们便可以在其中发现更多的美感愉悦，感悟到更加深刻的生活真谛。老子提出了道家美学的一个经典命题“涤除玄鉴”，“涤除”就是使心灵空明虚静，抛弃那些欲念和偏见，这样便可以“玄鉴”，就是看到深邃的东西。这个命题后来演变成中国美学的一系列重要范畴和命题，诸如庄子的“心斋”“坐忘”，宗炳的“澄怀观道”等等。

这段文字提到老子和庄子等人的思想是为了说明（ ）。

- A. 美学与日常生活的关系
- B. 中国美学的独特之处
- C. 无功利美学对日常生活的升华作用
- D. 中国美学的发展历史

22. “酷抠族”是指拥有较高学历、较高收入的中产阶级人群。这类人擅长精打细算过日子，通过转移消费点，更好地配置“有数”的金钱。他们摒弃奢侈消费，在不影响生活质量的前提下，用最少的金钱获取最大的物质和心理满足感。他们以着装从简为荣，以盲攀比为耻；以物尽其用为荣，以铺张浪费为耻；以心态阳光为荣，以纠结抑郁为耻……这是一个崇尚节约，追求简单、自然的生活方式的族群。

为“酷抠族”定义最准确的一项是（ ）。

- A. 是指拥有较高学历、较高收入的中产阶级人群
- B. 是指崇尚节约，追求简单、自然的生活方式的族群
- C. 是指拥有较高学历、较高收入、追求节约、简单、自然的生活方式的族群
- D. 是指精打细算、摒弃奢侈、从简为荣，主张物尽其用、心态阳光的中产阶级人群

23. 慢慢用餐、吃干净每粒饭的人，身上至少有两项美德。第一是懂得感恩，感恩实在是要从敬重粮食开始。和尚们吃净饭粒要用开水洗一洗碗，喝下去，他们能从粮食中领悟天地馈赠之厚意。第二是享受福气。好东西是生长出来而非生产出来的，慢慢地享受生长出来的东西，是生命与生命的相遇。粮食不仅是碳水化合物，还是天地的能量。

最能概括这段文字的是（ ）。

- A. 用餐习惯蕴含着深刻的人生哲理
- B. 每一个人都要珍惜粮食
- C. 珍惜粮食的人值得景仰
- D. 敬重粮食就是敬重生命

24. 这个时代有两个看似彼此矛盾的趋向：一方面，随着人们受教育水平的提高及获得信息渠道的多元化，人们能对各种传言作出更清醒的理性判断；但另一方面，信息的爆炸性增长和技术进步也使谣言传播的速度大大加快，人们往往来不及分辨各种信息的真假。虽然人们总是假定，只要不断提升人类的理性水平，并使信息透明化，就能消弭谣言产生的土壤，但迄今为止这一直只是个理想。没有哪个社会的人所传播的信息是完全正确的，在很多情况下，人们为了尽快获知自己所关心的真相，常常都在不知不觉中传播着谣言。

根据这段文字，下列说法正确的是（ ）。

- A. 人类的理性水平达到一定的程度就能阻止谣言的产生
- B. 谣言的传播往往反映了人们迫切想了解真相的需要

C. 人们的理性判断与信息技术的进步是彼此矛盾的趋向

D. 信息的增长和技术进步是谣言产生的主要根源

25. 千百年来，食物就这样随着人们的脚步，不停迁移，不停流变。无论脚步走多远，在人的脑海中，只有故乡的味道，熟悉而顽固，它就像一个味觉定位系统，一头锁定了千里之外的异地，另一头则永远牵绊着记忆深处的故乡。

这里的“它”指的是（ ）。

A. 故乡

B. 脚步

C. 食物

D. 味道

二、数量关系

26. 1, 6, 15, 28, (), 66

A. 35

B. 56

C. 45

D. 40

27. 4, 6, 12, 30, 84, ()

A. 96

B. 128

C. 192

D. 246

28. 1, $e^{\sqrt{2}}$, $e^{\sqrt{6}}$, $e^{\sqrt{12}}$, ()

A.

$e^{\sqrt{30}}$

B.

$e^{\sqrt{20}}$

C.

$e^{\sqrt{18}}$

D.

$e^{\sqrt{16}}$

29. $\frac{3}{2}$, $\frac{1}{2}$, $\frac{1}{4}$, $\frac{3}{20}$, $\frac{1}{10}$, ()

A.

$\frac{1}{14}$

B.

$\frac{1}{15}$

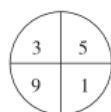
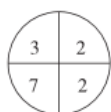
C.

$\frac{1}{16}$

D.

$\frac{1}{17}$

30.



A. 1

B. 2

C. 3

D. 4

31. $\frac{3}{2}$, $\frac{8}{5}$, $\frac{21}{13}$, (), $\frac{144}{89}$

A.

$$\frac{16}{28}$$

B.

$$\frac{56}{39}$$

C.

$$\frac{21}{35}$$

D.

$$\frac{55}{34}$$

32. -5 7 -4 9 -2 ()

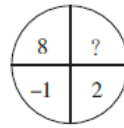
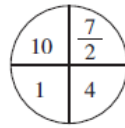
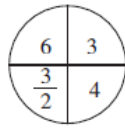
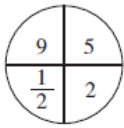
A. 9

B. 11

C. 13

D. 15

33.



A. 3

B. 4

C. 5

D. 6

34. 1, $\frac{1}{3}$, 2, $\frac{2}{3}$, 3, 1, 4, ()

A. 2

B.

$$\frac{4}{3}$$

C. 5

D.

$$\frac{5}{2}$$

35. -1 3 -5 7 -9 ()

A. -11

B. 13

C. -13

D. 11

36. 今天是本月的1日同时也是星期一，且今年某月的1日又是星期一。问这两个1日之间最多相隔几个月？()

A. 6

B. 7

C. 9

D. 11

37. 某班级有男生6名，女生4名，现以随机抽签的形式选取三人参加演讲比赛，问抽到一名男生、两名女生的概率在以下哪个范围之内？()

A. 25%~35%

B. 高于35%

C. 低于15%

D. 15%~25%

38. 某夫妻要在假期带小孩外出旅游。当地有甲、乙两家旅行社，旅游定价都一样，但对家庭旅游都有优惠。甲旅行社表示小孩可打六折；乙旅行社表示全家可打八五折。经核算，乙旅行社要便宜100元，那么成人旅游定价是多少？()

A. 1000元

B. 1500元

C. 1800元

D. 2000元

39. 某车队运输一批蔬菜，如果每辆汽车运3500千克，那么还剩下5000千克；如果每辆汽车运4000千克，那么还剩下500千克。则该车队有()辆汽车。

A. 8

B. 9

C. 10

D. 11

52. 高大：渺小

- A. 无穷：无尽 B. 春种：秋收 C. 赞誉：诋毁 D. 牛奶：面包

53. 微信：QQ：MSN

- A. 扫描仪：打印机：墨盒 B. 搜狐：新浪：网易
C. 邮票：邮件：邮箱 D. 电脑：鼠标：显示屏

54. 计算 之于 () 相当于 实验 之于 ()

- A. 推理 逻辑 B. 物理 天文 C. 数学 化学 D. 大脑 助手

55. 花瓶：瓷器

- A. 电视机：电器 B. 中药：植物 C. 画作：诗篇 D. 桌子：八仙桌

56. 分析 对于 () 相当于 消除 对于 ()

- A. 阐述 革除 B. 差距 贫富
C. 解决 创新 D. 问题 弊端

57. 嫦娥奔月

- A. 后羿射日 B. 鸡鸣起舞 C. 欢呼雀跃 D. 海纳百川

58. □◇□◇○○◎○○

- A. ○◎○○◎●★★● B. ◎●★★◎★○○ C. ★○○◇★○○◇ D. ◎●◎●◇○○◇○

59. 目前有一种观点认为，市面上以活性乳酸菌为卖点的酸奶其实很难补充乳酸菌，对肠道并没有什么益处。

如果以下各项为真，最能反驳上述观点的是 ()。

- A. 不管是常温酸奶还是冷藏酸奶，其中乳酸、钙及蛋白质等有益物质都得不到很好保留
B. 现在市面上大部分酸奶都是常温型、添加型的，在制作过程中大部分乳酸菌都被杀死了，不能被称为“酸奶”
C. 酸奶中的蛋白质已经被乳酸菌凝冻化，因此很容易被吸收，这就减轻了肠胃消化负担
D. 食用酸奶后的血糖反应比米饭馒头等主食低，而血糖反应异常可能引起多种症状

60. 歌唱和舞蹈在各个人类氏族部落中是一种普遍共同的现象，它所造成的巨大优势效应就是使人群能够保持团结，解决各种内部纷争，能够更加有效地捍卫自己的领土。

上述结论要想成立，必须补充以下哪项作为前提？ ()

- A. 歌唱和舞蹈具有使所有参与者逐步忘却与他人间的矛盾，和平相处的功效
B. 歌唱和舞蹈具有调动所有参与者情绪，令人兴奋的功效
C. 歌唱和舞蹈具有使所有参与者忘却阶层差别和等级关系的功效
D. 歌唱和舞蹈具有心理安慰的功效，可以使所有参与者忘却现实困扰

61. 在一项针对216名6到12月的婴儿进行的测试中，研究人员教给婴儿新的手指木偶玩耍的三个本领，有一半的宝宝在学习之后的四个小时就睡了一大觉，但是另外的宝宝则没有睡觉或者只小憩了不到30分钟。研究显示，平均说来，有充足睡眠的宝宝能记住1.5个本领，但是没有怎么睡觉的宝宝则一项本领都没有记住。可见，婴儿学习本领后保持充足睡眠有利于增强记忆。

下列哪项是上述论证最可能依赖的假设？ ()

- A. 该研究结果在青少年群体中同样适用
- B. 充足睡眠有利于宝宝正常的身体发育
- C. 实验前两组宝宝的智力水平状况相当
- D. 有其他研究验证了这项结果可靠性

62. 某研究员认为，人类语言最初直接来源于鸟类和灵长类，因为如果重新审视现代人类语言，我们可以看到人类的相互交流是如何从鸟类和其他灵长类古老的交流模式系统演化而来的。他宣称，从鸟类身上，我们获得了语言的旋律部分；从其他灵长类身上，我们获得了语言的实用性内容部分。在过去10万年里的某个时候，这些能力最终演化成我们今天所知的人类语言。

上述结论还需基于以下哪一前提？（ ）

- A. 人类的交流与其他动物的交流之间的相似度比我们一般认为的要多
- B. 人类语言包含两个不同层面：与句子可变结构相关的表达层面以及表达句子核心内容的词汇层面
- C. 人类语言的交流在过去和现在变化不大
- D. 鸟类和除人类以外的其他哺乳动物有自己的交流语言

63. 尽管自20世纪70年代西方环境社会学诞生以来，已经形成新生态学范式、政治经济学范式和建构主义范式等三大主流范式，从各自视角出发在一定程度上能够有效解释西方环境问题的社会机制，但对于中国而言，则由于社会、政治、文化背景的深刻差异而可能南橘北枳。中国经验的特殊性和复杂性决定了在解释中国问题上所面临的巨大挑战和难度。

以下哪项如果为真，最能削弱上述结论？（ ）

- A. 中国的环境问题自20世纪90年代以来一直面临巨大的挑战
- B. 多种学科的方法在中国环境问题的解释上做出了积极的贡献
- C. 西方环境社会学的三大主流范式得到深刻的发展和广泛的应用
- D. 中西方的环境问题相似性可减弱二者经验差异对学科解释的影响

64. 殷商甲骨卜辞中有大量关于天文现象的记载，包括对日月出入、日月食、立表测日景、恒星、行星、新星、彗星的记录。这些卜辞材料说明殷代的天文学已经到了相当发达的水平，而所有这些天文观测是与敬天的巫教分不开的。由此说明从敬天的巫教中已经产生了测天的天文学，其通天的宗教目的是一致的。

以下哪项如果为真，最能支持上述结论？（ ）

- A. 天文观测的方式受到了巫教敬天的影响
- B. 巫教盛行的同时，天文观测水平也不断在发展
- C. 殷商甲骨卜辞记录的天文现象代表了当时天文观测的最高水准
- D. 在巫教敬天的过程中，天文观测是占卜天意有规则可循、可靠的方法

65. 生活中有一些人会去反复检查门窗确保安全，反复洗手以保持干净等。他们明知这是不合理的，但不得不做，重复这种无意义的动作并为此耗费大量时间而痛苦不堪，这种病症被称为强迫症。晓晓每天反复洗手的次数是一般人的30倍，可据此认为，晓晓患了强迫症。

以下哪项如果为真，最能质疑上述结论？（ ）

- A. 晓晓的工作决定她需要保持双手清洁
- B. 晓晓家人的洗手次数多于普通人
- C. 晓晓洗手时并没有感到痛苦烦恼
- D. 晓晓曾经忘记检查门窗，结果家中被盗

- B. 发现有人触电，应迅速用手将触电者拉离电源
- C. 夜间发现煤气泄漏时，应尽快打开油烟机或排气扇稀释燃气浓度
- D. 在半山腰遇见森林火灾时，应迅速向山顶奔跑逃生

74. 1516年，英国空想社会主义者莫尔出版了《乌托邦》一书，描绘了一个叫作“乌托邦”的岛国，在那里，人人平等，人人参加劳动。在中国魏晋南北朝时期，也有一部文学作品描写了类似情境，这部作品是（ ）。

- A. 《桃花源记》
- B. 《礼记》
- C. 《大同书》
- D. 《世说新语》

75. 在中国传统文化里，儒释道三家的学说都产生了重要影响，以下哪项主张不是道家提出的？（ ）

- A. 上善若水
- B. 缘起性空
- C. 无为而治
- D. 道法自然

76. 科举是我国古代通过考试选拔官吏的一种制度。假如古代某位考生在参加某级科举考试中获得“解元”，即该级考试第一名，那么，他之后通常应参加的更高级考试是（ ）。

- A. 乡试
- B. 殿试
- C. 会试
- D. 童试

77. 一提到书法中的草书，人们便会想到“颠张醉素”，请问下列属于“颠张”的作品的是（ ）。

- A. 《自叙帖》
- B. 《自言帖》
- C. 《中秋帖》
- D. 《黄州寒食帖》

78. “唇亡齿寒”比喻双方利害关系密切，失去一方，另一方就会受到损害。这个成语最初指代的是（ ）之间的关系。

- A. 两个物体
- B. 两个人
- C. 两个国家
- D. 两个器官

79. 某县针对进城务工人员是否有利于城镇建设的问题，选择了发展较快的、进城务工人员占职工总数较多的一个镇进行了调查。通过调查分析得出了结论：推动该镇发展的一个重要因素是该镇吸收了大量进城务工人员。此类调查属于（ ）。

- A. 重点调查
- B. 个案调查
- C. 典型调查
- D. 抽样调查

80. 结核病是由结核分枝杆菌引起的慢性传染病，可侵及许多脏器，以肺部结核感染最为常见。下列有关预防结核病的说法，错误的是（ ）。

- A. 打喷嚏时用手帕捂住嘴，避免面对其他人
- B. 勤洗手，多通风，不随地吐痰
- C. 到人员密集场所，应该一直戴口罩
- D. 多锻炼，提高免疫力

81. 现在沪宁线上使用的是长达303公里的超长无缝钢轨，无缝钢轨并不是没有缝隙，而是把25米长的钢轨焊接起来连成几百米甚至几千米长，然后再铺在路基上，每段无缝钢轨之间还是有11毫米的空隙。下列关于无缝钢轨的说法，正确的是（ ）。

- A. 采用无缝钢轨可以减少噪音污染
- B. 与普通钢轨相比，采用无缝钢轨可大大减少磨损
- C. 提高了轨道的可靠性，使列车更加平稳、舒适
- D. 无缝钢轨的制造使用了特殊钢材，没有热胀冷缩现象

82. 竹枝词是风土诗的一种，保存了大量有价值的第一手资料。如要了解近代上海开埠后的商业活动，可选用的竹枝词是（ ）。

- A. 田家妇女帮农作，镇市夫男晓女工。蓬首晨兴遥入市，归家手挈米和盐
 B. 北口山头民力忙，耕牛无恙乐平康。一鞭残照吹横笛，蚕豆青青麦半黄
 C. 菜圃瓜畦拓百弓，杭家村北夕阳红。楝花倒覆三间屋，酒幔低垂十里风
 D. 南北分开两市忙，南为华界北洋场。有城不若无城富，第一繁华让此方

83. 一位外国游客想了解齐鲁文化，下列最能代表齐鲁文化特点的旅游路线是（ ）。

- A. 青岛—烟台—威海—泰安
 B. 济南—淄博—泰安—曲阜
 C. 烟台—潍坊—淄博—济南
 D. 青岛—潍坊—济南—曲阜

84. 声音与人们的生活密切相关，以下有关声音现象的说法正确的是（ ）。

- A. 市区内禁止鸣笛是为了减弱声音在传播过程中的噪音
 B. 用超声波能粉碎人体内的结石，说明超声波具有能量
 C. “闻其声而知其人”主要是根据声音的音调进行判断的
 D. 在生活中，有些高科技产品，不振动也可以发出声音

85. 宗教不是下列哪一战争的原因？（ ）

- A. 两伊战争
 B. 巴以冲突
 C. 十字军东征
 D. 伊拉克战争

五、资料分析

二、根据下列资料，回答116~120题。

2016年6月份，我国社会消费品零售总额26857亿元，同比增长10.6%，环比增长0.92%。其中，限额以上单位消费品零售额13006亿元，同比增长8.1%。

2016年1~6月份，我国社会消费品零售总额156138亿元，同比增长10.3%。其中，限额以上单位消费品零售额71075亿元，同比增长7.5%。

按经营单位所在地分，2016年6月份，城镇消费品零售额23082亿元，同比增长10.5%；乡村消费品零售额3775亿元，同比增长11.2%。1~6月份，城镇消费品零售额134249亿元，同比增长10.2%；乡村消费品零售额21889亿元，同比增长11.0%。

按消费类型分，2016年6月份，餐饮收入2907亿元，同比增长11.1%；商品零售23951亿元，同比增长10.6%。1~6月份，餐饮收入16683亿元，同比增长11.2%；商品零售139455亿元，同比增长10.2%。

2016年1~6月份，全国网上零售额22367亿元，同比增长28.2%。其中，实物商品网上零售额18143亿元，同比增长26.6%。

2016年6月份商品零售总额部分数据

指 标	6月		1~6月	
	绝对量(亿元)	同比增长(%)	绝对量(亿元)	同比增长(%)
商品零售	23951	10.6	139455	10.2
其中：限额以上单位商品零售	12262	8.2	66857	7.6
家用电器和音像器材	841	12.3	4076	7.3
家具	248	13.4	1249	15.6
通讯器材	356	12.1	1829	14.9
石油及制品	1653	-0.5	8815	-1.3
汽车	3309	9.5	18270	7.7
建筑及装潢材料	296	14.2	1445	15.6

86. 2016年5月份，全国社会消费品零售总额约为（ ）。

- A. 24594亿元 B. 24283亿元 C. 26612亿元 D. 27104亿元

87. 2015年1~6月份, 限额以上单位消费品零售额占全国社会消费品零售总额的比重约为()。

- A. 48. 4% B. 46. 7% C. 49. 5% D. 45. 5%

88. 2016年1~6月份, 以下选项中, 商品零售同比增速最快的是()。

- A. 通讯器材 B. 石油及制品 C. 家用电器和音像器材 D. 汽车

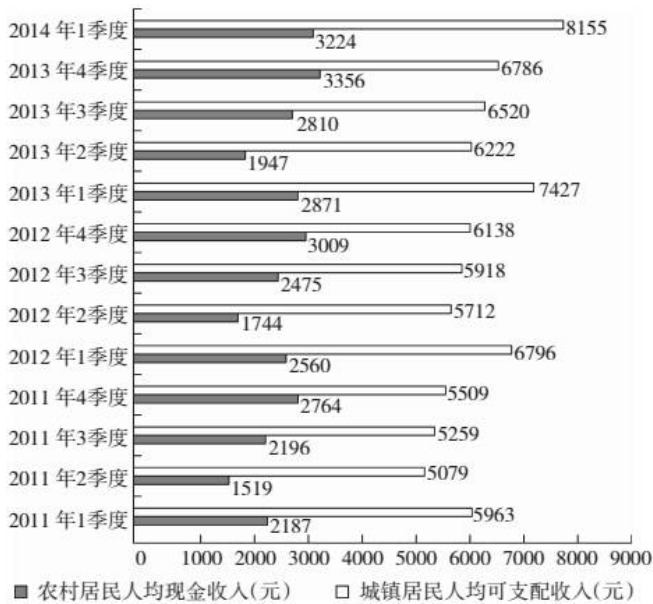
89. 按2016年1~6月份的同比增速, 2017年1~6月份城镇消费品零售额约为()。

- A. 25506亿元 B. 172220亿元 C. 147942亿元 D. 153679亿元

90. 关于社会消费品零售情况, 能够从上述材料中推出的是()。

- A. 2016年1~6月份, 限额以上单位消费品零售额增速同比下滑
 B. 2016年1~6月份, 乡村消费品零售额增速慢于城镇
 C. 2015年1~6月份, 商品零售额超过餐饮收入的7倍
 D. 2015年1~6月份, 网络零售呈较慢增长的态势

2011年1季度~2014年1季度全国农村居民与城镇居民收入情况



91. 与2011年同期相比, 2014年1季度农村居民人均现金收入约增长了()。

- A. 25. 9% B. 36. 8% C. 47. 4% D. 52. 5%

92. 2013年城镇居民人均可支配收入同比增加了()。

- A. 4千多元 B. 3千多元 C. 2千多元 D. 1千多元

93. 综合2011~2013年的数据, 农村居民人均现金收入和城镇居民人均可支配收入最高的季度分别是()。

- A. 1季度和1季度 B. 1季度和4季度 C. 4季度和4季度 D. 4季度和1季度

94. 2011~2013年, 农村居民年人均现金收入超过1万元的年份有几个? ()

- A. 0 B. 1 C. 2 D. 3

95. 能够从上述资料中推出的是()。

- A. 2013年各季度农村居民人均现金收入均同比增加

于抽象事物，此处搭配“知识世界”，“建构”更恰当，排除A、D项。

再看第二空，“却”表示转折，则此处与前文“微乎其微”相反，“举足轻重”最恰当，排除B项。

故本题选C。

3

.【答案】C

【解析】先看第三空，国家共同语和国际共同语并不能扩大语言的“言说”范围，语言也不能用于“交换”，排除A、D项。

再看第二空，文字、传声技术和电脑的作用在于促进人与人之间的沟通与交流，即对语言的“传播”功能有很大影响，“语言的形象功能”不符合语义，排除B项。

验证第一空，“语言是信息载体”搭配恰当且符合现实。

故本题选C。

4

.【答案】C

【解析】直接看第二空，根据文意，院落体现中国人特有的生活方式、人文情怀，充分表达中国人独特的文明特征。

A项“一览无余”形容建筑物的结构没有曲折变化，或诗文内容平淡，无法搭配“表达”；

B项“尽善尽美”形容事物非常完美，不符合语义；

D项“出神入化”形容技艺高超达到了绝妙的境界，也无法修饰“表达”。

验证C项，“巷、道、瓦、檐、廊”是传统院落独具特色的组成部分，“元素”指组成事物的要素；“淋漓尽致”形容表达得非常充分、透彻，或非常痛快。二者均符合语义。

故本题选C。

5

.【答案】D

【解析】先看第二空，“勉励”指鼓励或鼓舞，“勉力”指尽力、努力，对领导要求的任务应该努力去完成，“勉力”更符合语境，排除A、C项。

再看第三空，“蜕化”指虫类脱皮，比喻人或事物发生质变，“退化”指生物体的一部分器官变小，机能减退、甚至完全消失，此处形容“大脑”，“退化”更准确，排除B项。

故本题选D。

6

.【答案】B

【解析】第一空迅速排除“左顾右盼”，“颇有微词”属于批判词义，程度过重，排除A、C项。

再看第二空，“并行不悖”强调的是不干扰，“如影随形”强调的是伴生，根据语境，可知“如影随形”更符合语境。

故本题选B。

7

.【答案】A

【解析】直接看第一空，“当机立断”与“风风火火”不符合“提速”的意思，先排除B、C项。再看第二空，“进而”一词引导的词义必然是对前面“忽视”的递进，则“漠视”更符合语境，排除D

项。

故本题选A。

8

.【答案】B

【解析】先看第一空，“此起彼伏”形容接连不断；“此消彼长”指这个下降，那个上升；“如火如荼”形容大规模的行动气势旺盛，气氛热烈；“愈演愈烈”指事情、情况等越加恶化、严重。

填入横线的词应该与“频发”相呼应，形容示威、罢工活动经常发生，“如火如荼”和“愈演愈烈”强调事件发展的程度很深，不符合语义，排除C、D项。

再看第二空，填入横线的词用于形容社会乱象频发，“层出不穷”最恰当，排除A项。

故本题选B。

9

.【答案】C

【解析】辨析四个成语的意思：“洁身自好”指保持自己纯洁，不同流合污，也指怕招惹是非，只顾自己好，不关心公众事情；“自得其乐”指自己能从中得到乐趣；“独善其身”原意是做不上官就修养好自身，现指只顾自己，不管别人；“一尘不染”现泛指丝毫不受坏习惯，坏风气的影响，也用来形容非常清洁、干净。

填入横线的词呼应前文“这个世界不是孤岛”的内容，且与后文“个人的生活越来越多地与他人关联”意思相反，只有C项“独善其身”符合语义。

故本题选C。

10

.【答案】A

【解析】先看第一空，“谦虚谨慎”形容人虚心礼让、小心谨慎，“平心静气”指心情平和、态度冷静，“去糟取精”指去其糟粕取其精华。对待“赞许”应该谦虚，“谦虚谨慎”符合语义，排除B、C项。

再看第二空，“牢骚”指抑郁不满的情绪或言语，应该冷静对待，排除D项。

验证第三空，“建议”有好有坏，“去糟取精”符合语义。

故本题选A。

11

.【答案】B

【解析】根据语境，可先排除A、D项，“石破天惊”原形容箜篌的声音，忽而高亢，忽而低沉，出人意外，有难以形容的奇境，后多比喻文章议论新奇惊人；D项“警钟长鸣”值要人时刻保持警惕，文段没有涉及“警惕”的内容。

再比较B、C项，“振聋发聩”比喻用语言文字来唤醒糊涂麻木的人，使他们清醒过来；“醍醐灌顶”比喻听了高明的意见使人受到很大启发。前者强调让许许多多的人都能明白，能唤醒他们；后者则更侧重于强调某个人的感受。文段“正人心而后争天下”实际上是告诉人们应该怎么做，而“醍醐灌顶”侧重于明白了一件事情或者一个道理，与语境不符，排除。

故本题选B。

12

.【答案】A

【解析】先看第一空，“认可”指许可、同意，一般用于上级对下级的许可，“认同”指承认、赞同，此处宾语是“既成的事实”，用“认同”更恰当，排除C、D项。

再看第二空，“拘泥”指固执死板，不知变通，与后文“求异思维和批判精神”相呼应，“局限”指限制在某个范围内，不符合语义，排除B项。

故本题选A。

13

.【答案】C

【解析】通读6个句子，②“美国总统奥巴马”承接的是③“政治人物的关注”的内容，则②在③后，且④是②的结果，那么，③②④紧密衔接。同时，⑤“因此”具有总结作用，作为末句最合适，直接锁定C项。验证C项，符合语句逻辑关系。

故本题选C。

14

.【答案】C

【解析】观察选项，先确定尾句。⑤的内容明显未说完，不宜作尾句，排除A、D项。

①讲发展的目标是让人实现“文化的全面发展”，②讲人是文化的存在，③讲要把文化当成发展的目标，则①是对②和③的总结，应排在②和③之后，排除B项。

验证C项，符合语句逻辑关系。

故本题选C。

15

.【答案】D

【解析】文段首先讲中国文人传统中艺术鉴赏包括“私藏”“私赏”“递藏”，而“雅集”则是古代文人常见的聚会形式，但是“雅集”的基础是主人手中必须“有几件值得观赏的收藏”。由此可知，文段围绕“艺术鉴赏”展开论述，先排除A、B项。C项“方法与途径”不是文段所要表达的意思，文段论述艺术鉴赏的方法与途径，只是为了引出“艺术鉴赏需要适量藏品”的主旨。

故本题选D。

16

.【答案】C

【解析】文段通过从社会功能角度比较鲁迅的小说和齐白石的画作，指出文学能够直接用语言文字表达作者的思想意愿，并在读者心中刻下不可磨灭的深痕，而绘画虽有对社会不平的尖锐讽刺，但不能像小说、杂文那样对社会施以巨大的冲击力。由此可知，文段意在说明文学对社会的影响力较美术更胜一筹，C项最符合文意。

A项文段讲述文学和艺术对社会的作用，并未阐述两者的艺术价值；B项无中生有；D项文段无法得出。

故本题选C。

17

.【答案】B

【解析】文段末句提醒人们应该合理利用智能手机，而不是被手机掌控，那么接下去最有可能讨论如何减少对智能手机的依赖，B项最恰当。

A、C项与末句内容联系不够紧密；D项前文已有提及。

故本题选B。

18

.【答案】C

【解析】文段首先指出钙的需求量是根据人体每天损失的钙量以及钙的吸收效率估算出来的；接着讲欧美国国家钙的推荐标准并不一定适用其他地方，继而引出中国人应该补多少钙的话题。C项作为文段标题最贴切。

A、D项偷换概念，文段阐述要补多少钙而不是要不要补钙；B项“一般人群”说法过于宽泛。

故本题选C。

19

.【答案】D

【解析】文段重点在“然而”之后，“改革的攻坚期、深水期绕不开、躲不过”说明深化改革触动利益是必然的，同义替换为D项。

故本题选D。

20

.【答案】D

【解析】文段讲各国在金本位货币制度下，主要关注黄金储备，几乎不存在汇率波动问题，这种优越性在近半个世纪没有大规模战争和革命的情况下，将西方文明的成果推向世界各个角落。

由此可见，文段讲金本位货币制度的优越性将西方文明推向一个新的高度，D项最符合题意。

A项为强干扰项，“得天独厚的优势”表述不当，既是对金本位货币制度优越性的过度延伸，也缺少前提，即若出现大规模战争和革命，金本位货币制度未必就能发挥作用；

B项“根本所在”无从体现；

C项“金本位货币制度的形成”是否与工业革命相关，无从得知。

故本题选D。

21

.【答案】C

【解析】文段讲当人们不以功利的态度来考虑问题、不以职业的观点来面对生活时，就可以发现更多的美感愉悦，感悟到更加深刻的生活真谛。后文列举老子和庄子的例子论证前文提出的观点。显然，文段引用老子和庄子等人的思想是为了说明无功利美学对日常生活的升华作用。

A项说法过于宽泛；B、D项都没有提及“日常生活”。

故本题选C。

22

. 【答案】C

【解析】文段首先提出“酷抠族”是指拥有较高学历、较高收入的中产阶级人群，接着从消费、着装、心态等方面展开具体论述，最后进行总结，指出“酷抠族”是一个崇尚节约，追求简单、自然的生活方式的社会族群。因此，对“酷抠族”的定义应该结合涵盖前后两个特点，C项正确。

A、B、D三项均为部分内容。

故本题选C。

23

. 【答案】C

【解析】文段为总一分结构，首句是主旨句，指出“慢慢用餐、吃干净每粒饭的人，身上至少有两项美德”，后文对这两项美德展开具体论述。由此可知，文段的主体是“慢慢用餐、吃干净每粒饭的人”，即珍惜粮食的人，只有C项符合。

A项偷换概念，“用餐习惯”不等于“珍惜粮食”，说法过于宽泛；B、D项均是文段部分内容。

故本题选C。

24

. 【答案】B

【解析】A项错误，由“虽然人们总是假定，只要不断提升人类的理性水平，并使信息透明化，就能消弭谣言产生的土壤，但迄今为止这一直只是个理想”，可知“就能阻止谣言的产生”说法有误。

B项正确，由“人们为了尽快获知自己所关心的真相，常常都在不知不觉中传播着谣言”可得知。

C项错误，文段讲的是“人们能对各种传言作出更清醒的理性判断”与“人们往往来不及分辨各种信息的真假”彼此矛盾。

D项错误，文段没有提及谣言产生的主要根源。

故本题选B。

25

. 【答案】D

【解析】“它”出现在文段的第二句，前半句是“无论脚步走多远，在人的脑海中，只有故乡的味道，熟悉而顽固”，由此可知“它”指的是“故乡的味道”，D项正确。

故本题选D。

26

. 【答案】C

【解析】本题考查多级数列。

第一步：观察数列。数列单调递增，无明显倍数关系，优先考虑作差。

第二步：原数列后项减前项得到：5、9、13、（17）、（21），是公差为4的等差数列，因此原数列未知项为 $28+17=45$ ，验证后项， $45+21=66$ ，符合规律。

故本题选C。

27

. 【答案】D

【解析】原数列后项减前项得到：2、6、18、54、（162），为等比数列。因此原数列未知项为
 $84+162=246$ 。

故本题选D。

28

. 【答案】B

【解析】原数列可写成： $e^{\sqrt{0}}$ 、 $e^{\sqrt{2}}$ 、 $e^{\sqrt{6}}$ 、 $e^{\sqrt{12}}$ ，根号内部：0、2、6、12，后项减前项得到：2、4、6、（8），为等差数列。因此原数列未知项为 $e^{\sqrt{12+8}} = e^{\sqrt{20}}$ 。

故本题选B。

29

. 【答案】A

【解析】原数列反约分得到： $\frac{3}{2}$ 、 $\frac{3}{6}$ 、 $\frac{3}{12}$ 、 $\frac{3}{20}$ 、 $\frac{3}{30}$ 。分子列均为3，分母列：2、6、12、20、30，后项减前项得到：4、6、8、10、（12），为等差数列，则未知项分母为 $12+30=42$ 。因此原数列未知项为 $\frac{3}{42} = \frac{1}{14}$ 。

故本题选A。

30

. 【答案】B

【解析】本题考查图形数列。

第一步：观察数列。图形数列，优先考虑交叉关系。

第二步：题干满足如下规律：左下角数字-右上角数字=左上角数字+右下角数字，即 $7-2=3+2$ ， $9-5=3+1$ ， $10-6=1+3$ ，则问号处数字为 $7-(-3+8)=2$ 。

故本题选B。

31

. 【答案】D

【解析】 本题考查分数数列。

第一步：观察数列。相邻项分数的分子分母之间存在和差关系，考虑交叉规律。

第二步：原数列后项的分母为前项分子与分母之和，则未知项的分母为 $21+13=34$ ，分子为 $89-34=55$ 。因此原数列未知项为 $\frac{55}{34}$ 。

故本题选D。

32

. 【答案】C

【解析】本题考查多级数列。

第一步：观察数列。变化趋势一增一减，优先考虑作和。

第二步：原数列相邻两项相加得到：2、3、5、7、（11），为连续质数列。因此原数列未知项为 $11-(-2)=13$ 。

故本题选C。

33

. 【答案】A

【解析】 本题考查图形数列。

第一步：观察数列。图形数列，综合考虑横向、纵向、交叉存在等式关系。

第二步：题干满足如下关系：左上角数字 \div 右下角数字=右上角数字-左下角数字， $9\div 2=4.5=5-\frac{1}{2}$ ， $6\div 4=\frac{3}{2}=3-\frac{3}{2}$ ， $10\div 4=\frac{5}{2}=\frac{7}{2}-1$ 。因此问号处数字为 $8\div 2+(-1)=3$ 。

故本题选A。

34

. 【答案】B

【解析】

本题考查组合数列。

第一步：观察数列。数列项数较多，考虑组合数列。

第二步：原数列奇数项：1、2、3、4，为等差数列，偶数项： $\frac{1}{3}$ 、 $\frac{2}{3}$ 、 $\frac{3}{3}$ 、 $(\frac{4}{3})$ ，是公差为 $\frac{1}{3}$ 的等差数列。因此原数列未知项为 $\frac{4}{3}$ 。

故本题选B。

35

. 【答案】D

【解析】 本题考查基础数列。

第一步：观察数列。奇数项为负数，偶数项为正数。除去负号外，是一个简单等差数列。

第二步：各项取绝对值得到：1、3、5、7、9、(11)，是公差为2的等差数列，且未知项为偶数项。因此原数列未知项为11。

故本题选D。

36

. 【答案】C

【解析】 本题考查日期问题。

方法一：

第一步：审阅题干。本月的1日与某月的1日都为星期一，即两个1日之间间隔的天数刚好为7的倍数（一周有7天），要使间隔的月份数最多，则应使每个月天数除以7后的余数之和为7的倍数。

第二步：从1月到12月每个月天数除以7后的余数分别为3、0（闰年为1）、3、2、3、2、3、3、2、3、2、3。观察可知，间隔最大的为1月1日到10月1日（平年）或者2月1日到11月1日（平年），之间均间隔9个月。

故本题选C。

方法二：代入排除法。最多相隔几个月，可按照选项数值由大到小代入。

D项：相隔11个月只有1月1日~12月1日一种情况，平年相隔 $365-31=334$ 天， $334\div 7=47\dots 5$ ，闰年相隔 $366-31=335$ 天， $335\div 7=47\dots 6$ ，都不能被7整除，排除。

C项：相隔9个月有1月1日~10月1日、2月1日~11月1日、3月1日~12月1日，共3种情况。1月1日~10月1日，平年共 $365-31-30-31=273$ 天， $273\div 7=39$ ，可以整除，满足题干要求。

故本题选C。

37

. 【答案】A

【解析】 本题考查基础概率问题。

第一步：审阅题干。从10人中任选3人，其中1名为男生、2名为女生的概率，用组合的方法分析即可。

第二步：根据题意可知，任意选取3人有 $C_{10}^3=120$ 种情况，抽到一名男生、两名女生有 $C_1^1 \times C_9^2=36$ 种情况，则概率为 $\frac{36}{120}=\frac{3}{10}$ ，即30%，在25%~35%之间。

故本题选A。

38

. 【答案】D

【解析】 本题考查部分打折问题。

第一步：审阅题干。根据题干条件，用未知数表示成人旅游定价，通过“便宜100元”来寻找等量关系。

第二步：设成人旅游定价为x元。甲旅行社最终优惠后的总价为 $2x+0.6x=2.6x$ 元；乙旅行社最终优惠后的总价为 $0.85 \times 3x=2.55x$ 。根据“便宜100元”可列方程 $2.6x-2.55x=100$ ，解得 $x=2000$ ，即成人旅游定价为2000元。

故本题选D。

39

. 【答案】B

【解析】 本题考查基础应用。

第一步：审阅题干。题干涉及两种运输方式，要求汽车数量，可知为基础应用问题。

第二步：

方法一：设该车队有a辆汽车，根据题意可知 $3500 \times a + 5000 = 4000 \times a + 500$ ，解得 $a=9$ 。

故本题选B。

方法二：盈亏问题，根据盈亏公式，可知该车队有 $(5000-500) \div (4000-3500) = 9$ 辆汽车。

故本题选B。

40

. 【答案】D

【解析】 本题考查流水行船问题。

第一步：审阅题干。题干出现“顺水”“逆水”，可知为流水行船问题，应注意船的实际速度=船速±水速。

第二步：根据题意可知，两船实际行驶速度相同，即快船速-水流速=慢船速+水流速。因快船速是慢船速的2倍，可得慢船速=2水流速。

故本题选D。

41

. 【答案】A

【解析】76的任意次方的最后两位都为76，25的任意次方的最后两位都为25，
则 $76^{2013}+25^{2014}$ 的最后几位数为 $76+25=01$ ，即最后两位为01。

故本题选A。

42

. 【答案】C

【解析】用赋值法。根据题干所给式子可知，当 $x=-1$ ， $y=0$ 时，满足等式。因此 $x^{2014}+y^{2014}=(-1)^{2014}+0^{2014}=1+0=1$ 。

故本题选C。

43

. 【答案】D

【解析】师傅每天生产甲配件与乙配件的效率比为 $150:75=2:1$ ；徒弟每天生产甲配件与乙配件的效率比为 $60:24=5:2>2:1$ ，则要使生产的产品套数最多，应让徒弟15天均生产甲配件。设师傅生产甲配件的天数为 x ，则生产乙配件的天数为 $15-x$ ，根据题意可得： $60 \times 15+150x=75 \times (15-x)$ ，解得 $x=1$ 。

$60 \times 15+150 \times 1=1050$ ，即工作15天后最多可生产1050套。

故本题选D。

44

. 【答案】C

【解析】密码第一位，共有0、2、4、6、8五种选择。密码后两位：①只有第二位数字为6，第三位数字有9种选择；②只有第三位数字为6，第二位数字有9种选择；③第二位和第三位数字都为6，只有一种选择。因此共有 $5 \times (9+9+1)=95$ 种选择。

故本题选C。

45

. 【答案】C

【解析】这辆车从甲地开往乙地提速20%，可知原定速度与提速后的速度之比为5:6，路程相同，时间与速度成反比，则原定时间与提速时间之比为6:5，因两者相差1小时，可知从甲地开往乙地原定时间是6小时。

同理，以原速行驶120千米后，提速25%，原定速度与提速后的速度之比为4:5，原定时间与提速后的时间之比为5:4，因两相差40分钟，可知原定时间为 $5 \times 40=200$ 分钟，则这辆车行驶120千米所用时间为 $6 \times 60-200=160$ 分钟，那么原速为 $120 \div (160 \div 60)=45$ 千米/小时，因此甲、乙两地相距 $45 \times 6=270$ 千米。

故本题选C。

46

. 【答案】C

【解析】设甲、乙两工厂每天生产的零件数分别为 x 、 y ，根据题意可列方程组：

$x=1.5y+40$ ， $y=0.5x+20$ ，联立解得： $x=280$ 个， $y=160$ 个。因此两个工厂每天共能生产的零件数为
 $280+160=440$ 个。

故本题选C。

47

. 【答案】D

【解析】至少有连续三位是5的情况有三种：

①连续五位是5，则只有一个数字55555。

②连续四位是5，有前四位为5和后四位为5两种情况，剩下的一位从6、7、8中选择，则有 $2 \times 3=6$ 个数字。

③连续三位是5，若前三位为5，则倒数第二位从6、7、8中选择，倒数第一位可从5、6、7、8中选择，有 $3 \times 4=12$ 个；若中间三位为5，则第一位和最后一位都只能从6、7、8中选择，有 $3 \times 3=9$ 个；若最后三位为5，则第一位可从5、6、7、8中选择，第二位从6、7、8中选择，有 $4 \times 3=12$ 个。

综上，至少有连续三位是5的数字有 $1+6+12+9+12=40$ 个。

故本题选D。

48

. 【答案】A

【解析】代入法。根据题意可知，此件商品标价与弄反价格之差为27元。

A项， $42-24=18$ 元 $\neq 27$ 元，符合题意。

验证其他三项，B项， $63-36=27$ 元；C项， $85-58=27$ 元；D项， $96-69=27$ 元。

故本题选A。

49

. 【答案】D

【解析】根据题意可知，这份报告的总字数能被30整除，排除A、C项。

又因总字数的 $1-\frac{2}{5}=\frac{3}{5}$ 能被 $30 \times (1+40\%)=42$ 整除，代入B项， $7200 \times \frac{3}{5} \div 42=102 \dots 36$ ，排除；

代入D项， $5250 \times \frac{3}{5} \div 42=75$ ，满足条件。

故本题选D。

50

. 【答案】D

【解析】设大油轮运 x 趟，小船运 y 趟，耗油总量 z 升，根据题意可

知， $700x+40y=9000$ ， $z=1400x+95y$ ，解得 $z=2137.5-262.5x$ ，因此，当 x 最大时， z 最小。 x 最大时， y 最小为0，则 $x=9000 \div 700 \approx 12.9$ 。因此大油轮单独运13趟，耗油总量最少，为 $13 \times 1400=18200$ 升。

故本题选D。

51

. 【答案】B

【解析】 本题考查属性关系。

第一步：分析题干词语间的关系。人生会遭遇困难，且困难指处境艰难。

第二步：分析选项，确定答案。

A项：经济会遭遇危机，但危机指危险又有机会的时刻，排除。

B项：事业会遭遇挫折，且挫折指处境艰难，当选。

C项：因为混乱所以需要管理，排除。

D项：分手后失去了爱情，排除。

故本题选B。

52

. **【答案】** C

【解析】 本题考查反义关系。

第一步：分析题干词语间的关系。高大和渺小为反义关系。

第二步：分析选项，确定答案。

A项：无穷和无尽为近义关系，排除。

B项：春种和秋收为顺承关系，排除。

C项：赞誉和诋毁为反义关系，当选。

D项：牛奶和面包均为食物，二者为反对关系，排除。

故本题选C。

53

. **【答案】** B

【解析】 本题考查全异关系。

第一步：分析题干词语间的关系。微信、QQ和MSN均属于网络社交工具，是反对关系。

第二步：分析选项，确定答案。

A项：墨盒是打印机的组成部分，排除。

B项：搜狐、新浪和网易均属于互联网门户网站，是反对关系，当选。

C项：邮票可以贴在邮件上，邮件投递到邮箱里，不是反对关系，排除。

D项：显示屏是电脑的组成部分，排除。

故本题选B。

54

. **【答案】** C

【解析】 数学需要计算，化学需要做实验。

故本题选C。

55

. **【答案】** B

【解析】 本题考查交叉关系。

第一步：分析题干词语间的关系。花瓶和瓷器为交叉关系。

第二步：分析选项，确定答案。

A项：电视机是电器的一种，二者为种属关系，排除。

B项：中药和植物为交叉关系，当选。

C项：画作和诗篇为反对关系，排除。

D项：八仙桌是桌子的一种，二者为种属关系，排除。

故本题选B。

56

.【答案】D

【解析】本题考查动宾关系。

选项逐一代入。

A项：分析和阐述无明显联系，消除与革除为近义关系，前后逻辑关系不一致，排除。

B项：“分析差距”为动宾结构，消除与贫富不能搭配，前后逻辑关系不一致，排除。

C项：分析、解决为顺承关系，消除和创新无明显联系，前后逻辑关系不一致，排除。

D项：“分析问题”和“消除弊端”均为动宾结构，前后逻辑关系一致，当选。

故本题选D。

57

.【答案】A

【解析】“嫦娥奔月”和A项“后羿射日”均为主谓宾结构，且都是神话传说。

故本题选A。

58

.【答案】D

【解析】题干第一个字符与第三个字符相同，第二个字符与第四个字符相同，第五个字符与第七个字符相同，第六个字符与第八个字符相同。观察选项，只有D项符合。

故本题选D。

59

.【答案】C

【解析】本题考查削弱类。

第一步：分析题干论点论据。

论点：市面上以活性乳酸菌为卖点的酸奶其实很难补充乳酸菌，对肠道并没有什么益处。

论据：无。

第二步：分析选项，确定答案。

A项：指出酸奶中的有益物质得不到很好保留，因此对肠道并没有什么益处，属于加强项，排除。

B项：指出市面上的酸奶中的乳酸菌在制作过程中都被杀死了，因此对肠道没有什么益处，属于加强项，排除。

C项：指出酸奶中的蛋白质被乳酸菌凝冻化利于吸收，减轻了肠胃消化负担，因此对肠道有益处，最能削弱题干论点，当选。

D项：血糖反应与酸奶能否补充乳酸菌无关，排除。

故本题选C。

60

. 【答案】A

【解析】 本题考查前提假设。

第一步：分析题干论点论据。

论点：歌唱和舞蹈能够使人群保持团结，解决内部纷争，更有效地捍卫领土。

论据：略。

第二步：分析选项，确定答案。

A项：说明歌唱和舞蹈具有使人忘却矛盾，和平相处的功效，若不具有这些功效，那么歌唱和舞蹈也就不能使人群保持团结，不能解决内部纷争以及捍卫领土，即论点不成立，因此A项是论点成立的前提，当选。

B项：说明歌唱和舞蹈影响参与者的情绪和心理，但并不是论点成立的必要条件，排除。

C项：说明歌唱和舞蹈使人忘却阶级差别，在一定程度上能缓解矛盾，但不是保持团结、解决内部纷争的必要条件，排除。

D项：说明歌唱和舞蹈影响参与者的情绪和心理，但并不是论点成立的必要条件，排除。

故本题选A。

61

. 【答案】C

【解析】 本题考查前提类。

第一步：分析题干论点论据。

论点：婴儿学习本领后保持充足睡眠有利于增强记忆。

论据：通过对照实验发现，有充足睡眠的宝宝能记住1.5个本领，没有怎么睡觉的宝宝则一项本领都没有记住。

第二步：分析选项，确定答案。

A项：青少年群体与论点中的婴儿无关，属于无关项，排除。

B项：睡眠对宝宝身体发育的影响与增强记忆无关，属于无关项，排除。

C项：排除了宝宝本身智力水平状况对实验结果的影响，即排除他因，是题干论证依赖的假设，当选。

D项：其他研究验证了这项结果，具有加强作用，但缺少这一内容不影响题干论点成立，不是论证成立的必要条件，排除。

故本题选C。

62

. 【答案】B

【解析】 本题考查前提类。

第一步：分析题干论点论据。

论点：人类语言最初直接来源于鸟类和灵长类。

论据：从鸟类身上，我们获得了语言的旋律部分；从其他灵长类身上，我们获得了语言的实用性内容部分。

第二步：分析选项，确定答案。

A项：指出人类的交流与其他动物的交流相似，在一定程度上支持题干论点，但不是论点成立的必要条件，排除。

B项：指出人类语言包含与句子可变结构相关的表达层面（语言的旋律部分）以及表达句子核心内容的词汇层面（语言的实用性内容部分），说明在鸟类和其他灵长类身上获得的两个部分，构成了人类语言，在论点和论据间“搭桥”，是题干结论基于的前提，当选。

C项：人类语言的交流变化情况与论证无关，属于无关项，排除。

D项：即使鸟类和除人类以外的其他哺乳动物没有自己的交流语言，也可能有其他交流模式，对论点没有影响，不是论点成立的必要条件，排除。

故本题选B。

63

. 【答案】D

【解析】题干论点：中国与西方在社会、政治、文化背景方面存在深刻差异，中国经验的特殊性和复杂性决定了在解释中国问题上所面临的巨大挑战和难度。

A项指出中国的环境问题面临巨大的挑战，支持论点，排除。

B项仅指出“多种学科的方法在中国环境问题的解释上做出了积极的贡献”，但未表明这种“积极的贡献”是否减轻了中国面临的挑战和难度，削弱力度不强，排除。

C项与论点无关，排除。

D项指出中西方的环境问题具有相似性，可减弱二者经验差异对学科解释的影响，说明在解释中国环境问题上面临的挑战和难度可能没有那么巨大，最能削弱论点。

故本题选D。

64

. 【答案】D

【解析】题干论点：从敬天的巫教中已经产生了测天的天文学，其通天的宗教目的是一致的。

论据：卜辞材料说明殷代的天文学已经到了相当发达的水平，而所有这些天文观测是与敬天的巫教分不开的。

A项仅指出天文观测方式受巫教敬天的影响，B项仅指出天文观测水平的发展可能与巫教盛行有关，均不能证明测天的天文学是从敬天的巫教中产生的，不能支持论点，均排除。

C项与“敬天的巫教”无关，属于无关项，排除。

D项说明天文观测是巫教敬天的方法，即“从敬天的巫教中已经产生了测天的天文学”，最能支持论点。

故本题选D。

65

. 【答案】A

【解析】 本题考查削弱类。

第一步：分析题干论点论据。

论点：晓晓患了强迫症。

论据：晓晓每天反复洗手的次数是一般人的30倍。

第二步：分析选项，确定答案。

A项：晓晓洗手次数多是出于工作需要，并不是患了强迫症，削弱了论据和论点间的关系，最能质疑题干结论，当选。

B项：晓晓家人的情况与论点无关，排除。

C项：不明确选项，洗手虽然不痛苦但是洗手有没有意义我们不清楚，排除。

D项：晓晓曾经忘记检查门窗，结果家中被盗与论点无关，排除。

故本题选A。

66

. 【答案】 B

【解析】 本题考查数量类规律。

第一步：观察图形。题干各图形均由线条构成，优先考虑数量类规律。题干各图形的线条数依次为：2、3、4、5、6，为等差数列，且均为一笔画图形，则第六个图形的线条数应为7，且为一笔画图形。

第二步：分析选项，确定答案。

A项：线条数为7，但为两笔画图形，排除。

B项：线条数为7，且为一笔画图形，当选。

C项：线条数为8，排除。

D项：线条数为7，但为两笔画图形，排除。

故本题选B。

67

. 【答案】 B

【解析】 本题考查数量类规律

第一步：观察图形。题干图形都有几类元素组成，数字不同，可以考虑数量类规律。

第二步：分析图形。①②⑤中两种元素数量相乘的积为8，③④⑥中两种元素数量相乘的积为12。

故本题选B。

68

. 【答案】 B

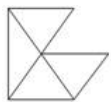
【解析】 题干各图形均含有6条直线。观察选项，只有B项符合。

故本题选B。

69

. 【答案】 B

【解析】 题干各图形拼合，形成的图形如下图所示。



故本题选B。

70

.【答案】A

【解析】每一行各图形中三角形个数分别是2、3、4，则问号处图形应有4个三角形，只有A项符合。

故本题选A。

71

.【答案】A, D

【解析】国有企业属于全民所有，是推进国家现代化、保障人民公共利益的重要力量，是我们党和国家事业发展的重要物质基础和政治基础。《中共中央、国务院关于深化国有企业改革的指导意见》中指出，根据国有资本的战略定位和发展目标，结合不同国有企业在经济社会发展中的作用、现状和发展需要，将国有企业分为商业类和公益类，并实行分类改革、分类发展、分类监管、分类定责、分类考核。

故本题选AD。

72

.【答案】B

【解析】货币型基金通常被视为无风险或低风险投资工具，具有流动性好、资本安全性高、投资成本低、预期年收益效率较低等特点。A、C、D三项正确，B项错误。

故本题选B。

73

.【答案】A

【解析】发生胸腹损伤事故时应使病人平躺，保持呼吸通畅，A项做法正确。

发现有人触电，应立即切断电源，不能直接用手拉触电者，应用木棒或其他绝缘物将触电者与带电体分离，B项做法错误。

夜间发现煤气泄漏时，应尽快关闭总阀门、打开门窗通风，不能立即打开油烟机，因为开机时可能产生电火花，煤气泄漏后与空气混合，遇电火花可能引燃发生爆炸，C项做法错误。

在半山腰遇见森林火灾时，要快速向山下或有道路的两侧跑，切忌往山顶跑，D项做法错误。

故本题选A。

74

.【答案】A

【解析】《桃花源记》是东晋文人陶渊明的代表作之一，通过对桃花源的安宁和乐、自由平等生活的描绘，表现了作者追求美好生活的理想和对现实生活的不满。《桃花源记》描写的这一情境与《乌托邦》描绘的岛国类似，A项当选。

《礼记》的作者是西汉礼学家戴圣，主要记载了先秦礼制；《大同书》的作者是清末思想家康有为；

《世说新语》是南北朝刘义庆等文人学士编写而成的，主要记录了魏晋名士的逸闻轶事和玄言清谈，是中国魏晋南北朝时期“笔记小说”的代表作，是我国最早的一部文言志人小说集。

故本题选A。

75

.【答案】B

【解析】道家崇尚自然，有辩证法的因素和无神论的倾向，主张清静无为，反对斗争；提倡道法自然，无所不容，自然无为，与自然和谐相处。“上善若水”“无为而治”“道法自然”均属于道家思想。B项“缘起性空”属于佛教用语。

故本题选B。

76

.【答案】C

【解析】明清科举考试分为四级：院试、乡试、会试、殿试。院试又称童试，童生参加，考上为“生员”，即“秀才”。乡试又称秋闱，生员参加，考上为“举人”，第一名称为“解元”。会试又称春闱，举人参加，考上为“贡士”，第一名称为“会元”。殿试由皇帝主考，贡士参加，考上为“进士”，第一名称为“状元”。因此，该考生此次参加的是乡试，则之后参加的是会试。

故本题选C。

77

.【答案】B

【解析】“颠张醉素”分别指的是张旭和怀素。张旭是一位极有个性的草书大家，因他常喝得大醉，就呼叫狂走，然后落笔成书，甚至以头发蘸墨书写，故又有“张颠”的雅称。《自叙帖》是怀素的作品，《自言帖》是张旭的作品，《中秋帖》是王献之的作品，《黄州寒食帖》是苏轼的作品。

故本题选B。

78

.【答案】C

【解析】“唇亡齿寒”出自《左传·僖公五年》：晋献公向虞国借路伐虢，虞国大夫宫之奇劝虞君说，虞虢两国像嘴唇和牙齿之间的关系，唇亡则齿寒，但虞君未听劝告最终也为晋所灭。

故本题选C。

79

.【答案】A, B, C, D

【解析】重点调查是指在全体调查对象中选择一部分重点单位进行调查，以取得统计数据的一种非全面调查方法。

个案调查亦称个案调查法，是对一个人、一个群体、一件事、一个社会集团或一个社区所进行的深入全面的调查。

典型调查指根据调查研究的目的，在若干同类调查对象中选取一个或几个有代表性的对象进行系统、周密的调查研究，从而认识这一类对象的本质特征、发展规律，找出具有普遍意义和有价值的经验和值得借鉴的教训。

抽样调查是从全部调查对象中，抽选一部分单位进行调查，并据以对全部调查对象作出估计和推断的一种调查方法。“选择了发展较快的、进城务工人员占职工总数较多的一个镇进行了调查”属于重点调查、个案调查、典型调查和抽样调查。

故本题选ABCD。

80

.【答案】C

【解析】预防结核病，应少去人口密集的地方，做好个人生活环境的卫生清洁工作，C项错误。

故本题选C。

81

.【答案】A, B, C

【解析】无缝钢轨具有以下优点：

- (1) 减少噪音污染。
- (2) 磨损减少，与普通铁轨相比，无缝铁轨由于消除了大量钢轨接头，因而消除了接头冲击力，减少了线路损害，节省了大量原材料。
- (3) 提速提高了轨道的可靠性，火车的速度还会相应提高。
- (4) 增加旅客的平稳、舒适感。

A、B、C三项说法正确。

无缝钢轨存在热胀冷缩现象，在铺设的时候要尽量选择最佳温度铺设，使钢轨的伸缩始终控制在最小范围内，D项说法错误。

故本题选ABC。

82

.【答案】D

【解析】鸦片战争后，根据《南京条约》和《五口通商章程》的规定，上海正式开埠。外国商品和外资纷纷涌进长江门户，开设行栈、设立码头、划定租界、开办银行。从此，上海进入历史发展的转折点，从一个不起眼的海边县城开始朝着远东第一大都市前进。

A、B、C三项描写的均是鸦片战争前的自然经济状态，自给自足的小农经济占主导地位，不符合题干要求。

D项“北洋场”指的是租界中的“北市”。词中称南市为“有城”，北市为“无城”，且北市的繁荣已经超过南市，这首竹枝词充分反映了上海开埠后的商业活动。

故本题选D。

83

.【答案】B

【解析】山东是中国文化发祥地之一，齐鲁文化就诞生于此。齐鲁文化是齐文化和鲁文化的统称，这两种文化在发展中逐渐有机地融合在一起，形成了以儒学为核心的齐鲁文化。济南、淄博、泰安、曲阜都是齐鲁文化的重要发祥地。

故本题选B。

84

.【答案】B

【解析】禁止鸣笛是在声源处减弱噪音，A项错误。

超声波能粉碎人体内的结石，说明超声波具有能量，B项正确。

音调是指声音的高低，不能据其来判断听到的声音是哪一个人的，而应根据音色来辨别不同的人，音色是指声音的感觉特性，每个人的音色都是不同的，C项错误。

声音是由物体振动产生的声波，并通过介质传播，没有振动是不能发出声音的，D项错误。

故本题选B。

85

.【答案】D

【解析】A项两伊战争是发生在伊朗和伊拉克之间的一场长达8年的边境战争，战争爆发的原因纷繁复杂，但总的来说最重要的三个因素是：边境纠纷、宗教矛盾、民族仇恨。其中，最主要和直接的原因
为边境纠纷。

B项巴以（巴勒斯坦和以色列）冲突是中东地区冲突的热点之一，冲突的背后隐藏着深刻的历史根源，既有宗教的、文化的、民族的因素，更重要的是大国干预等外部因素，各种因素互相影响、激化，使得巴以冲突的复杂性非同一般。

C项十字军东征是一系列在罗马天主教教皇的准许下进行的、持续近200年的、有名的宗教性军事行动，由西欧的封建领主和骑士，对地中海东岸的国家，以收复阿拉伯入侵占领的土地为名义发动的战争，前后共计有八次。

因此，A、B、C三项战争爆发的原因都涉及宗教问题。

D项伊拉克战争，是以英美军队为主的联合部队在2003年3月20日对伊拉克发动的军事行动，美国以伊拉克藏有大规模杀伤性武器并暗中支持恐怖分子为由，绕开联合国安理会，单方面对伊拉克实施军事打击。实质上是借反恐时机，以伊拉克拒绝交出子虚乌有的生化武器为借口，趁机清除反美政权的一场战争，这场战争没有涉及宗教问题。

故本题选D。

86

.【答案】C

【解析】本题考查基期计算。

第一步：查找相关材料。题干命题点的对应材料在文字材料第一段，即2016年6月份，我国社会消费品零售总额26857亿元，环比增长0.92%。

第二步：根据已知条件解题。根据公式 $\text{基期量} = \frac{\text{现期量}}{1 + \text{现期增长率}}$ 列式，2016年5月份全国社会消费品零售总额为 $\frac{26857}{1 + 0.92\%} \approx 26857 - 26857 \times 1\% \approx 26857 - 268 \approx 26500$ 亿元，C项与之最接近。

故本题选C。

87

.【答案】B

【解析】本题考查基期比重。

第一步：查找相关材料。题干命题点的对应材料在第二段，即2016年1~6月份，我国社会消费品零售总额156138亿元，同比增长10.3%。其中，限额以上单位消费品零售额71075亿元，同比增长7.5%。

第二步：根据已知条件解题。根据公式基期比重公式 $\frac{N}{M} \times \frac{1+m\%}{1+n\%} \times 100\%$ 可知，2015年1~6月份限额以上单位消费品零售额占全国社会消费品零售总额的比重为 $\frac{71075}{156138} \times \frac{1+10.3\%}{1+7.5\%} \approx \frac{710}{1560} \times (1+3\%) \approx 45.5\% + 45.5\% \times 3\% \approx 46.9\%$ ，B项与之最接近。

故本题选B。

88

.【答案】A

【解析】本题考查查找数据。

根据表格可知，2016年1~6月份，四个选项中，通讯器材商品零售同比增速（14.9%）最快。

故本题选A。

89

.【答案】C

【解析】本题考查预期量。

第一步：查找相关材料。题干命题点的对应材料在第三段，即2016年1~6月份城镇消费品零售额为134249亿元，同比增速为10.2%。

第二步：根据已知条件解题。2017年1~6月份城镇消费品零售额为 $134249 \times (1+10.2\%) \approx 134249 + 13424 \approx 148000$ 亿元，C项与之最接近。

故本题选C。

90

.【答案】C

【解析】本题考查综合分析。

A项错误：根据文字材料第二段可知，材料仅给出2016年1~6月份限额以上单位消费品零售额以及同比增速，未给出2015年1~6月份的增速相关数据，无法判断增速是否同比下滑，排除。

B项错误：根据文字材料第三段可知，1~6月份，城镇消费品零售额同比增长10.2%，乡村消费品零售额同比增长11.0%，说明乡村消费品零售额增速快于城镇，排除。

C项正确：根据文字材料第四段可知，1~6月份，餐饮收入16683亿元，同比增长11.2%；商品零售139455亿元，同比增长10.2%，商品零售额超过餐饮收入的 $\frac{139455}{16683} \times \frac{1+11.2\%}{1+10.2\%} \approx \frac{140}{17} \approx 8.2$ 倍 > 7倍，当选。

D项错误：根据文字材料第五段可知，2016年1~6月份，全国网上零售额22367亿元，同比增长28.2%，无法判断2015年1~6月份的增速，排除。

故本题选C。

91

.【答案】C

【解析】本题考查基础增长率。

第一步：查找相关材料。题干命题点的对应材料在条形图，即2014年1季度农村居民人均现金收入3224元，2011年1季度农村居民人均现金收入2187元。

第二步：根据已知条件解题。根据公式 $\text{增长率} = \frac{\text{现期量} - \text{基期量}}{\text{基期量}}$ 可知，与2011年同期相比，2014年1季度农

村居民人均现金收入约增长了 $\frac{3224 - 2187}{2187} = \frac{1037}{2187} \approx \frac{10}{21} \approx 47.6\%$ ，C项与之最接近。

故本题选C。

92

. 【答案】C

【解析】 本题考查普通增长量计算。

根据条形图可知，2013年城镇居民人均可支配收入

$6786 + 6520 + 6222 + 7427 \approx 6800 + 6500 + 6200 + 7400 = 26900$ 元，2012年城镇居民人均可支配收入 $6138 + 5918 + 5712 + 6796 \approx 6100 + 5900 + 5700 + 6800 = 24500$ 元，同比增加了 $26900 - 24500 = 2400$ 元，即2千多元。

故本题选C。

93

. 【答案】D

【解析】 本题考查查找数据。

根据条形图的长度比较可知，2011~2013年农村居民人均现金收入最高的季度是4季度，城镇居民人均可支配收入最高的季度是1季度。

故本题选D。

94

. 【答案】B

【解析】 本题考查简单计算。

根据条形图可知，2011年农村居民年人均现金收入为

$2764 + 2396 + 1519 + 2187 \approx 2700 + 2400 + 1500 + 2200 \approx 8800$ 元 < 10000元，不符合；2012年农村居民年人均现金收入为 $3009 + 2475 + 1744 + 2560 \approx 3000 + 2400 + 1800 + 2500 \approx 9700$ 元 < 10000元，不符合；2013年农村居民年人均现金收入为

$3356 + 2810 + 1947 + 2871 \approx 3300 + 2800 + 2000 + 2800 \approx 10900$ 元 > 10000元，符合。因此超过1万元的年份只有2013年1年。

故本题选B。

95

. 【答案】A

【解析】 本题考查综合分析。

A项正确：根据条形图可知，2013年各季度农村居民人均现金收入均大于2012年各季度，当选。

B项错误：根据条形图可知，2013年4季度城镇人均可支配收入6786元，2013年3季度城镇人均可支配收入为6520元，2012年4季度城镇人均可支配收入为6138元，则同比增长率为 $\frac{6786 - 6138}{6138} = \frac{648}{6138}$ ，环比增长率为 $\frac{6786 - 6520}{6520} = \frac{266}{6520}$ ， $\frac{648}{6138} > \frac{266}{6520}$ ，因此同比增速高于环比增速，排除。

C项错误：根据条形图可知，2013年1季度城镇居民人均可支配收入为7427元，2012年4季度城镇居民人均可支配收入为6138元，则 $\frac{7427 - 6138}{6138} = \frac{1289}{6138} \approx 20\% < 30\%$ ，即不到三成，排除。

D项错误：根据条形图可知，2013年下半年农村居民人均现金收入比上半年多

$(3356+2810) - (1947+2871) \approx 6100-4800=1300$ 元，远不到2000元，排除。

故本题选A。

96

. 【答案】B

【解析】根据文段第一段可知，“2010年，我国进出口贸易总额为29727.6亿美元，同比增长34.7%”，则2009年我国进出口贸易总额为 $\frac{29727.6}{1+34.7\%} \approx 30000 \div 1.4 \approx 21400$ ，B项最接近。

故本题选B。

97

. 【答案】D

【解析】根据表格可知，2010年，我国出口总额15779.3亿美元，同比增加31.3%；根据文段第二段可知，“高新技术产品出口4924.1亿美元，同比增长30.7%”。我国出口总额同比增长率稍高于高新技术产品出口同比增长率，则2010年高新技术产品出口额占出口总额的比重与上年相比减少了，而且减少值很小。

故本题选D。

98

. 【答案】A

【解析】根据文段第二、三段可知，“2010年，我国机电产品出口9334.3亿美元，同比增加30.9%；高新技术产品出口4924.1亿美元，同比增长30.7%……机电产品进口额达到6603.1亿美元，同比增长34.4%；高新技术产品进出口额达到4126.1亿美元，同比增长33.2%”，根据数据可知同比增长率都接近，机电产品出口的基数最大，故机电产品出口的同比增长金额最高。

故本题选A。

99

. 【答案】A

【解析】根据表格可知，加工贸易净出口额为正值，一般贸易净出口额为负值，A项说法正确；2010年其他方式贸易净出口额为 $1168.6-2094.2=-925.6$ ，一般贸易净出口额为 $7207.3-7679.8=-472.5$ ，故其他方式贸易 $<$ 一般贸易，B项说法错误；

2010年国有企业净出口额为负值，外商投资企业和其他企业净出口额均为正值，C、D项说法均错误。

故本题选A。

100

. 【答案】C

【解析】A项，高新技术产业为顺差，错误；

B项，2009年国有企业进出口总额为 $\frac{2343.6}{1+22.7\%} + \frac{3875.5}{1+34.3\%} \approx 4796$ ，同比增速为 $\frac{(2343.6+3875.5)-4796}{4796}$

$\approx 29.7\%$ ，大于28.5%，错误；

C项，机电产业出口额占出口总额的比重为 $\frac{9334.3}{15779.3}$ ，大于 $\frac{1}{2}$ ，正确；

D项，船舶出口同比增长率高于汽车零部件出口同比增长率，但增长量无法判断，错误。

故本题选C。