

智能出题



扫码答题
只能用32学苑

APP扫码

一、言语理解与表达

1. 如果说清末的红学还只是一种开玩笑式的诨号，1921年后红学则确实已成为一种_____的专门之学。由于胡适的提倡，《红楼梦》的考证工作已和中国近代学术的主流——从乾、嘉考据学到“五四”之后的国故整理——汇合了。因此，从学术史的观点来看，“红学”无疑地可以和其他当代的显学如“甲骨学”或“敦煌学”等_____，而毫无愧色。

填入划横线部分最恰当的一项是（ ）。

- A. 严格 平分秋色
- B. 严谨 三足鼎立
- C. 严密 等量齐观
- D. 严肃 并驾齐驱

2. 那时在我们家里，主人和客人均彬彬有礼，但常因观点相异而激烈争论，_____，互不相让。不但洋溢着自由争论的热烈气氛，也体现出“_____”的传统精神。

依次填入划横线部分最恰当的一项是（ ）。

- A. 各持己见 君子和而不同
- B. 各执一词 君子喻于义
- C. 各抒己见 君子成人之美
- D. 各持己见 君子之交淡如水

3. 上世纪二三十年代，娱乐方式少，评弹和电影是_____的，目前电影能够带来各种感官刺激，评弹就做不到了。那么，既然没有土壤，评弹演员的水平怎能提高？

填入下面横线处的词语最恰当的是（ ）。

- A. 旗鼓相当
- B. 求同存异
- C. 一脉相连
- D. 相映成趣

4. 我们的生活不断“提速”，凡事追求_____，生活不自觉地迈入“加急时代”。“时间就是金钱，效率就是生命”演变成为一种普世的价值观。出差是飞机高铁，上网是极速体验，吃饭要争分夺秒，就连蹒跚学步的孩子，都不能输在起跑线上。这份急，夹杂着对结果的狂热、对过程的忽视，进而衍生出对规则的_____，同时催生出各种问题。

依次填入下面横线处的词语最恰当的是（ ）。

- A. 立竿见影 漠视
- B. 当机立断 解构
- C. 风风火火 亵渎
- D. 一步到位 歪曲

5. 预循环，是一种更环保的生活方式，指通过_____购入会产生垃圾的家庭或商业物品来减少垃圾数量的行为。可循环的垃圾经过处理后可以_____别的功效，可是处理这些可循环物质也是要消耗能源并产生垃圾的，所以更加环保的方式是尽量少用会产生垃圾的物品。

依次填入划横线部分最恰当的一项是（ ）。

A. 避免 发挥 B. 杜绝 具备 C. 放弃 衍生 D. 禁止 实现

6. 对许多汽车迷来说，喜欢手表与汽车其实都出于同样的情绪——对于复杂机械系统的热爱。早在汽车发明之初，手表已经非常精密复杂，与之相比，粗糙简单得多的早期汽车显然可以从中_____不少成熟的机械设计。如今层出不穷的汽车题材的手表从汽车外在特征上寻找设计灵感，虽然少了许多可以更加深入探讨的_____，但对于普通表迷的吸引力却越来越大，成为车表渊源的最佳_____。

依次填入划横线部分最恰当的一项是（ ）。

A. 复制 层次 联系 B. 借用 细节 佐证
C. 模仿 关键 代表 D. 吸收 角度 理由

7. “用最严谨的标准、最严格的监管、最严厉的处罚、最严肃的问责，确保广大人民群众‘舌尖上的安全’”。不久前闭幕的中央农村工作会议，把食品安全放在更加重要位置来谋划，四个“最”_____，一个“确保”_____。这样的宣示与承诺，对农产品生产提出了更高要求，回应了全社会对食品安全的关切，更彰显了党和政府勇于担当、为民纾困的坚强决心。

依次填入划横线部分最恰当的一项是（ ）。

A. 义正辞严 振聋发聩 B. 铿锵有力 掷地有声
C. 抑扬顿挫 铿锵有力 D. 掷地有声 气壮山河

8. ①迄今所有的探索和研究表明，我们赖以_____、繁衍的地球，才是人类最好的天堂和最舒适的伊甸园，我们必须珍惜、爱护她。

②“低碳生活”是个新概念，提出的却是世界可持续发展的问题，它_____了人类因气候变化而对未来产生的担忧。

③中国传统节日_____着丰富的文化内涵，是弘扬中华民族精神的重要文化载体，传承传统节日文化有利于增强民族凝聚力。

④一个省的文化系统_____能肩负起继承当地文化传统的使命，那么这个省的文化底蕴_____得到保持，而不至于中断和流失。

A. 栖息 反应 蕴藏 假如/就会
B. 生存 反应 包含 只要/就能
C. 生息 反映 蕴含 如果/就会
D. 存在 反映 蕴含 只有/才能

9. 强硬的紧缩政策和严重的失业问题，导致意大利社会不满情绪日益_____。就在莱塔内阁在总统府宣誓就职时，总理府外上演了一起因对政府不满而引发的枪击案。作为欧元区第三大经济体，意大利若因政治局势不稳而_____债务危机再度恶化，将给欧元区乃至整个欧盟带来沉重打击。

依次填入划横线部分最恰当的一项是（ ）。

A. 累积 导致 B. 增加 造成
C. 集聚 致使 D. 高涨 促进

10. 拉丁美洲曾深受西方殖民主义之害，这形成了拉美人民在苦难中反思和抗争的传统，并铸就了_____的精神，正是这种精神气质使拉美电影在世界影坛_____。

依次填入划横线部分最恰当的一项是（ ）。

A. 百折不挠 独树一帜

B. 坚韧不拔 长盛不衰

C. 矢志不渝 别具一格

D. 奋发图强 独具匠心

11. 在多元化语境下，出现_____的情感价值取向实属正常现象，我们充分尊重个人的情感选择。但是，过度_____情感的极端自由、极端物欲，其实会给个人的幸福带来许多内伤。

依次填入划横线部分最恰当的一项是（ ）。

A. 林林总总 鼓吹 B. 琳琅满目 渲染 C. 纷繁芜杂 追逐 D. 标新立异 强调

12. 龙马负图、神龟载书，远古时代河图洛书的传说，数千年来被认为是中华传统文化的源头。河图出于河南洛阳市的孟津县，人们对它已是_____，而洛书出于何处，一直_____，没有定论。

依次填入划横线部分最恰当的一项是（ ）。

A. 无可厚非 莫衷一是

B. 了然于胸 疑窦重重

C. 如数家珍 扑朔迷离

D. 妇孺皆知 影影绰绰

13. ①以此来看，种植一些价廉物美的乡土草木，更易于达到上述效果，更能满足适地、适物以及“好种、好管、好活、好看”的绿化需求

②绿化具有生态、经济和社会三种效益

③所以在城市绿化上选择这些乡土草木资源，更能体现自己的品牌和地方特色，有助于营造有特色的园林城市风格

④城市绿化是以栽种植物来改善城市环境的活动

⑤乡土草木资源是长期自然选择的结果，不仅能适应本地的生态环境，而且不需要特别的投入

⑥同时，各个城市都有不同的市情，有的城市还有自己的市花、市树

将以上6个句子重新排列，语序正确的是（ ）。

A. ④②①⑤⑥③

B. ④③⑤①⑥②

C. ②①④⑤③⑥

D. ②⑤⑥③①④

14. ①内圣外王：中国古代伦理思想中的一种理想人格

②其具体内容随学派而异

③语出《庄子·天下》篇

④意为内修圣人之德，外施王者之政或外务社会事功

⑤成为中国历代士人与知识分子人生追求的理想目标

⑥以儒家内圣外王为主要的理想人格，对中国社会的政治、伦理、哲学、文化产生深远影响

将以上6个句子重新排列，语序正确的是（ ）。

A. ①④③②⑥⑤

B. ①②④③⑥⑤

C. ①②③④⑤⑥

D. ①④②③⑤⑥

15. 词典中对图书馆的解释是：图书馆是收集、整理、收藏图书资料供人阅览、参考的机构，图书馆有保存人类文化遗产、开发信息资源，参与社会教育等职能。而其中，收集书籍、供人阅览、参考，从而传播文化，应当是重点，这是为世人所共同认知的。但是，站在不同的角度，也有人对图书馆的功能提出了质疑。某著名古书收藏家在一本书中写道：“被图书馆收购的古典书籍，被贴上标签后，就此收藏在箱底，不见天日，鲜有机会在一般人面前露面。图书馆可以说是书籍的黑洞。”

对图书馆是“书籍的黑洞”现象认知最准确的是（ ）。

A. 针对古籍藏书珍存善本，切中图书馆的各种弊端

- B. 古典书籍非常珍贵，图书馆精心收藏本无可厚非
- C. 图书馆不仅要保存人类遗产，更要传播文化
- D. 图书馆保存的古典书籍难以得到一般读者的阅读

16. 从上世纪90年代初始，上海的幼儿园、中小学规定学生在校期间不准说上海话。在学习语言的最佳阶段，孩子们不能在交际中学会上海话，不能养成说上海话的习惯，自然不会关注说唱上海话的沪剧了。沪剧吸引不了观众，也就失去了从业人员的后继。业内人员趋于老化，而有才华的人才不愿进来受苦。好剧本难觅，好演员难觅，好编曲难觅……于是，以往一年中出现十几个新戏、一台戏中出现好几个新人的沪剧文化生态，再无踪影。

对上面语段的主要意思概括最准确的是（ ）。

- A. 揭示了沪语不被重视的“后遗症”
- B. 分析了沪剧创演人才和观众消减的原因
- C. 表达了沪剧舞台后继无人的感慨
- D. 回顾了沪剧文化生态每况愈下的历史

17. 在诚实做研究的前提下，对具体实验结果的分析，理解有偏差甚至错误是很常见的，这是科学发展的正常过程。可以说，许多学术论文的分析，结论和讨论者存在不同程度的误区或偏差，这种学术问题的争论往往是科学发展的重要动力之一，越是前沿的科学研究，越容易出现错误理解和错误的结论。

这段文字主要说的是（ ）。

- A. 诚实研究的根本是尊重原始实验数据的真实性
- B. 基于诚实所做的科学研究出现差错是可以理解的
- C. 实验研究不能轻率得出结论，应反复验证
- D. 研究结论的推断和不断修正是科学发展的动力

18. 在这位演员死后的几周内，很多关于精神疾病和抑郁症的讨论纷纷见诸报端，包括演员自杀的各种猜测也走进了人们的视野。继而，舆论开始转向了对精神疾病和治疗进展的讨论，是的，社会确实需要鼓励开展这种话题的讨论，然而，有多少讨论是聚焦抑郁症患者每天必须面对的精神困扰？似乎更多的讨论集中在精神疾病的悲剧结局上，而不是及时进行干预，似乎抑郁症患者的死亡比他们的生命更容易引起讨论，这种状况亟需改变。

下列说法不符合文意的是（ ）。

- A. 抑郁症患者的精神状况更值得关注
- B. 对抑郁症患者的精神困扰讨论不够
- C. 舆论应减少对精神疾病话题的讨论
- D. 舆论过度关注精神疾病患者的自杀原因

19. 财产安全一直是人们忧虑的一个问题，如果人们无法保障其个人财产的安全，就不可能有积极性去创造财富，即使创造财富，也会转移。个人财产的安全，既体现在保有环节，也体现在交易环节。为避免交易风险，需要通过国家机关的登记行为来确认其物权状态，从而保障其真实性。登记行为本身是以国家信用作担保的，而国家信用的背后又是法律信用。

这段文字的关键词是（ ）。

- A. 交易风险，物权登记
- B. 财产安全，交易环节
- C. 财产安全，物权登记
- D. 物权登记，法律信用

20. 儒道互补是中国士阶层的文化传统。从积极意义上讲，士阶层中的优秀分子秉持了儒家忧天

下、哀民生的社会责任心，也涵养了道家亲自然、轻功利的超脱情怀；从消极意义上讲，士阶层中的平庸之辈以儒家为做官的敲门砖，以道家为归隐的安慰剂，不论是何种情形，中国士人的内心都是纠结的。在皇权至上的专制体制下，即使是优秀分子，其社会责任心也被限制在忠君意识的范围内，其超脱情怀也往往成为仕途失意时的自我安慰。

这段文字主要说明了（ ）。

- A. 儒道思想是中国知识分子的立身之本
- B. 中国知识分子秉承了儒道两家之所长
- C. 中国知识分子长期受儒道思想的影响
- D. 皇权体制造就了儒道互补的士人传统

21. 在中国，中秋节是仅次于春节的重要节日，这是因为人们在农耕文化发展过程中，认识到节日的重要性，故很早就有春天祭日、秋天祭月的习俗。古人发现“月到中秋分外明”，所以在公元1世纪后又从祭月、拜月发展到赏月，但未固定在哪一天。8世纪中秋节成型，八月十五在秋季正中，故称中秋。此时正是桂花飘香之际，人们面对人间桂，联想月中桂，于是在赏月、拜月之外又添了赏桂的习俗。最迟在9世纪，吃月饼的中秋习俗已经出现。

这段文字意在说明（ ）。

- A. 中秋节形成过程
- B. 古人重视中秋节的原因
- C. 中秋节有哪些习俗
- D. 农耕文化对中秋习俗的影响

22. 近来虽然有降雨，但气温并没降多少，不少人仍依赖空调过日子，而干眼症也“趁机上位”，让不少年轻人眼睛干涩刺痛。记者近日从多家医院了解到，前来就诊的干眼症患者比以往增多，主要集中在上班族和青少年。专家介绍，干眼症本是中老年疾病，年轻患者增多与电子产品的大量使用以及用眼过度有关。看电脑或电视屏幕，眨眼次数减少，眼睛得不到滋润就易引发干眼症。长时间使用空调、空气干燥也是诱因之一。

从上述文字可知，下列有关“干眼症”的叙述错误的是（ ）。

- A. 眨眼次数减少也容易引起干眼症
- B. 使用空调是引起干眼症的诱因之一
- C. 年轻人不会得干眼症
- D. 大量使用电子产品容易引起干眼症

23. 读《九义》，就是在听一个特别能贫的十几岁小女子在耍贫嘴，又或者是在听单口相声，一不小心就笑得肚子抽筋、口吐白沫。——事实上当下北京作家群中，大都有这种“贫”的本事，如时下风靡的冯唐。而《九义》之可喜，在于作者顾异没有硬往这个“贫”里面塞进一些东西，她只是尽情地展现着自己的小心思、小欢喜、小理想、小纯情、小期待，就像是对镜开屏的孔雀，一心一意地绽放着自己的光彩，并且只给自己看。

作者被《九义》深深吸引主要源于（ ）。

- A. 这部小说语言的幽默性
- B. 这部小说内涵的丰富性
- C. 这部小说内容的纯粹性
- D. 这部小说情节的生动性

24. 机械损伤、化学物质的腐蚀或人体本身自有的基因缺陷等因素可能会造成牙釉质永久性的缺损和牙齿内部结构的损伤，严重时还会造成牙齿缺失。目前修复牙齿的方法主要是利用非生物材料或人造的填充物修补牙齿，以及直接将种植义齿插入上下颌骨以替代缺少的牙齿，但这些方法都容易使口腔产生异物感，并且由于人体自身的主要组织相容性等原因，可能会引起免疫排斥。随着干细胞生物学、发育生物学和组织工程学的迅猛发展，学者们开始从器官发育的角度出发，根据目前已知的与牙齿发育相

关的分子机制，探索将干细胞技术与组织工程技术相结合应用于牙齿的修复和再生研究。

近年来，干细胞治疗的研究成果为牙齿的修复和再生研究奠定了有力的理论基础。根据牙齿的发育特征，牙齿再生需要牙源性的上皮干细胞和牙源性的间充质干细胞。目前研究表明，牙源性的间充质干细胞可应用于牙齿再生，例如牙髓干细胞和牙周韧带干细胞。但是，牙源性上皮干细胞仅存在于胚胎期，萌发后的牙齿并不含有牙源性上皮干细胞，因此学者们开始探索将非牙源性干细胞替代牙源性上皮干细胞应用于牙齿再生研究。

根据上述文段，以下选项中正确的是（ ）。

A. 目前修复牙齿主要是利用非生物材料或人造填充物，或直接将种植义齿插入上下颌骨以替代缺失的牙齿，因此易使口腔产生异物感，从而引起免疫排斥

B. 学者们从器官发育的角度进行的探索，将干细胞技术与组织工程技术相结合应用于牙齿的修复和再生的研究随着干细胞生物学、发育生物学和组织工程学的迅猛发展而取得成果

C. 研究已经表明，牙源性的间充质干细胞例如牙髓干细胞和牙周韧带干细胞可应用于牙齿再生，但根据牙齿的发育特征，牙齿再生还需要牙源性的上皮干细胞

D. 牙齿再生所需要的牙源性上皮干细胞因为在萌发后的牙齿中并不含有，所以学者们使用非牙源性干细胞替代牙源性上皮干细胞应用于牙齿再生

25. 南海仲裁案仲裁结果否定了中国在南海的主权。为此，全体中国人都为这一非法裁定感到愤慨，这个仲裁结果比之前很多人预测的更加极端、无耻，堪称是人们可以想象的“最坏版本”。这是对中国领土主权和海洋权益的悍然否决。仲裁庭通过对这些争端的再定义，对中菲领土和海洋划界争端强行裁决，这是无耻的越权和滥权。中国政府和中国人民都决不可能接受这一仲裁结果，我们对仲裁“不接受、不参与”的态度坚定不移，谁都休想撼动我们。

这段文字意在表明（ ）。

A. 仲裁结果就是废纸一张，中国人民必须支持政府予以针锋相对的回击

B. 对仲裁“不接受、不参与”的态度坚定不移

C. 中国人都为这一非法裁定感到愤慨

D. 仲裁结果是对海洋法公约以及整个国际法体系的粗暴践踏

二、数量关系

26. 61, 60, 40, 41, 23, ()

A. 22

B. 24

C. 26

D. 28

27. -2.1, -1.3, (), 7.7, (), 23.11

A. 2.5、14.9

B. 5.7、15.9

C. 4.5、11.7

D. 3.5、15.9

28. -23, -3, 20, 44, 72, 105, 147, ()

A. 203

B. 218

C. 275

D. 296

29. 3, 19, 43, 79, 133, ()

A. 169

B. 205

C. 214

D. 229

30. $\frac{5}{3}$, $(\frac{4}{3})^2$, $(\frac{11}{9})^3$, $(\frac{7}{6})^4$, ()

A.

$(\frac{17}{15})^5$

B.

$(\frac{8}{7})^5$

C.

$(\frac{15}{13})^5$

D.

$(\frac{11}{6})^5$

31. 2, 1, 5, 8, 43, 347, ()

A. 14227

B. 14921

C. 14924

D. 14950

32. $\frac{3}{2}$, $\frac{8}{5}$, $\frac{21}{13}$, (), $\frac{144}{89}$

A.

$\frac{16}{28}$

B.

$\frac{56}{39}$

C.

$\frac{21}{35}$

D.

$\frac{55}{34}$

33. (多选题) 100, 98, 98, 100, 104, (), ()

A. 108

B. 110

C. 116

D. 118

34. 4, 8, 20, 60, 210, ()

A. 390

B. 840

C. 890

D. 1024

35. 82, 73, 64, 54, 44, 33, 22, (), -2

A. 10

B. 11

C. 12

D. 13

36. 搬运工负重徒步上楼，刚开始保持匀速，用了30秒爬了两层楼（中间不休息），之后每多爬一层多花5秒，多休息10秒，那么他爬到七楼一共用了多少秒？ ()

A. 220

B. 240

C. 180

D. 200

37. “天星号”和“沧云号”两艘客船往返于甲、乙两地运送旅客。上午10点，“天星号”和“沧云号”以相同速度分别从甲、乙两地相向开出。“天星号”从甲地出发时有一个救生圈掉进水里，救生圈随水流向乙地漂去。下午14点，“天星号”与救生圈相距80千米。晚上20点，“沧云号”与救生圈首次相遇。则甲、乙两地相距 () 千米。

A. 200

B. 320

C. 400

D. 800

38. 老张购进一批商品，共20件。销售时，每件合格的商品可以赚50元，不合格的商品一件亏损20

元。他卖出的这20件商品中有几件是不合格的，那么卖出这批商品可能赚（ ）。

- A. 690元 B. 720元 C. 780元 D. 850元

39. 小王与父亲属相相同，小王的母亲比他父亲小4岁，某个蛇年小王的母亲年龄正好是小王的3倍（年龄按阴历年份计算，出生当年算0岁），则小王的属相可能是（ ）。

- A. 蛇 B. 马 C. 羊 D. 猴

40. 八进制整数数列4, 5, 6, 7, 10, 11, 12, 13……的第13项是（ ）。

- A. 17 B. 18 C. 20 D. 21

41. 某乡镇举行运动会，共有长跑、跳远和短跑三个项目。参加长跑的有49人，参加跳远的有36人，参加短跑的有28人，只参加其中两个项目的有13人，参加全部项目的有9人。那么参加该次运动会的总人数为（ ）。

- A. 75 B. 82 C. 88 D. 95

42. 把一个正方形的四个角分别切除一个等腰三角形，剩下一个长宽不等的矩形。若被切除部分的总面积为400平方厘米，且切除的三角形的直角边的长度均为整数，则所剩矩形的面积为（ ）平方厘米。

- A. 320
B. 336
C. 360
D. 384
E. 400
F. 420
G. 441
H. 464

43. 甲、乙两个圆柱体容器的底面积之比为2:3，容器中的水深分别为10厘米和5厘米。现将甲容器中的水倒一半在乙容器中，则此时两个容器中的水深之比为（ ）。

- A. 2:3 B. 3:4 C. 2:5 D. 3:5

44. 一次校友聚会共有50人参加，在参加聚会的同学中，每个男生认识的女生的人数各不相同，而且恰好构成一串连续的自然数。已知认识女生最少的一个男生认识15名女生，并有一名男生认识所有的女生，则参加这次聚会的男生一共有（ ）。

- A. 16名 B. 17名 C. 18名 D. 19名

45. 某航空公司所有机票一律七折，在此基础上，教师可以再享受八折优惠，学生可以再享受六折优惠。学生小丁与父亲和当老师的妈妈用2520元购得机票三张一起外出旅游，则小丁一家所购机票原价为每张（ ）元。

- A. 800 B. 1000 C. 1250 D. 1500

46. 将2万本书籍分给某希望小学9个班的学生。在9个班中，其中1个班有学生32人，其余8个班人数相同且在40到50人之间。如每名同学分到的书本数相同，问每人分到了多少本书？（ ）

- A. 40 B. 50 C. 60 D. 80

47. 从2000到6000的自然数中, 不含数字5的自然数有()。

- A. 2188个 B. 2187个 C. 1814个 D. 1813个

48. 一艘客船往返于甲、乙两个沿海城市之间, 由甲市到乙市是顺水航行, 由乙市到甲市是逆水航行。已知船在静水中的速度是每小时25海里。由甲市到乙市用了8小时, 由乙市到甲市所用的时间是由甲市到乙市所用时间的1.5倍, 则甲、乙两个城市相距多少海里? ()

- A. 240 B. 260 C. 270 D. 280

49. 某三年制普通初中连续六年在校生人数为 X_1 、 X_2 、 X_3 、 X_4 、 X_5 、 X_6 , 假设该校所有学生都能顺利毕业, 那么前三年的入学学生总数与后三年的入学学生总数之差为()。

- A. $(X_1+X_2+X_3) - (X_4+X_5+X_6)$ B. X_1-X_4 C. X_3-X_6 D. $(X_3-X_1) - (X_6-X_4)$

50. 某班有70%的学生喜欢打羽毛球, 75%的学生喜欢打乒乓球, 问喜欢打乒乓球的学生中至少有百分之几喜欢打羽毛球? ()

- A. 30% B. 45% C. 60% D. 70%

三、判断推理

51. 麻雀：动物：生物链

- A. 豆浆：早餐：豆制品 B. 开水：纸杯：便利品
C. 发卡：首饰：装扮品 D. 钢笔：电脑：办公品

52. 失之毫厘：谬以千里

- A. 三十六计：走为上计 B. 招之即来：挥之即去
C. 种瓜得瓜：种豆得豆 D. 前人栽树：后人乘凉

53. 近视：眼镜

- A. 聋哑：手语 B. 中风：针灸 C. 癌症：化疗 D. 失明：墨镜

54. 空气：空调：冷气

- A. 信号：电视：图像 B. 食材：烹饪：美食 C. 面粉：烤箱：面包 D. 石油：提炼：汽油

55. 财政局 之于 () 相当于 税务局 之于 ()

- A. 拨款 收税 B. 机关 政府 C. 职员 局长 D. 预算 服务

56. 麦芽：啤酒

- A. 白菜：酸菜 B. 毛线：羊毛 C. 煤炭：植物 D. 酶：催化剂

57. 健身：器械：形体

- A. 阅兵：坦克：广场 B. 教育：书本：知识 C. 勘探：矿产：石油 D. 导航：汽车：卫星

58. 湖水：荡漾

- A. 春雨：连绵 B. 水草：小溪 C. 蝴蝶：花丛 D. 闪耀：群星

59. 一天, 某老年服务中心管理人员给老年人安排活动: 上午, 在服务中心养老的男性老年人练习太极, 女性老年人参加合唱练习; 午休后, 体力较弱的老年人安排室内活动, 体力较强的老年人在室外活动。

由此可以推出的是()。

- A. 在该中心养老的张婆婆午休后在室内活动
- B. 并非在该中心养老的男性老年人上午都练习太极
- C. 在该中心养老的男性老年人午休后不都在室外活动
- D. 有部分在该中心养老的老年人可能不参加任何活动

60. 伦敦某研究团队使用结构性磁共振成像技术，对18名16岁至21岁的吸烟青少年和此年龄段24名不吸烟的青少年的大脑进行了检测。结果发现，吸烟者的右脑岛比非吸烟者右脑岛体积要小。脑岛周围被大脑皮层包裹，与大脑的记忆、意识和语言功能区彼此相连。研究者认为，吸烟改变了大脑发育过程，这一改变将对青少年产生终身影响。

下列哪项最能质疑研究者的结论？（ ）

- A. 右侧脑岛有大量尼古丁感受体，脑岛受到破坏后，烟瘾会戒除
- B. 吸烟的青少年其大脑发育明显受到激素水平的影响
- C. 先天右脑岛体积小的人，更容易对吸烟产生兴趣并导致依赖
- D. 青少年因好奇而吸烟，随着年龄增长会逐渐失去对烟草的兴趣

61. 在一项社会调查中，调查者通过电话问大约1000名调查者家庭人数的问题。结果显示，被调查者的年龄越小，越不愿回答这样的问题。这说明，年龄越大的人比年龄较小的人更愿意告诉别人自己的家庭成员人数。

以下如果哪项为真，最能削弱上面的观点？（ ）

- A. 黎东不是被调查者，他在其他场合表示，不愿告诉别人自己目前的家庭成员人数
- B. 李木林是被调查者，愿意告诉别人自己目前的家庭成员人数
- C. 老胡是被调查者，愿意告诉别人自己目前的家庭成员人数，并在其他场合表示，自己年轻时不愿告诉别人自己的家庭成员人数
- D. 小李是被调查者，不愿告诉别人自己目前的家庭成员人数，并在其他场合表示，自己的这种意愿不会随着年龄而改变

62. 在期货市场上，大豆可以在收获前就“出售”。如果预测歉收，大豆价格就会上升；如果预测丰收，大豆价格就下跌。目前农作物正面临严重干旱。今晨气象学家预测，一场足以解除旱情的大面积降雨将在傍晚开始。因此，近期期货市场上的大豆价格会大幅度下跌。

以下选项为真，最能削弱上述论证的是（ ）。

- A. 气象学家气候预测的准确性并不稳定
- B. 气象学家同时提醒做好防涝准备，防备这场大面积降雨延续过长
- C. 农业学家预测，一种严重的鼠害将在大豆的成熟期出现
- D. 和期货市场上的某些商品相比，大豆价格的波动幅度较小

63. 统计数据表明，最近几年来，M大学的师生从校图书馆外借出的书籍数量逐年递减，不过由此还不能得出M大学图书馆藏书的利用率在逐渐递减的结论。

以下（ ）项如果为真，最能加强上述推论。

- A. 图书馆藏书的利用率其实很难统计
- B. 虽然M大学图书馆的图书外借量在逐年递减，但统计数据表明，刷卡进入图书馆的师生人数却在

逐年递增

C. 不仅图书的外借量，而且M大学举办的讲座数量也在逐年下降

D. 最近几年，M大学的师生通过互联网借阅校图书馆的电子书数量每年都有较大幅度的增长

64. 有调查显示，那些作息时间不同的夫妻，虽然每天相处的时间较少，但他们发生争吵的次数比作息时间基本相同的夫妻更多。因此，为了建立良好的夫妻关系，夫妻之间应当尽量有相同的作息时间。

最能削弱上述论点的一项是（ ）。

A. 夫妻产生矛盾后，往往以作息时间不同来表现不满

B. 具有同事关系的夫妻更容易在工作上产生矛盾

C. 作息时间不同的夫妻更容易产生矛盾

D. 生活习惯不同是夫妻产生矛盾的主要原因

65. 科学家对近140名比利时阿尔茨海默氏症患者进行了跟踪调查，其中半数受试者会说两种语言。结果显示，只说一种语言的患者平均在71岁首次出现阿尔茨海默氏症症状，双语人群则是76岁。

根据上述材料，可以推出（ ）。

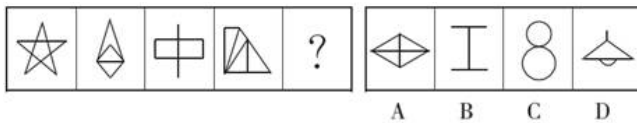
A. 掌握两门语言可以延缓认知的老化

B. 不掌握两门语言就不能延缓老年痴呆

C. 只有学习外语才可以防治老年痴呆

D. 长期使用两种语言能防止大脑退化

66. 从所给的四个选项中，选择最合适的一个填入问号处，使之呈现一定的规律性。



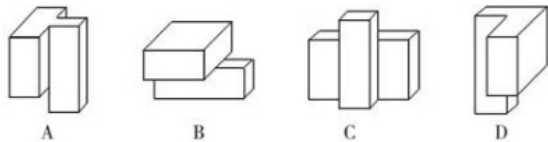
A. A

B. B

C. C

D. D

67. 以下4个立体图形，哪一个与另外3个不同？（ ）



A. A

B. B

C. C

D. D

68. 从所给的四个选项中，选择最合适的一个填入问号处，使之呈现一定的规律性。



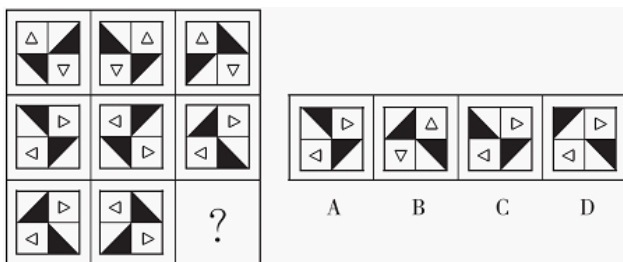
A. A

B. B

C. C

D. D

69. 从所给的四个选项中，选择最合适的一个填入问号处，使之呈现一定的规律性。



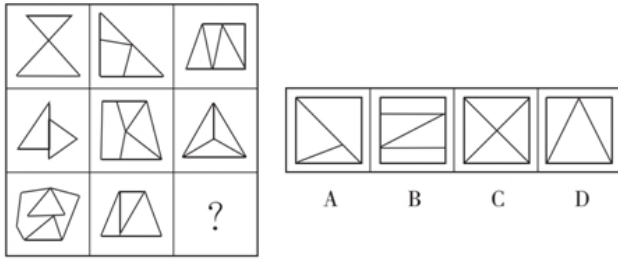
A. A

B. B

C. C

D. D

70. 从所给的四个选项中，选择最合适的一个填入问号处，使之呈现一定的规律性。



A. A

B. B

C. C

D. D

四、常识判断

71. 以下各项按时间先后顺序排列正确的是（ ）。

- A. 秦朝——南朝——北朝——唐朝
- B. 三叠纪——泥盆纪——侏罗纪——白垩纪
- C. 法国大革命——美国南北战争——辛亥革命——五四青年运动
- D. 《论语》——《百年孤独》——《三国志》——《战争与和平》

72. 下列不属于开始于两汉时期政治经济制度的是（ ）。

- A. 刺史制
- B. 察举制
- C. 一条鞭法
- D. 编户齐民

73. 2015年五一国际劳动节是星期五，甲工厂因生产需要安排5月1日至3日加班，那么该工厂下列向员工支付加班费的计算方式中，正确的是（ ）。

- A. 1号至3号的加班费按工资的150%计算
- B. 1号至3号的加班费按工资的200%计算
- C. 1号的加班费按工资的200%计算，2号至3号的加班费按工资的150%计算
- D. 1号的加班费按工资的300%计算，2号至3号的加班费按工资的200%计算

74. 中关村国家自主创新示范区是我国第一个国家自主创新示范区。下列有关中关村国家自主创新示范区的表述，正确的有（ ）。

- A. 中关村国家自主创新示范区的目标是成为具有全球影响力的科技创新中心
- B. 中关村国家自主创新示范区起源于二十世纪八十年代初的“中关村电子一条街”
- C. 十二五期间，中关村国家自主创新示范区将重点建设“两城两带”，两城即中关村科学城、未来科技城
- D. 中关村国家自主创新示范区目前“一区多园”的空间格局包括海淀园、丰台园、昌平园、亦庄园、顺义园等十个园区

75. 冰冻的肉类在水中比在同温度的空气中解冻得快，这是因为（ ）。

- A. 水的热容量比空气大
- B. 水的密度比空气大
- C. 水和冰的化学成分完全相同
- D. 水的热传递性比空气好

76. 京剧脸谱采用不同色彩来表现人物的不同性格特点，其中白脸用来表现（ ）。

- A. 忠勇侠义
- B. 刚烈正直
- C. 粗豪暴躁
- D. 阴险奸诈

77. 在我国当前的国民经济中居于基础地位的产业是（ ）。

- A. 农业 B. 金融业 C. 信息产业 D. 制造业

78. 苏州历史悠久，风景秀美。下列诗句与苏州有关的是（ ）。

- A. 商女不知亡国恨，隔江犹唱后庭花 B. 孤帆远影碧空尽，唯见长江天际流
C. 欲把西湖比西子，浓妆淡抹总相宜 D. 姑苏城外寒山寺，夜半钟声到客船

79. 下列说法中，错误的是（ ）。

- A. 按照干支纪年法，2013年为癸巳年 B. 唐玄奘取经回到长安后，创立了佛教净土宗
C. “黄老之术”中的“黄”是指黄帝 D. “三教九流”中的“三教”通常是指儒、释、道

80. 明清两代每三年在京城举行一次考试，参加考试的是各省举人及国子监监生。这一考试是（ ）。

- A. 会试 B. 乡试 C. 殿试 D. 院试

81. 中国神话中，龙生九子，九子各有不同。比如，喜欢饮食，立于顶盖的是饕餮；喜欢负重，立于碑下的是赑屃；嗜杀喜斗，刻镂于刀环、剑柄等兵器之上的是（ ）。

- A. 睚眦 B. 狻猊 C. 狴犴 D. 貔貅

82. 下列画家和其代表作对应正确的是（ ）。

- A. 吴道子——《洛神赋图》 B. 张择端——《游春图》
C. 徐悲鸿——《五牛图》 D. 阎立本——《步辇图》

83. 物联网中物体通过信息传感设备，与互联网相连接，进行信息交换和通信。下列不具备信息传感功能的设备是（ ）。

- A. 激光扫描器 B. 红外感应器 C. 普通数码相机 D. 射频标签

84. 下列战役与成语典故对应不正确的是（ ）。

- A. 长平之战——纸上谈兵 B. 巨鹿之战——破釜沉舟
C. 赤壁之战——投鞭断流 D. 淝水之战——草木皆兵

85. 有学者认为，先秦时期某学派主张积极救世，做事讲求道德；另一学派以其超凡脱俗、清静自然的美感和灵性弥补了前一学派的缺陷。该学者评述的两个学派分别是（ ）。

- A. 儒家、道家 B. 法家、墨家 C. 法家、儒家 D. 儒家、墨家

五、资料分析

2012年，全国国内旅游人数29.57亿人次，比上年增长12.0%。其中，城镇居民19.33亿人次。2012年，全国国内旅游收入22706.22亿元人民币，比上年增长17.6%。2012年全国入境外国游客人数比上年增长0.3%，其中，亚洲市场入境人数1664.88万人次，与上年基本持平，占入境外国游客人数的61.2%；欧洲市场入境人数593.16万人次，增长0.2%；美洲市场入境人数317.95万人次，减少0.7%；大洋洲市场入境人数91.49万人次，增长6.5%；非洲市场入境人数52.49万人次，增长7.4%。

2012年主要客源国入境旅游情况

国 家	入境旅游人数 (万人次)	与上年比较 (%)
美 国	211.81	0.1
日 本	351.82	-3.8
俄罗斯	242.62	-4.3
韩 国	406.99	-2.8
英 国	61.84	3.8
德 国	65.96	3.5
马来西亚	123.55	-0.8
越 南	113.72	13.0
澳大利亚	77.43	6.6
蒙 古	101.05	1.6
菲律宾	96.20	7.6
新加坡	102.77	-3.3
加拿大	70.83	-5.3
意大利	25.20	7.2
印 尼	62.20	2.2
哈萨克斯坦	49.14	-2.9
緬 甸	20.59	7.8
泰 国	64.76	6.5
印 度	61.02	0.6
法 国	52.48	6.4

86. 2011年，全国国内的旅游收入约为（ ）。

- A. 15247.11亿元人民币
B. 17354.03亿元人民币
C. 18642.37亿元人民币
D. 19308.01亿元人民币

87. 2012年，农村居民国内旅游人数占全国国内旅游人数的比例约为（ ）。

- A. 30.53% B. 32.43% C. 34.63% D. 38.83%

88. 2012年，欧洲各国入境游客量占欧洲入境游客总量比例超过11%的国家有（ ）。

- A. 1个 B. 2个 C. 3个 D. 4个

89. 2011年，除美国、加拿大以外的美洲国家游客入境旅游人数约为（ ）。

- A. 13.8万人次 B. 23.8万人次 C. 33.8万人次 D. 43.8万人次

90. 根据上述资料，不能推出的是（ ）。

- A. 2012年，韩国为我国第一大入境客源国
B. 2012年，在20个主要客源国中，六成来自亚洲
C. 2012年，非洲市场入境游客量占入境外国游客总量的2%
D. 2012年，越南是入境旅游人数增长最快的客源国

2014年1~11月我国货物运输情况

	11月	同比增速(%)	1~11月	同比增速(%)
货物运输总量(亿吨)	39.3	7.1	393.2	7.3
其中：铁路(亿吨)	3.2	-6.5	35.0	-3.2
公路(亿吨)	30.7	8.6	303.6	8.8
水运(亿吨)	5.4	7.6	54.5	6.8
民航(万吨)	55.5	3.4	538.0	5.7
货物周转总量(亿吨公里)	16409.2	8.6	164873.0	10.1
其中：铁路(亿吨公里)	2354.4	-6.4	25200.7	-5.2
公路(亿吨公里)	5833.0	10.4	55448.0	9.8
水运(亿吨公里)	8204.1	12.5	84056.0	16.0
民航(亿吨公里)	17.6	8.5	168.7	8.8

91. 2014年1~10月我国货物运输总量为多少亿吨？（ ）

A. 340.2 B. 353.9 C. 366.5 D. 393.2

92. 2013年1~10月我国货物运输总量最大的领域是（ ）。

A. 水运 B. 民航 C. 铁路 D. 公路

93. 2013年11月我国货物周转总量中，水运周转量占比在以下哪个范围之内？（ ）

A. 低于40% B. 40%~50% C. 50%~60% D. 高于60%

94. 哪些运输方式在2014年11月的货物运输量占当月货物运输总量的比重超过上年同期水平？（ ）

A. 仅铁路 B. 仅公路 C. 铁路和民航 D. 公路和水运

95. 关于2014年1~11月我国货物运输状况，能够从上述资料中推出的是（ ）。

- A. 月均货物运输量约为33亿吨
- B. 每吨货物平均运输距离为500多公里
- C. 铁路货运量占总体比重低于其货物周转量占总体比重
- D. 公路货物周转量同比增量高于水运货物周转量同比增量

2014年，上海市全年实现金融业增加值3268.43亿元，比上年增长14%。

全年新增各类金融单位96家。其中，货币金融服务单位37家；资本市场服务单位40家。至年末，全市各类金融单位达到1336家。其中，货币金融服务单位601家；资本市场服务单位292家；保险业单位363家。

至年末，全市中外资金融机构本外币各项存款余额73882.45亿元，比年初增加4612.96亿元；贷款余额47915.81亿元，比年初增加3424.23亿元。

全年通过上海证券市场股票筹资3962.59亿元，比上年增长57.5%；发行公司债2955.2亿元，比上年下降5.6%。至年末，上海证券市场上市证券3758只，比上年增加972只，其中股票1039只，增加42只。

全年金融市场（包括外汇市场）交易总额达到786.66万亿元，比上年增长23.2%。上海证券交易所各类有价证券总成交金额128.15万亿元，增长48.1%，其中，股票成交金额37.72万亿元，增长63.8%。上海期货交易所总成交金额126.47万亿元，增长4.7%。中国金融期货交易所总成交金额164.02万亿元，增长16.3%。银行间市场总成交金额361.51万亿元，增长27.0%。上海黄金交易所总成交金额6.51万亿元，增长24.7%。

96. 2014年，上海市全年新增货币金融服务单位在当年新增的各类金融单位中占（ ）。

A. 两成多 B. 三成多 C. 四成多 D. 五成多

97. 2014年间，上海市中外资金融机构本外币存贷款差（ ）。

A. 增加了1千多亿元 B. 增加了2万多亿元 C. 减少了1千多亿元 D. 减少了2万多亿元

98. 2014年上海市股票成交金额比2013年增加约（ ）万亿元。

A. 10 B. 12 C. 15 D. 18

99. 以下金融市场中，2014年成交金额同比增量最高的是（ ）。

A. 上海证券交易所 B. 中国金融期货交易所 C. 上海黄金交易所 D. 上海期货交易所

100. 能够从上述资料中推出的是（ ）。

A. 2013年全年，上海市实现金融业增加值3000多亿元

- B. 2013年上海市证券交易所各类有价证券总成交额中，股票成交金额占比高于2014年
- C. 2014年末，上海市资本市场服务单位数量不到货币金融服务单位数量的一半
- D. 2014年间，上海市银行间市场月均成交金额超过31万亿元

1

.【答案】D

【解析】本题从第二空入手，文中“毫无愧色”说明“红学”不比其他显学差。“等量齐观”指对有差别的事物同等看待，不符合，排除C项。

“三足鼎立”比喻三方面对立的局势，文中讲的是“红学”和“其他当代的显学”之间的关系，不符合，排除B项。

再看第一空，“严格”和“严肃”都可以形容文学，而“严肃”和前文的“开玩笑”相对应，更符合语境。

故本题选D。

2

.【答案】A

【解析】第一空根据前文的“激烈争论”和后文的“互不相让”，可知“各抒己见”的程度不够，先排除C项。

第二空根据“主人和客人均彬彬有礼……洋溢着自由争论的热烈气氛”，可知“君子和而不同”最符合文意。

故本题选A。

3

.【答案】A

【解析】首先解析四个成语的意思：“旗鼓相当”比喻双方力量不相上下；“求同存异”指找出共同点，保留不同意见；“一脉相连”指某种思想、行为或学说之间有继承关系；“相映成趣”指相互衬托着，显得很有趣味、很有意思。

由前文“上世纪二三十年代，娱乐方式少”以及后文“目前电影能够带来各种感官刺激，评弹就做不到了”，可知当时评弹和电影是不相上下的，A项最合适。

故本题选A。

4

.【答案】A

【解析】直接看第一空，“当机立断”与“风风火火”不符合“提速”的意思，先排除B、C项。再看第二空，“进而”一词引导的词义必然是对前面“忽视”的递进，则“漠视”更符合语境，排除D项。

故本题选A。

5

.【答案】A

【解析】第一空根据后文“尽量少用”可知，并不是完全不让使用，据此可以直接排除“杜

绝”“放弃”和“禁止”；

再看第二空，“发挥功效”为固定搭配。

故本题选A。

6

.【答案】B

【解析】先看第一空，通过分析文段可知粗糙简单的早期汽车明显不能“复制”或者“吸收”手表的机械设计，排除A、D两项。

再看第二空，“关键”填入不符合语义，“佐证”呼应“渊源”，排除C项。

故本题选B。

7

.【答案】B

【解析】先看第一空，“义正辞严”指理由正当充足，措辞严正有力，“抑扬顿挫”形容声音的高低起伏和停顿转折，二者均无法形容“宣誓与承诺”，排除A、C项。

再看第二空，“掷地有声”比喻文章文辞优美，语言铿锵有力，“气壮山河”形容气概豪迈，使祖国山河因而更加壮丽，显然“掷地有声”更恰当，排除D项。

验证B项，“铿锵有力”与“掷地有声”正好构成并列，符合语义。

故本题选B。

8

.【答案】C

【解析】先看第二空，“反应”通常形容有机体受到体内或体外的刺激而引起的相应的活动，“反映”是指把客观事物的实质表现出来，人类因气候变化而对未来产生的担忧体现的是世界可持续发展的问题，“反映”更贴切，排除A、B项。

再看最后两空，“能肩负起继承当地文化传统的使命”与“文化底蕴得到保持，而不至于中断和流失”构成假设复句，而非条件复句，且“如果……那么……”是固定搭配，排除D项。

故本题选C。

9

.【答案】A

【解析】先看第一空，“增加”和“集聚”均无法与“情绪”搭配，排除B、C项。

再看第二空，“促进”指推进、加快，一般是推进事物向好的方向发展，无法与“债务危机再度恶化”搭配，排除D项。

故本题选A。

10

.【答案】A

【解析】第一空根据前文“在苦难中反思和抗争”，可知“百折不挠”和“坚韧不拔”更合适，先排除C、D项。

再看第二空，拉美电影因为独特的精神气质而与众不同，文段强调因果关系，并非简单说明拉美电影的盛行。

故本题选A。

11

.【答案】A

【解析】第一空根据前文“多元化语境”，可知强调多样化，只有“林林总总”最恰当；“纷繁芜杂”更侧重强调多而杂，“琳琅满目”（多指书籍或工艺品）和“标新立异”（多形容主张和见解）明显不恰当，直接排除B、C、D项。

故本题选A。

12

.【答案】B

【解析】先看第一空，D项“妇孺皆知”是主谓式成语，与题干语义重复，先排除；A项“无可厚非”指说话做事虽有缺点，但还有可取之处，应予谅解，不符合语境，亦排除。

再看第二空，“扑朔迷离”形容事情错综复杂，不容易看清真相；“疑窦重重”指有很多让人怀疑之处。后文提到“没有定论”，表明“洛书出于何处”有很多说法，还有可疑之处，并没有强调“真相”，可见“疑窦重重”更符合语境，排除C项。

故本题选B。

13

.【答案】A

【解析】通读6个句子，③“所以”具有总结性质，且提到的“这些乡土草木资源”呼应①的“乡土草木”、⑤的“乡土草木资源”和⑥的“有的城市还有自己的市花、市树”，则③必然在①⑤⑥后，作为总结句，直接锁定A项。

验证A项，引入“城市绿化”的论述话题，再论述如何实现城市绿化的生态、经济和社会三种效益，即选择乡土草木资源，符合语句逻辑关系。

故本题选A。

14

.【答案】A

【解析】通读6个句子，先看②③，②解释“内圣外王”的具体内容要根据学派视之，③指出“内圣外王”的出处，结合逻辑顺序，应先言出处，再谈概念的延伸发展，则③在②前，排除B、C、D三项。

验证A项，符合语句逻辑关系。

故本题选A。

15

.【答案】D

【解析】“书籍的黑洞”出现在文段最后一句，是某古书收藏家的观点，认为很多被图书馆收购的古典书籍被贴上标签后，直接收藏在箱底，鲜少有机会在众人面前出现。由此可知，“书籍的黑洞”指图书馆保存的古典书籍难以得到一般读者的阅读。A项“各种弊端”范围扩大，B项与文段的态度相悖，C项没有提到图书馆的弊端。

故本题选D。

16

.【答案】B

【解析】文段讲沪剧吸引不了观众，失去从业人员的后继是因为上海的幼儿园、中小学规定学生在校期间不准说上海话。“于是”后面是对整个文段内容的总结，即因为沪剧创演人才和观众消减的原因导致现在不容乐观的沪剧文化生态。由此可知，文段主要在分析沪剧创演人才和观众消减的原因。

A项“沪语”不是文段论述的重点；C项以偏概全，文段还涉及观众的减少；D项回顾历史仅出现在文段末处，旨在对比当今沪剧的文化生态。

故本题选B。

17

.【答案】B

【解析】文段为总一分结构，第一句提出文段论述观点，后文以学术论文为例，指出学术论文的分析出现争论往往是科学发展的重要动力。B项是其同义转换。

A项“诚实研究的根本”文段无从体现；C项无中生有；D项偷换概念，文段讲学术问题的争论是科学发展的重要动力，而不是“研究结论的推断和不断修正”。

故本题选B。

18

.【答案】C

【解析】根据“然而，有多少讨论是聚焦抑郁症患者每天必须面对的精神困扰”，可知作者认为对抑郁症患者的精神困扰讨论不够，隐含意思便是“抑郁症患者的精神状况更值得关注”，则A、B项符合文意。根据“是的，社会确实需要鼓励开展这种话题的讨论”，可知C项不符合文意。根据“似乎更多的讨论集中在精神疾病的悲剧结局上”可知D项符合文意。

故本题选C。

19

.【答案】C

【解析】文段一开始便引出“财产安全”的论述主体，先排除A、D项。

再根据后半部分讲述的“需要通过国家机关的登记行为来确认其物权状态”，可知涉及的另一个关键词便是“物权登记”。B项“交易环节”文段没有重点论述。

故本题选C。

20

.【答案】D

【解析】文段首先指出儒道互补是中国士阶层的文化传统，接着从积极和消极两方面对此展开论述，最后指出其实质是皇权至上体制的影响，使得知识分子的社会责任心被限制在忠君意识范围内，超脱情怀便成为仕途失意的自我安慰。D项为其同义转换。A、B、C三项均未提到文段重点“儒道互补”。

故本题选D。

21

. 【答案】C

【解析】文段首先指出中秋节的重要性，接着按照时间顺序讲述中秋节习俗的形成过程，即公元1世纪后的“祭月”“拜月”“赏月”，到8世纪中秋节成型后的“赏桂”，到9世纪出现“吃月饼”的中秋习俗。

显然，文段主要讲述中秋习俗的发展演变情况，C项最恰当。

A项偏离论述重点，文段主要论述中秋节习俗，而不是中秋的形成过程；

B、D两项仅为文段开头部分内容。

故本题选C。

22

. 【答案】C

【解析】A项正确，由“看电脑或电视屏幕，眨眼次数减少，眼睛得不到滋润就易引发干眼症”可得知。

B项正确，由“长时间使用空调、空气干燥也是诱因之一”可得知。

C项错误，“年轻人不会的干眼症”与文段“前来就诊的干眼症患者比以往增多，主要集中在上班族和青少年”不符。

D项正确，由“年轻患者增多与电子产品的大量使用以及用眼过度有关”可得知。

故本题选C。

23

. 【答案】C

【解析】根据文段“而《九义》之可喜，在于作者顾异没有硬往这个‘贫’里面塞进一些东西，她只是尽情地展现着自己的小心思、小欢喜、小理想、小纯情、小期待，就像是对镜头开屏的孔雀，一心一意地绽放着自己的光彩，并且只给自己看”可知，吸引作者的是《九义》内容的纯粹性。

A、B、D三项均无中生有。

故本题选C。

24

. 【答案】C

【解析】A项错误，文段讲这些方法“可能会引起免疫排斥”，并不是必然结果。

B项错误，“取得成果”文段无从体现。

C项正确，由“牙源性的间充质干细胞可应用于牙齿再生，例如骨髓干细胞和牙周韧带干细胞”和“根据牙齿的发育特征，牙齿再生需要牙源性的上皮干细胞和牙源性的间充质干细胞”可得知。

D项错误，“学者们使用非牙源性干细胞……”偷换概念，原文是“学者们开始探索将非牙源性干细胞……”。

故本题选C。

25

. 【答案】B

【解析】文段讲南海仲裁案仲裁结果否定了中国在南海的主权，这引起全体中国人的愤慨，中国政

府和中国人民决不可能接受这一仲裁结果，对仲裁“不接受、不参与”的态度坚定不移。显然，文段的落脚点是中国政府和中国人民对南海仲裁案的应对态度，B项最恰当。

A项“予以针锋相对的回击”文段没有体现；

C项只是中国人民对仲裁结果的态度，无法体现对策；

D项仅是问题表述。

故本题选B。

26

. 【答案】C

【解析】 本题考查多级数列。

第一步：观察数列。数列趋势变化为上下浮动，可优先通过作和分析。

第二步：原数列两两作和得到：121、100、81、64、（49），为幂次数列：11²、10²、9²、8²、（7²）。因此原数列未知项为49-23=26。

故本题选C。

27

. 【答案】A

【解析】 本题考查小数数列。

第一步：观察数列。数列各项均为小数，结合选项可知，整数部分和小数部分均单调递增，中间两项未知，作差规律不足，整数部分与小数部分分开考虑。

第二步：小数部分：1、3、（5）、7、（9）、11，是公差为2的等差数列；整数部分：-2、-1、

（2）、7、（14），后项减前项得到：1、3、5、7，是公差为2的等差数列。因此原数列未知项分别为2.5、14.9。

故本题选A。

28

. 【答案】A

【解析】 原数列后项减前项得到：20、23、24、28、33、42；继续后项减前项得到：3、1、4、5、9、（14）是和数列，因此未知项为14+42+147=203。

故本题选A。

29

. 【答案】C

【解析】 原数列后项减前项得到：16、24、36、54、（81），是公比为 的等比数列。因此原数列未知项为133+81=214。

故本题选C。

30

. 【答案】A

【解析】 原数列指数部分：1、2、3、4、（5），为等差数列。底数部分反约分得到： $\frac{5}{3}$ 、 $\frac{8}{6}$ 、 $\frac{11}{9}$

、 $\frac{14}{12}$ ，其中，分子列：5、8、11、14、(17)，是公差为3的等差数列；分母列：3、6、9、12、

(15)，也是公差为3的等差数列。因此原数列未知项为 $(\frac{17}{15})^5$ 。

故本题选A。

31

. 【答案】C

【解析】 本题考查递推数列。

第一步：观察数列。数列无明显规律，变化趋势较大，考虑递推数列。

第二步：原数列满足如下规律： $a_{n+2}=a_n \times a_{n+1} + 3$ ($n \in \mathbb{N}^+$)，即

$5=2 \times 1 + 3$ ， $8=1 \times 5 + 3$ ， $43=5 \times 8 + 3$ ， $347=8 \times 43 + 3$ 。因此原数列未知项为 $43 \times 347 + 3$ ，尾数为 $3 \times 7 + 3 = 24$ ，只有C项符合。

故本题选C。

32

. 【答案】D

【解析】 本题考查分数数列。

第一步：观察数列。相邻项分数的分子分母之间存在和差关系，考虑交叉规律。

第二步：原数列后项的分母为前项分子与分母之和，则未知项的分母为 $21 + 13 = 34$ ，分子为 $89 - 34 = 55$ 。因此原数列未知项为 $\frac{55}{34}$ 。

故本题选D。

33

. 【答案】B, D

【解析】 本题考查多级数列。

第一步：观察数列。结合选项可知，数列从第三项开始单调递增，前四项差距小，优先考虑作差。

第二步：数列作差。原数列后项减前项得到：-2、0、2、4、(6)、(8)，是公差为2的等差数列。因此原数列第一个未知项为 $104 + 6 = 110$ ，第二个未知项为 $110 + 8 = 118$ 。

故本题选BD。

34

. 【答案】B

【解析】 本题考查多级数列。

第一步：观察数列。相邻数列存在倍数关系，优先考虑作商。

第二步：原数列后项除以前项得到：2、2.5、3、3.5、(4)，是公差为0.5的等差数列。因此原数列未知项为 $210 \times 4 = 840$ 。

故本题选B。

35

. 【答案】A

【解析】本题考查多级数列。

第一步：观察数列。数列无明显规律，考虑作差。

第二步：原数列后项减前项得到：-9、-9、-10、-10、-11、-11、(-12)、(-12)，因此原数列未知项为 $-12+22=10$ ，验证后项， $-12+10=-2$ ，符合规律。

故本题选A。

36

. 【答案】D

【解析】爬到7楼需要爬6次，前两次时间是15+15秒，后4次爬楼时间依次为20、25、30、35秒；另外，再计算休息时间，第3次爬楼结束休息时间为10秒，每次多10秒，则4、5两次结束后需要休息20秒、30秒，而第6次爬楼后已经到达7楼不需要休息。最终将所有时间相加，为200秒。

故本题选D。

37

. 【答案】A

【解析】设两艘客船的速度为 v ，水流速度为 x 。根据题意可知，从甲地到乙地是顺流而行，则可列方程： $4 \times (v+x) - 4x = 80$ ，解得 $v = 20$ 。“沧云号”为逆流而行，则甲、乙两地相距 $10 \times (20 - x) + 10x = 200$ 千米。

故本题选A。

38

. 【答案】B

【解析】本题考查基础应用问题。

第一步：审阅题干。根据题干“合格的商品可以赚50元，不合格的商品一件亏损20元”，可用盈亏法或方程法解题。

第二步：

方法一：盈亏法。20件商品若全部合格，可以赚 $50 \times 20 = 1000$ 元。一件不合格商品亏损20元，即少赚 $50 + 20 = 70$ 元，则1000与实际所赚的差值为70的倍数，代入选项验证。

A项代入，差值为 $1000 - 690 = 310$ ，不能被70整除，排除；

B项代入，差值为 $1000 - 720 = 280$ ，280可被70整除，当选；

C、D项均不符合，排除。

故本题选B。

方法二：方程法。设合格品有 x 件，则不合格的有 $(20 - x)$ 件，实际所赚为 $50x - 20 \times (20 - x) = (70x - 400)$ 元(x 为正整数)。四个选项代入：

A项代入， $70x = 690 + 400 = 1090$ ， x 不为整数，排除；

B项代入， $70x = 720 + 400 = 1120$ ，解得 $x = 16$ ，当选；

C项代入， $70x = 780 + 400 = 1180$ ， x 不为整数，排除；

D项代入， $70x = 850 + 400 = 1250$ ， x 不为整数，排除。

故本题选B。

. 【答案】C

【解析】 本题考查年龄问题。

第一步：审阅题干。小王与父亲“属相相同”，说明两人年龄差为12的倍数。

第二步：

方法一：设某年蛇年小王 a 岁，则小王的母亲为 $3a$ 岁，小王的父亲为 $(3a+4)$ 岁。因小王与父亲属相相同，则两人年龄差是12的倍数，即 $(3a+4)-a=12n$ ($n=1、2、3\cdots$)，解得 $a=6n-2$ 。

当 $n=1$ 时， $a=4$ ，则小王的母亲为 $3\times 4=12$ 岁，不符合实际；

当 $n=2$ 时， $a=10$ ，小王的母亲为 $3\times 10=30$ 岁，符合。 a 为10，即小王在某个蛇年为10岁，则小王的属相可能是羊。

故本题选C。

方法二：代入排除法。

A项代入：若小王属相为蛇，则蛇年小王12岁，小王母亲 $12\times 3=36$ 岁，小王父亲 $36+4=40$ 岁， $40-12=28$ 不是12的倍数，不符合；

B项代入：若小王属相为马，则蛇年小王11岁，小王母亲 $11\times 3=33$ 岁，小王父亲 $33+4=37$ 岁， $37-11=26$ 不是12的倍数，不符合；

C项代入：若小王属相为羊，则蛇年小王10岁，小王母亲 $10\times 3=30$ 岁，小王父亲 $30+4=34$ 岁， $34-10=24$ 是12的倍数，符合。

故本题选C。

. 【答案】C

【解析】 本题考查基础数学。

第一步：审阅题干。本题考查等差数列与进制之间转换的问题，可以先根据十进制计算出数值，再转换成八进制。

第二步：十进制从4开始，连续的第13项为 $4+13-1=16$ ，16转化成八进制为20（枚举为：

4, 5, 6, 7, 10, 11, 12, 13, 14, 15, 16, 17, 20 \cdots ）

故本题选C。

. 【答案】B

【解析】 本题考查三者容斥。

第一步：审阅题干。题干涉及三个项目、每个项目的参加人数以及两个项目和全部项目的参加人数，可知为三者容斥问题。

第二步：根据三者容斥公式可知，参加这次运动会的总人数为 $49+36+28-13-2\times 9=82$ 。

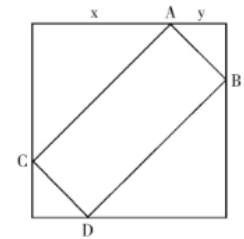
故本题选B。

. 【答案】D

【解析】 本题考查平面几何问题。

第一步：审阅题干。一个正方形四个角被切去一个等腰三角形后，剩下一个矩形，则对角切去的一定是大小相等的等腰三角形，画图辅助理解。

第二步：根据题意，作如下示意图：



被切除部分的总面积为400平方厘米，即 $\frac{1}{2}x^2 \times 2 + \frac{1}{2}y^2 \times 2 = x^2 + y^2 = 400$ （ $x \neq y$ ，且 x 、 y 为正整数），解得 $x=16$ ， $y=12$ 。

因此矩形ABCD的面积为 $\sqrt{2}x \times \sqrt{2}y = 2xy = 2 \times 12 \times 16 = 384$ 平方厘米。

故本题选D。

43

. 【答案】D

【解析】 本题考查立体几何问题。

第一步：审阅题干。本题考查立体几何基础公式，即“圆柱体积=底面积×高”，可通过公式化简解题。

第二步：设甲、乙两个圆柱体的底面积分别为2和3，则甲容器中水的体积为 $2 \times 10 = 20$ ，乙容器中水的体积为 $3 \times 5 = 15$ 。现将甲容器中的水倒一半在乙容器中，则现在甲容器中水的体积为 $20 \div 2 = 10$ ，水深 $10 \div 2 = 5$ ；乙容器中水的体积为 $15 + 10 = 25$ ，水深 $25 \div 3 = \frac{25}{3}$ 。因此此时两个容器中的水深之比为 $5 : \frac{25}{3} = 3 : 5$ 。

故本题选D。

44

. 【答案】C

【解析】 设男生有 x 名，女生有 $(50-x)$ 名。根据题意可知，第一名男生认识15名女生，则最后一名（第 x 名）男生认识 $(15+x-1)$ 名女生，为所有女生数。即 $15+x-1=50-x$ ，解得 $x=18$ 。

故本题选C。

45

. 【答案】D

【解析】 设机票原价为 x 元，根据题意可得，小丁的机票花费 $0.6 \times 0.7x = 0.42x$ 元，父亲的机票花费 $0.7x$ 元，妈妈的机票花费 $0.8 \times 0.7x = 0.56x$ 元，则 $0.42x + 0.7x + 0.56x = 2520$ ，解得 $x=1500$ 。

故本题选D。

46

. 【答案】B

【解析】 假设其余8个班人数均为40人，则9个班共有学生 $40 \times 8 + 32 = 352$ 人，那么每人分到书本有

$20000 \div 352 \approx 56$ 本；假设其余8个班人数均为50人，则9个班共有学生 $50 \times 8 + 32 = 432$ 人，那么每人分到书本有 $20000 \div 432 \approx 46$ 本。因此每人分到的书在46~56本之间，B项符合。

故本题选B。

47

. 【答案】A

【解析】先考虑2000到4999的自然数，千位可填的数字有2、3、4三个，百位、十位和个位上可填数字均为0~9（除去5），均有9个，则共有 $3 \times 9 \times 9 \times 9 = 2187$ 个不含数字5的自然数。5000~6000中只有6000这1个自然数不含数字5。因此，从2000到6000中不含数字5的自然数有 $2187 + 1 = 2188$ 个。

故本题选A。

48

. 【答案】A

【解析】设水流速度为x海里/小时，根据题意可知， $(25+x) \times 8 = (25-x) \times 8 \times 1.5$ ，解得 $x=5$ 。因此，甲、乙相距 $(25+5) \times 8 = 240$ 海里。

故本题选A。

49

. 【答案】C

【解析】初中是三年制，则第一年入学的学生就是第三年的三年级，第二年入学的学生就是第三年的二年级，第三年入学的学生就是第三年的一年级，即第一、二、三年入学的学生分别是第三年的三、二、一年级。因此前三年入学的学生总数就是第三年的在校人数，即 X_3 ；同理，后三年入学的学生总数为 X_6 ，则前三年的入学学生总数与后三年之差为 $X_3 - X_6$ 。

故本题选C。

50

. 【答案】C

【解析】设该班共有100人，则喜欢打羽毛球的有70人，喜欢打乒乓球的有75人。要使喜欢打乒乓球的学生中喜欢打羽毛球的最少，则要使喜欢打乒乓球的学生中不喜欢打羽毛球的最多，即所有不喜欢打羽毛球的人都喜欢打乒乓球，有 $100 - 70 = 30$ 人。此时喜欢打乒乓球的学生中喜欢打羽毛球的人数为 $75 - 30 = 45$ 人。

因此喜欢打乒乓球的学生中至少有 $45 \div 75 = 60\%$ 喜欢打羽毛球。

故本题选C。

51

. 【答案】C

【解析】本题考查种属关系。

第一步：分析题干词语间的关系。麻雀是动物的一种，二者为种属关系，动物是生物链中的一环。

第二步：分析选项，确定答案。

A项：早餐不是豆制品的一环，排除。

B项：开水不是纸杯的一种，排除。

C项：发卡是首饰的一种，首饰是装扮品的一种，均为种属关系，当选。

D项：钢笔不是电脑的一种，排除。

故本题选C。

52

. 【答案】D

【解析】 本题考查因果关系。

第一步：分析题干词语间的关系。因为失之毫厘所以谬之千里，二者存在因果关系。

第二步：分析选项，确定答案。

A项：“走”是三十六计之一，排除。

B项：招之即来和挥之即去二者之间无因果关系，排除。

C项：种瓜得瓜和种豆得豆内部各自存在因果关系，但二者之间无因果关系，排除。

D项：因为前人栽树所以后人乘凉，二者存在因果关系，当选。

故本题选D。

53

. 【答案】A

【解析】 本题考查功能关系。

第一步：分析题干词语间的关系。眼镜可以帮助近视者看清物体，但眼镜不能治疗近视。

第二步：分析选项，确定答案。

A项：手语可以帮助聋哑人交流，但手语不能治疗聋哑，当选。

B项：针灸可以治疗中风，排除。

C项：化疗可以治疗癌症，排除。

D项：墨镜不能帮助失明者看见物体，排除。

故本题选A。

54

. 【答案】A

【解析】 本题考查其他关系。

第一步：分析题干词语间的关系。空调可以将空气转换成冷气，空调是物质转换的中介物质。

第二步：分析选项，确定答案。

A项：电视可以将信号转换成图像，电视是物质转换的中介物质，当选。

B项：烹饪不是食材转变成美食的中介物质，排除。

C项：烤箱将面团烘焙成面包，而不是面粉，排除。

D项：提炼不是石油转变成汽油的中介物质，排除。

故本题选A。

55

. 【答案】A

【解析】 本题考查其他关系。

选项逐一代入。

A项：拨款是财政局的职能；收税是税务局的职能，前后逻辑关系一致，当选。

B项：财政局是一种机关，二者为种属关系；税务局是政府的组成部分，前后逻辑关系不一致，排除。

C项：财政局有职员，税务局有局长，局长也属于职员，但是财政局和税务局是独立部门，前后逻辑关系不一致，排除。

D项：财政局的专属职能之一是做预算；税务局的专属职能不是服务，前后逻辑关系不一致，排除。

故本题选A。

56

. 【答案】A

【解析】本题考查材料关系。

第一步：分析题干词语间的关系。麦芽是制作啤酒的原材料，二者为材料关系。

第二步：分析选项，确定答案。

A项：白菜是制作酸菜的原材料，二者为材料关系，当选。

B项：羊毛是制作毛线的原材料，但词语位置与题干相反，排除。

C项：植物是产生煤炭的原材料，但词语位置与题干相反，排除。

D项：酶属于催化剂，二者为种属关系，排除。

故本题选A。

57

. 【答案】B

【解析】本题考查功能关系。

第一步：分析题干词语间的关系。运用器械进行健身，健身可以塑造形体。

第二步：分析选项，确定答案。

A项：坦克是阅兵的对象之一，广场是阅兵的场所，排除。

B项：运用书本进行教育，教育可以传授知识，当选。

C项：矿产是勘探的对象，石油是矿产的一种，排除。

D项：卫星为汽车提供导航功能，排除。

故本题选B。

58

. 【答案】A

【解析】“湖水荡漾”为主谓结构，A项“春雨连绵”为主谓结构。

B项小溪是水草生长的场所，排除。

C项花丛吸引蝴蝶，排除。

D项“群星闪耀”构成主谓结构，但词语位置与题干相反，排除。

故本题选A。

59

. 【答案】D

【解析】 本题考查结论类。

第一步：审阅题干。题干给出部分信息，问法为“可以推出”型，确认考查结论类。

第二步：分析选项，确定答案。

A项：题干未提及张婆婆在室内还是室外活动，不能推出，排除。

B项：根据“上午在服务中心养老的男性老年人练习太极”不能推出，排除。

C项：题干未提及男性老年人在室内还是室外活动，不能推出，排除。

D项：题干中的活动均是管理人员的安排，有些老年人可能不参加任何活动，可以推出，当选。

故本题选D。

60

. 【答案】C

【解析】 本题考查削弱类。

第一步：分析题干论点论据。

论点：吸烟改变了大脑发育过程，这一改变将对青少年产生终身影响。

论据：吸烟者的右脑岛比非吸烟者右脑岛体积要小，脑岛周围被大脑皮层包裹，与大脑的记忆、意识和语言功能区彼此相连。

第二步：分析选项，确定答案。

A项：右侧脑岛被破坏之后烟瘾会解除，与吸烟是否会改变大脑的发育过程无关，排除。

B项：青少年大脑发育受到激素水平的影响，与吸烟是否会改变大脑的发育过程无关，排除。

C项：先天右脑体积小的人容易产生烟瘾，说明右脑岛体积小发生在吸烟之前，即不是吸烟改变大脑发育，属于因果倒置，最能削弱题干论点，当选。

D项：青少年对烟草的兴趣，与吸烟是否会改变大脑的发育过程无关，排除。

故本题选C。

61

. 【答案】D

【解析】 本题考查削弱类。

第一步：分析题干论点论据。

论点：年龄越大的人比年龄较小的人更愿意告诉别人自己的家庭成员人数。

论据：调查者通过电话问大约1000名调查者家庭人数的问题，结果显示，被调查者的年龄越小，越不愿意回答这样的问题。

第二步：分析选项，确定答案。

A项：未提及年龄因素，属于无关项，排除。

B项：未提及年龄因素，属于无关项，排除。

C项：老胡表示愿意告诉别人自己目前的家庭成员人数，而年轻时候不愿意，支持论点，排除。

D项：小李表示不会随年龄变化而改变自己不愿意告诉别人自己家庭成员人数的想法，削弱论点，当选。

故本题选D。

62

.【答案】C

【解析】 本题考查削弱类。

第一步：分析题干论点论据。

论点：近期期货市场上的大豆价格大幅度下跌。

论据：目前农作物正面临严重干旱，而气象学家预测一场足以解除旱情的大面积降雨将在傍晚开始。

第二步：分析选项，确定答案。

A项：指出气候预测的不稳定性，并不代表不会降雨，不能削弱论点，排除。

B项：防备降雨与题干结论无关，属于无关项，排除。

C项：农业学家指出将出现鼠害，而鼠害将导致大豆减产歉收，大豆价格会因此上升，削弱论点，当选。

D项：对比大豆与其他商品的价格波动幅度，属于无关项，排除。

故本题选C。

63

.【答案】B

【解析】 论点：不能由“M大学的师生从校图书馆外借出的书籍数量逐年递减”得出“M大学图书馆藏书利用率在逐渐递减”的结论。

A项利用率是否很难统计与论点无关，排除。

B项说明虽然图书外借量逐年递减，但在图书馆内阅读藏书的师生人数逐年递增，因此不能得出M大学图书馆藏书利用率在逐渐递减的结论，最能加强论点。

C项讲座数量与图书馆藏书的利用率无关，排除。

D项电子书不同于图书馆的藏书（实体书），也属于无关项，排除。

故本题选B。

64

.【答案】A

【解析】 本题考查削弱类。

第一步：分析题干论点论据。

论点：为了建立良好的夫妻关系，夫妻之间应当尽量有相同的作息时间。

论据：那些作息时间不同的夫妻发生争吵的次数比作息时间基本相同的夫妻更多。

第二步：分析选项，确定答案。

A项：说明是夫妻产生矛盾导致作息时间不同，即题干论证因果倒置，最能削弱论点，当选。

B项：指出具有同事关系的夫妻”易产生矛盾，而论点针对的是夫妻的作息时间，因此属于无关项，排除。

C项：“作息时间不同的夫妻更容易产生矛盾”支持论据，排除。

D项：“生活习惯”包括作息时间，一定程度上支持论点，排除。

故本题选A。

65

.【答案】A

【解析】 本题考查结论类。

第一步：分析题干，确定题型。本题为结论类题目，仔细阅读题干信息。

第二步：分析选项，确定答案。

A项：由题干调查结果可知患阿尔茨海默氏症的双语人群首次出现症状的年龄相对靠后，即掌握两门语言可以延缓认知的老化，当选。

B项：题干只将掌握一门语言和掌握两门语言的人进行对比，没有提及不掌握两门语言的人的患病情况，该项不能确定真假，排除。

C项：该项表述过于绝对，无法推出，排除。

D项：掌握两门语言的人依旧在76岁患上了阿尔茨海默氏症，因此长期使用两种语言仅能延缓大脑退化而不能防止大脑退化，排除。

故本题选A。

66

.【答案】C

【解析】 本题考查数量类规律。

第一步：观察图形。“五角星”形图，“中”型图都是常考的一笔画图形，优先考虑笔画规律。题干各图形均为一笔画图形，则问号处图形应为一笔画图形。

第二步：分析选项，确定答案。

A项：两笔画图形，排除。

B项：两笔画图形，排除。

C项：一笔画图形，当选。

D项：两笔画图形，排除。

故本题选C。

67

.【答案】D

【解析】 本题考查空间类规律。

第一步：根据问法找不同图形，考虑各项之间的旋转。

第二步：分析选项，确定答案。

A项：通过旋转可以得到B、C项，不是不同图形，排除。

B项：通过旋转可以得到A、C项，不是不同图形，排除。

C项：通过旋转可以得到A、B项，不是不同图形，排除。

D项：通过旋转不能得到其他项图形，属于不同图形，当选。

故本题选D。

68

. 【答案】B

【解析】 本题考查关系类

第一步：观察图形。题干图形都为左右结构，可以考虑关系类规律。题干中各汉字均含有“斤”，且均为左右结构。

第二步：分析选项，确定答案。

A项：不为左右结构，排除。

B项：符合规律，当选。

C项：不含“斤”，排除。

D项：不含“斤”，排除。

故本题选B。

69

. 【答案】A

【解析】 题干每行的第一个图形左右翻转得到第二个图形，第二个图形再上下翻转得到第三个图形。观察选项，只有A项符合。

故本题选A。

70

. 【答案】A

【解析】 每一行各图形中三角形个数分别是2、3、4，则问号处图形应有4个三角形，只有A项符合。

故本题选A。

71

. 【答案】C

【解析】 南朝与北朝同时代并存，A项排序错误。

地球自形成以来可以划分为太古代、元古代、古生代、中生代和新生代，古生代从远到近划分为寒武纪、奥陶纪、志留纪、泥盆纪、石炭纪和二叠纪，中生代划分为三叠纪、侏罗纪和白垩纪，新生代划分为第三纪和第四纪，B项排序错误。

法国大革命发生于1789年，美国南北战争发生于1861年，辛亥革命发生于1911年，五四青年运动发生于1919年，C项排序正确。

《百年孤独》是哥伦比亚作家加西亚·马尔克斯的代表作，成书于1966年，《三国志》由西晋史学家陈寿所著，创作于280年，D项排序错误。

故本题选C。

72

. 【答案】C

【解析】 刺史制度是汉武帝在秦御史监郡和汉初丞相史出刺基础上的独创，是君主专制主义中央集权的产物。察举制是汉代一种由下而上推选人才为官的制度，确立的时间是汉武帝元光元年。编户齐民

是汉代政府实行的户籍制度，汉武帝时期开始推行。

A、B、D项都属于开始于两汉时期的政治经济制度。C项“一条鞭法”是明代嘉靖时期确立的赋税及徭役制度，由张居正于万历九年推广到全国。

故本题选C。

73

.【答案】D

【解析】《劳动法》第44条规定，有下列情形之一的，用人单位应当按照下列标准支付高于劳动者正常工作时间工资的工资报酬：（一）安排劳动者延长时间的，支付不低于工资的百分之一百五十的工资报酬；（二）休息日安排劳动者工作又不能安排补休的，支付不低于工资的百分之二百的工资报酬；（三）法定休假日安排劳动者工作的，支付不低于工资的百分之三百的工资报酬。

本题中，1号是法定休假日，应支付300%的工资报酬，2号至3号是周末休息日，应支付200%的工资报酬。

故本题选D。

74

.【答案】A, B, C

【解析】A、B、C三项均正确。

中关村当下“一区多园”的空间格局包括东城园、西城园、朝阳园、海淀园、丰台园、石景山园、门头沟园、房山园、通州园、顺义园、大兴一亦庄园、昌平园、平谷园、怀柔园、密云园、延庆园等十六个园区，D项错误。

故本题选ABC。

75

.【答案】D

【解析】水是液态，分子间距较小，从一个分子的热量传到另一个分子较容易；空气是气态，分子间距大，热量传递较困难。因此，冰冻的肉类在水中比在同温度的空气中解冻得快，是因为水的热传递性比空气好。

故本题选D。

76

.【答案】D

【解析】京剧脸谱的不同色彩表现人物的不同品质：红脸用来表现忠勇正义；白脸用来表现阴险奸诈；黄脸用来表现凶狠残暴；蓝脸用来表现粗豪暴躁；黑脸用来表现刚烈、正直、勇猛。

故本题选D。

77

.【答案】A

【解析】农业在我国当前的国民经济中居于基础地位。

故本题选A。

. 【答案】D

【解析】A项出自杜牧的《泊秦淮》，这两句诗描写的是六朝古都金陵（今南京）的奢靡生活，与苏州无关。

B项出自李白的《黄鹤楼送孟浩然之广陵》，黄鹤楼位于湖北武汉，与苏州无关。

C项出自苏轼的《饮湖上初晴后雨》，描述的是西湖的神韵，与苏州无关。

D项出自张继的《枫桥夜泊》，“姑苏”就是苏州，诗人泊船苏州城外的枫桥，在静夜中听到远处传来悠远的钟声，表达了诗人旅途中孤寂忧愁的感情，D项正确。

故本题选D。

. 【答案】B

【解析】A项正确，干支纪年法是以60年为一周期，按照干支纪年法，2013年为癸巳年。

B项错误，净土宗的始祖为东晋慧远，而其实际创始人是唐代善导。

C、D项均正确。

故本题选B。

. 【答案】A

【解析】明清时期的科举考试共分四级：院试、乡试、会试和殿试。

院试也称“童试”，县级考试，童生参加，考上为“生员”，即“秀才”。

乡试又称“秋闱”，省级考试，生员参加，考上为“举人”，第一名称为“解元”。

会试又称“春闱”，国家级考试，举人参加，考上为“贡士”，第一名称为“会元”。

殿试也是国家级考试，贡士参加，考上为“进士”，第一名称为“状元”，第二名称为“榜眼”，第三名称为“探花”。

本题中参加考试的是各省的举人，因此这一考试是会试。

故本题选A。

. 【答案】A

【解析】A项正确，在中国古代神话传说中，睚眦是龙的第二个儿子，性格刚烈、好勇擅斗、嗜血嗜杀，总是嘴衔宝剑，怒目而视，刻镂于刀环、剑柄吞口，以增加自身的强大威力。狻猊是龙的第五个儿子，形如狮，喜烟好坐，所以形象一般出现在香炉上，随之吞烟吐雾。狴犴是龙的第七个儿子，形似虎，平生好讼，却又有威力，狱门或官衙正堂两侧有其像。貔貅是中国古代神话传说中的一种神兽，龙头、马身、麟脚，形似狮子，毛色灰白，会飞。

故本题选A。

. 【答案】D

【解析】A项错误，《洛神赋图》是东晋顾恺之的画作，是由多个故事情节组成的类似连环画而又融会贯通的长卷。

B项错误，《游春图》是隋朝画家展子虔创作的绘画作品，是其传世的唯一作品，也是迄今为止存世最

古的画卷，在早期的山水画中非常具有代表性。

C项错误，《五牛图》是唐朝韩滉创作的中国画，作品生动地表现了牛的各种动态，是现存最古的纸本中国画。

D项正确，《步辇图》是唐朝画家阎立本的名作之一，所绘是吐蕃使者禄东赞朝见唐太宗时的场景，内容反映的是吐蕃王松赞干布迎娶文成公主入藏的事。

故本题选D。

83

.【答案】C

【解析】物联网是通过射频识别（RFID）、红外感应器、全球定位系统、激光扫描器等信息传感设备，按约定的协议，把任何物品与互联网连接起来，进行信息交换和通讯，以实现智能化识别、定位、跟踪、监控和管理的一种网络。

A、B、D项都是信息传感设备，C项普通数码相机不是信息传感设备。

故本题选C。

84

.【答案】C

【解析】A项正确，“纸上谈兵”比喻空谈理论，不能解决实际问题，出自“长平之战”。战国时赵国名将赵奢之子赵括，年轻时学兵法，谈起兵事来父亲也难不倒他。后来他接替廉颇为赵将，在长平之战中，由于只知道根据兵书办事，不知道变通，结果被秦军大败。

B项正确，“破釜沉舟”比喻下决心不顾一切地干到底，出自“巨鹿之战”。项羽的军队与秦将章邯部队在巨鹿展开大战，项羽不畏强敌，引兵渡漳水，渡河后，命令全军把船凿沉，每人携带三日口粮，以示士卒必死，激起士兵斗志，大破秦军。

C项错误，“投鞭断流”用来形容兵士多，军力强大，出自“淝水之战”。秦王苻坚征兵80万欲征服东晋，大臣劝其说东晋占据长江天险，进攻时机还不成熟。苻坚却傲慢地笑道：“以吾之众旅，投鞭于江，足断其流！”苻坚不听劝告，执意进攻东晋，结果在淝水之战中被晋军彻底打败。

D项正确，“草木皆兵”用来形容人在惊慌时疑神疑鬼，出自“淝水之战”。秦王苻坚领兵攻打东晋，在淝水对岸望见远处山上的草木，以为都是晋兵，胆战心惊，落慌而逃。

故本题选C。

85

.【答案】A

【解析】从“主张积极救世，做事讲求道德”可知，这是先秦时期儒家学派的“德治”主义，就是主张以道德去感化教育人。

“超凡脱俗、清静自然”则是道家崇尚自然，主张清静无为的思想。道家学派提倡道法自然，无所不容，自然无为，与自然和谐相处。

因此，A项正确。

故本题选A。

. 【答案】D

【解析】本题考查基期计算。

第一步：查找相关材料。题干命题点的对应材料在第一段，即2012年，全国国内旅游收入22706.22亿元人民币，比上年增长17.6%。

第二步：根据已知条件解题。根据公式 $\text{基期量} = \frac{\text{现期量}}{1 + \text{现期增长率}}$ 列式，2011年全国国内的旅游收入为

$\frac{22706.22}{1+17.6\%} \approx \frac{22706}{1.176} \approx \frac{22700}{1.18} \approx 19200$ 亿元人民币，D项与之最接近。

故本题选D。

. 【答案】C

【解析】本题考查现期比重。

第一步：查找相关材料。题干命题点的对应材料在第一段，即2012年，全国国内旅游人数29.57亿人次，其中城镇居民19.33亿人次。

第二步：根据已知条件解题。2012年农村居民国内旅游人数占全国国内旅游人数的比例为

$\frac{29.57-19.33}{29.57} \approx \frac{10}{30} \approx 33.3\%$ ，且略大于33.3%，C项与之最接近。

故本题选C。

. 【答案】B

【解析】本题考查现期比重。

第一步：查找相关材料。题干命题点的对应材料在第一段和表格，即2012年，欧洲入境游客总量为592.16万人次。

第二步：根据已知条件解题。占比超过11%，则

$592.16 \times 11\% = 592.16 \times (10\% + 1\%) = 59.2 + 5.92 \approx 65.12$ 万人次，则超过的欧洲国家有俄罗斯（242.62）和德国（65.96），共两个。

故本题选B。

. 【答案】C

【解析】本题考查基期和差。

第一步：查找相关材料。题干命题点的对应材料在第一段和图表中，即2012年美洲市场入境人数317.95万人次，减少0.7%；美国入境人数211.81万人次，增加0.1%；加拿大入境70.83万人次，减少-5.3%。

第二步：根据已知条件解题。根据公式 $\text{基期量} = \frac{\text{现期量}}{1 + \text{现期增长率}}$ 列式，2011年除美国、加拿大以外的美洲国家游客入境旅游人数为

$\frac{317.95}{1-0.7\%} - \frac{211.81}{1+0.1\%} - \frac{70.83}{1-5.3\%} \approx 320 - 211 - 71 - 70 \times 5\% = 34.5$ 万人次，C项与之最接近。

故本题选C。

. 【答案】D

【解析】 本题考查综合分析。

A项正确：根据表格可知，韩国入境人数为406.99万人次，人数最多，排除。

B项正确：根据表格可知，在20个主要客源国中共有12个亚洲国家， $\frac{12}{20}=0.6$ ，即六成来自亚洲，排除。

C项正确：根据表格可知，非洲市场入境游客量为52.49万人次，亚洲市场入境人数1664.88万人次，占入境外国游客人数的61.2%，非洲市场入境游客量占入境外国游客总量的 $52.49 \div \frac{1664.88}{61.2\%} \approx 52.49 \div 2720 \approx 2\%$ ，排除。

D项错误：根据表格可知，2012年，在主要客源国中越南是入境旅游人数增长最快的客源国，没有说明非主要客源国的情况，当选。

故本题选D。

91

. 【答案】B

【解析】 本题考查简单计算。

根据表格可知，2014年1~11月我国货物运输总量为393.2亿吨，11月为39.3亿吨。因此2014年1~10月我国货物运输总量为 $393.2-39.3=353.9$ 亿吨（可根据尾数直接判断，只有B项符合）。

故本题选B。

92

. 【答案】D

【解析】

本题考查基期比较。

第一步：查找相关材料。题干命题点的对应材料在表格中，即2014年1~11月和2014年11月的货物运输总量。

第二步：根据已知条件解题。根据公式 $\text{基期量} = \frac{\text{现期量}}{1 + \text{现期增长率}}$ 可知，2014年1~11月和2014年11月各项运输总量增速均小于10%，说明（1+增长率）对分数影响较小，直接将现期进行比较，则相减差值最大的是公路（ $303.6-30.7 \approx 270$ 亿吨），因此2013年1~10月我国货物运输总量最大的领域是公路。

故本题选D。

93

. 【答案】B

【解析】 本题考查基期比重。

第一步：查找相关材料。题干命题点的对应材料在表格，即2014年11月，货物周转总量为16409.2亿吨公里，同比增长8.6%；水运为8204.1亿吨公里，同比增长12.5%。

第二步：根据已知条件解题。根据基期比重公式 $\frac{N}{M} \times \frac{1+m\%}{1+n\%} \times 100\%$ 可知，2013年11月我国货物周转总量中，水运周转量占比为 $\frac{8204.1}{16409.2} \times \frac{1+8.6\%}{1+12.5\%} \approx 0.5$ ，且略小于0.5，因此水运周转量占比介于40%~50%之间。

故本题选B。

. 【答案】D

【解析】 本题考查比重比较。

第一步：查找相关材料。题干命题点的对应材料在表格，即2014年11月货物运输总量增速为7.1%。

第二步：根据已知条件解题。根据部分增长率>整体增长率，现期比重较基期上升可知，只有公路的同比增长率（8.6%）和水运的同比增长率（7.6%）高于货物运输总量的同比增长率（7.1%）。

故本题选D。

. 【答案】C

【解析】 本题考查综合分析。

A项错误：根据表格可知，2014年1~11月我国货物运输总量为393.2亿吨，则月均货物运输量为 $\frac{393.2}{11} \approx 36$ 亿吨，排除。

B项错误：根据表格可知，2014年1~11月我国货物运输总量为393.2亿吨，货物周转总量为164873.0亿吨公里，则每吨货物平均运输距离为 $\frac{164873}{393.2} \approx 400$ 公里，排除。

C项正确：根据表格可知，2014年1~11月铁路货运量占总体的比重为 $\frac{35}{393.2} < 10\%$ ，铁路货物周转量占总体的比重为 $\frac{25200.7}{164873} > 10\%$ ，后者大于前者，当选。

D项错误：根据表格可知，2014年1~11月公路货物周转量为55448亿吨公里，同比增长9.8%；水运货物周转量为84056亿吨公里，同比增长16%。比较增长量的大小，主要看现期×增长率，两者大则增长量大，可知水运两者相乘大于公路，因此水运增量大于公路增量，排除。

故本题选C。

. 【答案】B

【解析】 本题考查现期比重。

题干命题点的对应材料在第二段，即2014年，上海市全年新增各类金融单位96家，其中新增货币金融服务单位37家。因此2014年，上海市全年新增货币金融服务单位在当年新增的各类金融单位中占比为 $\frac{37}{96} \approx 38\%$ ，即三成多。

故本题选B。

. 【答案】A

【解析】 本题考查简单计算。

第一步：查找相关材料。题干命题点的对应材料在第三段，即2014年末全市中外资金融机构本外币各项存款余额73882.45亿元，比年初增加4612.96亿元；贷款余额47915.81亿元，比年初增加3424.23亿元。

第二步：根据已知条件解题。2014年间，上海市中外资金融机构本外币存贷款差为4612.96-3424.23≈4600-3400=1200亿元，即增加了1千多亿元。

故本题选A。

98

.【答案】C

【解析】 本题考查增长量计算。

第一步：查找相关材料。题干命题点的对应材料在最后一段，即2014年上海股票成交金额37.72万亿元，增长63.8%。

第二步：根据已知条件解题。根据公式 $\text{增长量} = \frac{\text{现期量}}{1 + \text{现期增长率}} \times \text{现期增长率}$ 可知，2014年上海市股票成交金额比2013年增加 $\frac{37.72}{1 + 63.8\%} \times 63.8\% \approx \frac{38}{1 + \frac{5}{8}} \times \frac{5}{8} = \frac{38 \times 5}{13} \approx 3 \times 5 = 15$ 万亿元。

故本题选C。

99

.【答案】A

【解析】 本题考查增长量比较。

第一步：查找相关材料。题干命题点的对应材料在最后一段，即上海证券交易所各类有价证券总成交金额128.15万亿元，增长48.1%；中国金融期货交易所总成交金额164.02万亿元，增长16.3%；上海黄金交易所总成交金额6.51万亿元，增长24.7%；上海期货交易所总成交金额126.47万亿元，增长4.7%。

第二步：根据已知条件解题。根据公式 $\text{增长量} = \frac{\text{现期量}}{1 + \text{现期增长率}} \times \text{现期增长率}$ 可知，（1+现期增长率）对式子影响较小，主要看现期量×现期增长率，两者相乘大，则增长量大，即上海证券交易所各类有价证券总成交金额增量最大（128.15×48.1%最大）。

故本题选A。

100

.【答案】C

【解析】 本题考查综合分析。

A项错误：根据材料第一段可知，2014年上海市全年实现金融业增加值3268.43亿元，比上年增长14%，则2013年全年，上海市实现金融业增加值 $\frac{3268.43}{1 + 14\%} \approx \frac{3268}{1.1} < 3000$ 亿元，排除。

B项错误：根据材料最后一段可知，2014年上海证券交易所各类有价证券总成交金额增长48.1%，其中，股票成交金额增长63.8%。部分增速>总体增速，则股票成交金额占各类有价证券总成交额的比重上升，即2013年占比低于2014年，排除。

C项正确：根据材料第二段可知，2014年末，上海市资本市场服务单位数量为292家，货币金融服务单位数量为601家。因此，上海市资本市场服务单位数量与货币金融服务单位数量的比值为 $\frac{292}{601} < 50\%$ ，当选。

D项错误：根据材料最后一段可知，2014年间，上海市银行间市场总成交金额361.51万亿元，则月均成交金额为 $\frac{361.51}{12} < \frac{372}{12} = 31$ 万亿元，排除。

故本题选C。