

2023年浙江公务员行测测试卷（第十五套）

一、常识判断

1. 清宫剧中出现下列情景，明显违背史实的是（ ）。
- A. 道光帝在圆明园批阅奏章
B. 咸丰帝在避暑山庄观赏昆曲
C. 光绪帝赴颐和园向慈禧太后请安
D. 宣统帝在紫禁城接见琉球使臣
2. 同时具备“三国时期”“皇帝”“邺下文人集团”这三种特征的历史人物是（ ）。
- A. 曹操
B. 曹丕
C. 刘邦
D. 刘备
3. 中国共产党在领导全国各族人民改造半殖民地半封建的旧中国的过程中，高度重视主观世界的改造，开展反腐倡廉斗争，以保持自身肌体的先进与纯洁。在1927年召开的中国共产党第五次全国代表大会上，选举产生了维护和执行党的纪律的第一个专门机构——（ ）。
- A. 中央纪律检查委员会
B. 中央纪律执行委员会
C. 中央监察局
D. 中央监察委员会
4. 聘任制公务员聘任合同类型不包括（ ）。
- A. 固定期限聘任合同
B. 无固定期限聘任合同
C. 以完成一定工作任务为期限的聘任合同
D. 终身聘任合同
5. 《深圳经济特区促进全民健身条例》自2015年1月1日施行，条例规定每年的（ ）为市民长跑日。
- A. 5月1日
B. 6月1日
C. 9月1日
D. 11月1日
6. 下列各对联与其所涉及的人物对应错误的一项是（ ）。
- A. 青冢有情犹识路，平沙无处可招魂——王昭君
B. 写鬼写妖高人一等，刺贪刺虐入木三分——蒲松龄
C. 羽扇纶巾，谈笑间，檣櫓灰飞烟灭——诸葛亮
D. 青山有幸埋忠骨，白铁无辜铸佞臣——岳飞
7. 农业是国民经济中的第一产业，对于中国这样的人口大国，农业具有战略性地位。以下关于我国农业的表述，错误的是（ ）。
- A. 我国最早的耕作技术是原始社会的人力耕作
B. 《三字经》中，将稻、粱、菽、麦、黍、稷并成为六谷
C. 今天我国广为种植的一些作物并非原产我国，而是外来引进，例如玉米
D. 休闲农业是利用农业景观资源和农业生产条件，发展阳光、休闲、旅游的一种新型农业生产经营形态

8. 2015年4月25日，尼泊尔发生8.1级地震。依照板块构造理论，尼泊尔地震是由下列哪两个板块碰撞引起的？（ ）

- A. 非洲板块与南极板块
B. 印度洋板块与亚欧板块
C. 亚欧板块与太平洋板块
D. 印度洋板块与太平洋板块

9. 关于中国地理，下列说法错误的是（ ）。

- A. 九寨沟国家地质公园以雅丹地貌闻名
B. 藏羚羊主要生活在可可西里国家级自然保护区
C. 张家界国家森林公园处于武陵山脉的腹地
D. 三江并流风景名胜区已被列入《世界遗产名录》

10. 在数千年历史发展过程中，陕西人创造了独具特色的“陕西精神”。下列不属于“陕西精神”的是（ ）。

- A. 爱国守信
B. 弃农兴商
C. 宽厚包容
D. 勤劳质朴

11. 下列关于金属的说法错误的是（ ）。

- A. 金属的光泽由光的反射率决定
B. 金属的颜色由可见光的选择反射决定
C. 抗菌金属主要利用活性氧或金属离子灭菌
D. 根据金属的耐腐蚀性，金属分重金属和轻金属

12. 为激励公务员忠于职守，勤政廉政，提高工作效能，充分调动公务员工作的积极性，我国对公务员实行奖励制度。以下有关公务员奖励的说法不正确的是（ ）。

A. 公务员奖励的对象既包括工作表现突出，有显著成绩和贡献，或者有其他突出事迹的公务员，也包括公务员集体

B. 公务员奖励坚持公开、公平和公正的原则，坚持精神奖励与物质奖励相结合、以物质奖励为主的原则

C. 对公务员，公务员集体的奖励分为：嘉奖、记三等功、记二等功、记一等功、授予荣誉称号
D. 授予荣誉称号，由县级以上党委，政府或者市（地）级以上机关批准

13. 2013年7月1日以后，上海市所有派出所均可以办理身份证登记指纹信息，此举可以有效防范冒用他人居民身份证以及伪造、变造居民身份证等违法犯罪行为的发生，更好地保护公民合法权益。下列关于身份证的表述不正确的是（ ）。

- A. 公民身份号码的编码对象是具有中华人民共和国国籍的公民
B. 十六周岁至四十五周岁的公民，发给有效期二十年的居民身份证
C. 四十六周岁以上的公民，发给长期有效居民身份证
D. 未满十六周岁的公民，由监护人代为申请领取居民身份证

14. 网络黑客攻击是全球性问题。我国是黑客攻击的最大受害国之一，我国政府一贯坚决反对黑客攻击行为，并愿就推动互联网安全和打击网络黑客攻击等违法犯罪活动加强国际合作。这说明（ ）。

- A. 我国在国际事务中发挥主导作用
B. 维护国家利益是我国对外活动的目的和依据
C. 我国与其他各国的国家利益相同
D. 独立自主是我国处理国际关系的基本准则

15. 在城市的十字路口，由于视野盲区和内轮差（车辆拐弯时的前内轮的转弯半径与后内轮的转弯半径之差）的存在，使得大量车辆在转弯时，车身后部极易撞上距离车辆较近的行人或非机动车，以致发生惨剧。下列关于内轮差的表述不正确的是（ ）。

- A. 方向盘打得越多，内轮差越大
B. 车辆的轴距越大，内轮差越大
C. 转弯越急，内轮差越大
D. 车速越快，内轮差越大

16. 下列古代典籍中，哪一部不是以年号命名的？（ ）

- A. 《昭明文选》 B. 《太平广记》 C. 《永乐大典》 D. 《康熙字典》

17. 根据《公务员法》的相关规定，下列（ ）不属于公务员在机关外兼职应符合的条件。A. 因工作需要 B. 非领导职务公务员 C. 经有关机关批准 D. 不领取兼职报酬

18. 防空识别区指的是一国基于空防需要，单方面所划定的空域。下列关于防空识别区的说法错误的是（ ）。

A. 设立的目的在于为军方及早发现、识别和实施空军拦截行动提供条件 B.

最初用于规范美国及其盟国之间的对空防御作战

C. 通常情况下，一国防空识别区范围大于该国领空范围

D. 2013年中国宣布在南海设立防空识别区

19. 下列历史文化遗址位于我国最南边的是（ ）。

- A. 半坡遗址 B. 周口店遗址 C. 河姆渡遗址 D. 大汶口遗址

20. 关于《四库全书》，下列说法错误的是（ ）。

- A. 编修于乾隆时期 B. 反映了清代图书的全貌
C. 在编纂过程中纪晓岚贡献突出 D. 分经、史、子、集四目

二、言语理解与表达

21. MOOC利用使用者的IP地址自动识别地理位置，辨识出不同用户群体，通过_____用户学习习惯的更多数据，创造出适合不同学生群体的学习路径，实现教学的_____。

依次填入划横线部分最恰当的一项是（ ）。

- A. 收集 差异化 B. 搜集 多样化
C. 整理 个性化 D. 处理 灵活化

22. 所谓类文本，指的是出版物中所有作者文字之外的部分。尽管类文本也是阅读对象，但它们_____地成为阅读的主体，甚至造成了对于文本的阅读_____，实在有_____之嫌。

依次填入划横线部分最恰当的一项是（ ）。

- A. 反客为主 困难 以一持万 B. 主客颠倒 妨碍 舍本逐末
C. 喧宾夺主 障碍 本末倒置 D. 太阿倒持 艰难 轻重倒置

23. 在娱乐方式多元化的今天，“_____”是不少人（特别是中青年群体）对待戏曲的态度。这里面固然存在_____的偏见、难以静下心来欣赏戏曲之美等因素，却也有另一个无法回避的原因：一些戏曲虽然与观众之间没有屏幕之隔，却用艺术化的表演，讲述着与观众距离较远的生活。

依次填入划横线部分最恰当的一项是（ ）。

- A. 望洋兴叹 我行我素 B. 望而生畏 一叶障目
C. 敬而远之 先入为主 D. 知难而退 固步自封

24. 孔雀蜘蛛的体型非常小，只有4毫米到5毫米，其中，雌性蜘蛛比雄性蜘蛛大。不过，就是这样

小的身躯，也能靠着大自然的_____吸引人们的注意。

填入划横线部分最恰当的一项是（ ）。

- A. 鬼斧神工 B. 精雕细刻 C. 巧夺天工 D. 匠心独具

25. 贺兰山岩画自发现以来，给人们的震撼和向人们指出的问题几乎同样多。有关岩画的内容、年限、创作族群等等，专家们_____，贺兰山岩画上空的这些谜团至今依然烟云缭绕。考古界有句名言：“唯一能确定的就是不确定！”贺兰山岩画似乎_____了这句话，岩画研究中的诸多观点都陷入了一种不可确定中。

依次填入划横线部分最恰当的一项是（ ）。

- A. 唇枪舌战 延伸 B. 莫衷一是 呼应
C. 不置可否 诠释 D. 各持己见 印证

26. “北师大保安考上研究生”这件事之所以引发关注，就在于它的稀缺，这也从侧面说明阶层固化导致_____的_____不够充分。

依次填入划横线部分最恰当的一项是（ ）。

- A. 向上 社会流动 B. 向上 人口流动
C. 上下 阶层流动 D. 纵向 社会流动

27. 英国数学家和哲学家罗素从欧几里德的《几何原本》中“读出音乐般的美妙”，德国生物学家海克尔从达尔文的《物种起源》中“见出生物世界无与伦比的统一之美”。尽管科学家们对科学美的_____大多是零散的，但不难看出他们对科学之美的肯定和重视。在这些大科学家眼里，科学美是自然和谐之美的_____，是人们发现自然之秘而产生的自我超越感。

依次填入下面横线处的词语最恰当的是（ ）。

- A. 解释 升华 B. 阐述 映射
C. 感受 解读 D. 概括 延伸

28. 近代中外历史告诉我们，群众的民主权力就像一切个人权力一样，当它没有受到_____的宪政约束时，很容易转变为它的反面，成为一种暴虐的权力。因此，许多思想家对于各种群众领袖挟民意而行独裁的负面作用_____。

依次填入划横线部分最恰当的一项是（ ）。

- A. 严格 嗤之以鼻 B. 良好 讳莫如深
C. 恰当 忧心忡忡 D. 普遍 谈虎色变

29. 围棋被人们形象地比喻为黑白世界，在古代称作对弈。由围棋的思维方式和行棋方式来看，它与古代哲学有着密切关系。后来，围棋也成为培养军人才能的重要工具，许多著名的军事家都对盘式、招法_____。随着围棋传遍大江南北，围棋名人的增多，_____也不断见于史载，常为人所乐道。

依次填入划横线部分最恰当的一项是（ ）。

- A. 了然于胸 掌故 B. 胸有成竹 典故
C. 滚瓜烂熟 逸事 D. 烂熟于心 趣闻

30. 赵景深在《文心剪影》里说：“他（叶圣陶）的复信措辞谦抑，字迹圆润丰满，正显出他那_____而又诚实的心。”正如当年他主编《小说月报》曾精心培育了一大批后来成为新文学史上的著

名作家时那样。他那_____的精神和工作态度，给予年轻一代的教育、鼓舞的力量是无法_____的。

依次填入划横线部分最恰当的一项是（ ）。

- A. 谦卑 兢兢业业 估价 B. 谦和 公而忘私 估量
C. 正直 大公无私 衡量 D. 率真 孜孜以求 想象

31. 填入下列横线处的词语，最恰当的是（ ）。

在物联网、云计算等新技术日趋进步之时，管理软件厂商如何提升自身的市场洞察力和创新能力已经_____。

- A. 迫不及待 B. 迫不得已 C. 迫在眉睫 D. 时不我待

32. 森林的大面积减少，水土流失、风沙弥漫，这可怕景象绝不是_____，而是活生生的现实。不认真解决水害、沙害，土地资源流失与人口膨胀所造成的弊病，21世纪的可持续发展将成为空想。大自然的警告，足以_____。

依次填入划横线部分最恰当的一项是（ ）。

- A. 虚张声势 当头棒喝
B. 危言耸听 醍醐灌顶
C. 空穴来风 振聋发聩
D. 耸人听闻 警钟长鸣

33. 只有把科学确立为社会的基本价值，才能使科学精神_____人们的精神血液中，_____到社会的制度规范中，_____在人们的日常生活中。

依次填入划横线部分最恰当的一项是（ ）。

- A. 渗入 落实 呈现
B. 融入 固化 体现
C. 流入 贯彻 表现
D. 溶入 凝固 展现

34. 依次填入划横线部分最恰当的一项是（ ）。

①据此，我认为长期以来的疑惑已_____。

②我们要知道竹子的性质，就要特地栽种竹子，以研究它生长的过程，要把叶子切下来拿到显微镜下去 观察，绝不是_____就可以得到的知识。

③这首诗之所以成为_____的名篇，无论如何不在于如专家所认为的在两首诗中罗列了三座桥和一座山。

④他的这种奇谈怪论，看来绝非是对历史的无知，而是_____地捏造谎言。

- A. 毋庸置疑 一蹴而就 家喻户晓 居心叵测
B. 无可厚非 唾手可得 叹为观止 煞费苦心
C. 迎刃而解 袖手旁观 脍炙人口 别有用心
D. 不攻自破 不劳而获 流芳百世 千方百计

35. 走进书房，荷笔当锄，精神家园种满稚嫩的庄稼，也许远离丰收的季节，但心里总装着一个秋

天。也有受挫后乏味地走进书房的时候，_____间与书群对话，慢慢地愁肠_____，残雪消融，浮躁渐趋平静，紊乱变得有序，顷刻间阴霾一扫，心空一片晴朗亮丽。

依次填入划横线部分最恰当的一项是（ ）。

- A. 百无聊赖 舒缓
B. 万念俱灰 疏散
C. 无地自容 舒展
D. 心灰意冷 纾解

36. 所有持乐观想法的人都相信，乐观的想法可以鼓舞自己达成目标。但实际上，当一个人乐观地看待目标的实现——尤其是乐观情绪极度膨胀时，你会感到目标的实现似乎易如反掌。这种做法会欺骗大脑，使之认为目标已经唾手可得。这时，当事人“全力向目标进发”的动力就会丧失。

根据这段文字可以得知（ ）。

- A. 悲观想法比乐观想法更有助于让人成功
B. 乐观的人通常都不会成功
C. 事物的真实面貌总是不如想象美好，这会让乐观的人受到打击
D. 必胜的信念还需要脚踏实地准备，这才是取胜之道

37. 在国家教育部门越来越注重艺术基础教育的大趋势下，艺术基础教育必须承担起艺术人才培养最基本的职责，不要把孩子变成艺术考试或艺术类比赛的机器。目前基础教育不重视艺术教育，某种意义上是放弃了自己的职责，客观造成社会艺术培训机构大量出现；教育部加大艺术在升学中的权重，如果不建立一套好的评价机制，就有可能造成单纯的应试局面，危害可能更大。

依据文意进行推断，解决“艺考热”的关键是（ ）。

- A. 国家教育部门要注重艺术基础教育，加强艺术类比赛
B. 艺术基础教育必须承担起艺术人才培养最基本的职责
C. 加大艺术在升学中的权重，限制社会艺术培训机构的发展
D. 建立完善的综合评价机制，改变单纯的应试局面

38. 新常态下，“共享经济”为经济结构调整和产业结构转型提供了新的思路。在信息化时代，物流行业具有覆盖范围广、涉及面多，且物流市场运营主体小而散、运营环节多而杂的特点，尤其需要企业、物流公司等多方共享信息和资源，变革物流运行模式和组织模式，全面推行信息化和智能化，通过简约、高效、完善的平台完成资源整合。

这段文字主要说明了（ ）。

- A. “共享经济”模式应主要用于物流行业
B. “共享经济”模式对物流行业有着重要的意义
C. 没有“共享经济”模式，物流行业的发展前景堪忧
D. 物流行业和“共享经济”模式的紧密结合

39. 在一线城市，过去一派田园风光的郊区，如今也已高楼林立，无“农”可学正成为不少学校农学专业面临的窘境。再加上时间、场地和内容的限制，学农对农学专业学生的吸引力逐渐减弱，学农的必要性也遭受质疑。

这段文字意在说明（ ）。

- A. 吸引学生学农迫在眉睫
B. 农学专业面临双重困境
C. 农学专业应适应城市化发展趋势
D. 国家应为农学发展提供必要条件

40. 超级火山的爆发强度将超过人类历史上任何一次火山喷发。研究人员相信，当岩浆升到地壳中后又无法突破时，就有可能爆发超级火山。压力下产生这种结果，可能意味着当岩浆最终爆发冲出时，某广阔区域内的某一点将被完全毁灭。世界末日论认为，这种事件将喷发出数百万吨重的残骸，并向大气中释放大量有毒气体，让整个世界陷入到所谓的核冬天。最糟糕的是，它可能将部分地区的生命、甚至整个地球的生命都消灭干净。

这段文字主要揭示的是（ ）。

- A. 世界末日论的基本观点
B. 超级火山爆发的原因
C. 超级火山造成的危害
D. 地球生命面临的威胁

41. 螳螂看到蜈蚣走路，艳羡地说：“你走路真帅呀，这么多脚还可以走得这么整齐！你是怎么走的啊？”蜈蚣就告诉他说：“其实很简单，我先迈左边的50只脚，然后再迈右边的50只脚。”螳螂说：“那你再走一个让我瞧瞧。”这时，蜈蚣却呆在那儿动弹不得了。这段文字意在说明（ ）。

- A. 纸上谈兵害人不浅 B. 好为人师后患无穷 C. 作茧自缚反受其累 D. 邯郸学步遗失自我

42. 实施大数据战略，对于政府部门来说，不仅意味着要上马多少高新科技项目，也意味着调整自身运作的机制，进行一次政府理念的创新、政府职能的转变、政府流程的再造。要打好这套组合拳，必须经过以下考验：政府所拥有数据是否丰富和开放？政府的管理和运作方式能否适配数据化决策？在区域和国家层面，是否拥有强大的数据分析产业和人才队伍作为支撑？

关于这段文字，以下理解准确的是（ ）。

- A. 政府要实施大数据战略，并不需要高新科技的支撑，而需调整运作机制
B. 政府的理念、职能和流程中存在太多制约政府运作机制良性发展的因素
C. 管理理念、运作方式适配，产业、人才的支撑是实施大数据的必要条件
D. 高新科技项目是政府实施大数据战略的基础条件

43. 大城市和小城市，各有各的优势，也各有各的劣势。留在大城市还是到小城镇生活，依然是困扰人们的问题，在发展比较均衡的地区，这只是个体和群体的偏好，在很多发展中国家，则更像是个结构性问题。但无论是在哪里，关键是要给年轻人一个“向上的发展空间”。城市发展的意义，是给所有人更多选择，而不是主导他们的选择。否则，大城市过度扩展和地区发展不均衡，会让整个社会的梦想破碎。

关于这段文字，以下理解准确的是（ ）。

- A. 在发展比较均衡的地区，在哪里生活不再是困扰人们的问题
B. 所有人有更多的选择空间，城市的发展才具有真正的意义
C. 年轻人只要有一颗追逐梦想的心，无论在哪里都能收获成功
D. 整个社会的梦想破碎，是因为大城市过度扩张和地区发展不均衡

44. 科普创作历来就是一个复杂的系统工程，不仅需要相应的人力物力投入，而且还需要作者巨大的精力和时间投入。要培养青年科普作者，解决人才断层问题，就需要遵循科普创作的特点和规律。比

如，进一步明确科普创作的地位，将其放到与科学研究、科技推广等同等的地位予以重视，或者建立科普人才的培养机制等。

关于这段文字，以下理解准确的是（ ）。

- A. 科普创作需要多方面的巨大投入
B. 科普作者应当遵循科普创作的特点和规律
C. 科学研究、科技推广比科普创作更重要
D. 建立科普人才的培养机制是不可或缺的一环

45. 一个小孩拿起石头，打碎了商店的窗玻璃。做错了事情的孩子跑掉了，商店老板自认倒霉，拿出一笔钱去买玻璃重新安上；这下，玻璃店有了生意，赚到了一笔小钱；玻璃店店主用这笔钱去面包店买了面包，面包店又有活干了；面包店老板又去农民那里买进了几斤面粉……仅仅碎了一块玻璃，却带动了社会上许多行业的发展，甚至创造了就业机会，这可真是坏事变成好事的绝佳案例！这个虚拟的案例正是经济学中一个著名的理论——破窗理论。

根据破窗理论，下列说法正确的是（ ）。

- A. 按照破窗理论，打碎玻璃有助于社会经济的发展
B. 用于买玻璃的钱也能通过其他途径促进经济发展
C. 如果玻璃不被打碎，商店老板也可能主动更换玻璃
D. 打碎玻璃的损失及卖出玻璃的收益都促进了经济的增长

46. 新技术是伟大的“改变者”，然而新技术的生死时速，是否会纵容“所见即所得”的肤浅，带来“既得繁花，亦生野稗”的现象？已经有人痛心文化空气的日益稀薄，认为中国正在进入文化上的“小时代”。图书馆修得越来越好，好书和读书人却越来越少；实体书店和报刊亭逐渐凋零，城市正失去文化之肺……难怪有人疾呼，从电脑和手机中拯救阅读吧！甚至说拔掉网线、关闭手机，才能回到真正的文化生活。

下列说法理解正确的是（ ）。

- A. 新技术的发展是造成中国文化“小时代”的直接原因
B. 技术手段的升级发展引起文化焦虑
C. 回到真正的文化生活必须对新技术适当拒绝
D. 电脑和手机可以拯救阅读

47. 如果我是一株树，我要做一株高大粗壮的树，把我的顶际插入云端，把我的枝干伸向辽远，当太阳沉下去了，我用我的全心来迎接四面八方失巢的小鸟，要它们全都栖息在我的枝干间。

这段话，作者的感情和下列诗歌中相仿的是（ ）。

- A. 谁言寸草心，报得三春晖
B. 我欲乘风归去，又恐琼楼玉宇，高处不胜寒
C. 安得广厦千万间，大庇天下寒士俱欢颜
D. 山不厌高，海不厌深。周公吐哺，天下归心

48. 在灾难面前，生命是脆弱的，因此，对任何一个安全漏洞，我们都不能掉以轻心。城市管理者和建设者要定期检查、排除隐患，将安全置于城建规划最重要的位置，尽量将城市建设的每个环节都做到无懈可击。否则，安全“旧账”总有一天会加倍偿还。

对于文中的“旧账”理解最准确的是（ ）。

- A. 城市建设的每个环节
B. 漏洞百出的市政设计
C. 光鲜亮丽的都市外表
D. 存在隐患的城建细节

49. 生活其间，你优雅，城市便不粗俗；你精神明亮，_____。当文明传递在城市的每个神经末梢，流进每个居民的血液之中，我们就敢说，这是一座有品位的城市，一座宜居的城市，一座

闪烁着文明之光的城市。

填入划横线部分最恰当的一项是（ ）。

- A. 城市便不灰暗阴沉 B. 城市便不急躁喧哗 C. 城市便光明亮丽 D. 城市便灿烂辉煌

50. “苍蝇妈妈”是对那些过分关注孩子的家长的称谓，这类家长试图时刻走在孩子前面，提前为他们扫清障碍。美国华盛顿大学的一项相关研究显示，过分关照孩子的父母会妨碍儿童个人能力和独立意识的发展；无微不至的照料会降低儿童的幸福感，并令他们长大后难以正确应对压力。受到父母过度照料的儿童，长大后经常会意志消沉，对生活不满，精神焦虑。为了孩子的身心健康，“苍蝇妈妈”们，_____。

填入划横线部分最恰当的一项是（ ）。

- A. 请降低对孩子的期望值 B. 请移开你们挡在孩子前面的身体
C. 请先学会不被其他意见影响或左右 D. 请相信你们纠结的事情其实没那么重要

三、数量关系

51. 2, 3, 4, $3\sqrt{3}$, $\sqrt{46}$, ()

A. 81

B. $2\sqrt{5}$

C. $3\sqrt{5}$

D. 9

52. 按此规律，第7行的数字和为（ ）。

		1		
	2	4		
	3	5	7	
6	8	10	12	
9	11	13	15	17

A. 155

B. 165

C. 175

D. 185

53. $\frac{1}{2}$, $\frac{2}{6}$, $\frac{2}{8}$, $\frac{3}{15}$, ()

A.

$\frac{3}{18}$

B.

$\frac{3}{16}$

C.

$\frac{5}{25}$

D.

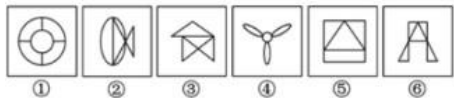
$\frac{7}{25}$

54. -8, 12, -6, -3, -4.5, ()

- A. 低于20% B. 20%~25%之间 C. 25%~30%之间 D. 高于30%

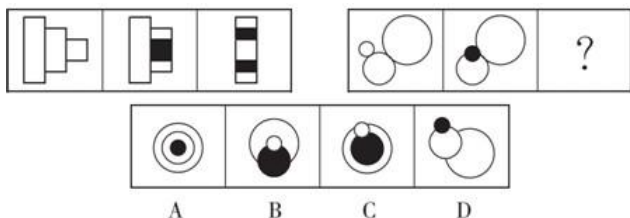
四、判断推理

76. 把下面的六个图形分为两类，使每一类图形都有各自的共同特征或规律，分类正确的一项是（ ）。



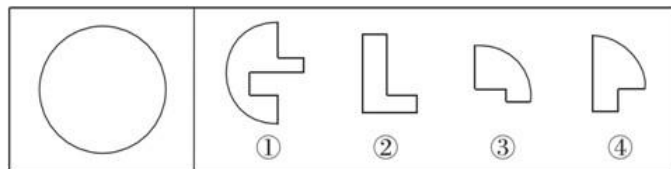
- A. ①③⑤, ②④⑥ B. ①④⑤, ②③⑥ C. ①②⑥, ③④⑤ D. ①②③, ④⑤⑥

77. 请选择最适合的一项填入问号处，使右边图形的变化规律与左边图形一致。



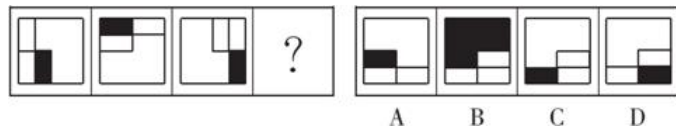
- A. A B. B C. C D. D

78. 左侧图形是由右侧图形中的（ ）项组成。



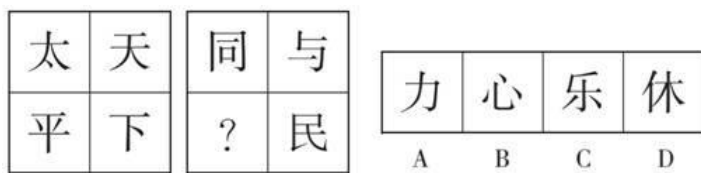
- A. ①②③ B. ①②④ C. ①③④ D. ②③④

79. 下列选项中，符合所给图形的变化规律的是（ ）。



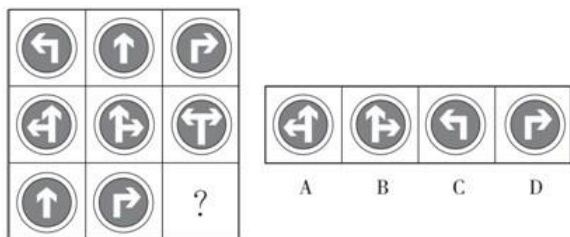
- A. A B. B C. C D. D

80. 从所给的四个选项中，选择最合适的一个填入问号处，使之呈现一定的规律性。



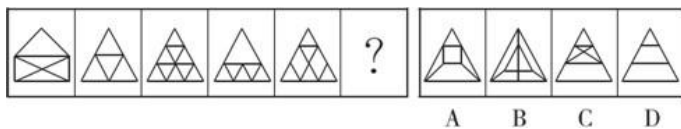
- A. A B. B C. C D. D

81. 从所给四个选项中，选择最合适的一个填入问号处，使之呈现一定的规律性。



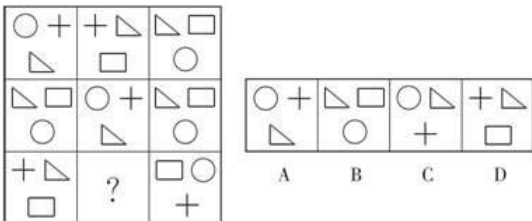
- A. A B. B C. C D. D

82. 从所给四个选项中，选择最合适的一个填入问号处，使之呈现一定的规律性。



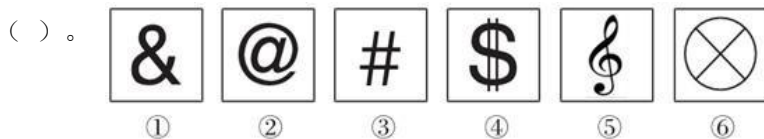
- A. A B. B C. C D. D

83. 从所给的四个选项中，选择最合适的一个填入问号处，使之呈现一定的规律性。



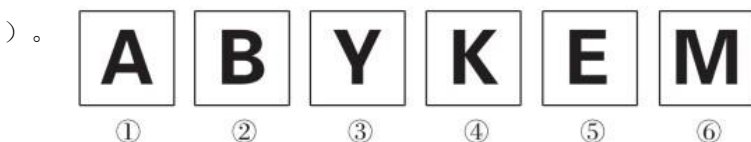
- A. A B. B C. C D. D

84. 把下面的六个小图形分为两类，使每一类图形都有各自的共同特征或规律，分类正确的一项是



- A. ①②④, ③⑤⑥ B. ①②⑤, ③④⑥ C. ①③⑤, ②④⑥ D. ①②⑥, ③④⑤

85. 把下面的六个图形分为两类，使每一类图形都有各自的共同特征或规律，分类正确的一项是



- A. ①⑤⑥, ②③④ B. ①③⑥, ②④⑤ C. ①④⑤, ②③⑥ D. ①②④, ③⑤⑥

86. 创新：僵化

- A. 开放：闭塞 B. 发展：前进 C. 计划：秩序 D. 革新：失败

87. 农家乐：农家：乐

- A. 一日游：一日：游 B. 广场舞：广场：舞 C. 袋鼠跳：袋鼠：跳 D. 颅内伤：颅内：伤

88. 芒果 对于 () 相当于 () 对于 砂糖

- A. 芒果核 麦芽糖 B. 芒果汁 甜菜
C. 水果 食堂 D. 泰国芒 棒棒糖

89. 近视：远视

- A. 雨水：冰雹 B. 瘦弱：肥胖 C. 前进：后退 D. 收缩：松弛

90. () 之于 钢琴 相当于 乒乓球 之于 ()

- A. 舞台 球台 B. 手风琴 足球 C. 音乐家 运动员 D. 琴声 喝彩

91. 酒精：白酒

- A. 电源：电视 B. 面包：蛋糕 C. 氮气：空气 D. 摄像头：手机

92. $\cong U \in \perp \cong \in \perp$

- A. $\div B + : \div \div :$ B. $> P \times \cong > \times \cong$ C. $\cdot : M : \cdot \cdot \cdot : \cdot \cdot \cdot$ D. $\neq H \Delta \neq \cdot \cdot \neq \Delta$

93. 邮局 对于 () 相当于 () 对于 网购

- A. 快递 网店 B. 邮政 网银 C. 电子邮件 百货商场 D. 驿站 网站

94. 雕塑：绘画

- A. 政体：民主 B. 政治：信仰 C. 力学：光学 D. 样本：范例

95. 索然无味：味同嚼蜡

- A. 走投无路：山穷水尽 B. 抛砖引玉：抛头露面
C. 目光如炬：鼠目寸光 D. 一无所得：一箭双雕

96. 在人一生当中，会不断对脑神经连接进行“优化重组”，“修剪”掉多余的连接，以保证有用的连接更加快速通畅。研究人员选取了121名年龄在4~20岁的健康志愿者，利用磁共振技术，分析了这一年龄段神经连接随着大脑发育和成熟而发生的变化。结果发现，女性对脑神经连接开始“修剪”的时间普遍早于男性。因此研究人员认为，女性的大脑相比男性大脑更高效。

以下陈述如果为真，哪项无法支持上述结论？（ ）

- A. 学龄期女孩往往表现出比同龄男孩更好的理解能力和语言能力 B.
脑神经连接“修剪”出错会导致自闭症，患病率性别差异显著 C.
男孩只能专注于一件工作的时候，女孩可以同时处理多项工作 D.
大脑“修剪”和“重组”之后使得各种认知活动效率提升很多

97. 科学就是不断接近真理的过程，我们深信不疑的事情中很大部分是会过期的，所有理解这一点的人都明白在发展过程中不断更新知识才是科学进步的正道，然而这个过程有时会令人困惑和不安。如果以下各项为真，最能质疑上述论断的是（ ）。

- A. 婴儿该仰睡还是趴着睡，孕妇抽烟喝酒是否安全，答案一代和一代不同 B.
医学院的老师会告诉学生，五年内他们所学的知识里有一半都不会适用 C. 我
一直以为“雷龙”这个名字正确无误，但后来才发现根本没有雷龙D. 吸
烟有害健康被大量科学研究和事实所证实，这一结论至今难以改变

98. 在相同的收入水平上，农村居民家庭比城市或城郊居民家庭有更大的购买力，因为城市或城郊居民家庭中用在食品或居住的一部分收入可以被农村居民家庭用在其他的消费上。

根据以上的论述，最能推出以下哪项结论？（ ）

- A. 农村居民家庭在食品和居住上的支出比城市或城郊居民家庭的支出少 B.
城郊居民家庭的购买力更高于城市居民家庭
C. 一般来说，农村居民家庭比城市居民家庭的人口数量要多
D. 三种类型的居民家庭在食品上的支出都超过了在居住上的支出

99. 噬菌体是一种病菌，它能够捕食细菌。目前随着医疗中植入技术的发展，越来越多的患者接受着诸如导尿管、心脏支架等医学植入装置，但随之也带来了细菌感染的风险。因此，一些研究人员认为如果噬菌体吸附在植入装置材料表面，再将其放入患者体内，就可以避免植入装置引发的感染。

以下哪项为真，最能削弱上述结论？（ ）

- A. 对植入医学装置的患者，一般通过服用抗生素来防御细菌感染 B.
有细菌的场所就可能存在相应噬菌体的存在，只是数量差异
C. 噬菌体能够攻击致病细菌，但有时也有“捕食”有益的细菌 D.
一些噬菌体进入机体后，无法适应体液环境，难以保持活性

100. 研究发现，做梦可能是一种治疗过程，能够减轻或消除痛苦的记忆。研究人员先让受试者观看可以激发情绪的图片，在受试者进入梦乡以后，研究人员对他们的大脑进行扫描，结果发现控制情绪的大脑区域在出现梦境的快速眼动期活跃性降低。

如果以下各项为真，最能支持科学家观点的是（ ）。

- A. 痛苦的梦会抑制大脑情绪区域活跃性
快乐情绪会激发大脑情绪区域活跃性
- B. 快速动眼期并未完全驱散不良的记忆
D. 保持心理健康是睡眠的一种重要功能

101. 一种流行的看法是人们可以通过动物的异常行为来预测地震。实际上，这种看法是基于主观类比，不一定能揭示客观联系。一条狗在地震前行为异常，这自然会给它的主人留下深刻印象。但事实上，这个世界上的任何一刻，都有狗行为异常。

为了评价上述论证，回答以下哪个问题最不重要？（ ）

- A. 被认为是地震前兆的动物异常行为，在平时是否也出现过
B. 两种不同类型的动物，在地震前的异常行为是否类似
- C. 地震前有异常行为的动物在整个动物中所占的比例是多少
D. 在地震前有异常行为的动物中，此种异常行为未被注意的比例是多少

102. 中国作家莫言凭借《丰乳肥臀》《蛙》等作品获得诺贝尔文学奖，他将“魔幻现实主义与民间故事、历史与当代社会融合在一起”。得奖后，他的作品集在国内多个城市被抢购一空，成为近期最畅销书籍后，又开始走出中国，走向世界，深受国外读者追捧。

由此可以推出（ ）。

- A. 诺贝尔文学奖是评判文学作品优劣的准绳
B. 国内外读者对诺贝尔奖的审评结果格外看重
- C. 越来越多的读者喜欢魔幻现实主义这一文学题材
D. 越来越多的外国作家对中国文化感兴趣

103. 如果小李乘坐火车或飞机去云南旅行，小张就会跟他一起去。只要小李不乘坐火车去云南，小王就会跟他一起旅行。实际上，小张最近一直躲在江南某小镇写作，闭门不出也不想外出。

根据以上陈述，可以得出以下哪项？（ ）

- A. 小李跟小张一起旅行
B. 小李跟小王一起旅行
- C. 小李乘坐火车去云南
D. 小李乘坐飞机去云南

104. 因饮酒后驾驶营运机动车或者醉酒驾驶机动车依法被吊销驾驶证的，5年内不得重新申领；因醉酒驾驶营运机动车依法被吊销驾驶证的，10年内不得重新申领；饮酒后或者醉酒驾驶机动车发生重大交通事故并构成犯罪的，终身不得申请驾驶证。

根据上述规定，可以得知以下哪项？（ ）

- A. 某人饮酒后驾驶机动车，依法被吊销驾驶证，5年内不得重新申领
B. 某人醉酒驾驶机动车，依法被吊销驾驶证，10年内不得重新申领
- C. 某人饮酒后驾驶营运机动车发生重大交通事故，10年内不得申请驾驶证
D. 某人醉酒驾驶营运机动车发生重大交通事故构成犯罪，终身不得申请驾驶证

105. 甲、乙、丙三队进行足球循环赛。已知有下列情况：

球队	比赛场数	胜	负	平	进球	失球
甲	2	1	0	1	3	2
乙	2	1	0	1	1	0
丙	2					

根据上表情况，可以得出甲队对丙队的进球数之比是（ ）。

- A. 3:1 B. 3:2 C. 1:0 D. 0:0

106. 首因效应是指个体在社会认知过程中，通过第一印象最先输入的信息对客体以后的认知产生显著的影响作用。第一印象作用最强，持续的时间也长，比以后得到的信息对于事物整个印象产生的作用更强。

根据上述定义，下列首因效应没有发挥作用的是（ ）。

- A. 金融行业从业人员，一般着深色套装，给人专业和严谨的印象
 B. 小张在面试中表现突出，后公司的人力资源部发现小张的简历上存在错别字而取消了录用他的计划
 C. 已过而立之年的王先生频频相亲却没有结果，据和他有过一面之交的金小姐说，王先生“以我为中心”的夸夸其谈，令她很反感
 D. 刚刚毕业的小张在找工作过程中屡屡碰壁，后经咨询专业人士才得知因她染了一头红色的头发，而给人不够成熟稳重的感觉

107. 深度报道作为传统的新闻形式，指新闻工作者以社会发展现实问题为主要内容，以分析解释的科学方法进行报道，维护公众利益，引导舆论。深度报道不管如何定义，都离不开社会性和深刻性的两大关键点。

根据上述定义，以下属于深度报道的是（ ）。

- A. 某记者对雾霾天气进行系统调查，在媒体上发布了一个半小时的新闻报道
 B. 某电视台晚间新闻中，对某部长到某地视察进行报道
 C. 多家报纸和网站针对马航MH370坠机事件的家属善后工作进行跟踪报道
 D. 某报纸刊出了对某市的报道，解释为什么该地值得投资

108. 种子：农民：果实

- A. 木材：木匠：家具 B. 墨水：钢笔：文字 C. 孩子：教师：人才 D. 铁矿：工人：钢铁

109. 完全无弹性是指需求对价格的变化不敏感，无论商品的价格如何变化，都会有特定的需求量存在而不会发生变化。

根据上述定义，以下属于完全无弹性现象的是（ ）。

- A. 某抗癌药品对癌症患者来说是必需品，即便该药品价格上涨，它仍能保持稳定的销售量
 B. 虽然房价上涨的速度高于多数人工资增长的速度，但仍有许多人购买
 C. 某种进口水果的价格昂贵，即便如此，总还是有人愿意买
 D. 果农不能以高于当前市场零售价的价格出售他的水果，否则水果将出现滞销

110. 长尾理论，是指只要产品的存储和流通的渠道足够大，需求不旺或销量不佳的产品所共同占据的市场份额可以和那些少数热销产品所占据的市场份额相匹敌甚至更大。

根据上述定义，下列不能体现长尾理论的是（ ）。

A. 亚马逊网上书店成千上万的商品书中，部分书目虽然销量小，但凭借多样化的种类积少成多，占据了总销量的一半

B. 唯品会是一家专门经营大幅折扣品牌商品的B2C企业，通过帮助众多品牌商处理小量过季尾货，获得巨大成功

C. 新浪是全球最大的中文门户网站，支撑其业绩的主要是广告营业收入，线上广告在总收入中所占比例也越来越大

D. ZARA一年中大约推出12000种时装，而每一款时装的量一般不大，凭借多款式小批量的营销策略而成功

111. 增强现实技术，它是一种将真实世界信息和虚拟世界信息“无缝”集成的新技术，是把原本在现实世界的一定时间空间范围内很难体验到的实体信息（视觉、声音、味道、触觉等），通过电脑等科学技术，模拟仿真后再叠加，将虚拟的信息应用到真实世界，被人类感官所感知，从而达到超越现实的感官体验。

根据上述定义，下列选项不属于增强现实技术的是（ ）。

A. 某海底漫游系统通过交互体验设备让用户与虚拟场景中的海洋生物互动、嬉戏

B. 某游戏运动追踪器侦测用户运动，并通过头盔显示器为用户提供包括虚拟景观的视野

C. 某艺术家引导用户在物理空间中遵循播放器的指令行动进而成为其所设计情境的参与者

D. 某科学家研制的智能隐形眼镜通过无线技术接收手机数据，并将手机上的图像投射到眼睛上

112. 环境效应：指由自然过程或人类活动过程所引起的环境系统结构和功能的相应变化。下列不属于环境效应的是（ ）。

A. 大量的工业废水排入江河湖泊，使水生生物受到严重危害

B. 某省沿海滩涂面积每年都在“长”，动植物品种也有所变化

C. 某地大量使用化石燃料，所在区域的气温明显高于周边地区

D. 某沿海城市填海造岛，在岛上建成可容纳十万人的小城镇

113. 二手压力是指在职场中因受其他人压力和焦虑等负面工作情绪的影响，反过来影响到自身的工作态度、工作情绪的情况。

根据上述定义，下列选项中属于二手压力的是（ ）。

A. 小王早上起床发现右眼皮一直跳，所以心情一直不好，到单位后果然被领导批评了，心情就更糟了

B. 小张一进入办公室就发现气氛不对，大家都紧张兮兮的，便坦然忙起了自己的工作

C. 小赵发现同事们都专注高效地工作，自己也觉得要加倍努力工作了

D. 小李高高兴兴地来上班，看到同事因为工作太多而焦头烂额，不停地抱怨，自己也跟着心烦意乱起来

114. 流水作业是指工人按照作业流程，顺序作用于劳动对象，完成生产工艺过程中某阶段一定量的工作，使生产连续而又不中断地进行。

根据上述定义，下列各项属于流水作业的是（ ）。

A. 某高速公路工程指挥部将10个标段分别承包给10个施工单位同时施工

- B. 某施工队完成一个施工对象之后，再去完成另一个施工对象
C. 某施工队在10层工作一周，完成任务后，第三天转移到11层干同样的工作 D.

某施工单位对所有的施工对象同时开始施工，然后同时结束

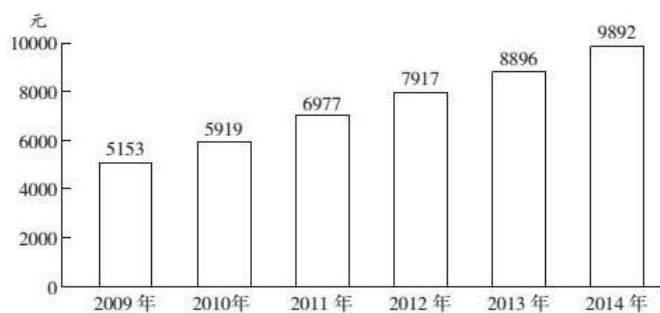
115. 反政治的政治指的是一种政治态度，是对极权政治的一种否定。其基本思想是不把政治看作关于权力和操纵的技术，也不把政治看作关于控制人类的规则或有用的艺术，而是把政治看作一种寻求和实现有意义生活的方式。

根据以上定义，以下最符合反政治的政治的是（ ）。

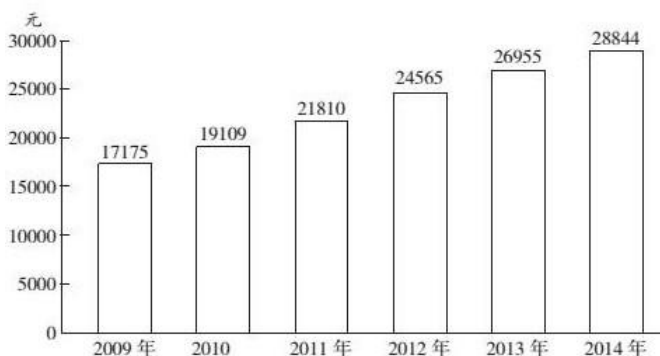
- A. 杰出的政治家都是哲学家
B. 应该根据文化传统来建立不同人群的国家
C. 国家之间应该求同存异
D. 政治的根本目的是追求人的和谐、全面的发展

五、资料分析

2009~2014年我国农村居民人均纯收入



2009~2014年我国城镇居民人均可支配收入



116. 2011~2014年，城乡居民收入差距最少的年份差额是（ ）。
- A. 10023 B. 12022 C. 14833 D. 16648
117. 城镇居民人均可支配收入增长最少的年份是（ ）。
- A. 2011年 B. 2012年 C. 2013年 D. 2014年
118. 农村居民人均纯收入增长最多的年份增长了（ ）。
- A. 1934元 B. 1058元 C. 1889元 D. 996元
119. 2013年城镇居民人均可支配收入比同年农村居民人均纯收入高（ ）。
- A. 92% B. 192% C. 203% D. 292%
120. 根据以上材料可以得出的结论是（ ）。
- A. 2009~2014年城乡居民收入差距逐年降低 B. 2009~2014年农村居民人均纯收入呈现上升态势

C. 与2012年相比，2013年城乡居民收入之比扩大D. 2015年城乡居民收入差距将进一步缩小

2013年，某省工业企业全年实现主营业务收入37864亿元、税金1680亿元、利润2080亿元，分别增长19.1%、19.4%、26.4%，分别高出全国7.9、8.4、14.2个百分点。该省工业企业主营业务收入占全国工业的3.7%，比上年提高0.3个百分点。百户重点企业主营业务收入、税金、利润分别增长10.2%、11.1%、20.8%，分别占全省工业的29.5%、51%、27.6%。

2013年，汽车行业实现主营业务收入4538亿元，增长23.1%；实现利润416.6亿元，增长19.9%；税金225.3亿元，增长50%。销售利润率（利润占主营业务收入的比重）攀升至9.2%。

食品（含烟草）实现主营业务收入6359亿元，增长20.8%，增速同比放缓9.2个百分点。实现利润398亿元，增长34.5%；工业税金506.2亿元，增长11.4%。

钢铁行业实现主营业务收入3510亿元，增长1.8%，利润总额34.6亿元，增长18.8%。行业销售利润率仅1%。

石化行业主营业务收入5138亿元，增长18.8%；实现利润204.2亿元，增长38.1%。子行业中，石油加工业净亏损0.2亿元，同比减亏13.6亿元；化工行业全年利润增长31.6%，扭转上半年利润下降局面；石油开采业净亏损8.6亿元，橡胶塑料行业利润增长29.1%。

建材行业实现主营业务收入2412亿元，增长27.1%；实现利润167.2亿元，增长51.6%。

机械行业实现主营业务收入3886亿元，增长26.6%；实现利润191.6亿元，增长23.8%。其中，电气机械（家电）利润增长38.5%，专用设备利润增长22.1%，船舶行业利润增长18.9%。

121. 2013年全国工业企业的税金增速比利润增速（ ）。

- A. 低1.2个百分点 B. 低5.8个百分点 C. 高7.0个百分点 D. 高8.4个百分点

122. 2013年全国工业企业主营业务收入约为多少万亿元？（ ）

- A. 84 B. 90 C. 97 D. 102

123. 2013年该省工业企业利润增速从高到低排序正确的是（ ）。

- A. 石化行业，建材行业，机械行业 B. 建材行业，石化行业，机械行业
C. 汽车行业，食品（含烟草）行业，钢铁行业D. 食品（含烟草）行业，钢铁行业，汽车行业

124. 2013年该省工业企业的哪项信息，能够从上述资料中直接推出？（ ）

- A. 工业企业利润占全国工业企业利润总额的比重B. 船舶行业主营业务收入占机械行业的比重 C. 橡胶塑料行业工业企业实现利润额 D. 百户重点企业的总体销售利润率

125. 能够从上述资料中推出的是（ ）。

- A. 2012年该省食品（含烟草）行业主营业务收入同比增速为11.6%
B. 2012年该省工业企业税金总额中，汽车行业所占比重超过15%
C. 2013年该省建材行业的销售利润率高于2012年水平
D. 2012年该省石油加工业净亏损13.4亿元

