

2023年浙江省公务员行测测试卷（第十二套）

一、常识判断

- 下列哪项与英国无关？（ ）
A. 光荣革命 B. 第一次工业革命 C. 普利茅斯 D. 雾月政变
- 下列关于生活常识的做法正确的是（ ）。
A. 生病时，可用茶水服用西药 B. 可用聚氯乙烯塑料包装食品
C. 二氧化硫可以作为食品的防腐剂和保鲜剂 D. 可加过量的亚硝酸钠来保持食品的鲜美
- 机场、银行等服务窗口实行“一米线”制，要求等候服务的顾客必须与正在接受服务的顾客之间保持一米的距离。这一制度的主要功能是（ ）。
A. 维持服务秩序 B. 保护顾客隐私 C. 提升服务质量 D. 提高道德水准
- 下列生活中保存食物的方法，理解错误的是（ ）。
A. 盐腌制食品是因为盐可以形成高渗环境，抑制了微生物的生理活动 B.
真空保存食物可以破坏需氧菌类的生存环境
C. 冷藏保存食品是因为低温可以将细菌冻死
D. 充入氮气保存食品是为了隔绝食品与氧气接触
- 下列宗教与其经典对应不正确的是（ ）。
A. 基督教——《圣经》 B. 道教——《黄庭经》
C. 佛教——《南华真经》 D. 伊斯兰教——《古兰经》
- 每台访问互联网的电脑，都需要配备IP地址，传统的IP地址（IPv4）由32个二进制位构成。IPv6 是IPv4的下一代版本，其地址由128个二进制位构成。国家发改委《关于开展国家下一代互联网示范城市建设工作的通知》要求，要加快IPv6升级改造，全面提升IPv6用户的普及率和网络拉入覆盖率。针对 国家发改委这一要求，下列关于IPv6优势的说法最准确的是（ ）。
A. IPv6比IPv4更便于记忆 B. IPv6比IPv4更容易普及推广
C. IPv6比IPv4提供更多的IP地址 D. IPv6比IPv4价格更低廉，配置更方便
- 财政政策是政府宏观调控的重要手段。下列有关财政政策的论述，不正确的是（ ）。
A. 政府偏好对财政政策有重要影响 B. 税收、国债、公共支出等是主要的财政政策工具C.
紧缩性财政政策通常用来增加和刺激社会总需求D. 提供更多就业机会是财政政策的目标之一
- 小说《平凡的世界》中描述道：“田福堂太痛苦了！当年搞合作化时，他曾怀着多么热烈的感情把左邻右舍拢合在一起，做梦也没想到二十多年后的今天，大家都散伙了。”小说中描述的“拢合在一

起”和“都散伙了”分别指（ ）。

- A. 土地改革和农业合作化运动
B. 农业合作化运动和人民公社化运动
C. 土地改革和家庭联产承包责任制
D. 农业合作化运动和家庭联产承包责任制

9. 某些影视作品在创作过程中很缺乏考证，有时存在违背史实的错误。下列影视片段不符合事实的是（ ）。

- A. 岳飞愤慨地说：“身为南宋子民，定当以抗金报国为己任。”
B. 隋炀帝笑曰：“择日朕将乘龙舟巡游大运河，众爱卿同往。”
C. 李白大声疾呼：“安能摧眉折腰事权贵，使我不得开心颜。”
D. 戚继光慷慨陈词：“此番出兵，责任重大，必将扫平倭寇。”

10. 古代陆上丝绸之路在唐朝达到空前繁荣，这在唐诗中就有大量记载。下列诗句中，描写物质文化借丝绸之路传入中国的是（ ）。

- A. 养蚕缫丝成匹帛，那堪绕帐作旌旗
B. 蕃人旧日不耕犁，相学如今种禾黍
C. 女为胡妇学胡妆，伎进胡音务胡乐
D. 勃律天西采玉河，坚昆碧碗最来多

11. 下列有关国防基础知识的表述中，不正确的是（ ）。

- A. 我国的第一任国防部长是彭德怀
B. 我国的领海宽度为12海里
C. 我国的现役部队由海军、陆军、空军三个军种组成
D. 我国义务兵服役期限为2年

12. 王某不服工商所对其依法作出的300元罚款的决定，应向（ ）提出复议。

- A. 该工商所
B. 派出该工商所的工商局的上级机关
C. 该工商所所在地的乡政府
D. 派出该工商所的工商局

13. “斗柄东指，天下皆春”的意思是指北斗七星斗柄指向东方的时候，春天就来了。那么，在冬季，北斗七星的斗柄指向（ ）。

- A. 北方
B. 南方
C. 西方
D. 东方

14. 下列古代典籍中，哪一部不是以年号命名的？（ ）

- A. 《昭明文选》
B. 《太平广记》
C. 《永乐大典》
D. 《康熙字典》

15. 在发生泥石流时，下列做法正确的是（ ）。

- A. 发现泥石流后，要马上向与泥石流成垂直方向一边的山坡爬
B. 发生山体滑坡时，要马上沿着滑坡方向尽力奔跑
C. 发生泥石流时，在沟底尽力爬到大树上进行躲避，等待救援
D. 沿山谷徒步行走时，一旦遭遇大雨，发现山谷有异常的声音或听到警报时，应立即找寻较大的洞穴或巨石躲避，等大雨过后再走

16. 下列疾病不是由病毒引起的是（ ）。

- A. 足癣和手癣
B. 艾滋病
C. 鸡瘟或猪瘟
D. 非典

17. 以下民间谚语与所描述的节气的对应关系中，错误的是（ ）。

- A. 蓄水如屯粮，水足粮满仓——雨水
B. 春雷一响，惊动万物——惊蛰
C. 晚稻就怕霜来早——立秋
D. 春节前后少农活，莫忘鱼塘常巡逻——大寒

18. 苏轼在《赤壁赋》中写到：“壬戌之秋，七月既望，苏子与客泛舟游于赤壁之下。”在一阕

《水调歌头》的序中说：“丙辰中秋，欢饮达旦，大醉，作此篇，兼怀子由。”文中所述的“夜游赤壁”和“中秋夜饮”（ ）。

- A. “夜游赤壁”发生在前
B. “中秋夜饮”发生在前
C. 两者同年发生
D. 两者发生时间相隔了四年

19. 下列与天文无关的语句是（ ）。

- A. 七月流火，九月授衣
B. 星分翼轸，地接衡庐
C. 月出于东山之上，徘徊于斗牛之间
D. 自古逢秋悲寂寥，我言秋日胜春朝

20. 循环经济应遵循的原则不包括（ ）。

- A. 减量化原则
B. 高利用原则
C. 再使用原则
D. 再循环原则

二、言语理解与表达

21. 当人类社会进入到信息时代，曾有人_____，计算机是方块汉字的掘墓人。然而，事实_____了对汉字的这些偏见和悲观论调。据统计，现在已有1000多种汉字输入法，无论从速度还是准确率上看，方块汉字的计算机输入丝毫不逊色于拼音文字。

依次填入划横线部分最恰当的一项是（ ）。

- A. 宣称 打破
B. 断言 粉碎
C. 妄言 驳斥
D. 预言 批判

22. 研究者称，可爱的人真诚善良、平和亲切，他们会让对方放下_____，更愿意与之交朋友。适当地在家人和朋友面前学句夸张的“可爱语”，偶尔穿一次可爱的衣服，能让人显得有童趣。但如果一味地脱离年龄，刻意装可爱，只会_____。

依次填入划横线部分最恰当的一项是（ ）。

- A. 骄傲 事倍功半
B. 自卑 削足适履
C. 成见 东施效颦
D. 戒备 适得其反

23. 哥白尼所发动的这一场天文学革命，_____了中世纪以来的神学权威，_____起科学的理性精神，_____了一整套观察、实验与思考的方法，由此为西方近代科学的产生奠定了基础。

依次填入划横线处最恰当的一项是（ ）。

- A. 质疑 成立 发现
B. 铲除 确立 建成
C. 挑战 树立 形成
D. 打破 建立 发展

24. 一系列“三农”政策的出台，犹如辞旧迎新的元旦钟声，给寂静的田野带去了春的气息，给_____的乡村增添了新的活力。

- A. 广袤
B. 广阔
C. 广泛
D. 广博

25. “北师大保安考上研究生”这件事之所以引发关注，就在于它的稀缺，这也从侧面说明阶层固化导致_____的_____不够充分。

依次填入划横线部分最恰当的一项是（ ）。

- A. 向上 社会流动
B. 向上 人口流动
C. 上下 阶层流动
D. 纵向 社会流动

26. 美国爆发金融危机，必然_____欧元国家的金融投资，使欧元区的金融机构蒙受重大损失，

并在一段较长的时期逐渐暴露出来，引发一次次的金融_____。

依次填入划横线部分最恰当的一项是（ ）。

- A. 打击 风暴
B. 重创 恐慌
C. 影响 危机
D. 波及 动荡

27. 在数字化多媒体时代，媒介参与的深度和广度日渐拓展，数字技术应用于文化遗产的保护已从原始的简单记录发展到对文化遗产的精准_____，运用数字输入、摄像等各种数字化技术对文化遗产进行多形式的_____，建立数字化的文化遗产档案和“非遗”博物馆等，都是当前很好的“非遗”保护方法。

- A. 修复 展现
B. 描述 挖掘
C. 定位 探索
D. 复原 采集

28. “正人心而后争天下。”这是南宋学者陈亮上书孝宗皇帝时所言。时隔八百多年，今天读来，依然_____。

填入划横线处最恰当的一项是（ ）。

- A. 石破天惊
B. 振聋发聩
C. 醍醐灌顶
D. 警钟长鸣

29. 口感好、有营养、无污染……随着这些理念的_____，有机产品迅速发展。然而，一些问题也开始_____：有的生产或销售企业有机产品认证标志使用不规范；有的企业甚至以普通产品_____有机产品

依次填入划横线部分最恰当的一项是（ ）。

- A. 推行 突现 替换
B. 推进 凸现 代替
C. 推动 突显 冒充
D. 推广 凸显 假冒

30. 随着时间的推移，新一代农民开始_____自己的打工生涯，并希望能融入城市，走出农民工这个身份模糊的地带。

- A. 计划
B. 谋划
C. 策划
D. 规划

31. 创新型人才的一个突出特点，就是不简单_____既成事实，不_____固定的想法，具有求异思维和批判精神。

- A. 认同 拘泥
B. 认同 局限
C. 认可 拘泥
D. 认可 局限

32. 任何一个政府都存在科层制，在日常工作中遵循科层制的若干规律，属于政府运转的常态。但是，科层制作为一种组织内部的关系准则，如果扩大到外部，就与政府治理现代化的初衷_____。一个县长可以对下属下达权威性指令，但无权对一个普通市民的个人生活_____。

填入划横线部分最恰当的一项是（ ）。

- A. 背道而驰 指手画脚
B. 大相径庭 颐指气使
C. 格格不入 说三道四
D. 相去甚远 横加指责

33. 中俄文化交流可以增进两国人民的相互了解，特别是可以克服两国经济发展的障碍，进而促进两国的经济发展。中俄文化交流也还有很大的提升空间，文化交流需要向深层次_____，不能把文化交流简化为文艺演出活动，片面地满足于表面上的_____。

依次填入划横线部分最恰当的一项是（ ）。

- A. 迈进 洋洋洒洒
B. 浸入 浩浩荡荡
C. 渗透 风风火火
D. 跨越 轰轰烈烈

34. 总理在两会上所作的政府工作报告是一个_____民心、_____民意、体现民情的报告，也是一个增强信心、鼓舞士气、催人奋进的报告。

依次填入划横线部分最恰当的一项是（ ）。

- A. 代表 反应
B. 表现 反映
C. 表现 反应
D. 代表 反映

35. 我们知道，制度是深深_____一个国家的历史、文化和现实之中的。一种制度只有与自身的历史、文化高度融合，才能最好地发挥其_____。

依次填入划横线处最恰当的一项是（ ）。

- A. 融入 效果
B. 渗入 效用
C. 嵌入 效能
D. 切入 作用

36. 中国历代异常发达的政治哲学和历史哲学早就无数次地告诫世人：权利的私有及日益专横，只能导致万民涂炭、王朝崩溃的惨祸。但是所有这些沉痛剖析永远难以进入法律层面而成为制约统治权利的刚性力量，所以它们只能转而定型为一种“代偿”方式，即思辩、文学和伦理等领域中的深深涵泳和喟叹。因此，在中晚唐开端的中国皇权社会后期文化中，以李商隐等人的作品为代表，不仅“咏史”之作数量日益庞大，而且诸多经典之作极其繁荣，具有空前沉郁的历史悲剧感。

对这段文字的主旨概括最准确的是（ ）。

- A. 告诫世人吸取历史兴亡的深刻教训
B. 剖析权利私有必然造成社会危机
C. 评价李商隐等唐代诗人的创作成就
D. 说明咏史诗作诞生的社会政治背景

37. 随着饮茶习俗在东南亚国家的传播，公众饮茶的茶馆同样流行。在越南和缅甸较有代表性，其中缅甸尤为典型。在英国殖民地时代的缅甸北部小城凯奥克他达，不但华侨商人在家里饮茶，乡村村长也用茶款待英国官员。缅甸城乡也发展出小茶馆饮茶的悠闲生活方式，今日缅甸大街小巷也处处都有小茶馆。品味缅甸的最好去处，就是茶馆，坐茶馆被视为缅甸大众化的生活方式。

对这段文字的主要内容，概括最准确的是（ ）。

- A. 缅甸是饮茶习俗的传播地
B. 缅甸多流行以茶款待外宾
C. 饮茶已成为缅甸人民的普遍习俗
D. 饮茶习俗反映着缅甸的生活水平

38. 文学作品有时会由于描写内容与普通人人生的亲近性而获得较广泛的读者。中国现代一部分作家曾力求以“写大众”实现“为大众”。事实上，尽管大众可能欢迎以自己的生活为描写对象的作品，他们仍然不会满足于这种亲近感。他们并非都爱看、只爱看、特别爱看反映自己处境的故事。

依据文意推断，下面结论不恰当的一项是（ ）。

- A. 只有描写内容与普通人人生亲近的作家才能获得最为广泛的读者
B. 一些小说家不去表现平凡的、平常的生活，也能吸引数以万计的读者
C. 在“为大众”“写大众”与“被大众读”之间，潜藏着深刻的矛盾
D. 鲁迅提倡和向往“文艺的大众化”，但是也难以获得普及性效果

39. 一条“河北有条中国式66号公路，美到灼伤双眼”的帖子，引起人们的强烈关注和热烈转发，更引发京城自驾游一族周末前往这条草原天路的激情。据了解，这条草原天路全长132.7公里，2011年建成，是连接崇礼滑雪温泉大区和张北草原风情大区的一条重要道路，沿线山高坡陡、沟壑纵深、景观奇峻，展开了一幅百里坝头风景画卷。

这段文字主要描述的是（ ）。

- A. 66号公路的美
B. 网络帖子的力量
C. 草原天路的基本情况
D. 自驾游青睐草原天路

40. 与戏曲表演在传媒的冷清相比，周末戏曲俱乐部的火爆和人气，很耐人寻味。在民众中诞生和成长的艺术，只有回到群众、回归生活，才能获得新的生命力。这种回归，如果没有与观众面对面的交流与沟通，失去了舞台的实践和锤炼，没有观众的心领神会和心心相印的理解沟通，是不会达到的。对

这段文字概括最准确的是（ ）。

- A. 生活实践是戏曲创作的源
B. 传统的戏曲表演形式有待改变
C. 回归观众是戏曲俱乐部火爆的原因
D. 戏曲只有重返民间舞台才能重获新生

41. 名字这个东西大家都知道很重要，但是现在的重要和以前的重要还是不一样的，以前要八字合，现在则要考虑到传播。一个好名字，要好记，也要好传播，而且要注意的是，在传播的时候不能走样，不能引起误读，若能给人留下好的印象，就更完美了。

这段文字意在强调（ ）。

- A. 一个好名字，起码要八字合
B. 一个好名字，不能有歧义
C. 一个好名字，其传播力要强
D. 一个好名字，其印象分要高

42. 既然人是社会性的动物，做任何事情都无法脱离人际环境，那么，在单位时间内，谁能够以最低的沟通成本、最快地赢得他人的信任与配合，自然获得成功的几率就大——古今中外，凡能成就大事者，往往胜出在沟通、组织与行动的综合素质。进入工业时代的社会化大生产，以及市场经济环境下的商业竞争，无不需要将这类“人际型知识”贯穿于每一个“经济人”的行为之中。

下列说法与上述文字相符的是（ ）。

- A. 沟通对于成功很重要
B. 降低沟通成本才能成功
C. 沟通、组织与行动能够成大事
D. 得到他人信任的关键在于沟通

43. 当下中国流行歌曲的歌词创作往往是风格化的定制，纯粹的辞藻堆砌，缺乏意义和体验的明确指向，与当代诗语言的追求相悖。如果说当代诗力求使因滥用而失去功能的语言回到原初，那么很多流行歌曲则加速播散着滥用对语言的消融。古典音乐情况同样不容乐观。不久前听一部当代著名作曲家创作的关于孙中山生平的交响声乐作品，宏达饱满的音乐之下，唱词的薄弱显得十分突出，它的脚本仅是孙中山语录摘编。

这段文字体现的观点是（ ）。

- A. 当下中国音乐面临着构思和风格等诸多限制
B. 当下中国音乐创作过程中的文学性严重缺失
C. 当下中国音乐创作过程缺乏明确的意义指向
D. 今后中国音乐应该在文学中挖掘发展的空间

44. 中国长江以南的居民最初来自北方，周期性的天灾与持续不断的人口压力迫使汉族逐渐离开黄

河流域，迁移到南方，如南宋时就有一次南迁高峰。但是人口流动常常是不易察觉的，通过将地方志中提到的水利工程统计制表，历史学家现在能够说，早在3世纪就有相当数量的移民开始渡过长江，进入拥有季风气候、热带丛林的南方。唐代移民迅速增长，13世纪晚期移民数量达到高峰，之后开始下降，直到1700年相对稳定。此时，中国大半人口已住在长江以南。

对这段文字的主旨概括最准确的是（ ）。

- A. 描述长江以南的人口迁入
B. 介绍人口研究方面的新成果
C. 分析中国古代人口大规模迁移的原因
D. 说明人口压力与人口流动之间的关系

45. 徽州文化具有自然与人文、物质文化遗产与非物质文化遗产相融合的整体性特征，独特而集中。村落依山而建，讲究水系与自然的和谐，目连戏和村落、宗族信仰、文化活动紧密联系，徽剧演出的戏台就是村落建筑的组成部分；文房四宝与古建筑中的“文气”融为一体；罗盘制作源于徽州人对堪舆风水的重视；医学与宗族以及山区的药材资源有密切关联；楹联匾额不仅突出了徽州文化的品位，也体现山区丰富的竹木资源……凡此种种，无不是其文化生态的整体性的体现。

这段文字意在说明（ ）。

- A. 徽州文化的突出特征
B. 徽州文化的组成部分
C. 徽州文化的传承关系
D. 徽州文化的存在基础

46. 世人心灵深处均多少缺乏安全感，都有克服这种与生俱来的不安全感需要，人们将这种由此形成的本能的渴望称之为“救赎”。西方文化反映了游牧民族先民的感受，因而当现有的水草用罄时，要找出路永远是寻求外在的绿洲。相反的，中国文化反映了大陆性农民祖先的感受，若今年收成不好，办法不外是就地从自我努力开始，譬如修筑灌溉管道、改进土壤与种子等等，以期来年的庄稼有质与量的增

这段文字意在说明（ ）。

- A. 形成东西方“救赎”观念差异的历史背景
B. 东西方“救赎”观念的差异源于其文化内涵不同
C. 东西方文化对“救赎”有着不同的认识
D. 自我改良才是“救赎”的正确途径

47. 当我们不再以功利的态度来考虑问题时，当我们不再以职业的观点来面对生活时，当我们把业余的游戏精神引入办公室和教室时，美学便松动了刻板重复的日常生活。我们便可以在其中发现更多的美感愉悦，感悟到更加深刻的生活真谛。老子提出了道家美学的一个经典命题“涤除玄鉴”，“涤除”就是使心灵空明虚静，抛弃那些欲念和偏见，这样便可以“玄鉴”，就是看到深邃的东西。这个命题后来演变成中国美学的一系列重要范畴和命题，诸如庄子的“心斋”“坐忘”，宗炳的“澄怀观道”等等。

这段文字提到老子和庄子等人的思想是为了说明（ ）。

- A. 美学与日常生活的关系
B. 中国美学的独特之处
C. 无功利美学对日常生活的升华作用
D. 中国美学的发展历史

48. 目前，在我国各地，养老问题的管理工作分散在老干部局、民政局、人力资源和社会保障局、医疗卫生部门、老龄办等多个部门和单位。此外，妇联、青联、工会、残联等机构或多或少地介入了养老服务保障和管理工

对我国养老管理工作描绘最准确的一项是（ ）。

- A. 多龙治水 B. 三个和尚没水吃 C. 二龙戏珠 D. 僧多粥少

49. ①没有人可以精力无限、奔腾不息，忙碌周期与休憩周期相结合才能让生命充满精彩。②适度的停顿犹如登山过程中的休整，是从胜利走向胜利、从激昂迈向激昂的必经阶段。③就像电影镜头，长短镜头结合在一起，才会形成缤纷多彩的画面节奏。独处不仅是忙碌之间的停顿，更像是一次身心调整、精神蓄力。④所谓“静一分，慧一分”，养一团清静之气，擎一片悠然心光，映照自己同万物的关系，正是独处的本意。

苏轼有句名言：“善养身者，使之能逸而能劳。”这句话在原文中的恰当位置是（ ）。

- A. ③ B. ② C. ① D. ④

50. ①关于世家与学术文化之间的关系，陈寅恪曾有精到论述

②近代亦有“五大文化世家”，如广东新会荣氏、江南钱氏等

③这世代相袭的文化家族，如繁星般遍布中华大地

④早期的文化世家有魏晋时期的王、谢家族，史称“王谢风流”

⑤历史上国人的治学十分看重“家学渊源”

⑥形成一张中国文化发展的版图

将以上6个句子重新排列，语序正确的是（ ）。

- A. ①⑤②⑥④③ B. ⑤②③①④⑥ C. ⑤①④②③⑥ D. ①④②⑤⑥③

三、数量关系

51. 99, 143, 195, 255, 323, ()

- A. 353 B. 356 C. 398 D. 399

52. 11, 22, 13, 26, 15, 30, 17, ()

- A. 32 B. 34 C. 36 D. 38

53. 2, 1, $\frac{2}{3}$, $\frac{1}{2}$, $\frac{2}{5}$, $\frac{1}{3}$, ()

- A. $\frac{2}{7}$
B. $\frac{1}{4}$
C. $\frac{5}{2}$
D. 1

54. -5, 20, 95, 220, ()

- A. 395 B. 367 C. 252 D. 251

55. 1, 1, $\frac{4}{3}$, 2, $\frac{16}{5}$, ()

A.

$\frac{32}{7}$

B.

$\frac{16}{7}$

C.

$\frac{32}{3}$

D.

 $\frac{16}{3}$

56. 甲、乙两人用相同工作时间共生产了484个零件，已知生产1个零件甲需5分钟、乙需6分钟，则甲比乙多生产的零件数是（ ）。

- A. 40个 B. 44个 C. 45个 D. 46个

57. 小王打靶共用了10发子弹，全部命中，都在10环、8环和5环上，总成绩为75环，则命中10环的子弹数是（ ）。

- A. 1发 B. 2发 C. 3发 D. 4发

58. 每年三月某单位都要组织员工企业A、B两地参加植树活动。已知去A地每人往返车费20元，人均植树5棵，去B地每人往返车费30元，人均植树3棵，设到A地员工有x人，A、B两地共植树y棵，y与x之间满足 $y=8x-15$ ，若往返车费综合不超过3000元，那么，最多可植树多少棵？（ ）

- A. 498棵 B. 400棵 C. 489棵 D. 500棵

59. 某市出租车运营方案调整如下：起步价由过去的5元2公里调整为8元3公里，运价由每公里1.2元上调至每公里1.6元。调整前后行程超过10公里则超出部分均需加收半价返程费。现在王先生打车由甲地去乙地，两地相距12公里，王先生所付出租车费比调整前多付多少元？（不计候车计费）（ ）

- A. 4.6 B. 5.8 C. 6.6 D. 7.2

60. 2014年某种中药材的价格是17.3元/公斤，2015年药农老黄的该种药材预计产量比上年增加25%，总收入预计能比上年增加50%，老黄决定将药材存放到2016年再销售。如2016年该种中药材的价格涨幅与2015年相同，那么预计老黄销售这批药材的收入能比2014年销售该种药材的收入增加（ ）。

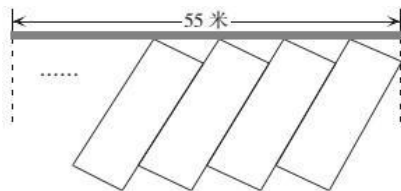
- A. 60% B. 80% C. 100% D. 120%

61. 股市融资具有资金放大效应，也有赔本的可能，一股民融资10万元，本钱10万元，全部用于购买股票，融资利息率是6%，卖掉股票得到22万元。则实际盈利率为（ ）。

- A. 5% B. 8% C. 7% D. 6%

62. 某市为了解决停车难问题，在如下图所示的一段长55米的路段开辟斜列式停车位，每个车位为长6米、宽2.6米的矩形，矩形的宽与路边成 30° 角，则在这个路段最多可以划出多少个这样的停车位？

（取 $\sqrt{3} \approx 1.7$ ）（ ）



- A. 16 B. 17 C. 18 D. 19

63. 某工业园拟为园内一个长100米、宽8米的花坛设置若干定点智能洒水装置，洒水范围是半径为5米的圆形。要保证花坛各个区域都可被灌溉，最少需要（ ）个洒水装置。

- A. 17 B. 18 C. 19 D. 20

64. 一菱形土地的面积为 $\sqrt{3}$ 平方公里，菱形的最小角为 60° 。如果要将这一菱形土地向外扩张变成

一正方形土地，问正方形土地边长最小为多少公里？（ ）

A.

$\sqrt{2}$

B.

$\sqrt{3}$

C.

$\sqrt{6}$

D.

$2\sqrt{6}$

65. 地铁10号线全线共有28站，如果地铁从一站到下一站平均要用2分钟，在每个站停靠时间为1分钟，那么地铁10号线从起点出发，到达终点站共用（ ）分钟。

A. 78

B. 79

C. 80

D. 81

66. 甲工厂每天生产的零件数比乙工厂的1.5倍还多40个，乙工厂每天生产的零件数比甲工厂的一半多20个。则两个工厂每天共能生产多少个零件？（ ）

A. 400

B. 420

C. 440

D. 460

67. 张平将150000元在银行分别办理了五年和三年期整存整取业务，三年期的存款到期后，把本金再办理两年期整存整取业务，张平一共获得利息39400元。已知五年、三年和两年整存整取的年利率分别为5.5%、5%和4.4%，问张平办理了多少元的五年期整存整取业务？（ ）

A. 60000

B. 100000

C. 120000

D. 50000

68. 象棋比赛中，每个选手均与其他选手比赛一局，每局胜者得2分，负者得0分，和棋各得1分，那么以下可能是这次比赛所有选手得分的总和是（ ）。

A. 78

B. 67

C. 56

D. 89

69. 用1到7的数字组成一个六位数密码，密码中每个数字只使用一次，在所有可能的密码排列中，能被3整除的数字占所有可能的排列数的比重为（ ）。

A. $\frac{1}{6}$

B. $\frac{2}{7}$

C. $\frac{3}{7}$

D. $\frac{1}{3}$

70. 长江上游A港与下游S港相距270千米，一轮船以恒定速度从A港到S港需要6.75小时，而返回需要9小时，则长江的水流速度是（ ）。

A. 7千米/小时

B. 6千米/小时

C. 5千米/小时

D. 4.5千米/小时

71. 某人购买A、B两种调料的单价分别为20元/千克、30元/千克。假设购买这两种调料所花费的钱数一样，则由A、B两种调料混合后的新调料每千克的成本是（ ）。

A. 23元

B. 24元

C. 25元

D. 26元

72. 一个班有50名学生，他们的名字都是由2个字或3个字组成的。将他们平均分为两组之后，两组的学生名字字数之差为10。此时两组学生中名字字数为2的学生数量之差为（ ）。

A. 5

B. 8

C. 10

D. 12

73. 甲和乙同住在一栋楼，他们同时出发骑车去图书馆，又同时到达图书馆，但途中甲休息的时间是乙骑车时间的 $\frac{1}{3}$ ，而乙休息的时间是甲骑车时间的 $\frac{1}{4}$ ，甲和乙骑车的速度比是（ ）。

A.

$$\frac{12}{7}$$

B.

$$\frac{9}{8}$$

C.

$$\frac{4}{3}$$

D.

$$\frac{6}{5}$$

74. 如图所示，A、B、C、D、E、F将圆六等分，圆内接一个正三角形，已知阴影部分的面积是100平方米，则圆形面积为（ ）。



A. 180平方米

B. 200平方米

C. 220平方米

D. 240平方米

75. 有两堆材料需要搬运。工人先搬了第一堆材料的一半，然后分出 $\frac{3}{5}$ 的人手去搬第二堆材料，其余工人继续搬第一堆。当第二堆材料刚好搬完时，第一堆材料还剩下10%没搬。则第二堆材料的数量比第一堆少（ ）。

A. 40%

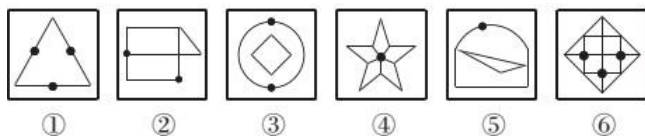
B. 50%

C. 55%

D. 60%

四、判断推理

76. 把下面的六个图形分为两类，使每一类图形都有各自的共同特征或规律，分类正确的一项是（ ）。



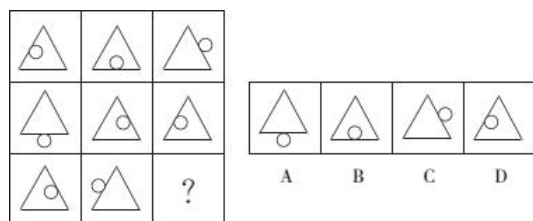
A. ①④⑥, ②③⑤

B. ①②③, ④⑤⑥

C. ①⑤⑥, ②③④

D. ①③⑤, ②④⑥

77. 从所给的四个选项中，选择最合适的一个填入问号处，使之呈现一定的规律性。



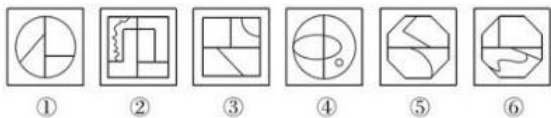
A. A

B. B

C. C

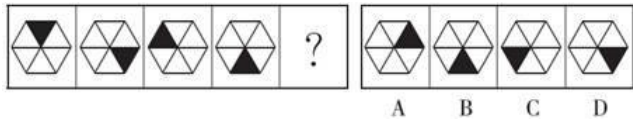
D. D

78. 把下面的六个图形分为两类，使每一类图形都有各自的共同特征或规律，分类正确的一项是（ ）。



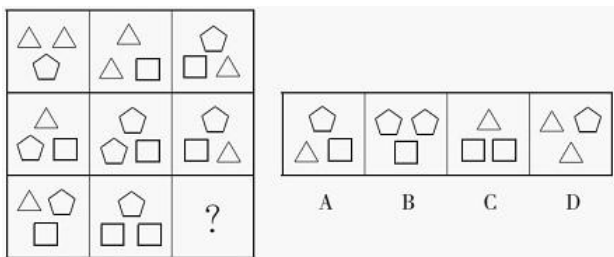
- A. ①②③, ④⑤⑥ B. ①②④, ③⑤⑥ C. ①③⑥, ②④⑤ D. ①④⑥, ②③⑤

79. 请选择最适合的一项填入问号处，使之符合之前四个图形的变化规律。



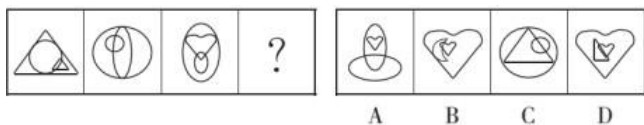
- A. A B. B C. C D. D

80. 从所给的四个选项中，选择最合适的一个填入问号处，使之呈现一定的规律性。



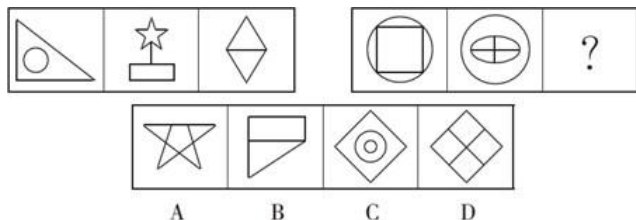
- A. A B. B C. C D. D

81. 下列选项中，符合所给图形的变化规律的是（ ）。



- A. A B. B C. C D. D

82. 从所给的四个选项中，选择最合适的一项填入问号处，使之呈现一定的规律性。



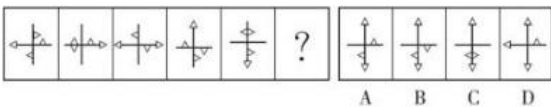
- A. A B. B C. C D. D

83. 从所给的四个选项中，选择最合适的一个填入问号处，使之呈现一定的规律性。



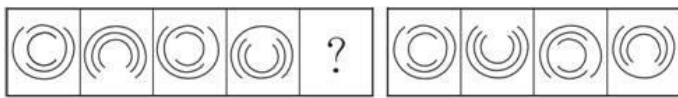
- A. A B. B C. C D. D

84. 从所给四个选项中，选择最合适的一个填入问号处，使之呈现一定规律性。



- A. A B. B C. C D. D

85. 从所给的四个选项中，选择最合适的一个填入问号处，使之呈现一定的规律性。



A. A

B. B

C. C

D. D

86. 铁路：道路

A. 南京：江苏

B. 空调：家电

C. 英国：西欧

D. 美国：国家

87. 细胞：器官：消化系统：狗：动物

A. 原子：分子：芳香烃：苯：有机物

B. 员工：团队：部门：小米公司：企业C.

床单：被罩：床上用品：席梦思：家具

D. 甲骨文：金文：汉语：英语：语言

88. ▼★☆☆▼★☆☆

A. ★☆☆△☆☆★▼△ B. ★▼☆☆△★▼☆☆△ C. △▼★☆☆▼★☆☆△ D. ★△▼☆☆★☆☆▼

89. 鸿雁：书信

A. 江湖：社会

B. 汗青：史书

C. 同窗：朋友

D. 战争：烽烟

90. 无边落木：不尽长江

A. 千里冰封：万里雪飘

B. 晴川历历：芳草萋萋

C. 映阶碧草：隔叶黄鹂

D. 山穷水复：柳暗花明

91. 游泳：泳池

A. 搜索：网站

B. 收看：电视

C. 学习：教室

D. 书写：纸张

92. 律师：教授

A. 专家：吉林人

B. 钢筋：房屋

C. 歌手：乐队

D. 人：社会

93. 大小：轻重：物体

A. 快慢：缓急：时间 B. 真伪：多少：数据 C. 古今：春秋：历史 D. 是非：对错：答案

94. 事实：伪造的事实

A. 秘密：公开的秘密 B. 陷阱：温柔的陷阱 C. 谎言：善意的谎言 D. 忧愁：甜蜜的忧愁

95. 碗：水杯

A. 玻璃：书包

B. 光：蜡烛

C. 沙发：床

D. 电脑：娱乐

96. 蚊子可传播多种疾病，如疟疾、丝虫病、乙型脑炎等。有人担心由于蚊子叮咬了HIV感染的人而在

叮咬下一位时会将存在蚊子体内的HIV在人际间传播。但研究人员指出这样的担心大可不必。

如果以下各项为真，最能支持研究人员观点的是（ ）。

A. HIV感染的人血液中并不总是拥有高水平的HIV病毒B.

蚊子叮咬HIV感染的人后不一定立即去叮咬下一个人C.

蚊子通过食管吸入血液，这种血液的吸入总是单向的 D.

孩子容易被蚊子叮咬，但他们身上极少发生HIV感染

97. 感冒是自限性疾病，一到两周之后会自愈。如果忍受得了，完全没有必要吃那些缓解症状的感

冒药，注意多喝水和休息即可。忍受不了，吃点缓解症状的感冒药也行，但普通感冒药并不真正治疗感

冒。

以下哪项如果为真，能够削弱上述观点？（ ）

- A. 吃药缓解症状可加速感冒的治愈
B. 感冒会自愈，吃药的作用在于缓解症状C.
多喝水多休息有利于感冒的自愈
D. 感冒药可缓解咳嗽、鼻涕等症状

98. 美国一项最新研究发现，肥胖具有“社会传染性”，它很容易从一个人传染到另一个人身上，社会纽带在肥胖问题上的影响甚至超过基因的作用。研究人员认为，这主要是由于身体肥胖的亲人和朋友改变了你对于体重可接受的标准，你会认为他们的体重可以接受。

以下哪项如果为真，最能质疑研究人员的解释？（ ）

- A. 肥胖的人更倾向与肥胖的人交朋友
B. 基因对人的肥胖程度的影响其实是不确定的
C. 一个人的饮食生活习惯往往会受到家人和朋友的影响D.

很多人由于现代社会压力大、暴饮暴食等原因导致肥胖

99. 据统计，和去年相比，今年1月以来流感患者的数量有明显的下降。这得益于新型特效药的发明和投入使用。

以下最能反驳上述结论的是（ ）。

- A. 2月份为流感的高发期
B. 流感患者很少到医院去治疗
C. 流感病毒具有抗药性
D. 新型特效药定价高，患者使用少

100. 科学家对近140名比利时阿尔茨海默氏症患者进行了跟踪调查，其中半数受试者会说两种语言。结果显示，只说一种语言的患者平均在71岁首次出现阿尔茨海默氏症症状，双语人群则是76岁。根据上述材料，可以推出（ ）。

- A. 掌握两门语言可以延缓认知的老化
B. 不掌握两门语言就不能延缓老年痴呆C.
只有学习外语才可以防治老年痴呆
D. 长期使用两种语言能防止大脑退化

101. 美国大律师赫梅尔，在一件赔偿案中代表某保险公司出庭辩护。原告声称他的肩膀被摔下来的升降轴打伤，至今右臂仍抬不起来。“请给陪审员们看看，你的右臂现在能举多高？”赫梅尔说道。原告慢慢地将手臂举到齐耳的高度，并表现出非常吃力的样子，以示不能再举得更高了。“那么，你在受伤前能举多高呢？”赫梅尔话音刚落，原告不由自主地一下将手臂举过了头顶，引起全庭哄堂大笑。原告所犯的逻辑错误是（ ）。

- A. 因果倒置
B. 机械类比
C. 模棱两可
D. 自相矛盾

102. 低热量食物是指含淀粉、糖类等碳水化合物类较少的食物。通过食用低热量食品，可以有效控制能量的摄入量，避免多余能量在体内以脂肪形式储存下来。如果体重已经较重的人改为食用低热量食品，则可在保持饱腹感的同时达到减肥效果。另外，有许多人认为，低热量食物对糖尿病患者也十分有益。

以下哪项为真，最能支持上述推论？（ ）

- A. 改为食用低热量食物需要逐步进行，否则会引起机体代谢紊乱
B. 研究表明低热量饮食可减少脂肪在胰脏中的沉积，恢复胰岛素的分泌 C.
低热量食品可适当增加进食量，满足饱腹感，享受吃饱的乐趣
D. 低热量食品可以降低超重或糖尿病患者的体重，但需要补充其他营养

103. 某单位要选拔人才下乡挂职，符合条件的候选人有甲、乙、丙、丁、戊、己，人事部门、组织部门和办公室分别提出了自己的要求：

人事部门：丙、丁两人中只能去一人。

组织部门：若丁不去，则戊也不能去。

办公室：甲、丙和己三人必须留下一个。

由此可以推出，能够同时满足三个部门要求的派出方案是（ ）。

- A. 甲、乙、己 B. 甲、乙、丙、己 C. 乙、丙、戊 D. 乙、丙、丁、戊

104. 甲、乙、丙、丁四名青少年拥有手机、电脑、相机三种电子产品的情况如下：

- ①只有一个人同时拥有手机、电脑、相机；
 ②有三个人拥有手机，有两个人拥有电脑，只有一个人拥有相机；
 ③每个人至少拥有三种电子产品中的一种；
 ④甲和乙是否拥有电脑的情况相同（要么两人都有，要么两人都没有）；
 ⑤乙和丙是否拥有手机情况相同；
 ⑥丙和丁是否拥有手机的情况不同。

拥有相机的是（ ）。

- A. 甲 B. 乙 C. 丙 D. 丁

105. 在一次流感大流行中，研究人员到农场去探视，发现很多农民感染了流感。但有一家每个人都很健康，这家的女主人说在家里的每个房间都放了一颗没有剥皮的洋葱。研究人员观察后在洋葱上发现了流感病毒，因此得出结论，洋葱吸收了病菌，使这家人保持了健康。但也有专家认为，虽然洋葱是一种不错的蔬菜，但防流感的重任不能交给洋葱。

以下哪项如果为真，最能支持该专家的观点？（ ）

- A. 另有研究表明，大蒜同样具有预防流感的功效
 B. 流感病毒在大自然中存在着亿万种，反而不断变异
 C. 如果身体健康、注意卫生，在空气新鲜且病原微生物密度极低的环境中，人感染流感的几率就小
 D. 这家人在流感流行期间每天都吃大量的新鲜蔬菜和水果

106. 红旗原则是指如果侵犯著作权的事实是显而易见的，网络服务商就不能装作看不见，或以不知道侵权的理由来推脱责任。

根据上述定义，下列适用红旗原则的情形是（ ）。

- A. 未经用户许可，某客户端软件就能够自动扫描、获取用户个人数据
 B. 甲某利用网络服务商提供的免费存储空间，非法经营盗版影视作品
 C. 乙某上传正在首播的某热门电视剧，并被网站编辑推荐到下载首页
 D. 丙某通过第三方在有下载功能的互联网电视上获取未经授权的节目

107. 互动式教学，就是通过营造多边互动的教学环境，在教学双方平等交流探讨的过程中，达到不同观点碰撞交融，进而激发教学双方的主动性和探索性，从而提高教学效果的一种教学方式。

根据上述定义，以下属于互动式教学的是（ ）。

- A. 某学院通过文化讲座向外国留学生介绍儒家思想

B. 王老师带领教育专业的学生进行课堂教学模拟实验 C.

小王觉得自己英语不好，报名参加课外一对一辅导 D.

学生和老师就某一个问题展开课堂辩论

108. 报复陷害罪，是指国家机关工作人员滥用职权，假公济私，对控告人、申诉人、批评人、举报人实行报复陷害的行为。

根据上述定义，下列属于报复陷害罪的是（ ）。

A. 市委办公室主任李某被下属举报贪污受贿，怀恨在心，雇佣打手对其进行报复

B. 校董事会主席张小川怀疑某学院院长举报自己学术造假，便利用董事会力量将该院长撤职 C.

警察王某的家人曾被黑社会成员孙某威胁过，王某成功抓捕孙某之后对其实施殴打

D. 安全局干事小李举报王主任徇私舞弊之后，王主任制造伪证，导致小李因泄密罪被捕

109. 保险储备：指企业为防备原材料运达误期或计划外增加需要量而建立的原材料储备。下列属于保险储备的是（ ）。

A. 张大妈平时习惯多买些粮油盐放在家里，以备万一有什么事抽不开身去买

B. 李厂长望着满仓库的滞销产品，愁容满面，心里盘算着大力扩展销售渠道的办法

C. 洪水肆虐，道路交通受到严重威胁，刘厂长并不慌忙，因为度过汛期的原料早已备足 D.

王经理年前到处追债收款，给员工发放了年终奖金，也准备好了来年开工的各项资金

110. 文饰作用是一种自我防御机制或适应行为，指一个人为了掩饰不符合社会价值标准、明显不合理的行为，或不能达到个人追求目标时，往往在自己身上或周围环境中找一些理由来为自己辩护，把自己的行为说成是正当合理的，以隐瞒自己的真实动机或愿望。

根据上述定义，下列选项属于文饰作用的是（ ）。

A. 小明因为没有复习功课，不惜把自己的手弄伤以逃避考试

B. 某犯罪嫌疑人为了逃避法律制裁，串通证人作伪证，编造不在场证明为自己开脱

C. 某电子公司新产品投放市场失败，经过研究，管理层认定失败的原因是前期宣传没有做好D.

小王想成为公司经理，但他认为自己能力不够，没有报名竞聘，事后却对人说自己不屑参加

111. 牛鞭效应是供应链上的一种需求变异放大的现象，指信息流从最终客户端向原始供应商端传递时，无法有效地实现信息的共享，使得信息扭曲现象逐级放大，导致需求信息出现越来越大的波动。

根据上述定义，下列属于“牛鞭效应”的是（ ）。

A. 在各地禽流感流行期间，零售商甲听说醋可以预防流感，他将此视为不错的商机，大量囤积袋装醋，以待未来高价销售

B. 某新产品上市，供不应求，零售商甲根据产品的销售情况临时增加向批发商乙的订货量，乙根据不同零售商提交的订货量向商品销售中心订货

C. 零售商甲根据上月销量估算出一个订货量，为保证该订货量及时可得，在稍微增加订货量之后提交给批发商乙，乙出于同样的考虑向某商品销售中心订货

D. 某商品销售中心根据市场动向和年销售目标，加大该商品投放市场的力度，越来越多的零售商选择了该商品

112. 场依存性是指人对物体的知觉倾向于把外部参照作为信息加工的依据，难以摆脱环境因素的影响

响。他们的态度和自我知觉更易受周围的人，特别是权威人士的影响和干扰，善于察言观色，注意并记忆言语信息中的社会内容。

根据上述定义，下列属于场依存性的是（ ）。

- A. 具备独立自主的学习能力
B. 对于他人的评价有自己的看法
C. 做事情由内在动机支配
D. 做事情由外在动机支配

113. 社会定型：指人们对不同社会集团的人所持的固定看法，通常是概括而笼统的，并非都有充分根据。

下列属于社会定型的是（ ）。

- A. 小李是湖南人，尽管她不吃辣，但是一到聚餐，同事们都认为她一定能吃辣
B. 小王遭受多次挫折后，自信力不足，对所处环境很是不满，甚至产生厌恶情绪
C. 从小生活在南京的小赵，刚到北京工作时对北京的气候非常不适应
D. 网络的发展改变了人们的通信方式，纸质书信逐渐淡出人们的视野

114. 政策性亏损是指为保证国民经济的协调发展和人民生活的安定，企业在实现政府规定的社会公益服务目标、生产经营某种商品的过程中，由于国家限价等原因而产生的亏损。发生这类亏损，由财政部门审核后给予合理补偿。

根据上述定义，下列属于政策性亏损的是（ ）。

- A. 2年某粮食直补每亩增至120元，补贴资金将通过“省财政涉农补贴一本通”发放到种粮农民手中，以弥补农民增加的种粮成本
B. 国家出台提高小麦最低收购保护价政策，某粮油企业为开拓市场大量抢购小麦，又将大量面粉低于市场价销售，因此造成了亏损
C. 政府为实现农业现代化目标，加大了对农业生产改造的资金收入，某农机企业在这种形势下扩大生产规模导致了亏损，得到了退税补偿
D. 某县的粮食购销企业在经营政府规定的平价粮食过程中，因国家粮食保护价高但粮油成品销售价格低导致了亏损，财政部门给予定额补贴

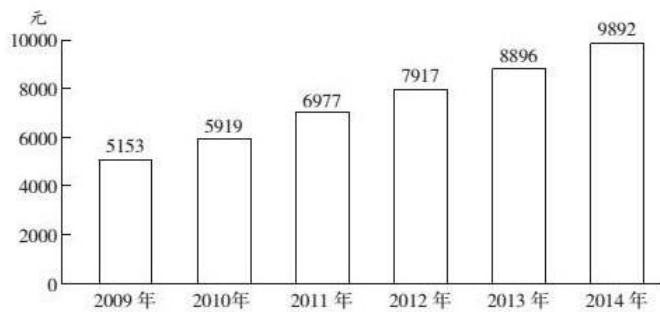
115. 圆桌会议是指一种平等、对话的协商会议形式，是在举行国际或国内政治谈判时，为避免席次争执，表示参加各方地位平等起见而采取的一种围圆桌而坐的会议形式。

根据上述定义，下列说法不正确的是（ ）。

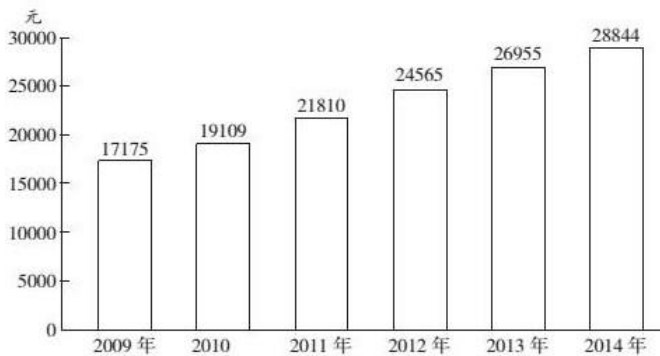
- A. 圆桌会议主要用于解决国际政治争端
B. 圆桌会议是一种多边协商的会议方式
C. 圆桌会议象征着平等交流、意见开放
D. 圆桌会议与会者无主次尊卑之分

五、资料分析

2009~2014年我国农村居民人均纯收入



2009~2014年我国城镇居民人均可支配收入



116. 2011~2014年，城乡居民收入差距最少的年份差额是（ ）。

- A. 10023 B. 12022 C. 14833 D. 16648

117. 城镇居民人均可支配收入增长最少的年份是（ ）。

- A. 2011年 B. 2012年 C. 2013年 D. 2014年

118. 农村居民人均纯收入增长最多的年份增长了（ ）。

- A. 1934元 B. 1058元 C. 1889元 D. 996元

119. 2013年城镇居民人均可支配收入比同年农村居民人均纯收入高（ ）。

- A. 92% B. 192% C. 203% D. 292%

120. 根据以上材料可以得出的结论是（ ）。

- A. 2009~2014年城乡居民收入差距逐年降低
 B. 2009~2014年农村居民人均纯收入呈现上升态势
 C. 与2012年相比，2013年城乡居民收入之比扩大
 D. 2015年城乡居民收入差距将进一步缩小

2013年，全国商品房销售面积130551万平方米，比上年增长17.3%，增速比1~11月份回落3.5个百分点，比2012年提高15.5个百分点。其中，住宅销售面积增长17.5%，办公楼销售面积增长27.9%，商业营业用房销售面积增长9.1%。商品房销售额81428亿元，增长26.3%，增速比1~11月份回落4.4个百分点，比2012年提高16.3个百分点。其中，住宅销售额增长26.6%，办公楼销售额增长35.1%，商业营业用房销售额增长18.3%。

2013年末，全国商品房待售面积49295万平方米，比11月末增加2489万平方米，比2012年末增加12835万平方米。其中，住宅待售面积比11月末增加1696万平方米，办公楼待售面积增加156万平方米，商业营业用房待售面积增加346万平方米。

2013年东中西部地区房地产销售情况

地区	商品房销售面积		商品房销售额	
	绝对数(万平方米)	比上年增长(%)	绝对数(亿元)	比上年增长(%)
全国总计	130551	17.3	81428	26.3
东部地区	63476	19.3	49327	28.4
中部地区	35192	16.8	16525	26.9
西部地区	31883	14.1	15576	19.6

121. 2011年全国商品房销售面积约为多少亿平方米? ()

- A. 8.4 B. 9.2 C. 9.8 D. 10.9

122. 2013年全国商品房单位面积的平均销售价格约比上年增长了多少()。

- A. 4.4% B. 7.7% C. 11.1% D. 15.5%

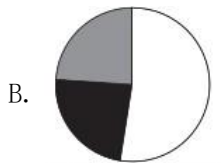
123. 与同年11月末相比, 2013年12月末全国住宅、办公楼和商业营业用房待售面积的增量之和约占商品房总待售面积增量的()。

- A. 79% B. 88% C. 94% D. 100%

124. 以下哪张统计图准确地表示了2013年东部、中部和西部地区商品房销售面积占当年全国总销售面积的比重? ()



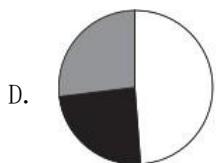
□东部 ■中部 ▒西部



□东部 ■中部 ▒西部



□东部 ■中部 ▒西部



□东部 ■中部 ▒西部

125. 关于2013年房地产市场, 能够从上述资料中推出的是()。

- A. 12月当月全国商品房销售额同比增速超过30%
B. 中部地区商品房销售单价超过5000元/平方
C. 东部地区商品房销售额占全国比重低于上年
D. 平均每个月新增1000多万平方米待售商品房

2015年1~3月, 国有企业营业总收入103155.5亿元, 同比下降6%。其中, 中央企业收入63191.3亿元, 同比下降7%; 地方国有企业收入39964.2亿元, 同比下降4.2%。

1~3月, 国有企业营业总成本100345.5亿元, 同比下降5.1%, 其中销售费用、管理费用和财务费用同比分别下降2.9%、增长2.3%和增长7.3%。其中, 中央企业成本60216.5亿元, 同比下降6.4%; 地方国有企

业成本40129亿元，同比下降3.1%。

1~3月，国有企业利润总额4997.3亿元，同比下降8%。国有企业应交税金9383亿元，同比增长0.13%。

3月末，国有企业资产总额1054875.4亿元，同比增长12%；负债总额685766.3亿元，同比增长11.9%；所有者权益合计369109.1亿元，同比增长12.2%。其中，中央企业资产总额554658.3亿元，同比增长10.5%；负债总额363304亿元，同比增长10.4%；所有者权益为191354.4亿元，同比增长10.7%。地方国有企业资产总额500217.1亿元，同比增长13.8%；负债总额322462.3亿元，同比增长13.7%；所有者权益为177754.7亿元，同比增长13.9%。

126. 2014年1~3月，国有企业营业总收入最接近（ ）。

- A. 10.5万亿元 B. 11万亿元 C. 11.5万亿元 D. 12万亿元

127. 2015年1~3月，在销售费用、管理费用和财务费用中，占国有企业营业总成本的比重同比上升的有几项？（ ）

- A. 0 B. 1 C. 2 D. 3

128. 2015年3月末，中央企业所有者权益占国有企业总体比重比上年同期约（ ）。

- A. 下降了0.7个百分点 B. 下降了1.5个百分点 C. 上升了0.7个百分点 D. 上升了1.5个百分点

129. 2015年3月末，中央企业的资产负债率（负债总额÷资产总额）约在以下哪个范围内？（ ）

- A. 50%以下 B. 50%~60% C. 60%~70% D. 70%以上

130. 能够从上述资料中推出的是（ ）。

- A. 2015年1~3月，中央和地方国有企业营业成本均低于同期营业收入
B. 2014年1~3月，国有企业应交税金占同期营业总收入的一成以上
C. 2015年3月末，国有企业资产总额同比增长不到12万亿元
D. 2015年3月末，地方国有企业资产负债率高于上年同期水平



扫码领取答案解析预约下一套