

展鸿《行测》模拟卷（三）

第一部分 常识判断

根据题目要求，在四个选项中选出一个最恰当的答案。

请开始答题：

1. 习近平总书记在十九届中央纪委五次全会上强调，完善党和国家监督体系，全面加强党的纪律建设，要深化运用“四种形态”。下列属于“四种形态”内容的是（ ）。

- ①一体推进不敢腐、不能腐、不想腐的斗争态势
- ②党纪轻处分和组织处理要成为大多数
- ③破除形式主义、官僚主义，作风攻坚促进脱贫攻坚
- ④严重违纪违法涉嫌违法立案审查的只能是极少数

A. ①② B. ①③ C. ②④ D. ①④

2. 虚拟经济是相对实体经济而言的，是以资本化定价方式为基础的一套特定的价格体系。下列产业中不属于虚拟经济的是（ ）。

A. 金融业 B. 收藏业 C. 旅游业 D. 博彩业

3. 中央全面依法治国工作会议强调，推进全面依法治国要以解决法治领域突出问题为着力点，坚定不移走中国特色社会主义法治道路。下列选项中属于全面依法治国的主要内涵的有（ ）。

- ①建设中国特色社会主义法治体系
- ②建设社会主义法治国家的总目标
- ③坚持党的领导、人民当家作主、依法治国有机统一
- ④坚持有法可依，有法必依，执法必严，违法必究

A. ①②③ B. ①③④ C. ①②④ D. ②③④

4. 近几年来，国家主席习近平多次在国内外重要场合阐述构建人类命运共同体的重要思想。下列相关说法中，错误的是（ ）。

- A. 人类命运共同体意识超越了种族、文化、国家与意识形态的界限
- B. 构建人类命运共同体的思想顺应了时代呼声和世界潮流
- C. 构建人类命运共同体将形成一种以中国为中心的国际政治新秩序
- D. 推动构建人类命运共同体，是新时代中国特色大国外交的生动实践

5. 对于垓下之战项羽战败后于乌江自刎这一历史事件，杜牧认为：“胜败兵家事不期，包羞忍耻是男儿。江东子弟多才俊，卷土重来未可知。”而王安石则认为：“百战疲劳壮士哀，中原一败势难回。江东子弟今虽在，肯与君王卷土来？”这体现的认识论原理是（ ）。

- A. 认识是主体对客体的反映 B. 主体对客体的反映是能动的
- C. 感性认识和理性认识有质的区别 D. 认识过程具有反复性和无限性

6. 下列发生在抗日战争时期的事件按时间顺序排列，正确的是（ ）。

- ①中国远征军强渡怒江，发起滇西反攻
 - ②中国与苏联签订《中苏友好同盟条约》
 - ③中国共产党发表《为抗日救国告全体同胞书》
 - ④中国国民党政府与苏联政府签订《中苏互不侵犯条约》
- A. ①②③④ B. ②④①③ C. ③①④② D. ③④①②

7. 根据《中国共产党纪律处分条例》，下列说法正确的是（ ）。

- A. 党员张某受到严重警告，其两年内不得在党内提升职务
- B. 留党察看分为留党察看一年、留党察看二年，最长不得超过二年
- C. 处于留党察看期间的赵某，不具有表决权，但仍有选举权和被选举权
- D. 李某严重违法被开除党籍，其三年内不得重新申请入党

8. 根据新修订的《公务员法》，下列说法正确的是（ ）。

- A. 公务员职级在省部级以下设置
- B. 新录用的公务员试用期为六个月
- C. 公务员工作年限满二十年的，可以提前退休
- D. 公务员完全丧失工作能力的，应当退休

9. 根据《民法典》的规定，下列说法错误的是（ ）。

- A. 民事主体包括自然人、法人和非法人组织
- B. 法人、非法人组织享有隐私权、名称权、名誉权、荣誉权等权利
- C. 向人民法院请求保护民事权利的诉讼时效期间为三年
- D. 遭受性侵害的未成年人，年满 18 周岁后仍可追究侵害方责任

10. 中共中央在制定国民经济和社会发展第十四个五年规划和二〇三五年远景目标的建议中提出，在全面建成小康社会、实现第一个百年奋斗目标之后，“十四五”时期我们将开启的几项伟大征程是（ ）。

- ①全面建设社会主义现代化国家新征程 ②向第二个百年奋斗目标进军
 - ③全面建成小康社会决胜阶段 ④实现中华民族伟大复兴
- A. ①② B. ①③ C. ①④ D. ②④

11. 下列诗句按描述的季节或节日顺序排列正确的是（ ）。

- ①春城无处不飞花，寒食东风御柳斜 ②云横秦岭家何在，雪拥蓝关马不前
 - ③青枫江上秋帆远，白帝城边古木疏 ④梨花风起正清明，游子寻春半出城
- A. ①④②③ B. ①④③② C. ④①③② D. ④②③①

12. 下列关于通信技术的说法错误的是（ ）。

- A. 2017 年发布的 5G NR 首发版本是全球第一个可商用部署的 5G 标准
- B. 世界上第一颗地球同步静止轨道通信卫星是美国发射的“同步 3 号”卫星
- C. 数字通信的优点是抗干扰能力强、易加密、频带利用率高

D. 信道是所有信号传输媒介的总称，通常分为有线信道和无线信道两种

13. 根据我国航天发展史，下列顺序正确的是（ ）。

- ① “天宫一号”与“神舟八号”实现对接
- ② “天链一号 03 星”与该系统 01 星、02 星实现全球组网运行
- ③ “921 工程”立项
- ④ “嫦娥一号”绕月飞行

A. ①②③④ B. ①③④② C. ③④①② D. ②①③④

14. 宏观调控的一个目标就是增加就业以达到充分就业。下列关于失业的说法错误的是（ ）。

- A. 失业主体必须具备有劳动能力、愿意就业、没有工作三个条件
- B. 摩擦性失业是指在经济周期中的衰退或萧条阶段因需求下降而造成的失业
- C. 在实际统计中，一般用失业率来衡量一国的就业状况
- D. 政府可以采取扩张性财政政策和扩张性货币政策增加就业，减少失业

15. 关于绝对零度，说法正确的是（ ）。

- A. 绝对零度是指 0 摄氏度
- B. 绝对零度是指 273 开尔文
- C. 接近绝对零度时，导电物质会出现超导现象
- D. 自然界中，物质能达到的最低温度是绝对零度

16. 下列选项中，有关物理学家和他的主要贡献的描述，正确的是（ ）。

- A. 第一个发现电流的磁感效应的科学家是法拉第
- B. 第一个发现电磁感应现象的科学家是奥斯特
- C. 第一个测出大气压值的科学家是托里拆利
- D. 第一个测定了热和机械功之间当量关系的科学家是伽利略

17. 大气又叫大气圈，被称为地球生命的保护伞，以下有关说法错误的是（ ）。

- A. 大气层的厚度大约在 1000 千米以上，没有明显的界线
- B. 大气对太阳辐射具有削弱作用
- C. 平流层的空气对流很强烈
- D. 大气中的云层和尘埃，具有反光镜的作用

18. 血液的颜色取决于血红蛋白中的金属离子，因此动物的血液颜色五颜六色。下列动物与其血液颜色对应错误的是（ ）。

- A. 螃蟹——铜离子——蓝色
- B. 青蛙——钒离子——绿色
- C. 黄鼬——铁离子——红色
- D. 苍蝇——钴离子——桃红色

19. 下列有关生活中的灭火常识，说法正确的是（ ）。

- A. 家用电器或线路着火，可直接泼水灭火
- B. 干粉灭火器灭火属于冷却灭火，一般用于固体、液体及电器灭火
- C. 锅里的食油因温度过高着火时，可从侧面倒入冷食油灭火

- D. 使用干粉灭火器时，应保持瓶身直立或横卧状态
20. 下列关于航天器与其创造的“首次”对应错误的是（ ）。
- A. 天宫一号——实现人类史上首次太空脑机交互实验
- B. 月球二号——实现世界上首次撞击月球表面活动
- C. 金星七号——首次成功实现在金星表面软着陆
- D. 嫦娥四号——实现世界首次月球背面软着陆与巡视探测

第二部分 言语理解与表达

本部分包括表达与理解两方面的内容。请根据题目要求，在四个选项中选出一个最恰当的答案。

请开始答题：

21. 任何精准推送都要尊重消费者的知情权、同意权和隐私权。如果既做不到精准又不能提供有用的信息，其给用户推送就是无关的垃圾信息。这样的推送必然_____，最终招致用户反感甚至用户流失。

填入划横线部分最恰当的一项是（ ）。

- A. 竹篮打水 B. 舍本逐末 C. 南辕北辙 D. 得不偿失

22. 距离梦想越近，挑战往往越大。中华民族伟大复兴，绝不是轻轻松松、敲锣打鼓就能实现的。当前，国际形势_____，周边环境复杂敏感，社会主要矛盾变化的影响广泛深远，改革发展稳定任务艰巨繁重。

填入划横线部分最恰当的一项是（ ）。

- A. 波诡云谲 B. 变幻无常 C. 风起云涌 D. 剑拔弩张

23. 不论时代发生多大变化，不论生活格局发生多大变化，家风作为一个家庭的精神内核，是_____代际冲突、维系亲人和睦关系的重要精神纽带。家风好比一件上好的古董，历经一代代人的呵护与打磨，_____出一个家庭或家族的独特底色。

依次填入划横线部分最恰当的一项是（ ）。

- A. 消除 铺陈 B. 消弭 勾勒 C. 祛除 描绘 D. 消释 体现

24. 大人物以史为鉴，把《三国演义》俨然当成一本教科书；老百姓_____，《三国演义》又是一份消遣的佳品、聊天的谈资。于是，仁者见仁，智者见智，王者看其王道，霸者看其霸道——萝卜青菜，各有所爱，千秋赏鉴，品评不已。所以此书问世数百年来，盛行不衰，一代又一代的人捧读把玩，_____。

依次填入划横线部分最恰当的一项是（ ）。

- A. 百无聊赖 赞不绝口 B. 闲居无聊 交口称赞
- C. 饭后茶余 爱不释手 D. 茶余酒后 手不释卷

25. 中国传统文献学的核心功能在于“辨章学术，考镜源流”。在具体的实践过程中，过分突出理论，则会使文献学研究成为_____。偏于注重考证，则会使文献学研究容易遁入_____。因此，如何将传统文献学理论与实践有效地结合在一起，是当下中国古典文献学界学者面临的重大挑战。

大群众_____的大众艺术形式，但一些戏曲虽然与观众之间没有荧屏、银幕之隔，却用艺术化的表演讲述着与观众距离较远的生活。

依次填入划横线处最恰当的一项是（ ）。

- A. 爱屋及乌 津津乐道 B. 不屑一顾 耳熟能详
C. 敬而远之 喜闻乐见 D. 心猿意马 信手拈来

32. 有偿代写作业到底从何时兴起已很难说清，但可以肯定，至少十年来这门奇葩生意不仅没有得到_____，反而_____，每年假期都火爆一时。如今，代写作业已形成了完整的产业链，价格_____的同时，代写“服务”也升级到了可定制正确率、模仿本人字迹的地步。

依次填入划横线部分最恰当的一项是（ ）。

- A. 控制 得寸进尺 居高不下 B. 遏止 恣意妄为 节节攀升
C. 制止 肆无忌惮 作壁上观 D. 遏制 变本加厉 水涨船高

33. 优秀的山水画所_____的自然之境，可以陶冶情操，可以让人在_____中拥有片刻宁静，在奔忙中获得暂时_____。唐代画家张璪说“外师造化，中得心源”，山水画作为中国传统绘画中的重要画科，的确在艺术层面为人们提供了一种可能，

依次填入划横线部分最恰当的一项是（ ）。

- A. 创造 纷扰 休憩 B. 描绘 浮躁 停歇
C. 渲染 嘈杂 放松 D. 营造 喧嚣 驻息

34. 自晚清西方权利概念输入中国以来，国人对权利思想就争论不断，这一争论尤其聚焦于儒学或儒家社会与权利是否相容上。从维新派的热情呼吁到港台新儒家的积极_____，从保守派的_____担忧到当代美国社群主义汉学家对权利社会的批评与贬斥，相容论与不相容论都走过了一个多世纪，至今仍_____。

依次填入划横线部分最恰当的一项是（ ）。

- A. 防守 排挤 分庭抗礼 B. 支持 忍让 各执一词
C. 包容 忌惮 百家争鸣 D. 接纳 抵御 聚讼纷纭

35. 在武侠小说中，一些人因为_____，得到武功秘籍，_____地成为顶尖高手；一些人即使资质平庸、功力尚浅，却由于得到了前辈高人的“功力输送”，迅速地实现了“逆袭人生”。与那种_____、苦苦修炼的普通人相比，人们似乎更羡慕这些找到捷径的幸运儿。

依次填入划横线部分最恰当的一项是（ ）。

- A. 时来运转 一步登天 稳扎稳打 B. 机缘巧合 立竿见影 脚踏实地
C. 适逢其会 扶摇直上 废寝忘食 D. 投机取巧 平步青云 卧薪尝胆

36. 长期以来，我国公立医院补偿机制不合理，医务人员的劳务技术价格普遍偏低，很多技术含量高的项目价格严重低于成本。为了弥补亏损，医院只能从药品、耗材、检查等收入上“补齐”。近年来，医生开大处方、滥用耗材等现象屡禁不止，根源就在于药品、耗材加成是医院的重要收入来源。如果医生不多开药、不多用耗材，可能干得越多越亏本。这种补偿机制的最大弊端是重物轻人，物的价值超过人的价值。因此，北京市在取消药品加成之后，再次取消耗材加成，同时降低部分检查项目价格，目的

就是要让药品、耗材、检查不再给医院带来额外利益，从而遏制医院的逐利冲动，促进医院发展方式由资源消耗型向内涵质量型转变。

最适合做这段文字标题的是（ ）。

- A. “减”耗材才能“加”医德
B. “补齐”亏损不可贪财
C. 变“重物轻人”为“重人轻物”
D. 不让耗材再“耗财”

37. 早在几十年前，德国、日本、英国、澳大利亚等国家就开始了垃圾分类的持久战。经过长达半个世纪的磨合，目前有些做法已经比较成熟并取得了良好效果。1993年，原建设部出台《城市生活垃圾管理办法》，我国多次制定相关垃圾分类规则，陆续推进实施也已有20多年历史，但由于各种原因，我国垃圾分类工作推进十分缓慢。其中很重要的一个原因就是_____，对垃圾分类的标准和具体做法，相应的奖惩措施没有明确规定。

填入划线部分的句子，最恰当的是（ ）。

- A. 居民垃圾分类的意识不足
B. 开展垃圾分类工作的时间较短
C. 垃圾分类的法律体系不健全
D. 垃圾分类的监管不到位

38. 在我国，赌博是一种违法活动，一直是公安部门严厉打击的对象。自从互联网进入人们的日常生活以后，依托网络发展起来的“互联网+”经济已经成为经济体系中的重要一环。但与此同时，也有许多不法分子盯上了网络这个工具，搞起“互联网+赌博”，其产生的社会危害比传统的聚赌犯罪更加严重。一些设在亚太地区的赌博机构，在过去很难吸引国内赌客参与赌博，但在互联网的加持之下，这些赌博机构却大肆侵入了国内的网络环境，严重损害了国内的治安环境。

这段文字主要说明（ ）。

- A. 我国公安部门严厉打击赌博活动
B. “互联网+赌博”对社会造成的危害更加严重
C. 境外赌博机构通过互联网威胁我国国内治安环境
D. 互联网不能成为赌博活动的法外之地

39. 当前，世界新一轮科技革命和产业革命呈现历史性交汇，产业升级和生产要素转移步伐加快。对中国而言，推进产业转型升级，实现新旧动能转换，由“中国制造”向“中国创造”“中国智造”转变，时不我待。对世界而言，无论是发达国家还是发展中国家，加快经济发展速度，提升经济增长质量，都是当务之急。从这个意义上讲，为经济社会发展培养更多更好的高素质技能型人才，是时代赋予职业教育的责任和使命。

这段文字意在说明（ ）。

- A. 培养高质量的技术型人才赋予了职业教育新的历史要求
B. 大力发展职业教育已逐渐成为很多国家的国策
C. 发展职业教育是一项迫在眉睫又任重道远的任务
D. 通过发展职业教育，推动经济社会全面发展

40. 用笔技巧是书法创作的核心。元代高僧书法家李溥光在《八法解》中说：“一字之法，贵在结构，一笔之法，妙在起止，起止得宜，则画无不美，结构有道，则字无不佳。”_____。榜

书法作品要达到“情动形言，取会风骚之意；阳舒阴惨，本乎天地之心”的最高境界，最重要的手段就是“挫万仞于笔端，合情调于纸上”，它是书家审美意识、审美心理、审美情趣在起笔、收笔、转笔、掠笔、点线波变中的体现。

填入划横线部分最恰当的一项是（ ）。

- A. 榜书多为少字数，书法家总是精心构思，一丝不苟
- B. 榜书的笔法不仅丰富多样，而且十分注重笔势
- C. 笔法、墨法和章法构成了榜书艺术的内在结构
- D. 榜书艺术的审美价值在于寓形式美与意境美于一体

41. 从军事博弈的发展脉络看，历代中原统治者，之所以都特别偏爱建立在城池防守基础上的“非攻”军事防御手段，也许正是得益于筑城技术的高度发达和城防之术的极高效率。于是，专守待敌、后发制人的“筑城防御”军事思想大行其道，并极大地影响了中国历史文明的走向。从秦始皇修筑万里长城开始至今，无论是历代对于长城防线的高度重视，还是今天我们依然用“钢铁长城”来形容我们的国防理念，都足以说明这种以城墙为基础的战略防御思想，对我们的影响是多么重要、多么深远。

这段文字意在说明（ ）。

- A. 我国古代军事防御手段十分高超得益于“非攻”思想
- B. 古代“筑城防御”的军事思想影响我国历史文明的走向
- C. 我国“钢铁长城”这一国防理念的历史很久远
- D. 历代中原统治者认为军事中“守”比“攻”更重要

42. 借助“互联网+”，商贸的渠道更加宽广，人们表达善意的途径也更为通畅。无论是团购贫困户生产的农副产品，还是用“轻松筹”“水滴筹”募集善款，涓涓暖流很快就能汇成爱心的江海。但“悲情营销”“骗捐诈捐”等现象，则提醒人们对网络虚假信息必须高度警惕。网络平台有责任加强排查和把关，避免虚假信息遮蔽消费者的双眼。对电商平台而言，还应善用图片识别、身份认证等技术手段筑牢安全防线，铲除“悲情营销”的生存土壤。

这段文字意在强调（ ）。

- A. “互联网+”为人们表达善意提供便利
- B. 网民应警惕“悲情营销”等网络虚假信息
- C. 网络平台对虚假信息必须加强排查、把关
- D. 社会各方必须合力抵制网络虚假信息

43. ①在一个社会中，若是公民信息能够轻易为人所获悉，就容易滋生暴力、诈骗等犯罪

②可以说，一个国家的法治水平很大程度上取决于对公民信息的保护力度与治理水平

③公民信息安全不仅是社会所需提供的最低公共产品，而且也是国家安全的重要一环

④公民个人信息指不为公众广泛掌握，公民不愿随意公布、涉及隐私的个体信息

⑤更将使得整个社会陷入惶惶不安之中

⑥个人信息涉及公民的人身财产安全与诸多权益

将以上6个句子重新排列，语序正确的是（ ）。

- A. ⑥②①⑤③④
- B. ④⑥①⑤②③
- C. ⑥④②③①⑤
- D. ④②①⑤⑥③

44. ①如果以投机取巧消解奋斗的内涵，那么梦想就会变成空想

②马克思曾经写道：“在科学上没有平坦的大道，只有不畏劳苦沿着陡峭山路攀登的人，才有希望达到光辉的顶点。”

③每个人都有自己的选择，但可以肯定的一点是，名利不是梦想的唯一标准，捷径绝非实现梦想的首要通道

④如果以财富名利矮化梦想的价值，那么奋斗就会丧失意义

⑤立鸿鹄志，做奋斗者，才能在梦想与奋斗的相互激荡中无愧于青春、无悔于人生

⑥首先要立志，那应该是放开眼量、存于高远的志向；其后是前行，用奋斗打磨梦想最耀眼的光芒将以上6个句子重新排列，语序正确的是（ ）。

- A. ③①④②⑥⑤ B. ③②④①⑥⑤ C. ⑤②①④⑥③ D. ②③①④⑥⑤

45. 网络时代，虽然人与人之间沟通的渠道越来越多，越来越便捷，但子女与父母的沟通尤其是心灵的沟通却越来越少了。那些和我们同在一个屋檐下的父母事实上成了我们“最熟悉的陌生人”，甚至出现了大学生12年不回家，拉黑父母6年，还写万字长文数落父母的极端个例。中国父母爱孩子，但爱孩子却并没有得到孩子正向的反馈，甚至在一些场景中，“中国妈妈”竟成了贬义词。高尔基说，单纯爱孩子，那是母鸡都会做的事，但教育好孩子却是一门艺术。

接下来最可能讲的是（ ）。

- A. 如何获得孩子的正向反馈 B. 教育孩子的正确方法
C. “中国妈妈”为什么变成贬义词 D. 如何科学地爱孩子

46. 客观地说，面向万物互联的未来，数据的广泛共享是无法扭转的历史趋势。平台间互相授权分享消费者信息，实现广告精准推送，既能“互通有无”降低交易成本，也能“投其所好”提升用户体验。然而，便捷不能替代安全。从互联网电信诈骗，到数据库被攻击造成账号密码被盗，因信息泄露酿成的危害早已不是“想象的风险”。潘多拉的魔盒打开容易，合上却太难。退一步说，即使数据分享不可避免，如何分享就成了关键。用户知情与否，有选择权还是没选择权，有着霄壤之别。

作者接下来最有可能讲的是（ ）。

- A. 如何避免个人数据的分享，减少互联网诈骗
B. 在数据分享中如何保护用户个人数据权利
C. 互联网平台授权法规的建立和完善
D. 提升互联网用户体验的举措

47. 整个心脏的心肌细胞的兴奋具有时间性和空间性，从而导致心肌不同步收缩。只有这样，心脏才能有条不紊地完成泵血功能。心脏兴奋性的精确传导取决于心脏内的快传导纤维。在某一时刻，心脏的某个部位处于兴奋收缩状态，其余部位处于舒张状态，随着时间的变化，收缩和舒张的部位也发生变化。当我们把电极安置在体表特定部位（如右臂和左腿）时，可以记录到反应心脏不同部位兴奋所表现出电位的总体差异，也就是我们见到的心电图。

下列说法与原文不符的是（ ）。

- A. 心肌收缩不同步促使心脏泵血功能得以运作
B. 心脏快传导纤维病变会影响心脏兴奋性的精准传导

- C. 心脏收缩和舒张部位随时间变化而发生变化
- D. 心电图就是人体特定部位所呈现的电位总差异

48. 在数千年历史演进中，中华民族形成具有鲜明民族特色的世界观、人生观以及理想信念、价值理念、道德观念，并已深深融入中国人血液之中，沉淀为中华民族的文化基因。中国文艺实践，某种程度上说，就是中华民族文化基因的投射。从微观角度来讲，任何时代的文艺实践都在呼应历史的风云际会。以当代文学为例，没有改革开放的浩荡春风，就没有改革文学的横空出世，没有互联网技术的蓬勃发展，网络文学异军突起也不可想象。换言之，中国历史的独特性造就中国文艺实践的独特性。中国文艺实践从孕育环境到精神承载，都具有不可复制的独特性。

这段文字主要说明（ ）。

- A. 每个国家、每个民族的文艺实践都有其自身的独特性
- B. 当代文学的崛起依赖于改革开放和互联网技术的发展
- C. 中国文艺实践的独特性来源于中国历史文化的独特性
- D. 文艺理论离不开文艺实践提供的经验土壤和思想空间

49. 网络软色情是一个新生事物，它不同于赤裸裸的网络色情——没有赤裸裸的色情，而是用一种不宜觉察的儿童色情，传递隐晦的性暗示。更可怕的是，软色情通常用儿童喜欢的动漫为载体，将软色情植入其中，达到“污”物无声的恶果。未成年人没有足够的判断力和控制力，孩子长期沉浸在软色情的毒液中，必定会削弱他们对色情所保持的敏感度，_____。如果孩子们把虚拟世界中的行为带到现实世界中，则危害会更大。

填入划横线部分最恰当的一项是（ ）。

- A. 软色情侵蚀孩子不是小问题
- B. 就如同温水煮青蛙
- C. 产生“只缘身在此山中”的错觉
- D. 不知不觉中侵害未成年人的纯净心灵

50. 人口问题事关国计民生、事关长远发展。特别是在推进高质量发展的进程中，促进人口长期均衡发展、进一步发挥我国人力资源的优势和潜力、积极应对人口变化带来的风险挑战，对于保持经济社会长远健康发展意义重大。也正因如此，人口数据备受各界关注。从第七次全国人口普查结果来看，既有总量的平稳增长，也有人口质量的显著提升，与此同时在性别结构、城乡结构上得到持续优化，这些积极变化体现出我国人口工作取得显著成效。但不可否认，当前也面临一些结构性矛盾，特别是劳动年龄人口和育龄妇女规模下降、老龄化程度加深、总和生育率下降、出生人口数量走低等，已经成为人口发展紧迫而现实的问题。

这段文字重点介绍（ ）。

- A. 人口普查事关国计民生和长远发展
- B. 人口变化所带来的风险与挑战需积极应对
- C. 人口普查结果中的人口变化的积极和消极因素
- D. 人口结构性矛盾制约我国经济社会的长远发展

“净几明窗，一轴画，一囊琴，一只鹤，一瓯茶，一炉香，一部法帖。”晚明文人陈继儒的《小窗幽记·集灵》描绘了一个由美妙器物所支撑的风雅世界。在作家赵柏田的新作《南华录：晚明南方士人

生活史》里，这样的世界被洁净又绵密的现代文钩沉、连缀、复活，似一道旖旎的风景，让我们看到日常生活的存在，看到他们生活中的细枝末节。只是，这种日常生活无关乎柴米油盐、婚丧嫁娶，而是与艺术、与审美息息相关。

《南华录》呈现了晚明时期南方士人精神的独特样貌。他们所处的时代，一方面，政治黑暗、朋党纷争、战乱频仍，另一方面，经济发达、物质繁荣、人文鼎盛。复杂的时代造就了一群特殊的人。他们的“风”，与“一箪食，一瓢饮，在陋巷，人不堪其忧，回也不改其乐”的儒家寒士风骨大相径庭；他们的“雅”，与寄情自然、纵身大化的道家隐士理想也大异其趣。如果说，以庄子为代表的道家审美理想追求的是审美主体不断超越自身局限，从而达到自由无限的审美境界，是一种纯精神的高蹈；那么，晚明士人摒弃了这种以内在精神造就的生活艺术，将审美的关注点由纯粹的精神层面回落到世俗生活层面。“物”，作为一种主体性的存在，参与了晚明士人的生活和审美实践。洗砚、鼓琴、听戏、评书、品画、饮酒、瀹茗、焚香、弹琴、选石、造园……那些并非生存所必需的“长物”被纳入日常生活，灌注以才智情思，营造一种风雅的生活情境，成为个人生命的寄托。

在审美情趣上，他们欣赏某种世俗的审美情调，也崇尚某种古雅的、超脱的情趣。两个层面看似相互抵牾，但都指向一个“真”字，忠实于真实的感受和需要。然而，建基于物之上的审美化的世俗生活热情能够成为生命真正的支撑吗？《南华录》里的人物活得率真、任性，骨子里却有深深的焦灼和痛苦。为了逃避政治和道德的双重挤压，他们放弃功名也连带着放弃了社会责任，却无法在声色犬马中获得一种真正的“心安”。无论年轻时怎样荒唐孟浪、极尽声色，暮年大都有悔恨之意。悔什么？年华空度、光阴虚掷？恨什么？家国倾覆、繁华成空？世家子张岱晚年检讨自己的一生，深感繁华靡丽过眼皆空，50年来总成一梦，一派沉痛的忏悔语气。袁宏道后来也有悔悟，提出解脱仍应求“安心”，依靠理性的力量正本清源，此前的放纵颓废“毕竟徇外之根，盘据已深，故再变而为苦寂”。这些晚明士人，他们以离经叛道的狂狷姿态对抗体制和传统，却无法弥补心灵上撕扯开的巨大裂缝，无法面对“虚无”这个巨大的空洞。在急管繁弦地铺陈繁华后，《南华录》的底色是苍凉和沉痛的。“蒿藜满眼，楼馆劫灰，美人化作尘土，一个华丽的时代终究落下了帷幕，时代的断裂处，却还依稀传出红牙碧串、妙舞轻歌，千古伤心莫此为甚！”这种苍凉和沉痛正是《南华录》最诗性之处，也使这部历史叙述作品真正接续了中国诗歌的伟大传统，“人世几回伤往事，山形依旧枕寒流”。

①“明清易代后，晚明士人享乐主义的生活观念遭到彻底清算，多数知识分子认为他们放纵、颓废的生活应该为明王朝的覆灭承担罪责。②深刻的悔罪心态使清初士人的生活热情极度收敛，他们弃置玩好之物与鲜衣美食，不入城市、不赴夜宴、不赴讲会、不结社，连个人字号、社团名称、斋馆命名都充斥着‘愧’‘惭’‘弃’‘慎’‘止’‘省’之类的消极性字眼，有的甚至抛家弃子，削发为僧，以苦行禁欲忏悔罪愆。”③在日常生活中如何处理精神与物的关系、世俗生活热情的边界在哪里、日常感性经验与超越性理性价值如何平衡……④这一系列的问题，在我们这个物质生活更为繁复、价值观和生活观念更为多元的今天，也是需要认真面对的。

晚明士人的享乐和奢靡之风，我们需要批判审视，其风雅所赖以生成的人和物的关系，也需要认真考量。在《南华录》中，这种关系并非简单攫取、占有的主客二元对立关系，物是有灵性、有情义、有境界的。他们追求物、拥有物，不仅是为了满足占有和消费的欲望，更希望借“物”来构筑养护生命、

颐养性情的生活空间。这种万物有灵、有情的观点与古人的生命观、自然观是相契的。反观我们的时代，人对物更多的是赤裸裸的攫取、占有、消费，这其实是人与世界关系的扭曲，是海德格尔人之诗意栖居世界的坍塌。晚明士人耽于物、溺于物的生活方式当然不可学，但是，我们能否从他们对待物的态度中吸收一些有价值的东西，借以重建我们时代的风雅？

51. 这篇文章最有可能节选自（ ）。

- A. 一篇介绍《南华录》插图的小品文 B. 《南华录》作品
C. 时代点评栏目中的文章 D. 一篇介绍晚明南方士人生活史的读书笔记

52. 晚明时期，南方士人呈现的独特精神样貌表现为（ ）。

- A. 寄情山水 B. 日常生活风雅化 C. 逍遥自在 D. 安贫乐道

53. 《南华录》作品中人物内心的真实世界不包括（ ）。

- A. 率真任性，却焦灼痛苦 B. 年轻时放纵颓废，暮年后沉痛忏悔
C. 离经叛道、对抗传统体制 D. 声色犬马、但求心安

54. 下面这句话最可能位于第四段哪个地方？（ ）

将明亡大部分责任归罪于士人有失公允，它却直接、尖锐地触及晚明乃至更为普遍的人类生活所不应回避的问题。

- A. ① B. ② C. ③ D. ④

55. 下列不能从文章推知的一项是（ ）。

- A. 谨慎对待晚明士人“耽于物、溺于物”的生活方式
B. 思考并重建现代人的时代风雅
C. 给予现代人内心一次自我凝视的机会
D. 劝诫现代人不可年华空度、光阴虚掷

①美国麻省理工学院的一个科学家小组在《神经生理学杂志》上发表论文指出，血液可以帮助我们思考，因为它能够积极地调整神经元处理信息的方式。

②血液负责为大脑提供营养和必要的氧气。因此，心血管疾病可能会对大脑产生深刻的影响。例如血栓就会造成患者残疾或死亡。

③研究小组主要成员克里斯托弗·穆尔指出，血液和大脑之间的关系远不止于此，很多迹象表明，血液对大脑的作用比单纯的营养供给者要复杂得多，因为它能够调整神经元传达信号的方式，这一发现将改变我们对大脑功能的认知。

④穆尔认为，血液不仅仅是大脑的维持系统，实际上还有助于控制大脑的活动。具体来说，血液流动过程中发生的变化影响到附近神经元的活动，改变了它们相互之间传递信号的方式，因此，也调整了信息在整个大脑的传递过程。

⑤这项理论对人类更好地认识阿尔茨海默氏症、精神分裂症、多发性硬化症和癫痫等疾病具有重要意义。穆尔说，很多神经和精神疾病可能与血液系统的变化有关。

⑥穆尔指出，大部分人认为，这些疾病的症状是神经元受损的结果，但他认为，血液系统遭到破坏是致病原因之一，这就意味着有必要研究全新的治疗方法。

⑦例如，癫痫患者导致疾病发作的大脑区域内的血管通常是不正常的，如果血管的这种异常状态造成了癫痫症状的产生，那么作用于血液的药物就可能成为取代现有治疗方法的新选择。

⑧这一假设对磁共振成像技术也有重要意义，磁共振成像是用来了解大脑血流变化的常用_____手段。麻省理工学院的科学家认为，如果我们知道了血液对神经元活动的影响，就可以利用磁共振成像来了解大脑的信息处理过程。

⑨磁共振成像显示，当指尖的血流量大的时候，人就更容易感受到手指受到的击打。这就证明了血液对大脑特定区域的功能产生影响，关于该区域血液流动的信息将有助于预测大脑未来的活动。

⑩但血液对大脑的这种影响从何而来呢？血液含有能够穿透血管影响神经元活动的溶解因子，血流量的改变也可能会影响到溶解因子的浓度。此外，神经元和神经胶质细胞也会对血管的扩张和收缩产生反应。最后，脑组织的温度会在血液的影响下发生变化，从而影响到神经元的活动。因此穆尔认为，应用全新的方式来看待人的大脑，血液系统可能是决定大脑活动的主要因素。

56. 根据文意，研究小组认为“血液可以帮助我们思考”的理由是（ ）。

- A. 血液负责为大脑提供营养和必要的氧气
- B. 心血管疾病可能会对大脑产生深刻的影响
- C. 血液有助于控制大脑的活动
- D. 血液在流动过程中改变了神经元之间传递信号的方式

57. 若“血液可以帮助我们思考”的假设成立，对下列哪项疾病具有明显的意义？（ ）

- A. 多发性硬化症
- B. 血栓
- C. 冠心病
- D. 中风

58. 根据文意，下列推断正确的是（ ）。

- A. “血液是大脑的维持系统”的观念将被颠覆
- B. 癫痫等神经和精神疾病用作用于血液的药物方可治愈
- C. 科技的进步将有望找到更多更好的治疗方法来治疗各种复杂的疾病
- D. 血液可通过改变神经元传达的信号调整自身的浓度、色泽等

59. 填入文章划横线部分最恰当的一项是（ ）。

- A. 扫描
- B. 观测
- C. 检查
- D. 诊断

60. 如果把这篇文章分为三个层次，最恰当的一项是（ ）。

- A. ①—③/④—⑨/⑩
- B. ①—④/⑤—⑦/⑧—⑩
- C. ①—④/⑤—⑨/⑩
- D. ①/②—⑦/⑧—⑩

第三部分 数量关系

在这部分试题中，每道题呈现一段表述数字关系的文字，要求你迅速、准确地计算出答案。

请开始答题：

61. 某部门的一次阶段性测验，成绩在 61~70 分之间的共有 4 人，且 4 人成绩各不相同。已知 4 人成绩总和为 252 分，问 4 人的成绩共有多少种不同的情况？（ ）

- A. 2 B. 12 C. 24 D. 48

62. 有两家水果店，为了吸引更多顾客，分别推出一项促销活动。甲店的促销活动为：充 100 元送 20 元，充 200 元送 40 元，充 300 元送 60 元，……依次类推，但是只能充 100 元的整数倍，且卡里有 10 元为办卡费用，不能使用；乙店的促销活动为：买 10 斤送 1 斤。两家水果店的苹果都是 5 元/斤。现在小明的公司要搞活动，需要去买 250 元的苹果。问小明最多可以买到多少斤苹果？（ ）

- A. 54 B. 55 C. 57 D. 59

63. 仓库需要将 400 箱苹果运往物流公司，目前有两种车可供选择，其中小货车最多可运输 30 箱，每箱的运输费为 3.5 元，如果装满可以打八折；大货车最多可运输 90 箱，每箱运输费为 3 元，如果装满可以打九折。那么要把这批苹果运往物流公司的最低运费为多少元？（ ）

- A. 1086 B. 1090 C. 1091 D. 1092

64. 某公交线路共有 10 个站点，每个站点（终点站除外）均有乘客上车，且每个站点上车的人数比上一站点上车人数多 2 人，从第四个站点开始的每个站点（终点站除外）均有 3 名乘客下车，问到终点站时乘客最少还剩多少人？（ ）

- A. 54 B. 57 C. 60 D. 63

65. 某公司今年 4 月份总共有 207 人次参加宣传活动。其中只参加一次宣传活动的人数是参加两次的人数的 2 倍，同时还有一部分人参加了三次宣传活动。已知公司所有员工都参加过宣传活动，问该公司最多有多少人？（ ）

- A. 154 B. 135 C. 121 D. 113

66. 一块试验田，以前这块地所种植的是普通水稻。现在将该试验田的 $\frac{1}{3}$ 种上超级水稻，收割时发现该试验田水稻总产量是以前总产量的 1.5 倍。如果普通水稻的产量不变，则超级水稻的平均产量与普通水稻的平均产量之比是（ ）。

- A. 5:2 B. 4:3 C. 3:1 D. 2:1

67. 某工厂生产了 2500 张座椅，现有甲、乙两个两批发商来工厂采购。甲给出的采购方案是：每张座椅 50 元则可全部买走，若每张座椅每增加 5 元，则少买 100 张。乙给出的采购方案是：前 1000 张座椅按单价 30 元收购，剩下的每张将按甲的价格提高 20% 全部买走。问甲的报价为多少元时，卖给甲和卖给乙时工厂所获收入一样多？（ ）

- A. 50 B. 55 C. 60 D. 65

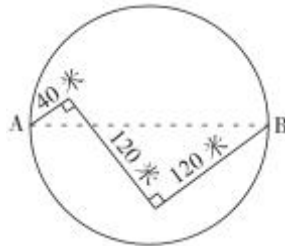
68. 春节来临，张灯结彩。为了庆祝新年，老徐组织亲朋好友来家聚会，有个朋友小李提出可以打麻将助兴，且在打麻将之前，小李说：“只要让我先在这 108 张麻将牌里拿几张牌，然后我们依次轮流每次拿 1 到 9 张牌，我可以保证最后一张牌一定是我拿到手的！”请问，小李至少最开始拿出几张牌，才能保证小李说的话成为现实？（ ）

- A. 1 B. 3 C. 7 D. 8

69. 某种礼品的售价为 60 元时，每天可卖出 40 份；若每件礼品每降 1 元出售，每天可多卖出 20 份；当销售单价为整数时，每天可获得的最大销售利润为 1120 元。问该礼品的进价为多少元？（ ）

- A. 43 B. 45 C. 47 D. 49

70. 有一圆形小人工湖，如下图所示，上面有一横跨小湖的木桥，总长为 280 米，木桥两端 AB 刚好构成圆形湖的直径。小刘和小王同时从 A 点出发赛跑，看谁先绕湖跑完一圈。当小刘跑到 B 点时，小王落后 10 米，于是偷偷从木桥上往回跑，最后比小刘早 2 秒回到 A 点，则小王的平均速度为多少米/秒？（ ）（ π 取 3.14）



- A. 5 B. 6 C. 7 D. 8

71. 某商场在抽奖箱内放置红、黄、蓝袜子各 2 双。抽奖者从中随机抽取 2 只，刚好能组成一双袜子即为中奖，问中奖的概率是多少？（袜子不分左右只）（ ）

- A. $\frac{2}{11}$ B. $\frac{3}{22}$ C. $\frac{3}{11}$ D. $\frac{6}{11}$

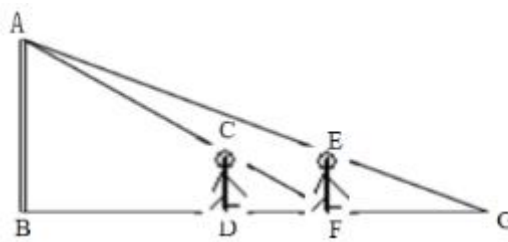
72. 七夕节期间，某鲜花店玫瑰花卖出的数量是百合的 7 倍，水仙卖出的数量比紫罗兰的两倍少 28 支。已知百合和紫罗兰卖出的数量之和为 150 多支且为 3 的倍数，七夕期间这四种鲜花共卖出 996 支。问卖出了多少支玫瑰花？（ ）

- A. 770 B. 777 C. 788 D. 791

73. 某口罩生产厂共有 3 条生产线，第一、二、三生产线上的工人每人每小时分别能生产 100 只、120 只和 150 只。现有 105 名工人，且每条生产线每小时的产量相同，则 3 条生产线每小时共能生产多少只口罩？（ ）

- A. 12600 B. 12950 C. 13800 D. 15750

74. 如图，有一路灯杆 AB，小明在点 D 处测得自己的影长 DF 为 3m，在 F 处测得自己的影长 FG 为 4m。如果小明的身高为 1.6m，求路灯杆 AB 的高度是多少？（ ）



- A. 3.2m B. 6m C. 6.4m D. 8m

75. 小明以往 8:00 准时从家骑自行车前往公司，刚好准时上班。某日当他醒来，发现快迟到了（不到 9:00），于是以平时的 1.2 倍的速度骑往公司（忽略起床时间），结果发现提早 26 分钟到公司。然后他想起来是把时针和分针看反了。问小明公司几点上班？（ ）

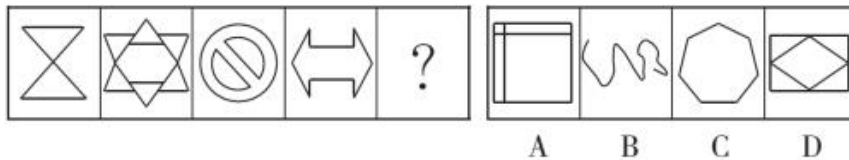
- A. 8:30 B. 9:00 C. 9:30 D. 10:00

第四部分 判断推理

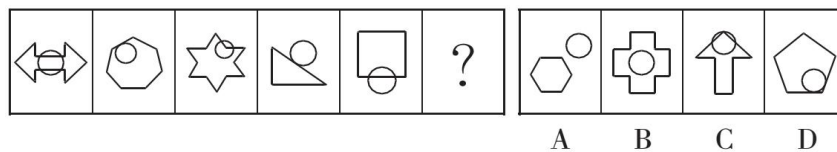
本部分包括图形推理、定义判断、类比推理与逻辑判断四种类型的试题，在四个选项中选出一个最恰当的答案。

请开始答题：

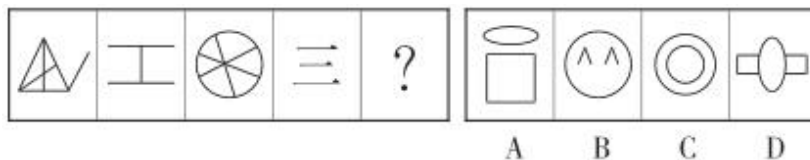
76. 从所给的四个选项中，选择最合适的一个填入问号处，使之呈现一定的规律性。



77. 从所给的四个选项中，选择最合适的一个填入问号处，使之呈现一定的规律性。



78. 从所给的四个选项中，选择最合适的一个填入问号处，使之呈现一定的规律性。



79. 从所给的四个选项中，选择最合适的一个填入问号处，使之呈现一定的规律性。

根据上述定义，下列属于同辈群体的是（ ）。

- A. 甲加入了一个象棋俱乐部，里面的会员有老人也有青年，但大家都真心喜爱象棋
- B. 乙和一群同样喜欢民乐的同学结成乐队，因理论基础扎实，他当上了乐队队长
- C. 丁作为公司业务代表参加了一个商业酒会，并和数位公司老总建立了良好的关系
- D. 丙被老师编入了一个学习小组，小组里有一些爱学习、成绩好的学生，但丙和另一些学生并不爱学习

90. 生物识别技术是指通过计算机与光学、声学、生物传感器和生物统计学原理等高科技手段密切结合，利用人体固有的生理特性或行为特征来进行个人身份的鉴定。

根据上述定义，下列不属于生物识别技术的是（ ）。

- A. 某公司员工上下班都需要通过指纹打卡，未打卡则要被罚款
- B. 办案人员利用专业仪器对录音中嫌疑人的声音进行声纹识别
- C. 某国规定快递寄件人必须通过扫描身份证进行身份验证
- D. 某景区通过静脉检票系统获得静脉纹路影像来进行个人识别

91. 退行是指人们在受到挫折或面临焦虑、应激等状态时，放弃已经学到的比较成熟的适应技巧或方式，而使用早期生活阶段的某种行为方式，以原始、幼稚的方法来应付当前情景，来降低自己的焦虑。

根据上述定义，下列属于退行的是（ ）。

- A. 马上要参加比赛了，小晨感到很紧张，只能不停地和朋友讲话转移注意力
- B. 小平遭遇严重的车祸后，生活无法自理，只能每天躺在床上让家人照顾
- C. 二十多岁的小李因为女朋友和他分手了，坐在地上嚎啕大哭，不愿起来
- D. 小张住校很久才能回一次家，每次回家都粘着妈妈，要妈妈抱一抱

92. 舌尖现象是因为大脑对记忆内容的暂时性抑制所造成的，一般包括以下两种情形：一、对有关事物的其他部分特征的回忆掩盖了所要回忆的那部分特征；二、受回忆时的情境因素以及自身情绪因素的干扰。而消除了抑制，如经他人提示、离开回忆困难时的情境、消除紧张情绪等，舌尖现象往往就会消失。

根据上述定义，下列描述不符合舌尖现象的是（ ）。

- A. 考生在考试中一些平时很简单、很熟悉的字、单词或公式等话到嘴边就是无法记起，考试过后却突然忆起
- B. 小红在火车上突然遇见很熟悉的一个朋友，却怎么也叫不出对方的名字，感觉非常尴尬
- C. 十年后的同学会上，大家都在讨论缺席的老班长，小李只记得老班长的性格很豪爽，一时想不起老班长的样子
- D. 小丽相亲回家后，妈妈很热心地询问她对这个对象的感觉，小丽认为只见一次面，彼此都不够了解，也说不出什么感觉

93. 把一个漂亮的鸟笼挂在房间最显眼的地方，过不了几天，主人必定会作出下面两个选择之一：把鸟笼扔掉，或者买一只鸟回来放在鸟笼里，因为这比无休止地向别人解释和说明挂一个空鸟笼要轻松得多，这就是鸟笼逻辑。并不一定每一个鸟笼里都应该装进一只鸟，但可惜的是人们总是受制于惯性思

维，不知变通，难以突破常规，逃不出这个逻辑的局限。

根据上述定义，下列没有突破鸟笼逻辑的是（ ）。

- A. 先结婚后购车买房的新时代裸婚思想已逐渐被现代人接受
- B. 某厂用电风扇吹走产品空盒，其效果等同于自动分拣系统
- C. 乌鸦把小石子衔到没装满水的瓶子里使水位上升来喝到水
- D. 大学毕业生一般先就业再择业，待发展成熟后再考虑创业

94. 说话或写文章时不直接说出所要表达的人或事物，而是借用与它密切相关的人或事物来代替，这样的修辞手法叫作借代。

根据上述定义，下列各项中未运用借代修辞手法的是（ ）。

- A. 南国烽烟正十年
- B. 夕日欲颓，沉鳞竞跃
- C. 久在樊笼里，复得返自然
- D. 两岸青山相对出，孤帆一片日边来

95. 在地表或接近地表条件下，岩石、矿物由于物理作用在原地发生机械破碎的过程叫作物理风化。在地表或接近地表条件下，岩石、矿物在原地发生化学变化并可产生新物质的过程叫作化学风化。岩石在动、植物及微生物影响下发生的破坏作用叫作生物风化。

根据上述定义，下列属于物理风化的是（ ）。

- A. 岩石裂隙中的雨水经过反复的冻、融，使完整的岩石崩解成岩石碎屑
- B. 雨水将岩石中的易溶物质溶解，难溶物质残留于原地形成喀斯特地貌
- C. 穴居动物蚂蚁在岩石缝隙中钻洞挖土，致使岩石破裂、土粒变细
- D. 乐山大佛经酸雨侵蚀，佛像表面出现黑色条纹，佛身岩石脱落

96. 手机：电子串号

- A. 胡同：门牌号
- B. 国家：年号
- C. 车辆：车牌号
- D. 考生：学号

97. 栩栩如生：呼之欲出

- A. 生机勃勃：老气横秋
- B. 听其自流：听之任之
- C. 防患未然：江心补漏
- D. 铤而走险：畏缩不前

98. 唱念做打：听说读写

- A. 坑蒙拐骗：吹拉弹唱
- B. 古往今来：酸甜苦辣
- C. 说学逗唱：生旦净丑
- D. 生死荣辱：功过是非

99. 保温杯：高脚杯

- A. 保健品：工艺品
- B. 显示屏：LED屏
- C. 办公桌：电脑桌
- D. 防盗门：卷帘门

100. 刑法：法律：法律条文

- A. 键盘：机械键盘：轴
- B. 正方形：矩形：直角
- C. 松树：针叶林：根系
- D. 微生物：生物：细胞

101. 构思：选材：起草

- A. 勘测：设计：施工
C. 和面：和匀：擀皮
- B. 传送：编码：译码
D. 起跑：加速：冲刺

102. 水：生物：碳元素

- A. 阳光：绿叶植物：叶绿素
C. 鸡蛋：蛋白质：氨基酸
- B. 批评：沮丧：消极
D. 下雨：雨伞：雨衣

103. 迷魂：迷魂香

- A. 花露：花露水
C. 樟脑：樟脑丸
- B. 清凉：清凉油
D. 跌打：跌打酒

104. 胡椒 之于 () 相当于 () 之于 角力

- A. 西域 中原
C. 调料 运动
- B. 番茄 蹴鞠
D. 火锅 摔跤

105. 新房 对于 () 相当于 () 对于 稳定

- A. 老宅 牢固
C. 甲醛 情绪
- B. 粉刷 天气
D. 装修 物价

106. 一些研究发现，女性相对于男性不仅在识别脸部的能力方面更好，而且在观察脸部时，大脑中与面部识别相关的区域具有更强的反应，在这些区域中有更密集的细胞组织。这些发现似乎印证了一个观点：一般情况下，女性比男性更擅长认人。

以下哪项如果为真，最能削弱上述观点？()

- A. 参加实验的男性平均年龄为 30 岁，高出女性平均年龄 2 岁
B. 一般来说，女性更注重细节，因此对于人面孔的特征，女性观察得更为细致
C. 男性在识别人的面孔时速度较慢，但在时间充足的情况下有更准确的识别率
D. 在一些类似刑侦的特殊职业中，男性与女性在识别面孔的表现中没有显著差别

107. 研究人员发现，尽管简单的釉质层在早期古鸟类中都有保留，但牙釉质与牙本质之间的多孔罩牙本质层皆已消失。这意味着鸟类的牙齿不再需要特殊的力学保护结构，间接证实了其饮食习惯与肉食性恐龙产生了极大的差异。鸟类与恐龙之间食性的差异很可能是其幸存至今的关键。

以下哪项为真，最能质疑上述结论？()

- A. 多孔罩牙本质层是肉食性恐龙避免其在掠食过程中牙齿断裂的特殊避震保护结构
B. 小行星撞击地球产生的大量气体对恐龙有致命的毒性，而其对古鸟类影响较小
C. 古鸟类通过食性转换避开了与肉食性恐龙在食物生态位的竞争
D. 食物短缺导致食植性恐龙减少，进而导致食肉性恐龙减少

108. 赵、钱、孙三人，一人喜欢绘画，一人喜欢唱歌，还有一人喜欢写作。已知：喜欢唱歌的人不是年龄最大的，孙不是年龄最大的；赵不喜欢绘画，钱不喜欢写作，孙不喜欢唱歌；喜欢绘画的人年龄比喜欢写作的人小。

问以下判断哪项为真？()

- A. 钱年龄最小，喜欢唱歌
B. 赵年龄最大，喜欢写作

以下哪项如果为真，最不能解释上述现象？（ ）

- A. 部分质量合格的产品因使用时间过长而出现了质量问题
- B. 某些仿冒厂家生产的高仿产品比正版产品质量更好
- C. 部分质量不合格的该厂产品没有被召回
- D. 该厂此后一段时间内新流入市场的产品中存在质量不合格的产品

114. 某医院门诊科周六有三位主治医师值班，分别是钟医生、张医生和沈医生，且三位医生只主治泌尿科、牙科和呼吸科中的一科。三位新来的护士对三位医生的主治科室进行猜测：

护士 A：钟医生主治呼吸科，张医生主治泌尿科。

护士 B：钟医生主治泌尿科，沈医生主治呼吸科。

护士 C：钟医生主治牙科，张医生主治呼吸科。

后来证实三位护士的猜测都只对了一半，那么钟医生、张医生和沈医生分别主治（ ）。

- A. 泌尿科、牙科和呼吸科
- B. 呼吸科、牙科和泌尿科
- C. 牙科、呼吸科和泌尿科
- D. 牙科、泌尿科和呼吸科

115. 洋葱可激活促进癌细胞凋亡的机制。洋葱中富含的两种物质起到关键作用，一是槲皮素，二是花青素。前者具有缩小和杀死癌细胞的作用，后者具有抑制癌细胞生长和防止癌细胞扩散的功效。槲皮素与花青素强强联手，抗癌效果更好。因此，食用洋葱对抗癌有一定的帮助。

以下哪项如果为真，最能削弱上述论断？（ ）

- A. 很多蔬菜也含有丰富的槲皮素与花青素
- B. 洋葱中的槲皮素与花青素无法通过食用被人体吸收
- C. 槲皮素与花青素只有达到一定量才有显著的抗癌作用
- D. 绝大多数洋葱表面农药残留过高，食用后对人体有害

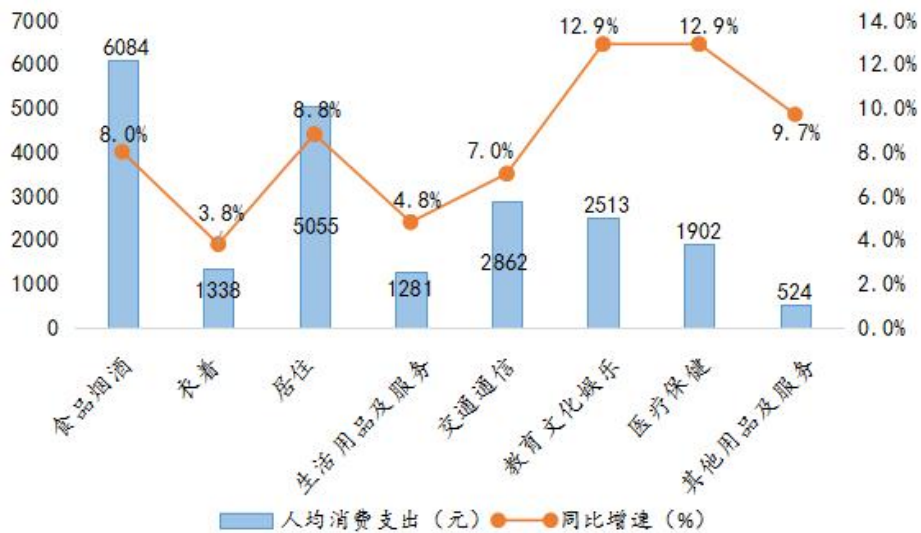
第五部分 资料分析

所给出的图、表、文字或综合性资料均有若干问题要你回答，你应根据资料提供的信息进行分析、比较、计算和判断处理。

请开始答题：

一、根据所给资料，回答 116~120 题。

2019 年全国居民各消费类型人均消费支出及同比增速



2019 年全国居民收支主要数据

指标	绝对量 (元)	比上年增长 (%)
全国居民人均可支配收入	30733	8.9
按常住地分：		
城镇居民	42359	7.9
农村居民	16021	9.6
按收入来源分：		
工资性收入	17186	8.6
经营净收入	5247	8.1
财产净收入	2619	10.1
转移净收入	5680	9.9
全国居民人均消费支出	?	8.6
按常住地分：		
城镇居民	28063	7.5
农村居民	13328	9.9

注：1. 图表中数据均为四舍五入所得近似值。

2. 人均可支配收入是居民可用于最终消费支出和储蓄的总和。

116. 2019 年全国居民人均消费支出约比上年增长了多少钱？（ ）

- A. 1646 B. 1707 C. 1825 D. 1909

117. 2019 年我国居民恩格尔系数变化情况为（ ）。

- A. 小幅下降 B. 大幅上升 C. 小幅上升 D. 大幅下降

118. 2019 年我国城镇居民人均实际可用于储蓄的收入比农村居民多多少元？（ ）

- A. 11405 B. 11504 C. 11603 D. 11702

119. 2019 年全国居民人均工资性收入占人均可支配收入的比重约比财产净收入高（ ）。

- A. 43 个百分点 B. 47 个百分点 C. 51 个百分点 D. 55 个百分点

120. 根据上述资料，以下说法正确的是（ ）。

- A. 2018 年全国居民人均医疗保健支出约为 1800 元
 B. 2019 年人均食品烟酒支出占全国居民人均消费支出的比重超过 30%
 C. 2018 年全国居民人均转移净收入超过 5000 元
 D. 2019 年全国居民的贫富差距较 2018 年有所缩小

二、根据以下资料，回答 121~125 题。

2019 年全国专利密集型产业增加值为 114631 亿元，比上年增长 7.0%，占国内生产总值（GDP）的比重为 11.6%，与上年持平。

从内部结构看，专利密集型产业中制造业相关行业规模大，增加值占比达到 72.9%。其中，新装备制造业增加值为 34004 亿元，占专利密集型产业增加值的比重最高，为 29.7%；其次是信息通信技术制造业，增加值为 23021 亿元，所占比重为 20.1%；新材料制造业、医药医疗产业、环保产业所占比重分别为 12.2%、8.7%和 2.3%。

从增长速度看，专利密集型产业中服务业相关行业发展较快。信息通信技术服务业增长 17.2%，研发、设计和技术服务业增长 14.0%，明显高于制造业。

2019 年专利密集型产业增加值

分类名称	增加值（亿元）	增速（%）	构成（%）
专利密集型产业	114630.7	7.0	100.0
信息通信技术制造业	23020.5	6.8	20.1
新装备制造业	34004.1	3.6	29.7
新材料制造业	13983.4	-1.0	12.2
医药医疗产业	9974.3	5.4	8.7
环保产业	2599.6	7.2	2.3
信息通信技术服务业	22822.9	17.2	19.9
研发、设计和技术服务业	8225.9	14.0	7.2

注：若数据分项合计与总计不等，是由于数据修约误差所致。

121. 2018 年全国国内生产总值约为多少亿元? ()
- A. 913458.9 B. 923549.8 C. 931945.3 D. 938632.5
122. 2019 年, 专利密集型产业中制造业相关行业增加值约比服务业相关行业多多少亿元? ()
- A. 40120 B. 42500 C. 52500 D. 52700
123. 2018 年, 新装备制造业增加值约是新材料制造业增加值的多少倍? ()
- A. 1.9 B. 2.1 C. 2.3 D. 2.5
124. 2019 年, 研发、设计和技术服务业增加值占专利密集型产业增加值的比重与上年相比约()。
- A. 上升了 0.44 个百分点 B. 下降了 0.44 个百分点
- C. 上升了 4.4 个百分点 D. 下降了 4.4 个百分点
125. 根据上述材料, 以下说法正确的是 ()。
- A. 2018 年, 信息通信技术服务业增加值超过 2 万亿元
- B. 2018 年, 专利密集型产业中服务业相关行业增加值占比不到两成
- C. 2018 年, 专利密集型产业中医药医疗产业增加值占比约为 8.8%
- D. 2019 年, 环保产业增加值同比增长了约 187 亿元

三、根据以下资料, 回答 126~130 题。

2018 年全国规模以上企业就业人员年平均工资为 68380 元, 比上年增长 11.0%。其中, 中层及以上管理人员 145125 元, 增长 10.0%; 专业技术人员 96703 元, 增长 16.3%; 办事人员和有关人员 63755 元, 增长 9.5%; 社会生产服务和生活服务人员 54945 元, 增长 11.0%; 生产制造及有关人员 55148 元, 增长 8.8%。

2018 年分地区分岗位就业人员年平均工资 (单位: 元)

地 区	全部就业人员	中层及以上 管理人员	专业技术人员	办事人员和有 关人员	社会生产服务和 生活服务人员	生产制造及有 关人员
合 计	68380	145125	96703	63755	54945	55148
东 部	74754	168503	109651	71556	60447	57202
中 部	56605	104652	72660	50708	44959	50466
西 部	62227	121718	84099	55169	48269	54241
东 北	61801	116748	73683	57039	52813	54024

126. 2018 年东部地区专业技术人员年平均工资比中部地区高 ()。
- A. 51% B. 48% C. 45% D. 42%
127. 2018 年全国规模以上企业岗位平均工资最高的约是最低的 ()。
- A. 2.12 倍 B. 2.43 倍 C. 2.64 倍 D. 3.13 倍
128. 2018 年全国规模以上企业就业人员年平均工资较上年约增长 ()。
- A. 6543 元 B. 6776 元 C. 7252 元 D. 7567 元

129. 与 2017 年相比, 2018 年全国规模以上企业五大岗位中, 年平均工资占全国规模以上企业就业人员年平均工资的比重同比上升的有 ()。

- A. 1 个 B. 2 个 C. 3 个 D. 4 个

130. 能够从上述资料中推出的是 ()。

- A. 2017 年全国规模以上企业办事人员和有关人员年平均工资超过 60000 元
B. 2017 年西部地区就业人员年平均工资高于东北地区
C. 2018 年东北地区生产制造及有关人员月平均工资比中部地区高 3558 元
D. 2018 年各地区各岗位就业人员年平均工资最低的是中部地区的社会生产服务和生活服务人员

四、根据以下资料, 回答 131~135 题。

2017 年 11 月份, 全国共销售彩票 385.55 亿元, 同比增长 11.8%。其中, 福利彩票机构销售 194.02 亿元, 同比增长 8.6%; 体育彩票机构销售 191.52 亿元, 同比增长 15.2%。

2017 年 1~11 月累计, 全国共销售彩票 3869.87 亿元, 同比增长 8.1%。其中, 福利彩票机构销售 1963.27 亿元, 同比增长 5.3%; 体育彩票机构销售 1906.60 亿元, 同比增长 11.1%。

2017 年 11 月份, 乐透数字型彩票销售 235.85 亿元, 同比增加 18.89 亿元; 竞猜型彩票销售 90.54 亿元, 同比增加 21.52 亿元; 即开型彩票销售 19.47 亿元, 同比减少 1.81 亿元; 视频型彩票销售 39.57 亿元, 同比增加 2.19 亿元; 基诺型彩票销售 0.12 亿元, 同比减少 0.06 亿元。11 月份, 乐透数字型、竞猜型、即开型、视频型、基诺型彩票销售量分别占彩票销售总量的 61.1%、23.5%、5.0%、10.3%、0.1%。

2017 年 1~11 月累计, 乐透数字型彩票销售 2377.90 亿元, 同比增加 163.16 亿元; 竞猜型彩票销售 842.66 亿元, 同比增加 141.78 亿元; 即开型彩票销售 225.83 亿元, 同比减少 32.22 亿元; 视频型彩票销售 421.79 亿元, 同比增加 17.48 亿元; 基诺型彩票销售 1.70 亿元, 同比减少 0.80 亿元。1~11 月乐透数字型、竞猜型、即开型、视频型和基诺型彩票销售量分别占彩票销售总量的 61.4%、21.8%、5.8%、10.9%、0.1%。

131. 2016 年 11 月份, 全国共销售彩票约为 ()。

- A. 311.23 亿元 B. 328.12 亿元 C. 344.86 亿元 D. 362.95 亿元

132. 2017 年 1~11 月各类型彩票累计销售同比增长量从大到小排序正确的是 ()。

- A. 乐透数字型彩票、即开型彩票、视频型彩票、基诺型彩票
B. 乐透数字型彩票、竞猜型彩票、视频型彩票、基诺型彩票
C. 乐透数字型彩票、竞猜型彩票、即开型彩票、视频型彩票
D. 乐透数字型彩票、即开型彩票、竞猜型彩票、视频型彩票

133. 2017 年 11 月份, 福利彩票机构销售额占全国彩票销售总额的比重约是多少? ()

- A. 49.8% B. 50.3% C. 51.3% D. 53.8%

134. 2016 年 1~11 月竞猜型彩票累计销售额约是即开型彩票的几倍? ()

- A. 2.4 B. 2.7 C. 2.9 D. 3.2

135. 能够从上述材料中推出的是 ()。

- A. 2016 年 11 月份，福利彩票机构销售额占全国彩票销售总额的比重低于五成
- B. 2016 年 1~11 月全国每月平均彩票销售额小于 11 月份
- C. 2017 年 1~10 月视频型彩票销售额超过 400 亿元
- D. 2017 年竞猜型彩票累计销售额将突破 900 亿元

展鸿《行测》模拟卷三参考答案及解析

1. 【答案】C。解析：“四种形态”是指党内监督执纪的“四种形态”，包括：经常开展批评和自我批评、约谈函询，让“红红脸、出出汗”成为常态；党纪轻处分、组织调整成为违纪处理的大多数；党纪重处分、重大职务调整的成为少数；严重违纪涉嫌违法立案审查的成为极少数。②④符合。故本题选C。

2. 【答案】C。解析：由于资本化定价，人们的心理因素会对虚拟经济产生重要的影响，也就是说，虚拟经济在运行上具有内在的波动性。广义地讲，虚拟经济除了目前研究较为集中的金融业、房地产业，还包括体育经济、博彩业、收藏业等。其中，房地产业从投资金角度讲属于虚拟经济，从租赁角度讲属于实体经济。C项旅游业属于实体经济（指物质的、精神的、产品和服务的生产、流通等经济活动）。故本题选C。

3. 【答案】A。解析：中央全面依法治国工作会议强调，推进全面依法治国围绕建设中国特色社会主义法治体系、建设社会主义法治国家的总目标，坚持党的领导、人民当家作主、依法治国有机统一，坚定不移走中国特色社会主义法治道路，在法治轨道上推进国家治理体系和治理能力现代化，为全面建设社会主义现代化国家、实现中华民族伟大复兴的中国梦提供有力法治保障。①②③当选。④提到的坚持有法可依，有法必依，执法必严，违法必究是依法治国战略的基本方针，不是全面依法治国战略的主要内涵。故本题选A。

4. 【答案】C。解析：中国所主张构建的人类命运共同体，是由不同国家、不同民族组成的命运攸关、利益相连、相互依存的集合体。习近平同志着眼于世界各国相互联系、全球命运休戚与共的发展大势，顺应和平、发展、合作、共赢的时代潮流，高瞻远瞩地提出构建人类命运共同体的重要思想，为促进世界和平与发展、解决人类社会共同面临的问题贡献了中国智慧和方案。A、B、D三项均正确。C项错误，中国积极构建人类命运共同体，是为了建设持久和平、普遍安全、共同繁荣、开放包容、清洁美丽的世界，为发展中国家争取更多话语权，提升发展中国家的国际地位。故本题选C。

5. 【答案】B。解析：认识的主体是具有复杂结构和进行活动的社会性的人，它在反映客体的过程中，必然会动用其内部结构的所有功能，对所反映对象的内容进行选择、整理、改造、解释、猜想等。不同的诗人由于社会性不同，对同一客体进行的选择、整理、改造、解释、猜想也就不同，充分体现了主体对客体的能动作用。故本题选B。

6. 【答案】D。解析：①项，1944年5月由卫立煌将军指挥的中国远征军强渡怒江，发起滇西反攻，成为了日本在中国战败的转折点。②项，1945年8月中国国民党政府与苏联签订《中苏友好同盟条约》。③项，1935年8月中国共产党于发表《为抗日救国告全体同胞书》（《八一宣言》），呼吁全国各党派、各阶层、各军队团结起来，停止内战，一致抗日。④项，1937年8月中国国民党政府与苏联政府签订《中苏互不侵犯条约》，通过该条约苏联政府向中国提供物资援助。故本题选D。

7. 【答案】B。解析：A项错误，《中国共产党纪律处分条例》第10条规定，党员受到警告处分一年内、受到严重警告处分一年半内，不得在党内提升职务和向党外组织推荐担任高于其原任职务的党外职务。B项正确，该条例12条第一款规定，留党察看处分，分为留党察看一年、留党察看二年。对于受到留党察看处分一年的党员，期满后仍不符合恢复党员权利条件的，应当延长一年留党察看期限。留党察看期限最长不得超过二年。C项错误，根据该条例12条第二款的规定，党员受留党察看处分期间，没有表决权、选举权和被选举权。D项错误，该条例第13条规定，党员受到开除党籍处分，五年内不得重新入党。另有规定不准重新入党的，依照规定。故本题选B。

8. 【答案】D。解析：A项错误，《公务员法》第19条第一款规定，公务员职级在厅局级以下设置。B项错误，《公务员法》第34条规定，新录用的公务员试用期为一年。试用期满合格的，予以任职；不

合格的，取消录用。C项错误，《公务员法》第93条规定，公务员符合下列条件之一的，本人自愿提出申请，经任免机关批准，可以提前退休：（一）工作年限满三十年的；（二）距国家规定的退休年龄不足五年，且工作年限满二十年的；（三）符合国家规定的可以提前退休的其他情形的。选项说法不全面。D项正确，《公务员法》第92条规定，公务员达到国家规定的退休年龄或者完全丧失工作能力的，应当退休。故本题选D。

9. 【答案】B。解析：A项正确，《民法典》第2条规定，民法调整平等主体的自然人、法人和非法人组织之间的人身关系和财产关系。B项错误，《民法典》第110条规定，自然人享有生命权、身体权、健康权、姓名权、肖像权、名誉权、荣誉权、隐私权、婚姻自主权等权利。法人、非法人组织享有名称权、名誉权和荣誉权。法人、非法人组织不享有隐私权。C项正确，《民法典》第188条规定，向人民法院请求保护民事权利的诉讼时效期间为三年。法律另有规定的，依照其规定。D项正确，《民法典》第191条规定，未成年人遭受性侵害的损害赔偿请求权的诉讼时效期间，自受害人年满十八周岁之日起计算。故本题选B。

10. 【答案】A。解析：“十四五”时期是我国全面建成小康社会、实现第一个百年奋斗目标之后，乘势而上开启全面建设社会主义现代化国家新征程、向第二个百年奋斗目标进军的第一个五年。故本题选A。

11. 【答案】B。解析：诗句①描写的是寒食节时的春色，诗句②描写的是冬季雪景，诗句③描写的是秋季风光，诗句④描写的是清明时节（一般在公历4月5日前后）的春色。寒食节在清明前一两日，因此正确顺序应为①④③②。故本题选B。

12. 【答案】C。解析：A项正确，2017年12月21日，在国际电信标准组织3GPP RAN第78次全体会议上，5G NR首发版本正式发布，这是全球第一个可商用部署的5G标准。B项正确，1964年8月，美国向太平洋上空的同步轨道发射了“同步3号”通信卫星，这是世界上第一颗地球同步静止轨道通信卫星。C项错误，数字通信的优点是抗干扰能力强，差错可控，易加密，易于与现代技术相结合；缺点是频带利用率不高，系统设备比较复杂。D项正确，信道是所有信号传输媒介的总称，通常分为有线信道（如电缆、光纤）和无线信道（如自由空间）两种。故本题选C。

13. 【答案】C。解析：①“天宫一号”是中国第一个目标飞行器和空间实验室，于2011年9月29日在酒泉卫星发射中心发射，2011年11月3日凌晨实现与“神舟八号”飞船的对接任务。②2012年7月25日，“天链一号03星”发射成功，经一段时间在轨验证和系统联调后，与2008年发射的01星、2011年发射的02星实现全球组网运行，建成比较完备的中继卫星系统。③1992年9月21日，中共中央政治局召开常委扩大会议，正式批复载人航天工程可行性论证报告，自那一天起，中国载人航天工程正式立项，代号“921工程”。④2007年10月24日，我国发射首个月球探测器“嫦娥一号”。因此正确的顺序是③④①②。故本题选C。

14. 【答案】B。解析：A项正确，失业主体必须具备三个条件：有劳动能力、愿意就业、没有工作。B项错误，摩擦性失业是由于劳动力缺乏流动性，信息交流不完全以及市场组织不健全所造成的失业。周期性失业是指在经济周期中的衰退或萧条阶段因需求下降而造成的失业。C项正确，在实际统计中，一般用失业率来衡量一国的就业状况。我国衡量失业率的指标是城镇登记失业率。D项正确，为了增加就业以达到充分就业，政府可以采取扩张性财政政策，如增加政府购买支出、增加转移支付、减少税收；采取扩张性货币政策，如降低法定准备金率、降低再贴现率、在公开市场上购买证券。故本题选B。

15. 【答案】C。解析：A、B项错误，热力学温标的单位是开尔文（K），绝对零度就是开尔文温度定义的零点。0开尔文约等于零下273摄氏度。C项正确。D项错误，理论上，若粒子动能低到量子力学的最低点时，物质即达到绝对零度，不能再低。然而，绝对零度是不可能达到的最低温度，自然界的温度只能无限逼近它。因为任何空间必然存有能量和热量，也不断进行相互转换而不消失。所以绝对零度是不存在的，除非该空间自始即无任何能量热量。故本题选C。

16. 【答案】C。解析：A、B项人物与其主要贡献对应错误，应互换。C项正确，证明大气压存在的

著名实验是马德堡半球实验，首次测定大气压强值的是著名的托里拆利实验。D项错误，首先测定了热和机械功之间当量关系的科学家是英国的焦耳。故本题选C。

17. 【答案】C。解析：A项正确，大气层是因重力关系而围绕着地球的一层混合气体，是地球最外部的气体圈层，包围着海洋和陆地，大气层的厚度大约在1000千米以上，但没有明显的界限。B项正确，在太阳辐射通过大气层到达地面的过程中，由于大气对它有一定的吸收、散射和反射作用，使到达地面的总辐射有明显削弱，特别是波长短的辐射能削弱显著。C项错误，平流层位于对流层之上，气流主要表现为水平方向运动，对流现象减弱，故称其为“平流层”。D项正确，大气中的云层和尘埃，具有反光镜的作用，能把投射在其上的太阳辐射的一部分，又反射回宇宙空间，从而减少了到达地面的太阳辐射。故本题选C。

18. 【答案】B。解析：A、D项正确，血液的颜色取决于血红蛋白中的金属离子。鸟类和哺乳动物的血液是红色的，因为血红蛋白中的金属离子是铁离子，铁离子是红色的（铁锈色）。虾、蟹等海洋节肢动物和一些海洋软体动物（如一些贝类）的血液是蓝色的，因为它们的血红蛋白中的金属离子是铜离子，铜离子是蓝色的。苍蝇的血液是桃红色的，是因为苍蝇的血红蛋白中的金属离子是钴离子，水合钴离子是桃红色的。B项错误、C项正确，青蛙、黄鼬的血液中均含有铁离子，因此颜色是红色。故本题选B。

19. 【答案】C。解析：A项错误，家用电器或线路着火，要先切断电源，再用干粉或气体灭火器灭火，不可直接泼水灭火，以防触电或电器爆炸伤人。B项错误，干粉灭火器灭火属于窒息灭火，一般适用于固体、液体及电器灭火；冷却灭火法常用水和二氧化碳作灭火剂冷却降温灭火。C项正确，当锅里的食油因温度过高着火时，应立即关掉气源，盖上锅盖，用窒息法灭火。如果没有锅盖，可将切好的菜倒入锅内，或从侧面倒入冷食油。D项错误，使用干粉灭火器灭火过程中，应始终保持直立状态，不得横卧或颠倒使用。故本题选C。

20 【答案】A。解析：A项错误，2016年10月21日，神舟十一号两名中国航天员景海鹏和陈冬，在天宫二号开启了人类史上首次太空脑机交互实验。B项正确，月球二号是1959年9月12日苏联发射的月球探测器，是世界上第一个在月球表面硬着陆（撞击月球）的航天器。C项正确，前苏联于1970年8月17日发射的“金星7号”，首次成功实现在金星表面软着陆。D项正确，中国于2018年12月8日发射的“嫦娥四号”，实现了世界首次月球背面软着陆与巡视探测。故本题选A。

21. 【答案】D。解析：辨析四个词语的意思：“竹篮打水”比喻白费力气，劳而无功；“舍本逐末”比喻不抓根本环节，而只在枝节问题上下功夫；“南辕北辙”比喻行动和目的正好相反；“得不偿失”指所得的利益抵偿不了所受的损失。文段讲既做不到精准又不能提供有用信息的推送最终将导致用户反感甚至流失，即不当的行为最终会造成惨重的损失，“得不偿失”最符合文意，排除B、C、D三项。故本题选D。

22. 【答案】A。解析：辨析四个成语的意思：“波诡云谲”形容事物变幻莫测；“变幻无常”指事物经常变化，没有规律性；“风起云涌”指事物迅速发展，声势浩大；“剑拔弩张”形容气势逼人，或形势紧张，一触即发。根据后文“周边环境复杂敏感”可知，文段意在说明国际形势复杂多变，“风起云涌”无法修饰“国际形势”，“剑拔弩张”词义过重，排除C、D项；“变幻无常”仅指出变化多端，但是无法体现出复杂性，排除B项。故本题选A。

23. 【答案】B。解析：先看第一空，“祛除”指除去（疾病、疑惧、邪祟等），“消释”指（疑虑、嫌怨、痛苦等）消除、解除，二者均无法与“代际冲突”搭配，排除C、D项。再看第二空，“铺陈”指铺叙，“勾勒”指用简单的笔墨描写事物的大致情况，家风能够反映出—个家庭或家族的大致情况，“勾勒”更符合语意，排除A项。验证第一空，“消弭冲突”符合搭配。故本题选B。

24. 【答案】C。解析：先看第一空，“百无聊赖”指精神上无所寄托，感到什么都没意思，“闲居无聊”形容寂寞孤单，二者均不符合语意，排除A、B项。再看第二空，“手不释卷”形容勤奋好学，搭配不恰当，排除D项。验证C项，“饭后茶余”指茶饭后的一段空闲休息时间，与后文的“消遣的佳品、聊天的谈资”相呼应，“爱不释手”指喜爱得舍不得放下，符合语意。故本题选C。

25. 【答案】B。解析：先看第一空，前文讲“在具体的实践过程中，过分突出理论”即搞学究派，与实际相脱节，“高文雅典”指高深的文章和雅正的典籍，“阳春白雪”比喻高深的不通俗的文学艺术，均没有体现脱离实践的意思，排除A、D项。再看第二空，前文强调我国传统文献学“偏于注重考证”即对字句过分追究，“艰涩”指晦涩难懂，文段并非强调其内容的深奥难懂；“琐碎”指零碎细小的事，符合考证过程拘泥于对字句的反复斟酌特性，排除C项。故本题选B。

26. 【答案】C。解析：先看第一空，文段讲工厂劳动力短缺，会造成正常生产难以保证，“左支右绌”比喻力量不足，应付了这方面，那方面又出了问题，强调顾此失彼，而非难以保证，排除D项。再看第二空，“只争朝夕”比喻抓紧时间，力争在最短的时间内达到目的，“时不我待”指要抓紧时间，“迫在眉睫”形容事情已到眼前，情势十分紧迫，文段讲吸引年轻人回到工厂这件事情，前两者均强调时间上的紧迫性，“迫在眉睫”更恰当，排除A、B项。故本题选C。

27. 【答案】B。解析：先看第一空，此处讲不交流的文明会像死水一样，无法流动，“画地为牢”比喻做指定范围内的事，不得逾越，“抱残守缺”形容思想保守，不求改进，二者均不符合语意，排除C、D项。再看第二空，“障碍”不能与“打破”搭配，排除A项。验证B项，“故步自封”比喻守着一套，不求进步，“打破壁垒”符合搭配。故本题选B。

28. 【答案】B。解析：第一空需填入与“成全”相对的词，“丢弃”指抛弃扔掉，与宾语“某些人”无法搭配，排除C项；“遗弃”通常指不顾情感、忠诚或义务的约束而抛弃，不符合语境，排除D项。再看第二空，“宁静”指（环境、心情）安静，“平静”指（心情、环境等）没有不安或动荡。根据前文“这边万里无云，阳光灿烂；那边就可能风云骤起，地裂山崩”，可知，此处讲世界每天都是不安或动荡的，“平静”更符合语意，排除A项。故本题选B。

29. 【答案】C。解析：先看第一空，“检察”指国家法律监督机关（检察院）依法定程序进行的法律监督活动，“监察”指监督各级国家机关和机关工作人员的工作并检举违法失职的机关或工作人员，二者均不符合语意，排除A、B项。再看第二空，“阳奉阴违”形容表面上遵从，暗地里不执行，“虚有其表”形容空有好看的外表，实际不行，此处讲一些手机游戏的实名认证只是做个摆设，实际上不执行，“阳奉阴违”符合语意，排除D项。故本题选C。

30. 【答案】B。解析：先看第一空，横线处所填词语修饰“文化遗产”，且应与“矜持”“高贵”意思相近，“唯我独尊”词义过重，“超凡脱俗”指摆脱世俗的高雅境界，无法修饰“文化遗产”，排除A、C项。再看第二空，故宫博物院拥抱互联网技术的成功例子证明互联网技术“活化”文化是“可行”的，“重要性”与“必要性”存在语义重复之嫌，排除D项。故本题选B。

31. 【答案】C。解析：先看第二空，“耳熟能详”（指听得多了，能够说得很清楚、很详细）与“信手拈来”（多指写文章时能自由纯熟的选用词语或应用典故，用不着怎么思考）不能形容群众对戏曲的看法，排除B、D项。再看第一空，“爱屋及乌”比喻爱一个人而连带地关心到与他有关的人或物，与后文提到的“先入为主的偏见”“难以静下心来欣赏”不搭，排除A项。验证C项，“敬而远之”形容表面上表示尊敬，实际上不愿接近，“喜闻乐见”指喜欢听，乐意看，二者均符合文意。故本题选C。

32. 【答案】D。解析：先看第二空，根据“反而”可知代写作业的现象不仅没有减少，还比以前更加严重了，只有“得寸进尺”和“变本加厉”能体现比以前更加严重，排除B、C项。再看第三空，从后文代写服务“也在升级”可知，价格也在“升级”，而非“居高不下”，“水涨船高”比喻事物随着它所凭借的基础的提高而提高，此处讲代写作业已形成了完整的产业链，价格也随之上漲，符合文意，排除A项。验证第一空，“遏制”指迫使停止，符合语意。故本题选D。

33. 【答案】D。解析：先看第三空，横线部分所填内容应与“奔忙”对应，即从奔忙的状态停下来，“停歇”和“驻息”更加恰当，排除A、C项。再看第二空，“浮躁”指人的心态轻浮急躁，而文段强调环境的混乱，排除B项。验证第一空，“自然之境”指一种意境，与“营造”搭配恰当。故本题选D。

34. 【答案】D。解析：先看第一空，由后文“从保守派的……担忧到当代美国社群主义汉学家对权利社会的批评与贬斥”可知，该分句体现的是“不相容论”，再由“维新派的人情呼吁”可知，此处所

填词应体现“相容论”，“防守”不符合语意，排除A项。再看第二空，此处体现的是“不相容论”，“忍让”不符合语意，排除B项。最后看第三空，“百家争鸣”指各种学术流派的自由争论互相批评，强调对多种不同的观点进行争论，由前文“相容论与不相容论”可知，此处只有两种不同的意见，“百家争鸣”不符合语意，排除C项。验证D项，“接纳”指接受、采纳，“抵御”指抵挡、抵抗，二者均符合语意；“聚讼纷纭”指大家议论纷纷，没有一致看法，表示对“相容论与不相容论”这两种观点议论纷纷，没有一致的看法。故本题选D。

35. 【答案】B。解析：先看第一空，“时来运转”指时机来了，运气有了好转，文段讲一些人得到武功秘籍，未体现运气由坏转好，排除A项。再看第三空，文段将苦苦修炼的人与找到捷径的人作对比，显然是要体现他们的踏实，“废寝忘食”和“卧薪尝胆”均形容勤奋刻苦，“脚踏实地”最能体现踏实的意思，排除C、D项。验证第二空，“立竿见影”比喻收效迅速，即得到武功秘籍后迅速成为顶尖高手，符合语意。故本题选B。

36. 【答案】C。解析：文段讲公立医院由于很多项目价格严重低于成本，导致许多医院都会用开大处方、滥用耗材来弥补亏损，但这种补偿机制会导致“重物轻人”，即物的价值超过人的价值，因此，北京市开始取消耗材加成来促进医院由资源消耗型向内涵质量型转变，即更重视医生的技术和能力。可见，文段意在强调医院应“重人轻物”，C项最能体现“由资源消耗型向内涵质量型转变”的意思，当选。A项“医德”文段并未提及；B、D项均偏离文段论述重点，无法体现出从“重物”到“重人”的转变。故本题选C。

37. 【答案】C。解析：前文讲许多国家在垃圾分类上的做法已取得了良好效果，我国也出台了相关政策推行垃圾分类，但推进速度却十分缓慢。后文讲我国对垃圾分类的标准、做法和相应奖惩措施没有明确规定，由此可知，我国垃圾分类工作推进缓慢的原因与“法律体系不健全”有关，C项正确。A、B项文段均未体现；D项“监管”只是法律体系不健全的一个方面。故本题选C。

38. 【答案】B。解析：文段讲随着“互联网+”经济的发展，许多不法分子搞起“互联网+赌博”，对社会造成了严重的危害，例如举亚太地区的赌博机构通过互联网入侵我国，严重损害了我国的治安环境。可见，互联网与赌博的结合会给社会造成更严重的危害，B项正确。A项未体现文段的论述主体“互联网+赌博”，C项为“互联网+赌博”对社会造成危害的例证，D项属于过度延伸。故本题选B。

39. 【答案】A。解析：文段首先交代时代背景，即新一轮科技革命和产业革命呈历史性交汇，产业升级和生产要素转移步伐加快，接着分别讲对中国和整个世界经济的影响，最后一句总结指出在这种历史背景下必须培养高素质技能型人才，这是时代赋予职业教育的责任和使命。显然，培养高质量高竞争力的技术型人才是对职业教育的要求，A项最恰当。B项“很多国家的国策”、C项“任重道远”文段均无从体现，D项“全面发展”表述有误。故本题选A。

40. 【答案】B。解析：横线处所填入语句应起承上启下的作用。前文讲“用笔技巧是书法创作的核心”，后文讲榜书作品要达到最高境界，最重要的手段就是“挫万仞于笔端，合情调于纸上”，再结合“一笔之法，妙在起止，起止得宜，则画无不美”“它是书家审美意识、审美心理、审美情趣在起笔、收笔、转笔、掠笔、点线波变中的体现”等语句，可知横线前后讲的均是榜书的笔法，且后文强调“笔势”，则B项填入横线处最恰当。A项“精心构思”、C项“内在结构”文段无从体现，D项与后文联系不够紧密。故本题选B。

41. 【答案】B。解析：文段从军事博弈的发展脉络探讨了我国自古以来对军事防御手段的偏爱与重视，也因为如此，“筑城防御”极大地影响了中国历史文明的走向，B项正确。A项错误，军事防御手段十分高超仅为文段论述的背景之一，为的是强调历代中原统治者对城池防守的偏爱。C项错误，“钢铁长城”只是“筑城防御”的军事思想影响我国历史文明的走向的一个例证。D项错误，表述本身过于绝对，且“攻”“守”并不是文段论述的重点。故本题选B。

42. 【答案】D。解析：文段讲“互联网+”让人们表达善意的途径更通畅，同时也出现了许多“悲情营销”的虚假信息，这需要网民、网络平台和电商平台各方提高警惕、筑牢安全防线，合力抵制网络

虚假信息，D项正确。A项是文段的背景，非强调内容；B项“网民”和C项“网络平台”均是其中的一个主体，概括不够全面。故本题选D。

43. 【答案】B。解析：观察选项，可先确定首句。④介绍公民个人信息的定义，⑥讲公民个人信息涵盖的内容，显然，④作首句更加恰当，排除A、C项。③“公民信息安全”是对②“公民信息的保护力度”的进一步说明，②③捆绑，排除D项。验证B项，符合语句逻辑关系。故本题选B。

44. 【答案】A。解析：通读6个语句，①④分别假设了与③“名利不是梦想的唯一标准，捷径绝非实现梦想的首要通道”中相反情况的后果，“捷径”对应“投机取巧”，“名利”对应“财富名利”，则③①④捆绑，锁定A项。验证其他三句，②引出马克思名言后，⑤对其进行了内涵剖析，强调了先立志向、后奋斗的前行过程，最后在⑥中鼓励青年人励志拼搏无悔于人生，整体符合叙述逻辑。故本题选A。

45. 【答案】B。解析：文段首先讲述中国妈妈爱孩子却没有得到孩子的正向反馈，甚至因为一些原因“中国妈妈”成了贬义词，末尾提及高尔基的观点，他认为光爱孩子是母鸡都会做的事情，但教育好孩子却是一门艺术，那么接下来最有可能论述教育孩子的正确方法，B项正确。A、C、D三项均偏离“教育”这一论述主体，无法与前文衔接。故本题选B。

46. 【答案】B。解析：文段讲数据分享存在安全问题，但数据分享不可避免，那么如何分享就成了关键，最后一句“用户知情与否，有选择权还是没选择权，有着霄壤之别”强调保护用户权利的重要性，因此接下来最有可能讲的是如何在数据分享中保护用户权利，B项最恰当。A项“避免个人数据的分享”与文段中“数据的广泛共享是无法扭转的历史趋势”相悖；C项“互联网平台授权法规”文段并未提及，无法衔接；D项表述太过笼统，缺乏针对性。故本题选B。

47. 【答案】D。解析：A项正确，从“整个心脏的心肌细胞的兴奋具有时间性和空间性，从而导致心肌不同步收缩。只有这样，心脏才能有条不紊地完成泵血功能”可知，两者之间存在逻辑关联。B项正确，从“心脏兴奋性的精确传导取决于心脏内的快传导纤维”可知，“快传导纤维”出现病变必然会影响到“心脏兴奋性的精准传导”。C项正确，从“在某一时刻，心脏的某个部位处于兴奋收缩状态，其余部位处于舒张状态，随着时间的变化，收缩和舒张的部位也发生变化”可知，心脏的收缩和舒张部位也会随着时间推移而发生变化。D项错误，与心电图数据相关的是“心脏不同部位兴奋所表现出电位的总体差异”，而非“人体特定部位”。故本题选D。

48. 【答案】C。解析：文段主要讲中华民族的世界观、人生观、道德观等已深深融入中国人的血液之中，成为中华民族的文化基因，而中国文艺实践在某种程度上就是中华民族文化基因的投射，文艺实践就是在反映历史，如当代文化便借力于改革开放和互联网技术的发展，即中国历史的独特性造就了中国文艺实践的独特性，中国文艺实践具有不可复制的独特性。可见，文段主要说明中国文艺实践的独特性来源于中国历史文化的独特性，C项正确。A项“每个国家、每个民族”无中生有；B项仅为文段举例部分的内容，非论述重点；D项“文艺理论”无中生有。故本题选C。

49. 【答案】B。解析：横线前文已经有主语，A项先排除。根据主语一致原则，前文的主语是一个从句“孩子长期沉浸在软色情的毒液中”，而C项省略的主语应是“孩子”，D项省略的主语应是“网络软色情”，均不符合，排除。孩子长期沉浸在软色情的毒液中，会削弱他们对色情所保持的敏感度，就如同温水煮青蛙（即由于对渐变的适应性和习惯性，失去戒备而招灾），此处用一个比喻形象地说明软色情对孩子身心的危害，符合文意。故本题选B。

50. 【答案】C。解析：文段首先介绍人口对国计民生，尤其是在推进高质量发展进程中的重要意义，接着重点讨论第七次全国人口普查结果，指出人口的积极变化及结构性矛盾。可见，文段重点介绍人口普查结果中的人口变化的积极和消极因素，C项正确。A、B项均是文段援引部分的内容；D项“结构性矛盾”属于文段的部分内容。故本题选C。

51. 【答案】D。解析文章围绕《南华录》而展开，先排除C项。A项仅针对第一段的前半部分内容而言，不符合题意，再排除。从文章对《南华录》的介绍，可以判断此文并不可能出自《南华录》本文，排除B项。D项从第一段后半部分开始引入，后文都是对《南华录》的分析介绍，D项最有可能。故本

题选 D。

52. 【答案】B。解析：根据第二段内容可知，晚明时期的南方士人精神样貌不同于儒家的安贫乐道，也不同于道家的寄情山水，先排除 A、D 项。C 项“逍遥自在”概括不够准确，结合“那些并非生存所必需的‘长物’被纳入日常生活，灌注以才智情思，营造一种风雅的生活情境，成为个人生命的寄托”，可知晚明时期的南方士人把风雅付诸日常生活，更强调与“日常生活”相结合。故本题选 B。

53. 【答案】D。解析：根据第三段内容可知，《南华录》作品中人物的心理是忠实于感受的，却非常矛盾、复杂，既率真任性，又焦灼痛苦；年轻时放纵颓废，暮年后沉痛忏悔。而这些复杂的心理又源于逃避政治和道德的双重挤压，以离经叛道的狂狷姿态对抗体制和传统，则 A、B、C 项均正确。D 项错误，“声色犬马”符合文意，“但求心安”表达不正确，原文“心安”附有双引号，说明并不是真正能心安。故本题选 D。

54. 【答案】C。解析：所摘录出的这句话是转折复句，重点在后半部分，即“触及晚明乃至更为普遍的人类生活所不应回避的问题”。这些问题就是“如何处理精神与物的关系、世俗生活热情的边界在哪里、日常感性经验与超越性理性价值如何平衡”，那么，该句话最适合位于③处。故本题选 C。

55. 【答案】C。解析：A 项从最后一段可推出，由“晚明士人的享乐和奢靡之风，……也需要认真考量”可知，需谨慎对待晚明士人“耽于物，溺于物”的生活方式。B 项从最后一段可推出，由“我们能否从他们对待物的态度中吸收一些有价值的东西，借以重建我们时代的风雅”可知，应思考并重建现代人的时代风雅。C 项无法推知，该项内容可用于对《南华录》作品的阅读感想，不适合文章内容。D 项从第三段可推出，由“无论年轻时怎样荒唐孟浪、极尽声色，暮年大多有悔恨之意”可知，作者意在劝诫现代人不可虚度年华、光阴虚掷。故本题选 C。

56. 【答案】D。解析：根据第①段和第④段可知，血液可以帮助我们思考是因为它能够积极地调整神经元处理信息的方式，具体来说，就是血液在流动过程中改变了神经元之间传递信号的方式，从而调整了信息在整个大脑的传递过程。故本题选 D。

57. 【答案】A。解析：根据第⑤段的内容可知，若“血液可以帮助我们思考”的假设成立，对阿尔茨海默氏症、精神分裂症、多发性硬化症和癫痫等疾病具有重要意义。此前对这些疾病的研究大部分基于其症状是由神经元受损引发的观点，若“血液可以帮助我们思考”的假设成立，则可以证明这些疾病也许与血液有关。B、C、D 三项都是心血管疾病，本身就被认为与血液相关。故本题选 A。

58. 【答案】C。解析：A 项错误，不管“血液可以帮助我们思考”的假设是否成立，血液仍是大脑的维持系统，负责为大脑提供营养和必要的氧气。B 项错误，“用作用于血液的药物方可治愈”的说法过于绝对。C 项正确，根据第⑦段对癫痫这一例子的阐述，可知疾病的产生原因可能不是单一的，随着科学技术的进步会逐渐发现更多的致病原因，从而找到更多更好的治疗方法。D 项错误，根据文章无法推知。故本题选 C。

59. 【答案】A。解析：首先排除 C、D 项，“磁共振成像”不能用来“检查”或“诊断”大脑血流变化；B 项“观测”通常指观察并测量（天文、地理、气象、方向等），排除。A 项“扫描”与“成像”相对应，最恰当。故本题选 A。

60. 【答案】B。解析：观察选项所划分的层次，⑩的“但”是对⑨的转折，不能划分开，排除 A、C 项。再比较 B、D 项，①到④段都是对“血液可以帮助我们思考”这一观点的论述，不能划分开，据此排除 D 项。故本题选 B。

61. 【答案】D。解析：设 4 人的成绩分别为 $60+a$ 、 $60+b$ 、 $60+c$ 、 $60+d$ ，则 $a+b+c+d=252-4\times 60=12$ 。根据题意可知，4 人成绩在 61~70 分之间，则 a 、 b 、 c 、 d 取值范围为 1~10，且各不相同。 a 、 b 、 c 、 d 取值可为 1、2、3、6 或 1、2、4、5，则 4 人成绩共有 $2\times A_4^4=48$ 种情况。故本题选 D。

62. 【答案】C。解析：不足 100 元的部分由于在甲店无促销活动，因此选择在乙店购买，可以买到 $50\div 5=10$ 斤，加上赠送部分，共 11 斤。超过 100 元且 100 的整数倍钱数的，选择甲店，可以买到更多

水果。充 200 送 40 元，卡内 10 元部分不能使用，因此可用金额为 230 元，可以买到 $230 \div 5 = 46$ 斤，一共可以买到 $11 + 46 = 57$ 斤。故本题选 C。

63. 【答案】A。解析：装满时小货车运输每箱苹果的费用为 $3.5 \times 0.8 = 2.8$ 元，大货车运输每箱苹果的费用为 $3 \times 0.9 = 2.7$ 元，因此大货车费用较低，则先让大货车运 90×4 箱，需要费用 $90 \times 4 \times 2.7 = 972$ 元。剩下 $400 - 360 = 40$ 箱苹果，分情况讨论：第一种方案全由小货车运输的费用为 $2.8 \times 30 + 3.5 \times 10 = 119$ 元；第二种方案全由大货车运输的费用为 $3 \times 40 = 120$ 元；第三种方案先让小货车运输 30 箱，剩下让大货车运输的费用为 $2.8 \times 30 + 3 \times 10 = 114$ 元。因此第三种方案最省钱，总费用为 $972 + 114 = 1086$ 元。故本题选 A。

64. 【答案】D。解析：要使所剩乘客人数最少，则应尽量使上车人数最少，下车人数最多。根据题意可知，下车人数一定，始发站上 1 名乘客时上车人数最少。从始发站到第九站上车人数构成公差为 2 的等差数列，第九站上车人数为 $1 + 2 \times 8 = 17$ 人，根据等差数列求和公式，上车总人数为 $\frac{9 \times (1 + 17)}{2} = 81$ 人。中途下车人数为 $3 \times 6 = 18$ 人。因此到终点站时乘客最少还剩 $81 - 18 = 63$ 人。故本题选 D。

65. 【答案】A。解析：设参加两次宣传活动的人数为 x 人，则只参加一次的人数为 $2x$ 人。要使公司人数最多，则参加三次宣传活动的人数应尽可能少，已知有一部分人参加三次，则最少可为 1 人。根据题意可列方程 $2x + 2x + 1 \times 3 = 207$ ，解得 $x = 51$ 。因此该公司最多有 $2 \times 51 + 51 + 1 = 154$ 人。故本题选 A。

66. 【答案】A。解析：第一步：本题考查基础应用题，用方程法解题。第二步：设普通水稻、超级水稻的平均产量分别为 x 、 y ，由题意可得 $x + y = 1.5x$ ，化简得 $y : x = 5 : 2$ ，即超级水稻与普通水稻的平均产量之比为 5:2。故本题选 A。解法二：第一步：本题考查基础应用题，用赋值法解题。第二步：赋值试验田面积为 3，则超级水稻试验田面积为 1，普通水稻面积为 2。赋值普通水稻的平均产量为 2，则现在普通水稻产量为 $2 \times 2 = 4$ ，总产量为 $1.5 \times 2 \times 3 = 9$ ，超级水稻的产量为 $9 - 4 = 5$ ，超级水稻的平均产量为 $5 \div 1 = 5$ ，故超级水稻与普通水稻的平均产量之比为 5:2。故本题选 A。

67. 【答案】C。解析：设甲的报价为 $(50 + 5x)$ 元，则甲需要支付的费用为 $(50 + 5x) \times (2500 - 100x) = -500x^2 + 7500x + 125000$ ，乙需要支付的费用为 $30 \times 1000 + 1.2 \times (50 + 5x) \times 1500 = 120000 + 9000x$ 。当甲、乙支付的费用相等时，则有 $-500x^2 + 7500x + 125000 = 120000 + 9000x$ ，化简得 $(x - 2)(x + 5) = 0$ ，解得 $x = 2$ ，即甲的报价为 $50 + 5 \times 2 = 60$ 元时，卖给甲和卖给乙工厂所获收入一样多。故本题选 C。

68. 【答案】D。解析：本题考查思维统筹问题。第一步：审阅题干。本题应保证随着小张的选择的变化，均可找到不变的稳定的循环方案，才能保证小李的话变成现实。第二步：根据每次的拿牌规则，可分析：当小张拿 1 个，小李可拿 9 个与之匹配，当循环周期为 10 张牌的时候，小李必然可以拿到最后一张牌；同理，小张拿 2 个，小李拿 8 个，循环周期仍为 10……则可根据分析， $108 \div 10 = 10 \cdots 8$ ，即小李先拿 8 张牌，之后每个拿牌周期，不管小张拿多少牌，小李均与其匹配为 10 张牌，如此往复，小李最后必会拿到最后一张牌。故本题选 D。

69. 【答案】C。解析：设每件礼品进价为 X 元，降价 m 元，则每件商品利润为 $(60 - X - m)$ 元，每天可售出 $(40 + 20m)$ 件，每天销售利润为 Y 元， $Y = (60 - X - m)(40 + 20m) = 20 \times (60 - X - m)(2 + m)$ ， Y 取最大值时为 1120，即 $(60 - X - m)(2 + m)$ 最大值为 $1120 \div 20 = 56$ 。由于 $(60 - X - m) + (2 + m) = 62 - X$ 为定值，它们最接近时乘积最大，56 的所有约数中，7 与 8 最接近。因此 $(60 - X - m) + (2 + m) = 7 + 8 = 62 - X$ ， $X = 47$ 。故本题选 C。

70. 【答案】C。解析：根据勾股定理，该圆形人工湖的直径为 $\sqrt{(40 + 120)^2 + 120^2} = 200$ 米（将其视为长 160 米、宽 120 米的矩形的对角线），则其周长为 $200 \times 3.14 = 628$ 米。设小刘的速度为 x 米/秒，小王的速度为 y 米/秒，根据题意有 $\frac{314}{x} = \frac{314 - 10}{y}$ ， $\frac{628}{x} = \frac{314 + 280}{y} + 2$ ，即 $\frac{608}{y} = \frac{594}{y} + 2$ ，解得 $y = 7$ 。故本题选 C。

71. 【答案】C。解析：本题考查基础概率问题。第一步：审阅题干。本题出现“抽取，概率”等情况，可知为概率问题。第二步：概率=

$$\frac{\text{满足条件个数}}{\text{总个数}} = \frac{C_3^1 \times C_4^2}{C_{12}^2} = \frac{3 \times 4 \times 3}{\frac{12 \times 11}{2 \times 1}}, \text{约分后为 } \frac{3}{11}.$$

方法二：第一步：先任意抽取一只袜子，概率为 1。第二步：要想与该只袜子组成一双，需要从剩下的 11 只袜子中抽取与该袜子同型号 3 只袜子中的一只，概率为 $\frac{3}{11}$ ，所以最终概率为： $1 \times \frac{3}{11} = \frac{3}{11}$ 。故本题选 C。

72. 【答案】D。解析：方法一：和差倍比问题，可以优先使用代入排除。根据“玫瑰花卖出的数量是百合的 7 倍”可知玫瑰花数量为 7 的倍数，则先排除 C 项。代入 D 项，即玫瑰数量为 791 支，则百合数量为 113 支，设紫罗兰数量为 x 支，则 $x+2x-28+791+113=996$ ，解得 $x=40$ ，百合和紫罗兰卖出的数量之和为 $40+113=153$ 支，恰好为 3 的倍数，满足题干所有条件。A、B 项代入均不满足条件。故本题选 D。方法二：设卖出百合 y 支，紫罗兰 x 支，则根据“这四种鲜花共卖出 996 支”列式为 $x+2x-28+y+7y=996$ 支，化简得 $3x+8y=1024$ ，为不定方程，1024 为 8 的倍数，则 x 为 8 的倍数，代入 $x=8、16、24、32、40$ ，y 分别为 125、122、119、116、113，可知只有 $x=40$ 时， $40+113=153$ ，满足所有条件，解得玫瑰花数量为 $113 \times 7=791$ 支。故本题选 D。

73. 【答案】A。解析：每条生产线每小时的产量相同，则每条生产线每小时的产量应为 600（100、120、150 的最小公倍数）的倍数。设每条生产线每小时的产量为 $600n$ 只，则 3 条生产线上的工人数之比为 $6n:5n:4n=6:5:4$ 。现有 105 名工人， $105 \div (6+5+4)=7$ ，则 3 条生产线上的工人数分别为 42 人、35 人、28 人。因此 3 条生产线每小时共能生产 $42 \times 100 \times 3=12600$ 只口罩。故本题选 A。

74. 【答案】C。解析：根据题意可知， $\triangle ABF \sim \triangle CDF$ ，则 $\frac{AB}{CD} = \frac{BF}{DF}$ ，即 $\frac{AB}{1.6} = \frac{BD+3}{3}$ ①；同理， $\triangle ABG \sim \triangle EFG$ ，则 $\frac{AB}{EF} = \frac{BG}{FG}$ ，即 $\frac{AB}{1.6} = \frac{BD+3+4}{4}$ ②。联立①②可得 $BD=9m$ ，代入①可得 $AB=6.4m$ 。故本题选 C。

75. 【答案】B。解析：根据题意可知小明是将七点四十多（不到四十五）看成了八点三十多（超过三十五），首先排除 A 项。以平时 1.2 倍的速度，则花的时间为平时的 $\frac{5}{6}$ 。若 9:00 上班，平时花 60 分钟，这次上班花 50 分钟，在 8:30~8:35 之间到公司，即提早 25 分钟~30 分钟到公司。同理可得，若 9:30 上班，则提早 30 分钟~35 分钟到公司；若 10:00 上班，则提早 35 分钟~40 分钟到公司。故本题选 B。

76. 【答案】D。解析：题干各图形不相似，但较为规则，对称性明显，考虑对称规律。题干各图形均既是轴对称图形，又是中心对称图形，则问号处图形也应既是轴对称图形，又是中心对称图形。观察选项，只有 D 项符合。A、C 项不是中心对称图形，B 项既不是轴对称图形也不是中心对称图形，均排除。故本题选 D。

77. 【答案】D。解析：题干考查关系类规律。第一步：观察图形。题干各图形均包含线性图形和圆，优先考虑与圆有关的规律。题干各图形中圆与线性图形的关系依次为：相交、相切、相交、相切、相交，则问号处图形圆与线性图形应为相切关系。第二步：分析选项，确定答案。A 项：圆与线性图形为相离关系，排除。B 项：圆与线性图形为相离关系，排除。C 项：圆与线性图形为相交关系，排除。D 项：圆与线性图形为相切关系，当选。故本题选 D。

78. 【答案】B。解析：题干各图形均为三笔画图形，则问号处图形应为三笔画图形。分析选项，A 项为两笔画图形，排除。B 项为三笔画图形，当选。C 项为两笔画图形，排除。D 项为两笔画图形，排除。故本题选 B。

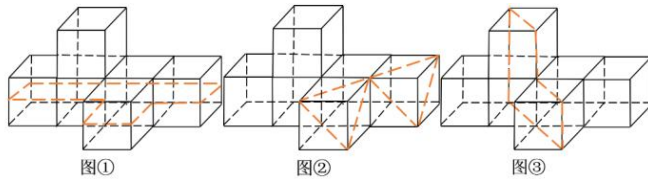
79. 【答案】B。解析：题干前两行每行第一个图形中左右两个部分直接叠加得到第三个图形左边的部分，第二个图形中左右两个部分直接叠加得到第三个图形右边的部分。因此，第三行也应遵循该规律。观察选项，只有B项符合。故本题选B。

80. 【答案】B。解析：对角线和阴影部分不相交，排除A、C项；对角线与含有阴影的面上的直线不相交，排除D项。故本题选B。

81. 【答案】C。解析：本题考查截面图。

第一步：观察图形。题干左边为立体图，右边为截面。

第二步：沿图①②③所示线条剖开分别可得A、B、D项，只有C项不可能是题干立体图形的截面。



故本题选C。

82. 【答案】D。解析：从左侧观看可得A项，从右侧观看可得B项，从上方观看可得C项。D项若是从后面观看，则上方缺少一条直线，排除。故本题选D。

83. 【答案】A。解析：①③④图形均由两个面积相等的封闭空间组成，②⑤⑥图形均由两个面积不相等的封闭空间组成。故本题选A。

84. 【答案】B。解析：①④⑤图形中大图形线条数大于或等于小图形的线条数，②③⑥图形中大图形线条数小于小图形线条数。故本题选B。

85. 【答案】A。解析：①④⑥图形内部均有3条曲线，②③⑤图形内部均有2条曲线和1条直线。故本题选A。

86. 【答案】D。解析：“连绵词”的定义要点是“由两个音节联缀成义而不能分割的词”。A项“蹊跷”、B项“徘徊”和C项“玻璃”均由两个音节组成且不能分割，符合定义要点，排除。D项所有词素均可以分割，且每个字都含有自己的意思，不符合定义要点。故本题选D。

87. 【答案】C。解析：“反证法”的定义要点是“用确定的与原论题相矛盾的论题的虚假……确定论题真实性”。A项原论题是“每个人都要遵守法律”，未体现“与原论题相矛盾的论题”，不符合定义要点，排除。B项“甲是计算机专业的”和“甲是数学专业的”并不矛盾，不符合定义要点，排除。C项“所有人都喜欢看书”和“有的人不喜欢看书”相矛盾，用“所有人都喜欢看书”为假来确定“有的人不喜欢看书”为真，符合定义要点。D项原论题是“防弹玻璃不是乙厂生产的”，也未体现“与原论题相矛盾的论题”，不符合定义要点，排除。故本题选C。

88. 【答案】D。解析：“报网互动”的定义要点是“传统报纸和所属的新闻网站为了扩大影响力而采取的种种行为，以对纸媒和网媒的各自优势进行嫁接、重组，进而达到报纸与网站双赢的目的”。A、B、C三项均体现了纸媒和其所属的网媒为了扩大影响力而对各自优势进行嫁接、重组，均符合定义要点，均排除。D项某新闻网站通过网络直播的方式传播开幕式的相关内容，只涉及了网媒，没有提到纸媒，不符合定义要点。故本题选D。

89. 【答案】B。解析：“同辈群体”的定义要点是“由一些年龄、兴趣、爱好、态度、价值观、社会地位等方面较为接近的人所组成的一种非正式初级群体”。A项“有老人也有青年”不属于年龄接近的人，不符合定义要点，排除。B项“喜欢民乐的同学结成乐队”符合定义要点，属于同辈群体。C项“业务代表”与“数位公司老总”不属于社会地位较为接近的人，不符合定义要点，排除。D项“爱学习”与“不爱学习”不属于态度较为接近的人，不符合定义要点，排除。故本题选B。

90. 【答案】C。解析：“生物识别技术”的定义要点是“利用人体固有的生理特性或行为特征来进行个人身份的鉴定”。A项利用指纹、B项利用声音、D项利用静脉纹路，均符合定义要点，排除。C项

身份证不属于“人体固有的生理特性或行为特征”，不符合定义。故本题选C。

91. 【答案】C。解析：“退行”的定义要点：①受到挫折或面临焦虑、应激等状态；②使用早期生活阶段的某种行为方式。A项小晨只是和朋友说话以转移注意力，不符合②，排除。B项明显不符合定义，排除。C项“女朋友和他分手了”符合①，“坐在地上嚎啕大哭”多是小孩子的应对方式，符合②，符合定义。D项未体现小张“受到挫折或面临焦虑、应激等状态”，不符合①，排除。故本题选C。

92. 【答案】D。解析：第一步，理清定义要点：①其他特征掩盖回忆特征，②受情境因素或情绪干扰所致，满足其一即可。第二步，分析选项，A、B项属于特殊情境，符合定义要点，排除；C项班长的性格特征掩盖了外貌特征，符合定义要点，排除；D项中小丽对相亲对象没感觉，没涉及遗忘，不符合定义要点。故本题选D。

93. 【答案】D。解析：“鸟笼逻辑”的定义要点是“受制于惯性思维，不知变通，难以突破常规”。A项先结婚后购车买房的新时代裸婚思想突破常规，懂得变通，不符合定义要点，排除。B项用电风扇吹走产品空盒的方法突破惯性思维，懂得变通，不符合定义要点，排除。C项乌鸦喝水的方法突破惯性思维，懂得变通，不符合定义要点，排除。D项一般都选择先就业再择业，即不知变通，难以突破常规，符合定义要点，当选。故本题选D。

94. 【答案】D。解析：“借代”的定义要点是“说话或写文章时不直接说出所要表达的人或事物，而是借用与它密切相关的人或事物来代替”。A项“烽烟”指代“战争”，符合定义要点，排除；B项“沉鳞”指代“潜游在水中的鱼”，符合定义要点，排除；C项“樊笼”指代“官场”，符合定义要点，排除；D项未运用借代的修辞手法。故本题选D。

95. 【答案】A。解析：“物理风化”的定义要点是“岩石、矿物由于物理作用在原地发生机械破碎的过程”。A项雨水的冻、融使岩石崩解，属于物理作用下岩石的机械破碎，符合定义。B项雨水的溶解、D项酸雨的侵蚀，均为化学作用，不符合定义，排除。C项蚂蚁导致的岩石破裂属于生物影响，不符合定义，排除。故本题选A。

96. 【答案】C。解析：电子串号相当于手机的“身份证号码”，用于识别手机；C项车牌号相当于车辆的“身份证号码”，用于识别车辆。A项胡同是指城镇或乡村里主要街道之间的、比较小的街道，门牌号对应的是房子，排除。B项年号是皇帝纪年的名号，并非号码，排除。D项学号对应的是学生，排除。故本题选C。

97. 【答案】B。解析：“栩栩如生”比喻艺术形象非常逼真，如同活的一样，“呼之欲出”比喻人像画得非常逼真，似乎叫一声就能走出来，二者为近义关系；B项“听其自流”比喻不加约束、引导，听任自由发展，“听之任之”比喻任凭事物存在发展而不去过问，二者为近义关系。A项“生机勃勃”比喻自然界充满生命力，或社会生活活跃，“老气横秋”比喻自高自大，摆老资格，二者无明显联系，排除。C项“防患未然”比喻在祸患发生之前就加以预防，“江心补漏”比喻临到紧急关头才设法补漏，二者为反义关系，与题干关系不符，排除。D项“铤而走险”比喻无路可走的时候采取冒险行动，“畏缩不前”比喻畏惧退缩，不敢前进，二者无明显联系，排除。故本题选B。

98. 【答案】A。解析：“唱念做打”和“听说读写”都是由四个动词性的字组成的，且均为并列结构；A项“坑蒙拐骗”和“吹拉弹唱”也是由四个动词性的字组成的，且均为并列结构。B项“古往今来”不是并列结构，排除。C项“生旦净丑”不是由四个动词性的字组成的，排除。D项“生死荣辱”和“功过是非”均不是由动词性的字组成的，排除。故本题选A。

99. 【答案】D。解析：保温杯和高脚杯都是杯子的一种，且前者“保温”体现杯子的功能，后者“高脚”体现杯子的形状；D项防盗门和卷帘门都是门的一种，且前者“防盗”体现门的功能，后者“卷帘”体现门的形状。A项“工艺”体现的不是产品的形状，排除。B项LED屏属于显示屏，排除。C项“电脑”体现的不是桌子的形状，排除。故本题选D。

100. 【答案】B。解析：刑法是法律的一种，二者为种属关系，刑法中包含法律条文；B项正方形是矩形的一种，二者为种属关系，正方形中含有直角。A项机械键盘是键盘的一种，二者为种属关系，但

词语前后位置与题干相反，排除。C项松树是针叶林的组成部分，二者为组成关系，排除。D项微生物属于生物，但微生物不一定有细胞，排除。故本题选B。

101. 【答案】A。解析：先构思，再选材，最后起草，且三者均是独立的动作；A项先勘测，再设计，最后施工，且三者均是独立的动作。B项先编码，再传送，最后译码，但词语顺序与题干不一致，排除。C项和匀是和面的目的，排除。D项先起跑，再加速，最后冲刺，但三者不是独立的动作，起跑时会加速，冲刺时也会加速，排除。故本题选A。

102. 【答案】A。解析：水是生物生存的必要条件，生物都含有碳元素；A项阳光是绿叶植物生存的必要条件，绿叶植物都含有叶绿素。B项批评导致沮丧继而消极，排除。C项鸡蛋含有蛋白质，氨基酸是蛋白质的组成部分，排除。D项下雨要撑雨伞或穿雨衣，排除。故本题选A。

103. 【答案】B。解析：“迷魂香”有迷魂之效，B项“清凉油”有清凉缓解之效。A项“花露”指花上的露水，“花露水”是一种用于沐浴后祛除一些汗臭，以及在公共场所解除一些秽气的夏季卫生用品，二者无明显关系，排除。C项“樟脑”是“樟脑丸”的原料，排除。D项“跌打酒”没有跌打的功效，而是用来治疗跌打，排除。故本题选B。

104. 【答案】B。解析：选项逐一代入。A项胡椒是从西域引进的，角力是中原古代摔跤运动，前后关系不一致，排除。B项番茄和胡椒均属于引进的蔬菜，为并列关系；角力和蹴鞠均属于古代的运动，为并列关系，前后关系一致。C项胡椒属于调料，角力属于运动，但前后词语顺序不一致，排除。D项胡椒可用于（煮）火锅，角力即古代的摔跤运动，前后关系不一致，排除。故本题选B。

105. 【答案】D。解析：选项逐一代入。A项，老宅和新房是反义关系，牢固和稳定是近义关系，前后关系不一致，排除。B项，粉刷新房是动宾关系，稳定用来修饰天气，前后关系不一致，排除。C项，新房里有甲醛，稳定用来修饰情绪，前后关系不一致，排除。D项装修新房和稳定物价均为动宾关系，前后关系一致。故本题选D。

106. 【答案】C。解析：题干论点：女性比男性更擅长认人。论据：女性在观察脸部时，大脑中与面部识别相关的区域具有更强的反应，在这些区域中有更密集的细胞组织。A项属于无关项，排除。B项指出女性更注重细节，所以女性比男性更擅长认人，属于加强项，排除。C项指出在时间充足的情况下，男性识别人的面孔具有更准确的识别率，即女性并不比男性更擅长认人，最能削弱题干论点。D项刑侦属于特例，不具有普遍性，不能削弱题干论点，排除。故本题选C。

107. 【答案】B。解析：题干论点：鸟类与恐龙之间食性的差异很可能是其幸存至今的关键。论据：古鸟类釉质与牙本质之间的多孔罩牙本质层皆已消失，这意味着鸟类的牙齿不再需要特殊的力学保护结构，间接证实了其饮食习惯与肉食性恐龙产生了极大的差异。A项介绍了多孔罩牙本质层是肉食性恐龙牙齿的保护结构，解释了鸟类与恐龙的食性不同，加强论据，排除。B项指出大量气体对恐龙来说有致命的毒性，对古鸟类的影响较小，说明鸟类与恐龙受毒性气体影响的不同可能是其幸存的关键，属于他因削弱，最能削弱题干论点，当选。C项指出古鸟类通过食性转换避开了与肉食性恐龙的竞争，与其是否因此存活至今无关，排除。D项说明了恐龙减少的原因，与鸟类存活至今的原因无关，排除。故本题选B。

108. 【答案】B。解析：由“喜欢绘画的人年龄比喜欢写作的人小”可知喜欢绘画的人年龄不是最大的，再由“喜欢唱歌的人不是年龄最大的”可知喜欢写作的人年龄最大，排除C项。由“孙不是年龄最大的”可知孙不喜欢写作，再由“孙不喜欢唱歌”可知孙喜欢绘画，排除D项。根据“赵不喜欢绘画，钱不喜欢写作”可知赵喜欢写作，B项正确。由题干只可推出钱喜欢唱歌，至于钱与孙的年龄孰大孰小无法确定，排除A项。故本题选B。

109. 【答案】C。解析：该研究团队所研发的是“多温区多功能系列SCR脱硝催化剂”，题干仅提及“针对钢铁、玻璃等行业所排放的低温烟气，需要开发低温催化剂”和“中温SCR脱硝催化剂的适用领域有限”，不能推出“该研究团队所研发的脱硝催化剂不适用于玻璃行业”，排除A项。燃气轮机、垃圾焚烧炉和富砷煤的关系题干未提及，排除B项。由“针对生物质电厂、高碱煤电厂等所排放的含有

大量碱金属的烟气，需要开发抗碱金属中毒催化剂”可推出 C 项。由“多温区多功能系列 SCR 脱硝催化剂”可知针对高温烟气和低温烟气，可能不必使用不同的脱硝催化剂，排除 D 项。故本题选 C。

110. 【答案】B。解析：题干论点：大规模推广使用这种自动驾驶的电动出租车，将大幅降低交通方面对碳排放的“贡献”。论据：这种电动出租车使用没有直接碳排放的电池作为动力，电池则使用发电产生的电能充电。A 项自动驾驶技术与碳排放无关，排除。B 项指出未来发电所产生的碳排放将大幅减少，即使用电动出租车造成的碳排放会减少，补充论据，最能支持题干论点，当选。C 项指出电动出租车使用煤炭发电带来的碳排放远高于混动汽车，即未来交通方面的碳排放不会减少，属于削弱项，排除。D 项计算模型的数据来源与题干论点无关，属于无关项，排除。故本题选 B。

111. 【答案】D。解析：题干论点：使用太阳热光伏设备，太阳能电池的光电转化效率有望突破理论限制。A 项在一定程度上支持论点。B 项在一定程度上削弱论点。C 项与使用太阳热光伏设备能否突破光电转化效率理论限制无关。D 项指出太阳热光伏设备能吸收能量和热，因此可以提高光电转化效率，支持力度比 A 项强。故本题选 D。

112. 【答案】C。解析：题干甲的论点：看京华是为了考上京华。论据：去京华观光的人多。题干论点与论据之间无明显联系，需要在“去京华观光”和“考上京华”之间“搭桥”。A 项属于无关项，排除。B 项指出除甲之外去京华的人都是去观光，不是为了考京华，不能在论点论据之间搭桥，排除。C 项指出去京华观光的人都希望能考上京华，即在“去京华观光”和“考上京华”之间建立联系，是论点成立的前提条件。D 项属于无关项，排除。故本题选 C。

113. 【答案】B。解析：题干现象：某工厂召回了所有流向市场但是质量不合格的产品，但此后一段时间内仍有消费者发来投诉指出他们工厂的产品存在质量问题。A 项指出存在质量问题的产品可能是由使用时间过长导致的，能够解释题干现象，排除。B 项属于无关项，不能解释题干现象，当选。C 项指出部分质量不合格的产品没有被召回，能够解释题干现象，排除。D 项指出此后一段时间内又有新的不合格产品流入市场，能够解释题干现象，排除。故本题选 B。

114. 【答案】D。解析：已知“三位护士的猜测都只对了一半”，依次代入选项验证。A 项代入，护士 A 全猜错了，排除。B 项代入，护士 B 全猜错了，排除。C 项代入，护士 A 全猜错了，排除。D 项代入，符合条件。故本题选 D。

115. 【答案】B。解析：题干论点：食用洋葱对抗癌有一定的帮助。论据：洋葱中富含的两种物质：槲皮素具有缩小和杀死癌细胞的作用，花青素具有抑制癌细胞生长和防止癌细胞扩散的功效。A 项“很多蔬菜也含有丰富的槲皮素和花青素”不代表食用洋葱对抗癌没有帮助，不能削弱题干论点，排除。B 项“无法通过食用被人体吸收”即食用洋葱无法帮助抗癌，最能削弱题干论点。C 项仅指出槲皮素和花青素的含量与抗癌效果正相关，但并未指出洋葱中槲皮素与花青素的含量，不能削弱题干论点，排除。D 项属于无关项，排除。故本题选 B。

116. 【答案】B。解析：根据柱形图可知，2019 年全国居民人均消费支出 $(1902+2513)+(2862+1281)+(5055+1338)+(6084+524) \approx 4400+4150+6400+6600=21550$ 元。根据表格可知，2019 年全国居民人均消费支出比上年增长 8.6%，即增长了 $\frac{21550}{1+8.6\%} \times 8.6\% \approx \frac{21550}{1+\frac{1}{11.5}} \times \frac{1}{11.5} = \frac{21550}{12.5} = 21550 \times 0.08 = 1724$

元，B 项与之最接近。故本题选 B。

117. 【答案】A。解析：恩格尔系数=食物支出金额÷总支出金额。根据图表可知，2019 年全国居民人均消费支出同比增长 8.6%，食品烟酒消费支出同比增长 8.0%，部分增速小于整体增速，则部分占整体的比重同比下降，二者增速相差不大，则比重降幅也不大，即 2019 年我国居民恩格尔系数变化情况为小幅下降。故本题选 A。

118. 【答案】C。解析：根据表格可知，2019 年我国城镇居民人均实际可用于储蓄的收入比农村居民多 $[42359-28063-(16021-13328)]$ 元，运用尾数法，尾数为 $9-3-1+8=3$ ，只有 C 项符合。故本题选 C。

119. 【答案】B。解析：根据表格可知，2019年全国居民人均工资性收入占人均可支配收入的比重比财产净收入高 $\frac{17186-2619}{30733} \times 100\% = \frac{14567}{30733} \times 100\% < 50\%$ ，即小于50个百分点，但接近50个百分点，B项最符合。故本题选B。

120. 【答案】C。解析：A项错误，根据柱形图和折线图可知，2018年全国居民人均医疗保健支出为 $\frac{1902}{1+12.9\%} < \frac{1902}{1+\frac{1}{8}} = 1902 \times \frac{8}{9} \approx 1700$ 元。B项错误，根据柱形图和该篇资料分析第1小题可知，2019

年人均食品烟酒支出占全国居民人均消费支出的比重约为 $\frac{6084}{21550} \times 100\% < \frac{6300}{21000} \times 100\% = 30\%$ 。C项正确，

根据表格可知，2018年全国居民人均转移净收入为 $\frac{5680}{1+9.9\%} > \frac{5500}{1.1} = 5000$ 元。D项错误，根据材料无法得出全国居民的贫富差距情况。故本题选C。

121. 【答案】B。解析：根据文字材料第一段可知，2019年全国专利密集型产业增加值为114631亿元，比上年增长7.0%，占国内生产总值（GDP）的比重为11.6%，与上年持平。因此2018年全国国内生产总值为 $\frac{114631}{(1+7\%) \times 11.6\%} \approx \frac{114631}{12.4\%} \approx 115000 \times 8 = 920000$ 亿元，B项与之最接近。故本题选B。

122. 【答案】C。解析：根据文字材料可知，2019年全国专利密集型产业增加值为114631亿元，其中制造业相关行业增加值占比达到72.9%。因此2019年专利密集型产业中制造业相关行业增加值比服务业相关行业多 $114631 \times [72.9\% - (1-72.9\%)] \approx 1140 \times 46 = 52440$ 亿元，C项与之最接近。故本题选C。

122. 【答案】C。解析：根据表格可知，2019年专利密集型产业中，新装备制造业增加值占比29.7%，同比增长3.6%；新材料制造业增加值占比12.2%，同比下降1.0%。因此2018年新装备制造业增加值是新材料制造业增加值的 $\frac{29.7\%}{12.2\%} \times \frac{1-1.0\%}{1+3.6\%} \approx 2.4 \times (1-4.6\%) \approx 2.3$ 倍。故本题选C。

124. 【答案】A。解析：根据表格可知，2019年专利密集型产业同比增长7.0%，研发、设计和技术服务业增加值占比7.2%，同比增长14.0%。因此2019年研发、设计和技术服务业增加值占专利密集型产业增加值的比重与上年相比上升了 $7.2\% \times \frac{14\% - 7\%}{1+14\%} < 7\% \times 7\% = 0.49\%$ ，即上升了不到0.49个百分点，只有A项符合。故本题选A。

125. 【答案】C。解析：A项错误，根据表格可知，2018年信息通信技术服务业增加值为 $\frac{22822.9}{1+17.2\%} < \frac{23000}{1.15} = 20000$ 亿元。B项错误，根据混合增长率公式和比重变化公式易知，2019年专利密集型产业中服

务业相关行业增加值占比上升了不到 $(19.9\% + 7.2\%) \times (17.2\% - 7.0\%) \approx 27.1\% \times 10\% \approx 2.7\%$ ，则2018年专利密集型产业中服务业相关行业增加值占比超过 $27.1\% - 2.7\% > 20\%$ ，即超过两成。C项正确，根据表格可知，2018年专利密集型产业中医药医疗产业增加值占比为 $8.7\% \times \frac{1+7\%}{1+5.4\%} \approx 8.7\% \times (1+1.6\%) \approx$

8.8% 。D项错误，根据表格可知，2019年环保产业增加值同比增长了 $\frac{2599.6}{1+7.2\%} \times 7.2\% \approx \frac{2600}{15} \approx 173$ 亿元。

故本题选C。

126. 【答案】A。解析：根据表格第四列可知，2018年东部地区专业技术人员年平均工资为109651元，中部地区为72660元，前者比后者高 $\frac{109651-72660}{72660} \times 100\% = \frac{36991}{72660} \times 100\% > \frac{36330}{72660} \times 100\% = 50\%$ ，

只有 A 项符合。故本题选 A。

127. 【答案】C。解析：根据文字材料可知，2018 年全国规模以上企业岗位平均工资最高的是中层及以上管理人员，平均工资为 145125 元，最低的是社会生产服务和生活服务人员，平均工资为 54945 元，前者是后者的 $\frac{145125}{54945} \approx \frac{145000}{55000} = \frac{29}{11} \approx 2.64$ 倍。故本题选 C。

128. 【答案】B。解析：根据文字材料可知，2018 年全国规模以上企业就业人员年平均工资为 68380 元，比上年增长 11.0%，则 2018 年全国规模以上企业就业人员年平均工资同比增长量为 $\frac{68380}{1+11\%} \times 11\% \approx \frac{68380}{1+\frac{1}{9}} \times \frac{1}{9} = \frac{68380}{10} = 6838$ 元，B 项与之最接近。故本题选 B。

129. 【答案】A。解析：部分占整体的比重同比上升，即部分同比增速高于整体同比增速。根据文字材料可知，2018 年全国规模以上企业就业人员年平均工资同比增速为 11%，五大岗位中，同比增速高于 11% 的只有专业技术人员，同比增长 16.3%。故本题选 A。

130. 【答案】D。解析：A 项错误，根据文字材料可知，2018 年全国规模以上企业办事人员和有关人员年平均工资为 63755 元，同比增长 9.5%，则 2017 年全国规模以上企业办事人员和有关人员年平均工资为 $\frac{63755}{1+9.5\%} < \frac{65400}{1.09} = 60000$ 元，即没有超过 60000 元。B 项错误，材料只给出了 2018 年西部地区以及东北地区就业人员年平均工资，2018 年的增长情况未知，因此无法比较 2017 年的情况。C 项错误，根据表格可知，2018 年东北地区生产制造及有关人员年平均工资为 54024 元，中部地区为 50466 元，则前者的月平均工资比后者高 $\frac{54024-50466}{12} = \frac{3558}{12} = 296.5$ 元。D 项正确，根据表格数据可知，2018 年各地区各岗位就业人员年平均工资最低的是中部地区的社会生产服务和生活服务人员，年平均工资为 44959 元。故本题选 D。

131. 【答案】C。解析：根据材料第一段可知，2017 年 11 月份，全国共销售彩票 385.55 亿元，同比增长 11.8%。因此，题干所求为 $\frac{385.55}{1+11.8\%} \approx \frac{385}{1.1} = 350$ 亿元，C 项与之最接近。故本题选 C。

132. 【答案】B。解析：根据材料第四段可知，2017 年 1~11 月各类型彩票累计销售同比增长量从大到小排序为乐透数字型彩票（163.16 亿元）、竞猜型彩票（141.78 亿元）、视频型彩票（17.48 亿元）、基诺型彩票（-0.80 亿元）、即开型彩票（-32.22 亿元）。观察选项，只有 B 项正确。故本题选 B。

133. 【答案】B。解析：根据材料第一段可知，2017 年 11 月份，全国彩票销售总额为 385.55 亿元，福利彩票机构销售额为 194.02 亿元，则题干所求为 $\frac{194.02}{385.55} \times 100\% \approx \frac{195}{385} \times 100\% \approx 50.6\%$ ，B 项与之最接近。故本题选 B。

134. 【答案】B。解析：根据材料第四段可知，2016 年 1~11 月竞猜型彩票累计销售额为 842.66-141.78=700.88 亿元，即开型彩票为 225.83+32.22=258.05 亿元，前者是后者的 $\frac{700.88}{258.05}$ 倍，用直除法，首两位是 26，B 项与之最接近。故本题选 B。

135. 【答案】B。解析：根据第三小题可知，2017 年 11 月份，福利彩票机构销售额占全国彩票销售总额的比重超过五成，由部分增长率小于总体增长率可知，2017 年 11 月份，福利彩票机构销售额占全国彩票销售总额的比重同比下降，则 2016 年 11 月份的占比超过五成，A 项错误。根据第一小题可知，2016 年 11 月份，全国共销售彩票 344.86 亿元，根据材料可知，2016 年 1~11 月全国彩票累计销售总

额为 $\frac{3869.87}{1+8.1\%} < \frac{3888}{1+8\%} = 3600$ 亿元, $\frac{3600}{11} < \frac{3630}{11} = 330$ 亿元, 结合第一小题可知, B 项正确。根据材料第三段和第四段可知, 2017 年 1~10 月视频型彩票累计销售额为 $421.79 - 39.57 < 400$ 亿元, C 项错误。材料中未给出 2017 年 12 月份相关数据, D 项无法算出。故本题选 B。