

# 展鸿 2022 年开化事业单位考试模拟卷

## 《综合知识》

(含答案解析)

## 展鸿 2022 年衢州开化事业单位考试模拟卷

### 《综合知识》

#### 一、单选题（共 30 题，每小题 1 分，共 30 分。）

1. 2021 年 10 月 25 日是中国恢复联合国合法席位（ ），为展现中国人民解放军坚决服务构建人类命运共同体，弘扬多边主义，为维护世界和平作出重要贡献，中国人民解放军推出维和宣传片《为和平出征》。

- A. 35 周年                      B. 40 周年                      C. 45 周年                      D. 50 周年

2. 2021 年 9 月 6 日，我国首个自营超深水大气田（ ）最后一口生产井成功开井，实现全面投产。

- A. “深海一号”              B. “蓝海一号”              C. “红海一号”              D. “东海一号”

3. 2022 年北京冬奥会吉祥物“冰墩墩”以熊猫为原型进行设计创作，将熊猫形象与富有超能量的冰晶外壳相结合，体现了冬季冰雪运动和现代科技特点。“冰墩墩”的创意设计最主要说明（ ）。

- A. 吉祥物等艺术形象来源于创作者的聪明才智  
B. 人的主观能动性能够创造出现实世界不存在的形象  
C. 人的意识活动具有主动性和创新性  
D. 创新需要全盘否定旧事物

4. 马克思主义道德观认为，道德起源的首要前提是（ ）。

- A. 修身                      B. 劳动                      C. 社会关系                      D. 自我意识

5. 《新时代公民道德建设实施纲要》指出，（ ）是道德素养的体现，也是道德实践的载体。它是人们在长期共同生活和相互交往中逐渐形成，并以一定的方式固定下来的。

- A. 生态文明                      B. 志愿服务                      C. 礼仪礼节                      D. 社会风尚

6. 中共中央确定对国民经济实行“调整、巩固、充实、提高”方针的会议是（ ）。

- A. 中共八届九中全会                      B. 中共中央工作会议  
C. 中共七届三中全会                      D. 中共八大

7. 统一战线是无产阶级政党策略思想的重要内容。在中国革命、建设和改革的各个历史期间，统一战线都是中国共产党的一大重要法宝。下列选项中统一战线与历史时期对应关系错误的是（ ）。

- A. 国民革命联合战线——第一次国共合作  
B. 抗日民族统一战线——第二次国共合作  
C. 工农民主统一战线——解放战争时期  
D. 爱国统一战线——社会主义时期

8. 袁隆平、吴孟超耗尽毕生精力，只为让人民\_\_\_\_\_到“医食无忧”的感受。如今，时代浪潮中的年轻人在大师精神、国士风范的影响下，也苦练本领，正努力把自己\_\_\_\_\_成能够造福人类、改变世界的精兵强将。

依次填入划横线部分最恰当的一项是（ ）。

- A. 体会 铸造  
B. 感知 锻炼  
C. 领悟 磨炼  
D. 体味 锻造

9. 有人感叹，谣言就像“一旦打开就无法拧紧的水龙头”。其实，网络谣言\_\_\_\_\_的背后，不只有信息流的冲决\_\_\_\_\_，更有利益暗流的涌动。无利不起早，在“注意力就是生产力”的信息时代，一些人发现了“大谣”背后的“大利”。

依次填入划横线部分最恰当的一项是（ ）。

- A. 猖獗 奔突  
B. 猖狂 涌现  
C. 放肆 喷涌  
D. 肆虐 撞击

10. 通常，一线科学家很难花费太多的时间和精力直接参与一波又一波的科普活动。然而，一项科学进展、一个科研成果，从高端的传播到形成科学玩具，它的科普化、产业化链条是很长的，书籍、影像、课件……就像一棵大树的枝丫，可以\_\_\_\_\_。在一线科学家不可能对每个环节都\_\_\_\_\_的情况下，元科普作品也就显得分外重要了。

依次填入划横线部分最恰当的一项是（ ）。

- A. 盘根错节 以身作则  
B. 纵横交错 事必躬亲  
C. 绵延不断 无微不至  
D. 经纬万端 身体力行

11. 曾经有人说：“生活在哪里都一样，不一样的是你怎样去生活。”当你觉得读书写作业也很苦的时候，你发现很多小朋友也要每天早早背着书包，挤着校车去上课，下了课也要参加\_\_\_\_\_的补习班；当你感叹\_\_\_\_\_，生活没有新鲜感和激情的时候，你会了解，任何一个行业的佼佼者，都经历过那些机械重复的初级工作，才能一步一步走向金字塔顶端……

依次填入划横线部分最恰当的一项是（ ）。

- A. 形形色色 时光荏苒  
B. 五花八门 日复一日  
C. 不胜枚举 百无聊赖  
D. 千篇一律 时不我待

12. 做好群众工作，加强和创新社会治理，既要用好“老办法”，也要掌握“新办法”，走好网上群众路线。群众需求什么、期待什么，社会治理就应该重点关注什么。要了解群众的需求和期待，最基本的方法就是调查研究。调查研究是我们党一贯坚持的优良传统和群众工作的经验总结。用好这个“老办法”，当牢记基层是最好的课堂，群众是最好的老师。随着越来越多的群众通过互联网平台获取信息、表达诉求、提出建议、参与政治生活和社会治理，各级党政机关和领导干部也要掌握运用互联网，学会收集网络社情民意，了解网民所思所愿，积极回应网民的关切。

根据这段文字，以下不属于“新办法”的是（ ）。

- A. 把握网络舆情动向  
B. 深入实地走访考察  
C. 积极开展网络问政  
D. 关注网民需求期待

13. 田山歌，是以表现稻作生产和水乡生活风情为内容的山歌形式，曾广泛流传于长江三角洲部分水稻耕作地区。田山歌与其说是歌，不如说是一种文化现象，它记录了历史文化、婚姻爱情、民情风俗，反映人文语言心理、宗教等大量内容，有着江南稻作文化区域民歌中独特的艺术价值和欣赏价值。田山歌的历史源头，一直可以追溯到新石器时代，当太湖流域开始有原始的栽培水稻农业时，整个江南就已经产生田山歌的原始形态。作为我国典型的稻作农业区，太湖流域的自然条件十分有利。因此，这种悠

久的稻作文化传统，为当地人们创作、传承田山歌奠定了重要的基础。

这段文字主要介绍的是（ ）。

- A. 田山歌特有的艺术价值
- B. 田山歌特殊的环境条件
- C. 田山歌独特的创作手法
- D. 田山歌深厚的文化底蕴

14. 所有的谣言基本上都具有一个二元的信息结构和表达结构，即作为形式的表层信息和作为实质的深层信息。表层信息的特点是“来源神秘、内容夸张、高度模糊”，谣言的失实和荒谬基本都出现在这个部分。但这只是为了传播而采取的形式，谣言之所以能够广泛传播，不仅在于形式，更在于其传达的实质，即背后的深层次社会问题和所反映的社会焦虑。

根据上面文字的意思，谣言“快餐店的鸡有四只翅膀”传递的深层信息是（ ）。

- A. 大众的科学素养有待提高
- B. 生物技术有所突破
- C. 某种基因已产生变异
- D. 食品安全可能存在问题

15. 将下列句子重新排序，最恰当的是（ ）。

①实际上，根据闪电发生时的电量密度、空气密度以及电压变化等，可以估算闪电（包括非发光区域在内的闪电）约粗 1~40 米

②最长的闪电甚至可以长达数百千米，这么长，这么细，怪不得我们常说“瘦成一道闪电”呢

③但是通过观测闪电的发光部分，可以判断其直径约为 3~23 厘米

④闪电发生时，常常呈现为明亮的闪电通路

⑤从闪电灼烧形成的地面坑洼直径来看，闪电的能量集中区域不足 5 厘米，但闪电的长度变化比较大，从数百米到数千米

- A. ④①③⑤②
- B. ①④③②⑤
- C. ⑤③①④②
- D. ②⑤③①④

16. 甲、乙、丙三人加工一种零件，三人每小时一共可以加工 70 个零件。如果甲乙两人每小时加工的零件数之比为 2:3，乙丙两人每小时加工的零件数之比为 4:5，则丙每小时比甲多加工（ ）个零件。

- A. 8
- B. 10
- C. 14
- D. 16

17. 坐井观天的壁虎，想爬出井来开开眼界，现井高 9 米，壁虎白天上爬 3 米，晚上又退下 2 米，问壁虎几天才能出井？（ ）

- A. 6
- B. 7
- C. 8
- D. 9

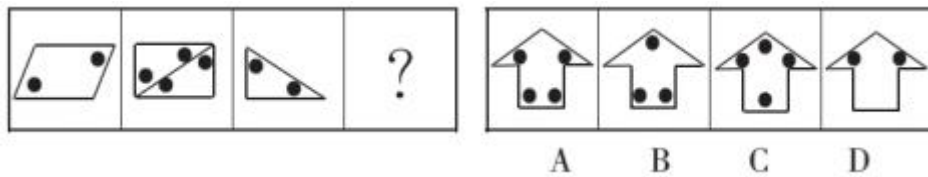
18. 小赵和小郑做一套 100 道题的试卷，每题答对得 2 分，答错扣 1 分，不答不计分。已知小赵答对 50 题，小郑答对 70 题，两人得分相差  $x$  分，则  $x$  可能的最大值和最小值相差（ ）分。

- A. 20
- B. 40
- C. 60
- D. 80

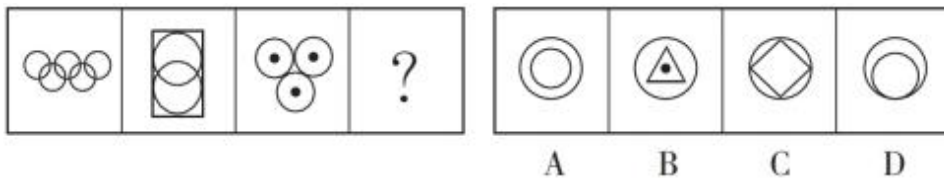
19. 王某每天从家骑共享单车去上学，已知若以每分钟 300 米的速度行驶，则提早 2 分钟到学校；若以每分钟 200 米的速度行驶，则会迟 7 分钟到学校。则王某家到学校的距离为（ ）米。

- A. 5000
- B. 5400
- C. 5600
- D. 6000

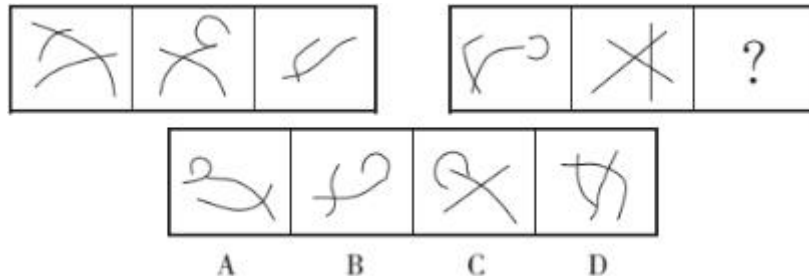
20. 请从所给的四个选项中，选出最合适的一个填入问号处，使之呈现一定的规律性。



21. 请从所给的四个选项中，选出最合适的一个填入问号处，使之呈现一定的规律性。



22. 请从所给的四个选项中，选出最合适的一个填入问号处，使之呈现一定的规律性。



23. 我们党的百年历史，就是一部践行党的初心使命的历史，就是一部党与人民心连心、同呼吸、共命运的历史。历史充分证明，江山就是人民，人民就是江山，人心向背关系党的生死存亡。赢得人民信任，得到人民支持，党就能够克服任何困难，就能够无往而不胜。

根据以上陈述，可以得出以下哪项？（ ）

- A. 只有赢得人民信任，党才能得到人民支持
- B. 只有能够克服任何困难，党才能赢得人民信任
- C. 如果得不到人民支持，党就不能无往而不胜
- D. 如果不能赢得人民信任，党就不能克服任何困难

24. 某足球运动员罚点球未进，教练向其宣布：“要么加练点球，要么罚跑。”该队员道：“不行。”假如队员坚持自己的意见，则以下哪项实际上他必须同意？（ ）

- A. 加练点球但不罚跑
- B. 既不罚跑也不加练点球
- C. 既罚跑又加练点球
- D. 若做不到既不罚跑也不加练点球，那么就必须接受罚跑又加练点球

25. 几项研究表明，有些医院病人的死亡率要比其他医院的病人更高。由于这几项研究中的医院对每位患者都给予了最大的帮助，因此医院工作人员提供的护理质量的差异可能是造成死亡率差异的原因。

下列哪项如果为真，最能够质疑上述结论？（ ）

- A. 不同医院患者的疾病严重程度差异很大
- B. 一线医院工作人员的学历要比其他医院工作人员的高
- C. 各医院工作人员在某一工作岗位上的平均留任年限差别很大

D. 不同地区住院病人的死亡率差别不大

根据以下资料，回答 26~30 题。

2019 年上半年，S 地区航空运输旅客吞吐量累计完成 1773.9 万人次，同比增长 11.5%；货邮吞吐量累计完成 9 万吨，同比增长 14.6%；飞行起降 20.6 万架次，同比增长 14.8%。其中 1 季度旅客吞吐量累计完成 841.9 万人，同比增长 10.2%；货邮吞吐量累计完成 4.0 万吨，同比增长 9.1%；飞行起降 8.3 万架次，同比增长 10.6%。

2019 年上半年，S 地区累计完成通用航空飞行 19999 小时，同比增长 10.6%；累计起飞 43633 架次，同比增长 9.1%。其中 1 季度累计完成通用航空飞行 4564.3 小时，同比增长 13.5%；累计起飞 9675 架次，同比增长 15.1%。

2019 年 6 月，S 地区航空运输旅客吞吐量完成 321.3 万人次，同比增长 16.1%，环比增长 1.7%；货邮吞吐量完成 19210.7 吨，同比增长 23.8%，环比增长 17%；飞行起降 41804 架次，同比增长 13.2%，环比增长 0.5%。

2019 年 6 月，S 地区完成通用航空飞行 5591.5 小时，同比增长 0.8%，环比增长 16.3%；起飞 11438 架次，同比下降 6.2%，环比增长 7.1%。

26. 2019 年 1~4 月，S 地区月均航空运输旅客吞吐量在以下哪个范围内？（ ）

- A. 少于 280 万人次/月  
B. 280~290 万人次/月之间  
C. 290~300 万人次/月之间  
D. 多于 300 万人次/月

27. 如果 S 地区所有飞行起降的飞机均运输旅客，则 2019 年上半年平均每架次飞行起降的飞机运送旅客的数量比上年同期（ ）。

- A. 增长 10%以内  
B. 增长 10%以上  
C. 减少 10%以内  
D. 减少 10%以上

28. 2019 年 6 月，S 地区货邮吞吐量约占 2 季度货邮吞吐量的（ ）。

- A. 30%  
B. 34%  
C. 38%  
D. 42%

29. 2019 年 2 季度，S 地区累计起飞架次数同比增速在以下哪个范围内？（ ）

- A. 低于 3%  
B. 在 3%~9%之间  
C. 在 9%~15%之间  
D. 高于 15%

30. 关于 S 地区航空运输业运行状况，能够从上述资料中推出的是（ ）。

- A. 2019 年 2 季度航空运输旅客吞吐量同比增速高于 1 季度  
B. 2019 年 6 月航空飞行起降架次同比增加超过 6000 架次  
C. 2019 年 6 月航空运输旅客吞吐量低于 1~5 月平均水平  
D. 2019 年 2 季度累计完成通用航空飞行时长是 1 季度的 4 倍以上

## 二、多选题（共 10 题，每小题 2 分，共 20 分。）

31. 2021 年 10 月 16 日出版的第 20 期《求是》杂志发表了习近平的重要文章《扎实推动共同富裕》。文章强调，促进共同富裕，要把握好的原则有（ ）。

- A. 鼓励勤劳创新致富  
B. 坚持基本经济制度  
C. 尽力而为量力而行  
D. 坚持循序渐进



32. 2021年10月16日0时23分,搭载神舟十三号载人飞船的长征二号F遥十三运载火箭,在酒泉卫星发射中心按照预定时间精准点火发射,顺利将( )送入太空。这是我国载人航天工程立项实施以来的第二十一一次飞行任务,也是空间站阶段的第二次载人飞行任务。

- A. 刘伯明                      B. 叶光富                      C. 王亚平                      D. 翟志刚

33. 2021年9月27日,中华人民共和国第十四届运动会在西安闭幕。2025年第十五届全运会在( )举办。

- A. 福建                      B. 广东                      C. 香港                      D. 澳门

34. 孔子的和而不同,其“和”,是一元,其“不同”,是多样,文化当一元多样。天人合一的宏阔构架,可以容括任何文化,让中国文化具备无穷的包容性。中华文化的包容性有利于( )。

- ①推动各民族文化的交融                      ②各民族文化在发展中消除差异  
③增强各民族对自身文化的认同                      ④在平等和睦中与其他民族文化交流

- A. ①②                      B. ③④                      C. ②③                      D. ①③④

35. 职业道德就是同人们的职业活动紧密联系的符合职业特点所要求的道德准则、道德情操与道德品质的总和,它既是对本职人员在职业活动中的行为标准和要求,同时又是职业对社会所负的道德责任与义务。以下哪些属于职业道德的主要内容?( )

- A. 爱岗敬业                      B. 爱护公物                      C. 办事公道                      D. 勤俭持家

36. 劳动者有( )情形的,用人单位可以解除劳动合同。

- A. 在试用期被证明不符合录用条件  
B. 营私舞弊,给单位造成影响  
C. 严重违反用人单位的规章制度  
D. 劳动者同时与其他用人单位建立劳动关系,经用人单位提出,拒不改正

37. 行政处罚的种类有( )。

- A. 警告                      B. 罚款                      C. 责令停产                      D. 行政拘留

38. 刑法的主刑种类不包括( )。

- A. 有期徒刑                      B. 拘留                      C. 剥夺政治权利                      D. 罚金

39. 我国具有国家立法权的有( )。

- A. 全国人民代表大会                      B. 全国人民代表大会常务委员会  
C. 国务院                      D. 地方机关

40. 下列哪些收入属于法定夫妻共同财产?( )

- A. 婚姻关系存续期间双方获得的工资及奖金  
B. 女方婚前发表小说,在婚后获得的稿酬  
C. 男方婚前独立购买的房子,在婚后因周边配套设施逐渐发展完善,房价上涨10万  
D. 夫妻双方婚姻关系存续期间,因男方父母过世继承的遗产

**三、判断题(共10题,每小题1分,共10分。正确的选“A”,错误的选“B”。)**

41. 由初次实践获得的感性认识升级为反复实践的理性认识,这一过程为认识发展的第一次飞跃。

42. 判定一个事物究竟是新事物还是旧事物，其根本标志在于它是否同事物发展的必然趋势相符合。

43. 法律和道德都具有规范社会行为、维护社会秩序的作用。凡是法律所禁止和制裁的行为，通常也是道德所反对和谴责的行为。

44. 社会主义公民道德建设的基本原则是集体主义。同时，集体主义原则也是社会主义政治、经济和文化建设的必然要求。

45. 道德建设既要靠教育倡导，也要靠有效治理。

46. 直系血亲或者三代以内的旁系血亲禁止结婚。

47. 张某和孙某合伙进行行窃，张某在门外隐蔽处放风，孙某撬开门，进入房内行窃。张某和孙某属于共同犯罪。

48. 事业单位的工作人员利用职务上的便利，窃取国有财物的，以滥用职权罪论。

49. 中华人民共和国人民法院是国家的法律监督机关。

50. 根据我国《行政诉讼法》的规定，高级人民法院管辖全国范围内重大、复杂的第一审行政案件。

#### 四、简答题（共 1 题，共 20 分。）

51. 简述社会主义核心价值观的基本内容。（10 分）

52. 简述新时代的爱国主义基本要求。（10 分）

#### 五、案例分析题（共 1 题，共 20 分）

53. 阅读案例，完成问题。

##### 【案例】

近年来，随着机动车保有量的不断增加，停车难问题日渐突出，尤其是在城市中心区的医院，停车更是难上加难。从医院门口到门诊、急诊、住院病区，看似短短的“最后 100 米”，却因停车这个小细节，给患者就医带来不小的困扰。

“看病五分钟，停车两小时”，眼下医院“停车难”问题备受患者抱怨。许多医院位于市中心、老城区，寸土寸金导致地上车位有限，历史原因造成地下车位缺失，停车资源严重不能满足日益增长的开车看病需求。近年来一些医院主动引导职工在院外停车，“让位”于患者，但即使这样，医院往往不到上班时间车位就告满员，一天到晚车辆在门口排起长龙。

诚然，在交通压力日渐增大的今天，停车难已经成为一个司空见惯的现象。但其他场所“停车难”通常只是闹心，医院“停车难”则可能要命。对于急性心梗、脑出血等急重症患者来说，一旦被堵在车流中无法及时进入医院接受救治，后果不堪设想。同时，大批车辆在医院门口和附近怠速运行，产生大量的尾气和噪声污染，也不利于广大患者和医护人员的身心健康。此外，大医院一般都处于中心城区的中心地段，医院停车难问题往往导致车辆外溢到其他道路，又会加剧城市交通拥堵。

在一些城市中心城区的大医院，停车难造成的各种问题频繁出现。一些地方政府的留言板上，也有



不少居民反映医院停车难的问题。

如果评选城市堵点，大型医院门口当仁不让会占据一席之地。很多人都有类似的体验，开车求医之路分外难行，好不容易进入医院，想要觅得一个停车位，更是难上加难。这种情形非某时某地所独有，几乎所有城市中心区医院都会面临类似的困境。甚至，这种拥堵足以成为评判医院综合实力的标志——越是综合实力强的医院，越容易出现道路拥堵和停车难的问题。

医院停车难饱受诟病，由此滋生的“停车黄牛”乱象令人不胜其扰，虽然各地都曾大力进行整治，但就果往往并不理想。究其原因，“僧多粥少”的现实背景下，停车位是稀缺资源。在城市道路通体系中，城市中心区的医院毫无疑问是重要节点，其交通状况不仅影响着求医问药之路，而且在大程度上影响着城市交通全局，一处梗阻，足以导致全线拥堵。城市中心区医院的共同特征是身处闹市，本身就面临着巨大的交通压力。在城市快速发展的过程中，医院规划先天不足的弊端被不断放大。与此同时，医院的快速扩张又进一步加剧了交通困境。有目共睹的现象是，伴随着医院门口道路交通压力与日俱增，不少医院的规模都在不断扩大，由此不免陷入一种悖论——医院门口交通状况因人流密集而持续恶化，医院则致力于通过扩张吸引更大的人流。如此一来，不仅盘活停车位存量杯水车薪，腾挪出的有限增量也很容易被稀释殆尽。

由于缺乏足够的停车位，大量就诊车辆在医院周围道路聚集，造成了较大的交通隐患。机动车在医院的出入及无序停放会产生大量噪音、粉尘污染，搅乱了医院应有的宁静与和谐气氛。由于停车位的紧缺，为了“让位”于患者，很多医院职工停车也成了问题。

一些大医院纷纷建了新院区，一定程度上缓解“停车难”的燃眉之急。但因新院大多地处偏远，转而又引发了新的就医难题，有的患者从市内换乘两至三趟公交，途经数十个站点，还有由于不清楚老院、新院科室划分，一些外地患者入错院的错误也时有发生。仅仅依靠这样的改革，平衡多方的利益博弈，还远远不够。需要医院和相关部门综合考虑立体空间、时间差、技术等因素，进行更加精细的规划和管理。

### 【问题】

无论对于患者个体还是城市大局来说，解决医院“停车难”都具有紧迫性，是等不起、慢不得的，在这个问题上，需要医院、政府和社会都行动起来，形成合力。请你结合案例，谈谈各方应当如何扭转医院停车难的局面。

要求：指向明确，有针对性，切实可行，逻辑清晰，语言流畅，字数在 350 字左右。

## 展鸿 2022 年衢州开化事业单位考试模拟卷

## 《综合知识》参考答案及解析

## 一、单选题

1. 【答案】D。解析：2021 年 10 月 25 日是中国恢复联合国合法席位 50 周年，为展现中国人民解放军坚决服务构建人类命运共同体，弘扬多边主义，为维护世界和平作出重要贡献，中国人民解放军推出维和宣传片《为和平出征》。故本题选 D。

2. 【答案】A。解析：2021 年 9 月 6 日，我国首个自营超深水大气田“深海一号”最后一口生产井成功开井，实现全面投产。故本题选 A。

3. 【答案】C。解析：A 项错误，吉祥物等艺术形象来源于现实世界的真实存在，由创作者充分发挥主观能动性，发挥聪明才智进行联想创造产生。B 项错误，“冰墩墩”的创意是把客观世界中存在的事物在观念和表象中加以改造而形成的，仍然是来源于客观世界。C 项正确，人的意识对客观物质世界的反映不是消极被动的，而是一个积极主动的、不断创造的过程。D 项错误，创新并不需要全盘否定旧事物，而是肯定与否定、克服与保留的统一。故本题选 C。

4. 【答案】B。解析：马克思主义道德观认为，劳动是道德起源的首要前提，社会关系是道德赖以产生的客观条件，人的自我意识是道德产生的主观条件。故本题选 B。

5. 【答案】C。解析：《新时代公民道德建设实施纲要》指出，礼仪礼节是道德素养的体现，也是道德实践的载体。故本题选 C。

6. 【答案】A。解析：1961 年 1 月，中共八届九中全会正式决定对国民经济实行“调整、巩固、充实、提高”的方针。故本题选 A。

7. 【答案】C。解析：A 项对应正确，为了打倒势力强大的帝国主义和封建主义，中国共产党联合一切可能的同盟者，同国民党实行了第一次合作，建立了国民革命统一战线，掀起第一次大革命的高潮。B 项对应正确，第二次国共合作是抗日战争时期，中国共产党同中国国民党第二次建立的合作，即抗日民族统一战线。C 项对应错误，工农民主统一战线发生在土地革命时期（即十年内战），基本上是由工人、农民和小资产阶级联合起来，以反对封建压迫和国民党新军阀统治为主要目标的工农民主统一战线。D 项对应正确，爱国统一战线是指社会主义时期由中国共产党领导的，由各民主党派参加的，包括社会主义劳动者、社会主义事业的建设者、拥护社会主义的爱国者、拥护祖国统一和致力于中华民族伟大复兴的爱国者的广泛的政治联盟。故本题选 C。

8. 【答案】D。解析：先看第一空，“感知”指客观事物通过感觉器官在人脑中的反映，或指感觉这一行为，与后文“感受”语义重复，排除 B 项；“领悟”指领会、理解，通常与“话语”“含义”等搭配，无法与“感受”搭配，排除 C 项。再看第二空，“锻造”可修饰具象的事物，也可以修饰抽象的事物，即形容磨炼人的意志而变得强大，“铸造”一般修饰具象的事物，强调工艺性，根据后文“能够造福人类、改变世界的精兵强将”可知，“锻造”更符合语意，排除 A 项。故本题选 D。

9. 【答案】A。解析：先看第一空，“放肆”指（言行）轻率任意，毫无顾忌，多形容人，无法形容“网络谣言”，排除 C 项。再看第二空，“撞击”指打击、冲撞，无法与“信息流”搭配，排除 D 项；“奔突”指横冲直撞地奔驰，“涌现”指（人或事物）大量出现，相比之下，“奔突”更能与前文“冲决”（突破束缚、限制）相呼应，更符合语意，排除 B 项。故本题选 A。

10. 【答案】B。解析：先看第一空，“经纬万端”比喻头绪极多，明显不符合语意，排除 D 项；“绵延不断”形容相同的自然景观一个接一个不间断地出现，无法与“大树的枝丫”搭配，排除 C 项。再看第二空，“以身作则”指用自己的行动做出榜样，“事必躬亲”指不管什么事一定亲自去做，由前文“一线科学家很难花费太多的时间和精力直接参与一波又一波的科普活动”可知，文段强调一线科学家不可

能过多地直接参加接二连三的科普活动，后者更符合语意，排除A项。验证B项，“纵横交错”指横的竖的交叉在一起，符合语意。故本题选B。

11. 【答案】B。解析：先看第二空，“时光荏苒”形容时间过得很快，文段并未体现时间过得很快的意思，排除A项。再看第一空，“千篇一律”指事物只有一种形式，毫无变化，文段并未强调补习班形式单一、毫无变化的意思，排除D项；“五花八门”形容花样繁多，“不胜枚举”指无法一个一个全举出来，形容同一类的人或事物很多，文段侧重体现小朋友在课后要参加补习班的种类多而非数量多，“五花八门”更符合语意，排除C项。验证第二空，“日复一日”指过了一天又一天，日子在不断重复，与后文“都经历过那些机械重复的初级工作”相呼应。故本题选B。

12. 【答案】B。解析：文段首句指出做好群众工作，既要用好“老办法”，也要掌握“新办法”，走好网上群众路线。由“最基本的方法就是调查研究”可知，“老办法”即调查研究，B项属于老办法。A、C、D项均属于“新办法”，对应文段的后半部分内容，即各级党政机关和领导干部也要掌握运用互联网，学会收集网络社情民意，了解网民所思所愿，积极回应网民的关切。故本题选B。

13. 【答案】D。解析：文段讲田山歌与其说是歌，不如说是一种文化现象，随后介绍田山歌的内容和价值，并追溯其发展历史，最后指出悠久的稻作文化传统，为当地人们创作、传承田山歌奠定了重要的基础。可见，文段主要介绍的是田山歌深厚的文化底蕴，D项正确。A、B项均为文段的部分内容，C项“创作手法”文段无从体现。故本题选D。

14. 【答案】D。解析：文段先指出谣言一般都具有作为形式的表层信息和作为实质的深层信息，随后讲表层信息的特点及其影响，即直接导致谣言的产生，最后强调谣言广泛传播的原因在于其背后的深层次社会问题和所反映的社会焦虑。因此，谣言“快餐店的鸡有四只翅膀”传递的深层信息应是食物安全可能存在问题，D项正确。A项“大众的科学素养”并非该谣言的实质，B、C项文段均无从体现。故本题选D。

15. 【答案】A。解析：观察选项，判断首句。①中的“实际上”是对前文的转折，不适合作为首句，排除B项。②“甚至”是对前文的递进，同样不适合作为首句，排除D项。⑤指出“闪电的长度变化比较大，从数百米到数千米”，②“最长的闪电甚至可以长达数百千米”应是对⑤的承接，因此②紧跟⑤之后，排除C项。验证A项，符合语句逻辑关系。故本题选A。

16. 【答案】C。解析：根据题意可知，因乙的效率既可为3的倍数也可为4的倍数，则可将乙的效率视为12进行比例的统一，即甲、乙、丙每小时加工的零件数之比为8:12:15，又因每小时加工总量为70，则有甲、乙、丙每小时加工的零件数分别为16、24、30，因此丙每小时比甲多加工30-16=14个零件。故本题选C。

17. 【答案】B。解析：根据题意可知，壁虎一天一夜只能爬3-2=1米，且最后一天白天爬出后就不会掉回。9-3=6米，即前6米需要爬6天6夜，最后一天爬3米后爬出井口，因此壁虎7天能出井。故本题选B。

18. 【答案】D。解析：已知小赵答对50题，则小赵最多得50×2=100分，最少得50×2-50×1=50分；小郑答对70题，则小郑最多得70×2=140分，最少得70×2-30×1=110分。那么两人分差最大值为140-50=90分，分差最小值为110-100=10分，因此两人得分相差分可能的最大值和最小值相差90-10=80分。故本题选D。

19. 【答案】B。解析：设王某准时到校需要x分钟，根据题意可列方程：300×(x-2)=200×(x+7)，解得x=20，则王某家到学校的距离为300×(20-2)=5400米。故本题选B。

20. 【答案】D。解析：题干各图形中所有黑点均标记锐角，则问号处图形中所有黑点也应都标记锐角。A项：下方两点标记直角，排除。B项：下方两点标记直角，排除。C项：下方一点未标记锐角，排除。D项：所有黑点均标记锐角，当选。故本题选D。

21. 【答案】C。解析：题干各图形均为轴对称图形，且对称轴数量依次为：1、2、3、(4)，则问号处图形应有4条对称轴。A项：对称轴数量为无数条，排除。B项：对称轴数量为3，排除。C项：对称轴数量为4，当选。D项：对称轴数量为1，排除。故本题选C。

22. 【答案】B。解析：题干第一组图形交点数之和为5，则第二组图形交点数之和应为5，问号处交点数应为1。A项：交点的数为2，排除。B项：交点的数为1，当选。C项：交点的数为2，排除。D项：交点的数为3，排除。故本题选B。

23. 【答案】B。解析：题干翻译为：赢得人民信任，得到人民支持→党能够克服任何困难，能够无往而不胜。A项翻译为：党得到人民支持→党赢得人民信任，不在推导关系中，排除。B项翻译为：党赢得人民信任→党能够克服任何困难，与题干逻辑关系相同，可以得出。C项翻译为：党得不到人民支持→党不能无往而不胜，否定题干前件，无法推出确定性结论，排除。D项翻译为：党不能赢得人民信任→党不能克服任何困难，否定题干前件，无法推出确定性结论，排除。故本题选B。

24. 【答案】D。解析：要么加练点球，要么罚跑，即加练点球、罚跑二选一，其否命题是：要么既加练点球又罚跑，要么既不加练点球又不罚跑。因此若做不到既不罚跑也不加练点球，那么就必须要接受罚跑又加练点球。故本题选D。

25. 【答案】A。解析：论点：医院工作人员提供的护理质量的差异可能是造成死亡率差异的原因。论据：几项研究表明，有些医院病人的死亡率要比其他医院的病人更高，这几项研究中的医院对每位患者都给予了最大的帮助。A项指出造成死亡率差异的原因可能是不同医院患者的疾病严重程度差异，另有他因，可以削弱题干论点，当选。B项医院工作人员的学历高低与其提供的护理质量无关，排除。C项医院工作人员的平均留任年限与其提供的护理质量无关，排除。D项指出不同地区住院病人的死亡率差别不大，与是否是医院工作人员提供的护理质量的差异而造成死亡率差异无关，无法削弱题干论点，排除。故本题选A。

26. 【答案】B。解析：根据材料第一、三段可知，2019年上半年，S地区航空运输旅客吞吐量累计完成1773.9万人次，2019年6月，S地区航空运输旅客吞吐量完成321.3万人次，环比增长1.7%，则2019年1~4月S地区航空运输旅客吞吐量累计完成 $1773.9 - 321.3 - \frac{321.3}{1+1.7\%} \approx 1452.6 - (321.3 - 300 \times 1.7\%) \approx 1136$ 万人次，月均完成 $1136 \div 4 = 284$ 万人次，在280~290万人次/月之间。故本题选B。

27. 【答案】C。解析：根据材料第一段可知，2019年上半年，S地区航空运输旅客吞吐量累计完成1773.9万人次，同比增长11.5%；2019年上半年，S地区飞行起降20.6万架次，同比增长14.8%。分子增速（11.5%）小于分母增速（14.8%），则平均数同比下降，且下降幅度小于 $14.8\% - 11.5\% = 3.3\%$ ，即2019年上半年平均每架次飞行起降的飞机运送旅客的数量比上年同期减少10%以内。故本题选C。

28. 【答案】C。解析：根据材料第一、三段可知，2019年2季度货邮吞吐量累计完成9-4=5万吨，6月货邮吞吐量完成19210.7吨，后者占前者的比重为 $\frac{19210.7}{50000} \times 100\% \approx \frac{19}{50} \times 100\% = 38\%$ 。故本题选C。

29. 【答案】B。解析：根据材料第二段可知，2019年上半年，S地区累计起飞43633架次，同比增长9.1%。其中1季度累计起飞9675架次，同比增长15.1%。整体增长率介于部分增长率之间，且更接近基数大的部分，则2019年2季度S地区累计起飞架次数同比增速小于9.1%，且更接近2季度的增长率（2019年2季度S地区累计起飞架次数 $43633 - 9675 > 2019$ 年1季度9675架次），即 $9.1\% - 2$ 季度增速 $< 15.1\% - 9.1\%$ ，解得2季度增速 $> 3.1\%$ ，只有B项符合。故本题选B。

30. 【答案】A。解析：A项正确，根据材料第一段可知，2019年上半年，S地区航空运输旅客吞吐量累计同比增长11.5%；其中1季度旅客吞吐量累计同比增长10.2%。根据混合增长率的性质可知，2019年2季度航空运输旅客吞吐量同比增速大于11.5%，高于1季度。B项错误，根据材料第三段可知，2019年6月S地区航空运输飞行起降41804架次，同比增长13.2%，即同比增加 $\frac{41804}{1+13.2\%} \times 13.2\% < 40000 \times 15\% = 6000$ 架次。C项错误，根据材料第一、三段可知，2019年6月S地区航空运输旅客吞吐量为321.3万人次，1~5月平均水平为 $\frac{1773.9 - 321.3}{5} \approx 290$ 万人次，前者高于后者。D项错误，根据材料第二段可知，2019年上半年S地区累计完成通用航空飞行19999小时，其中1季度累计完成通用航空飞行4564.3



小时，则 2019 年 2 季度累计完成通用航空飞行时长是 1 季度的  $\frac{19999 - 4564.3}{4564.3} < \frac{16000}{4000} = 4$  倍，即不到 4 倍。故本题选 A。

## 二、多选题

31. 【答案】ABCD。解析：2021 年 10 月 16 日出版的第 20 期《求是》杂志发表了习近平的重要文章《扎实推动共同富裕》。文章强调，共同富裕是社会主义的本质要求，是中国式现代化的重要特征。促进共同富裕，要把握好以下原则：鼓励勤劳创新致富，坚持基本经济制度，尽力而为量力而行，坚持循序渐进。故本题选 ABCD。

32. 【答案】BCD。解析：2021 年 10 月 16 日 0 时 23 分，搭载神舟十三号载人飞船的长征二号 F 遥十三运载火箭，在酒泉卫星发射中心按照预定时间精准点火发射，顺利将翟志刚、王亚平、叶光富 3 名航天员送入太空。这是我国载人航天工程立项实施以来的第二十一飞行任务，也是空间站阶段的第二次载人飞行任务。故本题选 BCD。

33. 【答案】BCD。解析：2021 年 9 月 27 日，中华人民共和国第十四届运动会在西安闭幕。2025 年第十五届全运会在广东、香港和澳门举办。这将是香港和澳门首次参与承办全国运动会，也是粤港澳大湾区首次作为一个整体承办大型综合性体育赛事。故本题选 BCD。

34. 【答案】D。解析：中华文化的包容性即求同存异和兼收并蓄。求同存异，就是能与其他民族的文化和睦相处；兼收并蓄，就是能在文化交流中吸收、借鉴其他民族文化的积极成分。另外，中华文化的包容性还体现在与各民族文化在和睦的关系中不断交流，增强对自身文化的认同和对其他民族文化的理解和认知。因此，中华文化的包容性有利于各民族文化在和睦的关系中交流，增强对自身文化的认同和对其他民族文化的理解，有利于中华文化的源远流长和博大精深，有利于促进各民族文化的融合，①③④正确。故本题选 D。

35. 【答案】AC。解析：职业道德是指在一定职业活动中应遵循的、体现一定职业特征的、调整一定职业关系的职业行为准则和规范。社会主义职业道德的基本要求是：爱岗敬业、诚实守信、办事公道、服务群众、奉献社会。B 项爱护公物、D 项勤俭持家是新中国公民应该具备的一种基本美德。故本题选 AC。

36. 【答案】ACD。解析：《劳动合同法》第 39 条规定，劳动者有下列情形之一的，用人单位可以解除劳动合同：（一）在试用期间被证明不符合录用条件的；（二）严重违反用人单位的规章制度的；（三）严重失职，营私舞弊，给用人单位造成重大损害的；（四）劳动者同时与其他用人单位建立劳动关系，对完成本单位的工作任务造成严重影响，或者经用人单位提出，拒不改正的；（五）因本法第二十六条第一款第一项规定的情形致使劳动合同无效的；（六）被依法追究刑事责任的。故本题选 ACD。

37. 【答案】ABCD。解析：《行政处罚法》第 9 条规定，行政处罚的种类：（一）警告、通报批评；（二）罚款、没收违法所得、没收非法财物；（三）暂扣许可证件、降低资质等级、吊销许可证件；（四）限制开展生产经营活动、责令停产停业、责令关闭、限制从业；（五）行政拘留；（六）法律、行政法规规定的其他行政处罚。故本题选 ABCD。

38. 【答案】BCD。解析：根据《刑法》第 33 条的规定，主刑的种类包括管制、拘役、有期徒刑、无期徒刑、死刑 5 种。故本题选 BCD。

39. 【答案】AB。解析：《宪法》第 58 条规定，全国人民代表大会和全国人民代表大会常务委员会行使国家立法权。故本题选 AB。

40. 【答案】ABD。解析：《民法典》第 1062 条第一款规定，夫妻在婚姻关系存续期间所得的下列财产，为夫妻共同财产，归夫妻共同所有：（一）工资、奖金、劳务报酬；（二）生产、经营、投资的收益；（三）知识产权的收益；（四）继承或者受赠的财产，但本法第一千零六十三条第三项规定的除外；（五）其他应当归共同所有的财产。该法第 1063 条规定，下列财产为夫妻一方的个人财产：（一）

一方的婚前财产；（二）一方因受到人身损害获得的赔偿或者补偿；（三）遗嘱或者赠与合同中确定只归一方的财产；（四）一方专用的生活用品；（五）其他应当归一方的财产。A项属于法定夫妻共同财产。B项属于法定夫妻共同财产，《最高人民法院关于适用〈中华人民共和国民法典〉婚姻家庭编的解释（一）》第24条规定，民法典第一千零六十二条第一款第三项规定的“知识产权的收益”，是指婚姻关系存续期间，实际取得或者已经明确可以取得的财产性收益。C项属于夫妻一方财产，《最高人民法院关于适用〈中华人民共和国民法典〉婚姻家庭编的解释（一）》第26条规定，夫妻一方个人财产在婚后产生的收益，除孳息和自然增值外，应认定为夫妻共同财产。因周边配套设施逐渐发展完善，房价上涨，属于自然增值，不应认定为夫妻共同财产。D项属于法定夫妻共同财产。故本题选ABD。

### 三、判断题

41. 【答案】A。解析：从感性认识上升到理性认识，是认识过程的第一次飞跃；从理性认识到实践，即用理性认识去指导实践，并接受实践的检验，是认识过程的第二次飞跃。故本题说法正确。

42. 【答案】A。解析：所谓新事物，是指合乎历史前进方向的、具有远大前途的东西，与此相反，旧事物则是历史发展过程中逐渐丧失其存在必然性的、日趋灭亡的东西。识别一个事物是新事物还是旧事物，最根本的是要看它是否同历史发展的必然趋势相符合。故本题说法正确。

43. 【答案】A。解析：法律和道德都具有规范社会行为、维护社会秩序的作用。凡是法律所禁止和制裁的行为，通常也是道德所反对和谴责的行为。故本题说法正确。

44. 【答案】A。解析：集体主义作为公民道德建设的基本原则，是社会主义经济、政治和文化建设的必然要求。故本题说法正确。

45. 【答案】A。解析：《新时代公民道德建设实施纲要》指出，道德建设既要靠教育倡导，也要靠有效治理，要发挥法治对道德建设的保障和促进作用。故本题说法正确。

46. 【答案】A。解析：《民法典》第1048条规定，直系血亲或者三代以内的旁系血亲禁止结婚。故本题说法正确。

47. 【答案】A。解析：《刑法》第25条第一款规定，共同犯罪是指二人以上共同故意犯罪。本案中，张某和孙某有共同行窃的犯罪故意，为了达到同一犯罪目标，分工明确并实施。因此张某和孙某属于共同犯罪。故本题说法正确。

48. 【答案】B。解析：《刑法》第382条规定，国家工作人员利用职务上的便利，侵吞、窃取、骗取或者以其他手段非法占有公共财物的，是贪污罪。受国家机关、国有公司、企业、事业单位、人民团体委托管理、经营国有财产的人员，利用职务上的便利，侵吞、窃取、骗取或者以其他手段非法占有国有财物的，以贪污论。与前两款所列人员勾结，伙同贪污的，以共犯论处。故本题说法错误。

49. 【答案】B。解析：《宪法》第134条规定，中华人民共和国人民检察院是国家的法律监督机关。故本题说法错误。

50. 【答案】B。解析：《行政诉讼法》第17条规定，最高人民法院管辖全国范围内重大、复杂的第一审行政案件。高级人民法院不等于最高人民法院。故本题说法错误。

### 四、简答题

#### 51. 【参考答案】

党的十八大报告提出，要大力加强社会主义核心价值体系建设，“倡导富强、民主、文明、和谐，倡导自由、平等、公正、法治，倡导爱国、敬业、诚信、友善，积极培育和践行社会主义核心价值观”。

#### 52. 【参考答案】

坚持爱国主义和社会主义相统一；维护祖国统一和民族团结；尊重和传承中华民族历史和文化；坚持立足民族又面向世界。



## 五、案例分析题

### 53. 【参考答案】

一、医院：1. 实现分级诊疗、分类整治。推行分级诊疗制度，将轻症患者分流到基层医疗机构；建立分院，分类整治，实现科室分流。2. 完善车库建设。将医院附属设施改建为停车场，建设立体车库；做好车库管理，探索预约及共享停车方案。3. 加强宣传引导。做好新建科室和院区和公共交通路线宣传，引导绿色出行。

二、政府：1. 扩大停车供给。积极引导医院与周边单位对接，实现停车资源共享。2. 实现数据共享。利用智能政务、大数据云服务解决信息不对称问题，打造线上信息平台，接入停车位信息，给予市民停车指导。3. 完善公共交通。做好相关线路的公共交通规划，提供便捷的出行方式。

三、患者：主动减轻压力。轻症患者可线上就医或前往基层医疗机构就近就医，尽量选择绿色交通方式，避开停车难题。（319字）