

1、(单选题)

分米:单位

- A : 时间:空间
- B : 吃饭:习惯
- C : 报纸:艺术
- D : 剪刀:工具

2、(单选题)

安装:空调

- A : 利用:团结
- B : 精神:可嘉
- C : 举一:反三
- D : 组织:活动

3、(单选题)

牛奶:酸奶

- A : 玻璃:凳子
- B : 铅笔:木头
- C : 苹果:维生素
- D : 黄豆: 酱油

4、(单选题)

渔网:捕鱼

- A : 路面:滑行
- B : 天空:遥望
- C : 肥皂:洗澡
- D : 玻璃:观看

5、(单选题)

元旦:一月

- A : 母亲节:六月
- B : 植树节:四月
- C : 青年节:五月
- D : 医师节:九月

6、(单选题)

小乐去年每个月的税后工资都是一样的，并且她每个月都从税后工资中抽出相同的金额存起来，她在去年年底攒下的钱的总额是她每月税后工资中未存的那部分的3倍。已知她去年攒的钱都是从税后工资里存起来的，则她去年每个月存的钱占每个月工资的多少？（ ）

- A :
- B :
- C :
- D :

7、(单选题)

在第一季度末，某个共同基金的股价比年初上涨了20%，在第二季度末，该共同基金的股价比年初上涨了50%，则从第一季度末到第二季度末，股价上涨了（ ）。

- A : 20%
- B : 25%

C : 30%

D : 33%

8、(单选题)

在某一所大学里，英语专业的学生人数是历史专业的学生人数的两倍，历史专业的学生人数是数学专业的学生人数的三分之一。则英语专业的学生人数与数学专业的学生人数的比例为（ ）。

A : 2:3

B : 3:2

C : 6:1

D : 1:6

9、(单选题)

一家公司有两种机器R型和S型，以恒定速率运行，R型机器在36个小时内完成某项工作，而S型机器在18小时内完成同样的工作。如果公司使用相同数量的两种机器在2个小时内完成这项工作，那么该公司使用了（ ）台R型机器。

A : 3

B : 4

C : 6

D : 9

10、(单选题)

圆形慢跑跑道为直径为2英里的圆形湖的边缘。小乔以每小时3英里的平均速度绕着跑道走了一圈。如果t代表小乔绕湖走了一圈所花的小时数，则以下哪一项是正确的？（ ）

A : $0.5 < t < 0.75$

B : $1.75 < t < 2.0$

C : $2.0 < t < 2.5$

D : $3.0 < t < 3.5$

11、(单选题)

一家公司计划给员工分配工号。每个工号由四个从0到9的不同数字组成，但第一个数字不能是0，则一共可以组成（ ）种不同的工号。

- A : 3024
- B : 4536
- C : 5040
- D : 9000

12、(单选题)

根据一罐冷冻浓缩橙汁的说明，1罐冷冻浓缩橙汁要与3罐水混合才能制成橙汁，则要制成200罐每罐6盎司的橙汁需要（ ）罐每罐12盎司的浓缩液。

- A : 25
- B : 34
- C : 50
- D : 50

13、(单选题)

表象是指基于知觉在头脑内形成的感性形象。包括记忆表象和想象表象，前者指感知过的事物不在面前而在脑中再现出来的该事物的形象，后者指对知觉形象或记忆表象进行一定的加工改造而形成的新形象。

根据上述定义，下列属于表象的是（ ）。

- A : 作家笔下刻画的人物形象
- B : 小乐看到了一只和做梦时梦到的一模一样的猫
- C : 镜子中的桌子
- D : 小夏在脑海中回忆朋友小李的模样

14、(单选题)

自助游是指以最省钱的方法背着包去旅行、自己设计路线、自己安排旅途中的

一切，自由、主动、深刻、充满艰辛和诗意，利用现代文明带来的便捷，却又不受商业的蒙蔽和束缚的旅行。

根据上述定义，下列属于自助游的是（ ）。

- A: 报旅游团去旅游
- B: 跟随有自助游经验的朋友一起去旅游，旅行中一切听从朋友的安排
- C: 由旅行社安排旅馆、路线，其余自己安排
- D: 自己规划路线，挑选旅馆，自己开车

15、(单选题)

安泰效应源自于古希腊神话中有一个大力神叫安泰，他是海神波塞冬与地神盖娅的儿子，他力大无比，百战百胜。但他有一个致命的弱点，那就是他一旦离开大地，离开母亲的滋养，就失去了一切力量，他的对手刺探了这个秘密，设计让他离开大地，把他高高举起，在空中把他杀了。后来，人们把一旦脱离相应条件就失去某种能力的现象称为“安泰效应”，因此，要学会依靠大家、依靠集体。

根据上述定义，下列不属于安泰效应的是（ ）。

- A: 学生失去了班集体，独学则无友，则孤陋而寡闻
- B: 小李因能力不够，被团队开除
- C: 单丝不成线，独木不成林
- D: 将军如果没有士兵，再好的战术也溃不成军

16、(单选题)

点源污染是指有固定排放点的污染源，在数学模型中常用一点表示以简化计算。

根据上述定义，下列选项中属于点源污染的是（ ）。

- A: 农田排水
- B: 工业废水及城市生活污水，由排放口集中汇入江河湖泊
- C: 土壤侵蚀
- D: 泥沙输移

17、(单选题)

邻避效应指居民或当地单位因担心建设项目（如垃圾场、核电厂、殡仪馆等邻避设施）对身体健康、环境质量和资产价值等带来诸多负面影响，从而激发人们的嫌恶情结，滋生“不要建在我家后院”的心理，即采取强烈和坚决的、有时高度情绪化的集体反对甚至抗争行为。

根据上述定义，下列行为不符合邻避效应的是（ ）。

- A: 家住荔湾区的何小姐，连续第二个月坐进市环保局接访室，她反对在她家门口即将

的广佛放射线二期高架桥的一段匝道工程

B：建委组织的110千伏变电站建设座谈会由于当地居民拒绝参加不欢而散，居民曾多次规划局、市环保局等单位上访，强烈反对变电站建在自己“家门口”

C：每到城管委接访日，都能见到从清远远道而来上访的居民，他们上访都是为了反对选于狮岭镇汾水林场的花都垃圾焚烧厂

D：王女士买房特意买在郊区，因为这里山清水秀，空气中的负氧离子含量比市中心多

18、(单选题)

信息技术产业，是指运用信息手段和技术、收集、整理、储存、传递信息情报，提供信息服务并提供相应的信息手段、信息技术等服务的产业。

根据上述定义，下列选项中不属于信息技术产业的是（ ）。

- A：软件开发业
- B：新闻广播业
- C：大数据行业
- D：服装设计业

19、(单选题)

社会公共道德，是指由社会全体成员所普遍认许、遵循的道德准则、公共道德观，核心是以人民为本的价值观，其价值取向就是社会、集体、他人、个人利益的有机统一。

根据上述定义，下列不属于社会公共道德的是（ ）。

- A：公交车上给老弱病残孕让座
- B：在公共场合不乱丢垃圾
- C：在电影院里观影时不大声喧哗
- D：保持勤俭节约的购物习惯，不铺张浪费

20、(单选题)

不把表述的内容直截了当地说出来，而是有意地把话说得婉转曲折，含蓄有致，这就是委婉。古书中常见的委婉手法有：（1）使用谦敬语。如对己表谦的有“仆、愚、妾、奴、小人、下走、下臣、不谷、寡人”等谦称来代替第一人称。对人（特别是皇上）用“左右、足下、先生、执事、陛下”来代替第二人称。（2）避讳语。就是对要说的事加以回避掩盖或装饰美化。（3）迂回语。本来想说甲事，却偏要说乙事，转弯抹角，话中有话。这就是迂回语。在外交辞令上多使用。

根据上述定义，下列没有使用委婉手法的一项是（ ）。

- A：公叔病有如不可讳，将奈社稷何
- B：如曰今日当一切不事事，守前所为而已，则非某之所敢为
- C：即阳为病狂，卧便利

D: 犬子才疏学浅，怎敢担此重任

21、(单选题)

碰瓷营销，是出现在企业营销中的一种炒作方式，通常是弱小企业主动发声，指控行业中比较强大的企业侵犯自身权益，在引起舆论关注后，企业的知名度也随之提高。

根据上述定义，下列属于碰瓷营销的一项是（ ）。

A： 三亚借助举办“世界小姐”总决赛提升城市的国际影响力，并吸引大量海外游客

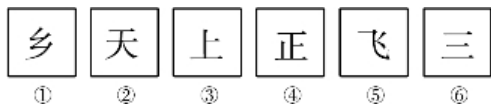
B： 世界杯期间央视五套利用独家买断对赛事的转播使其在该时段的收视率飙升，广告收是平常的数倍

C： 一家名不见经传的做企业内通讯的企业，指责另一家在中国互联网无人不知的企业抄同时要求道歉、赔偿、停止打压。在巨头召开研讨会时，这家企业在隔壁举着条幅写出了刺激性语句，被拍下图片后在个别网络媒体和微博流传。由于巨头实在太出名，任何对它责几乎都可以成为负面新闻，因此这些微博和网稿获得了相当规模的转发

D: 企业在新产品上市时开产品推介会

22、(单选题)

把下面的六个小图形分为两类，使每一类图形都有各自的共同特征或规律，分类正确的一项是（ ）。



A: ①②⑥, ③④⑤

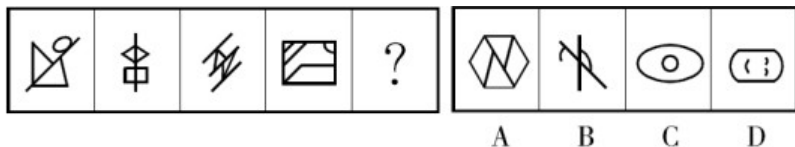
B: ①③⑤, ②④⑥

C: ①②④, ③⑤⑥

D: ①③④, ②⑤⑥

23、(单选题)

从所给的四个选项中，选择最恰当的一项填入问号处，使之呈现一定的规律性。



A: A

B: B

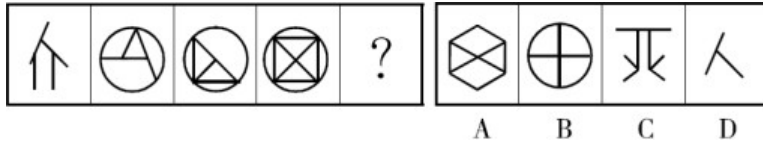
C: C

D: D

24、(单选题)

从所给的四个选项中，选择最恰当的一项填入问号处，使之呈现一定的规律

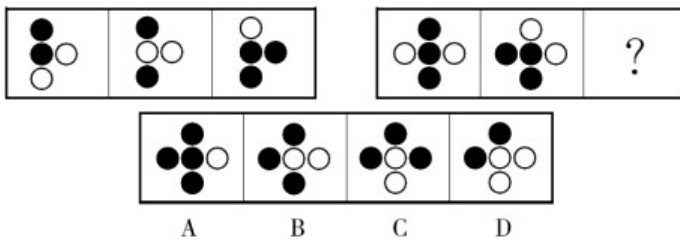
性。



- A : A
- B : B
- C : C
- D : D

25、(单选题)

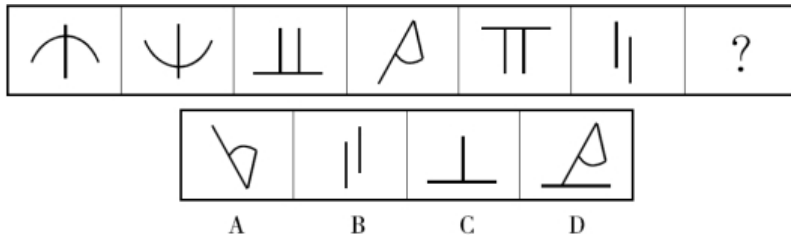
从所给的四个选项中，选择最恰当的一项填入问号处，使之呈现一定的规律性。



- A : A
- B : B
- C : C
- D : D

26、(单选题)

从所给的四个选项中，选择最恰当的一项填入问号处，使之呈现一定的规律性。



- A : A
- B : B
- C : C
- D : D

27、(单选题)

- ①对生产要素供给和生产率都不会产生长期影响
- ②更不会削弱我国经济的潜在增长能力
- ③甚至不会造成对全年的影响
- ④同时，疫情在需求方面造成的损失也能较快得到恢复
- ⑤但终究是一次性冲击现象

⑥新冠肺炎疫情虽然会对经济活动造成的负面影响
将以上6个句子重新排列，语序正确的一项是（ ）。

- A：⑥⑤④①②③
- B：⑥⑤①②③④
- C：⑥①⑤③②④
- D：⑥⑤①③②④

28、(单选题)

①补短板就是要缩小我国在重要产业链以及产业链关键环节与世界领先水平的差距，改变落后状况，减轻对国际供应链的依赖
②短板的补齐可以使我们不再受制于人，长板的锻造可以使我们拥有“杀手锏”，在面对外部断供时形成反制
③锻长板就是形成若干我国技术水平、产品性能全球领先的领域，成为该产品全球供应链中重要乃至不可替代的供应来源
④增强产业链的韧性、保持经济的平稳发展，根本上需要提高对产业链价值链的掌控力，这就要求补短板与锻长板并举
⑤我国在发挥比较优势、积极参与全球产业链分工的同时，需要更加重视产业链供应链的安全性，在发生外部供应中断时能够保持国内产业链的运转
将以上5个句子重新排列，语序正确的一项是（ ）。

- A：④②①③⑤
- B：⑤④①③②
- C：⑤④②①③
- D：④①③②⑤

29、(单选题)

强化竞争政策的基础性，让市场机制更好地发挥决定性的作用。通过放宽市场准入、加强知识产权保护、严厉打击垄断和不正当竞争行为、改善中小企业和民营企业金融支持、完善创新创业环境等举措，进一步激发企业和个人的创新创业活力，加大对短板和长板领域的持续投入。
这段文字意在强调（ ）。

- A：要完善公平的市场竞争环境
- B：要加强对产业发展的市场拉动
- C：要坚持扩大开放的大方向不动摇
- D：要加大政府对科技创新的支持

30、(单选题)

中国有五千多年的历史，有绵延至今依然璀璨的中华文明，文化内蓄深厚，这是我们文化的内核与底座，是文化自信的深刻来源与雄浑底气。世代中国人用智慧和汗水建设民族文化并不断传承创新，为中国进步和发展提供源源不断的滋养，文化基因强壮，这是中华文化的生命力和生长力，使我们的文化自信与生俱来、从容自在。从“站起来”，到“富起来”，再到“强起来”，习近平总书记倡导构建人类命运共同体，文化发展前景广阔。从发展看进步，从前行看趋势，中华民族屹立世界民族之林不仅是愿望，还是渐进接近的现实，这是文化自信的成果和表达。在2019年新中国成立70周年国庆盛典中，广大人民群众

焕发的民族自豪感，所体现的空前凝聚力，在彰显中国人民日益强大的心气、胆气和豪气的同时，也必将转化为“中国之治”宏大、深邃的能量支持。

以下最适合做上文标题的一项是（ ）。

- A：先进文化可为“中国之治”助力
- B：化自信可为“中国之治”赋能
- C：中国故事可为“中国之治”植根
- D：文化自信推动中国文化繁荣

1、(单选题)

正确答案是： D

解析：

分米属于单位，D项剪刀属于工具。
A项时间与空间为反对关系，排除。
B项吃饭与习惯无明显联系，排除。
C项报纸与艺术无明显联系，排除。
故本题选D。

2、(单选题)

正确答案是： D

解析：

安装空调，二者为动宾关系；D项组织活动，二者为动宾关系。
A项利用与团结无明显联系，排除。
B项可嘉的精神，二者为修饰关系，排除。
C项通过举一来反三，排除。
故本题选D。

3、(单选题)

正确答案是： D

解析：

牛奶是制作酸奶的原材料，牛奶变成酸奶是化学变化；D项黄豆是制作酱油的原材料，黄豆变成酱油是化学变化。
A项玻璃可以是凳子的原材料，但是二者之间为物理变化，排除。
B项木头是制作铅笔的原材料，但词语位置相反，排除。
C项苹果中含有维生素，排除。
故本题选D。

4、(单选题)

正确答案是： C

解析：

用渔网捕鱼，C项用肥皂洗澡。

A项在路面滑翔，二者为场所关系，排除。

B项遥望天空，二者为动宾关系，排除。D

项观看玻璃，二者为动宾关系，排除。故

本题选C。

5、(单选题)

正确答案是： C

解析：

元旦在一月，C项青年节在五月。

A项母亲节在五月，排除。

B项植树节在三月，排除。

D项教师节在八月，排除。

故本题选C。

6、(单选题)

正确答案是： C

解析：

设小乐每个月存1元，未存x元，根据题意有 $12 \div x = 3$ ，解得 $x = 4$ ，则题干所求

为 $\frac{1}{1+4} = \frac{1}{5}$ 故本题选C。

7、(单选题)

正确答案是： B

解析：

设年初股价为100，则第一季度末股价为120，第二季度末股价为150。因此从第一季度末到第二季度末，股价上涨了 $\frac{150-120}{120} \times 100\% = 25\%$ 。故本题选B。

8、(单选题)

正确答案是： A

解析：

设历史专业的学生人数为1，则英语专业的学生人数为2，数学专业的学生人数为3。因此英语专业的学生人数与数学专业的学生人数的比例为2:3。故本题选A。

9、(单选题)

正确答案是： C

解析：

设该项工作总量为36，则R型机器每小时的工作效率为1，S型机器为2，设该公司使用了x台R型机器，根据题意有 $36 \div (x+2x) = 2$ ，解得 $x=6$ 。故本题选C。

10、(单选题)

正确答案是： C

解析：

该跑道的周长为 $2\pi \approx 6.28$ 英里，则小乔走一圈所需的时间 $t = 6.28 \div 3 \approx 2.09$ 小

时。故本题选C。

11、(单选题)

正确答案是： B

解析：

一共可以组成 $9 \times 9 \times 8 \times 7 = 4536$ 种不同的工号。故本题选B。

12、(单选题)

正确答案是： A

解析：

共需制成 $200 \times 6 = 1200$ 盎司橙汁，需要冷冻浓缩橙汁 $1200 \div (1+3) = 300$ 盎司，需要 $300 \div 12 = 25$ 罐每罐12盎司的浓缩液。故本题选A。

13、(单选题)

正确答案是： D

解析：

“表象”的定义要点是“基于知觉在头脑内形成的感性形象”。

A项作家笔下刻画的人物形象不是基于知觉的形象，不符合定义要点，排除。

B项看到猫是实际看到的，而不是在头脑中形成的，不符合定义要点，排除。

C项镜子中的桌子是基于知觉的理性形象，没有再现或加工改造，不符合定义要点，排除。

D项回忆朋友小李的模样是基于知觉在头脑内形成的感性形象，符合定义要点。

故本题选D。

14、(单选题)

正确答案是： D

解析：

“自助游”的定义要点是“自己设计路线、自己安排旅途中的一切”。

A项报旅游团不是自己安排旅途中的一切，不符合定义要点，排除。

B项一切听从朋友的安排不是自己安排旅途中的一切，不符合定义要点，排除。

C项由旅行社安排旅馆、路线不是自己安排旅途中的一切，不符合定义要点，排除。

D项自己规划路线，挑选旅馆，自己开车是自己安排旅途中的一切，符合定义要点。

故本题选D。

15、(单选题)

正确答案是： B

解析：

“安泰效应”的定义要点是“要依靠大家、依靠集体”。

A项学生失去了班集体，独学则无友，则孤陋而寡闻体现了“要依靠大家、依靠集体”，符合定义要点，排除。

B项小李因能力不够，被团队开除没有体现“要依靠大家、依靠集体”，不符合定义要点。

C项单丝不成线，独木不成林体现了“要依靠大家、依靠集体”，符合定义要点，排除。

D项将军如果没有士兵，再好的战术也溃不成军体现了“要依靠大家、依靠集体”，符合定义要点，排除。

故本题选B。

16、(单选题)

正确答案是： B

解析：

“点源污染”的定义要点是“有固定排放点”。

A项农田排水没有固定排放点，不符合定义要点，排除。

B项由排放口集中汇入有固定排放点，符合定义要点。

C项土壤侵蚀没有固定排放点，不符合定义要点，排除。

D项泥沙转移没有固定排放点，不符合定义要点，排除。

故本题选B。

17、(单选题)

正确答案是： D

解析：

“邻避效应”的定义要点是“居民或当地单位采取强烈和坚决的、有时高度情绪化的集体反对甚至抗争行为”。

A项何小姐连续两个月反对匝道工程，是采取强烈和坚决的反对行为，符合定义要点，排除。

B项居民曾多次到市规划局、市环保局等单位上访，强烈反对变电站建在自己“家门口”，是采取强烈和坚决的、有时高度情绪化的集体反对甚至抗争行为，符合定义要点，排除。

C项居民上访反对垃圾焚烧厂，是采取强烈和坚决的、有时高度情绪化的集体反对甚至抗争行为，符合定义要点，排除。

D项王女士买房特意买在郊区不是反对或者抗争行为，不符合定义要点。故本题选D。

18、(单选题)

正确答案是： D

解析：

“信息技术产业”的定义要点是“运用信息手段和技术、收集、整理、储存、传递信息情报，提供信息服务并提供相应的信息手段、信息技术等服务”。

A项软件开发业是运用信息手段和技术提供相应的信息手段、信息技术服务的产业，符合定义要点，排除。

B项新闻广播业是运用信息手段和技术、收集、整理、储存、传递信息情报，提供相应的信息手段、信息技术服务的产业，符合定义要点，排除。

C项大数据行业是运用信息手段和技术、收集、整理、储存、传递信息情报，提供相应的信息手段、信息技术服务的产业，符合定义要点，排除。

D项服装设计业是解决人们穿着生活体系中诸问题的富有创造性的计划及创作行为，不是运用信息手段和技术提供相应的信息手段、信息技术服务的产业，不符合定义要点。

故本题选D。

19、(单选题)

正确答案是： D

解析：

“社会公德”的定义要点是“其价值取向就是社会、集体、他人、个人利益的有机统一”。

A项公交车上给老弱病残孕让座有利于社会和他人，价值取向是社会、集体、他人、个人利益的有机统一，符合定义要点，排除。

B项在公共场合不乱丢垃圾有利于社会和他人，价值取向是社会、集体、他人、个人利益的有机统一，符合定义要点，排除。

C项在电影院里观影时不大声喧哗有利于社会和他人，价值取向是社会、集体、他人、个人利益的有机统一，符合定义要点，排除。

D项保持勤俭节约的购物习惯，不铺张浪费没有体现有利于社会和他人，没有体现价值取向是社会、集体、他人、个人利益的有机统一，不符合定义要点。故本题选D。

20、(单选题)

正确答案是： B

解析：

“委婉手法”的定义要点：①使用谦敬语。如对己表谦的有“仆、愚、妾、奴、小人、下走、下臣、不谷、寡人”等谦称来代替第一人称；②避讳语。就是对要说的事加以回避掩盖或装饰美化；③迂回语。本来想说甲事，却偏要说乙事，转弯抹角，话中有话。

A项古者小患称疾，大患称病，“不可讳”指死的婉辞，使用避讳语，符合②，符合定义，排除。

B项的意思是“如果说现在应该什么事都不去做，墨守前人的陈规旧法就是了，那就不是我敢领教的了”，没有使用委婉手法，不符合定义要点。

C项“便利”通“大小便”，使用避讳语，符合②，符合定义，排除。

D项犬子使用谦称，符合①，符合定义，排除。

故本题选B。

21、(单选题)

正确答案是： C

解析：

碰瓷营销的定义要点是“弱小企业”。

A项三亚不是弱小企业，不符合定义要点，排除。

B项央视五套不是弱小企业，不符合定义要点，排除。C

项一家名不见经传的企业是弱小企业，符合定义要点。D

项没有体现是弱小企业，不符合定义要点，排除。

故本题选C。

22、(单选题)

正确答案是： B

解析：

①③⑤图形的第一笔书写笔画不为横，②④⑥图形的第一笔书写笔画为横。故本题选B。

23、(单选题)

正确答案是： A

解析：

题干各图形均含有三角形，因此问号处图形应含有三角形。观察选项，只有A项符合。故本题选A。

24、(单选题)

正确答案是： B

解析：

题干相邻图形均存在相同部分。因此问号处图形应与第四个图形存在相同部分，观察选项，只有B项符合。故本题选B。

25、(单选题)

正确答案是： C

解析：

观察图形，考虑黑白叠加。由第一组图形可得，黑+黑=白，白+白=黑，异色=黑。第二组图形遵循此规律，因此问号处图形为C项。故本题选C。

26、(单选题)

正确答案是： A

解析：

题干第1个图形上下翻转得到第2个图形，第3个图形上下翻转得到第5个图形，相隔的图形的个数依次为0、1，则第4个图形上下翻转得到第7个图形，相隔的图形的个数为2。因此问号处图形为A项图形。故本题选A。

27、(单选题)

正确答案是： D

解析：

通读6个句子，②“更不会”是对①“不会”和③“甚至不会”的最终递进，必然在③后，且这三句都是对疫情带来冲击现象的分析，可以捆绑，直接锁定D项。验证D项，首先讲疫情给经济活动造成负面影响，然后指出这只是一次性冲击现象，接着用三个“不会”对“一次性冲击”进行分析论证，④“同时”引导的内容也是对“一次性冲击”的补充说明。故本题选D。

28、(单选题)

正确答案是： B

解析：

通读5个句子，④①③②是很明显的总-分-总结结构，④是总述句，提到“补短板与锻长板并举”，①③分别就补短板与锻长板展开介绍，②是对①③的总结，据此排除A、C项。再看⑤，此句提出“重视产业链供应链的安全性”“保持国内产业链的运转”的话题，作为首句最合适，④“增强产业链的韧性”正好承接⑤句，排除D项。

验证B项，符合语句逻辑关系。

故本题选B。

29、(单选题)

正确答案是： A

解析：

文段提出强化竞争政策的基础性，让市场机制发挥决策性作用的观点，后文再提出具体落实措施，如放宽市场准入、改善中小企业和民营企业金融支持、加大对短板和长板领域的持续投入等。这一切的落脚点都是“竞争政策的基础性”，即发挥市场的公平竞争作用，A项最恰当。其他三项均与文段的论述话题无紧密联系。

故本题选A。

30、(单选题)

正确答案是： B

解析：

文段讲中国有五千多年的文明，文化内蓄深厚，这是文化自信的来源和底气，而世代的中国人对民族文化的不断传承创新为中国的进步和发展提供助推力。中国文化发展前景广阔，中华民族屹立世界民族之林逐渐接近现实也正是文化自信的成果和表达。中国的文化自信也必将为“中国之治”提供能量支持。显然，文段围绕“中国文化自信”展开论述，排除A、C项。

文段后半段重点讲中国文化自信对“中国之治”、中国在世界民族之林的影响，显然，B项作为标题更恰当。

故本题选B。