

1、(单选题)

在一次创新创业大赛中，某专业有甲、乙、丙、丁、戊五位同学被推荐参加，但是要基于以下情况：

- ①如果甲和乙都参加了，那么丙就不参加。
- ②只有乙参加，丁才参加。
- ③丁和戊至少有一位要参加。
- ④最终结果是甲和丙都参加了。

由此可以推出（ ）。

- A: 乙参加
- B: 丁参加
- C: 戊参加
- D: 不确定

2、(单选题)

同素异形体是指由同样的单一化学元素组成，因排列方式不同，而具有不同性质的单质。同素异形体之间的性质差异主要表现在物理性质上，化学性质上也有着活性的差异。

根据上述定义，下列不属于同素异形体的是（ ）。

- A: 红磷和白磷
- B: 金刚石和石墨
- C: 氧气和臭氧
- D: 盐酸和硫酸

3、(单选题)

《骆驼祥子》:老舍，与这组词在逻辑关系上最为一致的是（ ）。

- A: 《荷塘月色》:朱自清
- B: 《滚滚红尘》:茅盾
- C: 《现实一种》:莫言
- D: 《今生今世》:萧红

4、(单选题)

江西:赣，与这组词在逻辑关系上最为一致的是（ ）。

- A: 河南:冀
- B: 湖北:湘
- C: 广西:粤
- D: 云南:滇

5、(单选题)

- ①至于西周时的重要政治文献《尚书》，其中“天命”一词比比皆是
  - ②从西周时起，“天”的概念有两种不同的含义：一种是天命、天神，一种是自然界的天体
  - ③这种状况到春秋时期才发生变化，出现了重人事而轻天道的观点
  - ④以《周易》的经文为例，其中有些对“天”的理解是指自然的天体、天象，但多数是关于天命、天神的记载
  - ⑤我国古代思想家对“天”的认识，大概始于夏、商时期
- 将以上5个句子重新排列，语序正确的是（ ）。

- A: ④①⑤②③
- B: ④①②⑤③
- C: ⑤②④①③
- D: ⑤②③④①

6、(单选题)

居住环境是人类居住行为（ ）的生活空间环境，以人为本的设计理念也是居住环境设计的必然和根本。规划设计是居住区建设的（ ），科学合理的规划设计是居住区开发建设的第一步。  
依次填入括号部分最恰当的一项是（ ）。

- A: 惺惺相惜 灵魂
- B: 密切相关 灵魂
- C: 惺惺相惜 精髓
- D: 密切相关 精髓

7、(单选题)

全面建成小康社会，这是中国人民千百年来被压抑的创造激情如江河奔涌的释放，这是新中国70年无惧风雨、（ ）、大踏步跟上时代的传奇，这是中华民族伟大复兴进程一往无前、不可阻挡的历史必然！  
填入括号部分最恰当的一项是（ ）。

- A: 高歌猛进
- B: 乘风破浪

- C: 勇往直前
- D: 斗志昂扬

8、(单选题)

绝佳的景观，必有刻骨铭心的伤怀之处，可称之“景魂”。西湖的“景魂”就在西山之东的孤山。三十四岁的朝云（ ），始也西湖，终也西湖，孤山竟成了朝云的葬身之地。

填入括号部分最恰当的一项是（ ）。

- A: 一命呜呼
- B: 香消玉殒
- C: 瘞玉埋香
- D: 英年早逝

9、(单选题)

简政放权指精简政府机构，把经营管理权下放给企业，是中国在经济体制改革开始阶段，针对高度集中的计划经济体制下政企职责不分、政府直接经营管理企业的状况，为增强企业活力，扩大企业经营自主取权而采取的改革措施。

根据上述定义，下列不属于简政放权措施的是（ ）。

A: 取消一批关乎投资创业的行政审批事项，减少中间不必要环节，让优惠政策落地，释场活力

B: 减少部分不必要的职业资格许可和认定，使就业、创业创新不为繁多的“证书”所累，类人才放手拼搏

C: 政府机构将权力完全放开，任凭企业自由发展，国家经济完全由市场调节

D: 将部分工商登记前置审批事项改为后置审批，更好地发挥市场在资源配置中的决定性

10、(单选题)

水下文化遗产是指，至少100年来，周期性地或连续性地，部分或全部位于水下的具有文化、历史或考古价值的所有人类生存的遗迹。

根据上述定义，下列属于水下文化遗产的是（ ）。

A: 澳大利亚沿海历时数百万年形成的世界上最大的珊瑚群大堡礁

B: 我国道光年间在苏门答腊和爪哇岛之间触礁沉没的商船“泰兴号”

C: 迪拜于20世纪末在海中以人工岛方式建造的世界第一座七星级观光饭店

D: 希腊克里特岛上发掘出的公元前10000年至公元前3300年新石器文化遗迹

11、(单选题)

物品的使用价值是消费者可以从中获得某种功用的价值，而符号价值则是消费者可以凭借其区别于他人而表现自身特殊性的价值。人们对物品的符号价值的追求，植根于人的社会本性——寻求与众不同甚至高于他人的社会地位，或者说，是地位意识支配着人们去追求或消费符号价值。

根据上述定义，下列属于物品的符号价值的是（ ）。

- A：一些经济富裕的人常常喜欢购买奢侈品品牌的商品
- B：有的人一直宣扬自己喜欢嘻哈，来彰显自己与众不同的气质
- C：有人常常发医疗知识的朋友圈，表现自己学识渊博
- D：一些慢生活的城市，很多人喜欢去喝早茶

12、(单选题)

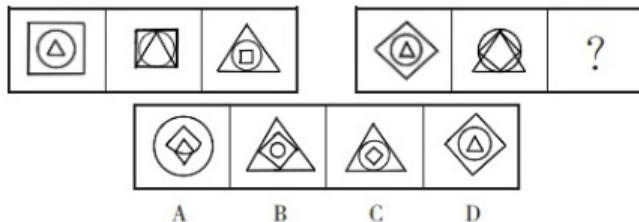
在一定的语言环境中，利用词的多义或同音的条件，有意使词句具有两种意思，言在此而意在彼，这一种修辞手法叫做双关。

根据上述定义，下列诗句不属于“双关”的是（ ）。

- A：春蚕到死丝方尽，蜡炬成灰泪始干
- B：桃花潭水深千尺，不及汪伦送我情
- C：东边日出西边雨，道是无晴却有情
- D：理丝入残机，何悟不成匹

13、(单选题)

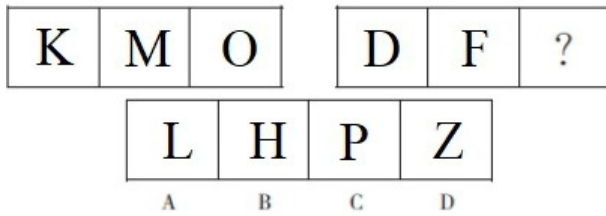
从所给的四个选项中，选择最合适的一个填入问号处，使之呈现一定的规律性。



- A：A
- B：B
- C：C
- D：D

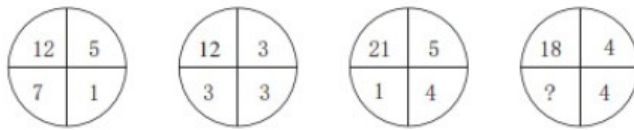
14、(单选题)

从所给的四个选项中，选择最合适的一个填入问号处，使之呈现一定的规律性。



- A : A
- B : B
- C : C
- D : D

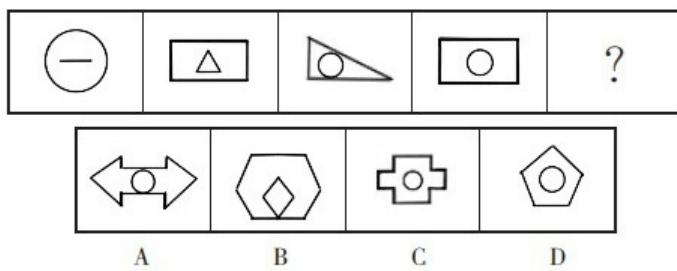
15、(单选题)



- A : 1
- B : 2
- C : 3
- D : 4

16、(单选题)

从所给的四个选项中，选择最合适的一个填入问号处，使之呈现一定的规律性。



- A : A
- B : B
- C : C
- D : D

17、(单选题)

一个班里有30名学生，有12人会打篮球，有8人会游泳，有10人会踢足球。问至多有几人会两种运动？ ( )

- A : 12人

- B: 14人
- C: 15人
- D: 16人

18、(单选题)

有17个完全一样的信封，其中7个分别装了1元钱，8个分别装了10元钱，2个是空的。问最少需要从中随机取出几个信封，才能保证支付一笔12元的款项而无需找零？（ ）

- A: 4
- B: 7
- C: 10
- D: 12

19、(单选题)

某商品按原定价出售，每件利润为成本的25%，后来按原定价的90%出售，结果每天售出的件数比降价前增加了1.5倍。每天经营这种商品的总利润比降价前增加了（ ）。

- A: 15%
- B: 20%
- C: 25%
- D: 28%

20、(单选题)

汛期来临之前，大坝需要再次加固，现在离汛期还有30天，如果甲公司来修每天需要工作12小时，如果乙公司来修每天需要工作10小时，那么两公司合作且每天只工作8小时，可以提前几天完成加固工程？（ ）

- A: 8
- B: 9
- C: 21
- D: 22

21、(单选题)

2, 3, 7, ( ), 121, 721

A : 25

B : 17

C : 19

D : 11

22、(单选题)

20世纪80年代, 日本收藏家在欧洲艺术品市场上非常活跃, 尤其是19世纪印象派绘画的购买者。这种引人注目的图案无疑反映了许多日本收藏家对他们在19世纪印象派绘画中发现的某种美学特殊偏好。

以下哪一项如果为真, 可以最有力地支持上述论述? ( )

A : 印象派绘画最早在20世纪初在欧洲艺术收藏家中流行

B : 20世纪80年代, 来自日本和世界各地的收藏家购买了许多二十世纪日本著名艺术家画雕版画

C : 一些十九世纪的印象派画家采用了日本版画中的某些技术和视觉效果, 在日本受到高视

D : 在20世纪60年代和70年代, 19世纪印象派画作的价格往往超过欧洲老画师的画作价

23、(单选题)

若“只有通过合理的饮食和适当的锻炼才能成功减肥”为真, 则下列一定为真的是 ( )。

A : 如果通过合理的饮食和适当的锻炼, 就一定能成功减肥

B : 如果你成功减肥, 那么你一定通过合理的饮食和适当的锻炼

C : 除非你通过合理的饮食和适当的锻炼, 否则一定可以成功减肥

D : 即使你成功减肥, 也不一定通过合理的饮食和适当的锻炼

24、(单选题)

O公司和P公司每周工作时间相同的员工人数相同。根据各公司的记录，去年O公司的员工发生的工伤事故的人数比P公司少，因此，O公司的员工比P公司的员工发生工伤事故的可能性要小。

以下哪一项，如果是真的，最能削弱上述结论？（ ）

- A：P公司的员工因工伤事故而损失的时间比O公司的员工多
- B：P公司比O公司考虑更多类型的工伤
- C：P公司的员工比O公司的员工更经常生病
- D：O公司大多数与工作有关事故都与一台机器有关

25、(单选题)

某老师说：“不可能所有的学生都会这道题。”

与以上判断的意思最相近的是（ ）。

- A：可能所有的学生都会这道题
- B：可能所有的学生都不会这道题
- C：必然所有的学生都会这道题
- D：必然有的学生不会这道题

26、(单选题)

有一个很受欢迎的海滩，长期坚持海豚喂养计划，每天多次给海豚喂鱼；许多海豚每天一半的食物都来源于此。尽管受益于该项目的成年海豚是健康长寿的，但它们的后代的寿命比那些野生海豚的后代要低。

以下哪一项，如果是真的，最有助于解释在海滩觅食的海豚后代的寿命低于野生幼海豚？（ ）

- A：在海滩以外的公海中，捕食海豚的鲨鱼比在其他海豚聚集的公海地区要少
- B：许多在海滩觅食的成年海豚都是母海豚，在那里哺育后代
- C：在海滩上给海豚吃的鱼和海豚在野外捕捉到的鱼是同一品种
- D：与其他成年海豚相比，在海滩觅食的成年海豚花在教会后代如何在野外捕鱼的时间要多

27、(单选题)

V国刚刚提出了一项法律要求，在政府资助的学校里，学生和老师的比例不能超过一定的限制。所有的V国儿童都有权在这些学校接受免费教育。当经济衰退发生，平均收入下降时，入读政府资助学校的孩子数量往往会增加。因此，尽管



大多数就业机会在经济衰退时减少，但在政府资助的学校获得一份教师工作并不会因为经济衰退而变得更加困难。

以下哪一项最有助于评估这段论述的正确性？（ ）

- A: 在V国是否有非政府资助的学校为学生提供免费教育
- B: 在经济衰退期间，申请政府资助学校教学职位的合格人数是否大幅增加
- C: 目前V国政府资助学校的师生比例是多少
- D: V国的劳动人口目前在政府资助的学校担任教师的比例是多少

28、(单选题)

竹外桃花三两枝，春江水暖鸭先知:苏轼

- A: 遥知不是雪，为有暗香来:王安石
- B: 明月几时有，把酒问青天:李白
- C: 南朝四百八十寺，多少楼台烟雨中:杜甫
- D: 红豆生南国，春来发几枝:李商隐

29、(单选题)

蝮蛇螫手:壮士解腕

- A: 城门失火:殃及池鱼
- B: 黄道吉日:良辰美景
- C: 鹿死谁手:花落谁家
- D: 得心应手:左右逢源

30、(单选题)

火车站:郑州火车站

- A: 冰箱:格力空调
- B: 黑巧克力:白巧克力
- C: 轮船:货船
- D: 金字塔:胡夫金字塔

1、(单选题)

正确答案是： C

解析：

翻译题干信息。①甲 $\wedge$ 乙 $\rightarrow$  $\neg$ 丙；②丁 $\rightarrow$ 乙；③丁 $\vee$ 戊；④甲 $\wedge$ 丙。由④可知，丙参加，否定①的后件，可以推出否定前件，即 $\neg$ (甲 $\wedge$ 乙)，即甲和乙中至少有一人没有参加。由④可知，甲参加了，因此乙没有参加，排除A项。

乙没参加否定②的后件，即丁没参加，排除B项。

丁没参加否定③的一个选言肢，可以推出另一个选言肢为真，即戊参加了，C项正确。

故本题选C。

2、(单选题)

正确答案是： D

解析：

“同素异形体”的定义要点是“由同样的单一化学元素组成”。

A项红磷和白磷均由单一的磷元素组成，符合定义要点，排除。

B项金刚石和石墨均由单一的碳元素组成，符合定义要点，排除。

C项氧气和臭氧均由单一的氧元素组成，符合定义要点，排除。

D项盐酸是氯化氢(HCl)的水溶液，硫酸(H<sub>2</sub>SO<sub>4</sub>)是硫的含氧酸，二者均不是由单一化学元素组成，不符合定义要点，当选。

故本题选D。

3、(单选题)

正确答案是： A

解析：

《骆驼祥子》的作者是老舍，A项《荷塘月色》的作者是朱自清，当选。

B项《滚滚红尘》的作者是三毛，排除。

C项《现实一种》的作者是余华，排除。

D项《今生今世》的作者是胡兰成，排除。

故本题选A。

4、(单选题)

正确答案是： D

解析：

赣是江西省的简称，D项滇是云南省的简称，当选。

A项冀是河北省的简称，河南省的简称是豫，排除。

B项湘是湖南省的简称，湖北省的简称是鄂，排除。

C项粤是广东省的简称，广西壮族自治区的简称是桂，排除。

故本题选D。

5、(单选题)

正确答案是： C

解析：

观察选项，确定首句。④举例论证，明显不能作为首句，排除A、B项。

再看末句，③“这种状况”是对前文西周关于“天”的概念的总结，显然应该居段末，排除D项。

验证C项，符合语句逻辑关系。

故本题选C。

6、(单选题)

正确答案是： B

解析：

先看第一空，“惺惺相惜”指性格、志趣、境遇相同的人互相爱护、同情、支持，修饰的对象通常是人，排除A、C项。

再看第二空，“灵魂”指在事物中起决定和主导作用的因素，“精髓”比喻精华，此处讲规划设计对居住区建设的重要性，“灵魂”更恰当，排除D项。

故本题选B。

7、(单选题)

正确答案是： A

解析：

“勇往直前”与后文“一往无前”重复，排除C项。“斗志昂扬”是主谓式结构，

与“无惧风雨”“大踏步跟上时代”的动宾结构不符，排除D项。

比较A、B项，“高歌猛进”与后文“大踏步跟上时代”衔接更贴切，排除B项。

故本题选A。

## 8、(单选题)

正确答案是： B

解析：

“一命呜呼”与“英年早逝”无法体现王朝云作为女性的身份特点，排除A、D项。

比较B、C项，“香消玉殒”比喻美丽的女子死亡，“瘞玉埋香”比喻埋葬已故的美女，此处的主语是“三十四岁的朝云”，而非地点，“香消玉殒”更恰当，排除C项。

故本题选B。

## 9、(单选题)

正确答案是： C

解析：

“简政放权”的定义要点是“精简政府机构，把经营管理权下放给企业”。

A项取消行政审批事项，减少中间不必要环节，属于简政放权的措施，排除。

B项减少职业资格许可和认定，属于简政放权的措施，排除。

C项政府机构将权力完全放开，任凭企业自由发展，国家经济完全由市场调节，说法错误，不属于简政放权措施，当选。

D项将前置审批改为后置审批，更好地发挥市场作用，属于简政放权的措施，排除。

故本题选C。

## 10、(单选题)

正确答案是： B

解析：

“水下文化遗产”的定义要点：①至少100年；②部分或全部位于水下的具有文化、历史或考古价值；③人类生存的遗迹”。

A项珊瑚群不是人类生存遗迹，不符合③，排除。

B项道光年间的沉船符合①，是位于水下的具有文化、历史或考古价值的人类生

存遗迹，符合②③，符合定义，当选。

C项20世纪末距今不到100年，不符合①，排除。

D项克里特岛上发掘出的文化遗迹不是部分或全部位于水下，不符合②，排除。  
故本题选B。

### 11、(单选题)

正确答案是： A

解析：

“物品的符号价值”的定义要点是“消费者可以凭借其区别于他人而表现自身特殊性的价值”。

A项购买奢侈品可以凭借其区别于他人而表现自身特殊性，即寻求与众不同甚至高于他人的社会地位，符合定义要点，当选。

B项“嘻哈”不是物品，不符合定义要点，排除。

C项发朋友圈不是物品，不符合定义要点，排除。

D项喜欢喝早茶没有表现自身特殊性，不符合定义要点，排除。

故本题选A。

### 12、(单选题)

正确答案是： B

解析：

“双关”的定义要点是“利用词的多义或同音的条件，有意使词句具有两种意思，言在此而意在彼”。

A项中“丝”与“思”同音，表达对爱人的思念之情，符合定义要点，排除。

B项运用了夸张、比喻的手法，表达汪伦与自己的深情厚谊，不符合定义要点，当选。

C项中“无晴”“有晴”与“无情”“有情”同音，言在天气意在感情，符合定义要点，排除。

D项“丝”与“思”、“匹”与“匹配”的“匹”同音，言在织布意在感情，符合定义要点，排除。

故本题选B。

### 13、(单选题)

正确答案是： C

解析：

题干第一组图形均由矩形、圆形和三角形组成，第三个图形中，三个元素的大小和位置与第一个图形中相反，即第一个图形由内而外依次为三角形、圆形、矩形，面积依次增大，第三个图形由外而内依次为三角形、圆形、矩形，面积依次减小。第二组图形遵循此规律，则问号处图形由外而内依次应为三角形、圆形、矩形。观察选项，只有C项符合。

故本题选C。

14、(单选题)

正确答案是： B

解析：

按照字母表顺序K、M、O中间各间隔一个字母，即K(L)M(N)O，D与F中间间隔一个字母E，则问号处图形应为与F间隔一个字母的H。  
故本题选B。

15、(单选题)

正确答案是： B

解析：

题干图形满足如下规律：左上角数字-左下角数字=右上角数字×右下角数字，即 $12-7=5\times 1$ ， $12-3=3\times 3$ ， $21-1=5\times 4$ 。因此，问号处数字为 $18-4\times 4=2$ 。  
故本题选B。

16、(单选题)

正确答案是： D

解析：

题干各图形外部线条数-内部线条数依次为：0、1、2、3，则问号处图形外部线条数减内部线条数应为4。观察选项，只有D项符合。  
故本题选D。

17、(单选题)

正确答案是： C

解析：

由三个集合的容斥原理公式可知，为使会两种运动的人数最多，则应让只会一种运动的人数和会三种运动的人数最少，都为0。设会打篮球和会游泳的人数、会打篮球和会踢足球的人数、会游泳和会踢足球的人数分别是a、b、c，则 $a+b=12$ 、 $a+c=8$ 、 $b+c=10$ ，解得 $a=5$ 、 $b=7$ 、 $c=3$ ，则至多有 $5+7+3=15$ 人会两种运动。

故本题选C。

#### 18、(单选题)

正确答案是： D

解析：

保证在不找零的情况下凑出12元。考虑最不利原则：2个空的全部取出，8个10元的全部取出，再取出2个1元的，即可以凑出12元不找零的情况，即最少要取出 $2+8+2=12$ 个信封。

故本题选D。

#### 19、(单选题)

正确答案是： C

解析：

设该商品成本为100元，原销量为1件，则利润为 $100 \times 25\% = 25$ 元，则原定价为 $100 + 25 = 125$ 元。原定价的90%为 $125 \times 90\% = 112.5$ 元，此时销量为2.5件，利润为 $(112.5 - 100) \times 2.5 = 31.25$ 元，总利润比降价前增加了 $(31.25 - 25) \div 25 \times 100\% = 6.25 \div 25 \times 100\% = 25\%$ 。

故本题选C。

#### 20、(单选题)

正确答案是： B

解析：

设加固工程的工作量为1800（360和300的最小公倍数），则甲公司每小时的工作效率为5，乙公司每小时的工作效率为6。因此两公司合作，每天只工作8小时，则完成加固工程需要 $1800 \div (5+6) \div 8 \approx 20.45$ 天，即在第21天完成，可提前 $30 - 21 = 9$ 天完成。

故本题选B。

21、(单选题)

正确答案是： A

解析：

原数列满足如下规律： $a_{n+1} = (n+1) a_n - n$  ( $n \in \mathbb{N}^+$ )，即 $3=2 \times 2 - 1$ ， $7=3 \times 3 - 2$ ， $(25=4 \times 7 - 3)$ ， $121=5 \times 25 - 4$ ， $721=6 \times 121 - 5$ 。  
故本题选A。

22、(单选题)

正确答案是： C

解析：

题干论点：这种引人注目的图案无疑反映了许多日本收藏家对他们在19世纪印象派绘画中发现的某种美学特殊偏好。论据：20世纪80年代，日本收藏家在欧洲艺术品市场上非常活跃，尤其是19世纪印象派绘画的购买者。

A项讲的是印象派绘画的流行时间，与日本收藏家对印象派绘画的偏好无关，排除。

B项讲的是日本和世界各地的收藏家对绘画雕版画的购买，与日本收藏家对印象派绘画的偏好无关，排除。

C项指出一些十九世纪的印象派画家采用了日本版画中的某些技术和视觉效果，日本收藏家偏好印象派绘画可能是因为发现了这一点，能够支持论点。

D项讲的是印象派画作的价格，与日本收藏家对印象派绘画的偏好无关，排除。

故本题选C。

23、(单选题)

正确答案是： B

解析：

翻译题干信息，成功减肥 $\rightarrow$ 合理的饮食 $\wedge$ 适当的锻炼。

A项“通过合理的饮食和适当的锻炼”肯定题干后件，无法推出确定性结论，排除。

B项翻译为：成功减肥 $\rightarrow$ 合理的饮食 $\wedge$ 适当的锻炼，与题干推出关系一致。C项翻译为： $\neg$ 成功减肥 $\rightarrow$ 合理的饮食 $\wedge$ 适当的锻炼，“ $\neg$ 成功减肥”否定题干前件，不能推出确定性结论，排除。

D项翻译为：成功减肥 $\rightarrow$ 不一定合理的饮食 $\wedge$ 适当的锻炼，与题干推出关系不一致，排除。



故本题选B。

24、(单选题)

正确答案是： B

解析：

题干论点：O公司的员工比P公司的员工发生工伤事故的可能性要小。论据：O公司和P公司每周工作时间相同的员工人数相同。根据各公司的记录，去年O公司的员工发生的工伤事故的人数比P公司少。

A项P公司的员工因工伤事故而损失的时间比O公司的员工多与题干论点无关，排除。

B项P公司比O公司考虑更多类型的工伤，所以P公司的员工发生的工伤事故的人数要多，而不是O公司的员工比P公司的员工发生工伤事故的可能性要小，最能质疑题干论点。

C项P公司的员工比O公司的员工更经常生病与题干论点无关，排除。

D项O公司大多数与工作有关事故都与一台机器有关，说明O公司的员工工伤事故与一台机器有关，与题干论点无关，排除。

故本题选B。

25、(单选题)

正确答案是： D

解析：

本题考查模态命题，“不可能所有的学生都会这道题”意思最接近的是“必然有的学生不会这道题”。故本题选D。

26、(单选题)

正确答案是： D

解析：

题干现象：受益于海豚喂养计划的成年海豚是健康长寿的，但它们的后代的寿命比那些野生海豚的后代要低。

A项在海滩以外的公海中，捕食海豚的鲨鱼比在其他海豚聚集的公海地区要少，则它们的后代的寿命应该更高，不能解释。

B项许多在海滩觅食的成年海豚都是母海豚，在那里哺育后代与题干现象无关，不能解释，排除。

C项在海滩上给海豚吃的鱼和海豚在野外捕捉到的鱼是同一品种与题干现象无关，不能解释，排除。

D项说明在海滩觅食的成年海豚的后代捕鱼能力差，导致寿命低，最能解释题干现象。

故本题选D。

27、(单选题)

正确答案是： B

解析：

题干论点：尽管大多数就业机会在经济衰退时减少，但在政府资助的学校获得一份教师工作并不会因为经济衰退而变得更加困难。论据：V国刚刚提出了一项法律要求，在政府资助的学校里，学生和老师的比例不能超过一定的限制。所有的V国儿童都有权在这些学校接受免费教育。当经济衰退发生，平均收入下降时，入读政府资助学校的孩子数量往往会增加。

A项在V国是否有非政府资助的学校为学生提供免费教育不能证明在政府资助的学校获得一份教师工作并不会因为经济衰退而变得更加困难，排除。

B项在经济衰退期间，申请政府资助学校教学职位的合格人数是否大幅增加决定在政府资助的学校获得一份教师工作是否会因为经济衰退而变得更加困难，最有助于评估这段论述的正确性。

C项目前V国政府资助学校的师生比例是多少与题干论点无关，排除。

D项V国的劳动人口目前在政府资助的学校担任教师的比例是多少与题干论点无关，排除。

故本题选B。

28、(单选题)

正确答案是： A

解析：

“竹外桃花三两枝，春江水暖鸭先知”出自苏轼的《惠崇春江晚景二首》，A项“遥知不是雪，为有暗香来”出自王安石的《梅》。

B项“明月几时有，把酒问青天”出自苏轼的《水调歌头》，排除。

C项“南朝四百八十寺，多少楼台烟雨中”出自杜牧的《江南春》，排除。

D项“红豆生南国，春来发几枝”出自王维的《相思》，排除。

故本题选A。

29、(单选题)

正确答案是： A

解析：

“蝮蛇螫手，壮士解腕”意思是手腕被腹蛇咬伤，便立即截断，以免毒液延及全身，危及生命，比喻事到紧要关头，必须下决心当机立断，二者为因果关系；A项城门失火与殃及池鱼为因果关系。

B项黄道吉日指“诸事皆宜的日子”，良辰美景指“美好的时光与景物”，二者不为因果关系，排除。

C项鹿死谁手指“在竞赛中不知谁会取得最后的胜利”，花落谁家指“问谁是获胜一方，常用于体育比赛项目”，二者不为因果关系，排除。

D项得心应手指“技艺纯熟”，左右逢源指“做事情得心应手，怎么进行都很顺利”，二者不为因果关系。排除。

故本题选A。

30、(单选题)

正确答案是： D

解析：

郑州火车站属于火车站，郑州火车站是特称；D项胡夫金字塔属于金字塔，胡夫金字塔是特称。

A项冰箱与格力空调无明显联系，排除。

B项黑巧克力与白巧克力为反对关系，排除。

C项货船属于轮船，货船不是特称，排除。

故本题选D。