

材料：

某市三甲医院分科室出院和治愈人数（单位：人）

| 科 室 | 甲医院  |      | 乙医院  |      | 丙医院  |      | 丁医院  |      |
|-----|------|------|------|------|------|------|------|------|
|     | 出院人数 | 治愈人数 | 出院人数 | 治愈人数 | 出院人数 | 治愈人数 | 出院人数 | 治愈人数 |
| 内 科 | 880  | 290  | 350  | 108  | 1200 | 432  | 930  | 353  |
| 外 科 | 320  | 294  | 420  | 380  | 860  | 817  | 580  | 550  |
| 妇 科 | 320  | 265  | 840  | 749  | 450  | 382  | 280  | 235  |
| 儿 科 | 130  | 118  | 580  | 545  | 350  | 301  | 240  | 197  |
| 合 计 | 1650 | 967  | 2190 | 1782 | 2860 | 1932 | 2030 | 1335 |

1、(单选题)

治愈率是指治愈人数与出院人数之比，外科的治愈率在以下哪个范围内？（ ）

- A：30%～50%
- B：50%～70%
- C：70%～90%
- D：90%以上

材料：

某市三甲医院分科室出院和治愈人数（单位：人）

| 科 室 | 甲医院  |      | 乙医院  |      | 丙医院  |      | 丁医院  |      |
|-----|------|------|------|------|------|------|------|------|
|     | 出院人数 | 治愈人数 | 出院人数 | 治愈人数 | 出院人数 | 治愈人数 | 出院人数 | 治愈人数 |
| 内 科 | 880  | 290  | 350  | 108  | 1200 | 432  | 930  | 353  |
| 外 科 | 320  | 294  | 420  | 380  | 860  | 817  | 580  | 550  |
| 妇 科 | 320  | 265  | 840  | 749  | 450  | 382  | 280  | 235  |
| 儿 科 | 130  | 118  | 580  | 545  | 350  | 301  | 240  | 197  |
| 合 计 | 1650 | 967  | 2190 | 1782 | 2860 | 1932 | 2030 | 1335 |

2、(单选题)

妇科和儿科出院人数占4所三甲医院此两科室出院总数比重最小的是（ ）。

- A：甲医院
- B：乙医院
- C：丙医院
- D：丁医院

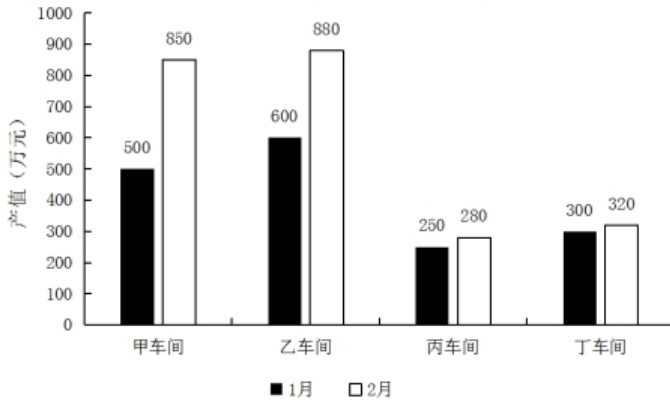
材料：

(三)

某集团公司各车间职工人数、月平均工资情况

|     | 职工人数(人) |      | 月平均工资(元) |      |
|-----|---------|------|----------|------|
|     | 1月      | 2月   | 1月       | 2月   |
| 甲车间 | 500     | 550  | 5000     | 5200 |
| 乙车间 | 600     | 580  | 4500     | 4600 |
| 丙车间 | 300     | 320  | 6000     | 6500 |
| 丁车间 | 200     | 200  | 8000     | 7950 |
| 合计  | 1600    | 1650 | -        | -    |

某集团公司各车间产值情况



:

3、(单选题)

能够从上述资料中推出的是 ( )。

- A : 1月份人均产值最大的是乙车间
- B : 除丙车间外, 2月份各车间的人均产值都有所上升
- C : 2月份丁车间的人均产值低于整个集团公司的人均产值
- D : 与上个月相比较, 整个集团公司的工资增长率低于产值增长率

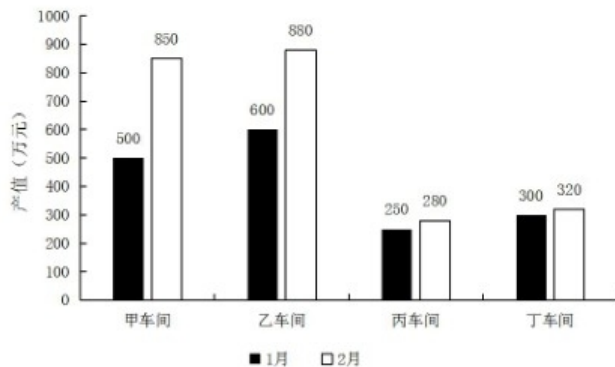
材料:

(一)

某集团公司各车间职工人数、月平均工资情况

|     | 职工人数(人) |      | 月平均工资(元) |      |
|-----|---------|------|----------|------|
|     | 1月      | 2月   | 1月       | 2月   |
| 甲车间 | 500     | 550  | 5000     | 5200 |
| 乙车间 | 600     | 580  | 4500     | 4600 |
| 丙车间 | 300     | 320  | 6000     | 6500 |
| 丁车间 | 200     | 200  | 8000     | 7950 |
| 合计  | 1600    | 1650 | -        | -    |

某集团公司各车间产值情况



:

4、(单选题)

与上月相比，2月份工厂的总产值增长了百分之几？（ ）

- A : 28%
- B : 32%
- C : 41%
- D : 48%

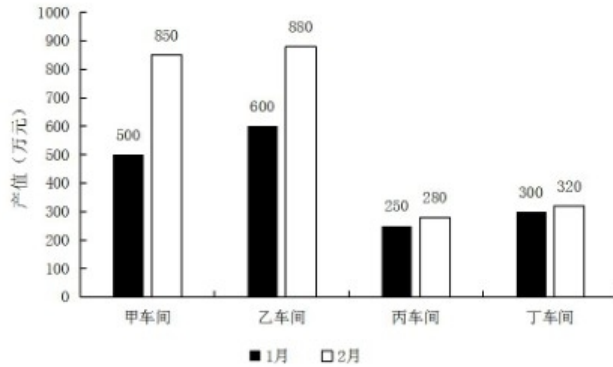
材料:

(一)

某集团公司各车间职工人数、月平均工资情况

|     | 职工人数(人) |      | 月平均工资(元) |      |
|-----|---------|------|----------|------|
|     | 1月      | 2月   | 1月       | 2月   |
| 甲车间 | 500     | 550  | 5000     | 5200 |
| 乙车间 | 600     | 580  | 4500     | 4600 |
| 丙车间 | 300     | 320  | 6000     | 6500 |
| 丁车间 | 200     | 200  | 8000     | 7950 |
| 合计  | 1600    | 1650 | -        | -    |

某集团公司各车间产值情况



:

5、(单选题)

2月工资总额与产值比率最大的车间（ ）。

- A : 甲车间
- B : 乙车间
- C : 丙车间
- D : 丁车间

6、(单选题)

( ) 对于 探月 相当于 北斗三号 对于 ( )

- A : 玉兔二号 通信
- B : 嫦娥四号 导航
- C : 长征五号 短信
- D : 绕月卫星 授时

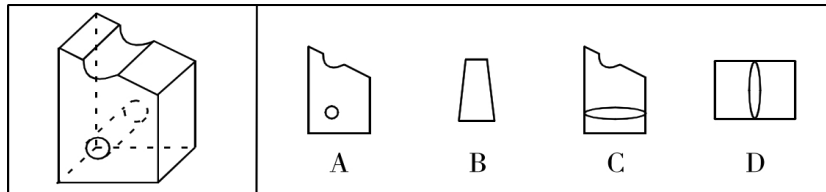
7、(单选题)

和谐 对于 ( ) 相当于 谦虚 对于 ( )

- A : 强硬蛮横 安分守己
- B : 融洽无间 夜郎自大
- C : 波澜不惊 虚怀若谷
- D : 动荡不安 趾高气扬

8、(单选题)

左图为某一零件的立体图形，右边哪一项不属于该立体图形的截面图？ ( )



- A : A
- B : B
- C : C
- D : D

9、(单选题)

大豆 : 豆油 : 压榨

- A : 茶叶 : 茶水 : 冲泡
- B : 水泥 : 房屋 : 建造
- C : 布料 : 成衣 : 缝制
- D : 太阳 : 阳光 : 辐射


10、(单选题)

青年人：公务员：服务人民

- A：当代史：革命史：史海耕耘
- B：下农村：进工厂：劳动锻炼
- C：创业者：劳动者：市场打拼
- D：大学生：志愿者：奉献社会

11、(单选题)

把下面的六个图形分为两类，使每一类图形都有各自的共同特征或规律，所给四个选项中分类正确的一项是（ ）。



- A：①②③，④⑤⑥
- B：①②④，③⑤⑥
- C：①②⑤，③④⑥
- D：①⑤⑥，②③④

12、(单选题)

固根基：扬优势：补短板

- A：清谈客：奋斗者：泥菩萨
- B：勤思考：爱劳动：学习好
- C：涉险滩：破坚冰：攻堡垒
- D：有政治：有形象：有人格

13、(单选题)

和衷共济：和合共生

- A：如临深渊：如履薄冰
- B：或为玉碎：或为瓦全

- C : 不入虎穴:焉得虎子
- D : 锲而不舍:金石可镂

14、(单选题)

栉风:沐雨

- A : 门当:户对
- B : 东山:再起
- C : 万里:长城
- D : 助人:为乐

15、(单选题)

蛛丝马迹:鸟迹虫丝

- A : 寒酸落魄:寒心酸鼻
- B : 堆玉积金:屯粮积草
- C : 冰肌玉骨:劲骨丰肌
- D : 挨冻受饿:担饿受冻

16、(单选题)

摇曳:晃动

- A : 自满:自谦
- B : 翻天覆地:一成不变
- C : 悲痛:欲绝
- D : 顺风转舵:见机行事

17、(单选题)

研究人员发现，全球温室气体排放或使得澳大利亚森林火灾成为一种常态。

以下哪项如果为真，最能支持上述结论？（ ）

- A：澳大利亚森林火灾将产生大量温室气体排放
- B：澳大利亚森林火灾是在高温、干燥、少雨和强风的共同作用下形成
- C：澳大利亚与美国西部、加拿大等一样存在高温、干燥、少雨和强风气候条件
- D：如果不对温室气体排放做出限制，将使得陆地气温持续上升，陆地气温上升容易发生火灾

18、(单选题)

有备：无患

- A：有口：无心
- B：前赴：后继
- C：苦尽：甘来
- D：有眼：无珠

19、(单选题)

人体在37℃左右的时候，能够使用最小的动力来维持身体需求的平衡。也就是说，人类在37℃时通过获取少量的能量，就能达到最大的行动力。因此，一个多世纪以来，37℃一直被当作人类健康的体温标准。然而日前一项研究却揭示，在过去的一个世纪，正常状态下人类的体温越来越低了，约每10年下降0.03℃。

以下哪项如果为真，最不能支持上述结论？（ ）

- A：温度计制造技术的逐步发展使得测量数据变得越来越精细
- B：现代生活方式降低了人类劳动强度，导致新陈代谢率下降
- C：现代医学的进步降低了人类患病频次，炎症反应逐渐减少
- D：温室效应引发全球气温上升，迫使人类自降体温对抗炎热

20、(单选题)

研究表明，锻炼对人类大脑有积极作用，如果坚持锻炼，阿尔茨海默症等神经退行性疾病的发病风险就会降低。

由此可以推出（ ）。

- A：人类大脑如果不进行锻炼，阿尔茨海默症等神经退行性疾病的发病风险就会进一步提高
- B：如果没有降低阿尔茨海默症等神经退行性疾病的发病风险，那一定是没有坚持锻炼
- C：如果阿尔茨海默症等神经退行性疾病的发病风险降低了，那么就一定是坚持锻炼的结果
- D：是否坚持锻炼，直接决定了阿尔茨海默症等神经退行性疾病的发病风险能否得到降低

21、(单选题)

辟谣有时会使受众将谣言错记为“事实”，其中原因之一是受众遗忘了谣言的反驳信息，即事实幻觉效应。为了避免这一认知错觉，可以采用“反驳改述谣言”的方法，即辟谣者可以将谣言改述为否定句式，再进行反驳。

根据以上描述，下列属于“反驳改述谣言”的是（ ）。

- A：药品X是危险的，这是谣言
- B：有节制的吸烟不易致癌，这不是谣言
- C：食用野兔等野生动物安全，这不是谣言
- D：即便少量饮酒也不利于健康，这是谣言

22、(单选题)

类别化是指个体对自身或他人在社会中所处位置的感知和判断，这种感知和判断不仅基于现实社会中社会体制的不同分类标准，也基于自身与他人的社会比较过程。类别化分为社会类别化和自我类别化。社会类别化是个体基于共享的相似性把他人分为不同群体类别的主观心理过程。自我类别化指个体从独立个体到群体成员的过程是通过类别化而得以实现的，是通过“去个性化”实现对群体的归属和成员身份的定位。根据上述定义，下列属于自我类别化的是（ ）。

- A：只要每个人的素质提高了，我们整个国民的素质也就自然提高了，因此，重要的是首先好自己
- B：小明打算应聘公司某职位，而其父母则认为他更适合做公务员
- C：同学们都说小倩长得像明星，做主播肯定有前途
- D：王医生常常为自己所从事的职业感到无比自豪

23、(单选题)

筚路蓝缕：艰辛

- A：焦金流石：干燥



- B : 伏虎降龙:强大
- C : 毕雨箕风:简陋
- D : 集萤映雪:夏夜

24、(单选题)

情绪惰性，是指个体当前情绪状态能被之前情绪状态所预测的程度，预测程度越大则反映情绪惰性水平越高，情绪惰性作为情绪动态性指标之一反映了情绪变化的速度。

根据上述定义，下列情形属于情绪惰性的是（ ）。

- A : 冬季往往容易使人情绪低落，所以这个冬天也不会例外
- B : 调皮的小铭被老师批评之后终于老实了，随后几天都一直规规矩矩的
- C : 自从万师傅的老伴儿半年前去世后他就一直很忧郁，估计一时半会儿好不起来
- D : 自从首长做了战时动员令之后，整个工厂的工人都保持着激昂的心情努力生产

25、(单选题)

闯入性思维是指一些非自主的、反复出现的、无规律的进入个体大脑的干扰性想法，会造成一系列适应问题并诱发负面情绪，包括焦虑、抑郁和强迫症等。

根据上述定义，属于闯入性思维的是（ ）。

- A : 一想到完不成销售任务所带来的负面后果，小程都感到一阵阵的沮丧
- B : 每到年底，在外地工作的小孟都要为回不回老家过年而纠结，并因此而情绪烦躁
- C : 这段时期股市波动较大，股民老张的心情也像股票指数一样起伏难料，焦虑至极
- D : 小强在上课的时候，头脑中总是出现网络游戏的画面，这让他很难静下心来学习

26、(单选题)

护士:输液

- A : 策划:文案
- B : 园丁:教师
- C : 主持人:晚会
- D : 钢琴家:演奏

27、(单选题)

社交焦虑障碍，是指个体在可能受到他人审视的一种或多种社交环境中存在持久的强烈恐惧和回避行为。

根据上述定义，下列情形属于社交焦虑障碍的是（ ）。

- A：大强因为担心被父母催婚，今年春节决定不回家过年
- B：小杨一想到下周要当众发言，紧张得一连几天都睡不好觉
- C：随着演讲比赛日期的临近，王刚的焦虑和压力也与日俱增，最后他干脆放弃了
- D：尽管已经获得了公务员招录面试资格，但考虑到排名靠后再加上自己一贯不善于表达，苏决定放弃这次机会

28、(单选题)

内核：硬核

- A：声波：光波
- B：价值：价格
- C：水波：秋波
- D：症结：原因

29、(单选题)

员工绿色行为是指组织中员工展现的一系列旨在保护生态环境，降低个人活动对自然环境造成负面影响的行为，这些行为是组织正式绿色管理计划的重要补充，能提高组织绿色管理措施的效率，最终有利于环境的可持续发展。

根据上述定义，下列属于员工绿色行为的是（ ）。

- A：部门经理经常利用废纸打印一些非正式文件
- B：公司员工自觉遵守公司关于垃圾分类的规定
- C：办公室的一位女员工宁愿忍受高温也不愿开冷气，她认为这样更健康
- D：公司保洁员经常把垃圾箱内的废塑料瓶收集起来，下班时顺便带回家

30、(单选题) 反生产力工作行为是指员工应对通常工作压力情境以及缓解其负面情绪体验,有意从事对组织或其成员有所损害的冲动性适应行为,并对组织具有广泛的不利影响。根据上述定义,下列属于反生产力工作行为的是( )。

- A : 过高的物价使得民众难以承受,纷纷聚集到市政厅进行抗议
- B : 新部门工作节奏较快,小孙因工作压力过大只好请假不去上班
- C : 为反对公司要求每天工作14小时的规定,很多员工开始磨洋工
- D : 小李被领导批评后很不服气,偷偷将单位机密散布到网上,给单位带来了巨大损失

1、(单选题)

正确答案是: D

解析:

本题考查现期比重。

第一步:查找相关材料。题干命题点的对应材料在表格第四行数据,即各医院妇科出院和治愈人数。

第二步:根据已知条件解题。外科治愈率为 $\frac{294+380+817+550}{320+420+860+580} \times 100\% \approx \frac{2050}{9200} \times 100\% \approx 93.2\% > 90\%$ 。

故本题选D。

2、(单选题)

正确答案是: A

解析:

本题考查比重比较。

第一步:查找相关材料。题干命题点的对应材料在表格第五、六行数据,即各医院妇科、儿科出院人数。

第二步:根据已知条件解题。比较比重大小,只需比较各医院妇科、儿科出院总人数大小即可。甲医院妇科和儿科出院人数为 $320+130=450$ 人,乙医院为 $840+580=1420$ 人,丙医院为 $450+350=800$ 人,丁医院为 $280+240=520$ 人。综上,妇科和儿科出院人数占4所三甲医院此两科室出院总数比重最小的是甲医院。

故本题选A。

3、(单选题)

正确答案是: D

解析：

本题考查综合分析。

A项错误：根据表格和柱形图可知，1月份乙车间人均产值为 $600 \div 600 = 1$ 万元，丁车间为 $300 \div 200 = 1.5$ 万元。因此1月份人均产值最大的并非乙车间，排除。

B项错误：根据表格和柱形图可知，2月份丙车间人均产值为 $280 \div 320 = 0.875$ 万元，高于1月份（ $250 \div 300 \approx 0.83$ 万元），即丙车间人均产值上升，排除。

C项错误：根据表格和柱形图可知，2月份丁车间的人均产值为 $320 \div 200 = 1.6$ 万元，整个集团公司的人均产值为

$(850 + 880 + 280 + 320) \div 1650 = 2330 \div 1650 \approx 1.4$ 万元，前者高于后者，排除。

D项正确：根据表格和柱形图可知，1月份整个集团公司的工资为 $500 \times 5000 + 600 \times 4500 + 300 \times 6000 + 200 \times 8000 = 8600000$ 元，2月份为 $550 \times 5200 + 580 \times 4600 + 320 \times 6500 + 200 \times 7950 = 9198000$ 元，则2月份

整个集团公司的工资环比增长率为 $\frac{9198000 - 8600000}{8600000} \times 100\% = \frac{598}{8600} < 10\%$ ；根据该篇资料分析第4小题可知，2月份整个集团公司的产值环比增长率为 $41\% > 10\%$ ，即整个集团公司的工资增长率低于产值增长率，当选。

故本题选D。

#### 4、(单选题)

正确答案是： C

解析：

本题考查基础增长率。

第一步：查找相关材料。题干命题点的对应材料在柱形图，即1、2月份4个车间的总产值。

第二步：根据已知条件解题。1月份工厂的总产值为

$500 + 600 + 250 + 300 = 1650$ 万元，2月份工厂的总产值为

$850 + 880 + 280 + 320 = 2330$ 万元，因此与上月相比，2月份工厂的总产值增

长了 $\frac{2330 - 1650}{1650} \times 100\% = \frac{68}{165} \times 100\% \approx 40\%$ ，C项与之最接近。

故本题选C。

#### 5、(单选题)

正确答案是： C

解析：

本题考查比值比较。

第一步：查找相关材料。题干命题点的对应材料在表格和柱形图，即4个车间2月职工人数、月平均工资和产值。

第二步：根据已知条件解题。甲车间2月工资总额与产值的比率为 $\frac{550 \times 5200}{850 \times 10^4}$

$\times 100\% = \frac{286}{850} \times 100\%$ ，乙车间为 $\frac{580 \times 4600}{880 \times 10^4} \times 100\% \approx \frac{267}{880} \times 100\%$ ，丙车间为

$\frac{320 \times 6500}{280 \times 10^4} \times 100\% = \frac{208}{280} \times 100\%$ ，丁车间为 $\frac{200 \times 7950}{320 \times 10^4} \times 100\% = \frac{159}{320} \times 100\%$ 。观

察可知，只有 $\frac{208}{280} \times 100\% > 50\%$ ，因此2月工资总额与产值比率最大的车间为丙车间。

故本题选C。

6、(单选题)

正确答案是： B

解析：

本题考查功能关系。

选项逐一代入。

A项：玉兔二号的主要作用是探月，北斗三号的主要作用不是通信，前后逻辑关系不一致，排除。

B项：嫦娥四号的主要作用是探月，北斗三号的主要作用是导航，前后逻辑关系一致，当选。

C项：长征五号没有探月功能，北斗三号有收发短信的功能，前后逻辑关系不一致，排除。

D项：绕月卫星有探月功能，北斗三号有授时功能，但绕月卫星是泛指，北斗三号是特指，前后逻辑关系不一致，排除。

故本题选B。

7、(单选题)

正确答案是： D

解析：

本题考查反义关系。

选项逐一代入。

A项：谦虚与安分守己无明显联系，排除。

B项：和谐与融洽无间为近义关系，谦虚与夜郎自大为反义关系，前后逻辑关系不一致，排除。

C项：和谐与波澜不惊无明显联系，排除。

D项：和谐与动荡不安为反义关系，谦虚与趾高气扬为反义关系，前后逻辑关系一致，当选。

故本题选D。

8、(单选题)

正确答案是： C

解析：

本题考查空间类截面图。

第一步：观察图形。题干图形是一个不规则的立体图形，且立体图形下部有一个圆柱形孔洞。

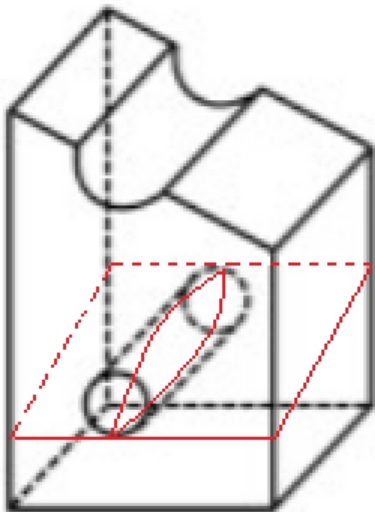
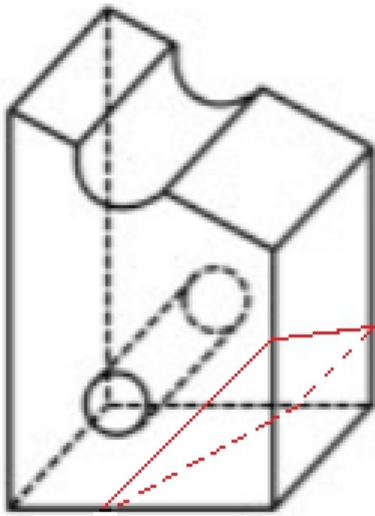
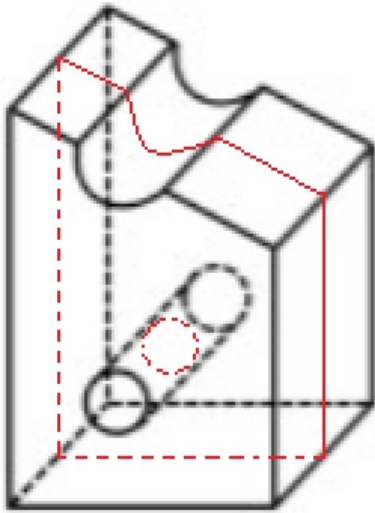
第二步：分析选项，确定答案。

A项：如图所示，沿该立体图形竖直方向进行切割，可得到A项所示截面图，排除。

B项：如图所示，沿该立体图形右下部分进行斜向切割，可得到B项所示截面图，排除。

C项：C项截面图无法通过切割该立体图形得到，当选。

D项：如图所示，沿该立体图形圆柱部分一侧的顶端与另一侧的底端进行斜向切割，可得到D项所示截面图，排除。



故本题选C。

9、(单选题)

正确答案是： C

解析：

本题考查材料关系。

第一步：分析题干词语间的关系。大豆经过压榨变成豆油。

第二步：分析选项，确定答案。

A项：茶叶是茶水的组成部分，排除。

B项：水泥是房屋的组成部分，排除。

C项：布料经过缝制变成成衣，当选。

D项：太阳辐射出阳光，二者不是材料关系，排除。

故本题选C。

10、(单选题)

正确答案是： D

解析：

本题考查交叉关系。第一步：分析题干词语间的关系。青年人与公务员为交叉关系，公务员服务人民。第二步：分析选项，确定答案。A项：当代史与革命史为交叉关系，革命史与史海耕耘无明显联系，排除。B项：下农村与进工厂为反对关系，不是交叉关系，排除。C项：创业者属于劳动者，二者为种属关系，不是交叉关系，排除。D项：大学生与志愿者为交叉关系，志愿者奉献社会，当选。故本题选D。

11、(单选题)

正确答案是： C

解析：

本题考查数量类规律。

第一步：观察图形。题干各图形形状不规则，元素组成不相似，无明显的属性规律，考虑图形间的数量规律。

第二步：分析各组图形的特征。①②⑤图形的部分数均不为1；③④⑥图形的部分数均为1。

故本题选C。

12、(单选题)

正确答案是： C

解析：

本题考查动宾关系。第一步：分析题干词语间的关系。“固根基”“扬优势”“补短板”三者均为动宾结构。第二步：分析选项，确定答案。A项：“清谈客”“奋斗者”“泥菩萨”三者均为偏正结构，排除。B项：“勤思考”“爱劳动”为偏正结

构，“学习好”是主谓结构，排除。C项：“涉险滩”“破坚冰”“攻堡垒”三者均为动宾结构，当选。D项：“有政治”“有形象”“有人格”三者均为动宾结构，但题干三个动词不同，排除。故本题选C。

### 13、(单选题)

正确答案是： A

解析：

本题考查近义词关系。

第一步：分析题干词语间的关系。“和衷共济”比喻同心协力，克服困难；“和合共生”指和谐相处，共同发展。二者为近义词关系。

第二步：分析选项，确定答案。

A项：“如临深渊”与“如履薄冰”均比喻行事极为谨慎，存有戒心，二者为近义词关系，当选。

B项：“或为玉碎”与“或为瓦全”为并列关系，不是近义词关系，排除。 C

项：“不入虎穴”与“焉得虎子”为条件关系，不是近义词关系，排除。 D

项：“锲而不舍”与“金石可镂”为因果关系，不是近义词关系，排除。 故

本题选A。

### 14、(单选题)

正确答案是： A

解析：

本题考查并列关系。第一步：分析题干词语间的关系。“栉风”与“沐雨”为并列关

系。第二步：分析选项，确定答案。A项：“门当”与“户对”为并列关系，当

选。B项：“东山”与“再起”不是并列关系，排除。C项：“万里”修饰“长城”，二

者不是并列关系，排除。D项：“助人”与“为乐”不是并列关系，排除。故本题选

A。

### 15、(单选题)

正确答案是： C

解析：

本题考查类比推理其他关系。

方法一：

第一步：分析题干词语间的关系。“蛛丝马迹”“鸟迹虫丝”两个词语均含有“丝”“迹”二字，且位置互换。

第二步：分析选项，确定答案。

A项：“寒酸落魄”“寒心酸鼻”两个词语均含有“寒”“酸”二字，但位置并未互换，排除。

B项：两个词语中只有一个相同字，且含义相同，排除。



C项：“冰肌玉骨”“劲骨丰肌”两个词语均含有“肌”“骨”二字，且位置互换，当选。

D项：“挨冻受饿”“担饿受冻”两个词语均含有“冻”“受”“饿”三字，排除。

故本题选C。

方法二：

第一步：分析题干词语间的关系。“蛛丝”“马迹”“鸟迹”“虫丝”均为偏正结构。

第二步：分析选项，确定答案。

A项：“寒酸”“落魄”不为偏正结构，排除。

B项：“堆玉”“积金”“屯粮”“积草”均为动宾结构，排除。

C项：“冰肌”“玉骨”“劲骨”“丰肌”均为偏正结构，当选。

D项：“挨冻”“受饿”“担饿”“受冻”均为动宾结构，排除。

故本题选C。

## 16、(单选题)

正确答案是： D

解析：

本题考查近义关系。

第一步：分析题干词语间的关系。摇曳与晃动为近义关系。

第二步：分析选项，确定答案。

A项：自满与自谦为反义关系，排除。

B项：翻天覆地与一成不变为反义关系，排除。

C项：“欲绝”修饰“悲痛”，二者不是近义关系，排除。

D项：顺风转舵与见机行事为近义关系，当选。

故本题选D。

## 17、(单选题)

正确答案是： D

解析：

本题考查加强类。

第一步：分析题干论点论据。

论点：全球温室气体排放或使得澳大利亚森林火灾成为一种常态。

论据：无。

第二步：分析选项，确定答案。

A项：只说明澳大利亚森林火灾将产生大量温室气体排放，没有说明温室气体排放是否会使澳大利亚森林火灾成为常态，与题干无关，无法加强论点，排除。

B项：说明澳大利亚森林火灾是在多种共同作用下形成的，与温室气体排放无关，无法加强论点，排除。

C项：指出澳大利亚的气候条件，没有说明温室气体排放与澳大利亚森林火灾之间的关系，与题干无关，无法加强论点，排除。

D项：指出温室气体排放会使陆地气温升高，导致森林火灾发生，补充解释说明，最能加强题干论点，当选。

故本题选D。

## 18、(单选题)

正确答案是： C

解析：

本题考查条件关系。

第一步：分析题干词语间的关系。有备才能无患，二者为条件关系。

第二步：分析选项，确定答案。

A项：有口与无心为并列关系，不是条件关系，排除。

B项：前赴与后继为并列关系，不是条件关系，排除。

C项：苦尽才能甘来，二者为条件关系，当选。

D项：有眼与无珠为并列关系，不是条件关系，排除。

故本题选C。

## 19、(单选题)

正确答案是： A

解析：

本题考查加强类。

第一步：分析题干论点论据。

论点：在过去的一个世纪，正常状态下人类的体温越来越低了，约每10年下降 $0.03^{\circ}\text{C}$ 。

论据：无。

第二步：分析选项，确定答案。

A项：温度计的测量数据变得越来越精细与人的体温降低无关，无法加强题干论点，当选。

B项：指出人类劳动强度降低导致人体新陈代谢率下降，因而人体体温下降，补充论据加强题干论点，排除。

C项：人类患病频次、炎症反应减少会使人体新陈代谢率下降，进而导致体温下降，补充论据加强题干论点，排除。

D项：说明人体体温下降是全球气温上升所迫使的，解释原因，补充论据加强题干论点，排除。

故本题选A。

## 20、(单选题)

正确答案是： B

解析：

本题考查翻译推理。

第一步：翻译题干信息。坚持锻炼 $\rightarrow$ 发病风险降低。

第二步：分析选项，确定答案。

A项：不进行锻炼否定前件，不能推出否定后件，即发病风险不一定升高，排除。

B项：没有降低发病风险否定后件，可以推出否定前件，即没有坚持锻炼，当选。

C项：发病风险降低肯定后件，不能推出肯定前件“坚持锻炼”，排除。

D项：可分别翻译为：坚持锻炼肯定前件，可以推出肯定后件，即发病风险降低； $\neg$ 坚持锻炼否定①的前件，不能推出确定性结论，即无法决定发病风险能否得到降低，排除。

故本题选B。

## 21、(单选题)

正确答案是： D

解析：

本题考查心理类定义判断。

第一步：分析定义要点。“反驳改述谣言”的定义要点：①将谣言改述为否定句式；②再进行反驳。

第二步：分析选项，确定答案。

A项：没有将谣言改述为否定句式，不符合①，排除。

B项：没有对谣言进行反驳，不符合②，排除。

C项：没有对谣言进行反驳，不符合②，排除。

D项：将谣言改述为否定句式符合①，再进行反驳符合②，符合定义要点，当选。

故本题选D。

22、(单选题)

正确答案是： D

解析：

本题考查心理类定义判断。第一步：分析定义要点。“自我类别化”的定义要点是“通过‘去个性化’实现对群体的归属和成员身份的定位”。第二步：分析选项，确定答案。A项：提高国民素质不是实现对群体的归属和成员身份的定位，不符合定义要点，排除。B项：小明的父母认为他更适合做公务员，是个体基于共享的相似性把他人分为不同群体类别的主观心理过程，符合社会类别化的定义要点，排除。C项：同学们认为小倩适合做主播，是个体基于共享的相似性把他人分为不同群体类别的主观心理过程，符合社会类别化的定义要点，排除。D项：对自己的职业感到自豪，是通过“去个性化”实现对群体的归属和成员身份的定位，符合定义要点，当选。故本题选D。

23、(单选题)

正确答案是： B

解析：

本题考查修饰关系。

第一步：分析题干词语间的关系。“筚路蓝缕”指驾着简陋的柴车，穿着破烂的衣服去开辟山林道路，形容艰辛。

第二步：分析选项，确定答案。

A项：“焦金流石”指把金属烤焦，把石头晒化，形容极其炎热难耐，与干燥无明显联系，排除。

B项：“伏虎降龙”指用威力使猛兽和恶龙屈服，形容强大，当选。

C项：“毕雨箕风”原指民性如星，星好风雨，比喻庶民喜好人主的恩泽，后为颂扬统治者普施仁政之词，与简陋无明显关系，排除。

D项：“集萤映雪”形容家境贫穷，勤学苦读，与夏夜无明显联系，排除。

故本题选B。

24、(单选题)

正确答案是： C

解析：

本题考查心理类定义判断。

第一步：分析定义要点。“情绪惰性”的定义要点是“个体当前情绪状态能被之前情绪状态所预测的程度”。

第二步：分析选项，确定答案。

A项：冬季往往容易使人情绪低落没有体现当前情绪与之前情绪，不符合定义要点，排除。

B项：“老实”“规规矩矩”不是情绪，不符合定义要点，排除。

C项：之前情绪是忧郁，一时半会儿好不起来是当前情绪状态被之前情绪状态预测的程度，符合定义要点，当选。

D项：没有体现之前情绪和预测，不符合定义要点，排除。

故本题选C。

## 25、(单选题)

正确答案是： D

解析：

本题考查心理类定义判断。

第一步：分析定义要点。“闯入性思维”的定义要点是“非自主的、反复出现的、无规律的进入个体大脑的干扰性想法”。

第二步：分析选项，确定答案。

A项：想到完不成销售任务所带来的负面后果不是非自主的、无规律的干扰性想法，不符合定义要点，排除。

B项：为回不回老家过年而纠结不是非自主的、无规律的干扰性想法，不符合定义要点，排除。

C项：股民老张的心情受股票影响，不是非自主的、无规律的干扰性想法，不符合定义要点，排除。

D项：上课时头脑中总是出现网络游戏画面，是非自主的、反复出现的、无规律的进入个体大脑的干扰性想法，符合定义要点，当选。

故本题选D。

## 26、(单选题)

正确答案是： D

解析：

本题考查功能关系。

第一步：分析题干词语间的关系。输液是护士的工作内容，护士输液构成主谓关系。

第二步：分析选项，确定答案。

A项：策划的工作内容是策划文案而不是文案，策划文案构成动宾关系，排除。

B项：园丁与教师均是一种职业，二者为反对关系，园丁可以象征教师，排除。

C项：主持人的工作内容是主持晚会而不是晚会，二者为主宾关系，排除。

D项：钢琴家的工作内容是演奏，钢琴家演奏构成主谓关系，当选。

故本题选D。

## 24、(单选题)

正确答案是： C

解析：

本题考查心理类定义判断。

第一步：分析定义要点。“社交焦虑障碍”的定义要点是“个体在可能受到他人审视的一种或多种社交环境中存在持久的强烈恐惧和回避行为”。

第二步：分析选项，确定答案。

A项：担心被催婚不是持久的强烈恐惧，不符合定义要点，排除。

B项：当众发言是可能受到他人审视的一种社交环境，紧张不是强烈恐惧，也没有回避行为，不符合定义要点，排除。

C项：演讲比赛是可能受到他人审视的一种社交环境，放弃是回避行为，符合定义要点，当选。

D项：考虑到排名靠后且自己不善于表达，不是存在持久的强烈恐惧，不符合定义要点，排除。

故本题选C。

## 28、(单选题)

正确答案是： C

解析：

本题考查象征关系。

第一步：分析题干词语间的关系。内核指操作系统最基本的部分；硬核原指朋克摇滚里一种激烈的音乐风格，后来引申为面向核心受众，有一定难度和欣赏门槛的事物。“核”在内核中为本义，在硬核中具有引申义。

第二步：分析选项，确定答案。

A项：声波指发声体的振动在空气或其他物质中的传播，光波通常指电磁波谱中的可见光，二者为并列关系，“波”在二者中均为本义，指振动的传播，排除。

B项：价格是价值的货币表现，价格围绕价值上下波动，“价”在二者中均为本义，排除。

C项：水波指水的波浪；秋波指秋风中的湖波涟漪，后来秋波也引申为女人的眼睛。“波”在水波中为本意，在秋波中具有引申义，当选。

D项：症结比喻事情弄坏或不能解决的关键，原因指造成某种结果或引起另一件事情发生的条件，二者不含相同的字且无明显联系，排除。

故本题选C。

## 29、(单选题)

正确答案是： A

解析：

本题考查社会类定义判断。

第一步：分析定义要点。“员工绿色行为”的定义要点是“组织中员工展现的一系列旨在保护生态环境、降低个人活动对自然环境造成负面影响的行为”。

第二步：分析选项，确定答案。

A项：用废纸打印非正式文件是旨在保护生态环境，降低个人活动对自然环境造成负面影响的行为，符合定义要点，当选。

B项：垃圾分类属于组织正式绿色管理计划，而非个人行为，排除。

C项：“认为这样更健康”不是旨在保护生态环境、降低个人活动对自然环境造成负面影响的行为，不符合定义要点，排除。

D项：收集废塑料瓶不是旨在保护生态环境、降低个人活动对自然环境造成负面影响的行为，不符合定义要点，排除。

故本题选A。

## 30、(单选题)

正确答案是： D

解析：

本题考查社会类定义判断。第一步：分析定义要点。“反生产力工作行为”的定义要点：①员工应对通常工作压力情境以及缓解其负面情绪体验；②有意从事对组织或其成员有所损害的冲动性适应行为；③对组织具有广泛的不利影响。第二步：分析选项，确定答案。A项：“民众”不是“员工”，不符合①，排除。B项：“因压力大请假不上班”不是对组织或其成员有所损害的冲动性适应行为，不符合②，排除。C项：“磨洋工”不是对组织或其成员有所损害的冲动性适应行为，不符合②，排除。D项：“小李被领导批评后很不服气”符合①，“偷偷将单位机密散布到网上”符合②，“给单位带来了巨大损失”符合③，符合定义，当选。故本题选D。