

材料:

图1 4个城市通勤空间半径与平均通勤距离

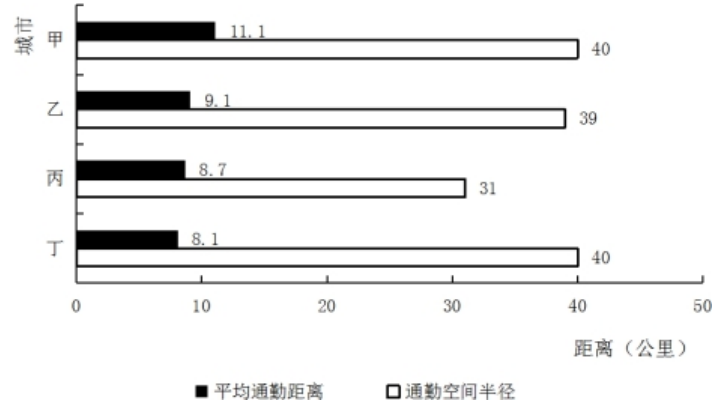
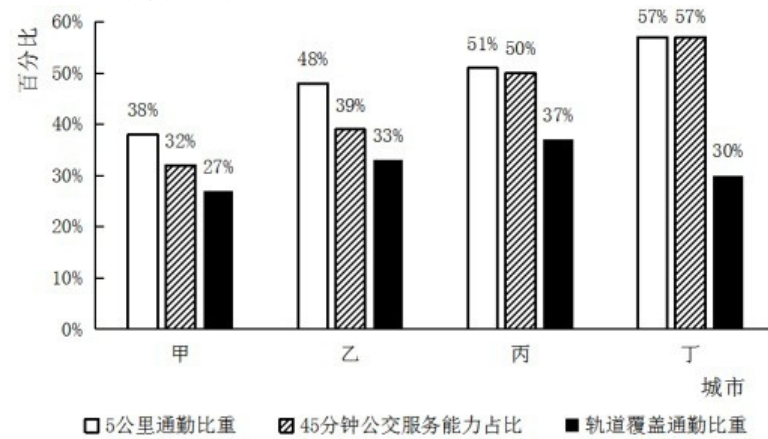


图2 4个城市通勤情况



请回答111~115题。

:

1、(单选题)

如果5公里内可采用步行或自行车等绿色出行方式上班，超过半数的通勤人口可以采用绿色出行方式上班的城市有（ ）。

- A: 甲市和乙市
- B: 甲市和丙市
- C: 乙市和丁市
- D: 丙市和丁市

材料:

图1 4个城市通勤空间半径与平均通勤距离

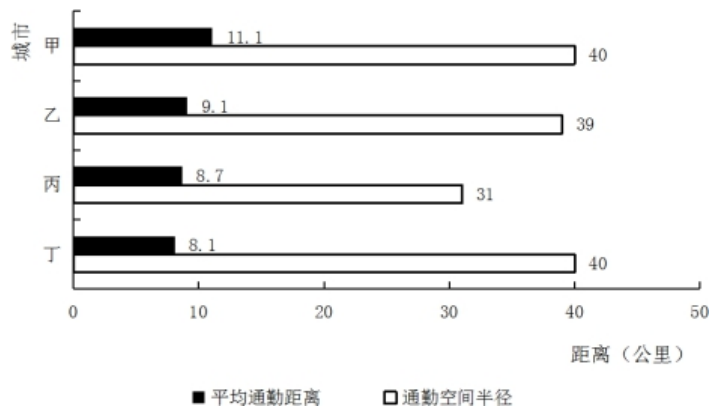
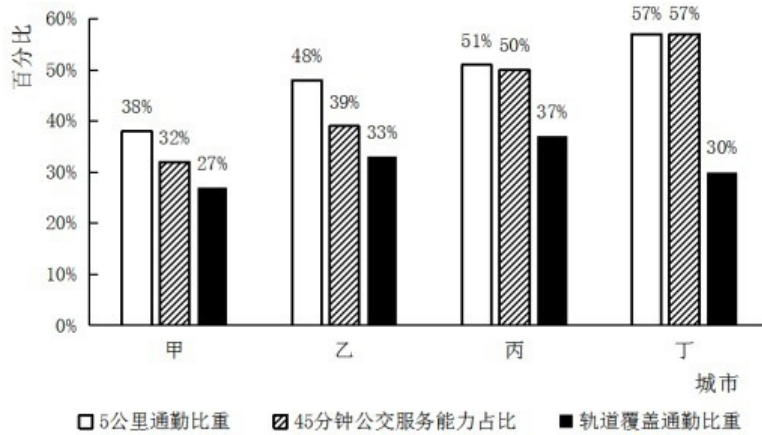


图2 4个城市通勤情况



请回答111~115题。

:

2、(单选题)

平均通勤距离超过了4个城市平均值的有 ( )。

- A: 1个城市
- B: 2个城市
- C: 3个城市
- D: 4个城市

材料:

图1 4个城市通勤空间半径与平均通勤距离

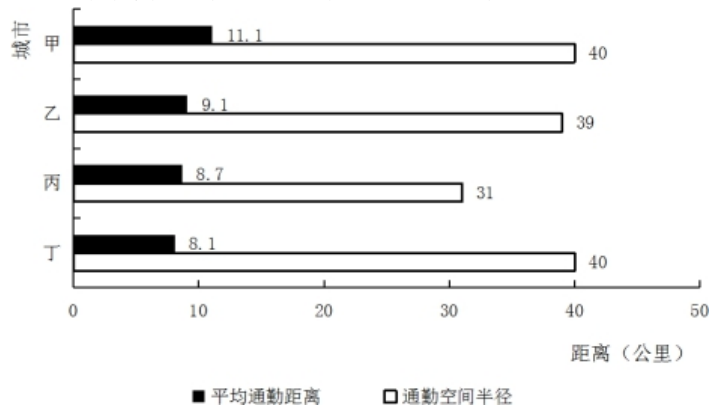
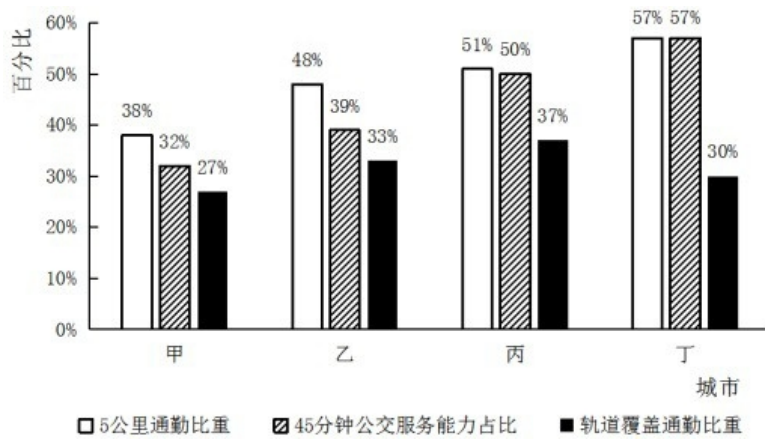


图2 4个城市通勤情况



请回答111~115题。

:

3、(单选题)

在4个城市中，就业地和居住地最不匹配的是（ ）。

- A: 甲
- B: 乙
- C: 丙
- D: 丁

4、(单选题)

我国新冠肺炎疫情防控工作的总要求是（ ）。

- A: 人民利益高于一切
- B: 外防输入，内防反弹
- C: 统一领导、统一指挥、统一行动
- D: 坚定信心、同舟共济、科学防治、精准施策

5、(单选题)

有研究发现，低脂饮食的男性比其他男性更易患上睾酮缺乏症。

以下哪项如果为真，最能支持上述结论？（ ）

- A: 试验发现采用地中海饮食的低脂餐谱的男性比其他男性的睾酮水平偏低
- B: 睾酮缺乏会出现精力下降、睡眠障碍和脱发等各种健康问题
- C: 为了减肥而控制饮食的男性可能会使睾酮水平升高
- D: 肥胖会使得男性容易出现睾酮缺乏症，而采用低脂饮食的男性可以减肥

6、(单选题)

直接歧视，是指某个行为具有直接的针对性，对于具备不同性别、种族、肤色、年龄以及其他非自我选择特征的人来说有显性的区别对待效果。间接歧视，是指某个看似中立，不针对任何人的行为，却实实在在地在具备不同性别、种族、肤色、年龄以及其他非自我选择特征的人之间造成了区别对待的结果。

根据上述定义，下列属于间接歧视的是（ ）。

- A：小王是某企业女职工，在一次升为部门经理的考核中，公司最后因为她性格过于柔软绝对对其升职
- B：某企业要求所有员工都必须定期参加体能训练，后来企业女职工坚持不下来，纷纷离结果该企业成为了著名的“光棍”企业
- C：消防队以便于防火为由，禁止消防队员留长发，导致的结果是基本上没有一线女性消防
- D：某企业以员工需要经常加班、对体力要求高为由，明确只招40周岁以下的劳动者入职

7、(单选题)

在高大建筑物顶端安装一根金属棒，并用金属线与埋在地下的金属板连接起来，通过金属棒尖端放电，让云层所带的电和地上的电逐渐中和，以保护建筑物免遭雷击。这种做法应用于管理界时被称为避雷针效应，指事先疏导，防患于未然，引领事态积极发展，即善疏则通，能导必安的管理方法。

根据上述定义，下列做法与避雷针效应无关的是（ ）。

- A：某市推行“全民参与精准找茬”工作破解城市治理盲区漏点，市民怨气少了满意多了
- B：某小区改建车库，物业方广泛地征求了业主的意见，并形成共识，使该工程顺利推进
- C：某地实行“有事好商量”协商议事工作法，解决大量群众关心的事，化解了社会矛盾
- D：某公司将召开员工发展问题研讨会，要求部门主管会前要调查掌握员工发展需求

8、(单选题)

近年来，春晚愈发注重\_\_\_\_\_传统文化魅力，表达时代关切和人文情怀。在这每年一度的大联欢中，喜气祥和的人情味，\_\_\_\_\_中国传统文化的和谐观，春晚早已成为中国“家和万事兴”文化情结的有效载体。

依次填入划横线部分最恰当的一项是（ ）。

- A：挖掘 契合
- B：培育 承载
- C：拓展 勾勒
- D：展现 传承

9、(单选题)

《中共中央关于坚持和完善中国特色社会主义制度推进国家治理体系和治理能

力现代化若干重大问题的决定》提到“坚持和发展新时代‘枫桥经验’”。“枫桥经验”主要针对的是（ ）。

- A：完善正确处理新形势下人民内部矛盾有效机制
- B：健全有利于更充分更高质量就业的促进机制
- C：实行最严格的生态环境保护制度
- D：健全人民文化权益保障制度

10、(单选题)

下列关于基因工程表述正确的是（ ）。

- A：各种遗传病的基因异常是不同的，同一遗传病的基因异常是相同的
- B：基因治疗就是把缺陷基因诱变成正常基因
- C：基因诊断的基本原理就是DNA分子杂交
- D：一种基因探针能检测水体中的各种病毒

11、(单选题)

近年来，3D电影由于具有非常逼真的视觉效果，而受到人们的广泛喜爱。根据其光学原理，在拍摄和播放3D电影的过程中所必需的设备组合是（ ）。

- A：2台摄影机、2台放映机、2个平行偏振片
- B：3台摄影机、3台放映机、2个平行偏振片
- C：2台摄影机、2台放映机、2个正交偏振片
- D：3台摄影机、3台放映机、2个正交偏振片

12、(单选题)

李某认为某电商平台上的商户所销售服装的外观侵害了其设计著作权，于是通知电商平台对该商户采取删除、屏蔽、断开链接、终止交易和服务等措施。关于李某的上述通知，下列说法正确的是（ ）。

- A：李某只需要提出主张，无须举证，举证商户是否侵权的责任由电商平台和商户承担
- B：李某通知错误，造成商户损失的，李某应当加倍赔偿商户损失

- C: 李某必须提供商户侵权的确切证据
- D: 李某必须提供商户侵权的初步证据

13、(单选题)

延安时期，中国共产党逐步形成了一个“稳定的成熟的领导集体”，这个领导集体成员包括（ ）。

- A: 毛泽东、朱德、刘少奇、周恩来、邓小平
- B: 毛泽东、朱德、刘少奇、周恩来、任弼时
- C: 毛泽东、朱德、刘少奇、周恩来、陈云
- D: 毛泽东、朱德、刘少奇、周恩来、彭德怀

14、(单选题)

习近平总书记在《辩证唯物主义是中国共产党人的世界观和方法论》一文中指出，“学习和运用唯物辩证法，就要反对形而上学的思想方法”。中国古代成语中，就有对形而上学思想的批判，下列成语不属于对形而上学思想批判的是（ ）。

- A: 盲人摸象；刻舟求剑
- B: 缘木求鱼；邯郸学步
- C: 坐井观天；水中捞月
- D: 老骥伏枥；老马识途

15、(单选题)

近年来，陕西着力推动区域协调发展，形成“国家战略引领，三大区域联动”的新格局，“三大区域联动”是指（ ）。

- A: 关中协同创新发展、陕南绿色循环发展、陕北转型持续发展
- B: 关中协同创新发展、陕南绿色循环发展、陕北能源支撑发展
- C: 关中绿色循环发展、陕南协同创新发展、陕北转型持续发展
- D: 关中绿色循环发展、陕南协同创新发展、陕北能源支撑发展

16、(单选题)

下列与动物行为有关的叙述正确的是（ ）。

- A：蜜蜂用蜡筑造蜂房和蜘蛛织网均属本能行为
- B：本能行为不需要通过自然选择而进化
- C：动物的拟态现象不属于防御行为
- D：动物的行为不存在生理基础

17、(单选题)

在“一带一路”国家战略的推动下，中欧班列（长安号）线路发展迅速，该线路从西安出发，开行14个国家、44个城市，实现了欧亚区域全覆盖，目前最远到达（ ）。

- A：巴黎
- B：巴塞罗那
- C：罗马
- D：布鲁塞尔

18、(单选题)

20世纪50年代中期，交通大学部分教职员响应党和国家号召，从上海迁至西安办学，支投祖国的大西北建设，形成了“西迁精神”。“西迁精神”的核心是（ ）。

- A：爱国主义
- B：科教报国
- C：自力更生，艰苦创业
- D：听党话，跟党走

19、(单选题)

下列有关生物知识的表述错误的是（ ）。

- A：但凡影响种群基因频率改变的因素都会影响其进化
- B：基因水平的突变一定会影响生物学习性的改变
- C：鱼类的偶鳍与人的四肢是同源器官
- D：最低等的动物和植物都是单细胞的

材料：

(三)

2019年全国房地产开发投资132194亿元，比上年增长9.9%，增速比上年加快0.4个百分点。其中，住宅投资97071亿元，增长13.9%，增速比上年加快0.5个百分点。2019年，商品房销售面积171558万平方米，比上年下降0.1%。其中，住宅销售面积增长1.5%。办公楼销售面积下降14.7%，商业营业用房销售面积下降15.0%。商品房销售额159725亿元，增长6.5%，增速比上年回落5.7个百分点。其中，住宅销售额增长10.3%，办公楼销售额下降15.1%，商业营业用房销售额下降16.5%。

表1 2019年1~12月份东中西部地区和东北地区房地产开发投资情况

地区	投资额(亿元)	比上年增长(%)		
		住宅	办公楼	商业营业用房
全国总计	132194	97071	9.9	13.9
东部地区	69313	49839	7.7	9.9
中部地区	27588	21439	9.6	14.0
西部地区	30186	21946	16.1	24.7
东北地区	5107	3847	8.2	12.1

表2 2019年1~12月份东中西部和东北地区房地产销售情况

地区	商品房销售面积		商品房销售额	
	绝对数(万平方米)	比上年增长(%)	绝对数(亿元)	比上年增长(%)
全国总计	171558	-0.1	159725	6.5
东部地区	66607	-1.5	83833	5.8
中部地区	50037	-1.3	35505	4.9
西部地区	47410	4.4	34488	10.8
东北地区	7504	-5.3	5899	2.8

:

20、(单选题)

根据上述材料可以推出( )。

- A：2019年商品房销售均价东北地区高于中部地区
- B：2018年东部地区商品房销售面积比西部地区约多3000万平方米
- C：2018年住宅投资占房地产开发投资比重最低的地区是东部地区
- D：如果2017年全国商品房销售均价要与2018年持平，其销售面积应达到163055万平

21、(单选题)

二十八星宿对于古人来说，不仅与军事、农耕等有紧密关系，与文学关系也很密切，所以古代诗文中对于二十八星宿的引用很多，下列诗句中，没有涉及到二十八星宿的是( )。



- A: 二十四桥仍在，波心荡、冷月无声  
 B: 人生不相见，动如参与商  
 C: 迢迢牵牛星，皎皎河汉女  
 D: 七月流火，九月授衣

22、(单选题)

2019年12月4日，中共中央、国务院印发《关于营造更好发展环境支持民营企业改革发展的意见》，充分肯定了我国民营经济的地位和作用，提出了有力举措，为民营企业未来发展指明方向，下列与之相关的说法错误的是（ ）。

- A: 民营企业在推动发展、促进创新、增加就业、改善民生和扩大开放等方面发挥了不可  
 的作用  
 B: 要进一步放开民营企业市场准入和实施公平统一的市场监管制度，保障民营企业平等  
 资源要素  
 C: 支持民营企业发行债券，降低可转债发行门槛  
 D: 对民营企业实行公平竞争审查制度的软性约束

材料:

(三)

2019年全国房地产开发投资132194亿元，比上年增长9.9%，增速比上年加快0.4个百分点。其中，住宅投资97071亿元，增长13.9%，增速比上年加快0.5个百分点。2019年，商品房销售面积171558万平方米，比上年下降0.1%。其中，住宅销售面积增长1.5%。办公楼销售面积下降14.7%，商业营业用房销售面积下降15.0%。商品房销售额159725亿元，增长6.5%，增速比上年回落5.7个百分点。其中，住宅销售额增长10.3%，办公楼销售额下降15.1%，商业营业用房销售额下降16.5%。

表1 2019年1~12月份东中西部地区和东北地区房地产开发投资情况

地 区	投资额 (亿元)	比上年增长 (%)		
		住 宅	住 宅	住 宅
全国总计	132194	97071	9.9	13.9
东部地区	69313	49839	7.7	9.9
中部地区	27588	21439	9.6	14.0
西部地区	30186	21946	16.1	24.7
东北地区	5107	3847	8.2	12.1

表2 2019年1~12月份东中西部和东北地区房地产销售情况

地 区	商品房销售面积		商品房销售额	
	绝对数 (万平方米)	比上年增长 (%)	绝对数 (亿元)	比上年增长 (%)
全国总计	171558	-0.1	159725	6.5
东部地区	66607	-1.5	83833	5.8
中部地区	50037	-1.3	35505	4.9
西部地区	47410	4.4	34488	10.8
东北地区	7504	-5.3	5899	2.8

:

23、(单选题)

2018年房地产投资额最多的地区约为排名第二地区的（ ）。

- A : 2.0倍
- B : 2.5倍
- C : 3.0倍
- D : 3.5倍

材料:

2019年全国房地产开发投资132194亿元，比上年增长9.9%，增速比上年加快0.4个百分点。其中，住宅投资97071亿元，增长13.9%，增速比上年加快0.5个百分点。2019年，商品房销售面积171558万平方米，比上年下降0.1%。其中，住宅销售面积增长1.5%。办公楼销售面积下降14.7%，商业营业用房销售面积下降15.0%。商品房销售额159725亿元，增长6.5%，增速比上年回落5.7个百分点。其中，住宅销售额增长10.3%，办公楼销售额下降15.1%，商业营业用房销售额下降16.5%。

表1 2019年1~12月份东中西部地区和东北地区房地产开发投资情况

地区	投资额(亿元)	比上年增长(%)		
		住宅	办公楼	商业营业用房
全国总计	132194	13.9	14.7	15.0
东部地区	69313	13.9	14.7	15.0
中部地区	27588	13.9	14.7	15.0
西部地区	30186	13.9	14.7	15.0
东北地区	5107	13.9	14.7	15.0

表2 2019年1~12月份东中西部和东北地区房地产销售情况

地区	商品房销售面积		商品房销售额	
	绝对数(万平方米)	比上年增长(%)	绝对数(亿元)	比上年增长(%)
全国总计	171558	-0.1	159725	6.5
东部地区	66607	-1.5	83833	5.8
中部地区	50037	-1.3	35505	4.9
西部地区	47410	4.4	34488	10.8
东北地区	7504	-5.3	5899	2.8

请回答41~45题。

:

24、(单选题)

2019年全国住宅投资占房地产开发投资比重排名第二的地区是（ ）。

- A : 东部地区
- B : 中部地区
- C : 西部地区
- D : 东北地区

材料:

(三)

2019年全国房地产开发投资132194亿元，比上年增长9.9%，增速比上年加快0.4个百分点。其中，住宅投资97071亿元，增长13.9%，增速比上年加快0.5个百分点。2019年，商品房销售面积171558万平方米，比上年下降0.1%。其中，住宅销售面积增长1.5%。办公楼销售面积下降14.7%，商业营业用房销售面积下降15.0%。商品房销售额159725亿元，增长6.5%，增速比

上年回落5.7个百分点。其中，住宅销售额增长10.3%，办公楼销售额下降15.1%，商业营业用房销售额下降16.5%。

表1 2019年1~12月份东中西部地区和东北地区房地产开发投资情况

地区	投资额(亿元)	比上年增长(%)	
		住宅	住宅
全国总计	132194	9.9	13.9
东部地区	69313	7.7	9.9
中部地区	27588	9.6	14.0
西部地区	30186	16.1	24.7
东北地区	5107	8.2	12.1

表2 2019年1~12月份东中西部和东北地区房地产销售情况

地区	商品房销售面积		商品房销售额	
	绝对数(万平方米)	比上年增长(%)	绝对数(亿元)	比上年增长(%)
全国总计	171558	-0.1	159725	6.5
东部地区	66607	-1.5	83833	5.8
中部地区	50037	-1.3	35505	4.9
西部地区	47410	4.4	34488	10.8
东北地区	7504	-5.3	5899	2.8

25、(单选题)

与2018年相比，2019年全国商品房销售均价约( )。

- A: 增长580元
- B: 增长710元
- C: 下降580元
- D: 下降710元

26、(单选题)

传媒艺术产生于19世纪上半叶的摄影术，因此传媒艺术将现代科技对艺术生产作用作为与传统艺术的重要区别之一，正是因为有了光学技术、电子技术、数字技术、人工智能、新媒体技术、数据模型等现代科技，传媒艺术才有了更丰富的艺术表现领域。下列属于传媒艺术的是( )。

- A: 电影艺术
- B: 书法艺术
- C: 草编艺术
- D: 剪纸艺术

材料:

(三)

2019年全国房地产开发投资132194亿元，比上年增长9.9%，增速比上年加快0.4个百分点。其中，住宅投资97071亿元，增长13.9%，增速比上年加快0.5个百分点。2019年，商品房销售面积171558万平方米，比上年下降0.1%。其中，住宅销售面积增长1.5%。办公楼销售面积下降14.7%，商业营业用房销售面积下降15.0%。商品房销售额159725亿元，增长6.5%，增速比上年回落5.7个百分点。其中，住宅销售额增长10.3%，办公楼销售额下降

15.1%，商业营业用房销售额下降16.5%。

表1 2019年1~12月份东中西部地区和东北地区房地产开发投资情况

地 区	投资额（亿元）	比上年增长（%）		
		住 宅		住 宅
全国总计	132194	97071	9.9	13.9
东部地区	69313	49839	7.7	9.9
中部地区	27588	21439	9.6	14.0
西部地区	30186	21946	16.1	24.7
东北地区	5107	3847	8.2	12.1

表2 2019年1~12月份东中西部和东北地区房地产销售情况

地 区	商品房销售面积		商品房销售额	
	绝对数（万平方米）	比上年增长（%）	绝对数（亿元）	比上年增长（%）
全国总计	171558	-0.1	159725	6.5
东部地区	66607	-1.5	83833	5.8
中部地区	50037	-1.3	35505	4.9
西部地区	47410	4.4	34488	10.8
东北地区	7504	-5.3	5899	2.8

:

27、(单选题)

2018年全国房地产开发投资比上年增长（ ）。

- A : 48114 亿元
- B : 11427 亿元
- C : 10436 亿元
- D : 10278 亿元

28、(单选题)

科研人员发现，鸟蛋颜色与温度有极大关联。研究结果显示，在日照强度较低的地方，深色的鸟蛋更常见；而在阳光强度更高、更暖和的区域，鸟蛋颜色普遍更浅。研究小组认为，更深颜色的蛋壳意味着可以吸收更多热量，从而在更寒冷的环境中具有生存优势，因为蛋中胚胎需要稳定的环境温度，但其自身却不具备温度调节能力。

以下哪项如果为真，最能支持上述结论？（ ）

- A : 大杜鹃将自己生的蛋寄宿在一百多种鸟的巢中，为了避免蛋被鸟巢主人赶跑，它们能仿出二十多种色型的鸟蛋
- B : 要孵化出小鸟，适宜的温度十分重要，所以为了保证小鸟能顺利破壳，鸟妈妈只能待里孵蛋，来提高蛋的温度
- C : 将不同品种的鸡蛋放置在阳光中，颜色更深的鸡蛋比浅色鸡蛋升温更快，而且其蛋壳保持较高温度的时间更长
- D : 蛇、乌龟的蛋大多埋在地下，有隐蔽性，所以是白色的，而鸟蛋暴露在环境中，需要和颜色做障眼法迷惑天敌

材料:

某市三甲医院分科室出院和治愈人数（单位：人）

科 室	甲医院		乙医院		丙医院		丁医院	
	出院人数	治愈人数	出院人数	治愈人数	出院人数	治愈人数	出院人数	治愈人数
内 科	880	290	350	108	1200	432	930	353
外 科	320	294	420	380	860	817	580	550
妇 科	320	265	840	749	450	382	280	235
儿 科	130	118	580	545	350	301	240	197
合 计	1650	967	2190	1782	2860	1932	2030	1335

29、(单选题)

下列说法正确的是（ ）。

- A：与其他医院相比，甲医院的总体治愈率最低
- B：乙医院的总体治愈率最高，原因是该医院妇科和儿科的出院人数最多
- C：与其他医院相比，内科治愈率最高的是丙医院
- D：丁医院的儿科治疗水平高于其他医院

材料：

某市三甲医院分科室出院和治愈人数（单位：人）

科 室	甲医院		乙医院		丙医院		丁医院	
	出院人数	治愈人数	出院人数	治愈人数	出院人数	治愈人数	出院人数	治愈人数
内 科	880	290	350	108	1200	432	930	353
外 科	320	294	420	380	860	817	580	550
妇 科	320	265	840	749	450	382	280	235
儿 科	130	118	580	545	350	301	240	197
合 计	1650	967	2190	1782	2860	1932	2030	1335

30、(单选题)

4所三甲医院中治愈率最低的科室是（ ）。

- A：内科
- B：外科
- C：妇科
- D：儿科

1、(单选题)

正确答案是： D

解析：

本题考查查找数据。

第一步：查找相关材料。题干命题点的对应材料在图2，即4个城市的5公里通勤比重。

第二步：根据已知条件解题。只有丙市和丁市的5公里通勤比重超过50%，即丙市（51%）和丁市（57%）超过半数的通勤人口可以采用绿色出行方式上班。

故本题选D。

## 2、(单选题)

正确答案是： A

解析：

本题考查简单计算。

第一步：查找相关材料。题干命题点的对应材料在图1，即4个城市的平均通勤距离。

第二步：根据已知条件解题。4个城市平均通勤距离的平均值为  $(11.1+9.1+8.7+8.1) \div 4=9.25$ 公里，超过该平均值的只有甲市。故本题选A。

## 3、(单选题)

正确答案是： A

解析：

本题考查查找数据。

第一步：查找相关材料。题干命题点的对应材料在图1，即4个城市通勤空间半径与平均通勤距离。

第二步：根据已知条件解题。甲市的通勤空间半径与平均通勤距离均为4个城市中的最高值，因此甲市为4个城市中就业地和居住地最不匹配的城市。

故本题选A。

## 4、(单选题)

正确答案是： D

解析：

2020年2月19日，习近平总书记主持召开中央政治局常委会会议，听取疫情防控工作汇报。会议指出，新冠肺炎疫情发生后，党中央高度重视，习近平总书记时刻关注疫情形势，把疫情防控作为头等大事来抓，亲自指挥、亲自部署，提出坚定信心、同舟共济、科学防治、精准施策的总要求。

故本题选D。

## 5、(单选题)

正确答案是： A

解析：

本题考查加强类。

第一步：分析题干论点论据。

论点：低脂饮食的男性比其他男性更易患上睾酮缺乏症。

论据：无。

第二步：分析选项，确定答案。

A项：指出采用地中海饮食的低脂餐谱的男性比其他男性的睾酮水平偏低，为举例说明，可以加强题干论点，当选。

B项：介绍睾酮缺乏会出现的问题，与低脂饮食是否会使男性更易患上睾酮缺乏症无关，排除。

C项：只指出为了减肥而控制饮食的男性可能会使睾酮水平升高，未提及低脂饮食，与题干话题无关，排除。

D项：指出是肥胖导致更易患上睾酮缺乏症，而低脂饮食是为了减肥，属于因果倒置，削弱题干论点，排除。

故本题选A。

## 6、(单选题)

正确答案是： B

解析：

本题考查社会类定义判断。

第一步：分析定义要点。“间接歧视”的定义要点：①看似中立，不针对任何人的行为；②非自我选择特征的人；③造成了区别对待的结果。

第二步：分析选项，确定答案。

A项：公司因为小王性格过于柔软而拒绝对其升职，为明显的区别对待，不符合①，排除。

B项：要求所有员工都必须定期参加体能训练，为看似中立的行为，符合①，企业女职工坚持不下来，性别生理特征为非自我选择特征，符合②，纷纷离职，符合③，符合定义，当选。

C项：头发的长度可以自我选择，不符合②，排除。

D项：企业明确只招40周岁以下的劳动者入职，为明显的区别对待，不符合①，排除。

故本题选B。

## 7、(单选题)

正确答案是： D

解析：

本题考查管理类定义判断。

第一步：分析定义要点。“避雷针效应”的定义要点：①事先疏导，防患于未然；②引领事态积极发展。

第二步：分析选项，确定答案。

A项：推行“全民参与精准找茬”工作破解城市治理盲区漏点，符合①，市民怨气少了满意多了，符合②，符合定义，排除。

B项：物业方广泛征求业主的意见，形成共识，符合①，该工程顺利推进，符合②，符合定义，排除。

C项：实行“有事好商量”协商议事工作法，符合①，解决大量群众关心的事，化解社会矛盾，符合②，符合定义，排除。

D项：要求部门主管会前要调查掌握员工发展需求，符合①，但未提及是否引领事态积极发展，不符合②，当选。

故本题选D。

8、(单选题)

正确答案是： A

解析：

先看第一空，“培育”指培养教育，“传统文化魅力”是一直存在的，无需培养，排除B项；“拓展”指开拓扩展，无法与“传统文化魅力”搭配，排除C项。再看第二空，“传承”泛指对某某学问、技艺、教义等，在师徒间的传授和继承的过程，无法与“中国传统文化的和谐观”搭配，排除D项。验证A项，“挖掘传统文化魅力”符合搭配，“契合”指投合、符合，此处指春节中的人情味与中国传统文化的和谐观相符合，符合语意。故本题选A。

9、(单选题)

正确答案是： A

解析：

20世纪60年代初，浙江省绍兴市诸暨县（现诸暨市）枫桥镇干部群众创造了“发动和依靠群众，坚持矛盾不上交，就地解决。实现捕人少，治安好”的“枫桥经验”。《决定》指出，完善正确处理新形势下人民内部矛盾有效机制。坚持和发展新时代“枫桥经验”，畅通和规范群众诉求表达、利益协调、权益保障通道，努力将矛盾化解在基层。故本题选A。

10、(单选题)

正确答案是： C

解析：

A项错误，各种遗传病的基因异常是不同的，同一遗传病也可以有不同的基因异常，但这些异常大体可分为基因缺失和突变两大类型。后者包括单个碱基置换、微小缺失或插入。  
B项错误，基因治疗是指将外源正常基因导入靶细胞，以纠正或补偿缺陷和异常基因引起的疾病，以达到治疗目的。并非将缺陷基因诱变成正常基因，且诱变是不定向的，难以保证诱变成正常基因。  
C项正确，基因诊断技术的基本原理是互补的DNA单链能够在一定条件下结合成双链，即能够进行杂交。  
D项错误，基因探针是针对某个特定的序列设计的互补序列，用于检测是否有目标序列的存在，强调的是特异性。因此一个探针只能检测一种病毒。故本题选C。

11、(单选题)

正确答案是： C



解析：

3D电影在拍摄时由两架摄像机各自使用一个镜头从不同角度同时拍摄，制成电影胶片。放映时，通过两个放映机把用两个镜头拍下的两组胶片同步放映，并且每台放映机前装一块偏振镜，且偏振方向相互垂直，放映机发出两束相互垂直的偏振光投射到银幕上再发射给观众，偏振方向不变。观看时，观众佩戴的偏振镜片的偏振方向也是相互垂直的（即正交偏振片），这样左眼只能看到左放映机的画面，右眼只能看到右放映机的画面，两眼看到的画面略有差别，从而产生了立体感。

故本题选C。

## 12、(单选题)

正确答案是： D

解析：

《电子商务法》第42条规定，知识产权权利人认为其知识产权受到侵害的，有权通知电子商务平台经营者采取删除、屏蔽、断开链接、终止交易和服务等必要措施。通知应当包括构成侵权的初步证据。电子商务平台经营者接到通知后，应当及时采取必要措施，并将该通知转送平台内经营者；未及时采取必要措施的，对损害的扩大部分与平台内经营者承担连带责任。因通知错误造成平台内经营者损害的，依法承担民事责任。恶意发出错误通知，造成平台内经营者损失的，加倍承担赔偿责任。

A项错误，李某作为知识产权权利人，应当举证。

B项错误，“造成商户损失的，加倍赔偿商户损失”是“恶意发出错误通知”应承担的责任。

C项错误，D项正确，李某必须提供商户侵权的初步证据。

故本题选D。

## 13、(单选题)

正确答案是： B

解析：

遵义会议是中国共产党从幼年走向成熟的肇始，也是党的领导集体从不稳定、不成熟到稳定、成熟的开端。正如邓小平所指出的：“我们党的领导集体，是从遵义会议开始逐步形成的，也就是毛刘周朱和任弼时同志”“从毛刘周朱开始，中国共产党才真正形成了一个稳定的成熟的领导集体”。“毛刘周朱”即毛泽东、刘少奇、周恩来、朱德。

故本题选B。

## 14、(单选题)

正确答案是： D

解析：

形而上学的思想方法强调用孤立、静止、片面的观点看世界。

A项属于，“盲人摸象”体现的是用片面的眼光看问题；“刻舟求剑”体现的是用静止的眼光看问题，均体现了对形而上学思想的批判。

B项属于，“缘木求鱼”比喻方向或办法不对，不可能达到目的；“邯郸学步”体现的是没有分清矛盾的普遍性与特殊性的区别与联系，体现了对形而上学思想的批判。

C项属于，“坐井观天”体现的是用片面的眼光看待问题；“水中捞月”体现的是没有分清可能性与现实性的辩证关系，均体现了对形而上学思想的批判。

D项不属于，“老骥伏枥”比喻人虽然年老，但仍有雄心壮志；“老马识途”比喻有经验的人对事情比较熟悉，两个成语均没有体现形而上学思想，不属于对形而上学思想的批判。

故本题选D。

## 15、(单选题)

正确答案是： A

解析：

《2019年陕西省政府工作报告》指出，“十三五”期间，关中协同创新发展、陕北转型持续发展、陕南绿色循环发展，三大区域齐发力，塑造陕西高质量发展新格局。

故本题选A。

## 16、(单选题)

正确答案是： A

解析：

A项正确，本能行为即定型行为，主要是由动物的遗传性所决定的，是动物体生下来就有的行为，是先天性行为，蜜蜂用蜡筑造蜂房和蜘蛛织网均由其本身的遗传性所决定，属本能行为。

B项错误，本能行为，即定型行为是对过去环境条件的适应。环境条件是在不断地变化着，定型行为的固定行为型式经过学习而发生改变或补充，就能使行为更加完善，适应性更高。因此，本能行为通过自然选择而进化。

C项错误，拟态现象是指一种生物在形态、行为等特征上模拟另一种生物，从而使一方或双方受益的生态适应现象。动物的拟态很大一部分原因是模拟另一种生物以欺骗敌人、保护自己，属于防御行为。

D项错误，动物的行为表现于动物为维持个体生存和种族延绵的各种活动中，这些活动有的是应答环境因素的刺激所作出的反应，有的起源于机体内部自发的调节变化或生理需要，因此，动物的行为存在生理基础。

故本题选A。

## 17、(单选题)

正确答案是： B

解析：

自2013年开通以来，中欧班列“长安号”已经开设通往德国、匈牙利、芬兰和中亚国家等11条线路，辐射“一带一路”44个共建国家和地区，目前最远到达巴塞罗那。

故本题选B。

### 18、(单选题)

正确答案是： A

解析：

2020年4月22日，习近平总书记在西安交通大学考察时指出，“西迁精神”的核心是爱国主义，精髓是听党指挥跟党走，与党和国家、与民族和人民同呼吸、共命运，具有深刻现实意义和历史意义。

故本题选A。

### 19、(单选题)

正确答案是： B

解析：

A项正确，生物进化的实质是种群基因频率的变化，因此但凡影响种群基因频率改变的因素都会影响其进化。

B项错误，基因突变不一定会引起性状改变。基因突变发生在内含子区域并不会影响生物性状，发生在其他区域则可能影响生物性状。

C项正确，同源器官指不同生物的某些器官在基本结构、与生物体的相互关系以及胚胎发育的过程彼此相同，但在外形上有时并不相似，功能上也有差别，比如鸟的翅膀、蝙蝠的翼手、鲸的胸鳍、狗的前肢以及人的上肢等。

D项正确，最低等的动物是原生动物，它们是由单个细胞构成的，没有神经系统；最低等的植物是藻类，属于单细胞植物。

故本题选B。

### 20、(单选题)

正确答案是： A

解析：

本题考查综合分析。

A项正确：根据表2第五、七行数据可知，2019年东北地区商品房销售均价为

$\frac{5899 \times 10^4}{7504} \approx \frac{5900 \times 10^4}{7500} \approx 7867$ 元/平方米，中部地区为  $\frac{35505 \times 10^4}{50037} \approx \frac{35500 \times 10^4}{50000} = 7100$

元/平方米，前者大于后者，当选。

B项错误：根据表2第四、六行数据可知，2018年东部地区商品房销售面积为 $\frac{66607}{1-1.5\%} \approx 66607+66600 \times 1.5\% = 67606$ 万平方米，西部地区为 $\frac{47410}{1+4.4\%} \approx 47400-47400 \times 4.4\% \approx 45314$ 万平方米，前者比后者多 $67606-45314 \approx 22000$ 万平方米，排除。

C项错误：根据表1可知，2018年东部地区住宅投资占房地产开发投资的比重为 $\frac{49839}{69313} \times \frac{1+7.7\%}{1+9.9\%} \approx \frac{50000}{70000} \times \frac{1+\frac{1}{13}}{1+\frac{1}{10}} \approx 70\%$ ，西部地区为 $\frac{21946}{30186} \times \frac{1+16.1\%}{1+24.7\%} \approx \frac{22000}{30000} \times \frac{1+\frac{1}{6}}{1+\frac{1}{4}} \approx 68.4\%$ ，前者大于后者，排除。

D项错误：根据文字材料可知，2018年全国商品房销售均价为 $\frac{159725}{171558} \times \frac{1-0.1\%}{1+6.5\%} \approx (\frac{160000}{172000} \times \frac{1}{1+6.5\%})$ 万元/平方米，而2019年全国商品房销售额较2017年增长 $6.5\% + (6.5\%+5.7\%) + 6.5\% \times (6.5\%+5.7\%) \approx 19.5\%$ ，则2017年全国商品房销售额为 $\frac{159725}{1+19.5\%} \approx \frac{160000}{1.2}$ 亿元，因此如果2017年全国商品房销售均价要与2018年持平，其销售面积应达到 $\frac{160000}{1.2} \div (\frac{160000}{172000} \times \frac{1}{1+6.5\%}) \approx 152650$ 万平方米，不在误差范围内，排除。

故本题选A。

## 21、(单选题)

正确答案是： A

解析：

A项错误，“二十四桥仍在，波心荡、冷月无声”出自宋代词人姜夔的《扬州慢·淮左名都》，意思是二十四桥依然完好毫无损伤，桥下波心荡漾一弯冷月寂寞，没有涉及到二十八星宿。

B项正确，“人生不相见，动如参与商”出自杜甫的《赠卫八处士》，意思是人生别离不能常相见，经常像西方的参星和东方的商星一样此出彼没，涉及二十八星宿中的“参宿”。

C项正确，“迢迢牵牛星，皎皎河汉女”出自《古诗十九首》，意思是那遥远而亮洁的牵牛星，那皎洁而遥远的织女星，涉及二十八星宿中的“牛宿”。

D项正确，“七月流火，九月授衣”出自《诗经·国风》，意思是农历七月天气转凉的时节，天刚擦黑的时候，可以看见大火星从西方落下去，涉及到二十八星宿中的“心宿”。

故本题选A。

## 22、(单选题)

正确答案是： D

解析：

A项正确，中共中央、国务院印发的《关于营造更好发展环境支持民营企业改革发展的意见》指出，改革开放40多年来，民营企业在推动发展、促进创新、增加就业、改善民生和扩大开放等方面发挥了不可替代的作用。

B项正确，《意见》指出，要进一步放开民营企业市场准入和实施公平统一的市场监管制度，保障民营企业平等获得资源要素。

C项正确，《意见》指出，支持民营企业发行债券，降低可转债发行门槛。

D项错误，《意见》指出，强化公平竞争审查制度刚性约束，严格审查新出台的政策措施，建立规范流程，引入第三方开展评估审查。“软性约束”说法错误。

故本题选D。

### 23、(单选题)

正确答案是： B

解析：

本题考查基期比值。

第一步：查找相关材料。题干命题点的对应材料在表1第二、四列数据，即2019年各地区房地产投资额及其同比增速。

第二步：根据已知条件解题。估算可知，2018年东部地区房地产投资额最多，东北地区房地产投资额最少。比较中部地区和西部地区，2018年中部地区房地产投资额为  $\frac{27588}{1+9.6\%} \approx 25172$  亿元，西部地区为  $\frac{30186}{1+16.1\%} = 26000$  亿元，后者大于前者。因此2018年房地产投资额最多的地区约为排名第二地区的  $\frac{69313}{1+7.7\%}$

$$\div 26000 \approx \frac{69300}{1+\frac{1}{10}} \div 26000 = \frac{69300 \times 13}{14 \times 26000} \approx 2.5 \text{ 倍。}$$

故本题选B。

### 24、(单选题)

正确答案是： D

解析：

本题考查比重比较。

第一步：查找相关材料。题干命题点的对应材料在表1第二、三列数据，即2019年各地区全国房地产开发投资额和住宅投资额。

第二步：根据已知条件解题。2019年东部地区全国住宅投资占房地产开发投资的比重为  $\frac{49839}{69313} \times 100\% \approx \frac{50000}{70000} \times 100\% \approx 71.4\%$ ，中部地区为  $\frac{21439}{27588} \times 100\% \approx$

$\frac{21}{27} \times 100\% \approx 77.8\%$ ，西部地区为  $\frac{21946}{30186} \times 100\% \approx \frac{21900}{30000} \times 100\% = 73\%$ ，东北

地区为  $\frac{3847}{5107} \times 100\% \approx \frac{3850}{5100} \times 100\% \approx 75.5\%$ 。综上，2019年全国住宅投资占房地产开发投资比重排名第二的地区是东北地区。

故本题选D。

### 25、(单选题)

正确答案是： A

解析：

本题考查平均量的增长量。

第一步：查找相关材料。题干命题点的对应材料在文字材料，即2019年商品房销售面积171558万平方米，同比下降0.1%；商品房销售额159725亿元，同比增长6.5%。

第二步：根据已知条件解题。与2018年相比，2019年全国商品房销售均价增长  $\frac{159725 \times 10^8}{171558 \times 10^4} \times \frac{6.5\% - (-0.1\%)}{1+6.5\%} \approx \frac{160000 \times 10^4}{172000} \times \frac{6.6\%}{1+6.5\%} < 1 \times 10^4 \times 6.6\% = 660$  元，

只有A项符合。

故本题选A。

## 26、(单选题)

正确答案是： A

解析：

A项属于，电影艺术是现代科学技术与艺术相结合的产物。电影艺术是以画面和音响为媒介，在银幕上创造出感性直观的形象，再现和表现生活的一门艺术。

电影艺术属于传媒艺术。

B项不属于，汉字书法为中国文化的独特表现艺术，不属于传媒艺术。

C项不属于，草编为民间广泛流行的一种手工艺品，是利用各地所产的草，就地取材，编成各种生活用品，不属于传媒艺术。

D项不属于，剪纸艺术是最古老的中国民间艺术之一，作为一种镂空艺术，它能给人视觉上以透空的感觉和艺术享受，不属于传媒艺术。

故本题选A。

## 27、(单选题)

正确答案是： C

解析：

本题考查增长量计算。

第一步：查找相关材料。题干命题点的对应材料在文字材料，即2019年，全国房地产开发投资132194亿元，比上年增长9.9%，增速比上年加快0.4个百分点。

第二步：根据已知条件解题。2018年全国房地产开发投资为  $\frac{132194}{1+9.9\%} \approx \frac{132200}{1.1}$   
 $\approx 120182$ 亿元，比上年增长  $\frac{120182}{1+9.9\%-0.4\%} \times (9.9\%-0.4\%) \approx \frac{120182}{1+\frac{1}{10.5}} \times \frac{1}{10.5} =$   
 $\frac{120182}{11.5} \approx 10451$ 亿元，C项与之最接近。

故本题选C。

## 28、(单选题)

正确答案是： C

解析：

本题考查加强类。

第一步：分析题干论点论据。

论点：更深颜色的蛋壳意味着可以吸收更多热量，从而在更寒冷的环境中具有生存优势，因为蛋中胚胎需要稳定的环境温度，但其自身却不具备温度调节能力。

论据：在日照强度较低的地方，深色的鸟蛋更常见；而在阳光强度更高、更暖和的区域，鸟蛋颜色普遍更浅。

第二步：分析选项，确定答案。

A项：举例说明有的鸟蛋的颜色与温度无关，质疑论据，力度较弱，排除。

B项：说明鸟妈妈在窝里孵蛋来提高蛋的温度，与蛋的颜色能否提高蛋的温度无关，排除。

C项：指出颜色更深的鸡蛋比浅色鸡蛋升温更快，而且其蛋壳表面保持较高温度的时间更长，补充论据，加强题干论点，当选。

D项：说明鸟蛋的颜色是为了有隐蔽性，未说明与温度之间的关系，属于无关项，排除。

故本题选C。

### 29、(单选题)

正确答案是： A

解析：

本题考查综合分析。

A项正确：根据表格最后一行数据可知，甲医院治愈率为  $\frac{967}{1650} \times 100\% \approx \frac{1000}{1700} \times 100\% \approx 59\%$ ，乙医院治愈率为  $\frac{1782}{2190} \times 100\% \approx \frac{1800}{2200} \times 100\% \approx 82\%$ ，丙医院治愈率为  $\frac{1932}{2860} \times 100\% \approx \frac{1900}{2800} \times 100\% \approx 68\%$ ，丁医院治愈率为  $\frac{1335}{2030} \times 100\% \approx \frac{1300}{2000} \times 100\% \approx 65\%$ 。综上，与其他医院相比，甲医院的总体治愈率最低，当选。

B项错误：治愈率的高低不仅与出院人数有关，也与治愈人数有关，排除。

C项错误：根据表格第三行数据可知，丙医院的内科治愈率为  $\frac{432}{1200} \times 100\% = 36\%$ ，丁医院的内科治愈率为  $\frac{353}{930} \times 100\% \approx 38\%$ ，后者高于前者，排除。

D项错误：根据表格倒数第二行数据可知，丁医院的儿科治愈率为  $\frac{197}{240} \times 100\% \approx 82.1\%$ ，丙医院的儿科治愈率为  $\frac{301}{350} \times 100\% = 86\%$ ，后者大于前者，排除。  
故本题选A。

### 30、(单选题)

正确答案是： A

解析：

本题考查比重比较。

第一步：查找相关材料。题干命题点的对应材料在表格，即各医院科室出院与治愈人数。

第二步：根据已知条件解题。根据第2小题可知，外科治愈率大于90%，内科治愈率为  $\frac{290+108+432+353}{880+350+1200+930} \times 100\% \approx \frac{1200}{3400} \times 100\% < 50\%$ ，妇科治愈率为  $\frac{265+749+382+235}{320+840+450+280} \times 100\% \approx \frac{1630}{1900} \times 100\% > 50\%$ ，儿科治愈率为  $\frac{118+545+301+197}{130+580+350+240} \times 100\% \approx \frac{1160}{1300} \times 100\% > 50\%$ 。综上，4所三甲医院中治愈率最低的科室是内科。  
故本题选A。