

1、(单选题)

3, 2, 4, 4, 12, 36, ()

- A : 264
- B : 396
- C : 480
- D : 600

2、(单选题)

1, 1, 3, 9, 23, ()

- A : 36
- B : 47
- C : 50
- D : 53

3、(单选题)

6, 11, 13, 24, 24, ()

- A : 38
- B : 41
- C : 44
- D : 47

材料:

2018年, M省进出口总值达到1034.4亿元, 比上年增长9.9%。其中, 出口378.6亿元, 增长14.4%; M省 加工贸易进出口总值比上年增长82.1%。与“一带一路”沿线国家贸易保持快速增长, 其中对蒙古国、越南、德国、荷兰进出口分别比上年增长24.1%、1.4倍、64.2%和40.3%。全省实际利用外资31.6亿美元, 比上年增长0.3%。煤、锯材、铜矿砂为进口值前三的商品, 三者合计占同期进口总值的55.8%; 钢材、机电产品、农产品为出口值前三的商品, 三者合计占同期出口总值的53.9%。2018年M省对“一带一路”沿线国家外贸进出口699.3亿元, 增长14.6%, 占同期外贸进出口总值的67.6%。其中对蒙古国外贸进出口327.7亿元, 增长24.1%。



图1 2018年M省分类型出口贸易占比 图2 2018年M省分类型进口贸易占比

4、(单选题)

关于2018年M省进出口情况, 不能从上述资料中推出的是 ()。

- A : 进口总值同比增速低于10%
- B : 对蒙古国外贸进出口总值低于对“一带一路”沿线国家外贸进出口总值的一半
- C : 外贸出口中边境小额贸易与加工贸易所占比例相等
- D : 钢材、机电产品、农产品三者合计出口额超过240亿元

材料:

2018年, M省进出口总值达到1034.4亿元, 比上年增长9.9%。其中, 出口378.6亿元, 增长14.4%; M省 加工贸易

进出口总值比上年增长82.1%。与“一带一路”沿线国家贸易保持快速增长，其中对蒙古国、越南、德国、荷兰进出口分别比上年增长24.1%、1.4倍、64.2%和40.3%。全省实际利用外资31.6亿美元，比上年增长0.3%。煤、锯材、铜矿砂为进口值前三的商品，三者合计占同期进口总值的55.8%；钢材、机电产品、农产品为出口值前三的商品，三者合计占同期出口总值的53.9%。2018年M省对“一带一路”沿线国家外贸进出口699.3亿元，增长14.6%，占同期外贸进出口总值的67.6%。其中对蒙古国外贸进出口327.7亿元，增长24.1%。

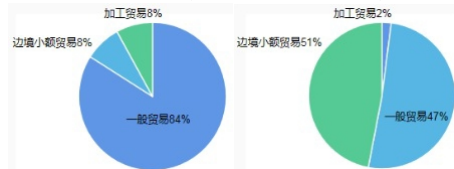


图1 2018年M省分类出口贸易占比 图2 2018年M省分类进口贸易占比

5、(单选题)

2018年M省边境小额贸易中，进口额约是出口额的多少倍？（ ）

- A : 6
- B : 8
- C : 11
- D : 13

材料:

2018年，M省进出口总值达到1034.4亿元，比上年增长9.9%。其中，出口378.6亿元，增长14.4%；M省加工贸易进出口总值比上年增长82.1%。与“一带一路”沿线国家贸易保持快速增长，其中对蒙古国、越南、德国、荷兰进出口分别比上年增长24.1%、1.4倍、64.2%和40.3%。全省实际利用外资31.6亿美元，比上年增长0.3%。煤、锯材、铜矿砂为进口值前三的商品，三者合计占同期进口总值的55.8%；钢材、机电产品、农产品为出口值前三的商品，三者合计占同期出口总值的53.9%。2018年M省对“一带一路”沿线国家外贸进出口699.3亿元，增长14.6%，占同期外贸进出口总值的67.6%。其中对蒙古国外贸进出口327.7亿元，增长24.1%。

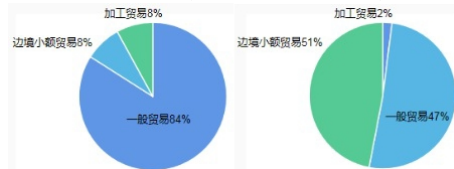


图1 2018年M省分类出口贸易占比 图2 2018年M省分类进口贸易占比

6、(单选题)

2017年M省对“一带一路”沿线国家外贸进出口总值为多少亿元？（ ）

- A : 509.2
- B : 610.2
- C : 699.3
- D : 819.3

材料:

2018年，M省进出口总值达到1034.4亿元，比上年增长9.9%。其中，出口378.6亿元，增长14.4%；M省加工贸易进出口总值比上年增长82.1%。与“一带一路”沿线国家贸易保持快速增长，其中对蒙古国、越南、德国、荷兰进出口分别比上年增长24.1%、1.4倍、64.2%和40.3%。全省实际利用外资31.6亿美元，比上年增长0.3%。煤、锯材、铜矿砂为进口值前三的商品，三者合计占同期进口总值的55.8%；钢材、机电产品、农产品为出口值前三的商品，三者合计占同期出口总值的53.9%。2018年M省对“一带一路”沿线国家外贸进出口699.3亿元，增长14.6%，占同期外贸进出口总值的67.6%。其中对蒙古国外贸进出口327.7亿元，增长24.1%。

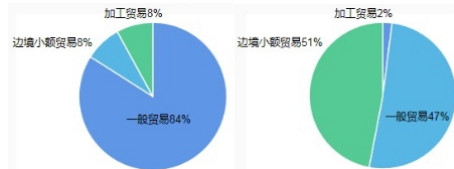


图1 2018年M省分类出口贸易占比 图2 2018年M省分类进口贸易占比

7、(单选题)

2018年下列“一带一路”沿线国家中，与M省贸易额同比增速最快的是（ ）。

- A : 蒙古国
- B : 荷兰
- C : 德国
- D : 越南

材料:

2018年，M省进出口总值达到1034.4亿元，比上年增长9.9%。其中，出口378.6亿元，增长14.4%；M省加工贸易

进出口总值比上年增长82.1%。与“一带一路”沿线国家贸易保持快速增长，其中对蒙古国、越南、德国、荷兰进出口分别比上年增长24.1%、1.4倍、64.2%和40.3%。全省实际利用外资31.6亿美元，比上年增长0.3%。煤、锯材、铜矿砂为进口值前三的商品，三者合计占同期进口总值的55.8%；钢材、机电产品、农产品为出口值前三的商品，三者合计占同期出口总值的53.9%。2018年M省对“一带一路”沿线国家外贸进出口699.3亿元，增长14.6%，占同期外贸进出口总值的67.6%。其中对蒙古国外贸进出口327.7亿元，增长24.1%。

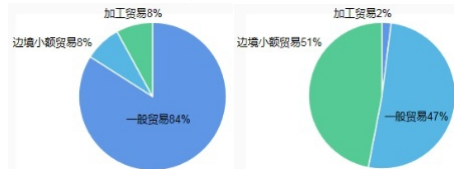


图1 2018年M省分类出口贸易占比 图2 2018年M省分类进口贸易占比

8、(单选题)

2018年，M省进口总值为（ ）。

- A : 330.9亿元
- B : 378.6亿元
- C : 655.8亿元
- D : 657.9亿元

材料:

2018年N省规模以上工业增加值比上年增长7.1%，增速比上年提高4.0个百分点。其中，新产品增长强劲。石墨及碳素制品增长42.8%，单晶硅增长1.2倍，多晶硅增长47.1%，汽车增长26.6%。

1~11月，N省规模以上工业企业实现利润总额达到1332.8亿元，同比增长16.2%，同期全国平均水平为11.8%。其中，制造业利润474.48亿元，同比增长24.7%。规模以上工业企业主营业务收入利润率为10.6%，同比提高0.3个百分点，也高于全国平均水平4.1个百分点。



2013~2018年N省GDP中三大产业构成

9、(单选题)

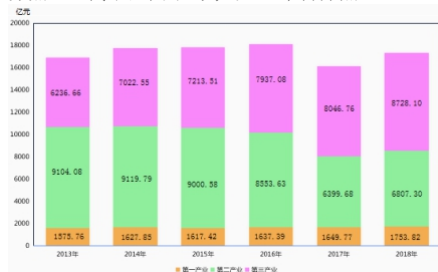
不能从上述资料中推出的是（ ）。

- A : 2016年N省GDP同比增量高于2015年水平
- B : 2017年，N省规模以上工业增加值增速超过11%
- C : 2018年1~11月，N省规模以上工业企业中，非制造业企业利润同比增长
- D : 2016~2018年，N省累计GDP低于2013~2015年水平

材料:

2018年N省规模以上工业增加值比上年增长7.1%，增速比上年提高4.0个百分点。其中，新产品增长强劲。石墨及碳素制品增长42.8%，单晶硅增长1.2倍，多晶硅增长47.1%，汽车增长26.6%。

1~11月，N省规模以上工业企业实现利润总额达到1332.8亿元，同比增长16.2%，同期全国平均水平为11.8%。其中，制造业利润474.48亿元，同比增长24.7%。规模以上工业企业主营业务收入利润率为10.6%，同比提高0.3个百分点，也高于全国平均水平4.1个百分点。



2013~2018年N省GDP中三大产业构成

10、(单选题)

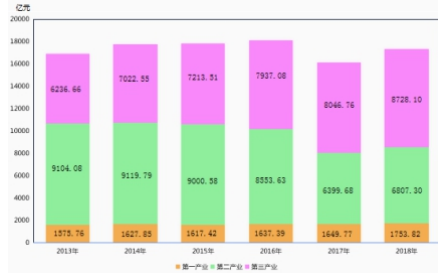
2013~2018年间，N省GDP中第二产业增加值占比过半的年份有几个？（ ）

- A : 1
- B : 2

- C : 3
D : 4

材料:

2018年N省规模以上工业增加值比上年增长7.1%，增速比上年提高4.0个百分点。其中，新产品增长强劲。石墨及碳素制品增长42.8%，单晶硅增长1.2倍，多晶硅增长47.1%，汽车增长26.6%。
1~11月，N省规模以上工业企业实现利润总额达到1332.8亿元，同比增长16.2%，同期全国平均水平为11.8%。其中，制造业利润474.48亿元，同比增长24.7%。规模以上工业企业主营业务收入利润率为10.6%，同比提高0.3个百分点，也高于全国平均水平4.1个百分点。



2013~2018年N省GDP中三大产业构成

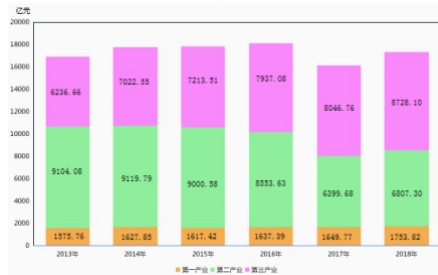
11、(单选题)

将N省2018年规模以上工业新产品按增加值增速从高到低排序，正确的是（ ）。

- A : 单晶硅>多晶硅>石墨及碳素制品>汽车
B : 单晶硅>石墨及碳素制品>多晶硅>汽车
C : 汽车>石墨及碳素制品>多晶硅>单晶硅
D : 单晶硅>石墨及碳素制品>汽车>多晶硅

材料:

2018年N省规模以上工业增加值比上年增长7.1%，增速比上年提高4.0个百分点。其中，新产品增长强劲。石墨及碳素制品增长42.8%，单晶硅增长1.2倍，多晶硅增长47.1%，汽车增长26.6%。
1~11月，N省规模以上工业企业实现利润总额达到1332.8亿元，同比增长16.2%，同期全国平均水平为11.8%。其中，制造业利润474.48亿元，同比增长24.7%。规模以上工业企业主营业务收入利润率为10.6%，同比提高0.3个百分点，也高于全国平均水平4.1个百分点。



2013~2018年N省GDP中三大产业构成

12、(单选题)

2018年1~11月，全国规模以上工业企业主营业务收入利润率平均水平为（ ）。

- A : 10.9%
B : 10.3%
C : 6.5%
D : 4.1%

材料:

2018年N省规模以上工业增加值比上年增长7.1%，增速比上年提高4.0个百分点。其中，新产品增长强劲。石墨及碳素制品增长42.8%，单晶硅增长1.2倍，多晶硅增长47.1%，汽车增长26.6%。
1~11月，N省规模以上工业企业实现利润总额达到1332.8亿元，同比增长16.2%，同期全国平均水平为11.8%。其中，制造业利润474.48亿元，同比增长24.7%。规模以上工业企业主营业务收入利润率为10.6%，同比提高0.3个百分点，也高于全国平均水平4.1个百分点。



2013~2018年N省GDP中三大产业构成

13、(单选题)

2018年1~11月，N省制造业利润额约占规模以上工业企业实现利润总额的（ ）。

- A : 24.7%
- B : 35.6%
- C : 40.2%
- D : 46.5%

材料：

2014年，全国房地产开发投资95036亿元，比上年增长10.5%，增速比2013年回落9.3个百分点。其中，住宅投资64352亿元，增长9.2%。

2014年，全国商品房销售面积120649万平方米，比上年下降7.6%，降幅比1~11月份收窄0.6个百分点，2013年为增长17.3%；商品房销售额76292亿元，下降6.3%，降幅比1~11月份收窄1.5个百分点，2013年为增长26.3%。

2014年分地区房地产开发投资及同比增速

地 区	总投资		住宅投资	
	金额 (亿元)	增速 (%)	金额 (亿元)	增速 (%)
东 部	52941	10.4	35477	8.5
中 部	20662	8.5	14552	9.7
西 部	21433	12.8	14323	10.3

2014年，东部地区商品房销售面积54756万平方米，比上年下降13.7%，降幅比1~11月份收窄1.3个百分点；销售额43607亿元，下降11.6%，降幅收窄2.1个百分点。中部地区商品房销售面积33824万平方米，下降3.9%，降幅收窄0.4个百分点；销售额16558亿元，增长0.2%，1~11月份为下降0.9%。西部地区商品房销售面积32068万平方米，增长0.6%，增速回落0.6个百分点；销售额16127亿元，增长3.5%，增速回落0.6个百分点。

请回答106~110题。

14、(单选题)

能够从上述资料中推出的是（ ）。

- A : 2013年东部地区的商品房销售额超过50000亿元
- B : 2014年我国东部地区住宅投资额低于中、西部地区之和
- C : 2014年我国东部地区房地产投资额是西部地区的3倍多
- D : 2014年住宅投资占房地产开发投资的比重不到七成

材料：

2014年，全国房地产开发投资95036亿元，比上年增长10.5%，增速比2013年回落9.3个百分点。其中，住宅投资64352亿元，增长9.2%。

2014年，全国商品房销售面积120649万平方米，比上年下降7.6%，降幅比1~11月份收窄0.6个百分点，2013年为增长17.3%；商品房销售额76292亿元，下降6.3%，降幅比1~11月份收窄1.5个百分点，2013年为增长26.3%。

2014年分地区房地产开发投资及同比增速

地 区	总投资		住宅投资	
	金额 (亿元)	增速 (%)	金额 (亿元)	增速 (%)
东 部	52941	10.4	35477	8.5
中 部	20662	8.5	14552	9.7
西 部	21433	12.8	14323	10.3

2014年，东部地区商品房销售面积54756万平方米，比上年下降13.7%，降幅比1~11月份收窄1.3个百分点；销售额43607亿元，下降11.6%，降幅收窄2.1个百分点。中部地区商品房销售面积33824万平方米，下降3.9%，降幅收窄0.4个百分点；销售额16558亿元，增长0.2%，1~11月份为下降0.9%。西部地区商品房销售面积32068万平方米，增长0.6%，增速回落0.6个百分点；销售额16127亿元，增长3.5%，增速回落0.6个百分点。

请回答106~110题。

15、(单选题)

2013年，东部地区住宅投资占投资额的比重约为（ ）。

- A : 72%
- B : 68%
- C : 52%
- D : 47%

材料:

2014年,全国房地产开发投资95036亿元,比上年增长10.5%,增速比2013年回落9.3个百分点。其中,住宅投资64352亿元,增长9.2%。

2014年,全国商品房销售面积120649万平方米,比上年下降7.6%,降幅比1~11月份收窄0.6个百分点,2013年为增长17.3%;商品房销售额76292亿元,下降6.3%,降幅比1~11月份收窄1.5个百分点,2013年为增长26.3%。

2014年分地区房地产开发投资及同比增速

地 区	总投资		住宅投资	
	金额(亿元)	增速(%)	金额(亿元)	增速(%)
东 部	52941	10.4	35477	8.5
中 部	20662	8.5	14552	9.7
西 部	21433	12.8	14323	10.3

2014年,东部地区商品房销售面积54756万平方米,比上年下降13.7%,降幅比1~11月份收窄1.3个百分点;销售额43607亿元,下降11.6%,降幅收窄2.1个百分点。中部地区商品房销售面积33824万平方米,下降3.9%,降幅收窄0.4个百分点;销售额16558亿元,增长0.2%,1~11月份为下降0.9%。西部地区商品房销售面积32068万平方米,增长0.6%,增速回落0.6个百分点;销售额16127亿元,增长3.5%,增速回落0.6个百分点。

请回答106~110题。

:

16、(单选题)

2013年西部地区商品房销售价格为()。

- A: 3694元/平方米
- B: 4674元/平方米
- C: 4888元/平方米
- D: 5008元/平方米

材料:

2014年,全国房地产开发投资95036亿元,比上年增长10.5%,增速比2013年回落9.3个百分点。其中,住宅投资64352亿元,增长9.2%。

2014年,全国商品房销售面积120649万平方米,比上年下降7.6%,降幅比1~11月份收窄0.6个百分点,2013年为增长17.3%;商品房销售额76292亿元,下降6.3%,降幅比1~11月份收窄1.5个百分点,2013年为增长26.3%。

2014年分地区房地产开发投资及同比增速

地 区	总投资		住宅投资	
	金额(亿元)	增速(%)	金额(亿元)	增速(%)
东 部	52941	10.4	35477	8.5
中 部	20662	8.5	14552	9.7
西 部	21433	12.8	14323	10.3

2014年,东部地区商品房销售面积54756万平方米,比上年下降13.7%,降幅比1~11月份收窄1.3个百分点;销售额43607亿元,下降11.6%,降幅收窄2.1个百分点。中部地区商品房销售面积33824万平方米,下降3.9%,降幅收窄0.4个百分点;销售额16558亿元,增长0.2%,1~11月份为下降0.9%。西部地区商品房销售面积32068万平方米,增长0.6%,增速回落0.6个百分点;销售额16127亿元,增长3.5%,增速回落0.6个百分点。

请回答106~110题。

:

17、(单选题)

2014年,全国商品房销售面积比上年减少多少万平方米?()

- A: 10004.7
- B: 9923.5
- C: 9014.2
- D: 8799.3

材料:

2014年,全国房地产开发投资95036亿元,比上年增长10.5%,增速比2013年回落9.3个百分点。其中,住宅投资64352亿元,增长9.2%。

2014年,全国商品房销售面积120649万平方米,比上年下降7.6%,降幅比1~11月份收窄0.6个百分点,2013年为增长17.3%;商品房销售额76292亿元,下降6.3%,降幅比1~11月份收窄1.5个百分点,2013年为增长26.3%。

2014年分地区房地产开发投资及同比增速

地 区	总投资		住宅投资	
	金额(亿元)	增速(%)	金额(亿元)	增速(%)
东 部	52941	10.4	35477	8.5
中 部	20662	8.5	14552	9.7
西 部	21433	12.8	14323	10.3

2014年,东部地区商品房销售面积54756万平方米,比上年下降13.7%,降幅比1~11月份收窄1.3个百分点;销售额43607亿元,下降11.6%,降幅收窄2.1个百分点。中部地区商品房销售面积33824万平方米,下降3.9%,降幅收窄0.4个百分点;销售额16558亿元,增长0.2%,1~11月份为下降0.9%。西部地区商品房销售面积32068万平方米,增长0.6%,增速回落0.6个百分点;销售额16127亿元,增长3.5%,增速回落0.6个百分点。

请回答106~110题。

:

18、(单选题)

2012年全国房地产开发投资额为多少亿元?()

- A: 71790.8

- B : 67835.2
- C : 31248.1
- D : 24156.3

19、(单选题)

() 对于 做饭 相当于 车间 对于 ()

- A : 厨师 机器
- B : 燃气 零件
- C : 刀具 噪音
- D : 厨房 生产

20、(单选题)

喀纳斯 对于 () 相当于 () 对于 云南

- A : 新疆 丽江
- B : 景区 旅游
- C : 喀什 米线
- D : 青海 傣族

21、(单选题)

竞聘 对于 () 相当于 () 对于 回报

- A : 演讲 报酬
- B : 岗位 补偿
- C : 连任 投资
- D : 任期 付出

22、(单选题)

甲早于乙:乙早于丙:甲早于丙

- A : 甲战胜乙:乙战胜丙:甲战胜丙
- B : 甲属于乙:乙属于丙:甲属于丙
- C : 甲信任乙:乙信任丙:甲信任丙
- D : 甲帮助乙:乙帮助丙:甲帮助丙

23、(单选题)

轮胎:自行车:代步

- A : 针头:注射器:预防
- B : 衣服:晾衣架:晾晒
- C : 风机:油烟机:排烟
- D : 乘客:公交车:通勤

24、(单选题)

加薪:奖励:鼓励人才

- A : 话剧:艺术:陶冶情操
- B : 旅行:探索:增进感情
- C : 月食:现象:探索宇宙
- D : 返券:促销:提高销量

25、(单选题)

种植:水果:仓库

- A : 自习:知识:图书馆
- B : 裁剪:服饰:加工厂
- C : 烹饪:美食:保鲜柜
- D : 挂职:干部:贫困县

26、(单选题)

检阅:部队:基地

- A : 消费:宾客:酒店
- B : 采访:代表:会场
- C : 培训:员工:岗位
- D : 撒网:渔夫:大海

27、(单选题)

转念:主意

- A : 转述:说话
- B : 转交:物品
- C : 转向:方向
- D : 转录:翻译

28、(单选题)

薯条:土豆

- A : 爆米花:玉米
- B : 蔬菜:粮食
- C : 沙拉:水果
- D : 红酒:高粱

29、(单选题)

只要拥有特色优势学科和一流的师资队伍，就能进入“双一流”建设名单行列。只有全面推进高校内涵发展，才能拥有特色优势学科和一流的师资队伍。M大学没有进入“双一流”建设名单行列。

如果上述断定是真的，则以下哪项也可能为真？（ ）

I.M大学没有特色优势学科而且师资队伍不够一流

II.M大学没有全面推进高校内涵发展

III.M大学全面推进了高校内涵发展

A：仅I

B：仅II

C：仅III

D：I、II和III

30、(单选题)

甲：目前人类对地球科学的认知水平还不高，从整体上还不能充分认识地震从孕育到发震的机理、时间空间分布规律，因此到目前为止人类还无法做到地震预测。乙：我不同意你的观点，据权威媒体报道，我国已经建立了ICL地震预警系统，该系统自建成以来，已经成功预警数十次破坏性地震，无一误报。

对于乙的反驳，下列评价正确的是（ ）。

A：反驳有力，引用权威信息证明自己的观点

B：反驳有力，提出了一个比对方更有力的证据证明自己的观点

C：反驳无力，在反驳的关键概念上没有与对方保持一致

D：反驳无力，在关键信息的引用上存在错误

1、(单选题)

正确答案是： B

解析：

本题考查递推数列。

第一步：观察数列。原数列作差、作和均无明显规律，考虑递推数列。

第二步：原数列满足如下关系： $a_{n+2} = (a_n - 1) \times a_{n+1}$ ($n \in \mathbb{N}^+$)，即 $4 = (3-1) \times 2$ ， $4 = (2-1) \times 4$ ， $12 = (4-1) \times 4$ ， $36 = (4-1) \times 12$ 。因此原数列未知项为 $(12-1) \times 36 = 396$ 。

故本题选B。

2、(单选题)

正确答案是： D

解析：

本题考查递推数列。

第一步：观察数列。原数列作差、作和均无明显规律，考虑递推数列。

第二步：原数列满足如下关系： $a_{n+1} = a_n \times 2 + 2n - 3$ ($n \in \mathbb{N}^+$)，即 $1 = 1 \times 2 + 2 \times 1 - 3$ ， $3 = 1 \times 2 + 2 \times 2 - 3$ ， $9 = 3 \times 2 + 2 \times 3 - 3$ ， $23 = 9 \times 2 + 2 \times 4 - 3$ 。因此原数列未知项为 $23 \times 2 + 2 \times 5 - 3 = 53$ 。

故本题选D。

3、(单选题)

正确答案是： B

解析：

本题考查多级数列。

第一步：观察数列。数列各项无明显规律，优先考虑作和。

第二步：原数列相邻两项相加得到：17、24、37、48，观察发现各项与平方数接近，新数列满足如下规律：

$a_n = (n+3)^2 + (-1)^{n-1}$ ($n \in \mathbb{N}^+$)，即 $17 = (1+3)^2 + (-1)^0$ ， $24 = (2+3)^2 + (-1)^1$ ， $37 = (3+3)^2 + (-1)^2$ ， $48 = (4+3)^2 + (-1)^3$ 。因此原数列未知项为 $8^2 + 1 - 24 = 41$ 。

故本题选B。

4、(单选题)

正确答案是: D

解析:

【解题思路】 本题考查综合分析。

A项正确: 根据文字材料第一段可知, 2018年M省进出口总值比上年增长9.9%, 出口总值增长14.4%, 根据混合增长率的性质可知, 2018年M省进口总值同比增长率小于9.9%, 排除。

B项正确: 根据文字材料第二段可知, 2018年M省对“一带一路”沿线国家外贸进出口699.3亿元, 其中对蒙古国外贸进出口327.7亿元, 后者明显不到前者的一半, 排除。

C项正确: 根据第一个饼状图可知, 2018年外贸出口中边境小额贸易与加工贸易所占比例相等, 均为8%, 排除。

D项错误: 根据文字材料第一、二段可知, 2018年钢材、机电产品、农产品三者合计出口额为 $378.6 \times 53.9\% < 400 \times 60\% = 240$ 亿元, 当选。

故本题选D。

5、(单选题)

正确答案是: C

解析:

【解题思路】 本题考查现期比值。

第一步: 查找相关材料。题干命题点的对应材料在文字材料第一段和饼状图, 即2018年, M省进出口总值达到1034.4亿元, 其中, 出口378.6亿元; 2018年M省出口中边境小额贸易占比为8%, 进口中贸易占比为51%。

第二步: 根据已知条件解题。2018年M省边境小额贸易中, 进口额是出口额的 $\frac{(1034.4 - 378.6) \times 51\%}{378.6 \times 8\%} = \frac{660 \times 50\%}{380 \times 8\%} \approx \frac{330}{30} = 11$ 倍。

故本题选C。

6、(单选题)

正确答案是: B

解析:

【解题思路】 本题考查基期计算。

第一步: 查找相关材料。题干命题点的对应材料在文字材料第二段, 即2018年M省对“一带一路”沿线国家外贸进出口699.3亿元, 同比增长14.6%。

第二步: 根据已知条件解题。2017年M省对“一带一路”沿线国家外贸进出口总值为 $\frac{699.3}{1+14.6\%} \approx 700 \times \frac{7}{8} = 612.5$ 亿元, B项与之最接近。

故本题选B。

7、(单选题)

正确答案是: D

解析:

【解题思路】 本题考查查找数据。

第一步: 查找相关材料。题干命题点的对应材料在文字材料第一段, 即2018年M省对蒙古国、越南、德国、荷兰进出口分别比上年增长24.1%、1.4倍、64.2%和40.3%。

第二步: 根据已知条件解题。2018年与M省贸易额同比增长最快的是越南。

故本题选D。

8、(单选题)

正确答案是: C

解析:

【解题思路】 本题考查简单计算。

第一步: 查找相关材料。题干命题点的对应材料在文字材料第一段, 即2018年, M省进出口总值达到1034.4亿元, 其中, 出口378.6亿元。

第二步: 根据已知条件解题。2018年, M省进口总值为 $1034.4 - 378.6 = 655.8$ 亿元。

故本题选C。



9、(单选题)

正确答案是: B

解析:

【解题思路】本题考查综合分析。

B项正确: 根据柱形图可知, 2016年N省GDP同比增量为

$(7937.08+8553.63+1637.39) - (7213.51+9000.58+1617.42) \approx 18130-17830=300$ 亿元, 2015年为
 $(7213.51+9000.58+1617.42) - (7022.55+9119.79+1627.85) \approx 17830-17770=60$ 亿元, 前者高于后者,
排除。

B项错误: 根据文字材料第一段可知, 2017年N省规模以上工业增加值增速为 $7.1\%-4\%=3.1\% < 11\%$, 当选。

C项正确: 根据文字材料第二段可知, 2018年1~11月, N省规模以上工业企业实现利润总额同比增长16.2%, 其中制造业企业同比增长24.7%。根据混合增长率规律可知, 非制造业企业利润同比增速 $> 16.2\% - (24.7\% - 16.2\%) = 7.7\%$, 即非制造业企业利润同比正增长, 排除。

D项正确: 根据柱形图可知, 2016~2018年N省累计GDP为

$(7937.08+8553.63+1637.39) + (8046.76+6399.68+1649.77) + (8728.1+6807.3+1753.82) \approx 18130+16100+1729$
亿元, 2013~2015年为

$(6236.66+9104.08+1575.76) + (7022.55+9119.79+1627.85) + (7213.51+9000.58+1617.42) \approx 16920+17770+17$
亿元, 后者大于前者, 排除。

故本题选B。

10、(单选题)

正确答案是: C

解析:

【解题思路】本题考查比重比较。

第一步: 查找相关材料。题干命题点的对应材料在柱形图。

第二步: 根据已知条件解题。N省GDP中第二产业增加值占比过半, 即第二产业的增加值大于第一、三产业增加值之和。根据柱形图估算可知, N省GDP中第二产业增加值占比过半的年份有2013年、2014年、2015年, 共3个年份。

故本题选C。

11、(单选题)

正确答案是: A

解析:

【解题思路】本题考查查找数据。

第一步: 查找相关材料。题干命题点的对应材料在文字材料第一段, 即2018年石墨及碳素制品增加值增长42.8%, 单晶硅增长1.2倍, 多晶硅增长47.1%, 汽车增长26.6%。

第二步: 根据已知条件解题。N省2018年规模以上工业新产品按增加值增速从高到低排序为单晶硅 $>$ 多晶硅 $>$ 石墨及碳素制品 $>$ 汽车。

故本题选A。

12、(单选题)

正确答案是: C

解析:

【解题思路】本题考查简单计算。

第一步: 查找相关材料。题干命题点的对应材料在文字材料第二段, 即2018年1~11月, 规模以上工业企业主营业务收入利润率为10.6%, 高于全国平均水平4.1个百分点。

第二步: 根据已知条件解题。2018年1~11月, 全国规模以上工业企业主营业务收入利润率平均水平为 $10.6\% - 4.1\% = 6.5\%$ 。

故本题选C。

13、(单选题)

正确答案是: B

解析:

【解题思路】本题考查现期比重。

第一步: 查找相关材料。题干命题点的对应材料在文字材料第二段, 即2018年1~11月, N省规模以上工业企业实现利

润总额达到1332.8亿元，其中，制造业利润474.48亿元。

第二步：根据已知条件解题。2018年1~11月，N省制造业利润额约占规模以上工业企业实现利润总额的 $\frac{474.48}{1332.8}$ $\times 100\% \approx \frac{470}{1300} \times 100\% \approx 36\%$ ，B项与之最接近。

故本题选B。

14、(单选题)

正确答案是： D

解析：

【解题思路】本题考查综合分析。

A项错误：根据文字材料第三段可知，2013年东部地区的商品房销售额为 $\frac{43607}{1-11.6\%} < \frac{44000}{0.88} = 50000$ 亿元，排除。

B项错误：根据表格可知，2014年我国中西部地区住宅投资额为14552+14323=28875亿元，小于东部地区（35477亿元），排除。

C项错误：根据表格可知，2014年我国东部地区房地产投资额为52941亿元，西部地区为21433亿元，前者明显不到后者的3倍，排除。

D项正确：根据文字材料第一段可知，2014年住宅投资占房地产开发投资的比重为 $\frac{64352}{95036} \times 100\% < \frac{66500}{95000} \times 100\% = 70\%$ ，即不到七成，当选。

故本题选D。

15、(单选题)

正确答案是： B

解析：

【解题思路】本题考查基期比重。

第一步：查找相关材料。题干命题点的对应材料在表格倒数第三行，即2014年东部地区房地产开发投资额为52941亿元，同比增长10.4%，其中住宅投资为35477亿元，同比增长8.5%。

第二步：根据已知条件解题。2013年，东部地区住宅投资占投资额的比重为 $\frac{35477}{52941} \times \frac{1+10.4\%}{1+8.5\%} \approx \frac{35500}{53000} \approx 67\%$ ，B项与之最接近。

故本题选B。

16、(单选题)

正确答案是： C

解析：

【解题思路】本题考查基期平均量。

第一步：查找相关材料。题干命题点的对应材料在文字材料第三段，即2014年西部地区商品房销售面积32068万平方米，同比增长0.6%；销售额16127亿元，同比增长3.5%。

第二步：根据已知条件解题。2013年西部地区商品房销售价格为 $\frac{16127 \times 10^4}{32068} \times \frac{1+0.6\%}{1+3.5\%}$ 略小于 $\frac{16000 \times 10^4}{32000} = 5000$ 元/平方米，C项最符合。

故本题选C。

17、(单选题)

正确答案是： B

解析：

【解题思路】本题考查增长量计算。

第一步：查找相关材料。题干命题点的对应材料在文字材料第二段，即2014年全国商品房销售面积120649万平方米，比上年下降7.6%。

第二步：根据已知条件解题。2014年，全国商品房销售面积比上年减少 $\frac{120649}{1-7.6\%} \times 7.6\% \approx \frac{120000}{92\%} \times 7.6\% \approx 9913$ 万平方米，B项与之最接近。

故本题选B。

18、(单选题)

正确答案是： A

解析：

【解题思路】本题考查间隔基期。

第一步：查找相关材料。题干命题点的对应材料在文字材料第一段，即2014年，全国房地产开发投资95036亿元，比

上年增长10.5%，增速比2013年回落9.3个百分点。

第二步：根据已知条件解题。2013年全国房地产开发投资同比增长率为 $10.5\%+9.3\%=19.8\%$ ，则2012年全国房地产开发投资额为 $\frac{95036}{1+10.5\%+19.8\%+10.5\%\times 19.8\%}\approx\frac{95000}{1.32}\approx 71970$ 亿元，A项与之最接近。

故本题选A。

19、(单选题)

正确答案是： D

解析：

【解题思路】本题考查场所关系。

选项逐一代入。

A项：厨师做饭为主谓关系，机器是车间的组成部分，前后逻辑关系不一致，排除。

B项：使用燃气做饭，在车间里加工零件，前后逻辑关系不一致，排除。

C项：使用刀具做饭，在车间里生产会产生噪音，前后逻辑关系不一致，排除。

D项：在厨房里做饭，在车间里生产，二者均为场所与行为的对应关系，前后逻辑关系一致，当选。

故本题选D。

20、(单选题)

正确答案是： A

解析：

本题考查人文地理类。选项逐一代入。

A项：喀纳斯位于新疆，丽江位于云南，前后逻辑关系一致，当选。

B项：喀纳斯属于景区，二者为种属关系，云南是旅游的场所，二者为场所关系，前后逻辑关系不一致，排除。

C项：喀纳斯是新疆的景区，喀什是新疆的县级市，二者无明显联系，米线是云南的特色美食，前后逻辑关系不一致，排除。

D项：喀纳斯与青海无明显联系，傣族主要聚居在云南，前后逻辑关系不一致，排除。

故本题选A。

21、(单选题)

正确答案是： C

解析：

【解题思路】本题考查因果关系。

选项逐一代入。

A项：演讲是竞聘过程中的一个环节，报酬是回报的一种，前后逻辑关系不一致，排除。

B项：竞聘岗位为动宾结构，补偿与回报无明显联系，前后逻辑关系不一致，排除。

C项：竞聘与连任为或然因果关系，投资与回报为或然因果关系，前后逻辑关系一致，当选。

D项：竞聘与任期无明显联系，付出之后可能会有回报，前后逻辑关系不一致，排除。

故本题选C。

22、(单选题)

正确答案是： B

解析：

【解题思路】本题考查条件关系。

第一步：分析题干词语间的关系。由甲早于乙和乙早于丙推出甲早于丙，“早于”具有传递性。

第二步：分析选项，确定答案。

A项：由甲战胜乙和乙战胜丙不能推出甲战胜丙，“战胜”不具有传递性，排除。 B

项：由甲属于乙和乙属于丙推出甲属于丙，“属于”具有传递性，当选。

C项：由甲信任乙和乙信任丙不能推出甲信任丙，“信任”不具有传递性，排除。 D

项：由甲帮助乙和乙帮助丙不能推出甲帮助丙，“帮助”不具有传递性，排除。 故本题选B。

23、(单选题)

正确答案是： C

解析：

【解题思路】本题考查组成关系。

第一步：分析题干词语间的关系。轮胎是自行车的组成部分，代步是自行车的功能。



第二步：分析选项，确定答案。

A项：针头是注射器的组成部分，预防不是注射器的功能，排除。

B项：衣服不是晾衣架的组成部分，排除。

C项：风机是油烟机的组成部分，排烟是油烟机的功能，当选。

D项：乘客乘坐公交车，二者为主宾关系，排除。

故本题选C。

24、(单选题)

正确答案是： D

解析：

【解题思路】 本题考查种属关系。

第一步：分析题干词语间的关系。加薪是一种奖励方式，其目的是鼓励人才。

第二步：分析选项，确定答案。

A项：话剧属于艺术，具有陶冶情操的功能，排除。

B项：旅行是一种探索方式，其目的不是增进感情，排除。

C项：月食属于现象，其目的不是探索宇宙，排除。

D项：返券是一种促销方式，其目的是提高销量，当选。

故本题选D。

25、(单选题)

正确答案是： C

解析：

【解题思路】 本题考查场所关系。

第一步：分析题干词语间的关系。通过种植获得水果，仓库是储存水果的场所。

第二步：分析选项，确定答案。

A项：通过自习获得知识，图书馆不是储存知识的场所，排除。

B项：通过裁剪制成服饰，加工厂不是储存服饰的场所，排除。

C项：通过烹饪获得美食，保鲜柜是储存美食的场所，当选。

D项：干部到贫困县挂职，挂职干部为偏正关系，排除。

故本题选C。

26、(单选题)

正确答案是： B

解析：

【解题思路】 本题考查动宾关系。

第一步：分析题干词语间的关系。部队在基地里接受检阅，部队为检阅的客体，基地是场所。

第二步：分析选项，确定答案。

A项：宾客在酒店里消费，宾客为消费的主体，排除。

B项：代表在会场里接受采访，代表是采访的客体，会场是场所，当选。

C项：岗位不是场所，排除。

D项：渔夫在大海上撒网，渔夫是撒网的主体，排除。

故本题选B。

27、(单选题)

正确答案是： C

解析：

【解题思路】 本题考查修饰关系。

第一步：分析题干词语间的关系。转念指改变主意。

第二步：分析选项，确定答案。

A项：转述是指把别人说的话转给另外的人，而不是改变说话，排除。

B项：转交不是改变物品，排除。

C项：转向指改变方向，当选。

D项：转录和翻译是生物学中基因表达的两个过程，二者为顺承关系，排除。

故本题选C。

28、(单选题)

正确答案是： A

解析：

【解题思路】 本题考查材料关系。

第一步：分析题干词语间的关系。土豆是制作薯条必要的原材料。

第二步：分析选项，确定答案。

A项：玉米是制作爆米花必要的原材料，当选。

B项：蔬菜与粮食为交叉关系，排除。

C项：水果不是制作沙拉必要的原材料，排除。

D项：高粱与红酒无明显联系，酿造红酒的原材料是葡萄，排除。

故本题选A。

29、(单选题)

正确答案是： D

解析：

【解题思路】 本题考查智力推理。

第一步：整理题干信息。①特色优势学科A一流师资队伍→进入“双一流”建设名单行列；②特色优势学科A一流师资队伍→全面推进高校内涵发展；③M大学没有进入“双一流”建设名单行列。④否定①的后件，推出否定前件，即M大学没有特色优势学科或没有一流师资队伍，可能为真。M大学没有特色优势学科或没有一流师资队伍否定②的前件，无法推出确定性结论，即II、III均可能为真。

故本题选D。

30、(单选题)

正确答案是： C

解析：

【解题思路】 本题考查削弱类。

第一步：分析题干论点论据。

论点：到目前为止人类还无法做到地震预测。

论据：目前人类对地球科学的认知水平还不高，从整体上还不能充分认识地震从孕育到发震的机理、时间空间分布规律。

第二步：分析反驳，确定答案。

“到目前为止人类还无法做到地震预测”的结论是由“目前人类对地球科学的认知水平还不高”所推出的，而乙没有从认知水平充分与否进行反驳，只是举例说明ICL地震预警系统已成功预警数次地震，反驳时没有在关键概念上保持一致，反驳无力。

故本题选C。