



1、(单选题)

关系营销是指在以市场和利润为导向的基础上，卖方通过满足顾客全方位的需求，不仅达成短期交易，而且与顾客建立和保持长期的相互依赖关系，创造出忠诚的顾客，取得长期稳定的竞争优势。

根据以上定义，下列哪些能体现关系营销？（ ）

- A: 某广告公司在商场门口推出时尚表演，以推广该公司的知名度
- B: 某知名品牌服装在换季之时，以低于成本的特优价格清仓甩卖
- C: 某施工队以“绝不以次充好、按时保质完成”的承诺，赢得了这次竞标
- D: 某电脑销售公司在各地建立了维修站点，提供快速、优质的售后服务

2、(单选题)

企业社会响应是指企业受社会伦理道德标准的引导满足社会某种普遍需要。

根据上述定义，下列选项不属于企业社会响应的是（ ）。

- A: 某工厂发生污染事故，周边企业出资垫付事故赔偿金
- B: 工程队在工地周围铺设防尘网，减少粉尘造成的污染
- C: 某企业捐赠3亿股企业股票给慈善组织设立专项基金
- D: 某公司按照《残疾人保障法》的规定安排残疾人就业

3、(单选题)

公民的基本权利可分为积极权利和消极权利。积极权利是指通过国家积极介入保障公民在社会经济生活领域的权利，是要求国家积极作为的权利。消极权利即自由权，是要求排除国家妨害、国家相应不作为的权利。

根据上述定义，下列选项属于积极权利范畴的是（ ）。

- A: 董事长不得借助权力剥夺股东的股权
- B: 国家为满足低收入者需要建设保障房
- C: 盲、聋、哑人员应依法列入选民名单
- D: 每一位公民都有不受非法逮捕的权利

4、(单选题)

行政代履行是指行政机关依法作出要求当事人履行排除妨碍、恢复原状等义务的行政决定，当事人逾期不履行，经催告仍不履行，其后果已经或者将危害交



违反国家规定污染环境或者破坏自然资源的，行政机关可以代履行，或者委托没有利害关系的第三人代履行。

根据上述定义，下列选项符合行政代履行规定的是（ ）。

- A: 某企业违规倾倒废渣造成水污染，因其不具备治理能力，当地环保局指定另一企业代理
- B: 安监局要求矿山企业配发防尘口罩，经催告，对拒不执行的企业，由安监局代为购买发
- C: 某工厂因噪声污染被环保局处以罚款，经催告，厂方拒不缴纳罚款，环保局遂申请法制执行
- D: 某店设置的广告牌影响行车安全，城管部门催告该店限期拆除，逾期未果，城管部门为拆除

5、(单选题)

网络暴力是行为主体的网络行为对当事人造成实质性伤害的网络失范现象。

根据上述定义，下列选项属于网络暴力的是（ ）。

- A: 某非法传销团伙借助网络发展下线
- B: 某足球俱乐部球迷建立网站，要求主教练下课
- C: 某艺人喜欢在微博上爆料，提高自己微博的访问量
- D: 某选秀选手隐私在网上被曝光后，宣布放弃晋级机会

6、(单选题)

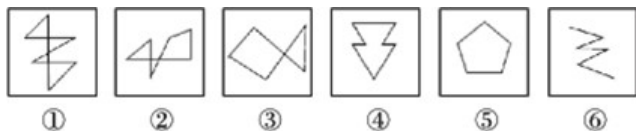
水平一体化物流是指同一行业的多个企业，通过共同利用物流渠道，获得规模经济效益、提高物流效率。水平一体化物流须具备物流需求和物流供应的信息平台，要有大量企业参与并存在较多的商品量。

根据上述定义，下列选项属于水平一体化物流的是（ ）。

- A: 某家具厂要求原材料供应商和产品销售商使用同一家物流公司
- B: 某市屠宰企业将猪、牛肉混放入冷藏车并送往一百多家零售店
- C: 电子城百家商店签订协议，指定其中一家承担电子城送货业务
- D: 某百货公司设立物流中心，统筹安排全公司各类货物发送工作

7、(单选题)

将以下图形序列中的哪两个调换位置之后，可以呈现出一定的规律性？（ ）



- A: ③和④



B: ②和④

C: ④和⑤

D: ②和⑥

8、(单选题)

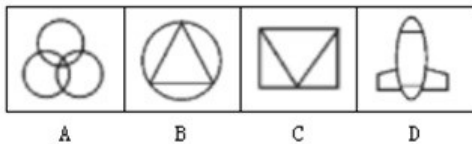
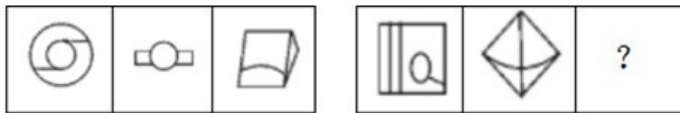
相符行为是指个人的行为与他人的行为和意志相符合、一致或相似的现象。相符行为通常包括三种情况：第一，人们出于适应社会生活环境的需要而遵守共同的社会规范，产生相似行为，以便使社会生活能正常进行；第二，相似的文化背景和社会化过程促使人们产生相似的行为；第三，人际交往中双方心理的相互影响，也导致相符行为。

根据上述定义，下列选项不属于相符行为的是（ ）。

- A: 某高校毕业生大多愿意到大型国有企业工作
- B: 双胞胎失散多年，但见面时仍可以一眼认出
- C: 两辆汽车在闹市区刮擦，路上行人驻足围观
- D: 某设计院建筑师设计的作品都有相似的风格

9、(单选题)

从所给的四个选项中，选择最合适的一个填入问号处，使之呈现一定的规律性。



- A: A
- B: B
- C: C
- D: D

10、(单选题)

虚拟人力资源管理是指以合作关系为基础，充分利用现代信息网络技术，帮助企业获取、发展和筹划智力和劳力资本的一种人力资源管理办法，它可以满足企业管理虚拟化发展的要求，将大量的人力资源管理活动外部化或由员工实现自主管理，企业从而可以将主要精力放在核心人力资源管理方面，提高人力资源管理效率。

根据上述定义，下列选项不属于虚拟人力资源管理的是（ ）。

- A: 某企业通过猎头公司物色到一位产品研发专家
- B: 某集团将其全部广告交由同一家广告公司设计
- C: 小李和同事都被公司派到某职业学校培训半年



11、(单选题)

代币管制就是用某种东西或标记来替代实物或权利，当期望行为出现时即给予一定数量的“标记”加以强化，期望行为坚持一段时间后再将“标记”按事前编制的激励系统转换成物质奖励。

根据上述定义，下列选项不属于代币管制的是（ ）。

- A: 幼儿园老师经常用小星星贴纸来鼓励表现好的孩子
- B: 某企业按员工每月接受表扬的次数，确定当月奖金
- C: 游戏规定优胜者可获得奖券，积累奖券可换取奖品
- D: 顾客在商场购物获得积分，年底用积分兑换打折卡

12、(单选题)

想象是指在原有经验的基础上创造新形象的思维活动。按照想象是否受意志控制，可分为随意想象和不随意想象。不随意想象的特点是把各种印象和信息离奇、突然、有时是无意义地组合在一起。随意想象是把各种印象和信息自觉控制、有目的、经过意志的努力呈现出需要的场景。

根据上述定义，下列选项属于随意想象的是（ ）。

- A: 小李昨天晚上睡觉时，梦到了儿时一起嬉戏的伙伴
- B: 张三接到录取通知，想到自己实现了目标，很兴奋
- C: 小王面对设计图，憧憬着公司新大楼竣工后的样子
- D: 小陈的父亲看着照片回忆起当年上山下乡时的场景

13、(单选题)

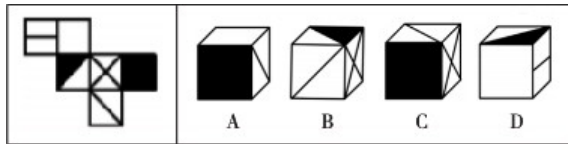
社会自组织就是指自发成立、自主发展、自行动作，具有一定规模的，以民间组织形式存在，逐步从无序走向有序的社会组织。

根据上述定义，下列选项不属于社会自组织的是（ ）。

- A: 某市软件企业定期组织企业家联谊，进行业务交流
- B: 一群学生通过QQ群认识，每周末一起参加敬老活动
- C: 每周六晚上，某市政公园广场上都有年轻人在跳街舞
- D: 一群年轻人建立动物收容所，收养各种被遗弃的宠物



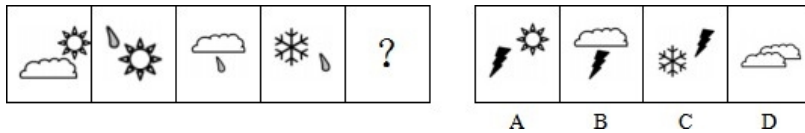
左边给定的是纸盒的外表面，下面哪一项是由它折叠而成？（ ）



- A: A
- B: B
- C: C
- D: D

15、(单选题)

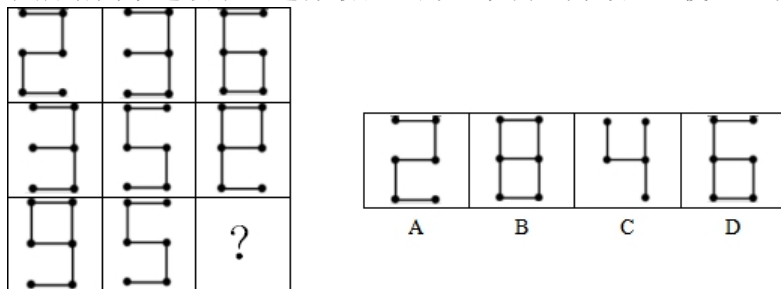
从所给四个选项中，选择最合适的一个填入问号处，使之呈现一定的规律性（ ）。



- A: A
- B: B
- C: C
- D: D

16、(单选题)

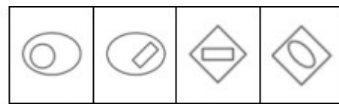
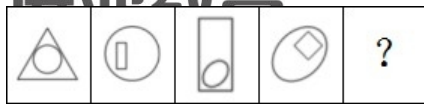
从所给四个选项中，选择最合适的一个填入问号处，使之呈现一定的规律性。



- A: A
- B: B
- C: C
- D: D

17、(单选题)

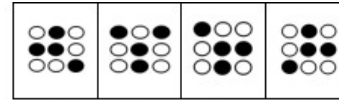
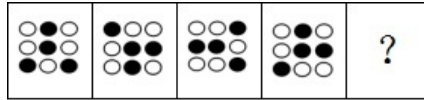
从所给四个选项中，选择最合适的一个填入问号处，使之呈现一定的规律性。



- A: A
- B: B
- C: C
- D: D

18、(单选题)

从所给四个选项中，选择最合适的一个填入问号处，使之呈现一定的规律性。



- A: A
- B: B
- C: C
- D: D

19、(单选题)

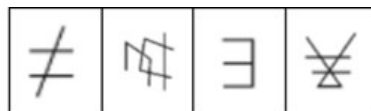
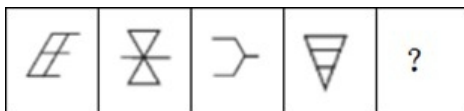
从所给的四个选项中，选择最合适的一个填入问号处，使之呈现一定的规律性。



- A: A
- B: B
- C: C
- D: D

20、(单选题)

从所给的四个选项中，选择最合适的一个填入问号处，使之呈现一定的规律性。



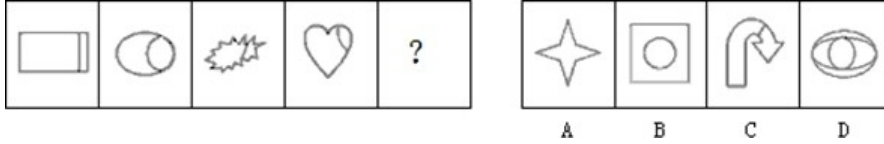
B: B

C: C

D: D

21、(单选题)

从所给的四个选项中，选择最合适的一个填入问号处，使之呈现一定的规律性。



A: A

B: B

C: C

D: D

22、(单选题)

甲、乙、丙、丁、戊、己是一个家族的兄弟姐妹。已知：甲是男孩，有三个姐姐；乙有一个哥哥和一个弟弟；丙是女孩，有一个姐姐和一个妹妹；丁的年龄在所有人当中是最大的；戊是女孩，但是她没有妹妹；己既没有弟弟也没有妹妹。

从上述叙述中，可以推出以下哪项结论？（ ）

A: 己是女的且年龄最小

B: 丁是女的

C: 六个兄弟姐妹中女孩的数量多于男孩的数量

D: 甲在六个兄弟姐妹中排行第三

23、(单选题)

科学家研究发现，由能承担部分母亲角色的机器替代母亲“养育”的雌性大猩猩幼崽，当它们有后代时，难以承担母亲的角色。而人类与大猩猩具有很大的相似性，所以婴儿不应该由保姆或日托中心来管，而只应该由他们的亲生母亲来抚育。

下列哪一陈述为真，最能加强作者的结论？（ ）

A: 研究表明大猩猩的个体差异不显著

B: 当由机器替代母亲“养育”长大的雌性大猩猩有后代时，可以教会它们一些抚育技能

C: 即使由亲生母亲抚育较短一段时间的大猩猩幼崽，长大后也能承担母亲的角色

D: 由亲生母亲之外的其他雌性大猩猩抚育的大猩猩幼崽，当它们有后代时，都不能承担的角色

24、(单选题)

北方某地区为了应对干旱，居民用水量已经受到了严重限制。不过，目前水库蓄水量与5年前该地区干旱的蓄水量持平。既然当时居民用水量并未受到限制，所以现在也不应该受到限制。

下列哪一陈述为真，将最严重地削弱作者的主张？（ ）

- A: 居民用水量占总用水量的比重很大
- B: 自上次干旱以来，当地政府采取了一些节水措施
- C: 5年来该地区的人口数量显著增加
- D: 自上次干旱以来，该地区并没有建造新的水库

25、(单选题)

如果一个人在A城市乱扔垃圾就会被认为没有道德；一个人如果没有道德，A城市里就没有人和他做朋友；一个人如果在A城市没有朋友就寸步难行，无法继续留在这里。

从上述叙述中，可以推出以下哪项结论？（ ）

- A: 一个人在B城市乱扔垃圾但是仍然可以留在A城市
- B: 如果一个人道德修养很高，那么他就能留在A城市
- C: 生活在A城市的小李在过马路时将西瓜皮扔在地上，那么他将难以再留在A城市
- D: 小王没有留在A城市说明他缺乏道德修养

26、(单选题)

宏达公司管理人员的平均年薪为20万元，而销售人员的平均年薪是18万元，公司所有员工的平均年薪是12万元。

如果以上信息是正确的，能够推出以下哪一项结论？（ ）

- A: 至少有一位员工的年薪比销售人员的平均年薪低
- B: 没有一位销售人员的年薪比管理人员高
- C: 至少有一半管理人员的年薪比销售人员的平均年薪高
- D: 宏达公司的管理人员少于销售人员

27、(单选题)

某大学寝室有8个人，三个是广东人，一个是北京人，有两个是北方人，一个是





假设上述介绍涉及该寝室的所有同学，则下列关于该寝室同学的判断与题干有矛盾的是（ ）。

- A: 保送的学生来自北方
- B: 北京人既不是保送生也不是贫困生
- C: 有两个贫困生是广东人
- D: 没有一个来自黑龙江的学生

28、(单选题)

暑假里，小张的父母给小张报了摄影兴趣班和美术兴趣班。小张知道后说，以后我又不想成为摄影家，何必学摄影。

以下哪项是小张的回答中包含的前提？（ ）

- A: 学摄影的不一定能成为摄影家
- B: 小张更想成为一名画家，而不是摄影家
- C: 只有想成为摄影家，才需要学摄影
- D: 与摄影相比，小张更喜欢画画

29、(单选题)

太空垃圾，即空间碎片，是人类空间活动的产物，包括完成任务的火箭箭体和卫星本体、火箭的喷射物、执行航天任务过程中的抛弃物、空间物体间碰撞产生的碎块等，是空间环境的主要污染源。

下列情形中属于太空垃圾的是（ ）。

- A: 航天器脱落的油漆颗粒
- B: “挑战者”号航天飞机升空72秒后发生爆炸形成的碎片
- C: 银河系最年轻的超新星“仙后座-α”爆炸后的残留物形成的尘埃
- D: 航天飞机升空后落入大气层的火箭助推器

30、(单选题)

一般认为，男人和女人相比，忍耐能力较差。最近的一项调查显示男人和女人在对待加班态度上没有明显差异。因此，认为男人比女人忍耐力差的观点是站不住脚的。

以下哪项如果为真，最能削弱上述论证？（ ）

- A: 加班只是延长了工作时间
- B: 加班有加班费，不管男人女人都乐意通过加班增加收入



## 1、(单选题)

正确答案是: D

解析:

本题考查经济类定义判断。

第一步: 分析定义要点。“关系营销”的定义要点: ①卖方通过满足顾客全方位的需求; ②与顾客建立和保持长期的相互依赖关系。

第二步: 分析选项, 确定答案。

A项: 广告公司提高知名度, 没有体现与顾客建立和保持长期的相互依赖关系, 不符合②, 排除。

B项: 换季时清仓甩卖没有体现与顾客建立和保持长期的相互依赖关系, 不符合②, 排除。

C项: 某施工队以承诺赢得竞标, 没有体现满足顾客全方位需求, 不符合①, 也没有体现与顾客建立和保持长期的相互依赖关系, 不符合②, 排除。

D项: 电脑销售公司在各地建立维修站点提供售后服务满足顾客全方位的需求, 符合①, 与顾客建立和保持长期的相互依赖关系, 符合②, 符合定义, 当选。

故本题选D。

## 2、(单选题)

正确答案是: D

解析:

本题考查社会类定义判断。

第一步: 分析定义要点。“企业社会响应”的定义要点是: ①受社会伦理道德标准的引导; ②满足社会某种普遍需要。

第二步: 分析选项, 确定答案。

A项: 工厂发生污染事故, 周边企业出资垫付事故赔偿金, 是受社会伦理道德标准的引导, 满足社会普遍需要, 符合①②, 符合定义, 排除。

B项: 工程队在工地周围铺设防尘网, 是受社会伦理道德标准的引导, 符合①; 减少粉尘造成的污染, 是满足社会普遍需要, 符合②, 符合定义, 排除。

C项: 企业捐赠股票给慈善机构, 是受社会伦理道德标准的引导, 符合①; 设立专项资金, 是满足社会普遍需要, 符合②, 符合定义, 排除。

D项: 公司按照《残疾人保障法》安排残疾人就业是遵循法律, 不是受社会伦理道德标准的引导, 不符合①, 当选。

故本题选D。

正确答案是： B

解析：

本题考查社法律类定义判断。

第一步：分析定义要点。“积极权利”的定义要点是：①国家积极介入保障公民在社会经济生活领域的权利；②要求国家积极作为。

第二步：分析选项，确定答案。

A项：董事长不是国家，不符合①，排除。

B项：国家建设保障房，是积极作为，符合②；满足低收入者的住房需求，是保障公民在社会经济生活领域的权利，符合①，符合定义，当选。

C项：保障盲、聋、哑人员的选举权，不属于社会经济生活领域，不符合①，排除。

D项：公民不受非法逮捕，不属于国家积极作为，不符合②，排除。

故本题选B。

#### 4、(单选题)

正确答案是： D

解析：

本题考查社会类定义判断。

第一步：分析定义要点。“行政代履行”的定义要点：①经催告仍不履行；②其后果已经或者将危害交通安全、造成环境污染或者破坏自然资源；③行政机关代履行，或者委托没有利害关系的第三人代履行。

第二步：分析选项，确定答案。

A项：某企业不具备治理能力，不是经催告仍不履行，不符合①，排除。

B项：矿山企业不配发口罩没有危害交通安全、造成环境污染或者破坏自然资源，不符合②，排除。

C项：环保局申请法院强制执行，法院是司法机关，不是行政机关，也不是第三人，不符合③，排除。

D项：城管部门催告该店限期拆除，逾期未果符合①，广告牌影响行车安全符合②，城管部门代为拆除符合③，符合定义，当选。

故本题选D。

#### 5、(单选题)

正确答案是： D

解析：

本题考查社会类定义判断。

第一步：分析定义要点。“网络暴力”的定义要点是“对当事人造成实质性伤害”。

第二步：分析选项，确定答案。

A项：非法传销团伙借助网络发展下线，没有对当事人造成实质性伤害，不符合定义要点，排除。

B项：球迷建立网站要求主教练下课，没有对当事人造成实质性伤害，不符合定义要点，排除。

C项：艺人喜欢在微博上爆料提高访问量，没有对当事人造成实质性伤害，不符合定义要点，排除。

D项：选秀选手隐私在网上被曝光，导致其放弃晋级机会，对当事人造成实质性伤害，符合定义要点，当选。

故本题选D。

正确答案是： C

解析：

本题考查经济类定义判断。

第一步：分析定义要点。“水平一体化物流”的定义要点是：①同一行业的多个企业；②共同利用物流渠道。

第二步：分析选项，确定答案。

A项：供应商和销售商不属于同一行业，不符合①，排除。

B项：某市屠宰企业只是一个单独的企业，不符合①，排除。

C项：电子城百家商店符合①，指定一家承担电子城送货业务符合②，符合定义，当选。

D项：某百货公司只是一个单独的企业，不符合①，排除。

故本题选C。

7、(单选题)

正确答案是： A

解析：

本题考查数量类规律。

观察图形。题干各图形不规则，有明显交点，考虑点的数量类规律。题干各图形交点数依次为：9、8、6、7、5、4，交换③和④后，各图形交点数依次为：9、8、7、6、5、4，构成等差数列。

故本题选A。

8、(单选题)

正确答案是： B

解析：

本题考查社会类定义判断。

第一步：分析定义要点。“相符行为”的定义要点是：①出于适应社会生活环境的需要产生相似行为；②相似的文化背景和社会化过程促使人们产生相似的行为；③人际交往中双方心理的相互影响导致相符行为。符合其一即可。

第二步：分析选项，确定答案。

A项：高校毕业生大多愿意到国企工作，符合②，符合定义，排除。

B项：双胞胎失散多年，见面时仍可一眼认出，不符合①②③，当选。 C

项：路上行人围观汽车刮擦，符合③，符合定义，排除。

D项：某设计院建筑师设计的作品风格相似，符合②，符合定义，排除。

故本题选B。

9、(单选题)

正确答案是： B



解析：  
本题考查数量类规律。

第一步：观察图形。题干图形组成不规则，优先考虑数量类规律。题干第一组各图形封闭空间数均为3，第二组前两个图形封闭空间数均为4，则问号处图形封闭空间数应为4。

第二步：分析选项，确定答案。

A项：封闭空间数为7，排除。

B项：封闭空间数为4，当选。

C项：封闭空间数为3，排除。

D项：封闭空间数为5，排除。

故本题选B。

## 10、(单选题)

正确答案是： B

解析：

本题考查管理类定义判断。

第一步：分析定义要点。“虚拟人力资源管理”的定义要点是“帮助企业获取、发展和筹划智力和劳力资本”。

第二步：分析选项，确定答案。

A项：物色到产品研发专家是帮助企业获取智力和劳力资本，符合定义要点，排除。

B项：广告交由广告公司设计不是帮助企业获取、发展和筹划智力和劳力资本，不符合定义要点，当选。

C项：小李和同事被派到职业学校培训半年是帮助企业发展智力和劳力资本，符合定义要点，排除。

D项：委托劳动派遣公司负责分发员工薪酬是帮助企业筹划智力和劳力资本，符合定义要点，排除。

故本题选B。

## 11、(单选题)

正确答案是： A

解析：

本题考查管理类。

第一步：分析定义要点。“代币管制制”的定义要点是“将‘标记’按事前编制的激励系统转换成物质奖励”。

第二步：分析选项，确定答案。

A项：没有涉及到转换成物质奖励，不符合定义要点，当选。B

项：确定当月奖金是转换成物质奖励，符合定义要点，排除。C

项：奖券换取奖品是转换成物质奖励，符合定义要点，排除。

D项：积分兑换打折卡是转换成物质奖励，符合定义要点，排除。

故本题选A。

## 12、(单选题)

正确答案是： C



解析：  
本题考查心理类定义判断。

第一步：分析定义要点。“随意想象”的定义要点是“把各种印象和信息自觉控制、有目的、经过意志的努力呈现出需要的场景”。

第二步：分析选项，确定答案。

A项：小李晚上做梦不是经过意志的努力，不符合定义要点，排除。

B项：张三想到自己实现了目标不是经过意志的努力，不符合定义要点，排除。

C项：小王憧憬着新大楼竣工后的样子是经过意志的努力，符合定义要点，当选。

D项：小陈的父亲看着照片回忆当年的场景不是经过意志的努力，不符合定义要点，排除。

故本题选C。

### 13、(单选题)

正确答案是： C

解析：

本题考查社会类定义判断。

第一步：分析定义要点。“社会自组织”的定义要点：①自发成立、自主发展、自行动作；②从无序走向有序的社会组织。

第二步：分析选项，确定答案。

A项：联谊会自发成立、自主发展、自行动作，符合①，定期组织是从无序走向有序，符合②，符合定义，排除。

B项：一群学生自发成立、自主发展、自行动作，符合①，每周末参加敬老活动是从无序走向有序，符合②，符合定义，排除。

C项：每周六都有年轻人跳街舞，不存在民间组织，不符合②，当选。

D项：年轻人建立动物收容所自发成立、自主发展、自行动作，是从无序走向有序的社会组织，符合①②，符合定义，排除。

故本题选C。

### 14、(单选题)

正确答案是： D

解析：

本题考查空间类规律。

第一步：观察图形。题干图形为六面体的展开图，考虑六面体的展开图的折叠规律。

第二步：分析选项，确定答案。

A项：空白面与斜线为相对面，排除。

B项：黑色三角形所在的面与十字交叉所在的面应为白色三角形与十字交叉所在的面相接，排除。

C项：假设正面与右面正确，则顶面斜线应为左下到右上，排除。

D项：符合折叠规律，当选。

故本题选D。

### 15、(单选题)

正确答案是： C

解析：



本题考查形状类规律。  
第一步：观察图形，相邻图形间存在相同元素，考虑形状类规律。题干相邻图形间有且仅有一个相同元素，则问号处图形应与第四个图形有且仅有一个相同元素。

第二步：分析选项，确定答案。

A项：与第四个图形没有相同元素，排除。

B项：与第四个图形没有相同元素，排除。

C项：与第四个图形有且仅有一个相同元素，当选。

D项：与第四个图形没有相同元素，排除。

故本题选C。

## 16、(单选题)

正确答案是： A

解析：

本题考查数量类规律。

第一步：观察图形，图形间不相似，考虑数量类规律。题干前两行图形线段总数均为16，第三行图形遵循此规律，前两个图形线段数依次为：6、5，则问号处图形线段数应为5。

第二步：分析选项，确定答案。

A项：线段数为5，当选。

B项：线段数为7，排除。

C项：线段数为4，排除。

D项：线段数为6，排除。

故本题选A。

## 17、(单选题)

正确答案是： D

解析：

本题考查曲直规律。

第一步：观察图形，题干各图形均为直曲混合图形，考虑直曲关系类规律。题干各图形外部依次为：直线、曲线、直线、曲线，内部依次为：曲线、直线、曲线、直线。则问号处图形应外部为直线，内部为曲线。

第二步：分析选项，确定答案。

A项：外部为曲线，排除。

B项：外部为曲线，排除。

C项：内部为直线，排除。

D项：外部为直线，内部为曲线，当选。

故本题选D。

## 18、(单选题)

正确答案是： B

解析：

本题考查对称规律。

第一步：观察图形，题干各图形均为轴对称图形，考虑对称类规律。题干各图形对称轴依次逆时针旋转45度，则问号处图形对称轴应在第四个图形的基础上逆时针旋转45度。

第二步：分析选项，确定答案。



A项：对称轴逆时针旋转90度，排除。  
B项：对称轴逆时针旋转45度，当选。  
C项：对称轴顺时针旋转90度，排除。  
D项：对称轴保持不变，排除。  
故本题选B。

### 19、(单选题)

正确答案是： B

解析：

本题考查形状类规律。

第一步：观察图形。题干第一组第三个图形与前两个图形的一部分相似，考虑叠加规律。第一组第一个图形旋转180°，下半部分与第二个图形叠加，去除公共边得到第三个图形。第二组图形遵循此规律，叠加后下半部分应为向下凸出的圆弧，且去除公共边。

第二步：分析选项，确定答案。

A项：没有去除公共边，排除。

B项：下半部分为向下凸出的圆弧，且去除公共边，当选。

C项：下半部分为向上凸出的圆弧，排除。

D项：下半部分为向上凸出的圆弧，排除。

故本题选B。

### 20、(单选题)

正确答案是： D

解析：

本题考查数量类规律。

第一步：观察图形。题干各图形组成较为凌乱，线条明显，考虑线的数量规律。题干各图形直线数均为5，则问号处图形直线数也应为5。

第二步：分析选项，确定答案。

A项：直线数为3，排除。

B项：直线数为7，排除。

C项：直线数为4，排除。

D项：直线数为5，当选。

故本题选D。

### 21、(单选题)

正确答案是： C

解析：

本题考查数量类规律。

第一步：观察图形。题干图形数量类关系明显。题干各图形均含有2个封闭空间，且这2个封闭空间不是包含关系，则问号处图形也应含有2个没有包含关系的封闭空间。

第二步：分析选项，确定答案。





A项：只有1个封闭空间，排除。

B项：含有2个封闭空间，但矩形包含圆形，排除。

C项：含有2个封闭空间，且这2个封闭空间之间没有包含关系，当选。

D项：含有5个封闭空间，排除。

故本题选C。

## 22、(单选题)

正确答案是： B

解析：

本题考查智力推理。

根据题干信息，利用排除法解题。

由“丙是女孩，有一个姐姐和一个妹妹”可知，6人中有3个男孩和3个女孩，排除C项。

由“甲是男孩，有三个姐姐”可知，甲在六个兄弟姐妹中排行最高是第四，排除D项。

由“甲是男孩，有三个姐姐”可知，年龄最小的不是女孩，排除A项。

故本题选B。

## 23、(单选题)

正确答案是： D

解析：

本题考查加强类。

第一步：分析题干论点论据。

论点：婴儿不应该由保姆或日托中心来管，而只应该由他们的亲生母亲来抚育。

论据：由能承担部分母亲角色的机器替代母亲“养育”的雌性大猩猩幼崽，当它们有后代时，难以承担母亲的角色；人类与大猩猩具有很大的相似性。

第二步：分析选项，确定答案。

A项：大猩猩的个体差异是否显著与题干论点无关，排除。

B项：可以教会大猩猩后代抚育技能，说明可以帮助它们承担母亲的角色，削弱了论据，排除。

C项：说明由亲生母亲抚育较短一段时间也可以承担母亲的角色，削弱题干论点，排除。

D项：由亲生母亲之外的其他雌性大猩猩抚育的大猩猩幼崽都不能承担母亲的角色，说明婴儿只能有亲生母亲抚育，补充论据，加强题干论点，当选。

故本题选D。

## 24、(单选题)

正确答案是： C

解析：

本题考查削弱类。

第一步：分析题干论点论据。

论点：现在居民用水量不应该受到限制。

论据：目前水库蓄水量与5年前该地区干旱的蓄水量持平，当时居民用水量



并不受到限制。  
第二步：分析选项，确定答案。

A项：题干未提及总用水量，居民用水量的占比与题干论点无关，排除。

B项：采取节水措施无法说明现在用水量是否需要限制，不能削弱题干论点，排除。

C项：人口数量显著增加说明居民用水量增加，与5年前情况不同，最能削弱题干论点，当选。

D项：没有建造新的水库无法说明居民用水量是否需要限制，不能削弱题干论点，排除。

故本题选C。

## 25、(单选题)

正确答案是： C

解析：

本题考查翻译推理。

第一步：翻译题干信息。①在A城市乱扔垃圾→没有道德；②没有道德→A城市没人和他做朋友；③在A城市没有朋友→无法继续留在A城市。整合信息得到：在A城市乱扔垃圾→没有道德→A城市没人和他做朋友→无法继续留在A城市。

第二步：分析选项，确定答案。

A项：题干未涉及B城市，无法推出，排除。

B项：“道德修养高”否定前件“没有道德”，无法推出否定后件“留在A城市”，排除。

C项：小李在A城市乱扔垃圾肯定前件，可以推出肯定后件，即无法继续留在A城市，当选。

D项：“没有留在A城市”肯定后件，无法推出肯定前件，排除。

故本题选C。

## 26、(单选题)

正确答案是： A

解析：

本题考查结论类。

根据题干信息分析选项，确定答案。

A项：由“销售人员的平均年薪是18万元，公司所有员工的平均年薪是12万元”可知，至少有一位员工的年薪比销售人员的平均年薪低，当选。

B项：从平均数无法推出是否有销售人员的年薪比管理人员高，排除。

C项：从平均数只能推出有管理人员的年薪比销售人员的平均年薪高，无法推出具体数量，排除。

D项：从平均数无法推出管理人员与销售人员的数量多少，排除。

故本题选A。

## 27、(单选题)

正确答案是： C

解析：

本题考查智力推理。

第一步：分析题干信息。北京人属于北方人。

第二步：分析选项，确定答案。



- A项：保送的学生来自北方与题干不矛盾，排除。  
B项：北京人既不是保送生也不是贫困生与题干不矛盾，排除。  
C项：若两个贫困生是广东人，则最多有三个广东人、两个北方人、一个保送生、一个非广东的贫困生共7人，与题干矛盾，当选。  
D项：没有一个来自黑龙江的学生与题干不矛盾，排除。  
故本题选C。

## 28、(单选题)

正确答案是： C

解析：

本题考查前提类。

第一步：分析题干论点论据。

论点：不必学摄影。

论据：不想成为摄影家。

第二步：分析选项，确定答案。

A项：学摄影的不一定能成为摄影家，进一步切断了论点和论据之间的关系，削弱题干论证，排除。

B项：小张想成为画家与题干论点无关，排除。

C项：只有想成为摄影家，才需要学摄影，在论点和论据之间建立联系，是题干论证成立的前提，当选。

D项：小张更喜欢画画与题干论证无关，排除。

故本题选C。

## 29、(单选题)

正确答案是： A

解析：

本题考查科学类定义判断。

第一步：分析定义要点。

“太空垃圾”的定义要点是“人类空间活动的产物，包括完成任务的火箭箭体和卫星本体、火箭的喷射物、执行航天任务过程中的抛弃物、空间物体间碰撞产生的碎块”。

第二步：分析选项，确定答案。

A项：航天器脱落的油漆颗粒是人类空间活动的产物，符合定义要点，当选。

B项：“升空72秒后”即不是空间活动的产物，不符合定义要点，排除。

C项：超新星与人类活动无关，不符合定义要点，排除。

D项：“落入大气层”即不是空间活动的产物，不符合定义要点，排除。

故本题选A。

## 30、(单选题)

正确答案是： D

解析：

本题考查削弱类。

第一步：分析题干论点论据。

论点：认为男人比女人忍耐力差的观点是站不住脚的。

第二步：分析选项，确定答案。



第二步：分析选项，确定答案。



A项：加班延长了工作时间所以才需要忍耐力，不能削弱题干论证，排除。

B项：男人女人都乐意通过加班增加收入，因此在对待加班态度上没有明显差异，与忍耐力无关，不能削弱题干论证，排除。

C项：男人比女人加班机会多，但和女人加班态度没有明显差异排除，说明男人忍耐力更好，加强题干论点，排除。

D项：女人更不愿意加班，但在对待加班态度上与男人没有差异，说明女人忍耐力更好，最能削弱题干论证，当选。

故本题选D。