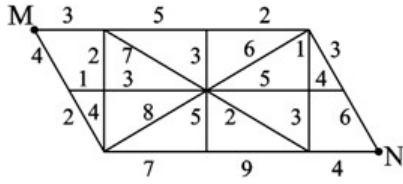




1、(单选题)

M、N两地之间要架设电缆，已知两地之间地势复杂，电缆的架设需要绕道，绕道线路和相应的线路会导致的电量损耗（即所示数字，单位略）见下图。则从M到N架设电缆的电量损耗最低为（ ）。



- A: 14
- B: 16
- C: 17
- D: 18

2、(单选题)

某公司去年有员工350人。与去年相比，今年本科及以上学历员工增加25人，本科以下学历员工减少了2%，总人数增加20人。则该公司今年本科及以上学历员工有多少人？（ ）

- A: 75
- B: 100
- C: 125
- D: 150

3、(单选题)

某单位组织员工外出活动，所有员工刚好坐满10辆客车。已知大客车每辆坐50人，小客车每辆坐30人，大客车比小客车一共多坐了260人。则大客车有多少辆？（ ）

- A: 3
- B: 4
- C: 6
- D: 7

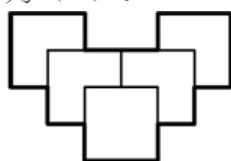
4、(单选题)

今年（2012）3月份的最后一天是星期六，则2013年3月份的最后一天是（ ）。

- A: 星期日
- B: 星期四
- C: 星期五
- D: 星期六

5、(单选题)

将5个大小相同的正方形按右图的方式叠放，两个正方形重叠的位置刚好为边的中点。如果正方形的边长为8厘米，则这个组合图形的外周（下图粗线条）长度为（ ）。



- A: 72厘米
- B: 80厘米
- C: 88厘米
- D: 96厘米

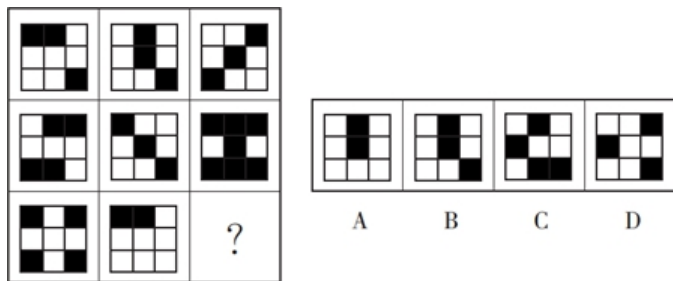
6、(单选题)

已知 $33 \times 34 = 1122$ ， $333333 \times 333334 = 111111222222$ ，那么 $33333 \times 33334 =$ （ ）。

- A: 111122222
- B: 111112222
- C: 11112222
- D: 1111122222

7、(单选题)

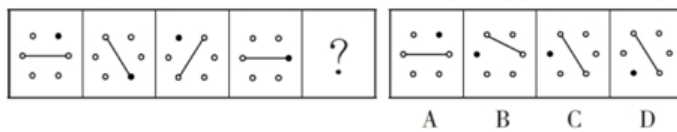
请选择最适合的一项填入问号处，使之符合整个图形的变化规律。



- A: A
- B: B
- C: C
- D: D

8、(单选题)

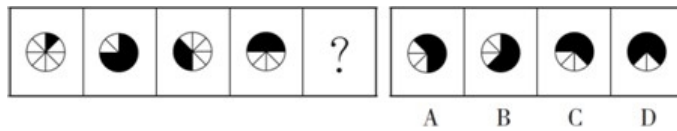
请选择最适合的一项填入问号处，使之符合之前四个图形的变化规律。



- A: A
- B: B
- C: C
- D: D

9、(单选题)

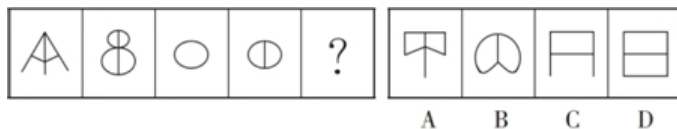
请选择最适合的一项填入问号处，使之符合之前四个图形的变化规律。



- A: A
- B: B
- C: C
- D: D

10、(单选题)

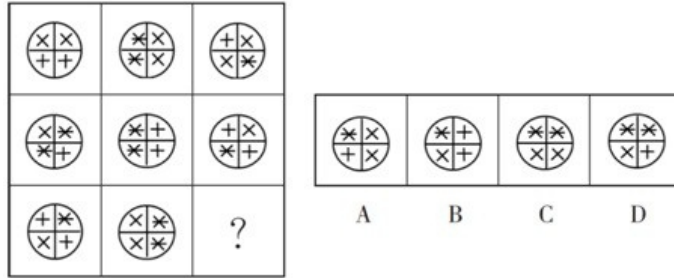
请选择最适合的一项填入问号处，使右边图形的变化规律与左边图形一致。



- A: A
- B: B
- C: C
- D: D

11、(单选题)

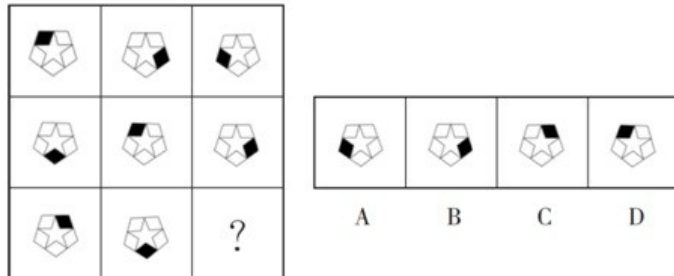
请选择最适合的一项填入问号处，使之符合整个图形的变化规律。



- A: A
- B: B
- C: C
- D: D

12、(单选题)

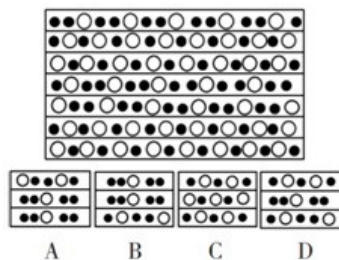
请选择最适合的一项填入问号处，使之符合整个图形的变化规律。



- A: A
- B: B
- C: C
- D: D

13、(单选题)

以下选项是从上方图片中截取出来的是 ()。

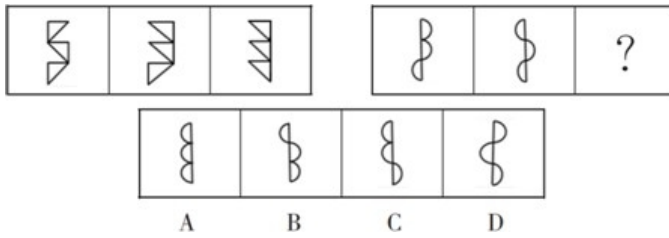


- A: A

- B: B
- C: C
- D: D

14、(单选题)

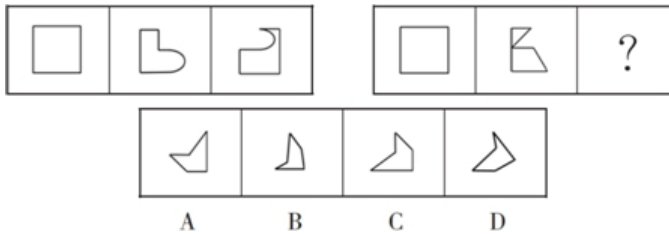
请选择最适合的一项填入问号处，使右边图形的变化规律与左边图形一致。



- A: A
- B: B
- C: C
- D: D

15、(单选题)

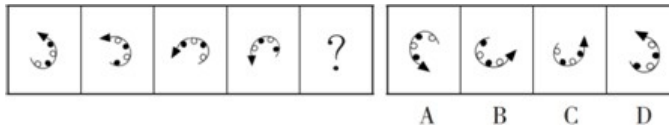
请选择最适合的一项填入问号处，使右边图形的变化规律与左边图形一致。



- A: A
- B: B
- C: C
- D: D

16、(单选题)

请选择最适合的一项填入问号处，使之符合之前四个图形的变化规律。



- A: A
- B: B
- C: C
- D: D

17、(单选题)

尽管人们急需更好的新型药物来治疗神经退行类疾病，但对大型制药公司来说，研发相关药物却过于复杂和昂贵，花费数百万美元的研发随时可能失败，投资风险巨大。因此，不能指望大型制药公司会投资研发治疗神经退行类疾病的药物。

以下哪项为真，最能够反驳上述推理？（ ）

- A: 大部分神经退行类疾病不具备传染性，而且对生命的危害是缓慢、长期的
- B: 癌症药物的研发成本和复杂度是所有药物研发中最高的，但很多大型制药公司依然对力投入
- C: 尽管目前部分神经退行类疾病可以通过非药物方式治疗，但治疗方式非常残酷，容易人造成永久伤害
- D: 一般药物的研发周期平均只需要1.2年，而神经退行类药物的研发周期却长达6至10年

18、(单选题)

用水超标家庭指的是日均用水量超过所在地区70%家庭的水平的家庭。近五年来，甲地区的用水超标家庭数量明显逐年增加。

由此可以推知以下哪项陈述也必定属实？（ ）

- ①今年甲地区任何一个用水超标家庭的日均用水量都高于地区的日均耗水量。
- ②近五年来，甲地区的日用水总量逐年明显增加。
- ③近五年来，甲地区用水不超标的家庭数量明显逐年增加。

- A: 只有①
- B: 只有②
- C: 只有③
- D: 只有①和②

19、(单选题)

最近有消费者传言M公司的汽车的动力系统存在技术问题。技术问题的存在会对M公司的声誉造成伤害。如果M公司不试图去检验这一问题，消费者就会对M公司的产品失去信心。但如果M公司去检验并证明汽车的动力系统没有问题，反而会使消费者更加怀疑该公司汽车的动力系统确实存在技术问题。

由此可以推出（ ）。

- A: M公司应该向外界承认自己公司的小部分汽车的动力系统存在技术问题
- B: 面对这种传言，M公司最好的策略是召回消费者传言有问题的汽车
- C: M公司已经无法阻止这种传言对M公司的声誉造成的伤害
- D: 如果有消费者传言M公司的汽车的动力系统不存在技术问题，这种传言也会损害M公司誉

20、(单选题)

某单位要编排一个歌唱节目，在成员的选择上，要考虑以下原则：A的表演经验丰富，必须入选；B与C配合得最好，要么一起去，要么都不去；D的歌唱技巧需要C的指导，D去了，C一定要去；E与B都是唱高音的，只需要去其中一个。那么这个节目的成员人数可能是多少个？（ ）

- A: 1或2
- B: 1或3
- C: 5
- D: 2、3或4

21、(单选题)

科学界最近发现了一种 α 拟菌病毒，这种病毒会寄生于 β 变形虫体内。被这种病毒寄生的 β 变形虫会在哺乳类动物体内释放某种 γ 刺激物，这种刺激物会导致该动物的呼吸系统产生剧烈反应，严重时会造成呼吸困难。目前在临床中发现有呼吸困难症状的动物体内都能找到 α 拟菌病毒。

由此可以推出（ ）。

- A: 在呼吸正常的哺乳类动物体内不可能发现 γ 刺激物
- B: β 变形虫在哺乳类动物体内会使哺乳类动物的呼吸系统产生剧烈反应
- C: β 变形虫在没有 α 拟菌病毒寄生的情况下，不会产生导致哺乳类动物呼吸困难的刺激物
- D: 如果某个哺乳类动物感染了 α 拟菌病毒，该动物肯定有呼吸困难的状况

22、(单选题)

一方面希望能通过信息技术中的“云服务”带来更多生活的便利，一方面又不想承担个人信息会被泄露的风险，这是不可能的。

以下哪项最准确地说明了题干所描述的情况（ ）。

- A: 有人不需要承担个人信息泄露的风险，也享受了“云服务”带来的生活便利，这是可能的
- B: 或者选择不使用“云服务”，或者选择承担个人信息被泄露的风险，这是必然的
- C: 如果不使用“云服务”，那么不承担个人信息被泄露的风险是可能的
- D: 每个人都不想承担个人信息被泄露的风险，这是必然的

23、(单选题)

近年来，A凉茶饮料的销量有了明显的增长，同时，生产该饮料的公司用于该饮料的保健效用的研发费也同样明显地增长。业内人士认为，A凉茶饮料销量的增长，得益于其保健效用的提升。

以下哪项为真，最能削弱上述结论？（ ）

- A: 在饮料消费市场中，凉茶饮料所占的份额只有10%
- B: 市面上保健效用被公认为最好的B凉茶饮料的销量并不如A凉茶饮料
- C: 近年来，市面上不少品牌的凉茶饮料的销售量都有了大幅度提升
- D: 消费者购买A凉茶饮料，是因为该饮料的口味宜人、包装时尚

24、(单选题)

要使一个人真正戒烟成功，至少必须解决两个关键问题：一是减少接触烟草的机会，二是家人的支持。如果以上两个方面不能确实解决，那么即使个人有再强的意志力，也不可能戒断烟瘾。

由此不能推出（ ）。

- A: 只要减少了接触烟草的机会，得到了家人的支持，并具备强大的意志力，就一定能戒烟成功
- B: 只有减少接触烟草的机会，才能戒断烟瘾
- C: 除非减少了接触烟草的机会并得到家人支持，否则不可能成功戒烟
- D: 一个意志力强大的人戒烟成功肯定得到了家人的支持

25、(单选题)

某次医学调查发现，对同一类病的治疗，使用价格较低的药物与在同一时间内使用价格较高的药物的疗效相当。因此，应该大力推广价格较低的药物，以降低医疗成本。

以下哪项为真，最能削弱上述结论？（ ）

- A: 价格较低药物的副作用比价格较高的药要小
- B: 价格较低的药物在单位时间内服药的次数和每次要服用的剂量都要高于价格较高的药
- C: 价格较低药物的利润空间比较小，不利于制药公司的生存
- D: 中产阶级及富人阶级在医疗过程中比较倾向于使用价格比较高的药物

26、(单选题)

所有操作、携带方便的移动电话显示屏尺寸不可能大于3.5英寸，而所有注重阅读效果的移动电话显示屏尺寸都要大于3.5英寸。S品牌的移动电话的显示屏有4英寸。

基于以上事实，以下判断一定正确的是（ ）。

- A: S品牌的移动电话不注重阅读效果
- B: S品牌的移动电话既不便于操作和携带，也不注重阅读效果
- C: S品牌的移动电话不便于操作和携带
- D: S品牌的移动电话便于操作和携带

27、(单选题)

镰刀:农夫:水稻

A: 机器:工人:印刷

B: 奶牛:奶农:牛奶

C: 兵法:将军:战役

D: 银行卡:客户:存钱

28、(单选题)

贷款:银行

A: 病历:病人

B: 邮件:邮局

C: 火灾:消防车

D: 罚单:交警

29、(单选题)

成本:价格

A: 油耗:功率

B: 产量:需求

C: 工艺:质量

D: 成绩:培训

30、(单选题)

锦上添花:雪中送炭

A: 见死不救:落井下石

B: 衣锦夜行:光宗耀祖

- C: 安居乐业:背井离乡
- D: 满目疮痍:百废待兴

1、(单选题)

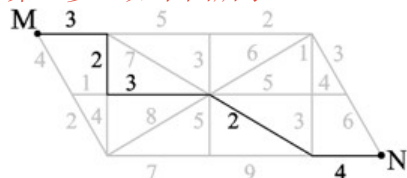
正确答案是: A

解析:

本题考查思维统筹问题。

第一步: 审阅题干。要使电量损耗最少, 则在路线选择时尽量每一步选择损耗较少的路线, 且只能选择向右、向下或右下方向的路线。

第二步: 如下图所示:



从M点出发, 依次选择损耗小的路线, 电量损耗为 $3+2+3+2+4=14$, 已是选项中最小项。

故本题选A。

2、(单选题)

正确答案是: C

解析:

本题考查基础应用。

第一步: 审阅题干。本科及以上学历员工增加25人, 总人数增加20人, 则本科以下学历员工减少了 $25-20=5$ 人。

第二步: 该公司去年本科以下学历员工有 $5 \div 2\% = 250$ 人, 则该公司今年本科及以上学历员工有 $350-250+25=125$ 人。

故本题选C。

3、(单选题)

正确答案是: D

解析:

本题考查基础应用。

第一步: 审阅题干。简单基础应用问题, 可直接设未知数列方程解题。

第二步: 设大客车有 x 辆, 则小客车有 $(10-x)$ 辆, 根据题意有 $50x-30(10-x)$

$x) = 260$ ，解得 $x=7$ 。
故本题选D。

4、(单选题)

正确答案是： A

解析：

本题考查日期问题。

第一步：审阅题干。2012年为闰年，2月有29天，但需注意题干涉及的是2013年的2月。

第二步：2012年3月份的最后一天到2013年3月份的最后一天有365天，即52周零1天，则2013年3月份的最后一天是星期日。

故本题选A。

5、(单选题)

正确答案是： C

解析：

本题考查平面几何问题。

第一步：审阅题干。两个正方形重叠的位置刚好为边的中点，则可直接数外周边的段数。

第二步：这个组合图形的外周有6个长边、10个短边，则外周长度为 $6 \times 8 + 10 \times 4 = 88$ 厘米。

故本题选C。

6、(单选题)

正确答案是： D

解析：

本题考查基础数学。

第一步：审阅题干。该类题目在于寻找规律，本题可从乘数和积的位数着手。

第二步：观察可知，各式被乘数和乘数位数一致，积的位数是乘数的两倍，积中一半是1，一半是2，则原式的积应为10位数，且1的个数和2的个数均为5，

只有D项符合。

故本题选D。

7、(单选题)

正确答案是： A

解析：

本题考查数量类规律。

第一步：观察图形。题干九宫格组成相似，考虑叠加规律。九宫格“米”字形两端的图形叠加，去同存异得到中间图形，则问号处图形与第一行第一个图形叠加，去同存异应得到中间图形。

第二步：分析选项，确定答案。

A项：与第一行第一个图形叠加，去同存异可得到中间图形，当选。

B项：与第一行第一个图形叠加，去同存异不能得到中间图形，排除。

C项：与第一行第一个图形叠加，去同存异不能得到中间图形，排除。

D项：与第一行第一个图形叠加，去同存异不能得到中间图形，排除。

故本题选A。

8、(单选题)

正确答案是： C

解析：

本题考查位置类规律。

第一步：观察图形。题干各图形组成相同，各元素位置、方向不同，考虑位置类规律。题干各图形中线段依次顺时针旋转 60° ，黑点依次顺时针移动2、3、2、(3)格，则问号处图形中线段应在第四个图形的基础上顺时针旋转 60° ，黑点顺时针移动3格。

第二步：分析选项，确定答案。

A项：线段未旋转，排除。

B项：线段旋转角度错误，排除。

C项：线段旋转、黑点移动均符合题干规律，当选。

D项：黑点仅移动2格，排除。

故本题选C。

9、(单选题)

正确答案是： B

解析：

本题考查位置类规律。

第一步：观察图形。题干各图形元素组成相同，颜色不同，考虑位置类规律和形状类规律。题干各图形扇形格不同色的区域依次为：1、2、3、4，颜色黑白交替变化，且整体依次逆时针旋转 45° 。则问号处图形应含有5个黑色扇形格，且起始点在左下方。

第二步：分析选项，确定答案。

A项：黑色部分起始点错误，排除。

B项：含有5个黑色扇形格，且起始点在左下方，当选。

C项：黑色部分起始点错误，排除。

D项：含有6个黑色扇形格，排除。

故本题选B。

10、(单选题)

正确答案是： D

解析：

本题考查形状类规律。

第一步：观察图形。题干各图形均为轴对称图形，有明显的字母特征，考虑形状类规律。题干各图形依次为字母A、B、C、D翻转后与原图形拼接得到，则问号处图形应由字母E翻转后与原图拼接得到。

第二步：分析选项，确定答案。

A项：不是字母E翻转后与原图拼接的，排除。

B项：不是字母E翻转后与原图拼接的，排除。

C项：不是字母E翻转后与原图拼接的，排除。

D项：是由字母E翻转后与原图拼接的，当选。

故本题选D。

11、(单选题)

正确答案是： C

解析：

本题考查形状类规律。

第一步：观察图形。题干图形组成相似，考虑形状类规律。题干九宫格每行前两个图形叠加，同一位置元素相同则保留，元素不同则变为新的元素。问号处图形遵循此规律，则左下角和右上角元素不变，左上角和右下角应为新元素。

第二步：分析选项，确定答案。

A项：左下角和右上角元素变化，排除。

B项：左下角和右上角元素变化，排除。

C项：左下角和右上角元素不变，左上角和右下角为新元素，当选。

D项：右下角不是新的元素，与第一个图形相同，排除。

故本题选C。

12、(单选题)

正确答案是： D

解析：

本题考查位置类规律。

第一步：观察图形。题干各图形元素组成相同，位置、方向不同，考虑位置类规律。题干九宫格每行黑色菱形依次顺时针移动两格，则问号处图形中黑色菱形应在左上角。

第二步：分析选项，确定答案。

A项：黑色菱形在左下角，排除。

B项：黑色菱形在右下角，排除。

C项：黑色菱形在右上角，排除。

D项：黑色菱形在左上角，当选。

故本题选D。

13、(单选题)

正确答案是： D

解析：

本题考查形状类规律。

第一步：观察图形。题干图形为连续两行两黑一白交替，连续两行一黑一白交替。

第二步：分析选项，确定答案。

A项：连续三行两黑一白交替，排除。

B项：连续三行两黑一白交替，排除。

C项：连续三行一黑一白交替，排除。

D项：一行一黑一白交替，两行两黑一白交替，当选。

故本题选D。

14、(单选题)

正确答案是： B

解析：

本题考查翻转规律。

第一步：观察图形。题干每组图形组成相似，考虑位置类、形状类规律。题干第一组第一个图形上部左右翻转，其他部分保持不变，得到第二个图形，第二个图形下部左右翻转，其他部分保持不变，得到第三个图形。第二组图形遵循此规律，则问号处图形应由第二个图形下部左右翻转，其他部分保持不变得到。

第二步：分析选项，确定答案。

A项：中部图形方向变化，排除。

B项：符合题干翻转规律，当选。

C项：中部图形方向变化，排除。

D项：整体左右翻转，排除。

故本题选B。

15、(单选题)

正确答案是： A

解析：

本题考查形状类规律。

第一步：观察图形。题干图形组成相似，有明显拼接部分，考虑形状类规律。题干第一组第二个图形上下翻转，与第三个图形叠加，仅保留外边框得到第一个图形。第二组图形遵循此规律，则问号处图形右下角应为直角，且右侧直角边应与第一个图形右边长相同。

第二步：分析选项，确定答案。

A项：符合题干规律，当选。

B项：右下角不是直角，排除。

C项：右边长度与第一个图形不同，排除。

D项：右下角不是直角，排除。

故本题选A。

16、(单选题)

正确答案是： A

解析：

本题考查位置类规律。

第一步：观察图形。题干各图形元素组成相同，箭头方向与黑白点位置不同，考虑位置类规律。题干各图形依次逆时针旋转小于 90° ，奇数项图形小圆圈颜色由箭头开始依次为黑白黑白，偶数项图形为白黑白黑，则问号处图形箭头应

指向右下方，小圆圈颜色由箭头开始依次为黑白黑白。

第二步：分析选项，确定答案。

A项：箭头指向右下方，小圆圈颜色由箭头开始依次为黑白黑白，当选。

B项：小圆圈颜色由箭头开始依次为白黑白黑，排除。

C项：箭头指向上方，排除。

D项：小圆圈颜色由箭头开始依次为白黑白黑，排除。

故本题选A。

17、(单选题)

正确答案是： B

解析：

本题考查削弱类。

第一步：分析题干论点论据。

论点：不能指望大型制药公司会投资研发治疗神经退行类疾病的药物。

论据：对大型制药公司来说，研发相关药物过于复杂和昂贵，花费数百万美元的研发随时可能失败，投资风险巨大。

第二步：分析选项，确定答案。

A项：神经退行性类疾病的特征与大型制药公司是否会投资研发药物无关，排除。

B项：指出很多大型制药公司对所有药物研发中成本和复杂度最高的癌症药物大力投入，说明成本和难度大不一定使大型制药公司放弃研发治疗神经退行类疾病的药物，切断论点与论据之间的联系，削弱力度最强，当选。

C项：部分神经退行类疾病的非药物治疗方式残酷，与大型制药公司是否会投资研发此类药物无关，排除。

D项：神经退行类药物的研发周期比一般药物更长，说明大型制药公司很可能不会投资研发，加强题干论点，排除。

故本题选B。

18、(单选题)

正确答案是： C

解析：

本题考查结论类。

根据题干信息解题。已知用水超标家庭指的是日均用水量超过所在地区70%家庭的水平的家庭，即用水超标家庭的数量只与当地家庭总数有关，家庭总数增加，则用水超标家庭增加，与之相对的用水不超标家庭也会增加，③正确。由题干信息无法得出甲地区总用水量、日均用水量和用水超标家庭日均用水量的比较信息，①②无法推出。因此，只有③可以推出。

故本题选C。

19、(单选题)

正确答案是： C

解析：

本题考查翻译推理。

第一步：翻译题干信息。①存在技术问题→对M公司的声誉造成伤害；②不检验

问题→消费者对M公司的产品失去信心；③检验并证明没有问题→消费者更加怀疑M公司存在技术问题。

第二步：分析选项，确定答案。

A项：M公司向外界承认存在技术问题，肯定①的前件，可以推出肯定后件，即对M公司的声誉造成伤害，而根据题干无法确定M公司是否存在技术问题，因此M公司不应该向外界承认存在技术问题，排除。

B项：根据题干信息无法推出M公司最好的策略是什么，排除。

C项：由②③可知，无论M公司是否检验问题，检测结果证明是否有问题，消费者都会怀疑M公司的产品，对M公司的声誉造成伤害，可以推出，当选。

D项：不存在技术问题否定①的前件，无法推出确定性结论，即无法确定是否会损害M公司的声誉，排除。

故本题选C。

20、(单选题)

正确答案是： D

解析：

本题考查智力推理。

第一步：分析题干信息。①A；② $(B \wedge C) \vee (\neg B \wedge \neg C)$ ；③ $D \rightarrow C$ ；④ $E \oplus B$ 。

第二步：根据题干信息解题。

假设B去，由②可知C也去；由④可知E不去；无法确定D是否去。确定去的有A、B、C共3人，可能去的只有D，则成员人数可能是3或4。

假设B不去，由②可知C不去； $\neg C$ 否定③的后件，可以推出否定前件，即D不去；由④可知E去，则去的有A、E，共2人。

综上所述，这个节目的成员人数可能是2、3或4个。

故本题选D。

21、(单选题)

正确答案是： A

解析：

本题考查结论类。

逐一分析选项，确定答案。

A项：由“这种刺激物会导致该动物的呼吸系统产生剧烈反应”可知，在呼吸正常的哺乳类动物体内不可能发现 γ 刺激物，可以推出，当选。

B项：由“被这种病毒寄生的 β 变形虫会在哺乳类动物体内释放某种 γ 刺激物，这种刺激物会导致该动物的呼吸系统产生剧烈反应”可知，被 α 拟菌病毒寄生的 β 变形虫才会使哺乳类动物的呼吸系统产生剧烈反应，无法推出，排除。

C项：题干仅说明 β 变形虫在被 α 拟菌病毒寄生的情况下会产生导致哺乳类动物呼吸困难的刺激物，没有寄生的情况未知，无法推出，排除。

D项：由“严重时会造成呼吸困难”可知，不是所有感染了 α 拟菌病毒的动物都有呼吸困难的状况，无法推出，排除。

故本题选A。

22、(单选题)

正确答案是： B

解析：

本题考查翻译推理。

第一步：翻译题干信息。命题“使用‘云服务’ \wedge 不承担个人信息被泄露的风险”为假，即不使用“云服务” \vee 承担个人信息被泄露的风险。

第二步：分析选项，确定答案。

A项：不承担个人信息泄露的风险 \wedge 使用云服务是可能的，与题干命题相悖，排除

B项：翻译为不使用“云服务” \vee 承担个人信息被泄露的风险，与题干命题一致，当选。

C项：不使用“云服务”肯定联言命题的一个联言支，无法确认另一个联言支的真假，即不承担个人信息被泄露的风险是可能的，符合题干，但只涉及了题干命题的一个方面，不及B项准确全面，排除。

D项：无法从题干信息中推出，排除。

故本题选B。

23、(单选题)

正确答案是： D

解析：

本题考查削弱类。

第一步：分析题干论点论据。

论点：A凉茶饮料销量的增长，得益于其保健效用的提升。

论据：A凉茶饮料的销量有了明显的增长，同时，生产该饮料的公司用于该饮料的保健效用的研发费也同样明显地增长。

第二步：分析选项，确定答案。

A项：凉茶饮料的市场份额与其销量增长无关，排除。

B项：保健效用被公认为最好的B凉茶饮料的销量并不如A凉茶饮料，说明保健效用不是影响销量的唯一因素，一定程度上削弱题干论点，但力度较弱，保留。

C项：指出市面上的凉茶饮料销售量都有较大提升，没有说明提升的原因，无法削弱题干论点，排除。

D项：消费者购买A凉茶饮料的原因是该饮料口味宜人、包装时尚，指出另有他因，削弱力度强于B项，当选。

故本题选D。

24、(单选题)

正确答案是： A

解析：

本题考查翻译推理。

第一步：整理题干信息。①戒烟成功 \rightarrow 减少接触烟草的机会 \wedge 家人的支持；② \neg 减少接触烟草的机会 \vee \neg 家人的支持 \rightarrow \neg 戒断烟瘾。

第二步：分析选项，确定答案。

A项：“减少了接触烟草的机会，得到了家人的支持，并具备强大的意志力”肯定①的后件，无法推出确定性结论，即戒烟不一定能成功，当选。

B项：翻译为戒断烟瘾 \rightarrow 减少接触烟草的机会，符合①，可以推出，排除。

C项：翻译为成功戒烟 \rightarrow 减少了接触烟草的机会 \wedge 家人的支持，符合①，可以推出，排除。

D项：翻译为戒烟成功 \rightarrow 家人的支持，符合①，可以推出，排除。

故本题选A。

25、(单选题)

正确答案是： B

解析：

本题考查削弱类。

第一步：分析题干论点论据。

论点：应该大力推广价格较低的药物，以降低医疗成本。

论据：某次医学调查发现，对同一类病的治疗，使用价格较低的药物与在同一时间内使用价格较高的药物的疗效相当。

第二步：分析选项，确定答案。

A项：指出价格较低的药物副作用比价格较高的药物小，说明应该推广价格较低的药物，加强题干论点，排除。

B项：指出价格较低的药物在单位时间内服药的次数和每次要服用的剂量都要高于价格较高的药物，说明医疗成本不一定会降低，最能削弱题干结论，当选。

C项：价格较低的药物利润空间小与其是否能降低医疗成本无关，排除。

D项：中产阶级及富人阶级的药物使用倾向与大力推广价格较低的药物降低医疗成本无关，排除。

故本题选B。

26、(单选题)

正确答案是： C

解析：

本题考查集合推理。

第一步：整理题干信息。①操作、携带方便→不大于3.5英寸；②注重阅读效果→大于3.5英寸；③S品牌的移动电话的显示屏有4英寸。

第二步：根据题干信息解题。③否定①的后件，可以推出否定前件，即S品牌的移动电话不便于操作和携带，C项正确，D项错误；③肯定②的后件，无法推出确定性结论，即无法确定S品牌的移动电话是否注重阅读效果，A、B项错误。

故本题选C。

27、(单选题)

正确答案是： B

解析：

本题考查工具关系。

第一步：分析题干词语间的关系。农夫通过镰刀收获水稻，三者均为名词。

第二步：分析选项，确定答案。

A项：工人用机器印刷，印刷是动词，排除。

B项：奶农通过奶牛收获牛奶，三者均为名词，当选。

C项：将军根据兵法指挥战役，战役不是收获的产物，排除。

D项：客户在银行卡中存钱，存钱是动词，排除。

故本题选B。

28、(单选题)

正确答案是： B

解析：

本题考查场所关系。

第一步：分析题干词语间的关系。在银行贷款，银行是办理贷款的场所。

第二步：分析选项，确定答案。

A项：病人拥有病历，病人不是场所，排除。

B项：在邮局邮寄文件，邮局是收发邮件的场所，当选。

C项：开消防车扑灭火灾，消防车不是发生火灾的场所，排除。

D项：交警开罚单，交警不是场所，排除。

故本题选B。

29、(单选题)

正确答案是： C

解析：

本题考查条件关系。

第一步：分析题干词语间的关系。成本影响价格。

第二步：分析选项，确定答案。

A项：功率影响油耗，词语前后位置与题干相反，排除。

B项：需求影响产量，词语前后位置与题干相反，排除。

C项：工艺影响质量，当选。

D项：培训影响成绩，词语前后位置与题干相反，排除。

故本题选C。

30、(单选题)

正确答案是： A

解析：

本题考查近义关系。

第一步：分析题干词语间的关系。“锦上添花”比喻好上加好，美上添美，“雪中送炭”指在下雪天给人送炭取暖，比喻在别人急需时给予物质上或精神上的帮助，二者为近义关系，且后者程度更深。

第二步：分析选项，确定答案。

A项：“见死不救”指看见人家有急难而不去救援，“落井下石”指看见人要掉进陷阱里，不伸手救他，反而推他下去，又扔下石头，比喻乘人有危难时加以陷害，二者为近义关系，且后者程度更深，当选。

B项：“衣锦夜行”比喻不能在人前显示荣华富贵，“光宗耀祖”指子孙做了官出了名，使祖先和家族都荣耀，二者无明显联系，排除。

C项：“安居乐业”比喻安定地生活，愉快地工作，“背井离乡”指离开自己的故乡，到外地生活，二者为反义关系，排除。

D项：“满目疮痍”比喻眼前看到的都是灾祸的景象，“百废待兴”指许多被搁置的事情等着要兴办，二者无明显联系，排除。

故本题选A。