

展鸿公务员录用考试笔试试卷

《行政职业能力测验》模拟卷（一）

第一部分 常识判断

（共 20 题，参考时限 10 分钟）

根据题目要求，在四个选项中选出一个最恰当的答案。

请开始答题：

1. 国务院部署推动县域创新驱动发展工作，支持县域开展以科技创新为核心的全面创新，发挥科技创新在县域供给侧结构性改革中的支撑和引领作用。下列选项中，不符合县域创新驱动发展精神的是（ ）。
 - A. 集聚创新创业人才，激发各类人才的创新创业活力
 - B. 对缺乏市场竞争力的地方传统产业加大政策资金补贴力度
 - C. 培育壮大创新型的企业，支持符合条件的高成长性科技企业上市
 - D. 加快产业转型升级，促进县域特色主导产业绿色化、品牌化、高端化、集群化发展
2. 关于“十三五”时期我国“三农”工作取得的成就，下列说法错误的是（ ）。
 - A. 粮食年产量持续保持在 1.3 万亿斤以上
 - B. 农民人均收入较 2010 年翻一番多
 - C. 消除了绝对贫困和区域性整体贫困
 - D. 农村生产生活方式实现绿色转型
3. 关于物体的运动，下列说法正确的是（ ）。
 - A. 物体从高空下落其速度变得越来越快是因为其具有惯性
 - B. 跳伞运动员在匀速下降的过程中其机械能逐渐减小
 - C. 当物体受到力的作用后其运动速度必然发生改变
 - D. 足球在空中飞行时受到的空气阻力保持不变
4. 下列选项中，与党的十九届五中全会精神相符的是（ ）。
 - A. 坚持扩大内需这个战略基点，加快培育完整内需体系
 - B. 坚持把发展经济着力点放在金融创新上，提高经济质量效益和核心竞争力
 - C. 坚持把推进区域协调发展和新型城镇化作为全党工作重中之重，强化以工补农，以城带乡
 - D. 坚持创新在我国现代化建设全局中的核心地位，把科技国际交流合作作为国家发展的战略支撑
5. 近年来，国家相关法律法规对保健食品广告的用语进行了严格规范，虚假用词、夸大用词、绝对化用词被明令禁止。下列保健食品广告用语，符合国家有关规定的是（ ）。
 - A. 某保健品胶囊广告：祖传秘方，宫廷秘制，强身健体
 - B. 某保健口含片广告：增强免疫力，调理肠胃，调节血脂
 - C. 某保健品袋泡茶广告：坚持冲泡，治疗三高，十天见效

- D. 某灵芝保健品广告：无毒副作用，无效退款，全额承保
6. 黑土是地球上最珍贵的土壤资源。我国东北黑土区总面积约 103 万平方公里，其中典型黑土区面积约 17 万平方公里，是我国重要的商品粮基地。下列关于黑土地形成的原因中，正确的是（ ）。
- A. 腐殖质演化 B. 有机质含量高 C. 空气氧化结果 D. 富含二氧化锰
7. 当人们站在北京颐和园昆明湖南岸的垂柳下观赏万寿山远景时，万寿山因为有倒挂的柳丝作为装饰而生动起来。这种构景手段称为（ ）。
- A. 抑景 B. 添景 C. 对景 D. 借景
8. 下列鉴别物质的方法错误的是（ ）。
- A. 用肥皂水鉴别硬水与软水 B. 用稀硫酸鉴别锌片与铜片
C. 用酚酞试液鉴别纯碱与烧碱 D. 用燃着的木条鉴别氧气与二氧化碳
9. 下列表述不正确的是（ ）。
- A. 鸦片战争是中国近代史的开端
B. “五四”运动标志着中国新民主主义革命的开端
C. “九一八”事变标志着日本全面侵华战争的开始
D. 中国共产党建立的第一个革命根据地是井冈山革命根据地
10. 下列经济状况与国家的应对措施对应正确的是（ ）。
- A. 通货膨胀——增发专项基建国债 B. 通货紧缩——增加税收
C. 经济下行——实行赤字财政 D. 经济过热——降低再贴现率
11. 党的十九届五中全会审议通过了《中共中央关于制定国民经济和社会发展第十四个五年规划和二〇三五远景目标的建议》。下列关于二〇三五年远景目标的表述，不正确的是（ ）。
- A. 人均国内生产总值达到中等发达国家水平
B. 基本实现国家治理体系和治理能力现代化
C. 建成富强民主文明和谐美丽的社会主义现代化强国
D. 基本实现新型工业化、信息化、城镇化、农业现代化，建成现代化经济体系
12. 关于中东国家，下列说法不正确的是（ ）。
- A. 伊朗是阿拉伯国家 B. 叙利亚是伊斯兰国家
C. 以色列大多数人信仰犹太教 D. 埃及是第一个与我国建交的中东国家
13. 构建新的发展格局，是根据我国发展阶段、环境、条件变化作出的战略决策。关于构建新发展格局，以下表述有误的是（ ）。
- A. 以国际大循环为主体 B. 关键在于经济循环的畅通无阻
C. 坚持深化供给侧结构性改革这条主线 D. 最本质的特征是实现高水平的自立自强
14. 下列关于外汇储备的说法不正确的是（ ）。
- A. 可以用来弥补国际收支逆差
B. 规模越大越有利于实现国民经济的内外均衡
C. 是实现国民经济内外平衡的重要手段
D. 可以用来干预外汇市场以维持本国货币的汇率稳定

15. 根据《行政许可法》，下列事项中，可以不设行政许可的是（ ）。
- A. 直接涉及生态环境保护的特定活动的事项 B. 通过市场竞争机制能够有效调节的事项
C. 企业的设立需要确定主体资格的事项 D. 有限自然资源开发利用的事项
16. 关于生活常识，下列说法正确的是（ ）。
- A. 夏季洗温水浴可以降温 B. 夏季出汗越多，减肥效果越好
C. 太阳镜颜色越深越能保护眼睛 D. 中暑后应喝大量白开水以补充水分
17. 以下人物被党中央、国务院授予“全国脱贫攻坚先进个人”荣誉称号的有（ ）。
- ①李保国 ②张桂梅 ③钟南山 ④焦裕禄
⑤黄文秀
- A. ①②⑤ B. ②③④ C. ①②④ D. ①②③⑤
18. 2021年2月25日召开的全国脱贫攻坚总结表彰大会宣告，我国脱贫攻坚战取得了全面胜利。关于脱贫攻坚，以下表述准确的有（ ）。
- ①完成了消除相对贫困的艰巨任务
②2018年底拉开了新时代脱贫攻坚的序幕
③我国提前10年实现《联合国2030年可持续发展议程》减贫目标
④精准扶贫是打赢脱贫攻坚战的制胜法宝
⑤开发式扶贫方针是中国特色减贫道路的鲜明特征
- A. ①③⑤ B. ③④⑤ C. ①②④⑤ D. ②③④⑤
19. 王力与王诚、张兴、张福系同村村民。某日，王力酒后与张兴因道路施工等问题发生争议，就挑衅张兴要去“解决解决”。张兴受到另一村民王诚的怂恿，与王力发生互殴。张福为了劝架抱住王力，在挣扎过程中，王力腰部受伤。王力花去医药费2万余元。下列关于王力损失赔偿的说法正确的是（ ）。
- A. 张福无须承担赔偿责任 B. 应由张兴承担赔偿责任
C. 王诚无须承担赔偿责任 D. 应由王力自己承担损失
20. “四史”内容各有侧重，但整体讲的就是中国共产党为人民谋幸福、为民族谋复兴、为世界谋大同的实践史，“四史”的主线是（ ）。
- A. 中国共产党的领导 B. 人民民主专政 C. 以人民为中心 D. 构建人类命运共同体

第二部分 言语理解与表达

（共40题，参考时限40分钟）

本部分包括表达与理解两方面的内容。请根据题目要求，在四个选项中选出一个最恰当的答案。

请开始答题：

21. “一日为师，终身为父”，是传统师徒制的写照。历史上，师徒制保障了传统工艺技艺的_____，可谓手工业时代的一种职业教育模式。随着工业文明的发展，大机器生产使职业院校代替师徒制，成为培养产业工人的主阵地。

填入划横线部分最恰当的一项是（ ）。

- A. 生生不息 B. 蒸蒸日上 C. 薪火相传 D. 一脉相承

22. 一把剪刀、一个镊子、一支毛笔、一碗糨糊、一盏台灯在图书馆的古籍中心，古籍修复师们年复一年重复着手中的工作。在需要修复的珍贵古籍面前，他们始终_____。

填入划横线部分最恰当的一项是（ ）。

- A. 不苟言笑 B. 如履薄冰 C. 精益求精 D. 视若珍宝

23. 《中庸》不同于《大学》，后者_____，对于核心概念的相互关系有明确规定；前者相对散漫，没有交代各个部分之间的逻辑联系，留下巨大的言说空间与理论张力。

填入划横线部分最恰当的一项是（ ）。

- A. 纲举目张 B. 包罗万象 C. 字字珠玑 D. 条分缕析

24. 网络空间作为家庭、学校、社会等现实世界的_____，已经成为未成年人成长中密不可分的一部分。将未成年人与互联网强制_____开来，既不可取也很难实现。

依次填入划横线部分最恰当的一项是（ ）。

- A. 延展 隔离 B. 放大 划分 C. 虚化 独立 D. 深入 分割

25. 中国的建筑风格从来都是_____的，并不一味拒绝“洋建筑”，关键在于如何在借鉴的过程中，呈现出建筑的文化主体意识。而人们之所以_____当下的一些西式建筑热，就在于其舍本逐末、生搬硬套，缺少了对历史的敬畏和对文化的理解。

依次填入划横线部分最恰当的一项是（ ）。

- A. 海纳百川 否定 B. 千姿百态 反感 C. 兼容并蓄 质疑 D. 独树一帜 排斥

26. 伟大抗疫精神同中华民族长期形成的特质禀赋和文化基因_____，是爱国主义、集体主义、社会主义精神的传承和发展，是中国精神的生动_____。

填入横线处最恰当的一项是（ ）。

- A. 一脉相承 诠释 B. 一衣带水 展示 C. 相辅相成 展现 D. 相得益彰 解释

27. 侦探小说的长久流行，部分原因是读者对世理人情中的阴暗面_____的好奇心。安宁与平静只是一种表象，只要稍微留心，便能觉察到看似_____的日常中处处有大大小小的危机。平凡生活的危机就是侦探小说最广泛和丰富的素材来源。

依次填入划横线部分最恰当的一项是（ ）。

- A. 与生俱来 悠然自得 B. 历久弥新 百无聊赖
C. 自然而然 波澜不惊 D. 经久不衰 一成不变

28. 不同性质的书放在一起读，能起到对比和转换视角的作用。工作中读自己专业领域的书，休闲时看其他领域的书，_____。许多老一辈科学家，闲暇时喜欢吟诗作赋，这并非_____，而是有益的精神调节。

依次填入划横线部分最恰当的一项是（ ）。

- A. 张弛有度 自命不凡 B. 相得益彰 附庸风雅
C. 一举两得 三心二意 D. 劳逸结合 不务正业

29. 文学研究一直离不开两个维度：一个倾向于艺术的、内部结构的审美研究；另一个倾向于社会的、外部关系的意义揭示。两者原本可以_____，互为补充，但在不同时代，由于对文学本体的追问，

以及文学的主体性和文学的社会价值性上思考不同，使两者关系变得复杂，甚至紧张和_____。

依次填入划横线部分最恰当的一项是（ ）。

- A. 珠联璧合 僵持 B. 相得益彰 对立 C. 互通有无 尖锐 D. 并行不悖 冲突

30. 《中国名菜谱》的出版在中国烹饪史上具有特殊意义，它记录了各老字号的当家菜，对各家过去_____的技术进行了精确细致的记录。很多菜谱就是一篇硬核长文，比如第一辑中上来就介绍北京烤鸭，洋洋洒洒讲了 15 页，从养鸭子到修炉子，_____，全部囊括。

依次填入划横线处最恰当的一项是（ ）。

- A. 隐而不发 条分缕析 B. 秘而不宣 事无巨细
C. 讳莫如深 深入浅出 D. 秘不示人 知无不言

31. 工业遗产是一道独特的风景。若能挖掘工厂、矿山的历史文化与科普价值，通过创造性规划和_____开发，将它们改造成博物馆、文创园，既能让工业遗产重焕光彩，也让人们得以_____历史、憧憬未来。

依次填入划横线处最恰当的一项是（ ）。

- A. 商业性 回馈 B. 抢救性 回溯 C. 保护性 回望 D. 艺术性 回归

32. 开门是一个积极的行动，它本身存在_____的情趣，进入一种新的时刻，达到一种新的目标，实现一种新的转换。它包含一种人世间极深的情感的蓄积与_____，重聚，回归，和解，以及长久分离的情人的惊喜。

依次填入划横线处最恰当的一项是（ ）。

- A. 惊心动魄 凸现 B. 振奋人心 表达 C. 震撼人心 张扬 D. 心神荡漾 展现

33. 电脑上的“大脑训练”游戏曾经被斥责为_____，但最近发表的一个研究结果表明，这种训练确实能够提高 65 岁以上老年人的记忆力和注意力。事实上，人的大脑也在_____让老年人的退休生活变得愉快。

依次填入划横线处最恰当的一项是（ ）。

- A. 天方夜谭 想方设法 B. 荒谬之词 尽心尽力
C. 无稽之谈 尽其所能 D. 奇谈怪论 忠心耿耿

34. 世间的事物很少能比大学更美。在这里，憎恨无知的人奋力求知，_____真理的人传授真理，在青年们长知识的年华里，大学给予他们远大目标和共同生活的规范，给予他们渴望得到的亲密友情，让青年人永无止境地对永恒的主题_____。没有这些，青春便只是耗费时光。

依次填入划横线部分最恰当的一项是（ ）。

- A. 通晓 言无不尽 B. 谙悉 各抒己见 C. 敬畏 上下求索 D. 掌握 高谈阔论

35. 在日常环境中，人们往往有着_____的身份标签，一言一行都会影响周围人对自身的评价，所以，自然而然便保持着一种无形的_____。但是，当这些社区中的“好居民”，工作中的“好职工”进入一个新的环境，其自身的身份特征_____，“反正也不认识我”人们如是想着，于是一些不文明现象随之产生。

依次填入划横线部分最恰当的一项是（ ）。

- A. 特有 自省 消失 B. 鲜明 压力 模糊

本段文字旨在说明（ ）。

- A. 中国人民靠艰苦奋斗创造幸福生活
- B. 中国自古以来地大物博、美丽繁华
- C. 幸福生活是中华民族长久以来的愿望
- D. 中国的发展建立在人民的劳动创造之上

42. 以玩家年龄为依据，分别匹配适合玩的网游，丰富了未成年人网络游戏保护的方式和手段。对于孩子来说，自己适合玩什么网游“被安排得明明白白”，玩得更安全。对家长来说，可以更明晰地评估一款网游适不适合孩子，管得更放心。“心情复杂”的，当属游戏企业。适龄提示规定的使用要求和场景，都与游戏企业直接相关。标识必须足够醒目，让玩家看得着、看得懂，对游戏企业是硬性要求，对那些靠打擦边球等手段吸引玩家的网游企业、网游产品，更是一种敲打。但这种“束缚”是必须的，因为保护未成年人是包括游戏企业在内的所有市场主体都必须遵守的规范，也是必须承担的社会责任。

文中的“束缚”最可能指的是（ ）。

- A. 下架不适宜未成年人的网络游戏
- B. 控制游戏在线时段和时长，防止未成年人沉迷
- C. 对网络游戏按照适合年龄进行分级并加以标识
- D. 相关部门对游戏产品采取更加严格的审核措施

43. 艺术生的培养目前存在一个很矛盾的现象：一方面学习艺术表演的学生人数很多，就业压力大；另一方面却是人民群众对文艺演出的需求越来越强烈，对好的文艺作品期待值很高，这是一个不争的事实。其实各大艺术院校每年的艺术创作成果并不少，其中不乏精品，但是，_____。因此，在艺术生的培养过程中可以给学生创造更多的社会演出机会。

填入画线部分最恰当的一项是（ ）。

- A. 大部分艺术院校没有建立一个长效的舞台演出机制
- B. 院校的艺术作品虽然普通，却倾注了教师与学生的心血
- C. 艺术创作成果与人民群众生活之间缺少一个通畅的交流渠道
- D. 每个艺术人才的培养，都需要艺术理论和舞台实践的有机结合

44. 我们看物体时，物体反射的光线经过角膜，穿过瞳孔，再经过晶状体的折射，穿过玻璃体，最后汇聚到视网膜上。这样，我们就可清晰地看到物体。但对于近视的人而言，来自物体的光线在到达视网膜之前就汇聚在一起了，所以看到的物体是模糊不清的，一个主要的原因就是角膜的曲率变了。目前传统的激光治疗近视的方法，就是将角膜雕刻成“眼镜”，虽能立竿见影且效果持久，但风险较高，因此无风险治疗近视，越来越被人们所期待。

这段文字接下来最可能讲的是（ ）。

- A. 不同治疗近视方法的优缺点
- B. 无风险治疗近视取得的进展
- C. 传统的激光治疗近视方法的弊端
- D. 如何实现永久矫正近视患者视力

45. 美国历史学家戴维斯在《档案中的虚构》一书中，以16世纪法国赦罪书中的案情编造为例，凸显所谓原始档案的虚构性，引发历史研究者对档案可信性的质疑，但是换一个角度，在档案的记录、归档与筛选、保存等制作环节中所掺杂的主观意识，恰好也是档案的一种真实性，更可以反映某种特定的时代风尚。因此，对档案可信性的质疑，不应导致对档案的否定与摒弃，而是更应进一步地发掘其中深藏的多元化的历史真貌。

这段文字意在说明（ ）。

- A. 主观意识可能会影响档案的可信性
- B. 档案多少都会反映特定的时代风尚
- C. 学者对档案的虚构性持有不同见解
- D. 存在虚构成分的档案也应善加利用

46. ①与传统媒体“你给什么我看什么”的信息获取方式不同，网络媒体为用户提供了更大的自由度，让他们可以选择自己想看的内容

②然而，很多学者担忧过度个性化的推荐会引起“回声室效应”

③由于网络信息的过载和多样，很多社交媒体也都采用了各种各样的方式来为用户推送更加个性化的新闻，让新闻更加符合每个人的口味

④现代人已经习惯通过社交网站来获取各类新闻信息

⑤这些个性化算法使得只有和人们的意识形态一致的信息才会被呈现，人们的视野越来越窄，可以接触到多元化信息的机会越来越少

⑥根据算法的推荐，人们逐渐接收到的都是和自己意见相似的新闻与朋友分享的信息，持不同观点的人也逐渐形成愈发封闭的小圈子

将以上6个句子重新排列，语序正确的是（ ）。

- A. ④②⑥⑤①③
- B. ⑥①②④③⑤
- C. ⑥⑤①②④③
- D. ④①③②⑥⑤

47. ①这是当今全球城市智能化的必要性和可能性

②若对上述关系处理不当，就会产生各种各样的“城市病”，如交通拥堵、环境污染等

③城市里的人类社会活动与组织也越来越复杂，如基建、服务、交通、物流、能源、通信等诸多子系统，彼此构成错综复杂的共生、促进或制约关系

④社会科学、自然科学和工程技术从这些关系中已形成大量学术成果，但由于学科区分，综合性分析研究较为稀缺

⑤随着城市不断变得更大、更复杂，在城市物理空间中，人造物开始打破与自然物的平衡关系，如建筑、街道、车辆、包装物、垃圾、污水、雾霾，使土壤、江河、大气等面临严峻考验

⑥近年来，互联网、传感器网、大数据、云平台崛起，城市中错综复杂的关系已通过数字化映射到信息空间，对它们的学习、分析、综合变得可能

将以上6个句子重新排列，语序正确的是（ ）。

- A. ⑤③②④⑥①
- B. ⑥①③⑤②④
- C. ⑥①④⑤③②
- D. ⑤③④②⑥①

48. 在信息流动中，个体几乎居于风险的主要位置，即要承载由不确定风险所带来的所有后果。但是就信息获得、披露与结果承受等角度而言，个体基本上处于一种消极、被动的地位，而在很大程度上能够掌控相应风险或获得更为对称信息的，却是掌握个人信息的平台或企业一方。因此，往往是有风险者无法负担风险，而风险掌控者却可能在负担风险之时“缺席”。

这段文字接下来最有可能讨论的是（ ）。

- A. 如何规避个体在信息流动中产生的风险
- B. 如何让信息的获益方承担风险责任
- C. 信息流动中的风险究竟该如何掌控
- D. 信息平台与个人之间究竟由谁承担风险

49. 改革开放以来，我国制造业发展迅速，2010年产值超过美国，成为全球制造业第一大国。不过，随着我国经济进入新常态，制造业发展的困难增加，亟需转型升级。据统计，我国制造业31个行业大

类中，非金属矿物制造业、金属制品业等传统行业占比高达 86%，高端产品供不应求，无效和低端产品严重过剩，供需两侧错配矛盾突出。

这段文字意在强调我国制造业（ ）。

- A. 呈现出稳中向好的态势
- B. 亟需转型升级
- C. 化解过剩产能任务繁重
- D. 存在大而不强的特征

50. 我们常说，群众的眼睛是雪亮的，其实包含两层意思：一层是，工作做得如何、问题改得如何，群众有切身体验，往往再清楚不过；另一层则是，问题的症结出现在哪里，有怎样的改进办法，群众也往往看得很清楚。从前者来看，在工作中引入群众监督，让群众来“鉴定”整改落实成效，能让工作更好对接群众需求；就后者而言，_____。

填入横线处最恰当的一项是（ ）。

- A. 群众监督应覆盖工作全过程，让结果更加服众
- B. 群众监督的过程也是一个集思广益的过程，能推动问题更好地得到解决
- C. 工作中多倾听群众意见、多了解群众期待、多汲取群众智慧，并将之体现到整改方案
- D. 群众的意见建议比领导更有针对性和可操作性

51. 美国《科学》杂志的一项研究表明：咖啡因是让蜜蜂忠诚专一的物质，正如咖啡因会刺激人类的大脑一样，这种化学物质也可以刺激蜜蜂的大脑，特别是其中一个叫蕈形体的脑区域，这一区域跟气味的学习和记忆有关，咖啡因的摄入使得蜜蜂深刻地记住了在柑橘和咖啡花朵上采集花蜜这件事情，所以在接下来很长的一段时间里，蜜蜂都离不开这种特殊味道的花蜜了。

最适合这段文字标题的是（ ）。

- A. 花蜜与咖啡因
- B. 难以抗拒的咖啡因
- C. 蜜蜂为何“单恋一枝花”
- D. 蜜蜂学习和记忆的奥秘

52. 对于古希腊人来说，各种形式和内容的比赛活动无所不在，凡是有竞赛的地方就有规则的存在。体育比赛有严格和严密的竞赛规则，裁判员在赛场上依据规则来进行判罚，只有如此才能产生没有任何争议的优胜者。这些活动的背后，如何用好的规则引导竞争，规范竞争，使人向善，使社会更为公正，是古希腊思想家们热衷探讨的话题。

这段文字意在说明（ ）。

- A. 古希腊人强调竞争中规则的重要性
- B. 公平是古希腊思想家们持续关注的话题
- C. 遵守规则是古希腊体育比赛核心理念
- D. 严密的规则才能实现社会的公正

53. 国家的制度变革和治理现代化与每个人息息相关。从“管理”到“治理”，一字之变，其内涵与外延都发生了巨大变化。“管理”更多强调的是自上而下的维度，而“治理”则具有更多平等和共治的意味，是公共事务相关主体对于国家和社会事务的有序参与，是各类主体围绕国家和社会事务的协商互动。“治理”理念的提出，本身就是一种现代化的转型，有利于促进社会参与、激发社会活力，更好吸纳群众有序政治参与。

下列选项最适合作为这一文段标题的是（ ）。

- A. 国家治理现代化的内涵与外延
- B. “管理”和“治理”的一字之变
- C. 国家治理现代化，人人都是参与者
- D. 国家制度完善和发展，我们都是受益人

54. 南朝文学批评家钟嵘在《诗品》中评论晋人刘琨的作品“善为凄戾之词，自有清拔之气。琨既体良才，又罹厄运，故善叙丧乱，多感恨之词”。这是用刘琨罹逢厄运的经历，来解释其诗作何以多感慨悲愤之词。当代的文学评论家更是自觉地运用这种方法考察作品。某位研究清末小说《孽海花》的学者曾说，要理解这部作品，就要“知人论世”，有必要探索曾朴的生活、思想历程与创作过程。可知，“知人论世”是他研究《孽海花》的重要方法。

这段文字意在说明（ ）。

- A. “知人论世”历来是重要的文学研究方法
- B. 作家的经历会对作品产生深刻的影响
- C. “知人论世”被奉为古代作品研究的圭臬
- D. 当代学者继承了中国古人的文学研究模式

55. 截至 2019 年末，我国 60 岁及以上人口已超过 2.5 亿，占总人口的 18.1%，也就是说，差不多 5 个人中，就有一位老人。当前，即便是城镇地区，非网民占比也达到了 40.2%。随着老年群体规模日益庞大，在公共服务的提供上，尽最大努力照顾老年人的诉求，已显得越来越必要，它已经不能用“照顾少数人需求”来形容了。在当前这样“快进”的互联网时代，不上网的老人远比我们想象中的多。他们的正常需求，不能因为不上网就被无视。

这段文字着重强调的是（ ）。

- A. 上亿不上网的老年人应该被互联网社会所接纳
- B. 需为庞大的老年人群体提供更便利的公共服务
- C. 帮助老年人跟上互联网时代应该提上议事日程
- D. “照顾少数人需求”应成为关爱老年人的行动

56. 在高等教育规模不断扩大的同时，竞争也在加剧。高等院校之间的竞争是永恒的主题，而最集中的竞争是生源的竞争。大学开设特色专业项目是竞争的战略，目前国内高校竞相开设丰富多样的主修、辅修专业和证书课程等。在此基础上，个性化专业设置作为一种极具特色的本科人才培养方式，成为独特目标开启了新通道，有效提升了学校的吸引力和竞争力。

下列对文字的概括最恰当的一项是（ ）。

- A. 高等教育竞争主要表现在如何帮助学生实现既定目标
- B. 专业设置个性化是增强高校吸引力竞争力的有效途径
- C. 个性化专业设置是高校之间生源竞争普遍采用的方式
- D. 独特人才培养计划是各个高校竞争中的有力武器

57. 现代化是一个世界性课题。在世界多极化、经济全球化的时代背景下，各国现代化进程色彩纷呈而又相容相通，汇聚为一曲多元与共识的交响。从历史经验与价值取向上看，现代化应体现民族性与世界性、多元与共识的统一。从这个角度理解和推进现代化，须摒弃自我中心、唯我独尊的立场和心态。遗憾的是，当今西方一些思想家在这个问题上是存在偏颇的。对于他们而言，西方理性主义是理解和诠释现代化问题的基本立场。这样一种理论定位容易导致“西方中心主义”，我们应有这种文化警醒。

这段文字的主旨是（ ）。

- A. 理性主义思想家排斥西方文明
- B. 现代化进程应由世界各国共同推进
- C. 不同国家对现代化的认识存在分歧
- D. 现代化过程中应正确看待西方理想主义

58. 为了鼓励阅读，无论是专家学者还是作家，无不极力论证阅读的好处。所谓好处，指的是阅读

能给一个人带来现实回报。为此，规劝阅读的文章往往竭力证明诸多成功人士是如何善于从阅读中把握商机的。其实，竭力论证阅读对成功有所助益的人与公然持“读书无用论”者的出发点是一样的，即主张从功利角度诠释阅读的意义。由于现实中决定个人事业成败的因素相当复杂，阅读在其中扮演的角色往往微不足道，这就淡化了阅读的吸引力，而过分功利地解读阅读，阅读就不可避免地变得干瘪、乏味，甚至沦为赤裸裸的工具。

这段文字的核心观点是（ ）。

- A. “读书无用论”源于对成功的盲目追逐 B. 应从非功利的角度重新探寻阅读的意义
C. 专家学者对于阅读方向的引导存在误区 D. 过分强调阅读工具性会使读者丧失兴趣

59. 县域是一个相对独立的社会，不只是属于整体社会的一部分。每个县域有自己的社会结构、社会关系、社会行为规范以及独特的生活方式、文化和语言传统，因此是一个亚社会。而且县域社会是一个复杂的社会体系，由各种村落、乡镇和城镇等子体系构成，各个子体系之间以不同方式和机制形成关系，从而构筑成县域社会。

这段文字主要讲了（ ）。

- A. 县域的现实意义 B. 县域的相对独立性 C. 县域的社会学概念 D. 县域的子体系构成

60. 依托红色资源打造的旅游点，如何让游客真正“留下来”“再回来”？必须强化党组织的政治功能和服务功能，提升农村基层党组织的组织力。在党组织的领导下，让绿色产业和特色农家乐融合，增强游客体验感、参与感，走出一条“红色基因+绿色产业+特色旅游”的振兴之路。在此基础上，充分挖掘保护利用红色资源，推动形成基层党建、红色资源、新农村建设融合发展的新格局。

这段文字主要分析了（ ）。

- A. 发展红色旅游的路径 B. 发展红色旅游的意义
C. 基层党建新格局的内涵 D. 新农村建设融合发展的目标

第三部分 数量关系

(共 10 题，参考时限 10 分钟)

在这部分试题中，每道题呈现一段表述数字关系的文字，要求你迅速、准确地计算出答案。

请开始答题：

61. 小王去超市购买便携包和小哑铃作为知识竞赛活动的奖品。这两种商品超市正在进行促销，便携包单价 18 元，买 2 送 1；小哑铃单价 12 元，买 3 送 1。小王按计划购买了便携包和小哑铃合计 56 个，共使用活动经费 606 元，则他购买小哑铃的数量是（ ）。

- A. 24 个 B. 25 个 C. 26 个 D. 27 个

62. 某三甲医院派甲、乙、丙、丁四名医生到 A、B、C、D 四个社区义诊，每个医生只负责一个社区。已知甲不去 A 社区，且如果丙去 C 社区，那么丁去 D 社区，则不同的派法共有（ ）。

- A. 15 种 B. 18 种 C. 21 种 D. 24 种

63. 国际象棋棋盘为 64 方格，用铅笔从第一格开始填写 1，第二格填写 2，第三格填写 3，以此类推至 64，然后用橡皮将所有能被 3 整除的数全部擦掉，则所剩数字的总和是（ ）。

- A. 2408 B. 1387 C. 1408 D. 1487

64. 某农场有 A、B、C 三个粮仓，原先粮食储量之比为 5:9:10，今年丰收后每个粮仓新增加的粮食储量相同，A、B 两个粮仓的储量之比变为 3:5，则今年丰收后三个粮仓的储存总量比原先增加（ ）。

- A. 12.5% B. 15% C. 17.5% D. 20%

65. 一艘轮船从上游甲地开往下游乙地需要 5 个小时，以同样的功率从乙地开往甲地需要 6 个小时。如在甲地放下一无动力竹排，它到达乙地需要多长时间？（ ）

- A. 5 小时 B. 15 小时 C. 30 小时 D. 60 小时

66. 小王从甲公司跳槽到乙公司，年工资总额增长 25%，乙公司的工资总额包括现金部分和股票部分，现金总额和股票价值总额比例为 3:1，股票价值按照签订合同当日股票收盘价计算。一年后公司由于重大变动股价比小王入职时下跌 48%，如果按此时股价计算，小王在乙公司工作一年获得的实际工资总额与在甲公司相比（ ）。

- A. 下降 10% B. 下降 15% C. 增长 10% D. 增长 15%

67. 小李抽盲盒，这类盲盒一共有 8 款，小李只要其中的 1 款，他一次买了两个盲盒，则抽中他想要的那款的概率是（ ）。

- A. $\frac{1}{64}$ B. $\frac{7}{32}$ C. $\frac{15}{64}$ D. $\frac{1}{4}$

68. 某饼店一种成本为 1.4 元的点心卖 2 元一份，每天没卖完的点心会在晚上 8 点半后半价促销，全部卖完。已知一个月 30 天中，平均有 15 天每天晚上 8 点前可卖出 100 份点心，而其余 15 天每天晚上 8 点前只能卖出 60 份。如果饼店每天做的点心数量相同，一个月能够获得的最大利润是多少元？（ ）

- A. 1080 B. 1200 C. 1320 D. 1440

69. 蓄水池有两个进水口，正常情况下，单独开甲进水口，5 小时可以将蓄水池注满；单独开乙进水口，3 小时可以注满。现由于出水口出现渗水，同时开甲、乙两个进水口，2 小时才能注满。假定渗水速度恒定，如果单独开甲进水口，需要多少分钟才能将蓄水池注满？（ ）

- A. 300 B. 360 C. 400 D. 480

70. 某单位 200 名青年职工中，党员的比例高于 80%，低于 81%，其中党龄最长的 10 年，最短的 1 年。问该单位至少有多少名青年职工是在同一年入党的？（ ）

- A. 14 B. 15 C. 16 D. 17

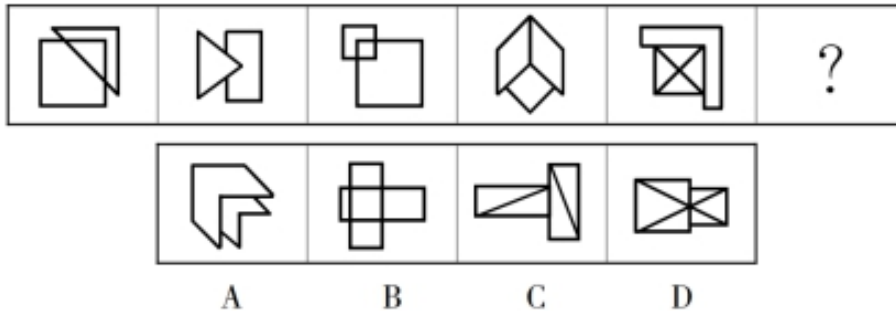
第四部分 判断推理

(共 40 题，参考时限 40 分钟)

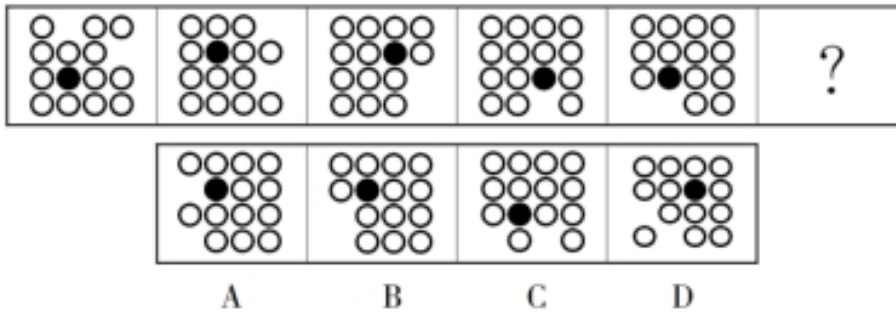
一、图形推理。请按每道题的答题要求作答。

请开始答题：

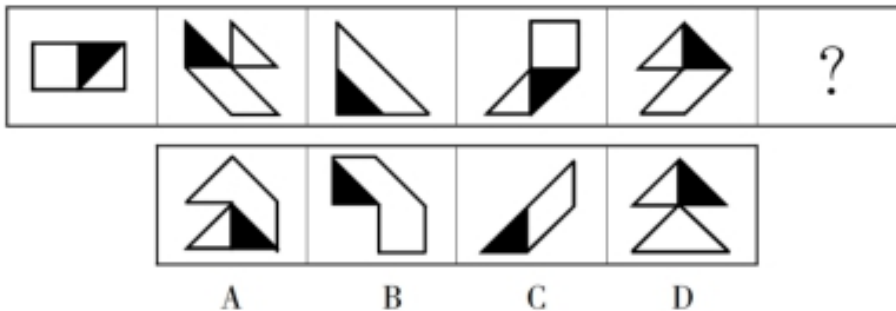
71. 从所给的四个选项中，选择最合适的一个填入问号处，使之呈现一定的规律性。



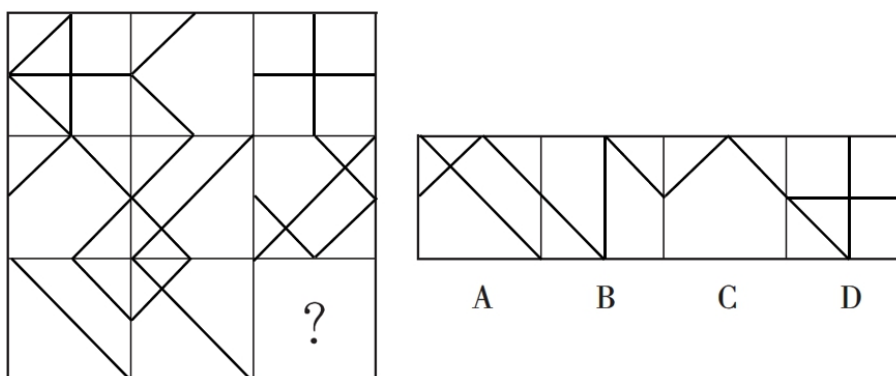
72. 从所给的四个选项中，选择最合适的一个填入问号处，使之呈现一定的规律性。



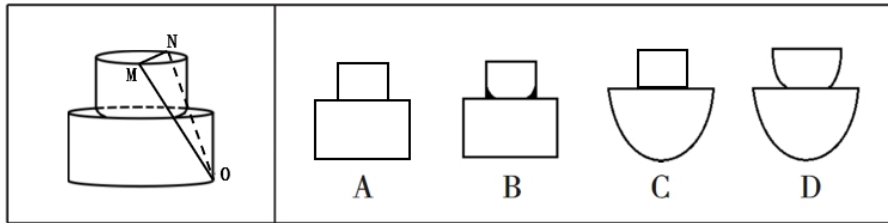
73. 从所给的四个选项中，选择最合适的一个填入问号处，使之呈现一定的规律性。



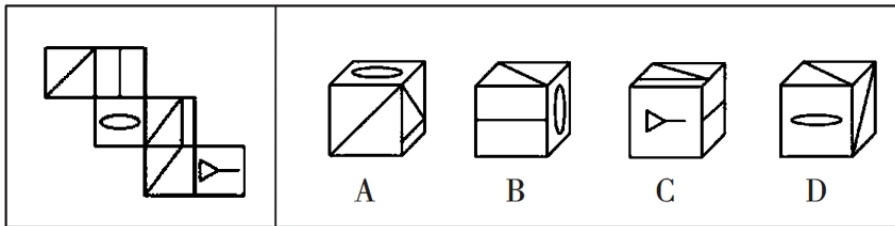
74. 从所给的四个选项中，选择最合适的一个填入问号处，使之呈现一定的规律性。



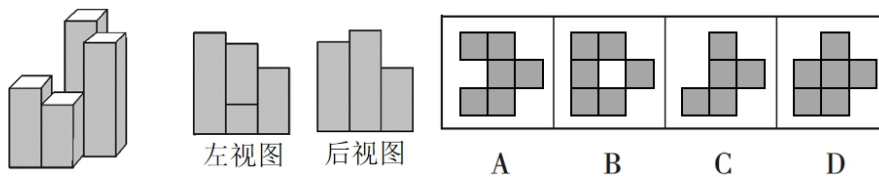
75. 下图所示立方体沿 OMN 面斜切，由切面所见截面可能是 ()。



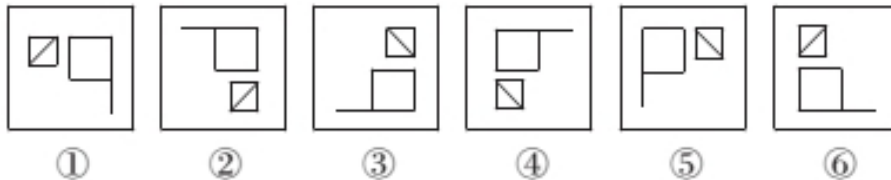
76. 左边给定的是多面体的外表面，右边哪一项能由它折叠而成？请把它找出来。



77. 下方分别是一个由长方体堆积而成的立体图形和该立体图形的左视图、后视图，那么该立体图形的俯视图是 ()。

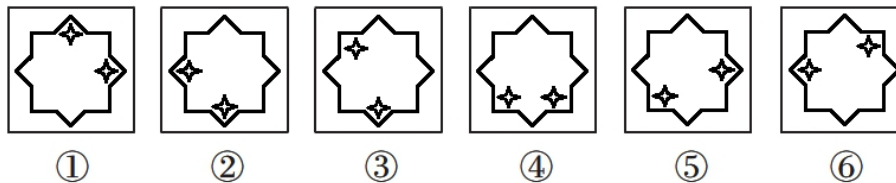


78. 把下面的六个图形分为两类，使每一类图形都有各自的共同特征或规律，分类正确的一项是 ()。



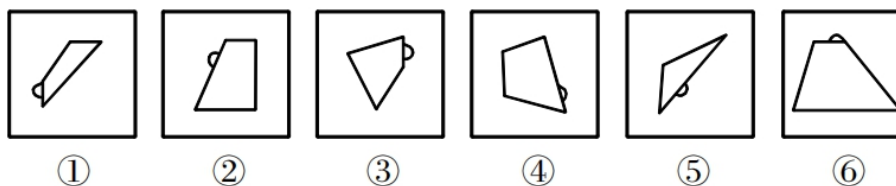
A. ①②⑥, ③④⑤ B. ①③⑤, ②④⑥ C. ①③④, ②⑤⑥ D. ①④⑥, ②③⑤

79. 把下面的六个图形分为两类，使每一类图形都有各自的共同特征或规律，分类正确的一项是 ()。



A. ①②⑥, ③④⑤ B. ①④⑤, ②③⑥ C. ①③⑥, ②④⑤ D. ①②④, ③⑤⑥

80. 把下面的六个图形分为两类，使每一类图形都有各自的共同特征或规律，分类正确的一项是 ()。



二、定义判断。每道题先给出定义，然后列出四种情况。要求你严格依据定义，从中选出一个最符合或最不符合该定义的答案。注意：假设这个定义是正确的，不容置疑的。

请开始答题：

81. 植物耐逆性指植物处于不利环境时，通过自身内部代谢反应，迅速阻止、降低或修复由逆境造成的损伤，使其仍保持正常的生理活动。

根据上述定义，下列体现了植物耐逆性的是（ ）。

- A. 离离原上草，一岁一枯荣；野火烧不尽，春风吹又生
- B. 墙角数枝梅，凌寒独自开；遥知不是雪，为有暗香来
- C. 尽管戈壁滩的气候异常恶劣，但胡杨树仍然可以很好地生存下去
- D. 一些植物在高盐环境下通过改善细胞膜的通透性来阻止大量失水

82. 行政机关为了实现行政管理或者公共服务目标，与公民、法人或者其他组织协商订立的具有行政法上权利义务内容的协议，属于行政协议。

根据上述定义，下列不属于行政协议的是（ ）。

- A. 某县自然资源局与某矿业公司签订矿业权出让协议
- B. 某区人民政府与王某签订政府保障性住房租赁协议
- C. 某县房屋征收部门与被征收人某县教育局签订国有土地上房屋征收补偿协议
- D. 某市公安机关和某市交通管理部门签订关于联合整治超限超载专项行动合作协议

83. 补偿性工资差别是指在实际经济活动中，即使能力和受教育程度相同的劳动者，从事不同的工作也会存在工资差别。这种差别不是由于行业和区域垄断造成的，而是与工作性质和条件有关，由此引起的工资差别称为补偿性工资差别。

根据上述定义，下列没有涉及补偿性工资差别的是（ ）。

- A. 两项工作对工作人员的要求相同，但由于其中一项工作的条件比较艰苦，因此需要给出更高的工资才能招聘到人
- B. 尽管殡葬行业并不比其他行业辛苦，工作环境也不错，但大家都认为殡葬行业从业人员领取高工资理所应当
- C. 某学院统计显示，该学院的毕业生在北京比在上海更容易找到工作，工资水平更高
- D. 某公司在进行薪资改革时，提出收入分配应向科技工作者和一线职工倾斜

84. 类比论证是根据两个对象在某些属性上的相同或相似，推论两者在其他属性上也有相同或相似。其逻辑形式为：对象 A 具有 a、b、c、d 的属性。对象 B 具有 a、b、c 的属性。所以对象 B 具有 d 的属性。根据上述定义，下列属于类比论证的是（ ）。

- A. 陶渊明不为五斗米折腰，李白不摧眉折腰事权贵，这说明有志气的人都不以高官厚禄为荣
- B. 光和声都具有直线传播、折射、反射等现象，所以光和声一样，也具有波动性
- C. 与一些工作不负责任、拈轻怕重的人相比，白求恩同志对工作极端负责，对同志、对人民极端热情，这说明白求恩同志具有毫不利己、专门利人的伟大精神
- D. 银与铜都是金属，都具有导电性，但是银的电阻率更低，因此银比铜更适宜做导电材料

85. 退出壁垒指现有企业在市场前景不好、企业业绩不佳时意欲退出该产业（市场），但由于各种

因素的阻挠，资源不能顺利转移出去。

根据上述定义，下列属于退出壁垒的是（ ）。

- A. 某企业委托咨询公司对餐饮市场进行调研并寻找适合项目，耗资不少但未能如愿
- B. 某企业因为转型，不得不闲置一部分设备，原有设备的投资不能完全收回，损失很大
- C. 某企业为产品升级既要更新设备，又要为工人适岗支付一大笔培训费用，陷入资金困境
- D. 某企业因与一老客户失和，单方终止了购买原材料合同，为此必须支付大笔违约金，该企业财务状况明显恶化

86. 经验假说是根据观察或实验的种种结果及已有的科学原理对事物现象及其规律所作出的推测性解释；而理论假说则是通过直觉、想象、抽象等思维过程对事物现象及其规律所作出的推测性解释。

根据上述定义，下列属于理论假说的是（ ）。

- A. 伽利略通过多次斜面实验，提出了惯性概念
- B. 哥德巴赫通过对数字规律的考察，提出了哥德巴赫猜想
- C. 贝塞尔发现天狼星的运动具有周期性偏差，提出了天狼星有伴星的猜测
- D. 哥白尼在不同的时间和地点观察行星，发现每颗行星运行情况都不相同，提出了日心说

87. 形成权是指依权利人一方的意思而使法律关系发生、内容变更或消灭的权利。

根据上述定义，下列不属于行使形成权的是（ ）。

- A. 甲追回六岁儿子给网络主播的打赏
- B. 甲按照合同约定从乙处采购一批手机
- C. 甲因乙违约，按照合同约定要求解除合同
- D. 甲因乙婚前未告知其有重大疾病而请求撤销婚姻

88. 衬托是为了突出主要事物，用类似的事物或反面的、有差别的事物作陪衬的一种修辞方法。对比是指用相反或相似的两种事物互相比照，以共同表现某种思想或意境的一种修辞方法。二者的区别在于衬托是以次要事物为陪衬来突出主要事物，而对比中体现的两种事物不分主次。

根据上述定义，下列同时使用了上述两种修辞方法的是（ ）。

- A. 朱门酒肉臭，路有冻死骨
- B. 桃花潭水深千尺，不及汪伦送我情
- C. 蝉噪林逾静，鸟鸣山更幽
- D. 千里黄云白日曛，北风吹雁雪纷纷

89. 一个论证是一组陈述，其中的一个或多个陈述（即前提）被用来为另外一个陈述（即结论）提供支持的理由。

根据上述定义，下列属于论证的是（ ）。

A. 食物的基因改造存在风险。基因改造过程中，会把意料之外的改变引入到为人类提供食物的生物DNA中，这些改变对于消费者来说可能是有害的

B. 我们相信我们的公司能为我们的客户提供最好的产品，我们相信我们的产品一定比我们竞争对手的好

C. 1648~1789年是欧洲主要君主国之间激烈竞争的年代之一，强国之间战争频繁，期间法国成为最重要的国家，在权力之间的平衡阻止了法国的扩张

D. 不管位置如何，固体都保持各自的形状和体积，液体则占有一定的体积，但其形状与盛装容器的形状有关

90. 并提是古代汉语中常见的一种修辞方法，为了使句子紧凑，文辞简练，把本来应该用两个短语

或者句子表达的内容，合并为一个短语或句子。合并时把相同的成份放在一起，使短语或句子的前后两部分有一种分别相承的关系。

根据上述定义，下列没有使用并提修辞手法的是（ ）。

- A. 《论衡·明雩》：“尧、汤水旱。”
- B. 《长恨歌》：“行宫见月伤心色，夜雨闻铃肠断声。”
- C. 《孟子·离娄上》：“继之以规矩准绳，以为方圆平直。”
- D. 《颜氏家训·风操篇》：“父之遗书，母之杯圈，感其手口之泽，不忍读用。”

三、类比推理。每道题先给出一组相关的词，要求你在备选答案中找出一组与之在逻辑关系上最为贴近、相似或匹配的词。

请开始答题：

91. 塑料：容器

- A. 石灰：水泥
- B. 陶瓷：餐具
- C. 桥墩：桥梁
- D. 木材：木头

92. 烟花：火药

- A. 草坪：草地
- B. 铁路：高铁
- C. 电视：机顶盒
- D. 茶包：茶叶

93. 感冒药：胶囊

- A. 汽水：吸管
- B. 汉堡：三明治
- C. 音乐：唱片
- D. 土豆：薯条

94. 动：静

- A. 东：西
- B. 贫：富
- C. 黑：白
- D. 曲：直

95. 人民币：美元：欧元

- A. 海洋：海鸥：海滩
- B. 贵州：杭州：常州
- C. 兰花：牡丹：菊花
- D. 宽恕：品性：诚信

96. 老鹰：树枝：天空

- A. 蜜蜂：蜂箱：花丛
- B. 蟒蛇：山涧：森林
- C. 蚊子：沟渠：野外
- D. 鲈鱼：江河：海洋

97. 下载：网站：上传

- A. 购物：商家：退货
- B. 打工：城市：返乡
- C. 上学：学校：放学
- D. 上场：比赛：下场

98. 暴雨：冰雹：天灾

- A. 汽车：滑梯：玩具
- B. 归纳：总结：逻辑
- C. 舞蹈：歌剧：戏剧
- D. 没收：罚款：处罚

99. 光辉 之于 （ ） 相当于 正义 之于 （ ）

- A. 太阳 法制
 - B. 恒星 民生
 - C. 自然 义务
 - D. 光明 圣人
100. 竞聘 对于 () 相当于 () 对于 回报
- A. 演讲 报酬
 - B. 岗位 补偿
 - C. 连任 投资
 - D. 任期 付出

四、逻辑判断。每道题给出一段陈述，这段陈述被假设是正确的，不容置疑的，要求你根据这段陈述选择一个答案。

请开始答题：

101. 近年来，通过多项针对科研人员参与科普情况的调查分析，发现存在重科研轻科普的现象，科研人员从事科普工作往往被某些圈内人士看作不务正业、不思进取，做科普反倒给学术形象的塑造带来了“负面”效应。科研人员一旦缺席科普，非专业的“科普人士”就会哗众取宠，谣言就有了存在的空间，最终不利于科学事业本身的发展。有学者认为，让更多有热情、有能力的科研人员投身科普，关键在于社会要形成科普与科研同等重要的共识。

以下哪项如果为真，最能支持该学者的观点？（ ）

- A. 在中国创造成为时代强音的今天，社会和公众需要越来越多的“网红”科学家
- B. 把科研成果描述得让社会和普通公众能明白、看得懂，才是科研人员的真本事
- C. 科研人员被认为是“科学传播的第一发球手”，他们有责任培养更多的科学公民
- D. 在科研和人才考评体系中把科普纳入考核范围，可以促使科研人员挺直腰杆做科普

102. 美国环境保护署把作物转基因中具有农药性的蛋白和遗传物质（不包括植物其他部分）列入农药范畴，称为植物农药，要求将其作为农药进行登记。但一些专家认为，因为转基因物质与宿主本身不可分离，植物具有农药性，所以应直接称含转基因农药的植物为植物农药。

以下哪项如果为真，最能反驳专家的观点？（ ）

- A. 不含农药性质的转基因植物不能称为植物农药
- B. 含转基因农药的植物应作为农药登记，这说明它是一种农药
- C. 将具有农药性的转基因物质转移到新宿主上，农药性可能消失
- D. 如果将转基因物质与宿主分离，则分离后的转基因植物不是植物农药

103. 尽管许多行业并不看重从业者的学历，但对于从事金融咨询服务的人来说，学历还是极其重要的。有研究指出，人们在进行理财咨询时，更重视金融咨询师的学历而非资历。因此，就读金融服务管理专业的学生应尽可能获得高学历。

上述论证最可能基于的潜在假设是（ ）。

- A. 金融咨询服务者的资历与其能力水平没有必然关联
- B. 总体而言，高学历的人专业水平更高、工作能力更强
- C. 就读金融服务管理专业的学生都会投身金融咨询服务行业
- D. 近年来，越来越多的行业在招聘时限定其求职者必须具有高学历

104. 一项调查显示：甲品牌汽车的购买者中，有8成都是女性，是最受女性青睐的汽车品牌。但是，

最近连续 6 个月的女性购车量排行榜却显示，乙品牌汽车的女性购买量位居第一。

以下选项如果为真，最能解释上述现象的是（ ）。

- A. 甲品牌汽车的销量远低于乙品牌汽车
- B. 乙品牌汽车的女性买主所占比例为 75%
- C. 排行榜设立的目的之一是引导消费者的购车意图
- D. 购买意愿和购买行为并不总是一致的，不可混为一谈

105. 今年入夏以来，全球持续出现高温天气。对于高温天气产生的原因，一种观点认为，入夏以来，高温天气的出现是由全球气候变暖造成的。在全球气候变暖的大背景下，高温这样的灾害性天气会有增多的趋势。反对者则认为高温天气的出现并不一定是由全球气候变暖造成的，而是与大气环流特征的变化相关。大气环流特征的变化会导致多种极端天气频繁的发生，包括高温天气。

以下哪项如果为真，最能支持第一种观点？（ ）

- A. 全球气候变暖是由大气环流特征变化导致的
- B. 高温天气是暖气团控制下的温度较高的炎热天气
- C. 全球气候变暖通过改变大气环流特征来改变高温等极端天气事件的强度和发生频率
- D. 气象学家们认为，造成持续高温天气的原因很复杂，既有直接原因，也有间接原因

阅读下面的文字，完成各题。

一家果品公司销售果酱。每箱有三罐果酱，果酱共有葡萄、橘子、草莓、桃子、苹果五种口味。每罐果酱只含一种口味。必须按照以下条件装箱：

- ①每箱必须包含两种或三种不同的口味；
- ②含有橘子果酱的箱里必定至少装有一罐葡萄果酱；
- ③桃子果酱与苹果果酱不能装在同一箱内；
- ④含有草莓果酱的箱里必定至少有一罐苹果果酱；但是，含有苹果果酱的箱里并不一定有草莓果酱。

请回答 106~110 题。

106. 下列哪一箱果酱是符合题设条件的呢？（ ）

- A. 一罐桃子果酱、一罐草莓果酱和一罐橘子果酱
- B. 一罐橘子果酱、一罐草莓果酱和一罐葡萄果酱
- C. 两罐草莓果酱和一罐苹果果酱
- D. 三罐桃子果酱

107. 除了哪种情况外，其余各种装箱均符合题设条件？（ ）

- A. 葡萄果酱和桃子果酱
- B. 桃子果酱和苹果果酱
- C. 橘子果酱和桃子果酱
- D. 草莓果酱和苹果果酱

108. 下面哪一箱，加上一罐草莓果酱后便可符合题设条件？（ ）

- A. 一罐桃子果酱和一罐橘子果酱
- B. 两罐苹果果酱
- C. 一罐葡萄果酱和一罐橘子果酱
- D. 两罐橘子果酱

109. 一罐橘子果酱，一罐桃子果酱，再加上一罐什么果酱，便可装成一箱？（ ）

- A. 葡萄果酱
- B. 橘子果酱
- C. 草莓果酱
- D. 桃子果酱

110. 一罐橘子果酱再加上下列哪两罐果酱即可装成一箱? ()
- A. 一罐橘子果酱与一罐草莓果酱 B. 两罐橘子果酱
- C. 一罐葡萄果酱与一罐草莓果酱 D. 两罐葡萄果酱

第五部分 资料分析

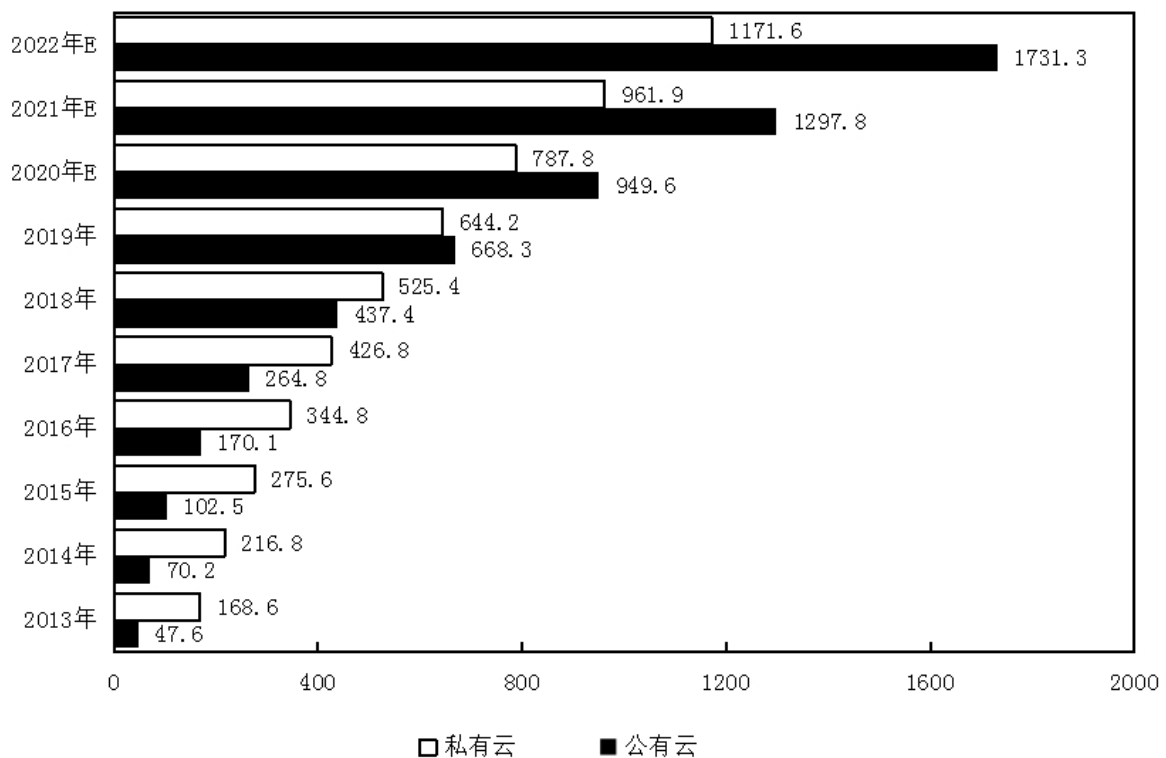
(共 20 题, 参考时限 20 分钟)

所给出的图、表、文字或综合性资料均有若干个问题要你回答, 你应根据资料提供的信息进行分析、比较、计算和判断处理。

请开始答题:

一、根据以下资料, 回答 111~115 题。

2013~2022 年某地区云计算市场规模现状及预测 (单位: 亿元)



注: 含“E”的年份为预估或预测数值。

111. 2014 年该地区私有云市场规模和公有云市场规模之比最接近以下哪一项? ()
- A. 1:4 B. 4:1 C. 1:3 D. 3:1
112. 根据预测, 2021 年该地区云计算整体市场规模最接近以下哪个数字? ()
- A. 1300 亿元 B. 1700 亿元 C. 2300 亿元 D. 2900 亿元
113. 根据资料中所给数据和预测, 2014~2022 年间该地区公有云市场规模同比增速超过 50% 的年份有几个? ()
- A. 6 B. 5 C. 4 D. 3

114. 根据预测, 2022 年该地区云计算市场整体规模同比增长 ()。
- A. 22.6% B. 28.5% C. 32.3% D. 34.5%
115. 根据材料中所给数据和预测, 能够从上述资料中推出的是 ()。
- A. 2022 年该地区公有云和私有云市场规模差距将超过 500 亿元
 B. 2020 年该地区公有云市场规模将首次超过私有云市场规模
 C. 2019~2022 年该地区私有云市场规模同比增量逐年递减
 D. 2022 年该地区私有云市场规模较 2017 年将增长 300%以上

二、根据以下资料, 回答 116~120 题。

2011~2018 年全国各地区风力发电年末累计装机容量 (单位: 万千瓦)

	2011	2012	2013	2014	2015	2016	2017	2018
华北	2686.6	2995.4	3345.9	3855.7	4477.5	5030.1	5532.1	6076.6
东北	1226.0	1438.0	1602.6	1729.1	1899.8	1977.2	2029.2	2097.0
华东	861.2	1090.9	1329.0	1665.3	2066.8	2536.4	2987.9	3474.0
华中	52.3	87.3	200.3	343.6	558.8	765.4	1082.4	1491.0
华南	163.8	219.9	288.4	354.6	427.3	532.4	665.4	855.5
西南	124.9	271.4	402.1	627.4	1060.4	1387.8	1563.8	1681.0
西北	1135.4	1443.1	1986.6	2898.9	4059.5	4658.0	4978.0	5278.1

116. 2018 年华北地区风力发电年末累计装机容量约占全国的 ()。
- A. 18% B. 23% C. 29% D. 36%
117. 2012~2018 年间, 东北地区风力发电年末累计装机容量同比增速超过 10% 的年份有多少个? ()
- A. 2 B. 3 C. 4 D. 5
118. 2014 年末~2018 年末, 西部地区 (含西南和西北) 风力发电累计装机容量年均增长 ()。
- A. 不到 800 万千瓦 B. 在 800~850 万千瓦之间
 C. 在 850~900 万千瓦之间 D. 超过 900 万千瓦
119. 2012~2018 年间华中地区风力发电年末累计装机容量同比增速最快的一年, 当年年末华东地区风力发电累计装机容量同比增量约是华南地区的多少倍? ()
- A. 2.6 B. 3.5 C. 4.1 D. 5.1
120. 能够从上述资料中推出的是 ()。
- A. 2014 年全国风力发电年末累计装机容量同比增量最大的地区是华北
 B. 2017 年华北地区风力发电年末累计装机容量同比增长了一成以上
 C. 华中和华南地区风力发电年末累计装机容量之和在 2015 年末首次超过 1000 万千瓦
 D. 如保持 2018 年末同比增速, 2020 年华中地区风力发电年末累计装机容量将高于东北

三、根据以下资料, 回答 121~125 题。

2018 年全球茶叶产量 585.6 万吨, 同比增长约 3%, 中国茶叶产量 261.6 万吨, 同比增长 0.7 万吨。2018 年, 中国茶叶国内销售量为 191 万吨, 同比增长 5.1%, 国内销售总额为 2661 亿元, 出口量为 36.5 万吨, 同比增长 2.8%, 出口总额为 17.89 亿美元 (合人民币 120 亿元), 同比增长 (?)。

2016 年女性参加生育保险的人数达 8020 万人，比 2010 年增长 49%。2016 年，参加城镇职工基本医疗保险的女性 1.4 亿人，比 2011 年增长 21.5%；参加城镇居民基本医疗保险的女性 1.9 亿人，比 2011 年增长了 1.5 倍。

2016 年全国参加城镇职工基本养老保险人数 3.8 亿人，其中女性 1.8 亿人，占比比 2010 年提高 3 个百分点；2016 年，参加城乡居民基本养老保险人数 5.1 亿人，其中女性超过 1.7 亿人。

2016 年全国参加失业保险的人数超过 1.8 亿人，其中女性 7551 万人，分别比 2010 年增加 4713 万人和 2402 万人，增长约 35%和 47%；参加工伤保险人数 2.2 亿人，其中女性 8129 万人，分别比 2010 年增加 5728 万人和 2429 万人，增长约 35%和 43%。

126. 2010~2016 年全国城镇单位女性就业人员年均增加约多少万人？（ ）

- A. 207 B. 237 C. 276 D. 331

127. 2016 年公有制企事业单位中，高级专业技术人员占专业技术人员的比重约为（ ）。

- A. 7.5% B. 13.6% C. 22.9% D. 36.1%

128. 2016 年参加城镇职工和城镇居民基本医疗保险的女性比 2011 年增长了约多少倍？（ ）

- A. 0.7 B. 1.2 C. 1.7 D. 2.2

129. 如 2017 年及以后年份同比增量保持不变，同比增量按照 2011~2016 年间同比增量的平均值计算，全国参加失业保险的女性将在哪年超过 1.2 亿人？（ ）

- A. 2024 B. 2026 C. 2028 D. 2030

130. 能够从上述资料中推出的是（ ）。

- A. 2016 年全国参加工伤保险的人中，女性占比低于 2010 年水平
B. 2010 年全国参加城镇职工基本养老保险的人中，女性占比低于 40%
C. 2010 年女职工董事占职工董事的比重高于女职工监事占职工监事的比重
D. 2010 年公有制企事业单位中男性高级专业技术人员不到 210 万人

展鸿公务员录用考试笔试试卷

《行测》模拟卷（二十二）参考答案及解析

1. 【答案】B。解析：A、C、D 三项均正确。B 项错误，《国务院办公厅关于县域创新驱动发展的若干意见》指出，落实区域发展总体战略和主体功能区规划，支持城镇化地区整合各类创新资源，推动制造、加工等传统产业升级，加大新一代信息网络、智能绿色制造等产业关键技术推广应用，培育具有核心竞争力的产业集群。鼓励有条件的县（市）采取科技创新券等科技经费后补助措施，支持小微企业应用新技术、新工艺、新材料，发展新服务、新模式、新业态，培育一批掌握行业“专精特新”技术的科技“小巨人”企业。B 项对传统产业加大政策资金补贴力度说法错误。故本题选 B。

2. 【答案】D。解析：A、B、C 三项均正确，2021 年中央一号文件指出，“十三五”时期，现代农业建设取得重大进展，乡村振兴实现良好开局。粮食年产量连续保持在 1.3 万亿斤以上，农民人均收入较 2010 年翻一番多。新时代脱贫攻坚目标任务如期完成，现行标准下农村贫困人口全部脱贫，贫困县全部摘帽，易地扶贫搬迁任务全面完成，消除了绝对贫困和区域性整体贫困，创造了人类减贫史上的奇迹。D 项错误，2021 年中央一号文件指出，到 2025 年，农村生产生活方式绿色转型取得积极进展，化肥农药使用量持续减少，农村生态环境得到明显改善。故本题选 D。

3. 【答案】B。解析：A 项错误，物体从高空下落其速度变得越来越快是因为物体重力大于其他阻力，物体从而做加速度向下的加速运动。B 项正确，跳伞运动员在匀速下降过程中，动能不变，重力势能逐渐减小，则其机械能逐渐减小。C 项错误，当物体所受的合力为零时，物体保持静止或匀速运动状态。D 项错误，足球在空中飞行时，受到的空气阻力与运动速度成正比，速度越快，空气阻力越大。而由于重力的影响，足球在空中飞行时，速度变小，因此所受的空气阻力也会变小。故本题选 B。

4. 【答案】A。解析：A 项正确，党的十九届五中全会指出，坚持扩大内需这个战略基点，加快培育完整内需体系，把实施扩大内需战略同深化供给侧结构性改革有机结合起来，以创新驱动、高质量供给引领和创造新需求。B 项错误，党的十九届五中全会指出，坚持把发展经济着力点放在实体经济上，坚定不移建设制造强国、质量强国、网络强国、数字中国，推进产业基础高级化、产业链现代化，提高经济质量效益和核心竞争力。“金融创新”说法错误。C 项错误，党的十九届五中全会指出，坚持把解决好“三农”问题作为全党工作重中之重，走中国特色社会主义乡村振兴道路，全面实施乡村振兴战略，强化以工补农、以城带乡，推动形成工农互促、城乡互补、协调发展、共同繁荣的新型工农城乡关系，加快农业农村现代化。“推进区域协调发展和新型城镇”说法错误。D 项错误，党的十九届五中全会指出，坚持创新在我国现代化建设全局中的核心地位，把科技自立自强作为国家发展的战略支撑，面向世界科技前沿、面向经济主战场、面向国家重大需求、面向人民生命健康，深入实施科教兴国战略、人才强国战略、创新驱动发展战略，完善国家创新体系，加快建设科技强国。“科技国际交流合作”说法错误。故本题选 A。

5. 【答案】B。解析：《广告法》第 18 条规定，保健食品广告不得含有下列内容：（一）表示功效、安全性的断言或者保证；（二）涉及疾病预防、治疗功能；（三）声称或者暗示广告商品为保障健康所必需；（四）与药品、其他保健食品进行比较；（五）利用广告代言人作推荐、证明；（六）法律、行

政法规规定禁止的其他内容。保健食品广告应当显著标明“本品不能代替药物”。A项“祖传秘方，宫廷秘制”属于表示功效、安全性的保证，C项“治疗三高，十天见效”属于涉及疾病预防、治疗功能，D项“无毒副作用，无效退款，全额承保”属于表示功效、安全性的断言，均不符合法律规定。B项“增强免疫力，调理肠胃，调节血脂”符合保健食品广告用语规范。故本题选B。

6. 【答案】A。解析：黑土是指地表植被经过长期腐蚀形成腐殖质后演化而成的土壤，它土质疏松、肥力高，是世界上最肥沃的土壤，有机质含量是黄土的十倍，非常适合植物生长。我国东北地区黑土地处世界主要黑土带之一。故本题选A。

7. 【答案】B。解析：A项错误，抑景是利用“山重水复疑无路，柳暗花明又一村”的先藏后露的造园手法。B项正确，添景是我国古典园林中的建筑构景手段之一。当远方自然景观或人文景观，如果中间或近处没有过渡景观，眺望时就缺乏空间层次。如果在中间或近处有乔木或花卉作中间或近处的过路景，这乔木或花卉便是添景。题干讲人们远观万寿山，因有倒挂的柳丝从而使得万寿山生动起来，符合添景这一构景手段。C项错误，对景指从甲观赏点观赏乙观赏点，从乙观赏点观赏甲观赏点的构景方法。D项错误，借景是根据园林周围环境特点和造景需要，把园外的风景组织到园内成为园内风景的一部分。故本题选B。

8. 【答案】C。解析：A项正确，肥皂的成分是硬脂酸钠，硬水中存在大量的钙离子和镁离子，而硬脂酸根离子会和镁离子和钙离子结合生成硬脂酸镁和硬脂酸钙，硬脂酸钙和硬脂酸镁都是不溶于水的沉淀物，因此，如果是将肥皂投入到硬水中，会出现有沉淀物的现象。B项正确，锌片可以和稀硫酸反应生成氢气，而铜片不行，因此，把锌片放入稀硫酸中会产生大量的气泡，锌片不断溶解，而铜片不会产生反应。C项错误，纯碱溶液和烧碱溶液遇到酚酞都会变红，因此用酚酞试液不能鉴别纯碱与烧碱。D项正确，氧气具有助燃性，能使燃着的木条燃烧更旺，二氧化碳不具有助燃性，能使燃着的木条熄灭，因此可以使用燃着的木条鉴别氧气和二氧化碳。故本题选C。

9. 【答案】C。解析：A项正确，鸦片战争，即第一次鸦片战争，是1840年至1842年英国对中国发动的一场侵略战争，也是中国近代史的开端。B项正确，五四运动既揭开了新民主主义革命的序幕，又开创了中国新民主主义革命的开端。从此，无产阶级登上了政治舞台，民众的力量得到了广泛的发动。C项错误，“九一八”事变是由日本蓄意制造并发动的侵华战争，是日本帝国主义侵华的开端。日本全面侵华战争的开始的标志是“七七”事变。D项正确，井冈山革命根据地是土地革命战争时期，中国共产党在湖南、江西两省边界罗霄山脉中段创建的第一个农村革命根据地。故本题选C。

10. 【答案】C。解析：A项错误，国债可以分为建设性国债和减少货币供应量的国债。建设性国债是指政府发行国债所得用于基础建设项目，而增发建设性国债会导致流通中的货币量变多。因此，在发生通货膨胀时，不应该增发专项基建国债。B项错误，增加税收意味着政府掌握着更多市场上的货币量，而市场中流通的货币量减少，即会加剧通货紧缩，因此通货紧缩时不适宜增加税收。C项正确，赤字财政是指财政支出超过财政收入，实行赤字财政会使得政府增加支出，因而市场中的流通的货币量增多，有利于拉动经济增长，应对经济下行。D项错误，再贴现率是指商业银行或专业银行用已同客户办理过贴现的未到期合格商业票据向中央银行再行贴现时所支付的利率。降低再贴现率会增加市场上的货币供应量，不利于缓解经济过热。故本题选C。

11. 【答案】C。解析：党的十九届五中全会提出了到二〇三五年基本实现社会主义现代化远景目标，

包括：基本实现新型工业化、信息化、城镇化、农业现代化，建成现代化经济体系；基本实现国家治理体系和治理能力现代化，人民平等参与、平等发展权利得到充分保障，基本建成法治国家、法治政府、法治社会；人均国内生产总值达到中等发达国家水平，中等收入群体显著扩大，基本公共服务实现均等化。A、B、D 三项均正确。C 项错误，建成富强民主文明和谐美丽的社会主义现代化强国属于党的十九大对实现第二个百年奋斗目标作出的战略安排。故本题选 C。

12. 【答案】A。解析：A 项错误，阿拉伯国家，是指以阿拉伯人作为主要族群的国家，而伊朗是一个人口以波斯人为主的地区。B 项正确，伊斯兰国家是指多数居民信奉伊斯兰教的国家和地区，叙利亚居民中 85% 信奉伊斯兰教，因此叙利亚属于伊斯兰国家。C 项正确，以色列犹太人口共 669 万人，是世界上唯一以犹太人为主体的民族的国家，因此以色列大多数人信仰犹太教。D 项正确，1956 年 5 月 30 日，中埃两国政府发表联合公报，宣布建立外交关系。埃及是第一个与我国建交的中东国家。故本题选 A。

13. 【答案】A。解析：A 项错误，加快形成以国内大循环为主体、国内国际双循环相互促进的新发展格局，是根据我国发展阶段、环境、条件变化作出的战略决策，是事关全局的系统性深层次变革。“以国际大循环为主体”说法错误。B 项正确，习近平总书记在省部级主要领导干部学习贯彻党的十九届五中全会精神专题研讨班开班式上指出，构建新发展格局的关键在于经济循环的畅通无阻。C 项正确，推进供给侧结构性改革，是以习近平同志为核心的党中央深刻洞察国际国内形势变化，科学把握发展规律和我国现阶段经济运行主要矛盾，作出的具有开创性、全局性、长远性的重大决策部署，构建新发展格局需要坚持深化供给侧结构性改革这条主线。D 项正确，“构建新发展格局最本质的特征是实现高水平的自立自强。”习近平总书记在省部级主要领导干部学习贯彻党的十九届五中全会精神专题研讨班开班式上深刻阐明了新发展格局的内涵特征，指出必须更强调自主创新，全面加强对科技创新的部署，集合优势资源，有力有序推进创新攻关的“揭榜挂帅”体制机制，加强创新链和产业链对接。故本题选 A。

14. 【答案】B。解析：A、D 项正确，外汇储备指为了应付国际支付的需要，各国的中央银行及其他政府机构所集中掌握并可以随时兑换成外国货币的外汇资产，主要用于清偿国际收支逆差，以及当本国货币被大量抛售时，利用外汇储备买入本国货币干预外汇市场，以维持该国货币的汇率。B 项错误，外汇储备过大，会增加通货膨胀的压力，增加货币政策的难度。此外，持有过多外汇储备，还可能因外币汇率贬值而遭受损失。因此，并非外汇储备规模越大越有利。C 项正确，一定的外汇储备是一国进行经济调节、实现内外平衡的重要手段。当国际收支出现逆差时，动用外汇储备可以促进国际收支的平衡；当国内宏观经济不平衡，出现总需求大于总供给时，可以动用外汇组织进口，从而调节总供给与总需求的关系，促进宏观经济的平衡。故本题选 B。

15. 【答案】B。解析：A、C、D 三项均可设定行政许可，《行政许可法》第 12 条规定，下列事项可以设定行政许可：（一）直接涉及国家安全、公共安全、经济宏观调控、生态环境保护以及直接关系人身健康、生命财产安全等特定活动，需要按照法定条件予以批准的事项；（二）有限自然资源开发利用、公共资源配置以及直接关系公共利益的特定行业的市场准入等，需要赋予特定权利的事项；（三）提供公众服务并且直接关系公共利益的职业、行业，需要确定具备特殊信誉、特殊条件或者特殊技能等资格、资质的事项；（四）直接关系公共安全、人身健康、生命财产安全的重要设备、设施、产品、物品，需要按照技术标准、技术规范，通过检验、检测、检疫等方式进行审定的事项；（五）企业或者其他组织的设立等，需要确定主体资格的事项；（六）法律、行政法规规定可以设定行政许可的其他事项。B 项

可以不用行政许可，《行政许可法》第13条规定，本法第十二条所列事项，通过下列方式能够予以规范的，可以不用行政许可：（一）公民、法人或者其他组织能够自主决定的；（二）市场竞争机制能够有效调节的；（三）行业组织或者中介机构能够自律管理的；（四）行政机关采用事后监督等其他行政管理方式能够解决的。故本题选B。

16. 【答案】A。解析：A项正确，温水洗浴可以使皮肤的毛细血管扩张，汗孔张开，有利于散热，达到降温的目的，因此夏季洗温水浴可以降温。B项错误，出汗是人体的一种正常的生理反应，如果在天气比较炎热的时候出汗，能够起到降温退热的功效，并没有减肥作用。C项错误，太阳镜是否能防止紫外线与镜片的颜色深浅没关系，而是由镜片的UV（紫外线）标准决定的，即使镜片能防止紫外线，也不宜选择颜色过深的太阳镜，镜片颜色过深会严重影响能见度，眼睛容易因看东西吃力而受到损伤。太阳镜的镜片应保证能穿过30%的光线，以灰色或绿色为最佳。D项错误，中暑后大量饮用白开水会加速体内的电解质紊乱，导致肌肉痉挛、乏力等症状更加严重，建议补充糖盐水，并要采取少量、多次饮水的方法，每次以不超过300毫升为宜。故本题选A。

17. 【答案】A。解析：2021年2月25日，汪洋宣读《中共中央、国务院关于授予全国脱贫攻坚楷模荣誉称号的决定》。被党中央、国务院授予“全国脱贫攻坚先进个人”荣誉称号的有毛相林、白晶莹、刘虎、李玉、张小娟、张桂梅、赵亚夫、姜仕坤、夏森、黄文秀。排除B、C项。钟南山，呼吸内科学家，广州医科大学附属第一医院国家呼吸系统疾病临床医学研究中心主任，中国工程院院士，中国医学科学院学部委员，中国抗击非典型肺炎的领军人物、国家卫健委高级别专家组组长、国家健康科普专家。2020年8月11日，习近平签署主席令，授予钟南山“共和国勋章”；9月4日，钟南山入选2020年“全国教书育人楷模”名单。9月3日，入选世卫组织新冠肺炎疫情应对评估专家组名单。排除D项。故本题选A。

18. 【答案】B。解析：①错误，2021年2月25日召开的全国脱贫攻坚总结表彰大会宣告，我国脱贫攻坚战取得了全面胜利。经过全党全国各族人民共同努力，完成了消除绝对贫困的艰巨任务。②错误，2012年底拉开了新时代脱贫攻坚的序幕。③④⑤表述正确。故本题选B。

19. 【答案】A。解析：A项正确，《民法典》第184条规定，因自愿实施紧急救助行为造成受助人损害的，救助人不承担民事责任。张福劝架是为了保护互殴双方的人身权益，属于紧急救助行为，因此不承担民事责任。B、C、D三项错误，《民法典》第1169条规定，教唆、帮助他人实施侵权行为的，应当与行为人承担连带责任。《民法典》第1173条规定，被侵权人对同一损害的发生或者扩大有过错的，可以减轻侵权人的责任。王力酒后与张兴发生争议并对其进行挑衅，因此王力也有过错，可以减轻侵权人责任。张兴受王诚的怂恿与王力互殴，因此张兴和王诚承担连带责任。故本题选A。

20. 【答案】A。解析：习近平总书记指出，只有坚持思想建党、理论强党，不忘初心才能更加自觉，担当使命才能更加坚定，要把学习贯彻党的创新理论作为思想武装的重中之重，并同学习党史、新中国史、改革开放史、社会主义发展史（简称“四史”）结合起来。“四史”内容各有侧重，但整体讲的就是中国共产党为人民谋幸福、为民族谋复兴、为世界谋大同的实践史，中国共产党的领导是“四史”的主线。故本题选A。

21. 【答案】C。解析：辨析四个成语的意思：“生生不息”指不断地生长、繁殖，“蒸蒸日上”形容事物天天向上发展，“薪火相传”比喻学问和技艺代代相传，“一脉相承”比喻某种思想、行为或学

说之间有继承关系。此处指传统工艺技艺的传承，“薪火相传”最符合语意。“生生不息”和“蒸蒸日上”均侧重生长、发展，二者均不符合语意，排除A、B项；“一脉相承”的主体为思想、行为和学说，无法与“技艺”搭配，排除D项。故本题选C。

22. 【答案】B。解析：“不苟言笑”形容人态度庄重，“视若珍宝”形容十分珍爱，将其当成无价之宝，此处是形容古籍修复师对修复珍贵古籍的态度，二者明显不符合语意，排除A、D项。“如履薄冰”意思是战战兢兢地好像来到深水潭边，好像踩在薄冰上，形容谨慎戒惧，“精益求精”指学术、技术、作品、产品等)好了还求更好，“需要修复的珍贵古籍”强调古籍的珍贵，因此“如履薄冰”更能与之相呼应，体现了古籍修复师在需要修复的珍贵古籍面前的谨慎小心，排除C项。故本题选B。

23. 【答案】A。解析：辨析四个成语的意思：“纲举目张”比喻文章条理分明，也指抓住事物的关键，带动其他环节，“包罗万象”形容内容丰富，无所不有，“字字珠玑”比喻说话、文章的词句十分优美，“条分缕析”形容分析得细密清楚而有条理。由“对于核心概念的相互关系有明确规定”可知，此处强调《大学》条理分明，“纲举目张”最符合语意；“包罗万象”侧重内容丰富，“字字珠玑”侧重语句优美，“条分缕析”侧重分析得明白，均不符合语意，排除B、C、D项。故本题选A。

24. 【答案】A。解析：先看第二空，“独立”无法与“开来”连用，常见表述是“独立起来”，且“独立”也无法很好地体现“强制分开”的意思，排除C项。再看第一空，此处讲网络空间作为家庭、学校、社会等现实世界的另一空间，“放大”和“深入”均不符合语意，文段并未比较网络空间与现实世界的深浅或大小，排除B、D项。故本题选A。

25. 【答案】C。解析：先看第一空，由“并不一味拒绝‘洋建筑’”可知，此处讲中国的建筑风格是具有包容性的，“千姿百态”形容姿态多种多样，各不相同，不符合语意，排除B项；“独树一帜”比喻独闯一条路子，自成一家，与文意相悖，排除D项。再看第二空，由“就在于其舍本逐末、生搬硬套，缺少了对历史的敬畏和对文化的理解”可知，人们对一些西式建筑热持怀疑态度，“否定”与“质疑”相比，词义过重，排除A项。故本题选C。

26. 【答案】A。解析：先看第一空，“相辅相成”比喻两件事物互相补充，缺一不可，“相得益彰”指两个人或两件事物互相配合，双方的能力和作用更能显示出来。文中体现的是“抗疫精神”与“特质禀赋”“文化基因”三者之间的关系，排除C、D项。再看第二空，“展示”与“精神”无法搭配，排除B项。验证A项，“一脉相承”指某种思想、行为或学说之间有继承关系，“诠释”指说明、解释，符合语意。故本题选A。

27. 【答案】D。解析：先看第一空，由前文“侦探小说的长久流行”可知，此处强调读者的好奇心使得侦探小说得以长久流行，“与生俱来”指从一生下来就有，“自然而然”指不经外力作用而如此，二者均不能体现“长久流行”的相关意思，排除A、C项。再看第二空，由“安宁与平静只是一种表象”“平凡生活”可知，此处强调生活的宁静与平凡，“百无聊赖”指精神无所依托，感到非常无聊，“一成不变”指一经形成，永不改变，后者更能体现“生活的宁静与平凡”的意思，排除B项。验证第一空，“经久不衰”形容某事或某人经历很长时间仍旧保持较高的旺盛状态，此处指读者对世理人情中的阴暗面一直都具有强烈的好奇心，符合语意。故本题选D。

28. 【答案】B。解析：先看第二空，“吟诗作赋”与工作相比，会被认为是“附庸风雅”或者“不务正业”，“自命不凡”与“三心二意”明显不符合语意，排除A、C项。再看第一空，“劳逸结合”

的主体通常是人，此处是“工作中读自己专业领域的书”与“休闲时看其他领域的书”两种方式，“相得益彰”指两个人或两件事物互相配合，双方的能力和作用更能显示出来，更符合语意，排除D项。故本题选B。

29. 【答案】B。解析：先看第一空，由后文“互为补充”可知，此处强调文学研究的两个维度可以互相补充配合，“互通有无”指拿出自己多余的东西给对方，与之进行交换，以得到自己所缺少的东西，“并行不悖”指同时实行，互不冲突，二者并未体现“互相补充配合”的意思，排除C、D项。再看第二空，“僵持”指相持不下，“对立”指两种事物或一种事物的两个方面之间的相互排斥、相互矛盾、相互斗争，根据前文“关系变得复杂，甚至紧张和……”可知，“僵持”和“紧张”词义基本无异，而“对立”词义更重，更能与“甚至”相呼应，排除A项。验证第一空，“相得益彰”指互相帮助，互相补充，更能显出各自的好处，符合语意。故本题选B。

30. 【答案】B。解析：先看第一空，“隐而不发”比喻善于启发引导，做好准备暂不行动，以待时机，又比喻善于控制自己，由“它记录了各老字号的当家菜”“进行了精确细致的记录”可知，各家过去对自己的当家菜采取的是保密态度，不符合语意，排除A项。再看第二空，“事无巨细”形容什么事都管，“深入浅出”指讲话或文章的内容深刻，语言文字却浅显易懂，“知无不言”指凡是知道的没有不说的，由“从养鸭子到修炉子”“全部囊括”可知，菜谱中介绍的内容很详细，“事无巨细”最符合语意，排除C、D项。故本题选B。

31. 【答案】C。解析：先看第一空，由前文“挖掘工厂、矿山的历史文化与科普价值”、后文“将它们改造成博物馆、文创园”可知，“商业性”“抢救性”均不符合语意，排除A、B项。再看第二空，“回望”指回顾、回头看，“回归”指回到（原来地方）、归回，由“憧憬未来”可知，横线处所填词语应与“憧憬”构成反义，前者更符合语意，排除D项。故本题选C。

32. 【答案】B。解析：直接看第一空，“惊心动魄”指使人神魂震惊，“震撼人心”指某件事对人内心震动很大，“心神荡漾”指心思精力起伏不定，此处讲开门是进入一种新的时刻，使人们积极向上，三者均不符合语意，排除A、C、D三项。验证B项，“振奋人心”指使人们振作奋发，符合语意，“情感表达”符合搭配。故本题选B。

33. 【答案】C。解析：先看第一空，“天方夜谭”比喻虚诞、离奇的议论，“奇谈怪论”指奇怪的不合情理的言论，由后文“但最近发表的一个研究结果表明，这种训练确实能够提高65岁以上老年人的记忆力和注意力”可知，“大脑训练”游戏曾经被批评是没有根据的说法，二者均不符合语意，排除A、D项。再看第二空，“尽心尽力”指费尽心力，搭配对象是“人”，“尽其所能”指把所有本事都用上，由“人的大脑”“让老年人的退休生活变得愉快”可知，横线处所填词语修饰“大脑”，“大脑尽其所能”更符合搭配，排除B项。故本题选C。

34. 【答案】B。解析：先看第一空，“通晓”指透彻地了解，无法与“真理”搭配，排除A项；“敬畏”指又敬重又畏惧，此处讲在大学里，厌恶无知的人会努力学习，熟悉真理的人会传授真理，不符合语意，排除C项。再看第二空，“各抒己见”指各人充分发表自己的意见，“高谈阔论”多指不着边际地大发议论，此处讲在青年们获得知识的时光里，大学给予他们远大目标和共同生活的规范，以及友情，让青年们可以对永恒的主题充分地讨论，前者更符合语意，排除D项。故本题选B。

35. 【答案】C。解析：先看第二空，“压力”和“束缚”均无法与“保持”搭配，排除B、D项。

再看第三空，由“反正谁也不认识我”可知，此处讲进入新环境后其自身的身份特征的变化，“消失”与“弱化”相比，词义过重，排除A项。验证第一空，由“这些社区中的‘好居民’，工作中的‘好职工’”可知，在日常环境中，人们往往具有“明确”的身份标签。故本题选C。

36. 【答案】A。解析：先看第一空，“弥漫”指（烟尘、雾气、水等）充满、布满，“映现”指由光线照射而显现、呈现，二者均无法与“粒子”搭配，排除B、D项。再看第三空，“证实”指证明其确实，“判断”指断定是非曲直、吉凶善恶，由“它是目前最接近真相的‘万物理论’。这些假想粒子也被称为‘轴子’”和“就意味着我们生活在一个广阔的‘轴子宇宙’中”可知，前者更符合语意，排除C项。验证第二空，“尽善尽美”形容事物完美到没有一点儿缺点，符合语意。故本题选A。

37. 【答案】B。解析：先看第一空，“说千道万”形容话说的很多，“千头万绪”形容事物纷繁复杂，由“还是要看农产品的品质”可知，此处应填入归纳总结的词语，二者均不符合语意，排除C、D项。再看第三空，此处填入的词语应形容“扩大销路与提升品质”二者之间的关系，“互利共赢”指互相对对方都有利，双方都可以取得成功，不符合语意，排除A项。验证第二空，“优胜劣汰”指生物在生存竞争中适应力强的保存下来，适应力差的被淘汰，与“销售市场”呼应，符合语意。故本题选B。

38. 【答案】C。解析：先看第一空，此处讲卫星数据显示地下水出现了问题，即越来越少，“警戒”指告诫，使注意改正错误，不符合语意，排除A项；“枯竭”指干涸、断绝，词义过重，排除B项。再看第二空，此处讲相关部门对这些信号很重视，“不安”指不安宁的，感到烦恼、不宁或不祥之兆的，不符合语意，排除D项。验证C项，“地下水出现危机”符合搭配；“谨慎”指细心慎重，认为自己的看法有所根据，但还有所保留，符合语意；“提出质疑”符合搭配。故本题选C。

39. 【答案】B。解析：先看第一空，后文讲“在做事情之前要仔细考虑，分析判断，着眼于长远”，体现了做事情要“着眼于长远”，即把握“方向”或者“趋势”，“原则”“规律”不符合语意，排除A、C项。再看第三空，强调“做事情方法要正确”，侧重体现做事的“过程”而非“目的”，排除D项。验证第二空，“理清来龙去脉”符合语意。故本题选B。

40. 【答案】B。解析：先看第二空，“提供”指供给（意见、资料、物资、条件等），此处讲新技术的发展会催生更多新的岗位，不符合语意，排除C项。再看第三空，“居安思危”指时时要提高警觉，预防祸患，“未雨绸缪”比喻事先做好准备，“常备不懈”指时刻准备着，毫不松懈，由“积极拥抱变革”可知，“未雨绸缪”更符合语意，排除A、D项。验证第一空，“焦虑”指焦急忧虑，此处讲对于人工智能的发展对就业造成的冲击不必过于担心，符合语意。故本题选B。

41. 【答案】A。解析：文段讲中国人民自古就知道幸福要靠奋斗，后文通过开发建设大好河山、开拓辽阔海疆、开垦良田、治理大江大河、战胜自然灾害、建设城镇乡村、发展产业都是靠艰苦奋斗来论证观点。可见，文段旨在说明中国人民靠艰苦奋斗创造幸福生活。B、C、D三项均未提及“奋斗”。故本题选A。

42. 【答案】C。解析：文段讲以玩家年龄为依据，分别匹配适合玩的网游，可以让孩子玩得更安全，让家长管得更放心，但对于游戏企业是一种“束缚”，因为游戏企业需要对游戏进行适龄标识，后文指出这种“束缚”是必须的，因为保护未成年人是所有市场主体都必须遵守的规范。可见，“束缚”最可能指的是对网络游戏按照适合年龄进行分级并加以标识，C项正确。A项“下架游戏”文段并未提及，B项“控制游戏在线时段和时长”不是文段的论述重点，D项“相关部门”不是文段的论述主体。故本题

选 C。

43. 【答案】C。解析：横线位于文段中间，应起到承上启下的作用。前文讲艺术生的培养存在着学习艺术表演的学生人多就业压力大和人民群众对文艺演出的需求强烈期待值高的矛盾现象，随后指出其实各大艺术院校的创作成果并不少，后文指出应给学生创造更多的社会演出机会。可见，横线处应体现艺术创作成果与人民群众之间的联系较少，C项正确。A项“长效的舞台演出机制”文段无从体现；B项“院校的艺术作品虽然普通”与文段“其实各大艺术院校每年的艺术创作成果并不少，其中不乏精品”意思相悖；D项关于艺术人才的培养与前文内容联系不大。故本题选 C。

44. 【答案】B。解析：文段开头解释了我们可以通过清晰看到物体的原理，随后转折指出近视的人看不清楚物体的原因，即角膜的曲率变了，末句讲传统的治疗近视方法风险较高，因此无风险治疗近视越来越被人们所期待。可见，文段接下来最有可能围绕“无风险治疗近视”展开论述，B项正确。A、C、D项均未涉及“无风险治疗近视”。故本题选 B。

45. 【答案】D。解析：文段讲戴维斯《档案中的虚构》中的案情编造凸显原始档案的虚构性，引发历史研究者对档案可信性的质疑，随之转折指出可以换个角度看，这恰好也是档案的一种真实性，更可以反映某种特定的时代风尚，最后总结强调对档案可信性的质疑应更进一步地发掘其中深藏的多元化的历史真貌。可见，文段意在说明存在虚构成分的档案也应善加利用，D项正确。A项与文意相悖，文段讲档案中的主观意识恰好也是其真实性的一种；B项仅为文段的部分内容，C项不是文段的论述重点。故本题选 D。

46. 【答案】D。解析：通读 6 个句子，可知，③讲很多社交媒体也都采用了各种各样的方式来为用户推送更加个性化的新闻，②通过“然而”转折指出很多学者担忧过度个性化的推荐会引起“回声室效应”，二者均涉及“个性化推荐”，因此②是对③的转折，应紧随③之后，排除 A、B、C 项。验证 D 项，符合语句逻辑关系。故本题选 D。

47. 【答案】A。解析：通读 6 个句子，可知②中有指代词“上述关系”，③讲城市里的人类社会活动与组织也越来越复杂，诸多子系统，彼此构成错综复杂的共生、促进或制约关系，因此②③应捆绑且②在③之后，排除 B、D 项。再看其他句子，⑥讲城市中错综复杂的关系已通过数字化映射到信息空间，“城市中错综复杂的关系”应是对③中“彼此构成错综复杂的共生、促进或制约关系”的进一步阐述，因此⑥在③之后，排除 C 项。验证 A 项，符合语句逻辑关系。故本题选 A。

48. 【答案】B。解析：文段首先讲在信息流动中，个体几乎处在风险的主要位置，之后“但是”转折，讲从信息获得等角度来看，个体又处于被动地位，在很大程度上能掌握相应风险的则是掌握个人信息的平台或企业。最后用“因此”来总结，指出有风险者不能承担风险，风险掌握者在承担风险时缺位。可见，文段接下来最有可能围绕如何解决“风险掌握者在承担风险时缺位”这一问题进行论述，即如何让信息的获益方承担风险责任，B项正确。A项“如何规避”、C项“该如何掌握”与末句联系不够紧密，D项“究竟由谁承担风险”是前文论述的内容。故本题选 B。

49. 【答案】B。解析：文段首句指出改革开放以来，我国制造业发展迅速，随后转折讲随着我国经济进入新常态，制造业发展亟需升级，后文详述制造业发展面临的困难。可见，文段意在强调我国制造业亟需转型升级，B项正确。A项与文意相悖，C项仅为文段部分内容，D项“大而不强”文段无从体现。故本题选 B。

50. 【答案】B。解析：横线位置处于文段末句，应起到总结全文的作用。文段先提出“群众的眼睛是雪亮的”这一说法，并从两方面来分析该说法。“就后者而言”的“后者”指的是“问题的症结出现在哪里，有怎样的改进办法，群众也往往看得很清楚”，侧重群众监督对解决问题的有效性，B项正确。A项“应覆盖工作全过程”文段无从体现，C项对应文段的第一层意思，D项文段并未将群众的建议和领导的决策进行对比。故本题选B。

51. 【答案】C。解析：文段讲美国《科学》杂志的研究表明，咖啡因是让蜜蜂忠诚专一的物质，后文解释这和蜜蜂大脑的一个叫蕈形体的脑区域有关，咖啡因的摄入使得蜜蜂深刻地记住了在柑橘和咖啡花朵上采集花蜜这件事情，所以蜜蜂会一直喜欢这一种花蜜。可见，文段主要讲述蜜蜂一直喜欢一种花蜜的原因，C项正确。A、B项均未涉及文段的论述主体“蜜蜂”，D项“学习和记忆的奥秘”不是文段的论述重点。故本题选C。

52. 【答案】A。解析：文段主要讲古希腊人认为凡是有竞赛的地方就有规则，体育比赛要有严格的竞赛规则，才能产生没有争议的比赛结果，而如何用好的规则去引导和规范竞争，是古希腊思想家们热衷探讨的话题。可见，文段意在说明古希腊人强调在竞争中规则的重要性，A项正确。B、D项“公平”非文段论述重点；C项仅为文段部分内容，非重点。故本题选A。

53. 【答案】C。解析：文段国家的制度变革和治理现代化与每个人息息相关，“治理”相比于“管理”，虽然只是一字之变，却体现出一种现代化的转型，有利于促进社会参与、激发社会活力。换言之，本段重点在于强调“治理”理念的作用，即促进人人参与，C项作为标题最贴切。A项不是文段论述重点，B项没有落脚到“人人参与”的层面，D项“国家制度”偷换“国家的制度变革和治理现代化”的概念，且“受益人”偷换“人人参与”的概念。故本题选C。

54. 【答案】A。解析：文段主要讲南朝评论家钟嵘在评论晋人刘琨的作品时是用刘琨的生平经历来解释其诗作，而当代的评论家更是擅长运用这样的方法来考察作品，某位研究《孽海花》的学者曾提倡“知人论世”，即要理解这部作品，就需要探讨曾朴的生活。可见，文段意在说明“知人论世”是重要的文学研究方法，A项正确。B项偏离文段论述重点，文段强调“知人论世”的文学研究方法；C项“被奉为古代作品研究的圭臬”文段无从体现；D项说法过于宽泛。故本题选A。

55. 【答案】B。解析：文段主要讲截至2019年末，老龄化明显，当前非网民比例较多，因此在公共服务上，越来越有必要照顾老年人的诉求，不能因他们不上网就忽视他们的正常需求。可见，文段着重强调的是需为庞大的老年人群体提供更便利的公共服务，B项正确。A项偏离文段论述主体“公共服务”，C项“跟上互联网时代”文段无从体现，D项非文段论述重点。故本题选B。

56. 【答案】B。解析：文段主要讲高校之间主要的竞争就是生源的竞争，而大学中开设的特色专业项目是竞争的主要战略，而个性化专业设置作为一种极具特色的本科人才培养方式，也能有效提升学校的吸引力和竞争力。可见，文段主要说明专业设置个性化是增强高校吸引力竞争力的有效途径，B项正确。A项“帮助学生实现既定目标”无中生有，C项“是高校之间生源竞争普遍采用的方式”文段并未体现，D项“独特人才培养计划”说法过于宽泛。故本题选B。

57. 【答案】D。解析：文段首先指出现代化是世界性课题，应体现民族性与世界性、多元与共识的统一，推进现代化必须摒弃自我中心的心态，后文转折讲但西方一些思想家觉得西方理想主义才是诠释现代化问题的基本立场，末句强调他们的这种理论定位很容易导致“西方中心主义”，我们应该对此保

持警醒。可见，文段意在说明现代化过程中应正确看待西方理想主义，D项正确。A项文段无从体现；B项仅为文段的部分内容，不是文段的论述重点；C项文段仅指出西方的一些思想家对现代化的认识与我们不同，“不同国家”无从体现。故本题选D。

58. 【答案】B。解析：文段首先讲为了鼓励阅读，专家学者、作家都在宣扬阅读的好处，转折后指出阅读的好处与“读书无用论”的性质是一样的，即都从功利角度进行理解，并阐述过分从功利角度理解阅读的坏处。可见，文段主要说明应该从非功利角度去理解阅读，B项正确。A项“读书无用论”非文段论述主体；C项仅为部分内容；D项为过分功利地解读阅读的后果，不是文段的核心观点。故本题选B。

59. 【答案】C。解析：文段讲县域是个相对独立的社会，从社会结构、社会关系、社会行为规范以及独特的生活方式、文化和语言传统看，它属于一个亚社会，从各个子体系之间的联系看，它又是个复杂的社会。显然，文段主要介绍县域的社会学概念，C项正确。A项文段无从体现，B、D项均为文段的部分内容。故本题选C。

60. 【答案】A。解析：文段主要讨论依托红色资源打造的旅游点如何吸引游客的问题，后文提出通过强化党组织的政治功能和服务功能，走出“红色基因+绿色产业+特色旅游”的振兴之路，进而推动形成基层党建、红色资源、新农村建设融合发展的新格局。显然，文段主要分析发展红色旅游的路径，A项正确。B项“发展红色旅游的意义”文段无从体现，C、D项偏离了文段的论述主体“红色旅游”。故本题选A。

61. 【答案】B。解析：本题考查基础应用。第一步：审阅题干。购买的物品与赠送物品未必成比例，不适合设未知数列方程解题。题干条件清晰，可直接代入选项验证排除。第二步：选项逐一排除。A项代入：小哑铃24个，需付费的有 $24 \div 4 \times 3 = 18$ 个；便携包 $56 - 24 = 32$ 个， $32 \div 3 = 10 \cdots 2$ ，需付费的有 $10 \times 2 + 2 = 22$ 个。共需付费 $18 \times 12 + 22 \times 18 = 612$ 元，排除。B项代入：小哑铃25个，需付费的有19个；便携包31个，需付费的有21个。共需付费 $19 \times 12 + 21 \times 18 = 606$ 元，当选。故本题选B。

62. 【答案】A。解析：本题考查基础排列组合问题。第一步：审阅题干。存在丙去C社区和不去C社区两种情况，适用分类加法计数原理。第二步：分情况讨论：①丙去C社区，丁去D社区，则甲去B社区，乙去A社区，只有1种派法。②丙不去C社区，则存在两种情况，去A社区或不去A社区，共有 $A_3^3 + C_2^1 C_2^1 A_2^2 = 14$ 种派法。综上，不同的派法共有 $1 + 14 = 15$ 种。故本题选A。

63. 【答案】。解析：本题考查等差数列。第一步：审阅题干。题干所求为所剩数字的总和，即1~64的和减去能被3整除的数字的和，而能被3整除的数字是一个首项为3，末项为63，公差为3的等差数列，共 $\frac{63-3}{3} + 1 = 21$ 项。第二步：1~64的总和为 $\frac{1+64}{2} \times 64 = 2080$ ，能被3整除的数字之和为 $\frac{3+63}{2} \times 21 = 693$ ，因此所剩数字的总和为 $2080 - 693 = 1387$ 。故本题选B。

64. 【答案】A。解析：本题考查基础应用。第一步：审阅题干。本题中只包含比例关系，无具体数值，可设特殊值列方程求解。第二步：设A粮仓原粮食储量为5，B粮仓为9，C粮仓为10，每个粮仓新增的粮食储量为x。根据题意有 $\frac{5+x}{9+x} = \frac{3}{5}$ ，解得 $x=1$ ，则今年丰收后三个粮仓的储存总量比原先增加

$\frac{3}{5+9+10} \times 100\% = 12.5\%$ 。故本题选 A。

65. 【答案】D。解析：本题考查流水行船问题。第一步：审阅题干。已知轮船往返甲、乙两地的航行时间，可设特值得出水流速度。第二步：设甲地与乙地之间的距离为 30，则轮船顺水航行的速度为 6，逆水航行的速度为 5，那么水流速度为 $(6-5) \div 2 = 0.5$ 。因此无动力竹排从甲地到乙地需要 $30 \div 0.5 = 60$ 小时。故本题选 D。

66. 【答案】C。解析：本题考查基础应用。第一步：审阅题干。存在明显数量关系，可设特值进行求解。第二步：设小王在甲公司的年工资总额为 16，则在乙公司的年工资总额为 20，那么小王在乙公司工作一年获得的实际工资总额为 $20 \times \frac{1}{4} \times (1-48\%) + 20 \times \frac{3}{4} = 2.6 + 15 = 17.6$ ，因此小王在乙公司工作一年获得的实际工资总额与在甲公司相比增长 $\frac{17.6-16}{16} \times 100\% = 10\%$ 。故本题选 C。

67. 【答案】C。解析：本题考查基础概率问题。第一步：审阅题干。根据题意可知，正面情况数较多，可考虑反面情况进行求解。第二步：两个盲盒均未抽中他想要的那款的概率为 $\frac{7}{8} \times \frac{7}{8} = \frac{49}{64}$ ，因此抽中他想要的那款的概率是 $1 - \frac{49}{64} = \frac{15}{64}$ 。故本题选 C。

68. 【答案】B。解析：本题考查经济优化问题。第一步：审阅题干。要使一个月获得的利润最大，需先求出每天做多少点心最为合适，根据题意可知每天做的点心数量应介于 60~100 份之间。第二步：设饼店每天做 x ($60 \leq x \leq 100$) 份点心，则每个月 8 点前卖出的点心数量为 $15x + 15 \times 60 = (15x + 900)$ 份，每个月 8 点后卖出的点心数量为 $15 \times (x - 60) = (15x - 900)$ 份。那么每个月的利润为 $(15x + 900) \times (2 - 1.4) - (15x - 900) \times (1.4 - 2 \times 0.5) = (3x + 900)$ 元，因此当 $x = 100$ 时能够获得的利润最大，为 $3 \times 100 + 900 = 1200$ 元。故本题选 B。

69. 【答案】B。解析：本题考查赋值工作量问题。第一步：审阅题干。已知甲、乙进水口单独注满蓄水池的时间，可赋值工作量进行求解。第二步：赋值蓄水池的蓄水总量为 15，则甲进水口的速度为 3，乙进水口的速度为 5，那么出水口渗水的速度为 $\frac{(3+5) \times 2 - 15}{2} = 0.5$ 。因此单独开甲进水口，需要 $\frac{15}{3-0.5} = 6$ 小时 = 360 分钟才能将蓄水池注满。故本题选 B。

70. 【答案】D。解析：本题考查最不利问题。第一步：审阅题干。由题意可知，该单位 200 名青年职工中党员人数大于 160，小于 162，即为 161。第二步：这批青年职工中党龄最长为 10 年，最短为 1 年，要使同一年入党的人数最少，则应使所有人尽可能平均分配到每一年中，即 $161 \div 10 = 16$ 名……1 名，因此该单位至少有 $16 + 1 = 17$ 名青年职工是在同一年入党的。故本题选 D。

71. 【答案】D。解析：本题考查属性类规律。第一步：观察图形。题干各图形组成不同，有明显对称性特征，优先考虑属性类规律。题干各图形的对称轴依次顺时针旋转 45° 且均经过图形的交点，则问号处图形的对称轴应为水平方向且经过图形的交点。第二步：分析选项，确定答案。A 项：对称轴不为水平方向，排除。B 项：对称轴未经过图形交点，排除。C 项：不是轴对称图形，排除。D 项：对称轴为水平方向且经过图形交点，当选。故本题选 D。

72. 【答案】。解析：本题考查位置类规律。第一步：观察图形。题干各图形组成元素相同，考虑

位置类规律。黑圆沿中间四格依次顺时针移动一格，如下图所示，空格 1 沿外圈依次顺时针移动两格，空格 2 沿外圈依次顺时针移动一格，则问号处图形应遵循此规律。



第二步：分析选项，确定答案。A 项：符合题干移动规律，当选。B 项：空格 1 应在第一列第二格，排除。C 项：黑圆应在内圈左上角，排除。D 项：黑圆应在内圈左上角，排除。故本题选 A。

73. 【答案】D。解析：本题考查数量类规律。第一步：观察图形。题干各图形组成相似，均包含黑色三角形，优先考虑与面相关的规律。题干各图形中黑色三角形面积占总面积的四分之一，则问号处图形中黑色三角形面积应占总面积的四分之一。第二步：分析选项，确定答案。A 项：黑色三角形面积占总面积的五分之一，排除。B 项：黑色三角形面积占总面积的五分之一，排除。C 项：黑色三角形面积占总面积的三分之一，排除。D 项：黑色三角形面积占总面积的四分之一，当选。故本题选 D。

74. 【答案】C。解析：本题考查形状类规律。第一步：观察图形。题干各图形组成相似，考虑形状类规律。九宫格前两行每行的第一个图形与第二个图形叠加，去同存异后得到第三个图形，第三行图形遵循此规律。第二步：分析选项，确定答案。A 项：应不含从左上角到右下角的斜对角线，排除。B 项：应不含竖直的线，排除。C 项：符合题干叠加规律，当选。D 项：应不含竖直和水平的线，排除。故本题选 C。

75. 【答案】D。解析：本题考查截面图。第一步：观察图形。题干立体图形由一大一小两个圆柱组成。从小圆柱顶面切入，经小圆柱底面和大圆柱顶面，再从大圆柱底边切出。则小圆柱柱身所切线条应为两条曲线，大圆柱柱身所切线条应为抛物线。第二步：分析选项，确定答案。A 项：大圆柱所切线条应为抛物线，排除。B 项：大圆柱所切线条应为抛物线，排除。C 项：小圆柱所切线条应为两条曲线，排除。D 项：符合题干截面规律，当选。故本题选 D。

76. 【答案】C。解析：本题考查空间类规律。第一步：观察展开图和选项各面。第二步：分析选项，确定答案。A 项：正面和右面为相对面，排除。B 项：假设正面和右面正确，则顶面应为包含两个三角形和一个长方形的面，排除。C 项：符合折叠规律，当选。D 项：展开图中仅有一个包含斜对角线的面，排除。故本题选 C。

77. 【答案】C。解析：本题考查空间类规律。观察图形。由左视图可知，第二列应包含两个长方体，且小长方体在前；由后视图和立体图可知，该小长方体被遮挡，则其应仅位于中心位置。观察选项，只有 C 项符合。故本题选 C。

78. 【答案】C。解析：本题考查位置类规律。第一步：观察图形。题干各图形元素构成相同，只是位置不同，可以考虑位置类规律。第二步：分析题干图形的位置类特征。①③④由相同的图形旋转得到，②⑤⑥由另一个相同的图形旋转得到。故本题选 C。

79. 【答案】D。解析：本题考查关系类规律。第一步：观察图形。题干各图形组成元素相同，仅“星”元素位置不同，可以考虑关系类规律中的位置关系。第二步：分析图形。①②④中的“星”元素均相隔一个角，③⑤⑥中的“星”元素均相隔两个角。故本题选 D。

80. 【答案】。解析：本题考查标记类规律。第一步：观察图形。题干各图形组成元素相似，且均有一个半圆，考虑标记类规律。第二步：分析图形特征。①③⑥图形中的半圆均位于直线图形的最短边，

②④⑤图形中的半圆均位于直线图形的最长边。故本题选 B。

81. 【答案】D。解析：本题考查科学类定义判断。第一步：分析定义要点。“植物耐逆性”的定义要点：①植物处于不利环境；②通过自身内部代谢反应，迅速阻止、降低或修复由逆境造成的损伤，使其仍保持正常的生理活动。第二步：分析选项，确定答案。A项：意为长长的原上草是多么茂盛，每年秋冬枯黄春来草色浓；无情的野火只能烧掉干叶，春风吹来大地又是绿茸茸。该诗句描述了每年季节更替时野草的变化，未体现植物迅速阻止、降低或修复由逆境造成的损伤，不符合②，排除。B项：意为那墙角的几枝梅花，冒着严寒独自盛开；为什么远望就知道洁白的梅花不是雪呢？因为梅花隐隐传来阵阵的香气。该诗句说明了可根据香味辨别梅花不是雪，未体现植物迅速阻止、降低或修复由逆境造成的损伤，不符合②，排除。C项：戈壁滩的气候异常恶劣，符合①，但胡杨树仍然可以很好地生存下去，说明胡杨树自身生存能力强大，未体现植物迅速阻止、降低或修复由逆境造成的损伤，不符合②，排除。D项：在高盐环境下，符合①，一些植物通过改善细胞膜的通透性来阻止大量失水，符合②，符合定义，当选。故本题选 D。

82. 【答案】D。解析：本题考查法律类定义判断。第一步：分析定义要点。“行政协议”的定义要点是“行政机关与公民、法人或者其他组织协商订立协议”。第二步：分析选项，确定答案。A项：某县自然资源局与某矿业公司签订协议，符合定义要点，排除。B项：某区人民政府与王某签订协议，符合定义要点，排除。C项：某县房屋征收部门与被征收人某县教育局签订协议，符合定义要点，排除。D项：某市公安机关和某市交通管理部门签订协议，二者均为行政机关，不符合定义要点，当选。故本题选 D。

83. 【答案】C。解析：本题考查经济类定义判断。第一步：分析定义要点。“补偿性工资差别”的定义要点是“工资差别与工作性质和条件有关”。第二步：分析选项，确定答案。A项：两项工作中条件比较艰苦的工作给出更高的工资，体现了工资差别与工作条件有关，符合定义要点，排除。B项：大家认为殡葬行业从业人员领取高工资理所应当，是因为殡葬行业特殊的工作性质，体现了工资差别与工作性质有关，符合定义要点，排除。C项：在北京比在上海更容易找到工作，工资水平更高，是地域区别导致的工资差别，而非工作性质和条件，不符合定义要点，当选。D项：收入分配向科技工作者和一线职工倾斜，是因为科技工作者和一线职工特殊的工作性质和条件，符合定义要点，排除。故本题选 C。

84. 【答案】B。解析：本题考查科学类定义判断。第一步：分析定义要点。“类比论证”的定义要点：①根据两个对象在某些属性上的相同或相似；②推论两者在其他属性上也有相同或相似。第二步：分析选项，确定答案。A项：根据陶渊明和李白“不折腰”的相同点推出有志气的人都如此，不是推论两者在其他属性上的相似，不符合②，排除。B项：根据光和声具有的共同点符合①，推论二者都具有波动性符合②，符合定义，当选。C项：将白求恩的工作态度、待人方式与工作不負責任、拈轻怕重的人进行对比，不是在某些属性上的相同或相似，不符合①，排除。D项：根据银与铜的共同点符合①，结合二者在其他属性上不同点得出结论，不符合②，排除。故本题选 B。

85. 【答案】B。解析：本题考查经济类定义判断。第一步：分析定义要点。“退出壁垒”的定义要点：①现有企业在市场前景不好、企业业绩不佳时意欲退出该产业（市场）；②由于各种因素的阻挠，资源不能顺利转移出去。第二步：分析选项，确定答案。A项：某企业委托咨询公司对接餐饮市场进行调研并寻找适合项目，未体现市场前景不好或企业业绩不佳意欲退出该产业（市场），不符合①，排除。

B项：某企业要转型，是意欲退出现有市场，符合①，原有设备的投资不能完全收回，是存在各种因素的阻挠，资源不能顺利转移出去，符合②，符合定义，当选。C项：某企业为产品升级要更新设备、培训工人，未体现市场前景不好或企业业绩不佳意欲退出该产业（市场），不符合①，排除。D项：某企业单方终止合同赔付违约金，未体现市场前景不好或企业业绩不佳意欲退出该产业（市场），不符合①，排除。故本题选B。

86. 【答案】B。解析：本题考查科学类定义判断。第一步：分析定义要点。“理论假说”的定义要点是“通过直觉、想象、抽象等思维过程”。“经验假说”的定义要点是“根据观察或实验的种种结果”。第二步：分析选项，确定答案。A项：伽利略通过多次斜面实验提出概念，是根据实验结果作出推测性解释，符合经验假说的定义要点，属于经验假说，排除。B项：哥德巴赫通过对数字规律的考察提出猜想，是通过直觉、想象、抽象等思维过程作出推测，符合理论假说的定义要点，当选。C项：贝塞尔发现天狼星运动的周期性偏差提出猜测，是根据观察作出推测性解释，符合经验假说的定义要点，属于经验假说，排除。D项：哥白尼通过观察行星提出日心说，是根据观察作出推测性解释，符合经验假说的定义要点，属于经验假说，排除。故本题选B。

87. 【答案】B。解析：本题考查法律类定义判断。第一步：分析定义要点。“形成权”的定义要点：①依权利人一方的意思；②使法律关系发生、内容变更或消灭。第二步：分析选项，确定答案。A项：甲是其六岁儿子的监护人，追回给主播的打赏是法定代理人对限制民事行为能力人超越其民事行为能力形成的法律关系的消灭，符合定义要点，排除。B项：甲、乙签订合同，仅依权利人一方的意思不能使法律关系变更，不符合①，当选。C项：乙违约，因此依甲一方的意思可以解除合同，符合定义要点，排除。D项：乙婚前未告知其有重大疾病，因此依甲一方的意思可以撤销婚姻，符合定义要点，排除。故本题选B。

88. 【答案】C。解析：本题考查人文类定义判断。第一步：分析定义要点。“衬托”的定义要点：①用类似的事物或反面的、有差别的事物作陪衬；②以次要事物为陪衬来突出主要事物。“对比”的定义要点：①用相反或相似的两种事物互相比照；②两种事物不分主次。第二步：分析选项，确定答案。A项：意为豪门贵族家里酒肉吃不完都放臭了，而道路上却暴露着冻饿致死的人的白骨。以“朱门酒肉臭”与“路有冻死骨”做对比，两种事物不分主次，符合对比的定义要点，不符合衬托的定义要点，排除。B项：意为即使桃花潭水深至千尺，也比不上汪伦送我之情。没有用类似的或反面的、相反的或相似的事物做陪衬或互相比照，不符合衬托和对比的定义要点，排除。C项：意为蝉声高唱，树林却显得格外宁静；鸟鸣声声，深山里倒比往常更清幽。用“蝉噪”作为陪衬突出“林静”，用“鸟鸣”作为陪衬突出“山幽”，“静”“幽”为主，“噪”“鸣”为次，符合衬托的定义要点；用“蝉噪”与“鸟鸣”、“林逾静”与“山更幽”互相比照，两种事物不分主次，符合对比的定义要点，当选。D项：意为千里黄云遮天蔽日，天气阴沉，北风送走雁群吹来纷扬大雪。没用使用其他事物做陪衬或互相比照，不符合衬托和对比的定义要点，排除。故本题选C。

89. 【答案】A。解析：本题考查科学类定义判断。第一步：分析定义要点。“论证”的定义要点：①一个或多个陈述；②为另外一个陈述提供支持的理由。第二步：分析选项，确定答案。A项：基因改造过程中，会把意料之外的改变引入到为人类提供食物的生物DNA中，符合①，这些改变对于消费者来说可能是有害的，符合②，符合定义，当选。B项：相信我们的公司能为我们的客户提供最好的产品，

相信我们的产品比竞争对手的好，二者均没有为另外一个陈述提供支持的理由，不符合②，排除。C项：没有陈述为“法国成为了最重要的国家”提供支持的理由，不符合②，排除。D项：固体保持自己的形状，液体占有有一定体积，二者均没有为另外一个陈述提供支持的理由，不符合②，排除。故本题选A。

90. 【答案】B。解析：本题考查人文类定义判断。第一步：分析定义要点。“并提”的定义要点是“短语或句子的前后两部分有一种分别相承的关系”。第二步：分析选项，确定答案。A项：“尧、汤水旱”指尧时洪灾，汤时旱灾，尧、汤与水、旱分别相承，符合定义要点，排除。B项：“行宫见月伤心色，夜雨闻铃肠断声”意为在行宫看见月色就伤心，夜里听到铃声就断肠痛苦，前后两部分没有分别相承的关系，不符合定义要点，当选。C项：“规矩准绳”与“方圆平直”分别相承，规用于作圆，矩用于作方，准用于作平，绳用于作直，符合定义要点，排除。D项：“遗书”“杯圈”与“手口”分别相承，“遗书”对应“手”，“杯圈”对应“口”，符合定义要点，排除。故本题选B。

91. 【答案】B。解析：本题考查材料关系。第一步：分析题干词语间的关系。塑料可以用来制作容器，且塑料不是制作容器的必要原材料。第二步：分析选项，确定答案。A项：石灰是制作水泥的必要原材料，排除。B项：陶瓷可以用来制作餐具，且陶瓷不是制作餐具的必要原材料，当选。C项：桥墩是桥梁的重要组成部分，排除。D项：木头是制作木材的必要原材料，前后词语顺序相反，排除。故本题选B。

92. 【答案】D。解析：用火药来制作烟花，用茶叶来制作茶包。故本题选D。

93. 【答案】。解析：本题考查载体关系。第一步：分析题干词语间的关系。感冒药装在胶囊里。第二步：分析选项，确定答案。A项：用吸管喝汽水，排除。B项：汉堡与三明治为反对关系，排除。C项：音乐刻在唱片中，当选。D项：土豆是制作薯条的原材料，排除。故本题选C。

94. 【答案】D。解析：本题考查矛盾关系。第一步：分析题干词语间的关系。动和静是矛盾关系。第二步：分析选项，确定答案。A项：东和西为反对关系，排除。B项：贫和富为反对关系，排除。C项：黑和白为反对关系，排除。D项：曲和直为矛盾关系，当选。故本题选D。

95. 【答案】C。解析：本题考查全异关系。第一步：分析题干词语间的关系。人民币、美元、欧元为反对关系。第二步：分析选项，确定答案。A项：海洋、海鸥、海滩不是反对关系，排除。B项：贵州是省份，杭州和常州是市，不是反对关系，排除。C项：兰花、牡丹、菊花为反对关系，当选。D项：诚信属于品性，二者与宽恕无明显联系，排除。故本题选C。

96. 【答案】A。解析：本题考查场所关系。第一步：分析题干词语间的关系。老鹰在树枝上休息，在天空中飞翔，树枝和天空分别为老鹰休息和活动的场所。第二步：分析选项，确定答案。A项：蜜蜂在蜂箱中休息，在花丛中采蜜，蜂箱和花丛分别为蜜蜂休息和活动的场所，当选。B项：蟒蛇在山涧和森林里均可进行休息和活动，排除。C项：蚊子在沟渠里和野外均可进行休息和活动，排除。D项：鲈鱼在江河和海洋中均可进行休息和活动，排除。故本题选A。

97. 【答案】A。解析：本题考查对应关系。第一步：分析题干词语间的关系。从网站下载，上传到网站，三者为对应关系。第二步：分析选项，确定答案。A项：从商家购物，退货给商家，三者为对应关系，当选。B项：到城市打工，从城市返乡，三者对应关系与题干不一致，排除。C项：到学校上学，从学校放学，三者对应关系与题干不一致，排除。D项：上场与下场是比赛中的两个环节，排除。故本题选A。

98. 【答案】D。解析：本题考查种属关系。第一步：分析题干词语间的关系。暴雨与冰雹为反对关系，且二者均属于天灾。第二步：分析选项，确定答案。A项：汽车不属于玩具，排除。B项：归纳与总结均为逻辑方法，二者与逻辑为对应关系，排除。C项：舞蹈不属于戏剧，排除。D项：没收与罚款为反对关系，且二者均属于处罚，当选。故本题选D。

99. 【答案】A。解析：本题考查属性关系。选项逐一代入。A项光辉是太阳的属性，正义是法制的属性，前后逻辑关系一致，当选。B项光辉是恒星的属性，正义可以改善民生，前后逻辑关系不一致，排除。C项正义与义务无明显联系，排除。D项光辉与光明为全同关系，正义是圣人的属性，前后逻辑关系不一致，排除。故本题选A。

100. 【答案】C。解析：本题考查因果关系。选项逐一代入。A项演讲是竞聘过程中的一个环节，报酬是回报的一种，前后逻辑关系不一致，排除。B项竞聘岗位为动宾结构，补偿与回报无明显联系，前后逻辑关系不一致，排除。C项竞聘与连任为或然因果关系，投资与回报为或然因果关系，前后逻辑关系一致，当选。D项竞聘与任期无明显联系，付出之后可能会有回报，前后逻辑关系不一致，排除。故本题选C。

101. 【答案】D。解析：本题考查加强类。第一步：分析题干论点论据。论点：让更多有热情、有能力的科研人员投身科普，关键在于社会要形成科普与科研同等重要的共识。论据：无。第二步：分析选项，确定答案。A项：社会和公众需要“网红”科学家，与社会是否要形成科普与科研同等重要的共识无关，无法支持题干论点，排除。B项：指出科研人员能力体现在科普上，与社会是否要形成科普与科研同等重要的共识无关，无法支持题干论点，排除。C项：科研人员有责任培养更多的科学公民，说明科研人员的责任包括科普，但与社会是否要形成科普与科研同等重要的共识无关，无法支持题干论点，排除。D项：指出要把科普纳入科研和人才考评体系的考核范围中，促使科研人员挺直腰杆做科普，说明把科普纳入考核范围，可以形成科普与科研同等重要的共识，让更多有热情、有能力的科研人员投身科普，补充论据，最能支持题干论点，当选。故本题选D。

102. 【答案】C。解析：本题考查削弱类。第一步：分析题干论点论据。论点：应直接称含转基因农药的植物为植物农药。论据：转基因物质与宿主本身不可分离，植物具有农药性。第二步：分析选项，确定答案。A项：指出不含农药性质的转基因植物不能称为植物农药，未明确含转基因农药的植物是否称为植物农药，讨论主体不一致，无法削弱题干论点，排除。B项：讨论含转基因农药的植物本身应作为农药，而题干讨论含转基因农药的植物命名问题，讨论话题不一致，无法削弱题干论点，排除。C项：指出将具有农药性的转基因物质转移到新宿主上，农药性可能消失，说明植物即使具有农药性的转基因物质，也不一定具有农药性，否定论据，最能削弱题干论点，当选。D项：指出分离后的转基因植物不是植物农药，与含转基因农药的植物是否称为植物农药的命名问题无关，无法削弱题干论点，排除。故本题选C。

103. 【答案】C。解析：本题考查前提类。第一步：分析题干论点论据。论点：就读金融服务管理专业的学生应尽可能获得高学历。论据：尽管许多行业并不看重从业者的学历，但对于从事金融咨询服务的人来说，学历还是极其重要的。有研究指出，人们在进行理财咨询时，更重视金融咨询师的学历而非资历。第二步：分析选项，确定答案。A项：指出金融咨询服务者的资历与能力水平无关，而题干讨论专业与学历之间的关系，话题不一致，无法支持题干论点，排除。B项：指出高学历的人专业水平更

高、工作能力更强，与金融服务管理专业的学生是否应尽可能获得高学历无关，无法支持题干论点，排除。C项：指出就读金融服务管理专业的学生都会投身金融咨询服务行业，则就读金融服务管理专业的学生应尽可能获得高学历，在论点和论据之间建立了联系，是题干论证基于的假设，当选。D项：指出越来越多的行业在招聘时限定其求职者必须具有高学历，但未明确是否包括金融咨询服务行业，无法支持题干论点，排除。故本题选C。

104. 【答案】A。解析：本题考查解释类。第一步：分析题干矛盾现象。题干矛盾现象：甲品牌汽车的购买者中，有8成都是女性，是最受女性青睐的汽车品牌。但是，最近连续6个月的女性购车量排行榜却显示，乙品牌汽车的女性购买量位居第一。第二步：分析选项，确定答案。A项女性购买量等于女性占比乘以总购买量，虽然购买甲品牌的消费者女性占比较高，但甲品牌汽车的销量远低于乙品牌汽车，所以二者相乘后甲品牌的女性购买量低于乙品牌，最能解释题干现象，当选。B项仅指出乙品牌汽车买主中女性占75%，但甲乙品牌总销量关系不明确，无法解释题干现象，排除。C项排行榜设立的目的与甲乙品牌女性购买量无关，无法解释题干现象，排除。D项：指出购买意愿和购买行为并不总是一致，但题干涉及的均为已购买行为，不涉及购买意愿，无法解释题干现象，排除。故本题选A。

105. 【答案】C。解析：本题考查加强类。第一步：分析题干论点论据。论点：入夏以来，高温天气的出现是由全球气候变暖造成的。论据：在全球气候变暖的大背景下，高温这样的灾害性天气会有增多的趋势。第二步：分析选项，确定答案。A项：全球气候变暖是由大气环流特征变化导致的，与高温天气无关，无法支持题干论点，排除。B项：介绍高温天气的概念，与全球变暖无关，无法支持题干论点，排除。C项：指出全球气候变暖通过改变大气环流特征来改变高温等极端天气事件的强度和发生频率，说明高温天气出现的根本原因是全球气候变暖，最能支持题干论点，当选。D项：仅指出造成持续高温天气的原因复杂，未明确全球气候变暖是否为高温天气出现的原因，无法支持题干论点，排除。故本题选C。

106. 【答案】C。解析：本题考查智力推理。第一步：梳理题干信息，将选项代入排除。第二步：分析选项，确定答案。A项不符合②，排除。B项不符合④，排除。C项符合题干条件，当选。D项不符合①，排除。故本题选C。

107. 【答案】B。解析：本题考查智力推理。第一步：梳理题干信息，将选项代入排除。第二步：分析选项，确定答案。A项符合题干条件，排除。B项不符合③，当选。C项符合题干条件，排除。D项符合题干条件，排除。故本题选B。

108. 【答案】B。解析：本题考查智力推理。第一步：梳理题干信息，将选项代入排除。第二步：分析选项，确定答案。A项不符合②，排除。B项符合题干条件，当选。C项不符合④，排除。D项不符合②，排除。故本题选B。

109. 【答案】A。解析：本题考查智力推理。第一步：梳理题干信息，将选项代入排除。第二步：分析选项，确定答案。A项符合题干条件，当选。B项不符合②，排除。C项不符合②，排除。D项不符合②，排除。故本题选A。

110. 【答案】D。解析：本题考查智力推理。第一步：梳理题干信息，将选项代入排除。第二步：分析选项，确定答案。A项：不符合②，排除。B项：不符合①，排除。C项：不符合④，排除。D项：符合题干条件，当选。故本题选D。

111. 【答案】D。解析：本题考查现期比值。第一步：查找相关材料。题干命题点的对应材料在条形图，即2014年该地区私有云市场规模为216.8亿元，公有云市场规模为70.2亿元。第二步：根据已知条件解题。2014年该地区私有云市场规模和公有云市场规模之比为216.8:70.2≈3:1。故本题选D。

112. 【答案】C。解析：本题考查简单计算。第一步：查找相关材料。题干命题点的对应材料在条形图，即2021年该地区私有云和公有云市场规模预测分别为961.9亿元和1297.8亿元。第二步：根据已知条件解题。根据预测，2021年该地区云计算整体市场规模为961.9+1297.8≈960+1300=2260亿元≈2300亿元。故本题选C。

113. 【答案】C。解析：本题考查基础增长率。第一步：查找相关材料。题干命题点的对应材料在条形图，即2013~2022年间该地区公有云市场规模数值。第二步：根据已知条件解题。2014年该地区公有云市场规模同比增速为 $\frac{70.2-47.6}{47.6} \times 100\% = \frac{22.6}{47.6} \times 100\% < 50\%$ ，2015年为 $\frac{102.5-70.2}{70.2} \times 100\% = \frac{32.3}{70.2} \times 100\% < 50\%$ ，2016年为 $\frac{170.1-102.5}{102.5} \times 100\% = \frac{67.6}{102.5} \times 100\% > 50\%$ ，2017年为 $\frac{264.8-170.1}{170.1} \times 100\% = \frac{94.7}{170.1} \times 100\% > 50\%$ ，2018年为 $\frac{437.4-264.8}{264.8} \times 100\% = \frac{172.6}{264.8} \times 100\% > 50\%$ ，2019年为 $\frac{668.3-437.4}{437.4} \times 100\% = \frac{230.9}{437.4} \times 100\% > 50\%$ ，2020年为 $\frac{949.6-668.3}{668.3} \times 100\% = \frac{281.3}{668.3} \times 100\% < 50\%$ ，2021年为 $\frac{1297.8-949.6}{949.6} \times 100\% = \frac{348.2}{949.6} \times 100\% < 50\%$ ，2022年为 $\frac{1731.3-1297.8}{1297.8} \times 100\% = \frac{433.5}{1297.8} \times 100\% < 50\%$ 。综上，2014~2022年间该地区公有云市场规模同比增速超过50%的年份有2016年、2017年、2018年和2019年，共4个。故本题选C。

114. 【答案】B。解析：本题考查基础增长率。第一步：查找相关材料。题干命题点的对应材料在条形图，即2021和2022年该地区云计算私有云及公有云市场规模预测数值。第二步：根据已知条件解题。根据预测，2022年该地区云计算市场整体规模同比增长 $\frac{1171.6+1731.3}{961.9+1297.8} \times 100\% - 1 \approx \frac{2900}{2260} \times 100\% - 1 \approx 28.3\%$ ，B项与之最接近。故本题选B。

115. 【答案】A。解析：本题考查综合分析。A项正确：根据条形图可知，2022年该地区公有云和私有云市场规模差距将为1731.3-1171.6>500亿元，当选。B项错误：根据条形图可知，2019年该地区公有云市场规模（668.3亿元）首次超过私有云市场规模（644.2亿元），并非2020年，排除。C项错误：根据条形图可知，2020年该地区私有云市场规模同比增量为787.8-644.2=143.6亿元，2021年为961.9-787.8=174.1亿元，前者小于后者，即并非逐年递减，排除。D项错误：根据条形图可知，2022年该地区私有云市场规模较2017年将增长 $\frac{1171.6-426.8}{426.8} \times 100\% < \frac{1200}{400} \times 100\% = 300\%$ ，排除。故本题选A。

116. 【答案】C。解析：本题考查现期比重。第一步：查找相关材料。题干命题点的对应材料在表格最后一列数据，即2018年各地区风力发电年末累计装机容量。第二步：根据已知条件解题。2018年全国风力发电年末累计装机容量为6076.6+2097+3474+1491+855.5+1681+5278.1≈6100+2100+3500+1500+850+1700+5300=21050万千瓦。因此2018年华北地区风力发电年末累计装机容量占全国的 $\frac{6076.6}{21050} \times 100\% \approx \frac{6}{21} \times 100\% \approx 29\%$ 。故本题选C。

117. 【答案】A。解析：本题考查基础增长率。第一步：查找相关材料。题干命题点的对应材料在

表格第三行数据，即 2011~2018 年间，东北地区风力发电年末累计装机容量。第二步：根据已知条件解题。2012 年东北地区风力发电年末累计装机容量同比增速为 $\frac{1438-1226}{1226} \times 100\% = \frac{212}{1226} \times 100\% > 10\%$ ，2013 年为 $\frac{1602.6-1438}{1438} \times 100\% = \frac{164.6}{1438} \times 100\% > 10\%$ ，2014 年为 $\frac{1729.1-1602.6}{1602.6} \times 100\% = \frac{126.5}{1602.6} \times 100\% < 10\%$ ，2015 年为 $\frac{1899.8-1729.1}{1729.1} \times 100\% = \frac{170.7}{1729.1} \times 100\% < 10\%$ ，2016 年为 $\frac{1977.2-1899.8}{1899.8} \times 100\% = \frac{77.4}{1899.8} \times 100\% < 10\%$ ，2017 年为 $\frac{2029.2-1977.2}{1977.2} \times 100\% = \frac{52}{1977.2} \times 100\% < 10\%$ ，2018 年为 $\frac{2097-2029.2}{2029.2} \times 100\% = \frac{67.8}{2029.2} \times 100\% < 10\%$ 。综上，2012~2018 年间，东北地区风力发电年末累计装机容量同比增速超过 10% 的年份有 2012 年和 2013 年，共 2 个。故本题选 A。

118. 【答案】C。解析：本题考查平均增长量。第一步：查找相关材料。题干命题点的对应材料在表格最后两行数据，即 2014 年~2018 年西南和西北地区风力发电累计装机容量。第二步：根据已知条件解题。2014 年末~2018 年末，西部地区风力发电累计装机容量年均增长 $(1681+5278.1-627.4-2898.9) \div 4 \approx (1700+5300-650-2900) \div 4 = 3450 \div 4 = 862.5$ 万千瓦，在 850~900 万千瓦之间。故本题选 C。

119. 【答案】B。解析：本题考查现期比值。第一步：查找相关材料。题干命题点的对应材料在表格，即 2012~2018 年间华中、华东和华南地区风力发电年末累计装机容量。第二步：根据已知条件解题。观察表格“华中”一行数据可明显看出，只有 2013 年风力发电年末累计装机容量是上一年的 2 倍以上，即 2013 年华中地区风力发电年末累计装机容量同比增速最快。因此当年年末华东地区风力发电累计装机容量同比增量是华南地区的 $\frac{1329-1090.9}{288.4-219.9} \approx \frac{240}{70} \approx 3.4$ 倍，B 项与之最接近。故本题选 B。

120. 【答案】D。解析：本题考查综合分析。A 项错误：根据表格第四、五列数据可知，2014 年华北地区风力发电年末累计装机容量同比增量为 3855.7-3345.9 \approx 500 万千瓦，西北区为 2898.9-1986.6 \approx 900 万千瓦，后者大于前者，则 2014 年全国风力发电年末累计装机容量同比增量最大的地区并非华北，排除。B 项错误：根据表格第二行数据可知，2017 年华北地区风力发电年末累计装机容量同比增长 $\frac{5532.1-5030.1}{5030.1} \times 100\% = \frac{502}{5030.1} \times 100\% < 10\%$ ，即增长不到一成，排除。C 项错误：根据表格第五、六行数据可知，2015 年末华中和华南地区风力发电年末累计装机容量之和为 558.8+427.3=986.1 万千瓦 < 1000 万千瓦，排除。D 项正确：根据表格第三、五行数据可知，如保持 2018 年末同比增速，2020 年华中地区风力发电年末累计装机容量为 $1491 \times (\frac{1491}{1082.4})^2 \approx \frac{1500^3}{1100^2} \approx 2800$ 万千瓦，东北为 $2097 \times (\frac{2097}{2029.2})^2 \approx \frac{2100^3}{2030^2} \approx 2250$ 万千瓦，前者大于后者，当选。故本题选 D。

121. 【答案】C。解析：本题考查比重比较。第一步：查找相关材料。题干命题点的对应材料在文字材料，即 2018 年全球茶叶产量 585.6 万吨，同比增长约 3%，中国茶叶产量 261.6 万吨，同比增长 0.7 万吨。第二步：根据已知条件解题。2018 年中国茶叶产量占全球茶叶产量的比重比 2017 年上升了 $\frac{261.6}{585.6} \times$

$$100\% - \frac{261.6 - 0.7}{585.6} \times 100\% \approx \frac{260}{580} \times 100\% - \frac{260 \times 1.03}{580} \times 100\% \approx -\frac{260}{580} \times 0.03 \times 100\% = -1.3\%$$

即下降了 1.3 个百分点，C 项与之最接近。故本题选 C。

122. 【答案】B。解析：本题考查比值比较。第一步：查找相关材料。题干命题点的对应材料在文字材料，即 2018 年中国茶叶产量 261.6 万吨，同比增长 0.7 万吨，国内销售量同比增长 5.1%，出口量同比增长 2.8%。第二步：根据已知条件解题。2018 年中国茶叶产量同比增速为 $\frac{0.7}{261.6 - 0.7} \times 100\% \approx \frac{0.7}{260} \times 100\% \approx 0.3\%$ 。由于 $x = \frac{\text{国内销售量}}{\text{产量}}$ ， $y = \frac{\text{出口量}}{\text{产量}}$ ，根据部分增长率大于整体，则部分占整体的比重同比上升可知，2018 年中国茶叶国内销售量同比增速 (5.1%) > 出口量 (2.8%) > 产量 (0.3%)，因此 2018 年的 x 和 y 值与 2017 年相比均上升。故本题选 B。

123. 【答案】A。解析：本题考查基础增长率。第一步：查找相关材料。题干命题点的对应材料在文字材料和柱形图、折线图，即 2018 年中国茶叶出口总额为 17.89 亿美元，2017 年中国茶叶出口数量为 35.5 万吨，出口均价约为 4.5 千美元/吨。第二步：根据已知条件解题。2017 年中国茶叶出口总额为 $35.5 \times 4.5 \times 10^1 \approx 16$ 亿美元，因此 2018 年中国茶叶出口总额同比增长 $\frac{17.89 - 16}{16} \times 100\% \approx \frac{1.9}{16} \times 100\% \approx 12\%$ 。故本题选 A。

124. 【答案】D。解析：本题考查平均量比较。第一步：查找相关材料。题干命题点的对应材料在柱形图，即 2013~2018 年我国茶叶出口量。第二步：根据已知条件解题。2016~2018 年我国茶叶月均出口量比 2013~2015 年间高 $\frac{36.5 + 35.5 + 32.9 - 32.5 - 30.1 - 32.6}{12 \times 3} \approx \frac{105 - 95}{36} = \frac{10}{36} \approx 0.3$ 万吨。故本题选 D。

125. 【答案】C。解析：本题考查综合分析。A 项错误：根据文字材料可知，2018 年全球茶叶产量同比增长了 $\frac{585.6}{1 + 3\%} \times 3\% < 600 \times 3\% = 18$ 万吨，排除。B 项错误：根据柱形图和折线图可知，2013~2014 年中国茶叶出口均价斜率与 2017~2018 年接近，且高于其他年份，则只需比较二者之间的同比增长率大小即可，2014 年中国茶叶出口均价同比增速为 $\frac{4.2 - 3.8}{3.8} \times 100\% = \frac{4}{38} \times 100\%$ ，2018 年为 $\frac{4.9 - 4.5}{4.5} \times 100\% = \frac{4}{45} \times 100\%$ ，前者大于后者，但 2014 年中国茶叶出口量同比负增长，排除。C 项正确：根据柱形图和折线图可知，2017 年中国茶叶出口总额同比增长了 $\frac{35.5 \times 4.5 - 32.9 \times 4.5}{32.9 \times 4.5} \times 100\% \approx \frac{160 - 148}{148} \times 100\% = \frac{12}{148} \times 100\% < 10\%$ ，当选。D 项错误：1 吨 = 1000 千克 = 2000 市斤。根据文字材料可知，2018 年国内销售的茶叶平均价格为 $\frac{2661 \times 10^8}{191 \times 10^4 \times 2000} \approx \frac{2660}{38} < 100$ 元/市斤，排除。故本题选 C。

126. 【答案】C。解析：本题考查平均增长量。第一步：查找相关材料。题干命题点的对应材料在第一段，即 2016 年全国城镇单位女性就业人员比 2010 年增加 1656 万人。第二步：根据已知条件解题。因此 2010~2016 年全国城镇单位女性就业人员年均增加 $\frac{1656}{6} = 276$ 万人。故本题选 C。

127. 【答案】B。解析：本题考查现期比重。第一步：查找相关材料。题干命题点的对应材料在第二段，即2016年公有制企事业单位中女性专业技术人员1480万人，所占比重达47.8%；其中女性高级专业技术人员161万人，所占比重38.3%。第二步：根据已知条件解题。2016年公有制企事业单位中，高级专业技术人员占专业技术人员的比重为 $\frac{161 \div 38.3\%}{1480 \div 47.8\%} \times 100\% \approx \frac{160 \times 50\%}{1480 \times 40\%} \times 100\% \approx 13.5\%$ ，B项与之最接近。故本题选B。

128. 【答案】A。解析：本题考查基础增长率。第一步：查找相关材料。题干命题点的对应材料在第四段，即2016年，参加城镇职工基本医疗保险的女性1.4亿人，比2011年增长21.5%；参加城镇居民基本医疗保险的女性1.9亿人，比2011年增长了1.5倍。第二步：根据已知条件解题。2016年参加城镇职工和城镇居民基本医疗保险的女性比2011年增长了 $\frac{1.4+1.9}{\frac{1.4}{1+21.5\%} + \frac{1.9}{1+1.5}} - 1 \approx \frac{3.3}{1.17+0.76} - 1 \approx 0.7$

倍。故本题选A。

129. 【答案】C。解析：本题考查预期量。第一步：查找相关材料。题干命题点的对应材料在最后一段，即2016年全国参加失业保险的女性7551万人，比2010年增加2402万人。第二步：根据已知条件解题。2011~2016年间同比增量的平均值为 $\frac{2402}{6} \approx 400$ 万人，那么全国参加失业保险的女性将在 $\frac{12000-7551}{400} \approx 11.1$ 年后超过1.2亿人，即2016+12=2028年。故本题选C。

130. 【答案】D。解析：本题考查综合分析。A项错误：根据材料最后一段可知，2016年参加工伤保险总人数和女性人数分别比2010年增加增长约35%和43%，根据部分同比增长率大于整体，则部分占整体比重同比上升可知，2016年全国参加工伤保险的人中，女性占比高于2010年水平，排除。B项错误：根据材料倒数第二段可知，2010年全国参加城镇职工基本养老保险的人中，女性占比为 $\frac{1.8}{3.8} - 3\% \approx 44\% > 40\%$ ，排除。C项错误：根据材料第三段可知，2010年女职工董事占职工董事的比重为39.9%-7.2%=32.7%，女职工监事占职工监事的比重为40.1%-4.9%=35.2%，前者小于后者，排除。D项正确：根据材料第二段可知，2010年公有制企事业单位中男性高级专业技术人员为 $\frac{161-59.3}{38.3\%-3\%} \times (1-38.3\%+3\%) \approx \frac{100}{35\%} \times 65\% < 300 \times 65\% = 195$ 万人，当选。故本题选D。