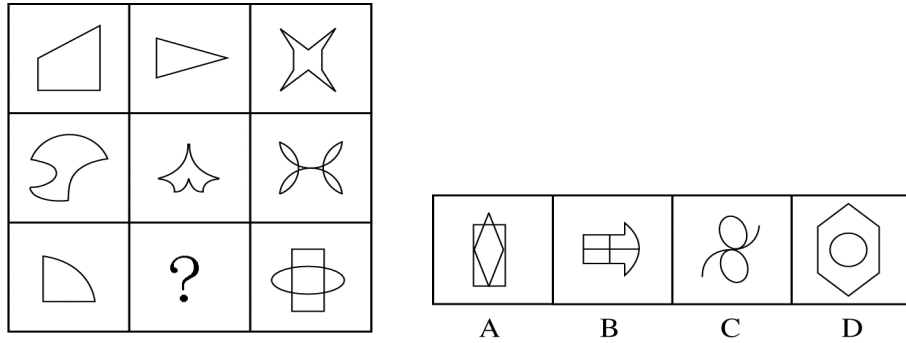
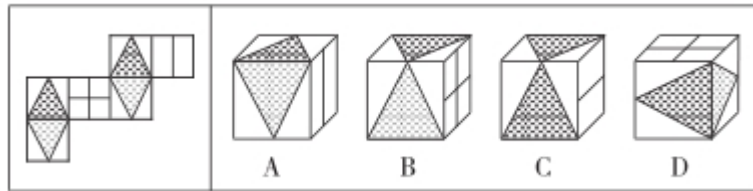


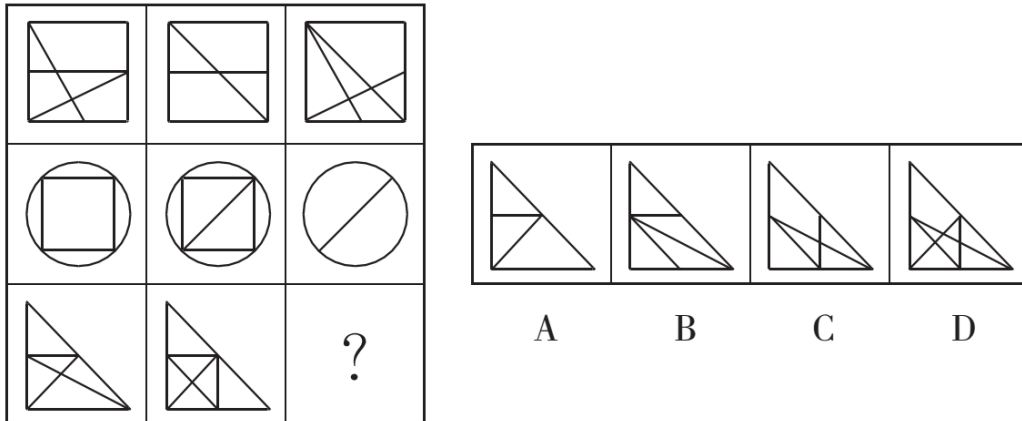
4. 从所给的四个选项中，选择最合适的一个填入问号处，使之呈现一定的规律性。



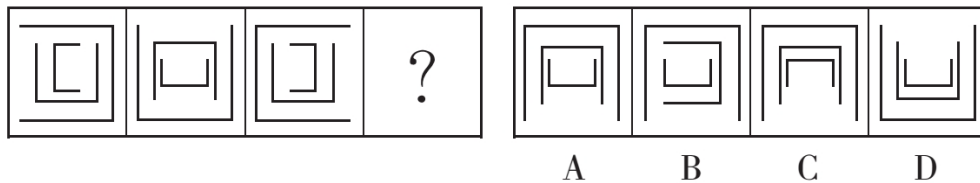
5. 左边给定的是纸盒外表面的展开图，右边哪一项能由它折叠而成？（ ）



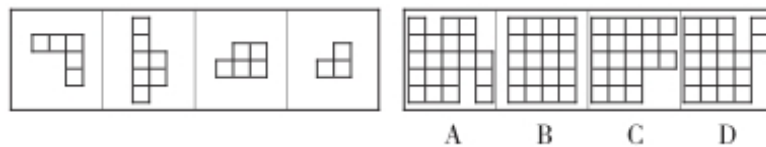
6. 从所给的四个选项中，选择最合适的一个填入问号处，使之呈现一定的规律性。



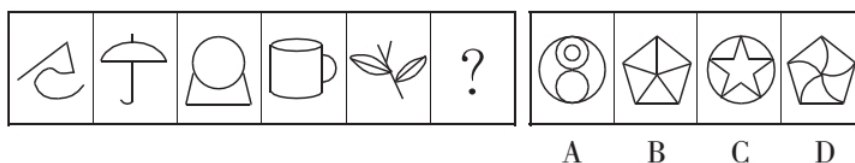
7. 从所给的四个选项中，选择最合适的一个填入问号处，使之呈现一定的规律性。



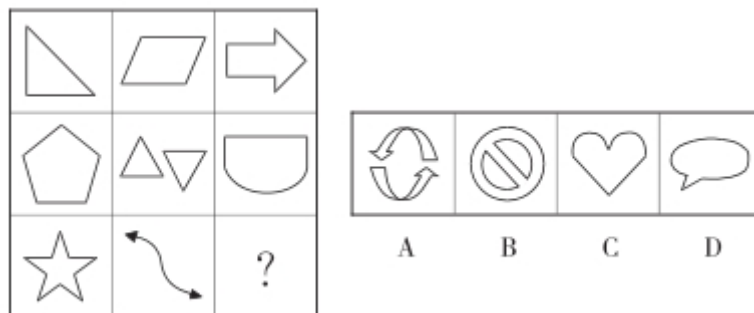
8. 右边四个图形中，只有一个是左边四个图形拼合而成的，请把它找出来。



9. 从所给的四个选项中，选出最合适的一个填入问号处，使之呈现一定的规律性。



10. 从所给的四个选项中，选择最恰当的一个填入问号处，使之呈现一定的规律性。



二、定义判断：共 10 题。每道题先给出定义，然后列出四种情况，要求你严格依据定义，从中选出一个最符合或最不符合该定义的答案。注意：假设这个定义是正确的，不容置疑。

请开始答题：

11. 股东派生诉讼是指当公司的董事、监事、高级管理人员或者他人的违反法律、行政法规或者公司章程的行为损害了公司权益，而公司拒绝或怠于追究其责任时，符合法定要件的股东为公司的利益以自己的名义对侵害人提起诉讼，请求违法行为人赔偿公司相关损失的行为。

根据上述定义，以下属于股东派生诉讼的是（ ）。

A. 某上市公司董事会秘书李某执行公司职务时，违反公司章程的规定，给公司造成了损失。王某是该公司连续一年持有 10% 股份的股东，王某可以以公司的名义起诉李某

B. 刘某是甲有限责任公司的董事长兼总经理，任职期间，多次利用职务之便，指示公司会计将资金借贷给一家主要由刘某儿子投资设立的乙公司。对此，持有公司股权 3% 的股东王某认为甲公司应起诉乙公司还款，但甲公司不可能起诉，王某便以自己的名义起诉乙公司，要求乙公司将借款返还给甲公司

C. 黄某是甲公司的董事，自 2012 年起，黄某在任职期间，另行申请设立了乙公司，该公司的经营范围与甲公司基本相同。黄某利用甲公司的业务渠道和技术资料从事与该公司同类的业务活动，造成甲公司约 70 万元的损失。甲公司遂起诉要求黄某停止违法经营活动，返还违法经营所得，并赔偿损失

D. 某股份有限公司总经理钟某违反公司章程的规定，未经股东大会同意，将公司资金无偿借贷给妻子弟弟，给公司造成了利益损失。对此，公司监事会有关提起诉讼，请求追究钟某的法律責任

12. 预付费陷阱是指商家以打折促销手段吸引顾客预付服务费用，但在后续服务中不能按照约定内容提供服务的现象。

根据上述定义，下列不属于预付费陷阱的是（ ）。

A. 陈女士为儿子报了 10 次暑期英语培训课程，上了 3 次后因要外出旅游便要求退还剩余 7 次课程的费用，但培训机构拒绝退还

B. 李女士在某美容店购买了一张价值 1000 元的会员卡，但过几天李女士再去该店做美容时却被告知，她买的会员卡不能使用，因为该美容店已换了老板

C. 孟先生办理了 20 元/次的洗车年卡，但春节期间来洗车却被告知，洗车卡不能使用，洗车费用调到 50 元/次。洗车店老板解释说，过年嘛，肯定跟平时不一样

D. 熊先生在一家健身中心教练的热情推荐下，当场刷卡 2 万元办理了原价 3 万元的健身年卡，半月之后，当熊先生再去健身中心时，发现那里早已人去楼空

13. 无意注意是指没有预定目的，无需意志努力，不由自主地对一定事物所发生的注意。无意注意时，心理活动对一定事物的指向和集中是由一些主观和客观条件所引起的。

根据上述定义，下列不属于无意注意的是（ ）。

- A. 上课时学生突然被窗外飞进来的蝴蝶所吸引
- B. 肚子饿的小明一进房间就看见了桌上的面包
- C. 小红埋头完成家庭作业，不知不觉过了很久
- D. 人们在绿油油的草地上一眼就看到了小红花

14. 辐射适应是指具有血缘关系的生物，由于生活在不同的环境中而在形态以及生活习性上有着完全不同的适应性的现象。

根据上述定义，下列属于辐射适应的是（ ）。

A. 水生植物莲、狐尾藻和金鱼藻的亲缘关系很远，但由于都受到水中环境的影响，它们都具有通气组织发达、根系发育较弱等相似的特点

B. 善于飞翔的信天翁翼展超过 3.4 米；善于在沙地上奔跑的鸵鸟身体巨大，双翼衰退，两腿刚劲有力，它的足几乎退化为适于奔跑的“蹄”

C. 斑马除腹部外全身密布的黑白条纹具有防止刺刺蝇叮咬的作用，因为刺刺蝇喜欢叮咬一些颜色单一的动物，并且会传播一种睡眠病

D. 生活在寒带的雷鸟，在白雪皑皑的冬天，体色是纯白色的，一到夏天，就换上棕褐色的羽毛，与夏季苔原的斑驳色彩相近，从而保护自己

15. 技术标准是指对工农业产品和工程建设的质量、规格和检验方法，以及对技术文件上常用的图形、符号等所作的技术规定，是从事生产、建设的一种共同依据。

根据上述定义，以下属于技术标准的是（ ）。

- A. 国家关于婴幼儿奶粉质量标准的规定
- B. 国家关于评定卫生城市的标准细则
- C. 国家关于缺陷产品召回的管理规定
- D. 工业局对冶金机械厂区设备烟尘排放量的检测标准

16. 在决断之前，每个事物的价值在决策者心目中大致相近，则难于决断其优劣；但在作出选择之后，决策者对这些事物的态度评价就发生了改变。这种现象叫作决断后效应。

根据上述定义，下列现象属于决断后效应的是（ ）。

A. 某职员对自己的去留一筹莫展，一番考量之后他认为留下来要面对许多复杂关系，不如重新开创天地

B. 某女士对各有优劣的两个品牌手机难以抉择，最后她从经济角度考虑选择其中一款，可到货后发现这款有色差

C. 某老师对选 A 还是 B 去参加比赛犹豫不决，班长建议选 B。事后，老师认为选 B 完全正确，因为 B 最终夺得冠军

D. 某学生填报志愿时对报甲大学还是乙大学犹豫不决，最后他听从老师建议选择了甲大学，从此觉得甲大学优于乙大学

17. 新乡贤是指长期扎根农村，利用自己的知识、技术、财富为村民热心服务并作出突出贡献，在当地社会生活及民众心目中具有较高威望和影响力的乡村人士。

根据上述定义，下列属于新乡贤的是（ ）。

A. 10 多年来，老李虽然一直在外经商，但他时时惦念着家乡，每年都会捐出大量资金为家乡修桥铺路，资助家乡的特困大学生完成学业，乡亲们经常千里迢迢跑来看望他

B. 小张复员后回到家乡，两三年就成了远近闻名的“养殖大王”，为了带动乡亲们共同致富，他开办了多期培训班，免费传授实用养殖技术和经验，受到了大家的称赞

C. 20 多年来，某市商会会长孙先生利用自己长期积累的丰富经验，为经营各种农副产品的家乡村民牵线搭桥，指导他们寻找商机，被乡亲们誉为贴心的“诸葛亮”

D. 某乡村小学校长程某退休后，利用自己学生多、关系广的优势，为挖掘家乡历史文化资源、发展乡村文化旅游业积极谋划、东奔西走，被乡亲们传为佳话

18. 技术标准是指对工农业产品和工程建设的质量、规格和检验方法，以及对技术文件上常用的图形、符号等所作的技术规定，是从事生产、建设的一种共同依据。

根据上述定义，下列属于技术标准的是（ ）。

A. 国家关于婴幼儿奶粉质量标准的规定

B. 国家关于评定卫生城市的标准细则

C. 国家关于缺陷产品召回的管理规定

D. 工业局对冶金机械厂区设备烟尘排放量的检测标准

19. 比德是指将自然物的某些特征比附于人们的某种道德情操，使自然物的自然属性人格化，人的道德品质客观化，其实质是认为自然美在它所比附的道德伦理品格。

根据上述定义，下列没有包含“比德”自然审美观的是（ ）。

A. 人们总是把风儿比作叹息，那么秋天一定是最多愁善感、小性恼人的姑娘，她不可琢磨，难以讨好

B. 画家郑板桥以“咬定青山不放松，立根原在破岩中。千磨万击还坚劲，任尔东南西北风”赞美岩石的坚韧顽强，隐喻自己藐视俗见的刚劲风骨

C. 作者在某小说中称赞生性淡泊、安分守己的少妇“宛如冬梅，风知素韵，霜晓寒姿”

D. 知者达于事理而周流无碍，有似于水，故知者乐水；仁者安于义理而厚重不迁，有似于山，故仁者乐山

20. 正强化又称“阳性强化”，是指个体做出某种行为或反应随后或同时得到某种奖励，从而使行为或反应强度、概率或速度增加的过程，也可以说，正强化是通过增加一个喜欢的刺激以提高事件发生的概率。

根据上述定义，下列属于正强化的是（ ）。

A. 小明觉得电视上宇航员叔叔很酷，下决心好好学习，长大了也要上太空

- B. 老师为激励学生好好复习考试，承诺数学 95 分以上的同学可以不做假期作业
- C. 某中学规定上课玩手机的同学，手机一律没收，规定执行后，几乎没人敢玩手机了
- D. 父亲为了鼓励儿子努力学习，承诺儿子如果他能考进全班前三名，就带他出国旅游

三、类比推理：共 10 题。每道题先给出一组相关的词，要求你在备选答案中找出一组与之在逻辑关系上最为贴近、相似或匹配的词。

请开始答题：

21. 春秋：寒暑：一年
- A. 妇孺：老幼：生命
 - B. 荏苒：蹉跎：岁月
 - C. 东西：南北：方向
 - D. 冷热：干湿：温度
22. 休戚相关：唇齿相依
- A. 日新月异：一成不变
 - B. 苦心孤诣：苦口婆心
 - C. 养精蓄锐：竭尽全力
 - D. 鞭辟入里：入木三分
23. 法律：法盲
- A. 文字：文盲
 - B. 雪地：雪盲
 - C. 地图：路盲
 - D. 黑暗：夜盲
24. 调查：发言权
- A. 中毒：死亡
 - B. 批评：进步
 - C. 损害：赔偿
 - D. 锻炼：健康
25. 刑法：民法：法律
- A. 黑色：白色：灰色
 - B. 北京：上海：广州
 - C. 男人：女人：人类
 - D. 红茶：绿茶：茶叶
26. 企业：股东：监管
- A. 学生：老师：交流
 - B. 事业：单位：改制
 - C. 国家：军队：保卫
 - D. 专家：公众：服务
27. 春耕：秋收：冬藏
- A. 立功：表彰：晋级
 - B. 偷盗：受罚：悔恨
 - C. 勤奋：致富：捐款
 - D. 报名：参赛：夺冠
28. 雾霾：污染：治理
- A. 风扇：电器：使用
 - B. 粳米：粮食：调查
 - C. 信息：报纸：阅读
 - D. 报告：文件：审批
29. 原始部落 对于 () 相当于 () 对于 先进科技
- A. 热带丛林 文明古国
 - B. 边远小镇 创业园区
 - C. 茹毛饮血 现代都市
 - D. 钻木取火 宇宙航行
30. () 对于 纸张 相当于 衣服 对于 ()
- A. 书籍 布料
 - B. 树木 裤子

C. 宣纸 保暖

D. 笔墨 服装

四、逻辑判断：共 10 题。每道题给出一段陈述，这段陈述被假设是正确的，不容置疑的。要求你根据这段陈述，选择一个答案。注意：正确的答案应与所给的陈述相符合，不需要任何附加说明即可以从陈述中直接推出。

请开始答题：

31. 东亚人看起来更谦虚，但心理学研究表明，和接受其他文化熏陶的人相比，他们也一样充满骄傲和自信。某研究团队招募了 40 名志愿者参与研究，其中一半来自东亚国家，剩下的来自西方国家，他们向这些志愿者显示大量正面和负面的词语，并询问他们哪项形容词适合自己。结果，志愿者们无论有什么样的文化背景，他们都倾向于用更多的正面的形容词来描述自己，认为一些较为负面的特征不适合自己。研究者认为，这表明参与测试的人无论具有何种文化背景，他们同样都有美化自己的动机。

以下哪项如果为真，最能削弱上述论证？（ ）

- A. 东亚人习惯负面评价自己，而西方人往往对自己的能力言过其实
- B. 当志愿者被要求用正面词汇形容自己时，他们的反应都是一样的
- C. 东亚人谦逊只是一种文化惯例，他们有着和西方人一样的自尊心
- D. 研究发现，无论来自何种文化背景，志愿者们的脑电波都很相似

32. 开车斗气、胡乱变线、强行超车等“路怒症”是一种被称为间歇性、爆发性障碍（IED）的心理疾病。有研究发现，IED 患者弓形虫检测呈阳性的比例是非 IED 组的两倍。研究者认为，弓形虫感染有可能是导致包括“路怒症”在内的 IED 的罪魁祸首。

以下哪项如果为真，无法支持研究者的观点？（ ）

- A. 感染了弓形虫的老鼠往往更大胆、更敢于冒险，也因此更容易被猫抓到
- B. 弓形虫使大脑中控制威胁反应的神经元受到过度刺激，易引发攻击行为
- C. 对弓形虫检测呈阳性的 IED 患者施以抗虫感染治疗之后，冲动行为减少
- D. 弓形虫是猫身上的一种原动物寄生虫，但猫是比较温顺的动物

33. 扬子鳄是中国特有的一种鳄鱼，主要分布在长江中下游地区，它是古老的、现存数量非常稀少的爬行动物。在扬子鳄身上，至今还可以找到恐龙类爬行动物的许多特征，常被称为“活化石”。因此，扬子鳄对于人们研究古代爬行动物的兴衰以及研究古地质学和生物的进化，都有重要意义。

以下哪项如果为真，是上述论证所需的前提？（ ）

- A. 扬子鳄是世界上最珍稀的爬行动物之一
- B. 扬子鳄生活的年代和恐龙生活的年代大抵相当
- C. 现存的具有恐龙类爬行动物特征的动物已经为数不多
- D. 研究恐龙类爬行动物的特征是研究古代爬行动物兴衰的关键

34. 微生物组在地球生态系统和人类健康中的作用超乎想象，它不仅将极大地帮助人类克服当今所面临的生存挑战，还能提供人类未来生存之道，这其中有一个道理，就是微生物之间能够互相协作，使得它们在生态系统中更加稳定、更加有效发挥作用，并赋予微生物组具有超越单个微生物的更为强大的功能。

以下哪项如果为真，最能支持上述观点？（ ）

A. 美国的“国家微生物组计划”正是为了在所有的生态系统、大自然及人造世界里推动最前沿的微生物科学研究

B. 作为新兴产业的生物农药和生物肥料，近年来在蓬勃发展，其在国际上的市场份额也逐年快速递增

C. 将多种微生物一起培养，其生物系统的稳定性和适应能力都大为提高，其对某些有害化合物的降解效率也提升了

D. 酿酒微生物场所提供了多种多样的微生物资源，可以从中发掘高效纤维素降解霉菌、高乙醇合成酵母等

35. 多数人的饮食中都含有过量的脂肪，而食物中的脂肪主要以甘油三酯的形式存在。在消化道中，脂肪酸被脂肪酶水解释放出来后，才能被吸收进入血液，重新合成甘油三酯。如果脂肪酶受到抑制，就能终止这一合成过程。对此，有研究者做了相关实验。他们将体重相当的雌性老鼠分成三组。第一组自由进食，第二组喂高脂饮食，第三组喂高脂饮食但在食物中添加了一种从茶叶中提取的“茶皂素”。结果发现，从第5周开始直至第10周实验结束时，第二组老鼠的体重就比第一组显著要高，但第三组和第一组相比却没有明显差异。由此，研究者们得出结论，茶皂素这种“天然产物”具抑制脂肪酶的能力，人们喝茶的确能产生减肥效果。

以下哪项如果为真，最能对上述结论提出质疑？（ ）

A. 吃高脂饮食的老鼠，宫旁脂肪的重量大约是吃常规饮食的老鼠们的2倍

B. 如果高脂饮食中加了茶皂素，则其宫旁脂肪就跟吃常规饮食的老鼠基本上一样

C. 实验中使用的茶皂素量太大，按同样比例一般人一天至少需要饮用五公斤干茶叶

D. 老鼠和人的差异还是很大的，老鼠实验的结论对于人类只有一定的参考作用

36. 紫外线穿透能力强，可达真皮层，将皮肤晒黑，对皮肤伤害性很大。即便在非夏季期间，紫外线虽然强度较弱，但仍然存在，长时间累积也容易让皮肤受伤，产生黑色素沉淀、肌肤老化松弛等问题。所以爱美的女性必须每天都涂防晒霜。

以下哪项如果为真，最能削弱上述结论？（ ）

A. 室内距窗户半米处紫外线辐射量约是室外的40%，距离窗户1.5米处就衰减到室外的15%，因此如果足不出户就不用涂防晒霜

B. 防晒霜一般要求涂抹均匀和及时补涂，如果使用不当，即便是标称高倍数防晒的产品，也不一定能发挥出多大的防护功效

C. 紫外线在每年的4~9月强度最高，而冬天最弱

D. 大部分的阳伞都有一定的防晒保护作用，一把普通的阳伞可以遮挡77%的紫外线，而一把黑色的阳伞可以遮挡99%的紫外线

37. 我们身体的生物钟系统会受到许多因素的影响，其中之一就是光照。研究表明，光照可以有效地欺骗大脑进入“白昼模式”，哪怕当时人的眼睛是闭着的也没关系。研究人员发现可以用光照疗法来帮助我们调整时差，包括持续光照和不同间隔的闪光，而每10秒一次持续仅2毫秒的闪光最有效。研究还发现，在睡眠时经历过“闪光处理”的人出现困意的周期会延后两个小时。

以下哪项如果为真，最能支持上述观点？（ ）

- A. 每次闪光间隙的黑暗都有助于让眼睛重启，从而恢复眼睛对光照的敏感
- B. 大部分睡眠时经历“闪光处理”的人的睡眠质量都不会受到闪光的影响
- C. 去时区早两小时的城市，启程日出前两小时经光照疗法的人无时差感
- D. 依靠自身来调节时差耗时良久，大概平均每天只能倒过一个小时的时差

38. 枫林湾是三文鱼产卵繁殖的理想河段。若下游有水电大坝，三文鱼就无法到这里繁殖了。只有枫林湾岸边的树都落光了叶子，三文鱼才会洄游到这里。如果看到许多海雕和棕熊在这片河湾聚集的景象，就会知道三文鱼洄游了。现在的枫林湾出现了很多洄游过来的三文鱼。

由此可以推出（ ）。

- A. 枫林湾的下游有水电大坝
- B. 现在的枫林湾聚集了许多海雕和棕熊
- C. 枫林湾岸边的树叶掉光了
- D. 海雕和棕熊以三文鱼为食

39. 某集团自2013年启动了行业内首创、专为博士量身打造的高端人才品牌项目——未来领袖计划，旨在培养行业的领军人物。据调查，该集团有些新入职的员工拥有海外留学经历，该集团所有拥有海外留学经历的员工都被集团董事长单独接见过，而该集团所有甲省员工都没有被董事长单独接见过。

由此可以推出（ ）。

- A. 有些新入职员工没有被董事长单独接见过
- B. 有些拥有海外留学经历的员工是甲省的
- C. 所有新入职的员工都是甲省的
- D. 有些新入职的员工不是甲省的

40. 甲、乙和丙三人在某中学分别教语文、数学、英语、物理、化学和政治六门课程中的两门，已知：每门课程只由甲、乙、丙三人中的一人负责；数学老师和物理老师是邻居；甲是三人中年龄最小的；丙和语文老师、物理老师一起回家；语文老师比政治老师年龄要大；周末，英语老师、政治老师和甲一块打球。

由此可知，三位老师所教的课程是（ ）。

- A. 甲教物理和化学，乙教英语和语文，丙教数学和政治
- B. 甲教数学和化学，乙教政治和语文，丙教物理和英语
- C. 甲教物理和英语，乙教化学和数学，丙教语文和政治
- D. 甲教英语和化学，乙教物理和语文，丙教数学和政治

第二部分 数量关系

(共 25 题，参考时限 25 分钟)

本部分包括两种类型的试题：

一、数字推理：共 10 题。给你一个数列，但其中缺少一项，要求你仔细观察数列的排列规律，然后从四个选项中选出你认为最合理的一项来填补空缺项。

请开始答题：

41. 40, 8, 24, 16, 20, ()

- A. 18 B. 24 C. 28 D. 32

42. 2, 1, 5, 8, 43, 347, ()

- A. 14227 B. 14921 C. 14924 D. 14950

43. $\frac{1}{30}, \frac{1}{20}, \frac{1}{12}, \frac{2}{15}, \frac{13}{60}, \frac{7}{20}, \frac{17}{30}, ()$

- A. $\frac{11}{12}$ B. $\frac{11}{15}$ C. $\frac{11}{20}$ D. $\frac{11}{30}$

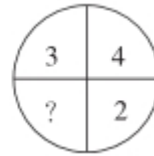
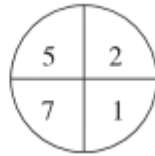
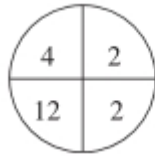
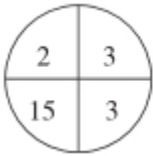
44. -1, 3, 1, 7, 9, 23, ()

- A. 25 B. 37 C. 39 D. 41

45. $\frac{3}{2}, 8, 11, 27, 49, ()$

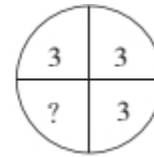
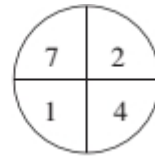
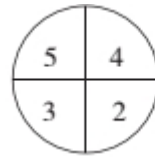
- A. 81 B. 85 C. 100 D. 103

46.



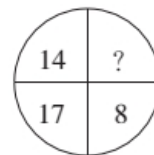
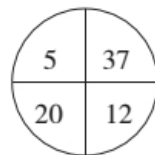
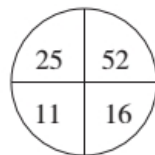
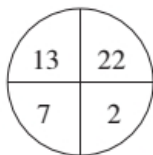
- A. 11 B. 12 C. 13 D. 14

47.



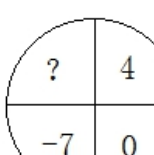
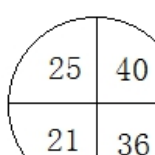
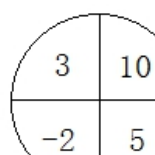
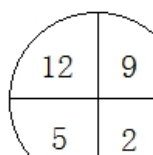
- A. 3 B. 4 C. 5 D. 6

48.



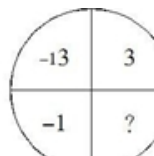
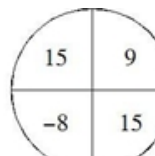
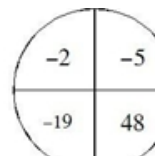
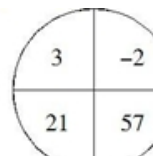
- A. 28 B. 31 C. 39 D. 41

49.



- A. -3 B. -1 C. 1 D. 3

50.



- A. -52 B. -26 C. 26 D. 52

二、数学运算：共 15 题。每道试题呈现一段表述数学关系的文字，要求你迅速、准确地计算出答案。

请开始答题：

51. 某企业国庆放假期间，甲、乙和丙三人被安排在 10 月 1 号到 6 号值班。要求每天安排且仅安排 1 人值班，每人值班 2 天，且同一人不连续值班 2 天。问有多少种不同的安排方式？（ ）

- A. 30 B. 36 C. 15 D. 24

52. 某地区按以下规定收取电费：当月用电不超过 200 度，按每度电 0.45 元收费；当月用电超过 200 度，则超过部分按每度电 0.8 元收费。某用户 6 月份交电费平均每度电 0.55 元，则他家 6 月份用电为多少度？（ ）

- A. 170 B. 220 C. 280 D. 310

53. 小张的孩子出生的月份乘以 29，出生的日期乘以 24，所得的两个乘积加起来刚好等于 900。问孩子出生在哪一个季度？（ ）

- A. 第一季度 B. 第二季度 C. 第三季度 D. 第四季度

54. 某部队的士兵为偶数个，将所有士兵排成长和宽都大于 1 的实心方阵，发现只有一种排法，且该排法下长和宽都小于 100。要使该部队在调入 8 名新兵之后仍为只有一种排法的实心方阵，问调入后人数最多可能为多少？（ ）

- A. 104 B. 194 C. 202 D. 9029

55. 小张家养了一只大狗和一只小狗。现在，小狗的体重只有大狗的一半。如果两只狗的体重各增加 5 千克，那么小狗的体重将达到大狗的 60%。据此可知，若两只狗的体重各增加 10 千克，小狗、大狗的体重比将会是（ ）。

- A. 1:2 B. 2:3 C. 3:4 D. 4:5

56. 一家三口，妈妈比儿子大 26 岁，爸爸比儿子大 33 岁，1995 年，一家三口的年龄之和为 62。那么 2018 年儿子、妈妈和爸爸的年龄分别是（ ）。

- A. 23, 51, 57 B. 24, 50, 57 C. 25, 51, 57 D. 26, 52, 58

57. 一款手机按 2000 元单价销售，利润为售价的 25%。若重新定价，将利润降至新售价的 20%，则新售价是（ ）。

- A. 1900 元 B. 1875 元 C. 1840 元 D. 1835 元

58. 假设一片牧场的青草一直都是“匀速”自然生长的，该牧场 3 月初放养有 1000 只羊，30 天后青草的总量变为 3 月初的 90%，此时牧场又一次性增加了 300 只羊，12 天后青草的总量变为 3 月初的 80%。如果要想青草在接下来的 4 个月内（每月按 30 天计算）回到 3 月初的总量，则这 4 个月内该牧场最多放养（ ）只羊。

- A. 800 B. 750 C. 700 D. 600

59. 一个班级组织跑步比赛，共设 100 米、200 米、400 米三个项目。班级有 50 人，报名参加 100 米比赛的有 27 人，参加 200 米比赛的有 25 人，参加 400 米比赛的有 21 人。如果每人最多只能报名参加 2 项比赛，那么该班最多有多少人未报名比赛？（ ）

- A. 11 B. 12 C. 13 D. 14

60. 某项工程，甲、乙、丙三家公司共同完成需要 13 天，如果丙公司休息 3 天，乙公司就要多工作

6 天，或者甲、乙两家多工作 1.5 天。那么此项工程由甲公司单独完成需要多少天？（ ）

- A. 20 天 B. 24 天 C. 26 天 D. 30 天

61. 设乙地在甲、丙两地之间，小赵从乙地出发到甲地去送材料，小钱从乙地到丙地去送另一份材料，两人同时出发，10 分钟后，小孙发现小赵、小钱两人都忘记带介绍信，于是他从乙地出发骑车去追赶小赵和小钱，以便把介绍信送给他们。已知小赵、小钱、小孙的速度之比为 1:2:3，且中途不停留，那么小孙从乙地出发到把介绍信送到后返回乙地最少需要多少分钟？（ ）

- A. 45 B. 70 C. 90 D. 95

62. 生产一件甲产品消耗 4 份原料 A、2 份原料 B、3 份原料 C，可获得 1.1 万元利润；生产一件乙产品消耗 3 份原料 A、5 份原料 B，可获得 1.3 万元利润。现有 40 份原料 A、38 份原料 B、15 份原料 C 用于生产，问最多可获得多少万元利润？（ ）

- A. 10.2 B. 12.0 C. 12.2 D. 12.8

63. 水果店购进 72 千克苹果和 136 千克梨，把这些水果分别装箱，每箱水果重量相同。每箱水果的最大重量是（ ）。

- A. 4 千克 B. 6 千克 C. 8 千克 D. 12 千克

64. 某零件加工厂采用计件工资。已知合格品每件 1 元，优良品每件 2 元，瑕疵品不得工资。当生产的优良品达到生产总数的 30% 时，可额外获得 400 元奖励。某工人生产了 3000 个零件，共获得计件工资 4000 元，请问该工人生产的零件中，合格品最多为多少个？（ ）

- A. 2100 B. 2000 C. 1800 D. 1200

65. 两对夫妇各带一个小孩乘坐有 6 个座位的游览车，游览车每排只有 1 个座位。为安全起见，车的首尾两座一定要坐两位爸爸；两个小孩一定要排在一起。那么，这 6 人的排座方法有（ ）。

- A. 12 种 B. 24 种 C. 36 种 D. 48 种

第三部分 常识判断

（共 20 题，参考时限 10 分钟）

根据题目要求，在四个选项中选出一个最恰当的答案。

请开始作答：

66. 我国宪法对非公有制经济的规定进行了几次修改，按时间先后排序正确的是（ ）。

- ①允许发展私营经济，采取“引导、监督、管理”的方针
- ②鼓励、支持和引导对非公有制经济的发展，并对非公有制经济依法实行监督和管理
- ③在法律规定范围内的个体经济、私营经济等非公有制经济，是社会主义市场经济的重要组成部分
- ④非公有制经济仅限于个体经济，不包括私营经济，且个体经济处于补充地位

- A. ①②④③ B. ①③②④ C. ④①③② D. ④①②③

67. 赵某逛电器商场，准备购买一台豆浆机，其享有的权利不包括（ ）。

- A. 人身、财产安全不受损害的权利

- B. 选择购买何种品牌豆浆机的权利
- C. 拒绝保安因商场失窃而提出搜查其背包的权利
- D. 购买一台低价促销、有轻微划痕的豆浆机，一个月后以商品存在瑕疵为由提出退款的权利
68. 下列关于汽油的说法不正确的是（ ）。
- A. 汽油标号是实际汽油抗爆性与标准汽油抗爆性的比值
- B. 为了保护汽车发动机，应尽量选用高标号的汽油
- C. 汽油可以溶解油污等水无法溶解的物质，起到清洁油污的作用
- D. 汽油着火时应使用泡沫、干粉等灭火剂，不能用水灭火
69. 中国共产党第十九届中央委员会第二次全体会议于 2018 年 1 月 18 日至 19 日在北京召开，会议的主要议程是（ ）。
- A. 研究制定国民经济发展计划
- B. 研究全面从严治党的重大问题
- C. 讨论修改宪法部分内容的建议
- D. 研究党和政府机构改革的重大问题
70. 下列古诗中涉及的历史事件，按先后顺序排列正确的是（ ）。
- ①千寻铁锁沉江底，一片降幡出石头
- ②剑外忽传收蓟北，初闻涕泪满衣裳
- ③千载琵琶作胡语，分明怨恨曲中论
- ④江东子弟多才俊，卷土重来未可知
- A. ①③④② B. ③④①② C. ②③④① D. ④③①②
71. 下面是对我国一份近代历史文献的描述：是一份改革内政和建设国家的新方案；是发展资本主义的近代化纲领；因脱离当时社会现实而未能实施。这份文献可能是（ ）。
- A. 《海国图志》 B. 《资政新篇》
- C. 《天朝田亩制度》 D. 《中华民国临时约法》
72. 下列关于绝密公文定义表述正确的是（ ）。
- A. 最重要的国家机密，泄露会使国家的安全和利益遭受特别严重的损害
- B. 重要的国家机密，泄露会使国家的安全和利益遭受严重的损害
- C. 一般的国家秘密，泄露会使国家的安全和利益遭受损害
- D. 保密的国家秘密，泄露会使国家的安全和利益遭受严重的损害
73. 对下列作品的说法不正确的是（ ）。
- A. 《兰亭序》记叙了兰亭周围山水之美和聚会的欢乐之情
- B. 《祭侄文稿》是颜真卿为纪念“安史之乱”中罹难的亲人而作
- C. 《富春山居图》描绘的是浙江富春江一带的山水景观
- D. 《清明上河图》描绘了清明时节“路上行人欲断魂”的景象
74. 下列说法正确的是（ ）。
- A. 号外是指为及时报道发生的重大新闻事件而临时编印的，不列入原有编号的报刊

- B. 英国的《泰晤士报》、法国的《图片报》、德国的《太阳报》均是世界著名的报纸
- C. 报纸按照用途可分为：早（晨）报、晚报、商报、都市报、时报等
- D. 报纸版面之间的中间地带（即“中缝”），不可出现任何文字
75. 超声波技术用途非常广泛，它使用类似于声波，但某项参数大于普通声波的振动技术来工作，所以称为超声波。这个大于普通声波的参数是（ ）。
- A. 波长 B. 振幅 C. 传播速度 D. 频率
76. 关于我国自主研发的新成果，下列说法错误的是（ ）。
- A. 在世界上首次实现卫星与地面之间的量子通信
- B. 实现总装下线的“蛟龙-600”属于水陆两栖飞机
- C. 已成功下潜的“潜龙二号”是有缆遥控水下机器人
- D. 超级计算机“神威·太湖之光”的运算速度居世界第一
77. 下列关于人体生理常识说法不正确的是（ ）。
- A. 脾脏是人体最大的淋巴器官 B. 骨髓是人体内的主要造血组织
- C. 小脑主要负责人体协调运动功能 D. 血液只能从心室流入心房而不能倒流
78. 海水稻是指耐盐碱高产水稻的简称，由我国最早发现和培育。关于海水稻，下列表述错误的是（ ）。
- A. 海水稻可在环境恶劣的海边滩涂和盐碱地中生长，保持较低的产量
- B. 海水稻富含大量微量元素，具有很高的营养价值
- C. 海水稻具有不施肥和抗病虫以及耐盐碱等独特生长特性
- D. 海水稻对资源节约的绿色农业大有裨益
79. 当前，政府治理正从“包打天下”转变到注重运用多种社会力量，共同处理公共事务、提供公共服务。下列做法不符合这一转变的是（ ）。
- A. 民政局通过招标等方式向社会组织购买扶老助残服务
- B. 交管局通过“随手拍”获取市民提供的交通违法信息
- C. 环保局联合城管及财政等多个部门集中整治大气污染
- D. 公安局联合居委会成立治安巡逻小分队以确保社区安全
80. 下列说法正确的是（ ）。
- A. 海拔高度即某地与海平面的高度差，我国海拔高度以东海海面为零点
- B. 中国、挪威、印度尼西亚均拥有上千个大小岛屿，可称为“千岛之国”
- C. 港口按照用途，可分为海港、河港、湖港及水库港四种
- D. 印度半岛又称“南亚次大陆”，是世界上面积最大的半岛
81. 下列说法错误的是（ ）。
- A. 花样游泳极具观赏性，被誉为“水上芭蕾”
- B. 现代铁人三项包括：游泳、自行车及跑步
- C. 正式的马术比赛不按选手性别分类，男女选手同场竞技
- D. 投标枪起源于石器时代的渔猎活动，被誉为“运动之母”
82. 下列现象的物理解释错误的是（ ）。

- A. 高压锅煮食物——升高水的沸点 B. 露珠呈球状——液体表面张力
C. 铁轨铺在枕木上——减少压强 D. 大银幕观影——光的漫折射

83. 下列关于我国金融常识的说法正确的是（ ）。

- A. 国债、股票、公司债券的投资风险依次递增
B. 理财产品合同中的预期收益率是理财产品实际到期收益率
C. 公众兑换票面残缺的人民币，要到中国人民银行指定的商业银行网点
D. 自然人之间借贷如未约定利息，出借人欲主张支付利息，法院不予支持

84. 某校在长白山举行地理夏令营活动。在野外，老师要求同学们除了文字记录外，还要将看到的典型地貌和地质结构描绘出来，同学们应采用的绘画技法是（ ）。

- A. 速写 B. 工笔 C. 写意 D. 留白

85. 最近一段时间，勒索病毒在全球集中爆发，我国的部分高校和政府机构受到攻击，暴露出我国网络安全防范意识和水平的不足。关于勒索病毒的网络攻击，下列选项表述正确的是（ ）。

- A. 勒索软件是一种简单的网络攻击
B. 加强内网自主操作系统建设是防范勒索病毒的重要途径
C. 只要采取了网络隔离技术就可以防止勒索病毒的攻击
D. 勒索病毒网络攻击不是以金钱为目的

第四部分 言语理解与表达

（共 35 题，参考时限 30 分钟）

本部分包括表达与理解两方面的内容。请根据题目要求，在四个选项中选出一个最恰当的答案。

请开始答题：

86. 民法基本原则是贯穿于整个民事法律制度和民事规范始终的根本原则，对民事立法、民事司法和当事人民事活动具有_____的指导意义。不同的法律部门由于所_____的对象不同，所应采取的基本原则也不同。

依次填入划横线处最恰当的一项是（ ）。

- A. 普遍 调整 B. 普适 针对 C. 全面 适用 D. 具体 覆盖

87. 秦岭阻挡了中国腹地南北气候的交互，却挡不住秦巴两地行者的脚步。无论是“明修栈道，暗度陈仓”，还是“一骑红尘妃子笑”，都与一条条秦岭古道_____。这些古道就如同一条条经线，沟通了关中与巴蜀，见证了中国历史的朝代兴替与政经融通，_____出不少故事与传说。

依次填入划横线部分最恰当的一项是（ ）。

- A. 密不可分 演绎 B. 交相辉映 衍生
C. 休戚与共 涌现 D. 相伴相生 催生

88. 除了那些家喻户晓的“国宝”，中华大地上还有不少动物正处于、或正在走向“濒危”行列。由于种种原因，它们所面临的危险还未被重视，甚至它们的名字和样子都_____。

填入划横线部分最恰当的一项是（ ）。

- A. 默默无闻 B. 鲜为人知 C. 无人问津 D. 一无所知

89. 宋代真是大发宏愿的时代，绘画写实技巧_____，无论花鸟还是山水，与自然物象_____。恰恰宋代又是我国古代科技发展的高峰，双峰对峙，正是“图像证史”一展身手的大舞台。

依次填入划横线部分最恰当的一项是（ ）。

- A. 炉火纯青 不分轩轻 B. 目无全牛 不分畛域
C. 登堂入室 不谋而同 D. 登峰造极 不爽毫厘

90. 在大时代背景下，一群文物修复师，默默地固守“冷宫”一隅，日复一日地打理着价值连城的“国宝”。宫墙外的世界_____，宫墙内的他们却要用几年的时间摩挲同一件文物。一座宫廷钟表上千个零件要_____，一件碎成100多片的青铜器要拼接完整，一幅古画揭一两个月……

依次填入划横线部分最恰当的一项是（ ）。

- A. 沧海桑田 金瓯无缺 B. 熙熙攘攘 完璧归赵
C. 白云苍狗 精挑细选 D. 斗转星移 严丝合缝

91. 家鸡是世界上数量最多的鸟类，它的祖先就是原产于亚洲南部、西起印度、东到中国的广大地域的原鸡。家鸡的驯化大约在4000年前，在华南的很多地方，野生原鸡还经常混入家鸡群，和家鸡交配后孵化的幼鸡和野生原鸡_____，可见两者之间亲缘很近。而中国作为它的驯化地之一，以生肖的形式加以纪念，的确是_____的。

依次填入划横线部分最恰当的一项是（ ）。

- A. 天差地别 顺理成章 B. 别无二致 理所应当
C. 以假乱真 实至名归 D. 几无差别 名副其实

92. 中俄计划携手建设从莫斯科出发，穿越哈萨克斯坦通往北京的欧亚高速运输走廊。新铁路的兴建可能要耗时八至十年。从工程的规模及价值来看，它堪与苏伊士运河_____。后者大幅缩短了通航里程及时间，迅速对全球贸易产生了_____的影响。

依次填入划横线部分最恰当的一项是（ ）。

- A. 比肩 不可估量 B. 媲美 旷日持久
C. 争雄 超乎预期 D. 匹敌 源源不断

93. 现在，死海的湖水正以每年超过1立方米的速度消失，而极为少见的巨大沙坑正以每年_____的速度形成，而且这个速度还可能继续加快。尽管官方没有公布沙坑的破坏程度，但许多电源线、公路以及活动住宅正被_____，甚至曾有游客掉入沙坑受伤。

依次填入划横线部分最恰当的一项是（ ）。

- A. 不计其数 淹没 B. 数不胜数 湮灭
C. 数以百计 吞噬 D. 不可胜数 毁灭

94. 医疗改革方案将引导医疗机构、医务人员，通过提供更好更多的诊疗服务，获得_____的补偿。对于过度治疗问题，该方案是一种_____的做法，它让医生的收入与所开的药物、检查脱钩，让医疗工作者的劳动收入真正体现在明处。

依次填入划横线部分最恰当的一项是（ ）。

- A. 合法 立竿见影 B. 公正 行之有效
C. 适度 一劳永逸 D. 合理 釜底抽薪

95. 古代中国数秘术与古希腊数秘术的区别在于，前者侧重解象，后者侧重数术。中国的数秘术后来发展成了更具意义的宇宙形而上学，与算术渐行渐远，_____。

填入划横线部分最恰当的一项是（ ）。

- A. 南辕北辙 B. 分道扬镳 C. 缘木求鱼 D. 背道而驰

96. 以往，似乎根本无需争论，绝大多数人认为抓环保当然是环保部门一家的事。在这样的观念之下，环保部门纵使八方招架也难免_____，有时还不得不替别人“背锅”。环保干部一面抓环保，一面保“乌纱帽”，又如何能做到_____地搞好工作？

依次填入划横线部分最恰当的一项是（ ）。

- A. 手足无措 全神贯注 B. 顾此失彼 无忧无虑
C. 独木难支 心无旁骛 D. 漏洞百出 四平八稳

97. 英国历史学家巴克尔认为在 19 世纪那个科学蓬勃发展的时代，历史学家仍旧满足于记述琐碎的历史现象，实属_____。如果问这些历史学家“人类社会为什么会进步”，他们竟然还会认为是“上帝的计划”使然。在他看来，这样的学问配不上“科学”的美名，他们甚至连与科学家对话的资格都没有。

填入划横线部分最恰当的一项是（ ）。

- A. 一叶障目 B. 不思进取 C. 不务正业 D. 舍本逐末

98. 在经济全球化时代，面对多元文化思潮的交流与交锋，人们常常有精神迷失的困惑。如何_____西方文化思潮的渗透，始终保持本民族的文化特色？如何实现精神富有，_____起源源不断的精神力量？这些都是当代文化发展需要深入思考的命题。

依次填入划横线处最恰当的一项是（ ）。

- A. 抵挡 集聚 B. 抵触 汇集 C. 抵御 汇聚 D. 抵制 积累

99. 目前能在国际上制造大功率 IGBT 芯片的国家_____，中车株洲所成为国内唯一一家全面掌握 IGBT 芯片技术的企业，其技术可与世界顶尖的公司_____，而价格却远远低于竞争对手。

依次填入划横线部分最恰当的一项是（ ）。

- A. 寥寥无几 比肩 B. 所剩无几 抗衡
C. 凤毛麟角 比拼 D. 屈指可数 媲美

100. 那么国产电影市场需不需要职业导演？这是_____的。一个健康的市场，应该以职业导演打底，非职业导演_____。今年非职业导演崛起，说到底是电影市场在用一种艺高人胆大的方式洗牌。

填入划横线部分最恰当的一项是（ ）。

- A. 见仁见智 登堂入室 B. 显而易见 精益求精
C. 毋庸置疑 锦上添花 D. 毋庸置疑 雪中送炭

101. 中国宋代的文学鼎盛时期，也同样伴生着科学技术_____的发展。但肩负着为人类寻找精神家园和情感归宿的文学总是让人们感觉如此之近。而尽管我们自始至终都在享受着科学的_____，但有时为什么却感觉科学离我们如此之远。

依次填入划横线处最恰当的一项是（ ）。

- A. 不同寻常 恩赐 B. 不同凡响 恩惠
C. 无以伦比 恩赐 D. 无出其右 恩惠

102. 明星天价片酬已不是一件新鲜事。拍一部电影、出演一部电视剧动辄千万的酬劳一再受公众质疑和_____。片酬虚高和漫天要价等不良现象，水涨船高式地搅乱着整个行业秩序。明星作为公众人物，光鲜的生活本就在聚光灯下，天价片酬以及由此带来的奢华生活不仅令公众_____，也有损整个社会的公平感和获得感。

依次填入划横线部分最恰当的一项是（ ）。

- A. 批评 不齿 B. 揶揄 反感 C. 诟病 侧目 D. 审视 惊心

103. ①远古文明，充满了悬念和玄机，其中的迷雾和疑团，尤其让人着迷，让人心驰神往

②人类的古代文明，时常使现代人感到目眩

③玛雅人的历史虽不如中国的历史那么古老，但因为缺乏足够的历史记载，又突然从南美丛林中销声匿迹，所以给现在人的印象扑朔迷离，神秘之极

④那些刻在龟甲和兽骨上，写在竹简上，刻在石碑上的文字，把数千年前的天地景象和人间故事留给了现代人

⑤中国人善于用文字记载历史

将上述 5 个句子重新排列，语序正确的是（ ）。

- A. ①②③④⑤ B. ②①③⑤④ C. ③⑤④②① D. ③⑤④①②

104. ①这不仅表明了工业社会对于文化生产的接管、改造和重新规划，而且，技术的意义开始占据前所未有的份额

②电影的诞生是技术介入艺术的里程碑事件

③技术始终是文化生产的组成部分

④尽管如此，技术从未扮演艺术的主角

⑤庄子、杜甫、苏东坡，《窦娥冤》《红楼梦》，这些经典令人敬重的原因是深刻的思想和洞察力，而不是由于书写于竹简，上演于舞台，或者印刷在书本里

⑥从青铜铸鼎、笔墨纸砚到瓦舍勾栏的兴盛、印刷时代的降临，艺术符号的制作及其传播从来没有离开技术的支持

将上述 6 个句子重新排列，语序正确的是（ ）。

- A. ③⑤④⑥②① B. ⑥⑤④②①③ C. ③⑥④⑤②① D. ⑥④⑤③②①

105. ①中国已经成为世界第二大经济体，而且不断拉开与世界第三大经济体的差距

②这些都给人民币的进一步崛起提供了机会

③事实上，中国已经取代美国成为世界上第一大货物贸易国

④此外，中国还通过创建亚投行，发起“一带一路”倡议，大大提升了国家的经济软实力

⑤人民币国际地位的提升是大势所趋，是中国经济影响力提升决定的

⑥不仅如此，中国金融市场的发展也取得了长足进步，中国的股票市场规模仅次于美国，上海和深圳正大踏步走在通往世界主要金融中心的道路上

将上述 6 个句子重新排列，语序正确的是（ ）。

- A. ⑤③①②④⑥ B. ⑤①③⑥④②
C. ①③④⑥②⑤ D. ①③②④⑥⑤

106. 干扰致偏是对抗精确制导武器打击的一种有效手段。精确制导武器之所以威胁巨大，关键在于能够直击要害。高精度打击的前提是弹载制导机构必须准确锁定目标，并实时接收制导修正信号。如果制导信号被压制干扰，或修正信息不准确，制导武器就无法精确命中目标，威力大打折扣。如果说传统的伪装防护技术是利用“易容术”将目标隐藏起来，干扰致偏防护技术就是给来袭导弹戴上“磨砂镜”，让其看不清、瞄不准，使制导机构沿着错误的方向偏离目标，而且这种技术对于无法转入地下的重要阵地目标的防护更具实用价值。

根据这段文字，可以将“干扰致偏”最准确地概括为（ ）。

- A. 精确制导武器的“迷魂散” B. 地上阵地目标的“防护伞”
C. 伪装防护技术的“烟雾弹” D. 导弹制导信号的“跟踪器”

107. 少年儿童对声音非常敏感，他们能够通过“听”轻松地记住那些语言优美的古诗文。一位著名的美学家回忆自己的学习经历时说：“我幼时全读的是《尚书》《左传》。《诗经》我没正式地读，我听了多遍，就能成诵大半。于今我记得最熟的经书，除《论语》外，就是听会的一套《诗经》。”另一位语言学家回忆儿时的学习情景时也说：“我们都觉得晚上念诗比白天念书轻松一点儿。我念的是《唐诗三百首》。我哥哥跟姊妹们另外还念《千家诗》跟别的诗集。他们念的诗，我就是没念也渐渐地背得出来了。”

这段文字意在说明（ ）。

- A. 背诵诗文应该“从娃娃抓起” B. 背诵诗文首选经典诗词名篇
C. 背诵诗文要发挥听觉记忆作用 D. 背诵诗文随意的听比刻意的念效果更好

108. 没有 18 世纪的蒸汽机和纺织机，也就没有工业革命；没有 19 世纪的电气技术和汽车，没有 20 世纪的半导体、集成电路以及生物制药、互联网，也就没有今天众多的新产业和极大丰富的产品。但是，21 世纪的智能化手机能和蒸汽机、汽车相比吗？今天的很多技术虽然改变了生活方式，但没有带来新的动力和产业的巨变；许多高科技公司虽然抢眼风光，但对经济的实际影响并不像社会关注的那么大。我们面对的不单单是金融危机，其实也是一场产业危机和创新性危机。

这段文字表达了作者（ ）。

- A. 对产业发展缺乏革命性创新的批评 B. 对缺乏提振经济的重大创新的忧虑
C. 对新技术革命不如传统技术的遗憾 D. 对创新性危机引发金融危机的警惕

109. 在一般人眼里，文学可以超越时空、流传千年，就某门科学来说，由于某些局限性等原因很难长久流行。唐诗宋词至今仍为人们广泛传播，而中国人又有几个人记得中国唐宋时期科学技术发展的重要成果呢？当然，中国古代包括近现代，科学技术远谈不上发达，科学离流行看起来更加遥远。但即便是在科学发达的西方，其科学的流行程度与文学艺术不能比拟。尽管欧洲文艺复兴，不仅仅是文化的革命、思想的革命，也同样是科学的革命，伴随着一大批科学成果的诞生，但了解者并不多。让科学流行起来需要宽容的社会环境和更多人才。

这段文字意在说明（ ）。

- A. 文学比科学更有生命力 B. 文学永远比科学更易流行

C. 科学比文学更易流行

D. 科学与文学可以同样流行

110. 进行骨髓移植的前提条件是有配型成功的捐赠者。双胞胎配型成功几率最高，兄弟姐妹也有可能。但在中国，20世纪70年代到现在，大多数都是独生子女，有兄弟姐妹且能配型成功的概率也非常低。另外，父母和子女之间骨髓配型成功的概率非常低，几乎为零。因此，绝大多数患者都必须依赖不认识的志愿者配型。非亲缘关系骨髓配型成功的几率只有几十万到几百万分之一，_____。

填入划横线部分最恰当的一句是（ ）。

- A. 即使这样，骨髓移植仍是大多数血液疾病患者的唯一希望
- B. 如果冒着风险使用不完美的配型，成功率自然会大为降低
- C. 骨髓库里志愿者样本的多少，直接决定着病人找到合适配型的几率
- D. 志愿者捐献固然很重要，国家相关政策的落实和执行也是当务之急

111. 发呆是跟思绪相对应的。人发呆的时候，脑子里没有思绪，是一种活在当下、沉浸在现实中的感受。而思绪关注的则是过去和未来。思绪太多，人就会逐渐失去与真实世界的联系，陷入各种情绪中。这时候，需要适时地断一断电，关掉思绪，把注意力拉回到现实，重新和这个真实世界建立联系。

这段文字意在强调（ ）。

- A. 思绪是胡思乱想，发呆才是关注当下
- B. 思绪太多有风险，必须时不时发发呆
- C. 发呆能有效对抗那些不切实际的幻想
- D. 发呆即活在当下，它具有现实的意义

112. 发展服务业要注意避免产业空心化，这一提示是必要的，但认为中国经济增长中现代服务业快速发展就一定导致产业空心化，这种看法是不对的，也是相当危险的。在实际工作中持这种看法，会使中国经济失去快速发展现代服务业的重要窗口期。实际上，形成以服务业为主的产业结构，并不意味着制造业地位的衰落，也不代表“去工业化”，更不等于开启了产业空心化进程。

这段文字意在强调（ ）。

- A. 快速发展现代服务业不可能导致产业空心化
- B. 如何客观评估快速发展现代服务业的利与弊
- C. 是否会导致产业空心化取决于制造业盛衰情况
- D. 不应顾虑产业空心化而错失发展服务业的良机

113. 城乡规划编制过程中除了要充分发挥专业机构的作用，遵循相关标准外，更重要的是统筹好与相关部门、相关领域等之间的关系，确保规划的综合性和前瞻性、可调控性。编制城乡规划的专业单位和主管部门要加强对规划区域的深入研究，掌握更为详尽的数据，做好科学研判，形成符合当地自然历史条件和发展前景要求的规划蓝图。

这段文字意在强调（ ）。

- A. 要切实提高城乡规划编制的科学化水平
- B. 要加强城乡规划与其他规划的数据共享
- C. 要注重依托地域文化资源编制城乡规划
- D. 要协调好各方面关系确保城乡规划实施

114. 绿叶蔬菜中的硝酸盐被人体摄入后，一部分不吸收而被大肠细菌利用，最终排出体外；另一部分被吸收，在几个小时当中逐渐缓慢转变成微量的亚硝酸盐。亚硝酸盐的存在时间只有几分钟，然后转变成一氧化氮，发挥扩张血管的作用。换句话说，如果需要亚硝酸盐扩张血管的作用，完全用不着吃剩菜；而且一次性大量摄入亚硝酸盐是有害的，摄入硝酸盐之后，在体内缓慢转变成亚硝酸盐，才能发挥有益作用。

这段文字反驳了哪种观点？（ ）

- A. 过量食用绿叶蔬菜也有风险
- B. 吃剩菜可以扩张血管
- C. 人体无法避免摄入亚硝酸盐
- D. 亚硝酸盐对人体有害

115. 根据人类学和考古学理论，农业可能并非人们向往的一种生活方式，而是在人口和环境之间关系逐渐失衡，供养人口的土地载能接近极限时的一种反映。环视我们的周围，可以发现日常食用的水产和肉食几乎绝大多数要依赖养殖。养殖并非是野生资源丰富的表现，恰恰相反，正是自然界里可供捕捞的资源日益减少，这才迫使人们用养殖的方法来保证这些资源的供应。

这段文字的作者认为（ ）。

- A. 大自然的资源已接近枯竭
- B. 土地无法承载人类的生活
- C. 人类未来生活离不开养殖业
- D. 农业生产是人类的无奈之选

116. 民国初年的文学革命，其实也就是一场类似库恩所说科学革命的例子。革命者认为旧有典范已经死亡僵化了，于是进行革命。革命之后，新典范出现，整个文学和文学研究遂导向一套新的信念，研讨的问题和答案的标准也改变了：采用西方的思考方式、观念系统、术语、概念来讨论中国文学。碰到这个新“典范”所无法丈量的地方，便诟病中国文学及文学评论定义不精确、系统不明晰、结构不严谨、思想不深刻等等。

这段文字意在说明（ ）。

- A. 西方文学批评理论对民国初年的文学革命产生了深刻影响
- B. 民国初年的文学革命与库恩所说的科学革命有相通之处
- C. 民国初年的文学革命用新典范评判中国文学不尽合理
- D. 民国初年的中国文学作品带有革命性的特点

117. 食品行业是关系人民群众切身需求与经济社会和谐稳定的民生行业。但目前来看，我国食品供给体系总体呈现出中低端产品过剩、中高端和个性化产品供给严重不足的问题，消费者对国外产品依赖程度越来越高，特别在当前速度换挡、结构调整、动力转换的经济新常态下，深入推进食品行业供给侧改革，是实现食品行业健康、长远发展的必然选择。食品标准既是国家食品安全治理体系中的重要组成部分，又是引导食品生产质量的主要风向标，因此，深化食品行业供给侧结构性改革的关键在于构建一套先进的食品行业标准。

这段文字接下来最可能讲的是（ ）。

- A. 目前国内食品行业存在的主要问题
- B. 国外构建食品行业标准的经验教训
- C. 构建食品行业标准要重点关注的问题
- D. 深化食品行业供给侧改革的具体措施

118. 一方面，由于人工智能、机器人等智能化趋势会进一步降低劳动成本在制造业总投入的比例，从而加速弱化我国的要素低成本优势；另一方面，发达国家利用其在新工业革命中的先发优势，不断强化其全球竞争优势和价值链高端位置，我国如果不能快速适应新工业革命趋势，由于智能制造技术会引起社会经济颠覆性、革命性的变化，我国与国外技术差距可能会进一步拉大，还可能形成对我国产业转型升级的抑制和对原有产业赶超路径的封堵，不利于我国制造业向全球价值链高端攀升。

这段文字意在说明（ ）。

- A. 我国在新工业革命中处于后发劣势
- B. 发达国家在新工业革命中有先发优势
- C. 当前我国制造业存在的问题
- D. 新工业革命对中国制造业的挑战

119. 即便执行最严格的农作物中农药残留标准仍有剩余风险，但若执行零残留标准，人类将面临更严重的食物短缺风险，因而标准的制定需要全面权衡农药残留的致害成本和农药带来的农作物增产收益。这背后是一种社会总成本与总收益的权衡，是人类追求社会总体福利最大化而必须承受的副产品。

下列说法不能从文段中推出的是（ ）。

- A. 农药残留检验执行零标准在现实中不太可能实施
- B. 人类的决策需要在社会总成本与收益中权衡
- C. 农作物中残存一定农药其实对解决食品短缺有益
- D. 农作物中含有一定农药残留是人类不得已的选择

120. 目前，国内的多家快递企业开始尝试拓展无人机送货业务，这样既能缓解地面交通拥堵，又能提高快递企业运营效率。但是，自无人机技术应用以来，安全事故屡屡发生。无人机在快递业的大规模应用，还可能对空管秩序造成极大冲击。特别是引入人工智能的无人机技术，逐渐摆脱了人工干预，而且还会随着“经验”的不断积累，优化自己的飞行路线。一旦对其监管落实不到位，极有可能产生不堪设想的后果。对此，我们应采取切实有效的措施，最大限度地发挥人工智能在无人机领域的优势，防止其可能产生的社会危害。

这段文字意在说明（ ）。

- A. 引入人工智能的无人机技术潜在风险更大
- B. 无人机的广泛应用需技术和监管共同发力
- C. 快递企业引入无人机业务的时机尚不成熟
- D. 发展人工智能需要更多地考虑其安全隐患

第五部分 资料分析

（共 20 题，参考时限 20 分钟）

所给出的图、表、文字或综合性资料均有若干个问题要你回答，你应根据资料提供的信息进行分析、比较、计算和判断处理。

请开始答题：

一、根据所给资料，回答 121~125 题。

2016年，全年原创首演剧目1423个，扶持了100名京剧、地方戏表演艺术家向200名青年演员传授经典折子戏。第十一届中国艺术节共汇聚67台参评参演剧目和1000余件美术作品，观众达40万人次。国家艺术基金2016年共有966个项目获得立项资助，较2015年增长了32.7%，资助资金总额7.3亿元。

2016年末全国共有艺术表演团体12301个，比上年末增加1514个，从业人员33.27万人，增加3.08万人。其中各级文化部门所属的艺术表演团体2031个，占16.5%；从业人员11.52万人，占34.6%。

全年全国艺术表演团体共演出230.60万场，比上年增长9.4%，其中赴农村演出151.60万场，增长9.0%；国内观众11.81亿人次，增长23.3%，其中农村观众6.21亿人次，比上年增长6.2%；总收入311.23亿元，比上年增长20.8%，其中演出收入130.86亿元，增长39.3%。

全年全国各级文化部门所属艺术表演团体共组织政府采购公益演出13.90万场，观众1.17亿人次。利用流动舞台车演出11.31万场次，观众10381万人次。中央直属院团全年开展公益性演出1335场，其中赴老少边穷地区演出241场，面向老红军、留守儿童等演出132场。

年末全国共有艺术表演场馆2285个，观众坐席数168.93万个。全年馆内艺术演出19.09万场次，增长39.5%；艺术演出观众3098万人次，增长8.6%。其中各级文化部门所属艺术表演场馆1265个，全年共举行艺术演出6.81万场次，增长25.0%，艺术演出观众2589万人次，增长8.4%。

年末全国国有美术馆462个，比上年末增加44个，从业人员4597人，增加502人。全国共举办展览6146次，比上年增长16.8%，参观人次3237万，增长4.8%。

121. 2015年末，全国拥有艺术表演团体的数量是（ ）。

- A. 10787个 B. 12301个 C. 14237个 D. 22031个

122. 在2015年全国艺术表演团体演出场次中，赴农村演出占比约为（ ）。

- A. 64.77% B. 65.74% C. 65.97% D. 66.91%

123. 与2015年相比，2016年国家艺术基金获立项资助项目、国有美术馆数量、艺术表演场馆艺术演出场次均为（ ）。

- A. 匀速发展 B. 小幅增长 C. 大幅萎缩 D. 持续增长

124. 在2016年中，下列平均场次观众最多的是（ ）。

- A. 全国艺术表演团体演出 B. 全国艺术表演团体赴农村演出
 C. 全国艺术表演场馆馆内艺术演出 D. 全国各级文化部门所属艺术表演场馆艺术演出

125. 2016年，全国艺术表演团体平均从业人员数和各级文化部门所属艺术表演团体从业人员平均数之比约为（ ）。

- A. 1:0.346 B. 6:1 C. 1:2 D. 2:3

二、根据所给资料，回答126~130题。

某高校男（女）博士比率调查数据（百分数）

年份	2010	2011	2012	2013	2014	2015	2016	2017
男博士比率	8.0	9.0	8.8	8.5	9.0	10.0	11.5	15.9
女博士比率	6.9	7.5	7.0	7.6	7.6	8.0	8.3	9.2

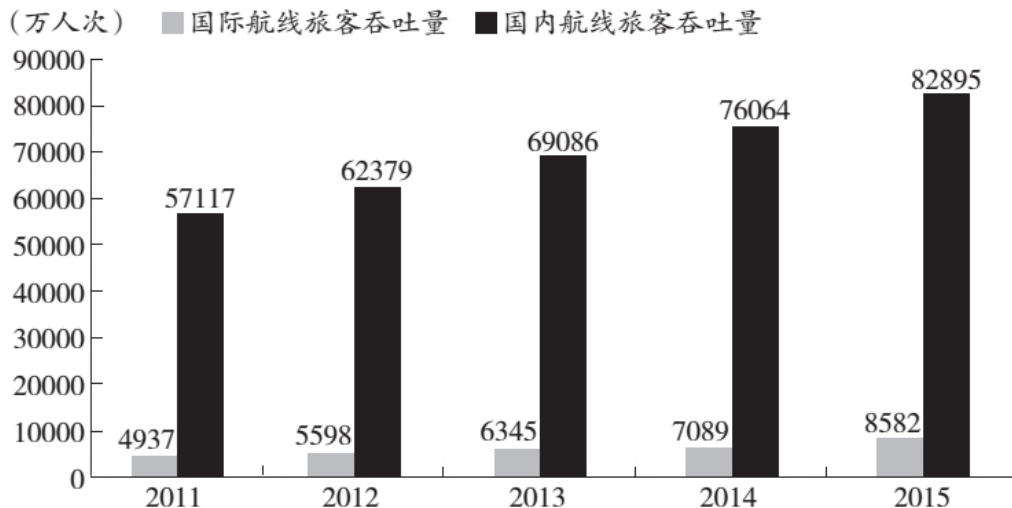
注：男（女）博士比率 = $\frac{\text{男（女）性博士人数}}{\text{男（女）性职工总人数}}$ 。

126. 假设高校在 2015 年的教职工总人数为 2500 人，其中女性占 46%，则该校男博士人数为（ ）。
- A. 120 B. 125 C. 130 D. 135
127. 2015 年该高校的博士比率为（ ）。
- A. 8% B. 9% C. 18% D. 不能确定
128. 男、女博士比率最接近的是哪一年？（ ）
- A. 2011 B. 2012 C. 2013 D. 2014
129. 2011~2015 年女博士比率相比上一年有所增加的有几年？（ ）
- A. 1 B. 2 C. 3 D. 4
130. 下列不正确的是（ ）。
- A. 男博士比率下降的有 2 年
B. 女博士比率下降的有 1 年
C. 男博士比率和女博士比率增加最快的都是 2017 年
D. 男博士比率和女博士比率同时下降的都是 2011 年

三、根据所给材料，回答131~135题。

2015 年中国机场旅客吞吐量 91477 万人次，比上年增长 10.0%。其中，国内航线完成 82895 万人次，增长 9.0%；国际航线完成 8582 万人次，增长 21.1%。“十二五”时期中国机场旅客吞吐量如下图。

“十二五”时期中国机场旅客吞吐量



2015 年中国机场旅客吞吐量 100 万人次以上的有 70 个，比上年增长 6 个，完成旅客吞吐量占全部机场旅客吞吐量的 95.5%；旅客吞吐量 1000 万人次以上的有 26 个，比上年增长 2 个，完成旅客吞吐量占全部机场旅客吞吐量的 77.9%；北京、上海和广州三大城市占全部机场旅客吞吐量的 27.3%。

2015 年中国各地区机场旅客吞吐量的分布情况是：华北地区占 15.8%，比上年降低 0.5 个百分点；东北地区占 6.0%，降低 0.1 个百分点；华东地区占 29.0%，提高 0.2 个百分点；中南地区占 23.7%，降低 0.6 个百分点；西南地区占 16.8%，提高 0.6 个百分点；西北地区占 5.9%，提高 0.2 个百分点；新疆

地区占 2.8%，提高 0.2 个百分点。

131. 2015 年北京、上海和广州三大城市机场旅客吞吐量是（ ）。

A. 19978 万人次 B. 20173 万人次 C. 24973 万人次 D. 27012 万人次

132. 2014 年，旅客吞吐量 100 万人次以上而不超过 1000 万人次的中国机场数量有（ ）。

A. 38 个 B. 40 个 C. 44 个 D. 48 个

133. 若 2016~2017 年与 2014~2015 年保持相同的年平均增速，则 2017 年中国机场国际航线旅客吞吐量将是（ ）。

A. 10075 万人次 B. 10389 万人次 C. 11608 万人次 D. 13781 万人次

134. 2014 年中国机场旅客吞吐量位于前三位的地区依次是（ ）。

A. 华北地区、中南地区、西南地区 B. 中南地区、华北地区、西南地区

C. 中南地区、华东地区、西南地区 D. 华东地区、中南地区、华北地区

135. 下列判断正确的是（ ）。

A. 2015 年中国西北地区机场旅客吞吐量不及华北地区的三分之一

B. 2015 年国内航线旅客吞吐量占中国机场旅客吞吐量的比重比上年有所提高

C. “十二五”时期后四年，中国机场国内航线旅客吞吐量年均增长量小于国际航线

D. 2015 年，旅客吞吐量 100 万人次以上而不超过 1000 万人次的机场旅客吞吐量总和占中国机场旅客吞吐量的比重为 17.6%

四、根据所给资料，回答 136~140 题。

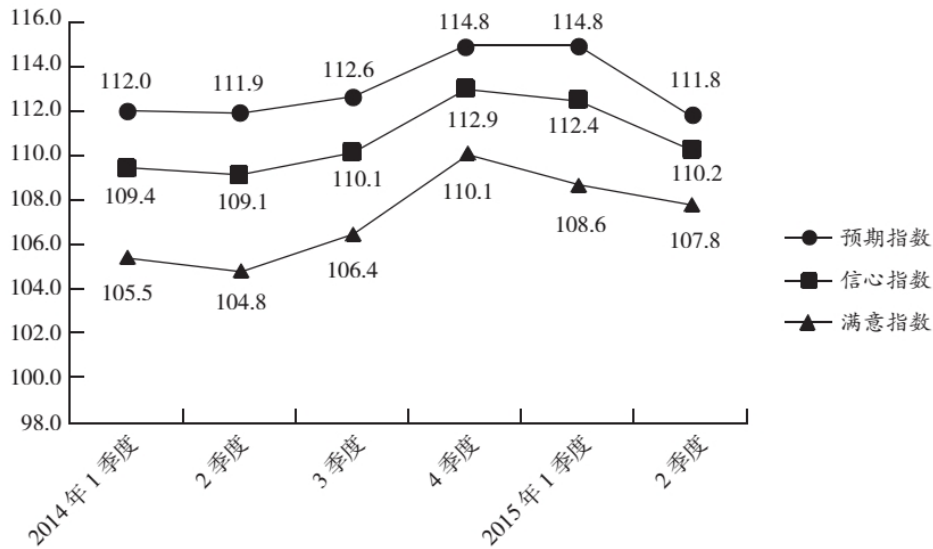
2015 年 2 季度，J 省消费者信心指数（CCI）为 101.1，环比、同比分别下降 4.6、10.7 个百分点。分城乡看，城镇和农村消费者信心指数分别为 101.6 和 100.1，环比分别下降 5.2、3.8 个百分点。

从体现消费者对当前形势的满意程度看，2015 年 2 季度，J 省消费者满意指数（ICC）为 96.9，从满意指数的构成看，消费者对当前就业满意指数为 101.2，其中城乡指数分别为 99.3、104.2，环比分别下降 6.1、3.3 个百分点。从对当前家庭收入的满意程度看，满意指数为 99.5，其中城乡家庭收入满意指数分别为 100.4、98.1，环比分别下降 9.6、3.1 个百分点。

从反映消费者对未来乐观程度的预期指数看，2015 年 2 季度，J 省消费者预期指数（ICS）为 103.8，在持续两个季度小幅回升后，本季度有所回落，环比、同比分别下降 4.1、12.0 个百分点。

2015 年 2 季度，Z 省城乡消费者信心指数均呈下行态势。其中，城镇消费者信心指数为 111.1，较 1 季度下降 1.4 个百分点；农村消费者信心指数为 108.7，较 1 季度下降 3.4 个百分点。

2014 年 1 季度~2015 年 2 季度 Z 省消费者信心指数、满意指数、预期指数



136. 2015年1季度，J省消费者满意指数构成中，数值最低的是（ ）。

- A. 城镇就业满意指数
- B. 农村就业满意指数
- C. 城镇家庭收入满意指数
- D. 农村家庭收入满意指数

137. Z省2015年1季度农村消费者信心指数是（ ）。

- A. 108.7
- B. 112.1
- C. 112.5
- D. 103.9

138. 设Z省2015年1、2季度消费者信心指数为 Z_1 、 Z_2 ，J省同期同一指标为 J_1 、 J_2 ，则（ ）。

- A. $Z_1 > J_1 > Z_2 > J_2$
- B. $Z_1 > Z_2 > J_1 > J_2$
- C. $J_1 > J_2 > Z_2 > Z_1$
- D. $Z_1 > J_2 > Z_2 > J_1$

139. Z省消费者满意指数下降最快的时间段是（ ）。

- A. 2014年2季度
- B. 2014年3季度
- C. 2015年1季度
- D. 2015年2季度

140. 能够从上述资料中推出的是（ ）。

- A. 2015年2季度，J省、Z省城镇消费者信心指数环比下降的数值均大于农村消费者信心指数
- B. 2014年3季度至2015年2季度，J省、Z省消费者信心指数变化趋势相同
- C. 2015年2季度，J省、Z省消费者预期指数值相差10个百分点以上
- D. 2014年3季度至2015年2季度，Z省消费者信心指数最高的季度也是该指数环比增速最快的季度

展鸿公务员录用考试笔试试卷

《行测》模拟卷（七）参考答案及解析

1. 【答案】B。解析：①②⑤图形中的时针和分针构成锐角，③④⑥图形中的时针和分针构成钝角。故本题选B。

2. 【答案】A。解析：题干各图形均在正方体面上或内部构造出一个三角形，①②⑤图形中的三角形面积相等，③④⑥图形中的三角形面积相等。故本题选A。

3. 【答案】C。解析：各图形均能一笔画成，排除B、D项；奇数项图形均为纯直线图形，偶数项图形均为纯曲线图形，则问号处应为纯曲线图形，排除A项。故本题选C。


4. 【答案】B。解析：第一行均为纯直线图形，第二行均为纯曲线图形，第三行均为直曲混合图形，排除A、C项；各图形均为一个独立部分，排除D项。故本题选B。

5. 【答案】D。解析：A项，假设正面和顶面正确，则右面应为水平线或十字线，排除。B项，正面和顶面的阴影三角形在展开图中有公共边，而不是交于一点，排除。C项，假设正面和顶面正确，则右面应为竖直线或十字线，排除。故本题选D。

6. 【答案】C。解析：题干前两行图形中，第一个图形和第二个图形叠加，去同存异并保留外边框，得到第三个图形。第三行图形遵循此规律，则问号处应为C项图形。故本题选C。

7. 【答案】C。解析：题干各图形中，最大的U字形顺时针依次旋转90°，中等大小的U字形依次上下翻转，最小的U字形逆时针依次旋转90°，则问号处应为C项图形。故本题选C。

8. 【答案】A。解析：题干各图形拼合，形成的图形如下所示。故本题选A。



9. 【答案】D。解析：各图形封闭空间数依次为0、1、2、3、4、(5)，排除C项；各图形均由直线和曲线共同构成，排除A、B项。故本题选D。

10. 【答案】C。解析：题干第一列图形均为仅轴对称图形，第二列均为仅中心对称图形，第三列均为仅轴对称图形，则问号处应为仅轴对称图形。观察选项，只有C项符合。故本题选C。

11. 【答案】B。解析：“股东派生诉讼”的定义要点是“股东以自己的名义对侵害人提起诉讼”。A项“以公司的名义起诉李某”不符合要点，排除。B项股东王某以自己的名义起诉乙公司，符合要点，符合定义。C项“甲公司遂起诉要求黄某停止违法经营活动”和D项“公司监事会有权提起诉讼”均不符合要点，排除。故本题选B。

12. 【答案】A。解析：“预付费陷阱”的定义要点：①商家以打折促销手段吸引顾客预付服务费用；②在后续服务中不能按照约定内容提供服务。A项并未体现“打折促销手段”，而且是由于顾客自身原因导致无法上课，不符合①②，不符合定义。B、C、D三项均符合定义，排除。故本题选A。

13. 【答案】C。解析：“无意注意”的定义要点是“没有预定目的”。A项“窗外飞进来的蝴蝶”、B项“桌上的面包”和D项“小红花”均是个体没有预定目的观察到的，符合要点，排除。C项“完成家庭作业”是小红的预定目的，不符合要点，不属于无意注意。故本题选C。

14. 【答案】B。解析：“辐射适应”的定义要点：①具有血缘关系的生物；②由于生活在不同的环境中；③在形态以及生活习性上有着完全不同的适应性。A项不符合①②③。B项信天翁和鸵鸟都属于鸟类，符合①，前者“翼展超过3.4米”“善于飞翔”，后者“双翼衰退”“善于在沙地上奔跑”，符合②③，符合定义。C项不符合①。D项只涉及雷鸟，不符合定义。故本题选B。

15. 【答案】A。解析：“技术标准”的定义要点：①对工农业产品和工程建设的质量、规格和检验方法等所作的技术规定；②从事生产、建设的依据。A项奶粉属于工农业产品，关于其质量标准的规定符合①②，符合定义。B项“评定卫生城市”不涉及“工农业产品和工程建设”，不符合①，排除。C项“关于缺陷产品召回的管理规定”针对的是产品上市后出现的问题，不是“从事生产、建设的依据”，不符合②，排除。D项“对冶金机械厂区设备烟尘排放量的检测标准”针对的不是“工农业产品和工程建设的质量、规格和检验方法”，不符合①，排除。故本题选A。

16. 【答案】D。解析：“决断后效应”的定义要点是“在作出选择之后，决策者对这些事物的态度评价就发生了改变”。A项该职员仅进行了考量，并未作出选择，不符合要点，排除。B项未体现该女士作出选择后对手机的态度评价发生了改变，不符合要点，排除。C项该老师并非作出选择后就认为选B正确，而是在B夺得冠军后才改变了态度，不符合要点，排除。D项该学生选择了甲大学后就觉得甲大学优于乙大学，符合要点，符合定义。故本题选D。

17. 【答案】D。解析：“新乡贤”的定义要点：①长期扎根农村；②利用自己的知识、技术、财富为村民热心服务并作出突出贡献；③具有较高威望和影响力。A项老李、B项小张、C项孙先生均没有长期扎根农村，不符合①，排除。D项程某在乡村小学当校长到退休表明其长期扎根农村，退休后为家乡文化事业作出贡献，具有一定威望和影响力，符合①②③，符合定义。故本题选D。

18. 【答案】A。解析：“技术标准”的定义要点：①对工农业产品和工程建设的质量、规格和检验方法等所作的技术规定；②从事生产、建设的依据。A项奶粉属于工农业产品，关于其质量标准的规定符合①②，符合定义。B项“评定卫生城市”不涉及“工农业产品和工程建设”，不符合①，排除。C项“关于缺陷产品召回的管理规定”针对的是产品上市后出现的问题，不是“从事生产、建设的依据”，不符合②，排除。D项“对冶金机械厂区设备烟尘排放量的检测标准”针对的不是“工农业产品和工程建设的质量、规格和检验方法”，不符合①，排除。故本题选A。

19. 【答案】A。解析：“比德”的定义要点是“将自然物的某些特征比附于人们的某种道德情操”。A项不涉及“道德情操”，不符合要点，没有包含“比德”自然审美观。B项用“岩竹的坚韧顽强”隐喻作者自己“藐视俗见的刚劲风骨”；C项用冬梅的“风知素韵，霜晓寒姿”表现少妇“生性淡泊、安分守己”的道德品质；D项用水的“周流无碍”比喻“知者”的道德情操，用山的“厚重不迁”比喻“仁者”的道德情操，均符合要点，排除。故本题选A。

20. 【答案】D。解析：“正强化”的定义要点是“通过增加一个喜欢的刺激以提高事件发生的概率”。A项未体现“增加一个喜欢的刺激”，不符合定义，排除。B项“可以不做假期作业”不是“增加一个喜欢的刺激”，而是减少一个不喜欢的刺激，不符合定义，排除。C项“手机一律没收”是增加一个不喜欢的刺激，不符合定义，排除。D项“承诺儿子如果他能考进全班前三名，就带他出国旅游”符合定义。故本题选D。

21. 【答案】C。解析：“寒暑”指冬天和夏天，和春秋组成一年（四个季节）；C项东西和南北组成四个方向。A项“孺”指幼儿，妇孺和老幼为交叉关系，排除。B项“荏苒”形容时间渐渐逝去，又指蹉跎，排除。D项干湿表示湿度，而不是温度，排除。故本题选C。

22. 【答案】D。解析：“休戚相关”和“唇齿相依”为近义关系，均形容关系密切；D项“鞭辟入里”和“入木三分”为近义关系，均形容分析透彻、深刻。A项二者为反义关系，排除。B项“苦心孤诣”指苦心钻研，到了别人所达不到的地步，也指为寻求解决问题的办法而煞费苦心，而“苦口婆心”比喻善意而又耐心地劝导，二者不是近义关系，排除。C项二者为反义关系，排除。故本题选D。

23. 【答案】A。解析：法盲指不懂法律的成年人，A项文盲指不识字的成年人。B项雪盲和D项夜盲均是一种视力障碍的表现，C项路盲指没有方向感或者方向感差的人，均排除。故本题选A。

24. 【答案】C。解析：调查是发言权的必要条件，C项损害是赔偿的必要条件。A、B、D项前者均不是后者的必要条件，排除。故本题选C。

25. 【答案】D。解析：刑法和民法均属于法律，二者为并列关系中的反对关系；D项红茶和绿茶均属于茶叶，二者为并列关系中的反对关系。A、B项三个词语之间均为并列关系，排除。C项男人和女人

为并列关系中的矛盾关系，排除。故本题选 D。

26. 【答案】C。解析：股东的职责是监管企业，C 项军队的职责是保卫国家。D 项公众的职责不是服务专家。故本题选 C。

27. 【答案】D。解析：先春耕，再秋收，后冬藏，三者是同一主体发出的，存在时间先后顺序。D 项先报名，再参赛，后夺冠，三者由同一主体发出，存在时间先后顺序，与题干逻辑关系一致，当选。A、B 项中的第二个词表彰、受罚都是作为客体接受而不是作为主体发出，均排除。C 项三个词语之间不存在时间先后顺序，排除。故本题选 D。

28. 【答案】A。解析：雾霾属于污染，“治理污染”为动宾结构；A 项风扇属于电器，“使用电器”为动宾结构。B 项粳米属于粮食，但调查与二者无明显联系，排除。C 项信息不属于报纸，排除。D 项报告和文件是交叉关系，有的报告（如口头报告）不是文件，排除。故本题选 A。

29. 【答案】C。解析：选项逐一代入。A 项，原始部落可能生活在热带丛林里，文明古国和先进科技无明显联系，排除。B 项，原始部落和边远小镇无明显联系，排除。C 项，茹毛饮血是原始部落的特征，先进科技是现代都市的特征，前后关系一致。D 项，钻木取火是原始部落的取火方式，宇宙航行需要先进科技支撑，前后关系不一致，排除。故本题选 C。

30. 【答案】A。解析：选项逐一代入。A 项，纸张是制作书籍的材料，布料是制作衣服的材料，前后关系一致。B 项，树木是制作纸张的材料，裤子属于衣服，前后关系不一致，排除。C 项宣纸是纸张的一种，衣服具有保暖功能，前后关系不一致，排除。D 项，笔墨和纸张为并列关系，服装是衣服鞋帽的总称，一般专指衣服，前后关系不一致，排除。故本题选 A。

31. 【答案】A。解析：参与测试的人无论具有何种文化背景，他们同样都有美化自己的动机。论据：志愿者们无论有什么样的文化背景，他们都倾向于用更多的正面的形容词来描述自己，认为一些较为负面的特征不适合自己的。A 项指出“东亚人习惯负面评价自己”，削弱论证。B 项无法说明志愿者是否都有美化自己的动机，不能削弱论证，排除。C 项“他们有着和西方人一样的自尊心”在一定程度上支持论证，排除。D 项“志愿者们的脑电波都很相似”并不能说明他们是否都有美化自己的动机，不能削弱论证，排除。故本题选 A。

32. 【答案】D。解析：题干观点：弓形虫感染有可能是导致包括“路怒症”在内的 IED 的罪魁祸首。论据：研究发现，IED 患者弓形虫检测呈阳性的比例是非 IED 组的两倍。A、B、C 项均补充说明弓形虫感染是冲动、攻击行为的诱因，支持观点，排除。D 项说明弓形虫是猫身上的一种寄生虫，但猫性格温顺，削弱观点。故本题选 D。

33. 【答案】D。解析：题干论点：扬子鳄对于人们研究古代爬行动物的兴衰具有重要意义。论据：在扬子鳄身上，至今还可以找到恐龙类爬行动物的许多特征。论点和论据之间无直接联系，需在“古代爬行动物兴衰”和“恐龙类爬行动物的特征”之间“搭桥”，D 项符合条件。故本题选 D。

34. 【答案】C。解析：题干论点：微生物组在地球生态系统和人类健康中的作用超乎想象，它不仅将极大地帮助人类克服当今所面临的生存挑战，还能提供人类未来生存之道。论据：微生物之间能够互相协作，使得它们在生态系统中更加稳定、更加有效发挥作用，并赋予微生物组具有超越单个微生物的更为强大的功能。A 项讲“国家微生物组计划”的研究目的，B 项讲生物农药和生物肥料的市场份额，属于无关项，排除。C 项说明微生物之间互相协作使它们在生态系统中更加稳定、更加有效发挥作用，支持论据，最能支持论点。D 项也属于无关项，排除。故本题选 C。

35. 【答案】C。解析：题干论点：茶皂素这种“天然产物”具抑制脂肪酶的能力，人们喝茶的确能产生减肥效果。论据：从第 5 周开始直至第 10 周实验结束时，喂高脂饮食的第二组老鼠的体重就比自由进食的第一组显著要高，但高脂饮食中添加了“茶皂素”的第三组和第一组相比却没有明显差异。A、B 项均支持论据，不能质疑论点，排除。C 项指出“按同样比例一般人一天至少需要饮用五公斤干茶叶”，而一般人不可能一天喝这么多茶，说明实验并不能推出人们喝茶能减肥，最能质疑论点。D 项质疑力度不及 C 项，排除。故本题选 C。

36. 【答案】A。解析：题干结论：爱美的女性必须每天都涂防晒霜。论据：紫外线穿透能力强，对

皮肤伤害性很大，即便在非夏季期间，经过长期累积也容易让皮肤受伤，产生黑色素沉淀等问题。A项直接否定每天涂防晒霜的必要性，最能削弱题干结论。B项使用防晒霜的正确方法、C项不同季节的紫外线强度和D项不同阳伞的遮阳效果，均与每天涂抹防晒霜的必要性无关，排除。故本题选A。

37. 【答案】C。解析：题干论点：我们身体的生物钟系统会受到许多因素的影响，其中之一就是光照。论据：光照可以有效欺骗大脑进入“白昼模式”，哪怕当时人的眼睛是闭着的也没关系，光照疗法可以帮助我们调整时差，在睡眠时经历过“闪光处理”的人出现困意的周期会延后两小时。题干讨论光照与生物钟系统之间的关系，A项讨论的是眼睛对光照的敏感，与题干话题不一致，无法加强论点，排除。题干讨论闪光处理可延后出现的困意，B项讨论的是闪光处理与人的睡眠质量之间的关系，与题干话题不一致，无法加强论点，排除。C项举例说明光照疗法可以帮助去时区早两小时城市的人调整时差，补充加强论据，最能支持题干观点。题干讨论光照与生物钟系统之间的关系，D项讨论的是自身调节时差消耗大量时间，与题干话题不一致，无法加强论点，排除。故本题选C。

38. 【答案】C。解析：题干信息可翻译为：①枫林湾下游有水电大坝→三文鱼无法到枫林湾繁殖；②三文鱼洄游到枫林湾→枫林湾岸边的树落光了叶子；③枫林湾聚集海雕和棕熊→三文鱼洄游到枫林湾。已知枫林湾出现了洄游的三文鱼，否定①的后件，可推出否定前件，即枫林湾下游没有水电大坝，排除A项。枫林湾出现了洄游的三文鱼又肯定②的前件，可推出肯定后件，即枫林湾岸边的树落光了叶子，C项正确。枫林湾出现了洄游的三文鱼还肯定③的后件，不能推出肯定前件，排除B项。D项海雕和棕熊以什么为食题干并未提及，排除D项。故本题选C。

39. 【答案】D。解析：由“有些新入职的员工拥有海外留学经历，该集团所有拥有海外留学经历的员工都被集团董事长单独接见过”可推出“有些新入职员工被董事长单独接见过”，由“所有甲省员工都没有被董事长单独接见过”可推出“所有被董事长单独接见过的都不是甲省员工”，由此可推出“有些新入职员工不是甲省员工”，D项正确。故本题选D。

40. 【答案】A。解析：由“丙和语文老师、物理老师一起回家”可知丙不教语文和物理，排除B、C项。由“英语老师、政治老师和甲一块打球”可知甲不教英语和政治，排除D项。故本题选A。

41. 【答案】A。解析：原数列后项减前项得到：-32、16、-8、4、(-2)，是公比为 $-\frac{1}{2}$ 的等比数列。因此原数列未知项为 $-2+20=18$ 。故本题选A。

42. 【答案】C。解析：原数列满足如下规律： $a_{n+2}=a_n \times a_{n+1}+3$ ($n \geq 1$)，即 $5=2 \times 1+3$ ， $8=1 \times 5+3$ ， $43=5 \times 8+3$ ， $347=8 \times 43+3$ 。因此原数列未知项为 $43 \times 347+3$ ，尾数为 $3 \times 7+3=24$ ，只有C项符合。故本题选C。

43. 【答案】A。解析：将原数列反约分得到： $\frac{2}{60}$ 、 $\frac{3}{60}$ 、 $\frac{5}{60}$ 、 $\frac{8}{60}$ 、 $\frac{13}{60}$ 、 $\frac{21}{60}$ 、 $\frac{34}{60}$ ，其中分子列：2、3、5、8、13、21、34、(55)，为和数列。因此原数列未知项为 $\frac{55}{60} = \frac{11}{12}$ 。故本题选A。

44. 【答案】D。解析：原数列满足如下规律： $a_{n+2}=2a_n+a_{n+1}$ ($n \geq 1$)，即 $1=2 \times (-1)+3$ ， $7=2 \times 3+1$ ， $9=2 \times 1+7$ ， $23=2 \times 7+9$ 。因此原数列未知项为 $2 \times 9+23=41$ 。故本题选D。

45. 【答案】D。解析：原数列满足如下规律： $a_n=a_{n-2} \times 2+a_{n-1}$ ($n \geq 3$)，即 $11=\frac{3}{2} \times 2+8$ ， $27=8 \times 2+11$ ， $49=11 \times 2+27$ 。因此原数列未知项为 $27 \times 2+49=103$ 。故本题选D。

46. 【答案】D。解析：题干满足如下规律：左上角数字+右上角数字=左下角数字÷右下角数字，即 $2+3=15 \div 3$ ， $4+2=12 \div 2$ ， $5+2=7 \div 1$ 。因此问号处数字为 $(3+4) \times 2=14$ 。故本题选D。

47. 【答案】D。解析：题干满足如下规律：左上角数字+左下角数字=右上角数字×右下角数字，即 $12+8=4 \times 5$ ， $5+3=4 \times 2$ ， $7+1=2 \times 4$ 。因此问号处数字为 $3 \times 3-3=6$ 。故本题选D。

48. 【答案】C。解析：题干规律为：左上角数字+右下角数字=右上角数字-左下角数字，即 $13+2=22-7$ ， $25+16=52-11$ ， $5+12=37-20$ 。因此问号处数字为 $14+8+17=39$ 。故本题选C。

49. 【答案】A。解析：题干满足如下规律：左上角数字-左下角数字=右上角数字-右下角数字。因此

问号处数字为 $4-0+(-7)=-3$ 。故本题选 A。

50. 【答案】B。解析：题干的规律为：右下角数字÷左上角数字=右上角数字+左下角数字。故问号处数字为 $[3+(-1)] \times (-13) = -26$ 。故本题选 B。

51. 【答案】A。解析：若先安排甲值班，分以下情况讨论：①1、3号甲值班，则乙、丙只有2种安排方式，即乙2、5号，丙4、6号和乙4、6号，丙2、5号；②1、4号甲值班，则乙、丙有4种安排方式，即2、3号乙、丙全排列，5、6号乙、丙全排列；③1、5号甲值班，则乙、丙有2种安排方式，即乙2、4号，丙3、6号和乙3、6号，丙2、4号；④1、6号甲值班，则乙、丙有2种安排方式，即乙2、4号，丙3、5号和乙3、5号，丙2、4号。同理可得先安排乙或丙的情况。综上，共有 $3 \times (2+4+2+2) = 30$ 种安排方式。故本题选 A。

52. 【答案】C。解析：平均每度电 0.55 元大于 0.45 元，则该用户家 6 月份用电大于 200 度。设该用户家 6 月份用电为 x 度，根据题意则有： $200 \times 0.45 + (x-200) \times 0.8 = x \times 0.55$ ，解得 $x=280$ 。故本题选 C。

53. 【答案】D。解析：设出生的月份为 a ，日期为 b ，根据题意可得 $29a+24b=900$ 。24 b 能被 12 整除，900 也能被 12 整除，则 $29a$ 也应能被 12 整除。29 不能被 12 整除，则 a 应为 12 的倍数， a 的取值范围为 1~12，则 a 为 12，即孩子出生在 12 月份，是第四季度。故本题选 D。

54. 【答案】C。解析：士兵原来人数为偶数个，调入 8 名后人数也应为偶数个，首先排除 D 项。调入前和调入后都只有一种排法，则调入前后总人数除 1 和本身之外，只有一种因数分解方式。A 项 104 因数分解为 $2 \times 2 \times 2 \times 13$ ，不止一种排法，排除。B 项 194 因数分解为 2×97 ，只有一种排法，调入前人数为 $194-8=186$ ，因数分解为 $2 \times 3 \times 31$ ，不止一种排法，排除。C 项 202 因数分解为 2×101 ，调入前人数为 $202-8=194$ ，因数分解为 2×97 ，均只有一种排法。故本题选 C。

55. 【答案】B。解析：设现在小狗的体重为 x 千克，则大狗体重为 $2x$ 千克。根据题意可知， $x+5=(2x+5) \times 60\%$ ，解得 $x=10$ 。因此若两只狗的体重均增加 10 千克，小狗、大狗的体重比将会是 $(10+10):(2 \times 10+10)=2:3$ 。故本题选 B。

56. 【答案】B。解析：方法一：设 2018 年儿子 x 岁，则妈妈 $(x+26)$ 岁，爸爸 $(x+33)$ 岁。1995 年一家三口的年龄之和为 62，则 2018 年三人的年龄之和为 $62+3 \times (2018-1995)=131$ ，即 $x+(x+26)+(x+33)=131$ ，解得 $x=24$ ，即 2018 年儿子 24 岁，妈妈 50 岁，爸爸 57 岁。故本题选 B。

方法二：根据年龄差不变，直接锁定 B 项。故本题选 B。

57. 【答案】B。解析：售价为 2000 元时，利润为 $2000 \times 25\%=500$ 元，则成本价为 $2000-500=1500$ 元。若重新定价，利润为新售价的 20%，则成本价为新售价的 $1-20\%=80\%$ 。因此新售价为 $1500 \div 80\%=1875$ 元。故本题选 B。

58. 【答案】C。解析：根据题意可知，放养 1000 只羊 30 天减少的青草量与放养 1300 只羊 12 天减少的青草量相同。根据牛吃草公式可知，草地每天新长的草量 $= (30 \times 1000 - 12 \times 1300) \div (30 - 12) = 800$ ，原有草量 $= (1000 - 800) \times 30 \div 10\% = 60000$ 。现有青草量比 3 月初少 $60000 \times (1 - 80\%) = 12000$ ，要使青草量在接下来的 4 个月内回到 3 月初的总量，则草地新长的草量要比被羊吃掉的草量多 12000。设牧场最多放养 n 只羊，则有 $12000 = (800 - n) \times (4 \times 30)$ ，解得 $n=700$ 。故本题选 C。

59. 【答案】C。解析：设参加 100 米和 200 米的人数为 x 人，参加 100 米和 400 米的人数为 y 人，参加 200 米和 400 米的人数为 z 人，则未参加比赛的人数为 $50 - (27+25+21) + (x+y+z) = (x+y+z-23)$ 人。要使未参加比赛的人数最多，则应使 $(x+y+z)$ 最大，即只参加一项比赛的人数最少，由 $(x+y) + (x+z) + (y+z) \leq 27+25+21$ ， $x+y+z \leq \frac{27+25+21}{2} = 36.5$ ，最大为 36 人。因此未参加比赛的人数最多为 $36-23=13$ 人。故本题选 C。

60. 【答案】C。解析：设乙公司的效率为 1，由“丙公司休息 3 天，乙公司就要多工作 6 天”可知，丙公司的效率为 $6 \times 1 \div 3 = 2$ 。同理，甲、乙公司合作的效率为 $3 \times 2 \div 1.5 = 4$ ，则甲公司的效率为 $4-1=3$ 。而该工程由甲、乙、丙三家公司共同完成需要 13 天，则工程总量为 $13 \times (1+2+3) = 78$ ，因此甲公司单独完成的天数为 $78 \div 3 = 26$ 天。故本题选 C。

61. 【答案】C。解析：设小孙先追小赵（不论先追谁，所用时间相同），且小赵、小钱、小孙速度分别为1、2、3。小孙追小赵时的追及距离为 $10 \times 1 = 10$ ，追及时间为 $10 \div (3-1) = 5$ 分钟。小孙追上小赵后立马回头追及小钱，此时追及距离为 $(10+5) \times 2 + 5 \times 3 = 45$ ，小孙追上小赵所需时间为 $45 \div (3-2) = 45$ 分钟。最后小孙回到乙地所需时间为 $(10+5+45) \times 2 \div 3 = 40$ 分钟。综上，小孙从乙地出发到把介绍信送到后返回乙地最少需要 $5+45+40=90$ 分钟。故本题选C。

62. 【答案】C。解析：只有甲产品生产需要原料C，则15份原料C最多可生产5件甲产品，若所有原料先生产乙产品，则最多可生产7件乙产品。分下列情况讨论：①若乙产品生产7件，共需要21份原料A、35份原料B，剩余19份原料A、3份原料B、15份原料C，最多可生产1件甲产品，此时利润为 $1.3 \times 7 + 1.1 \times 1 = 10.2$ 万元；②若乙产品生产6件，共需要18份原料A、30份原料B，剩余22份原料A、8份原料B、15份原料C，最多可生产4件甲产品，此时利润为 $1.3 \times 6 + 1.1 \times 4 = 12.2$ 万元；③若乙产品生产5件，共需要15份原料A、25份原料B，剩余25份原料A、13份原料B、15份原料C，最多可生产5件甲产品，此时利润为 $1.3 \times 5 + 1.1 \times 5 = 12$ 万元；④若乙产品生产少于5件，甲产品最多生产5件，此时利润将减少。因此最多可获得12.2万元利润。故本题选C。

63. 【答案】C。解析：将72千克苹果和136千克梨分别装箱，每箱水果重量相同，即两种水果每箱装入的水果重量相同，则每箱水果的重量必为72和136两者的约数。因此每箱水果的最大重量为8（72和136的最大公约数）千克。故本题选C。

64. 【答案】C。解析：生产了3000个零件，若未获得额外奖励，则合格品+优良品=3000，合格品+2×优良品=4000，解得优良品为1000个，超过生产总数3000个的30%，因此该工人获得了额外奖励，则优良品至少为 $3000 \times 30\% = 900$ 个。要使合格品最多，则应使优良品最少，为900个。900个优良品可获得 $900 \times 2 = 1800$ 元，加上额外奖励的400元，则加工另外 $3000 - 900 = 2100$ 个零件可获得 $4000 - 1800 - 400 = 1800$ 元。合格品每件1元，瑕疵品不得工资，则加工的合格品最多为 $1800 \div 1 = 1800$ 个。故本题选C。

65. 【答案】B。解析：两位爸爸坐首尾两个座位，有 A_2^2 种方法；两个小孩必须排在一起，则从剩下的4个座位中选择两个连在一起的座位安排小孩，有 $3 \times A_2^2$ 种方法；最后剩下的两个座位安排妈妈，有 A_2^2 种方法。因此这6人的排座方法有 $A_2^2 \times 3 \times A_2^2 \times A_2^2 = 24$ 种。故本题选B。

66. 【答案】C。解析：1982年《宪法》第11条第一款规定，在法律规定范围内的城乡劳动者个体经济，是社会主义公有制经济的补充。《宪法修正案（1988年）》第1条规定，宪法第11条增加规定：“国家允许私营经济在法律规定的范围内存在和发展。私营经济是社会主义公有制经济的补充。国家保护私营经济的合法的权利和利益，对私营经济实行引导、监督和管理。”根据《宪法修正案（1999年）》第16条的规定，宪法第11条修改为“在法律规定范围内的个体经济、私营经济等非公有制经济，是社会主义市场经济的重要组成部分。国家保护个体经济、私营经济的合法的权利和利益。国家对个体经济、私营经济实行引导、监督和管理。”根据《宪法修正案（2004年）》第21条的规定，宪法第11条第二款修改为：“国家保护个体经济、私营经济等非公有制经济的合法的权利和利益。国家鼓励、支持和引导非公有制经济的发展，并对非公有制经济依法实行监督和管理。”因此，正确的顺序是④①③②。故本题选C。

67. 【答案】D。解析：《消费者权益保护法》第7条第一款规定，消费者在购买、使用商品和接受服务时享有人身、财产安全不受损害的权利。A项正确。该法第9条第二款规定，消费者有权自主选择提供商品或者服务的经营者，自主选择商品品种或者服务方式，自主决定购买或者不购买任何一种商品、接受或者不接受任何一项服务。B项正确。该法第27条规定，经营者不得对消费者进行侮辱、诽谤，不得搜查消费者的身体及其携带的物品，不得侵犯消费者的人身自由。C项正确。根据该法第24条的规定，没有国家规定和当事人约定的，消费者可以自收到商品之日起七日内退，D项“一个月后”不符合规定。

故本题选 D。

68. 【答案】B。解析：A 项正确，汽油标号是指实际汽油抗爆性与标准汽油抗爆性的比值。标号越高，抗爆性能就越强。B 项错误，并不是标号越高越好，要根据发动机压缩比合理选择汽油标号。C 项正确，汽油属于有机物，因此根据相似相溶原理，汽油可以溶解油污。D 项正确，汽油的密度比水小，用水灭火时，汽油会漂浮在水面上，随着水的流动而流动，从而扩大火势。故本题选 B。

69. 【答案】C。解析：中国共产党第十九届中央委员会第二次全体会议于 2018 年 1 月 18 日至 19 日在北京召开，全会审议通过了《中共中央关于修改宪法部分内容的建议》。因此会议的主要议程是讨论修改宪法部分内容的建议。故本题选 C。

70. 【答案】D。解析：①出自刘禹锡的《西塞山怀古》，描述的是三国末期西晋与东吴的战争；②出自杜甫的《闻官军收河南河北》，描述的是唐代的安史之乱；③出自杜甫的《咏怀古迹五首（其三）》，描述的是西汉时期的昭君出塞；④出自杜牧的《题乌江亭》，描述的是楚汉之争。因此，按照历史的先后顺序排列，应该是楚汉之争、西汉、三国、唐代，即④③①②。故本题选 D。

71. 【答案】B。解析：A 项错误，魏源编写的《海国图志》是中国近代史上第一部较为详实系统的历史地理著作。B 项正确，1859 年太平天国干王洪仁玕提出的《资政新篇》是一份改革内政和建设国家的新方案，具有鲜明的资本主义色彩，是发展资本主义的近代化纲领，但由于农民阶级自身的局限性以及没有付诸实施的客观环境和条件，对太平天国革命的发展未产生显著作用。C 项错误，1853 年颁布的《天朝田亩制度》是太平天国的建国纲领，突出反映了农民要求废除封建土地所有制的强烈愿望，是几千年来农民反封建斗争的思想结晶。D 项错误，1912 年颁布的《中华民国临时约法》是中国第一部资产阶级成文宪法，确立了资产阶级共和国的国家政治制度和政权的组织形式，以及人民的民主权利。故本题选 B。

72. 【答案】A。解析：绝密公文是最重要的国家秘密，泄露会使国家的安全和利益遭受特别严重的损害。机密公文是重要的国家秘密，泄露会使国家的安全和利益遭受严重的损害。秘密公文是一般的国家秘密，泄露会使国家的安全和利益遭受损害。故本题选 A。

73. 【答案】D。解析：D 项说法错误，《清明上河图》出自北宋画家张择端，描绘了北宋时期都城东京（今河南开封）的城市面貌和当时社会各阶层人民的生活状况，与清明时节的景象无关。故本题选 D。

74. 【答案】A。解析：号外原意是定期出版的报刊，在前一期已出版，下一期尚未出版的一段时间内，对发生的重大新闻和特殊事件，为迅速及时地向读者报道而临时编印的报刊，因不列入原有的编号，故而得名，A 项正确。《图片报》是德国的，《太阳报》是英国的，B 项错误。报纸按照出刊时间可分为日报、早（晨）报、晚报，按照侧重内容可分为教育报、军事报、学生报、学术报、财经报、农业报、旅游报等，C 项错误。报纸相邻两个版面中间的空隙叫作“中缝”，一般刊载知识性小文章、电视节目、电影广告、启事等，D 项错误。故本题选 A。

75. 【答案】D。解析：超声波是一种频率高于 20000 赫兹的声波，人类耳朵能听到的声波频率为 20~20000 赫兹。因此，这个大于普通声波的参数是频率。故本题选 D。

76. 【答案】C。解析：A 项说法正确，2016 年 8 月 16 日，我国在酒泉卫星发射中心用“长征二号丁”运载火箭成功将世界首颗量子科学实验卫星“墨子号”发射升空，在世界上首次实现卫星和地面之间的量子通信。B 项说法正确，2016 年 7 月 23 日，全球最大的水陆两栖飞机“蛟龙-600”（AG600）完成总装下线，与“C919”大型喷气式客机、“运-20”大型运输机并称中国大飞机“三剑客”。C 项说法错误，2016 年 1 月 10 日，我国自主研发的 4500 米级无缆遥控水下机器人“潜龙二号”，在西南印度洋成功下潜至 1600 米指定位置，首次获得了这个区域的精细海底地貌图。D 项说法正确，2017 年 11 月 13 日，全球超级计算机 500 强榜单公布，我国超级计算机“神威·太湖之光”以每秒 9.3 亿亿次的浮点运算速度第四次夺冠。故本题选 C。

77. 【答案】D。解析：D 项错误，心房与心室之间、心室与动脉之间，均有能开闭的瓣膜，这些瓣膜只能向一个方向开。房室瓣只朝向心室开，动脉瓣只朝向动脉开，保证了血液只能按一定的方向流动，即血液只能从“心房”流向“心室”，从“心室”流向“动脉”，而不能倒流。A、B、C

项均正确。故本题选 D。

78. 【答案】A。解析：海水稻是在海边滩涂等盐碱地生长的特殊水稻。2016 年秋姜会龙在宁波鹤浦镇试种的海水稻最高亩产 600 公斤，最低的是 500 公斤，2017 年秋袁隆平主持的青岛市海水稻研究工程的海水稻最高亩产近 621 公斤，A 项“较低的产量”表述错误。由于是海水灌溉，海水稻在盐碱地的土壤没有重金属残留，基本没有普通稻田的病虫害，所以生长种植环境有机安全。在营养价值方面，其所含微量元素较高，同时口味会更好。海水稻不需施肥、抗病虫、耐盐碱的独特生长特性，对资源节约的绿色农业生产大有裨益。B、C、D 三项表述均正确。故本题选 A。

79. 【答案】C。解析：A 项中民政局将扶老助残服务交由社会组织提供，社会组织属于社会力量；B 项中交管局借市民的力量处理公共事务，市民的力量属于社会力量；D 项中公安局借助居委会的力量成立治安巡逻小分队，居委会属于社会力量，均符合该转变。C 项中环保部门只是联合政府内部的各个部门整治污染，并未借助社会力量共同处理公共事务，当选。故本题选 C。

80. 【答案】B。解析：我国规定采用青岛验潮站的长期观测资料推算出的黄海平均海面作为全国统一高程基准面，即我国海拔高度以黄海海面为零点，A 项说法错误。“千岛之国”指拥有上千个大大小小的岛屿的国家，包括中国、挪威、印度尼西亚、马尔代夫、菲律宾等国，B 项说法正确。港口按照用途可分为商港、渔港、工业港、军港、避风港，按照港口所在地理位置可分为海港、河港、湖港和水库港，C 项说法错误。印度半岛又称“南亚次大陆”，是世界第二大半岛，世界上面积最大的半岛是阿拉伯半岛，D 项说法错误。故本题选 B。

81. 【答案】D。解析：A 项正确。B 项正确，现代铁人三项包括天然水域游泳、公路自行车和公路长跑。C 项正确，从 1952 年起，女骑师被允许参加奥运会的马车比赛，马术也成为奥运会中唯一一个男女同场竞技的比赛项目。D 项错误，田径运动被誉为“运动之母”，因为田径中的走、跑、跳、投是运动的基础。故本题选 D。

82. 【答案】D。解析：D 项错误，电影院里，人能在不同的座位上看到银幕上的画面，这是因为光在银幕上形成了漫反射（指光线被粗糙表面无规则地向各个方向反射的现象）。故本题选 D。

83. 【答案】D。解析：A 项说法错误，股票的风险大于公司债券的投资风险。B 项说法错误，理财产品的预期收益率，是指投资者购买理财产品持有并到期之后，预期可以实现的投资收益率。预期收益率不等于实际到期收益率。C 项说法错误，《中国人民银行残缺污损人民币兑换办法》第 3 条规定，凡办理人民币存取款业务的金融机构应无偿为公众兑换残缺、污损人民币，不得拒绝兑换。D 项说法正确，《最高人民法院关于审理民间借贷案件适用法律若干问题的规定》第 25 条第一款规定，借贷双方没有约定利息，出借人主张支付借期内利息的，人民法院不予支持。故本题选 D。

84. 【答案】A。解析：速写是用简练的线条在短时间内扼要地画出人和物体的动态或静态形象，属于素描中的一种。工笔是国画的一种画法，用笔工整，注重细部的描绘。写意俗称“粗笔”，与“工笔”相对，指通过简练放纵的笔致着重表现描绘对象的意态风神的画法。留白是国画中常用来表现画面中需要的水、云雾、风等景象，这种技法比直接用颜色来渲染表达更含蓄内敛。本题是户外写生，用速写最恰当。故本题选 A。

85. 【答案】B。解析：A、D 项错误，勒索软件是一种流行的木马，通过骚扰、恐吓甚至采用绑架用户文件等方式，使用户数据资产或计算资源无法正常使用，并以此为条件向用户勒索钱财。一般勒索病毒，运行流程复杂，且针对关键数据以加密函数的方式进行隐藏，是一种复杂的网络攻击方式。B 项正确，C 项错误，内部网络安全漏洞比较多，容易从内部发起攻击，并且内网的资产和数据价值更大，被攻击后影响更为严重，所以加强内网自主操作系统建设是防范勒索病毒的重要途径。故本题选 B。

86. 【答案】A。解析：先看第一空，根据前文可知民法基本原则是“根本原则”，具有广泛的指导意义，“具体”不符合语境，排除 D 项。“普适”用于此处搭配不当，通常表述为“具有普适性”，排除 B 项。再看第二空，主语是“法律部门”，“调整”更恰当，表现出法律的整顿规范作用，且“调整对象”是法律方面的习惯用语，排除 C 项。故本题选 A。

87. 【答案】A。解析：直接看第一空，根据文意可知，“明修栈道，暗度陈仓”和“一骑红尘妃子

笑”都与一条条秦岭古道有着密切的关系，“交相辉映”指各种光亮、色彩等互相映照，不符合语义，排除B项。“休戚与共”（形容关系密切，利害相同）和“相伴相生”词义过重，排除C、D项。验证A项，“密不可分”形容十分紧密，不可分割，“演绎”有展现、表现之意，均符合语义。故本题选A。

88. 【答案】B。解析：文段讲由于种种原因，有些动物不仅面临的危险未被重视，连它们的名字和样子都没什么人知道。B项“鲜为人知”指很少有人知道，最符合语义。A项“默默无闻”指没有什么名声，C项“无人问津”比喻没有人来探问、尝试或购买，D项“一无所知”指什么也不知道，三者均无法搭配“名字和样子”。故本题选B。

89. 【答案】D。解析：先看第一空，文段讲绘画写实技巧高超，“目无全牛”形容人的技艺高超，得心应手，已经到达非常纯熟的地步，搭配的是“人”，不符合文意，排除B项。再看第二空，文段讲绘画和自然景物已经没有一点差别，“不谋而同”指事先没有商量过，意见或行动却完全一致，“不分轩轾”比喻对待二者态度或看法差不多，均不能形同绘画的高度逼真，排除A、C项。故本题选D。

90. 【答案】D。解析：先看第一空，后文说宫墙内的文物修复师却要用几年的时间摩挲同一件文物，与宫墙外的世界构成转折，可知宫墙外的世界不断变化。“熙熙攘攘”形容人来人往，不符合文意，排除B项。再看第二空，根据后文“拼接完整”，可知钟表的上千个零件也应能连接完整，“严丝合缝”指缝隙严密闭合，符合文意。“金瓯无缺”比喻国土完整，明显错误，排除A项。“精挑细选”不符合语境，排除C项。故本题选D。

91. 【答案】D。解析：直接看第一空，根据后文“可见两者之间亲缘很近”，可知“天差地别”与文意相悖，排除A项。“别无二致”指二者区分不出差别，不符合实际，排除B项。“以假乱真”指用假的东西去冒充或混杂真的东西，此处并没有所谓“假的东西”，排除C项。验证第二空，“名副其实”指名声或名义和实际相符，符合语义。故本题选D。

92. 【答案】A。解析：先看第一空，从前文可知欧亚高速运输走廊的工程规模及价值与苏伊士运河是相当的，“媲美”比喻美好的程度可以相比，“争雄”指争强、争胜，二者均不符合语义，排除B、C项。再看第二空，“源源不断”与前文“迅速”矛盾，排除D项。故本题选A。

93. 【答案】C。解析：先看第二空，“淹没”指被水浸没，“湮灭”指完全消失不见，均不符合语义，排除A、B项。再看第一空，“不可胜数”指数量多到不可计算，过于夸张，不符合实际，排除D项。验证C项，“数以百计”指数量众多，“吞噬”形容整个被吞下消失，均符合语义。故本题选C。

94. 【答案】D。解析：先看第一空，根据后文可知，针对过度治疗问题，该方案可以使得医疗机构、医务人员得到非过度的补偿，“合法”“公正”不符合，排除A、B项。再看第二空，“一劳永逸”指辛苦一次，把事情办好，以后就可以不再费力了，不符合现实，排除C项。故本题选D。

95. 【答案】B。解析：辨析四个成语的意思：“南辕北辙”比喻行动和目的正好相反。“缘木求鱼”比喻方向或办法不对，不可能达到目的，而原文中中国的数秘术属于自发的的发展，起初就没有一个明确的目的，排除A、C项。“背道而驰”比喻向完全相反的方向发展，中国数秘术和算术只是发展的路径不同，并不是完全相反，排除D项。“分道扬镳”比喻各走各的路，符合文意。故本题选B。

96. 【答案】C。解析：先看第二空，文段讲环保干部一面抓环保，一面保“乌纱帽”，无法专注于工作，“无忧无虑”明显错误，“四平八稳”形容说话、做事、写文章稳当，不符合文意，排除B、D项。再看第一空，前文指出人们认为抓环保当然是环保部门一家的事，在这样的观念下环保部门难免力不从心，C项“独木难支”比喻一个人的力量难以支撑全局，符合语义。故本题选C。

97. 【答案】B。解析：文段讲19世纪的历史学家仅满足于记述琐碎的历史现象，而不去思考“人类社会为什么会进步”，由此可知巴克尔认为这些历史学家“不思进取”。“一叶障目”指看不到事物的全貌，“不务正业”指丢下本职工作不做，去搞其他的事情，二者均不符语义，排除A、C项。“舍本逐末”比喻不抓根本环节，而只在枝节问题上下功夫，文段没有明确历史学家应该关注的“根本问题”，而只是讲他们不探究人类社会为什么会进步，排除D项。故本题选B。

98. 【答案】C。解析：先看第一空，“抵触”侧重于表现反感厌恶的情绪，“抵制”词义过重，排除B、D项。再看第二空，“集聚”“汇聚”都有聚集的意思，但后者更侧重于从四面八方不断融汇成一体

意思，更符合文意，排除 A 项。故本题选 C。

99. 【答案】D。解析：先看第二空，文段讲中车株洲所的技术可与世界顶尖的公司相比，“比肩”指居同等地位，主语通常为人，“比拼”形容对抗、较量，均不符合文意，排除 A、C 项。再看第一空，文段讲能制造大功率 IGBT 芯片的国家非常少，“所剩无几”明显错误，排除 B 项。故本题选 D。

100. 【答案】C。解析：第一空根据“应该以职业导演打底”可知，国产电影市场是需要职业导演的，则先排除 A 项。再根据职业导演和非职业导演的分工可知，职业导演起打底作用，非职业导演“锦上添花”，“锦上添花”比喻好上加好，美上添美。B 项“精益求精”通常修饰“态度”，D 项明显错误。故本题选 C。

101. 【答案】A。解析：先看第一空，所填词语形容宋代科学技术的发展状态，“无与伦比”（指事物非常完美，没有能跟它相比的）和“无出其右”（指没有能超过他的）不符合语义，排除 C、D 项。再看第二空，“恩赐”和“恩惠”都能形容给予某人好处和帮助，而“恩赐”敬意更深，更符合文意，排除 B 项。故本题选 A。

102. 【答案】C。解析：先看第一空，文段讲明星的天价片酬受到公众的质疑，可知需填入的词要表达批判的含义，“揶揄”指嘲笑，“审视”指仔细看，无法表现批判的意思，排除 B、D 项。再看第二空，文段讲天价片酬以及由此带来的奢华生活让公众感到厌恶，“不齿”形容极端鄙视，语义过重，排除 A 项。故本题选 C。

103. 【答案】B。解析：通读 5 个句子，文段主要讲述了玛雅和中国两种代表性的古代文明，先看④⑤，⑤讲中国人善于用文字记载历史，④具体讲述了中国的古人用什么工具记录，则④应紧接着⑤，排除 A 项。再比较②③，②讲古代文明，③讲古代文明中的玛雅文明，相比而言，②更适合做首句，排除 C、D 项。验证 B 项，符合语句逻辑关系。故本题选 B。

104. 【答案】C。解析：观察选项，可先确定首句。③讲技术是文化生产的组成部分，⑥运用古今例证阐明了艺术的制作传播离不开技术的支持，则⑥应为对③的具体阐释，③为段首句，且③⑥捆绑，锁定 C 项。验证 C 项，④⑤举例论证了技术虽然是文化传播的一部分，但并未扮演其主角，而②①则揭示了上述现象从电影诞生后开始了转变，整体符合语句逻辑关系。故本题选 C。

105. 【答案】B。解析：通读 6 个句子，③⑥中都将中国和美国进行了比较，则③⑥紧密衔接，锁定 B 项。验证 B 项，符合语句逻辑关系。故本题选 B。

106. 【答案】A。解析：文段讲干扰致偏是对抗精确制导武器打击的一种有效手段，接着分析精确制导武器的巨大威胁来源于其能够直击要害，而干扰致偏则是给来袭导弹戴上“磨砂镜”，让其看不清、瞄不准，使制导机构沿着错误的方向偏离目标。可见，“干扰致偏”具有迷惑精确制导武器方向的作用，A 项正确。B、D 项明显错误，C 项“伪装防护技术”只是文段的例子。故本题选 A。

107. 【答案】C。解析：文段讲少年儿童对声音非常敏感，能够通过“听”来记住古诗文，一位著名的美学家和一位语言学家在回忆自己儿时学习经历时都有这样的体会。可见文段意在说明听觉在背诵诗文中的重要作用，C 项正确。A 项偏离文段重点——听觉的重要性，B 项文段无从体现。D 项过度延伸，文段未说明随意的听比刻意的念效果好。故本题选 C。

108. 【答案】A。解析：文段提到了近几个世纪中推动工业革命的新技术，并指出 21 世纪智能手机无法同蒸汽机、汽车相提并论，因为前者没能带来新的动力和产业的巨变，对经济的实际影响也没有想象中大，这种现状预示的不单是金融危机，也是产业危机和创新危机。因此，文段作者想表达的是对于目前技术缺乏真正创新，无法引起产业巨变的批评，A 项表述正确。B 项错误，文段的着眼点并非“提振经济”，而是立足于对产业自身的影响。C 项错误，文段通过讲新技术革命与传统技术革命作对比，是为了引出目前技术产业缺乏真正创新的现状。D 项错误，文段并未论述“创新性危机”同“金融危机”之间的因果联系。故本题选 A。

109. 【答案】D。解析：文段讲由于某些局限性，古今中外的环境中，科学都未能与文学一样流行，最后一句指出让科学流行起来的对策，知道对策即可让科学也流行起来，D 项正确。A 项“生命力”无中生有，排除。B 项仅为文段表述的现状，且“永远”表述过于绝对，排除。C 项与文意相悖，排除。

故本题选 D。

110. 【答案】C。解析：横线位于文段末尾，具有总结前文的性质。前文讲进行骨髓移植的前提条件是有配型成功的捐赠者，但是从跟踪数据显示，兄弟姐妹之间、父母与子女之间的配型成功率都非常低，因此必须依赖不认识的志愿者配型。言外之意，志愿者的样本数量直接决定骨髓配型的成功几率，C 项衔接最恰当。A 项没有衔接“志愿者”这一主体进行论述，B 项“冒着风险使用不完美的配型”和 D 项“国家相关政策”文段均没有体现。故本题选 C。

111. 【答案】B。解析：文段首先讲发呆与思绪相对应，接着通过阐述发呆与思绪的具体行为引出问题，即思绪太多会失去与真实世界的联系，因此需要适时关掉思绪，也就是要适时发发呆，B 项是文段意在强调的内容。A 项“思绪是胡思乱想”文段无从体现；C、D 项仅涉及“发呆”，概括不全面。故本题选 B。

112. 【答案】D。解析：文段首先讲发展服务业要避免产业空心化，接着转折指出认为现代服务业快速发展就一定导致产业空心化的看法是不对且危险的，这种看法会导致错过快速发展现代服务业的重要窗口期。由此可知，文段主要强调不应顾虑产业空心化而错失发展服务业的良机，D 项正确。A 项“不可能”表述过于绝对，排除；B 项，文段并未评估“发展现代服务业的利与弊”，排除；C 项偏离论述重点“发展服务业”，且“取决于制造业盛衰情况”无中生有，排除。故本题选 D。

113. 【答案】A。解析：文段围绕“城乡规划编制”展开论述，即城乡规划的编制不仅要遵循相关标准，还要统筹好与相关部门、领域的关系，同时也要加强对规划区域的深入研究，形成具有地域特色的规划蓝图。由此可知，文段着重强调要提高城乡规划编制的科学化水平。B、D 项均偏离“城乡规划编制”这一论述主体，C 项只是其中的一个方面。故本题选 A。

114. 【答案】B。解析：文段讲绿叶蔬菜中的硝酸盐一部分被吸收后会逐渐缓慢转变成微量的亚硝酸盐，而亚硝酸盐有扩张血管的作用。如果只是为扩张血管，只要吃绿叶蔬菜就行，完全用不着吃剩菜，因为一次性大量摄入亚硝酸盐对身体是有害的。可见，作者是针对“吃剩菜可以扩张血管”这个观点进行反驳，认为如果需要亚硝酸盐扩张血管，完全用不着吃剩菜，只要吃绿叶蔬菜就行，因为硝酸盐摄入后在体内缓慢转变成亚硝酸盐才能发挥有益作用。故本题选 B。

115. 【答案】D。解析：文段为总一分结构，首句讲农业可能不是人们向往的一种生活方式，而是人类在人口与环境之间关系逐渐失衡时的一种妥协，后文则通过发展养殖业来论证农业生产是人类的无奈之选，D 项正确。A、B 项均是断章取义，C 项养殖业只是文段的例证。故本题选 D。

116. 【答案】C。解析：文段主要讲了民国初年的文学革命为整个文学界提供了新的研究典范，这种西方化的思维和术语体系用于讨论中国文学，便会导致某些用“新典范”无法解释的地方被斥为中国文学及文学评论自身的毛病。因此，文段意在说明用这种西方的“新典范”来评判中国文学并非绝对合理，也存在一定问题，C 项表述正确。A 项仅为交代文段的背景思潮，排除。B 项仅为文段的举例，排除。D 项无中生有，文段并未提到民国初年中国文学作品的特点，排除。故本题选 C。

117. 【答案】C。解析：文段末句讲“深化食品行业供给侧结构性改革的关键在于构建一套先进的食品行业标准”。那么，下文的论述内容必然与“构建食品行业标准”有关，先排除 A、D 项。B 项“国外构建食品行业标准”文段没有提及，无法衔接，排除。故本题选 C。

118. 【答案】D。解析：文段讲新工业革命的影响使得我国要素低成本优势加速弱化，发达国家先发优势愈发明显，在这个紧要的时刻，我国必须赶超，发展技术、升级产业，向全球价值链高端攀升。D 项正确，讲新工业革命对我国制造业发起挑战，符合文段主旨。A 项错误，“后发劣势”文段未提及；B 项错误，发达国家的“先发优势”并非文段主要内容；C 项错误，“我国制造业存在的问题”说法过于笼统，且非文段主旨项。故本题选 D。

119. 【答案】C。解析：A 项可以推出，由“若执行零残留标准，人类将面临更严重的食物短缺风险”“是人类追求社会总体福利最大化而必须承受的副产品”可得知。B 项可以推出，由“这背后是一种社会总成本与总收益的权衡”可得知。C 项无法推出，文段讲若执行零残留标准，人类将面临更严重的食物短缺，但并不是说，农作物中残存一定农药对解决食品短缺有益，属于无中生有。D 项可以推出，由

“这……是人类追求社会总体福利最大化而必须承受的副产品”可得知。故本题选 C。

120. 【答案】B。解析：文段从快递企业拓展无人机送货的例子入手，引入无人机技术应用以来事故频发的问题，强调对无人机的监管落实如果不到位，极可能产生不堪设想的后果，对此应该采取切实有效的措施。显然，文段的落脚点是对策，先排除 A、C 项。D 项未能切入到“监管”层面，排除。故本题选 B。

121. 【答案】A。解析：根据材料第二段可知，2016 年末全国共有艺术表演团体 12301 个，比上年末增加 1514 个，则 2015 年末，全国拥有艺术表演团体的数量为 $12301 - 1514 = 10787$ 个。故本题选 A。

122. 【答案】C。解析：根据材料第三段可知，2016 年全国艺术表演团体共演出 230.60 万场，比上年增长 9.4%，其中赴农村演出 151.60 万场，增长 9.0%。因此 2015 年全国艺术表演团体演出场次中，赴农村演出占比为 $\frac{151.6}{1+9\%} \div \frac{230.6}{1+9.4\%} \times 100\% = \frac{151.6}{230.6} \times \frac{1+9.4\%}{1+9\%} \times 100\% \approx 65.97\%$ 。故本题选 C。

123. 【答案】B。解析：根据材料可知，与 2015 年相比，2016 年国家艺术基金获立项资助项目增长 32.7%，国有美术馆数量增长 $\frac{44}{462-44} \times 100\% \approx 10.5\%$ ，艺术表演场馆艺术演出场次增加 39.5%，即均为小幅增长，是否持续增长未知。故本题选 B。

124. 【答案】A。解析：根据材料可知，2016 年，全国艺术表演团体演出平均场次观众为 $\frac{11.81 \times 10^4}{230.6} > 500$ 人次/场，全国艺术表演团体赴农村演出平均场次观众为 $\frac{6.21 \times 10^4}{151.6} < 500$ 人次/场，全国艺术表演场馆馆内艺术演出平均场次观众为 $\frac{3098}{19.09} < 200$ 人次/场，全国各级文化部门所属艺术表演场馆艺术演出平均场次观众为 $\frac{2589}{6.81} < 400$ 人次/场。因此平均场次观众最多的是全国艺术表演团体演出。故本题选 A。

125. 【答案】C。解析：根据材料第二段可知，2016 年全国艺术表演团体平均从业人员数为 $\frac{33.27 \times 10^4}{12301}$ 人，各级文化部门所属艺术表演团体从业人员平均数为 $\frac{11.52 \times 10^4}{2031}$ 人，前者与后者的比为 $\frac{33.27 \times 10^4}{12301} : \frac{11.52 \times 10^4}{2031} = \frac{33.27}{11.52} \times \frac{2031}{12301} \approx 3 \times \frac{2}{12} = 1:2$ 。故本题选 C。

126. 【答案】D。解析：根据表格可知，2015 年该校男博士比率为 10.0%，则男博士有 $2500 \times (1 - 46\%) \times 10\% = 135$ 人。故本题选 D。

127. 【答案】D。解析：根据表格可知，2015 年男博士比率为 10%，女博士比率为 8%，根据混合增长率的相关规律，该高校总体博士比率应在 8% 与 10% 之间，但不能确定具体数值。故本题选 D。

128. 【答案】C。解析：根据表格可知，2011 年男、女博士比率相差 $9.0\% - 7.5\% = 1.5\%$ ，2012 年相差 $8.8\% - 7.0\% = 1.8\%$ ，2013 年相差 $8.5\% - 7.6\% = 0.9\%$ ，2014 年相差 $9.0\% - 7.6\% = 1.4\%$ 。因此男、女博士比率最接近的是 2013 年。故本题选 C。

129. 【答案】C。解析：根据表格比较可知，2011~2015 年女博士比率相比上一年有所增加的有 2011 年、2013 年、2015 年，共 3 年。故本题选 C。

130. 【答案】D。解析：A 项正确，根据表格可知，男博士比率下降的有 2012 年和 2013 年。B 项正确，根据表格可知，女博士比率下降的只有 2012 年。C 项正确，根据表格可知，2017 年男博士比率和女博士比率增加最快。D 项错误，男博士比率和女博士比率同时下降的是 2012 年。故本题选 D。

131. 【答案】C。解析：根据文字材料第一段和第二段可知，2015 年中国机场旅客吞吐量为 91477 万人次，北京、上海和广州三大城市占全部机场旅客吞吐量的 27.3%，则 2015 年北京、上海和广州三大城市机场旅客吞吐量为 $91477 \times 27.3\% \approx 91500 \times 27\% = 24705$ 万人次，C 项与之最接近。故本题选 C。

132. 【答案】B。解析：根据文字材料第二段可知，2014年，旅客吞吐量100万人次以上的中国机场有 $70-6=64$ 个，旅客吞吐量1000万人次以上的有 $26-2=24$ 个，则旅客吞吐量100万人次以上而不超过1000万人次的有 $64-24=40$ 个。故本题选B。

133. 【答案】C。解析：根据柱形图可知，2015年中国机场国际航线旅客吞吐量为8582万人次，2013年为6345万人次，则2014~2015年中国机场国际航线旅客吞吐量年平均增速为 $\sqrt{\frac{8582}{6345}}-1$ 。若2016~

2017年保持该增速，则2017年中国机场国际航线旅客吞吐量将是 $8582 \times (\sqrt{\frac{8582}{6345}}-1+1)^2 = 8582 \times \frac{8582}{6345}$

$\approx \frac{8600 \times 8600}{6400} \approx 11556$ 万人次，C项与之最接近。故本题选C。

134. 【答案】D。解析：根据文字材料第三段可知，2014年中国华北地区机场旅客吞吐量占比为 $15.8\%+0.5\%=16.3\%$ ，华东地区为 $29.0\%-0.2\%=28.8\%$ ，中南地区为 $23.7\%+0.6\%=24.3\%$ ，西南地区为 $16.8\%-0.6\%=16.2\%$ ，则位于前三位的地区依次是华东地区、中南地区、华北地区。故本题选D。

135. 【答案】D。解析：根据文字材料第三段可知，2015年中国西北地区机场旅客吞吐量占比为5.9%，华北地区为15.8%，前者大于后者的三分之一（5.27%），A项说法错误。根据文字材料第一段可知，2015年国内航线旅客吞吐量增长9.0%，中国机场旅客吞吐量增长10.0%，部分增长率小于整体增长率，则部分占比同比下降，B项说法错误。根据柱形图可知，“十二五”时期后四年，中国机场国内航线旅客吞吐量年均增长量为 $\frac{82895-57117}{4} = \frac{25778}{4} = 6444.5$ 万人次，国际航线为 $\frac{8582-4937}{4} = \frac{3645}{4} = 911.25$ 万人次，前者大于后者，C项说法错误。根据材料第二段可知，2015年，旅客吞吐量100万人次以上而不超过1000万人次的机场旅客吞吐量总和占中国机场旅客吞吐量的比重为 $95.5\%-77.9\%=17.6\%$ ，D项说法正确。故本题选D。

136. 【答案】D。解析：根据文字材料第二段可知，2015年2季度，J省城乡消费者就业满意指数分别为99.3、104.2，环比分别下降6.1、3.3个百分点；城乡家庭收入满意指数分别为100.4、98.1，环比分别下降9.6、3.1个百分点。因此2015年1季度，城镇就业满意指数为 $99.3+6.1=105.4$ ，农村就业满意指数为 $104.2+3.3=107.5$ ，城镇家庭收入满意指数为 $100.4+9.6=110$ ，农村家庭收入满意指数为 $98.1+3.1=101.2$ 。数值最低的是农村家庭收入满意指数。故本题选D。

137. 【答案】B。解析：根据文字材料最后一段可知，Z省2015年2季度农村消费者信心指数是108.7，环比下降3.4个百分点，则Z省2015年1季度农村消费者信心指数为 $108.7+3.4=112.1$ 。故本题选B。

138. 【答案】B。解析：根据折线图可知，Z省2015年1季度消费者信心指数为 $Z_1=112.4$ ，2季度为 $Z_2=110.2$ 。根据文字材料第一段可知，J省2015年1季度消费者信心指数为 $J_1=101.1+4.6=105.7$ ，2季度为 $J_2=101.1$ 。因此从大到小排序为 $Z_1 > Z_2 > J_1 > J_2$ 。故本题选B。

139. 【答案】C。解析：观察折线图比较可知，Z省消费者满意指数下降最快的时间段是2015年1季度。故本题选C。

140. 【答案】D。解析：根据文字材料第四段可知，Z省2015年2季度城镇消费者信心指数环比下降1.4个百分点，农村消费者信心指数环比下降3.4个百分点，前者数值小于后者，A项错误。材料未给出J省2014年3、4季度消费者信心指数数值，无法比较变化趋势，B项错误。根据文字材料和折线图可知，2015年2季度，J省消费者预期指数（ICS）为103.8，Z省为111.8，二者相差 $111.8-103.8=8 < 10$ ，C项错误。根据折线图可知，2014年4季度Z省消费者信心指数最高且环比增速最快，D项正确。故本题选D。