

展鸿公务员录用考试笔试试卷  
《行政职业能力测验》模拟卷 007

第一部分 常识判断

根据题目要求，在四个选项中选出一个最恰当的答案。

1. 习近平新时代中国特色社会主义思想回答的时代课题是（ ）。
  - A. 什么是社会主义，怎么建设社会主义
  - B. 建设什么样的党，怎么建设党
  - C. 坚持什么样的发展，怎么发展
  - D. 新时代坚持和发展什么样的中国特色社会主义，怎样坚持和发展中国特色社会主义
2. 我国今后三年要重点抓好的攻坚战不包括（ ）。
  - A. 高质量增长
  - B. 防范化解重大风险
  - C. 精准脱贫
  - D. 污染防治
3. 十九届三中全会提出深化机构改革，以下关于深化党和国家机构改革的目标表述错误的是（ ）。
  - A. 构建系统完备、科学规范、运行高效的党和国家机构职能体系
  - B. 形成总揽全局、协调各方的党的政府治理体系
  - C. 形成中国特色、世界一流的武装力量体系
  - D. 形成联系广泛、服务群众的群团工作体系
4. 媒体报道，南京、成都、石家庄相继发生奶农把鲜奶倒入下水道事件，曾经作为资本主义文明标志的“倒奶事件”在我国出现，以下说法错误的是（ ）。
  - A. 价值规律是商品经济的基本规律，它通过市场机制自发地起作用，不以人的意志为转移
  - B. 资本主义国家存在经济危机，社会主义国家也同样存在
  - C. 市场调节具有盲目性和滞后性，导致了资源的浪费
  - D. 政府有必要对市场进行适度的干预
5. 习近平多次在公开讲话中引用了很多富含哲理的古语名句，给人启迪。下列古诗句所对应的哲学寓意理解正确的是（ ）。
  - ①天下难事，必作于易，天下大事，必作于细——抓住时机，促成质变
  - ②明者因时而变，知者随事而制——事物是变化发展的
  - ③履不必同，期于适足；治不必同，期于利民——矛盾具有特殊性
  - ④伤其十指，不如断其一指——看问题要分清主流和支流
  - A. ①③
  - B. ②③
  - C. ①④
  - D. ③④

6. “中央一号文件”指出，力争到 2017 年最迟到 2022 年，从根本上扭转水利建设明显滞后的局面。目前，我国每年水利投资已超过 2000 亿元，未来 10 年的水利投资将达到 4 万亿元，为经济社会发展提供基础支撑。这表明（ ）。

- ①宏观调控的主要目标是促进经济增长      ②市场难以解决公共物品的供给问题  
③宏观调控能弥补市场的弊端              ④财政具有促进资源合理配置的作用  
A. ②③    B. ②④    C. ①④    D. ③④

7. 通货膨胀一般指因货币供给大于货币实际需求而引起的一段时间内物价持续而普遍上涨的现象，通货膨胀的实质是（ ）。

- A. 社会总需求大于社会总供给    B. 物价很快地上涨，使货币失去价值  
C. 货币供给量大于需求量    D. 社会总需求小于社会总供给

8. 最早提出“小康社会”这一概念的是（ ）。

- A. 毛泽东    B. 周恩来    C. 邓小平    D. 江泽民

9. 精准扶贫战略机遇的发展理念是（ ）。

- A. 创新    B. 协调    C. 共享    D. 绿色

10. 投资和消费增加意味着（ ）。

- A. 国民收入减少    B. 国民经济中财富量减少  
C. 国民经济总产出水平增加    D. 国民经济总产出水平不变

11. 以疏解北京（ ）功能为“牛鼻子”推动京津冀协同发展。

- A. 首都    B. 非首都    C. 中心    D. 副中心

12. 国务院批准设立的第一个自由贸易试验区是（ ）。

- A. 天津    B. 广东    C. 浙江    D. 上海

13. 近一年来，我国多个一、二线城市密集推出包括优惠落户，现金补贴在内的各种引才政策。甚至出现全国在校大学生仅凭学生证、身份证即可落户的现象，对此种现象理解不正确的是（ ）。

- A. 我国经济社会发展已经进入以人才为引领的创新驱动阶段  
B. 源源不断的青年人才流入是城市房地产持续发展的关键  
C. 吸引人才之后还要用制度留住人才  
D. 人才是驱动创新的第一资源，创新驱动实质是人才驱动

14. 宪法规定，社会主义的（ ）神圣不可侵犯。

- A. 全民所有制经济      B. 公共财产    C. 集体所有制经济      D. 私有财产

15. “王子犯法，与庶民同罪”，体现了法的（ ）。

- A. 普遍性    B. 强制性    C. 国家意志性    D. 规范性

16. 《中华人民共和国\_\_\_\_\_法》将于 2018 年 1 月 1 日起执行，依照该法规定征收\_\_\_\_\_，不再征收排污费。（ ）

- A. 环境消费税    B. 绿色保护税    C. 绿色消费税    D. 环境保护税

17. 下列属于营利法人的是（ ）。

- A. 事业单位    B. 社会服务机构    C. 有限责任公司    D. 基金会

18. 《道德经》有云：“强者愈强，弱者愈弱”。这句话体现了管理学的哪一基本效应？（ ）
- A. 蝴蝶效应                      B. 鲶鱼效应                      C. 南风法则                      D. 马太效应
19. 以毛泽东为代表的中国共产党人开始探索中国自己的社会主义建设道路的标志是（ ）。
- A. 1985年1月召开的最高国务会议                      B. 《论十大关系》的发表
- C. 中共八大的召开                      D. 《关于正确处理人民内部矛盾的问题》的发表
20. 公文写作是（ ）。
- A. 为领导立言                      B. 为群众立言                      C. 为社会立言                      D. 为机关立言
21. 下列国家跟我国不属于陆上邻国的是（ ）。
- A. 朝鲜                      B. 蒙古                      C. 日本                      D. 印度
22. 下列中国古代作家中属于“唐宋八大家”的是（ ）。
- A. 李白                      B. 王维                      C. 杜甫                      D. 柳宗元
23. “路漫漫其修远兮，吾将上下而求索”是（ ）的名言。
- A. 孔子                      B. 陆游                      C. 老子                      D. 屈原
24. 我国古代不同时期的统治者为了加强思想控制采取了不同的措施，下列连线正确的是（ ）。
- A. 商朝——百家争鸣，百花齐放                      B. 汉朝——焚书坑儒
- C. 明朝——罢黜百家，独尊儒术                      D. 清朝——文字狱
25. 高速行驶的汽车突然刹车，坐在汽车里的人会向前倾，下列与之类似的现象是（ ）。
- A. 使劲摔皮球，皮球会反弹
- B. 快速跑步时，急停使手中书本掉前面
- C. 利用救生圈，人可以很快轻松浮在水面上
- D. 当充满气的气球口子被揭开时，气球会飞走
26. 被称为“中国不败而败”的战争是（ ）。
- A. 中法战争                      B. 中日甲午战争                      C. 鸦片战争                      D. 第二次鸦片战争
27. 下列选项中属于习近平 2018 年新年贺词的一项是（ ）。
- A. 生活总是充满希望的，成功总是属于积极进取、不懈追求的人们
- B. 不驰于空想，不骛于虚声
- C. 新故相推，日生不滞
- D. 撸起袖子加油干
28. 白居易《长恨歌》中有言：在天愿作比翼鸟，在地愿为连理枝。天长地久有时尽，此恨绵绵无绝期。写的是（ ）的爱情故事。
- A. 杜丽娘和柳梦梅                      B. 崔莺莺和张生                      C. 李香君和侯方域                      D. 杨贵妃和唐玄宗
29. 下列诗句描写泰山的是（ ）。
- A. 会当凌绝顶，一览众山小                      B. 横看成岭侧成峰，远近高低各不同
- C. 两岸青山相对出，孤帆一片日边来                      D. 终日看山不厌山，买山终待老山间
30. 下列文字与出处对应错误的是（ ）。
- A. 问今是何世，乃不知有汉，无论魏晋——《桃花源记》

- B. 山不在高，有仙则名——《陋室铭》
- C. 晋陶渊明独爱菊——《爱莲说》
- D. 大道之行也，天下为公——《论语》
31. 当红、橙、黄、绿、青、蓝、紫七种光汇聚一点时，该点是（ ）。
- A. 黄色                      B. 绿色                      C. 红色                      D. 白色
32. 习近平总书记在建军 90 周年阅兵式上指出，“我们的人民军队是听党指挥的英雄军队”。历史上确立党对军队的指挥的事件是（ ）。
- A. 遵义会议                      B. 三湾改编                      C. 洛川会议                      D. 南昌起义
33. 港珠澳大桥是连接香港、珠海、澳门的超大型跨海通道，全长 55 公里，是世界长度（ ）的跨海大桥。
- A. 第一                      B. 第二                      C. 第三                      D. 第四
34. 诗句“暖风熏得游人醉，直把杭州作汴州”中的“汴州”指的是今天的（ ）。
- A. 西安                      B. 开封                      C. 南京                      D. 北京
35. （ ）是我国目前唯一实现“走出去”自主三代核电技术，核电是一个综合性工程，不仅考量核电站本身的建设能力，也会带动相关设备制造业的提升。
- A. 乌东德                      B. 白鹤滩                      C. 华龙一号                      D. 溪洛渡
36. 三江并流不包括（ ）。
- A. 怒江                      B. 澜沧江                      C. 金沙江                      D. 长江
37. 下列关于“言”的说法对应正确的是（ ）。
- A. 临走留下的话——语言                      B. 虚假不实的话——谎言
- C. 抱怨别人的话——格言                      D. 挑拨离间的话——戏言
38. 京沪高铁使用的（ ）动车组，实现 350 公里时速运营，是世界商业运营速度最高的高铁动车组。
- A. “复兴号”                      B. “和谐号”                      C. “振兴号”                      D. “富强号”
39. 火烧赤壁之前，周瑜和（ ）使用了苦肉计。
- A. 阚泽                      B. 庞统                      C. 黄盖                      D. 许攸
40. 下列不属于洋务运动的主要内容的是（ ）。
- A. 创办了近代军事，民用工业                      B. 创建近代海军和训练新式海军
- C. 颁布《资政新篇》，提倡资本主义                      D. 兴办近代学校和派遣留学生

## 第二部分 言语理解与表达

这一部分包括表达与理解两方面的内容，请根据题目要求，在四个选项中选出一个最恰当的选项。

41. 艺术品价格近年来像坐上直升飞机般勇攀新高，令寻常百姓\_\_\_\_\_，然而通过团购这一“走量”的全新交易方式，其高昂的价格竟也有了商量的余地。

填入文中最恰当的词语是（ ）。

- A. 望其项背                  B. 望尘莫及                  C. 爱莫能助                  D. 无计可施

42. 世界文明的进程，不会仅仅是从口传文化到印刷文化，再到电子媒介文化的更替，也不仅仅是科技的不断进步和生活水平的提高，更主要的是民族之间的界限的模糊和民族文化的交汇，其中也包括民族的\_\_\_\_\_，人种的杂交而带来的民族血统的交融。甚至在古代，强势民族对弱小民族实行的战争吞并，从客观上也起到了民族文化\_\_\_\_\_的作用，只不过这是一种非人道的野蛮的文化侵略罢了。

填入文中最恰当的一组词语是（ ）。

- A. 迁移 融合                  B. 迁移 交流                  C. 迁徙 交流                  D. 迁徙 融合

43. 下列句子没有语病的一项是（ ）。

- A. 随着阿里巴巴在美国成功上市，坐实了这个最大的互联网神话，也点燃了更多创业者的想象  
B. 教育部下发通知，鼓励高校毕业生进行创业，允许在校生休学创业，可能将在中国掀起一股创业潮  
C. 此次突击限购令汽车经销商和购车市民猝不及防，被戏称为“史上最强限购”  
D. 对违章养狗又不按期自行处理者，社区将组织人力立即捕杀，并处以罚款

44. 西南某高校校长日前在接受记者采访时透露，为预防研究生学位论文抄袭，学校下一步将考虑\_\_\_\_\_“反剽窃”软件。据悉，该校已经在网上发布软件研制招标广告公告和相关\_\_\_\_\_。

填入文中最恰当的一组词语是（ ）。

- A. 起用 启事                  B. 起用 启示                  C. 启用 启事                  D. 启用 启示

45. (1) 十年前，他是远近闻名的“二流子”，整天游手好闲。可如今他竟\_\_\_\_\_，不仅有不错的工作，还是邻居们公认的好丈夫、好父亲。

(2) 发现问题是前提，解决问题是关键。因此，我们都要拿出刮骨疗毒、\_\_\_\_\_的决心和勇气来“洗洗澡”，不能流于形式走过场，更不能敷衍塞责，蒙混过关。

(3) 他当年本想从商，但由于社会动荡，便\_\_\_\_\_做了军人。

下列选项中填入横线处的成语，最恰当的一项是（ ）。

- A. 脱胎换骨 改弦易辙 洗心革面                  B. 改弦易辙 脱胎换骨 洗心革面  
C. 洗心革面 改弦易辙 脱胎换骨                  D. 洗心革面 脱胎换骨 改弦易辙

46. 下列四句话中，容易引起歧义的是（ ）。

- A. 这是一门男生愿意学习的课程                  B. 我已经和你哥哥说定了，周末我们一起走  
C. 那是一个大家乐于接受的方案                  D. 老师告诉一位同学叫张明到办公室

47. 《孙子兵法》早就告诉我们，知己知彼方能百战不殆。在寻找长寿攻略之前，我们先来说说“衰老”。衰老是生物随着时间的推移，自发的必然过程。它是复杂的自然现象，表现为结构和机能衰退，适应性和抵抗力减退。衰老是细胞的正常的生理过程，从卵子受精的那一刻起，这个过程就已经开动，并且——可能让大多数人，尤其是爱美之人失望的是——\_\_\_\_\_。它如同时间一般，无可逆转，无法挽回。

填入横线处最恰当的一项是（ ）。

- A. 这个过程是不可控制的
- B. 目前还没发现延缓衰老的有效方法
- C. 这个过程是自然界的必然规律，我们对此束手无策
- D. 这个过程是不可逆的

48. 下面几句话按顺序排列，正确的一项是（ ）。

- ①好比水道要经过不同的两岸，树木要经过常变的四时。
- ②世界、国家和个人的生命中的云翳没有比今天再多的了。
- ③生命中不是永远快乐，也不是永远痛苦，快乐和痛苦是相生相成的。
- ④快乐固然兴奋，苦痛又何尝不美丽？
- ⑤我曾读到一个警句，是“愿你生命中有够多的云翳，来造成一个美丽的黄昏”。
- ⑥在快乐中我们要感谢生命，在痛苦中我们也要感谢生命。

- A. ③①⑥⑤④②      B. ③①⑥④⑤②      C. ③①⑥②④⑤      D. ③①⑥④②⑤

49. 这便是黄州赤壁。赭红色的陡峭石坡直逼着浩荡东去的大江，坡上有险道可以攀登俯瞰，江面有小船可供荡桨仰望，地方不大，但一俯一仰之间就有了气势，有了伟大与渺小的比照，有了视觉空间的变异和倒错，因此也就有了游观和冥思的价值。客观景物只提供—种审美可能，而不同的游人才使这种可能获得不同程度的实现。苏东坡以自己的精神力量给黄州的自然景物注入了意味，而正是这种意味，使无生命的自然形式变成美。因此不妨说，苏东坡不仅是黄州自然美的发现者，而且也是黄州自然美的确定者和构建者。

文中“伟大与渺小”各指什么？（ ）

- A. “伟大”是指黄州赤壁，“渺小”是指江面小船
- B. “伟大”是指苏东坡，“渺小”是指游客
- C. “伟大”是指自然的生命，“渺小”是指自己的精神力量
- D. “伟大”是指长江的气势，“渺小”是指在巨大的长江面前的人

50. 过度依赖房地产拉动的城市扩容，破坏了城市自身的微循环，甚至出现“空心化”的趋势。在政策和市场的合力之下，老城区原住民被挤出，老城商业形态、生活样态均遭到强力干预，而新的形态又未能及时生长起来。在这种情况下，丧失了丰富性的城市，也就只剩下了表面的、虚浮的繁荣。

文段中“这种情况”指代的是（ ）。

- A. 过度依赖房地产拉动的城市扩容
- B. 政策和市场的合力
- C. 城市的新老形态对接不及时
- D. 老城区生活形态遭到严重干预



51. 渔人在捕鱼，一只鸟飞来，叼走了一条鱼。有无数只乌鸦看见了，便去追逐这只叼着鱼的鸟。这只鸟不论飞东飞西，满天的乌鸦就是穷追不舍。它无处可逃，只能疲惫地飞行，心神涣散时鱼就从嘴里掉了下来，那群乌鸦就朝着鱼落下的方向继续追逐。这只鸟如释重负，栖息在树枝上，内心反倒平静了下来，没有了恐惧烦恼。

最适合这段文字的标题是（ ）。

- A. 徒劳无功                      B. 坚韧不拔                      C. 损人害己                      D. 以舍为得

52. 大学的研究固然应该为经济发展做出重要的贡献，大学教育也应该帮助学生从事有益并令人满意的工作。然而对于一种最好的教育来说，还存在着无法用美元或人民币衡量的更重要的方面。它不仅应有助我们在专业领域内更具创造性，还应该使我们变得更善于深思熟虑，更有追求的理想和洞察力，成为更完美、更成功的人。

对“最好的教育”的理解，最恰当的一项是（ ）。

- A. 培养更具创造性，更善于思考，更有理想和洞察力的更完美的人  
B. 培养大批能搞发明创造，为经济发展作贡献的人  
C. 既要为经济发展作贡献，更要注重对人的全面培养  
D. 能适应有众多领域的世界，兼容不同的观点和看法，为推动全球科学技术的发展作贡献

53. 体育竞技掺入越来越多的经济利益，会驱使一些人走向极端。虽然目前运动员的自然能力仍占主导，但是如果有一天科技手段足以超越自然赋予的力量，运动员在日常不需要严格训练，而是通过仪器、手术来增强体质，这与驾驶着摩托车去参加百米竞赛是否还有本质区别？这不仅是抛给体育界的问题，也将成为科学的两难。

“这不仅是抛给体育界的问题”中的“这”指的是（ ）。

- A. 通过仪器、手术来增强体质                      B. 科技手段的作用超过运动员的自然能力  
C. 让运动员的自然能力占据主导地位                      D. 体育竞技在经济利益驱使下走向极端

54. 作为一种新的城市发展理念，海绵城市突破传统“以排为主”的雨水管理模式，运用“低影响开发”理念整合城市雨洪资源，建立新的城市发展模式，实现资源与环境协调发展。广义讲，海绵城市指山、水、林、田、湖、城这一生命共同体具有良好的生态技能，可实现城市的自然循环、平衡和有序发展；狭义讲，海绵城市指对雨水径流总量、峰值流量和径流污染进行控制的管理系统。

下列说法与上述语段文意不符的是（ ）。

- A. 海绵城市理念对城市发展具有重要意义  
B. 海绵城市从根本上考虑雨水的管控问题  
C. 海绵城市注重城市发展过程中的资源整合  
D. 海绵城市理念突破了传统的雨水管理模式

55. 散步不要刻意求快，还要玩，还要赏。天空有大雁飞过，身边花团锦簇、蜂蝶翩跹，也浑然不顾快步如飞、勇往直前吗？俯仰皆情趣，万不可不屑一顾也。散步不要非得规定走多远，完不成指标不罢休；不要给人感觉好像翻山越岭抢占高地，要不徐不疾，不快不慢，漫不经心，洒脱冲淡。

这段文字主要说明散步（ ）。

- A. 贵在散心    B. 是健身的有效方式





- A. 中国历史上曾经出现过四大盛世
- B. 中国历史上出现的盛世与法制的健全是分不开的
- C. 盛世需要法治，法治促成盛世，这是一条必然规律，我们应当借鉴历史的经验以法治国
- D. 少数民族统治者在入主中原以后总会受到很大程度的汉化

### 第三部分 数量关系

在这部分试题中，每道题呈现一段表述数字关系的文字，要求你选择正确的选项填入答题卡。

61. 0, 4, 18, ( ), 100  
A. 38                      B. 48                      C. 50                      D. 58
62. 0.1, 3.1, 10.1, 25.1, ( )  
A. 46.1                    B. 50.1                    C. 54.1                    D. 56.1
63.  $9+99+999+9999+99999=$  ( )  
A. 111105                B. 111115                C. 111205                D. 121105
64. 在减法中，被减数、减数、差相加的和，除以被减数，所得的商是多少？ ( )  
A. 0                        B. 1                        C. 2                        D. 3
65. 某单位利用业余时间举行了 3 次义务劳动，总计有 112 人次参加。在参加义务劳动的人中，只参加 1 次、参加 2 次和 3 次全部参加的人数之比为 5:4:1。问该单位共有多少人参加了义务劳动？ ( )  
A. 70                        B. 60                        C. 50                        D. 55
66. 从 A 市到 B 市的航班每周一、二、三、五各发一班，某年 2 月最后一天是星期三，问当年从 A 市到 B 市的最后一次航班是星期几出发的？ ( )  
A. 星期一                B. 星期二                C. 星期三                D. 星期五
67. 某件刺绣产品，需要效率相当的三名绣工 8 天才能完成；绣品完成 50% 时，一人有事提前离开，绣品由剩下的两人继续完成；绣品完成 75% 时，又有一人离开，绣品由最后剩下的那个人做完。那么，完成该件绣品一共用了 ( ) 天。  
A. 10                        B. 11                        C. 12                        D. 13
68. 古诗中，律诗是八句诗。有一诗选集，其中五言律诗比七言律诗多 13 首，总字数却反而少了 40 个字。问五言律诗、七言律诗各多少首？ ( )  
A. 42, 29                B. 45, 32                C. 48, 35                D. 50, 37
69. 两个边长分别为 43、57 的正方形，其面积之和与第三个正方形相等。问这个正方形的边长约为多少？ ( )  
A. 57                        B. 65                        C. 71                        D. 75
70. 书店以 10 元一本的价格进了一批书，售价为每本 15 元，一个月之后发现由于售价太高，仍有 50 本没有售出，故决定打八折进行销售，又过了一个月后，对销售情况进行统计，发现已售出 70 本，

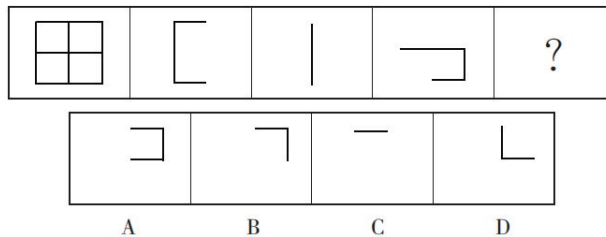
书店决定对剩余的书按照成本价进行处理，最终共获利 230 元。书店共进了（ ）本书。

- A. 70                      B. 80                      C. 90                      D. 100

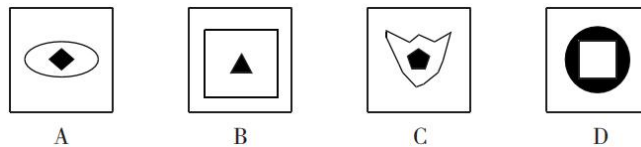
### 第四部分 判断推理

一、图形推理：从所给的四个选项中，选择最合适的一个填入括号处，使之呈现一定的规律性。

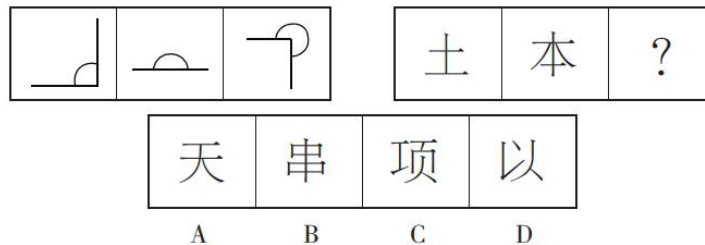
71. 从所给的四个选项中，选择最合适的一个填入问号处，使之呈现一定的规律性。（ ）



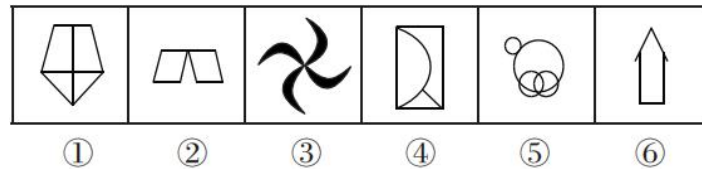
72. 从四个图形选项中选出与众不同的一项。（ ）



73. 从所给的四个选项中，选择最合适的一个填在问号处，使之呈现一定的规律性。（ ）

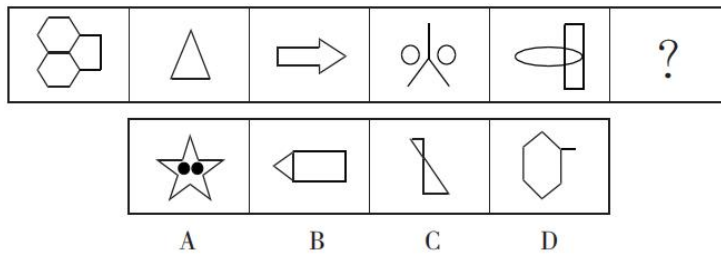


74. 把下面的六个图形分为两类，使每一类都有各自的共同特征或规律，分类正确的一项是（ ）。



- A. ①③④, ②⑤⑥                      B. ①④⑤, ②③⑥  
C. ①②⑥, ③④⑤                      D. ①②⑤, ③④⑥

75. 从所给的四个选项中，选择最合适的一个填入问号内，使之呈现一定的规律性。（ ）



二、定义判断：每道题先给出定义，然后列出四种情况，要求你严格根据定义，从中选出一个最符合或最不符合该定义的答案。注意：假设这个定义是正确的，不容置疑的。

76. 定义：

- (1) 感觉是人们的感官对多种不同能量的觉察，并转换成神经冲动。
- (2) 知识就是对客体的如实区别或联系。
- (3) 推理是运用一定的法则从已有知识得出新知识的思维活动。

典型例证：

- (1) 竹竿浸入水中被水折成两段，出水后竹竿又恢复原状。
- (2) 竹竿在水中并未被折断，而是由于光线的折射使人产生了错觉。
- (3) 竹竿浸入水中被水折成两段，这是客观不同的缘故。

上述典型行为与定义存在对应关系的数目有（ ）。

- A. 0 个                      B. 1 个                      C. 2 个                      D. 3 个

77. 反向求索法指在思维过程中，从相反的思维方向去分析、探索，反其道而行之，从事物相反或相对的功能去发明创造。

下列属于反向求索法的是（ ）。

- A. 将一件事情分工给几个人同时干，这就是并行计算机的设计思想，这样设计的并行计算机计算速度成倍提高
- B. 将一件事情让几个人联合干，如保险柜管理就是让两个人同时控制，从而“保险性”大大加强
- C. 在白色电冰箱充斥市场时，某著名企业推出彩色电冰箱，结果以色彩新异而受市场欢迎，很快打入国际市场
- D. 报警的关键是说清楚事发位置，有时延误出警是因突发事件位置不明，深圳在全市 10 万个路灯电线杆上喷涂报警编码，确保了 110 出警能精确定位

78. 选择性曲解是指人们面对客观事物，经常会不自觉地把自己固有的价值体系和既定的情感好恶来解释所接受信息的倾向。

根据上述定义，下列属于选择性曲解的是（ ）。

- A. 爱屋及乌                      B. 指鹿为马                      C. 按图索骥                      D. 度日如年

79. 正式沟通是指在组织系统内，依据一定的组织原则所进行的信息传递与交流。例如组织与组织之间的公函来往，组织内部的文件传达、召开会议、上下级之间的定期的情报交换等。另外，团体所组

织的参观访问、技术交流、市场调查等也在此列。

下面属于正式沟通渠道的是（ ）。

- A. 小道消息                      B. 朋友聚会                      C. 食堂的午餐                      D. 员工会议

80. 延伸产品是指顾客购买产品时，附带获得的各种利益的总和，包括产品说明书、保证、安装、维修、送货、技术培训等。

根据上述定义，下列涉及延伸产品的是（ ）。

- A. 某电器经销商承诺，顾客购买本店任何电器，都能享受九折优惠  
B. 某品牌服饰店进行促销活动，购买本店服饰满 300 元减 100 元  
C. 某游戏公司在推出一款游戏后，又及时推出了升级版以满足用户需求  
D. 某汽车经销商为吸引顾客，承诺本店售出的汽车可享受三年质保

**三、类比推理：每道题先给出一组相关的词，要求你在备选答案中找出一组与之在逻辑关系上最为贴近、相似或匹配的词。**

81. 唱歌：行为（ ）

- A. 黑人：妇女                      B. 跳舞：欣赏  
C. 篮球：运动                      D. 游泳：运动

82. 谜团：破解：清楚（ ）

- A. 混乱：武力：和平                      B. 模糊：解释：客观  
C. 矛盾：调和：融洽                      D. 气氛：制造：努力

83. 英国：美国：亚洲（ ）

- A. 中国：埃及：大洋洲                      B. 日本：韩国：欧洲  
C. 南非：法国：非洲                      D. 德国：巴西：南美洲

84. 巧克力：爱情（ ）

- A. 糖果：甜蜜                      B. 寒冷：风雪  
C. 咖啡：苦味                      D. 流水：坚固

85. 无为而治：济世经邦（ ）

- A. 义无反顾：自强不息                      B. 花开富贵：龙凤呈祥  
C. 和而不同：优胜劣汰                      D. 博晓今古：学贯中西

**四、逻辑判断：每道题给出一段陈述，这段陈述被假设是正确的，不容置疑的，要求你根据这段陈述，选择一个答案。注意：正确的答案应与所给的陈述相符合，不需要任何附加说明即可从陈述中直接推出。**

86. 某研究员认为，人类语言最初直接来源于鸟类和灵长类。因为如果重新审视现代人类语言，我们可以看到人类的相互交流是如何从鸟类和其他灵长类古老的交流模式系统演化而来的。他宣称，从鸟类身上，我们获得了语言的旋律部分；从其他灵长类身上，我们获得了语言的实用性内容部分。在过去

10 万年里的某个时候，这些能力最终演化成我们今天所知的人类语言。

上述结论还需基于以下哪一前提？（ ）

- A. 人类的交流与其他动物的交流之间的相似度比我们一般认为的要多
- B. 人类语言包含两个不同层面：与句子可变结构相关的表达层面以及表达句子核心内容的词汇层面
- C. 人类语言的交流在过去和现在变化不大
- D. 鸟类和除人类以外的其他哺乳动物有自己的交流语言

87. 某镇组织部姚科长在接受当地记者的采访时说：“近年来刚进入机关的干部对下基层锻炼的兴趣普遍比以前强多了。我镇的机关干部对于下基层的报名十分踊跃，这在几年前几乎是不可思议的。”

姚科长的结论基于以下哪项假设？（ ）

- A. 机关干部下基层锻炼，对当地的发展也起到推动的作用
- B. 对待下基层的态度是衡量是否有下基层兴趣的重要标准
- C. 近年来进入该镇的干部较前几年的比起来有较高的综合素质
- D. 该镇机关干部对下基层锻炼产生兴趣，是由于基层待遇提高

88. 日常生活中，有些人在服药时为图省事，将药片放在口中后，不喝水或仅喝一口水，再用力一咽，就算是服完药了。有些人认为，这种服药方式是不可取的。

以下哪项如果为真，最能支持这些人的观点？（ ）

- A. 服药时增加饮水量会降低药物的浓度
- B. 服药时大量饮水，可加快药物通过咽、食管进入胃的速度
- C. 有些药物，由于代谢产物深解度低，容易在泌尿道中析出，引起其他症状，因此病人在服药期间每天至少要饮水 1500 毫升
- D. 服药时饮水过少会使药片滞留在食管中时间较长，甚至产生副作用

89. 美国国内存在严重的种族歧视，白人处于上层地位，看不起有色人种。黑人在受教育或工作等方面都受到歧视对待，他们不断举行游行示威活动以争取平等的社会地位。

由以上可知（ ）。

- A. 美国是一个等级制度森严的国家
- B. 美国国内存在严重的人权问题
- C. 黑人是一个崇尚暴力的群体
- D. 黑色人种在世界上的地位比较卑微

90. 甲、乙、丙、丁四人一起买彩票，并预测。

甲说：“如果我中了，那么乙也会中。”

乙说：“如果我中了，那么丙也会中。”

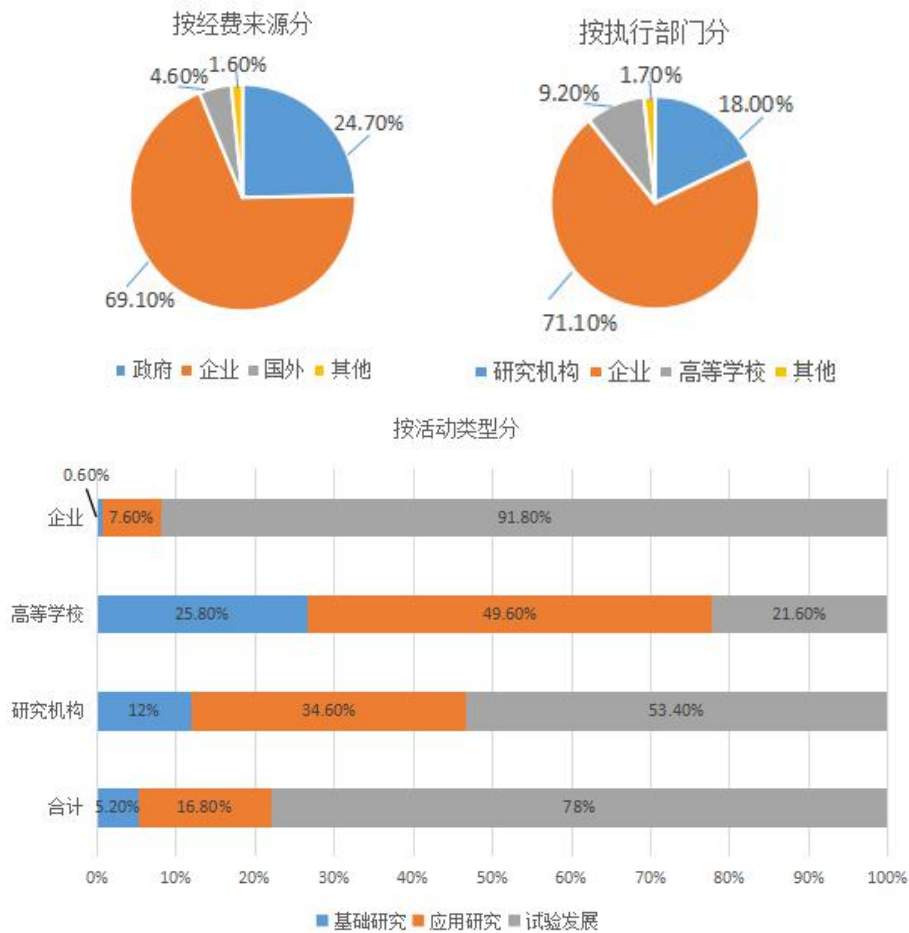
丙说：“如果我中了，那么丁也会中。”

假设他们都没有说错，但是只有两个人中了，那么中奖的是（ ）。

- A. 甲、丙
- B. 丙、丁
- C. 乙、丁
- D. 甲、乙

## 第五部分 资料分析

一、根据下面的图表，回答91~96题。



注：我国该年度科学研究与试验发展支出总额为 3003.1 亿元。

91. 按执行部门分，该年度我国企业部分的“科学研究与试验发展经费支出”约为（ ）。
- A. 567.6 亿元      B. 2135.2 亿元      C. 2075.1 亿元      D. 2353.2 亿元
92. 按经费来源分，该年度我国企业部分的“科学研究与试验发展经费支出”约比政府部分（ ）。
- A. 多 44.4%      B. 少 44.4%      C. 多 1333.4 亿元      D. 多 1562.6 亿元
93. 该年度我国高等学校应用研究部分的“科学研究与试验发展经费支出”约为（ ）。
- A. 96.6 亿元      B. 137.0 亿元      C. 196.4 亿元      D. 1489.5 亿元



94. 按执行部门分, 该年度我国研究机构用于基础研究部分的“科学研究与试验发展经费支出”约为企业用于应用研究部分的 ( )。

- A. 1.6 倍                      B.  $\frac{1}{30}$                       C. 13%                      D. 42%

95. 按执行部门分, 该年度我国企业的“科学研究与试验发展经费支出”中, 用于应用研究的约比用于基础研究的 ( )。

- A. 149.5 亿元                      B. 210.2 亿元                      C. 135.6 亿元                      D. 242.1 亿元

**二、根据以下资料, 回答96~100题。**

某市1038份网上问卷对购买商品调查结果

消费场所/打折商品	服装 (%)	鞋包 (%)	家用电器 (%)	其他商品 (%)
综合百货	43	10.2	16	18.8
主题百货	22.6	25	28.4	43.8
超市	26.6	47.2	44.4	25
小店	7.8	17.6	11.2	12.2

96. 如果想买服装, 最不可能去 ( )。

- A. 综合百货                      B. 主题百货                      C. 超市                      D. 小店

97. 网民平均最不可能光顾的打折场所是 ( )。

- A. 综合百货                      B. 主题百货                      C. 超市                      D. 小店

98. 最愿意去综合百货买鞋包的人数大概是 ( ) 人。

- A. 50                      B. 100                      C. 200                      D. 300

99. 下列说法不妥的是 ( )。

- A. 该调查反映全市购物偏向                      B. 打折时人们喜欢去超市  
 C. 打折时去大商场买衣服合算                      D. 小店打折没有什么吸引力

100. 接受调查普遍购买床上用品, 去主题百货人数比例一般不会超过 ( )。

- A. 30%                      B. 35%                      C. 40%                      D. 45%

## 展鸿公务员录用考试笔试试卷

### 《行测》模拟卷 007 参考答案及解析

1. 【答案】D。解析：习近平新时代中国特色社会主义思想系统回答了新时代坚持和发展什么样的中国特色社会主义，怎样坚持和发展中国特色社会主义这个重大时代课题。故本题选 D。

2. 【答案】A。解析：2017 年 12 月 18 日至 20 日，中央经济工作会议在北京举行。会议确定，按照党的十九大要求，今后 3 年要重点抓好决胜全面建成小康社会的防范化解重大风险、精准脱贫、污染防治三大攻坚战。故本题选 A。

3. 【答案】B。解析：十九届三中全会提出，深化党和国家机构改革，目标是构建系统完备、科学规范、运行高效的党和国家机构职能体系，形成总揽全局、协调各方的党的领导体系，职责明确、依法行政的政府治理体系，中国特色、世界一流的武装力量体系，联系广泛、服务群众的群团工作体系，推动人大、政府、政协、监察机关、审判机关、检察机关、人民团体、企事业单位、社会组织等在党的统一领导下协调行动、增强合力，全面提高国家治理能力和治理水平。A、C、D 项表述均正确，B 项表述错误。故本题选 B。

4. 【答案】B。解析：A 项正确，题干中的事件说明，价值规律是商品经济的基本规律，它通过市场机制自发地起作用，不以人的意志为转移，具有客观性。由于人们过多、过快地把生产资料和劳动力投入到奶牛养殖和乳品加工行业，导致市场供过于求，企业压缩鲜奶收购量，奶农只好将鲜奶倒掉。B 项错误，题干中的“倒奶事件”主要是市场体系不够完善，鲜奶销售渠道不畅导致的结果，不是经济危机的征兆。C 项正确，题干中的事件表明市场调节具有盲目性和滞后性，导致了资源的浪费。D 项正确，政府有必要对市场进行适度的干预，逐步提高驾驭市场的能力。故本题选 B。

5. 【答案】B。解析：①“天下难事，必作于易，天下大事，必作于细”意思是天下的难事都是从容易的时候发展起来的，天下的大事都是从细小的地方一步步形成的，说明事物的变化发展先从量变开始，量变是质变的必要准备。②“明者因时而变，知者随事而制”是指聪明的人会根据时期的不同而改变行事策略，智慧的人会随着事情的不同而改变处理问题的方法，说明事物是变化发展的。③“履不必同，期于适足；治不必同，期于利民”意思是每个人的鞋子大小不必相同，关键是要适合自己的脚；每个国家的治理方法不必雷同，关键是要有利于人民，表明矛盾具有特殊性，要根据具体情况具体分析。④“伤其十指，不如断其一指”强调要集中主要力量解决主要矛盾。②③正确。故本题选 B。

6. 【答案】B。解析：①错误，我国宏观调控的主要目标是促进经济增长、增加就业、稳定物价、保持国际收支平衡。②正确，政府加快水利改革发展表明市场难以解决公共物品的供给问题。③错误，“宏观调控能弥补市场的弊端”在题干中没有体现。④正确，政府加大财力解决水利问题，表明财政具有促进资源合理配置的作用。故本题选 B。

7. 【答案】A。解析：A 项正确，通货膨胀的实质是社会总需求大于社会总供给。B 项错误，通货膨胀是指货币的发行量超过了流通中实际需要的货币量，从而引起货币贬值，物价上涨的经济现象。C 项错误，货币供给量大于需求量是通货膨胀的表现形式，不是实质。D 项错误，社会总需求小于社会总供给是通货紧缩的实质，通货紧缩是指在经济相对萎缩时期，物价总水平较长时间内持续下降，货币不断升值的经济现象。故本题选 A。

8. 【答案】C。解析：1979 年 12 月 6 日，邓小平在会见日本首相大平正芳时，根据我国经济发展的实际情况，第一次提出了“小康”概念以及在 20 世纪末我国达到“小康社会”的构想。故本题选 C。

9. 【答案】C。解析：党的十八届五中全会提出“创新、协调、绿色、开放、共享”的发展理念，其中，精准扶贫战略基于的发展理念是共享，以共享发展理念为指导推进“精准扶贫”攻坚克难。故本

题选 C。

10. 【答案】C。解析：A 项错误，投资和消费增加意味着国民收入增加。B 项错误，投资和消费增加意味着国民经济中财富量增加。C 项正确，D 项错误，投资和消费的增加会导致社会总需求的增加，从而导致国民经济总产出水平增加。故本题选 C。

11. 【答案】B。解析：十九大报告提出实施区域协调发展战略，以疏解北京非首都功能为“牛鼻子”推动京津冀协同发展，高起点规划、高标准建设雄安新区。故本题选 B。

12. 【答案】D。解析：2013 年 9 月至 2018 年 4 月，国务院先后批复成立中国（上海）自由贸易试验区、中国（广东）自由贸易试验区、中国（天津）自由贸易试验区、中国（福建）自由贸易试验区、中国（辽宁）自由贸易试验区、中国（浙江）自由贸易试验区、中国（河南）自由贸易试验区、中国（湖北）自由贸易试验区、中国（重庆）自由贸易试验区、中国（四川）自由贸易试验区、中国（陕西）自由贸易试验区、中国（海南）自由贸易试验区。故本题选 D。

13. 【答案】B。解析：A 项正确，我国经济社会发展已经进入以人才为引领的创新驱动阶段，这些城市出现的“抢人”大战，本质上是各地加快提升创新人才供给质量的一种尝试和实践。B 项错误，青年人才虽然享有落户城市的优惠，但这并不是城市房地产持续发展的关键因素。C 项正确，城市在吸引人才之后，最重要的是用制度留住人才，通过创新来实现“人尽其用”。D 项正确，创新是引领发展的第一动力，人才是支撑创新的第一资源，创新驱动实质上是人才驱动。故本题选 B。

14. 【答案】B。解析：《宪法》第 12 条第一款和第二款规定，社会主义的公共财产神圣不可侵犯。国家保护社会主义的公共财产。禁止任何组织或者个人用任何手段侵占或者破坏国家的和集体的财产。故本题选 B。

15. 【答案】A。解析：A 项正确，“王子犯法，与庶民同罪”，说明法律作为一般的行为规范在国家权力管辖范围内具有普遍适用的效力，体现了法的普遍性。B 项错误，法的强制性指法体现国家权力并由国家强制力保证实施的属性。C 项错误，法的国家意志性体现在法律是由国家制定或认可的。D 项错误，法的规范性体现在法律为人们的行为设定了一种模式、标准或方向。故本题选 A。

16. 【答案】D。解析：《中华人民共和国环境保护税法》自 2018 年 1 月 1 日起施行，该法第 27 条规定，自本法施行之日起，依照本法规定征收环境保护税，不再征收排污费。故本题选 D。

17. 【答案】C。解析：《民法总则》第 76 条第一款和第二款规定，以取得利润并分配给股东等出资人为目的成立的法人，为营利法人。营利法人包括有限责任公司、股份有限公司和其他企业法人等。该法第 87 条第一款和第二款规定，为公益目的或者其他非营利目的成立，不向出资人、设立人或者会员分配所取得利润的法人，为非营利法人。非营利法人包括事业单位、社会团体、基金会、社会服务机构等。故本题选 C。

18. 【答案】D。解析：A 项错误，“蝴蝶效应”是指初始条件十分微小的变化经过不断放大，对其未来状态会造成极其巨大的差别。B 项错误，“鲶鱼效应”是指采取一种手段或措施，刺激一些企业活跃起来投入到市场中积极参与竞争，从而激活市场中的同行业企业。C 项错误，“南风法则”在管理实践中要求管理者要尊重和关心下属，时刻以下属为本，多注意解决下属日常生活中的实际困难，使下属真正感受到管理者给予的温暖，从而激发他们工作的积极性。D 项正确，“马太效应”指存在的两极分化现象，即强者愈强、弱者愈弱。故本题选 D。

19. 【答案】B。解析：A 项错误，最高国务会议于 1954 年 9 月设立，1964 年 12 月最后一次召开。B 项正确，《论十大关系》的发表，是以毛泽东为主要代表的中国共产党人开始探索中国自己的社会主义建设道路的标志。C 项错误，中共八大的召开标志着中国共产党探索自己的社会主义建设道路取得了初步的成果，为新时期的社会主义事业的发展 and 党的建设指明了方向。D 项错误，《关于正确处理人民内部矛盾的问题》的发表，首次提出了正确处理人民内部矛盾的命题，阐述了社会主义建设中的一系列重大问题，对中国社会主义事业的发展具有长远的指导意义。故本题选 B。

20. 【答案】D。解析：公文写作，是指公务文书的起草与修改，是撰写者代机关立言，体现机关领

导意图和愿望的写作活动。故本题选 D。

21. 【答案】C。解析：我国共有 14 个陆上邻国，分别是朝鲜、俄罗斯、蒙古、哈萨克斯坦、吉尔吉斯斯坦、塔吉克斯坦、阿富汗、巴基斯坦、印度、不丹、尼泊尔、缅甸、老挝和越南。C 项日本属于我国海上邻国。故本题选 C。

22. 【答案】D。解析：“唐宋八大家”是唐代柳宗元、韩愈和宋代欧阳修、苏洵、苏轼、苏辙、王安石、曾巩八位散文家的合称。A 项李白被后人誉为“诗仙”；B 项王维被称为“诗佛”；C 项杜甫被尊称为“诗圣”。故本题选 D。

23. 【答案】D。解析：“路漫漫其修远兮，吾将上下而求索”出自屈原的《离骚》，描写了诗人对未道路和真理的探索与追求，表达了诗人积极求进的心态。故本题选 D。

24. 【答案】D。解析：A 项错误，“百家争鸣”是指春秋战国时期知识分子中不同学派的涌现及各家族流派之间争芳斗艳的局面。B 项错误，“焚书坑儒”是秦朝时期秦始皇为统一思想而发起的一场封建文化专制的运动。C 项错误，“罢黜百家，独尊儒术”是西汉时期董仲舒建议汉武帝实行的思想统治政策。D 项正确，清朝时期统治者为了加强中央专制集权，大施“文字狱”，制造一些因言论而获罪的案件。故本题选 D。

25. 【答案】B。解析：题干中所描述的现象属于惯性现象。A 项错误，皮球反弹是力的相互作用和弹性碰撞的现象。B 项正确，手中的书本随人快速跑步一起向前运动，当人急停时，书本由于惯性仍保持原来的运动状态，所以掉到前面，属于惯性现象。C 项错误，利用救生圈浮在水面上是浮力现象。D 项错误，气球跑气后，排出的气体对外面的空气有力的作用，根据牛顿第三定律，必然受到反作用力的作用，气球受到推力从而四处乱飞，属于力的相互作用现象。故本题选 B。

26. 【答案】A。解析：A 项正确，中法战争是 1883 年 12 月至 1885 年 4 月，法国侵略越南进而侵略中国引起的一次战争。中国在这次反侵略战争中因为清政府统治者的懦弱、妥协，签下不平等条约，使得中国不败而败，法国不胜而胜。B 项错误，中日甲午战争爆发于 1894 年，以中国战败、北洋水师全军覆没告终。C 项错误，鸦片战争是 1840 年至 1842 年英国对中国发动的一场侵略战争，以中国失败并赔款割地告终。D 项错误，第二次鸦片战争是英、法在俄、美支持下联合发动的侵华战争，以清政府被迫签订《北京条约》结束。故本题选 A。

27. 【答案】B。解析：A 项错误，“生活总是充满希望的，成功总是属于积极进取、不懈追求的人们”出自习近平 2014 年新年贺词。B 项正确，“不驰于空想，不骛于虚声”出自习近平 2018 年新年贺词，习近平以李大钊的这句名言，昭示了共产党人求真务实的精神、奋发有为的姿态，确立了苦干实干的主旋律、主基调。C 项错误，“新故相推，日生不滞”出自习近平 2017 年新年贺词，意思是，新旧事物交替更迭，不会随着时间的推移而停滞不前。D 项错误，“撸起袖子加油干”出自习近平 2017 年新年贺词。故本题选 B。

28. 【答案】D。解析：A 项错误，杜丽娘和柳梦梅是明代剧作家汤显祖创作的剧本《牡丹亭》中的主要人物。B 项错误，崔莺莺和张生是元代王实甫创作的杂剧《西厢记》中的主要人物。C 项错误，李香君和侯方域是清代文学家孔尚任创作的传奇剧本《桃花扇》中的主要人物。D 项正确，白居易的《长恨歌》叙述了唐玄宗与杨贵妃在安史之乱中的爱情悲剧。故本题选 D。

29. 【答案】A。解析：A 项正确，“会当凌绝顶，一览众山小”出自杜甫的《望岳》，通过描绘泰山雄伟磅礴的气势，表现了诗人敢于攀登绝顶、俯视一切的雄心和气概。B 项错误，“横看成岭侧成峰，远近高低各不同”出自苏轼的《题西林壁》，诗人描写的是移步换形、千姿万态的庐山风景。C 项错误，“两岸青山相对出，孤帆一片日边来”出自李白的《望天门山》，诗人描绘的是天门山的雄伟景色。D 项错误，“终日看山不厌山，买山终待老山间”出自王安石的《游钟山》，诗人描写的是钟山的秀美景象，表达了对钟山的向往之情。故本题选 A。

30. 【答案】D。解析：A 项正确，“问今是何世，乃不知有汉，无论魏晋”出自陶渊明的《桃花源记》。B 项正确，“山不在高，有仙则名”出自刘禹锡的《陋室铭》。C 项正确，“晋陶渊明独爱菊”出自周敦颐



的《爱莲说》。D项错误，“大道之行也，天下为公”出自《礼记·礼运篇》，意思是天下是人们所共有的，把品德高尚的人、有才能的人选出来，（人人）讲求诚信，培养和睦气氛，表达的是一种大同的理想社会。故本题选D。

31. 【答案】D。解析：白光是由红、橙、黄、绿、青、蓝、紫七种色光组成的，因此，当红、橙、黄、绿、青、蓝、紫七种光汇聚一点时，该点呈白色。故本题选D。

32. 【答案】B。解析：A项错误，1935年1月中共中央政治局在贵州遵义召开的遵义会议，初步确立了以毛泽东为代表的马克思主义的正确路线在中共中央的领导地位，是中国共产党历史上一个生死攸关的转折点。B项正确，1927年9月29日至10月3日，毛泽东在江西永新县三湾村领导了举世闻名的“三湾改编”，从政治上组织上保证了党对军队的绝对领导，标志着毛泽东建设人民军队思想的开始形成。C项错误，1937年8月22日至25日，中共中央政治局在陕北洛川县冯家村召开的洛川会议，明确了中国共产党在抗日战争时期的主要任务，为争取抗日战争的伟大胜利奠定了基础。D项错误，1927年8月1日，由中国共产党领导的南昌起义，标志着中国共产党独立领导武装斗争和创建革命军队的开始。故本题选B。

33. 【答案】A。解析：港珠澳大桥全长55公里，其中包含5.6公里的海底隧道，是世界上总体跨度最长、钢结构桥体最长、海底沉管隧道最长的跨海大桥。故本题选A。

34. 【答案】B。解析：“暖风熏得游人醉，直把杭州作汴州”出自南宋诗人林升的《题临安邸》，其中，“汴州”指的是现今的河南省开封市。故本题选B。

35. 【答案】C。解析：A、B、D项错误，乌东德、白鹤滩、溪洛渡和向家坝是开发建设在金沙江下游的四座世界级巨型梯级水电站。C项正确，“华龙一号”由中核和中广核联合研发，是我国目前唯一实现“走出去”的自主三代核电技术。故本题选C。

36. 【答案】D。解析：“三江并流”是指金沙江、澜沧江和怒江这三条发源于青藏高原的大江，穿越担当力卡山、高黎贡山、怒山和云岭等崇山峻岭之间，在云南省境内自北向南并行奔流170多公里的自然地理景观。故本题选D。

37. 【答案】B。解析：A项错误，临走留下的话叫“留言”。B项正确，虚假不实的话称为“谎言”。C项错误，抱怨别人的话叫“怨言”。D项错误，挑拨离间的话叫“谗言”。故本题选B。

38. 【答案】A。解析：京沪高铁使用的“复兴号”动车组，实现了350公里时速运营，我国由此成为世界上高铁商业运营速度最高的国家。故本题选A。

39. 【答案】C。解析：火烧赤壁之前，为了让曹操上当，周瑜决定使用苦肉计，借故痛打黄盖一顿，让黄盖假装气愤而诈降到曹操的军营。故本题选C。

40. 【答案】C。解析：A项正确，洋务派大规模引进西方先进的科学技术，创办了近代化军事工业和民用企业。B项正确，洋务派创建了北洋水师等近代海防海军，同时建立近代军事学堂，培养新式海军人才。C项错误，《资政新篇》是太平天国时期洪仁玕向洪秀全提出发展资本主义的近代化纲领，不属于洋务运动的内容。D项正确，洋务派兴办了京师同文馆等新式学堂，并派遣留学生到西方学习先进的科技。故本题选C。

41. 【答案】B。解析：辨析四个成语的意思：“望其项背”比喻赶得上；“望尘莫及”比喻远远落在后面；“爱莫能助”指虽然心中关切同情，却没有力量帮助；“无计可施”指没有办法可用。文段讲艺术品价格的攀高让寻常百姓的消费水平远远跟不上，“爱莫能助”与“无计可施”明显不符合语意，排除C、D项。“望其项背”常用于否定句式，如“难以望其项背”，排除A项。故本题选B。

42. 【答案】A。解析：“迁移”指离开原来的所在地而另换地点，“迁徙”指某种生物依季节不同而变更栖居地区，根据后文“人种的杂交而带来的民族血统的交融”可知，此处讲一个民族由一个地方到另一个地方的移动，而后定居繁衍，则“迁移”更恰当，排除C、D项。再看第二空，“交流”指互相沟通，“融合”指交融到一起，根据前后文可知，此处讲强势民族对弱小民族的战争吞并带来的另一个结果是对弱小民族的文化侵略，则民族间的文化并不仅仅在于交流，更是一种吞并融合，排除B项。故本

题选 A。

43. 【答案】C。解析：A 项缺少主语，应删除“随着”。B 项缺少主语，应在“可能”前加上“这”。D 项缺少宾语，应在“捕杀”后加上“狗”，“处以罚款”前加上“对养主”。故本题选 C。

44. 【答案】C。解析：先看第一空，“起用”指提拔任用，“启用”指开始使用，显然，“‘反剽窃’软件”只能用“启用”，排除 A、B 项。再看第二空，“启事”指公开声明某事的文字，“启示”指启发使领悟，在网上发布相关内容，只能用“启事”，排除 D 项。故本题选 C。

45. 【答案】D。解析：辨析三个成语的意思：“脱胎换骨”比喻通过教育，思想得到彻底改造，“改弦易辙”比喻改变原来的方向、计划、办法等，“洗心革面”比喻彻底悔改。直接看第三空，此处讲“他”因为社会动荡，从商变成从军，则“改弦易辙”最恰当，锁定 D 项。验证前两空，第一空讲“他”从十年前整天游手好闲的“二流子”变成现在的“好丈夫、好父亲”，“洗心革面”符合语意；第二空“脱胎换骨”与“刮骨疗毒”呼应，符合语意。故本题选 D。

46. 【答案】B。解析：“我们”存在歧义，可理解为“我和你”，也可理解为“我和你哥哥”。故本题选 B。

47. 【答案】D。解析：根据最后一句“它如同时间一般，无可逆转，无法挽回”可知，衰老这个过程一旦开动，就不可逆，D 项最恰当。A 项“不可控制”缺乏针对性，无法体现“无可逆转，无法挽回”的意思；B、C 项与末句联系不够紧密。故本题选 D。

48. 【答案】B。解析：观察选项，③①⑥均相同，可忽略，直接看②④⑤的顺序。通读②④⑤可知，②中的“云翳”承接的是⑤中的“云翳”，则②紧随⑤后，排除 A、C、D 项。验证 B 项，符合语句逻辑关系。故本题选 B。

49. 【答案】D。解析：本题采用就近原则法解题。根据前文“但一俯一仰之间就有了气势”可知，此处讲人的感受，即“伟大”指长江的气势很伟大，“渺小”指在巨大的长江面前，人显得十分渺小，D 项正确。故本题选 D。

50. 【答案】C。解析：本题采用就近原则法解题。“这种情况”指代的是前文的“老城区原住民被挤出，老城商业形态、生活样态均遭到强力干预，而新的形态又未能及时生长起来”，即城市的新老形态对接不利、不及时，C 项正确。故本题选 C。

51. 【答案】D。解析：文段讲一只鸟因叼了条鱼而被一群乌鸦追赶，当它最后筋疲力尽而丢掉鱼后，反而收获了自由与心安。通过前后对比可知在适当的时候学会舍弃就是一种收获，“以舍为得”符合文意。故本题选 D。

52. 【答案】C。解析：文段讲大学的研究固然应该为经济发展做出重要的贡献，但对于一种最好的教育来说，还存在着无法用金钱衡量的更重要的方面，即更要注重培养人的创造力、洞察力等。可见“最好的教育”应既要为经济发展作贡献，更要注重对人的全面培养，C 项正确。A、B 项分别为“最好的教育”其中一个方面的内容，D 项文段未提及。故本题选 C。

53. 【答案】B。解析：本题采用就近原则法解题。“这”指的是前文的质疑，即通过仪器、手术增强运动员体质去参加百米竞赛，与驾驶着摩托车去参加百米竞赛是否还有本质区别？也是说，科技手段的作用超过运动员的自然能力，这不仅是抛给体育界的问题，也是科学的两难，B 项正确。A 项表述不到位，无法体现“问题”所在；C 项文段未提及；D 项是援引的部分，与后文论述的内容联系不够紧密。故本题选 B。

54. 【答案】B。解析：A 项正确，由“作为一种新的城市发展理念，海绵城市……建立新的城市发展模式，实现资源与环境协调发展”和“海绵城市……可实现城市的自然循环、平衡和有序发展”可知，海绵城市理念对城市发展具有重要意义。B 项错误，“根本上”文段无法体现。C、D 项正确，由“海绵城市突破传统‘以排为主’的雨水管理模式，运用‘低影响开发’理念整合城市雨洪资源，建立新的城市发展模式”可知，海绵城市注重城市发展过程中的资源整合，突破了传统的雨水管理模式。故本题选 B。



55. 【答案】A。解析：文段是分一分结构，前半部分讲散步不能刻意求快，还要会赏玩，因为俯仰皆情趣；后半部分讲散步不要有指标性，而应该不徐不疾、洒脱冲淡。由此可知，文段重点讲散步的过程要注重修心，即散步贵在散心。B项“健身的有效方式”和C项“重要途径”文段均未体现，D项“自由率真的天性”说法缺乏针对性。故本题选A。

56. 【答案】A。解析：文段先介绍地球上岩石分为火成岩、沉积岩和变质岩三种，接着对这三种岩石是如何形成的进行详细介绍。因此，文段主要介绍地球上各类岩石的形成条件，A项正确。故本题选A。

57. 【答案】A。解析：文段讲“点击此处设为首页”这句“善意”的提醒在2000年的时候遍布各个网站，但在2005年之后却仿佛一夜之间消失了。那么，接下来最有可能谈论“点击此处设为首页”这句提示为什么会消失，即网页的形式为什么会改变，A项最恰当。其他三项均与材料联系不够紧密。故本题选A。

58. 【答案】C。解析：文段讲苏格拉底被视为“最有智慧的人”，但他本人却总是强调他自己“无知”，这也是他自己认为与其他人与众不同的智慧。由此可见，文段主要讲苏格拉底的“智慧”在于知道自己“无知”，C项正确。其他三项明显不符合文意。故本题选C。

59. 【答案】D。解析：文段讲我国虽然与许多发达国家签有双边贸易协定，但是出口仍然成为各种歧视贸易措施的目标，仍然面对各种限制、选择性保障措施以及反倾销和反补贴措施。可见，文段主要说明许多发达国家仍针对中国的出口产品制定种种具有歧视性的贸易措施，D项正确。其他三项均为对策项，文段未涉及。故本题选D。

60. 【答案】B。解析：文段讲中国历史上呈现的几大盛世与法制的相对健全是分不开的，没有无法制的盛世，也没有盛世而法制衰微的现象，最后用入主中原的少数民族在立定脚跟后急于立法加以证明。可见，文段主要讲中国历史上出现的盛世与法制的健全是分不开的，B项正确。A项是援引部分的内容，C项“我们应当借鉴历史的经验以法治国”和D项“总会受到很大程度的汉化”均在文段中无法体现。故本题选B。

61. 【答案】B。解析：将原数列写成幂次修正形式： $0=12\times 0$ ， $4=22\times 1$ ， $18=32\times 2$ ，( )， $100=52\times 4$ ，其中，底数：1、2、3、(4)、5，为等差数列；修正项：0、1、2、(3)、4，为等差数列。因此原数列未知项为 $42\times 3=48$ 。故本题选B。

62. 【答案】D。解析：原数列后项减前项得到：3、7、15，( )，新数列后项减前项得到：4、8、(16)，是公比为2的等比数列。因此新数列未知项为 $15+16=31$ ，原数列未知项为 $25.1+31=56.1$ 。故本题选D。

63. 【答案】A。解析：凑整法。原式= $(10-1)+(100-1)+(1000-1)+(10000-1)+(100000-1)=(10+100+1000+10000+100000)-1\times 5=111110-5=111105$ 。故本题选A。

64. 【答案】C。解析：设被减数为3，减数为2，则差为1。根据题意可知，被减数、减数和差的和为 $3+2+1=6$ ，则其除以被减数，为 $6\div 3=2$ 。故本题选C。

65. 【答案】A。解析：设3次义务劳动全部参加的人数为x，则参加2次的人数为4x，只参加一次的人数为5x。根据题意可列方程： $3\times x+2\times 4x+1\times 5x=112$ ，解得 $x=7$ ，则该单位只参加1次、参加2次和3次全部参加的人数分别为35人、28人和7人，总人数为 $35+28+7=70$ 人。故本题选A。

66. 【答案】A。解析：某年2月最后一天是星期三，从2月最后一天到该年最后一天还有 $31+30+31+30+31+31+30+31+30+31=30\times 10+6=306$ 天， $306\div 7=43$ (周) $\cdots\cdots 5$ (天)，因此最后一天为星期一，刚好是航班出发的日子，即当年从A市到B市的最后一次航班是星期一出发的。故本题选A。

67. 【答案】D。解析：设完成该件刺绣产品的工作量为24，则三名绣工的工作效率都为 $24\div 8\div 3=1$ 。根据题意可知，三名绣工完成50%花费的时间为 $24\times 50\%\div 3=4$ 天；两名绣工完成 $75\%-50\%=25\%$ 花费的时间为 $24\times 25\%\div 2=3$ 天；最后一名绣工完成剩余的25%花费的时间为 $24\times 25\%\div 1=6$ 天。因此，完成该件绣品一共用了 $4+3+6=13$ 天。故本题选D。

68. 【答案】C。解析：根据题意可知，一首五言律诗的字数为 $5\times 8=40$ 字，一首七言律诗的字数为

$7 \times 8 = 56$  字。设七言律诗有  $x$  首，则五言律诗有  $x+13$  首，根据题意可列方程： $56x = 40(x+13) + 40$ ，解得  $x=35$ 。因此七言律诗有 35 首，五言律诗有  $35+13=48$  首。故本题选 C。

69. 【答案】C。解析：根据题意可知，第三个正方形的面积为  $43 \times 43 + 57 \times 57 = 5098$ 。 $572=3249$ ， $652=4225$ ， $712=5041$ ， $752=5625$ ，第三个正方形的面积与 5041 最接近，因此第三个正方形的边长约为 71。故本题选 C。

70. 【答案】B。解析：设书店共进了  $x$  本书，根据题意可知，以售价为每本 15 元的售出的书有  $(x-50)$  本，获利为  $(x-50) \times (15-10) = 5(x-50)$  元；以八折售出的书有  $70 - (x-50) = (120-x)$  本，获利为  $(120-x) \times (15 \times 80\% - 10) = 2(120-x)$  元；剩余的书按成本价售出，不获利。因此有  $5(x-50) + 2(120-x) = 230$ ，解得  $x=80$ 。故本题选 B。

71. 【答案】B。解析：观察题干图形，发现图 2、3、4 都是图 1 的组成部分，因此所求图形也应该是图 1 的组成部分。将图 2、3、4 组合，发现加上 B 项图形才能组成完整且无重复的图 1，B 项符合。A、C、D 项与图 1 皆有重复部分，排除。故本题选 B。

72. 【答案】D。解析：观察题干，A、B、C 项内部图形皆是黑色，而 D 项内部图形是白色。故本题选 D。

73. 【答案】A。解析：第一组图形有且只含有 1 条横线，第二组图形有且只含有 2 条横线，只有 A 项符合。故本题选 A。

74. 【答案】C。解析：观察图形，③④⑤皆包含曲线，①②⑥只有直线，因此应该①②⑥为一组，③④⑤为一组，C 项符合。故本题选 C。

75. 【答案】A。解析：观察题干图形，发现所有图形皆为轴对称图形，且对称轴方向依次为水平、垂直、水平、垂直、水平，因此所求图形的对称轴应为垂直方向。A 项对称轴是垂直方向，符合。B 项对称轴是水平方向，排除。C、D 项不是对称图形，排除。故本题选 A。

76. 【答案】C。解析：“感觉”的定义要点是：“人们的感官对多种不同能量的觉察，并转换成神经冲动”；“知识”的定义要点是：“对客体的如实区别或联系”；“推理”的定义要点是：“运用一定的法则从已有知识得出新知识的思维活动”。例证（1）竹竿浸入水中被水折成两段是人们的感官对多种不同能量的觉察，竹竿并没有真的断，符合感觉的定义。例证（2）解释了竹竿在水中看起来折成两段的原理，属于对客体的如实联系，符合知识的定义。例证（3）竹竿浸入水中被水折成两段，是客观不同的缘故，没有涉及上述定义。因此与定义存在对应关系的数目有 2 个。故本题选 C。

77. 【答案】C。解析：“反向求索法”的定义要点是：“在思维过程中，从相反的思维方向去分析、探索，反其道而行之，从事物相反或相对的功能去发明创造”。A 项将一件事情分工给几个人同时干，涉及的是并行计算机的设计思想，而不是反向思维，不符合定义，排除。B 项将一件事情让几个人联合干，没有涉及反向思维，不符合定义，排除。C 项在白色电冰箱充斥市场时，某著名企业推出彩色电冰箱，运用了反向的思维方法，符合定义。D 项深圳在全市 10 万个路灯电线杆上喷涂报警编码，没有涉及反向思维，不符合定义，排除。故本题选 C。

78. 【答案】A。解析：“选择性曲解”的定义要点是：“人们面对客观事物，经常会不自觉地把外界输入的信息与头脑中早已存在的模式相结合，从而出现根据自己固有的价值体系和既定的情感好恶来解释所接受信息的倾向”。A 项“爱屋及乌”指爱一个人而连带地关心到与他有关的人，是根据自己既定的情感好恶来解释所接受信息，符合定义。B 项“指鹿为马”指故意颠倒黑白，混淆是非，没有涉及根据自己固有的价值体系和既定的情感好恶来解释所接受信息，不符合定义，排除。C 项“按图索骥”指墨守成规办事，没有涉及根据自己固有的价值体系和既定的情感好恶来解释所接受信息，不符合定义，排除。D 项“度日如年”指困苦的日子长久难熬，没有涉及把外界输入的信息与头脑中早已存在的模式相结合，不符合定义，排除。故本题选 A。

79. 【答案】D。解析：“正式沟通”的定义要点是：“在组织系统内，依据一定的组织原则所进行的信息传递与交流”。A 项小道消息不是在组织系统内的，不符合定义，排除。B 项朋友聚会不是在组织系

统内的，不符合定义，排除。C项食堂的午餐没有涉及信息传递与交流，不符合定义，排除。D项员工会议，是在公司系统内，依据一定的组织原则所进行的信息传递与交流，符合定义。故本题选D。

80. 【答案】D。解析：“延伸产品”的定义要点是：“顾客购买产品时，附带获得的各种利益的总和，包括产品说明书、保证、安装、维修、送货、技术培训等。”A项顾客购买任何电器享受九折优惠，只是价格优惠，不符合定义，排除。B项购买服饰满300元减100元，只是价格优惠，不符合定义，排除。C项游戏公司推出了升级版游戏，与老用户购买的游戏利益无关，不符合定义，排除。D项售出的汽车可享受三年质保，是购买汽车所附带的利益，符合定义。故本题选D。

81. 【答案】D。解析：唱歌是一种行为，二者是种属关系。A项有的黑人是妇女，有的妇女是黑人，二者是交叉关系，与题干逻辑关系不同，排除。B项跳舞和欣赏没有明显逻辑关系，排除。C项篮球是一种球类，不是运动，与题干逻辑关系不同，排除。D项游泳是一种运动，二者是种属关系，与题干逻辑关系相同，符合。故本题选D。

82. 【答案】C。解析：破解谜团后问题才能更加清楚，破解谜团是动宾结构。A项混乱与武力无法构成动宾结构，与题干关系不同，排除。B项模糊与解释没有明显逻辑关系，与题干关系不同，排除。C项调和矛盾后氛围才能更加融洽，调和矛盾是动宾结构，与题干逻辑关系相同，符合。D项制造气氛是动宾结构，但努力与制造气氛没有明显逻辑关系，与题干关系不同，排除。故本题选C。

83. 【答案】A。解析：英国和美国是并列关系，英国和美国都不属于亚洲，二者分属于不同大洲。A项中国和埃及是并列关系，中国和埃及都不属于大洋洲，二者分属于不同大洲，与题干逻辑关系相同，符合。B项日本和韩国是并列关系，但二者同属于亚洲，与题干逻辑关系不同，排除。C项南非属于非洲，与题干逻辑关系不同，排除。D项巴西属于南美洲，与题干逻辑关系不同，排除。故本题选A。

84. 【答案】A。解析：巧克力象征爱情。A项糖果象征甜蜜，与题干逻辑关系相同，符合。B项寒冷和风雪没有象征关系，与题干逻辑关系不同，排除。C项咖啡是苦的，没有涉及象征关系，与题干逻辑关系不同，排除。D项流水与坚固没有明显逻辑关系，与题干逻辑关系不同，排除。故本题选A。

85. 【答案】C。解析：“无为而治”指自己无所作为而使天下得到治理，“济世经邦”指拯救人世，治理国家，二者体现出治理国家的不同态度。B项“花开富贵”代表了人们对美满幸福生活、富有和高贵的向往，“龙凤呈祥”指吉利喜庆的事，二者没有必然联系，排除。C项“和而不同”指和睦地相处，但不随便附和，“优胜劣汰”指生物在生存竞争中适应力强的保存下来，适应力差的被淘汰，二者体现出对待差异优劣的不同态度，符合。D项博晓古今和学贯中西都是形容知识渊博，属于近义关系，与题干逻辑关系不同，排除。故本题选C。

86. 【答案】B。解析：题干论点：人类语言最初直接来源于鸟类和灵长类。论据：如果重新审视现代人类语言，我们可以看到人类的相互交流是如何从鸟类和其他灵长类古老的交流模式系统演化而来的。A项“其他动物”未明确指出是鸟类和灵长类，无法加强结论，排除。B项人类语言包含两个不同层面，对应从鸟类和灵长类身上获得的不同语言部分，可以加强结论，符合。C项人类语言的交流在过去和现在变化不大，没有涉及人类语言来源，属于无关项，排除。D项鸟类和除人类以外的其他哺乳动物有自己的交流语言，与人类无关，属于无关项，排除。故本题选B。

87. 【答案】B。解析：题干论点：近年来刚进入机关的干部对下基层锻炼的兴趣普遍比以前强多了。论据：机关干部对于下基层的报名十分踊跃。A项机关干部下基层锻炼，对当地的发展也起到推动作用，与报名人数无关，属于无关项，排除。B项对待下基层的态度是衡量是否有下基层兴趣的重要标准，说明愿意报名下基层的人，就是对下基层有兴趣的，符合题干论点。C项该镇的干部较前几年的比起来有较高的综合素质，与下基层无关，属于无关项，排除。D项机关干部对下基层锻炼产生兴趣，是由于基层待遇提高，与论点相悖，排除。故本题选B。

88. 【答案】D。解析：题干观点：将药片放在口中后，不喝水或仅喝一口水，再用力一咽，这样的服药方式是不可取的。A项服药时增加饮水量会降低药物的浓度，与论点中的“不喝水或仅喝一口水”相悖，不能支持观点，排除。B项服药时大量饮水，可加快药物通过咽、食管进入胃的速度，没有涉及



为什么不可取，不能支持观点，排除。C项病人在服药期间每天至少要饮水 1500 毫升，与吃药时的喝水量无关，属于无关项，排除。D项服药时饮水过少会使药片滞留在食管中时间较长，甚至产生副作用，解释了为什么这种服药方式不可取，可以支持观点，符合。故本题选 D。

89. 【答案】B。解析：逐一观察选项。A项美国是一个等级制度森严的国家，题干没有涉及等级制度，不符合题干，排除。B项美国国内存在严重的人权问题，可从“美国国内存在严重的种族歧视”推出，符合。C项黑人只是为自己的社会地位抗争，而不是崇尚暴力，不符合题干，排除。D项题干只涉及黑人在美国的地位，没有涉及在世界上的地位，不符合题干，排除。故本题选 B。

90. 【答案】B。解析：由题干可知甲乙丙说的都是真话，且共有两个人中奖。假设甲中奖，则根据甲的话，乙也会中奖，但根据乙的话，则丙也会中奖，此时共有三人中奖，与题干不符。因此甲没有中奖，排除 A、D 项。假设乙中奖，则丙也会中奖，但根据丙的话，丁也会中奖，此时共有三人中奖，与题干不符。因此乙没有中奖，排除 C 项。假设丙中奖，则丁也中奖，此时只有丙、丁两个人中奖，B 项符合。故本题选 B。

91. 【答案】B。解析：根据材料可知，我国该年度科学研究与试验发展支出总额为 3003.1 亿元，按执行部门分，我国企业部分的占比为 71.10%。因此按执行部门分，该年度我国企业部分的“科学研究与试验发展经费支出”为  $(3003.1 \times 71.1\%) \approx 3000 \times 70\% = 2100$  亿元，B 项与之最接近。故本题选 B。

92. 【答案】C。解析：根据材料可知，按经费来源分，我国企业部分的占比为 69.1%，政府部分占比为 24.7%，前者比后者占比多  $69.1\% - 24.7\% = 44.4\%$ ，不代表前者比后者多 44.4%，排除 A、B 项。我国该年度科学研究与试验发展支出总额为 3003.1 亿元，则该年度我国企业部分的“科学研究与试验发展经费支出”比政府部分多  $3003.1 \times 44.4\% < 3000 \times 50\% = 1500$  亿元，排除 D 项。故本题选 C。

93. 【答案】B。解析：根据材料可知，我国该年度科学研究与试验发展支出总额为 3003.1 亿元，高等学校的占比为 9.2%，其中应用研究部分占比为 49.6%。因此，该年度我国高等学校应用研究部分的“科学研究与试验发展经费支出”为  $3003.1 \times 9.2\% \times 49.6\% \approx 3000 \times 9\% \times 50\% = 1500 \times 9\% = 135$  亿元，B 项与之最接近。故本题选 B。

94. 【答案】D。解析：根据材料可知，按执行部门分，该年度我国研究机构的占比为 18%，其中用于基础研究部分的占比为 12%，则研究机构用于应用研究部分的经费支出占总支出的比重为  $18\% \times 12\%$ ；企业的占比为 71.1%，其中用于应用研究部分的占比为 7.6%，则企业用于应用研究部分的经费支出占总支出的比重为  $71.1\% \times 7.6\%$ 。前者与后者的比例为  $(18\% \times 12\%) : (71.1\% \times 7.6\%) \approx (18\% \times 12\%) : (70\% \times 8\%) = 216 : 560$ ，观察选项，D 项最接近。故本题选 D。

95. 【答案】A。解析：根据材料可知，我国该年度科学研究与试验发展支出总额为 3003.1 亿元；按执行部门分，我国企业的占比为 71.1%，其中用于应用研究的占比为 7.6%，用于基础研究的占比为 0.6%。因此，该年度我国企业的“科学研究与试验发展经费支出”中，用于应用研究的比用于基础研究的的多  $3003.1 \times 71.1\% \times (7.6\% - 0.6\%) \approx 3000 \times 70\% \times 7\% = 147$  亿元，A 项与之最接近。故本题选 A。

96. 【答案】D。解析：根据表格第二列可知，如果想买服装，最不可能去小店。故本题选 D。

97. 【答案】D。解析：比较表格数据可知，不同打折商品中，除鞋包外，光顾小店的人数占比均为最少，则光顾小店的人数平均占比也最小，因此网民平时最不可能光顾小店。故本题选 D。

98. 【答案】B。解析：根据表格可知，参与问卷调查的有 1038 人，其中愿意去综合百货买鞋包的人数占比为 10.2%，则最愿意去综合百货买鞋包的人数为  $1038 \times 10.2\% \approx 1000 \times 10\% = 100$  人。故本题选 B。

99. 【答案】A。解析：A 项错误，该调查只是针对 1038 名网民的，并不具有全市代表性，因此无法反映全市购物偏向。B 项正确，比较表格数据可知，超市在不同商品中被选择的占比基本上保持最高，则其平均值相对来说也是最高的。C 项正确，综合百货和主题百货都属于大商场，根据表格可知，服装打折时大家相对来说更愿意去综合百货和主题百货，只有买衣服相对合算时，才会有更多的人愿意去。D 项正确，根据第 2 小题可知，网民们最不愿意光顾的打折场所是小店，可知小店打折没有什么吸引力。故本题选 A。

100. 【答案】D。解析：根据表格可知，床上用品属于其他商品类，其他商品打折时，去主题百货人数的比例为 43.8%。结合选项可知，比例一般不会超过 45%。故本题选 D。