

准考证号:

姓名:

展鸿 2022 年浙江省公务员录用考试 《行政职业能力测验》模拟卷（二）

重要提示:

为维护您的个人权益, 确保考试的公平公正, 请您协助我们监督考试实施工作。

本场考试规定: 监考老师要向本考场全体考生展示题本密封情况, 并邀请 2 名考生代表签字后, 方能开启试卷袋

条形码黏贴处

请将此条形码揭下,
贴在答题卡指定位置

展鸿 2022 年浙江省公务员录用考试笔试试卷 《行政职业能力测验》模拟卷（二）

注意事项

1. 这项测验共有五个部分，130 道题，总时限为 120 分钟。各部分不分别计时，但都给出了参考时限，供答题时参考。
2. 请将姓名与准考证号在指定位置上用黑色字迹的钢笔、签字笔或圆珠笔填写，并用 2B 铅笔在准考证号对应的数字上填涂。
3. 请将题本上的条形码揭下，贴在答题卡指定位置。没有贴条形码的答题卡将按作废卡处理，成绩记为零分。
4. 题目应在答题卡上作答，在题本上作答一律无效。
5. 待监考老师宣布考试开始后，你才可以开始答题。
6. 监考老师宣布考试结束时，你应立即停止作答，将题本、答题卡和草稿纸都翻过来放在桌上，待监考老师确认数量无误、发出离开指令后，方可离开考场。
7. 试题答错不倒扣分。
8. 严禁折叠答题卡！

第一部分 常识判断

（共 20 题，参考时限 10 分钟）

根据题目要求，在四个选项中选出一个最恰当的答案。

请开始答题：

1. 关于习近平新时代中国特色社会主义思想，下列说法错误的是（ ）。
A. 必须坚持一切行政机关建设人民满意的服务型政府
B. 加强党的组织建设的根本目的是加强党的全面领导
C. 十九大在“五个建设”中，首次将纪律建设并列其中
D. 稳定粮食供给总量是“六稳”工作的重要要求之一
2. 中国共产党第十九届中央委员会第五次全体会议中提出了到二〇三五年基本实现社会主义现代化远景目标，下面属于远景目标的是（ ）。
①基本实现新型工业化、信息化、城镇化、农业现代化，建成现代化政治体系
②基本实现国家治理体系和治理能力现代化，人民平等参与、平等发展权利得到充分保障
③建成文化强国、教育强国、人才强国、体育强国、健康中国
④人均国内生产总值达到中等发达国家水平
A. ①②④ B. ①②④ C. ②③④ D. ①③④
3. 党的十九届六中全会指出，习近平同志对关系新时代党和国家事业发展的一系列重大理论和实践

问题进行了深邃思考和科学判断，就多项重大时代课题提出一系列原创性的治国理政新理念新思想新战略。以下不属于新时代的重大时代课题的是（ ）。

- A.坚持和发展什么样的中国特色社会主义
- B.建设什么样的社会主义现代化强国
- C.建设什么样的长期执政的马克思主义政党
- D.怎样立党为公、执政为民

4.下列关于乡村振兴战略的说法错误的是（ ）。

- A.乡村振兴战略是习近平同志在党的十九大报告中提出的战略
- B.脱贫攻坚质量怎么样，很大程度上要看“三农”工作成效
- C.乡村振兴战略的总要求是富强，民主，文明，和谐，美丽
- D.农业农村农民问题是关系国计民生的根本性问题

5.下列生活现象与大气压强无关的是（ ）。

- A.在打疫苗时采用肌肉注射
- B.用钢笔的墨水囊吸取墨水
- C.制作瓷器时在茶壶上留一个小孔
- D.晾衣服时将吸盘挂衣钩贴在墙上

6.关于我国在国防现代化的进程中，所研发投入的大国重器，下列说法错误的是（ ）。

- A.中国人民解放军海军山东舰是中国首艘自主建造的国产航母
- B.东风-41 洲际战略核导弹是中国战略核力量的重要支撑
- C.歼-20 战斗机是我国自主研制的隐形第五代制空战斗机
- D.运-20 作为世界上最大的军用运输机参与到武汉抗疫工作

7.下列关于生物的类型和特点的说法正确的是（ ）。

- A.有些植物是异养型生物
- B.木耳和木瓜属于植物界
- C.所有哺乳动物都是恒温动物
- D.病毒的细胞为真核细胞

8.章鱼一次可以变六种颜色，这是生物与环境相适应的一种现象。下列现象与此不相类似的是（ ）。

- A.枯叶蝶停在树上像枯叶
- B.葵花朵朵向太阳
- C.仙人掌的叶退化成针形
- D.竹节虫外形酷似竹节

9.下列生活中的做法正确的是（ ）。

- A.用“201 不锈钢”制成的锅炒菜
- B.将水煮沸以起到软化作用
- C.牙龈肿痛时，用 5 摄氏度的凉水刷牙
- D.用聚氯乙烯保鲜膜包裹保存高温油炸食物

10.下列关于世界历史的说法正确的是（ ）。

- A.荷兰是世界上最早成功进行资产阶级革命的国家
- B.阿拉伯数字由古大月氏人发明，经阿拉伯人传入亚洲
- C.印度是世界耕地面积最大的国家，其境内有阿拉伯河、恒河流经
- D.文艺复兴起源于英法等国，与宗教改革、启蒙运动并称为西欧近代三大思想解放运动

11.下列关于世界语言文明的说法错误的是（ ）。

- A.甲骨文和苏美尔文都是象形文字 B.腓尼基字母是满文字母的源头鼻祖
C.法语是世界上使用最广泛的语言 D.葡萄牙语是中国澳门官方语言之一
- 12.下列词语与名家思想有关的是（ ）。
- A.白马非马 B.名正言顺 C.尽心知性 D.名非常名
- 13.“小康”一词在中华传统诗书中渊源已久，下列关于记载“小康”的典籍说法错误的是（ ）。
- A.《诗·大雅》中“民亦劳止，汙可小康”是长江流域的宫廷词曲
B.《礼记·礼运》中描绘的小康指西周圣王政治，仅低于大同理想
C.《资治通鉴》中的“校于五代，粗为小康”写的是后唐的情景
D.载有“山岭既固，中夏小康”的《晋书》是唐代官修史书
- 14.宋代可谓中国古代商品经济最繁荣的时代，下列不属于其表现的一项是（ ）。
- A.世界最早的纸币-交子在北宋应运而生
B.指南针开始应用于航海贸易，跨国贸易频繁
C.宋朝劳动人民发明的曲辕犁极大提升了生产技术
D.汴京和临安都有专门的市民娱乐场所-瓦肆
- 15.抗美援朝战争在中国当代史中写下了浓墨重彩的一笔。下列歌词中，与抗美援朝战争有关的一项是（ ）。
- A.一条大河波浪宽，风吹稻花香两岸 B.我们的家乡，在希望的田野上
C.歌唱我们伟大的祖国，从此走上繁荣富强 D.巍巍长白山，滔滔鸭绿江，誓复失地逐强梁
- 16.关于世界著名文化遗产的地理特点，下列说法错误的是（ ）。
- A.巴比伦空中花园邻近的底格里斯河是西亚水量最大的河流
B.胡夫金字塔所在的国家有着世界上最长的河流尼罗河
C.泰戈尔用“永恒面颊上的一滴眼泪”比喻他的祖国的泰姬陵
D.吴哥窟是世界上最大的佛教寺庙，也是最早的哥特式建筑
- 17.下列词句中，没有涉及春季的节气的是（ ）。
- A.微雨众卉新，一雷惊蛰始 B.天街小雨润如酥，草色遥看近却无
C.郡内开新火，高斋雨气清 D.忽如一夜春风来，千树万树梨花开
- 18.下列关于经济指数的说法正确的是（ ）。
- A.CPI 越大，零售商品所需社会必要劳动时间越少
B.场外基金一般风险和收益都比场内基金要高
C.LPR 是金融机构对最优质客户提供的贷款利率
D.商业承兑汇票的贴现体现了货币的流通手段
- 19.根据《民法典》的规定，下列关于继承的说法错误的是（ ）。
- A.继承从被继承人死亡时开始
B.继承人为争夺遗产而杀害其他继承人的，丧失继承权
C.被继承人的兄弟姐妹先于被继承人死亡的，由被继承人的兄弟姐妹的子女代位继承

D.遗嘱继承中打印遗嘱应当在遗嘱每一页签名，效力等同于自书遗嘱，不需要见证人在场

20.根据最新《未成年人保护法》的规定，下列说法错误的是（ ）。

- A.甲，年满 15 周岁，不可以开网络直播带货
- B.乙，年满 12 周岁，未经学校允许，不得将手机带入课堂
- C.丙，年满 14 周岁，不得作为某刑事案件的证人
- D.丁，年满 13 周岁，不得脱离父母或监护人的监护独立生活

第二部分 言语理解与表达

(共 30 题，参考时限 30 分钟)

本部分包括表达与理解两方面的内容。请根据题目要求，在四个选项中选出一个最恰当的答案。

请开始答题：

21.备豫不虞，为国常道。做好国家物资储备工作，是预防重大能源资源风险、_____资源领域控制力、缓解需求剧烈波动的必要之举。充分发挥国家储备物资的战略功能、战备功能、应急功能，提升国家储备应对突发事件的能力，才能_____国民经济正常运行和维护社会稳定大局。

依次填入划横线处最恰当的一项是（ ）。

- A.提升 保障
- B.增强 提升
- C.扩大 维持
- D.提高 维系

22.时间的长河里，总有波涛汹涌的时刻。疫情来势汹汹，那群和病毒殊死搏斗的白衣天使们全力以赴；洪水滔滔，那群挡在人民群众前的子弟兵们冲锋向前；暴雨_____，那群坚守岗位的基层工作者绝不后退；脱贫不易，那群扑下身子的扶贫干部决不食言；航天路远，那群追逐梦想的科技工作者豪迈出征……_____的神州大地上，无尽的数字空间里，暖流从未断流、热情从未熄灭、精神从未消退。

依次填入划横线处最恰当的一项是（ ）。

- A.袭击 偌大
- B.肆虐 广袤
- C.腐蚀 广阔
- D.入侵 辽阔

23.岁月的_____中，也会铭记静水流深。无数平凡的人、普通的事，影响着身边的一草一木，书写着时代的一撇一捺。风里来雨里去的快递小哥，承载着多少人的期盼；路边早餐摊上忙碌的夫妇，慰藉了多少人的_____；烈日下来回巡查的保安，守护了多少人的安全。平常时候看得出来、关键时刻站得出来、危难关头豁得出来，每一个人都有属于自己的荣耀时刻，都葆有崇尚正能量、激扬正能量的坚定信仰

依次填入划横线处最恰当的一项是（ ）。

- A.流逝 梦想
- B.流失 心灵
- C.流淌 味蕾
- D.穿梭 盼望

24.涓滴细流，终汇江海。无论是惊天动地的辉煌瞬间，还是默默无闻的漫长坚守，那些发自内心的选择、牵动人心的细节，让温情得以传递、精神得以传承。事实上，无远弗届的网络世界里，真正能够

C.醇厚隽永 相得益彰 D.铿锵有力 如影随形

29.文化是旅游的_____。如今,乘着文化热的东风,博物馆、艺术主题酒店实现跨界突破,让人惊艳。文创酒店以文化为原点,深挖主题、注重体验,取得了不错的效果。还有_____的民宿经济,在“文创+旅游”业态模式下,早已成为风景,吸引众多游客打卡关注。

依次填入划横线处最恰当的一项是()。

- A.灵魂 异军突起 B.本质 独树一帜
C.基础 出类拔萃 D.内涵 匠心独运

30.各民族共同捍卫了祖国的统一。维护祖国统一,历来是中华民族的最高利益和准则。特别是近代以后,面对亡国灭种的空前危机,各族人民共御外侮、同赴国难,抛头颅、洒热血,共同_____了中华民族艰苦卓绝、气壮山河的伟大史诗,形成了_____、生死相依的血肉联系。

依次填入划横线处最恰当的一项是()。

- A.编写 休戚相关 B.书写 休戚与共
C.书写 息息相关 D.誊写 唇齿相依

31.在几千年的历史长河中,我国各民族在分布上交错杂居、文化上_____、经济上相互依存、情感上相互亲近,形成了你中有我、我中有你,谁也离不开谁的多元一体格局。大量极其丰富的文化遗存表明,远在新石器时代,北起黑龙江流域,南至南海诸岛,西起新疆、西藏,东到沿海地区和台湾的辽阔土地上,都遍布着中华各民族先人们的足迹,他们共同_____了我国辽阔富饶的疆土。

依次填入划横线处最恰当的一项是()。

- A.历久弥新 开辟 B.此消彼长 拓展
C.兼收并蓄 开拓 D.兼容并包 延伸

32.开展“学党史,跟党走——我为群众办实事”文艺演出周活动旨在_____深化党史学习教育成效,激发广大党员干部开拓奋进、_____,立足本职岗位做贡献,把爱党、爱国、爱社会主义的热情转化为实际行动,为群众办实事,让党旗在基层一线高高飘扬。

依次填入划横线处最恰当的一项是()。

- A.增加 披荆斩棘 B.提高 太阿倒持
C.坚定 迎难而上 D.巩固 攻坚克难

33.一对北京夫妇相继接受秘密研究任务瞒着对方来到戈壁,书信在妻子的手中从原子城寄到北京,再从北京转寄到原子城丈夫的手中,终于有一天2个人在邮筒前偶然遇见……感人故事以艺术化雕塑和场景的形式_____出来,小小的书信,一边连着家国天下的伟大事业,一边连着_____的革命浪漫。

依次填入划横线处最恰当的一项是()。

- A.展示 沁人心脾 B.呈现 感人肺腑
C.揭露 沁人肺腑 D.彰显 如痴如醉

34.①IP 即 Intellectual Property,原意为知识产权,最早指适合二次或多次改编开发的网络文学、网络游戏、动漫等

②现在的 IP 概念已远远超出知识产权的范畴,明星、品牌、创意,甚至一句话、一个符号、一个

名字，都可以被冠以 IP 的名义进行开发

③用今天时髦的话说，《我的祖国》已经成为一个 IP

④优质 IP 不仅能为文艺创作提供丰富素材，更是价值观传输的有效载体

⑤“一条大河波浪宽，风吹稻花香两岸……”无论何时何地，只要这首《我的祖国》婉转动听的旋律一飘出，人们就会想起电影《上甘岭》

⑥六十多年前，这首乔羽和刘炽专为电影《上甘岭》创作的插曲，某种意义上已成为标记抗美援朝那段历史的一个符号

将以上 6 个句子重新排列，语序最恰当的是（ ）。

- A.⑤⑥③①②④ B.⑥②④①⑤③ C.⑤①②④③⑥ D.②④①⑤③⑥

35.①长期以来，总有人对红色音乐心存误解，觉得它们的功能主要是宣教，在艺术上缺乏特色

②一些红色音乐作品，囿于当时的客观条件，在艺术上可能稍显粗糙

③其实不然。红色音乐中既有号子、田歌、小调、多声部民歌，也有儿歌、风俗歌、灯调、牧歌、船歌、渔歌、叫卖歌，并受到不同地域风俗、语言的影响，所以具有浓郁的民族风格和地域特征

④有的还经过艺术家不断改造，取得了不小的艺术成就，因此才成为经典

⑤但能流传至今的作品，每一首都经过千万人传唱，经受住了时间的淘洗

将以上 5 个句子重新排列，语序最恰当的是（ ）。

- A.⑤③①②④ B.①③②⑤④ C.①③②④⑤ D.④①②⑤③

36.①人物传记片不好拍，尤其是作家传记片，处理不好，很容易变成寡淡的“流水账”

②无论身处高峰还是低谷，柳青的抉择都是赤诚的、令人敬佩的

③田波最终决定截取柳青人生的几次重大抉择

④柳青这句话虽然朴素，但意义深远

⑤人生的道路虽然漫长，但紧要处常常只有几步，尤其是当人年轻的时候

⑥素材太多如何选取？大量心理活动怎样表现？情节上的冲突如何设置？

将以上 6 个句子重新排列，语序最恰当的是（ ）。

- A.②④①③⑥⑤ B.①⑥③④⑤② C.①⑥③⑤④② D.④①②⑤③⑥

37.今年以来，系列重磅教育政策陆续出台，可谓“猛药去疴”。这意味着教师要投入更大的时间和精力，用心用情投入夯实学校教育主阵地。解决教育领域的这些“急难愁盼”问题，同样要求广大教师心怀“国之大者”，用大境界、大智慧落实各项改革任务。当然，继续改善教师待遇，优化教师从教环境，_____，让广大教师安心从教、精心从教，也是全社会的责任。

填入划横线部分最恰当的一项是（ ）。

- A.贯彻落实各项教育政策 B.加强对学校教育工作的监督管理
C.强化家校共育的创新理念 D.营造尊师重教的社会氛围

38._____。推进建设粤港澳大湾区，有利于深化内地和港澳交流合作，对港澳参与国家发展战略，提升竞争力，保持长期繁荣稳定具有重要意义。新形势下做好横琴粤澳深度合作区开发开放，开发建设前海深港现代服务业合作区，是把粤港澳大湾区建设成为扎实推进高质量发展示范的必然要

求，必将进一步支持香港、澳门抓住机遇，培育新优势，发挥新作用，实现新发展，作出新贡献。

填入划横线部分最恰当的一项是（ ）。

- A.粤港澳大湾区建设是国家重大发展战略
- B.建设粤港澳大湾区是深化改革开放、推进区域合作的重大举措
- C.实施粤港澳大湾区建设是立足全局和长远作出的重大谋划
- D.“横琴方案”为推进粤港澳大湾区建设注入新动能

39.年轻干部成为栋梁之才，_____。纵观党的百年征程，正是因为党员干部有坚定理想信念，才能经受住各种考验。没有或者理想信念不坚定，是经不起风吹雨打的。因此，对广大年轻干部来说，要在斗争实践中不断砥砺、经受考验，消除私心杂念，坚定信念信心。这是一个终身课题，需要年轻干部常修常炼，信一辈子、守一辈子。

填入划横线部分最恰当的一项是（ ）。

- A.要担当作为
- B.要坚定理想信念
- C.要实事求是、砥砺前行
- D.要在经风雨、见世面中长才干、壮筋骨

40.做一粒“读书种子”，让阅读成为一种力量，推动文化传统薪火相传，可以说正是读书人的自我期许。从“每有会意，便欣然忘食”的陶渊明，到“读书破万卷，下笔如有神”的杜甫，再到“不是老夫朝不食，半山绝句当朝餐”的杨万里，无不是“读书种子”的精彩写照。读书滋养美好心灵，可以遇见更好的自己，看到更美的世界。重视学习、重视古诗，千百年来融入中国人的血脉里，已成为中国特有的文化禀赋。

根据这段文字，“读书种子”指的是（ ）。

- A.阅读的力量
- B.文化的传承
- C.有成就的文化人
- D.重视读书的人

41.纵观当下的电视节目，不少都在“新壶装旧茶”。节目一季一季播出，在舞台上自带喜剧效果的嘉宾频频耍“老梗”，玩的互动游戏换汤不换药。随着时间推移，观众的新鲜感逐渐降低是可想而知的。面对媒体传播格局的深刻变化和受众的新需要，电视媒体处在亟需转型的关键时期，电视节目也需要学会“断舍离”，摒弃旧姿态、着力开发新内容、创造新范式。内容上的充实，才能给情感、思想和学习层面的传播以更大的发挥空间。

最能概括文段主旨的一项是（ ）。

- A.电视媒体需要在情感思想方面下足功夫
- B.电视节目需要跳出传统的内容格局和情感套路
- C.电视节目需推陈出新，丰富内容
- D.电视节目需要学会“断舍离”

42.劳动工资争议纠纷有时候关乎一个人，有时候则涉及一群人，他们背后是一个个家庭。按时足额领工资，过年全家俱欢颜。总的说来，治理拖欠农民工工资问题，要打好组合拳，畅通绿色通道，形成治理合力。一方面，最大限度提高拖欠农民工工资违法成本，用足法律手段，用好信用惩戒，发挥教育警示作用，引导用人单位依法用工，按时足额发放劳动者特别是农民工工资。另一方面，最大限度降低

农民工维权成本和门槛，坚决杜绝拖延立案、人为控制年底不立案等现象。

这段文字主要说明（ ）。

- A.劳动工资争议纠纷需要提高拖欠农民工工资违法成本
- B.需要降低农民工维权成本和门槛
- C.解决劳动工资争议纠纷这一问题，需要畅通绿色通道
- D.加强法律惩戒力、降低农民工维权成本，合力解决劳动工资争议纠纷问题

43.与肥胖相关的因素有两大类，一是与遗传，即与基因有关；二是与生活方式，即与后天因素有关。某些基因固然决定了人们是否肥胖，但是其形成也源于人类的演化进程。RAGE 基因就形成于人类演化的早期。为了抵抗饥饿，人类和动物进化出一种储存脂肪的机制，其中 RAGE 蛋白就可以阻止脂肪燃烧，让机体能贮存更多的脂肪，以防在食物匮乏时饿死。

下列说法不符合文意的是（ ）。

- A.与肥胖相关的遗传因素主要是基因
- B.某些基因的形成与人类的演化进程有关
- C.没有 RAGE 基因，人类和动物就容易饿死
- D.RAGE 基因中的 RAGE 蛋白可阻止脂肪燃烧

44.科技评价体系中的同行评价是国际公认的人才评价的通用做法。然而，成败在于细节，同行评价在操作层面上也同样存在不少问题。比如，评价标准的把握就绝非易事。近年来，常常听到这样的困惑：不唯论文，唯什么？比较得到认可的答案是“唯学术”。然而，说来容易做起来难。小同行评审相对比较容易，但是当今学科发展迅猛，划分又很细，对相对宽泛一点的评审而言，即使评审人持有最大公心，要在有限的时间内做出客观的评价也常常是一种挑战。

这段文字没有提到“同行评价”的（ ）。

- A.应用场景
- B.评价标准
- C.应用局限
- D.未来发展

45.网络语言形式的丰富不可否定，但任意泛滥、随意解构、歪曲语言的本意就应该受到指摘，并逐步得到修正。野蛮生长的网络语言一方面将现代人情绪的消极面恣意放大，强化部分人的焦虑心理，污染网络环境；另一方面也在随意地扭曲语言文字的原意，潜移默化中降低甚至诋毁了语言文化的内涵和其内在思想深度。同时也要看到，对语言原意的曲解形成了对语言纯洁性的损害，语言使用失范、失规，语言表达简单化、同质化等问题一再出现且难以纠正，必然影响语言的生命力。

作者通过这段文字意在说明（ ）。

- A.网络语言的野蛮生长污染了网络环境
- B.网络语言随意扭曲了语言文字的原意
- C.网络语言的不当使用应得到修正
- D.网络语言的不当使用影响语言的生命力

46.古籍善本的保护，可大致分为实物保护、内容保护和工艺保护等不同层次。由于年代久远，现存的古籍善本实物需要较为周致的保护条件，在一定程度上影响了其价值的发挥。而影印出版，通过版本梳理与研究，补配与修润，以技术手段将珍贵的古籍善本化身千百。这样一来，可供更多的传统文化研究者、爱好者一睹真容，极大地发挥了古籍善本的文献价值与文物价值。

最适合做这段文字标题的是（ ）。

- A.古籍善本保护的分类
- B.影印出版助力古籍善本保护
- C.影印出版的价值
- D.古籍善本保护的分类

47.高雅艺术从来都被视为天才的创造，是艺术工作者个人审美体验的艺术化表达，其珍贵之处正在于他人无法替代，《向日葵》之所以独一无二，因为世界上只有一位梵高。当冰冷的 AI 画家通过大量学习之后，其画作达到“以假乱真”甚至人类无法企及的高度，人类艺术家情何以堪？更堪忧虑的是，传统的艺术概念会不会因此被颠覆、改写？由此产生变化，对人类艺术来说是福还是祸？这些都是未知数。对此，我们还是应该采取审慎的态度。很多时候，还是要给人类留一些空间，不让技术入侵导致自身无立锥之地。

这段文字意在表达（ ）。

- A.对高雅艺术的保护
- B.对人类艺术家的理解
- C.对人类未来的思考
- D.对 AI 画家入侵的忧虑

48.传统文化如果不与时代连接，不与人联通，就是“死”的，只能是一堆空洞的符号和呆板的素材。古老文化只有“活起来”，可知可感、可亲可近才谈得上被了解，也只有在此基础上才谈得上兴趣和敬畏。以故宫为代表的文博场馆要与时俱进、再次焕发活力，关键是创造机会与“新人类”实现“文化的相遇”。“要让文物说话，让历史说话，让文化说话”，既是“说话”就有对象，古老文物穿越时空要倾诉的对象，自然就是我们今人和后人。

这段文字意在表达（ ）。

- A.古老文化只有“活起来”才能被了解
- B.传统文化应与时代中的人联通
- C.“新人类”需要一定的条件才能接受传统文化
- D.要让文物说话，让历史说话

49.版权保护并不是一个新问题，但随着传播技术及形态的变迁，版权方与侵权者之间“猫与老鼠”的戏码更加复杂。一方面，侵权的技术“工具箱”越来越丰富，盗版方便快捷且成本低，多个分发变现渠道让其违法行为极具隐蔽性。另一方面，知识付费平台由于在一开始没有建立起版权保护的“防火墙”，确权登记不全、监管不力，变相纵容了侵权行为的猖狂。客观存在的市场需求、维权投入及收益的不平衡、严实法律依据的付之阙如，都是促使侵权成产业成链条的土壤条件。

这段文字主要说的是（ ）。

- A.版权保护问题由来已久
- B.版权保护问题产生的根源
- C.版权保护问题的复杂性
- D.加强版权保护的技术迫在眉睫

50.疯狂买买买、嗜赌成性、沉迷网络游戏……这些在医学上被统称为“行为成瘾疾病”。为什么一种日常行为会被冠以“疾病”的称号，其实和一个“度”字有莫大关联。古人讲，日中则昃、月满则亏，就是告诫人们要懂得适度的智慧，干什么事都要掌握火候、把握原则。反之，如果对自身的一些行为不加限制并沉溺其中，以今天的医学观点视之，就是一种病态，会对人体健康产生不良影响。

最适合做这段文字标题的是（ ）。

- A.“行为成瘾疾病”的由来
- B.“行为成瘾疾病”需掌握度的智慧
- C.“行为成瘾疾病”的危害
- D.日中则昃、月满则亏

第三部分 数量关系

(共 25 题, 参考时限 25 分钟)

本部分包括两种类型的试题:

一、数字推理: 共 5 题。给你一个数列, 但其中缺少一项, 要求你仔细观察数列的排列规律, 然后从四个选项中选出你认为最合理的一项来填补空缺项。

请开始答题:

51. 3, 7, 13, 17, 23, ()

A. 24 B. 25 C. 26 D. 27

52. $4, \frac{2}{9}, \frac{25}{3}, \frac{4}{49}, \frac{121}{5}, ()$ A. $\frac{6}{169}$ B. $\frac{6}{144}$ C. $\frac{144}{6}$ D. $\frac{169}{6}$

53. 4, 5, 17, 32, 83, ()

A. 126 B. 144 C. 163 D. 179

54. 5, 21, 9, 27, 17, 36, ()

A. 7 B. 17 C. 27 D. 37

55. $\frac{4}{27}, 9, \frac{2}{3}, 3, 1, ()$ A. 0 B. -1 C. $\frac{1}{2}$ D. $\frac{3}{2}$

二、数学运算: 共 20 题。每道试题呈现一段表述数学关系的文字, 要求你迅速、准确地计算出答案。

请开始答题:

56. 一条船往返于甲乙两港之间, 由甲至乙是顺水行驶; 由乙至甲是逆水行驶, 已知船在静水中的速度为 8 千米/小时, 平时逆行与顺行所用时间的比为 2:1。某天恰逢暴雨, 水流速度变为原来的 2 倍, 这条船往返共用 9 小时。那么甲乙两港相距多少千米? ()

A. 10 B. 15 C. 20 D. 25

57. 小李家的客厅准备更换地板, 客厅长 5.4 米, 宽 3.15 米。为了保证美观, 更换的地板要是正方形且恰好使用整数块, 在保证地板尽量大的前提下, 小李家的客厅将用多少块方形地板? ()

A. 76 B. 228 C. 84 D. 252

58. 如果某一年的 2 月份有 5 个星期三 4 个星期四, 那么下一年的 2 月 1 日为星期几? ()

A. 星期三 B. 星期四 C. 星期五 D. 星期六

59. 某公司研发中心有三分之一的研发员拥有博士学位。2019 年度, 其中男性研发员平均每人完成 13 套中级设计方案, 女性研发员平均每人完成 10 套中级设计方案, 且拥有博士学位的研发员平均每人每年度额外完成 6 套高级设计方案。该研发中心该年度共完成 216 套设计方案。那么该研发中心有多少

名男性研究员? ()

- A.12 B.10 C.8 D.4

60.现有标有数字 1-9 的九张扑克牌, 小王、小张和小李分别从中抽取三张, 且三人位置随机排列, 并把三人手中的牌依次摆放成一排, 组成一个九位数。则这个九位数中奇数比偶数多 () 个。

- A.80640 B.40320 C.39600 D.20160

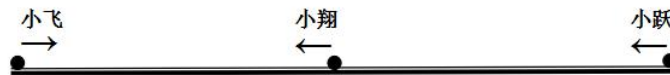
61.某块田地有 A、B 两个小队开始播种, 采用播种机播种的方式。已知 A 的播种效率是 B 的 2.6 倍; 若将 A 的 5 台播种机给 B, 则 A 的播种效率是 B 的 2 倍; 若令 A 最终的效率为 B 的 $\frac{2}{7}$, 则需要再从 A 小队分给 B 小队多少人? ()

- A.10 B.30 C.40 D.50

62.某公司举行乒乓球比赛, 男女参赛人员总共 20 人, 首轮两两之间进行一场比赛, 但异性之间不打比赛, 最终首轮比赛进行了 94 场比赛。则男女参赛人数之差为 ()。

- A.6 B.5 C.4 D.3

63.如图, 小飞、小翔、小跃三人在一条马路上按图示方向匀速行进, 小翔恰好位于小飞与小跃的中间位置, 他们从 12: 15 开始出发, 12: 20 时, 小飞与小翔相遇, 小跃行进了总路程的 $\frac{1}{5}$, 12 点 28 分 20 秒, 小飞到达小跃的出发点。12: 35 时, 小翔到达小飞的出发点, 小跃离小飞出发点还有 2400 米。求小飞与小跃出发点的距离 ()。



- A.12km B.24km C.6km D.18km

64.办工桌上放着 2021 枚硬币, 小展和小鸿闲暇之余做小游戏放松。游戏开始后, 两人轮流取走其中的部分硬币。当小展在取硬币的时候, 只能从中抽取 2 枚或 4 枚; 当小鸿在取硬币的时候, 只能从中抽取 3 枚或者 5 枚。两人之中, 谁能够取走最后一枚硬币, 就算谁赢。假设两个人在取硬币的过程中, 均采取最佳策略, 则谁能够最终赢得这个小游戏? ()

- A.先取者 B.后取者 C.小展 D.小鸿

65.小明与其余三位朋友一起玩“过 7”游戏, 即所有人按一定顺序从某一数字开始连续数数, 遇到 7 的倍数或者含有 7 的数字 (如 17) 鼓掌一次, 代表跳过该数字, 下一个人继续说下一个数字。小明站在最左端, 按照从左到右的顺序报数, 到最右端后, 再从右到左折返回来。假如从四人中随机挑选一人且从数字 12 开始, 那么在 9 个数字内, 小明鼓掌的概率是多少? ()

- A. $\frac{1}{2}$ B. $\frac{1}{3}$ C. $\frac{1}{4}$ D. $\frac{1}{5}$

66.一个盒子装有标号为 1-24 的 24 张卡片, 要从盒子里任意抽取卡片, 至少要抽出多少张卡片, 才能保证抽出的卡片中一定有两张卡片标号之差为 4? ()

- A.3 B.12 C.13 D.14

67.小明从家骑自行车去学校, 需先走一段上坡路, 再走一段平路, 最后走一段下坡路, 并且上坡路、

平路及下坡路的路程相等。小明某次骑自行车到学校的过程中，上坡路、平路和下坡路的速度分别为 4 米/秒、6 米/秒和 8 米/秒。求小明全程的平均速度约为 ()。

- A.5 米/秒 B.5.5 米/秒 C.6 米/秒 D.6.5 米/秒

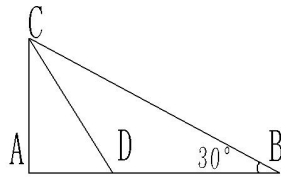
68.天气预报显示从 12 号开始，某村将有持续数日的暴雨。为了防止该村的河流决堤，村里决定提前开挖几个排水口，若挖 2 个排水口，则 4 天后决堤；若挖 3 个排水口，则 5 天后决堤。为了尽量不让河流决堤，村民开始对河岸加高，使河流的容量比加高之前增加 30%，且同时又开挖了 4 个排水口。若每天来水量一定且一直持续，不考虑水的蒸发、渗透和流失。则此河流会在第几天决堤？ ()

- A.7 B.8 C.9 D.10

69.有 5 个各不相同的奇数，已知这 5 个奇数的和为 87。那么这 5 个奇数中，最大的那个奇数，其最大值与最小值分别是多少？ ()

- A.69, 21 B.69, 23 C.71, 21 D.71, 23

70.如图，三角形 ABC 是直角三角形，且 $\angle B=30^\circ$ ，从点 C 在 CA 与 CB 夹角之间随机引一条射线交 AB 与 D 点，则使 $S_{\triangle ADC} < \frac{1}{3}S_{\triangle ABC}$ 的概率是多少？ ()



- A. $\frac{1}{3}$ B. $\frac{1}{2}$ C. $\frac{\sqrt{3}}{3}$ D. $\frac{2}{3}$

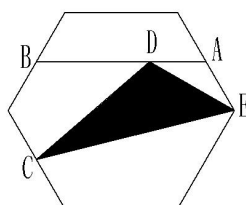
71.某商场仅剩某类型商品 76 件，现有 33 人排队购买，每位顾客最多可以买 3 件。如果买 1 件按原价，如果买 2 件打九折，如果买 3 件打八折。最后商场结算发现，平均每件恰好相当于整体打八五折，那么买 3 件的客户有多少人？ ()

- A.13 B.14 C.15 D.16

72.某小学五个年级共组织四个兴趣小组，兴趣小组的学生不区别年级可任意参加。此时，学校的领导统计了四个兴趣小组的人数，并分别取任意两个组的人数加和，可分别得到 75、81、84、97、100、106 这 6 个不同的结果。则人数最多的兴趣小组至少有多少学生来自于同一年级？ ()

- A.8 B.9 C.12 D.13

73.如图所示，有一个形状为正六边形的花坛，面积为 48 平方米。A、B、C 为其中三边中点，AB 为其中一条笔直的道路，点 D 为 AB 的一个三等分点。连接 C、D 及其中一顶点 E，在 CDE 这块三角形区域种上郁金香。则此块郁金香种植区域的面积为 () 平方米。



- A.10 B.10.5 C.12 D.12.5

74.展鸿教育某部门共有 11 位员工，3 位女性员工。现在要排成一排拍照。部门经理必须站中间，3 位女同事要站在一起，小华和小飞个子最高，要站在两端。一共可以有多少种不同的排队方法？（ ）

- A.2880 B.5760 C.11520 D.17280

75.王明新买了一本历史小说，在 70 页到 100 页之间。不小心被儿子撕掉了 4 张，剩下的页码总和为 3789。则该书最多有多少页？（ ）

- A.85 B.86 C.93 D.94

第四部分 判断推理

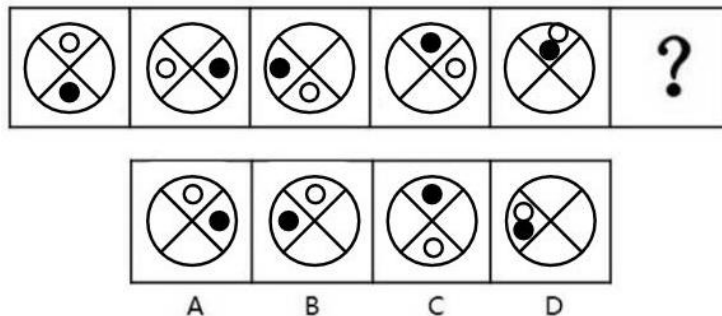
(共 40 题，参考时限 40 分钟)

本部分包括四种类型的试题：

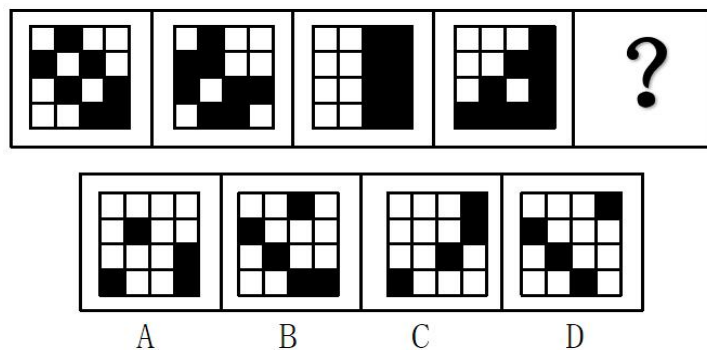
一、图形推理：共 10 题。请按每道题的答题要求作答。

请开始答题：

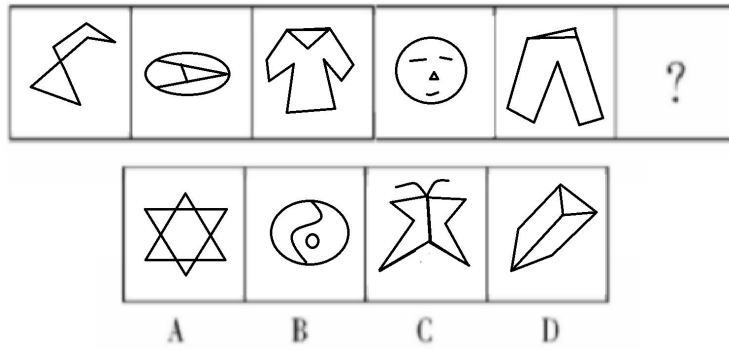
76.请从所给的四个选项中，选择最合适的一个填入问号处，使之呈现一定的规律性（ ）。



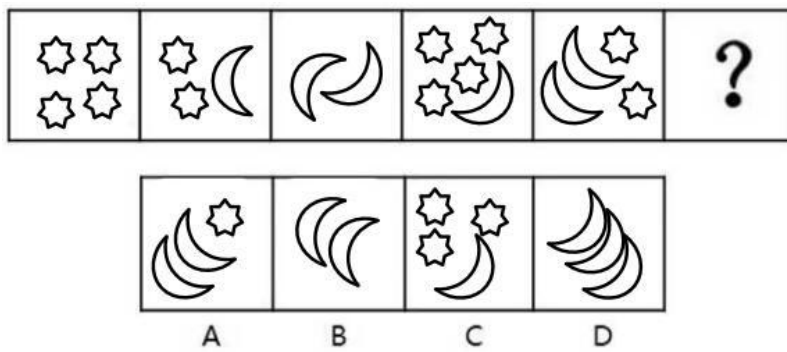
77.请从所给的四个选项中，选择最合适的一个填入问号处，使之呈现一定的规律性（ ）。



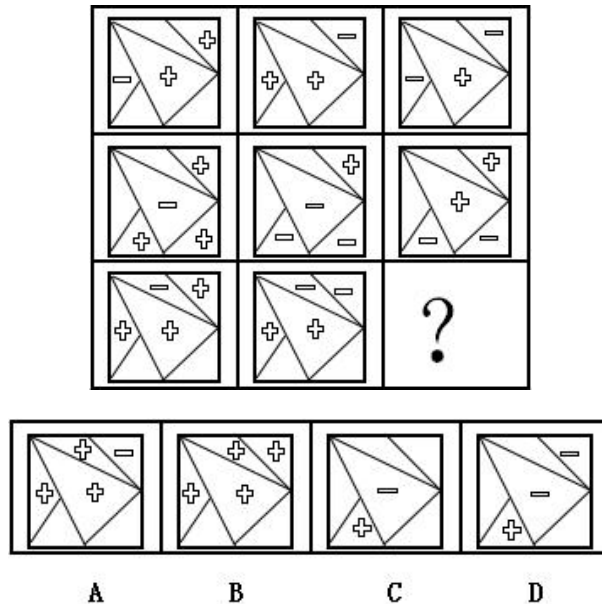
78.请从所给的四个选项中，选择最合适的一个填入问号处，使之呈现一定的规律性（ ）。



79.请从所给的四个选项中，选择最合适的一个填入问号处，使之呈现一定的规律性（ ）。



80.请从所给的四个选项中，选择最合适的一个填入问号处，使之呈现一定的规律性（ ）。



81.把下面的六个图形分为两类，使每一类图形都有各自的共同特征或规律，分类正确的一项是（ ）。

- A.某小镇地处交通要塞，居民为了获利私自建设了收费站，被相关部门发现后责令当即拆除
- B.某地汽车经销商推行零利率购车，引起了同行的不满，认为其行为扰乱了市场秩序，同行去有关部门举报，有关部门认为该行为不符合相关规定，责令当即取消
- C.为了缓解景区的旅游旺季大流量，某地政府制定了相应的游客限流政策，等旅游旺季一过，该政策就被取消
- D.某地政府出台车辆过马路不让行人要处 500 元罚款的规定，群众反应很激烈觉得处罚过高，月底该政府就取消了该规定

89.社会体育也称“群众体育”“大众体育”，是与学校体育，竞技体育对应的概念。由企、事业单位职工，以及城镇居民与农民，为达到健身、健心、健美、娱乐、医疗等目的而进行的内容丰富、形式多样的身体锻炼活动。

根据上述定义，下列选项中不属于社会体育的是（ ）。

- A.在市体育馆举办的居民广场舞比赛 B.合作企业之间举行的联谊篮球赛
- C.社区与社区之间举办的居民乒乓球赛 D.在东北举行的国际滑雪大赛

90.“高位嫁接”是指将相对较高层次、较高素质的人才充实到经济建设和社会发展一线主战场，实现高层次人才与基层组织的结合，高素质专业人才与劳动群众的结合。

根据上述定义，下列选项中属于高位嫁接的是（ ）。

- A.医院刚入职的实习医生被委派到急诊科跟着主任医师学习
- B.某导弹研发专家辞职后去创办了自己的科技公司
- C.水平超高的专业建筑师被委派到乡村进行农房改造工作
- D.甲公司派员工去丙公司学习专业技术

91.合成字指本来是一个常用词语、词组，但后来由于这些词语、词组在方言中使用的频率很高的原因，就把这些词语在讲究字形美观的前提下原封不动地组合成了一个独有的汉字。

根据上述定义，下列选项中不属于合成字的是（ ）。

- A.甬，读作 b é ng，表示不要或者不用 B.耷，读作 d ā，表示耳朵下垂
- C.彘，读作 n ā o，表示坏，或者不好 D.奘，读作 ch ì，表示火的颜色，即红色

92.简单命题指不包含其他命题作为其组成部分的命题，即在结构上不能再分解出其他命题的命题。一般又分为两类，一类是直言命题，它只有一个主项和一个谓项，谓项反映的是对象的性质；另一类的是关系命题，它不限于一个主项，谓项反映的是主项之间存在的关系。

根据上述定义，下列选项中不属于直言命题的是（ ）。

- A.金属是导电的 B.雪是白色的
- C.今天天气好 D.我和你在一起

93.周边产品指利用动画、漫画、游戏等作品中的人物或动物造型，经授权后制成的商品。对于提供了造型的漫画家或出版商，制作周边产品的厂家会向其支付一定比例的“著作权使用费”。

根据上述定义，下列选项中不属于周边产品的是（ ）。

- A.迪士尼乐园里出售的各种玩具和挂件

- B.根据官方授权制作的动画拼图
- C.某人根据自己喜爱的游戏角色给自己做了一个手办
- D.环球影城里出售的正版哈利波特玩具

94.隧道视野效应：一个人若身处隧道，他看到的就只是前后非常狭窄的视野，所以拥有远见和洞察力，视野开阔，方能看得高远。

根据上述定义，下列选项中不涉及隧道视野效应的是（ ）。

- A.井底之蛙
- B.识时务者为俊杰
- C.目光如豆
- D.水中捞月

95.程序性决策也叫常规性决策，是指决策者对所决策的问题有法可依，有章可循，有先例可参考的结构性强，重复性的日常事务所进行的决策；非程序性决策，也叫非常规性决策，是指决策者对所决策的问题无法可依，无章可循，无先例可供参考的决策，是非重复性的、非结构性的决策。

根据上述定义，以下属于非常规性决策的是（ ）。

- A.财务报销
- B.生产计划调度
- C.联想收购 IBM 的 PC 机事业部
- D.文件收发

三、类比推理。共 10 题。每道题先给出一组相关的词，要求你在备选答案中找出一组与之在逻辑关系上最为贴近、相似或匹配的词。

请开始答题：

96.香槟酒：葡萄酒

- A.自行车：三轮车
- B.混凝土：建筑材料
- C.整数：自然数
- D.羽毛球拍：运动

97.螺蛳粉：榴莲

- A.冷面：贡菜
- B.椰子：菠萝蜜
- C.莜笋：小米
- D.柳树：银杏树

98.痛不欲生：死去活来

- A.南征北战：走南闯北
- B.偷梁换柱：移花接木
- C.汗牛充栋：罄竹难书
- D.爱财如命：挥金如土

99.沿海地区：东部地区

- A.文学作品：原创作品
- B.偷换概念：逻辑谬误
- C.自然现象：社会现象
- D.光明日报：人民日报

100.丽江市：玉龙雪山景区

- A.宜昌市：三峡大坝旅游区
- B.南平市：井冈山风景旅游区
- C.黑龙江：长白山景区
- D.泰安市：九华山风景区

101.北京：上海：重庆

- A.湖北：荆州：宜昌
- B.无锡：杭州：南昌
- C.成都：郑州：南京
- D.安徽：合肥：长沙

102.物理变化：化学变化：火柴燃烧

- A.哺乳动物：脊椎动物：美洲臭鼬
B.有色金属：稀有金属：稀土
C.进口商品：出口商品：苹果电脑
D.成年人：未成年人：儿童
- 103.学士：硕士：学位
A.亲情：友情：感情
B.初中：高中：学历
C.田径运动：球类运动：体育运动
D.天王星：海王星：行星
- 104.音符 对于 () 相当于 () 对于 电脑
A.音节 显示器
B.歌曲 键盘
C.作曲人 程序
D.情感 游戏
- 105.电扇 对于 () 相当于 () 对于 铅笔
A.油汀 毛笔
B.空调 钢笔
C.扇子 笔芯
D.扇叶 圆珠笔

四、逻辑判断：共 10 题。每道题给出一段陈述，这段陈述被假设是正确的，不容置疑的。要求你根据这段陈述，选择一个答案。注意：正确的答案应与所给的陈述相符合，不需要任何附加说明即可以从陈述中直接推出。

请开始答题：

106.某校四位女生小薇、小芳、小玉、小美与四位男生小勇、小政、小祥、小立进行乒乓球比赛，每桌男女对弈，四张乒乓球桌水平排开。前两局结束时的比分为 4:0、3:1、2:2、2:2。具体规则如下：

- (1) 选手每胜一局得 2 分，和局 1 分，负一局得 0 分；
- (2) 小勇在小薇和小芳的中间桌比赛，前两局结束时小美所在的球桌只有一场平局；
- (3) 前两局结束时小勇在前两局全场得分最低。

根据上述信息，前两局比赛结束时谁的总积分最高？ ()

- A.小玉 B.小祥 C.小芳 D.小立

107.某教师资格证培训班的学生在上完课后有百分之六十的人拿到了相应的教师资格证。由此，该培训班的负责人表示，培训班的效果特别好，对学生教师资格证的取得有很大帮助。

以下哪项如果为真，最能质疑上述结论？ ()

- A.该培训班的老师上课不够用心
B.如果不参加这次培训班，本班考上教师资格证的比例会有百分之七十
C.有一些学生在课程期间请假，课程没有全部上完
D.有一些学生连续参加该培训机构的辅导班多次也没有考取教师资格证

108.瘦身排毒要管住嘴，吃得对最重要。广州医科大学第二附属医院营养师曾婷说，海带所含有的胶质和岩藻多糖可增进肠道蠕动，而且，海带可以减少脂肪的吸收，它的热量较低，干海带热量大约 90 千卡，湿海带大概仅有 10 多千卡。可见，海带是排毒瘦身优选。

以下哪项如果为真，最能削弱上述观点？ ()

- A.海带既可做汤，亦可做凉菜，还能增加鲜甜味

- B.西芹是热量很低的食物，对身体几乎毫无负担
- C.增加肠道蠕动减少脂肪吸收并不一定能够排毒
- D.只要能减少脂肪的吸收就能有助于瘦身和排毒

109.导游作者：我参观过全国各地的旅馆，并注意到在 1930 年以前建造的旅馆中，原始木作品的质量通常优于后来建造的旅馆。显然，1930 年以前在酒店工作的木匠通常比后来在酒店工作的木匠更有技能、更细心、更努力。

以下哪一项，如果是真的，最严重地削弱了导游作者的论点？（ ）

- A.旅馆的原始木工的质量通常远高于其他结构，如房屋和商店的原始木工的质量
- B.自 1930 年以来建造的旅馆一般比 1930 年以前建造的旅馆能容纳更多的客人
- C.1930 年以前工作的木匠所能得到的材料与 1930 年以后工作的木匠所能得到的材料的质量没有明显的差别
- D.建筑物中原有木工的质量越好，建筑物被废弃和拆除的可能性就越小

110.为了减少原材料的浪费，斯珀兰政府正在考虑要求家用电器在丢弃时要进行分解以重新利用。为了支付回收利用的费用，政府正计划收取一笔费用，并在家电首次出售时征收。然而，在回收利用时收费将更有效地减少废物丢弃，因为如果消费者面临支付丢弃旧电器的费用，他们往往会将电器保留较长时间。

以下哪一项如果为真，能最严重地削弱了这一论点？（ ）

- A.增加丢弃电器的费用，会提高人们不合理处理旧电器的比例
- B.这项费用并没有鼓励制造商生产更耐用的电器
- C.最近购买新电器的人士，在若干年内无须缴纳处理费
- D.许多目前被丢弃的不起作用的电器可以用相对较少的费用进行修理

111.据国外媒体报道，在试图记住新知识时，传统观点认为投入的精力越多，记忆效果就越好。但一项新研究指出，偶尔放空一下也许才是最好的做法。实验发现把灯光调暗，靠在椅背上，在休息时“将干扰降到最小”，静静沉思 10 到 15 分钟，记忆的效果远比拼命去记好得多。

以下哪项如果为真，最能削弱最新观点？（ ）

- A.实验者在实验室做研究时会更紧张，更看重实验的结果，这与日常生活中的记忆环境有很大差别
- B.人脑对新信息的记忆在记忆刚刚形成时格外脆弱，很容易受随后接收的新信息干扰
- C.实验发现，减小干扰后试验对象在相同处理下记住单词的数量从 14%增长到了 49%
- D.很多国内外记忆方面的知名专家也对这个结论持怀疑态度，认为结果的推广性不强

112.在一份有关于 1000 人的调查对象中，包括老人，儿童，青少年等各个年龄段的被测试对象，结果发现，经常运动者会比“肢体不勤”者的快乐感多出 52%。而有时运动但是频率不高，这群人的快乐感，还是比完全不运动者高出 21%。也就是说，运动可以使人快乐。

以下哪项如果为真，最能削弱上述结论？（ ）

- A.快乐的人喜欢唱歌居多
- B.运动的人都吃美味的食物
- C.运动可以使儿童更加健康
- D.快乐可以使人更加热爱生活

113.只有将使用绿城机场的定期航班数量减少 10%，才能避免那里常见的航班延误。40 英里外的赫维利亚简易机场，如果升级和扩建，对于使用绿城机场的 20%的乘客来说将是一种有吸引力的选择。然而，专家们对将赫维利亚改造成一个全面服务的机场从而能结束绿城机场长期延误的说法持反对态度。

下列哪一项，如果是真的，最有助于证明专家的立场是正确的？（ ）

A.要将赫维利亚建成一个全面服务的机场，不但需要在机场本身进行大量的建设，而且还须兴建新的高速公路

B.对于现在使用绿城机场的许多乘客来说，在绿城机场附近建造一个基本上未开发的第二个简易机场，将是一个比赫维利亚更有吸引力的选择

C.赫维利亚机场位于一个相对不发达的地区，但如果它成为一个服务全面的机场，它将成为商业和住宅发展的助推器

D.有几家航空公司使用绿城作为中转枢纽，大多数在绿城降落的航班中有许多乘客再次乘坐别的航班到达最终目的地

114.到目前为止，巴利西亚在谷物和肉类上都能做到自给自足。然而，随着经济的繁荣，巴利西亚在肉类上的人均消费将会呈现稳定的增长，并且通常要用几磅的谷物去生产一磅的肉类。因此，在人均收入逐渐提高但谷物的产量并没有提高的情况下，巴利西亚很快会成为谷物的进口国。

以下哪项如果为真，最能削弱上述观点？（ ）

A.当人们对于肉的需求增长时，同时也会对于谷物有更多的需求

B.对于所有的收入阶层，大家对于肉类的需求都相差无几

C.那些可能向巴利西亚出口肉类的国家，本国的肉类人均消耗量没有增加

D.巴利西亚直接进口肉类比进口谷物更划算

115.近期有统计显示杭州市的土地出让价格再创历史新高，有专家预测杭州市的房价又要上涨了。

上述论述的假设前提是什么？（ ）

A.预测的专家是这方面的权威，对房地产的预测历史上从未出错

B.购房者不会受到该预测的影响

C.土地出让价格与房价息息相关

D.全国的房价都有上涨的趋势

第五部分 资料分析

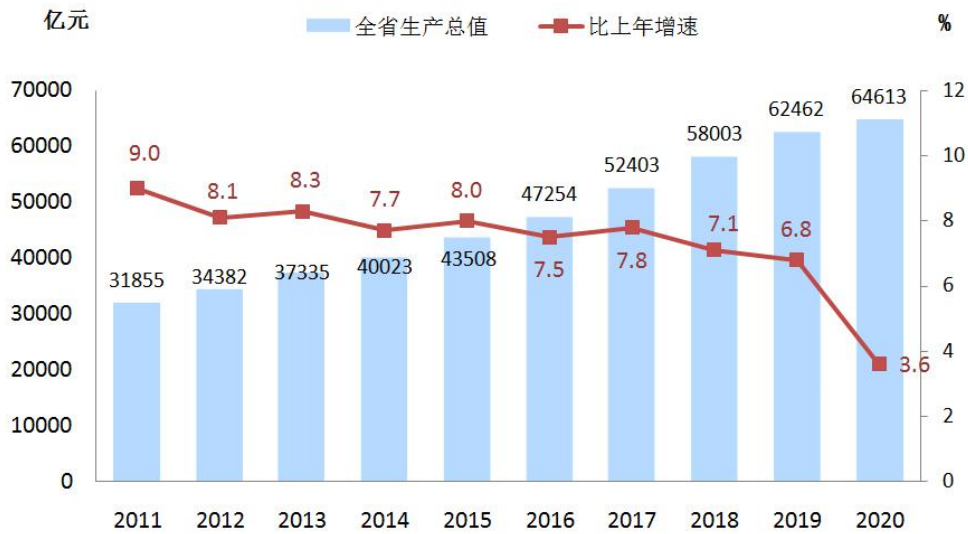
(共 15 题，参考时限 15 分钟)

所给出的图、表、文字或综合性资料均有若干个问题要你回答，你应根据资料提供的信息进行分析、比较、计算和判断处理。

请开始答题：

一、根据以下资料，回答 116~120 题。

图一 2011~2020 年浙江省全省生产总值及增长速度



表二 2020 年全省居民人均收支主要指标

指 标	全省居民		城镇常住居民		农村常住居民	
	绝对数 (元)	比上年增长 (%)	绝对数 (元)	比上年增长 (%)	绝对数 (元)	比上年增长 (%)
人均可支配收入	52397	5.0	62699	4.2	31930	6.9
工资性收入	30059	5.4	35370	5.1	19510	5.6
经营净收入	8313	-2.2	8672	-4.9	7601	4.2
财产净收入	6136	7.5	8747	6.7	949	11.4
转移净收入	7888	9.8	9910	7.7	3871	19.2
人均生活消费支出	31295	-2.3	36197	-3.5	21555	1.0

注：表中全省居民仅包含城镇常住居民和农村常住居民。

116.2019 年，城镇常住居民财产净收入约是农村常住居民财产净收入的多少倍？（ ）

- A.7.4 B.8.7 C.9.6 D.11.5

117.2010 年，浙江省全省生产总值约为多少亿元？（ ）

- A.27351 B.29225 C.30228 D.32015

118.2011~2020 年浙江省全省生产总值同比增量低于 3000 亿元的年份有几个？（ ）

- A.2 B.3 C.4 D.5

119.2020 年，城镇常住居民占全省居民的比重约为（ ）。

- A.34.3% B.42.8% C.66.5% D.71.2%

120.能够从上述资料中推出的是（ ）。

- A.2020 年，浙江省生产总值同比增速比 2016 年高 3.9 个百分点

- B.2011~2020年,浙江省生产总值最高的年份,其生产总值同比增速也是最高
 C.2019年,农村常住居民工资性收入超过19000元
 D.2020年,全省居民转移净收入占人均可支配收入的比重较去年同期上升

二、根据以下资料,回答121~125题。



- 121.2016~2018年电影票房总和约是2012~2014年电影票房总和的多少倍? ()
 A.1.4 B.1.7 C.2.4 D.3.1
- 122.下列各年份中,中国电影总票房同比增速最快的是 ()。
 A.2013年 B.2016年 C.2017年 D.2018年
- 123.假使保持2018年的电影票房同比增量,那么我国电影总票房将在哪一年首次超过1000亿元?
 ()
 A.2025年 B.2026年 C.2027年 D.2028年
- 124.2012~2018年,中国电影总票房同比增量最多的年份是 ()。
 A.2013年 B.2014年 C.2018年 D.2015年
- 125.能够从上述资料中推出的是 ()。
 A.2018年电影总票房相较于2012年来说翻了两番
 B.2015年电影总票房是2013年的1.8倍
 C.2017年电影总票房比2014年多了263.72亿元
 D.2014年,中国电影总票房同比增速超过35%

三、根据以下资料,回答126~130题。

2020年3月末,全省金融机构人民币各项存款余额58166.3亿元,同比增长8.1%,余额比年初增加3788.5亿元。人民币贷款余额47512.9亿元,同比增长15.2%,余额比年初增加3223.6亿元。其中,企

(事) 业单位贷款余额增长 15%、同比加快 3.7 个百分点, 余额比年初增加 2257.3 亿元; 工业贷款余额增长 9%、同比加快 5.3 个百分点, 余额比年初增加 481.4 亿元、同比多增 341.4 亿元。

2020 年一季度, 全省进出口总额 154.8 亿美元, 同比下降 4.2%。其中, 出口 81 亿美元, 下降 8.1%; 进口 73.8 亿美元, 增长 0.6%。实际利用外商直接投资 44.9 亿美元, 增长 2.4%。

2020 年一季度, 全省财政收入 1406 亿元, 同比下降 13%。财政支出 1835.6 亿元, 下降 13.9%, 其中卫生健康、农林水、住房保障、粮油物资储备、商业服务业等民生支出占比由上年同期的 21.5% 提高到 26.9%。

2020 年一季度, 全省居民消费价格同比上涨 4.9%, 其中 1 月、2 月、3 月分别上涨 5.7%、5% 和 4%。分类别看, 食品烟酒价格上涨 14.8%, 其他用品和服务价格上涨 4.1%, 教育文化和娱乐价格上涨 1.6%, 医疗保健价格上涨 1.3%, 衣着价格上涨 0.4%, 居住价格上涨 0.3%, 生活用品及服务价格上涨 0.2%, 交通和通信价格下降 2%。在食品烟酒价格中, 粮食价格上涨 1.3%, 鲜菜价格上涨 4.9%, 猪肉价格上涨 1.2 倍。2020 年一季度, 工业生产者出厂价格同比上涨 0.2%, 其中 3 月份下降 1%。工业生产者购进价格下降 0.9%, 其中 3 月份下降 1.9%。

126. 2020 年一季度, 全省出口总额占进出口总额的比重与上年同期相比约 ()。

- A. 上升 3.6 个百分点
B. 下降 3.6 个百分点
C. 上升 2.2 个百分点
D. 下降 2.2 个百分点

127. 2020 年一季度, 下列各项同比增速最快的是 ()。

- A. 粮食价格
B. 猪肉价格
C. 工业生产者出厂价格
D. 教育文化和娱乐价格

128. 2020 年年初, 全省金融机构人民币各项存款余额比 2019 年 3 月末该项余额约多多少亿元?

()

- A. 多 100~400 亿元
B. 多 500~800 亿元
C. 多 900~1200 亿元
D. 多 1300~1600 亿元

129. 2020 年一季度, 下列哪项同比增量最多? ()

- A. 全省进出口总额
B. 全省财政收入
C. 全省进口总额
D. 实际利用外商直接投资

130. 能够从上述资料中推出的是 ()。

- A. 2020 年 1~2 月, 工业生产者出厂价格同比增速一定小于 -1%
B. 2020 年一季度, 全省进出口总额比去年同期减少超过 5 亿美元
C. 2020 年 3 月末, 全省金融机构人民币贷款余额同比增长超过 6500 亿元
D. 2019 年一季度, 全省出口总额超过 100 亿美元