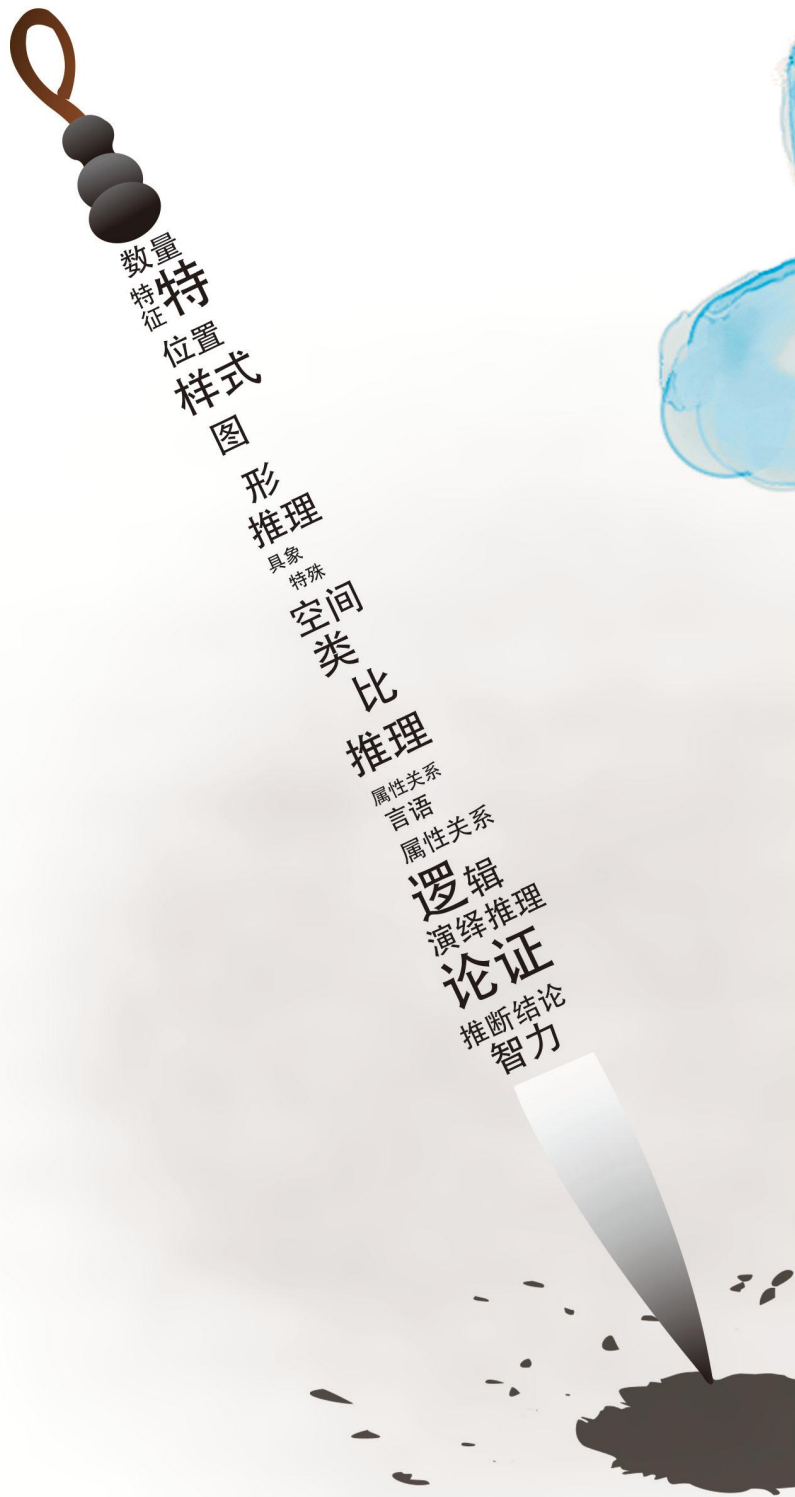


行测



小题海

判断推理

目 录

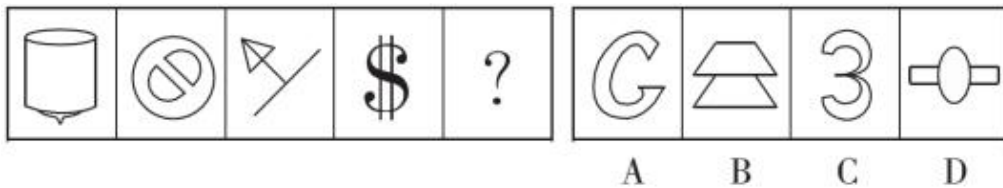
行测·小题海·判断推理

第一辑.....	3	第二十六辑.....	100
第二辑.....	6	第二十七辑.....	104
第三辑.....	9	第二十八辑.....	109
第四辑.....	12	第二十九辑.....	114
第五辑.....	15	第三十辑.....	120
第六辑.....	18	第三十一辑.....	122
第七辑.....	21	第三十二辑.....	124
第八辑.....	24	第三十三辑.....	126
第九辑.....	27	第三十四辑.....	129
第十辑.....	30	第三十五辑.....	133
第十一辑.....	33	第三十六辑.....	135
第十二辑.....	36	第三十七辑.....	138
第十三辑.....	39	第三十八辑.....	140
第十四辑.....	44	第三十九辑.....	143
第十五辑.....	49	第四十辑.....	145
第十六辑.....	54	第四十一辑.....	147
第十七辑.....	59	第四十二辑.....	150
第十八辑.....	63	第四十三辑.....	154
第十九辑.....	68	第四十四辑.....	159
第二十辑.....	72	第四十五辑.....	163
第二十一辑.....	77	第四十六辑.....	169
第二十二辑.....	81	第四十七辑.....	174
第二十三辑.....	86	第四十八辑.....	179
第二十四辑.....	90	第四十九辑.....	183
第二十五辑.....	95	第五十辑.....	188

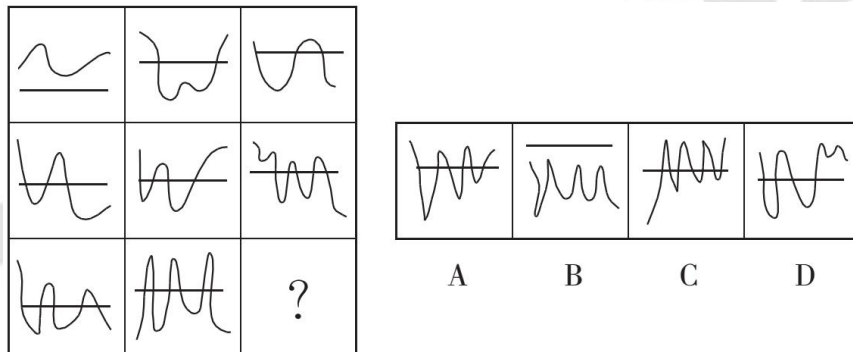
行测·小題海·判断推理

第一辑

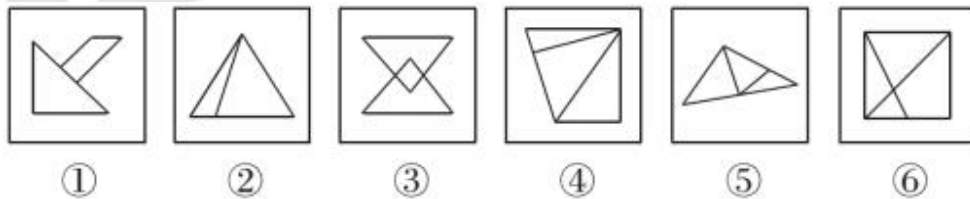
1. 请从所给的四个选项中，选择最合适的一个填入问号处，使之呈现一定的规律性。



2. 请从所给的四个选项中，选择最合适的一个填入问号处，使之呈现一定的规律性。

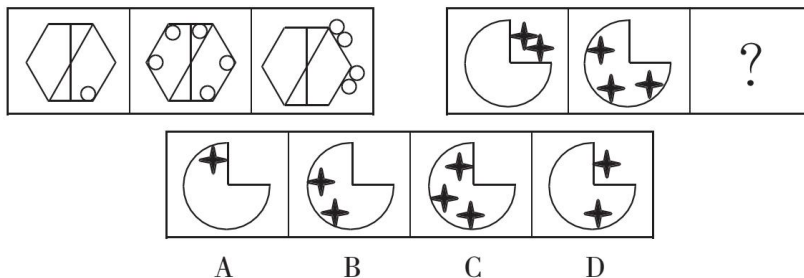


3. 将以下哪两个图交换位置后，所形成的图形序列呈现出一定的规律性？（ ）

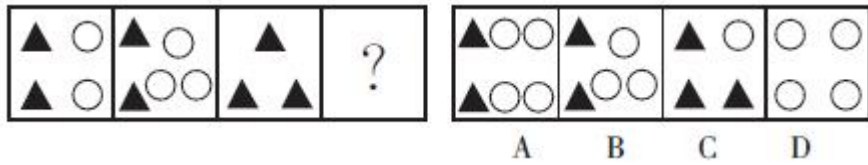


- A. ①与② B. ②与③ C. ③与④ D. ④与⑤

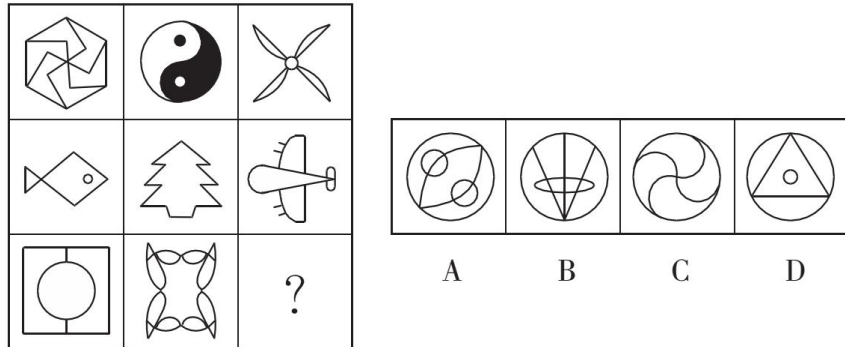
4. 请从所给的四个选项中，选择最合适的一个，使之呈现一定的规律性。



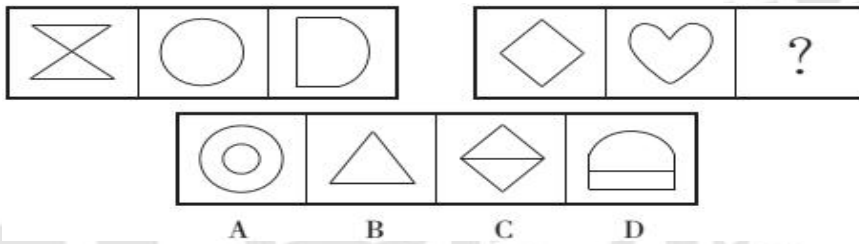
5. 从所给的四个选项中，选择最合适的一个填入问号处，使之呈现一定的规律性。



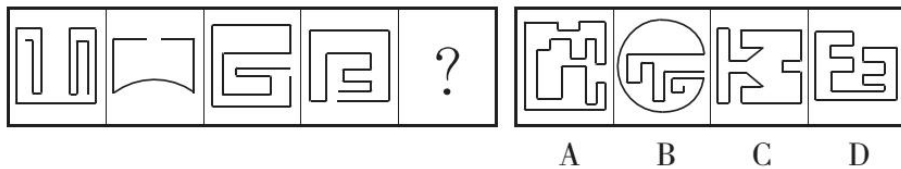
6. 请从所给的四个选项中，选择最合适的一个填入问号处，使之呈现一定的规律性。




7. 从所给的四个选项中，选择最合适的一个填入问号处，使之呈现一定规律性。



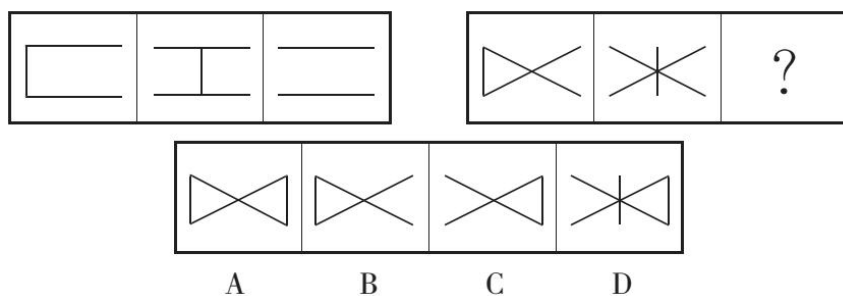
8. 请从所给的四个选项中，选择最合适的一个，使之呈现一定的规律性。



9. 从所给四个选项中，选择最合适的一个填入问号处，使之呈现一定的规律性。



10. 请从所给的四个选项中，选择最合适的一个，使之呈现一定的规律性。



【参考答案及解析】

1. 【答案】D。解析：题干各图形的笔画数依次为 2、3、2、3、(2)，各选项的笔画数依次为 1、1、1、2，只有 D 项符合。故本题选 D。

2. 【答案】C。解析：题干第一行各图形的封闭空间数分别为 0、1、2，第二行各图形的封闭空间数分别为 2、3、4，第三行各图形的封闭空间数分别为 4、5、(6)，只有 C 项符合。故本题选 C。

3. 【答案】B。解析：将②与③交换位置后，各图形的三角形个数依次为 1、2、3、4、5、6。故本题选 B。

4. 【答案】A。解析：第一组第一个图形和第三个图形中的小圆圈个数等于第二个图形中的小圆圈个数。第二组图形也遵循此规律，则问号处图形中的四角星个数应为 1，只有 A 项符合。故本题选 A。

5. 【答案】C。解析：题干第二个图形比第一个图形多 1 个○，第三个图形比第二个图形少 3 个○、多 1 个▲。考虑元素换算，若 1 个▲=4 个○，则各图形中○的个数依次为 10、11、12、?，则问号处图形应等价于 13 个○。观察选项，只有 C 项符合。故本题选 C。

6. 【答案】A。解析：题干第一行各图形均无对称轴，第二行各图形均有 1 条对称轴，第三行各图形均有 2 条对称轴，只有 A 项符合。故本题选 A。

7. 【答案】D。解析：题干第一组图形中，第一个为纯直线图形，第二个为纯曲线图形，第三个为直曲混合图形。第二组图形遵循此规律，问号处应为直曲混合图形。观察选项，只有 D 项符合。故本题选 D。

8. 【答案】B。解析：各图形均不含封闭空间，只有 B 项符合。故本题选 B。

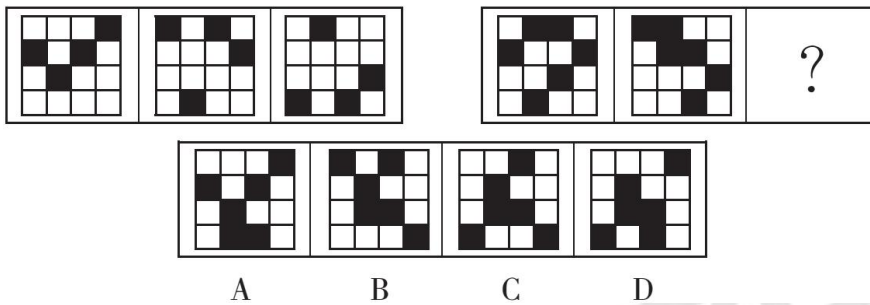
9. 【答案】C。解析：题干每行第一个图形的右上角添加一个深色阴影方块，得到第二个图形，第二个图形的左上角添加一个深色阴影方块，得到第三个图形，则问号处应为 C

项图形。故本题选 C。

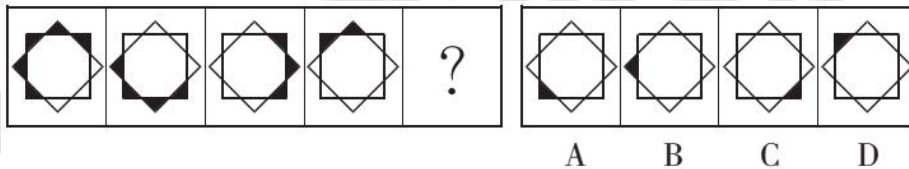
10. 【答案】D。解析：第一组图形中，各图形依次为一笔画、三笔画、两笔画图形。第二组图形遵循此规律，则问号处应为 D 项图形。故本题选 D。

第二辑

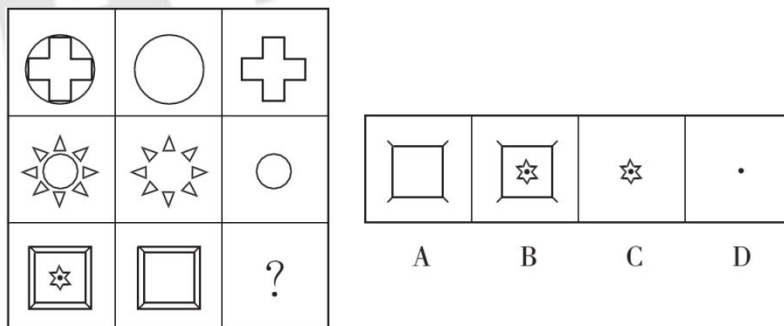
1. 从所给的四个选项中，选择最合适的一个填入问号处，使之呈现一定的规律性。



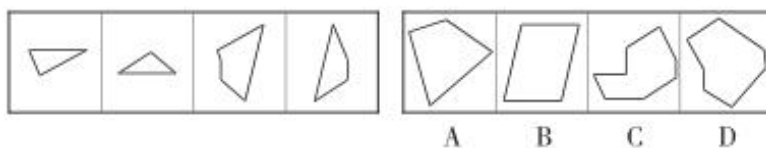
2. 从所给的四个选项中，选择最合适的一个填入问号处，使之呈现一定的规律性。



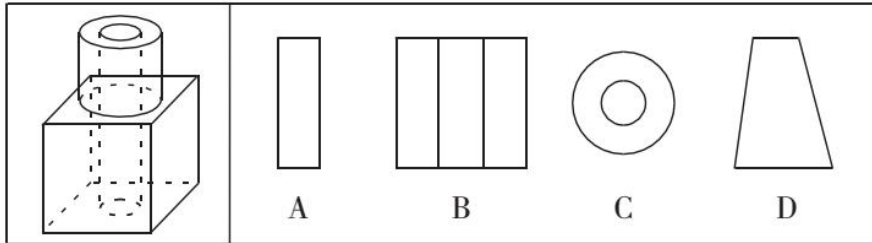
3. 从所给的四个选项中，选择最适合的一个填入问号处，使之呈现一定的规律性。




4. 右边四个图形中，只有一个是左边四个图形拼合（只能通过上、下、左、右平移）而成的，请把它找出来。



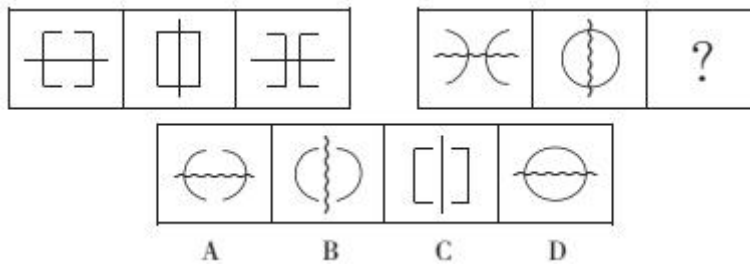
5. 如图所示，立方体上叠加圆柱体再打通一个圆柱孔，然后从任意面剖开，下面哪一项不可能是该立体的截面？（ ）



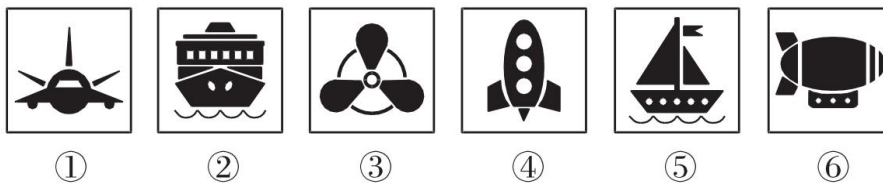
6. 从四个图中选出唯一的一项，填入问号处，使其呈现出一定的规律性。



7. 下列选项中，符合所给图形的变化规律的是（ ）。



8. 把下面的六个图形分为两类，使每一类图形都有各自的共同特征或规律，分类正确的一项是（ ）。

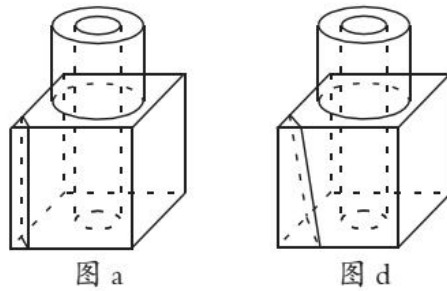


A. ①③④，②⑤⑥

B. ①②⑤，③④⑥

C. ①⑤⑥，②③④

D. ①④⑤，②③⑥



6. 【答案】B。解析：题干各图形均为瓶颈较短且宽、无盖、大口径的瓶子。观察选项，只有B项符合。A项瓶颈较细，C项瓶子有盖，D项瓶颈较长，均排除。故本题选B。

7. 【答案】A。解析：题干第一组图形中，中间直线依次顺时针旋转 90° ，左侧折线依次向右移动，右侧折线依次向左移动，得到后一个图形；第二组图形也应遵循此规律，则问号处应为A项图形。故本题选A。

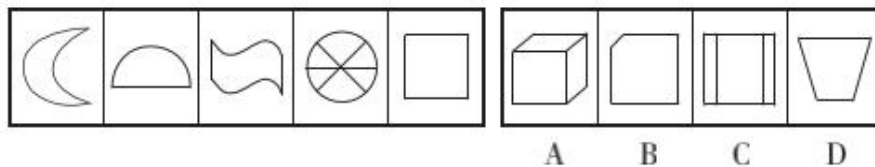
8. 【答案】D。解析：①④⑤图形均由4个独立部分组成，②③⑥图形均由7个独立部分组成。故本题选D。

9. 【答案】D。解析：题干各图形中，第二行左边数字等于最下面一行左边数字与中间数字之和，第二行右边数字等于最下面一行中间数字与右边数字之差的绝对值，最上面的数字等于第二行两个数字之和减1。观察选项，只有D项符合。故本题选D。

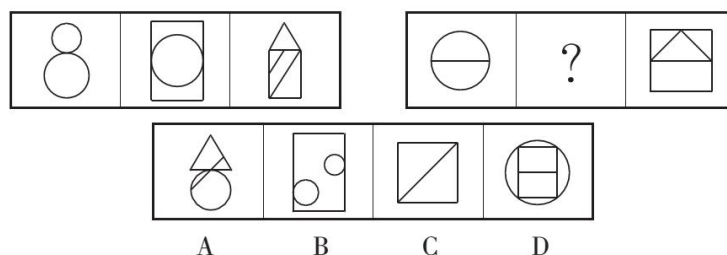
10. 【答案】C。解析：①②⑤图形中，阴影部分面积均占总面积的四分之一；③④⑥图形中，阴影部分面积均占总面积的二分之一。故本题选C。

第三辑

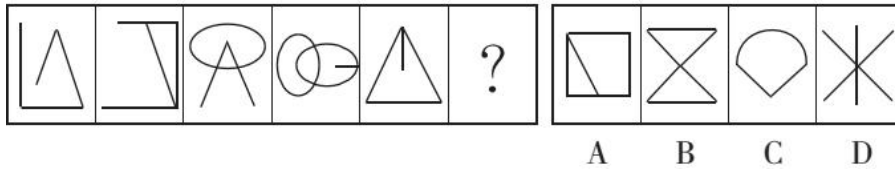
1. 从所给的四个选项中，选择最合适的一个填入问号处，使之呈现一定的规律性。



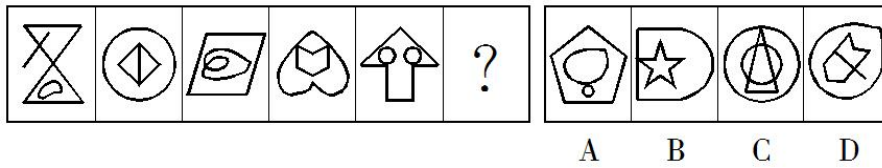
2. 从所给的四个选项中，选择最合适的一个填入问号处，使之呈现一定的规律性。



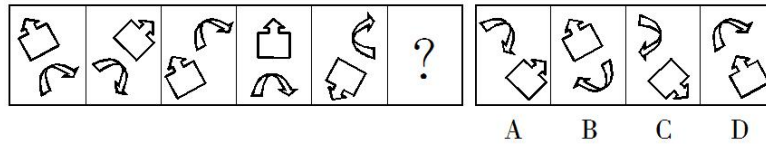
3. 从所给的四个选项中，选择最合适的一个填入问号处，使之呈现一定的规律性。



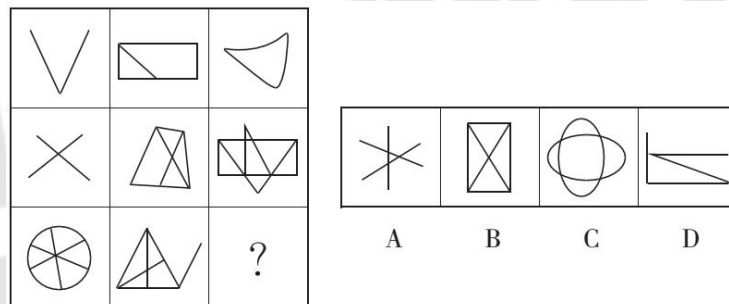
4. 从所给的四个选项中，选择最合适的一个填入问号处，使之呈现一定规律性。



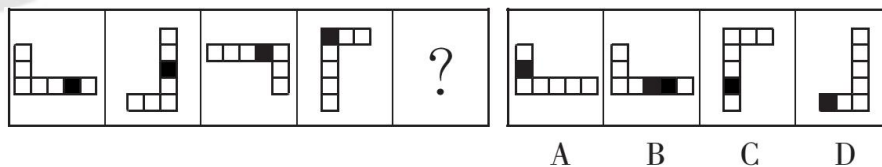
5. 从所给的四个选项中，选择最合适的一个填入问号处，使之呈现一定规律性。



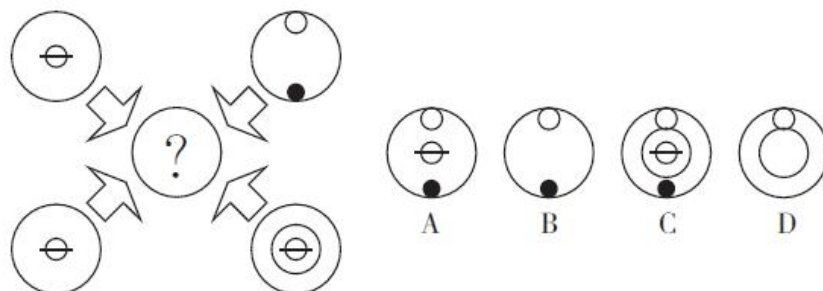
6. 从所给的四个选项中，选择最合适的一个填入问号处，使之呈现一定的规律性。



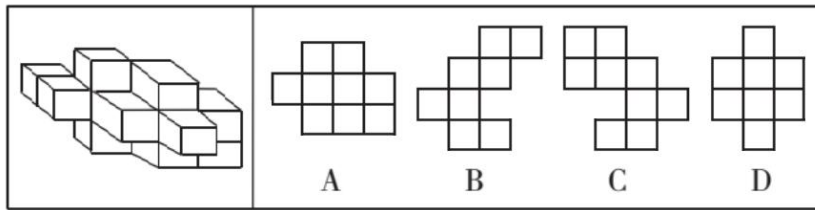
7. 从所给的四个选项中，选择最适合的一个填入问号处，使之呈现一定的规律性。



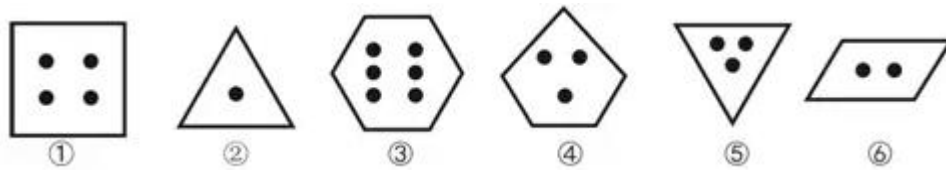
8. 从所给的四个选项中，选择最合适的一个填入问号处，使之呈现一定规律性。



9. 如果从不同方向进行观察，下列不可能出现的剖面图为（ ）。



10. 把下面的六个图形分为两类，使每一类图形都有各自的共同特征或规律，分类正确的一项是（ ）。



- A. ①③⑤，②④⑥
B. ①②④，③⑤⑥
C. ①④⑤，②③⑥
D. ①③⑥，②④⑤

【参考答案及解析】

1. 【答案】B。解析：题干各图形中直线条数依次为 0、1、2、3、4、(5)，观察选项，只有 B 项符合。故本题选 B。

2. 【答案】B。解析：第一组图形中，各图形的封闭空间数依次为 2、3、4。第二组图形遵循此规律，则问号处图形的封闭空间数应为 3，只有 B 项符合。故本题选 B。

3. 【答案】C。解析：各图形交点数均为 3，C 项符合。故本题选 C。

4. 【答案】D。解析：各图形外部图形的直曲性规律依次为直、曲、直、曲、直、(曲)，内部依次为曲、直、曲、直、曲、(直)。观察选项，只有 D 项符合。故本题选 D。

5. 【答案】A。解析：题干各图形中两个元素的箭头背对着指向相反的方向，只有 A 项符合。故本题选 A。

6. 【答案】A。解析：第一行各图形均为一笔画图形，第二行均为两笔画图形，第三行均为三笔画图形，A 项符合。故本题选 A。

7. 【答案】A。解析：题干各图形逆时针依次旋转 90°，内部的阴影方格顺时针依次移动 1 格。故本题选 A。

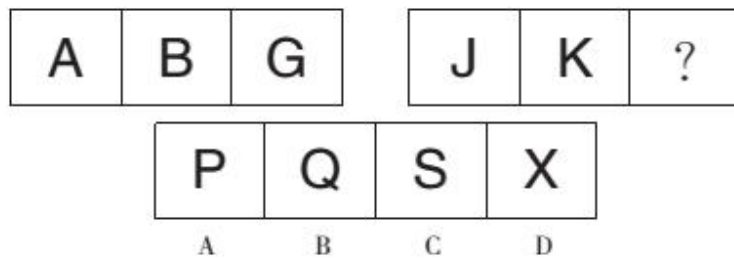
8. 【答案】C。解析：外围四个图形叠加，保留所有元素得到问号处图形，则问号处应为 C 项图形。故本题选 C。

9. 【答案】C。解析：A项是从正面观察得到的，B项从顶面观察可能得到，D项则是从左侧或右侧观察得到的。故本题选C。

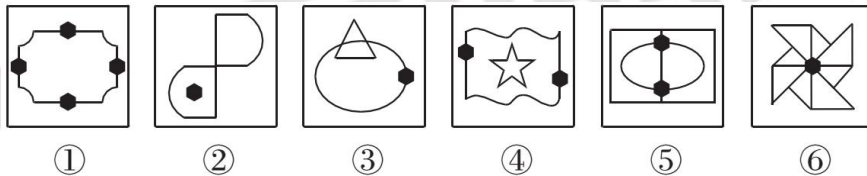
10. 【答案】A。解析：①③⑤图形中，线条数均等于内部黑色圆圈的个数；②④⑥图形中，线条数均比内部黑色圆圈的个数多2。故本题选A。

第四辑

1. 根据所给图形的既有规律，选出一个最合理的答案。（ ）

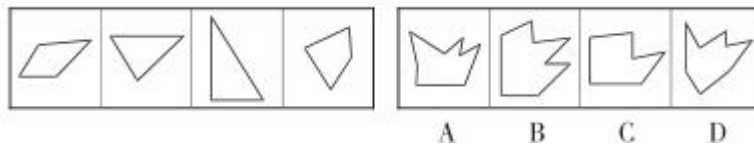


2. 把下面的图形分为两类，使每一类图形都有各自的共同特征或规律，分类正确的一项是（ ）。

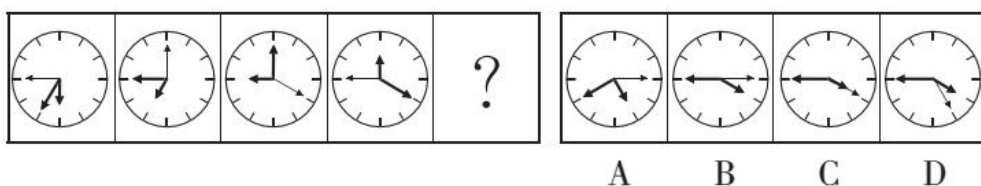


- A. ①②⑥，③④⑤ B. ①③④，②⑤⑥
C. ①③⑤，②④⑥ D. ①②⑤，③④⑥

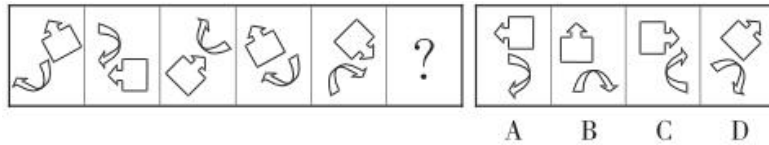
3. 右边四个图形中，只有一个是左边四个图形拼合（只能通过上、下、左、右平移）而成的，请把它找出来。



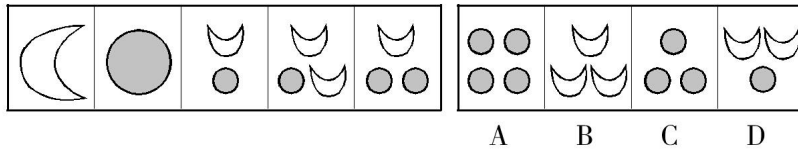
4. 从所给的四个选项中，选择最合适的一个填入问号处，使之呈现一定的规律性。



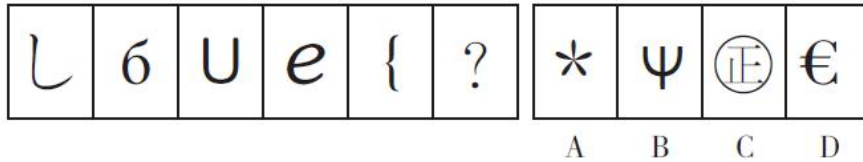
5. 请从所给的四个选项中，选择最合适的一个，使之呈现一定的规律性。



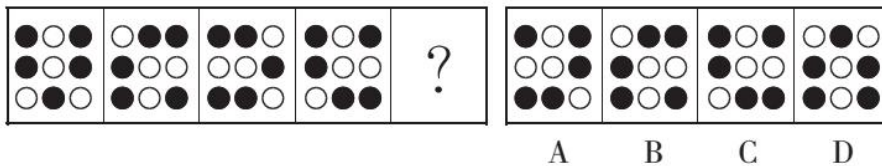
6. 从所给的四个选项中，选择最合适的一个填入问号处，使之呈现一定的规律性。



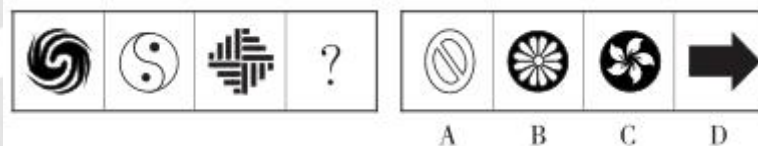
7. 从所给四个选项中，选择最合适的一个填入问号处，使之呈现一定的规律性。



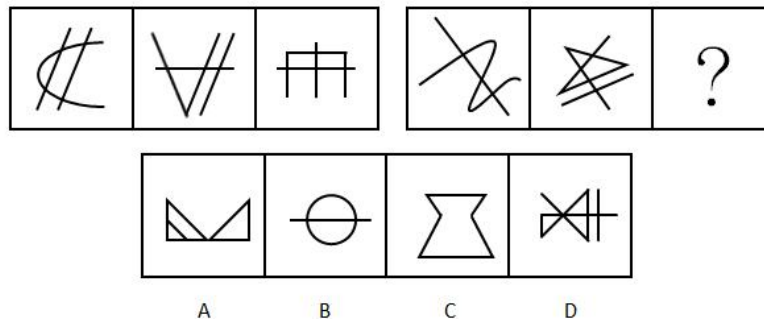
8. 从所给的四个选项中，选择最合适的一个填入问号处，使之呈现一定的规律性。



9. 从所给的四个选项中，选择最适合的一个填入问号处，使之呈现一定的规律性。



10. 从所给的四个选项中，选择最合适的一个填入问号处，使之呈现一定的规律性。



【参考答案及解析】

1. 【答案】A。解析：第一组字母中，A、B 不间隔字母，B、G 间隔 4 个字母（C、D、E、

F); 第二组汉字中, J、K 不间隔字母, 则问号处字母应是与 K 间隔 4 个字母 (L、M、N、O) 的 P。故本题选 A。

2. 【答案】B。解析: ①③④图形中黑色元素位于边框上, ②⑤⑥图形中黑色元素位于内部。故本题选 B。

3. 【答案】B。解析: 题干各图形拼合, 形成的图形如下所示。故本题选 B。



4. 【答案】B。解析: 时针顺时针依次旋转 30° 、 60° 、 90° 、(120°) , 分针顺时针依次旋转 60° 、 90° 、 120° 、(150°) , 秒针顺时针依次旋转 90° 、 120° 、 150° 、(180°) , B 项符合规律。故本题选 B。

5. 【答案】C。解析: 题干各图形中两个元素的箭头指向同一个方向, 排除 B、D 项; 各图形整体均位于外框的对角线上, 排除 A 项。故本题选 C。

6. 【答案】C。解析: 1 个圆相当于 2 个月亮, 将圆替换成月亮后, 题干各图形包含的月亮数依次为 1、2、3、4、5, 则问号处图形应等价于 6 个月亮。观察选项, 只有 C 项符合。故本题选 C。

7. 【答案】C。解析: 奇数项图形均不含封闭空间, 偶数项图形均含封闭空间, 则问号处图形应含封闭空间, 只有 C 项符合。故本题选 C。

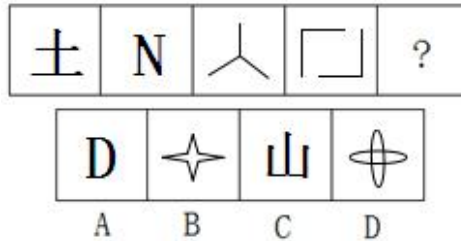
8. 【答案】D。解析: 各图形中, 黑色圆圈均逆时针依次移动 1 个单位, 则问号处为 D 项图形。故本题选 D。

9. 【答案】A。解析: 题干各图形均为非轴对称的中心对称图形, 只有 A 项符合。B 项既是轴对称图形有时中心对称图形, C、D 项不是中心对称图形, 排除。故本题选 A。

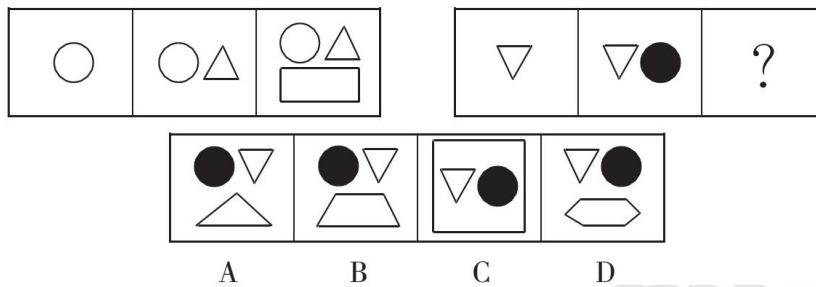
10. 【答案】D。解析: 第一组图形端点数均为 6, 或者均为三笔画图形; 第二组图形端点数应均为 4, 或者均为两笔画图形, D 项符合。故本题选 D。

第五辑

1. 从所给四个选项中，选择最合适的一个填入问号处，使之呈现一定的规律性。

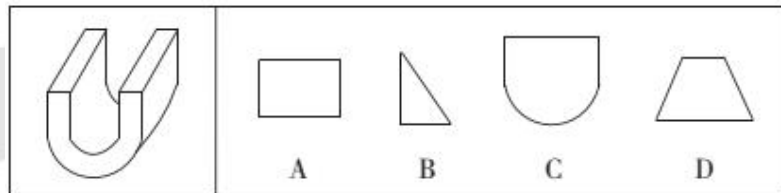


2. 请从所给的四个选项中，选择最合适的一个，使之呈现一定的规律性。

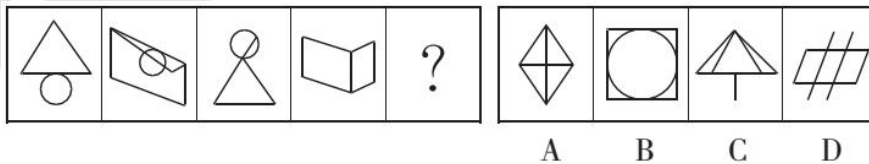


3. 左图是给定的立体图形，将其从任一面剖开，下面哪一项可能是该立体的截面？

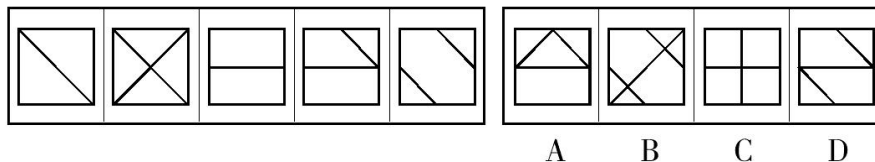
()



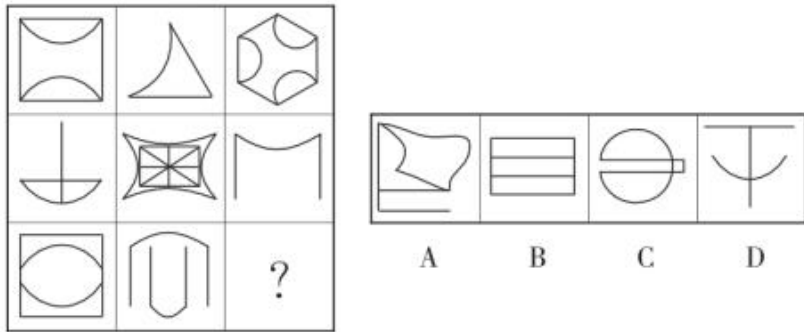
4. 从所给的四个选项中，选择最合适的一个填入问号处，使之呈现一定的规律性。



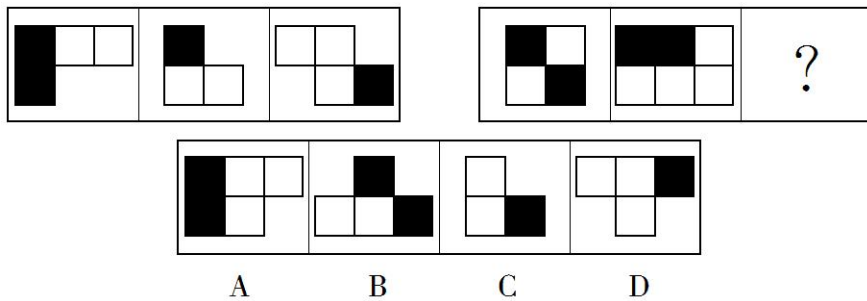
5. 从所给的四个选项中，选择最合适的一个填入问号处，使之呈现一定的规律性。



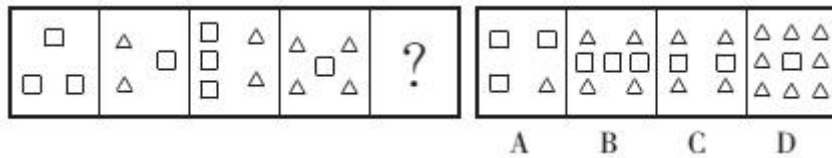
6. 从所给的四个选项中，选择最合适的一个填入问号处，使之呈现一定规律性。



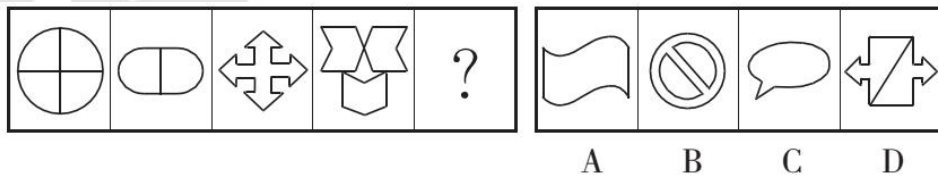
7. 从所给的四个选项中，选择最合适的一个填入问号处，使之呈现一定的规律性。



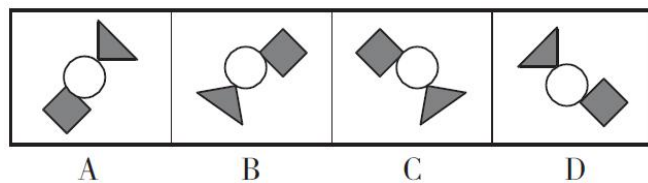
8. 从所给的四个选项中，选择最合适的一个填入问号处，使之呈现一定的规律性。



9. 请从所给的四个选项中，选择最合适的一个，使之呈现一定的规律性。



10. 下列与其他图形不一样的是 ()。



【参考答案及解析】

1. **【答案】C**。解析：题干各图形均为开放图形。观察选项，只有C项符合。故本题选C。

2. **【答案】D**。解析：第一组第一个图形右侧增加一个元素得到第二个图形，第二个图形下方增加一个元素得到第三个图形。第二组图形也遵循此规律，则问号处应为D项图形。故本题选D。

3. **【答案】A**。解析：沿如图所示虚线剖开，可得A项。故本题选A。



4. **【答案】B**。解析：各图形均为一笔画图形，各选项笔画数依次为2、1、2、2，B项符合。故本题选B。

5. **【答案】C**。解析：各图形交点数依次为4、5、6、7、8、(9)，各选项交点数依次为7、10、9、8，C项符合。故本题选C。

6. **【答案】B**。解析：题干各图形均为轴对称图形，且每一行图形的笔画数之和均为6。第三行各图形笔画数依次为：2、2、(2)，则问号处应为B项图形。故本题选B。

7. **【答案】D**。解析：题干第一组图形中，每个图形中的黑白方块数量之比依次为1:1、1:2、1:3，第二组图形遵循此规律，前两个图形中的黑白方块数量之比依次为1:1、1:2，则问号处图形中的黑白方块数量之比应为1:3。观察选项，只有D项符合。故本题选D。

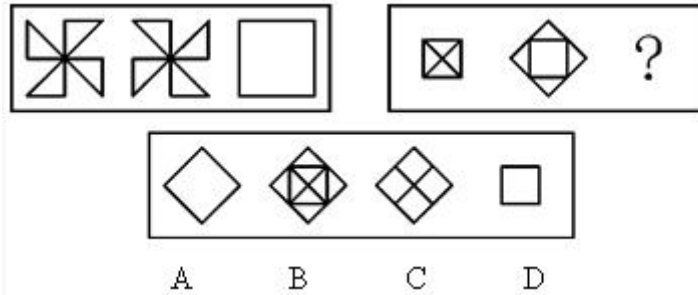
8. **【答案】B**。解析：题干中有两种元素，且规律都是杂乱无章的，考虑将其中一种元素替换为另一种。若将1个△换成2个□，则各图形的“□”个数依次为3、5、7、9，因此问号处应该等价于11个□，只有B项符合。故本题选B。

9. **【答案】B**。解析：各图形均为轴对称图形，只有B项符合。故本题选B。

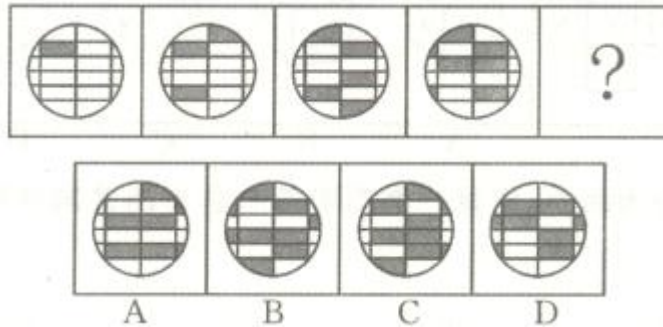
10. **【答案】B**。解析：A、C、D三项图形各自旋转后均能重合，B项则需要由其他三项翻转得到（对比B、C项可以发现，B项正方形偏右）。故本题选B。

第六辑

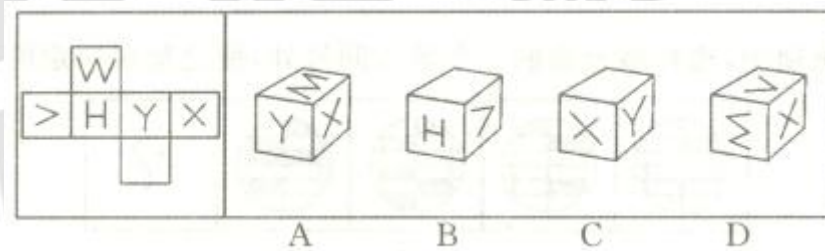
1. 请从所给的四个选项中，选择最合适的一项填入问号处，使之呈现一定的规律性。




2. 请从所给的四个选项中，选择最合适的一项填入问号处，使之呈现一定的规律性。



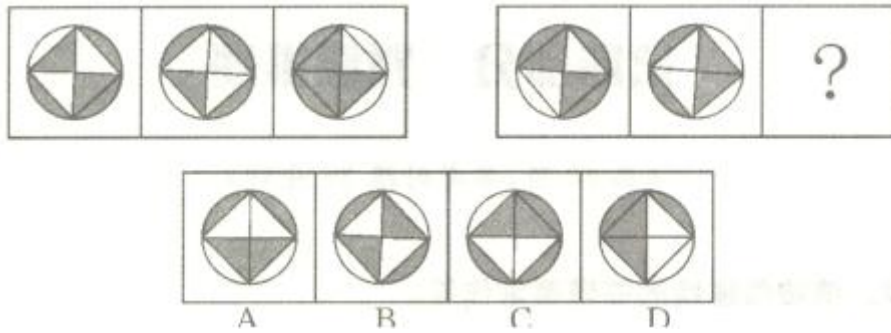
3. 左边给定的是纸盒外表面的展开图，右边哪一项能由它折叠而成？（ ）



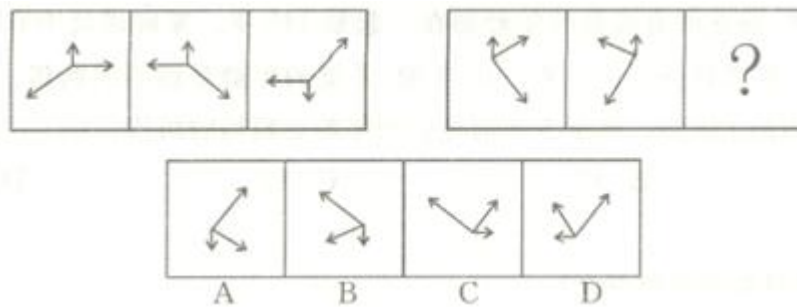
4. 请从所给的四个选项中，选择最合适的一项填入问号处，使之呈现一定的规律性。



5. 请从所给的四个选项中，选择最合适的一项填入问号处，使之呈现一定的规律性。



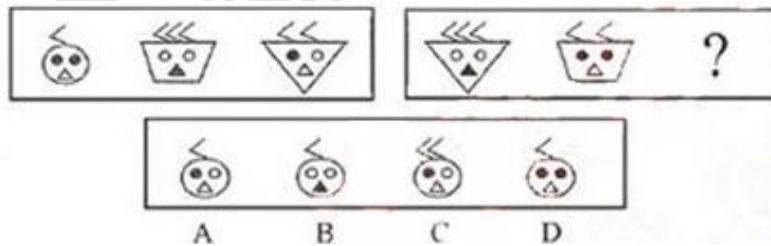
6. 请从所给的四个选项中，选择最合适的一项填入问号处，使之呈现一定的规律性。



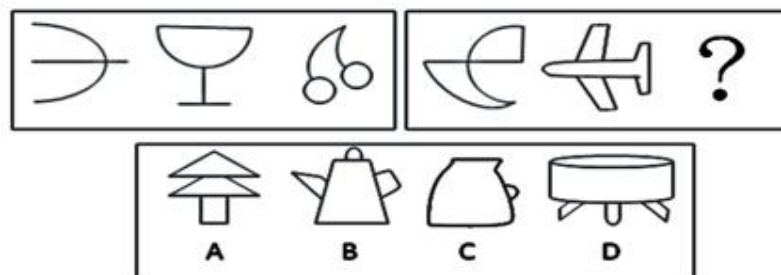
7.



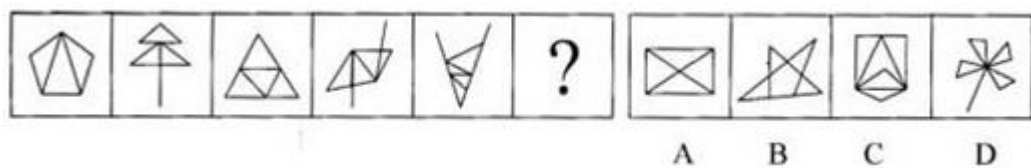
8. 请从所给的四个选项中，选择最合适的一项填入问号处，使之呈现一定的规律性。



9. 请从所给的四个选项中，选择最合适的一项填入问号处，使之呈现一定的规律性。



10. 请从所给的四个选项中，选择最合适的一项填入问号处，使之呈现一定的规律性。



【参考答案及解析】

1. **【答案】C**。解析：题干第一组图形中，前两个图形叠加，去同存异得到第三个图形。第二组图形遵循此规律，则问号处应为 C 项图形。故本题选 C。

2. **【答案】C**。解析：题干各图形的阴影数依次为 1、3、5、7、(9)，排除 A、D 项。长方形阴影数依次为 1、2、3、4、(5)，排除 B 项。故本题选 C。

3. **【答案】A**。解析：A 项正确。B 项，假设正面和顶面正确，则右面图案开口方向错误，排除。C 项，假设正面和顶面正确，则右面图案开口方向错误，排除。D 项，假设正面和右面正确，则顶面图案开口方向错误，排除。故本题选 A。

4. **【答案】D**。解析：九宫格中，每一行各图形的曲线数依次为 1、2、3，则问号处图形的曲线数应为 3，各选项的曲线数依次为 2、1、4、3，只有 D 项符合。故本题选 D。

5. **【答案】C**。解析：题干第一组图形中，前两个图形叠加得到第三个图形，颜色叠加为：白+黑=黑，黑+白=黑，白+白=白，黑+黑=白。第二组图形遵循此规律，则问号处应为 C 项图形。故本题选 C。

6. **【答案】B**。解析：题干第一组图形中，第一个图形左右翻转得到第二个图形，第二个图形上下翻转得到第三个图形。第二组图形遵循此规律，则问号处应为 B 项图形。故本题选 B。

7. **【答案】C**。解析：题干各汉字的笔画数依次为 4、5、6、7、(8)，各选项汉字的笔画数依次为 9、12、8、7，只有 C 项符合。故本题选 C。

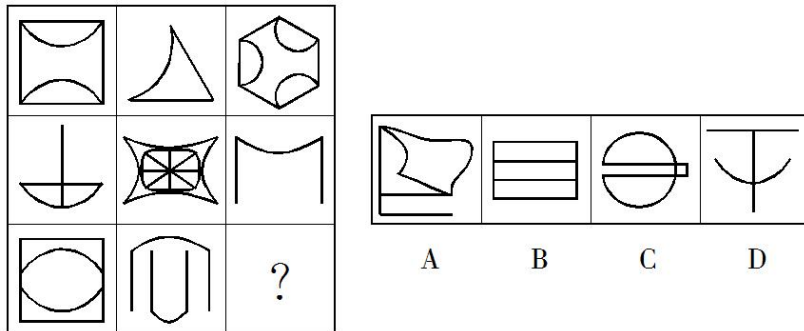
8. **【答案】A**。解析：第一组图形中，各图形均含 6 个“<”、3 个“●”、3 个“○”、2 个“△”、1 个“▲”、1 个大圆、1 个等腰梯形、1 个倒三角形。第二组图形遵循此规律，则问号处图形还缺少 1 个“<”、1 个“●”、1 个“○”、1 个“△”、1 个大圆，只有 A 项符合。故本题选 A。

9. **【答案】B**。解析：第一组图形中，各图形的封闭空间数依次为 1、2、3。第二组图形中，各图形的封闭空间数依次为 2、3、(4)。观察选项，只有 B 项符合。故本题选 B。

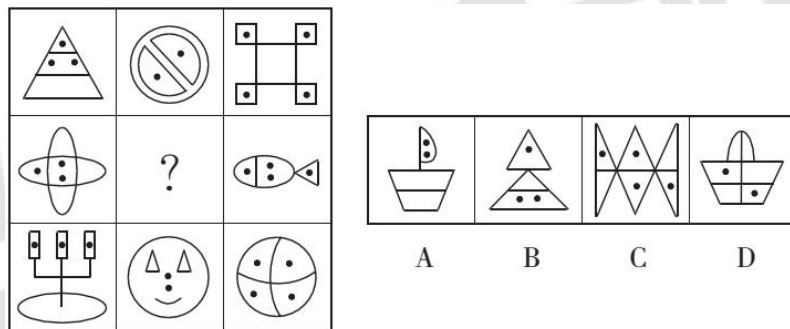
10. 【答案】解析：题干各图形的三角形个数依次为 3、4、5、6、7、(8)，各选项的三角形个数依次为 8、7、6、4，只有 A 项符合。故本题选 A。

第七辑

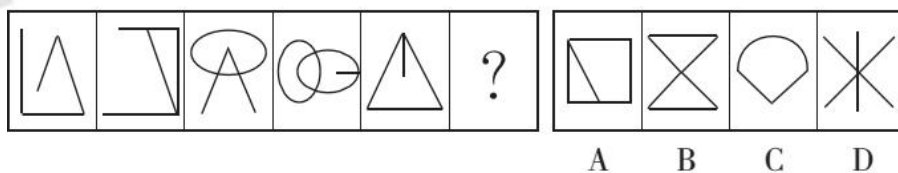
1. 从所给的四个选项中，选择最合适的一个填入问号处，使之呈现一定规律性。



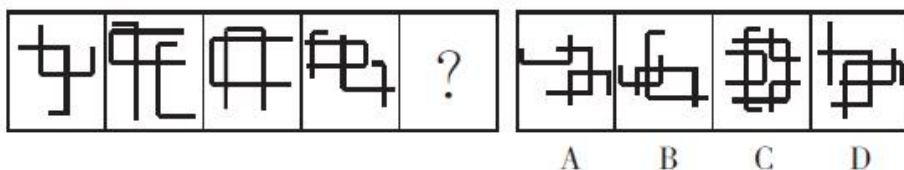
2. 从所给的四个选项中，选择最合适的一个填入问号处，使之呈现一定的规律性。



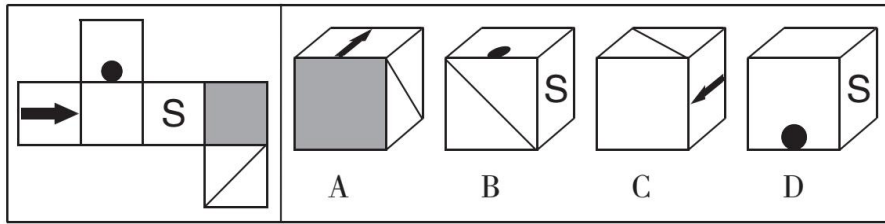
3. 从所给的四个选项中，选择最合适的一个填入问号处，使之呈现一定的规律性。



4. 从所给的四个选项中，选择最合适的一个填入问号处，使之呈现一定的规律性。



10. 左边给定的是正方体的表面展开图，下列哪一项是由它折叠而成？（ ）



【参考答案及解析】

1. 【答案】B。解析：题干各图形均为轴对称图形，且每一行图形的笔画数之和均为 6。第三行各图形笔画数依次为 2、2、(2)，则问号处应为 B 项图形。故本题选 B。

2. 【答案】A。解析：题干每一行图形小黑点的个数均为 9，且封闭空间数均为 11，则第二行图形还缺少 2 个小黑点和 3 个封闭空间，只有 A 项符合。故本题选 A。

3. 【答案】C。解析：题干各图形交点数均为 3，C 项符合。故本题选 C。

4. 【答案】D。解析：各图形中“十”字交点个数依次为 2、3、4、5、(6)，选项“十”字交点个数依次为 3、5、8、6，D 项符合。故本题选 D。

5. 【答案】A。解析：题干第一列各图形均有 1 条横向对称轴，第二列各图形均有 1 条竖向对称轴，第三列前两个图形均有 1 条横向对称轴和 1 条竖向对称轴，则问号处图形应有 1 条横向对称轴和 1 条竖向对称轴。观察选项，只有 A 项符合。故本题选 A。

6. 【答案】D。解析：题干奇数项图形直线数比曲线数多 1，偶数项图形曲线数比直线数多 1，则问号处图形曲线数比直线数多 1，D 项符合。故本题选 D。

7. 【答案】C。解析：题干每行各图形的封闭空间数之和均等于 8，第三行前两个图形的封闭空间数之和为 7，则问号处图形应含有 1 个封闭空间。观察选项，只有 C 项符合。故本题选 C。

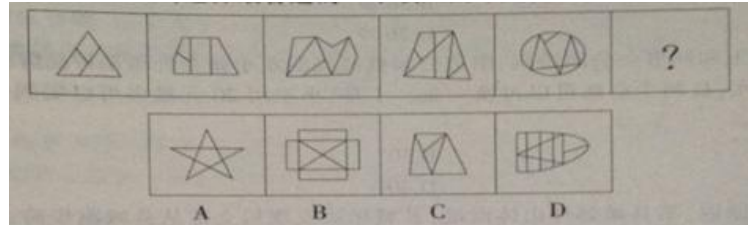
8. 【答案】B。解析：①②⑥图形中，表面上的三条线可以一笔画出；③④⑤图形中，表面上的三条线不可以一笔画出。故本题选 B。

9. 【答案】B。解析：从第一个图形开始，左上角阴影扇形顺时针依次移动 2 个单位，右上角阴影扇形顺时针依次移动 1 个单位，则问号处图形应为 B 项图形。故本题选 B。

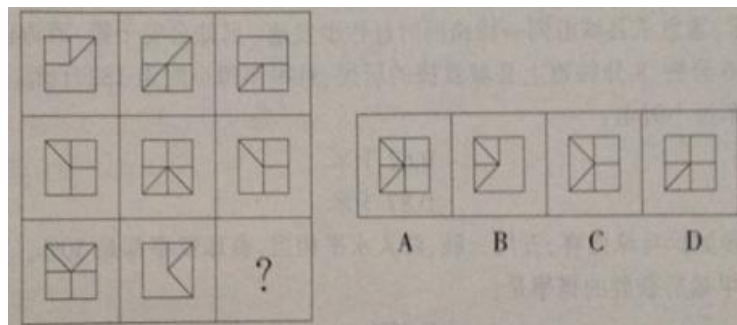
10. 【答案】A。解析：A 项正确。B 项，假设顶面和右面正确，则正面应为空白面，排除。C 项，假设正面和右面正确，则顶面对角线应从该面的左下角连接到右上角，排除。D 项，假设正面正确，则顶面应为阴影面，排除。故本题选 A。

第八辑

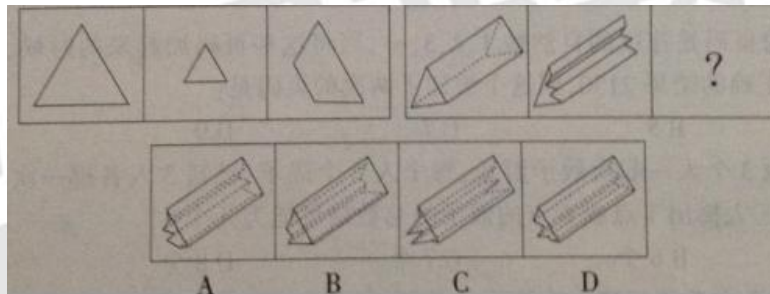
1. 请从所给的四个选项中，选择最合适的一个填入问号处，使之呈现一定的规律性。



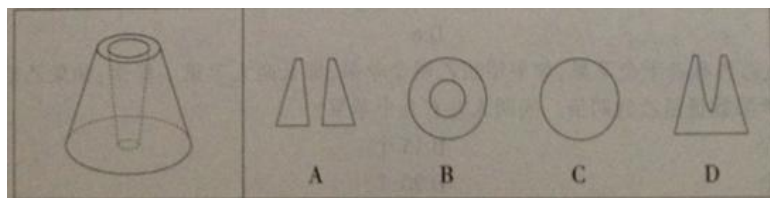
2. 请从所给的四个选项中，选择最合适的一个填入问号处，使之呈现一定的规律性。



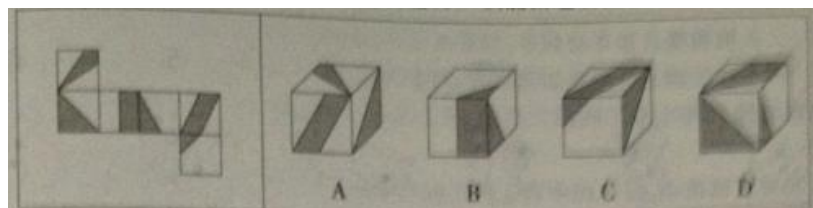
3. 请从所给的四个选项中，选择最合适的一个填入问号处，使之呈现一定的规律性。



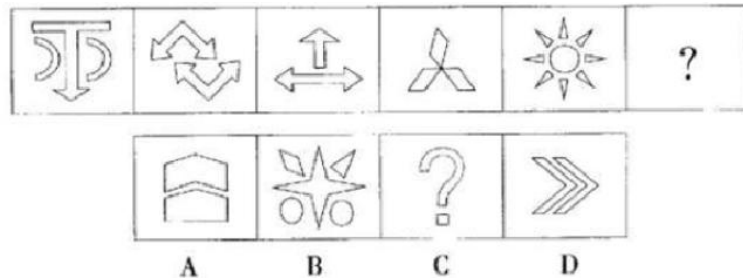
4. 下列的立体图形是圆台中挖出一个小圆台后形成的，如果从任一面剖开，以下哪一个不是该立体图形的截面？（ ）



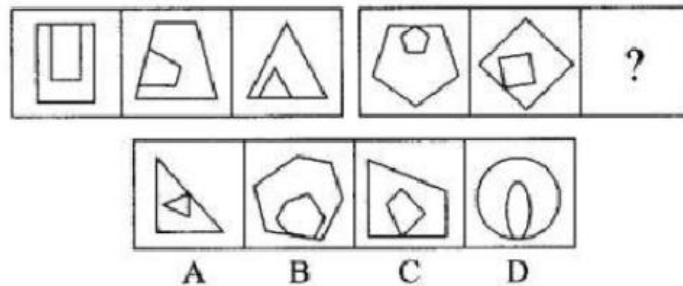
5. 左边给定的是纸盒外表面的展开图，右边哪一项能由它折叠而成？（ ）



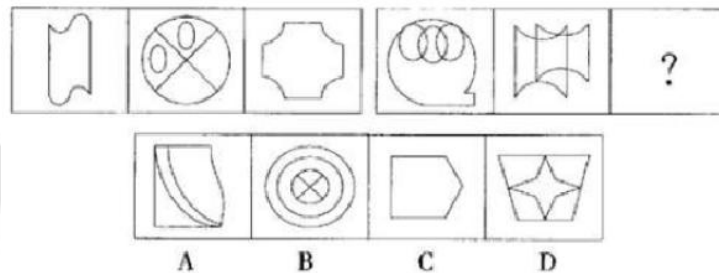
6. 请从所给的四个选项中，选择最合适的一个填入问号处，使之呈现一定的规律性。



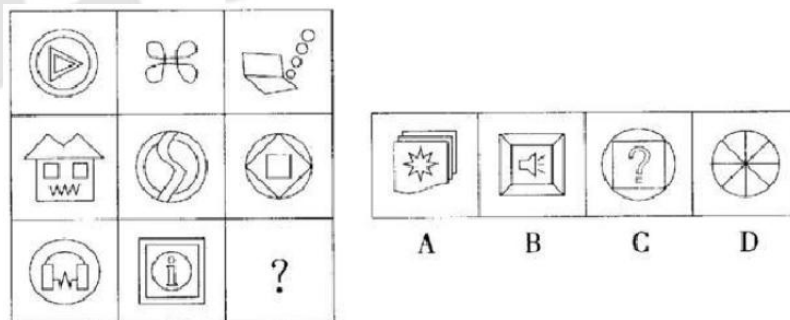
7. 请从所给的四个选项中，选择最合适的一个填入问号处，使之呈现一定的规律性。



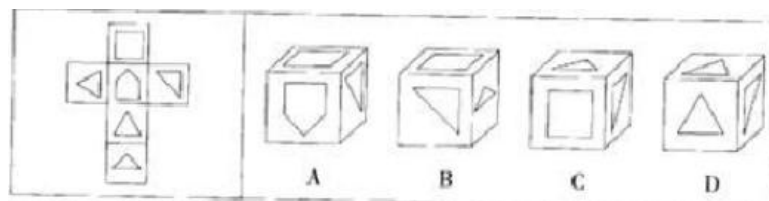
8. 请从所给的四个选项中，选择最合适的一个填入问号处，使之呈现一定的规律性。



9. 请从所给的四个选项中，选择最合适的一个填入问号处，使之呈现一定的规律性。



10. 请从所给的四个选项中，选择最合适的一个填入问号处，使之呈现一定的规律性。



【参考答案及解析】

1. **【答案】D**。解析：题干各图形内部的线条数依次为2、3、4、5、6、(7)，只有D项符合。故本题选D。

2. **【答案】B**。解析：题干每一列前两个图形叠加，保留外边框，并去同存异得到第三个图形。第三列图形遵循此规律，则问号处应为B项图形。故本题选B。

3. **【答案】A**。解析：题干第一组图形中，后两个图形组合得到第一个图形。第二组图形遵循此规律，则问号处应为A项图形。故本题选A。

4. **【答案】C**。解析：按下图所示线条剖开该立体图形时，得到的截面分别对应A、B、D三项。C项不是该立体图形的截面。故本题选C。



5. **【答案】C**。解析：A项，顶面和右面的阴影应相交，排除。B项，假设正面与右面正确，则顶面图案错误，排除。C项正确。D项，两个含三角形的阴影面为相对面，不可能相邻，排除。故本题选C。

6. **【答案】D**。解析：题干奇数项图形均由2种不同元素组成，偶数项均由1种相同元素组成，则问号处图形应由1种相同元素组成，只有D项符合。故本题选D。

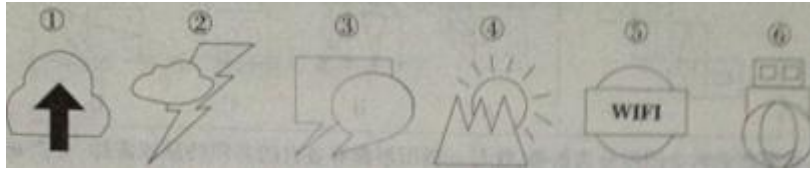
7. **【答案】C**。解析：题干第一组图形中，各图形均由两个相似图形组成，且这两个图形均有1条公共边。第二组图形中，各图形均由两个相似图形组成，但这两个图形没有公共边，只有C项符合。故本题选C。

8. **【答案】D**。解析：题干第一组图形中，各图形的直线数依次为2、2、4，即前两个图形直线数的乘积等于第三个图形直线数。第二组图形遵循此规律，前两个图形的直线数依次为3、4，则问号处图形的直线数应为12，只有D项符合。故本题选D。

9. **【答案】B**。解析：九宫格中，第一列各图形均含4个封闭空间，第二列各图形均含5个封闭空间，第三列各图形均含6个封闭空间，则问号处图形应含6个封闭空间，只有B符合。

10. **【答案】C**。解析：A项，假设正面和右面正确，则顶面图案应为三角形，排除。B项，假设正面和顶面正确，则右面的三角形方向错误，排除。C项正确。D项，右面不可能与正面和顶面均相邻，排除。故本题选C。

5. 把下面的六个图形分为两类，使每一类图形都有各自的共同特征或规律，分类正确的一项是（ ）。



- A. ①②③, ④⑤⑥ B. ①②⑤, ③④⑥
C. ①③⑤, ②④⑥ D. ①④⑤, ②③⑥

6. 右边的四个平面图，只有一个是由左边的四个图形拼合而成的，正确的一项是（ ）。



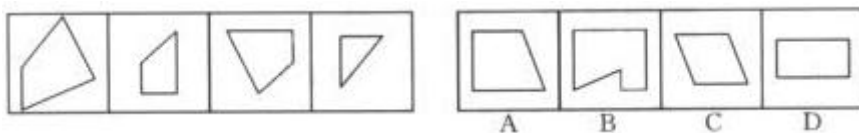
7. 右边的四个平面图，只有一个是由左边的四个图形拼合而成的，正确的一项是（ ）。



8. 右边的四个平面图，只有一个是由左边的四个图形拼合而成的，正确的一项是（ ）。



9. 右边的四个平面图，只有一个是由左边的四个图形拼合而成的，正确的一项是（ ）。



10. 右边的四个平面图，只有一个是由左边的四个图形拼合而成的，正确的一项是（ ）。



【参考答案及解析】

1. **【答案】**A。解析：①②④图形的交点数均为1，③⑤⑥图形的交点数均为3。故本题选A。

2. **【答案】**B。解析：①⑤⑥图形均由3个独立部分组成，②③④图形均由2个独立部分组成。故本题选B。

3. **【答案】**B。解析：①②⑤图形均为轴对称图形，③④⑥图形均为中心对称图形。故本题选B。

4. **【答案】**D。解析：①④⑤图形中相同的元素均在同一封闭空间内，②③⑥中相同的元素均在不同的封闭空间内。故本题选D。

5. **【答案】**D。解析：①④⑤图形中直线部分均位于曲线部分上方，②③⑥图形中曲线部分均位于直线部分上方。故本题选D。

6. **【答案】**B。解析：题干各图形拼合，形成的图形如下所示。故本题选B。



7. **【答案】**A。解析：题干各图形拼合，形成的图形如下所示。故本题选A。



8. **【答案】**B。解析：题干各图形拼合，形成的图形如下所示。故本题选B。



9. **【答案】**B。解析：题干各图形拼合，形成的图形如下所示。故本题选B。

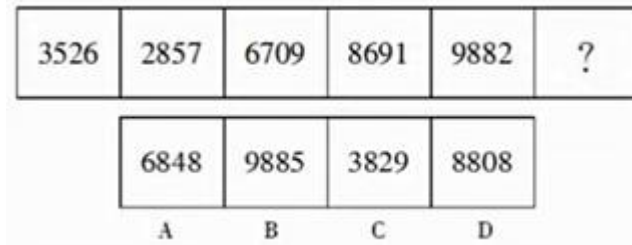


10. **【答案】**A。解析：题干各图形拼合，形成的图形如下所示。故本题选A。

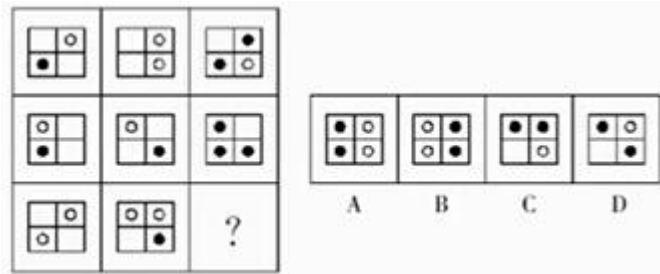


第十辑

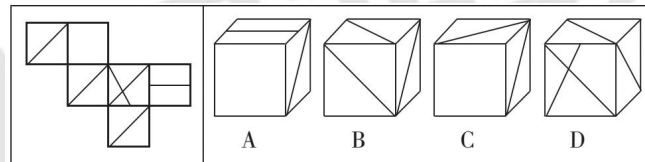
1. 从所给的四个选项中，选择最合适的一个填入问号处，使之呈现一定的规律性。



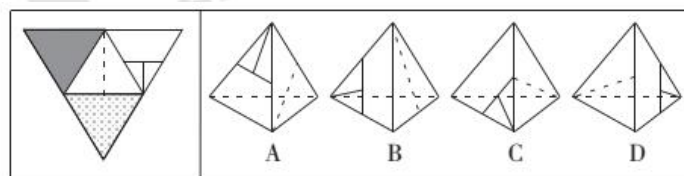
2. 从所给的四个选项中，选择最合适的一个填入问号处，使之呈现一定的规律性。



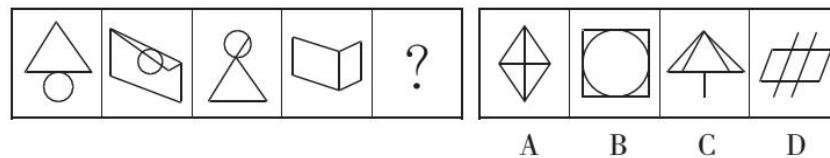
3. 左边给定的是纸盒的外表面，右边哪一项能由它折叠而成？（ ）



4. 左边给定的是纸盒的外表面，右边哪一项能由它折叠而成？（ ）



5. 从所给的四个选项中，选择最合适的一个填入问号处，使之呈现一定的规律性。



6. 把下面的六个图形分为两类，使每一类图形都有各自的共同特征或规律，分类正确的一项是（ ）。



A. ①③⑤，②④⑥

B. ①②④，③⑤⑥

C. ①④⑤，②③⑥

D. ①③⑥，②④⑤

【参考答案及解析】

1. 【答案】A。解析：题干各图形的封闭空间数依次为1、2、3、4、5、(6)，各选项的封闭空间数依次为6、5、3、7，只有A项符合。故本题选A。

2. 【答案】B。解析：题干每一行各图形前两个图形叠加得到第三个图形，叠加规律为：空白+空白=空白，小白圆+小白圆=小黑圆，小黑圆+空白=小黑圆，小白圆+空白=小白圆。第三行图形遵循此规律，则问号处应为B项图形。故本题选B。

3. 【答案】C。解析：A项，假设正面和顶面正确，则右面应为含有两条直线的面，排除。B项，三个面上的三条对角线应交于一点，排除。C项正确。D项，正面图案与展开图不符，排除。故本题选C。

4. 【答案】A。解析：A项正确。B项，假设右面正确，则左面应是全黑的一面，排除。C、D项，假设左面正确，则右面应是含有网格的一面，均排除。故本题选A。

5. 【答案】B。解析：题干各图形均为一笔画图形，各选项笔画数依次为2、1、2、2，只有B项符合。故本题选B。

6. 【答案】C。解析：①③④图形均为轴对称图形，②⑤⑥图形均为中心对称图形。故本题选C。

7. 【答案】C。解析：题干各图形均由一个多边形和一条穿过多边形的直线构成，①②⑤图形中的直线均不与图形的对称轴垂直，③④⑥图形中的直线均与图形的对称轴垂直。故本题选C。

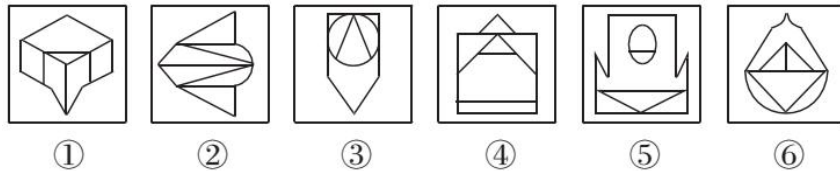
8. 【答案】A。解析：①③④图形均由两个面积相等的封闭空间组成，②⑤⑥图形均由两个面积不相等的封闭空间组成。故本题选A。

9. 【答案】B。解析：①②⑤图形均含有3条曲线，③④⑥图形均只含有1条曲线。故本题选B。

10. 【答案】A。解析：①③⑤图形中，线条数均等于内部黑色圆圈的个数；②④⑥图形中，线条数均比内部黑色圆圈的个数多2。故本题选A。

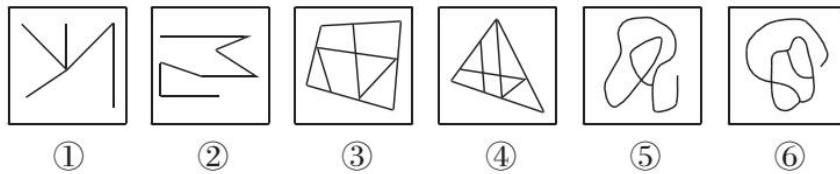
第十一辑

1. 把下面的六个图形分为两类，使每一类图形都有各自的共同特征或规律，分类正确的一项是（ ）。



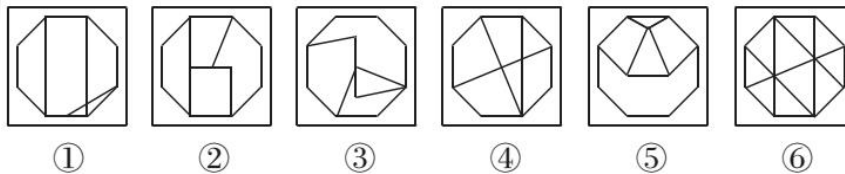
- A. ①②⑥，③④⑤
B. ①③⑤，②④⑥
C. ①②④，③⑤⑥
D. ①④⑥，②③⑤

2. 把下面的六个图形分为两类，使每一类图形都有各自的共同特征或规律，分类正确的一项是（ ）。



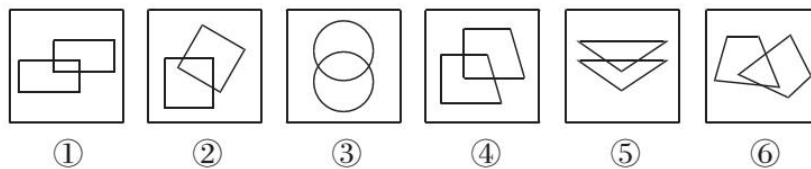
- A. ①②③，④⑤⑥
B. ①③⑤，②④⑥
C. ①②⑥，③④⑤
D. ①④⑥，②③⑤

3. 把下面的六个图形分为两类，使每一类图形都有各自的共同特征或规律，分类正确的一项是（ ）。



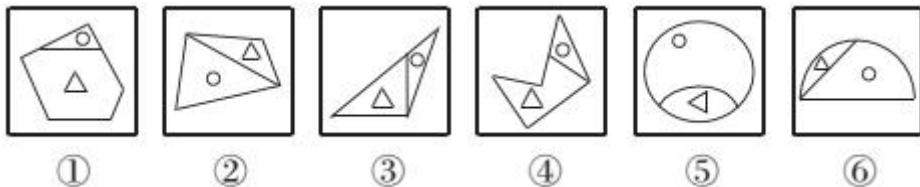
- A. ①②③，④⑤⑥
B. ①③④，②⑤⑥
C. ①③⑥，②④⑤
D. ①④⑥，②③⑤

4. 把下面的六个图形分为两类，使每一类图形都有各自的共同特征或规律，分类正确的一项是（ ）。



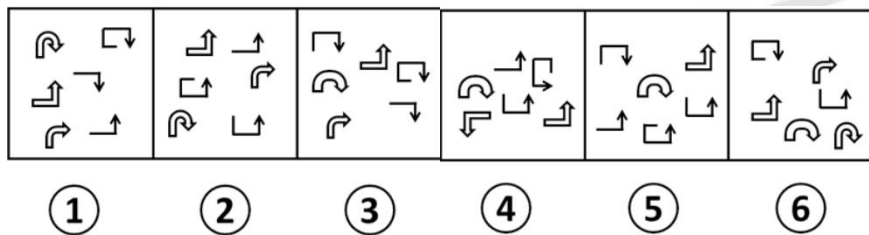
- A. ①④⑤, ②③⑥ B. ①②④, ③⑤⑥
C. ①②⑤, ③④⑥ D. ①②⑥, ③④⑤

5. 把下面的六个图形分为两类，使每一类图形都有各自的共同特征或规律，分类正确的一项是（ ）。



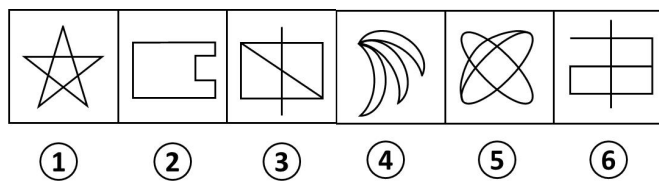
- A. ①③④, ②⑤⑥ B. ①③⑥, ②④⑤
C. ①②⑤, ③④⑥ D. ①④⑤, ②③⑥

6. 把下面的六个图形分为两类，使每一类图形都有各自的共同特征或规律，分类正确的一项是（ ）。



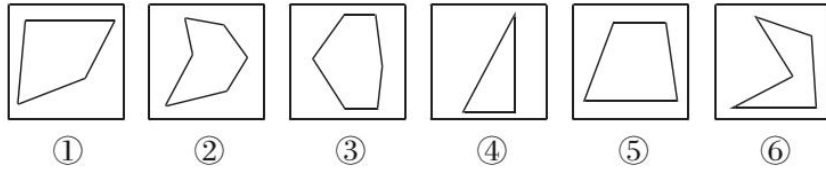
- A. ①②④, ③⑤⑥ B. ①④⑥, ②③⑤
C. ①③⑥, ②④⑤ D. ①③④, ②⑤⑥

7. 把下面的六个图形分为两类，使每一类图形都有各自的共同特征或规律，分类正确的一项是（ ）。



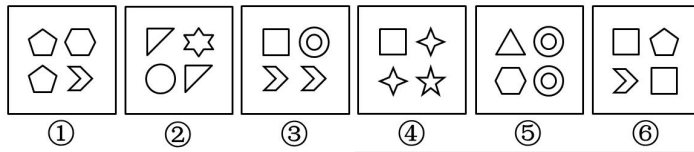
- A. ①③④, ②⑤⑥ B. ①③⑤, ②④⑥
C. ①②⑤, ③④⑥ D. ①②④, ③⑤⑥

8. 把下面的六个图形分成两类，使每一类图形都有各自的共同特征或规律，分类正确的一项是（ ）。



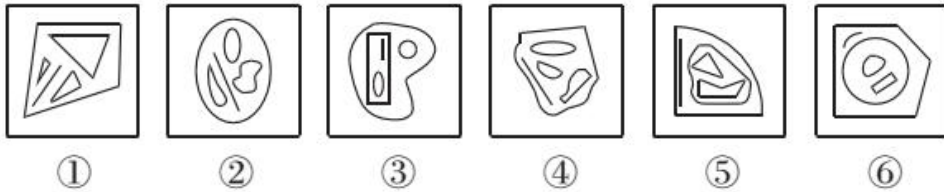
- A. ①②⑤, ③④⑥ B. ①③④, ②⑤⑥
C. ①④⑥, ②③⑤ D. ①⑤⑥, ②③④

9. 把下面的六个图形分成两类，使每一类图形都有各自的共同特征或规律，分类正确的一项是（ ）。



- A. ①②③, ④⑤⑥ B. ①③⑤, ②④⑥
C. ①②⑤, ③④⑥ D. ①③⑥, ②④⑤

10. 把下面的六个图形分为两类，使每一类图形都有各自的共同特征或规律，分类正确的一项是（ ）。



- A. ①②④, ③⑤⑥ B. ①③⑥, ②④⑤
C. ①③⑤, ②④⑥ D. ①⑤⑥, ②③④

【参考答案及解析】

1. 【答案】A。解析：题干各图形均为轴对称图形，①②⑥图形的对称轴均与图形中的一条直线重合，③④⑤图形中的对称轴不与图形中的任何直线重合。故本题选A。
2. 【答案】D。解析：①④⑥图形均为两笔画图形，②③⑤图形均为一笔画图形。故本题选D。
3. 【答案】D。解析：①④⑥图形均含有10个交点，②③⑤图形均含有11个交点。故本题选D。
4. 【答案】A。解析：①④⑤图形中，两个小图形相交部分的形状均与两个小图形相同；

②③⑥图形中，两个小图形相交部分的形状均与两个小图形不相同。故本题选A。

5. 【答案】A。解析：①③④图形中，小圆圈均位于面积较小的封闭空间内（或小三角形均位于面积较大的封闭空间内）；②⑤⑥图形则相反。故本题选A。

6. 【答案】C。解析：①③⑥图形中顺时针箭头多于逆时针箭头，②④⑤图形中顺时针箭头少于逆时针箭头。故本题选C。

7. 【答案】C。解析：①②⑤均为轴对称图形，③④⑥均不是轴对称图形。故本题选C。

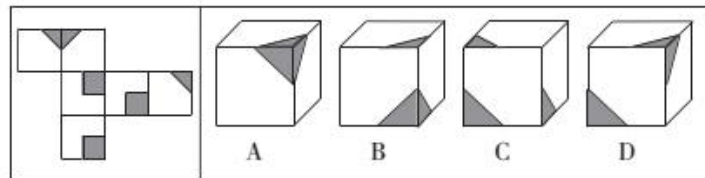
8. 【答案】A。解析：①②⑤图形线条数之和为14，③④⑥图形线条数之和也为14。故本题选A。

9. 【答案】B。解析：题干各图形均含有2个相同元素，①③⑤图形中2个相同元素均相邻，②④⑥图形中2个相同元素均不相邻。故本题选B。

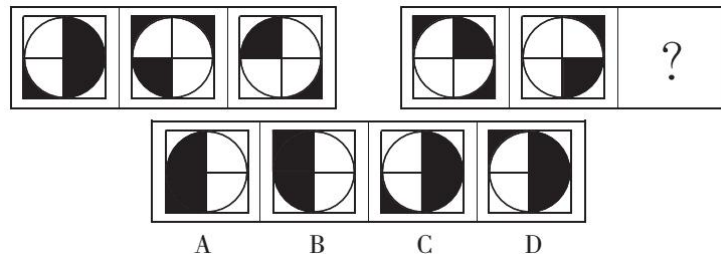
10. 【答案】A。解析：①②④图形内部均有4个独立小图形，各小图形内部无其他图形；③⑤⑥图形内部均有4个小图形，且都存在一个小图形内部还包含其他图形的情况。故本题选A。

第十二辑

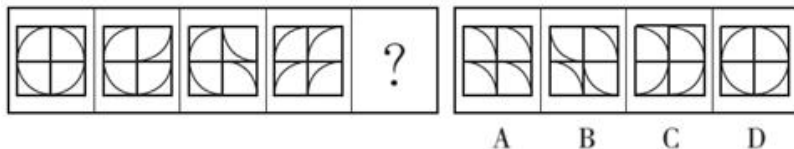
1. 左边给定的是正方体的外表面展开图，下面哪一项能由它折叠而成？（ ）



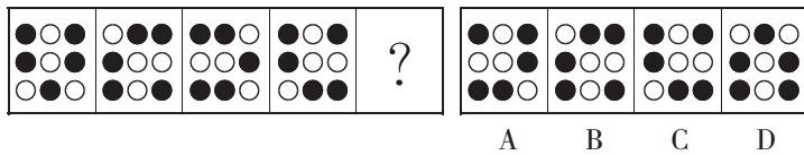
2. 从所给的四个选项中，选择最合适的一个填入问号处，使之呈现一定的规律性。



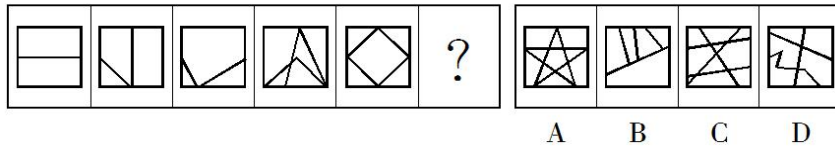
3. 从所给的四个选项中，选择最合适的一个填入问号处，使之呈现一定的规律性。




4. 从所给的四个选项中，选择最合适的一个填入问号处，使之呈现一定的规律性。



5. 从所给的四个选项中，选择最合适的一个填入问号处，使之呈现一定的规律性。

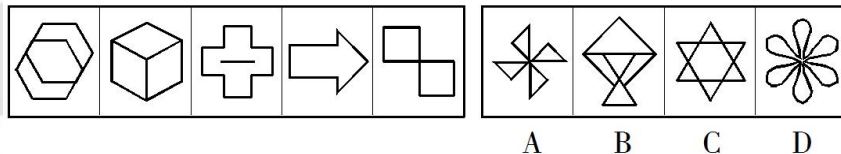


6. 把下面的六个图形分为两类，使每一类图形都有各自的共同特征或规律，分类正确的一项是（ ）。

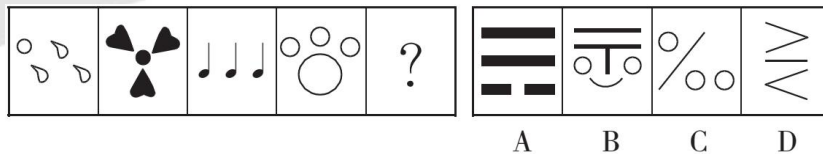


- A. ①③⑤, ②④⑥ B. ①②⑤, ③④⑥
C. ①④⑤, ②③⑥ D. ①②④, ③⑤⑥

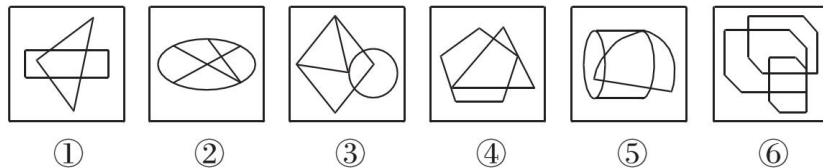
7. 从所给的四个选项中，选择最合适的一个填入问号处，使之呈现一定的规律性。



8. 从所给的四个选项中，选择最合适的一个填入问号处，使之呈现一定的规律性。

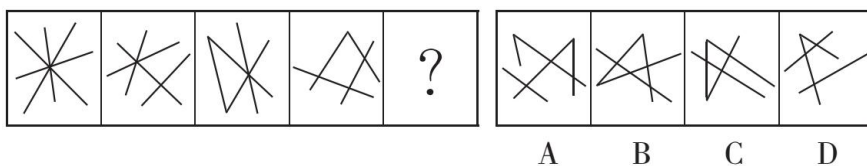


9. 把下面的六个图形分为两类，使每一类图形都有各自的共同特征或规律，分类正确的一项是（ ）。



- A. ①③④, ②⑤⑥ B. ①②④, ③⑤⑥
C. ①④⑤, ②③⑥ D. ①②⑥, ③④⑤

10. 从所给的四个选项中，选择最合适的一个填入问号处，使之呈现一定的规律性。



【参考答案及解析】

1. **【答案】**A。解析：根据展开图可知，三个阴影三角形交于一个顶点，排除 B、C、D 项。故本题选 A。

2. **【答案】**A。解析：题干第一组图形中，前两个图形叠加得到第三个图形，颜色叠加规律为：白+黑=白，白+白=黑，黑+白=白。第二组图形遵循此规律，则问号处应为 A 项图形。故本题选 A。

3. **【答案】**B。解析：右上角方格中的弧线从第二个图形开始顺时针依次旋转 90° ，右下角方格中的弧线从第三个图形开始逆时针依次旋转 90° ，左下角方格中的弧线从第四个图形开始顺时针依次旋转 90° ，则左上角方格中的弧线从问号处图形开始逆时针旋转 90° ，只有 B 项符合。故本题选 B。

4. **【答案】**D。解析：题干各图形中，黑色圆圈均逆时针依次移动 1 个单位，则问号处应为 D 项图形。故本题选 D。

5. **【答案】**A。解析：题干各图形均能一笔画成，只有 A 项符合。故本题选 A。

6. **【答案】**C。解析：①④⑤ 图形均为纯直线图形，②③⑥ 图形均为纯曲线图形。故本题选 C。

7. **【答案】**B。解析：题干各图形均为轴对称图形，排除 A 项。对称轴的条数依次为 2、1、2、1、2 (1)，排除 C、D 项。故本题选 B。

8. **【答案】**C。解析：题干各图形均含有 3 个形状、大小均相同的部分，只有 C 项符合。故本题选 C。

9. **【答案】**A。解析：①③④ 图形的封闭空间数均为 5，②⑤⑥ 图形的封闭空间数均为 6。故本题选 A。

10. **【答案】**C。解析：题干各图形均由 4 条直线构成，排除 A 项。各图形交点数依次为 1、2、3、4、(5)，排除 B、D 项。故本题选 C。

第十三辑

1. 扶养，专指平辈亲属之间依法发生的经济供养和生活扶助的一种行为。

根据上述定义，下列属于扶养的是（ ）。

- A. 钟某和妻子李某育有一子，双方离婚后，钟某每月给予李某 1500 元孩子生活费
- B. 王某某因病失去工作能力，其姐王某玲每月给予其 1000 元生活费
- C. 兰某进行肝移植手术后，兰某的朋友林某给予其 10 万元进行康复治疗
- D. 郭某是个孤儿，郭某的族人联合出资支付其生活费用

2. “标题党”是指在互联网为代表的媒体上通过制作耸人听闻或者媚俗、低俗、庸俗的标题来吸引网友注意力，置新闻内容的基本事实于不顾，以达到增加点击量、提升知名度或者谋取一些见不得阳光的利益等各种目的的一小撮网站编辑、记者、管理者和网民等。

根据上述定义，下列属于“标题党”的是（ ）。

- A. 著名作家莫言把其创作的一部赞扬母性的小说命名为《丰乳肥臀》
- B. 富士康公司员工发生连续跳楼事件后，某编辑在某门户网站以《七连跳——又一个富士康员工自杀身亡》为题发帖报道此事
- C. 某写手在某军事论坛网站发表了《国防部长的一句话，美国和日本震惊了》为题的帖子，但读完并没有发现国防部长发表任何针对美日的强硬言论
- D. 某网民在某论坛发表名为《从荡妇到追求爱情的殉葬者——为潘金莲正名》的评论，他结合心理学知识一步步分析了小说中潘金莲心理的微妙变化，认为潘金莲大胆追求爱情却被封建礼教毒害

3. 海洋能，是指依附在海水中的可再生能源，海洋通过各种物理过程接收、储存和激发能量，这些能量以潮汐、波浪、温度差、盐度梯度、海流等形式存在于海洋之中。

根据上述定义，下列不属于利用海洋能的是（ ）。

- A. 甲海洋工程公司利用海水的日夜温差为工程机械提供电力
- B. 乙船舶公司利用海水盐度差为轮船提供照明
- C. 丙能源公司利用海面上气流为居民提供照明
- D. 丁发电厂利用潮汐为造船厂提供电力

4. 硬新闻是关系到国计民生以及人们切身利益的新闻，包括党和国家的重大方针、政策的制定和改变、市场行情、疾病流行、天气变化、重大灾难事故等。硬新闻为人们的政

治、经济、工作、日常生活的决策提供依据。

根据上述定义，下列不属于硬新闻的是（ ）。

- A. 中国对外投资全面提速，欧洲成为中企海外并购第一大市场
- B. “笑翻”“酷”“霾”等大量新词入现代汉语词典
- C. 我国遥感卫星地面站全面建成，“高分一号”发布首批清晰影像
- D. 今年上半年江西南昌公务接待费同比降七成

5. 碰瓷，原属北京方言，原意指个别不法之徒在摊位上摆卖古董时，常常别有用心地把易碎裂的瓷器往路中央摆放，专等路人不小心碰坏，他们便可以借机讹诈。后泛指一些投机取巧，敲诈勒索的行为。

根据上述定义，以下行为不属于“碰瓷”的是（ ）。

- A. 李某在小狗跑过自己身旁时，假称被狗咬伤，然后捂着受伤的部位，以要打血清和狂犬疫苗为由，向狗主人索要医药费及精神补偿费
 - B. 孙某在人行横道内用自行车故意碰撞机动车后摔倒，要求车主赔偿医药费及精神补偿费
 - C. 张某在过马路时打电话，被酒驾司机的李某撞倒在地，手机也被摔得粉碎，他要求李某支付医药费、误工费，并赔偿手机
 - D. 王奶奶路边摔倒，一名路过的骑车人将她扶起，王奶奶一口咬定是骑车人将她刮倒的，让对方赔偿医药费
6. 地块经济：指大量的同质化制造加工小企业集中在一个相对小的区域内，形成比较完整的产业链的区域经济发展模式。

下列不属于地块经济的是（ ）。

- A. 义乌小商品闻名遐迩，是国内规模最大的小商品生产和批发基地之一。在那里，各种各样的小商品可以说应有尽有
- B. 桂林一年四季都挤满了来自全国各地的游客，当地的饭店、宾馆、旅游用品商店、出租车公司一个个都赚得盆满钵满
- C. 嵊州堪称“中国领带之乡”，每年生产领带3亿条，出口1.6亿条，在国内、国际市场分别占了90%、60%以上的份额
- D. 亳州素有“药都”的美誉，每天都有无数商家从四面八方来到这里，运送药材的车队常常是一眼望不到头

7. 零优势意识：指一种危机意识和忧患意识，即能够看到自身优势的相对性，从而带着危机感把比较优势转化为竞争优势，以防止自身优势无法发挥甚至逐渐丧失。

下列属于零优势意识的是（ ）。

A. 以色列是世界上自然资源最贫乏的国家之一，水和耕地资源尤为短缺，但以色列人不断创新农业技术，通过滴灌技术和光热网膜技术把沙漠变成绿洲，创造出资源节约型农业典范，甚至成为重要的农产品出口大国

B. 田忌与齐王赛马，每次都输，原来马分上中下三等，进行三场比赛，无论哪一等级的马，田忌都比不过齐王。孙膑知道后指导田忌用下等马对齐王的上等马，再用上等马对中等马，用中等马对下等马，结果只输第一场，赢了后两场

C. 某古城以保留众多清代建筑物闻名于世，旧城改造中，市政府吸取外地教训，避免“拆了值钱的，盖了不值钱的”，全力保护和开发旅游资源。如今，已彻底改变了过去旅游资源丰富而旅游消费水平低的态势，形成了稳固的行业优势

D. 某公司在制造感光材料时，需要有人长时间在暗室工作，但员工大多无法适应长时间黑暗，效率很低。针对这种情况，该公司将暗室内的工作人员全部换成盲人，极大地提高了工作效率

8. 心理会计是指人们在心里无意识地把财富划归不同的账户进行管理，并对结果（尤其是经济结果）加以编码、分类和估价的过程，且不同的心理账户有不同的记账方式和心理运算规则。小到个体、家庭，大到企业集团，都有一套或隐或显的心理账户系统，其心理记账方式与经济学和数学的运算方式都不相同，因此经常以非预期的方式影响着决策，使个体的决策违背最简单的理性经济法则。

根据上述定义，下列选项最能体现心理会计现象的是（ ）。

A. 小陈已经攒够购买相机的钱，但他一定要等领到年底奖金再买相机

B. 整日忧心忡忡的小李将自己全部存款的四分之三用于购买人寿保险

C. 小王在两家不同银行都有储蓄卡，但他总是去离家更近的银行取款

D. 小刘因公司奖励出游某地感觉不错，后来自费重游此地却感觉不佳

9. 显性知识，是能够被人类以一定符码系统（如语言、数学公式、各类图表、盲文、手势语、旗语等符号形式）加以完整表述的知识。隐性知识与其相对，通常是指人们知道却难以言述的知识，依靠个人经验获取。基于身体的隐性知识是指主体在认识过程中所产生和应用的隐性知识，多植根于人类身体机能的运用或对工具的使用。

根据上述定义，下列行为运用基于身体的隐性知识最典型的一项是（ ）。

- A. 某公司开发了一套金融软件，能够让用户不花费现金就可以模拟炒股的情形
- B. 幼儿园老师通过讲故事、打比方等方法帮助孩子们理解一些成语的含义
- C. 一位具有 20 年外科手术经验的医生为患者进行骨髓移植手术
- D. 一些研究者利用浮力原理制造潜水艇，并设计了能够减少阻力的流线外形

10. 委婉语，是指在特定的语境中，对于使人感到敬畏、恐惧、羞耻、不适的事物，信息组织者有意地运用语音、语义、语法等手段而形成的对这些事物非直接的语言或言语表达，从而避免使信息组织者本人、信息理解者、话语涉及的第三方即信息的潜在理解者有消极的心理反应。

根据上述定义，下列选项中使用了委婉语的是（ ）。

- A. 王某回忆起母亲把“树欲静而风不止，子欲养而亲不待”放在嘴边
- B. 诗人把“春风又过江南岸”改成“春风又绿江南岸”
- C. 同事询问田某母亲的病情，她回答说“老了，送上路了”
- D. 外国学生学习汉语后，在路上遇到同学问“你吃饭了吗”

【参考答案及解析】

1. 【答案】B。解析：“扶养”的定义要点是“平辈亲属”。A项钟某和李某已离婚，不属于平辈亲属，且1500元是给孩子生活费，不符合定义，排除。B项王某某与其姐王某玲属于平辈亲属，王某某给予王某玲生活费符合定义。C项兰某与其朋友林某不属于平辈亲属，不符合定义，排除。D项郭某的族人不仅仅是其平辈亲属，不符合定义，排除。故本题选B。

2. 【答案】C。解析：“标题党”的定义要点：①在互联网为代表的媒体上；②通过制作耸人听闻或者媚俗、低俗、庸俗的标题来吸引网友注意力；③置新闻内容的基本事实于不顾。A项显然不符合定义；B、D项均未体现“置新闻内容的基本事实于不顾”，不符合定义；C项符合①②③，符合定义。故本题选C。

3. 【答案】C。解析：“海洋能”的定义要点是“以潮汐、波浪、温度差、盐度梯度、海流等形式存在于海洋之中”。A项“利用海水的日夜温差”、B项“利用海水盐度差”和D项“利用潮汐”均符合要点，符合定义；C项“海面上气流”不是“存在于海洋之中”的，不符合定义。故本题选C。

4. 【答案】B。解析：“硬新闻”的定义要点：①关系到国计民生以及人们切身利益；②包括党和国家的重大方针、政策的制定和改变、市场行情、疾病流行、天气变化、重大灾难事故等。A项属于党和国家的方针政策，C、D项也关系国计民生以及人们切身利益，均符合定义；B项没有关系到国计民生以及人们切身利益，不符合定义。故本题选B。

5. 【答案】C。解析：“碰瓷”的定义要点是“投机取巧，敲诈勒索”。C项张某被撞是因为其过马路时打电话以及司机李某酒驾，并不是“投机取巧”，借机敲诈勒索，不符合要点，不符合定义。A项“称被狗咬伤”、B项“故意碰撞机动车后摔倒”和“一名路过的骑车人将她扶起，王奶奶一口咬定是骑车人将她刮倒的”均符合定义。故本题选C。

6. 【答案】B。解析：“地块经济”的定义要点：①大量的同质化制造加工小企业；②集中在一个相对小的区域内；③形成比较完整的产业链。A项“小商品生产和批发基地”、C项“中国领带之乡”和D项“药都”符合①②③，符合定义，排除。B项饭店、宾馆、旅游用品商店、出租车公司不属于“同质化制造加工小企业”，不符合①，不符合定义。故本题选B。

7. 【答案】C。解析：“零优势意识”的定义要点：①看到自身优势的相对性；②带着危机感把比较优势转化为竞争优势；③防止自身优势无法发挥甚至逐渐丧失。A、D项均没有体现自身的优势，不符合①②③，排除。B项未体现“带着危机感”，不符合②，排除。C项古城旅游资源丰富而旅游消费水平低属于自身优势的相对性，符合①，市政府在旧城改造中吸取教训，改变过去态势并形成稳固的行业优势，符合②③，符合定义。故本题选C。

8. 【答案】D。解析：“心理会计”的定义要点：①人们在心里无意识地把财富划归不同的账户进行管理；②对结果（尤其是经济结果）加以编码、分类和估价。A项未体现对结果进行估价，不符合②，排除。B项“小李将自己全部存款的四分之三用于购买人寿保险”是有意识地把财富划归不同的账户，不符合①，排除。C项只是取款，不符合①②，排除。D项小刘将公司的奖励和自己的旅游经费划归不同的账户，前后两次感觉不同体现“对结果加以编码、分类和估价”，符合①②，符合定义。故本题选D。

9. 【答案】C。解析：“基于身体的隐性知识”的定义要点：①主体在认识过程中所产生和应用；②难以言述的知识，依靠个人经验获取；③人类身体机能的运用或对工具的使用。A项金融软件通过程序语言表述出来，不符合②；B项讲故事、打比方是通过语言表述的，不符合②；C项外科手术经验符合①②③，符合定义；D项浮力原理是通过数学公式加

以表述的，不符合②。故本题选 C。

10. 【答案】C。解析：“委婉语”的定义要点：①使人感到敬畏、恐惧、羞耻、不适的事物；②非直接的语言或言语表达；③避免使理解者有消极的心理反应。A 项不符合③；B 项不符合①③；C 项用“老了，送上路了”来回答对病情的询问，符合①②③，符合定义；D 项不符合①②③。故本题选 C。

第十四辑

1. 触景生情是指受到某些情景的触动而产生某种情感；触景伤情是指受到某些情景的触动，而产生某种悲伤的情感。

根据上述定义，下列诗句符合触景伤情定义的有（ ）。

- ①老去风光不属身，黄金莫惜买青春 ②游丝一断浑无力，莫向东风怨别离
③葛岭花开二月天，游人来往说神仙 ④伤心桥下春波绿，曾是惊鸿照影来
⑤杨柳共春旗一色，落花与芝盖齐飞 ⑥笑渐不闻声渐悄，多情却被无情恼
⑦劝君更尽一杯酒，西出阳关无故人 ⑧最是人间留不住，朱颜辞镜花辞树
- A. 0 个 B. 1 个 C. 2 个 D. 3 个

2. 诱发运动是指由于一个物体的运动使其相邻的一个静止物体产生运动的错觉现象。根据上述定义，下列属于诱发运动的是（ ）。

- A. 在黑板前点燃一支蜡烛，并注视着烛光会看到烛光在运动
B. 多张图片按一定空间间隔与时间间隔相继呈现形成电影
C. 注视瀑布的某一处，再看周围的树木，会觉得树木在向上飞升
D. 当我们注视夜空时，会看到月亮在动，而云是静止的

3. 博喻又称连比，就是用几个喻体从不同角度反复设喻去说明一个本体。博喻运用得当，能给人留下深刻的印象。运用博喻能加强语意，增添气势。博喻能将事物的特征或事物的内涵从不同侧面、不同角度表现出来，这是其他类型的比喻所无法达到的。

根据上述定义，下列属于博喻的是（ ）。

- A. 这个整天同钢铁打交道的技术员，他的心倒不像钢铁那样
B. 桃花潭水深千尺，不及汪伦送我情
C. 上海人叫小瘪三的那批角色，也很像我们的党八股，干瘪得很，样子十分难看

D. 试问闲愁都几许？一川烟草，满城风絮，梅子黄时雨

4. 订单式培养：指用人单位提出用人申请后，由劳动保障部门委托培训机构根据用工需求组织实施的明确就业岗位去向的人才培养模式。

下列属于订单式培养的是（ ）。

A. 某职业技术学院调研后发现，烹饪即将成为未来数年的紧俏职业，当年就开设了烹饪专业，果不其然，毕业生很抢手，很多餐饮名店都登门签约

B. 某民办托儿所急需几名保育员，主管部门接到申请后马上找到一家资深代培机构组织培训，几名合格的保育员很快到岗

C. 某市每年都会根据各乡镇上报的用人需求，在全省高校中聘请一批科研人员，然后分派到各地担任科技副镇长

D. 某物业公司最近被多个小区选中，需要补充大批保安，为了顺利接手各个小区的安保工作，公司急招了数十名新手，正委托专业保安公司强化培养

5. 承诺是指受要约人同意要约的意思表示，承诺由受要约人作出，对要约未作出实质性改变，在要约确定的期限内作出并到达要约人。

以下构成承诺的是（ ）。

A. 袁某根据某体育用品厂要约的价格在其确定的期限内同意购买体育用品，但要求修改要约中的原产地

B. 何某向刘某发出要约，要求 10 天内给予答复，刘某未能如期答复

C. 甲向乙发出要约，丙得知后表示接受甲的要约

D. 丙向丁发出要约，丁考虑后向戊表示同意甲的要约

6. “气候难民”指的是生存因气候变暖等特殊气候因素而受到威胁的人们，这是一个逐渐扩大的族群。某基金会发表的一份报告称，在未来 40 年，全球约 5 到 6 亿人都面临着沦为“气候难民”的危险。

下列描述中被迫迁移的人们，不属于“气候难民”的是（ ）。

A. 土地沙漠化使曾经繁荣的楼兰古国消亡，国民外迁

B. 印度洋海啸导致了印度、泰国等多国居民被迫迁移

C. 卡特里娜飓风使得墨西哥海岸的众多居民逃离家乡

D. 海平面上涨使马尔代夫领导人为国民另觅栖身之所

7. 水质性缺水是水资源的污染加重了水资源的短缺的状况。

根据以上定义，下列属于水质性缺水的是（ ）。

- A. 南昌去年秋冬少雨，致使赣江水位下降，自来水厂只能将取水口延伸至江中心
- B. 因株洲机车厂废水泄漏，湘江水体污染，长沙市自来水厂决定限时供水
- C. 三峡大坝修建后，冬天洞庭湖、鄱阳湖的水明显减少
- D. 江西修建万安和峡江水电站后，赣江下游的水位下降，相关区域的居民用水感到紧张

8. 小众经济：指面向小众人群的个性化定制模式，即采用个性化生产加工方式为用户提供独一无二的产品，实现精准服务，以满足消费者需求。

下列不属于小众经济的是（ ）。

- A. 某食品公司推出的特色月饼，价格虽然比传统月饼高出 30%，但仍大有市场，不到一周就收到了数十万元的订单
- B. 某知名服装集团生产的每件西装都是根据用户的量体数据专门设计，保证衣服合体，西装里面还绣着用户名字
- C. 某科技园将 3D 打印技术应用于特色食品的生产，可以按照用户要求制作带有新郎、新娘卡通形象的巧克力喜糖
- D. 某知名家电企业为一对外国新婚夫妇提供了唯一的采用外文标识的电冰箱，并将他们的婚纱照打印在电冰箱面板上

9. 短命政策：指地方政府制定的事关群众权益却无法得到社会公众认可或受到普遍反对，一出台很快就被迫终止的政策措施。

下列不属于短命政策的是（ ）。

- A. 某市交管部门出台“闯黄灯视为违反交规，记 6 分”政策，在社会上引起了强烈反响，5 天后该部门举行发布会宣布“暂时不予执行”
- B. 某市推出购房新政：毕业未满 5 年的高校毕业生在市区购房实行“零首付”。因为不符合有关政策，几天后就被上级紧急叫停
- C. 南方某城市推出在市区范围内的“禁摩令”后，大批快递员集体离职，摩的司机纷纷上访。很快，这一政策被宣布“暂缓执行”
- D. 北方某市交通局宣布某风景优美的县级公路设卡收费，消息传出后，舆论一片哗然。没到月底，这一收费政策就寿终正寝

10. 图灵测试是测试者在与被测试者（一个人和一台机器）隔开的情况下，通过一些装

置（如键盘）向被测试者随意提问。问过一些问题后，如果被测试者有超过 30%的答复不能使测试者确认出哪个是人、哪个是机器，那么这台机器就通过了测试，并被认为具有人类智能。

根据上述定义，以下哪项中的测试一定通过了图灵测试？（ ）

- A. 对机器甲 40%的答复所有人都确认其为机器
- B. 对机器乙 60%的答复测试者能确认其为机器或人
- C. 对机器丙 30%的答复有 90%的某小区居民确认其为机器
- D. 对机器丁 30%的答复只有 10%的某校大学生不能确认其为机器

【参考答案及解析】

1. 【答案】D。解析：“触景伤情”的定义要点是“受到某些情景的触动而产生某种悲伤的情感”。①是劝告人珍惜时光和青春，未体现“悲伤的情感”，不符合定义。②是曹雪芹用风筝作象征物来写探春的人物形象和命运结局，比喻她的命运像断线的风筝不再回来，体现了“悲伤的情感”，符合定义。③是对葛岭花开情景和游人的描写，未体现“悲伤的情感”，不符合定义。④意为那座令人伤心的桥下，春水依然碧绿，当年这里我曾经见到她美丽的侧影惊鸿一现，符合定义。⑤仅是对景物的描写，未体现“悲伤的情感”，不符合定义。⑥意为笑声和声音渐渐消散了，行人怅然，仿佛自己的多情被少女的无情所伤，符合定义。⑦体现的是惜别之情和友人间的深挚情谊，未体现“悲伤的情感”，不符合定义。⑧意为在人世间最留不住的是那在镜中一去不复返的青春和离树飘零的落花，表达了作者对光阴易逝的的感叹，未体现“悲伤的情感”，不符合定义。综上，符合触景伤情定义的有②④⑥，共 3 个。故本题选 D。

2. 【答案】D。解析：“诱发运动”的定义要点是“由于一个物体的运动使其相邻的一个静止物体产生运动”。A 项只有烛光在运动，而静止的黑板并没有因此产生运动，不符合要点，排除。B 项多张图片都在运动，不存在静止物体，不符合要点，排除。根据定义可知，“诱发运动”涉及的两个物体应是同时被观察的，而 C 项是先看瀑布，再看周围的树木，不符合定义。D 项云的运动使月亮看起来在运动，符合要点，符合定义。故本题选 D。

3. 【答案】D。解析：“博喻”的定义要点是“用几个喻体从不同角度反复设喻去说明一个本体”。A 项只有“钢铁”一个喻体，B 项只有“桃花潭水”一个喻体，C 项只有“党八股”一个喻体，均不符合定义；D 项用“一川烟草”“满城风絮”“梅子黄时雨”比喻闲

愁，表现其多、乱和连绵不断，符合定义。故本题选 D。

4. 【答案】B。解析：“订单式培养”的定义要点：①用人单位提出用人申请；②由劳动保障部门委托培训机构组织实施人才培养；③明确就业岗位去向。A项没有用人单位提出申请，职业技术学院开设烹饪专业也不是由劳动保障部门委托的，不符合①②，排除。B项托儿所提出用人申请，由主管部门委托代培机构组织培训，就业岗位去向明确是保育员，符合①②③，符合定义。C项只是聘请人才，而不是培养人才，不符合②，排除。D项并不是由劳动保障部门委托培训机构培训，不符合②，排除。故本题选 B。

5. 【答案】A。解析：“承诺”的定义要点是：①受要约人同意要约的意思表示；②对要约未作出实质性改变；③在要约确定的期限内作出并到达要约人。A项“在其确定的期限内同意购买体育用品”符合①③，“要求修改要约中的原产地”符合②，符合定义；B项“刘某未能如期答复”不符合③；C项受要约人是乙，“丙得知后表示接受甲的要约”不符合①；D项要约人是丙，“丁考虑后向戊表示同意甲的要约”不符合③。故本题选 A。

6. 【答案】B。解析：“气候难民”的定义要点是“生存因气候变暖等特殊气候因素而受到威胁”。A项土地沙漠化、C项飓风、D项海平面上涨均是由气候因素造成的，符合定义；B项印度洋海啸是由地震引发的，不符合定义。故本题选 B。

7. 【答案】B。解析：“水质性缺水”的定义要点是“水资源的污染加重了水资源的短缺”。只有B项是“湘江水体污染”导致水资源短缺，符合定义；A、C、D三项中水资源短缺均与水资源的污染无关。故本题选 B。

8. 【答案】A。解析：“小众经济”的定义要点：①采用个性化生产加工方式；②为用户提供独一无二的产品。A项未体现“个性化生产加工方式”，也未体现“独一无二”，不符合①②，不符合定义。B项“根据用户的量体数据专门设计”“西装里面还绣着用户名字”、C项“按照用户要求制作带有新郎、新娘卡通形象的巧克力喜糖”和D项“唯一的采用外文标识的电冰箱”“将他们的婚纱照打印在电冰箱面板上”均符合①②，符合定义。故本题选 A。

9. 【答案】B。解析：“短命政策”的定义要点：①地方政府制定的政策措施；②事关群众权益却无法得到社会公众认可或受到普遍反对；③一出台很快被迫终止。A项某市交管部门出台闯黄灯处罚政策（事关群众权益）引起强烈反响（如可能因过严而不能得到公众认可），5天后宣布“暂时不予执行”，符合①②③，符合定义，排除。B项未体现“无法得到社会公众认可或受到普遍反对”，不符合②，不符合定义。C项“禁摩令”（事关群众

权益)推出后大批快递员集体离职,摩的司机纷纷上访,很快被宣布“暂缓执行”,符合①②③,符合定义,排除。D项公路设卡收费(事关群众权益)的消息引起舆论哗然(如公众可能大表惊讶和不满,不认可),没到月底就寿终正寝,符合①②③,符合定义,排除。故本题选B。

10.【答案】B。解析:通过图灵测试的要求是“被测试者有超过30%的答复不能使测试者确认出哪个是人、哪个是机器”。A项,机器甲有40%的答复使测试者确认其为机器,说明剩余60%的答复是使测试者不能确认其为机器的,但能否确认其为人是未知的,故不能确定是否通过了测试;B项,机器乙有60%的答复使测试者能确认其为机器或人,则有40%的答复使被测试者不能确认其为机器或人,符合定义要求;C项,机器丙有30%的答复使90%的某小区居民确认其为机器,说明有30%的答复使10%的居民不能确认其为机器,剩余70%的答复使90%的居民不能确认其为机器,但能否确认其为人是未知的,故不能确定是否通过了测试;D项,机器丁有30%的答复使10%的某校大学生不能确认其为机器,说明有70%的答复使10%的某校大学生确认其为机器,则有70%的答复使90%的某校大学生不能确认其为机器,但能否确认其为人是未知的,故不能确定是否通过了测试。故本题选B。

第十五辑

1. 政策分析是依据一定的政策理论、知识,运用各种分析方法和技术,帮助决策者制定和优化具体政策的过程。

下列叙述有误的一项是()。

- A. 政策分析必须以一定的政策理论为基础
- B. 政策分析要运用一定的方法和技术
- C. 政策分析就是要把握领导的意图
- D. 政策分析的目标是帮助决策者制定和优化具体政策

2. 无因管理是指没有法定或约定的义务,为避免他人利益遭受损失,而为其管理事务的行为。

根据上述定义,下列属于无因管理的是()。

A. 为躲避台风,全村人都迁移到外地,台风过后张三回到村里,发现刘某的贵重皮衣在自家院里,随送到皮衣店进行浸水后维修,之后据为己有

- B. 发生洪水，隔壁家池塘的鱼冲入王某鱼塘，王某悄悄的饲养一周后将鱼卖入集市
- C. 雨天，小郭见邻居家没人，翻墙而入为其收被子
- D. 加工厂对买方已付款但未取走的货物进行妥善保管

3. 经济纠纷：是指在经济活动中，双方当事人就权利义务关系所发生的争执。下面不属于经济纠纷的是（ ）。

- A. 某校认为，省教委所拨某项经费额度不合理，与之发生分歧，引起争议
- B. 甲厂拖欠乙厂货款，乙厂长期索要不成，准备起诉
- C. 甲厂就商标名誉权问题要求乙厂赔偿，并停止使用现行商标，乙厂拒不执行
- D. 船闸管理人员扣押船只导致船方经济损失，船方要求赔偿，船闸管理人员拒不赔偿

4. 所谓传统型权威指的是政治权力的正当性是基于一种历史悠久的习俗与传统而来的，在这种统治形式里，统治的维持是靠从古到今沿袭下来的风俗习惯和伦理道德。法理型权威即以法律和理性为依据而进行统治的形式。由于该种权威不是依赖于个人，而是来自法律，因而就必须有健全的法律机制，法律决定的管理系统有其自身的活力和自身的规律，正是靠这种活力和规律来维持权威。

根据上述定义，下列属于法理型权威的是（ ）。

- A. 某校领导经常聆听学生意见，不断改善学校工作
- B. 某政府首脑专断独行，不顾民众利益
- C. 某国首相由于积极投身公益，得到民众的好评
- D. 某机关在工作中依法行政、公正执法，得到群众的拥护

5. 硬新闻是关系到国计民生以及人们切身利益的新闻，包括党和国家的重大方针、政策的制定和改变、市场行情、疾病流行、天气变化、重大灾难事故等。硬新闻为人们的政治、经济、工作、日常生活的决策提供依据。

根据上述定义，下面不属于硬新闻的是（ ）。

- A. 中国价值 5600 余万元救灾物资经上海口岸援助泰国
- B. 北大硕士生回农村老家建设“立人”图书馆促教改
- C. 上海今明两年各增 18 万新生儿，创十年来生育最高峰
- D. “神八”追梦，中国实施首次空间对接

6. 知识获得有两种途径，自下而上是指个体在日常生活和交往中形成一些具体生动的经验，渐渐进行概括，形成概念；自上而下是指个体先接触到抽象概念，然后在生活中积

累感性经验，使概念更生动更真切。

根据上述定义，下列哪项属于自上而下的知识获得？（ ）

- A. 在上幼儿园后，三岁的小明听老师说楼下那些全身毛绒绒、会汪汪叫的是狗
- B. 物理课上讲解钻木取火的基本原理后，几个同学课后在山上收集材料并做了尝试
- C. 小学三年级的课本上用图片和连环画的形式生动展示了遇到火灾应该如何应对
- D. 王教授发明的电子护眼灯经过检验和使用，确实能起到保护儿童视力的作用

7. 后评价是在项目建成并投入运营或使用后，通过对项目全面总结评价，吸取经验教训，提高改进项目决策水平，以提高投资效益，其主要目的是得到经验、教训和启示。

根据以上定义，下列不属于后评价范畴的是（ ）。

A. 某国政府利用外国贷款修建了一条铁路，铁路通行后，为了对建设过程中的资金使用效率进行回顾总结，委托咨询公司对项目进行财务分析

B. 某水电站建设过程中对周边生态环境影响教大，建成后当地政府欲对建设过程中的生态环境影响进行回顾性评价。后评价是在项目建成并投入运营或使用后，通过对项目全面总结评价，汲取经验教训，提高改进项目决策水平，以提高投资效益，其主要目的是得到经验、教训和启示。

C. 某县为了改善当地的环境保护现状，利用该省财政资金修建了一座污水处理厂，施工过程中为了监督项目资金的使用情况，省财政厅定期组织专家对项目资金的使用情况进行审计

D. 某楼盘施工过程中出现一些安全事故，虽未造成大的人员伤亡，但竣工后，施工单位负责人仍打算对建设过程中的安全生产情况进行重点总结。

8. 宜家效应是指劳动会增加人们对劳动成果的感情，当人们自己动手制作东西时，他们都会觉得自己的创作特别有价值。

根据上述定义，下列最能体现宜家效应的是（ ）。

A. 让人们亲手做折纸，然后连同他人做的折纸放在一起竞价，结果大家都愿意为自己做的折纸出更高的价钱

B. 某公司为方便人们制作蛋糕，推出方便蛋糕粉，使蛋糕的制作非常简单

C. 某家具生产商生产的家具需要顾客买回家后，按照产品说明书来完成家居的拼装组合工作

D. 学校鼓励学生自己动手制作各种教具，不仅锻炼了学生的动手能力，还节约了教学成本

9. 农超对接是指农户和商家签订意向性协议书，由农户向超市、菜市场和便民店直供农产品的新型流通方式，主要是为优质农产品进入超市搭建平台。农超对接的本质是将现代流通方式引向广阔农村，将千家万户的小生产与千变万化的大市场对接起来，构建市场经济条件下的产销一体化链条，实现商家、农民、消费者共赢。根据上述定义，下列哪项属于农超对接的作用？（ ）

- A. 市场需要什么，农民就生产什么，避免生产的盲目性
- B. 减少流通环节，降低流通成本
- C. 有利于降低农产品的生产成本
- D. 稳定农产品销售渠道和价格

10. 生产、销售有毒、有害食品罪是指在生产、销售的食品掺入有毒、有害的非食品原料的，或者销售明知掺有有毒、有害的非食品原料的食品的行为。

根据上述定义，下列构成生产、销售有毒、有害食品的罪的是（ ）。

- A. 刘某在地下工厂用工业用高纯度酒精加自来水制造大量假酒，并将其销售给商店，获利8万多元
- B. 某肉食品加工厂用病死猪肉作原料生产火腿，造成大批消费者食物中毒
- C. 某饮料生产厂家在生产的可乐中添加了食品添加剂——咖啡因，但并未在包装上予以注明，使大量消费者饮用了含有因的可乐
- D. 某食品厂在所生产的一款彩虹糖中添加食用色素超标，长期食用会给人体健康造成危害

【参考答案及解析】

1. 【答案】C。解析：第一步抓住定义中的关键词。关键词有“依据一定的政策理论、知识”、“运用各种分析方法和技术”、“帮助决策者制定和优化具体政策”。第二步：逐一判断选项。A项“以一定的政策理论为基础”符合“依据一定的政策理论、知识”。B项“运用一定的方法和技术”符合“运用各种分析方法和技术”。D项符合“帮助决策者制定和优化具体政策”。而C项“要把握领导的意图”不能等同于“帮助决策者制定和优化具体政策”，不符合政策分析定义。故本题选C。

2. 【答案】C。解析：无因管理的关键词是“没有法定或约定义务、为避免他人利益、为他人管理事物”。张三把刘某的贵重皮衣虽然送到皮衣店进行浸水后维修，但是最终目的

是占为己有。所以，并不是为刘某保管，而是据为己有，属于不当得利，A项错误。王某把冲入自家鱼塘的鱼悄悄的饲养一周后卖入集市，虽然有为别人的鱼尽保管的义务，但是目的是为了自己利益，所以不属于无因管理，B项错误。小郭在没有任何义务的前提下，下雨天为邻居收被子，属于无因管理，C项正确。加工厂对买方已付款但未取走的货物，仍然有法定的义务进行保管，所以，不属于无因管理，D项错误。故本题选C。

3. 【答案】A。解析：经济纠纷的关键要件有：（1）经济活动；（2）权利义务关系所发生的争执。A项不是经济活动，不符合要件（1）。B、C、D三项符合定义的要件，属于经济纠纷，排除。故本题选A。

4. 【答案】D。解析：法理型权威定义的关键是“以法律和理性为依据而进行统治”。A、B、C三项都不属于依靠法律和理性，不符合定义。D项“依法行政”从而“得到民众的拥护”，符合定义，属于法理型权威。故本题选D。

5. 【答案】B。解析：第一步抓住定义中的关键词。关键词强调关系到“国计民生”以及“人们切身利益”的新闻。第二步逐一判断选项。A项中的“中国价值5600余万元救灾物资”体现了国家的经济政策，关系到“国计”；C项中的“创十年来生育最高峰”关系到“民生”，D项中“神八”追梦关系到“国计”，三者均属于硬新闻。B项中的“回农村老家建设‘立人’图书馆促教改”为个人为地方所做的行为，不关系“国计民生”，不属于硬新闻。故本题选B。

6. 【答案】B。解析：自上而下的知识获得的定义要点是：先接触到抽象概念，然后在生活中积累感性经验。A项先在生活中接触后获得抽象概念，属于自下而上的知识获得；B项符合定义；C、D两项均未体现生活中的经验积累。故本题选B。

7. 【答案】C。解析：后评价的定义的特征是：（1）投入运营或使用后；（2）全面总结评价；（3）得到经验、教训和启示。C项是在施工过程中的审计，不符合定义要点（1）。其他三项符合定义。故本题选C。

8. 【答案】A。解析：第一步抓住定义中关键词。定义的关键词有“增加人们对劳动成果的感情”、“觉得自己的创作特别有价值”。第二步逐一判断选项：A项人们“为自己做的折纸出更高的价钱”，可以说明人们“觉得自己的创作特别有价值”，符合定义。B项“使蛋糕的制作非常简单”没有体现人们“觉得自己的创作特别有价值”。C项顾客“按照产品说明书来完成家居的拼装组合工作”没有体现人们“自己的创作”，更没有体现“增加人们对劳动成果的感情”。故本题选A。

对劳动成果的感情”。D项“学校鼓励学生自己动手制作各种教具”不能说明学生“觉得自己的创作特别有价值”。故本题选A。

9. 【答案】B。解析：根据定义要件“由农户向超市、菜市场 and 便民店直供农产品的新型流通方式”，可以判断选项A、C、D都不符合关键信息，只有B项涉及到了流通等环节，故本题选B。

10. 【答案】A。解析：“生产、销售有毒、有害食品罪”定义的关键信息是“掺入有毒、有害的非食品原料”。A项用工业用高纯度酒精加水制造假酒符合定义；B项病死猪肉属于食品原料，不符合定义；C项咖啡因和D项食用色素都不是有毒、有害的，不符合定义。故本题选A。

第十六辑

1. 媒介依存症是现代人一种社会病理现象，其特点是：过度沉迷于媒介接触而不能自拔；价值和行为选择都从媒介中寻找依据；满足于与媒介中的虚拟社会互动而回避现实的人际交往。

根据上述定义，下列属于媒介依存症的是（ ）。

- A. 某知名香水在情人节重磅推出的甜蜜系列经媒体广泛宣传后，销量大增
- B. 大学生们借助网络聊天工具实现语音、视频聊天，减少了面对面的交流
- C. 尽管专家一再解释转基因食品的安全原理，各种传闻和报道仍让人们心存疑虑
- D. 小雅对韩剧很痴迷，从言行、穿着到选择男友和工作，都像极了剧中女主角

2. 神经病指神经系统（脑、脊髓中枢神经和周围神经）及其附属结构（脑膜、脑血管、肌肉等）的器质性和功能性的障碍。

根据以上定义，下面疾病中是神经病的是（ ）。

- A. 神经衰弱
- B. 白血病
- C. 病毒性感冒
- D. 肝癌

3. 第三者责任险负责赔偿保险车辆因意外事故，致使第三者遭受人身伤亡或财产的直接损失。所谓第三者是指被保险人及其财产和保险车辆上所有人员与财产以外的他人、他物。所谓“所有人员”指车上的驾驶员和所有乘坐人员。但这些人下车后除驾驶员外，均可视为第三者。根据以上定义，下列属于第三者责任险赔偿范围的是（ ）。

A. 甲驾驶自己的私人车辆出行，途中车辆发生故障。甲下车修理，车辆突然向后滑行，甲被车辆轧断脚掌，本次事故中甲的医疗费用共计 5000 元

B. 甲驾驶卡车向某市运送货物，由于雪天路滑，在避让行人时，发生了翻车事故。经检查，本次事故中车辆损毁及货物损毁费用共计 19000 元

C. 甲为某长途汽车司机。在车辆的行驶过程中，车厢内突然起火。乘客乙被烧伤，财物被烧光。乙要求甲赔偿医疗费用及财物损毁费用共计 10000 元

D. 甲驾驶大巴车送一批游客去参观名胜古迹。到达旅游地点，甲倒车时将在车后绕行的乘客乙撞伤，后乙向甲索赔 20000 元

4. 企业信息化是指企业利用现代技术，通过深化开发和广泛利用资源，不断提高生产、经营、管理、决策效率和水平的过程。根据上述定义，下列不属于企业信息化的是（ ）。

A. 学校建立计算机网络平台使校内信息资源得到充分利用

B. 将全部企业业务乃至全部企业管理实现信息化的计算机集成制造系统

C. 将离散型和流程型生产的质量、设施、控制、数据和通信等结合起来，实现广泛的管理信息集成

D. 制定原材料零部件采购加工计划，以保证能在规定的时间内、地点得到需要的物料数量，并引进计算机进行辅助管理

5. 不当得利是指没有法律和合同上的根据而得到利益，致使他人受到损失。按法律规定，受损失的一方有请求不当得利人返还所得到的利益的权利，而不当得利人有返还利益的义务。

下列属于不当得利的是（ ）。

A. 债务人清偿未到期的债务

B. 顾客多付售货员的货款

C. 养子女给其生父母的赡养费

D. 给付出赌博而输的钱

6. 沉锚效应，指的是人们对某事做出判断时，易受第一印象或第一信息支配，就像沉入海底的锚一样把人们的思想固定在某处。第一印象和先入为主是其在社会生活中的表现形式。

根据上述定义，下列选项没有应用到沉锚效应的是（ ）。

A. 男孩邀请心仪女生说：“出去玩好吗？”女孩觉得拒绝好像很自然，答应显得太主动，所以说：“下次吧。”男孩认为女孩无意与他交往

B. 一家粥店服务员为客人盛粥后总问：“加一个鸡蛋还是两个？”另一家服务员总问：“加不加鸡蛋？”头一家店日销售额总高于后一家

C. 邻居偷走华盛顿的马被发现拒不承认，华盛顿捂住马的双眼问邻居：“马哪只眼是瞎的？”邻居说“右眼”，事实上，马的两只眼睛都没毛病

D. 你去商场闲逛，导购小姐诱导说：“反正今天是出来买鞋的，甲或者乙都很适合你的气质，请选一双吧。”然后你就挑选了其中一双

7. 行政许可是指行政机关根据公民、法人或者其他组织的申请，经依法审查，准予其从事特定活动的行为。

根据上述定义，下列不属于行政许可的是（ ）。

- A. 广播电影电视机构的设立
- B. 放射性腐蚀性等危险品的生产运输
- C. 公务员职务任免等的审批
- D. 证券市场准入

8. 固体废物污染，是指因对固体废物的处置不当而使其进入环境，从而导致危害人体健康或财产安全，以及破坏生态系统、造成环境质量恶化的现象。

下列不属于固体废物污染的有（ ）。

- A. 甲工厂非法排污水入汉江
- B. 乙诊所没有按规定处理使用过的一次性注射器，而是随意丢于路边，被几个三岁小孩拾起，不慎划破手指感染
- C. 铁路两边的白色一次性餐盒
- D. 某高校物理实验室用过的铀，未埋好，被一拾破烂者发现，该人三星期后身亡

9. 反报是指一国对他国不礼貌、不友好或不公正但不违法的行为以同样的或类似的行为予以回报。

下列属于反报行为的是（ ）。

A. 甲国因故宣布乙国驻甲国使馆的一名外交人员为“不受欢迎的人”后，乙国也宣布了甲国驻乙国使馆中的一名外交人员为“不受欢迎的人”。甲、乙两个国家都是 1961 年《维也纳外交关系公约》的成员国

B. 中国甲公司向美国乙公司出口一批运动鞋，德国丙公司指控该批货物侵犯了其在美国登记注册的专利权，货物遭美国海关扣押

C. 甲国是一个香蕉生产大国，其蕉农长期将产品出口乙国。现乙国颁布法令，禁止甲国的香蕉进口。甲国在要求乙国撤销该禁令未果后，宣布对乙国出口到甲国的化工产品加

征 300%的进口关税。甲、乙两国间没有涉及香蕉化工产品贸易或一般贸易规则的双边或多边条约

D. 甲国军舰近年来屡有侵犯乙国周边岛屿的行为，乙国决定如果甲国军舰再有上述行为就命令本国军队予以回击

10. 专化防御和反专化防御是物种进化进程中的两种反应类型。前者是指两个物种在防御方面的协同进化进程中所做出的特定进化反应。例如：加纳园蛛黄昏时把网建成，而到黎明时又把网拆毁以对付猎蛛蜂白天对其捕食。反专化防御是相对专化防御而言的，是指物种为破除其他物种的专化防御而采取的行为反应。

根据上述定义，下列属于反专化防御的是（ ）。

- A. 响尾蛇的尾巴晃动时，能够发出声响，有时用来警告老鹰等天敌
- B. 狼过着群居的生活，一般七匹为一群，共同抵御狮子老虎的攻击
- C. 蜗牛的头有四个触角，走动时伸头，受惊时则头尾一起缩进甲壳中
- D. 羚羊那岗位躲避猎豹捕食，会选择在夜间觅食，猎豹有时也会在夜间捕食

【参考答案及解析】

1. 【答案】D。解析：媒介依存症的特点有：（1）过度沉迷于媒介；（2）价值和行为选择都从媒介中寻找依据；（3）回避现实的人际交往。A项不符合这几个特点；B项只是减少了交流而并非回避，不符合（3）；C项专家解释和传闻、报道均来自媒介，也不符合定义；D项小雅的行为符合定义。故本题选D。

2. 【答案】A。解析：第一步抓住定义中的关键词。该定义项强调神经病的发病部位是“神经系统及其附属结构”，疾病症状是“器质性和功能性的障碍”。第二步逐一判断选项。A项神经衰弱是由于大脑神经活动长期处于紧张状态，导致大脑兴奋与抑制功能失调而产生的一组以精神易兴奋，脑情绪不稳定等症状为特点的神经功能性障碍。发病部位和疾病症状与“精神病”的定义相符。B项，白血病发生在造血器官；C项，病毒性感冒是急性呼吸道传染病；D项，肝癌发生于肝脏；B、C、D三项的发病部位均不在神经系统及其附属结构，不符合定义。故本题选A。

3. 【答案】D。解析：第一步抓住定义中的关键词。关键词强调“第三者”，即“被保险人及其财产和保险车辆上所有人员（包括驾驶员和所有乘客）与财产以外的他人、他物。但“所有人员”下车后除驾驶员外，均可视为第三者。第二步逐一判断选项。A项中的甲

虽然下车，但是作为驾驶员，不符合“第三者”的范围；B项中甲是驾驶员不属于第三者，所以没有造成第三者的损失；C项中的乙及其财物都是被保险车辆上的人和财物，不属于第三者范围。D项表述符合第三者责任险定义。故本题选D。

4. 【答案】A。解析：第一步抓住定义中的关键词。关键词强调“企业”。第二步逐一判断选项。A中的“学校”不是企业，是事业单位，不符合定义。B、C、D均是关于企业的。故本题选A。

5. 【答案】B。解析：不当得利的前提是获得利益而使他人受损“没有法律和合同上的根据”，A、C有合同上法律上的根据，D的行为违法不受不当得利的保护。故本题选B。

6. 【答案】A。解析：定义的关键信息是“易受第一印象或第一信息支配”。选项A不涉及第一印象，故不属于定义。故本题选A。

7. 【答案】C。解析：公务员职务任免等的审批未经申请，不是特定活动，故本题选C。

8. 【答案】D。解析：第一步抓住定义中的关键词。关键词为“固体废物”。第二步逐一判断选项。A项中“污水”是液体废物，不符合关键词。B项中的“一次性注射器”、C项中的“一次性餐盒”、D项中的“铀”均属于固体废物污染。D选项中“用过的铀”说明是固体的废弃物，“未埋好”即处理不当使其进入环境，拾破烂者死亡说明其危害了人体健康，符合题目中定义关键字。故本题选D。

9. 【答案】A。解析：第一步抓住定义中的关键词。关键词包括“一国对他国”，“不礼貌、不友好或不公正但不违法”，“同样的或类似的行为”。第二步逐一判断选项。A项中乙国的行为完全符合关键词，为典型的反报行为；B项中的行为主体不是国家，不符合关键词“一国对他国”，因此不属于反报行为；C项中乙国的行为是禁止进口，但甲国的行为只是加征高额关税，不符合关键词“同样的或类似的行为”，因此不属于反报行为；D中乙国的行为属于自卫，因此不属于反报行为。故本题选A。

10. 【答案】D。解析：本题是定义判断，是一道双定义题，再讲专化防御和反专化防御，而问题问的是属于专化防御的选项，反专化防御是指物种为破除其它物种的专化防御而采取的行为，那么就是说反专化防御是相对于专化防御而言的，所以只有D答案是正对物种的专化防御所采取的的行动。故本题选D。

第十七辑

1. 微突发事件：指发生在小范围的一个事件，经当事人或他人在网络等传媒上披露后，产生比较大的社会反响。

下列不属于微突发事件的是（ ）。

A. 某官员在参加一工程剪彩活动时，其佩戴名贵手表的照片被网友发到微博上，引起社会广泛关注

B. 2010年5月，某大学生上传一段动画片时说：“这就是天竺吗？不给力啊老湿！”，“给力”一词旋即风靡网络。当年11月10日，“给力”一词出现在《人民日报》头版标题中

C. 2012年底，乞丐周某在某商场附近举着失物招领牌子，寻找钱包失主。路人俞某发现后，拍下一张照片并发到微博上。该微博被迅速转发，大家都对周某的行为表示赞赏

D. 2012年11月25日，歼-15舰载机在我国首艘航母“辽宁舰”上顺利实现起降，引发世界各大媒体热议

2. 长尾理论是网络时代兴起的一种新理论，由美国人克里斯安德森提出。长尾理论认为，由于成本和效率的因素，过去人们只能关注重要的人或重要的事，如果用正态分布曲线来描绘这些人或事，人们只能关注曲线的“头部”，而将处于曲线“尾部”、需要更多的精力和成本才能关注到的大多数人或事忽略。

以下情况采用长尾理论观点重视“尾部”的是（ ）。

A. 尽管现在“大热门”的经济力量已经不如当年，但我们仍然对其绝对的重点关注

B. 商家认为听众对非热门音乐有着无限的需求，市场无比巨大，应加以关注

C. 厂商们把精力放在那些有80%客户去购买的20%的主流商品上，着力维护购买其80%商品的20%的主流客户

D. 在销售产品时，厂商关注的是少数几个“VIP”客户，“无暇”顾及在人数上居于大多数的普通消费者

3. 低价倾销行为：是指经营者以排挤竞争对手为目的，以低于成本的价格销售商品的行为。

根据上述定义，下列选项属于低价倾销行为的是（ ）。

A. 春季即将来临，某服装店甩卖冬季服装

B. 某商店为了占据皮包市场，以低于进价的价格抛售皮包

C. 低价出售某破产家电公司的电脑

D. 某家具店低价处理长期积压的家具

4. 顶层设计是指统筹考虑系统各层次和各要素，追根溯源，统揽全局，在最高层次上寻求问题的系统解决之道。

根据上述定义，下列选项不符合顶层设计的是（ ）。

A. 某市政府在有关园林绿化决策执行效果的检查过程中发现问题，有关领导指示对北区绿化方案进行优化

B. 某公司董事会就公司扩大经营范围，在海外收购项目等问题召集相关专家起草方案，在论证后董事会进行表决

C. 某岛屿具有不冻不淤的深水港口与沙白滩阔等条件，辖区政府为利用好这些资源，组织海内外专家研究岛屿开发方案

D. 软件公司在开发大型软件时，就软件的框架召集专家进行论证，在充分吸收专家意见的基础上，确立了软件设计思路

5. 对比效应是一种社会知觉偏见，指评价一个人或一件事时，受到最近接触到其他人或事的影响，导致对这个人或这件事的评价发生歪曲，作出不客观的评价。

根据上述定义，下列属于对比效应的是（ ）。

A. 实验表明，模拟审判团对形象差的被告判的刑期更长

B. 和很多人一样，老王也认为理想的家庭应该是“男主外，女主内”

C. 小李认为自己能进入某知名外企工作是由于自身优秀，而小罗只是运气好

D. 面试时如果前一个考生表现平平，考官往往会给其后面的考生偏高的分数

6. 农业现代化是指把建立在直接经验和手工工具基础上的传统农业转变为以现代先进科学技术、生产手段和管理方法为基础的社会化农业的过程。

根据以上定义，下列与农业现代化含义不符的一项是（ ）。

A. 建立合理的农业生产结构和农村经济结构，实现以生产商品化为核心的农业生产社会化

B. 因地制宜，根据不同地区农业资源状况和农业生产条件的差异，使畜力耕作和农业机械化手段相结合

C. 广泛运用发酵、基因、无土栽培等农业高技术手段，实现农业生产技术科学化和集约化发展

D. 走以实现贸工农一体化为中心，以高产、优质、高效为基本内容的农业产业化道路

7. 产业结构政策：指一定时期内政府为促进本国或国内某一地区产业结构的调整、优化所制定的政策。

根据以上定义，下列哪种政策不属于产业架构政策？（ ）

- A. 对第三产业采取保护与扶持
- B. 对涉及农产品及产品加工，推行公司加农户的形式
- C. 对“五小”工业采取“关、停、并、转”
- D. 对某些工业产品实行“3C”认证

8. 法律移植，即一个国家的法律制度的某些因素是从另一个国家的法律制度或许多国家的“法律集团”中输入的。

根据以上定义，下列属于法律移植的是（ ）。

- A. 中国刑事诉讼法对宋代“翻异别勘”制度的吸收
- B. 德国民法对本国以前民法思想中的“契约关系”的继承和发展
- C. 日本民法对德国民法中某些优良制度模式的采纳
- D. 中国大陆根据自己的国情而采取的“司法协助”制度

9. 柔性管理：组织以人为中心，灵活运各种管理方法，通过影响人的心理，产生良好的管理效果。

根据以上定义，下列属于柔性管理的是（ ）。

A. 张莉 7 岁的孩子感冒发烧，家中无人照看，只好带着上班，领导让她调休，送孩子去医院

B. 某机关组团出国学习考察，顺道去迪尼乐园游玩了一天，有关领导特批报销费用

C. 办公室主任负责考勤，无论谁推迟，考勤记录均为合格，同事关系相处很好

D. 新员工小王试用期培训考试不合格，车间主任考虑她是副总的亲戚，破例让她转上岗

10. 错觉是指由于主观的和客观的原因，人们有时不能完全正确地感知外界事物，会产生各种歪曲。人在特定条件下对客观事物必然产生的，某种有固定倾向的，受到歪曲的知觉。

根据以上定义，下列不属于错觉的是（ ）。

- A. 在黑暗中人长时间注视一个发光点，会发现发光点在动

- B. 当月亮在头顶上时，你会发现无论你走到哪里，它总是跟在你的背后
- C. 穿白衣服会使瘦小的人略有丰满，而穿黑衣服会使肥胖者显得苗条；横线条的衣服使人显得胖些，竖线条的衣服使人显得瘦
- D. 一个人躺在床上，但觉得自己像是在轿子里被抬着走，有一种颠颠的感觉

【参考答案及解析】

1. 【答案】D。解析：微突发事件的关键词是发生在小范围的一个事件，在传媒上披露后，产生大的社会反响，A、B、C项都是发生在小范围的事，经网络传播后产生了大的社会反响，符合定义，均排除。D项不是在小范围内发生的，是一个公共事件，不符合定义。故本题选D。

2. 【答案】B。解析：根据定义中的关键词逐一判断选项。关键词“尾部”是指不重要的人或事，“头部”是重要的人和事。A项中的“大热门”、C项中的“主流商品和主流客户”、D项中商场关注的“VIP客户”都属于重要的人或物，不符合“尾部”定义。B项非热门音乐是不重要的，属于“尾部”。故本题选B。

3. 【答案】B。解析：根据定义中的关键词逐一判断选项。关键词“低价倾销”的目的是“排挤竞争对手”、手段是“以低于成本的价格销售商品”。B项目的为占据市场，即排挤竞争对手，目的、手段符合定义。A项“甩卖冬季服装”手段、目的均不符定义；C项“低价出售电脑”不一定低于成本价，但目的不符定义；D项“处理长期积压家居”，目的不符定义。故本题选B。

4. 【答案】A。解析：根据定义中的关键词逐一判断选项。关键词为“系统解决之道”。B项的“起草方案”、C项的“开发方案”、D项“确立了软件设计思路”均符合关键词，属于顶层设计。而A项中只是进行方案的优化，而不是寻求系统性的解决之道。故本题选A。

5. 【答案】D。解析：对比效应的关键词是“受到其他人或事的影响，作出不客观的评价”，D项考官根据前面的考生给后面的考生的分数高，符合定义。A、B、C选项都没有体现受到其他人或事的影响这一关键词。故本题选D。

6. 【答案】A。根据定义中的关键词逐一判断选项。关键词强调“以现代先进科学技术、生产手段和管理方法为基础的社会化农业”。A项“建立合理的农业生产结构和农业经济结构”没有体现“现代先进科学技术、生产手段”，不符合关键词；B项的“蓄力耕作与农业机械化手段相结合”运用了现代先进科学技术和生产手段，符合；C项的“运用发酵、基

因、无土栽培等农业高技术手段”运用了现代先进科学技术和生产手段，符合；D项的“贸工农一体化”运用了先进的管理方法，符合。故本题选A。

7. 【答案】D。解析：根据定义中的关键词逐一判断选项。关键词强调“产业结构的调整、优化”。A项是对第三产业的调整，属于产业结构政策；B项是对农业和工业的整合，属于产业结构政策；C项是对工业的调整，属于产业结构政策；D项中的“3C”认证主要是对产品质量的要求，不涉及产业结构。故本题选D。

8. 【答案】C。解析：根据定义中的关键词逐一判断选项。关键词为“另一个国家”、“或许多国家”。C项日本民法采纳了德国民法中的优良制度模式，符合“一个国家的法律制度的某些因素是从另一个国家的法律制度中输入的”。A、B、D项均不涉及另外国家。故本题选C。

9. 【答案】A。解析：根据定义中的关键词逐一判断选项。关键词强调“以人为中心”、“影响人的心理”、“产生良好的管理效果”。A项因孩子生病，领导让张莉调休，这种做法会让员工觉得温暖，体现了“以人为中心”，会产生良好的管理效果；B、C、D项特批报销费用、不负责任的考勤记录、破例转上岗，均不能产生“良好的管理效果”，反而可能产生不良后果。故本题选A。

10. 【答案】B。解析：根据定义中关键词逐一判断选项。关键词有“有时不能完全正确地感知”、“产生各种歪曲”、“有固定倾向”。B项月光照射引起人的这种感觉并非是错觉，是因为相对月亮而言，人类行走的位移相当于零。A、C、D三项均符合错觉的定义。故本题选B。

第十八辑

1. 汽车交通事故的特征之一是在道路上发生。这里的“道路”包括公路、城市街道和胡同（里巷），以及车站、公共广场、公共停车场等供车辆、行人通行的场所。公路则是指根据公路法的规定，经公路主管部门验收认定的城间、城乡间、乡间能行使汽车的公共道路，包括国道、省道、县道和乡道。特征二是在汽车营运过程中发生，即至少有一方车辆处于启动、行驶、刹车、减速、加速、转弯等运动过程中。

根据上述定义，下列属于汽车交通事故的是（ ）。

A. 李某尚未取得驾照，却擅自将贴有“训练”标志的车开到闹市区，与一出租车相撞

- B. 火车在高速行驶中，一人在铁道上行走，被卷入车底丧生
- C. 某市公交站里停放的一辆7路公交车无故起火
- D. 田野里耕种的拖拉机突然失灵，撞向田埂

2. 间接故意，是指行为人明知自己的行为会发生危害社会的结果，并有意放任，以致发生这种结果的心理态度。

根据上述定义，下列属于间接故意的是（ ）。

A. 李某由于邻居赵某经常辱骂她而怀恨在心，找人恐吓赵某，赵某由于惊吓过度而突发心脏病死亡

B. 某日深夜，李某在家中听到外面有女子呼救，由于心理害怕没有出门察看，结果第二天警方发现在李某家附近有一女子被害

C. 李某在不知赵某正在维修机器的情况下合上了电闸，导致赵某触电身亡

D. 李某高速驾驶中看到有一老人正在横穿马路，但没有减速，将老人撞成重伤

3. 符号化消费是指人们消费的不仅是商品和服务本身，而且是商品和服务背后内涵的文化意义和其代表的价值。

根据上述定义，下列各项中不属于符号化消费的是（ ）。

A. 商家表示今年春夏季，打磨过的、膝盖破洞的牛仔裤受到消费者欢迎

B. 一些人喜欢购买价格特别昂贵的奢侈品

C. 老张退休后，非常注重身体的保养，购买了很多保健品

D. 在一些地区，很多人喜欢去茶楼喝早茶

4. 干部任免是指国家机关或有任免权的部门，依照有关法律和条例的规定，在一定权限范围内，按照规定的程序，任用干部担任一定的职务或免去干部所担任的职务。

根据上述定义，下列不属于干部任免的一项是（ ）。

A. 原公安局长因贪赃枉法被开除公职

B. 省人大做出罢免韩景冒人大代表资格的决定

C. 经过公开考试竞争，小王被任命为安全局副局长

D. 省委决定小李任省计委主任

5. 电阻是指物质阻碍电流流动的能力，它的大小和材料本身性质有关。

根据上述定义，以下说法错误的一项是（ ）。

A. 某些材料低温下的超导性是指，在极低的温度下，材料阻止电流流过的能力变小，

甚至为零

B. 高压输电时，电能损耗少。说明高电压输电时导线的电阻小，而低电压输电时导线的电阻大

C. 铜导线的电阻比铁导线小，并不意味着电流在铜导线内流动速度比铁导线快

D. 将白炽灯的灯丝（钨丝）换成电阻小的铜丝，灯泡的发光能力大大下降，但寿命大大提高

6. 第一次刺激能缓解第二次的小刺激，这种规律称为“贝勃规律”。它表明当人经历强刺激后，之后施与的刺激对他来说会变得微不足道。

根据上述定义，下列能用贝勃规律进行解释的是（ ）。

A. 当人们从一个明亮的地方进入一个光线很差的地方时，一开始会看不清任何物体，但过了一会后能很快适应黑暗

B. 得知公司将进行第三次裁员时，小王没有前两次时那么担心，能够比较平静地对待了

C. 甲公司向乙公司出售整套设备，开始时报价很优惠，谈判即将结束时，却提出加收安装服务费，乙公司认为不可以接受

D. 小李刚开始工作时兢兢业业，熟悉环境后慢慢松懈下来，但周围人仍觉得他很敬业

7. 内隐认知是指人的大脑对各种刺激的内部加工过程，即在认知过程中，虽然行为者不能回忆某一过去经验，但这一经验已潜在地对行为者的行为和判断产生影响。

根据上述定义，下列符合内隐认知的是（ ）。

A. 小方在电视上看到某品牌手机的广告，她想到爸爸使用的手机听筒有问题，不如买一款广告中的手机送给他

B. 小辉利用业余时间学习了法语，工作后由于没有从事法语相关工作，法语学习就被迫中断了

C. 三十岁的张明很怕毛毛虫，母亲认为这是因为他一岁半时曾被毛毛虫蛰伤过

D. 一切企业借鉴国外经验，请名人为公司产品代言，并进行广泛宣传，以此为企业赢得利润和声誉

8. 浪漫主义是运用丰富的想像、奔放的感情、奇特夸张的手法和瑰丽的辞藻来描绘理想生活图景的创作手法。

根据上述定义，下列作品不属于浪漫主义作品的是（ ）。

- A. 吴承恩的小说《西游记》
- B. 蒲松龄的小说《聊斋志异》描绘了许多美丽的狐仙
- C. 李白的诗歌《梦游天姥吟留别》描写了奇特的神仙世界
- D. 老舍的《骆驼祥子》《茶馆》等作品描写了北京旧时代下层人民的生活

9. 选择性曲解是指人们面对客观事物，经常会不自觉地把外界输入的信息与头脑中早已存在的模式相结合，从而出现根据自己固有的价值体系和既定的情感好恶来解释所接受信息的倾向。

根据上述定义，下列属于选择性曲解的是（ ）。

- A. 爱屋及乌
- B. 指鹿为马
- C. 按图索骥
- D. 度日如年

10. 发散式思维是指根据已有的信息，从不同的角度不同的思维，从多方面寻求多样性答案的一种展开式思维活动。

根据上述定义，下列属于发散式思维的是（ ）。

- A. 人类失去联想，世界将会怎样
- B. 在多种解决方案中，确定一种方案
- C. 从多个前提推出一个结论
- D. 根据题目给定的条件，解决文字应用题

【参考答案及解析】

1. 【答案】A。解析：关键词强调“汽车”“道路”“营运过程中发生”。A项符合定义；B项是火车，且是在铁轨上，不符合定义；C项不是在营运过程中发生的，不符合定义；D项是拖拉机，不符合定义。故本题选A。

2. 【答案】D。解析：间接故意强调“明知自己的行为会发生危害社会的结果”，当事人的态度是“有意放任”，其结果是“发生危害社会的结果”，三个条件缺一不可。A项李某并不知道恐吓赵某会导致突发心脏病死亡，不符合定义；B项为强干扰项，李某的行为仅仅是一种害怕的心理，主观上并不确认女子最终会被害，因此不负有责任，不符合定义；C项李某并不知道他的行为会导致赵某触电身亡，不符合“明知自己的行为会发生危害社会的结果”；D项李某明知可能撞上老人，仍然没有减速，符合定义，属于间接故意。故本题选D。

3. 【答案】C。解析：关键词强调“消费的不仅是商品和服务本身”“商品和服务背后内涵的文化意义和其代表的价值”。A项“打磨过的、膝盖破洞的牛仔裤”和B项“特别昂贵的奢侈品”均是符号化的商品，消费者购买他们“不仅是为了商品和服务本身”，而且是“为了商品背后内涵的个性、身份等意义”。C项“购买保健品”不是符号化消费，因为老张消费的目的就只是为了保养身体，消费的也只是保健品本身。D项“喝早茶”是符号化消费，因为“喝早茶”不仅是为了喝茶，而且是为了喝茶“背后内涵的文化、风俗”。故本题选C。

4. 【答案】B。解析：干部任免的要点是①指国家机关或有任免权的部门，依照有关法律和条例的规定，在一定权限范围内；②按照规定的程序，任用干部担任一定的职务或免去干部所担任的职务。A项属于公务员免职的情况，C、D项则为公务员任职的情况。B项中人大是国家权力机关，人大代表是国家权力机关的组成人员，而不是行政机关的工作人员，因此对其的罢免也不同于对干部的免职。故本题选B。

5. 【答案】B。解析：关键词强调“物质阻碍电流流动”、“大小和材料本身性质有关”。A、C、D项的电阻的大小都是由于材料本身的性质造成的，B项电阻的大小和电压有关，不符合关键词。故本题选B。

6. 【答案】B。解析：贝勃规律强调经历“多次相同的刺激”，人对“之前的强刺激”感觉最强烈，对之后的刺激感觉微不足道。A项“明亮”和“光线很差”，C项“报价优惠”和“加收服务费”和D项“兢兢业业”和“松懈”都是前后不同的刺激，均不符合定义，排除；B项“多次听到裁员的消息”是“相同的刺激”，小王对前两次裁员感觉强烈，对第三次裁员感觉不强，符合定义。故本题选B。

7. 【答案】C。解析：关键词“过去经验”“行为者不能回忆”“潜在地对行为者的行为和判断产生影响”。C项“一岁半时曾被毛毛虫蜇伤过”这一“过去经验”，张明“已不能回忆”，但却造成了他很怕毛毛虫的这一认知，符合定义。A项小方回忆起“爸爸使用的手机听筒有问题”这一“过去经验”，不符合“已不能回忆”，排除；B、D项都没有涉及到“过去经验”，排除。故本题选C。

8. 【答案】D。解析：关键词为“丰富的想象”“奔放的感情”“奇特夸张的手法”“瑰丽的辞藻”“描绘理想生活图景”。A、B、C均符合关键词，属于浪漫主义作品。D项的作品描写的是“北京旧时代下层人民的生活”，不是理想生活，不属于浪漫主义作品。故本题选D。

9. 【答案】A。解析：择性曲解的关键词是“面对客观事物”“外界输入”“不自觉地对外界输入的信息与头脑中早已存在的模式相结合”。A项符合定义要点。B项指鹿为马是有意识行为，不符合“不自觉地对外界输入的信息与头脑中早已存在的模式相结合”；C项按图索骥是按照线索去寻找，不符合“根据自己固有的价值体系和既定的情感好恶来解释”；D项度日如年不符合“面对客观事物”，均排除。故本题选A。

10. 【答案】D。解析：定义中的关键词有“根据已有的信息”“不同的角度和思维”“从多方面寻求多样性答案”。A项只提供了一个信息“人类失去联想”，提出“世界将会怎样”的问题，并非具体的寻求答案的行为，排除；B项多种解决方案是已有的信息，确定了一个方案没有体现不同的思维角度，排除。同理，排除C项。D项给定的条件是已有的信息，而文字应用题是一种没有固定答案的题，可以通过多种角度多种思维去考虑，从而得到不同的答案，符合定义。故本题选D。

第十九辑

1. 现在统计中常用的人均可支配收入由四部分构成，分别是：工资性收入、转移性收入、经营性收入和财产性收入。财产性收入一般是指家庭拥有的动产（如银行存款、有价证券等）、不动产（如房屋、车辆、土地、收藏品等）所获得的收入。它包括出让财产使用权所获得的利息、租金、专利收入等；财产营运所获得的红利收入、财产增值收益等。

根据上述定义，下列属于财产性收入的是（ ）。

- A. 王某家传的青花瓷器的展览会上被专家估价为200万元
- B. 李某买了一辆载重10吨的货车跑运营，每年收入8万元以上
- C. 赵某为公司做出重大贡献，公司给予10万元的奖励
- D. 高某在闹市有一间房屋，某厂家在房顶安放了广告牌，并支付给他一定费用

2. 语言磨蚀，是指某种语言在特定的语言环境中受该语言的语言因素或非语言因素（情感、动机、年龄、语言使用的减少或停止等）影响而出现的言语行为或言语能力的衰减现象，具有非病理性、渐变性、可逆性和反复性等特征。

根据上述定义，下列属于语言磨蚀的是（ ）。

- A. 小李高考英语成绩很好，但暑期休息后在开学分班考试中英语成绩不理想

- B. 八十多岁的老张与年轻时差别较大，常常要别人重复说过的话，且说话缓慢
- C. 小赵小时候生病导致双耳失聪，成年后别人常常听不懂她说的话
- D. 中学生小夏到美国参加暑期夏令营后，英语水平提高不少

3. 灯塔效应是指私有商品可以在市场交换，并具有市场价格和市场价格，但公共商品没有市场交换，也没有市场价格和市场价值，因此消费者几乎都不愿意个人支付公共商品的费用，从而让别人来消费。

根据上述定义，下列符合灯塔效应的是（ ）。

- A. 某沿海地区要治理水质污染，由于资金不足，有关部门向当地一些大型企业借款，但企业大都不愿意借款
- B. 某新开盘的高层塔楼设立了多部电梯，公摊面积较大，住在低层的居民认为自己不需要使用电梯，因此不愿交纳电梯维护费用
- C. 某村庄为解决水源不足的问题，号召村民集资建水渠从邻村河流引水过来，响应这一号召的村民很多
- D. 某小区举办图书展销会，购买图书的居民享受五折优惠，小区居民虽然光顾展会的人较多，但大多数人并没有购买图书

4. 简单命题：不包含其他命题的命题，只能把它分析为不同的词项，不能再把它分析为其他命题，因此又叫作“原子命题”。

根据上述定义，下列哪项不是简单命题？（ ）

- A. 小明和小红是朋友
- B. 生命在于运动
- C. 掷骰子4点朝上的概率是1/6
- D. 小张既高且胖

5. 法律责任是指由特定法律事实所引起的对损害予以补偿、强制履行或接受惩罚的特殊义务，亦即由于违反第一性义务而引起的第二性义务。

根据上述定义，下列属于导致法律责任的是（ ）。

- A. 陈某向某电视台举报揭露某公司告假，电视台没有报道
- B. 李某被公共汽车售票员提醒后，仍不给残疾人王某让座，结果王某被挤伤
- C. 孙某和肖某谈恋爱，后因感情不和分手，肖某极度痛苦，患上抑郁症
- D. 某公司要求工人每天至少工作16小时，加班费每小时5元

6. 商品差价是指同一商品由于流通环节、购销地区、购销季节以及质量不同而形成的价格差额。

根据上述定义，下列选项不属于商品差价的是（ ）。

- A. 超市青菜上午 1.5 元/斤，下午则变成 2 元/斤
- B. 大众轿车与富康轿车价格不同
- C. 甲地的牛肉比乙的每斤便宜 2 元，因为甲地是牧区
- D. 同一本书刚出版时与两年后的价格不同

7. 社会救助是国家对无生活收入来源的寡残孤独、遭受天灾人祸而使生活一时变得困难的家庭和个人、生活在国家规定最低贫困线以下的社会成员提供的生存保障制度。

根据上述定义，下列选项中属于社会救助的是（ ）。

- A. 对上学困难的青少年提供帮助的“希望工程”
- B. 单位为从事危险工作的职工提供工伤保险
- C. 为残废军人提供抚恤金
- D. 供养“五保”人员

8. 家族是以婚姻和血统关系为基础的社会单位，包括配偶、子女和其他共同生活的亲属在内。

根据上述定义，下列不属于家族成员的是（ ）。

- A. 由于不务正业，自小被其父赶出家门的小李
- B. 老肖老年丧子，侄子见叔叔孤苦伶仃，便将其接到家中，与其共同生活
- C. 赵英和赵磊是姐弟，自小父母双亡，二人相依为命，赵英嫁给王某后，赵磊便和其二人居住
- D. 李某从小边被老张夫妇收养，后来由于李某经常打架斗殴，赌博嫖娼，老张夫妇便与其解除了收养关系

9. 迁移型归属感是指个体由于空间的移动或加入新的群体、组织而产生的心理的满足感与安全感。

根据上述定义，下列属于迁移型归属感的是（ ）。

- A. 老王来广州打工后，自己的收入和生活水平有了很大的提高
- B. 小李自入党以来，在感觉到肩负责任的同时，也对社会未来充满了希望
- C. 刘某移民海外后，在激烈的人才竞争环境中凭借自己的学识站稳了脚跟
- D. 小丽与小江结婚，婚后小丽觉得家庭和睦，生活幸福

10. 不当得利是指没有法律上或合同上的根据，使他人受损而自己取得的利益。其中得

利人为债务人，负有返还不当得利的义务；受损人为债权人，享有请求得利人返还不当得利的权利。

根据上述定义，下列属于不当得利的是（ ）。

- A. 银行在办理跨行存取款业务时收取的手续费
- B. 刘经理乘飞机时由于行李超重而缴纳的罚款
- C. 小张春节在家和亲戚打麻将赢的 200 元钱
- D. 商场收款员小梅误将 100 元当作 10 元找给顾客

【参考答案及解析】

1. 【答案】D。解析：关键词包括“家庭拥有的动产或不动产”“获得的收入”。A 项只是估价并没有获得收入，不属于财产性收入，排除；B 项“8 万元”包含了自己的劳动，不是单纯的财产性收入，排除；C 项的“10 万元的奖励”，是因为“赵某为公司做出重大贡献”，属于赵某的劳动收入，不属于财产性收入，排除；D 项高某得到的“广告费”符合关键词，属于财产性收入。故本题选 D。

2. 【答案】A。解析：定义强调强调“受该语言的语言因素或非语言因素影响”“言语行为或言语能力的衰减现象”“非病理性、渐变性、可逆性和反复性”。A 项小李暑假休息后英语成绩不理想是由于语言使用减少，符合“非病理性、渐变性、可逆性和反复性”的特征；B 项老张年纪大说话缓慢是不可逆的语言衰减现象，不符合“可逆性”的特征，排除；C 项小赵是由于双耳失聪导致语言能力缺失，属于病理性原因，排除；D 项英语水平提高了，而非降低了，排除。故本题选 A。

3. 【答案】B。解析：灯塔效应的定义要点是“消费者都不愿意个人支付公共商品的费用，从而让别人来消费”。A 项是借款，C 项是村民集资，D 项并不是公共商品，均不符合定义，排除。故答案选 B。

4. 【答案】D。解析：关键词强调“不包含其他命题”。A、B、C 项都不能再分解为其他命题，而 D 项可以再分解为“小张高”和“小张胖”两个命题。故本题选 D。

5. 【答案】D。解析：定义中强调“由特定法律事实所引起的”“对损害予以补偿”“违反第一性义务引起”等。A、B、C 项中的事件均不是特定的法律事实，没有违反法律的规定，不符合定义。D 项工作 16 个小时，超过法定要求的 8 小时，违反法律规定，属于特定法律事实；且公司对损害工人的时间予以补偿，属于对损害的补偿，符合定义。故本题选

D。

6. 【答案】B。解析：关键词强调对象为“同一商品”，原因为“流通环节、购销地区、购销季节以及质量不同”等。B项“大众轿车”与“富康轿车”并非“同一商品”，不符定义。A、C、D项对象、原因均符合定义。故本题选B。

7. 【答案】D。解析：关键词强调“国家”“无生活收入来源的寡残孤独”“遭受天灾人祸”“生活在国家规定最低贫困线以下的社会成员”“提供生存保障”。A项的青少年不属于“无生活收入来源的寡残孤独”“遭受天灾人祸”“生活在国家规定最低贫困线以下的社会成员”；B项发放补助的是单位，不是“国家”；C项为残废军人提供抚恤金，不属于“提供生存保障”，A、B、C项均不符合定义，排除。故本题选D。

8. 【答案】D。解析：关键词强调“婚姻和血统关系”“共同生活的亲属”。D项的李某与老张夫妇没有血缘、婚姻关系，同时还解除了收养关系，李某不属于共同生活的亲属。A项是父子关系；B、C选项是共同生活的亲属关系，均不符合定义，排除。故本题选D。

9. 【答案】B。解析：迁移型归属感的定义要点是“空间移动或加入新组织”“心理上的满足感和安全感”。B项“入党”符合“加入新组织”，“对社会未来充满了希望”符合“心理上的满足感和安全感”。A、C项没有产生“心理上的满足感和安全感”，D项没有“空间移动或加入新组织”，均不符合定义，排除。故本题选B。

10. 【答案】D。解析：关键词强调“没有法律上或合同上的根据”“使他人受损而自己得到的利益”。A、B项均符合法规规定；C项属于家人在节日时自娱自乐，没有损害他人利益，均不符合定义，排除。D项由于失误给顾客造成了利益上的损失，属于不当得利。故本题选D。

第二十辑

1. 人际冲突有两种：工作性冲突与情绪性冲突（关系冲突）。工作冲突是因为对工作本身有不同的理解、思路和方法；情绪性冲突则是情绪上的对立或敌意。

根据上述定义，下面属于情绪性冲突的是（ ）。

- A. 某单位领导因为坚持原则和下属发生严重的争执
- B. 一位年轻女孩子，因男友的冷漠，和他吵起来了
- C. 一位年轻的同事正在向顾客说明什么，但顾客表现得很激动

D. 一位老者正在教训那些采摘校园玫瑰花的人

2. 依据公众与组织有无归属关系，可以把公众分为内部公众和外部公众。内部公众是指与社会组织有着直接的归属关系，与社会组织关系最为密切的一类公众；外部公众是指除内部公众外的与社会组织的生存发展有着利益关系的全部公众。

对于某飞机制造企业，下列哪项属于外部公众？（ ）

- A. 该飞机制造企业的股东
- B. 该企业职工主要生活社区的面粉店职工
- C. 该飞机制造企业的零部件供货商
- D. 该企业所在地的工商管理部門的工作人员

3. 定义：①归纳推理就是以个别知识为前提推出一般性知识结论的推理。

②演绎推理是由普通性的前提推出特殊性结论的推理。

③类比推理就是概括两个或两类对象在某些属性上相同或相似，从而推出它们的另一属性上也相同或相似的推理。

典型例证：①奥地利医生奥斯布鲁格从父亲经常用手敲击酒桶以确定其中存酒的多少受到启发，发明了叩诊法。

②锐角三角形的面积等于底乘高的一半；直角三角形的面积等于底乘高的一半；钝角三角形的面积等于底乘高的一半。所以，凡三角形的面积都等于底乘高的一半。

③一个三角形，或者是锐角三角形，或者是钝角三角形，或者是直角三角形。这个三角形不是锐角三角形和直角三角形，所以，它是钝角三角形。

以上与定义符合的典型例证数目有（ ）。

- A. 2 个
- B. 3 个
- C. 0 个
- D. 1 个

4. 受欢迎的公众指的是组织盼望与其建立和发展关系，对方也有相应的需求，主动与组织建立关系的公众。被追求的公众是指组织单方面希望建立和发展关系，而对方则缺乏相应的热情，需要组织去努力争取的公众。不受欢迎的公众是指组织方面不愿接触，力图躲避，但对方想建立和发展关系并穷追不舍的公众。

如果我们把企业看作是组织的话，对于企业来说，不受欢迎的公众是（ ）。

- A. 政府主管部门
- B. 慕名而来的应聘者
- C. 企业的竞争者
- D. 揭发企业不法行为的记者

5. 有奖销售，是指经营者销售商品或者提供服务，附带性地向购买者提供物品、金钱

或者其他经济上的利益的行为。包括：某时段内奖励所有购买者的附赠式有奖销售和奖励部分购买者的抽奖式有奖销售。

根据上述定义，以下不属于抽奖式有奖销售的是（ ）。

- A. 某移动通讯公司发短信告知用户，回复短信即可获得用积分兑奖的机会
- B. 某网上商城称到商城购买商品的前 10000 名顾客将获得每人 200 元代金券
- C. 某大型超市促销时规定，购物满 100 元可获一袋洗衣粉或者一条肥皂
- D. 某家具商场规定，开业一个月内到该商场购物的顾客可享受九折优惠

6. 国家赔偿是指国家及其工作人员违法行使职权，侵犯公民、法人和其他组织的合法权益并造成损害的，由法律规定的赔偿义务机关对受害人予以赔偿的制度。

根据上述定义，以下哪种情形，国家应承担赔偿责任？（ ）

- A. 公安侦查人员赵某在审讯时将犯罪嫌疑人打死
- B. 工商管理机关吊销某违法经营公司的营业执照
- C. 邮局在邮政传递中给客户造成损失
- D. 银行工作人员利用职务之便挪用储户资金

7. 道路交通事故是指车辆在道路上因过错或者意外造成的人身伤亡或者财产损失的事件。其中“道路”是指公路、城市道路和虽在单位管辖范围但允许社会机动车辆通行的地方，包括广场、公共停车场等用于公众通行的场所。“车辆”是指机动车和非机动车。“非机动车”是指人力或者畜力驱动，上道路行驶的交通工具，以及虽有动力装置驱动但设计最高时速、空车质量，外形尺寸符合有关国家标准的残疾人机动轮椅车、电动自行车等交通工具。

根据上述定义，下列不属于道路交通事故的是（ ）。

- A. 小王在进行封闭管理的小区内倒车时不慎将一老人撞倒
- B. 周小姐带着宠物狗横穿马路时，乱闯的宠物狗不幸丧生在车轮下
- C. 小赵将汽车停在商场附近的停车场，取车时发现车尾部被撞，肇事车辆已逃跑
- D. 绿灯亮时，小姜穿过斑马线过马路，被一辆闯红灯的自行车撞伤

8. 非法侵入住宅罪是指违背住宅内成员的意愿或者无法律依据，故意进入公民住宅，或者进入公民住宅后经要求退出而拒不退出的行为。

根据上述定义，下列构成非法侵入住宅罪的是（ ）。

- A. 小黎家住一楼，她就在家里开了个小咖啡馆，最近总有个人进来后什么都不点，小

黎怎么说他都不肯走，每天都要坐到打烊

B. 小陆租了王先生的一套房子，王先生担心房子会有什么损坏，隔一段时间就会拿着备用钥匙进去检查一下

C. 小李发现邻居家冒出了浓烟，一脚踹开邻居家的大门就冲了进去，结果发现原来是邻居在做化学实验

D. 小蒋的一个朋友为了找工作，在小蒋家里一住就是半年，小蒋不胜其烦，整天都在想怎样才能让他搬出去

9. 差别定价：指企业根据市场的不同、顾客的不同而对企业生产的同一种产品采用不同的定价销售。

根据上述定义，下列不属于差别定价的是（ ）。

A. 旅游景点老年人票 2 折，儿童票 3 折，学生票 5 折，一般顾客全票

B. 电力公司对居民用电实行分时计价，6:00 到 12:00 每度 0.9 元，12:00 到 24:00 每度 1.5 元，0:00 到 6:00 每度 0.3 元

C. 某酒厂生产的 52° 白酒，批发价每瓶售价 102 元，零售价每瓶 128 元

D. 某品牌手机内存 8GB 的售价 4888 元，16GB 的 5388 元，32GB 的 6288 元

10. 网络暴力是行为主体的网络行为对当事人造成实质性伤害的网络失范现象。

根据上述定义，下列选项属于网络暴力的是（ ）。

A. 某非法传销团伙借助网络发展下线

B. 某足球俱乐部球迷建立网站，要求主教练下课

C. 某艺人喜欢在微博上爆料，提高自己微博的访问量

D. 某选秀选手隐私在网上被曝光后，宣布放弃晋级机会

【参考答案及解析】

1. 【答案】B。解析：题目考察“情绪性冲突”，所以仅需在题干中阅读“情绪性冲突”。关键词强调“情绪上的对立或敌意”。A、C、D 项均没有出现情绪上的对立或敌意，不符合定义，排除。故本题选 B。

2. 【答案】C。解析：外部公众的定义要点是：①内部公众（有着直接的归属关系外）；②有着利益关系。A 项不符合①，属于内部公众；B、D 项均不符合②，均排除。故本题选 C。

3. 【答案】B。解析：归纳推理中的关键词包括“个别知识为前提”“一般性知识结论”。演绎推理中的关键词包括“普通性的前提”“特殊性结论”。类比推理中的关键词包括“两个或两类对象”“相同或相似”。①中将“敲击酒桶”和“诊断”类比，符合关键词“两个或两类对象”和“相同或相似”，因此属于类比推理；②中是从个别知识推出一般性结论，符合关键词“个别知识为前提”和“一般性知识结论”，因此属于归纳推理；③中例证符合关键词“普通性的前提”和“特殊性结论”，因此属于演绎推理。例证①、②和③均与定义符合。故本题选 B。

4. 【答案】D。解析：关键词包括“不愿接触”“穷追不舍”。A 项明显不符合关键词“不愿接触”和“穷追不舍”，排除；B 项明显不符合关键词“不愿接触”，排除；C 项明显不符合关键词“穷追不舍”，排除；D 中揭发企业不法行为的记者明显符合关键词，D 项属于不受欢迎的公众。故本题选 D。

5. 【答案】D。解析：定义中强调“部分购买者”等。A 项中兑奖是附带在提供通信服务的基础上的，且仅提供给回复短信的用户；B 项中的代金券是附带在购买商品的基础上的，且仅提供给前 10000 名顾客；C 项中的洗衣粉或肥皂属于附带在购买商品基础上的，且仅提供给购买满 100 元的顾客，均符合定义。D 项中的奖励属于限时提供给所有顾客，属于附赠式有奖销售，因此不属于抽奖式有奖销售。故本题选 D。

6. 【答案】A。解析：关键词包括“国家及其工作人员”“违法行使职权”。A 项公安侦查人员的行为完全符合关键词，因此国家应承担赔偿责任；B 项工商管理机关的做法是合法的，不符合关键词“违法行使职权”，因此国家不应承担赔偿责任；C 项邮局和 D 项银行工作人员均不符合关键词“国家及其工作人员”，因此国家不应承担赔偿责任。故本题选 A。

7. 【答案】A。解析：A 项封闭管理的小区属于不允许社会车辆通行的地方，不符合“道路”的定义，故不属于道路交通事故。B 项马路属于“道路”的范围，而宠物狗是周小姐的私人财产，且宠物狗不存在意识上的主观判断，属于因意外造成的财产损失，是道路交通事故；C 项“商场附近的停车场”符合“在单位管辖范围但允许机动车通行的地方”中的公共停车场，且出现了财产损失，是道路交通事故；D 项小姜行为符合交通规则，而自行车也属于“车辆”的范围，且有主观上闯红灯的过错，造成了人身伤害，是道路交通事故。故本题选 A。

8. 【答案】B。解析：A 项在营业时间里，这套房属于经营场所，而非“公民住宅”，只有在咖啡馆打烊休息后，它才能算是“住宅”，排除。C 项小李是出于邻居的利益考虑，

因而不算“违背住宅内成员的意愿或者无法律依据”，排除。D项小蒋的朋友肯定是经过小蒋的允许才能住进来，也不符合定义，排除。B项，小陆已经与王先生达成了租房协议，拥有房屋的使用权，因此这套租住房应当视为他的住宅。王先生虽然是房东，但是他随意进出小陆住宅的行为是没有法律依据的，也是违背小陆的意愿的，因而构成非法侵入住宅罪。故本题选B。

9. 【答案】D。解析：关键词包括“企业生产的同一种产品”、“不同的定价销售”。A项的“旅游景点票价”，B项的“供电”，C项的“52%的白酒”均是同一种产品，但是价格不同，属于差别定价。D项“内存不同”的相同品牌的手机不是同一种产品，因此定价自然不同，不符合关键词“企业生产的同一种产品”。故本题选D。

10. 【答案】D。“网络暴力”定义的关键词是“网络行为”“对当事人实质性伤害”。A项传销团伙发展下线，严格来说不是“网络行为”且没有明确当事人受到伤害，不符合定义。B项要求主教练下课，并没有造成“实质性伤害”，不符合定义。C项中没有受害当事人，不符合定义。D项有曝光选手隐私的“网络行为”，也有明确的当事人，且对当事人造成的放弃晋级的伤害，符合定义。故本题选D。

第二十一辑

1. 虚拟社区指一批网民自愿聚集并进行信息发布、言论交流等活动的相对固定的网络空间。

根据上述定义，下列属于虚拟社区的是（ ）。

- A. 咖啡馆的读书沙龙
B. 利用电脑进行数据处理
C. 电子信箱中的垃圾邮件
D. 网上论坛

2. 道德风险是指当一项协议达成之后，达成协议的一方以损害另一方的利益为代价而有利于自身利益的方式行事。

根据上述定义，下列事件属于道德风险的是（ ）。

- A. 市场上都是次品，并且价格低，以至于那些价格高的好产品没有销路
B. 由于市场上充满了次品，所以不敢轻易购买
C. 购买了车险之后就随便停车，不怕丢
D. 购买了衣服之后看到了它的一个缺陷，然后退了

3. 公务员权利是指法律对公务员在履行职责、执行国家公务的过程中可以做出的一定行为，要求他人做出某种行为或者抑制一定行为的许可和保障。

根据上述定义，下列不属于公务员权利的是（ ）。

- A. 公务员全心全意为人民服务
- B. 公务员获得工资报酬，享受福利、保险待遇
- C. 公务员获得履行职责应当具有的工作条件
- D. 公务员对机关工作和领导人员提出批评和建议

4. 单位犯罪指公司、企业、事业单位、机关、团体为本单位谋取利益，经单位决策机构或由负责人员决定而以单位名义实施的危害社会，依法应受刑罚处罚的行为。

根据上述定义，以下属于单位犯罪的是（ ）。

- A. 某牛奶生产企业负责人决定将过期牛奶掺进鲜牛奶中包装出售，获利五十余万元，后发生食物中毒事件被揭发出来
- B. 某企业财务伪造公司印章签单，欠下巨额倒赔债务之后准备逃逸，最后锒铛入狱
- C. 某公司负责人李某以公司名义将当年巨额年终利润以红利方式分发给下属
- D. 某公司业务员陈某冒用公司总经理名义实施诈骗，并在一个月内将十余万元赃款挥霍一光

5. 中国传统医学中“七情”之一的“惊”指突然遭受意料之外的事，引起心神欠稳或脏腑机能失调，之后又遇到异物异声而产生的伴有紧张惊骇的情绪体验。

根据上述定义，下列选项中可以认定为“惊”的是（ ）。

- A. 李某意外摔下楼梯后昏迷不醒，醒来后未感到异常，只觉得自己睡了一觉
- B. 遭遇歹徒劫持的王某被营救后大哭起来，并拉着民警的手连声称谢
- C. 赵某目睹车祸惨剧后呆若木鸡，再次看到摩托车紧急刹车时一下子晕倒在地
- D. 周某和朋友聊天时得知自己中了 500 万元大奖，他顿时热泪盈眶并跳了起来

6. 监护权指民事主体对无民事行为能力人和限制民事行为能力人实施监督和保护，并排除他人非法干涉的权利。

根据上述定义，以下属于行使监护权的是（ ）。

- A. 安全部门人员紧随塞舌尔总统出访，密切监视周围情况，以保证总统的安全
- B. 一名孤儿院的女婴得到了好几位来自全国各地的“准妈妈”的无私捐助
- C. 父母双亡后，年幼的小明跟着爷爷生活，爷爷很疼小明

D. 张三遇到车祸，左腿骨折，在妻子的用心照顾下恢复状况良好

7. 信息产业是指国民经济活动中与信息产品和信息服务的生产、流通、分配、消费直接有关的相关产业的群体。

根据上述的定义，下面哪种不是信息产业？（ ）

- A. 某公司经营各种软件、耗材等相关产品
- B. 某公司根据国家信息化进程的发展，面向社会有偿培训企业信息管理师
- C. 某部门根据经济发展的需要，为社会提供免费咨询服务，促进信息化的发展
- D. 某公司生产主板、内存等电脑散件

8. 隐蔽贫困，是指使用一般的人均指标完全可能覆盖的，特别是在财富或收入极度不均的情况下难以发现和测定的贫困状况。

根据上述定义，下列不属于隐蔽贫困的是（ ）。

- A. 东部发达地区农村的贫困人口
- B. 中西部贫困山区的贫困人口
- C. 大城市中的无劳动能力的贫困人口
- D. 发达城市里的残疾的贫困人口

9. 信息茧房：指人们在自己的信息领域会习惯性地被兴趣所引导，最终束缚住自己，就像是蚕茧，最终桎梏于自己的“茧房”中。

根据上述定义，下列不属于信息茧房的是（ ）。

- A. 工薪族王小姐很喜欢网购，一年下来购买的各种网络商品堆满了一房间
- B. 李女士是个微博控，无论走到哪里都要用手机拍图并上传到自己的微博里
- C. 大三学生小徐经常利用校园网或社交网站搜寻和交换学习和娱乐资料
- D. 某男士晚上的时间基本都泡在天涯社区里，浏览各类论坛的帖子并留言

10. 文饰作用是指人们在受挫折后会想出各种理由原谅自己或为自己的失败辩解的现象。

根据上述定义，下列选项中不属于文饰作用的是（ ）。

- A. 戈尔竞选美国总统失败后，抱怨美国司法制度不公正
- B. 小张没评上先进分子，他认为是自己与当评委的领导关系不好
- C. 小李生意失败，股票下跌，就吃安眠药自杀了
- D. 老师说错了话，便解释说自己路上太匆忙，打乱了思路

【参考答案及解析】

1. **【答案】D**。解析：关键词“网民资源聚集”“信息发布”“言论交流”“网络空间”。A项“读书沙龙”不是“网络空间”；B项不符合“信息发布”“言论交流”等关键词；C项“垃圾邮件”不是“言论交流”活动；D项符合定义，在网络论坛上，网民资源聚集并发布信息、交流信息。故本题选D。

2. **【答案】C**。解析：关键词强调“达成协议之后”“以损害另一方的利益为代价”。A、B项并没有“达成协议”，均不符合定义，排除。C项“购买车险”是“达成协议”，“随便停车”意味着车主没有尽到应有的注意义务，这损害了保险公司的利益。D项“买了衣服”说明“达成协议”，因衣服有瑕疵而退货这是合理的要求，并没有损害卖家的利益，不符合定义，排除。故本题选C。

3. **【答案】A**。解析：定义强调“在履行职责、执行国家公务的过程中”“可以做出”“要求他人”“许可和保障”。A项为人民服务为公务员职责本身，属于义务之一，而不是权利，不符合定义。故本题选A。

4. **【答案】A**。解析：关键词包括“为本单位谋取利益”“危害社会”。A项企业负责人的行为属于单位犯罪；B项企业财务的行为不符合“为本单位谋取利益”，不属于单位犯罪；C项李某行为是合法行为，不符合“危害社会”，不属于单位犯罪；D项陈某行为不符合“为本单位谋取利益”，不属于单位犯罪。故本题选A。

5. **【答案】C**。解析：题干中“惊”的定义要点是：①遭受意外引起心神欠稳或机能失调；②之后又遇到异声异物而产生的紧张惊慌的情绪。A项“醒来后未感到异常”不符合要点②；B项并未遇到异声异物，不符合要点②；D项不符合要点①②，均排除。故本题选C。

6. **【答案】C**。解析：关键词包括“民事主体”“无民事行为能力人和限制民事行为能力人”。A项安全部门人员紧随塞舌尔总统出访，不符合“无民事行为能力人和限制民事行为能力人”，不属于行使监护权；B项全国各地的“准妈妈”只是捐助没有法律效力，不符合“民事主体”，不属于行使监护权；C项爷爷对于年幼的小明，符合关键词，属于行使监护权；D项张三在妻子的用心照顾下恢复状况良好，不符合“无民事行为能力人和限制民事行为能力人”，不属于行使监护权。故本题选C。

7. **【答案】C**。解析：关键词强调“与信息产品和信息服务的生产、流通、分配、消费

直接有关”。A项“经营各种软件、耗材”符合“与信息产品流通、消费等直接有关”。B项“面向社会有偿培训企业信息管理师”符合“与信息服务的生产、流通、分配、消费直接有关”。C项“为社会提供免费咨询服务”和“与信息产品和信息服务的生产、流通、分配、消费”没有直接关系，不符合定义。D项“生产主板、内存”符合“与信息产品的生产、流通等直接有关”。故本题选C。

8. 【答案】B。解析：关键词“用一般的人均指标完全可能覆盖的”“难以发现的”。A、C、D三项中涉及的都是经济水平较高的城市和地区，采用一般的人均指标反映贫困状况时，这些贫困人口会因整体的人均指标较高而不易被察觉。B项中西部贫困山区属于公开贫困，与隐蔽贫困相对。故本题选B。

9. 【答案】C。解析：关键词“习惯性地”“束缚住自己”。A项各种网络商品堆满了一房间，B项无论走到哪里，D项晚上的时间基本都泡在天涯社区，满足关键词“习惯性地”“束缚住自己”，符合定义。C项小徐利用网络搜寻和交换学习和娱乐资料是对网络的正常利用，并非习惯性地被兴趣所引导，不满足关键词。故本题选C。

10. 【答案】C。解析：关键词“受挫折后”“各种理由原谅自己”“为自己的失败辩解”。A项的戈尔，B项的小张，D项的老师，都是在为自己的失败辩解，均是文饰作用，而C项小李并没有为自己的失败辩解，也没有原谅自己，不符合定义。故本题选C。

第二十二辑

1. 国际旅游人员，是指进入我国国境在我国旅行、访问、考察、探亲，以及从事贸易、体育、学术技术交流活动的人员（包括外国人、华侨、港澳台同胞）。

根据上述定义，下列属于国际旅游人员的是（ ）。

- A. 驻华使领馆人员及其家属
- B. 国际轮船临时上岸的海员
- C. 来到我国定居的外国侨民
- D. 来我国进行文艺表演的国外艺术团

2. 柔性领导是指依靠领导者的非权力影响力，采取非强制命令的方式，在人们心目中产生一种潜在的说服力，使其自觉服从和认同，从而把组织意志变为人们自觉的行动的领导行为。

根据上述定义，下列属于柔性领导的是（ ）。

- A. 校长决定给全体教师涨工资
- B. 小张作为教书育人楷模成为全体教师的偶像

C. 校长提出教师创新激励计划

D. 资深教师张老师说话很感召力

3. 产品定位是指企业为了满足目标市场，确定产品（或服务）的功能、质量、价格、包装、销售渠道、服务方式等。

根据上述定义，下列不属于产品定位的是（ ）。

A. 我们的产品将为在校学生服务

B. 考虑到消费人群的收入状况，我们的产品将定价在 1000 元上下

C. 我们的服务主要通过上门维修来实现

D. 我们的服务会让你有美的享受

4. 白日梦指一种适度的意识状态的改变形式，注意力不再诉诸对环境刺激的反应，而是对内在刺激的反应。思维报告反映出注意偏离了现时要求的任务，不指向任何现时的外部刺激。一般来说，白日梦是人独处和放松休息时普遍的一种活动，在人们入睡前的短暂时刻里最多见，清醒时、就餐时、性生活时最少见。

根据上述定义，下列属于白日梦现象的是（ ）。

A. 在看韩剧的时候她经常把自己想像成剧中的女主角

B. 中午午睡的时候他做梦自己成了百万富翁

C. 小明患有精神分裂症，常常说自己是玉皇大帝

D. 恍惚中，她觉得日夜思念的爱人就在眼前

5. 法院调解是指在人民法院审判人员主持下，双方当事人自愿就民事权益争议平等协商，达成协议，从而解决纠纷进行的活动。

根据上述定义，下列情况属于法院调解的是（ ）。

A. 某地区林业机关与农业机关因权限交叉产生冲突，告之法庭，后在上级机关的调解下达成协议并撤诉

B. 两家因一件小事发生纠纷，打起了漫长的官司，花费巨大，后都感到不值得，于是私下和解后纷纷撤诉

C. 两姐妹合开一家理发馆，后因分红问题发生纠纷，但在她们即将闹上法庭的时候，终于达成谅解

D. 两夫妻一方提出要离婚，另一方则拿不定主意，后来法院审判员在对他们讲明是非的基础上使他们又和好如初

6. 乡村旅游是以各种类型的乡村为背景，以乡村田园风光、乡村生活和乡村文化为旅游吸引物，以农业和农村特色资源为基础开发旅游产品，以农民为经营主体、以城市居民为目标的一种休闲旅游形式。

根据上述定义，下列属于乡村旅游的是（ ）。

A. 五一期间靖远县旅游局组织东湾镇大坝村农民 20 人，赴景泰黄河石林景区参观学习当地农家乐建设情况

B. 周末，小王约了几位好友一起去爬慕田峪长城，归途中向农民购买了一些特产

C. 杨家埠位于山东潍坊，这里的农民心灵手巧，制作出了精美的木版年画和风筝，从而吸引了数十万计的国内外宾客前来观光旅游

D. 周末某市机关组织职工去郊区采摘甜瓜。在这里，家家户户都种植甜瓜，只要与农户谈好价格，就既能体验采摘乐趣，又能把新鲜瓜果带回家

7. 生态系统是指由生物群落与无机环境构成的统一整体。生态系统的范围可大可小，相互交错，最大的生态系统是生物圈。生态系统是开放系列，为了维系自身的稳定，生态系统需要不断输入能量，否则就有崩溃的危险。

根据上述定义，下列各项中构成生态系统的是（ ）。

A. 原始次生林中的各种林木，植物和动物

B. 农田中的阳光、土壤、各类植物和动物

C. 草原牧场里的放牧人、旅游团队和游客

D. 池塘中的微生物、水藻、小鱼类和虾类

8. 流行是一种常见的心理态势，表现为社会或群体的成员在短时间内，由于追求某种生活方式而产生的相互感染或模仿。

根据上述定义，下列不属于流行现象的是（ ）。

A. 大街上到处都可以看到全身牛仔到处窟窿的年轻人

B. 最近在网络聊天时，很多人都在使用“囧”字

C. 春天来了，许多人纷纷去郊外踏青

D. APEC 会议以后，很多外国人喜欢上了中国的唐装

9. 非法经营罪是指违反国家规定实施的、国家限制或者禁止经营的、扰乱市场秩序、情节严重的倒卖行为。

根据上述定义，下面构成非法经营罪的是（ ）。

A. 浙江省某市某区王某注册了“鑫源经贸有限公司”，采用销售提成和发展下线提成等方式，组织、吸收全国各地 9800 余名营销员，进行服饰、保健品、皮具、健身器材等商品的传销活动，传销额达千万余元

B. 东北的杨某在网上注册成立了一家化妆品批发及零售公司，现在拥有网上注册会员 10000 多名，这些会员大都在网上订货，并通过银行转账方式交款提货

C. 北京的陈某和李某，通过在商场及街头散发传单等宣传方式，为一家并不存在的美容院做广告宣传，骗取 200 多名女性成为他们的会员，通过收取入会费获利 18000 元

D. 学校图书馆的老师，私自将国外捐赠的珍贵图书拿出去卖，获利八千多元

10. 基多夫定理是指最好的想法如果提出的时机选择不当，也会招致失败，即一个决策正确与否不能离开具体的地点，时间，条件，如果脱离这些基本前提条件，真理就有可能成为谬误。

根据上述定义，下列不符合基多夫定理的是（ ）。

A. 甲公司原总裁对其继任者说：在没有获得全部事实根据前，你不应该做出任何决策

B. 许多厂商纷纷报名参加在某市举办的机床博览会，而乙机床厂经理在收到邀请函时，就明确表示拒绝参加

C. 20 世纪 80 年代，世界爆发了严重的石油危机，丙汽车公司的董事长抓住这一时机，作出了汽车转型决策

D. 近年，众多热水器厂在广告投入过大，导致价涨量滞，处于行业领先的丁公司立刻采取了降价政策

【参考答案及解析】

1. 【答案】D。解析：“国际旅游人员”的定义要点：①“在我国旅行、访问、考察、探亲”；②“从事贸易、体育、学术技术交流活动的人员”。A 项“驻华使领馆人员及其家属”、B 项“国际轮船临时上岸的海员”、C 项“来到我国定居的外国侨民”均不符合要点①②，排除。D 项“来我国进行文艺表演的国外艺术团”符合要点①②，符合定义。故本题选 D。

2. 【答案】B。解析：“柔性领导”定义要点是①“非权力影响力、非强制命令的方式”；②“潜在的说服力”；③“使其自觉服从和认同、自觉的行动”。A 项“涨工资”、C 项“创新激励计划”均不符合要点①③，D 项“感召力”不符合要点③，排除。C 项“作为楷模成

为偶像”符合定义要点。故本题选 B。

3. 【答案】D。解析：“产品定位”的定义要点是“满足目标市场”“确定产品（或服务）的功能、质量、价格、包装、销售渠道、服务方式”。A 项属于产品的销售渠道，B 项属于确定产品的价格，C 项属于确定产品的服务方式，均符合定义要点。D 项属于产品的体验，不符合定义。故本题选 D。

4. 【答案】D。解析：“白日梦”的定义要点是“适度的意识状态”“内在刺激”。A 项“看韩剧”属于对外界环境的反应，不符合“内在刺激”，排除。B 项“做梦”、C 项“精神分裂症”均属于无意识状态，不符合“适度的意识状态”，排除。D 项“恍惚中”符合“适度的意识状态”，“日夜思念”符合“内在刺激”，符合定义。故本题选 D。

5. 【答案】D。解析：“法院调解”的定义要点是“在人民法院审判人员主持下”“自愿”“民事权益”。A 项上级机关的调解、B 项私下和解撤诉、C 项私下达成谅解均不符合“在人民法院审判人员的主持下”，不符合定义，排除。D 项“在法院审判员的调解下两夫妻和好如初”符合要点，符合定义。故本题选 D。

6. 【答案】D。解析：“乡村旅游”的定义要点是①“以乡村田园风光、乡村生活和乡村文化为旅游吸引物”；②“以农业和农村特色资源为基础开发旅游产品”；③“以城市居民为目标”。A 项的旅游主体为 20 位农民，不符合要点③；B 项旅游吸引物为慕田峪长城，C 项中的旅游吸引物为木版年画和风筝，不符合要点①，均排除。D 项的旅游目标为机关职工符合要点③，旅游吸引物为乡村生活符合要点①，以新鲜瓜果为旅游产品符合要点②，符合定义。故本题选 D。

7. 【答案】B。解析：“生态系统”的定义要点是“生物群落与无机环境”。A、C、D 项均只包含生物群落，并未涉及无机环境，不符合定义，排除。B 项“阳光、土壤”属于“无机环境”，“各类植物、动物”属于“生物群落”，符合要点，符合定义。故本题选 B。

8. 【答案】C。解析：“流行”的定义要点包括“短时间内”“追求某种生活方式”“相互感染或模仿”。A 项全身牛仔到处窟窿的年轻人、B 项网络聊天使用“囧”字、D 项外国人喜欢上中国的唐装均符合定义要点，属于流行现象。C 项踏青每年春天都有，不符合要点①，因此不属于流行现象。故本题选 C。

9. 【答案】A。解析：“非法经营罪”的定义要点是①“违反国家规定实施的、国家限制或禁止的”；②“扰乱市场秩序、情节严重的倒卖行为”。A 项的传销行为符合要点①，符合定义。B 项通过网络注册的合法公司，不符合要点①，排除。C 项没有扰乱市场秩序，

不符合要点②，仅仅是为一个不存在的公司做宣传，属于诈骗罪，不属于非法经营，排除；D项图书馆老师将图书拿出去卖掉获取利润，是职务侵占罪，排除。故本题选A。

10. 【答案】B。解析：“基多夫定理”的关键词是“时机选择不当，也会招致失败”。A项的“在没有获得全部事实根据前”、C项的“抓住这一时机”、D项的“价涨量滞”均涉及到了“时机选择”，符合基多夫定理。B项机床厂经理在收到邀请函时，明确表示拒绝参加，并没有体现“时机选择”，也不能说是失败与否，不符合定义。故本题选B。

第二十三辑

1. 生物质能是指太阳能以化学能形式贮存在生物质中的能量形式。

根据上述定义，下列不属于生物质能的是（ ）。

- A. 利用动物脂肪作快艇燃料 B. 利用纤维素废料生产酒精
C. 利用动物粪便制造燃料 D. 利用太阳能集热器发电

2. 试图使别人积极看待自己的努力是获得性印象管理；而尽可能弱化自己的不足或避免使别人消极地看待自己的防御性措施是保护性印象管理。

根据上述定义，下列属于保护性印象管理的是（ ）。

A. 小范上班时总是提前半小时到单位把办公室打扫得干干净净，同事都觉得他是一个勤快的人

- B. 小陈平时不喜欢说话，因为他有时会出现口吃的现象
C. 小王读书很认真，获得了“三好学生”的称号
D. 小张有些小聪明，喜欢在课堂上抢答

3. 学习有两种形式：同化是指个体在与外界互动中，以已有的知识体系和技能经验为基础，形成对当前信息的认识；顺应是指个体在与外界互动中，对自己原有体系和经验进行调整，以适应当前信息，从而不断完善。

根据上述定义，下列最能体现同化这种学习形式的是（ ）。

- A. 触类旁通 B. 循序渐进 C. 集思广益 D. 融会贯通

4. 自然资源指能被人类利用并产生经济效益的自然环境要素和条件。

根据上述定义，下列不涉及自然资源的一项是（ ）。

- A. 农民甲一家祖祖辈辈在这块土地上耕种，日出而作，日落而息

- B. 渔民乙常年在东海某海滨打鱼为生
 - C. 公司丙把提高公司员工的整体素质作为其利润增长的新出发点
 - D. 老板丁在某疗养所利用天然温泉建成桑拿中心
5. 职务作品是指公民为完成法人或其他组织工作任务所创作的作品。

根据上述定义，下列属于职务作品的是（ ）。

- A. 某计算机研究所的清洁工出于爱好开发的一套人事管理软件
- B. 某市政府干部为省报撰写的《绝对权利观后感》
- C. 某教师总结多年教学经验撰写的《语文学习妙法》
- D. 某大学宣传部工作人员接受校方指派拍摄一组校园风景照片

6. 行政强制执行是指公民、法人或其他组织不履行法律规定的义务或行政机关依法做出的行政处理决定中规定的义务，有关国家机关依法强制其履行义务或达到与履行义务相同状态的行为。

根据上述定义，下列不属于行政强制执行的是（ ）。

- A. 某税务机关对长期拖欠税费的商户店铺进行查封，强制其缴纳税金
- B. 某市人民法院拍卖一个个体户的私有财产，保证与之相关的法律文书的执行
- C. 大众公司如果不履行法定义务，中国质检总局将责令其召回问题车轴
- D. 某市交管对违反交通规则闯红灯的王某进行强制记分并处以罚款

7. 附属的内驱力是指个体或集体为了保持长者们或权威者们的赞许或认可，而表现出来的一种把学习或工作做好的需要。

根据上述定义，下列不属于附属的内驱力的是（ ）。

A. 妈妈答应小华如果他考试获得第一名，就给他买一个苹果牌的平板电脑，于是小华每天都努力地学习

B. 诺贝尔文学奖是文学界的最高奖项，我国著名作家莫言通过几十年的笔耕不辍，终于在 2012 年获得该奖

C. 幼儿园的王老师会给一天中表现好的小朋友奖励一朵小红花，小小为了得到更多的小红花，每天都尽量表现得最好

D. 新人小王为了得到领导的认可，努力工作，遇到不懂的向书本学习，向领导请教

8. 错觉是指在特定条件下对事物必然会产生产生的歪曲直觉。

根据上述定义，下列不属于错觉的是（ ）。

- A. 太阳或月亮接近地平线时，看起来比在正午大 50%左右
- B. 一斤铁同一斤棉花的物理重量相同，但人们用手加以比较时(不用仪器)都会觉得一斤铁要比一斤棉花重一点

C. 在真空的环境下，在同一高度同时释放一根铁钉和羽毛，看到它们同时落地

D. 一条直线的中部被遮盖住，看起来直线两端向外延伸部分不再是直的了

9. 预感是指一个人通过梦境、幻觉、直觉等方式对未来事件的信息预先感知。

根据上述定义，下列属于预感的是（ ）。

- A. 惠灵顿发现蜘蛛吐丝结网，得出了河水会结冰的结论
- B. 普鲁士的士兵通过法军阵地每天有波斯猫出来晒太阳的现象，得出了那里有法军师长的结论

C. 林肯梦见自己被刺杀了，他告诉别人自己会被暗杀

D. 朱可夫由农民过沼泽地的方法想到了坦克通过沼泽地的方法

10. 预谋故意：指行为人产生犯罪故意之后，经过一段时间的准备才实施犯罪行为的心理态度。

根据上述定义，下列不属于预谋故意的是（ ）。

- A. 某甲与其妻关系不合，趁其熟睡之时将其勒死，然后毁尸灭迹
- B. 某人为了争夺权位，处心积虑地设计一个圈套，将自己窃取公司情报的罪行栽在同事身上，排挤其出公司
- C. 某会计“故意”忘了锁门，以至于财务室被窃，他却分得不少钱
- D. 一刑满释放的青年在路上看见一衣着光鲜之人，遂起不良之心，实施抢劫行为

【参考答案及解析】

1. 【答案】D。解析：“生物质能”的定义要点是“化学能形式”“贮存在生物质中”。A项的动物脂肪、B项的纤维素、C项的动物粪便均是贮存在生物质中的化学能，符合要点，符合定义。D项为太阳能和电能的转换，不涉及化学能和生物质，不符合定义。故本题选D。

2. 【答案】B。解析：“保护性印象管理”的定义要点是“弱化自己的不足”“避免消极地看待自己”。A项小范提前到办公室打扫卫生、C项小王获得了“三好学生”称号、D项均小张在课堂上积极抢答均属于强化自身的优点、使别人积极看待自己，不符合定义。B项不说话是为了弱化自己口吃的不足，避免别人消极地看待自己，符合定义。故本题选B。

3. 【答案】A。解析：“同化”的定义要点是“以已有的知识体系和技能经验为基础，形成对当前信息的认识”。A项“触类旁通”指掌握了某一事物的知识或规律，进而推知同类事物的知识或规律，符合要点，属于同化。B项“循序渐进”指学习工作等按照一定的步骤逐渐深入或提高，不符合定义要点，排除。C项“集思广益”指集中群众的智慧，广泛吸收有益的意见，D项“融会贯通”指把各方面的知识和道理融化汇合，得到全面透彻的理解，均属于顺应，排除。故本题选A。

4. 【答案】C。解析：A项农民甲一家祖祖辈辈在一块土地上耕作、B项乙常年在东海打渔为生、D项丁利用天然温泉建成桑拿中心，均属于利用自然资源，排除。C项丙提高员工素质以增长利润属于利用人力资源。故本题选C。

5. 【答案】D。解析：“职务作品”的定义要点是“为完成法人或其他组织工作任务”。A项“出于爱好”、B项“为省报撰写”、C项“总结多年教学经验撰写”均属于个人爱好或自愿完成的作品，不符合定义，排除。D项“校方指派”符合“为完成组织工作任务”，符合定义。故本题选D。

6. 【答案】D。解析：“行政强制执行”的定义要点是“依法强制其履行义务或达到与履行义务相同状态的行为”。A、C项均属于依法强制其履行义务，B项属于与履行义务相同状态的行为，均属于行政强制执行，排除。D项交管局对违反交规的王某进行强制记分并处以罚款是一种处罚行为，不存在义务关系，不符合“依法强制履行其义务或达到与履行义务相同状态的行为”，不符合定义。故本题选D。

7. 【答案】A。解析：“附属的内驱力”的定义要点是①个体或集体为了保持长者们或权威者们的赞许或认可；②表现出来的一种把学习或工作做好的需要。A项小华为了得到苹果牌的平板电脑而努力学习，不符合要点①，不符合定义。B项莫言通过几十年的耕笔不辍终获诺贝尔奖、C项小小为了得到老师认可获得小红花、D项小王为了得到领导的认可虚心学习，均符合要点①②，符合定义，排除。故本题选A。

8. 【答案】C。解析：“错觉”的定义要点是“对事物必然会产生歪曲直觉”。A项“看起来比在正午大50%左右”、B项“用手比较觉得一斤铁要比一斤棉花重一点”、D项“直线的中部被遮盖住，那么它两端向外延伸部分看起来不再是直的”，均符合“对事物产生的歪曲直觉”，符合定义，排除。C项符合伽利略的“自由落体定律”，不是“对事物产生的歪曲直觉”，不符合定义。故答案选C。

9. 【答案】C。解析：“预感”的定义要点是“通过梦境、幻觉、直觉等方式”。A项通

过发现蜘蛛吐丝结网得出结论、B项通过法军阵地每天有波斯猫出来晒太阳的现象得出结论、D项由农民过沼泽地的方法想到方法，均不属于“通过梦境、幻觉、直觉等方式”得到的，不符合要点，不符定义，排除。C项通过梦境对有人来暗杀他预先感知，符合要点，符合定义。故本题选C。

10. 【答案】D。解析：“预谋故意”的定义要点是①“行为人产生犯罪故意之后”；②“经过一段时间的准备才实施犯罪行为”。A项“趁其熟睡之时将其勒死，然后毁尸灭迹”、B项“处心积虑地设计一个圈套”栽赃给其他人、C项某会计监守自盗的行为，均符合要点①②，符合定义，排除。D项刑满释放的青年的抢劫行为没有经过一段时间的准备，不符合要点②，不符合定义。故本题选D。

第二十四辑

1. 税收激励是指政府在税制设计和税收征管过程中，运用多种手段，通过税负的调整，诱导微观经济主体的行为选择，鼓励纳税人发生或不发生、参与或不参与某种经济行为，以实现政府社会经济协调发展的战略目标。

根据上述定义，下列不属于税收激励的是（ ）。

- A. 在产品研发阶段，设备费很高，此时对其加速折旧进行税收优惠
- B. 对遭受风、火、水、震等严重自然灾害的纳税人给予税收优惠
- C. 在产品中间阶段，对资金的需求依赖性强，此时对投资抵免进行税收优惠
- D. 在产品试验阶段企业的风险仍然很大，此时对亏损结转进行税收优惠

2. 角色压力：指在组织或一特定的社会环境中，因有不利因素干扰角色任务的运作，致使个人陷入无所适从的困境。

根据上述定义，下列属于角色压力的是（ ）。

- A. 职场女性赶时间上班，赶时间买菜、做饭，还得抽空和家人联络感情等等，总是觉得没有真正属于自己的时间
- B. 小李上班不想家务事，回家也不想工作，工作生活两不误
- C. 银行要求职员对顾客笑脸相迎，但有些人感到很难做到
- D. 张老师最近教学任务繁重，出版社又向他约稿，他忙得不亦乐乎

3. 马太效应：任何个人、群体或地区，一旦在某方面（如金钱、名誉、地位等）获得

成功和进步，就会产生一种积累优势，就会有更多的机会取得更大的成功和进步。

根据上述定义，下列不属于马太效应的是（ ）。

- A. 教授、专家越是有名，得到的科研经费越多，社会兼职越多
- B. 国家总是重点投资建设名校，那些投入充分而硬件和软件占绝对优势的学校想不继续成为名校恐怕都很困难
- C. 在股市狂潮中，赚的总是庄家，赔的总是散户，普通大众的金钱，就会通过这种形式聚集到少数人手中
- D. 陈经理喜欢买彩票，最近他连买连中，买了新车，邻居羡慕之余纷纷向他讨教选号的方法

4. 命题可以分为四种：①伪命题，指的是无真假可言的命题；②永真命题，指的是不论在何种情况下都不可能假的命题；③永假命题，指的是不论在何种情况下都不可能真的命题；④可满足命题，指的是在有些情况下为真在有些情况下为假的命题。

根据上述定义，下列属于永真命题的是（ ）。

- A. 存在即合理
 - B. 思想或者是可捉摸的，或者不可捉摸的
 - C. 人既能在不同时间跨进同一条河流，又不能在相同时间跨进同一条河流
 - D. 地球是一直围绕太阳旋转的
5. 非营利组织是指公民自愿组成，不以营利为宗旨和目的，资源提供者向该组织投入资源不取得经济回报，不享有该组织所有权，按照其章程开展活动的非营利性社会组织。

根据上述定义，下列不属于非营利组织的是（ ）。

- A. 中国宋庆龄基金会
- B. 上海“希望工程”办公室
- C. 救助贫困失学女童的“春蕾计划”
- D. 黑龙江大学青年志愿者协会

6. 劳动报酬是指劳动者因提供劳动而获得的所有报酬的总和，它等于工资和福利之和。

根据上述定义，下面哪种组合构成劳动报酬？（ ）

- A. 小王超额完成计件任务 500 件，按单价 10 元计，公司付给他 5000 元人民币
- B. 小王超额完成任务，公司除发一定数目的工资外，给了他两周的带薪假期
- C. 小王把公司发的 5000 元用来购买股票，获得了 2000 元收益
- D. 小王完成任务后又加班工作了 4 个小时，公司付给他 400 元的加班费

7. 美国社会学家默顿将社会功能划分为显功能和潜功能两个层次，显功能是有助于系

统的调整和适应的客观后果，这种适应和调整是系统中的参与者所期望达到或能预料、认识到的。潜功能是没有被预料也没有被认识的客观后果。

根据上述定义，下列哪项不包含对潜功能的描述？（ ）

- A. 电视剧《渴望》播放期间，万人空巷，社会治安明显好转
- B. 张某根据自己的家庭收入状况，贷款 30 万买了一套房子，由于利率上升，自己的生活变得捉襟见肘
- C. 为抵御外族入侵，秦始皇修筑了长城，客观上促进了我国民间建筑工艺的发展
- D. 来自偏远山区为了摆脱贫困，让父母过上好日子，从小刻苦学习，做事认真，没几年功夫就成为一家大型企业的负责人，也使自己成为家乡父老教育孩子的榜样

8. 行政应急：是指关于国家行政机关行使应急职权以控制和处理突发公共事件的制度。

根据上述定义，下列选项不属于行政应急的是（ ）。

- A. 在地震灾害突发后，行政机关采取应急措施
 - B. 信访机关对扰乱其办公秩序的个别来访人员采取措施
 - C. 严重动乱后发出戒严令
 - D. 突发危害人类生命健康的流行性传染病，行政机关采取应急措施
9. 定义：①海外基金：指由国外投资信托公司发行的基金，通过海外基金的方式进行投资，不但可分享全球投资机会和利得，亦可达到分散风险、专业管理、节税和资产转移的目的。

②对冲基金：指由金融期货和金融期权等金融衍生工具与金融组织结合后，以高风险投机为手段并以盈利为目的的金融基金。

③养老基金：指一种用于支付退休收入的基金，是社会保障基金的一部分，养老基金通过发行基金股份或受益凭证，募集社会上的养老保险资金。

典型例证：（1）美国是投资基金发展最发达、规模最大的国家，种类繁多，基金收效率高，同时为投资者提供多样化金融服务，具有比较完善的法律监管制度，基金运作比较规范。

（2）在一些国家，基金投资者以资金入伙，提供大部分资金但不参与投资活动；基金管理者以资金和技能入伙，负责基金的投资决策。

（3）王师傅去年办理退休审批手续后，享受养老金待遇，王师傅的退休金由国家、企业和个人共同负担，由社会保险事业中心筹集并管理。

对上述典型例证与定义的关系判断正确的是（ ）。

- A. 例证（1）（2）（3）分别与定义①②③相符
- B. 例证（2）（1）分别与定义②③相符
- C. 例证（2）（3）分别与定义②③相符
- D. 例证（1）与定义①不相符，例证（3）与定义③相符

10. 抽象大致可分为表征性抽象和原理性抽象两大类。表征性抽象是以可观察的事物现象为直接起点的一种初始抽象，它是对物体所表现出来的特征的抽象；原理性抽象是在表征性抽象基础上形成的一种深层抽象，它所把握的是事物的因果性和规律性的联系。

根据上述定义，下列选项中属于表征性抽象的是（ ）。

- A. 磁力线
- B. 杠杆原理
- C. 生物体遗传因子的分离定律
- D. 部分浸入水中的筷子看起来是弯的

【参考答案及解析】

1. 【答案】B。解析：“税收激励”的定义要点是“鼓励纳税人发生或不发生、参与或不参与某种经济行为”。A项“加速折旧”，即在固定资产使用年限的初期提列较多的折旧，可以在固定资产的使用年限内早一些得到折旧费和减免税的税款，C项“投资抵免”，即缴纳所得税的纳税人在某一纳税年度发生经营亏损，准予在其他纳税年度盈利中抵补，D项“亏损结转”，即政府对纳税人在境内的鼓励性投资项目允许按投资额的多少抵免部分或全部应纳税额，均符合“鼓励纳税人发生或不发生某种经济行为”，属于税收激励。B项给遭受自然灾害的纳税人给予税收优惠并没有体现“鼓励其参与某种经济行为”，不属于税收激励。故本题选B。

2. 【答案】A。解析：“角色压力”的定义要点是“不利因素干扰”“陷入无所适从的困境”。A项职业女性的个人时间受到工作、家庭和感情等不利因素干扰，以致陷入了“觉得没有真正属于自己的时间”这样的困境，符合要点，符合定义。B项“工作生活两不误”、D项“忙得不亦乐乎”，均不符合“陷入无所适从的困境”，不符合定义，排除。C项“对顾客笑脸相迎”为角色任务，不存在不利因素干扰，不符合定义，排除。故本题选A。

3. 【答案】D。解析：“马太效应”的定义要点是“积累优势”“更大成功和进步”。A项教授、专家得到更多科研经费，获得更多社会兼职，B项得到充分投资的名校继续发展进步，C项庄家通过积累散户的资金赚钱，均符合要点，符合定义。D项陈经理买股票连中

并不是一种“积累优势”，不符合要点，不符合定义。故本题选D。

4. 【答案】B。解析：“永真命题”的定义要点是“不论在何种情况下都不可能假”。A项“存在即合理”可以翻译为凡是合乎理性的东西都是现实的；凡是现实的东西都是合乎理性的，属于“可满足命题”，排除。B项“思想或者是可捉摸的，或者不可捉摸的”属于相容选言命题，联言支至少一个为真，则命题为真，“思想或者是可捉摸的”为真，因此命题为真，不可能为假，符合定义。C项“人既能在不同时间跨进同一条河流，又不能在相同时间跨进同一条河流”无法判断真假，属于“伪命题”。D项只有在万有引力作用下地球才能一直围绕太阳转，属于“可满足命题”。故本题选B。

5. 【答案】C。解析：“非营利性组织”的定义要点是“社会组织”。A项中国宋庆龄基金会、B项上海“希望工程”办公室、D项黑龙江大学青年志愿者协会均为社会组织，符合要点，符合定义。C项春蕾计划不是一个社会组织，不符合要点，不符合定义。故本题选C。

6. 【答案】B。解析：“劳动报酬”的定义要点是“劳动者因提供劳动而获得”“所有报酬的总和”。A、D项中小王所得均属于超额部分的工资，不符合“所有报酬的总和”，因此不构成劳动报酬。B中小王获得工资加带薪假期（福利），符合要点，因此构成劳动报酬。C项小王购买股票获得的收益，不符合“劳动者因提供劳动而获得”，因此不构成劳动报酬。故本题选B。

7. 【答案】B。解析：“潜功能”的定义要点是“没有被预料也没有被认识”。A项“万人空巷”、“社会治安明显好转”体现了“没有被预料也没有被认识”，属于潜功能。B项“由于利率上升，自己的生活变得捉襟见肘”体现了“参与者所期望达到或能预料、认识到的”，属于显功能。C项“秦始皇修筑了长城，客观上促进了我国民间建筑工艺的发展”体现了“没有被预料也没有被认识”，属于潜功能。D项“没几年功夫就成为一家大型企业的负责人，也使自己成为家乡父老教育孩子的榜样”说明是没有预料到的，属于潜功能。故本题选B。

8. 【答案】B。解析：“行政应急”的定义要点是“控制和处理突发公共事件”。A项“地震灾害”、C项“动乱”、D项“流行性传染病”均属于突发性公共事件，符合要点，符合定义。B项“扰乱其办公秩序的个别来访人员”不属于突发性公共事件，不符合要点，不符合定义。故本题选B。

9. 【答案】D。解析：①“海外基金”的定义要点是“国外投资信托公司”“全球投资机会和利得”。②“对冲基金”的定义要点“金融衍生工具”“高风险投机”“盈利为目的”。

③“养老基金”的定义要点是“支付退休收入”“发行基金份额或受益凭证”。例证（1）说明美国是一个良好的投资基金场所，不符合任一要点，排除。例证（2）说的是一种基金投资方式，不符合任一要点，排除。例证（3）王师傅享受养老金待遇，符合养老基金定义。综上，只有例证（3）与定义③对应。故本题选D。

10. 【答案】A。解析：“表征性抽象”定义要点是“对物体所表现出来的特征的抽象”。“原理性抽象”定义要点是“把握的是事物因果性和规律性的联系”。A项磁力线本身是“看不见、摸不着”的，但是，如果我们把铁屑放在磁场的范围内，铁屑的分布就会呈现出磁力线的表征图像，属于表征性抽象。B、C项是根据事物的因果性和规律性的联系抽象出的原理、定律，属于原理性抽象。D项“看起来是弯的”只是部分浸入水中后的筷子的表面特征，不属于抽象。故本题选A。

第二十五辑

1. 多数谬误，即与竞争企业遵循同一思想逻辑，将规模最大、吸引力最大的市场作为目标市场，从而造成某一种产品的供给远远超过市场需求，导致过度竞争和社会资源的无端浪费，同时使消费者的一些本应得到满足的需求遭受冷落和忽视。

根据上述定义，下列选项属于多数谬误的是（ ）。

A. 企业不选择大、中城市创办大零售商店，反而以小城镇为目标，面向当地消费者开办“低价便利店”

B. 企业为满足第四类顾客（追求口感，选择时讲究痛快上手）的消费需求，开发出清爽型、原汁型果茶

C. 企业在中味巧克力冰激凌很畅销的当口纷纷进入该市场，产生了激烈的竞争，结果导致市场份额锐减

D. 企业着眼于普通工资收入人群使用的产品，盲目按高档产品组织生产和销售，结果很难获得消费者青睐

2. G2B（Business to Government）是一种电子政务模式，是指政府与企业之间运用计算机，互联网等现代信息技术，超越时间、空间和部门分隔的限制，进行相关业务交易活动的运行模式，它有助于实现政府组织机构和工作流程的优化重组，提高政府工作效率。

根据上述定义，下列选项属于G2B服务模式的是（ ）。

- A. 小张在某视听服务网站注册并支付会员费后观看了一部高清电影
- B. 小郭在某省“机动车违法查询网上平台”缴交其上一季度的罚款
- C. 小王在某网上知名商城使用网银付费购买了一台最新款式智能手机
- D. 小李在某市“网上税务征缴系统”申报并支付其公司上个月税款

3. 心理社会能力是个体对需要处理的事项或挑战有一定的预见性和可控性，能够有效地处理日常生活中的各种需要和挑战的能力，是个体保持良好的心理状态，并且在人—己、人—人、人—事、人—物的相互关系中表现出适应和积极的行为能力。

根据上述定义，下列个体事件属于心理社会能力范畴的是（ ）。

- A. 李某期末考试多门功课不及格，受到老师批评指责后发奋学习
- B. 郑某因突然发病不能胜任高原地区工作，被调至平原地区就业
- C. 田某前往沿海某岛屿探险，因遭遇火山突然大爆发而被迫终止
- D. 林某拟参加某地街舞大赛，后因中途发生交通事故受重伤退出

4. 软瘾是指那些强迫性的习惯、行为或回复性的情绪。它不涉及任何具有直接生物效应的物质，而是以某些有强烈心理和行为效应的现象为基础。

根据上述定义，下列不符合软瘾现象的是（ ）。

- A. 小张由于频繁而毫无节制地刷卡购物，陷入了财政危机
- B. 小周习惯于喝止咳糖浆，如果没喝就会觉得浑身不自在
- C. 小郑沉迷于看韩剧并在生活中不时模仿，影响了夫妻关系
- D. 小王老把自己迷恋的养生知识发到朋友圈，引起朋友反感

5. 高凝聚力的群体在进行决策时，成员的思维会高度倾向于一致，以至于使其他变通行动路线的现实性评估受到压抑。这种群体决策时的倾向性思维方式叫做群体盲思，也叫群体迷思。

根据上述定义，下列属于群体盲思的是（ ）。

- A. 开会中少数人的声音被淹没
- B. 张三的意见跟专家意见不同
- C. 某科学家认为达尔文的进化论不正确
- D. 房价下降导致的业主围攻打砸售楼处现象

6. 知觉恒常性是指在一定范围内改变知觉条件的情况下，人们对物体或品质的知觉却保持恒定的一种心理倾向。在不同角度、不同距离、不同明暗度的情境之下，观察某一熟

知物体时，虽然该物体的物理特征（大小形状、亮度、颜色等）因受环境影响而有所改变，但我们对物体特征所获得的知觉经验却倾向于保持其原样不变的心理作用。

根据上述定义，下列不属于知觉恒常性的是（ ）。

- A. 判断一个人的身高，即使距离不同也会得出差不多的结果
- B. 在观察一本书时，不管从正上方看还是从斜上方看，看起来都是长方形
- C. 一面红旗，不管在白天或晚上，在路灯下或阳光下，人们都知道是红旗
- D. 将两匹颜色不同的布置于暗处，变得不容易分辨

7. 感知综合障碍是指病人在感知某一现实事物时，作为一个客观存在的整体来说是正确的，但对该事物的个别属性，如大小、形状、颜色、空间距离等产生与该事物不相符合的感知。

根据上述定义，下列属于感知综合障碍的是（ ）。

- A. 王某由于沉迷于游戏而经常出现幻觉，眼前浮现游戏中打斗的场景
- B. 张某最近一段时间以来经常觉得正在摆动着钟摆停止了摆动
- C. 由于眼睛高度近视，李某在大街上经常会认错人，心里非常苦闷
- D. 孙某对颜色的辨别能力差，经医生检查发现这是色弱的表现

8. 攀比效应：指社会经济活动中某些相关的经济主体或利益主体在分配利益方面存在的相互影响、轮番推进的现象。

根据上述定义，下列属于攀比效应的是（ ）。

- A. 公司员工在工资上互相比较，要求公司调整工资
- B. 两个中学生暗自较劲，努力学习，争当第一
- C. 朋友之间经常在比谁的孩子最聪明
- D. 通过实地参观，甲公司发现乙公司的管理比较科学

9. 重婚是指有配偶的男女未办离婚手续又与他人登记结婚，或者没有登记结婚而与他人同居而构成事实上的婚姻关系的，以及未婚男女明知他人有配偶而与之结婚的行为。

根据上述定义，下列属于重婚的是（ ）。

- A. 甲乙离婚后又自愿恢复夫妻关系而同居
- B. 甲在离婚期间与未婚的乙领取了结婚证书
- C. 甲在离婚后与未婚的乙登记结婚并生有一子
- D. 甲在不知乙已婚的情况下与其结婚

10. 市场定位就是根据竞争者现有产品在市场上所处的位置，针对消费者或用户对该种产品某种特征或属性的重视程度，强有力地塑造出本企业产品与众不同的、给人印象鲜明的个性或形象，并把这种形象生动地传递给顾客，从而使该产品在市场上确定适当的位置。市场定位是塑造一种产品在市场上所处的位置，这种位置取决于消费者或用户怎样认识这种产品。

根据上述定义，下面哪种情况不属于市场定位？（ ）

- A. 可口可乐公司以其世界饮料市场领先者的特点进行的广告宣传
- B. 某商店在营销过程中，专门出售低价位的产品
- C. 某服装厂专门生产老年服装
- D. 某餐厅生意兴隆，该餐厅即出售早点，也在中午、晚上出售正餐，既有价格低廉的大宗产品，也有高档的大餐

【参考答案及解析】

1. 【答案】C。解析：“多数谬误”的定义要点：①将规模最大、吸引力最大的市场作为目标市场；②导致过度竞争和社会资源的无端浪费。A项“小城镇”、B项“第四类顾客”、D项“普通工资收入人群”均不属于“规模最大、吸引力最大的市场”，不符合①，排除；C项“在中味巧克力冰激凌很畅销的当口纷纷进入该市场，产生了激烈的竞争”，符合定义。故本题选C。

2. 【答案】D。解析：“G2B服务模式”的定义要点是“政府与企业之间运用计算机、互联网等现代信息技术进行相关业务交易活动”。A、C项均不涉及“政府”，不符合定义；B项属于个人业务，不涉及“企业”，不符合定义；D项“网上税务征缴系统”属于政府服务系统，“支付其公司上个月税款”属于企业业务，符合定义。故本题选D。

3. 【答案】A。解析：“心理社会能力”的定义要点：①个体对需要处理的事项或挑战有一定的预见性和可控性；②个体保持良好的心理状态；③表现出适应和积极的行为能力。B项“因突然发病不能胜任高原地区工作”、C项“因遭遇火山突然大爆发而被迫终止”、D项“因中途发生交通事故受重伤退出”均不符合①③，不符合定义。A项“受到老师批评指责后发奋学习”符合定义。故本题选A。

4. 【答案】B。解析：“软瘾”的定义要点是“不涉及任何具有直接生物效应的物质”。A项“毫无节制地刷卡购物”、C项“沉迷于看韩剧并在生活中不时模仿”、D项迷恋养生知

识并发到朋友圈，均符合“不涉及任何具有直接生物效应的物质”，符合定义。B项“喝止咳糖浆”显然会涉及直接生物效应，不符合定义。故本题选B。

5. 【答案】A。“群体盲思”的定义要点是“决策时群体成员的思维会高度倾向于一致”。A项开会中少数人的声音被淹没，即多数人思维一致，符合定义。B项张三跟专家意见不同、C项某科学家认为进化论不正确，均属于不一样的思维，不符合定义，排除。D项业主围攻打砸售楼处没有体现决策思维，排除。故本题选A。

6. 【答案】D。解析：“知觉恒常性”的定义要点：①在一定范围内改变知觉条件的情况下；②人们对物体或品质的知觉保持恒定。A项“距离不同”符合①，“得出差不多的结果”符合②；B项“从正上方看还是从斜上方看”符合①，“看起来都是长方形”符合②；C项“白天或晚上，在路灯下或阳光下”符合①，“都知道是红旗”符合②；D项“不容易分辨”不符合②。故本题选D。

7. 【答案】B。解析：“感知综合障碍”的定义要点：①对一个客观存在的整体感知是正确的；②对该事物的个别属性，如大小、形状、颜色、空间距离等产生与该事物不相符合的感知。A项属于幻觉，不符合①②；B项张某对钟摆整体的感知是正确的，符合①，“觉得正在摆动着的钟摆停止了摆动”符合②，符合定义；C、D项均不符合①。故本题选B。

8. 【答案】A。解析：“攀比效应”的定义要点：①社会经济生活中某些相关的经济主体或利益主体；②分配利益方面；③相互影响、轮番推进。A项“公司员工”符合①，“互相比较”“要求公司调整工资”符合②③，故符合定义；B项“中学生”、C项“朋友”均不属于社会经济活动中相关的经济主体或利益主体，不符合①；D项不存在“分配利益”和“相互影响”，不符合②③。故本题选A。

9. 【答案】B。解析：“重婚”的定义要点：①有配偶的男女未办离婚手续又与他人登记结婚；②没有登记结婚而与他人同居而构成事实上的婚姻关系的；③未婚男女明知他人有配偶而与之结婚。A项甲乙离婚后又自愿恢复夫妻关系而同居，不符合①②③，属于合法婚姻。B项甲在离婚期间仍是有配偶的状态，未正式办理离婚手续，符合①，属于重婚。C项甲在离婚后与未婚的乙登记结婚”，不符合①②③，属于合法婚姻。D项甲并不知道乙已婚，不符合③，不属于重婚。故本题选B。

10. 【答案】D。解析：“市场定位”的定义要点是“塑造出本企业产品与众不同的、给人印象鲜明的个性或形象”。A项“世界饮料市场领先者”、B项“低价位的产品”、C项“老年服装”，均为鲜明的、区别于其他竞争者的形象，符合定义。D项某餐厅“既有价格低廉

的大宗产品，也有高档的大餐”，无法给消费者一个鲜明的形象，在市场上没有明确的位置。
故本题选 D。

第二十六辑

1. 非黑即白是一种逻辑错误，指在两个极端之间，不恰当地二者择一。非黑即白式的思考，无视中间体存在，把选择范围仅限于黑白两个极端，不恰当地要求在二者中择一。

以下哪个选项符合非黑即白？（ ）

- A. 大家都说张三很爱你，所以他一定是很爱你的
- B. 张三不是一个成年人，所以他一定是未成年人
- C. 张三不是个工作狂，所以他一定是一个懒汉
- D. 张三是黑皮肤的人，所以他一定不是黄种人

2. 群体是指为了达到共同的特定目标，由两个以上的人所组成的相互依赖、相互作用的人群结构。

根据上述定义，下列属于群体的是（ ）。

- A. 一起乘坐飞机的乘客
- B. 排队购买同一商品的顾客
- C. 路上围观交通事故的人群
- D. 参加欧洲旅行团的游客

3. 行为感染是指人群中的行动从一个人传向另一个人，直至一群人一致行动起来的过程。

根据上述定义，下列涉及行为感染的是（ ）。

- A. 李董在会议上号召大家视厂为家，群策群力，共同渡过难关，大家一致鼓掌赞同
- B. 一个人偶然抬头望天，后面的人以为天空有什么异常，也都跟着抬头望天
- C. 大专生求职更加务实了，纷纷前往劳动力市场寻机会
- D. 老李、老王在一起闲聊，结果发现大家均对选秀节目的层出不穷感到吃惊

4. 外部不经济性是指经济活动主体在生产和消费过程中，给他人带来的损失或额外费用，而他人并未因此得到补偿。

根据上述定义，下列属于外部不经济性的是（ ）。

- A. 某项新技术发明被他人使用，没有得到使用费
- B. 桃树花开时，行人都可以享受到花香，但并未向种桃树的人交钱

- C. 上游居民大量植树，自己收获了木材又改善了下游居民的水源质量，却未收取费用
D. 农民使用农药过量造成污染，却并没有赔偿受害者
5. 分布式能源，是一种新型的建于用户当地或附近的发电系统，可产生电能及其他形式能量，并优先满足当地用户需求，且由用户来管理支配。

根据上述定义，下列属于分布式能源的是（ ）。

- A. 葛洲坝水电枢纽发电满足附近省市用电需求
B. 某核电站生产的电能并入了国家电网
C. 某农户将自家化粪池产生的沼气用于照明
D. 西部地区某乡建风电站发电用于本村生产生活

6. 实绩原则就是以下属的实绩为依据，给予适当方式的激励。

根据上述定义，下列情况遵循实绩原则的是（ ）。

- A. 因为小赵是实验室里学历最高、能力最强的人员，所以他得到了高额奖金
B. 酒店员工小刘喜爱自己的工作，每天情绪饱满笑容可掬，受到经理的表扬
C. 推销员李小姐工作认真负责，兢兢业业，虽然销售额一般，但客户访问量远高于其他同事，因而被提拔
D. 某连锁洗衣店虽然收费较高，但因质量一流，服务周到取得了同行中的最好利润，受到总公司的奖励

7. 趋同适应，是指亲缘关系相当疏远的不同种类的生物，由于长期生活在相同或相似的环境中，接受同样生态环境选择，只有能适应环境的类型才得以保存下去。趋异适应，是指同种生物如长期生活在不同条件下，为了适应所在的环境，会在外形、习性和生理特征方面表现出明显差别。

根据上述定义，下列属于趋同适应的是（ ）。

- A. 蓖麻在我国北方是一年生的草本植物，而在南方却是呈树状的多年生植物
B. 草食性鱼类的粪便可促进蜉蝣生物的繁殖，为鲢鱼、鳙鱼等滤食性鱼类可使水质变清，有利于草食性鱼类的生活
C. 北极熊由棕熊进化而来，皮衣为白色，与北极的环境颜色相同，有利于捕食，肩部呈流线型，足撑有刚毛，可使其在冰上行走而不滑倒
D. 哺乳类的鲸、海豚、海象、海豹，鱼类的鲨鱼，它们都在亲缘关系上相距甚远，但都长期生活在海洋中，整个身体成为适应于游泳的纺锤形

8. 横向收购是指生产同类（或同种）商品或服务的企业之间的收购，它一般涉及在同种商业活动经营和竞争的两家企业。其目的在于消除竞争，扩大市场份额，增加收购公司的垄断实力或形成规模效应。

根据上述定义，下列属于横向收购的是（ ）。

- A. 石化企业对石油制品销售企业的并购
- B. 白酒生产企业并购啤酒生产企业
- C. 美国著名零售商业公司蒙哥马利—沃德公司被美孚石油公司吞并
- D. 1987年美国汽车公司被克莱斯勒汽车公司收购

9. 负迁移，是指一种知识技能的掌握干扰或抑制了另一种知识技能的掌控，也就是已掌握的知识经验使新的学习发生了困难。凡新旧刺激物十分相似而又需求学习者作出不同的反应时，就可能发生负迁移的现象。

根据上述定义，下列属于负迁移的是（ ）。

- A. 已经懂的英语的人，就会很容易地掌握法语
- B. 爱打篮球的小王，耽误了学习文化课的时间
- C. 不会骑自行车的人，学习骑摩托车就会很费力
- D. 学会汉语拼音，就会对学习英文音标产生干扰

10. 移位不同于易位。只要当本来应该出现在原型结构中某个位置的成分离开原来的位置，跑到结构中其他位置上去了，就是移位，移位后的成分一定可以充当这个结构的句法成分。而易位则是话语中临时追加或补充造成的，易位的成分不能再分析为这个结构的句法成分。

根据上述定义，下列属于移位的是（ ）。

- A. 一只羊跑了→跑了一只羊
- B. 大伙笑得肚子都疼了→肚子都疼了，大伙笑得
- C. 他大概到家了吧→到家了吧，他大概
- D. 这地方太美了→太美了，这地方

【参考答案及解析】

1. 【答案】C。“非黑即白”的定义要点：①无视中间体存在，仅限于两个极端；②不恰当地二者择一。A项张三很爱你和他一定很爱你同义，不是两个极端，不符合①，排除。

B项成年人和未成年人是矛盾关系，不存在中间体，而且时恰当地二者择一，不符合①②，排除。C项工作狂和懒汉中间还存在正常工作的人的情况，否定是工作狂，不能肯定是懒汉，符合①②，符合定义。D项黑皮肤和黄种人不是两个极端情况，不符合①，排除。故本题选C。

2. 【答案】D。解析：“群体”的定义要点：①为了达到共同的特定目标；②相互依赖、相互作用。A项乘客、B项顾客之间均不存在相互依赖、相互作用的关系，不符合②，排除。C项人群围观事故现场，并未体现“为了达到共同的特定目标”和“相互依赖、相互作用”，不符合①②，排除。D项参加欧洲旅行团是“为了达到共同的特定目标”，组团体现了“相互依赖、相互作用”，符合要点，符合定义。故本题选D。

3. 【答案】B。解析：“行为感染”的定义要点是“行动从一个人传向另一个人”。A、C、D项并未体现“行动从一个人传向另一个人”的过程，不符合要点，排除。B项一个人抬头望天导致后面的一群人跟着做相同的动作，符合要点，符合定义。故本题选B。

4. 【答案】D。解析：“外部不经济性”的定义要点：①给他人带来的损失或额外费用；②他人并未因此得到补偿。A项“某项新技术发明被他人使用”、B项“行人都可以享受到花香”、C项“游居民大量植树改善了下游居民的水源质量”均属于给他人带来好处或收益，不符合①，排除。D项“农民使用农药过量造成污染”符合①，“却并没有赔偿受害者”符合②，符合定义。故本题选D。

5. 【答案】解析：“分布式能源”的定义要点：①发电系统；②优先满足当地用户需求；③用户来管理支配。A项“满足附近省市用电需求”不符合②，排除。B项核电站产生的电能由国家电网管理不符合③，排除。C项并未体现“发电系统”，不符合①，排除。D项“风电站发电”符合①，“用于本村生产生活”符合②③，符合定义。故本题选D。

6. 【答案】D。解析：“实绩原则”的定义要点是“以下属的实绩为依据”。A项学历和能力、B项工作态度均不是“实绩”，不符合要点，排除。C项“销售额一般”说明实绩不行，因工作态度被提拔，不符合要点，排除。D项“取得了最好的利润”说明实绩很好，并以此为依据奖励，符合要点，符合定义。故本题选D。

7. 【答案】D。解析：“趋同适应”的定义要点是“不同种类的生物接受同样生态环境选择”。A项蓖麻为了适应南北方不同的环境表现出生活周期的差异，属于趋异适应，排除。B项属于无关项，排除。C项北极熊为了适应北极环境表现出与棕熊皮毛颜色和肩部轮廓的差异，属于趋异适应，排除。D项哺乳类的海豚等和鱼类的鲨鱼属于不同种类的生物，长

期共同生活在海洋中，为了适应环境身体呈纺锤形，符合要点，符合定义。故本题选 D。

8. 【答案】D。解析：“横向收购”的定义要点是“生产同类（或同种）商品或服务的企业”。A 项石化企业与石油制品销售企业、B 项白酒生产企业和啤酒生产企业、C 项零售商业公司和石油公司，均不是“生产同类（或同种）商品的企业”，不符合要点，排除。D 项美国汽车公司与克莱斯勒汽车公司属于“生产同类（或同种）商品的企业”，符合要点，符合定义。故本题选 D。

9. 【答案】D。解析：“负迁移”的定义要点是“已掌握的知识经验使新的学习发生了困难”。A 项懂英语的人学习新的语言法语时并没有遇到困难，不符合要点，排除。B 项只是耽误学习文化课时间，而没有阻碍学习，不符合要点，排除。C 项不会骑自行车属于还未掌握的知识经验，不符合要点，排除。D 项已学会的汉语拼音属于已掌握的知识，对学习英文音标产生干扰体现了使新的学习发生了困难，符合要点，符合定义。故本题选 D。

10. 【答案】A。解析：“移位”的定义要点是“移位后的成分一定可以充当这个结构的句法成分”。“易位”的定义要点是“易位的成分不能再分析为这个结构的句法成分”。A 项“一只羊”原来为主语，换位之后变成宾语，依旧充当结构中的句法成分，属于移位。B、C、D 项逗号后面的短语均为临时补充，不能充当结构的句法成分，属于易位，排除。故本题选 A。

第二十七辑

1. “公众参与”是一种有计划的行动。它通过政府部门与公众之间双向交流，使公民们能参加行政决策过程并且阻止和化解公民和政府机构与开发单位之间、公民与公民之间的冲突。

下列选项与上述定义最不符合的是（ ）。

- A. 某市宣传部发布倡议书，号召全体市民“绿色出行”，十万人回应支持
- B. 某市政府公开新建垃圾填埋选址方案，因收到 10 万条反对意见而缓行
- C. 某县政府拟在工业园区内引进两条茶籽油生产线，组织附近村民座谈
- D. 居民多次向某市人大投诉规划局违规审批项目，该项目在实施前被叫停

2. 网络集群行为，指一定数量的相对无组织的网民，在网络环境中或在网络传播影响

下，针对某一共同影响或刺激产生的群体性行为。

根据上述定义，下列属于网络集群行为的是（ ）。

- A. 网友们为抵制非理智追星而发起的“69”圣战
- B. 为调查网上热传的“陈易卖身救母”事件，一名深圳网友前往四川调查真相
- C. 某高校要求学生通过教室微信扫二维码完成签到工作
- D. 暴雪公司开发的“魔兽世界”游戏中的公会成员线下不定期聚会

3. 踢猫效应，是一种典型的负面情绪的传递机制，人的愤怒情绪和不满情绪，往往会沿着社会关系链条由强到弱依次传递，从金字塔尖一直传递至金字塔底层，而处在最底层的个体，往往由于无处发泄，成了最终的受害者，进而影响其行为。

根据上述定义，下列最符合踢猫效应的是（ ）。

- A. 淘气的小男孩在学校把另外一位同学推倒了，老师批评他几句，他回家后跟家长哭了起来
 - B. 李某出差把宠物狗委托邻居照看，因狗生病二人闹翻了脸，自此两家孩子也不一起玩了
 - C. 一位母亲在单位受到领导的批评，回家后把淘气的女儿骂了一通，女儿把遥控器摔坏了
 - D. 小明妈妈在公园门口卖饮料，有一卖冰糕的女士经常对她发泄不满情绪，二人吵了起来
4. 自我设限是指个体针对可能到来的失败威胁，事先设置障碍，为失败创造一个合理的借口，从而保护自我价值，维护自我形象。

根据上述定义，下列属于自我设限的是（ ）。

- A. 小周和小田一起竞选班长，小田跟朋友说，小周学习好，人缘也好，还在学生社团担任干部，老师都比较喜欢他，自己估计没戏了，最后果然小周当选了班长
- B. 小王即将参加某公司的面试，但总觉得自己无法通过，面试前一天，他因为突然生病被送进了医院，错过了这次面试
- C. 小李毕业后进入保险公司做销售代理，第一个月没有签订一单合同，他解释是因为受全球金融危机影响，市场行情很不好
- D. 小明的语文成绩在班上一直名列前茅，每次考试前他都跟同学说，自己状态不好肯定会考砸，但他最后的成绩都在前三名之内

5. 低碳经济是指在可持续发展理念指导下，通过技术创新、制度创新、产业转型、新能源开发等多种手段，尽可能地减少煤炭、石油等高碳能源消耗，减少温室气体排放，达到社会经济发展与生态环境保护双赢的一种经济发展形态。

根据上述定义，下列不符合低碳经济理念的是（ ）。

- A. 某粮油食品公司大力推广绿色食品
- B. 某小区住房都安装了太阳能电池板
- C. 某空调公司引进了低能耗空调生产线
- D. 在荒山、滩头、草甸兴建风力发电站

6. 吸管效应：指用一根吸管吸杯中果汁，就能把管子周围的果汁都吸入，比喻在某区域植入某种“吸管”，就能聚集资源，引起明显的区域反应。

以下不属于吸管效应的是（ ）。

A. 石油探矿的常识是，两个矿区的标准距离为一百公尺，中国目前在东海已经勘探八座油气田，包括“八角亭”新油气田在内

B. 随着广州城市功能的向南转移，铁路新客站附近的番禺钟村、南海平洲、三山、顺德的楼价都已被推高

C. 某镇凭借其纺织产业的雄厚基础，确立以纺织特色为主攻方向，纺织企业由粗放式向集约式转变，实行集群发展

D. 某地几年内让现代服务业的繁荣搭配便捷交通方式，两者“二合一”，让某地成为人流、物流、资金流纷纷向往的繁华地

7. 灯塔效应是指私有商品可以在市场交换，并具有市场价格和市场价值，但公共商品没有市场，也没有市场价格和市场价值，因此消费者几乎都不愿意个人支付公共商品的费用，从而让别人来消费。

根据上述定义，下列符合灯塔效应的是（ ）。

A. 某沿海地区要治理水质污染，由于资金不足，有关部门向当地一些大型企业借款，但企业大都不愿意借款

B. 某新开盘的高层塔楼设立了多部电梯，公摊面积较大，住在低层的居民认为自己不需要使用电梯，因此不愿意缴纳电梯维护费用

C. 某村庄为解决水源不足的问题，号召村民集资建水渠从邻村河流引水过来，响应这一号召的村民很多

D. 某小区举办图书展销会，购买图书的居民享受五折优惠，小区居民中虽然光顾展会的人较多，但大多数人并没有购买图书

8. 公民的基本权利可分为积极权利和消极权利。积极权利是指通过国家积极介入保障公民在社会经济生活领域的权利，是要求国家积极作为的权利。消极权利即自由权，是要求排除国家妨害、国家相应不作为的权利。

根据上述定义，下列选项属于积极权利范畴的是（ ）。

- A. 董事长不得借助权力剥夺股东的股权
- B. 国家为满足低收入者需要建设保障房
- C. 盲、聋、哑人员应依法列入选民名单
- D. 每一位公民都有不受非法逮捕的权利

9. 生物拮抗是指微生物之间的互相抵制、互相排斥甚至互相残杀的斗争。导致生物拮抗的原因，是微生物及其产生的多种分泌物质的作用。

根据上述定义，下列属于生物拮抗的是（ ）。

- A. 当人体血糖含量较高时，胰岛素分泌增加，抑制非糖物质转化为葡萄糖
- B. 富含二氧化碳、碳酸或含钙多的土壤，易生成铜的碳酸盐等，不利于植物吸收铜
- C. 病毒粒子的核酸进入害虫体内，吸取虫体营养，致使细胞组织解体死亡
- D. 用对人体无害的活菌抑制病原微生物的生长繁殖，从而治疗某些感染性疾病

10. 药物依赖性分为躯体依赖性和精神依赖性。躯体依赖性是指机体对药物产生的适应性改变，一旦停药则产生难以忍受的不适感，如兴奋、失眠、流泪、流涕、出汗、呕吐、腹泻、甚至虚脱和意识丧失等。精神依赖性又称心理依赖性，是指药物使人产生一种心满意足的愉快感觉，因而需要定期地或连续地使用它以保持那种舒适感或者避免不舒服。

根据上述定义，下列属于精神依赖性的是（ ）。

- A. 甲每次感冒都要吃同一种药，他觉得只有这种药效果最好，吃了之后感觉舒服多了
- B. 乙患有低血糖，总要定时服用或注射葡萄糖，否则就会感觉头晕，出现出汗、心慌、颤抖、面色苍白等症状

C. 丙为治疗抑郁症每天服用苯丙胺，这种药物有减少睡眠、消除疲劳的作用，后来他更是长期大量服用，每次服用后都感觉自己神清气爽

D. 丁每次出门都会带上一些常用药，他觉得万一有个头疼脑热或者水土不服也能及时治疗，保持好身体、好心情

【参考答案及解析】

1. 【答案】A。解析：“公众参与”的定义要点是“通过政府部门与公众之间双向交流，使公民们能参加行政决策过程”。A项属于“倡议”，并没有让公民参与行政决策过程，不符合定义。B项征询公民意见、C项组织村民座谈、D项居民向市人大投诉使某项目被叫停，均体现了政府与公众间的双向交流，且公民参与到了行政决策过程中，符合定义。故本题选A。

2. 【答案】A。解析：“网络集群行为”的定义要点：①一定数量的相对无组织的网民；②网络环境中或网络传播影响下；③群体性行为。A项“网友们”符合①②，“发起‘69’圣战”符合③，符合定义。B项“一名深圳网友”、C项“学生”均不符合①，排除。D项“线下不定期聚会”不符合②，排除。故本题选A。

3. 【答案】C。解析：“踢猫效应”的定义要点：①人的愤怒情绪和不满情绪；②沿着社会关系链条由强到弱依次传递。A、B、D项均未体现负面情绪“由强到弱依次传递”，不符合②，均排除。C项领导批评这位母亲，母亲骂女儿，女儿摔遥控器，符合①②，符合定义。故本题选C。

4. 【答案】A。解析：“自我设限”的定义要点：①事先设置障碍；②为失败创造一个合理的借口。A项小田跟朋友说的话属于在竞选前为自己的失败创造借口，符合定义。B项“突然生病”并不是借口，不符合②，排除。C项是事后找借口，不符合①，排除。D项并没有失败，也不存在“借口”，不符合②，排除。故本题选A。

5. 【答案】A。解析：“低碳经济”的定义要点是“减少煤炭、石油等高碳能源的消耗”。A项没有体现减少高碳能源的消耗，不符合定义。B项太阳能电池板、C项低能耗空调生产线、D项风力发电站均属于“减少煤炭、石油等高碳能源的消耗”的方式，符合定义。故本题选A。

6. 【答案】A。解析：“吸管效应”的定义要点是“聚集资源，引起明显的区域反应”。A项没有体现“聚集资源”“区域反应”，不符合定义。B项铁路新客站附近聚集资源和“楼价都已被推高”、C项“集群发展”、D项“人流、物流、资金流纷纷向往”均符合定义，排除。故本题选A。

7. 【答案】B。解析：“灯塔效应”的定义要点是“消费者不愿意个人支付公共商品的费用，从而让别人来消费”。A项不包含“公共商品”，且属于借款，不是支付费用，不符

合定义。B项高层塔楼的电梯是公用的，属于公共商品，住在低层的居民不愿缴纳电梯维护费用符合定义要点，符合定义。C项“响应这一号召的村民很多”说明很多人愿意支付费用，不符合定义。D项图书不属于公共商品，不符合定义。故本题选B。

8. 【答案】B。解析：“积极权利”的定义要点：①保障公民在社会经济生活领域的权利；②国家积极作为。A项主体不是“国家”，不符合②，排除。B项国家为低收入者建设保障房，符合①②，符合定义。C项选举权不属于“社会经济生活领域的权利”，不符合①，排除。D项公民不受非法逮捕的权利属于“排除国家妨害、国家相应不作为的权利”，为消极权利，排除。故本题选B。

9. 【答案】D。解析：“生物拮抗”的定义要点是“微生物之间的互相抵制、互相排斥甚至互相残杀的斗争”。A、B项均未涉及微生物，C项为微生物和害虫之间，均不符合要点，排除。D项活菌抑制病原微生物的生长繁殖体现了微生物之间互相抵制，符合要点，符合定义。故本题选D。

10. 【答案】C。解析：“精神依赖性”的定义要点：①使人产生一种心满意足的愉快感觉；②需要定期地或连续地使用；③以保持那种舒适感或者避免不舒服。A项不符合②，B项不符合①，D项不符合①②③，均排除。C项“每次服用后都感觉自己神清气爽”符合①③，“长期大量服用”符合②，符合定义。故本题选C。

第二十八辑

1. 非法拘禁罪是指以拘押、禁闭或者其他强制方法，非法剥夺他人人身自由的犯罪行为。绑架罪是指为勒索财物或者其他目的，使用暴力、胁迫或者其他方法绑架他人的行为。

根据上述定义，下列属于绑架罪的是（ ）。

- A. 王某将男孩李某哄骗至一废弃工厂处，限制李某行动后向其家人索要赎金
- B. 孙某在买了被拐卖的妇女杨某后，将其关在自己的房间里长达半年之久
- C. 刘某因客人吃完饭不付账，将其拦在店内并要求先结账后走人
- D. 赵某因为儿子成绩不理想，罚其在房间里面壁思过一晚上

2. 严肃文学即通过文字来表达对人性的思考和对世界的认知，希望通过文学来启示人类，以达到影响人的世界观与人生观这一目的，其思想影响深远，令读者读后涤荡心灵、感受生活、感悟生命。

根据上述定义，下列哪部作品不属于严肃文学？（ ）

A. 陈忠实创作的《白鹿原》通过文本中人物的个性描写，来宣传中国文化的深刻价值，表达自己“寻根”理念

B. 大仲马创作的《三个火枪手》重点在于塑造了一系列血肉丰满的人物形象，虽然是一部通俗小说，但文字相当讲究，华丽而不艰涩，风趣而不粗俗

C. 路遥创作的《平凡的世界》全景式地表现中国当代城乡社会生活，深刻地展示了普通人在大时代历史进程中所走过的艰难曲折的道路

D. 阿尔贝·加缪创作的《局外人·鼠疫》以明察而热切的眼光捕捉了那个时代人类良心的种种问题

3. 隐性饥饿，是指机体由于营养不平衡或者缺乏某种维生素以及人体必需的矿物质，同时又存在其他营养成分过度摄入，从而产生隐蔽性营养需求的饥饿症状。

根据上述定义，下列属于隐性饥饿的是（ ）。

A. 陈大爷下定决心节食，以青菜和苹果代替主食，不沾油荤，最后因饥饿难耐晕倒在地

B. 小白为了健美，坚持每日六餐，每餐分量很少，分别含有主食、蔬果、蛋奶等，但高强度的健身训练还是使他浑身酸痛、疲惫不堪

C. 小李喜欢高盐、高糖分、高热量的垃圾食品，对医生的劝说无动于衷，在数年后的体检中发现自己存在高血糖、高血脂、高血压等问题

D. 王大爷因为肠胃虚弱，以清汤热粥作为主要饮食养生，不常吃大鱼大肉和生冷瓜果，后来因饮食缺少蛋白质和维他命而导致记忆力减退

4. 生态建筑是指在建筑的整个建造和使用期限内，在完成建筑功能的前提下，通过组织和设计建筑内外空间中的各种物态因素，使能源的消耗和对环境的影响尽可能地小，获得一种高效、低耗、无废、无污染、生态平衡的建筑环境。

根据上述定义，以下符合生态建筑理念的是（ ）。

A. 某校被评为市绿色文明示范单位，该校重视培养师生环保意识，积极开展环保工作

B. 某森林公园通过引进多种植物，使得园中植物更加多样化，建造成一个“多彩森林”

C. 某学院建造了多座太阳房，通过建筑设计使房屋能充分利用太阳能，达到采暖和降温目的

D. 某度假村就地取材，使用原木作为主要材料，供游客休息的木凳也都是由树桩做成

的

5. 首因效应是指个体在社会认知过程中，通过第一印象最先输入的信息对客体以后的认知产生显著的影响作用。第一印象作用最强，持续的时间也长，比以后得到的信息对于事物整个印象产生的作用更强。

根据上述定义，下列首因效应没有发挥作用的是（ ）。

A. 金融行业从业人员，一般着深色套装，给人专业和严谨的印象
B. 小张在面试中表现突出，后公司的人力资源部发现小张的简历上存在错别字而取消了录用他的计划

C. 已过而立之年的王先生频频相亲却没有结果，据和他有过一面之交的金小姐说，王先生“以我为中心”的夸夸其谈，令她很反感

D. 刚刚毕业的小张在找工作过程中屡屡碰壁，后经咨询专业人士才得知是因她染了一头红色的头发，而给人不够成熟稳重的感觉

6. 威客模式是指一些人通过互联网把自己的智慧、知识、能力、经验转换成实际收益，他们在互联网上通过解决科学、技术、工作、生活、学习中的问题从而让知识、智慧、经验、技能产生经济价值。

根据上述定义，下列属于威客模式的是（ ）。

A. 某 IT 技术人员用业余时间开了一个小公司，主要在网络上远程帮助他人修理电脑
B. 某大学毕业生在一个 B2C 网站上开了一家服装店，运用自己的人脉资源使网店很快就开始盈利

C. 某摄影师个人网站上的摄影作品吸引了大批网友浏览、转发，后来该摄影师依靠在该网站上发布摄影器材广告带来了大量收入

D. 某高校学生建立的免费回答中小学生学习问题的公益网站受到了学生和家长的好评，当地一家教育机构出资赞助扩大这个网站的规模，以帮助更多的学生

7. 投资性房地产是指为了赚取租金或资本增值，或两者兼有而持有的房地产。投资性房地产应当能够单独计量和出售。

下列属于投资性房地产的是（ ）。

- A. 企业拥有并自行经营的旅馆或饭店
- B. 企业以经营租赁方式租入的建筑物
- C. 企业出租给本企业职工居住的宿舍

D. 房地产企业开发的已出租的房屋

8. 资源民族主义，是指基于国家对自然资源的合法管辖，通过控制和支配资源，以及市场干预行为，实现为政治服务和国家特定发展等目标。

根据上述定义，下列属于资源民族主义的是（ ）。

- A. 某国发展与石油资源国的合作，持续推进原油进口来源多元化
- B. 某国加强了某稀有金属开矿许可，并为外资企业投资设立高门槛
- C. 某公司研发的特色旅游纪念品在市面上广受欢迎，不得限量发售
- D. 政府组织高科技企业生产高质量钢铁并依靠出口获得利润

9. 事实婚姻：指男女双方虽未办理结婚登记，但符合结婚实质条件，并且以夫妻名义同居生活所形成的男女关系。所谓结婚实质条件包括法定条件和禁止条件，前者指双方自愿、达到法定婚龄、一夫一妻（第二项可随着时间变化而由不具备变为具备）；后者指直系血亲和三代以内的旁系血亲以及患有医学上认为不应当结婚的疾病。这种婚姻形式同时要求当事人双方必须具有终生共同生活的意思，并以夫妻名义公开共同生活，群众也认为是夫妻关系，否则仍不能认为其有效。

以下属于事实婚姻的是（ ）。

- A. 李云与程红结婚时身体健康，但程红只有 18 岁，而且两人只举行了简单婚礼，并未去登记；5 年后，两人欲离婚，此时两人的婚姻关系
- B. 赵飞与黄花系同年表兄妹，自小青梅竹马，两人于 25 岁时在某教堂举行了隆重婚礼，亲朋好友纷纷到场祝贺，二人因嫌麻烦就未到婚姻登记机关办理结婚证
- C. 史密斯系英籍华人，在英已结婚，后在中国结识了中国姑娘陶莹，二人共坠爱河，遂同居在一起，周围邻居均认为他们是一对非常般配的夫妻
- D. 卢雄与张咪大学时曾是公开的恋人，毕业后即同居在一起，但后来卢雄想与张咪分手，张咪多次以死相威胁，卢无奈，只有和张继续一起生活，并在某市一起办理了结婚登记

10. 不当得利，是指没有合法根据，且非基于本人原因导致他人遭受损失而自己获得利益的法律事实。其中，利益取得人叫受益人，负有返回取得利益的义务；遭受损失的人叫受害人，享有请求受益人返回不当利益的权利。

根据上述定义，下列属于不当得利的是（ ）。

- A. 甲某张贴启事寻找走失的爱犬，乙某寻得甲某爱犬，甲某为表感激，支付乙某 1000

元

- B. 丙某在路边买煎饼，煎饼铺老板让丙某自己找钱，丙某乘机多拿 30 元
- C. 丁某向戊某购买笔记本电脑 12 台，但到货后发现戊某多发了 1 台，丁某随即将该台电脑收下使用
- D. 己某在自己家中挖地窖，发现了地下埋藏的一瓦罐大洋后占为已有

【参考答案及解析】

1. 【答案】A。解析：“绑架罪”的定义要点：①勒索财物或其他目的；②使用暴力、胁迫或其他方法绑架他人。A 项王某哄骗李某限制其自由符合②，索要赎金符合①，属于绑架罪。B 项孙某的行为属于“非法剥夺他人人身自由”，属于非法拘禁罪，排除。C 项刘某的行为不涉及“勒索财物”和“绑架他人”，不符合①②，排除。D 项明显不符合定义，排除。故本题选 A。

2. 【答案】B。解析：严肃文学的关键要点是“对人性的思考和对世界的认知”“感受生活，感悟生命”。A、C、D 项都是严肃文学，B 项《三个火枪手》“通俗小说”“华丽而不艰涩，风趣而不粗俗”，不符合定义，不属于严肃文学，属于通俗文学。故本题选 B。

3. 【答案】C。解析：“隐性饥饿”的定义要点：①营养不平衡或者缺乏某种维生素及人体必需的矿物质；②其他营养成分过度摄入；③产生隐蔽性营养需求。A 项“因饥饿难耐晕倒”，说明营养需求并非隐蔽，不符合③，排除。B 项未体现“营养不平衡或缺乏”，不符合①，排除。C 项小李过度摄入盐、糖分等，而缺乏维生素等营养，导致出现高血糖、高血脂、高血压等问题，符合①②③，符合定义。D 项未体现过度摄入营养成分，不符合②。故本题选 C。

4. 【答案】C。解析：“生态建筑”的定义要点：①在建筑的整个建造和使用期限内；②通过组织和设计建筑内外空间中的各种物态因素；③高效、低耗、无废、无污染、生态平衡。A 项培养师生环保意识，积极开展环保工作，不符合①②③；B 项建造“多彩森林”没有体现低耗等特点，不符合③；C 项“建造了多座太阳房”符合①，“通过建筑设计”符合②，“达到采暖和降温目的”符合③，符合定义；D 项树桩木凳不符合③。故本题选 C。

5. 【答案】B。解析：“首因效应”的定义要点：①通过第一印象最先输入的信息对客体以后的认知产生显著的影响作用；②第一印象比以后得到的信息对于事物整个印象产生的作用更强。B 项面试中的表现属于第一印象，因简历上存在错别字而取消录用不符合①

②。A、C、D 三项均符合定义。故本题选 B。

6. 【答案】A。解析：“威客模式”的定义要点：①通过互联网；②解决科学、技术、工作、生活、学习中的问题；③让知识、智慧、经验、技能产生经济价值。A 项“在网络上远程帮助他人修理电脑”符合①②，让自己的知识、技能产生经济价值，符合③；B 项运用人脉资源实现盈利、C 项依靠在网站上发布摄影器材广告带来收入，均不是“解决问题”，且不是运用自己的“知识、智慧、经验、技能”，不符合②③；D 项“免费回答”没有“产生经济价值”，不符合③。故本题选 A。

7. 【答案】D。解析：“投资性房地产”的定义要素包括：①为赚取租金或增值，或两者兼有；②能够单独计量和出售。A 项和 C 项不符合①；B 项不符合②，因为企业没有该建筑物的所有权，不能出售，只能出租；D 项符合定义要素。故本题选 D。

8. 【答案】B。解析：“资源民族主义”的定义要点：①基于国家对自然资源的合法管辖；②控制和支配资源以及市场干预；③实现为政治服务和国家特定发展等目标。A 项与石油资源国合作，不是基于国家对自然资源的合法管辖，不符合①；B 项“某国加强了某稀有金属开矿许可”符合①②，“为外资企业投资设立高门槛”符合③；C 项不涉及“自然资源”，不符合①②③；D 项未体现对自然资源的控制和支配，也不涉及“市场干预”，不符合②。故本题选 B。

9. 【答案】A。解析：“事实婚姻”的定义要点：①男女双方未办理结婚登记；②以夫妻名义同居生活；③双方自愿、达到法定婚龄、一夫一妻；④不是直系血亲和三代以内的旁系血亲，不患有医学上认为不应当结婚的疾病。A 项李云与程红欲离婚时已达到法定婚龄，满足全部要点，符合定义；B 项赵飞与黄花是表兄妹，不符合④；C 项史密斯已婚，不符合③；D 项卢雄与张咪办理了结婚登记，不符合①。故本题选 A。

10. 【答案】C。解析：“不当得利”的定义要点是“非基于本人原因导致他人遭受损失而自己获得利益”。A、D 项均未体现“导致他人遭受损失”，B 项“丙某乘机多拿 30 元”是基于本人原因导致他人遭受损失，不符合定义，均排除。故本题选 C。

第二十九辑

1. 文化事象是指当一种现象以同样的形式反复出现时，其中就含有规律性，成为某一历史时期、某一国家（民族）或地域文化发展中带有典型和标志作用的事情。

根据上述定义，下列不属于文化事象的是（ ）。

A. 湘西先民在原始公社时代深感个人力量单薄，于是团结互助、共同劳动，土家族地区便形成了独具民族特色的“挖土锣鼓”习俗，延续至今

B. 至少已有 2000 年历史的端午节是中华民族最具民族特色并有着丰富文化内涵的节日之一

C. 侗族是一个极其爱歌、善歌的民族，唱歌渗透在侗族的种种生活领域，是侗族最主要的民俗之一，长盛不衰

D. 尚书省形成于东汉，中书省和门下省形成于三国时期，在发展过程中组织形式和权力各有演变，至隋朝才划归为三省六部

2. 顺行性遗忘是指回忆不起在疾病发生后一段时间内所经历的事件，遗忘的时间和疾病同时开始。顺行性遗忘症患者保留了遗忘症出现前学习的一般知识的记忆，但对新的事实和事件的回忆却严重受损。

根据上述定义，下列属于顺行性遗忘的是（ ）。

A. 小甲出车祸出院后生活能自理，记得自己的名字，也认得家人、朋友，就是记不起来自己是怎么出车祸的

B. 小乙头部受伤，记忆停留在出事故的前一天，他记得那天课上学了欧拉公式，但如今总是会忘了昨天干了什么

C. 小丙酗酒成瘾，喝醉后就开始疯狂跳舞，清醒后也能记得醉酒时做了什么，但经常把钱包忘在店里

D. 小丁在地震中受伤，痊愈后上课时总是想不起来昨天老师教了什么，以前学过的知识好像也消失了，大脑一片空白

3. 口红效应是指因经济萧条而导致口红热卖的一种有趣的经济现象，也叫“低价产品偏爱趋势”。

根据上述定义，下列现象属于口红效应的是（ ）。

A. 王明在自己经济条件不好的时候，却给自己的女朋友买了一个 LV 包

B. 金融危机时期，好莱坞的电影大行其道

C. 虽然经济不景气，但李明对名牌手表的青睐不减

D. 由于金融危机，肖潇连一支口红都舍不得买

4. 皮格马利翁效应，指期待者将自己的期望投向被期待者，被对方知觉，从而对被期

待者产生积极的影响，影响对方未来的行为结果，最终使期望变为现实。

根据上述定义，下列选项中属于皮格马利翁效应的是（ ）。

A. 小明学习成绩优异，竞赛次次拿奖，经常受到老师的表扬

B. 王教练对自己的队员十分严格，错了批评惩罚，对了不表扬，倒也训练出一批优秀的运动员

C. 小张的上司对同事经常赞赏有加，小张在他的带动下工作热情高涨，业绩不断提高

D. 小李为了获得表彰，工作十分认真努力，经常加班，业绩一直遥遥领先

5. 群体压力是指群体中的个别成员发现自己的行为或意见与群体不一致或与群体大多数人有分歧时而产生的一种心理压力。群体压力的作用主要是迫使个别成员使其态度和行为与群体或多数成员保持一致。

根据上述定义，下列属于群体压力的是（ ）。

A. 小华有道课后习题不会做，上网搜索后发现许多网站给出的答案是A，于是就填上A，然后上交

B. 班干部选举中，小蓝想把票投给小紫，但同桌强烈建议他投小红，小蓝最终听从了同桌的建议

C. 网红小雨为迎合众多网友的审美口味，学明星或时尚人士穿衣打扮，花费了不少精力和财力

D. 公司组织看电影，小夏想看喜剧片，但同事大多想看科幻片，于是小夏也表示自己想看科幻片

6. 功能价值是指消费者为满足自己基本需要时愿意给商品物理属性支付的价格部分；观念价值是指人们在消费商品物理属性的同时，因商品内在的文化属性、象征意义以及个人因消费商品所带来的感受和体验等方面的差异而愿意多支付的价格部分。

根据上述定义，下列仅涉及功能价值的是（ ）。

A. 森林具有涵养水源、保育土壤、固碳释氧等多项生态服务功能，亟需受到保护

B. 智能手机因其除通讯之外还能听音乐、看小说、拍照片、看电视等而备受欢迎

C. 月饼在经过华丽的包装之后成为中秋的“馈赠佳品”，价格相应地也成倍上涨

D. 用同样皮料做的同样式样的两个皮包，LV的包因代表高质量和高气质而价格高昂

7. 国家赔偿，是指国家机关及其工作人员违法行使行政、侦察、检查、审批、监狱管理等职权，侵犯公民、法人和其他组织的合法权益并造成损害的，由法律规定的赔偿义务

机关对受害人予以赔偿的法律制度。国家赔偿的一个最显著的特点是由国家承担法律责任。最终支付赔偿费用，由法律规定的赔偿义务机关履行具体赔偿义务，实施侵权行为的公务人员并不直接对受害人承担责任。

根据上述定义，下列属于国家赔偿的是（ ）。

A. 某老人身患残疾、无经济来源且无子嗣抚养，当地政府为其提供最低生活保障
B. 警察甲下班途中制止歹徒行凶，因公殉职，国家追认其为烈士，并每年给其家属发放抚恤金

C. 乙因故意杀人罪被判处无期徒刑，7年后被害人出现，乙被无罪释放，X省高级人民法院判予乙赔偿金

D. X县人民检察院的检察官丙在驾车回家途中不慎追尾，赔偿受害车主2000多元的修理费

8. 劳动法律关系变更，指劳动者同用人单位依据劳动法律规范，变更其原来确定的权利义务内容。劳动法律关系变更一般是因发生变更工作地方、工种和工作职务的劳动法律事实而引起的。

下列属于劳动法律关系变更的是（ ）。

A. 商场营业员小李与商场五年合同到期
B. 应届大学毕业生小王经过层层面试和笔试，终被用人单位录用
C. 朝阳物业公司物业保管员陈进盗窃公司电脑一台而被开除
D. 东方公司会计王明因违纪行为，经公司总经理办公会议讨论决定，被调到仓储部门做保管员

9. 卡瑞尔公式是指唯有强迫自己面对最坏的情况，在精神上接受它以后，才会使我们处在一个可以集中精力解决问题的地位上。

根据上述定义，下列选项涉及卡瑞尔公式的是（ ）。

A. 一商人因经营不善而欠下一大笔债务，心灰意冷地来到亲戚的农庄，想在此度过余生，却在瓜农的鼓励下，最终重新崛起

B. A君炒股被套十分苦恼，后来想通了，学习当鸵鸟，不看股票，专心工作，几年后，他事业取得成功

C. 一个卖花老太太衣着破旧却满是喜悦，她说：“耶稣星期五被钉在十字架上死去，可三天后不就是复活节了吗？所以我总是心怀喜悦。”

D. 阿 Q 和小 D 打架吃亏，心想：“我总算被儿子打了，现在这社会真不像样，儿子居然打起老子来了。”于是他心满意足，俨然胜利似的

10. 增强现实技术，它是一种将真实世界信息和虚拟世界信息“无缝”集成的新技术，是把原本在现实世界的一定时间空间范围内很难体验到的实体信息（视觉、声音、味道、触觉等），通过电脑等科学技术，模拟仿真后再叠加，将虚拟的信息应用到真实世界，被人类感官所感知，从而达到超越现实的感官体验。

根据上述定义，下列选项不属于增强现实技术的是（ ）。

- A. 某海底漫游系统通过交互体验设备让用户与虚拟场景中的海洋生物互动、嬉戏
- B. 某游戏运动追踪器侦测用户运动，并通过头盔显示器为用户提供包括虚拟景观的视野
- C. 某艺术家引导用户在物理空间中遵循播放器的指令行动进而成为其所设计情境的参与者
- D. 某科学家研制的智能隐形眼镜通过无线技术接收手机数据，并将手机上的图像投射到眼睛上

【参考答案及解析】

1. 【答案】D。解析：“文化事象”的定义要点是：①一种现象以同样的形式反复出现；②某一历史时期、某一国家（民族）或地域文化发展中；③带有典型和标志作用。A项“延续至今”“土家族地区”“独具民族特色”符合①②③，排除。B项“至少已有 2000 年历史”“中华民族”“最具民族特色并有着丰富文化内涵”符合①②③，排除。C项“渗透在侗族的种种生活领域”“侗族”“最主要的民俗之一”符合①②③，排除。D项“组织形式和权力各有演变”不符合①，不符合定义。故本题选 D。

2. 【答案】B。解析：“顺行性遗忘”的定义要点是：①回忆不起在疾病发生后一段时间内所经历的事件；②保留了遗忘症出现前学习的一般知识的记忆。A项“记不起来自己是怎么出车祸的”不符合①，排除。B项“记忆停留在出事故的前一天，他记得那天课上学了欧拉公式”符合②，“总是会忘了昨天干了什么”符合①，符合定义。C项不属于“疾病”，不符合①，排除。D项“以前学过的知识好像也消失了，大脑一片空白”不符合②，排除。故本题选 B。

3. 【答案】B。解析：“口红效应”的定义要点：①经济萧条；②低价产品偏爱趋势。A

项只是王明自己的经济条件不好，并不属于“经济萧条”，且LV包也不属于低价产品，不符合①②，排除。B项“金融危机”符合①，电影票属于“低价产品”，符合②，符合定义。C项名牌手表不属于“低价产品”，不符合②，排除。D项肖潇舍不得买口红不符合“低价产品偏爱趋势”，不符合②，排除。故本题选B。

4. 【答案】C。解析：皮格马利翁效应的定义要点：①期待者将自己的期望投向被期待者；②对被期待者产生积极的影响；③最终使期望变为现实。A项未体现出“老师对小明的期望”，B项未体现出“王教练将期望投向队员”，D项“期待者”与“被期待者”都是小李，均不符合①，排除。C项符合①②③，符合定义。故本题选C。

5. 【答案】D。解析：“群体压力”的定义要点：①群体中的个别成员；②发现自己的行为或意见与群体不一致或与群体大多数人分歧；③态度和行为与群体或多数成员保持一致。A项未体现小华所属群体，且小华不存在行为或意见与群体不一致或与群体大多数人分歧，不符合①②，排除。B项“同桌”不是“群体大多数人”，不符合②③，排除。C项未体现小雨的行为和意见与群体不一致或与群体大多数人分歧，不符合②，排除。D项符合①②③，符合定义。故本题选D。

6. 【答案】B。解析：“功能价值”的定义要点：①满足自己基本需要；②商品物理属性。A项森林不是商品，不符合②，排除。B项智能手机的各项功能均为商品物理属性，满足人们基本需求，符合①②，符合定义。C项月饼经过华丽包装成为中秋的“馈赠佳品”，因此上涨的价格部分属于在消费商品物理属性的同时，因商品内在的文化属性或个人因消费商品所带来的感受和体验而愿意多支付的价格部分，是观念价值，排除。D项LV的包因代表高质量和高气质而价格高昂也属于观念价值，排除。故本题选B。

7. 【答案】C。解析：“国家赔偿”的定义要点：①国家机关及其工作人员；②违法行使行政、侦察、检查、审批、监狱管理等职权；③侵犯公民、法人和其他组织的合法权益并造成损害。A、B项均不涉及国家机关及其公务人员侵犯公民、法人和其他组织的合法权益，不符合③，排除。C项X省高级人民法院的错判行为侵犯乙的合法权益并造成损害，符合①②③，符合定义。D项不属于违法行使职权，不符合②，排除。故本题选C。

8. 【答案】D。解析：“劳动法律关系变更”的定义要点是“变更其原来确定的权利义务内容”。A、B、C三项均未体现权利义务内容的变更，不符合要点，排除。D项王明原先是会计，后来被调到仓储部门做保管员，权利义务内容显然发生了变更，符合定义。故本题选D。

9. 【答案】A。解析：“卡瑞尔公式”的定义要点是“强迫自己面对最坏的情况，在精神上接受它”。A项商人重新崛起，去面对一大笔债务，符合要点，符合定义。B项A君并没有去面对最坏的情况，不符合定义，排除。C项老太太总是心怀喜悦，不涉及“最坏的情况”，不符合定义，排除。D项阿Q臆想小D是自己的儿子以自我安慰，并没有接受自己吃亏的事实，不符合定义，排除。故本题选A。

10. 【答案】C。解析：“增强现实技术”的定义要点：①通过电脑等科学技术；②将虚拟的信息应用到真实世界。A项“某海底漫游系统”“通过交互体验设备”“与虚拟场景中的海洋生物互动”符合①②，排除。B项“某游戏运动追踪器”“通过头盔显示器”“提供包括虚拟景观的视野”符合①②，排除。C项用户处于艺术家设计的现实情境中，不涉及“虚拟的信息”，不符合②，不符合定义。D项“通过无线技术接收手机数据”“将手机上的图像投射到眼睛上”符合①②，排除。故本题选C。

第三十辑

1. 《青衫泪》：白居易

A. 《汉秋宫》：马致远

C. 《桃花扇》：孔尚任

2. 口蜜腹剑：笑里藏刀

A. 处心积虑：无所用心

C. 不求甚解：循序渐进

3. 玻璃：石英

A. 甘油：丙三醇

C. 青草：氧气

4. 悚然 对于 () 相当于 () 对于 愤怒

A. 害怕 悻然

C. 惊恐 惘然

5. 活动：组织

A. 研究：计划

C. 节能：减排

B. 《邯郸记》：卢生

D. 《救风尘》：关汉卿

B. 历历在目：记忆犹新

D. 浮光掠影：烟消云散

B. 阳台：栏杆

D. 贝壳：石灰石

B. 漠然 高兴

D. 淡定 狰狞

B. 屏蔽：信息

D. 黑白：颠倒

6. 笨媳妇纳鞋底：凹凸不平

A. 乡下人撒尿：因地制宜

B. 穿衣镜照人：里外不是人

C. 鸡脑袋上插鹅毛：张冠李戴

D. 半夜里弹琵琶：勤能补拙

7. 专注：表情

A. 悠远：安详

B. 调侃：人生

C. 简约：风格

D. 情感：真挚

8. 进步：书籍：阶梯

A. 先进：科技：经济

B. 创作：灵感：源泉

C. 市场：竞争：盈利

D. 财富：基础：循环

9. 二氧化锰 对于 () 相当于 () 对于 二氧化硫

A. 化学 催化剂

B. 实验 污染

C. 酶 氧气

D. 过氧化氢 红磷

10. 松鼠：啮齿动物

A. 蜥蜴：爬行动物

B. 蚂蚁：两栖动物

C. 蝙蝠：卵生动物

D. 麻雀：哺乳动物

【参考答案及解析】

1. 【答案】B。解析：《青衫泪》描写的主人公是白居易，B项《邯郸记》描写的主人公是卢生。其他三项均是作品与其作者的对应关系。故本题选B。

2. 【答案】B。解析：“口蜜腹剑”“笑里藏刀”均形容阴险狡诈，二者为近义关系。A项“处心积虑”形容蓄谋已久；“无所用心”指不动脑筋，什么事情都不关心，二者为反义关系。B项“历历在目”指远方的景物看得清清楚楚，或过去的事情清清楚楚地重现在眼前；“记忆犹新”指过去的事，至今印象还非常清楚，就像刚才发生的一样，二者为近义关系。C项“不求甚解”常指学习或研究不认真、不深入；“循序渐进”指学习工作等按照一定的步骤逐渐深入或提高。D项“浮光掠影”比喻观察不细致，学习不深入，印象不深刻；“烟消云散”比喻事物消失得干干净净。故本题选B。

3. 【答案】D。解析：玻璃和石英的主要成分是二氧化硅，D项贝壳和石灰石的主要成分是碳酸钙。A项丙三醇是甘油的化学名。故本题选D。

4. 【答案】A。解析：悚然形容害怕的样子，悻然形容怨恨愤怒的样子。故本题选A。

5. 【答案】D。解析：“组织活动”和D项“颠倒黑白”均为动宾结构。故本题选D。
6. 【答案】A。解析：本题考查歇后语。笨媳妇纳鞋底时深一针浅一针、用力不够均匀，做出来的鞋底凸凹不平。A项“乡下人撒尿”对应的是“因地制宜”，B项“穿衣镜照人”对应的是“原原本本”，C项“鸡脑袋上插鹅毛”对应的是“一语双关”，D项“半夜里弹琵琶”对应的是“暗中作乐”。故本题选A。
7. 【答案】C。解析：专注的表情，简约的风格，二者构成修饰关系。D项“真挚的情感”符合，但词语位置与题干相反。故本题选C。
8. 【答案】B。解析：书籍是进步的阶梯，B项灵感是创作的源泉。故本题选B。
9. 【答案】C。解析：二氧化锰和酶均属于催化剂，氧气和二氧化硫均属于气体。故本题选C。
10. 【答案】A。解析：松鼠属于啮齿动物。A项蜥蜴属于爬行动物，B项蚂蚁属于节肢动物，C项蝙蝠属于哺乳动物，D项麻雀属于卵生动物。故本题选A。

第三十一辑

1. 港湾：停泊
A. 基因：遗传
C. 电缆：发电
2. 铡刀：草料
A. 工蜂：采蜜
C. 化肥：庄稼
3. 黑板 对于 () 相当于 () 对于 画家
A. 教师 画布
C. 写字 画画
4. 发球：拦网：得分
A. 满月：圆月：望月
C. 陆地：荒地：碱地
5. 园林：假山：盆栽
B. 法庭：诉讼
D. 公路：运输
B. 雨伞：遮雨
D. 字模：铸造
B. 粉笔 画笔
D. 学生 风景
B. 构思：写作：发表
D. 水果：鲜果：果品

- A. 佛寺：禅堂：蒲团
B. 宝塔：浮屠：铁塔
C. 舞台：戏台：月台
D. 城墙：碉堡：岗楼
6. 量尺：厘米
A. 时间：小时
B. 天平：千克
C. 电话：号码
D. 细胞：显微镜
7. 运动员：大学生
A. 植物：种植
B. 专家：青年
C. 四季：春天
D. 纸张：书法
8. 战争：国破家亡：民不聊生
A. 百姓：丰衣足食：安居乐业
B. 饿殍：哀鸿遍野：赤地千里
C. 失败：郁郁寡欢：一蹶不振
D. 士气：一鼓作气：乘胜追击
9. 浏览 对于 () 相当于 () 对于 文件
A. 文档 安装
B. 软件 下载
C. 撰写 公文
D. 网页 整理
10. F22FhJ0h
A. ZxxD8dPr
B. W33Wu1kF
C. N9mN5sA5
D. YppYocJo

【参考答案及解析】

1. 【答案】D。解析：港湾用于停泊，D项公路用于运输。故本题选D。
2. 【答案】C。解析：铡刀用于铡草料，“草料”为名词；C项化肥用于滋养庄稼，“庄稼”为名词。A项“采蜜”，B项“遮雨”，D项“铸造”均为动词，排除。故本题选C。
3. 【答案】A。解析：黑板是教师用于上课的工具，画布是画家用于作画的工具。故本题选A。
4. 【答案】B。解析：先发球再拦网，最后得分；B项先构思再写作，最后发表。故本题选B。
5. 【答案】A。解析：园林里有假山和盆栽，A项佛寺里有禅堂和蒲团。故本题选A。
6. 【答案】B。解析：量尺是测量长度的工具，厘米是长度单位；B项天平是测量重量的工具，千克是重量单位。故本题选B。

7. 【答案】B。解析：运动员和大学生为交叉关系，B项专家和青年也为交叉关系。故本题选B。

8. 【答案】C。解析：战争可能导致国破家亡、民不聊生，C项失败可能导致郁郁寡欢、一蹶不振，均为因果关系。A、B、D三项词语间均不存在因果关系，排除。故本题选C。

9. 【答案】D。解析：“浏览网页”和“整理文件”均为动宾结构。故本题选D。

10. 【答案】D。解析：题干第一个和第四个字符相同，排除A项。第二个字符和第三个字符相同，排除C项。第五个和第八个字符相同，排除B项。故本题选D。

第三十二辑

1. 补丁：漏洞

A. 硬件：键盘

C. 声卡：显卡

2. 潮湿：干燥

A. 寂静：喧嚣

C. 矛盾：和谐

3. 洁面：护肤：上妆

A. 背诵：默写：课文

C. 直播：互动：刷屏

4. () 对于 艺术品 相当于 正整数 对于 ()

A. 商品 偶数

C. 艺术 整数

5. 玄武岩：岩石

A. 冷空气：低温

C. 鹅毛雪：大雪

6. 朝代：清代：明代

A. 爬行动物：青蛙：蜥蜴

C. 刑罚：有期徒刑：死刑

B. 杀毒软件：木马程序

D. 网络病毒：应用软件

B. 窘迫：困顿

D. 凋零：盛开

B. 注册：激活：登录

D. 拍照：发布：修图

B. 刺绣 负整数

D. 价值 无理数

B. 火烧云：云霞

D. 艳阳天：晴天

B. 儒家：朱熹：王阳明

D. 首都：北京：北平

7. 灯泡：台灯

A. 手机：电话

B. 水：矿泉水

C. 纸张：打印机

D. 木门：房间

8. 机密：保密：安全

A. 肥胖：健身：成长

B. 无知：学习：追赶

C. 乐观：笑话：开朗

D. 落后：努力：进步

9. 闪电 对于 () 相当于 () 对于 收获

A. 打雷 粮食

B. 暴雨 付出

C. 天气 幸福

D. 恐怖 勤劳

10. () 对于 心花怒放 相当于 勤奋 对于 ()

A. 心情 一曝十寒

B. 激动 妄自菲薄

C. 高兴 废寝忘食

D. 难受 指日可待

【参考答案及解析】

1. 【答案】B。解析：补丁用于修复漏洞，B项杀毒软件用于清除木马程序。A项键盘是硬件系统的组成部分，排除。C项声卡和显卡为并列关系，排除。D项有些网络病毒通过应用软件传播，排除。故本题选B。

2. 【答案】A。解析：“潮湿”和“干燥”为反义关系，“潮”和“湿”、“干”和“燥”均为近义关系；A项“寂静”和“喧嚣”为反义关系，“寂”和“静”、“喧”和“嚣”均为近义关系。B项“窘迫”和“困顿”为近义关系，排除。C项“矛”和“盾”不是近义关系，排除。D项“盛开”为动词，排除。故本题选A。

3. 【答案】B。解析：先洁面，再护肤，最后上妆；B项先注册，再激活，最后登录。A项“背诵课文”“默写课文”均为动宾结构，排除。C项互动和刷屏包含在直播过程中，排除。D项修图应在发布之前，排除。故本题选B。

4. 【答案】A。解析：选项逐一代入。A项，商品和艺术品为交叉关系，正整数和偶数为交叉关系，前后关系一致。B项，刺绣是艺术品的一种，正整数和负整数为并列关系，前后关系不一致，排除。C项，艺术品表现艺术，正整数是整数的一种，前后关系不一致，排除。D项正整数和无理数无明显联系，排除。故本题选A。

5. 【答案】B。解析：玄武岩是岩石的一种，B项火烧云是云霞的一种。A项冷空气和

低温为因果关系，排除。C项鹅毛雪指大雪，排除。D项艳阳天指明媚的春天，排除。故本题选B。

6. 【答案】C。解析：清代、明代均属于朝代，C项有期徒刑、死刑均属于刑罚。A项青蛙是两栖动物，排除。B项朱熹、王阳明和儒家不存在种属关系，排除。D项北平是北京的古称，排除。故本题选C。

7. 【答案】D。解析：灯泡是台灯的组成部分，D项木门是房间的组成部分。A项手机属于电话，B项矿泉水属于水，均排除。C项纸张不是打印机的组成部分，排除。故本题选D。

8. 【答案】D。解析：因为机密，所以要保密，保密是为了保障安全；D项因为落后，所以要努力，努力是为了取得进步。A项健身不是为了成长，排除。B项学习是为了获得知识技能，不是为了追赶，排除。C项明显与题干不符，排除。故本题选D。

9. 【答案】B。解析：闪电预示着暴雨可能来临，付出可能有收获，但都不是绝对的。故本题选B。

10. 【答案】C。解析：选项逐一代入。A项，“心花怒放”形容一种心情，“一曝十寒”比喻学习或工作一时勤奋，一时又懒散，没有恒心，且“心情”是名词，“勤奋”是形容词，前后关系不一致，排除。B项，“心花怒放”和“激动”、“妄自菲薄”和“勤奋”均无明显联系，排除。C项，“心花怒放”形容高兴，“废寝忘食”形容勤奋，前后关系一致。D项，“心花怒放”和“难受”、“指日可待”和“勤奋”均无明显联系，排除。故本题选C。

第三十三辑

1. 程门立雪：尊师敬道

A. 草木皆兵：泰然自若

C. 扑朔迷离：错综复杂

2. 意甲：国际米兰

A. 法甲：曼联

C. 德甲：巴塞罗那

3. 房屋：地基

A. 艺术：经济

B. 按图索骥：事半功倍

D. 叶公好龙：情有独钟

B. 英超：里昂

D. 西甲：皇家马德里

B. 火车：铁路

- C. 婚姻：爱情
4. 手机：移动硬盘：存储
A. 印章：签字笔：签名
C. 录音笔：录像机：录音
5. 作家：出版商
A. 售货员：商店
C. 菜农：菜贩
6. 唢呐：乐器
A. 净水器：空调
C. 太阳能：新能源
7. 自行车：出行：环保
A. 蔬菜：食品：健康
C. 手表：时间：指针
平面设计：创意：构图
A. 艺术：雕塑：杂技
C. 书法：毛笔：纸
9. 电视台 对于 () 相当于 () 对于 蚂蚁
A. 媒介 昆虫
C. 电台 蟋蟀
10. () 对于 规划 对于 鸿沟 对于 ()
A. 城市 协调
C. 成功 隔阂
D. 烦恼：欲望
B. 手表：秒表：计时
D. 旅客：渔夫：捕鱼
B. 主持人：广告
D. 经理：秘书
B. 越野车：卡车
D. 航母：海战
B. 台灯：灯泡：节能
D. 货车：运输：载体
B. 音乐：旋律：节奏
D. 古琴：瑶琴：七弦琴

【参考答案及解析】

1. 【答案】C。解析：“程门立雪”和“尊师敬道”为近义关系，C项“扑朔迷离”和“错综复杂”也为近义关系。其他三项词语间均不是近义关系，排除。故本题选C。

2. 【答案】D。解析：意甲是意大利的球队，D项西甲是皇家马德里的球队。A项曼联是英超的球队，B项里昂是法甲的球队，C项巴塞罗那是西甲的球队，均排除。故本题选D。

3. 【答案】B。解析：地基是房屋建造的基础，B项铁路是火车运行的基础。A项艺术

和经济、D项烦恼和欲望，均无明显联系，排除。C项爱情不一定是婚姻成立的基础，排除。故本题选B。

4. 【答案】B。解析：手机和移动硬盘均可用于存储，且移动硬盘只具备这一功能；B项手表和秒表均可用于计时，且秒表指具备这一功能。A项签名不是签字笔的唯一功能，排除。C项录音不是录像机的唯一功能，排除。D项旅客和渔夫为交叉关系，渔夫的工作是捕鱼，排除。故本题选B。

5. 【答案】C。解析：作家和出版商是合作关系，C项菜农和菜贩也是合作关系。A项商店是售货员的工作场所，排除。B项主持人宣传广告，排除。D项经理和秘书是上下级关系，排除。故本题选C。

6. 【答案】C。解析：唢呐是一种乐器，C项太阳能是一种新能源，均为种属关系。A、B项两者均为并列关系，D项航母用于海战，均排除。故本题选C。

7. 【答案】A。解析：自行车是环保的出行方式，A项蔬菜是健康的食品。B项灯泡是台灯的组成部分，排除。C项指针是手表的组成部分，手表的功能是显示时间，排除。D项火车是运输工具，是一种载体，排除。故本题选A。

8. 【答案】B。解析：创意和构图是平面设计的必要条件，B项旋律和节奏是音乐的必要条件。A项雕塑和杂技均属于艺术，排除。C项毛笔和纸是书法所用的工具，排除。D项古琴又称瑶琴、七弦琴，三者为全同关系，排除。故本题选B。

9. 【答案】C。解析：选项逐一代入。A项，电视台属于媒介，蚂蚁属于昆虫，但前后词语位置相反，排除。B项，工蚁是蚂蚁的一种，但电视台和网络不是种属关系，前后关系不一致，排除。C项，电视台和电台为并列关系，蟋蟀和蚂蚁也为并列关系，前后关系一致。D项，电视台播放电视节目，蚁巢是蚂蚁的居住场所，前后关系不一致，排除。故本题选C。

10. 【答案】D。解析：选项逐一代入。A项，“城市规划”为主谓结构，“鸿沟”不能与“协调”搭配，排除。B项，“计划”和“规划”为近义关系，“鸿沟”原是古代运河，现比喻明显的界线，与“河流”不是近义关系，排除。C项，“成功”和“规划”无明显联系，排除。D项，“蓝图”比喻规划，“鸿沟”比喻界限，前后关系一致。故本题选D。

第三十四辑

1. 密码锁：保密
A. 打卡器：考勤
B. 防火墙：黑客
C. 监视器：摄像
D. 微博：手机
2. 空间站：宇航员
A. 实验室：科研单位
B. 学校：家长
C. 电视台：主持人
D. 游乐园：游客
3. 麦芽：啤酒
A. 白菜：酸菜
B. 毛线：羊毛
C. 煤炭：植物
D. 酶：催化剂
4. 地中海：陆间海
A. 地黄：怀庆地黄
B. 定音鼓：乐器
C. 电缆：导电线芯
D. 礼器：青铜鼎
5. 郭沫若 对于 () 相当于 () 对于 《管锥编》
A. 《女神》 钱钟书
B. 《炉中煤》 茅盾
C. 《死城》 鲁迅
D. 《人间词话》 周立波
6. () 对于 风筝 相当于 芝麻 对于 ()
A. 纸鸢 脂麻
B. 串式风筝 芝麻油
C. 竹篾 白芝麻
D. 骨架 草本植物
7. 实验员：试管：器具
A. 司机：公交车：交通工具
B. 农民：水稻：作物
C. 职员：电脑：科技
D. 雕塑家：雕塑：艺术品
8. 律师：厨师：职业
A. 大学生：中学生：学校
B. 博士：硕士：学位
C. 作者：记者：学者
D. 飞机：飞船：飞行
9. 潮：涨：落
A. 花：蕊：瓣
B. 草：荣：枯
C. 心：悲：喜
D. 水：沸：冰

10. 衣服：衣领：衣袖

A. 鱼：鱼头：鱼尾

B. 警察：刑警：交警

C. 音乐：古典音乐：流行音乐

D. 人民币：美元：韩币

【参考答案及解析】

1. 【答案】A。解析：密码锁的主要功能是保密，A项打卡器的主要功能是考勤。B项防火墙用于防止黑客入侵，且“黑客”为名词，与题干不符，排除。C项监视器的主要功能是显示监控画面，而不是摄像，排除。D项“手机”为名词，排除。故本题选A。

2. 【答案】C。解析：空间站是宇航员的工作场所，C项电视台是主持人的工作场所。A项实验室是科研单位的组成部分，排除。B项学校不是家长的工作场所，排除。D项游乐园也不是游客的工作场所，排除。故本题选C。

3. 【答案】A。解析：麦芽是制作啤酒的原材料，A项白菜是制作酸菜的原材料。B项羊毛是制作毛线的原材料，C项植物是产生煤炭的原材料，但前后词语位置均与题干相反，排除。D项酶属于催化剂，排除。故本题选A。

4. 【答案】B。解析：地中海属于陆间海，B项定音鼓属于乐器。A项怀庆地皇属于地黄，D项青铜鼎属于礼器，但前后词语位置均与题干相反，排除。C项导电线芯是电缆的组成部分，排除。故本题选B。

5. 【答案】A。解析：A项《女神》的作者是郭沫若，《管锥编》的作者是钱钟书，前后关系一致。故本题选A。

6. 【答案】A。解析：选项逐一代入。A项，纸鸢即风筝，芝麻即脂麻，均为全同关系，前后关系一致。B项，串式风筝是风筝的一种，芝麻是制作芝麻油的原材料，前后关系不一致，排除。C项，竹箴是制作风筝的原材料，白芝麻是芝麻的一种，前后关系不一致，排除。D项，骨架是风筝的组成部分，芝麻是草本植物的一种，前后关系不一致，排除。故本题选A。

7. 【答案】A。解析：实验员使用试管，二者为人与使用工具的关系，试管属于器具，为种属关系。A项司机驾驶公交车，二者为人与使用工具的关系，公交车属于交通工具，为种属关系。B项水稻不属于工具，排除。C项电脑是一种科技产品，而不是科技，排除。D项雕塑不属于工具，排除。故本题选A。

8. 【答案】B。解析：律师和厨师为并列关系，二者均属于职业；B项博士和硕士为并

列关系，二者均属于学位。A项学校是大学生或中学生的学习场所，排除。C项作者、记者和学者三者属于交叉关系，排除。D项飞行是飞机和飞船的功能，排除。故本题选B。

9. 【答案】B。解析：潮的涨、落是一种周期变化，B项草的荣、枯也是一种周期变化。A、C、D项均不属于周期变化，排除。故本题选B。

10. 【答案】A。解析：衣领和衣袖是衣服的组成部分，A项鱼头和鱼尾是鱼的组成部分。B项刑警和交警均属于警察，排除。C项古典音乐和流行音乐均属于音乐，排除。D项人民币、美元和韩元三者为并列关系，排除。故本题选A。

第一辑 1)

1. 春夏秋冬：四季

A. 喜怒哀乐：情绪

B. 赤橙黄绿：颜色

C. 早中晚：一天

D. 东南西北：四方

2. 自然科学：化学：化学元素

A. 人文科学：历史学：历史人物

B. 物理学：生物物理学：光合作用

C. 语言学：汉语言：文学

D. 社会学：社会科学：社区

3. 素描：单色：绘画

A. 色素：食品：添加剂

B. 书签：阅读：工具

C. 变脸：表演：艺术

D. 新闻：纪实：文体

4. 音符：乐谱：五线谱

A. 笔画：汉字：金文

B. 树木：森林：自然

C. 稻穗：稻谷：香米

D. 卫星：星云：宇宙

5. 电动车：摩托车：救护车

A. 乒乓球：保龄球：羽毛球

B. 葡萄酒：香槟酒：保健酒

C. 天鹅绒：清洁绒：法兰绒

D. 联谊部：俱乐部：文学部

6. 存折 对于 () 相当于 栅栏 对于 ()

A. 储户 牛羊

B. 存款 绿地

C. 虚拟 实物

D. 银行卡 围墙

7. 火炬：蜡烛

- A. 中药：草药
B. 矿石：煤炭
C. 棉布：丝绸
D. 扇子：蚊香
8. () 对于 绿茶 相当于 音乐 对于 ()
A. 龙井 浪漫
B. 早春 娱乐
C. 咖啡 绘画
D. 健康 情操
9. () 对于 表达 相当于 信件 对于 ()
A. 比喻 沟通
B. 文字 载体
C. 感情 抒情
D. 交流 包裹
10. 白醋：消毒
A. 热水器：加热
B. 汽油：去渍
C. 白糖：调味
D. 人参：滋补

【参考答案及解析】

1. 【答案】D。解析：四季仅包括春、夏、秋、冬四个季节，D项四方仅包括东、南、西、北四个方向。故本题选D。

2. 【答案】A。解析：化学是一门自然科学，化学元素是化学的研究对象之一；A项历史学是一门人文科学，历史人物是历史学的研究对象之一。B项生物物理学是一门交叉学科，并不是物理学的分支；C项语言学和文学为并列关系；D项社会学属于社会科学，与题干位置关系相反，均排除。故本题选A。

3. 【答案】D。解析：素描是单色的，属于绘画的一种；D项新闻是纪实的，属于文体的一种。故本题选D。

4. 【答案】A。解析：音符构成了乐谱，五线谱是乐谱的一种，A项笔画构成了汉字，金文是汉字的一种。故本题选A。

5. 【答案】B。解析：题干中三词为并列关系，“电动车”“摩托车”“救护车”都是车，且第三个词“救护车”体现了车的功能，与之逻辑关系相同的只有B项，“保健酒”体现了酒的功能，其他选项第三个词都没有体现相应的功能。故本题选B。

6. 【答案】D。解析：存折和银行卡有同样的作用，栅栏和围墙也有同样的作用，为并列关系。故本题选D。

7. 【答案】C。解析：题干两物品具有相同的功能，即火炬和蜡烛都可以用来照明，为

并列关系。与题干逻辑关系相同的只有 C 项，棉布和丝绸都可以用来制作衣服。A 项两词是属种关系，即草药是中药的一种；B、D 两项两词没有明显的逻辑关系。故本题选 C。

8. 【答案】C。解析：咖啡和绿茶都是饮料，音乐和绘画都属于艺术。故本题选 C。

9. 【答案】A。解析：比喻是一种表达方式，信件是一种沟通方式。故本题选 A。

10. 【答案】B。解析：白醋的主要功能是烹调，次要功能是消毒。B 项汽油的主要功能是用作燃料，次要功能是去渍，与题干逻辑关系一致。A、B、C 三项后者均是前者的主要功能。故本题选 B。

第三十五辑

1. 菡萏：荷花

A. 蚍蜉：白蚁

B. 土豆：番薯

C. 西瓜：倭瓜

D. 县衙：部门

2. 花瓶：瓷器

A. 电视机：电器

B. 中药：植物

C. 画作：诗篇

D. 桌子：八仙桌

3. 勤奋：学习：进步

A. 艰苦：创业：失败

B. 努力：工作：成功

C. 喝酒：驾车：车祸

D. 鲁莽：说话：厌恶

4. 吕布：辕门射戟

A. 诸葛亮：三顾茅庐

B. 刘备：白帝托孤

C. 曹操：草船借箭

D. 关羽：刮骨疗伤

5. 品质：好坏：质量

A. 食物：大小：重量

B. 分数：高低：成绩

C. 旅游：远近：兴趣

D. 人口：多少：密度

6. 送友人：折柳枝

A. 观花灯：猜谜语

B. 忆屈原：划龙舟

C. 闯关东：走西口

D. 画竹梅：明心志

7. 清除 之于 () 相当于 拔除 之于 ()

- A. 垃圾 暗堡
B. 腐败 毒瘤
C. 路障 青苗
D. 积弊 垂柳
8. 领悟：大彻大悟
A. 哭泣：放声痛哭
B. 微笑：哈哈大笑
C. 昏迷：昏天暗地
D. 喝酒：纸醉金迷
9. 秤：重量
A. 水：浮力
B. 地图：距离
C. 台灯：光亮
D. 尺子：长度
10. 印花布—印花税
A. 迷魂汤—迷魂阵
B. 黄金矿—黄金周
C. 热水瓶—热水袋
D. 方向舵—方向盘

【参考答案及解析】

1. **【答案】A。**解析：菡萏是荷花的古称，A项蚍蜉是蚂蚁的古称。B项土豆指马铃薯，与番薯不同，排除。C项倭瓜一般指南瓜，排除。D项县衙是对清代县级官府的俗称，部门是一个组织的机构，排除。故本题选A。

2. **【答案】B。**解析：花瓶和瓷器为交叉关系，B项中药和植物也为交叉关系。A项电视机是电器的一种，排除。C项画作和诗篇为并列关系，排除。D项八仙桌是桌子的一种，排除。故本题选B。

3. **【答案】B。**解析：勤奋学习可能带来进步，B项努力工作可能带来成功，均是好的结果，且“勤奋学习”和“努力工作”均为偏正结构。A项“失败”和D项“厌恶”均是不好的结果，排除。C项“喝酒驾车”不是偏正结构，且“车祸”也是不好的结果，排除。故本题选B。

4. **【答案】B。**解析：“辕门射戟”讲的是吕布以他精湛的箭法阻止袁术击灭刘备的故事，吕布为该典故的主体；B项“白帝托孤”讲的是刘备在白帝城病危时将儿子刘禅托付给诸葛亮的故事，刘备为该典故的主体。A项“三顾茅庐”讲的是刘备三次到诸葛草庐拜访诸葛亮的故事，诸葛亮为该典故的客体，排除。C项“草船借箭”讲的是诸葛亮利用曹操多疑的性格，调草船诱敌借足十万支箭的故事，曹操为该典故的客体，排除。D项“刮骨疗伤”讲的是神医华佗为关羽刮骨去毒的故事，关羽为该典故的客体，排除。故本题选

B。

5. 【答案】B。解析：“品质”与“质量”为近义关系，品质和质量有好坏之分；B项“分数”与“成绩”为近义关系，分数和成绩有高低之分。A、C、D三项均不存在近义关系，排除。故本题选B。

6. 【答案】B。解析：折柳枝有送友人的含义，B项划龙舟有忆屈原的含义。A项观花灯和猜谜语均为元宵节的活动，为并列关系，排除。C项闯关东和走西口均为中国历史上著名的人口迁徙事件，为并列关系，排除。D项画竹梅有明心志的含义，但前后词语位置与题干相反，排除。故本题选B。

7. 【答案】B。解析：选项逐一代入。A项“清除垃圾”为动宾结构，“拔除”不能与“暗堡”搭配，排除。B项“清除腐败”和“拔除毒瘤”均为动宾结构，且“腐败”和“毒瘤”均为负面事物。C项“清除路障”和“拔除青苗”均为动宾结构，但“路障”和“青苗”的感情色彩不一致，排除。D项与C项同理，排除。故本题选B。

8. 【答案】A。解析：“大彻大悟”指彻底醒悟，表示领悟的程度深；A项“放声痛哭”指放开声音尽情地哭泣，表示哭泣的程度深。B项“哈哈大笑”表示“笑”的程度，而非“微笑”的程度，排除；C项“昏天暗地”形容天色昏暗，也比喻社会黑暗混乱，与“昏迷”无明显联系，排除；D项“纸醉金迷”形容叫人沉迷的奢侈繁华环境，并不表示喝酒的程度，排除。故本题选A。

9. 【答案】D。解析：秤是测量重量的工具，D项尺子是测量长度的工具。A、B、C三项均与题干的逻辑关系不符，排除。故本题选D。

10. 【答案】B。解析：“印花布”为具象名词，“印花税”为抽象名词；B项“黄金矿”为具象名词，“黄金周”为抽象名词。A项“迷魂汤”和“迷魂阵”均为抽象名词，C项“热水瓶”和“热水袋”、D项“方向舵”和“方向盘”均为具象名词，排除。故本题选B。

第三十六辑

1. 笔画：汉字

A. 语法：语序

C. 音标：英文

B. 字：词

D. 情绪：标点

2. 网购：上网
- A. 读书：书本
B. 喝水：烧水
C. 练字：写字
D. 唱歌：歌唱
3. 春耕：秋收：冬藏
- A. 立功：表彰：晋级
B. 偷盗：受罚：悔恨
C. 勤奋：致富：捐款
D. 报名：参赛：夺冠
4. 事实：伪造的事实
- A. 秘密：公开的秘密
B. 陷阱：温柔的陷阱
C. 谎言：善意的谎言
D. 忧愁：甜蜜的忧愁
5. 蜘蛛：织网：爬行
- A. 蚕：破蛹：吐丝
B. 蜜蜂：酿蜜：飞行
C. 夜莺：筑巢：歌唱
D. 猎豹：奔跑：捕食
6. 拖鞋：皮鞋：场合
- A. 药物：手术：病情
B. 川菜：凉菜：味道
C. 跑步：踢球：体力
D. 茶水：咖啡：爱好
7. 三角形：三棱锥
- A. 四边形：四面体
B. 五边形：五角星
C. 正方形：正方体
D. 抛物线：圆柱体
8. 蛋：卤蛋：松花蛋
- A. 豆：红豆：四季豆
B. 油：牛油：植物油
C. 瓜：丝瓜：白兰瓜
D. 茶：白茶：乌龙茶
9. 草原 之于 () 相当于 海洋 之于 ()
- A. 放牧 捕捞
B. 虫草 鱼群
C. 羊群 水手
D. 牧羊犬 指南针
10. 心腹—腹心
- A. 心虚—虚心
B. 门阀—阀门
C. 交结—结交
D. 产生—生产

【参考答案及解析】

1. 【答案】B。解析：汉字由笔画组成，B项词由字组成。A项语序是语言里语素、词组合的次序，为汉语里的主要语法手段，排除；C项音标是用来记录语音的符号，英文并非由音标组成，排除；D项有的标点可以表达情绪，排除。故本题选B。

2. 【答案】C。解析：上网是网购的必要条件，C项写字是练字的必要条件。A项读书不一定要有书本（可以看电子书），B项喝水可以喝未烧过的水，D项“唱歌”和“歌唱”为近义关系，均排除。故本题选C。

3. 【答案】D。解析：先春耕，再秋收，后冬藏，三者是同一主体发出的，存在时间先后顺序。D项先报名，再参赛，后夺冠，三者由同一主体发出，存在时间先后顺序，与题干逻辑关系一致，当选。A、B项中的第二个词表彰、受罚都是作为客体接受而不是作为主体发出，均排除。C项三个词语之间不存在时间先后顺序，排除。故本题选D。

4. 【答案】A。解析：“事实”指事情的实际情况，“伪造的事实”则指虚假的情况，两者构成反义关系；A项“秘密”指隐蔽的事情，“公开的秘密”则指大家都知道的事情，两者构成反义关系。B、C、D项均不构成反义关系，排除。故本题选A。

5. 【答案】B。解析：“蜘蛛织网”为主谓宾结构，“蜘蛛爬行”为主谓结构；B项“蜜蜂酿蜜”为主谓宾结构，“蜜蜂飞行”为主谓结构。A项“蚕吐丝”为主谓宾结构，C项夜莺并不会歌唱，D项“猎豹奔跑”为主谓结构，均排除。故本题选B。

6. 【答案】A。解析：拖鞋和皮鞋均属于鞋，为并列关系，且针对不同的场合选择不同的鞋；A项药物和手术均属于治疗方式，为并列关系，且针对不同的病情选择不同的治疗方式。B项川菜和凉菜本身都具有味道，C项选择跑步还是踢球并不根据体力，D项茶水和咖啡本身就是不同的爱好，均排除。故本题选A。

7. 【答案】C。解析：三棱锥的每一个面都是三角形，且三棱锥是立体图形，三角形是平面图形；C项正方体的每一个面都是正方形，且正方体是立体图形，正方形是平面图形。A项四面体即三棱锥，排除。B项五边形和五角星均是平面图形，排除。D项抛物线不是面，排除。故本题选C。

8. 【答案】D。解析：卤蛋和松花蛋均是蛋经过人工加工而成的，D项白茶和乌龙茶均是茶经过人工加工而成的。A项红豆和四季豆、C项丝瓜和白兰瓜均不是加工而成的，B项牛油和植物油不是油经过加工而成的，均排除。故本题选D。

9. 【答案】A。解析：选项逐一代入。A项，在草原上放牧，在海洋里捕捞，前后关系一致，当选。B项，草原和虫草无明显联系，排除。C项，草原是羊群的生存场所，海洋是水手的工作场所，前后关系不一致，排除。D项，草原是牧羊犬的生存场所，指南针是在海洋中航行使用的工具，前后关系不一致，排除。故本题选A。

10. 【答案】C。解析：“腹心”指心腹，C项“交结”指结交。A项心虚和虚心、B项门阀和阀门均无明显联系，排除。D项“产生”主要指由已有的事物中生出新的事物，“生产”主要指人们利用生产工具改变劳动对象创造产品的活动，排除。故本题选C。

第三十七辑

1. 药丸—丸药

A. 汤面—面汤

C. 蜜蜂—蜂蜜

2. 建筑：房子：房间

A. 汽车：越野车：车窗

C. 医院：私立医院：医生

3. 电动汽车：电动车：汽车

A. 航天飞机：宇宙飞船：飞行器

C. 研究生：研究：学生

4. () 之于 朋友 相当于 () 之于 婚姻

A. 奋斗 金钱

C. 真诚 爱情

5. 左顾右盼：上下打量

A. 南来北往：东西奔走

C. 千叮万嘱：一心一意

6. 徘徊：果断

A. 机灵：呆板

C. 慈善：同情

B. 羊羔—羔羊

D. 花茶—茶花

B. 电器：电视机：屏幕

D. 餐具：盘子：筷子

B. 军医：医生：军人

D. 法官：法律：官员

B. 战友 同学

D. 友善 勤奋

B. 纵横交错：中西合璧

D. 天高地厚：山清水秀

B. 直爽：曲折

D. 泼辣：听话

7. () 对于 规划 相当于 鸿沟 对于 ()
- A. 城市 协调 B. 计划 河流
C. 成功 隔阂 D. 蓝图 界限
8. 阳光：普照
- A. 狂风：暴雨 B. 神清：气爽
C. 疗效：神奇 D. 积极：乐观
9. 交通摄像头：监控路况
- A. 指纹密码锁：采集指纹 B. 电子血压仪：测量血压
C. 扫地机器人：净化空气 D. 折叠防盗窗：晾晒衣服
10. 词典：词语
- A. 地图：地点 B. 盲文：阅读
C. 电影：台词 D. 电脑：游戏

【参考答案及解析】

1. 【答案】B。解析：药丸即丸药，两者是全同关系；B项羊羔即羔羊，均指小羊，两者是全同关系。故本题选B。

2. 【答案】B。解析：房子属于建筑，房间是房子的组成部分，且房子主要通过房间实现功能；B项电视机属于电器，屏幕是电视机的组成部分，且电视机主要通过屏幕实现功能。A项越野车并不是通过车窗实现功能，C项私立医院与医生是工作场所与职业的关系，D项盘子和筷子均属于餐具，均排除。故本题选B。

3. 【答案】B。解析：电动车和汽车是交叉关系，电动汽车既是电动车又是汽车；B项医生和军人是交叉关系，军医既是医生又是军人。A项航天飞机和宇宙飞船属于飞行器，排除。C、D项明显与题干不符，排除。故本题选B。

4. 【答案】C。解析：选项逐一代入。A项奋斗需要朋友，但不能说金钱需要婚姻，前后逻辑关系不一致，排除。B项战友和朋友是种属关系，同学和婚姻无明显逻辑关系，排除。C项真诚是朋友存续的基础，爱情是婚姻存续的基础，前后逻辑关系一致，当选。D项友善可以获得朋友，勤奋和婚姻无明显逻辑关系，排除。故本题选C。

5. 【答案】A。解析：“左顾右盼”与“上下打量”均有看的意思，且“左”与“右”、“上”与“下”为反义关系；A项“南来北往”与“东西奔走”均有走的意思，且“南”

与“北”、“东”与“西”为反义关系。B、C、D 三项前后两者均不含相同意思，排除。故本题选 A。

6. 【答案】A。解析：“徘徊”与“果断”为反义关系，A 项“机灵”与“呆板”为反义关系。B、C、D 三项均不是反义关系，排除。故本题选 A。

7. 【答案】D。解析：选项逐一代入。A 项，“城市规划”为主谓结构，“鸿沟”不能与“协调”搭配，排除。B 项，“计划”和“规划”为近义关系，“鸿沟”原是古代运河，现比喻明显的界线，与“河流”不是近义关系，排除。C 项，“成功”和“规划”无明显联系，排除。D 项，“蓝图”比喻规划，“鸿沟”比喻界限，前后关系一致。故本题选 D。

8. 【答案】C。解析：“阳光普照”和 C 项“疗效神奇”均为主谓结构。A、B、D 项均为并列结构，排除。故本题选 C。

9. 【答案】B。解析：交通摄像头的主要功能是监控路况，B 项电子血压仪的主要功能是测量血压。A 项指纹密码锁的主要功能是防盗，而不是采集指纹，排除。C 项扫地机器人的主要功能是打扫地面，而不是净化空气，排除。D 项折叠防盗窗的主要功能是防盗，而不是晾晒衣服，排除。故本题选 B。

10. 【答案】A。解析：词典是查询词语的工具，A 项地图是查询地点的工具，后一个词均为名词。B 项盲文是专为盲人设计、靠触觉感知的文字，可供阅读，与题干不符，排除。C 项台词是电影的组成部分，排除。D 项电脑可以用来打游戏，与题干不符，排除。故本题选 A。

第三十八辑

1. 众人拾柴：火焰高

A. 多行不义：必自毙

C. 敬酒不吃：吃罚酒

2. 地震：救助：募捐

A. 工作：加班：值班

C. 疾病：治疗：服药

3. 出口：进口：贸易顺差

A. 征税：纳税：财政收入

B. 打破砂锅：问到底

D. 四海之内：皆兄弟

B. 科研：实验：文献

D. 诈骗：抓捕：惩处

B. 买进：卖出：盈利

- C. 支出：收入：赤字
D. 还债：借债：债务
4. 雾霾 对于 () 相当于 害虫 对于 ()
A. 天气 农田
B. 防范 防治
C. 污染 作物
D. 沙尘 昆虫
5. 基础设施：机场：公路
A. 英特网：内网：外网
B. 国家机关：行政机关：司法机关
C. 儿童片：动画片：卡通片
D. 体育：武术：咏春拳
6. 感情 对于 () 相当于 () 对于 大公无私
A. 漠不关心 道德
B. 貌合神离 性格
C. 悲喜交加 思想
D. 亲密无间 品德
7. 酒精：白酒
A. 电源：电视
B. 面包：蛋糕
C. 氮气：空气
D. 摄像头：手机
8. 大漠 对于 () 相当于 草原 对于 ()
A. 黄沙 蒙古包
B. 干旱 牧场
C. 骆驼 羊
D. 绿洲 雪山
9. 刃刀刀办刃办刀
A. 办刃办刀刃刀刃
B. 刀刃刀刃办刃刃
C. 刃刃刃刀刀办刃
D. 刀刃刀办刃办刃
10. 桨：剪
A. 申：神
B. 铁：躺
C. 剑：钢
D. 船：厂

【参考答案及解析】

1. 【答案】A。解析：众人拾柴导致火焰高，A项多行不义导致必自毙，均为因果关系。B项“打破砂锅问到底”比喻追究事情的根底，C项“敬酒不吃吃罚酒”指敬的酒不喝，偏要喝罚的酒，比喻不识抬举、不知好歹，D项“四海之内皆兄弟”指全国的人民都像兄弟一样，形容亲如一家，均不存在因果关系，排除。故本题选A。

2. 【答案】C。解析：地震发生后可以用募捐的方式进行救助，C项疾病发生后可以用

服药的方式进行治疗。A项加班和值班是两种工作状态，排除。B项科研需要实验或者参考文献，排除。D项诈骗（犯人）被抓捕后受到惩处，排除。故本题选C。

3. 【答案】C。解析：贸易顺差即出口大于进口，C项赤字即支出大于收入。A项征税的是国家，纳税的是纳税人，税收是财政收入的来源之一，排除。B项盈利即卖出大于买进，但前两个词位置与题干不一致，排除。D项借债即产生债务，排除。故本题选C。

4. 【答案】B。解析：选项逐一代入。A项，雾霾和天气无明显联系，害虫生活在农田，前后关系不一致，排除。B项，“防范雾霾”和“防治害虫”均为动宾结构。C项，雾霾是一种污染，害虫破坏作物，前后关系不一致，排除。D项，沙尘引发雾霾，害虫和昆虫为交叉关系，前后关系不一致，排除。故本题选B。

5. 【答案】B。解析：机场、公路均属于基础设施，二者为并列关系中的反对关系；B项行政机关和司法机关均属于国家机关，二者为并列关系中的反对关系。A项内网和外网为矛盾关系，排除。C项卡通片又称动画片，且儿童片和动画片为交叉关系，排除。D项咏春拳是一门中国传统武术，排除。故本题选B。

6. 【答案】D。解析：“亲密无间”形容好的感情，“大公无私”形容好的品德。故本题选D。

7. 【答案】C。解析：酒精是白酒的主要组成部分，C项氮气是空气的主要组成部分。A项电源为电视工作提供电力，排除。B项面包和蛋糕为并列关系，排除。D项不是所有手机都具备摄像头，词语间联系不及C项紧密，排除。故本题选C。

8. 【答案】C。解析：选项逐一代入。A项，黄沙是大漠的自然组成部分，蒙古包是人为搭建在草原上的，前后关系不一致，排除。B项干旱是大漠的特征，牧场建在草原上，前后关系不一致，排除。C项，骆驼是大漠中具有代表性的动物，羊是草原上具有代表性的动物，前后关系一致。D项，大漠有绿洲，草原和雪山是并列关系，前后关系不一致，排除。故本题选C。

9. 【答案】B。解析：题干第2和第7个汉字相同，排除A、D项；第4和第6个汉字相同，排除C项。验证B项，第1和第3个汉字相同，第5个汉字与其他汉字均不相同，与题干一致。故本题选B。

10. 【答案】B。解析：“浆”和“剪”均为上下结构，且部首均位于下方，同时读音均为第三声；B项“铁”和“躺”均为左右结构，且部首均位于左侧，同时读音均为第三声。故本题选B。

第三十九辑

1. 汗青：史册
A. 干戈：玉帛
C. 茱萸：重阳
2. 文物：建筑
A. 烹饪：佐料
C. 诗人：教授
3. 贪小—失大
A. 因噎—废食
C. 按图—索骥
4. 语言：思想
A. 行为：品格
C. 粉笔：黑板
5. 旗开得胜：马到成功
A. 拨乱反正：沉冤昭雪
C. 水到渠成：瓜熟蒂落
6. 梅：孤傲：品质
A. 火：热情：性格
C. 鸽子：和平：象征
7. 分析 对于 () 相当于 消除 对于 ()
A. 阐述 革除
C. 解决 创新
8. 评价：标准
A. 保密：隐私
C. 魅力：吸引
9. 菜刀：食物
A. 子弹：枪支
C. 铅笔：书籍
- B. 狼烟：烽火
D. 桑梓：故乡
- B. 故宫：楼房
D. 皮鞋：布鞋
- B. 贪得—无厌
D. 节衣—缩食
- B. 头部：大脑
D. 纸张：知识
- B. 牛高马大：虎穴得子
D. 缘木求鱼：鹰击长空
- B. 月饼：团圆：食品
D. 红灯：禁行：信息
- B. 差距 贫富
D. 问题 弊端
- B. 表演：舞台
D. 拥堵：限行
- B. 毛巾：身体
D. 窗帘：窗户

10. 商场：购物

A. 邮局：邮票

B. 学校：清扫

C. 马路：铺设

D. 教室：学习

【参考答案及解析】

1. **【答案】D**。解析：“汗青”借指史册，D项“桑梓”借指故乡。A项“干戈”泛指武器，比喻战争，“玉帛”在古代与“干戈”相对，是和平共处的表征；B项“狼烟”和“烽火”均借指战争；C项古时重阳节有插茱萸或佩戴茱萸香囊的习俗，但“茱萸”并不借指重阳。故本题选D。

2. **【答案】C**。解析：文物和建筑是交叉关系，即文物中有的建筑，有的不是建筑；建筑中有的文物，有的不是文物。C项诗人和教授是交叉关系，即诗人中有的教授，有的不是教授；教授中有的诗人，有的不是诗人。A项佐料是烹饪时使用的材料，排除；B项楼房是故宫的组成部分，排除；D项皮鞋和布鞋是并列关系，排除。故本题选C。

3. **【答案】A**。解析：贪小和失大为因果关系，A项因噎和废食为因果关系。B、C、D项两个词语之间均不存在因果关系，排除。故本题选A。

4. **【答案】A**。解析：语言可以反映思想，A项行为可以反精品格。B项大脑是头部的组成部分，C项粉笔可以在黑板上书写，D项纸张本身不能反映知识，均排除。故本题选A。

5. **【答案】C**。解析：“旗开得胜”比喻事情刚开始，就取得好成绩，“马到成功”形容事情顺利，刚开始就取得成功，二者为近义关系；C项“水到渠成”比喻条件成熟，事情自然会成功，“瓜熟蒂落”指时机一旦成熟，事情自然成功，二者为近义关系。A项“拨乱反正”指消除混乱局面，恢复正常秩序，“沉冤昭雪”指沉积很久的冤情得到洗刷，二者不是近义关系，排除。B项“牛高马大”比喻人长得高大强壮，“虎穴得子”比喻诗文贴切中肯，二者不是近义关系，排除。D项“缘木求鱼”比喻方向或办法不对头，不可能达到目的，“鹰击长空”比喻有雄心壮志的人在广阔的领域中施展自己的才能，二者不是近义关系，排除。故本题选C。

6. **【答案】A**。解析：孤傲是一种品质，梅象征孤傲的品质；A项热情是一种性格，火象征热情的性格。B项团圆不是一种食品，排除。C项和平不是一种象征，排除。D项红色代表禁行，而不是象征一种信息，排除。故本题选A。

7. **【答案】D**。解析：选项逐一代入。A项，分析和阐述无明显联系，“消除”和“革除”

为近义关系，前后关系不一致，排除。B项，“分析差距”为动宾结构，“消除”和“贫富”不能搭配，前后关系不一致，排除。C项，分析、解决为顺承关系，消除和创新无明显联系，前后关系不一致，排除。D项，“分析问题”和“消除弊端”均为动宾结构。故本题选D。

8. 【答案】B。解析：“评价标准”和B项“表演舞台”，均为偏正结构。故本题选B。

9. 【答案】B。解析：菜刀的主要功能是切食物，B项毛巾的主要功能是擦身体。D项窗帘的主要功能是遮挡光线。故本题选B。

10. 【答案】D。解析：商场是购物的地方，D项教室是学习的地方。A项邮局发行邮票，B项“清扫学校”和C项“铺设马路”均为动宾结构，排除。故本题选D。

第四十辑

1. 长安：西安

A. 汴梁：开封

C. 洛阳：镐京

2. 流行：高尚

A. 专家：学者

C. 树根：树叶

3. 超速：违章：车祸（ ）

A. 成本：降低：盈利

C. 量产：成本：下降

4. 电影：观众

A. 小说：读者

C. 领导：下级

5. 羊羔跪乳：乌鸦反哺

A. 昙花一现：惊鸿一瞥

C. 锋芒毕露：锐不可当

6. 鸿雁：笺札：书信

A. 月老：红娘：媒人

B. 上都：北京

D. 金陵：杭州

B. 勇敢：品德

D. 闰月：春季

B. 研发：品质：提升

D. 降息：宽松：通胀

B. 村长：民工

D. 汽车：轮胎

B. 魂不附体：失魂落魄

D. 朽木难雕：孺子可教

B. 乾坤：天地：宇宙

- C. 红豆：相思：恋人
D. 东宫：王子：储君
7. 召开：会议
A. 发展：建设
B. 服务：大众
C. 优化：升级
D. 产业：结构
8. 书桌：木材：学习
A. 食物：加热：充饥
B. 报纸：纸张：阅读
C. 汽车：钢材：道路
D. 钢筋：水泥：楼房
9. () 对于 心花怒放 相当于 勤奋 对于 ()
A. 心情 一曝十寒
B. 激动 妄自菲薄
C. 高兴 废寝忘食
D. 难受 指日可待
10. () 对于 绿化 相当于 () 对于 丰收
A. 种树 施肥
B. 美化 稻谷
C. 灌溉 收割
D. 园林 乡村

【参考答案及解析】

1. 【答案】A。解析：长安是西安的古称，A项汴梁是开封的古称。B项上都是元朝首都，位于今内蒙古自治区锡林郭勒盟正蓝旗草原。C项洛阳是河南省一直沿用至今的市名；镐京在今西安市长安区，是西周王朝的国都。D项金陵指南京。故本题选A。

2. 【答案】A。解析：流行的事物有些是高尚的，有些不是高尚的，高尚的事物有些是流行的，有些不是流行的，为交叉关系；A项专家有些是学者，有些不是学者，学者有些是专家，有些不是专家，为交叉关系。故本题选A。

3. 【答案】D。解析：超速是一种违章行为，可能引发车祸；D项降息是一种宽松政策，可能引发通胀。A、B、C项均不符合题干关系，排除。故本题选D。

4. 【答案】A。解析：观众观看电影，A项读者阅读小说。B项村长和民工无明显联系，C项领导和下级为并列关系，D项轮胎是汽车的组成部分，均排除。故本题选A。

5. 【答案】B。解析：“羊羔跪乳”和“乌鸦反哺”为近义关系，均比喻感恩父母、奉养长辈的孝心；B项“魂不附体”形容极端惊恐或在某种事物诱惑下失去常态，“失魂落魄”形容惊慌忧虑、心神不定、行动失常的样子，为近义关系。A项“昙花一现”形容美好的事物出现的时间很短，“惊鸿一瞥”形容身形轻盈娇艳的女子摄人心魄的目光。C项“锋芒

毕露”多指人好表现自己，“锐不可当”形容勇往直前的气势无法抵挡。D项“朽木难雕”比喻人不可造就或事物和局势败坏而不可救药，“孺子可教”指年轻人有出息，可培养。A、C、D三项均不是近义关系，排除。故本题选B。

6. 【答案】A。解析：鸿雁、笺札均指书信，A项月老、红娘均指媒人。B项乾坤指天地，宇宙则指天地万物，范围更大，排除。C项红豆象征相思，但不能指恋人，排除。D项东宫借指太子，排除。故本题选A。

7. 【答案】B。解析：“召开会议”和B项“服务大众”均为动宾结构。故本题选B。

8. 【答案】B。解析：书桌由木材加工而成，用于学习；B项报纸由纸张加工而成，用于阅读。A项“加热”为动词，C项“道路”为名词，均与题干词语词性不相符，排除。D项钢筋和水泥是建造楼房的原材料，排除。故本题选B。

9. 【答案】C。解析：选项逐一代入。A项，“心花怒放”形容一种心情，“一曝十寒”比喻学习或工作一时勤奋，一时又懒散，没有恒心，且“心情”是名词，“勤奋”是形容词，前后关系不一致，排除。B项，“心花怒放”和“激动”、“妄自菲薄”和“勤奋”均无明显联系，排除。C项，“心花怒放”形容高兴，“废寝忘食”形容勤奋，前后关系一致。D项，“心花怒放”和“难受”、“指日可待”和“勤奋”均无明显联系，排除。故本题选C。

10. 【答案】A。解析：选项逐一代入。A项，种树以达到绿化的目的，施肥以达到丰收的目的，前后关系一致。B项，绿化是美化的一种方式，稻谷收成好则是丰收，前后关系不一致，排除。C项灌溉是绿化养护的一种方式，收割不是丰收的一种方式，前后关系不一致，排除。D项，园林需要绿化，乡村和丰收无必然联系，前后关系不一致，排除。故本题选A。

第四十一辑

1. 木鱼：带鱼：黄鱼

A. 虾米：小米：大米

C. 桃子：橘子：房子

2. 调查：发言权

A. 中毒：死亡

B. 兵家：作家：画家

D. 荞麦：小麦：燕麦

B. 批评：进步

- C. 损害：赔偿
3. 下载：使用：卸载
A. 创新：试点：推广
C. 污染：治理：举报
4. 坚定：犹豫不决
A. 紧张：临危不惧
C. 安静：鸡犬不宁
5. 学生：学霸：学习
A. 军人：军官：卫国
C. 白领：金领：管理
6. 正数：零：负数
A. 中国：日本：美国
C. 熊市：股市：牛市
7. 剪刀：布匹
A. 玻璃：门窗
C. 消息：微博
8. 红苕：甘薯
正确选项为（ ）。
- A. 伽蓝：寺庙
C. 芙蓉：映山红
9. 原始部落 对于（ ） 相当于（ ） 对于 先进科技
A. 热带丛林 文明古国
C. 茹毛饮血 现代都市
10. 芒果 对于（ ） 相当于（ ） 对于 砂糖
A. 芒果核 麦芽糖
C. 水果 食堂
- D. 锻炼：健康
B. 复习：考试：录取
D. 签约：执行：违约
B. 沉默：滔滔不绝
D. 留恋：恋恋不舍
B. 房奴：孩奴：还贷
D. 女士：护士：护理
B. 干部：群众：党员
D. 左边：中间：右边
B. 锯子：木头
D. 汽车：运输
B. 苹果：水果
D. 汉奸：叛徒
B. 边远小镇 创业园区
D. 钻木取火 宇宙航行
B. 芒果汁 甜菜
D. 泰国芒 棒棒糖

【参考答案及解析】

1. 【答案】A。解析：带鱼和黄鱼均属于鱼，为并列关系，木鱼不是鱼；A项小米和大米均属于米，为并列关系，虾米不是米。B项作家和画家是交叉关系，排除。C项橘子和房子无明显联系，排除。D项荞麦、小麦、燕麦均属于粮食作物，排除。故本题选A。

2. 【答案】C。解析：调查是发言权的必要条件，C项损害是赔偿的必要条件。A、B、D项前者均不是后者的必要条件，排除。故本题选C。

3. 【答案】D。解析：下载后可能使用或者卸载，D项签约后可能执行或者违约。A项先试点后推广，B项先考试后被录取，C项先举报后治理，均存在顺承关系，排除。故本题选D。

4. 【答案】B。解析：“坚定”和“犹豫不决”为反义关系，B项“沉默”和“滔滔不绝”为反义关系。A项“临危不惧”形容面对危险毫不畏惧，与“紧张”不是反义关系，排除。C项“鸡犬不宁”形容骚扰得厉害，连鸡狗都不得安宁，与“安静”不是反义关系，排除。D项“留恋”和“恋恋不舍”为近义关系，排除。故本题选B。

5. 【答案】A。解析：学霸属于学生，“学生学习”为主谓结构；A项军官属于军人，“军人卫国”为主谓结构。B项房奴和孩奴是交叉关系，排除。C项白领和金领是并列关系，排除。D项女士和护士也是交叉关系，排除。故本题选A。

6. 【答案】D。解析：按正负划分，实数分为正数、零和负数；D项按左右划分，方位分为左边、中间和右边。A项中国、日本和美国均属于国家，但世界上还有其他国家，排除。B项干部和党员为交叉关系，排除。C项熊市和牛市是股市的两种状态，排除。故本题选D。

7. 【答案】B。解析：用剪刀剪布匹，B项用锯子锯木头。故本题选B。

8. 【答案】A。解析：红苕即甘薯，A项伽蓝即寺庙，均为全同关系。B、D项为种属关系，C项芙蕖指莲花。故本题选A。

9. 【答案】C。解析：选项逐一代入。A项，原始部落可能生活在热带丛林里，文明古国和先进科技无明显联系，排除。B项，原始部落和边远小镇无明显联系，排除。C项，茹毛饮血是原始部落的特征，先进科技是现代都市的特征，前后关系一致。D项，钻木取火是原始部落的取火方式，宇宙航行需要先进科技支撑，前后关系不一致，排除。故本题选C。

10. 【答案】B。解析：选项逐一代入。A项，芒果核是芒果的组成部分，麦芽糖和砂糖为并列关系，前后关系不一致，排除。B项，芒果是制作芒果汁的原材料，甜菜是制作砂糖的原材料，前后关系一致。C项，芒果属于水果，食堂和砂糖不是种属关系，前后关系不一致，排除。D项，泰国芒属于芒果，砂糖是制作棒棒糖的原材料，前后关系不一致，排除。故本题选B。

第四十二辑

1. 有关专家表示，因工作中身心透支严重，一种被称为职业倦怠症的慢性职业病正入侵都市上班族。职业倦怠症是一种由工作引发的心理枯竭现象，是职业人在工作重压之下所体验到的身心俱疲、能量被耗尽的感觉。产生职业倦怠的人会出现生理、心理上的不适以及行为上的障碍，若不及时处理或找专业人士进行治疗将会出现不可预料的后果。调查显示，教师、警察、医护人员、保险代理、高科技研究者、新闻工作者等是这类疾病的高危人群。

以下最有可能从上述条件推断出来的一项是（ ）。

- A. 现代人产生职业倦怠的时间越来越短，有的甚至刚参加工作就开始对工作厌倦
- B. 警察在审讯中无故打伤人的事情或许不仅仅是人品和职业道德问题
- C. 教师、警察、新闻工作者等职业的从业人员需要充沛的精力和良好的身体素质
- D. 职业倦怠症将成为现代社会威胁人们健康的慢性职业病中最危险的一种

2. 近年来，猫成为A国野生动物的最大威胁，这些猫（包括宠物猫和流浪猫、野猫、农场猫等无主猫）每年捕杀动物的数量达上百亿。有动物慈善机构建议可以给猫佩戴有铃铛的项圈。带有项圈的猫比其他猫的猎捕成功率至少降低三分之一，捕杀数量将因此而大幅减少。

以下哪项如果为真，最能对该建议形成质疑？（ ）

- A. 猫进行捕杀时，并不会顾及铃铛的响声
- B. 这一举措将导致猫食物链的断裂，可能导致该国猫的大量死亡
- C. 有数据显示，近年来死于车辆碾压、中毒的野生动物数量在急剧上升
- D. 给“无主猫”戴上项圈难度很大，而绝大部分动物由“无主猫”捕杀

3. 某研究机构耗时9年，追踪调查6.3万健康人士的饮食习惯，包括肉的食用量、肉

类烹调方式以及肉类煮熟程度等，研究小组按食用烤肉的量多少把研究对象分为 5 组。截止研究结束时，共有 208 人患上胰腺癌，他们大多集中在烤肉使用量最高的两组。因此，研究者得出大量食用烤肉更容易患胰腺癌。

以下哪项如果为真，最能削弱上述结论？（ ）

- A. 研究表明，父母若有一人患胰腺癌，子女患该病的几率将提高 30%
- B. 研究表示，长期食用煮食肉类和长期食用烤肉的人群相比，患胰腺癌的比例相当
- C. 调查数据表示，大量食用烤肉的人有 98% 都喜欢一边啤酒一边吃烤肉，并且常常熬夜
- D. 该研究中偏好半熟烤肉的人罹患胰腺癌的比例比偏好全熟烤肉的人高约 60%

4. 根据马克思主义辩证法，内因才是事物发展的根本原因，在于事物内部的矛盾性。任何事物内部都具有矛盾性。

下列哪项符合上述定义（ ）。

- A. 任何事物都处在不断的运动和发展之中
 - B. 有一部分事物可以处于静止状态
 - C. 处于运动和发展中的事物都以同样的速度前进
 - D. 当一个社会处于封闭状态时，这个社会就是一个静止的社会
5. 两栖动物几百万年以前第一次出现在地球上时，穿透大气层的紫外线的辐射比现在要大得多。因此，目前两栖类数目的剧烈减少不是最近穿透地球大气层的紫外线增加的结果。

下列哪一个是上面论述所基于的假设？（ ）

- A. 现代两栖动物的卵并不比早期两栖动物的卵更易受紫外线辐射的伤害
 - B. 现代两栖动物不大可能像早期两栖动物那样居住的栖息地能够遮蔽紫外线
 - C. 现代两栖动物不能像早期两栖动物那样容易地适应改变的辐射程度
 - D. 两栖动物的皮肤比其他动物的皮肤对紫外线通常更敏感
6. 老虎属猫科动物，是亚洲陆地上最强大的食肉动物之一。老虎拥有猫科动物中最长的犬齿、最大号的爪子，集速度、力量、敏捷于一身，前肢一次挥击力量可达 1000 公斤，爪刺入深度达 11 厘米，擅长跳跃，一次跳跃的最长距离可达 6 米，且擅长捕食。

由此，可以推出的是（ ）。

- A. 最凶猛的老虎也是最凶猛的猫科动物
- B. 猫科动物都擅长捕食

C. 有些猫科动物不是食肉动物 D. 擅长跳跃的动物有些是猫科动物

7. 一本书要成为畅销书，必须有可读性或者经过精心的包装。

如果上述断定成立，则以下哪项一定为真？（ ）

A. 大多数人喜欢有可读性的畅销书

B. 没经过精心包装的书一定不是畅销书

C. 有可读性的书一定是畅销书

D. 没有可读性又没有精心包装的书一定不是畅销书

8. 通过对一定数量的新生儿进行测试，研究人员发现新生儿对某些图形的识别是与生俱来的。

如果上述测试结果正确，那么以下哪项一定为真？（ ）

A. 新生儿可以区别圆形和方形

B. 人类对图形的识别能力随学习不断提高

C. 人类对图形的识别能力不都是通过学习获得的

D. 人类对图形的识别能力大多数是通过学习获得的

9. 如果王教授是北京大学的教师，又写过许多哲学论文，则他一定是哲学系的教师。

以下哪项如果为真，最能支持上述论证？（ ）

A. 王教授写过许多哲学论文

B. 哲学系的教师写过许多哲学论文

C. 北京大学的教师中只有哲学系的教师写过许多哲学论文

D. 很少有教师写过许多哲学论文

10. 在是否戒烟的问题上，总有些不算明智的人。除非他们戒烟成功，否则就不得不为其健康恶化承担所有后果。老李已有 20 年的烟龄，但他很怕失去健康的身体和美好的生活，不想因为自己的不明智而承担健康恶化的后果。

由此，可以推出的是（ ）。

A. 老李请亲朋好友严格监督自己戒烟

B. 老李若要实现自己的想法，必须成功戒烟

C. 老李戒烟不能成功，因为他总是做不明智的选择

D. 如果老李身体不好，一定是吸烟造成的

【参考答案及解析】

1. **【答案】B**。解析：第一句说明职业倦怠症的病因工作中身心透支严重，第二句说明职业倦怠症是一种由工作引发的心理枯竭现象，第三句说明职业倦怠症不及时处理或找专业人士进行治疗将会出现不可预料的后果，第四句说明职业倦怠症的高危人群。题干中并没有提到产生职业倦怠的时间长短，A项无法推出。职业倦怠的原因是身心透支严重，题干中并没有说是从业人员的精力和身体素质的原因，C项无法推出。D项中“最危险”过于绝对，从题干中无法得知，D项无法推知。B项警察无故打人，有可能是因为职业倦怠造成的行为上的障碍，B项正确。故本题选B。

2. **【答案】D**。解析：题干结论为：给猫佩戴有铃铛的项圈，带有项圈的猫比其他猫的捕杀成功率至少降低三分之一。意思是带上铃铛的声音可以让被捕杀的动物听到。A项说猫不会顾及铃铛的响声，跟被捕杀的动物能不能听到没有关系，排除。B项猫的死亡与题干的建议没有关系，排除。C项动物死亡原因与此建议有无效果没有关系，排除。D项给“无主猫”戴项圈难度大，绝大部分动物由“无主猫”捕杀，增加了一个反向论据，可以质疑此建议。故本题选D。

3. **【答案】B**。解析：题干论点是大量食用烤肉更容易患胰腺癌。论据是患胰腺癌的208人中，大部分集中在烤肉使用量最高的两组。A项遗传因素和患胰腺癌的关系，与题干无关，排除。B项“长期食用煮食肉类和长期食用烤肉的人群相比，患胰腺癌的比例相当”说明是否长期食用烤肉与是否患胰腺癌无关，削弱论点中的原因，正确。C项“大量食用烤肉的人有98%都喜欢一边啤酒一边吃烤肉，并且常常熬夜”说明大量吃烤肉的人有不健康的习惯，不良的生活习惯更易患病，属于加强论点，排除。题干说大量食用烤肉和不大量食用烤肉之间的比较，D项偏好半熟烤肉与全熟烤肉之间的比较，二者不相关，排除。故本题选B。

4. **【答案】A**。解析：根据题干给出的信息说明任何事物都是发展的，B项错误；C项“速度”题干没有提及，属于无关选项；D项社会处于封闭状态，不能说明事物内部没有矛盾，也就不能说明社会是一个静止的社会，D项错误。故本题选A。

5. **【答案】A**。解析：本题论点是是目前两栖类数目的剧烈减少不是最近穿透地球大气层的紫外线增加的结果，论据是两栖动物几百万年以前第一次出现在地球上时，穿透大气层的紫外线的辐射比现在要大得多。A项说明和早期相比现代两栖动物的卵不容易受紫外线的

辐射的伤害，所以目前两栖类数目的剧烈减少不是最近穿透地球大气层的紫外线增加的结果，加强论点。B、C、D项都属于削弱项，说明目前两栖类数目的剧烈减少是最近穿透地球大气层的紫外线增加的结果。故本题选A。

6. 【答案】D。解析：日常推理，老虎是猫科动物，老虎擅长跳跃，因此可以推出：擅长跳跃的一定有些是猫科动物。故本题选D。

7. 【答案】D。解析：形式推理，根据题目间的逻辑关系，翻译结果为：畅销→可读或精美包装，根据推理规则，D项正确。故本题选D。

8. 【答案】C。解析：日常推理，新生儿对有些图形的识别是天生的，因此，可以推出：人类对图形的识别能力有些是天生的，即不都是通过学习获得的。故本题选C。

9. 【答案】C。解析：加强型论证型题设，但具体技巧仍然是形式推理的内容，通过“北大教师且哲学论文→哲学教师”所必须的前提选择C项。故本题选C。

10. 【答案】B。解析：形式推理，除非……否则不……，翻译为：承担后果→戒烟成功，根据推理规则，B项正确。故本题选B。

第四十三辑

1. 所有诗人都是文学家，有的文学家是诗人，张中是文学家。

则下列选择正确的是（ ）。

- A. 张中是诗人
- B. 张中不是诗人
- C. 张中可能是诗人
- D. 张中不是文学家就是诗人

2. 警方查询了三个可疑的人，这三个人中有一个人是小偷，讲的全是假话，有一个人是从犯，说起话来真真假假，还有一个人是好人，句句话都是真的。查询中问及三个人的职业，回答是：

甲：我是部门经理，乙是发型师，丙是教师。

乙：我是医生，丙是工人，甲呀，你要问他，他肯定说他是部门经理。

丙：我是工人，甲是教师，乙是发型师。

因此，我们可以知道（ ）。

- A. 这三人中说假话的小偷是甲
- B. 这三人中说假话的小偷是乙
- C. 这三人中说假话的小偷是丙
- D. 这三人中没有说假话的小偷

3. 某厂产品的合格率为 95%，今抽查其中的 100 件产品，发现只有两件不合格。因此下列哪项正确（ ）。

- A. 该厂的产品合格率大于 95%
- B. 该厂产品的合格率为 98%
- C. 再做一次实验，可能没有不合格产品
- D. 如果抽查 200 件产品，必定有 10 件不合格

4. 某国的人口调查数据表明，未婚的三十岁以上的男性超过这个年龄段的未婚女性，比例大约为十比一。这些男性中，大多数确实希望结婚。然而，明显地，除非他们中有许多人娶外国女性，否则大部分人将保持未婚。

上面论述基于下列哪个假设？（ ）

- A. 移民到国外的女性比男性多
- B. 与该国男性相同年龄的三十几岁的该国女性宁愿保持未婚
- C. 大多数未婚的该国男性不可能娶比他们年龄大的女性
- D. 大多数未婚的该国男性不愿意娶非本国的女性

5. 2006 年度的统计显示，对中国人的健康威胁最大的三种慢性病，按其在总人口中的发病率排列，依次是乙型肝炎、关节炎和高血压。其中，关节炎和高血压的发病率随着年龄的增長而增加，而乙型肝炎在各个年龄段的发病率没有明显的不同。中国人口的平均年龄，在 2006 年至 2016 年之间，将呈明显上升态势而逐步进入老龄化社会。

依据题干提供的信息，推出以下哪项结论最为恰当？（ ）

- A. 到 2016 年，发病率最高的将是关节炎
- B. 到 2016 年，发病率最高的将仍是乙型肝炎
- C. 在 2006 年至 2016 年之间，乙型肝炎患者的平均年龄将增大
- D. 到 2016 年，乙型肝炎的老年患者将多于非老年患者

6. 2016 年某国航空公司一架客机失事。如果某国及其他多国没有采取积极的搜救行动，就不会尽早发现失事飞机的残骸。如果失事飞机设计公司提供技术支持并且派专家参与失

事原因分析，那么关于失事事件的调查报告就会更客观。

以上陈述如果为真，以下哪项不可能为假？（ ）

- A. 或者某国及其他多国采取积极的搜救行动，或者不会尽早发现失事飞机的残骸
- B. 除非失事飞机设计公司提供技术支持，否则就不会尽早发现失事飞机的残骸
- C. 如果某国及其他多国采取积极的搜救行动，就会尽早发现失事飞机的残骸
- D. 如果失事飞机设计公司提供技术支持，那么关于失事事件的调查报告就会更

7. 某网络公司服务器被黑客攻击，大量数据信息被窃。经过侦查，警方锁定了三名犯罪嫌疑人：王某、徐某、吴某。经过审讯，查明了以下事实：（1）该网络公司采用特殊的加密方式对服务器进行保护，破解这种加密方式需要掌握某种特定的计算机语言；（2）如果王某作案，那么吴某也参与作案；（3）徐某不熟悉破解加密服务器必须掌握的计算机语言；（4）罪犯就是这三人中的一个或多个。

以下结论，正确的是（ ）。

- A. 王某和徐某是罪犯，吴某情况不明
- B. 王某是罪犯，徐某和吴某情况不明
- C. 吴某是罪犯，王某和徐某情况不明
- D. 徐某是罪犯，王某和吴某情况不明

8. 某市在媒体发布会上说：近年来，我们提倡在外工作的年轻人回家乡工作，为家乡的发展作贡献。目前，这项工作已经取得实效，现在越来越多的大学毕业生愿意回到家乡工作，而不像以前，他们中的大部分都去了一线城市。

以下哪个选项如果为真，则最能削弱该市关于“这项工作已经取得实效”的推论？

（ ）

- A. 一线城市生活成本越来越高，很多大学毕业生无法留在那里参加工作和生活
- B. 同时期，全国各地都在提倡“大学生回乡作贡献”
- C. 一线城市是时尚潮流和信息的集中地，大学生毕业后都向往在一线城市生活
- D. 与该地区毗邻的另外一个地区没有出现越来越多大学生回家乡工作的情况

9. 有甲、乙、丙、丁四个朋友，他们分别是音乐家、科学家、天文学家和逻辑学家。

在少年时代，他们曾经在一起对未来做过预测，当时，甲预测说：“我无论如何也成不了科学家。”乙预测说：“丙将来要做逻辑学家。”丙预测说：“丁不会成为音乐家。”丁预测说：“乙成不了天文学家。”事实上，只有逻辑学家一个人预测对了。

那么，这四位朋友都是什么“家”呢？（ ）

- A. 乙是逻辑学家，丁是天文学家，甲是科学家，丙是音乐家
- B. 甲是逻辑学家，乙是天文学家，丙是科学家，丁是音乐家
- C. 丙是逻辑学家，甲是天文学家，丁是科学家，乙是音乐家
- D. 丁是逻辑学家，丙是天文学家，乙是科学家，甲是音乐家

10. 国王要为自己的女儿挑选一个最聪明勇敢的女婿，他向所有的求婚者宣称他已经把公主和两只狮子分别关进了三间房子，然后在三间房子门上分别写了一句话，让求婚者们去打开自己认为可以打开的门。第一间房门上写着：“这间房子里有狮子。”第二间房门上写着：“公主在第一间房子里。”第三间房门上写着：“这间房子里有狮子。”其实这三句话中，只有一句话是真的。

据此可以推断（ ）。

- A. 公主在第一间房子里
- B. 公主在第二间房子里
- C. 公主在第三间房子里
- D. 三间房子里关的都是狮子

【参考答案及解析】

1. 【答案】C。解析：这是一种简单的三段论式的逻辑推理。如果直接从已知条件入手，张中是文学家，而有的文学家是诗人，所以张中可能是诗人，也可能不是诗人。选项中，A项张中是诗人，这是不敢肯定的，同理B项张中不是诗人，也是不对的，所以A、B项可以排除。C项中张中可能是诗人，正确。而D项的错误在于文学家和诗人的关系并非非此即彼的，是文学家同时也可以诗人，D项错误。故本题选C。

2. 【答案】A。解析：由于三个人的回答中，只有乙的回答有两句分别被甲、丙所肯定。因此，乙不是小偷；又由于甲、丙都说乙是发型师，从而证明乙也不是从犯，否则三个人的话都有真有假了，所以乙是好人。既然乙是好人，他的话句句属实，那么丙是工人，这与他本人的回答相符，所以丙是从犯，惟有甲的话句句是假，所以甲是小偷，A项正确。故本题选A。

3. 【答案】C。解析：这道题的解答需要一点概率方面的知识。产品合格率是对一批产品整体的一个描述，如果随机地抽其中一个样品来看的话其合格率是不定的，因此会出现

题中的情况，除了合格率外，题中给出的其他条件其实是无效的。产品的合格率是一定的，因此 A、B 项均错误，D 项显然也是不可能的。故本题选 C。

4. 【答案】D。解析：由题意知，未婚的三十岁以上的男性超过这个年龄段的未婚女性，而男性确实想结婚，比较合适的原因是未婚的该国男性不愿意娶非本国女性，与命题中“除非他们中有许多娶外国女性，否则大部分将保持未婚”的题意相符，D 项正确。故本题选 D。

5. 【答案】C。解析：由题意知“中国人口的平均年龄，在 2006 年至 2016 年之间，将呈明显上升态势而逐步进入老龄化社会”。乙型肝炎的患者也逃不开这一必然趋势，可知到 2016 年乙型肝炎的老年患者将增多，而非老年患者乙型肝炎的发病率没有大的变化，所以乙型肝炎患者的平均年龄将增大，C 项正确。故本题选 C。

6. 【答案】A。解析：将题目进行翻译，可知：①-积极搜救 \rightarrow \neg 尽早发现残骸，②技术支持且专家参与 \rightarrow 报告客观；根据鲁宾逊定律可知“ $P \rightarrow Q$ 等价于 $\neg P$ 或 Q ”，将命题①利用鲁宾逊定律进行转换，可得到结论：积极搜救或（ \neg 尽早发现残骸），与选项 A 保持一致。

7. 【答案】C。解析：根据条件（3）可知，徐某不可能单独作案，所以王某和吴某两人中至少有一人作案，假设吴某不是罪犯，根据条件（2）可知，王某也不是罪犯，不符合题意，所以吴某肯定是罪犯，王某和徐某的情况不能确定。故本题选 C。

8. 【答案】A。解析：某市由有更多的年轻人回家乡工作，得出提倡年轻人回家乡工作这项工作取得了实效。A 项为真则说明年轻人是因为大城市生活成本高而选择回家乡的，与所说工作的开展无关。B、C 两项都是无关项；D 项通过对比说明该工作确实取得成效，加强了题干推论。故本题选 A。

9. 【答案】B。解析：乙预测丙将来要做逻辑学家，而事实上只有逻辑学家预测对了，如果丙是逻辑学家，那么乙的预测是对的，丙的预测也是对的，这与“只有逻辑学家预测对了”不相符，因此乙、丙的话都是假的，即乙、丙都不是逻辑学家。由丙的话为假，可推知丁是音乐家。由乙、丙都不是逻辑学家，丁是音乐家，可知逻辑学家是甲。因为丁不是逻辑学家，故丁的话也为假，可推知乙是天文学家，丙则是科学家。综上分析，四人的身份分别为甲是逻辑学家、乙是天文学家、丙是科学家、丁是音乐家。故本题选 B。

10. 【答案】C。解析：本题突破口在第一句话和第二句话之间的矛盾关系，两句话中必有一真一假。本题中只有一句是真的，说明第三句话是假的，即狮子不在第三间房里。因为三间房里分别关着两头狮子和公主，因此第三个房间里如果没有关着狮子，肯定是关着公主。故本题选 C。

第四十四辑

1. 有一项长期跟踪调查显示，坚持常年晨练的人与从不晨练的人相比，平均寿命相同。由此可见，晨练并不能延长寿命。

如果以下陈述为真，哪一项最有力地削弱了上述论证？（ ）

- A. 早上的空气质量较差，晨练会吸入更多有害空气
- B. 晨练能舒缓筋骨，促进血液循环
- C. 常年坚持晨练的人之前大多都患过重大疾病
- D. 有些人身体素质好，但是寿命却低于平均寿命

2. 很多人认为网购不靠谱，芝加哥大学的一个研究小组对 1.9 万名在 2010~2013 年有过网购经历的美国人进行在线调查后发现，有超过三分之一的货物是通过网购买到的；这些被调查对象对所购商品的总的满意度远高于平均水平。这项调查表明，网购是很靠谱的。

如果以下陈述为真，哪一项最有力地质疑了上述结论？（ ）

- A. 仍遵循传统的线下购物方式的人，不是年龄特别大就是特别年轻
- B. 该项研究背后的资助者是某家购物网站
- C. 被调查对象进行网购的时间比较短
- D. 与网购相比，逛超市和商场是购物更为常见的途径

3. 据统计，2011 年，我国医院门诊病人人均医药费用为 179.8 元，住院病人人均医药费用为 6632.2 元。一次住院费接近城镇居民年人均收入的三分之一，几乎相当于农民一年的人均纯收入。可见，医药费用是群众生活中一项沉重的负担，无怪乎人民看病住院时都会感慨“真的病不起。”如果以下各项为真，最能加强以上论证的是（ ）。

- A. 医药费用成为群众生活的负担，这是医患关系紧张的根源所在
- B. 我国的医疗费用过高，一些医生滥用药物，在必要时，应使用行政手段进行干预
- C. 改革开放以来，我国经济长足发展，人民生活水平日益提高，但医药费用增长过快
- D. 不管是城镇居民还是农民的医疗保险参与率都不高，在生病就医时的不到保险支持。

4. 小王抱怨母亲总是把电视机的声音开得太大，影响他看书，让母亲把电视关小点儿声。可是母亲说电视的声音并不大，因为父亲一直在旁边看报，也没有说电视声音过大。所以拒绝调小电视声音。

下列哪项为真，则最能表明母亲拒绝调小电视声音是错误的？（ ）

A. 母亲从不看书，也不了解看书所需要的环境

B. 父亲在看报时自备了耳塞，效果不错

C. 母亲只在吃晚饭的时间才会看电视

D. 父亲年龄大了，有些耳背

5. 如果人们经常进行有氧运动，可以降低患肥胖症和糖尿病的风险，强化心血管系统，还有可能避免老年痴呆症的发生。所以应该尽量多进行有氧运动。

以下各项如果为真，无法削弱上述结论的是（ ）。

A. 老年痴呆症患病率主要是随年龄而增高，而并非因为缺乏有氧运动

B. 运动强度过大、时间过长对健康有害无益

C. 很多人经常进行有氧运动，但由于器械操作方法有误，锻炼的节奏不对，运动效果不大

D. 研究发现，有氧运动超过一定量，患肥胖症和糖尿病的概率并不更低，肌肉受损概率却会加大

6. 某仓库失窃，四个保管员涉嫌被传讯。四人的口供如下：

甲：我们四人都没作案。

乙：我们中有人作案。

丙：乙和丁至少有人没作案。

丁：我没作案。

如果四人中有两人说的是真话，有两人说的是假话，那么以下哪项断定成立？（ ）

A. 说真话的是甲和丙

B. 说真话的是甲和丁

C. 说真话的是乙和丙

D. 说真话的是乙和丁

7. 这个单位已发现有育龄职工违纪超生。

如果上述断定是真的，那么在下述三个断定中不能确定真假的是（ ）。

I 这个单位没有育龄职工不违纪超生；

II 这个单位有的育龄职工没违纪超生；

III 这个单位所有的育龄职工都未违纪超生。

A. 只有 I 和 II

B. I、II 和 III

C. 只有 I 和 III

D. 只有 II

8. 在某次税务检查后，四个工商管理人员有如下结论：

甲：所有个体户都没纳税。

乙：服装个体户陈老板没纳税。

丙：个体户不都没纳税。

丁：有的个体户没纳税。

如果四个人中只有一人断定属实，那么以下哪项是真的？（ ）

- A. 甲断定属实，陈老板没有纳税 B. 丙断定属实，陈老板纳了税
C. 丙断定属实，但陈老板没纳税 D. 丁断定属实，陈老板未纳税

9. 学校在为失学儿童义捐活动中收到两笔没有署真名的捐款，经过多方查找，可以断定周、吴、郑、王中的某两个捐的。经询问，周：不是我捐的。吴：是王捐的。郑：是吴捐的。王：我肯定没有捐。

最后经过详细调查证实四个人中有两个人说的是真话。根据已知条件，请你判断下列哪项可能为真？（ ）

- A. 是吴和王捐的 B. 是周和王捐的
C. 是郑和王捐的 D. 是郑和吴捐的

10. 关于某公司人员会使用互联网的情况有以下断定：

- (1) 该公司所有人员都会使用互联网；
(2) 该公司的赵云会使用互联网；
(3) 该公司有些人会使用互联网；
(4) 该公司有些人不会使用互联网。

经过详细考察，发现上述断定中只有两个是对的。以下哪项结论可以从上述条件必然推出（ ）。

- A. 该公司的赵云会使用互联网 B. 该公司的有些人不会使用互联网
C. 该公司所有人都会使用互联网 D. 该公司所有人都会使用互联网

【参考答案及解析】

1. 【答案】C。解析：结论：晨练不能延长寿命。论据：平均寿命相同。C项解释了平均寿命相同是因为常年晨练使得患过重大疾病者延长寿命，进而证明了常年晨练能延长寿命。A项支持结论，D项与论证无关，B项虽然能削弱，但是削弱力度不如C项。故本题选C。

2. 【答案】B。解析：如B项为真，则该调查结果的可靠性将大大下降，网购是否靠谱也就不得而知了。与其他选项相比，B项最能质疑“网购是很靠谱的”的结论。故本题选B。

3. 【答案】C。解析：论点：医药费用是群众生活中一项沉重的负担。要加强这样的观点，C项通过举出一个新的事实说明医药在我国改革开放以来增长过快来说明医药费用确实是一项沉重负担。故本题选C。

4. 【答案】B。解析：论点：母亲拒绝调小电视声音。论据：父亲没有说电视声音过大。B项说明父亲没说声音过大，是因为有耳塞，而不是因为电视声音不大，否定了母亲得出结论的原因，而且戴了耳塞，也说明声音可能很大，属于削弱选项。A项母亲看不看书、C项母亲看电视的时间跟电视音量没有关系，属于无关选项，D项父亲耳背，说明声音的大小无法判断。故本题选B。

5. 【答案】A。解析：论点：应尽量多进行有氧运动。论据：经常进行有氧运动对健康大有好处。A项与文段并不矛盾，老年痴呆症虽然不因缺乏有氧运动而发生，但经常进行有氧运动却有可能避免其发生，所以无法削弱文段结论。B项否定的是“尽量多”这一点，直接削弱文段结论。C项指出进行有氧运动不一定有效果，一定程度上削弱了文段的论据，也就削弱了文段的结论。D项指出有氧运动过量会适得其反，否定了文段的论证。故本题选A。

6. 【答案】C。解析：由于甲和乙的话具有矛盾关系，二者必有一真一假，再根据题干中的已知条件，可知丙和丁的话也必有一真一假。首先考虑丙和丁这两句话，如果丙的话为假，那么意味着乙和丁都作了案，此时丁的话也必为假。这就是说，假设丙的话为假则丁的话也必为假，所以，丙的话不能是假的，丙的话必为真，说假话的是丁，丁是作案者。既然丁作了案，则甲说“我们四人都没作案”必为假，乙的话为真。因此，乙和丙的话都是真的，甲和丁的话都是假的。故本题选C。

7. 【答案】A。解析：题干为特称肯定命题。I为全称肯定命题，即“这个单位所有育龄职工都违纪超生”。II为特称否定命题。III为全称否定命题。根据直言命题之间的真假对当关系，当题干为真时，I、II的真假都不能确定，只有III必假。故本题选A。

8. 【答案】B。解析：丙的话的意思是：有的个体户纳了税。显然，甲的话和丙的话具有矛盾关系，二者必有一个是真的，所以，真话在甲的话和丙的话之中。所以，乙的话和丁的话都是假的。根据乙的话是假的，可以推出结论：个体户陈老板纳了税。进而可以推出甲的话是假的，丙的话是真的。故本题选B。

9. 【答案】C。解析：吴的话和王的话具有矛盾关系，必然有一个是真另一个是假的。根据已知条件，周和郑也必然有一个是真另一个是假的。由于吴的话和王的话具有矛盾关系，所以，我们先从周和郑必然有一个是真另一个是假的来考虑。如果周假郑真，则捐款人是周并且是吴，显然没有这样的选项。反过来，如果周真郑假，则捐款人不是周，也不是吴。只能是郑和王。故本题选 C。

10. 【答案】B。解析：(1) 和 (4) 为矛盾关系，必有一个真一个假。所以，(2) 和 (3) 也必然有一个真一个假。但是，如果 (2) 为真，则 (3) 也为真，所以，(2) 不能是真的，而是假的。根据 (2) 为假，可以知道，该公司的赵云不会使用互联网。进而可以推出：该公司有些人不会使用互联网。故本题选 B。

第四十五辑

1. 人体减少热量摄入，使细胞中蛋白质的合成场所——核糖体减缓工作，核糖体在减缓工作的过程中得到了更多自我修复时间。因此，低热量饮食可以延缓衰老。

以下哪项如果为真，最能支持上述结论？（ ）

- A. 核糖体要消耗整个细胞能量的 10%~20% 来合成蛋白质，维持细胞的正常工作
- B. 高热量饮食通常与肥胖症、心血管疾病、衰老等相关
- C. 定期修复能让核糖体继续生产高质量蛋白质的有效期更长，人体因此持续良好运转
- D. 核糖体运作速度的下降降低了蛋白质的产生，蛋白质是生命的物质基础

2. 17 世纪的科学是经验主义科学。在那个时期，大家普遍认为人类可以用感官来收集尽可能多的数据，通过这些数据最终了解整个世界。因此，科学发现具有偶然性也被大家广泛接受。但科学发展、新科学仪器的使用，让科研数据量呈几何级数增长。这种情况让以往的经验变得不再适用——仅靠感官，人类已经无法处理和掌握这些数据，必须利用计算机进行分析；同时，探索和挖掘数据的方式甚至能够让科学家们“计划偶然性”。由此可见，现代科学研究不能忽视数据驱动和计算思维的重要性。

下列各项如果为真，不能支持上述观点的是（ ）。

- A. 计算思维一直是科学的重要组成部分，数据爆炸正在使其变得更为重要
- B. 科学家们需要创造性地思考和编写新算法并利用技术来挖掘和收集数据
- C. 数据驱动和计算方法一直以来都是现代科学家从事科研工作的主要工具

D. 17 世纪的科学发现具有偶然性，而现代的科学发现具有“计划偶然性”

3. 厄尔尼诺现象是指赤道东太平洋的海温异常增暖，使整个世界气候模式发生变化，它与我们身边的极端天气现象息息相关。已有研究表明，全球增暖控制在 1.5 摄氏度可以使极端高温事件发生频率减少 50%。据此，科学家认为目前可通过控制全球气温增暖来降低厄尔尼诺事件的发生频率。

以下哪项如果为真，最能质疑科学家的论断？（ ）

A. 在全球气温增暖稳定后，赤道太平洋的温跃层仍将保持异常加深状态，造成赤道东太平洋的增暖大于赤道外区域

B. 研究人员根据多气候模式试验数据推测，在 2050 年以后的 100 年里，厄尔尼诺事件发生频率将呈现显著的上升趋势

C. 极端厄尔尼诺事件不仅对全球天气形态具有严重破坏性，更深刻影响着全球生态系统与农业生产

D. 厄尔尼诺现象发生时，大范围的海水温度可比常年高出 3~6 摄氏度，而太平洋广大水域的水温升高，会改变传统的赤道洋流和东南信风

4. 调查报告显示，去年某公司生产的汽车销量全国领先，但所发生的致人伤亡的交通事故数量比 10 年前翻了 3 番。据此，有消费者认为某公司生产的汽车安全性能大不如前。

如果以下各项为真，最能削弱消费者观点的是（ ）。

A. 该公司生产的汽车近 10 年因交通事故多发，销量呈现下降趋势

B. 该公司 10 年前刚从家电行业进军汽车领域，仅进行小批量生产

C. 该公司一直以来都主打安全牌，致力于提高汽车的安全性能

D. 该公司生产的汽车在 M 市从未发生过致人伤亡的交通事故

5. 某研究小组对肝脏分泌的硒蛋白 P 进行了研究。在实验中发现，过剩的硒蛋白 P 对肌肉起作用，引发使运动无效的“运动抵抗性”病态。研究小组继而在对健康者进行的临床研究中发现，经过 8 周有氧运动锻炼，血液中硒蛋白 P 浓度高的人比浓度低的人运动效果低很多。研究者称，该发现解释了 II 型糖尿病和脂肪肝患者的运动效果往往差强人意的原因。

以下哪项最可能是研究者的论断所基于的前提？（ ）

A. 天生不具备硒蛋白 P 的小鼠与普通小鼠相比，在相同强度相同时间进行运动疗法，其运动效果倍增

B. 肥胖、II 型糖尿病、高血压和脂肪肝等各种生活习惯病患者血液中的硒蛋白 P 浓度较高

C. 定期运动是对肥胖、II 型糖尿病、高血压和脂肪肝等各种生活习惯病进行预防和治疗推荐的方法

D. 研究者尝试通过药物抑制肝脏生产硒蛋白 P，以期改善 II 型糖尿病和脂肪肝患者的运动效果

6. 根据 S 市的限购政策，外地人在 S 市买房，必须自购房日起连续 5 年在本市缴纳社保或个税，S 市户籍居民不受此限制。外地人如果和 S 市户籍居民结婚，且双方名下在 S 市都没有房产，可以家庭为单位购买 2 套房。S 市户籍居民如果在本市购买首套房，贷款首付比例不高于 35%。

根据以上信息，可以推出（ ）。

A. 甲已连续 5 年在 S 市缴纳社保，下半年可在 S 市买套房

B. S 市户籍居民乙名下在 S 市没有房产，可在 S 市以家庭为单位购买 2 套房

C. 丙在 S 市购房贷款首付比例为 50%，则丙不是 S 市户籍或名下在 S 市有房产

D. Q 市户籍的丁只有和 S 市户籍居民结婚，才能在 S 市以家庭为单位购买 2 套房

7. 英国伦敦大学某研究小组对 80 万名 65 岁以上老人的调查数据进行分析。结果发现，与有伴侣的人相比，单身和丧偶的人患痴呆风险分别增加了 42% 和 20%。研究人员认为，单身的人社会联系普遍较少，孤独感强，他们身体健康状况更差，精神也不佳。因此，与有伴侣的人相比，单身的人患痴呆的风险更高。

以下各项如果为真，最能加强上述结论的是（ ）。

A. 在此次调查中，离婚后的单身老人患痴呆风险并没有增加

B. 丧偶之痛会影响人的反应能力，增加患中风的风险

C. 参与此次调查的单身老人大都存在健康问题

D. 有伴侣的人社会交往较多，有利于增强大脑刺激，减少患痴呆风险

8. 1986 年甘肃天水市郊放马滩的西汉墓葬中出土了一件纸的残片，上面绘有地图形状图案。根据墓葬年代推算，此纸被认为属于西汉早期。研究发现，纸张没有帘纹，较厚，纤维分布不均匀，这正是中国传统造纸法中浇纸法的技术。专家推测，中国最古老的“浇纸法”造纸术至迟起源于西汉初年，早于蔡伦造纸 250 年。

以下哪项如果为真，最能支持上述论断？（ ）

- A. “浇纸法”技术如今在云南的傣族、新疆的维吾尔族中仍然有应用
- B. 出土的纸上的地图纹样与附近出土的一处秦朝墓穴中的木板地图相似
- C. “浇纸法”在东汉时已传到新疆地区，唐代传入西藏地区
- D. 在陕西灞桥、中颜，甘肃悬泉置、金关等地都出土了西汉古纸

9. 梳理当下人们对人工智能所持的两种观点，会发现“乐观派”更多关注当下，他们认为人工智能为社会带来众多好处，没必要对它过于恐慌；而让“悲观派”感到焦虑的是未来，他们担心未来人工智能会带来失业，引发战争，甚至导致人类终结。

以下哪项如果为真，最能削弱“悲观派”的观点？（ ）

- A. 人工智能本身是中性的，正如互联网既可以用来社交、购物，也可以用来散播勒索病毒
- B. 通过制定法律法规，完善社会保障制度，能够在保护人类权益的同时使人工智能健康发展
- C. 人类可以利用人工智能发展经济，因为担心安全性而阻碍人工智能的进步是不明智的
- D. 人工智能研究的目的是了解智能的实质，并生产出一种能以人类智能方式做出反应的机器

10. 人类剪下来的长发往往会被用来做成假发，而发廊地面上的短碎发通常会被送到垃圾场。但悉尼科技大学的研究者认为，头发完全可以派上更大的用场。目前人类急需使用天然产品来清理石油泄漏及治理其他环境污染，却一直没有特别好的办法。而头发由于其本身的特性，可以用来清理石油泄漏。

以下哪项如果为真，最能支持研究者的观点？（ ）

- A. 用于治理环境污染的东西很多是人造产品，特别是聚丙烯等聚合物
- B. 当人们的头发变得油腻腻的时候，通常是因为油吸附到了头发纤维上
- C. 用于清理石油泄漏的人造产品制造成本高，而头发既廉价又容易获得
- D. 头发是天然的生物吸附剂，能够吸附相当于它本身质量3~9倍的油

【参考答案及解析】

1. 【答案】C。解析：题干论点：低热量饮食可以延缓衰老。论据：减少热量摄入使细胞中蛋白质的合成场所——核糖体减缓工作，核糖体在减缓工作的过程中得到了更多自我

修复时间。A项属于无关项；B项仅说明高热量饮食不利于健康，不能说明低热量饮食能否延缓衰老，不能支持；C项说明核糖体修复有利于人体持续良好运转，最能支持论点；D项削弱论证。故本题选C。

2. 【答案】D。解析：题干论点：现代科学研究不能忽视数据驱动和计算思维的重要性。论据：仅靠感官，人类已经无法处理和掌握科研数据量，必须利用计算机进行分析；同时，探索和挖掘数据的方式甚至能够让科学家们“计划偶然性”。A、B、C项均说明了数据驱动和计算思维在现代科学研究中的作用，支持论点，排除。D项科学发现的特点属于无关项，不能支持论点。故本题选D。

3. 【答案】A。解析：题干论点：目前可通过控制全球气温增暖来降低厄尔尼诺事件的发生频率。论据：全球增暖控制在1.5摄氏度可以使极端高温事件发生频率减小50%。A项说明由于赤道太平洋的温跃层将保持异常加深状态，使赤道东太平洋的增暖大于赤道外区域，因此目前即使控制全球气温增暖，依然无法降低厄尔尼诺事件的发生频率，最能质疑论点。B项仅说明“在2050年以后的100年里，厄尔尼诺事件发生频率将呈现显著的上升趋势”，未说明目前控制全球气温增暖能否降低厄尔尼诺事件的发生频率，不能质疑论点，排除。C、D项仅指出厄尔尼诺现象的危害和表现，不能质疑论点，排除。故本题选A。

4. 【答案】B。解析：消费者的观点：该公司生产的汽车安全性能大不如前。论据：该公司生产的汽车所发生的致人伤亡的交通事故数量比10年前翻了3番。A项指出该公司生产的汽车销量下降，而交通事故数量增加，则事故率上升，不能削弱消费者的观点，排除。B项说明10年前该公司生产的汽车的使用者少，因此交通事故也少，即指出另有他因，最能削弱消费者对汽车安全性能的质疑。C项“致力于提高汽车的安全性能”不代表汽车的实际安全性能好，不能削弱消费者的观点，排除。D项M市的情况属于个例，削弱力度较小。故本题选B。

5. 【答案】B。解析：题干论点：该发现解释了II型糖尿病和脂肪肝患者的运动效果往往差强人意的原因。论据：血液中硒蛋白P浓度高的人比浓度低的人运动效果低很多。论点和论据间无直接联系，需要在“II型糖尿病和脂肪肝患者”和“血液中硒蛋白P浓度”间“搭桥”，B项符合要求。A项讲的是小鼠，而论点所讲的是人，联系不够紧密，排除。C、D项均属于无关项，排除。故本题选B。

6. 【答案】C。解析：题干信息可翻译为：①外地人能在S市买房→自购房日前起连续5年在S市缴纳社保或个税；②外地人和S市户籍居民结婚∧双方名下在S市都没有房产

→可在S市以家庭为单位购买2套房；③S市户籍居民 \wedge 在本市购买首套房 \rightarrow 贷款首付比例不高于35%。A项肯定①的后件，不能推出必然性结论。B项显然不能推出。C项“首付比例为50%”否定③的后件，可推出否定前件，即“ \neg (S市户籍居民 \wedge 在本市购买首套房)”，等价于“ \neg S市户籍居民 \vee \neg 在本市购买首套房”，“ \neg 在本市购买首套房”即名下在S市有房产，正确。D项翻译为“能在S市以家庭为单位购买2套房 \rightarrow 和S市户籍居民结婚”，肯定②的后件，不能推出必然性结论。故本题选C。

7. 【答案】D。解析：题干论点：与有伴侣的人相比，单身的人患老痴的风险更高。论据：单身的人社会联系普遍较少，孤独感强，他们身体健康状况更差，精神也不佳。A项说明另一类单身老人患老痴风险并无增加，削弱论点，排除。B项属于无关项，排除。C项指出参与调查的单身老人本就存在健康问题，说明样本不科学，削弱论点，排除。D项说明有伴侣的人患老痴风险较低的原因，最能加强论点。故本题选D。

8. 【答案】B。解析：题干论点：中国最古老的“浇纸法”造纸术至迟起源于西汉初年，早于蔡伦造纸250年。论据：西汉墓葬中出土的纸张没有帘纹，较厚，纤维分布不均匀，这正是中国传统造纸法中浇纸法的技术。A项无法说明“浇纸法”技术的起源时间，无法支持论断；B项说明出土的纸上的地图纹样与秦朝墓穴中的木板地图相似，最能说明“浇纸法”可能起源于西汉初年，支持题干论点；C项“东汉”在“西汉”之后，无法说明“浇纸法”是否起源于西汉初年，无法支持论断；D项出土的西汉古纸未说明就是用“浇纸法”技术制造的，无法支持论断。故本题选B。

9. 【答案】B。解析：“悲观派”的观点：担心未来人工智能会带来失业，引发战争，甚至导致人类终结。A项说明人工智能和互联网一样是把双刃剑，但不能说明无需担心人工智能所带来的负面影响，不能削弱“悲观派”的观点，排除。B项指出“悲观派”所担心的问题有办法解决，因此无需担心，最能削弱“悲观派”的观点。C项仅指出“因为担心安全性而阻碍人工智能的进步是不明智的”，强调的是不应阻碍人工智能的发展，也无法说明无需担心人工智能所带来的负面影响，不能削弱，排除。D项属于无关项，排除。故本题选B。

10. 【答案】D。解析：题干论点：头发由于其本身的特性，可以用来清理石油泄漏。A项讲用于治理环境污染的人造产品，属于无关项，排除。B项说明头发具有吸附力，支持论点。C项仅说明头发廉价且容易获得，未说明其能否清理石油泄露，不能支持论点，排除。D项说明头发的吸附力很强，支持力度大于B项。故本题选D。

第四十六辑

1. 旅行社刚刚为三位旅客预定了飞机票。这三位旅客是荷兰人比尔、加拿大人伯托和英国人丹皮。他们三人一个去荷兰、一个去加拿大、一个去英国。据悉比尔不打算去荷兰，丹皮不打算去英国，伯托既不去加拿大，也不去英国。

以下哪项，从上述题干中推出最为恰当？（ ）

- A. 伯托去荷兰，丹皮去英国，比尔去加拿大
- B. 伯托去荷兰，丹皮去加拿大，比尔去英国
- C. 伯托去英国，丹皮去荷兰，比尔去加拿大
- D. 伯托去加拿大，丹皮去英国，比尔去荷兰

2. 语言在人类的交流中起重要的作用。如果一种语言是完全有效的，那么，其基本语音的每一种可能的组合都能够表达有独立意义和可以理解的词。但是，如果人类的听觉系统接收声音信号的功能有问题，那么，并非基本语音每一种可能的组合都能够成为有独立意义和可以理解的词。

如果上述断定为真，则以下哪项一定为真？（ ）

- A. 如果人类的听觉系统接收声音信号的功能正常，那么一种语言的基本语音的每一种可能的组合都能够成为有独立意义和可以理解的词
- B. 如果人类的听觉系统接收声音信号的功能有问题，那么语言就不可能完全有效
- C. 语言的有效性导致了人类交流的实用性
- D. 如果基本语音每一种可能的组合都能够成为有独立意义和可以理解的词，则该语言完全有效

3. T国几大电力企业近日联合宣布，除非国产煤炭价格下调，否则将放弃购买国产煤炭。发言人表示，目前进口煤炭的价格已降至每吨 100 美元以内，而国产煤炭价格仍然居高不下。但是，煤炭行业业内人士表示，一旦煤炭价格持续走低，中小型煤矿将生存艰难，大型煤矿企业生产的动力也会严重不足，整个国内煤炭行业降面临严峻的形式。一段时间后，该业内人士判断，目前国内煤炭生产企业已经形式严峻。

该业内人士的判断必须基于以下哪项事实？（ ）

- A. 国内煤炭企业在这段时间内减少了煤炭产量
- B. 该国国内煤炭价格始终居高不下

C. 国产煤炭在与进口煤炭的价格竞争中没有优势

D. 该国几大电力企业没有放弃购买国产煤炭

4. 张教授的身体状况恐怕不宜继续担任校长助理的职务。因为近一年来只要张教授给校长写信，内容只有一个，不是这里不舒服，就是那里有毛病。

为使上述推理成立，以下哪项必须假设的？（ ）

I. 胜任校长助理的职务，需要有良好的身体条件

II. 张教授给校长的信的内容基本上都是真实的

III. 近一年来，张教授经常给校长写信

A. 只有 I 和 II B. 只有 II 和 III C. 只有 I 和 III D. I、II 和 III

5. 因为化纤是用石油等原料人工合成的，生产化纤会产生许多污染物，要用掉许多能量和水，而且化纤垃圾在自然环境中降解速度很慢，所以一般人都认为穿着纯棉织物要比使用化纤物更环保。下列哪项如果为真，会对上述观点构成最强有力的质疑？（ ）

A. 最新的化纤纤维在外观、手感、吸湿性等方面与纯棉织物没有什么明显差别

B. 科学家正在研究回收、利用、处理化纤垃圾的新办法

C. 纯棉织物价格比较高，占人口多数的工薪阶层和农民想穿也穿不起

D. 棉花是使用农药最多的农作物，世界上的杀虫剂 25% 被用于棉花种植

6. 中国教育在线《2013 年高招调查报告》显示，2013 年有 912 万考生参加高考，比 2012 年下降 3 万人，这已经是全国高考人数连续第五年下降。这说明，随着我国教育制度的改革，大学毕业证已经不再是找工作的“敲门砖”。

以下哪项如果为真，最能削弱上述结论？（ ）

A. 《高招调查报告》并不是一个特别权威的调查报告

B. 目前一些岗位的招聘仍然要求最低学历是大学本科

C. 很多单位的在职员工都报名参加了成人高考培训班

D. 据统计，近几年来全国适龄高考人数呈持续减少趋势

7. 某公司从去年初开始实施“项目经理制度”，公司任命若干位项目经理，负责产品的研发、生产监督、营销等纵向过程。年末统计发现，公司人员比未实施计划之前增加了 15%，工作效率显著提高，年终收益较之前提高了 50%。公司总经理由此得出：该制度提高了公司的年终收益。

以下各项如果为真，最能削弱上述论证的是（ ）。

1. 【答案】B。解析：此题从伯托入手，伯托不去加拿大和英国，则只能去荷兰；而丹皮不去英国，那么他只能去加拿大；比尔别无选择只能去英国。故本题选 B。

2. 【答案】B。解析：这是一道假言命题推理题目。题干中的假言命题可以概括为：(1) 如果语言有效，其基本语音的每一种可能的组合都能够表达有独立意义和可以理解的词；(2) 如果人类的听觉系统接收声音信号的功能有问题，并非基本语音每一种可能的组合都能够成为有独立意义和可以理解的词。由此可以进一步推出：如果其基本语音的每一种可能的组合都能够表达有独立意义和可以理解的词，那么人类的听觉系统接收声音信号的功能正常。根据充分条件假言命题推理规则：否定后件就能否定前件，可以推出如果人类的听觉系统接收声音信号的功能有问题，那么语言就不可能完全有效。故本题选 B。

3. 【答案】D。解析：题干的逻辑关系为：不放弃购买国产煤炭→煤炭价格下调→煤炭生产行业面临严峻形势。要推出“煤炭生产行业面临严峻形势”，即需要“不放弃购买国产煤炭”或“煤炭价格下调”作为前提，选项中只有 D 项符合。故本题选 D。

4. 【答案】D。解析：第一步分析题干论证。题干的论证实际上包括两个省略推理。第一，近一年来，只要张教授给校长写信，内容只有一个，不是这里不舒服，就是那里有毛病，推断出张教授的身体确实不好；第二，根据张教授的身体不好，推断他不宜继续担任校长助理的职务。第二步逐一分析并判断题干中的假设的必要性。为使题干的论证成立，I 项是必须假设的，否则，第一步中的第二个推断就不能成立；II 项是必须假设的，否则，第一个推断就不能成立；III 项也是必须假设的，否则，如果事实上近一年来张教授很少给校长写信，那么，即使信件的上述内容是真实的，也难以推出张教授的身体确实不好。综上，I、II 和 III 项都是必须假设的，故本题选 D。

5. 【答案】D。解析：第一步找到论点和论据。本题的论点是穿着纯棉织物要比使用化纤物更环保。论据是化纤是用石油等原料人工合成的，生产化纤会产生许多污染物，要用掉许多能量和水，而且化纤垃圾在自然环境中降解速度很慢。第二步：逐一判断选项的作用。题干说纯棉织物的环保性和化纤物的污染性，而 A 说“外观、手感、吸湿性”，A 和题干内容无关，A 错误。论据说化纤垃圾降解慢，B 说“研究回收、利用、处理化纤垃圾的新办法”，B 是对题干论据的削弱，不能证明纯棉织物更具有环保性，B 错误。题干说纯棉织物的环保性，而 C 说纯棉织物的价格，C 和题干内容无关，C 错误。D 说棉花的种植使用了大量农药，说明纯棉织物的原料生产过程中也存在污染，进而说明纯棉织物不一定比化纤物更环保，D 削弱了论点，D 正确。故本题选 D。

6. 【答案】D。解析：题干中的论点是：大学毕业证已经不再是找工作的“敲门砖”。论据是：参加高考的人数连续五年下降。A项，《高招调查报告》并不是一个特别权威的调查报告，其调查数据可能有错，因此对结论有一定的削弱作用；B项，有一些岗位的招聘仍然要求最低学历是大学本科，对结论有一定的削弱作用，但削弱力度较弱；C项，很多在职员工报名参加成人高考培训班说明未参加高考、没有取得大学毕业证不影响就业，对论点有支持作用；D项，全国适龄高考人数呈持续减少趋势才是高考人数减少的根本原因，而不是因为找工作是否需要大学毕业证，其削弱作用大于A、B两项。故本题选D。

7. 【答案】C。解析：本题为削弱型。论点：“项目经理制度”提高了公司的年终收益。论据：实施该制度后，公司的年终收益提高了50%。A项，实施制度后虽然人员成本增加，但公司年终收益仍然较之前增加，没有削弱作用；B项，论述了“项目经理制度”的优势，属支持项。C项，另一家情况类似的公司未实施此项制度仍然取得年终收益的增加，说明公司提高年终收益可能会有市场扩大等其他方面的原因，属削弱项。D项，虽然未统计具体比例，但不能排除项目经理制度对公司年终收益的贡献，排除。故本题选C。

8. 【答案】C。解析：第一步找突破口。根据题干信息，按年龄大小排列，(1)乙年龄最大，(2)甲>喜欢足球的人，(3)喜欢篮球的人>喜欢排球的人，从“乙年龄最大”和“甲>喜欢足球的人”可知，“乙>甲>喜欢足球的人”，因此喜欢足球的人是丙，且丙的年龄最小。第二步结合其他信息进行推导，得出答案。由题干已知信息，“喜欢篮球的人>喜欢排球的人”，因此喜欢篮球的人是乙，喜欢排球的人是甲。故本题选C。

9. 【答案】A。解析：第一步找到论点和论据。本题论点是在驾驶前饮酒的人很难遵循这个广告的劝告，论据是酒后立即被询问的对象往往低估他们恢复驾驶能力所需要的时间。第二步判断加强方式。论点强调驾驶前饮酒的人，论据强调酒后立即被询问的对象，仅是部分，所以论点与论据间不存在明显因果关系，需加强论证，在论点和论据间搭桥。第三步逐一判断选项的作用。A中被研究对象的恢复驾驶的能力即在驾驶前饮酒的人和酒后立即被询问的对象间搭桥，即没有被询问的人会比被询问的人更大胆，认为自己可以很快上路，从而加强了论证；B中对安全驾驶不起重要作用的能力与驾驶前饮酒无直接关系，属无关选项；C中不得不开车回家的人不饮酒与驾驶前饮酒的人无直接关系，属无关选项；D中公益广告的警觉与驾驶前饮酒的人无直接关系，属无关选项。故本题选A。

10. 【答案】B。解析：本题论点是由于学龄儿童人数日益减少，A市小学和初中的在校生人数将越来越少，论据是长期以来A市人口一直保持负增长。论点强调学龄儿童人数

日益减少，论据强调 A 市人口一直保持负增长，论点与论据间存在明显因果关系，需削弱论点。B 项“外来务工人员急剧增加，他们的子女将就近在 A 市读小学和初中”直接削弱论点。A 中的“统计不全”削弱力度没有 B 项强；C 项“撤点并校”只是学校少了，A 市的学生还是那么多，不能削弱论点；D 项“人数减少有助于教育质量提高”是加强项。故本题选 B。

第四十七辑

1. 中国自 1994 年始，全国人代会提案组每年都会收到一份要求为安乐死立法的提案。然而，法律实现的是大多数人的意志，安乐死是否符合大多数人的意志，眼下尚无科学性的调查结果；而且法律付诸实践，就有极大的强迫性，一旦安乐死立法，它就像横在病人面前的一把双面刃，用得好，就可以真正解除病人的痛苦；用得不好，就可能成为剥夺病人选择生命权利的借口。

由此可以推出（ ）。

- A. 中国在 1994 年之前，没有人提出要为安乐死立法
- B. 赞成安乐死的人大部分都是病人
- C. 有时候法律也可能会被人利用来做不义之事
- D. 只要有调查表明大多数国民赞同安乐死，实施安乐死就是合法行为

2. 通过调查得知，并非所有的员工都在认真工作。

如果上述调查的结论是真实的，则以下哪项一定为真？（ ）

- A. 所有的员工都没有认真工作
- B. 多数的员工都没有认真工作
- C. 并非有的员工在认真工作
- D. 有的员工确实没认真工作

3. 科学家发现，在过去的 200 年内，地球的磁场急剧的衰减。科学家语言，照这种速度发展下去，在未来的 1000 年内，地球磁场可能会完全消失，地球生灵将面临前所未有的宇宙射线大灾难。

由此可以推出（ ）。

- A. 目前地球磁场的衰减速度比 200 年前更快

- B. 人类无法改变地球磁场急剧衰减的状况
- C. 今后来自外太空的辐射强度将会越来越大
- D. 地球磁场可阻挡来自太空的辐射

4. PM2.5 是指大气中直径在 2.5 微米以下（不到头发丝 1/20）的微小颗粒，它们的尺寸使其能深入到人体的肺部，对人的呼吸健康造成严重伤害。近年，我国中东部地区多次出现大范围 and 长时间的雾霾天气，多地 PM2.5 指数直线上升。对此，某城市推出了车辆单双号限行等措施以应对大气污染。但该市有专家不赞成这种车辆限行的措施，认为这种做法对本市 PM2.5 指数的下降影响不大，无法从根本上改变该市大气污染的状况。

以下哪项如果为真，最能支持上述专家的观点？（ ）

- A. 车辆尾气是造成本市大气污染的重要原因之一
- B. 相对于工业污染来说，车辆尾气对大气污染的影响是少量的
- C. 本市 PM2.5 指数升高主要是由其他区域大气污染的影响造成的
- D. 该市市民强烈呼吁政府要加强对雾霾天气的治理

5. 树木枝干和许多植物的茎秆通常含有大量难以分解的木质素，因此利用它们来提炼生物燃料的效率要大打折扣。目前，人们发现了一种名为红球菌的细菌，它具有分解木头和其他植物中木质素的能力。因此，人们认为可以将红球菌广泛用于以往大都废弃的茎秆，从而大大提高生物燃料的利用率。

以下哪项如果为真，最能支持以上结论？（ ）

- A. 红球菌能分泌一种酶，这种酶具有分解木质素的能力，但是其分泌能力呈现周期性变化
- B. 一些真菌也具有分解木质素的能力，研究发现，这些真菌的生长需要特定的温度和湿度
- C. 红球菌易于培养，目前对红球菌已完成基因测序，因此可以利用红球菌大规模地生产分解木质素的酶
- D. 木质素是一种优质高分子材料，迄今为止，超过 95% 的木质素都是直接排入江河或浓缩后烧掉，很少有效利用

6. 在不同语言中，数字的发音和写法都不一样。一些科学家认为，代表不同文化背景的语言，会对人们大脑处理数学信息的方式产生影响。

以下哪项如果为真，最能支持上述结论？（ ）

A. 相比欧洲，亚洲地区的人们在进行数量大小比较时，大脑中个别区域的活跃程度有所不同

B. 在同一国家，不同方言区的人们进行数学运算时，大脑语言区的神经传递路线并不十分一致

C. 研究发现，以英语为母语的人进行心算时主要依赖大脑的语言区，而以中文为母语的人主要动用了大脑的视觉信息识别区

D. 研究发现，不同专业背景的人们在计算数学题时会选择不同的思考方法，但都会不同程度地依赖大脑的语言区

7. 地幔位于地壳以下数十公里到约 2900 公里深处，包裹着地球内部的地核。根据地球内部地震波传播速度的不同，地幔被认为在地下 660 公里处分为上下两层，上地幔由橄榄石等镁含量较高的矿物组成，而下地幔的构成并不清楚。以往，研究人员认为，由于经历地球诞生后约 40 亿年的内部对流运动，地幔已经均一化，构成上地幔与下地幔的矿物质应是相同的。但近来研究发现，构成地幔上下层的矿物质并不相同。

要得到上述结论，最需要补充的论据是（ ）。

A. 不同矿物中地震波的传播速度不同，据此利用新型地震波速度仪测量发现上下地幔地震波的传播速度不一样

B. 实验显示，地幔自从地球诞生以来就在持续对流运动，不过随着内部温度的变化，对流的速度会不断改变

C. 以前的研究认为地幔成分受到 40 多亿年前陨石冲击的影响，但后来发现地幔成分与太阳系其他行星的平均构成是一致的，陨石冲击并未带来显著变化

D. 据研究，上地幔很可能是岩浆的发源地，物质呈液态，但下地幔的温度、压力和密度均增大，物质呈可塑性固态

8. 血液中脂肪蛋白含量的增多，会提高人体阻止吸收过多的胆固醇的能力，从而降低血液中的胆固醇。有些人通过有规律的体育锻炼和减肥，能明显地增加血液中高浓度脂肪蛋白的含量。

由此可知（ ）。

A. 体育锻炼和减肥是降低血液中高胆固醇的最有效的办法

B. 有些人通过有规律的体育锻炼和减肥来降低血液中的胆固醇

C. 标准体重的人只需要通过有规律的体育锻炼就能降低血液中的胆固醇

D. 不经常进行体育锻炼的人，特别是胖子，随着年龄的增大，血液中出现胆固醇的风险越来越大

9. 笔迹，广义上讲，是运用各种工具在一定界面上书写的带有文字规范限制的痕迹。狭义上讲，就是指在自然状态下由书写人留在纸上史上的带有文字规范限制的书写痕迹。因为书写者的性格和心理特征是不同的，由此可以推测，研究人的笔记可以分析书写者的性格特点和心理状态。

以下哪项如果为真，最能支持上述推测？（ ）

- A. 不同笔记的连笔程度和笔画结构是不同的
- B. 近代以来，很多先进的理论和仪器被用来进行笔迹鉴定
- C. 据调查，现在很多公司在招聘员工时加入了笔迹分析这一项
- D. 书写的压力、笔画结构和字体大小能反映人的自我意识和对外部世界的态度

10. 几乎所有的数学家都是这样：他们能够识别正确的证明以及不正确证明的无效之处，尽管他们无法定义一个证明的准确意义。

由此，可以推知以下哪项一定为真？（ ）

- A. 能识别正确证明和不正确证明的人可能无法定义证明的准确意义
- B. 有的数学家不能识别不正确证明的无效之处
- C. 数学家都不能定义一个证明的准确意义
- D. 有的数学家不能识别正确的证明，但能识别不正确的证明

【参考答案及解析】

1. 【答案】C。解析：题干并未提及在 1994 年之前是否有人提出要安乐死立法和病人赞成安乐死的比例，A、B 项均无法推出。由“它就像横在病人面前的一把双面刃，用得不好，就可以真正解除病人的痛苦；用得不好，就可能成为剥夺病人选择生命权利的借口”可以推出 C 项。D 项表述过于绝对，排除。故本题选 C。

2. 【答案】D。解析：A 项“所有的员工都没有认真工作”与 B 项“多数的员工都没有认真工作”同真，排除。“并非所有”等价于“有的不”，“并非有的”等价于“所有都不”，则题干“并非所有的员工都在认真工作”等价于“有的员工没认真工作”，C 项“并非有的员工在认真工作”等价于“所有的员工都不认真工作”，“有的员工没认真工作”为真时，“所有的员工都不认真工作”真假不定，排除 C 项，D 项正确。故本题选 D。

3. 【答案】D。解析：题干并未将地球磁场的衰减速度作对比，A项无法推出。题干并未提及人类是否能够改变现状和今后来自外太空的辐射强度变化，B、C项均无法推出。由题干最后一句可知，如果地球磁场不消失，那么地球生灵就有可能不会遭受宇宙射线的危害，即“地球磁场可阻挡来自太空的辐射”，D项可以推出。故本题选D。

4. 【答案】B。解析：论点：车辆限行的措施对本市PM2.5指数的下降影响不大，无法从根本上改变该市大气污染的状况。A项说明应该限行，削弱论点，排除。B项说明限行并不能很好地减少污染，无法从根本上改变该市大气污染的状况，最能支持上述专家的观点。C项并不能说明车辆对大气污染的影响很小，支持力度不及B项，排除。D项属于无关项，排除。故本题选B。

5. 【答案】C。解析：论点：将红球菌广泛用于以往大都废弃的茎秆可以大大提高生物燃料的利用率。论据：人们发现了一种名为红球菌的细菌，它具有分解木头和其他植物中木质素的能力。A项说明红球菌具有一定局限性，不一定能被广泛运用，削弱论点，排除。B、D项均属于无关项，排除。C项说明红球菌可以被广泛利用，最能支持以上结论。故本题选C。

6. 【答案】C。解析：论点：代表不同文化背景的语言，会对人们大脑处理数学信息的方式产生影响。A、B、D项均属于无关项，排除。C项以英语为母语的人和以中文为母语的人进行心算时分别使用了大脑的语言区和视觉信息识别区，最能支持上述结论。故本题选C。

7. 【答案】A。解析：论点：近来研究发现，构成地幔上下层的矿物质并不相同。A项说明上下地幔的矿物不同，支持论点。B、C项均未说明上下地幔的区别；D项仅指出上下地幔在存在状态上的区别，均属于无关项，排除。故本题选A。

8. 【答案】B。解析：由题干可知，通过有规律的体育锻炼和减肥可以增加血液中高浓度脂肪蛋白的含量，从而降低血液中的胆固醇，B项可以推出。A、C项表述均过于绝对，排除。D项属于过度臆测，排除。故本题选B。

9. 【答案】D。解析：论点：笔记可以分析书写者的性格特点和心理状态。A项强调笔记特点的不同，并未提及人的心理状态，排除。B项属于无关项，排除。C项用笔迹做考察，并未说明笔迹与心理问题的关系，排除。D项说明书写的压力、笔画结构和字体反映人的心理状态，补充新论据，加强论证。故本题选D。

10. 【答案】A。解析：由“几乎所有的数学家都是这样”可知“有的数学家是这样”，

即有的数学家能够识别正确的证明以及不正确证明的无效之处，但无法定义一个证明的准确意义，A项正确。B、D项均不能推出；“几乎所有”并非“所有”，C项错误。故本题选A。

第四十八辑

1. 对 100 只同一种类且都不患有寄生虫病的小白鼠进行试验，让它们接受相同剂量的某种药物注射，然后让其中的 50 只小白鼠不限制地吃它们平时所吃的食物，而另外 50 只小白鼠给它们提供相同的食物，但限定其食物量。结果发现第一组有 30 只小白鼠得了寄生虫病，而第二组只有 3 只老鼠得了寄生虫病。

由此可知（ ）。

A. 无论是否接受了某种药物注射，让小白鼠吃它们平常所吃的食物会增加患寄生虫病的可能性

B. 对任何种类的小白鼠，患寄生虫病与接受某种药物注射是没有关系的

C. 通过控制这些小白鼠的食物量，可以减少它们因某种药物注射而患上寄生虫病的可能性

D. 凡是受到某种药物注射的小白鼠最终一定会患上寄生虫病

2. 小高到超市买水果，售货员问他想买什么水果，小高说：“我不像讨厌荔枝那样讨厌苹果，我不像讨厌梨那样讨厌葡萄，我不像喜欢柑橘那样喜欢苹果，我对葡萄不如对荔枝那样喜欢。”小高最后会选择的水果是（ ）。

A. 荔枝

B. 葡萄

C. 苹果

D. 柑橘

3. 在打击拐卖儿童犯罪的活动中，警方救获一名男孩，为了确定他的家乡，警方进行了调查：

知情人士 A 说，他可能是四川人，也可能是贵州人；

知情人士 B 说，他不可能是四川人；

知情人士 C 说，他肯定是四川人；

知情人士 D 说，他不是贵州人。

警方确定，只有一个人的话不可信。

根据以上信息，警方可以确定这名男孩的家乡是（ ）。

A. 四川

B. 贵州

C. 可能是四川，也可能是贵州 D. 无法判断

4. 在某社区的志愿工作组中，大多数男性志愿者都获得了学士学位，所有负责教学的志愿者都是来自东北的。而所有没获得学士学位的志愿者都是来自于东北的。

由此可知，下列推测一定正确的是（ ）。

- A. 有的男性志愿者负责教学
- B. 获得学士学位的志愿者负责教学
- C. 东北地区的志愿者都获得了学士学位
- D. 有的男性志愿者自于东北

5. 某市公安机关为了人民生命财产安全，减少环境污染，发布了禁止出售烟花爆竹禁令，今年该市没有市民被烟花爆竹炸伤，这说明，禁令得到了有效实施。

以下哪项如果为真，最能质疑上述论证？（ ）

- A. 该市消防部门出警次数比往年多
- B. 市民看到有人燃放烟花爆竹
- C. 警方收到有人家中堆放大量烟花爆竹的举报
- D. 警方捣毁了几个生产烟花爆竹的窝点

6. 科学家最新发现被命名为“郑氏晓廷龙”的小恐龙是始祖鸟的“亲戚”，与生存于侏罗纪晚期的始祖鸟亲缘关系非常近，通过分析始祖鸟的形态，并对似鸟恐龙和早期鸟类的系统发育关系进行了重新分析，得出始祖鸟并非鸟类，而是原始恐爪龙类，即始祖鸟是迅猛龙的祖先，而不是鸟类的祖先。

以下各项如果为真，最不能质疑上述主张的是（ ）。

- A. 恐爪龙类是一类与恐龙亲缘关系很近的鸟
- B. 恐爪龙类是一类与鸟类亲缘关系很近的恐龙
- C. 兽脚类恐龙的一支演化成植食性恐龙，再演化成鸟类
- D. 始祖鸟标本被命名后，一直被认为是最原始、最古老的鸟类

7. 物理学家费米曾提出过一个著名的“费米佯谬”，假设银河系中果真存在外星智慧生命，考虑到银河系古老的年龄以及其他因素，他们应当早已造访地球了，但事实是，当我们仰望星空，我们所面对的是所谓的“大寂静”——宇宙一片安宁，无声无息。

以下各项判断如果为真，则哪项不能解释“费米佯谬”？（ ）

- A. 我们也许还没有达到能够发现外星智慧生命的水平

- B. 外星文明已经足够进步，使得我们无法直接观测到他们
- C. 外星智慧生命已在地球上制造了很多神秘的“UFO”事件
- D. 外星文明可能达成了与自然界的平衡态，与星系背景巧妙地融为一体

8. 人们对于搭乘飞机的恐惧其实是毫无道理的，据统计，1995 年全世界死于地面交通事故的人数超出 80 万，而在自 1990 至 1999 年的 10 年间，全世界平均每年死于空难的还不到 500 人，而在这 10 年间，我国平均每年罹于空难的还不到 25 人。

为了评价上述论证的正确性，回答以下哪个问题最为重要？（ ）

- A. 在上述 10 年间，全世界平均每年有多少人采用地面交通，有多少人采用航运
- B. 在上述 10 年间，我国平均每年有多少人采用地面交通，有多少人采用航运
- C. 在上述 10 年间，我国平均每年有多少人死于地面交通事故
- D. 在上述 10 年间，1995 年全世界死于地面交通事故的人数是否是最高

9. 时代要求教师教育学生不是灌输知识，而是培养能力。提高教育质量的关键措施是尽快把目前的应试教育转变为素质教育。

以下各项都可能是上述论述所假设的，除了（ ）。

- A. 能力强的学生必须建立在掌握较多知识的基础上
- B. 建立社会主义市场经济体制应培养能适应新时代要求的学生
- C. 素质教育的重点是灌输知识
- D. 目前我国中小学教育的弊端在于以应试为指挥棒

10. 在一次考古发掘中，考古人员在一座唐代古墓中发现多片先秦时期的夔文（音 kui，一种变体的龙文）陶片。对此，专家解释说，由于雨水冲刷等原因，这些先秦时期的陶片后来被冲至唐代的墓穴中。

以下哪项如果为真，最能质疑上述专家的观点？（ ）

- A. 在这座唐代古墓中还发现多件西汉时期的文物
- B. 这座唐代古墓保存完好，没有漏水、毁塌迹象
- C. 并非只有先秦时期才使用夔文，唐代文人以书写夔文为能事
- D. 唐代的墓葬风俗是将墓主生前喜爱的物品随同墓主一同下葬

【参考答案及解析】

1. 【答案】C。解析：A 项两组小白鼠都接受了某种药物注射，并且都吃它们平常所吃

的食物，故不能推出患病可能性的结论，排除；B项试验中只有一个种类的小白鼠，其他种类的情况不得而知，排除；C项两组小白鼠都接受了某种药物注射，也都是吃平常所吃的食物，不同之处就在于是否限制了它们的食物量，所以通过控制它们的食物量，可以减少它们患病的可能性；D项说法过于绝对，排除。故本题选C。

2. 【答案】D。解析：小高对其提到的几种水果的喜欢程度分别是：①荔枝<苹果，②梨<葡萄，③苹果<柑橘，④葡萄<荔枝，可推出小高喜欢“梨<葡萄<荔枝<苹果<柑橘”，从而得出小高最喜欢的是柑橘。故本题选D。

3. 【答案】A。解析：本题属于真假破案题型，且为一假题型（即只有一句是假）。知情人B、C的话矛盾，二者必有一假（知情人A、B也矛盾，解题思路一样）。知情人A、D的话为真，即男孩是四川人。知情人C的话为真，知情人B的话为假，即男孩是四川人。故本题选A。

4. 【答案】D。解析：A项“东北志愿者全部都负责教学”无法从题干信息推出，排除；B项“获得学士学位的志愿者可能来自东北，也可能来自其他地方”，故不能断定其是否负责教学；C项明显与题干中的“所有没获得学士学位的志愿者都来自东北”矛盾，排除。故本题选D。

5. 【答案】D。解析：论点是禁止出售烟花爆竹禁令得到了有效实施。论据是今年该市没有市民被烟花爆竹炸伤。论点和论据间存在因果关系，所以需削弱论点。A项出警多可能是因为其他原因引起火灾；B、C项有烟花爆竹不代表有人销售烟花爆竹，均不能削弱论点；D项说明无人销售是因为货源被捣毁，属于另有他因，削弱了论点。故本题选D。

6. 【答案】B。解析：论点是始祖鸟并非鸟类，而是原始的恐爪龙类，没有明显论据。A项指出恐爪龙类是鸟，具有削弱作用；B项与A项想法相反，具有加强作用；C项指出恐龙出现在鸟之前，即使始祖鸟是恐龙也可能是鸟的祖先，具有削弱作用；D项指出始祖鸟是鸟类，削弱具有作用。故本题选B。

7. 【答案】C。解析：论点是假设银河系中果真存在外星智慧生命，考虑到银河系古老的年龄以及其他因素，他们应当早已造访地球了，但事实是，当我们仰望星空，我们所面对的是所谓的“大寂静”——宇宙一片安宁，无声无息，没有明显论据。A项没有达到能够发现外星智慧生命的水平，B项无法直接观测到外星文明，D项与自然界平衡，与星系背景巧妙地融为一体，均涉及解释为什么看不到外星智慧生命，加强了论点；C项制造神秘的“UFO”事件，说明看到了外星智慧生命的踪迹，削弱了论点。故本题选C。

8. 【答案】A。解析：本题论点是对搭乘飞机感到恐惧是毫无道理的，论据是用绝对数说明空难故造成死亡人数比地面交通事故少。题干是说搭乘航班很安全，没有必要担心，并举出全世界的具体的数字来说明这一问题。但举出的数字都是绝对数字，并没有告诉我们死于地面交通和空难的人数分别占到加入地面交通和加入航运的人数的比例。如果死于空难的人数比例比死于地面交通事故的人数比例小，那么题干的论点就能成立；反之，就不能成立。因此A项对评价该题最为重要。B、C项强调“我国”，而题干强调“全世界”，均属于无关选项；D项也只是绝对数字，无法计算得到比例数字关系，排除；故本题选A。

9. 【答案】C。解析：论点是把应试教育转变为素质教育，没有论据。由于题干没有论据，因此需要加强论点。A、B、D均可得出素质教育的重要性，均属于加强论点。C项与题干相悖，削弱论点。故本题选C。

10. 【答案】B。论点是考古人员在一座唐代古墓中发现多片先秦时期的夔文陶片。论据是专家解释说由于雨水冲刷等原因，这些先秦时期的陶片后来被冲至唐代的墓穴中。A项“发现多件西汉时期的文物”、C项“唐代文人以书写夔文为能事”均与论点无关，属于无关项。B项“保存完好，没有漏水、毁塌迹象”说明雨水不能将夔文陶片冲进古墓中，属于削弱论据的否定原因选项，D项“唐代的墓葬风俗”使得夔文陶片出现在古墓中，属于削弱论据的他因削弱选项，B项削弱力度更强。故本题选B。

第四十九辑

1. 一则关于许多苹果含有一种致癌剂的报道，对消费者产生的影响极小。几乎没有消费者打算改变他们购买苹果的习惯。尽管如此，在报道一个月后的三月份，食品杂货店的苹果销量大大下降了。

以下哪项如果为真，最能解释上述现象？（ ）

A. 在三月份里，许多食品杂货商为了显示他们对消费者健康的关心，移走了货架上的苹果

B. 由于大量的食物安全警告，到了三月份，消费者已对这类警告漠不关心

C. 尽管这种防腐剂也用在别的水果上，但这则报道并没有提及

D. 除了报纸以外，电视上也出现了这个报道

2. 经济学家认为政府对能源利用方面的管制是多余的，市场完全可以自行调节能源的

供需矛盾。如果能源真的紧张，那么反映在市场上，能源价格自然会上涨，而能源价格的上涨，一方面会因为使用成本提高而使得人们减少对能源的使用，另一方面因为利润增加使得能源供应商增加供给。

以下哪项如果为真，最能质疑上述论断？（ ）

- A. 能源价格上涨后，人们会更多地使用节能产品
- B. 能源价格的上涨会造成生活成本的增加
- C. 能源价格降低后会刺激人们使用更多的能源
- D. 人们对能源的需求缺乏弹性

3. 在当今全球变暖的背景下，各国均不同程度地从中受益或受损，有的影响是正面的，有的影响却是负面的；有的国家既是全球气候变暖的污染源，也是气候变暖的受害者，这些都影响了他们应对气候变化国家政策方案的出台及国际气候政策制定的态度。

由此可以推断（ ）。

- A. 所有的国家都受到全球气候变暖的有益影响
- B. 所有的国家都受到全球气候变暖的有害影响
- C. 有的国家是全球气候变暖的受害者
- D. 有的国家不是全球气候变暖的污染源

4. 会玩的孩子更适应社会交往，心理也更加健康；相反，不少性格内向、孤僻，甚至有交往困难等行为问题的孩子，大多小时候缺少和同伴的玩耍。如果一个孩子交往技能比较差，就容易产生焦虑、紧张、多疑等负性情绪，从而影响正常生活和学习。如果这些负性情绪长期得不到释放，甚至可能导致退缩性人格。

由此可以推出（ ）。

- A. 只有给孩子充分的时间玩耍，孩子的心理才可能健康发展
- B. 只要让孩子有充分的时间玩耍，孩子的心里就能健康发展
- C. 有心理缺陷的孩子，都是因为小时候没有得到足够的时间玩耍
- D. 只要孩子会玩耍，长大后就能适应社会

5. 1981年当全世界认为野生朱鹮已经灭绝时，在中国又重新发现7只野生朱鹮，现在国内朱鹮数量已达1617只。目前全世界的朱鹮都是由当年的7只繁育而来。由于近亲繁殖严重，朱鹮成为世界濒危鸟类中遗传多样性最低的物种，这会导致种群抗病率降低、患病致死率上升，尤其是抵抗禽流感等致命性疾病能力极低。

由此可以推出（ ）。

- A. 近亲繁殖不利于物种进化，将遭到自然的淘汰
- B. 遗传多样性对于朱鹮的生存与发展至关重要
- C. 朱鹮数量有明显上升，其灭绝风险进一步减小
- D. 想要拯救朱鹮，务必要发展人工培育和养殖技术

6. 就网友提出的“能否不到驾校培训就直接考驾驶证”这一问题，公安部交通管理局回应称，我国法律法规没有规定申请驾驶证必须经过驾校培训，但必须在道路上学习驾驶技术。根据《道路交通安全法实施条例》第 20 条有关规定，在道路上学习驾驶，应当按照公安机关交通管理部门指定的路线、时间进行。在道路上学习机动车驾驶技能应当使用教练车，在教练车随车指导下进行，与教学无关的人员不得乘坐教练车。

根据以上信息，不能得出以下哪项？（ ）

- A. 如果有教练随车指导，则可以在公路上学习驾驶
- B. 如果找不到教练指导，则无法在道路上学习驾驶技术
- C. 如果只有驾校才有教练车，则申请驾驶证必须先上驾校
- D. 如果已经申请到了驾驶证，则肯定在道路上学习过驾驶技术

7. 安徽黄山是我国茶叶的主要产地之一，名茶种类很多。在黄山旅游时，导游总会在几个茶园停车，劝大家去里面参观，而且说买不买没关系，只要进去看看就可以。为此，一些游客常有怨言，但这种现象持续存在，甚至愈演愈烈。

以下哪项最不可能是造成这种现象的原因？（ ）

- A. 游客在茶园购物，导游会得到提成
- B. 虽然有的游客不愿意，但许多游客是愿意的，他们开心购物就是最好的证明
- C. 到黄山旅游的游客在经济上很宽裕，他们只想省时间，进茶园可以批量采购
- D. 有些游客外出旅游的任务之一就是购物，如果空手而归，会感觉玩得不高兴

8. 政府应该禁止白酒企业在其营业收入中扣除广告费用。这样的话，白酒企业将会缴纳更多的税金，他们只好提高白酒价格，而价格的提高又可以抑制白酒的消费，降低因过量饮酒而导致的各种疾病的发病率。

以下哪项最可能是上述论述的假设前提？（ ）

- A. 白酒企业不可能通过降低其他方面的成本以抵消多缴的税金
- B. 如果白酒企业需要支付高额的税金，则他们就不再继续做广告

C. 如果白酒企业不做广告，则白酒的销量会受到很大影响

D. 白酒企业由此增加的税金可以通过提高价格转嫁给消费者

9. 根据我国现行法律规定，同一楼内的邻居向外面高空抛物，使他人的人身或财产遭受损害，如果查不出抛物者，就由可能造成损害的同一楼的居民共同承担补偿责任。这样的法律规定保护了受害者的权利，维护了公共安全，同时，让可能的加害人分担责任，能够增强其监督预防的意识。

以下哪项如果为真，最能支持上述论证？（ ）

A. 小区安装了监控探头，能较准确地确定真正的抛物人，要求其承担责任

B. 人们购买了人身意外保险，在不幸被抛落的物品砸伤时可获得保险赔偿

C. 小区居民担心承担责任，自发宣传高空抛物的危害并积极检举相关行为

D. 国家设立了专门的救助基金，为遭遇意外事故的受害人提供一定的救济

10. 全球约有 7000 多种语言，每隔两周就有一种语言消失。研究人员通过“民族语”在线数据库，收集到全球 7000 多种语言中 649 种语言使用率上升或下降的信息。研究发现，语言消失多发生在温带地区，而非热带地区或山区，原因可能是前者在交通上更为便利。研究者认为，经济发展是语言消失的重要原因，国家国内生产总值、全球化水平、环境因素如海拔高度等能影响人际交流，也会对语言消失产生影响。

如果以下各项为真，最能支持上述观点的是（ ）。

A. 美国采取双语教学、信息技术等一系列措施保护少数民族地区语言

B. 随着澳大利亚经济发展加快，该国少数民族语言消失现象日趋严重

C. 地处热带地区的新加坡语言消失现象远比地处温带的英国来得严重

D. 因遭受殖民统治，新西兰土著毛利人放弃说本民族语言转而说英语

【参考答案及解析】

1. 【答案】A。解析：题干现象：在报道一个月后的三月份，食品杂货店的苹果销量大大下降了。A 项由于“许多食品杂货商移走了货架上的苹果”，导致消费者没有苹果可以买，因此食品杂货店的苹果销售大大地下降，最能解释题干现象。B 项由“消费者已对这类警告漠不关心”可知，苹果销量应该没有受到影响，不能解释题干现象，排除。C、D 项与题干论述无关，均排除。故本题选 A。

2. 【答案】D。解析：论点：政府对能源利用方面的管制是多余的，市场完全可以自行

调节能源的供需矛盾。论据：如果能源真的紧张，那么反映在市场上，能源价格自然会上涨，而能源价格的上涨，一方面会因为使用成本提高而使得人们减少对能源的使用，另一方面因为利润增加使得能源供应商增加供给。A、C项均属于市场调节的结果，加强论点，排除。B项属于无关项，排除。D项指出人们对能源的需求缺乏弹性，必然会导致市场失灵，即市场不能通过自身运行来调节能源的供需矛盾，最能质疑上述论断。故本题选D。

3. 【答案】C。解析：由“各国均不同程度地从中受益或受损，有的影响是正面的，有的影响却是负面的”，可知有的国家受到全球气候变暖的有益影响，有的国家受到全球气候变暖的有害影响，“有的是”为真，“所有都是”真假不定，A、B项不能推出，排除。由“有的国家既是全球气候变暖的污染源，也是气候变暖的受害者”，可知有的国家是全球气候变暖的污染源，有的国家是全球气候变暖的受害者，C项可以推出；“有的是”为真，“有的不是”真假不定，D项不能推出。故本题选C。

4. 【答案】A。解析：由“会玩的孩子更适应社会交往”可知不会玩的孩子交往技能较差，则根据“如果一个孩子交往技能比较差，就容易产生焦虑、紧张、多疑等负性情绪”“如果这些负性情绪长期得不到释放，甚至可能导致退缩性人格”，可知不会玩的孩子更容易心理不健康，即“会玩”是“心理健康”的必要条件，A项可以推出，B项不能推出。C、D项说法均过于绝对，排除。故本题选A。

5. 【答案】B。解析：由题干可知近亲繁殖不利于物种的遗传多样性发展，而不是“不利于物种进化”，A项不能推出。由“朱鹮成为世界濒危鸟类中遗传多样性最低的物种，这会导致种群抗病率降低、患病致死率上升，尤其是抵抗禽流感等致命性疾病能力极低”，可知遗传多样性对于朱鹮的生存与发展至关重要，且朱鹮灭绝的风险并没有减小，B项可以推出，C项不能推出。题干并未提及“发展人工培育和养殖技术”，D项无法推出。故本题选B。

6. 【答案】A。解析：题干可翻译为：①申请驾驶证→在道路上学习驾驶；②在道路上学习驾驶→使用教练车∧教练随车指导。A项翻译为“教练随车指导→在公路上驾驶”，“教练随车指导”肯定②后件的一个联言肢，无法确定后件的真假，不能推出肯定前件。B项“一教练随车指导→一在道路上学习驾驶”等价于“在道路上学习驾驶→教练随车指导”，符合②，可以推出，排除。由①②可知“申请驾驶证→使用教练车”，因此，如果只有驾校才有教练车（即“使用教练车→驾校”），则“申请驾驶证→驾校”，即申请驾驶证必须先上驾校，C项可以推出，排除。D项“申请驾驶证→在道路上学习驾驶”与①相符，可以推出，

排除。故本题选 A。

7. 【答案】C。解析：题干现象：一些游客常有怨言，但旅游购物的现象持续存在，甚至愈演愈烈。A 项说明导游因提成劝说游客去茶园参观，B 项指出许多游客喜欢在旅游时购物，D 项指出有些游客的旅游任务之一就是购物，均说明尽管有些游客有怨言，但因导游想获得提成或其他游客有购物的需求，旅游购物的现象持续存在，甚至愈演愈烈。C 项仅说明到黄山旅游的游客进茶园采购的原因，即节省时间，并未解释在一些游客常有怨言的情况下，旅游购物现象依然持续存在并愈演愈烈的原因。故本题选 C。

8. 【答案】A。解析：论点：政府应该禁止白酒企业在其营业收入中扣除广告费用。论据：扣除广告费用后，白酒企业将会缴纳更多的税金，他们只好提高白酒价格，而价格的提高又可以抑制白酒的消费，降低因过量饮酒而导致的各种疾病的发病率。A 项，假设白酒企业能通过降低其他方面的成本以抵消多缴的税金，则其没必要提高白酒价格，禁止白酒企业在其营业收入中扣除广告费用也达不到抑制白酒的消费、降低因过量饮酒而导致的各种疾病的发病率的目的，即论证无法成立，因此 A 项是题干论述的前提假设。B、C 项讲的是“做广告”，属于无关项，排除。D 项不是论证成立的必要条件，排除。故本题选 A。

9. 【答案】C。解析：题干论点：这样的法律规定保护了受害者的权利，维护了公共安全，同时，让可能的加害人分担责任，能够增强其监督预防的意识。A、B、D 项均与该法律的作用无关，不能支持论点，均排除。C 项说明该法律能够增强居民监督预防的意识，有利于维护公共安全，支持论点。故本题选 C。

10. 【答案】B。解析：题干观点是“经济发展是语言消失的重要原因”。A 项说明美国对少数民族地区语言采取了保护措施，C 项对比热带和温带的语言消失现象的严重程度，D 项说明殖民统治对语言的影响，均与“经济发展”无关，不能支持观点。B 项指出澳大利亚少数民族语言消失现象随着经济发展加快而日趋严重，支持题干观点。故本题选 B。

第五十辑

1. 某地统计数据显示，在有两胎以上的家庭里，若第一胎为男孩，则第二胎男女比例基本持平；若第一胎为女孩，则第二胎是男孩的比例明显高于女孩。

以下哪项如果为真，最能解释上述现象？（ ）

A. 该地总人口中男性比例高于女性比例

- B. 该地新出生人口中男孩比例高于女孩比例
- C. 在有二胎以上的家庭中第一胎为女孩的家庭占多数
- D. 在第一胎为女孩的家庭中第二胎出生性别受人为干预

2. 村书记说：“本村所有农户都已申请了农业开发专项贷款。”

村主任说：“或者本村最富有的刘家没有申请农业专项贷款，或者本村最贫穷的周家没有申请农业专项贷款。”

治保主任说：“事实上本村最富有的刘家也申请了农业专项贷款。”

村会计说：“经核实，本村确实有农户没有申请农业专项贷款。”

已知上述谈话中只有一人说的是假话，据此可推出以下哪项结论？（ ）

- A. 村书记说了假话，本村最富有的刘家没申请
- B. 村主任说了假话，本村最富有的刘家和最贫穷的周家都申请了
- C. 治保主任说了假话，本村最富有的刘家没申请
- D. 村书记说了假话，本村最贫穷的周家没申请

3. 小红比小华胖，但是因为小明比小刚更胖，所以小红比小刚更胖。

以下各项作为新的前提分别加入到题干的前提中，不能使题干的推理成立的是（ ）。

- A. 小华与小明一样胖
- B. 小明比小红更胖
- C. 小华比小刚更胖
- D. 小红和小明一样胖

4. 所有想从事 IT 工作的学生都学习了计算机 C 语言，小吴学习了 C 语言，他一定想从事 IT 工作。

下列哪项为真，最能支持上述判断？（ ）

- A. 所有学习计算机 C 语言的学生都想从事 IT 工作
- B. 有些计算机程序员是计算机 C 语言专业的毕业生
- C. 想从事 IT 工作的学生有些报考了计算机 C 语言专业
- D. 只有计算机 C 语言专业毕业的学生，才有资格从事 IT 工作

5. 尽管计算机可以帮助人们进行沟通，计算机游戏却妨碍了青少年沟通能力的发展。

他们把课余时间都花费在玩游戏上，而不是与人交流上。所以说，把课余时间花费在玩游戏上的青少年比其他孩子有较差的沟通能力。

以下哪项是上述议论最可能假设的？（ ）

- A. 一些被动的活动，如看电视和听音乐，并不会阻碍孩子们交流能力的发展

- B. 大多数孩子在玩电子游戏之外还有其他事情可做
- C. 在课余时间不玩电子游戏的孩子至少有一些时间是在与人交流
- D. 传统的教育体制对增加孩子们与人交流的能力没有帮助

6. 中国古诗中曾有“借酒消愁愁更愁”的句子。日本专家则通过动物实验验证了这句话的科学性，即饮酒会让人对不愉快的记忆更深刻。实验人员把大白鼠挪到与平常的饲养环境不同的箱子里，并给它们以电击。接着，把实验鼠关回往常的饲养箱，第二天再把它挪到曾经给它们带来恐怖的箱子。依靠大白鼠在箱子中呆立不动的时间长短，来测算大白鼠恐怖记忆的程度。这时，研究人员把大白鼠分成两组，只让其中的一组饮用酒精，然后把它们再次关入“恐怖箱”，观察大白鼠呆立不动的时间，以验证酒精对于实验鼠的影响。

以下哪项如果为真，最能支持上述结论？（ ）

- A. 与未饮用酒精的实验鼠相对照，“醉酒”的实验鼠呆立不动的时间会变得更长
- B. 在未分组之前，如果不再次给大白鼠以电击，大白鼠在“恐怖箱”中呆立不动的时间和之前一样
- C. 与未饮用酒精的实验鼠相对照，“醉酒”实验鼠呆立不动的时间较短
- D. 在未分组之前，如果继续给大白鼠以电击，大白鼠在“恐怖箱”中呆立不动的时间越来越短

7. 一个学历低的职专毕业生与一个普通高校毕业生相比，也存在自己的比较优势。在实用技能方面，毫无疑问，低学历的职专学生要胜人一筹，他们在校期间就有大量的动手机会和实践机会，而高学历的普通高校毕业生，有一些有很强的书呆子气，他们可能适合于从事教学、科研，但到一些公司里去，动手实践能力明显弱于低学历的职专毕业生。

下列各项中最能削弱上述论点的是（ ）。

- A. 越来越多的大学生在校期间就有机会到公司实习
- B. 不同领域的公司对于雇员的要求不同
- C. 高学历的学生通常动手能力比较差
- D. 职专毕业生在理论层面上远不如大学毕业生

8. 澳大利亚研究人员称，桉树在吸收水分的同时，会将水中微量的金元素吸收进树体。通过分析桉树落叶中金的含量，可指示金矿的位置，不用钻探就能了解地表以下是否有矿藏。因此桉树探矿法对矿产勘探具有重要意义。

以下哪项如果为真，最能削弱上述结论？（ ）

A. 金矿一般都埋藏于砂石层之下，普通土壤层在砂石层上面，植物的根生长在土壤层
B. 澳洲西南部的的新南威尔士州富含金矿，当地的桉树叶中含金量与其他地区并无显著差异

C. 桉树探矿法的实施周期较长，需要等待桉树成材之后才能有效
D. 澳洲西南部有大片的桉树林，澳洲最早发现的金矿也在那里

9. “五岳归来不看山”，以下选项中与上述推理方式最相近的是（ ）。

A. 疑是银河落九天
B. 桂林山水甲天下
C. 稻花香里说丰年
D. 二月春风似剪刀

10. 某市工商局的员工数量较五年前减少了数百人，但新办企业办证时间减少了一周。

由此可以得出结论：目前该市工商局的员工工作效率较五年前有明显的提高。

以下各项如果为真，不能支持上述论证的是（ ）。

A. 该工商局增加了新办企业办证的环节
B. 该工商局管理力度较五年前有明显加强
C. 该市新办企业数量较五年前也有大幅度减少
D. 新办企业办证时间主要取决于人员办事的速度

【参考答案及解析】

1. **【答案】D**。解析：题干现象：在有二胎以上的家庭里，若第一胎为男孩，则第二胎男女比例基本持平；若第一胎为女孩，则第二胎是男孩的比例明显高于女孩。A、B项均属于题干现象可能造成的结果，不能解释；C项第一胎为女孩的家庭占多数，不能说明为何这类家庭第二胎是男孩的比例高于女孩，也不能解释；D项指出“在第一胎为女孩的家庭中第二胎出生性别受人为干预”，即人为干预胎儿性别造成题干现象，最能解释。故本题选D。

2. **【答案】D**。解析：村书记和村会计的话矛盾，则必有一真一假，由“上述谈话中只有一人说的是假话”可知村主任和治保主任的话均为真。由治保主任的话为真，可知①本村最富有的刘家申请了农业专项贷款。村主任的话可翻译为“本村最富有的刘家没有申请农业专项贷款 \vee 本村最贫穷的周家没有申请农业专项贷款”，①否定该相容选言命题的一个选言肢，则肯定另一个选言肢，即“本村最贫穷的周家没有申请农业专项贷款”为真，则村会计的话为真，村书记的话为假。综上，A、B、C三项错误，D项正确。故本题选D。

3. 【答案】B。解析：题干信息可以翻译为：①小红 > 小华；②小明 > 小刚。假设 A 项正确，即小华 = 小明，结合①②可得小红 > 小华 = 小明 > 小刚，则小红 > 小刚，题干推理成立；假设 B 项正确，即小明 > 小红，则小红和小刚的关系不能确定，不能使题干推理成立；假设 C 项正确，即小华 > 小刚，结合①可得小红 > 小华 > 小刚，题干推理成立；假设 D 项正确，即小红 = 小明，结合②可得小红 = 小明 > 小刚，题干推理成立。故本题选 B。

4. 【答案】A。解析：题干可以翻译为“想从事 IT 工作 → 学习了 C 语言”，即“学习了 C 语言”是“想从事 IT 工作”的必要条件，要由“小吴学习了 C 语言”推出“小吴想从事 IT 工作”，必须证明“学习了 C 语言”是“想从事 IT 工作”的充分条件。A 项可翻译为“学习了 C 语言 → 想从事 IT 工作”，符合要求。B 项属于无关项。C 项不能必然推出题干结论。D 项讲的是“有没有资格”的问题，而题干讲的是“想不想”的问题。故本题选 A。

5. 【答案】C。解析：论点：把课余时间花费在玩游戏上的青少年的沟通能力比其他孩子较差。论据：计算机游戏却妨碍了青少年沟通能力的发展。他们把课余时间都花费在玩游戏上，而不是与人交流上。A 项看电视和听音乐与玩计算机游戏无关，B 项做其他事情与沟通无关，D 项传统的教育与计算机游戏的关系，均属于无关项，排除。C 项在课余时间不玩电子游戏的孩子至少有一些时间是在与人交流，则玩电子游戏的孩子与人交流的时间比不玩电子游戏的孩子少，因此把课余时间花费在玩游戏上的青少年比其他孩子有较差的沟通能力，直接加强了论点。故本题选 C。

6. 【答案】A。解析：论点：饮酒会让人对不愉快的记忆更深刻。论据：大白鼠饮酒后在恐怖箱中呆立的时间长短。B、D 项是未分组之前的现象，并不能说明酒精对大白鼠不愉快记忆的影响，均排除。A 项饮酒后的大白鼠在恐怖箱中呆立的时间变长，说明它饮酒后加深了对电击的记忆，支持论点。C 项饮酒后大白鼠反而呆立时间更短，说明忘掉了电击的记忆，削弱了论点。故本题选 A。

7. 【答案】A。解析：论点：在实用技能方面，低学历的职专学生要强于高学历的普通高校毕业生。论据：低学历的职专学生在校期间就有大量的动手机会和实践机会。A 项削弱论据，最能削弱论点；B 项属于无关项，题干仅提及实用技能这一方面，不涉及公司对雇员的其他要求；C 项支持论点；D 项也属于无关项，题干比较的是实用技能，而非理论层面。故本题选 A。

8. 【答案】A。解析：论点：桉树探矿法对矿产勘探具有重要意义。论据：桉树在吸收水分的同时会将水中微量的金元素吸收进树体，通过分析桉树落叶中金的含量能了解地表

以下是否有矿藏。A项说明根据桉树探矿法并不能指示金矿的位置，最能削弱结论；B项只是一个地区的情况，削弱力度不及A项；C项“实施周期较长”并不能削弱桉树探矿法对矿产勘探的意义；D项桉树林与金矿的联系不明确，不能削弱。故本题选A。

9. 【答案】B。解析：题干“五岳归来不看山”属于不完全归纳的推理过程，即从五岳推出可以不再用观看其他的山，认为五岳比其他山风景都优美，但是从常识的角度，不可能将所有的山都观看到。B项“桂林山水甲天下”是指桂林的山水风景优于天下所有的风景，也属于不完全归纳。A项“疑是银河落九天”引用了夸张手法、D项“二月春风似剪刀”引用了比喻手法，均不具有推理过程，排除。C项“稻花香里说丰年”，即稻花香→丰收，属于演绎推理，排除。故本题选B。

10. 【答案】C。解析：论点：目前该市工商局的员工工作效率较五年前有明显的提高。论据：该市工商局的员工数量较五年前减少了数百人，但新办企业办证时间减少了一周。A项增加环节会延长办证时间，但新办企业办证时间减少，说明工商局员工的工作效率有所提高，能够支持；B项管理力度加强有助于提高员工的工作效率，能够支持；C项说明办证时间减少很可能是因为新办企业大幅度减少，属于他因削弱，不能支持；D项说明办证时间减少能够代表员工效率提高，可以支持。故本题选C。