

展鸿公务员录用考试笔试试卷  
《行政职业能力测验》模拟卷（二）



扫描添加陈老师微信

领取海量电子资料

第一部分 言语理解与表达

（共 25 题，参考时限 25 分钟）

本部分包括表达与理解两方面的内容。请根据题目要求，在四个选项中选出一个最恰当的答案。

请开始答题：

1. 对于古埃及的农民来说，\_\_\_\_\_尼罗河泛滥的规律是性命攸关的大事，因此他们\_\_\_\_\_着去计算天数，小心地记录日期。他们把月亮和星星作为日历，当天狼星在夏天升起的时候，古埃及人知道尼罗河就要泛滥了；接着当新月的时候，就是古埃及新一年的开始。

依次填入划横线部分最恰当的一项是（ ）。

A. 揭示 尝试      B. 遵循 坚持      C. 总结 学习      D. 掌握 摸索

2. 近年来的国产舞台喜剧，往往能够轻描淡写地再现并拆解社会难题，具有较高的思想价值和现实意义，可以说是\_\_\_\_\_。

填入划横线部分最恰当的一项是（ ）。

A. 举重若轻      B. 借古讽今      C. 微言大义      D. 振聋发聩



- A. 修身养性 瑕不掩瑜                      B. 兢兢业业 好大喜功  
C. 闻过则喜 讳疾忌医                      D. 博采众长 刚愎自用

10. 语言在代代相传的过程中会发生改变。在人口众多的族群中，语言倾向于保持\_\_\_\_\_，原因很简单，因为有更多的人能记住上一辈说话的方式，然而在规模较小的族群中，语言有可能更快地发生变化，在世代交替中有些将会\_\_\_\_\_。

依次填入划横线部分最恰当的一项是（ ）。

- A. 稳定 流失                      B. 传统 异化                      C. 活力 消亡                      D. 原貌 式微

11. 屏幕阅读与在线阅读的兴起，以及海量信息的便捷搜索，使人们的阅读呈现出“浅阅读”的特征。即时的在线阅读取代了传统的青灯黄卷式的经典阅读。快餐式、浏览式、随意性、跳跃性、碎片化的阅读是典型的浅阅读。其实，不仅在网络阅读中有较为突出的浅阅读，纸面阅读中的浅阅读同样不容忽视。

作者通过这段文字意在说明（ ）。

- A. 浅阅读形成的客观原因                      B. 浅阅读有哪些基本特点  
C. 浅阅读存在于哪些领域                      D. 浅阅读显现的消极影响

12. 拖延、囤积、注意力匮乏、“选择性障碍”“社交恐惧”……似乎突然之间，这样古怪的病症在都市人群中爆发。病因暧昧且无计可施。有人认为，这些“病症”的出现，与中国在都市进程的加速以及互联网时代的碎片化特征息息相关。实际上，这些“病症”处于某些心理障碍和真正疾病之间。它更像是一种对于当下精神状态的随意描述。

从这段文字中可以看出，对于这些“病症”的描述，作者的立场是（ ）。

- A. 不认同                      B. 不理解                      C. 不否认                      D. 不排斥

13. 创新不是艺术家的自娱自乐、自我欣赏。目前民族歌剧创作存在着创作者把自己封闭在“象牙塔”里的现象，从题材、内容到手法，全是自己偏好的那一套，是“一己悲欢、杯水风波”，自己津津乐道，老百姓却不喜欢，不爱听。笔墨当随时代，\_\_\_\_\_。

填入划横线部分最恰当的一项是（ ）。

- A. 创新是对传统局限的突破和超越，更是在继承传统基础上的发展  
B. 民族歌剧创作应打破歌剧和音乐剧的界限，积极借鉴音乐剧的当代表现方式  
C. 从民族文化艺术中汲取营养是民族歌剧经典之作的成功之道  
D. 民族歌剧的创新也要体现时代特色，反映当代观众的审美需求

14. 除了品种，温度和光照也会影响到茶氨酸的分解。在关于茶的各种诗文中，优质的茶总是生长在深山幽谷。除了水源土壤的清洁，更重要的原因在于深山幽谷中光照不足，而在春天茶叶发育期间温度较低，所以茶氨酸的分解以及儿茶素的合成受到抑制，这样制得的春茶茶氨酸含量高而茶多酚含量低，也就更好喝。

根据文意，下列说法不正确的一项是（ ）。

- A. 受到较多光照的茶叶会使茶氨酸含量降低  
B. 一般产自深山幽谷的茶叶比平地上的好喝

- C. 抑制茶氨酸的分解后制成的茶叶味道不佳
- D. 秋茶一般不如春茶好喝与茶树光照多有关

15. ①每年清明节期间，新茶初出，最适合参斗

②斗茶，即比赛茶的优劣，又名斗茗、茗战，始于唐，盛于宋，是古代有钱有闲人的雅玩

③斗茶的场所，多选在有规模的茶叶店，前后二进，前期扩大为店面，后天狭小，兼有厨房便于煮茶

④在古代，斗茶可谓风靡一时，如同西班牙斗牛一般惹人眷爱，但不同的是，斗茶要文雅的多，其文化内涵也十足丰富

⑤有些人家，有比较雅洁的内室或花木扶疏的庭院，或临水，或清幽，都是斗茶的好场所

⑥宋代是一个极讲究茶道的时代，宋徽宗赵佶撰《大观茶论》，蔡襄撰《茶录》，黄儒撰《品茶要录》，可见宋代斗茶之风极盛

将以上 6 个句子重新排列，语序正确的是（ ）。

- A. ⑥③⑤②①④
- B. ④②⑥①③⑤
- C. ②①③⑤④⑥
- D. ①②⑥③⑤④

16. “张园”曾在上海滩名噪一时，它北起今南京西路，南至威海路，东起石门一路，西至茂名北路。而现今的吴江路步行街就是原来张园池塘的所在地。张园作为旧上海极具魅力的著名私家园林，其发端可追溯到百年前，即在上海开埠不久，约 1872 年到 1878 年之间，旧址是英商和记洋行经理格龙的私人花圃。后经两次转租，1882 年无锡富商张叔和将其买下，并取名为“味菴园”，在园中按西洋风格修建园林假山、亭台楼阁，它的命运也由此得到改变。

作者接下来最可能讲述的是（ ）。

- A. 张园的前世今生
- B. “味菴园”得名之由来
- C. 张园的地理位置
- D. 张叔和对张园的改造

17. 一般认为，六经是汉代尊崇的六部定本典籍。其实，孔子以前的六经存在多种版本，其所指并非单一对象，故诗、书、礼、乐、易、春秋是文献的类名而非私名，各自代表了一种知识的门类 and 一类文献的汇编，还没有普遍流行的和被接受的定本。为了与孔子经典化了的、定本的、私名的六经相区别，我们称这六种尚未定本的诗、书、礼、乐、易、春秋为“前六经”。

最适合做这段文字小标题的是（ ）。

- A. “前六经”是什么
- B. “前六经”有什么
- C. “前六经”的主要特色
- D. “前六经”的经典意义

18. 长期以来，由于我国奉行防御性国防政策，在战区空间划设上基本立足本土与近海防御，依照“守疆卫土”模式而建，军事触角很少延伸到疆土之外。但未来，我国所面临的发展危机将远远大于生存危机，要适应维护国家安全与发展利益新要求，应将周边、海外以及新型安全领域纳入战区经略范围，进一步拓展战区任务职能，使其更具外向性、开放性、积极性。尤其是随着多极化、全球化与信息化的飞速发展，国家传统安全领域开始向太空、网络、信息、电磁等领域拓展，未来战区经略范围应进一步向太空及临近空间拓展延伸，着力形成强而有力的多维立体战区空间态势。

这段文字意在表明，我国（ ）。

- A. 应拓展国防防御的范围
- B. 国防面临严峻的发展危机
- C. 传统安全领域受到新的挑战
- D. 国防战区经略要顺应时代要求

19. 说到食品安全的治理，人们首先想到的是，中国依然是一个发展中国家，各个方面的制度建设不够完善。面对现实，人们自然而然地将问题引向法律法规制度、政府监管体系、社会治理机制的完善。这一指向当然是正确的，政府也沿着这些方向做了许多努力。但是这类治理方案的一个问题是，“远水解不了近渴”。

作者引用“远水解不了近渴”想要表达的意思是（ ）。

- A. 中国短时期之内无法真正解决食品安全问题
- B. 相关法律及机制建设不是短时间内可以完成的
- C. 作为发展中国家要解决食品安全问题难度极大
- D. 想解决食品安全问题必须做好长期工作的准备

20. 网络时代，并不是说我们缺乏人际关系，恰恰相反，从来没有哪一个时代，人们之间的关系能够像今天一样丰富：跨越地域，跨越圈子，跨越国家和种族。我们手机通讯录里的人名，动辄数以百计。然而数量的扩充，总以质量的下降为代价。或者正因为质量的下降，才越发追求数量上的提升。反正大部分的关系，也不过是朋友圈上的点赞，过节时的群发，手指动一动而已，不需要费心打理。也正因如此，陷入了恶性循环。

对这段话理解最恰当的一项是（ ）。

- A. 人际关系不能只靠网络上的符号维持
- B. 通讯录上名单越来越长，人们交流机会越来越多
- C. 在网络时代的人际交往中，交友数量大量提升
- D. 网络时代，人际关系不需要费心打理

21. 在北欧国家，社会阶级具有很高的组织化程度。无论是劳方还是资方都被有效地组织起来进行利益争斗，工会的影响力和集中化程度也很高，从而为各利益群体之间进行政治协商提供了基础。政府也很早就介入到劳资关系的制度化过程中。国家或政府作为公共利益的代表，参与和介入到这一谈判机制中，经常作为各种利益的协调者，以确保三方谈判机制的运作。在谈判过程中，当利益双方各持己见、谈判破裂或难以持续的时候，政府就成为保证这一机制继续运行的关键因素。

这段文字意在强调（ ）。

- A. 劳方和资方经常进行利益争斗
- B. 工会具有较高的影响力和集中化程度
- C. 三方谈判机制容易出现僵持不下的局面
- D. 政府在谈判机制顺畅运行中的积极作用

22. 当一种关注度热、期待性高、专业性强且被贴上全民利益标签的环境民事公益诉讼案件，日渐成为法院审判工作的新挑战之时，进行各种尝试及机制创新就成为应对复杂环境法治局面的必由之路，特别是如何逾越法官“隔行如隔山”的知识性短板实现裁判的准确高效，就是体制机制创新的核心。

这段文字告诉我们（ ）。

- A. 环境诉讼案件的审判需要更高的专业素养
- B. 法官必须不断完善其知识体系
- C. 司法部门体制创新效果显著
- D. 法院审判工作应通过创新应对挑战

23. 中国老百姓过去有敬惜字纸的传统，进入现代社会，文字或者阅读的这种神圣感正在逐渐消解，一个重要原因是出版变得容易了，书不像以往那么金贵了。中国现在每年出版 40 多万种纸质图书，规模空前，但其中真正能够浸润心灵、开启心智的图书数量仍然有限。面对琳琅满目的新书进行挑选时，人们往往首先感受到的既不是对知识的敬意，也不是“开卷有益”的喜悦，而是“这是一本好书吗？值得花费几个小时甚至几天的时间去读吗？”

根据这段文字，人们对书籍不再像过去那样爱惜是因为（ ）。

- A. 出版书籍数量太多难以选择
- B. 电子书对纸质书的冲击较大
- C. 社会心态浮躁难以静心阅读
- D. 书籍数量多了但质量没跟上

24. 在真实财富概念基础上，建设社会将会是充满挑战的：它需要勇气、正义和智慧这样的高尚品德，也需要我们之间、后代之间、长辈之间、邻里之间以及政治家之间的严肃对话来决定何种前进道路能够实现我们的福祉。对人类来说，重新界定金钱的性质，纠正金钱对我们生活的奴役，重塑金钱的角色，以期服务我们真正的共同需要，这些才是最重要的。

通过这段文字，作者想表达的主要观点是（ ）。

- A. 我们需要摆正自身与金钱的关系
- B. 我们应该成为金钱的主人，而不是金钱的奴隶
- C. 对话是实现我们福祉的关键
- D. 建设一个尚德向善的社会需要很多的付出

25. 用货币来解读宏观经济，这种方法当然不是独创，而是经济学的传统。在芝加哥大学，没有宏观经济学与微观经济学课程，只讲“货币”和“价格”理论。宏观经济学的核心是“货币”，微观经济学的核心是“价格”。这就抓住经济学的实质。《货币的教训》正是用货币来解释中国经济现存的各种问题，也就是我们所关注的“热点”。从国内到国际，包罗万象，但万变不离货币，正是这本书的特色。

这段话意在说明（ ）。

- A. 用货币来解读宏观经济是经济学的传统
- B. 芝加哥大学只有“货币”与“价格”理论
- C. “货币”和“价格”是经济学的关键词
- D. 《货币的教训》一书的内容和写作特点

## 第二部分 数量关系

(共 15 题，参考时限 20 分钟)

在这部分试题中，每道题呈现一段表述数字关系的文字，要求你迅速、准确地计算出答案。

请开始答题：

26. 办公室的一个箱子里装有红、黑两种水笔，已知黑笔的数量是红笔数量的 2 倍，小刘每次从箱子里取出 5 支黑笔和 3 支红笔，取了若干次以后，发现箱子里剩下 14 支黑笔和 3 支红笔，那么箱子里原有黑笔多少支？（ ）

- A. 34                      B. 39                      C. 54                      D. 63

27. 把一个正方体切成两个长方体，表面积增加了 18 平方米。问原来正方体的体积为多少？（ ）

- A. 8 立方米                B. 242 立方米            C. 27 立方米              D. 542 立方米

28. 甲、乙两座城市之间的路程为 1200 千米，一辆客车和一辆货车同时从两地匀速对开。货车每小时行 70 千米，比客车快  $\frac{2}{5}$ ，则两车经过（ ）小时相遇。

- A. 8                        B. 10                        C. 12                        D. 14

29. 某次数学竞赛共有 10 道选择题，评分办法是每答对一题得 4 分，答错一题扣 2 分，不答不得分。则本次竞赛最多有多少种可能的成绩？（ ）

- A. 28                        B. 30                        C. 32                        D. 36

30. 一个不透明的布袋里装有 5 个大小、质地均相同的乒乓球，每个球上面分别标有 1、2、3、4、5。小郎分两次（不放回）从布袋中随机抽取 2 个乒乓球。问这 2 个乒乓球的数字之积为奇数的概率是多少？（ ）

- A.  $\frac{2}{3}$                         B.  $\frac{2}{5}$                         C.  $\frac{3}{10}$                         D.  $\frac{5}{12}$

31. 教委向甲、乙、丙、丁 4 所学校发放一批课外书，各学校平均分配后剩 3 本；将这 3 本也给丁校后，将丁校的这些书平分给一、二、三 3 个年级后剩 2 本；将丁校二年级的书再平分给 6 个班后剩 3 本。若丁校二年级每班得书的数量是甲校总得书量的  $\frac{1}{20}$ ，问教委共发放了多少本课外书？（ ）

- A. 163 本                    B. 235 本                    C. 287 本                    D. 323 本

32. 某手工作坊需要折一批纸花，8 个人做需要 6 天完成，但工作一天后，其中 3 人有事不能继续工作。假设每人工作效率相同，则剩下的工作量需要多少天完成？（ ）

- A. 5                        B. 6                        C. 7                        D. 8

33. 某班同学约定一起坐车去旅游，如果每辆车坐 26 人，还剩 5 人没位置；如果每辆车坐 32 人，则空出 13 个座位。问每辆车坐 30 人，空出多少个座位？（ ）

- A. 6                        B. 7                        C. 8                        D. 9

34. 甲、乙和丙共同投资一个项目并约定按投资额分配收益。甲初期投资额占初期总投资额的  $\frac{1}{3}$ ，乙的初期投资额是丙的 2 倍。最终甲获得的收益比丙多 2 万元。则乙应得的收益为多少万元？（ ）

- A. 6                        B. 7                        C. 8                        D. 9

35. 李立下课后从学校步行回家，10 分钟后爸爸从家骑自行车来学校接李立，再过 10 分钟两人相遇。已知学校与家相距 5000 米，相遇时爸爸比李立多行了 1000 米。问爸爸骑自行车的速度是李立步行速度

的几倍? ( )

- A. 1                      B. 2                      C. 3                      D. 4

36. 小明身高 177cm, 路灯高 330cm, 小明从路灯柱开始以 1.2m/s 的速度匀速前进, 发现其影子也是匀速前进, 请问, 小明影子最远处的行进速度是多少? ( )

- A. 1.2m/s                  B. 2.24m/s                  C. 2.42m/s                  D. 2.59m/s

37. 一次课堂测验共有 8 道判断题, 答对一题得 10 分, 答错一题得 0 分。小东、小亮和小红三人的得分总数为 180 分, 已知三人答案相同的有 4 道, 答案不完全相同的有 4 道, 则三人全答对的题目有多少? ( )

- A. 1 道                      B. 2 道                      C. 3 道                      D. 4 道

38. 一水果店每块菠萝平均成本 0.5 元, 当天出售每块 1 元, 当日未售出的第二天按成本价出售, 第二天卖不掉就扔掉。假设该水果店每天都准备 150 块菠萝出售, 一个月 30 天当中, 该水果店有 20 天当天售完, 有 6 天平均第二天卖 30 块才卖完, 有 4 天平均第二天卖 20 块并扔掉 30 块。请问该水果店这一个月 (按 30 天算), 净赚多少钱? ( )

- A. 2000 元                  B. 1950 元                  C. 2400 元                  D. 1800 元

39. 四人年龄为相邻的自然数列且最年长者不超过 30 岁, 四人年龄之积能被 2700 整除且不能被 81 整除。则四人中最年长者多少岁? ( )

- A. 30                      B. 29                      C. 28                      D. 27

40. “有女不善织”这一名题见于我国古代的《张丘建算经》, 题目的意思是: 有位妇女不善于织布, 她每天织的布都比前一天减少一些, 并且减少的数量都相等, 已知第一天织了 5 尺布, 最后一天织了 1 尺布, 一共织了 30 天。按 1 匹=4 丈、1 丈=10 尺计算, 请问她一共织了多少布? ( )

- A. 2 匹 1 丈                  B. 2 匹 2 丈                  C. 4 匹 1 丈                  D. 4 匹 2 丈

### 第三部分 常识判断

(共 20 题, 参考时限 15 分钟)

根据题目要求, 在这四个选项中选出一个最恰当的答案。

**请开始答题:**

41. 有诗云“绿树阴浓夏日长, 楼台倒影入池塘”, 这里主要涉及的光学原理是 ( )。

- A. 光的折射                  B. 光的散射                  C. 光的直线传播                  D. 光的衍射

42. 下列关于生活常识的表述错误的是 ( )。

- A. 油锅着火时应立即盖上锅盖                  B. 湿头发睡觉易引发头晕、恶心等症状  
C. 脏衣服需多抹肥皂才能洗得干净                  D. 室温在 20~25℃时人的睡眠质量最好

43. 下列关于国际战争说法正确的是 ( )。

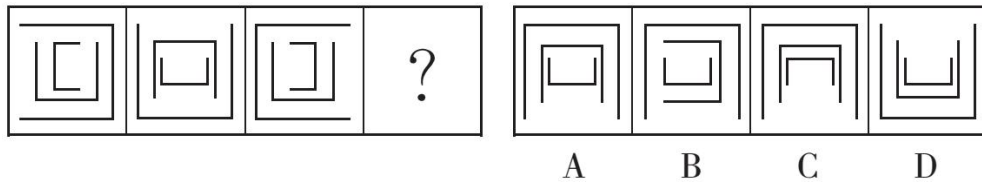
- A. 2005 年美国军方绕开联合国安理会对伊拉克实施军事打击  
B. 叙利亚内战从 2011 年年初持续至今



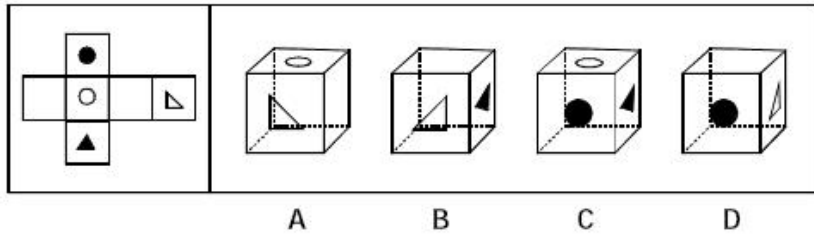
- C. 索马里内战始于 1986 年，止于 1997 年
- D. 阿富汗反恐战争以基地组织领导人本·拉登的死亡而告终
44. 根据刑法的相关规定，下列关于数罪并罚的说法错误的是（ ）。
- A. 有期徒刑的数罪并罚最高不超过二十五年
- B. 拘役的数罪并罚最高不超过一年
- C. 管制的数罪并罚最高不超过三年
- D. 有期徒刑与拘役并罚的，先执行有期徒刑，后执行拘役
45. 孔子说，一种人“和而不同”，还有一种人“同而不和”。下列角色行为属于“和而不同”的是（ ）。
- A. 公务员小李敢于指出领导脱离群众的缺点，使领导的群众基础更牢
- B. 副镇长小张任职后谦虚谨慎，对老镇长的指示一向言听计从
- C. 村支书小吴很会做宣传动员工作，总能说服群众接受村委会的各项决定
- D. 选调生小刘喜欢张扬个性，走上工作岗位后常常是“独树一帜”
46. 关于蛋白质，下列说法正确的是（ ）。
- A. 组成蛋白质的基本单位是核苷酸
- B. 蛋白质在被人体消化吸收过程中发生了水解
- C. 蛋白质均含有碳、氧、氢、氮、磷等五种元素
- D. 蛋白质是人体内最直接的能源
47. 坚持反腐败无禁区、全覆盖、零容忍，坚定不移“打虎”“拍蝇”“猎狐”，（ ）的目标初步实现，（ ）的笼子越扎越牢，（ ）的堤坝正在构筑，反腐败斗争压倒性态势已经形成并巩固发展。
- A. 不敢腐 不能腐 不想腐
- B. 不能腐 不敢腐 不想腐
- C. 不想腐 不敢腐 不能腐
- D. 不敢腐 不想腐 不能腐
48. 一些精明的商家从大学生毕业就业中发现了不少商机，围绕“大学生求职”在服务形式和服务内容上不断推陈出新，使得“求职经济”愈发火爆，甚至有教育咨询公司和人力资源公司开始涉足“就业经纪人”业务。从经济学角度讲，这主要说明（ ）。
- A. 生产决定消费的质量和水平
- B. 消费是生产的动力
- C. 消费是生产的动力
- D. 生产决定消费的对象和方式
49. 下列关于金陵十二钗正册判词与人物对应正确的是（ ）。
- A. 可叹停机德，堪怜咏絮才。玉带林中挂，金簪雪里埋——薛宝钗
- B. 欲洁何曾洁，云空未必空。可怜金玉质，终陷淖泥中——妙玉
- C. 富贵又何为？襁褓之间父母违。展眼吊斜晖，湘江水逝楚云飞——贾惜春
- D. 凡鸟偏从末世来，都知爱慕此生才。一从二令三人木，哭向金陵事更哀——秦可卿
50. 莎士比亚是西方文艺复兴时期最伟大的戏剧家，他的代表作“四大悲剧”指的是（ ）。
- A. 《哈姆雷特》《奥赛罗》《李尔王》《麦克白》
- B. 《唐·吉珂德》《吝啬鬼》《奥德赛》《人间喜剧》

- C. 《唐·吉珂德》《吝啬鬼》《哈姆雷特》《人间喜剧》  
D. 《吝啬鬼》《奥德赛》《麦克白》《人间喜剧》
51. 北京故宫是中国明清两代的皇家宫殿，下列有关说法错误的是（ ）。
- A. 故宫太和殿的垂脊上装饰着 10 只小兽      B. 明清两代共有 24 位帝王在故宫生活过  
C. 故宫是中国现存最大的古建筑群      D. 故宫三大殿为养心殿、中和殿、保和殿
52. 在化学反应前后，发生改变的是（ ）。
- A. 原子的个数      B. 原子的种类      C. 原子的质量      D. 原子的组合
53. 下列著名战役与其他三项不是发生在同一个省份的是（ ）。
- A. 牧野之战      B. 官渡之战      C. 长平之战      D. 桂陵之战
54. 下列解说词出自电视专题片，其中符合自然常识的是（ ）。
- A. “每年除夕夜，这里的爆竹声都震耳欲聋，烟雾弥漫不见明月。”  
B. “他把神鼓当作月亮，而那七只鹿崽就是环绕着他的北斗七星。”  
C. “天快亮了，月亮还挂在天空，他突然想起来今天是农历初八。”  
D. “黎明时分，一弯月牙与金星同现东方低空，这便是金星合月。”
55. 基尼系数是国际上用来综合考察居民内部收入分配差异状况的一个重要分析指标，可以有效地预警两极分化的质变临界值，是衡量贫富差距的最可行方法。收入分配绝对平均时，基尼系数（ ）。
- A. 大于零      B. 等于零      C. 大于零小于一      D. 等于一
56. 下列成语与描述的对象对应正确的是（ ）。
- A. 举案齐眉——师生      B. 琴瑟和谐——夫妻  
C. 如胶似漆——姐妹      D. 如手如足——父子
57. 关于医学常识，下列说法错误的是（ ）。
- A. 肝脏是人体最重要的代谢和解毒器官      B. 长期“趁热”吃饭菜易得食道癌  
C. 冻疮是皮肤上的毛细血管受损导致的      D. 水痘为呼吸道传播，日常密切接触不传染
58. 下列各项中哪一项不全是“竹林七贤”人物？（ ）
- A. 向秀 阮籍 山涛      B. 孔融 向秀 嵇康  
C. 向子期 阮籍 嵇康      D. 刘伶 向秀 山涛
59. 根据《民事诉讼法》，下列当事人不服法院终审判决所采取的做法，不正确的是（ ）。
- A. 向上一级人民法院申请再审  
B. 当事人一方人数众多，向原审人民法院申请再审  
C. 向人民检察院申请检察建议或者抗诉  
D. 向上一级人民政府信访工作机构提出信访事项
60. 下列关于能源的表述，错误的是（ ）。
- A. 地热能源于地球的熔融岩浆和放射性物质的衰变  
B. 目前核能的利用主要形式是裂变能  
C. 太阳能的利用形式只有光热转换





65. 左边给定的是纸盒的外表面，下列哪一项能由它折叠而成？（ ）



二、定义判断。每道题先给出定义，然后列出四种情况，要求你严格依据定义，从中选出一个最符合或最不符合该定义的答案。注意：假设这个定义是正确的，不容置疑的。

**请开始答案：**

66. 酒与污水定律，是指一勺酒倒进一桶污水，得到的是一桶污水；把一勺污水倒进一桶酒里，得到的还是一桶污水。显而易见，污水和酒的比例并不能决定这桶东西的性质，真正起决定作用的就是那一勺污水，只要有它，再多的酒都成了污水。

根据上述定义，下列符合“酒与污水定律”的是（ ）。

- A. 在黑龙江，中俄边境贸易一度非常繁荣。后来，部分中国人开始贩假牟取暴利，严重损害了中国商人声誉，结果导致俄罗斯人纷纷放弃了交易
- B. 由于父母工作变动，小张转到了一所新中学，新学校学习风气很好，后来不爱学习的小张慢慢也变得好学了
- C. 小李很优秀，但参加工作后却发现周围同事都沉迷网络耽于享乐，小李于是离开了该单位
- D. 大家都在人行横道的红灯前安静地等候，突然有两个人很急躁地闯红灯过马路，受到了大家的批评

67. 攀比效应指社会经济活动中某些相关的经济主体或利益主体在分配利益方面存在的相互影响、轮番推进的现象。

根据上述定义，下列属于攀比效应的是（ ）。

- A. 公司员工在工资上互相比较，要求公司调整工资
- B. 两个中学生暗自较劲，努力学习，争当第一
- C. 朋友之间经常在比谁的孩子最聪明
- D. 通过实地参观，甲公司发现乙公司的管理比较科学

68. 路径依赖指人类社会中的技术演进或制度变迁有惯性，即一旦进入某一路径就可能对这种路径产生依赖，不断自我强化，轻易走不出去。

根据上述定义，下列不属于路径依赖的是（ ）。

- A. 萧规曹随
- B. 刻舟求剑
- C. 随波逐流
- D. 守株待兔

69. 智慧城市是运用信息和通信技术整合城市运行各项关键信息，从而对包括民生、环保、公共安全、城市服务、工商业活动在内的各种需求做出智能响应，实现城市智慧式管理和运行。

根据上述定义，下列不属于智慧城市内容的是（ ）。

- A. 逐步实现多领域跨行业的“一卡通”网
- B. 网上“一站式”行政审批及其他公共行政服务
- C. 根据人工智能算法科学合理规划城市公共交通网
- D. 整合各类监控资源，建立治安综合管理平台

70. 前控控制是指在计划实施之前，为了保证将来的实际成果能达到计划的要求，尽量减少偏离的控制。

根据上述定义，下列属于前控控制的是（ ）。

- A. 营销部主任在方案推广期间，不断做出调整，尽量避免误差
- B. 新药剂的配方尽管之前经过多位专家考证，但药效还是不如老配方
- C. 新游戏的图纸在投入编程之前，经过了几轮研讨以确保效果逼真
- D. 新产品上市后销量一般，工厂组织技术人员进行升级后再次推向市场

71. 犯罪目的是指犯罪人主观上通过犯罪行为所希望达到的结果，是以观念形态存在于犯罪人大脑中的犯罪行为所预期达到的结果。犯罪动机是刺激、促使犯罪人实施犯罪行为的内心起因或思想活动，它回答犯罪人基于何种心理原因实施犯罪行为。动机的作用是发动犯罪行为，说明实施犯罪行为对行为人的心理愿望具有什么意义。

根据上述定义，下列说法中正确的是（ ）。

- A. 甲为了报复乙，欲通过投毒的方式剥夺乙的生命，则甲的犯罪目的是报复
- B. 甲担心乙对其实施打击报复，将乙非法拘禁数日，则甲的犯罪动机是恐惧
- C. 甲投毒致乙死亡，经查明是因为其嫉妒乙的才华，则甲的犯罪目的是嫉妒
- D. 甲贪图钱财，通过盗窃而非法占有乙的财物，则甲的犯罪动机是非法占有

72. 纵向研究是指在很长一段时间内（可能是几十年）定期对被试进行研究，通过长时间对被试的研究，研究者可以调查到与某种异常的发生相关联的事件，并从中辨认出预测此种异常发展的相关因素。

根据上述定义，下列属于纵向研究的是（ ）。

A. 通过自 1962 年起追踪研究一群母亲患精神分裂症的儿童发现，这些儿童患精神分裂症的风险比其他儿童大，从而认为，母亲患精神分裂症可以一定程度上预测孩子患此种疾病

B. 通过大量观察经常去酒吧喝酒的人发现，他们比一般人更容易与人发生争执和冲突，从而认为，体内酒精含量在一定程度上可以预测攻击性行为

C. 通过与抑郁症患者长期谈话发现，消极思维可能引起抑郁症，但也有可能刚好相反——抑郁导致了消极思维

D. 在对青少年酒精成瘾的众多相关因素（如家族史、学业成就、对饮酒的态度等）的大量调查分析中，研究者发现，对饮酒的态度与青少年酒精成瘾的相关性最高

73. 非注意性盲视是一种心理现象，是指当人们专注于某一个事物时，往往会忽视另一个显而易见的

的事物。

根据上述定义，下列不符合非注意盲视的是（ ）。

- A. 拥挤的人群中，小偷利用报纸的遮挡盗窃，而不易被察觉
- B. 一边走路一边使用手机的人，容易发生交通事故
- C. 魔术师用左手的动作吸引观众的注意，而用右手快速转移了魔术道具
- D. 露天田径比赛的现场，人们被激烈的赛事吸引，而忽略了赛场上鼓劲加油的啦啦队

74. 周边产品指利用动漫、游戏、影视剧等作品中的角色、场景、道具、标识等经授权后制成的产品。

根据上述定义，下列属于周边产品的是（ ）。

A. 《金丝猴III》首映日，影片发行方推出了以金丝猴为主题的玩偶、手环、钥匙扣、文具等，被影迷抢购一空

B. 电视剧《来自月亮的我》热播，剧中女主角使用的音乐手机也受到剧迷追捧，许多手机厂家看准时机，纷纷推出类似的音乐手机

C. “夏夜”主题餐厅开业一个月来，主打饮料“夏夜”销量破百万杯，该款饮料是获奖小说《夏夜》中男主角的最爱

D. 国产网游《苏州河》在日本受到热捧，日本的旅行社推出了“苏州河浪漫之行”的主题游，组织很多玩家到上海、江苏等地进行为期四天三晚的中国游

75. 装忙族指一些人为了维护自己在亲友或领导眼中的形象，用“装忙”来表现自己事业很成功，其实他们的工作并不忙。

根据上述定义，下列属于装忙族的是（ ）。

A. 王老师是一位大学教授，平日既要上课，又要做科研，还兼任学院的副院长，另外还指导着3个博士生、6个硕士生，在校园里走路都是急匆匆的样子

B. 小李是一名三年级的小学生，每天上学很早，放学很晚，回家后做作业常常要做到晚上10点钟，他常常抱怨自己没有玩的时间

C. 小钱对同学几次一道出游的邀请都以工作太忙而拒绝了，其实他是最近迷上了一款游戏，一有空就“宅”在家里打游戏，对其他事情一概没有兴趣

D. 每次回老家，小赵都是匆匆而来，匆匆而走。他向亲友解释他时间紧张，因为领导把很多事都交给他做，其实情况不是这样

三、类比推理。每道题先给出一组相关的词，要求你在备选答案找出一组与之在逻辑关系上最为贴近、相似或匹配的词。

**请开始答题：**

76. 染坊：染布

A. 磨坊：磨面

B. 牌坊：打牌

C. 书坊：著书

D. 街坊：店铺

77. 社交：微博：即时性

A. 医院：消毒：安全性

B. 曲艺：评书：娱乐性

- C. 司机：驾驶：可靠性  
D. 新闻：评论：客观性
78. 富裕：扶贫  
A. 干燥：抽湿  
B. 蒙昧：教育  
C. 落后：推进  
D. 健康：保卫
79. 理想 对于 ( ) 相当于 ( ) 对于 涂鸦  
A. 现实 作品  
B. 梦想 画家  
C. 白日梦 画作  
D. 志愿 涂改
80. 好感：喜欢：热爱  
A. 伤心：悲伤：悲哀  
B. 不安：紧张：焦躁  
C. 不悦：反感：厌恶  
D. 高兴：愉快：喜悦
81. ( ) 对于 惩罚 相当于 骄傲 对于 ( )  
A. 制度 心态  
B. 犯罪 失败  
C. 反抗 成功  
D. 奖励 自信
82. 运动员：大学生  
A. 植物：种植  
B. 专家：青年  
C. 四季：春天  
D. 纸张：书法
83. 进步：变化：倒退  
A. 恒星：星体：行星  
B. 多云：天气：下雨  
C. 打针：治疗：吃药  
D. 真理：认识：谬误
84. 赛事 对于 ( ) 相当于 ( ) 对于 编辑  
A. 哨子 文字  
B. 运动 校对  
C. 裁判 书稿  
D. 进取 精确
85. 七窍生烟：气愤  
A. 同流合污：腐败  
B. 百口莫辩：复杂  
C. 手舞足蹈：高兴  
D. 鹏程万里：遥远

**四、逻辑判断。**每道题给出一段陈述，这段陈述被假设是正确的，不容置疑的。要求你根据这段陈述，选择一个答案。注意：正确的答案应与所给的陈述相符合，不需要任何附加说明即可以从陈述中直接推出。

**请开始答题：**

86. 有些具有优良性能的智能手机是苹果公司生产的。所有苹果公司生产的智能手机都价格昂贵，而价格昂贵的智能手机无一例外地受到人们的信任。

下列各项都能从题干的论断中推出，除了 ( )。

- A. 有些价格昂贵的智能手机是性能优良的  
B. 有些性能优良的智能手机受到人们的信任  
C. 所有被人们不信任的智能手机价格都不昂贵

D. 受到人们信任的智能手机中，有些实际性能并不优良

87. 一项调查显示，越来越多的农民开始选择有机农业的耕作方式，并购置了相关的农用设备。尽管这种投资不大，但是他们的农作物产量却比从前下降了。如果从经济利益上看，他们的这种转变是不明智的。所以，他们选择有机农业的原因是出于对环境的考虑。

下列哪项可以增强上述论断？（ ）

- A. 长期的无机耕作方式使土壤开始退化，农民不得不采取有机耕作方式
- B. 有机农业的产量虽然下降了，但其价位高，盈利却增加了
- C. 人所共知，用尿素通常比用农家肥更能提高农作物的产量
- D. 有机农产品都是安全产品，受到市场的广泛青睐

88. 所有想从事 IT 工作的学生都学习了计算机 C 语言，小吴学习了 C 语言，他一定想从事 IT 工作。

下列哪项为真，最能支持上述判断？（ ）

- A. 所有学习计算机 C 语言的学生都想从事 IT 工作
- B. 有些计算机工程师是计算机 C 语言专业的毕业生
- C. 想从事 IT 工作的学生有些报考了计算机 C 语言专业
- D. 只有计算机 C 语言专业毕业的学生，才有资格从事 IT 工作

89. 某单位要选拔人才下乡挂职，符合条件的候选人有甲、乙、丙、丁、戊、己，人事部门、组织部门和办公室分别提出了自己的要求：

人事部门：丙、丁两人中只能去一人。

组织部门：若丁不去，则戊也不能去。

办公室：甲、丙和己三人必须留下一个。

由此可以推出，能够同时满足三个部门要求的派出方案是（ ）。

- A. 甲、乙、己
- B. 甲、乙、丙、己
- C. 乙、丙、戊
- D. 乙、丙、丁、戊

90. 目前大学生普遍缺乏中国传统文化的学习和积累，教育部有关部门及部分商学院最近做的一次调查表明，大学生中喜欢和比较喜欢京剧艺术的只占到被调查人数的 14%。

以下各项如果为真，最能削弱上述观点的是（ ）。

- A. 大学生缺少对京剧艺术欣赏方面的指导，不懂得总结欣赏
- B. 喜欢京剧艺术与学习中国传统文化不是同一回事情，不要以偏概全
- C. 14%的比例正说明培养大学生对传统文化的学习大有潜力可挖掘
- D. 有一些大学生既喜欢京剧，又对中国传统文化的其他方面有兴趣

91. 一项研究显示，与四壁白墙或只能看见其他建筑物的教室相比，那些能看见自然风景的教室可以帮助高中生提高 13% 的注意力测试成绩，自我解压的能力也相应提高。研究者据此认为，窗外的自然风景不但不会令人分心，反而有助于提高学习成绩。

上述结论如果成立，需要基于哪一前提？（ ）

- A. 高中生很容易被其他事物分散注意力



- B. 注意力集中对学习成绩提高有关键影响
- C. 自我解压能力与注意力集中程度有正相关关系
- D. 传统观念认为四壁白墙的教室更有利于学习

92. 据悉，科学家已在肝脏中找到了真正清除炎症细胞的“功臣”之一——LSECtin。LSECtin 能选择性地识别出被激活的炎症细胞，有效制止它们繁殖并抑制它们产生炎症因子。科学家利用最尖端的基因剔除技术，从动物机体内完全去掉 LSECtin，发现机体内的炎症细胞明显增多，炎症因子也会随之急剧增加。人们由此推测，LSECtin 很有可能发展成为治疗肝脏炎性疾病的特效药物。

以下各项如果为真，最能支持上述推测的是（ ）。

- A. 给患有急性肝炎的动物注入 LSECtin 后，发现其肝脏内的炎症因子明显减少
- B. 肝脏能清除不断从血液中循环到肝脏内的炎症细胞
- C. LSECtin 是迄今为止第一个被发现的在肝脏中特异表达的免疫调控分子
- D. 这项重要的研究成果进一步丰富了肝脏免疫学理论

93. 甲、乙、丙、丁四位球迷有一段对话。甲说：“Y 球队能进入决赛。”乙说：“如果 X 球队能进入决赛，那么 Y 球队也能进入决赛。”丙说：“我看 Y 球队不能进入决赛，但 X 球队能进入决赛。”丁说：“X 球队不能进入决赛。”

如果四人中只有一人是对的，那么可以推出（ ）。

- A. X 和 Y 球队都能进入决赛
- B. X 球队不能进入决赛，Y 球队能进入决赛
- C. X 和 Y 球队都不能进入决赛
- D. X 球队能进入决赛，Y 球队不能进入决赛

94. 如果生命的进化一直稳步向前，未曾经历任何挫折或提供了特殊机会的时期，要划分地质年代将非常困难。能够轻易地分辨出地质年代，是因为地质学家们所说的“动物群演替”，也就是物种突然出现或消失的时期。我们可以将这些事件看作时间的关口——在那一刻，一个时期，通常代表着一种气候，让位于一个新的时期，一种新的气候。只有三种变化因素，强大到能够开启时间的关口——大陆漂移、星系碰撞和诸如温室气体等气候变化动力，所有这些因素的运作方式都不同，但他们通过同样的办法来推动进化——即死亡和机遇。

由此可以推断（ ）。

- A. 地质学家分辨地质年代未曾遭遇过任何挫折
- B. 气候的变化并不一定带来物种的变化
- C. “动物群演替”是划分地质年代的主要依据
- D. 只有大陆漂移才能开启时间的关口

95. 一项调查发现，家长在子女学习音乐上的投资是“物有所值”的，因为那些曾经学习过音乐的孩子，在长大后往往会拥有更高的学历、更好的职业前景，或获得更丰厚的收入。

以下哪项为真时，不能作为支持的论据？（ ）

- A. 调查资料中包括很多功成名就的人士，例如知名科学家或历届总统，他们大都在孩子时代学习过

音乐

B. 许多成功的被访者表示学音乐令他们身心平衡并容易感到满足，他们的生活因音乐而更加充实

C. 学习音乐需要自律，在音乐学习中常涉及科学、语言艺术等其他学科的知识，因此对学生的视野开拓和习惯养成颇有益处

D. 在类似大合唱的音乐学习中，学生必须学会和他人合作，学会聆听与帮助，这将有助于一个人的事业发展

## 第五部分 资料分析

(共 15 题，参考时限 20 分钟)

所给出的图、表、文字或综合性资料均有若干个问题要你回答。你应根据材料提供的信息进行分析、比较、计算和判断处理。

**请开始答题：**

**一、根据以下资料，回答 96~100 题。**

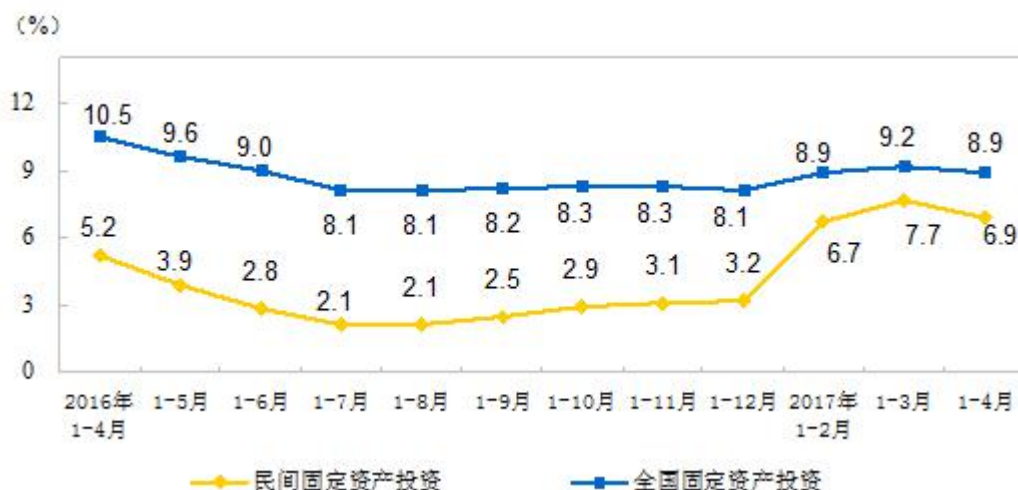
2017 年 1~4 月份，民间固定资产投资 88053 亿元，占全国固定资产投资的比重为 61%。

分地区看，东部地区民间固定资产投资 44323 亿元，同比增长 8.7%，增速比 1~3 月份回落 1.2 个百分点；中部地区 25949 亿元，增长 8.8%，增速回落 0.1 个百分点；西部地区 15825 亿元，增长 6.4%，增速提高 1.4 个百分点；东北地区 1956 亿元，下降 28.2%，降幅扩大 0.7 个百分点。

分产业看，第一产业民间固定资产投资 3207 亿元，同比增长 20%，增速比 1~3 月份回落 1.1 个百分点；第二产业 42851 亿元，增长 3.8%，增速回落 1.1 个百分点；第三产业 41995 亿元，增长 9.2%，增速回落 0.6 个百分点。

第二产业中，工业民间固定资产投资 42529 亿元，同比增长 3.9%，增速比 1~3 月份回落 1.3 个百分点。其中，采矿业 1007 亿元，下降 17.6%，降幅收窄 1 个百分点；制造业 38998 亿元，增长 4.4%，增速回落 1 个百分点；电力、热力、燃气及水生产和供应业 2524 亿元，增长 7.6%，增速回落 5.8 个百分点。

### 民间固定资产投资和全国固定资产投资增速



96. 2017年1~4月份, 全国固定资产投资约为多少亿元? ( )
- A. 158930                      B. 144350                      C. 130480                      D. 127170
97. 与上年同期相比, 2017年1~4月份, 民间固定资产投资占全国固定资产投资的比重约( )。
- A. 上升了10个百分点                      B. 下降了10个百分点
- C. 上升了1个百分点                      D. 下降了1个百分点
98. 2017年1~3月份, 下列民间固定资产投资同比增速最慢的是( )。
- A. 工业                      B. 制造业
- C. 第三产业                      D. 电力、热力、燃气及水生产和供应业
99. 与上年同期相比, 2017年1~4月份民间固定资产投资增长最多的是哪个地区? ( )
- A. 西部地区                      B. 东北地区                      C. 东部地区                      D. 中部地区
100. 根据所给资料, 下列判断正确的是( )。
- A. 2016年4月~2017年4月, 每月全国固定资产投资的同比增速均大于民间固定资产投资
- B. 2016年1~4月份, 制造业民间固定资产投资超过采矿业民间固定资产投资的40倍
- C. 按2017年1~4月份的增速, 2018年1~4月份东部地区民间固定资产投资将超过5万亿元
- D. 2017年1~3月份, 第二产业民间固定资产投资占民间固定资产投资的比重低于上年同期

## 二、根据以下资料, 回答101~105题。

上海市2016年城市信息化成果显著, 全年实现信息产业增加值2994.33亿元, 比上年增长8.5%。其中, 信息服务业增加值1963.79亿元, 增长11.9%。

至2016年末, 全市光纤到户覆盖总量达941万户, 比上年末增加31万户, 实际使用用户数达到515.74万户, 比上年末增加54.62万户。固定宽带用户平均可用下载速率14.03Mb/s, 比上年末提高2.72Mb/s。下一代广播电视网(NGB)覆盖744万户家庭, 比上年末增加24万户。全市第三代移动通信技术(3G)和第四代移动通信技术(4G)用户总数达到2390.09万户, 比上年末增加178.82万户。开展i-Shanghai服务优化升级, 公共场所服务场点累计开通1400余处, 比上年末增加近600处。互联网





- A. 4.5                      B. 4.9                      C. 5.3                      D. 5.6
108. 2016 年 7~12 月份，全国商品房销售额同比增速大于累计增速的月份有（     ）。
- A. 4 个                      B. 3 个                      C. 2 个                      D. 1 个
109. 2017 年 1~6 月份，全国办公楼每平方米均价比上年同期约（     ）。
- A. 提高了 10 元    B. 提高了 20 元  
C. 下降了 10 元    D. 下降了 20 元
110. 根据所给资料，下列说法正确的是（     ）。
- A. 2017 年 6 月份全国商品房销售面积同比增速大于 2016 年 6 月
- B. 2017 年 1~6 月份，办公楼和商业营业用房开发投资不足全国房地产开发投资的  $\frac{1}{5}$
- C. 2017 年 1~6 月份，全国住宅销售额同比增长超过 7000 亿元
- D. 表中 2017 年 1~6 月份商业营业用房各项指标占全国的比重均同比下降

## 展鸿公务员录用考试笔试试卷

## 《行测》模拟卷（二）参考答案及解析

1. 【答案】D。解析：第一空根据后文“因此他们……着计算天数，小心地记录日期”可知，古埃及的农民还没有掌握尼罗河泛滥的规律，“揭示”“遵循”均不符合语境，排除A、B项。再看第二空，“学习”必须有可学习的对象或人，也就是说学习的是“已知事物”；“摸索”则用于发现、探索“未知事物”。根据文段语境，可知第二空用“摸索”更恰当，排除C项。故本题选D。

2. 【答案】A。解析：“举重若轻”形容做繁杂的事或处理棘手的问题轻松而不费力；“借古讽今”指借评论古代的人和事来影射讽刺现实；“微言大义”指包含在精微语言里的深刻的道理；“振聋发聩”比喻用语言文字唤醒糊涂麻木的人，使他们清醒过来。文段讲国产舞台喜剧通过“轻描淡写”的方式再现并拆解社会难题，说明将复杂的社会问题轻松化，“举重若轻”更符合“喜剧”的表现方式。故本题选A。

3. 【答案】B。解析：先看第一空，联系原文“小枫一夜偷天酒，却倩孤松掩醉容”，可知此处描写枫树运用的是拟人的修辞手法，很形象很生动。显然，“风花雪月”不符合语义，排除D项。“栩栩如生”指艺术形象非常逼真，如同活的一样，无法形容“想象”，排除A项。再看第二空，根据后文“枫树偷饮的是茅台酒还是威士忌”，可知此处体现现代人更关注具体的、实在的事情，“务实”更贴切。“世故”指待人接物老练圆滑，不得罪人，不符合语义，排除C项。故本题选B。

4. 【答案】B。解析：先看第一空，意思必须与“修养”并列，排除D项“知识”。再看第二空，与“理会”并列的应该是“关注”，A项“关心”和C项“注目”都不符合语境。第三空“自我贬低”正好呼应前文的“无边无际的谩骂”。故本题选B。

5. 【答案】D。解析：先看第一空，“世界大势”不能被“运筹”，排除A项。再看第二空，C项“赢得未来”的搭配不切合实际，亦排除。最后看第三空，“推动”指使工作展开，“推进”指推动事业、工作使之前进，后者更符合语境，排除B项。故本题选D。

6. 【答案】B。解析：文段讲吸食大麻合法在国际上只是个别情况，而且也是“有限度的合法化”，言外之意，吸食大麻合法并不是一种无限制的合法化，B项“放任自流”指听凭自然的发展，不加领导或过问，最符合语义。“司空见惯”指某事常见，不足为奇，“权宜之计”指为了应付某种情况而暂时采取的办法，“大行其道”指某种新潮事物流行、盛行，成为一种风尚，均不符合语义，排除A、C、D项。故本题选B。

7. 【答案】A。解析：先看第二空，根据词语搭配习惯，“模糊”无法与“功能”或“差异”搭配，排除C、D项。再看第一空，“仿生学新理念”必然是“参照自然生物进行设计”，而不是“对比自然生物进行设计”，排除B项。故本题选A。

8. 【答案】A。解析：从第二空入手，主语是“国家政策”，“朝令夕改”与其搭配最合适。再验证A项，“未雨绸缪”比喻事先做准备，符合题意。B项“防患未然”指防止事故或祸害于尚未发生之前，C项“居安思危”指随时有应付意外事件的思想准备，D项“临渴掘井”比喻平时没有准备，事到临头才想办法。这三项多指预防意外事故，不符合语境，均排除。故本题选A。

9. 【答案】C。解析：第一空与“吾日三省吾身”相对应，反映“省吾身”这一涵义。“闻过则喜”形容虚心接受意见，承接“吾日三省吾身”，符合语境。“修身养性”指通过自我反省体察，使身心达到完美的境界，上文强调反省，故A项不正确。“兢兢业业”形容做事小心谨慎，认真踏实。B项不符文意。“博采众长”指从多方面吸取各家的长处，无法反映“省吾身”的状态，排除D项。第二空“而”表示转折，说明句子前后是相反的意思，因此该空表达不愿意反省的意思，“讳疾忌医”比喻怕人批评而掩

饰自己的缺点和错误，符合语境。故本题选 C。

10. 【答案】A。解析：第一空根据后文“然而在规模较小的族群中，语言有可能更快地发生变化”可知，空格中所填词语应该倾向于保持不变，“稳定”与“原貌”均符合此意，“传统”一般相对于“现代”而言，不符文意，排除 B、C 项。再看第二空，“式微”泛指事物由兴盛而衰落，这里没有提到语言消失前的兴盛，不符合文意，排除 D 项。“流失”泛指有用的东西流散失去，用在此处客观地陈述了部分语言消失的过程，符合文意。故本题选 A。

11. 【答案】B。解析：文段主要介绍了浅阅读出现的原因、特点、涉及的领域等内容，B 项“基本特点”包含的信息较多，可以包含其特征和存在的领域，正确。A、C 项均属于部分内容，概括不全；D 项“消极影响”文段未涉及。故本题选 B。

12. 【答案】C。解析：文段一开始列出了一些病症，并给出了其他人的一些意见。最后两句话表明了作者对于这些相关病症的理解和看法，但是在叙述自己观点的同时并没有否认其他人的观点。“排斥”的态度较强硬，文段并没有体现“不排斥”的语气。故本题选 C。

13. 【答案】D。解析：文段首先指出“创新不是艺术家的自娱自乐、自我欣赏”，接着讲民族歌剧创作存在的问题，即创作者把自己封闭在“象牙塔”里，自己津津乐道，老百姓却不喜欢。由此引出作者的观点，即“笔墨当随时代”。那么，民族歌剧的创新也应当体现时代特色，反映老百姓的审美需求，让老百姓喜欢，D 项符合文意。A 项偏离“民族歌剧”这一论述主体；B 项“应打破歌剧和音乐剧的界限”和 C 项“从民族文化艺术中汲取营养”均无从体现。故本题选 D。

14. 【答案】C。解析：A 项正确，由“温度和光照也会影响到茶氨酸的分解”“深山幽谷中光照不足……茶氨酸的分解以及儿茶素的合成受到抑制”可得知。B 项正确，由“优质的茶总是生长在深山幽谷”可得知。C 项错误，抑制茶氨酸的分解，则茶氨酸含量高，茶叶的味道会更好。D 项正确，由“更重要的原因在于深山幽谷中光照不足，而在春天茶叶发育期间温度较低……这样制得的春茶茶氨酸含量高而茶多酚含量低，也就更好喝”可得知。故本题选 C。

15. 【答案】B。解析：题干每句都在讲述“古代的斗茶”，④句引出这个话题，应当排在句首，之后是对“斗茶”的概念、宋代的“斗茶”及“斗茶”的时间和场所的描述。故本题选 B。

16. 【答案】B。解析：文段末句提到“张叔和将其买下，并取名为‘味莼园’”，由此可知接下来作者最可能讲述张叔和为何将园林取名为“味莼园”，B 项当选。A、C、D 三项文段已交代，不可能是接下来要讲述的内容。故本题选 B。

17. 【答案】A。解析：从末句“我们称这六种尚未定本的诗、书、礼、乐、易、春秋为‘前六经’”，可知文段讨论的是“‘前六经’是什么”。换言之，文段是关于“前六经”定义的介绍，而非仅仅是内容的介绍，B 项不正确。故本题选 A。

18. 【答案】D。解析：文段首先讲我国长期以来奉行防御性国防政策，“但”转折引出未来我国所面临的发展危机远远大于生存危机，要适应维护国家安全与发展利益的新要求，将周边、海外以及新型安全领域纳入战区经略范围。由此可知，文段主要谈论我国的国防战区经略要顺应时代要求作出调整，D 项恰当。A 项“国防防御”非文段论述重点；B、C 项都不是意图项。故本题选 D。

19. 【答案】B。解析：文段讲很多人将食品安全治理的问题引向法律法规制度、政府监管体系、社会治理机制的完善，虽然这一指向是正确的，但是却“解不了近渴”，因为相关法律及机制的建设并不是短时间内可以完成的，B 项最恰当。A、C、D 三项均偏离“相关法律及机制”这个论述重点。故本题选 B。

20. 【答案】A。解析：A 项正确，文段讲网络时代仅用符号维持的人际关系陷入恶性循环，则文段意在说明人际关系不能只靠网络上的符号维持。B 项错误，由“我们手机通讯录里的人名，动辄数以百计。然而数量的扩充，总以质量的下降为代价”，可知人们彼此相互交流的机会并不多。C 项错误，文段主要讲网络时代人际交往陷入恶性循环，“交友数量大量提升”不是文段论述主要内容。D 项错误，文段讲“大部分的关系”不需要费心打理，并不是所有的人际关系。故本题选 A。



21. 【答案】D。解析：文段首先指出北欧国家的社会阶级具有很高的组织化程度，这种较高的组织化程度得益于工会较高的影响力和集中化程度，以及政府的介入。从文段结构看，“政府也很早介入劳资关系的制度化过程”作为重点内容论述，是意图所在，即为了确保三方谈判机制的运作，D项符合题意。A、C项均是现象，不是文段意图；B项仅对局部内容进行概括，不是文段论述的重点。故本题选D。

22. 【答案】D。解析：文段通过环境民事公益诉讼案件引出法院审判工作在面对新挑战时必须进行各种尝试及机制创新的观点，D项最为合理。A项没有从点到面，只是就事论事，不符合题意；B项没有抓住论述重点，文段强调“体制机制创新”，而非仅仅“不断完善其知识体系”；C项时态错误，文段是说应该进行体制机制创新，并不是已经进行，“效果显著”无中生有。故本题选D。

23. 【答案】D。解析：文段主要介绍进入现代社会，书不像以往那么金贵，是因为现在每年出版的纸质图书规模空前，而人们在挑选新书时又因为质疑图书的质量而无所适从。由此可知，人们对书籍不再像过去那样爱惜是因为出版书籍数量太多，而质量没有保证。A项干扰性最大，“出版书籍数量太多难以选择”仅强调出版规模大，没有点出末句“这是一本好书吗？值得花费几个小时甚至几天的时间去读吗”的内涵。故本题选D。

24. 【答案】A。解析：文段围绕“真实财富”和“金钱”展开，讲述以真实财富概念为基础的社会建设是充满挑战的，即需要高尚品德和严肃对话来决定前进的道路，最终实现福祉。而对人类而言，最关键的是要重新界定金钱的性质、重塑金钱的角色，让金钱为人类服务。由此可知，作者意在说明人类需要摆正自身与金钱的关系，A项符合。B项过于片面；C、D项均未涉及“金钱”，偏离论述主体。故本题选A。

25. 【答案】D。解析：文段首先讲用货币来解读宏观经济是经济学的传统，接着说明芝加哥大学经济学课程只讲“货币”和“价格”理论的教学方法其实抓住了经济学的实质，最后引入《货币的教训》一书的内容和特点。“正是”一词充分体现出前文关于货币理论的内容是为介绍《货币的教训》一书作铺垫之用，由此可知，文段意在说明《货币的教训》一书的内容和写作特点。故本题选D。

26. 【答案】C。解析：原有黑笔数量是红笔的2倍，则原有黑笔的数量一定是偶数，排除B、D项。A项代入，小刘取出的黑笔和红笔数量分别为 $34-14=20$ 支、 $34\div 2-3=14$ 支，前者与后者的数量比为 $20:14=10:7\neq 5:3$ ，排除。C项代入，小刘取出的黑笔和红笔数量分别为 $54-14=40$ 支、 $54\div 2-3=24$ 支，前者与后者的数量比为 $40:24=5:3$ ，符合题意。故本题选C。

27. 【答案】C。解析：根据题意可知，增加的表面积为2个截面的面积，即正方体的2个表面的面积，则正方体每个面的面积为 $18\div 2=9$ 平方米，棱长为 $\sqrt{9}=3$ 米。因此原来正方体的体积为 $3^3=27$ 立方米。故本题选C。

28. 【答案】B。解析：基本相遇问题。货车速度为70千米/小时，则客车速度为50千米/小时。根据题意可知，两车经过 $1200\div (70+50)=10$ 小时相遇。故本题选B。

29. 【答案】B。解析：设答对 $x$ 题，答错 $y$ 题，则 $x+y\leq 10$ ，总分为 $4x-2y=2\times (2x-y)$ （ $x$ 、 $y$ 均为整数）。求成绩的可能性就是求 $(2x-y)$ 的可能性，则有：

当 $x=10$ 时， $y=0$ ， $2x-y=20$ ；

当 $x=9$ 时， $y=1$ 或 $0$ ，则 $17\leq 2x-y\leq 18$ ；

当 $x=8$ 时， $y=2$ 或 $1$ 或 $0$ ，则 $14\leq 2x-y\leq 16$ ；

当 $x=7$ 时， $y=3$ 或 $2$ 或 $1$ 或 $0$ ，则 $11\leq 2x-y\leq 14$ ；

以此类推，当 $x=0$ 时， $y=0\sim 10$ ，则 $-10\leq 2x-y\leq 0$ 。

因此 $(2x-y)$ 的取值为20和 $-10\sim 18$ 之间的整数，共有 $31-1=30$ 种。故本题选B。

30. 【答案】C。解析：两数之积为奇数，则这两个数本身也必定是奇数。从5个小球中按顺序取出2个，有 $A_5^2=20$ 种情况，取出的2个小球都标有奇数的情况有 $A_3^2=6$ 种，因此概率为 $\frac{6}{20}=\frac{3}{10}$ 。故本题选C。

31. 【答案】D。解析：设丁校二年级每班得书的数量是  $x$  本，则丁校二年级得书的数量为  $(6x+3)$  本，丁校得书的数量为  $(6x+3) \times 3+2=(18x+11)$  本，则甲、乙、丙 3 个学校得书数量各为  $18x+11-3=(18x+8)$  本。丁校二年级每班得书的数量是甲校总得书量的  $\frac{1}{20}$ ，则  $x=\frac{1}{20}(18x+8)$ ，解得  $x=4$ 。因此教委发放的课外书的数量为  $(18 \times 4+8) \times 4+3=323$  本。故本题选 D。

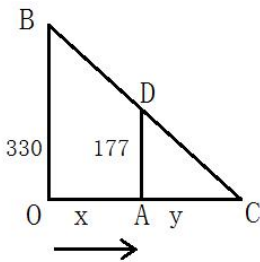
32. 【答案】D。解析：设每个人的工作效率为 1，则工作总量为  $8 \times 6 \times 1=48$ 。工作一天后，工作量还剩  $48-8 \times 1=40$ ，所需的时间为  $40 \div (8-3) \div 1=8$  天。故本题选 D。

33. 【答案】B。解析：盈亏问题。根据盈亏公式可知，车辆的数量为  $(5+13) \div (32-26)=3$  辆，则该班一共有  $26 \times 3+5=83$  人。因此，若每辆车坐 30 人，则有  $30 \times 3-83=7$  个空位。故本题选 B。

34. 【答案】C。解析：设该项目初期总投资额为 1，则甲初期投资额为  $\frac{1}{3}$ ，乙和丙的投资额之和为  $\frac{2}{3}$ 。又因乙的初期投资额是丙的 2 倍，则乙初期投资额为  $\frac{4}{9}$ ，丙为  $\frac{2}{9}$ 。甲获得的收益比丙多 2 万元，而甲初期投资额比丙多  $\frac{1}{3}-\frac{2}{9}=\frac{1}{9}$ ，则总收益为  $2 \div \frac{1}{9}=18$  万元。因此乙应得的收益为  $18 \times \frac{4}{9}=8$  万元。故本题选 C。

35. 【答案】C。解析：学校与家相距 5000 米，而相遇时爸爸比李立多行了 1000 米，则李立所行的路程为  $(5000-1000) \div 2=2000$  米，爸爸所行的路程为  $5000-2000=3000$  米。因此李立步行的速度为  $2000 \div (10+10)=100$  米/分钟，爸爸骑自行车的速度为  $3000 \div 10=300$  米/分钟，则爸爸骑自行车的速度是李立步行速度的  $300 \div 100=3$  倍。故本题选 C。

36. 【答案】D。解析：如下图所示，小明从点 O 出发以  $v_{人}=1.2\text{m/s}$  的速度经过时间  $t$  到达点 A，OB 为灯柱，AD 为小明，AC 为小明影子。根据三角形相似原理可知， $\frac{y}{x+y}=\frac{177}{330}$ ，则  $x=\frac{153}{177}y$ 。根据题意可知， $tv_{人}=x$ ， $tv_{影}=x+y$ ，则  $\frac{1.2}{v_{影}}=\frac{153}{330}$ ，解得  $v_{影} \approx 2.59\text{m/s}$ 。故本题选 D。



37. 【答案】D。解析：根据题意可知，判断题不是答对就是答错。某一题三人全答对时共得 30 分（设有  $x$  道），全答错时得 0 分，两人答对一人答错时得 20 分（设有  $y$  道），两人答错一人答对时得 10 分。已知三人答案相同的有 4 道，答案不完全相同的有 4 道，则  $30x+20y+10(4-y)=180$ ，化简得  $3x+y=14$ ，而  $0 \leq x \leq 4$ ， $0 \leq y \leq 4$ ，且  $x$ 、 $y$  均为整数，解得  $x=4$ ， $y=2$ 。因此，三人全答对的题目有 4 道。故本题选 D。

秒杀计：根据题意可知，三人未得的分数有  $3 \times 8 \times 10-180=60$  分，即共答错 6 题。三人答案不完全相同的有 4 道，此处至少有 4 题答错。若三人答案相同的 4 道题中有 1 道全答错，则三人答错的题目至少有  $4+3=7$  题，不符合题意。因此三人答案相同的 4 道题是全答对的。故本题选 D。

38. 【答案】A。解析：根据题意可知，当天出售每块菠萝净赚 0.5 元，则该水果店一个月净赚  $150 \times 20 \times 0.5 + (150-30) \times 6 \times 0.5 + (150-20-30) \times 4 \times 0.5 - 30 \times 4 \times 0.5=2000$  元。故本题选 A。

39. 【答案】C。解析：四人年龄之积能被 2700 整除且不能被 81 整除，则四人年龄之积能被 100 整除，即四人年龄之积的末两位为“00”。A 项，最年长为 30 岁，则四人年龄之积为  $30 \times 29 \times 28 \times 27$ ，尾数只有一个 0，排除。B 项，最年长为 29 岁，则四人年龄之积为  $29 \times 28 \times 27 \times 26$ ，尾数不为 0，排

除。C项，最年长者28岁，则四人年龄之积为 $28 \times 27 \times 26 \times 25$ ，其中 $28 \times 25 = 700$ ，即能被100整除，整个乘式除以27后，不能被3整除，因此也不能被81整除，符合。D项，最年长者27岁，则四人年龄之积为 $27 \times 26 \times 25 \times 24$ ，能被81整除，排除。故本题选C。

40. 【答案】A。解析：根据题意可知，妇女每天织的布成等差数列，题干所求即为等差数列求和，即 $S_n = \frac{(a_1 + a_n) \times n}{2} = \frac{(5+1) \times 30}{2} = 90$ 尺=9丈=2匹1丈。故本题选A。

41. 【答案】C。解析：题干诗句的意思是绿树葱郁阴影很浓夏日漫长，楼台的倒影映入了池塘。前半句描写树的阴影，涉及光的直线传播原理；后半句描写楼台的倒影，涉及光的反射原理。故本题选C。

42. 【答案】C。解析：用锅盖盖着起火的油锅，燃烧的油火会因缺氧而熄灭，A项正确。洗完头经常不擦干就直接入睡的人易产生头晕、恶心等不良症状，B项正确。肥皂涂抹过多时，衣物表面会覆盖一层油脂，使水难以渗透，反而洗不干净，C项错误。科学家经测定发现，室温在 $20 \sim 25^\circ\text{C}$ 时人的睡眠质量最好，超过 $28^\circ\text{C}$ 或者低于 $15^\circ\text{C}$ 时，人的入睡时间会推迟，且睡眠质量不稳定，D项正确。故本题选C。

43. 【答案】B。解析：伊拉克战争是指2003年3月20日以英美军队为主的联合部队对伊拉克发动的军事行动，A项错误。叙利亚内战是指从2011年年初持续至今的叙利亚政府与反对派之间的冲突，B项正确。索马里内战是指非洲索马里联邦共和国国内爆发的武装冲突，始于1986年，延续至今，C项错误。本·拉登于2011年5月1日逝世，美国前总统奥巴马于2014年12月29日宣布阿富汗战争结束，D项错误。故本题选B。

44. 【答案】D。解析：根据《刑法》第69条的规定，判决宣告以前一人犯数罪的，除判处死刑和无期徒刑的以外，应当在总和刑期以下、数刑中最高刑期以上，酌情决定执行的刑期，但是管制最高不能超过三年，拘役最高不能超过一年，有期徒刑总和刑期不满三十五年的，最高不能超过二十年，总和刑期在三十五年以上的，最高不能超过二十五年。数罪中有判处有期徒刑和拘役的，执行有期徒刑。数罪中有判处有期徒刑和管制，或者拘役和管制的，有期徒刑、拘役执行完毕后，管制仍须执行。D项说法错误，其他三项说法均正确。故本题选D。

45. 【答案】A。解析：“和而不同”是指和睦地相处，但不随便附和。A项小李指出了领导脱离群众的缺点，增强了领导的群众基础，是“和而不同”的表现。B项小张对老镇长的指示一向言听计从，明显不符合“不随便附和”。C项小吴的宣传动员工作是其职责行为，不能用“和而不同”“同而不和”的观点来加以评价。D项小刘“独树一帜”，不符合“和睦地相处”。故本题选A。

46. 【答案】B。解析：氨基酸是蛋白质的基本组成单位，A项错误。食入的蛋白质在体内经过消化被水解成氨基酸被吸收，B项正确。蛋白质是由C（碳）、H（氢）、O（氧）、N（氮）组成，一般蛋白质可能还会含有P（磷）、S（硫）、Fe（铁）、Zn（锌）、Cu（铜）、B（硼）、Mn（锰）、I（碘）、Mo（钼）等，C项错误。ATP是三磷酸腺苷的缩写，是生命活动能量的直接来源，D项错误。故本题选B。

47. 【答案】A。解析：十九大报告指出，坚持反腐败无禁区、全覆盖、零容忍，坚定不移“打虎”“拍蝇”“猎狐”，不敢腐的目标初步实现，不能腐的笼子越扎越牢，不想腐的堤坝正在构筑，反腐败斗争压倒性态势已经形成并巩固发展。故本题选A。

48. 【答案】C。解析：“商家从大学生毕业就业中发现了不少商机，围绕‘大学生求职’在服务形式和服务内容上不断推陈出新，使得‘求职经济’愈发火爆”体现了消费对生产具有反作用，消费是生产的动力，消费所形成的新的需要，对生产的调整和升级起着导向作用，往往能带动一个新的产业的出现和成长，C项符合题意。故本题选C。

49. 【答案】B。解析：A项错误，“可叹停机德”“金簪雪里埋”是薛宝钗的判词，“堪怜咏絮才”“玉带林中挂”是林黛玉的判词。B项正确。C项错误，“富贵又何为？襁褓之间父母违。展眼吊斜晖，湘江水逝楚云飞”是史湘云的判词，贾惜春的判词是“勘破三春景不长，缁衣顿改昔年妆。可怜绣户侯门女，独卧青灯古佛旁”。D项错误，“凡鸟偏从末世来，都知爱慕此生才。一从二令三人木，哭向金陵事更哀”是王熙凤的判词，秦可卿的判词是“情天情海幻情身，情既相逢必主淫。漫言不肖皆荣出，造衅开端实

在宁”。故本题选 B。

50. 【答案】A。解析：自十九世纪始，《哈姆雷特》《奥赛罗》《李尔王》《麦克白》被公认为莎士比亚的“四大悲剧”。故事均取自欧洲的历史传说，主要表现人文主义理想与现实社会恶势力之间的悲剧性冲突及理想的破灭。故本题选 A。

51. 【答案】D。解析：D 项错误，故宫三大殿是指太和、中和、保和三大殿，是封建皇帝行使权力或者举行盛典时用的宫殿。养心殿位于内廷后三宫的西侧，是皇帝的主要居所和日常理政之处。故本题选 D。

52. 【答案】D。解析：化学反应的实质是分子拆分成原子或原子本身经过重新组合得到新的分子，在化学反应前后原子的种类、个数、质量都不变。故本题选 D。

53. 【答案】C。解析：牧野之战，又称“武王伐纣”，是周武王的联军与商朝军队在牧野（今河南省卫辉市境内）进行的决战。官渡之战是东汉建安五年，袁绍军与曹操军在官渡（今河南中牟东北）展开的战略决战，是中国历史上著名的以弱胜强的战役之一。长平之战是秦国名将白起率军在赵国的长平（今山西省晋城高平市西北）一带同赵国的军队发生的战争。桂陵之战是历史上一次著名的截击战，发生在河南长垣西北，齐国“围魏救赵”。A、B、D 三项都发生在河南省，C 项发生在山西省。故本题选 C。

54. 【答案】D。解析：A 项错误，除夕是农历二十九或三十，这一天月球正好运行到背阳面，地球上看不到月亮，并不是因为烟雾弥漫不见明月。B 项错误，立足于北半球时，北斗七星始终处于天球北极附近，月亮始终出现在南部星空，则月亮不可能被北斗七星所环绕。C 项错误，农历初八出现的是上弦月，上弦月只能在前半夜看到。D 项正确，金星合月是金星和月亮正好运行到同一经度上，两者之间的距离达到最近，是行星合月天象中除木星合月外观赏效果较好的一种天象。故本题选 D。

55. 【答案】B。解析：基尼系数是比例数值，在 0 和 1 之间，是国际上用来综合考察居民内部收入分配差异状况的一个重要分析指标。基尼系数为零，表示收入分配完全平等；基尼系数为一，表示收入分配绝对不平等。故本题选 B。

56. 【答案】B。解析：“举案齐眉”形容夫妻间互相敬重，“如胶似漆”多指夫妻恩爱，“如手如足”比喻兄弟的感情。A、C、D 三项对应错误。“琴瑟和谐”比喻夫妻关系和谐，B 项对应正确。故本题选 B。

57. 【答案】D。解析：A、C 项正确。进食过于粗糙、过热过烫的食物，会损伤或烫伤食道黏膜上皮，使之发生破损、溃烂、出血等问题，食道黏膜长期受损易发生癌变，因此饭菜不宜“趁热吃”，B 项正确。水痘传染性强，传播途径主要是呼吸道飞沫或直接接触传染，日常密切接触易发生传染，D 项错误。故本题选 D。

58. 【答案】B。解析：“竹林七贤”是指魏晋初的七位名士，分别是阮籍、嵇康、山涛、刘伶、阮咸、向秀（向子期）、王戎。B 项，孔融是东汉末年文学家，“建安七子”之一。故本题选 B。

59. 【答案】D。解析：《民事诉讼法》第 199 条规定，当事人对已经发生法律效力判决、裁定，认为有错误的，可以向上一级人民法院申请再审；当事人一方人数众多或者当事人双方为公民的案件，也可以向原审人民法院申请再审。当事人申请再审的，不停止判决、裁定的执行。A、B 项做法正确。该法第 209 条第一款规定，有下列情形之一的，当事人可以向人民检察院申请检察建议或者抗诉：（一）人民法院驳回再审申请的；（二）人民法院逾期未对再审申请作出裁定的；（三）再审判决、裁定有明显错误的。C 项做法正确。《信访条例》第 15 条规定，信访人对各级人民代表大会以及县级以上各级人民代表大会常务委员会、人民法院、人民检察院职权范围内的信访事项，应当分别向有关的人民代表大会及其常务委员会、人民法院、人民检察院提出，并遵守本条例第十六条、第十七条、第十八条、第十九条、第二十条的规定。因此，对于人民法院、人民检察院职权范围内的信访事项不能向信访机构提出，D 项做法错误。故本题选 D。

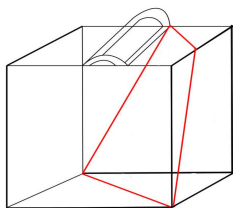
60. 【答案】C。解析：地热能是来自地球深处的可再生热能，它起源于地球的熔融岩浆和放射性物质的衰变，A 项说法正确。原子核裂变时能释放出大量的能量，目前核电站是利用铀原子核裂变时放出的核能来发电的，B 项说法正确。利用太阳能的方式有三种，分别是光热转换、光化转换和光电转换，C

项说法错误。氢气燃烧只生成水，所以氢能是一种清洁能源，D项说法正确。故本题选C。

61. 【答案】A。解析：①④⑥图形内部均有3条曲线，②③⑤图形内部均有2条曲线和1条直线。故本题选A。

62. 【答案】D。解析：第一组均是阴影图形，第二组内部的阴影图形包含于外部图形中，且与外部图形有交点，只有D项符合。故本题选D。

63. 【答案】A。解析：B项切割原图形顶部而得，C项正面切割即可，D项的切割面如下图所示。故本题选A。



64. 【答案】C。解析：各图形中最大的U字形顺时针依次旋转 $90^\circ$ ，中等大小的U字形依次上下翻转，最小的U字形逆时针依次旋转 $90^\circ$ ，则问号处应为C项图形。故本题选C。

65. 【答案】D。解析：A项顶面和正面、C项正面和右面均为相对面，不可能相邻，排除；由展开图可知，阴影小三角形的顶点指向其所在面和含有空白小圆圈的面的公共边，B项错误，排除。故本题选D。

66. 【答案】A。解析：“酒与污水定律”的定义要点是“真正起决定作用的就是那一勺污水”。A项部分开始贩假牟取暴利的中国人属于“一勺污水”，这部分人严重损害中国商人声誉，结果导致俄罗斯人纷纷放弃交易，符合定义。B、D项均未体现“一勺污水”起决定作用，C项不止“一勺污水”。故本题选A。

67. 【答案】A。解析：“攀比效应”的定义要点：①社会经济生活中某些相关的经济主体或利益主体；②分配利益方面；③相互影响、轮番推进。A项“公司员工”符合①，“互相比较”“要求公司调整工资”符合②③，符合定义。B项“中学生”、C项“朋友”均不属于社会经济活动中相关的经济主体或利益主体，不符合①。D项不存在“分配利益”和“相互影响”，不符合②③。故本题选A。

68. 【答案】B。解析：“路径依赖”的定义要点：①演进或变迁有惯性；②产生依赖；③轻易走不出去。A项“萧规曹随”是指萧何创立了规章制度，死后，曹参做了宰相，仍照着实行，对萧何创立规章制度有依赖性，符合定义。C项“随波逐流”是指随着波浪起伏，跟着流水漂荡，比喻没有坚定的立场和缺乏判断是非的能力，只能随着别人走，对别人有依赖性，符合定义。D项“守株待兔”是指战国时期宋国有一个农民，看见一只兔子撞在树桩上死了，于是他便放下锄头每天在树桩旁等待，希望再得到撞死的兔子，依赖于偶然所得，符合定义。故本题选B。

69. 【答案】C。解析：“智慧城市”的定义要点：①运用信息和通信技术；②整合城市运行各项关键信息；③实现城市智慧式管理和运行。A项“‘一卡通’网”和B项“网上‘一站式’”均需要运用信息和通信技术，并整合信息，从而实现城市智慧式管理和运行，符合定义。C项仅仅是规划城市公共汽车网，未体现城市或城市交通的智慧化，不符合③，不符合定义。D项符合①②③。故本题选C。

70. 【答案】C。解析：“前控控制”的定义要点：①在计划实施之前；②尽量减少偏离。A项“在方案推广期间”不符合①，排除。B项“之前”未体现“在计划实施之前”，不符合①，排除。C项“在投入编程之前”符合①，“经过了几轮研讨以确保效果逼真”符合②，符合定义。D项“新产品上市后”不符合①，排除。故本题选C。

71. 【答案】B。解析：“犯罪目的”的定义要点是“犯罪人主观上通过犯罪行为所希望达到的结果”，“犯罪动机”的定义要点是“刺激、促使犯罪人实施犯罪行为的内心起因或思想活动”。根据定义，A项甲的犯罪目的是“剥夺乙的生命”，“报复”是其犯罪动机；B项甲因恐惧乙的报复而犯罪，正确；C

项甲的犯罪目的是“致乙死亡”，“嫉妒”是其犯罪动机；D项甲的犯罪动机是“贪图钱财”，“非法占有”是其犯罪目的。故本题选B。

72. 【答案】A。解析：“纵向研究”的定义要点：①很长一段时间内；②从中辨认出预测此种异常发展的相关因素。A项“自1962年起”符合①，“从而认为，母亲患精神分裂症可以一定程度上预测孩子患此种疾病”符合②，符合定义。B、D项均未体现时间的长短，不符合①，排除。C项并没有“从中辨认出预测此种异常发展的相关因素”，不符合②，排除。故本题选A。

73. 【答案】A。解析：“非注意性盲视”的定义要点：①专注于某一个事物；②忽视另一个显而易见的事物。A项显然不符合①②，不符合定义。B项专注于手机而忽视行驶的车辆，C项专注于魔术师左手的动作而忽视其右手的动作，D项专注于赛事而忽略赛场上的啦啦队，均符合①②，符合定义。故本题选A。

74. 【答案】A。解析：“周边产品”的定义要点：①利用动漫、游戏、影视剧等作品中的角色、场景、道具、标识等；②经授权；③制成的产品。A项“影片发行方推出了以金丝猴为主题的玩偶、手环、钥匙扣、文具等”符合①②③，符合定义。B、C项不符合②，D项“主题游”不符合③。故本题选A。

75. 【答案】D。解析：“装忙族”的定义要点：①为了维护自己在亲友或领导眼中的形象；②用“装忙”来表现自己事业很成功；③工作并不忙。A项王老师确实工作繁忙，不符合②③，排除。B项不符合①②③，排除。C项小钱以工作太忙为由拒绝同学的邀请并不是为了维护自己在亲友或领导眼中的形象，不符合①，排除。D项小赵向亲友解释时间紧张，是为了表现自己在领导面前的重要性，但事实并不是这样，符合①②③，符合定义。故本题选D。

76. 【答案】A。解析：在染坊里染布，A项在磨坊里磨面。B项牌坊是封建社会为表彰功勋、科第、德政以及忠孝节义所立的建筑物，不是打牌的场所；C项书坊是旧时印刷并出售书籍的地方，不是著作的场所；D项“店铺”为名词，与题干不符。故本题选A。

77. 【答案】B。解析：微博是一种社交方式，微博具有即时性。B项评书是一种曲艺形式，评书具有娱乐性。D项新闻和评论是并列关系，与题干逻辑关系不符。故本题选B。

78. 【答案】A。解析：扶贫使贫穷变为富裕，A项抽湿使潮湿变为干燥，且后一个词均为动宾结构。故本题选A。

79. 【答案】C。解析：白日梦是理想的一种，涂鸦是画作的一种。故本题选C。

80. 【答案】C。解析：“好感”“喜欢”和“热爱”为近义关系，且程度依次加深；C项“不悦”（指不喜欢、不高兴）、“反感”和“厌恶”为近义关系，且程度依次加深。A、D项词语程度无明显变化，排除。B项“紧张”（指精神处于高度准备状态，兴奋不安）和“焦躁”（指着急而烦躁）不是近义关系，排除。故本题选C。

81. 【答案】B。解析：代入B项，犯罪会导致惩罚，骄傲会导致失，前后逻辑关系一致。故本题选B。

82. 【答案】B。解析：运动员和大学生是交叉关系，B项专家和青年也是交叉关系。故本题选B。

83. 【答案】D。解析：“进步”和“倒退”为反义关系，两者均是一种变化；D项“真理”和“谬误”为反义关系，两者均是一种认识。故本题选D。

84. 【答案】C。解析：赛事需要裁判判决胜负，书稿需要编辑判定质量。故本题选C。

85. 【答案】C。解析：“七窍生烟”形容气愤到极点，C项“手舞足蹈”形容高兴到了极点。A项“同流合污”指跟坏人一起干坏事，B项“百口莫辩”形容不管怎样辩白也说不清楚，D项“鹏程万里”比喻前程远大，均排除。故本题选C。

86. 【答案】D。解析：由“有些具有优良性能的智能手机是苹果公司生产的”和“所有苹果公司生产的智能手机都价格昂贵”可推出A项。由“所有苹果公司生产的智能手机都价格昂贵”和“价格昂贵的智能手机无一例外地受到人们的信任（即所有价格昂贵的手机都受到人们的信任）”可推出“苹果公司生产的智能手机都受到人们的信任”，再结合“有些具有优良性能的智能手机是苹果公司生产的”可推出B项。由“价格昂贵的智能手机无一例外地受到人们的信任”可推出“价格昂贵的智能手机→受到

人们的信任”，C项否定后件，可推出否定前件，正确。D项说法过于绝对，不能推出。故本题选D。

87. 【答案】A。解析：题干论点：农民选择有机农业的原因是出于对环境而非经济利益的考虑。论据：尽管这种投资不大，但是他们的农作物产量却比从前下降了；如果从经济利益上看，他们的这种转变是不明智的。A项指出土壤退化导致农民不得不选择有机农业，即是环境导致农民选择有机农业，增强论点。B项指出有机农业使农民盈利增加，D项指出有机农产品广受青睐，均削弱论据，削弱论点。C项说明有机农业提高农作物产量的能力较弱，在一定程度上支持论据，但未说明农民选择有机农业与“环境”的关系，支持力度较弱。故本题选A。

88. 【答案】A。解析：题干信息可翻译为“想从事IT工作→学习了C语言”，即“学习了C语言”是“想从事IT工作”的必要条件，要由“小吴学习了C语言”推出“小吴想从事IT工作”，必须证明“学习了C语言”是“想从事IT工作”的充分条件。A项可翻译为“学习了C语言→想从事IT工作”，符合要求。B项与题干无关；C项不能必然推出题干结论；D项讲的是“有没有资格”的问题，而题干讲的是“想不想”的问题。故本题选A。

89. 【答案】A。解析：根据“办公室：甲、丙和己三人必须留下一个”可知B项不满足，排除。根据“人事部门：丙、丁两人中只能去一人”可知D项不满足，排除。组织部门的要求可以翻译为“¬丁→¬戊”，戊参加，否定后件，可推出否定前件，即丁参加，排除C项。故本题选A。

90. 【答案】B。解析：题干论点：目前大学生普遍缺乏中国传统文化的学习和积累。论据：教育部有关部门及部分商学院最近做的一次调查表明，大学生中喜欢和比较喜欢京剧艺术的只占到被调查人数的14%。A项与论点无关；B项指出“喜欢京剧艺术与学习中国传统文化不是同一回事情”，削弱论点和论据间的联系，最能削弱论点；C项也与论点无关；D项削弱力度不及B项。故本题选B。

91. 【答案】B。解析：题干论点：窗外的自然风景有助于提高学习成绩。论据：与四壁白墙或只能看见其他建筑物的教室相比，那些能看见自然风景的教室可以帮助高中生提高13%的注意力测试成绩，自我解压的能力也相应提高。论点和论据之间无直接联系，需要在“学习成绩”和“注意力”或“自我解压的能力”之间“搭桥”，B项指出“注意力集中对学习成绩提高有关键影响”，符合要求，是论点成立需要基于的前提。A、C、D项均属于无关项，排除。故本题选B。

92. 【答案】A。解析：论点：LSEctin很有可能发展成为治疗肝脏炎症性疾病的特效药物。论据：从动物机体内完全去掉LSEctin，发现机体内的炎症细胞明显增多，炎症因子也会随之急剧增加。A项患有急性肝炎的动物注入LSEctin后其肝脏内的炎症因子明显减少，说明LSEctin可以用于治疗肝脏炎症性疾病，支持论点。B项与LSEctin无关，不能支持论点。C、D项与治疗肝脏炎症性疾病无关，不能支持论点。故本题选A。

93. 【答案】D。解析：乙的话可翻译为：X球队进入决赛→Y球队进入决赛；丙的话可翻译为：X球队进入决赛∧¬Y球队进入决赛。乙与丙互为负命题，两者矛盾，必有一真一假。已知只有一人说的是对的，则甲、丁的话是错的。由甲说错可知Y球队不能进入决赛，由丁说错可知X球队能进入决赛。故本题选D。

94. 【答案】B。解析：A项“未曾遭遇过任何挫折”说法过于绝对，不能推出。B、D项，由“只有三种变化因素，强大到能够开启时间的关口”，可知变化因素需要强大到一定程度才可开启时间关口、带来物种的变化，故B项可以推出，D项错误。C项，题干并未提及“划分地质年代的主要依据”，不能推出。故本题选B。

95. 【答案】B。解析：题干论点：家长在子女学习音乐上的投资是“物有所值”的。论据：那些曾经学习过音乐的孩子，在长大后往往会拥有更高的学历、更好的职业前景，或获得更丰厚的收入。A项举成功人士的例子支持论据。B项仅指出音乐使人身心满足、生活充实，不等同于“长大后拥有更高的学历、更好的职业前景，或获得更丰厚的收入”，且未说明孩子时代学习音乐的经历，不能支持论点。C项指出学音乐“对学生的视野开拓和习惯养成颇有好处”，说明学习音乐对未来发展有益的原因，能够支持。D项指出学音乐“有助于一个人的事业发展”，能够支持。故本题选B。

96. 【答案】B。解析：根据材料第一段可知，2017年1~4月份民间固定资产投资88053亿元，占全国固定资产投资的比重为61%，则2017年1~4月份全国固定资产投资为 $\frac{88053}{61\%}=14****$ 亿元，B项符合。故本题选B。

97. 【答案】D。解析：根据材料第一段和折线图可知，2017年1~4月份民间固定资产投资88053亿元，同比增速为6.9%，全国固定资产投资同比增速为8.9%，再根据前面题目可知2017年1~4月份全国固定资产投资约为144350亿元。根据比重变化公式 $\frac{N}{M} \times \frac{b\% - a\%}{1 + b\%} \times 100\%$ ，可知与上年同期相比，

2017年1~4月份民间固定资产投资占全国固定资产投资的比重变化了 $\frac{88053}{144350} \times \frac{6.9\% - 8.9\%}{1 + 6.9\%} \times 100\% \approx$

$\frac{88000}{144000} \times \frac{-2\%}{1.07} \times 100\% \approx -1\%$ ，即下降了1个百分点。故本题选D。

98. 【答案】A。解析：根据材料第三段可知，2017年1~4月份第三产业民间固定资产投资同比增长9.2%，增速回落0.6个百分点。根据材料第四段可知，2017年1~4月份工业民间固定资产投资同比增长3.9%，增速比1~3月份回落1.3个百分点，其中制造业增长4.4%，增速回落1个百分点；电力、热力、燃气及水生产和供应业增长7.6%，增速回落5.8个百分点。因此，2017年1~3月份工业民间固定资产投资同比增速为3.9%+1.3%=5.2%，制造业为4.4%+1%=5.4%，第三产业为9.2%+0.6%=9.8%，电力、热力、燃气及水生产和供应业为7.6%+5.8%=13.4%，则同比增速最慢的是工业民间固定资产投资。故本题选A。

99. 【答案】C。解析：根据材料第二段可知，2017年1~4月份，东部地区民间固定资产投资44323亿元，同比增长8.7%；中部地区25949亿元，增长8.8%；西部地区15825亿元，增长6.4%；东北地区1956亿元，下降28.2%。因此，2017年1~4月份东部地区民间固定资产投资同比增长量为 $\frac{44323}{1+8.7\%} \times$

$8.7\% > \frac{44000}{1.1} \times 8\% = 3200$ 亿元，中部地区为 $\frac{25949}{1+8.8\%} \times 8.8\% < \frac{26000}{1} \times 10\% = 2600$ 亿元，西部地区为

$\frac{15825}{1+6.4\%} \times 6.4\% < \frac{16000}{1} \times 10\% = 1600$ 亿元，东北地区为 $\frac{1956}{1-28.2\%} \times (-28.2\%) < 0$ 亿元，则与上年同期

相比，2017年1~4月份民间固定资产投资增长最多的是东部地区。故本题选C。

100. 【答案】D。解析：材料给出的是累计增速，无法比较每月全国固定资产投资和民间固定资产投资的同比增速，A项说法错误。根据材料第四段可知，2017年1~4月份制造业民间固定资产投资38998亿元，同比增长4.4%，采矿业1007亿元，同比下降17.6%，则2016年1~4月份，制造业民间固定资产投资是采矿业民间固定资产投资的 $\frac{38998}{1+4.4\%} \div \frac{1007}{1-17.6\%} < \frac{38998}{1007} < 40$ 倍，B项说法错误。根据材料第

二段可知，2017年1~4月份东部地区民间固定资产投资44323亿元，同比增长8.7%，则按此增速，2018年1~4月份东部地区民间固定资产投资为 $44323 \times (1+8.7\%) < 45000 \times 1.1 = 49500$ 亿元 $< 5$ 万亿元，C项说法错误。根据材料第三段可知，2017年1~4月份第二产业民间固定资产投资同比增长3.8%，增速回落1.1个百分点，则2017年1~3月份同比增速为3.8%+1.1%=4.9%。根据折线图可知，2017年1~3月份民间固定资产投资的同比增速为7.7%，部分的增速小于整体的增速，则部分占整体的比重同比下降，D项说法正确。故本题选D。

101. 【答案】A。解析：根据材料第一段可知，2016年上海市信息服务业增加值1963.79亿元，增长11.9%，则2015年上海市信息服务业增加值为 $\frac{1963.79}{1+11.9\%} \approx \frac{2000}{1+\frac{1}{9}} = 1800$ 亿元，A项与之最接近。故本题



选 A。

102. 【答案】D。解析：根据材料第二段“至 2016 年末，全市光纤到户覆盖总量达 941 万户……实际使用用户数达到 515.74 万户”，可知至 2016 年末全市光纤使用用户数占光纤到户覆盖总量的比重为  $\frac{515.74}{941} \approx \frac{520}{940} \approx 55.3\%$ ，D 项与之最接近。故本题选 D。

103. 【答案】B。解析：根据材料第二段和第五段可知，截止 2016 年末，IPTV 用户数达 230 万户，全市第三代移动通信技术（3G）和第四代移动通信技术（4G）用户总数达到 2390.09 万户，互联网宽带接入用户 804.12 万户，“市民信箱”累计注册用户 582 万人。因此截止 2016 年末，移动通信技术用户数的数值最高。故本题选 B。

104. 【答案】C。解析：根据材料第三段可知，2016 年 B2B 交易额 14445.60 亿元，网络购物交易额 5603.70 亿元，因此 2016 年 B2B 交易额为网络购物交易额的  $\frac{14445.6}{5603.7} \approx \frac{15000}{5600} \approx 2.68$  倍，C 项与之最接近。故本题选 C。

105. 【答案】C。解析：根据材料第一段“全年实现信息产业增加值 2994.33 亿元，比上年增长 8.5%”，可知 2016 年实现信息产业增加值较上年有所增加，A 项可以推出。根据材料倒数第二段可知，至 2016 年末市信用平台累计对外提供查询 2223.84 万次  $> 0.2$  亿次，B 项可以推出。根据材料第二段可知，至 2016 年末互联网省际出口宽带 8.59T，互联网国际出口宽带 1.08T，后者低于前者，C 项无法推出。根据材料最后一段可知，至 2016 年末市信用平台已建 21 个子平台，D 项可以推出。故本题选 C。

106. 【答案】C。解析：根据表格可知，2017 年 1~6 月份，全国住宅、办公楼和商业营业用房的新开工面积分别为 61399 万平方米、2956 万平方米、10058 万平方米，竣工面积分别为 29760 万平方米、1590 万平方米、5170 万平方米，前者之和比后者之和多  $61399+2956+10058 - (29760+1590+5170)$  万平方米，利用尾数法，尾数为  $9+6+8 - (0+0+0) = 23$ ，即尾数为 3，只有 C 项符合。故本题选 C。

107. 【答案】B。解析：根据表格可知，2017 年 1~6 月份全国住宅施工面积为 472722 万平方米，商业营业用房施工面积为 95666 万平方米，二者同比增速均为 2.9%，则 2016 年 1~6 月份，全国住宅施工面积是商业营业用房施工面积的  $\frac{472722}{95666} \approx \frac{470000}{96000} \approx 4.9$  倍。故本题选 B。

108. 【答案】D。解析：根据折线图可知，2016 年 1~6 月份全国商品房销售额累计增速为 42.1%，1~7 月份为 39.8%，根据混合增长率性质可知，7 月份同比增速小于 39.8%，同理可知 8 月份同比增速小于 38.7%，9 月份大于 41.3%，10 月份小于 41.2%，11 月份小于 37.5%，12 月份小于 34.8%，因此，2016 年 7~12 月份全国商品房销售额同比增速大于累计增速的月份只有 9 月份。故本题选 D。

109. 【答案】A。解析：根据表格可知，2017 年 1~6 月份全国办公楼销售面积为 2076 万平方米，同比增长 38.8%，销售额为 2932 亿元，同比增长 38.9%，则全国办公楼每平方米均价与上年同期相比变化了  $\frac{2932 \times 10^4}{2076} \times \frac{38.9\% - 38.8\%}{1 + 38.9\%} \approx \frac{3000 \times 10^4}{2000} \times \frac{0.001}{1.4} \approx 10.7$  元，即提高了 10.7 元，A 项与之最接近。故本题选 A。

110. 【答案】C。解析：根据折线图不能得知 2017 年 6 月份和 2016 年 6 月份全国商品房销售面积的同比增速，无法进行比较，A 项说法错误。根据表格可知，2017 年 1~6 月份办公楼和商业营业用房开发投资为  $3159+7589 > 3100+7500 = 10600 > 50610 \times \frac{1}{5} = 10122$  亿元，B 项说法错误。根据表格可知，2017 年

1~6 月份全国住宅销售额为 49298 亿元，同比增长 17.9%，则同比增长量为  $\frac{49298}{1+17.9\%} \times 17.9\% > \frac{48000}{1.2} \times 18\% = 7200$  亿元，C 项说法正确。根据表格可知，2017 年 1~6 月份商业营业用房竣工面积同比增速（7.6%）大于全国房屋竣工面积的同比增速（5.0%），则前者占后者的比重同比上升，D 项说法错误。故本题选 C。