

★学习指南★

★**学习计划**：真题先行，先做一遍**真题**，把握考情规律——系统复习

（可选购展鸿教材），全面巩固各个模块的知识点——模考实战（掐表练习），通过做我们的**全真模拟卷**提前适应真实考试环境。

★**听课指南**：我们帮您开课**磐安事业考情分析网课**，帮助您在备考事业单位时能够事半功倍，具体上课时间请咨询展鸿老师，并按照以下步骤观看学习：

①**手机听课**：请在手机应用商店搜索“32 学院”下载 App，进入右下角个人中心——我的网课——点击对应课程目录进行听课；

②**电脑听课**：请用电脑浏览器打开网页 www.32xueyuan.com——账号密码登陆——进入右上角个人中心——我的网课——点击对应课程目录进行听课。

★领取答案★

加章老师微信回复答案即可领取



目录

2018年5月磐安县事业单位考试笔试《行政职业倾向测试》	3
2018年5月27日磐安县事业单位考试试卷《申论》	19
2019年11月2日磐安县事业单位考试试卷《申论》	24
2020年11月磐安事业单位笔试《职业能力倾向测试和申论》	31

2018年5月27日浙江省磐安县事业单位考试笔试试卷

《行政职业倾向测试》

第一部分 数量关系

(共15题, 参考时限15分钟)

本部分包括两种类型的试题:

一、数字推理: 给你一个数列, 但其中缺少一项, 要求你仔细观察数列的排列规律, 然后从四个选项中最符合规律的一项来填补空缺项。

请开始答题:

1. 11, 12, 26, 14, (), 16

A. 15 B. 20 C. 27 D. 37

2. 1, 0, 4, 5, (), 14

A. 7 B. 9 C. 10 D. 11

3. 0, 5, 13, 27, 50, ()

A. 72 B. 85 C. 91 D. 97

4. 3, 4, 5, 11, 14, 107, ()

A. 196 B. 93 C. 89 D. 47

5. 2800, 399, 56, 7, ()

A. 0 B. 1 C. 2 D. 3

6. 16, 17, 19, 22, 27, (), 48

A. 37 B. 34 C. 36 D. 35

7. 0, 0, 6, 24, 60, 120, ()

A. 206 B. 210 C. 214 D. 222

8. 364, 355, 246, 137, ()

A. 119 B. 108 C. 56 D. 28

9. 4.5, $9\frac{1}{3}$, (), $\frac{126}{5}$, $36\frac{1}{6}$

A. $8\frac{1}{3}$ B. 16 C. $16\frac{1}{6}$ D. 16.25

10. 0, 1, $\frac{6}{5}$, $\frac{9}{7}$, $\frac{4}{3}$, ()

A. $\frac{15}{11}$ B. $\frac{15}{13}$ C. $\frac{17}{15}$ D. $\frac{5}{4}$

二、数学运算：每道试题呈现一道算术式，或表述数字关系的一段文字，要求你迅速、准确地计算或论证出答案。

请开始答题：

11. 某村的一池塘用于养鱼，前年产鱼 30 万千克，去年改善池塘环境，产量增加 20%。今年由于天气不适，产量下降 20%，今年产量为（ ）万千克。

- A. 31 B. 29.2 C. 29 D. 28.8

12. 毕业时，大家提议毕业旅行，全班 38 人，有 7 人忙于找工作不去，有 3 人已独自出发去国外旅游并表示不参加此次班级活动，还有 8 人已回老家，同时有上述两种理由不参加的有 2 人，则此次实际参加集体毕业旅行的有（ ）人。

- A. 19 B. 20 C. 21 D. 22

13. 树林里长有松鼠喜欢吃的松子，25 只松鼠可以在 8 周内吃光，20 只松鼠可以在 12 周内吃光，问这片树林最多可以容纳多少只松鼠吃 6 周？（假定松子生产的速度不变）（ ）

- A. 28 B. 30 C. 35 D. 40

14. 男生占全校学生总数的 60%还少 63 人，男生比女生多 26 人。六年级中，男生与女生的人数之比是 35:31，男生比女生多 8 人，那么其他年级中女生的人数有（ ）人。

- A. 305 B. 317 C. 323 D. 341

15. 一列 180 米长的列车，以 5m/s^2 的加速度启动向前方驶去，当速度达到 180m/s 时（未达到最高速度），列车信号故障，遂以 -12m/s^2 的加速度刹车减速至停车。假设列车在加速与减速阶段分别做匀加速和匀减速运动，则列车在这期间共行驶（ ）米。

- A. 4590 B. 1890 C. 2700 D. 6480

第二部分 言语理解与表达

（共 30 题，参考时限 25 分钟）

每道题包含一段话或一个句子，后面是一个不完整的陈述，要求你从四个选项中选出一个来完成陈述。注意：答案可能是完成对所给文字主要意思的提要，也可能是满足陈述中其他方面的要求，你的选择应与所提要求最相符合。

请开始答题：

16. 数十年来几代河南农大人自始至终扎根在田间地头等生产一线，他们的研究成果来源于实践，同时又服务于实践，不浮夸、不_____。

填入划横线部分最恰当的一项是（ ）。

- A. 轻飘 B. 花哨 C. 浮躁 D. 冒险

17. 由于疏于维护管理，一些有较高文化价值的明代长城文字砖被拆解、偷盗、贩卖的现象屡见不鲜，一些缺少保护的古长城生存状况_____。

填入划横线部分最恰当的一项是（ ）。

- A. 担忧 B. 堪忧 C. 担心 D. 忧愁

18. 在学校举行的圣诞节晚会上，学生会文艺部的女生们自编自演了一个话剧，几位同学把剧中人物演得_____，博得了全场观众的热烈掌声。

填入划横线部分最恰当的一项是（ ）。

- A. 绘声绘色 B. 惟妙惟肖 C. 有声有色 D. 栩栩如生

19. 仅在美国，每年由“生物入侵”造成的经济损失就高达两千多亿美元，面对这样的天文数字，人们岂能_____？

填入划横线部分最恰当的一项是（ ）。

- A. 痛不欲生 B. 恬不为怪 C. 无动于衷 D. 不动声色

20. 人的心理不是一个独立的领域，更不是生理神经领域，它和政治、社会、经济、文化等_____在一起，是一个复杂系统中的一部分。脱离了这些领域去看人的心理，是一种失真的_____。

依次填入划横线部分最恰当的一项是（ ）。

- A. 牵扯 抽象 B. 糅合 表述 C. 掺和 概括 D. 联系 缺

21. 人生就像旅行，跟谁同行，往往比去哪里更重要。如果身边是个讨厌的人，那么再美的风景、再有趣的行程，也总是难以_____。而若是跟喜欢的人在一起，就算是去楼下的公园，都会_____。

依次填入划横线部分最恰当的一项是（ ）。

- A. 高兴 赏心悦目 B. 尽兴 心旷神怡
C. 完美 神魂颠倒 D. 美满 怡然自得

22. 年轻人用魄力和勇气_____着生命的宽度，期间洋溢的青春旋律令人动容，大学生创客是创新社会体制机制的一泓清泉，要想_____，需要沉潜积累，也考验创业者的眼力、智力、定力和精力。

依次填入划横线部分最恰当的一项是（ ）。

- A. 拓展 激流勇进 B. 扩展 百舸争流
C. 增加 知难而上 D. 拓宽 奋勇前进

23. 从深不见底的大峡谷到_____的北极光，新的无人机镜头捕捉到了冰岛惊艳的自然风光。就在今年的早些时候，一群电影制作人长途跋涉，穿越这个火山_____的国家，通过航拍记录下了这独特的风光。在一段五分钟的视频短片中，我们随着无人机穿梭在冰川峭壁间，领略绝美的北欧风光。

依次填入划横线部分最恰当的一项是（ ）。

- A. 变幻无穷 横行 B. 千奇百怪 肆虐
C. 难以捉摸 肆虐 D. 难以捉摸 遍地

24. 在舆论场，中国的任何一点成就，都会_____被拿来和美国对比。中美在互联网时代的竞逐，尤为_____。一个得到普遍认可的观点是，互联网时代只有中、美两个竞争者。从技术角度看，美国是互联网时代的开创者，也是全新的引领者。中国则凭借巨大的市场，在应用层面开始反超。

依次填入划横线部分最恰当的一项是（ ）。

- A. 不可避免 夺人眼球 B. 无可回避 引人注目
C. 自然而然 备受瞩目 D. 无可奈何 有目共睹

25. 用雄辩的事实_____一些媒体上的恶意炒作，全面_____一个真实的张灵甫，这对人们提

高政治免疫力和增强正能量宣传，都会是大有_____。

依次填入划横线部分最恰当的一项是（ ）。

- A. 肃清 揭示 帮助
- B. 讲清 显示 好处
- C. 澄清 揭示 裨益
- D. 划清 显示 利益

26. 沉默是一种_____，也是一种_____，更是一种_____。如果没有沉默，就没有孕育，就没有震荡，就没有突破。蛾在沉默了一冬之后，终于把飞的梦幻变成现实；海在沉默了一时之后，终于把惊涛的壮观推出了地平线。

依次填入划横线部分最恰当的一项是（ ）。

- A. 风度 气质 人格
- B. 容忍 反抗 智慧
- C. 智慧 品格 气质
- D. 气质 风度 品格

27. 人生的美就是一路行走，一路捡拾前人散落在草丛里的思想碎片，观_____从暗夜里醒来的慧星，赏_____在空谷中绽放的兰花，装_____从时光隧道里吹来的清风，然后染_____智慧的芬芳。

依次填入划横线部分最恰当的一项是（ ）。

- A. 一株 一颗 一襟 一身
- B. 一颗 一株 一襟 一身
- C. 一颗 一株 一身 一襟
- D. 一株 一颗 一身 一襟

28. ①过高的成本预期，_____了人们的生育意愿，也造成了这样那样的社会问题。

②和谐往往不是通过对不同意见的_____实现的。

③如果能左右自己的思想，就能够_____自己的情感。

④U22 主帅傅博目前身兼国家队代理教练职位，这样精力受到很大_____，恐怕不利备战。

依次填入划横线部分最恰当的一项是（ ）。

- A. 遏制 压制 控制 牵制
- B. 控制 遏制 牵制 压制
- C. 牵制 控制 压制 遏制
- D. 压制 牵制 遏制 控制

29. 中国古语说“_____”，这是一个糟糕的引导。用知识使人致富来诱导读书，是把读书异化成了一种功利性的投入。

从上文的语意推断，句中横线上应填入的古语是（ ）。

- A. 士为知己者死
- B. 书中自有黄金屋
- C. 志当存高远
- D. 学然后知不足

30. 生物科学告诉我们嗅觉、味觉、性欲都是无法度量的，人的心理感知如喜悦、厌烦、痛苦、思念、怀旧、贪婪、野心等也是无法度量的。人的智能还有一个基本部分就是直觉。直觉是人基于对硬数据和软数据、冷识别和热识别综合在一起产生的一种高度的、抽象的、跳跃性的反应。这种直觉依赖的数据不但不可度量、不可传递，而且产生的直觉本身也是人无法描述的。人的智能和机器中间有一个鸿沟，人工智能的基础就是可以度量、可以描述、可以传递的数据，训练人工智能得满足这几个条件。

这段文字主要讲的是（ ）。

- A. 人的智能和人工智能的本质区别
- B. 人的智能强于人工智能

- C. 机器要成为人工智能的基础是有可以度量、可以描述、可以传递的数据
- D. 人工智能要成为现实，必须训练可度量数据和无法度量的部分

31. 有超强记忆力显然是个天才。其实每个人下苦功都可以成为有限的天才。中国古代读书科考者大都能背下四书五经。像乾隆皇帝，当皇子时已能背诵四书五经全部著作，我想今天的中国恐无一人可以有此成就。由此可见，“天才”是可以训练出来的。我还认识一位朋友，当年身陷囹圄，只给一本马克思的《资本论》看，十年下来，出狱时已能背诵几十万字的《资本论》。时隔几十年，偶尔聊天时他随意背诵一段《资本论》，让任何在场的人都瞠目结舌，惊为天人。

上面这段话要表达的中心是（ ）。

- A. 中国古代读书科考者都是天才
- B. 乾隆皇帝是中国历史上的天才之一
- C. 我认识的当年身陷囹圄的朋友是个天才
- D. “天才”是可以训练出来的

32. 可以肯定，一个城市，越是文化特征突出，文化性格鲜明，它对人的气质的影响就越大。这种影响是有可能超物质的。不要说里弄拆了，石库门没了，就算大上海沉没了，上海文化也还是上海文化。北京的牌楼拆了好些年了，老北京变成了新北京，但北京人没有变成上海人或别的什么城市人。这就叫“辫没了，神留着”。

这段话中“辫没了，神留着”的意思是（ ）。

- A. 文化性格比物质形态来得重要
- B. 上海已形成其特有的文化特征并将流行下去
- C. 缺
- D. 缺

33. 在人际交往频繁的现代社会中，大家都重视外貌，都希望保持美好的容颜，于是化妆品大行其道，健美操也广为流行。如果这时提倡以“积德与读书”来美容，会不会引来一阵讪笑？老子说：“下士闻道大笑之，不笑不足以为道。”世人的讪笑也许正好证明了我们提议的办法是对的。以心为本，则相不受年龄与风霜的侵蚀，超越有形的美丑，契合于完美的“人”之相。

上文要告诉我们的观点是（ ）。

- A. 提倡“积德与读书”会被人讪笑
- B. 现代社会提倡“积德与读书”不合时宜
- C. 提倡“积德与读书”可使人完美
- D. “积德与读书”是不能“美容”的

34. 人们通常把在学校接受教育的过程，叫作“读书”。这种语言习惯昭示出，一个人在学校课桌旁度过十几年宝贵光阴之后，应当得到的最重要的东西，就是阅读的兴趣和习惯。然而，问题多多的学校语文教育，尤其是严重脱离本真读书过程的语文课堂教学，每年都向社会大批量地输送着不会阅读也不爱阅读的“准文盲”。

文中“准文盲”是指（ ）。

- A. 读过书却不认识字的人
- B. 教书却不让学生阅读的教师
- C. 问题多多的学校语文教育
- D. 不会阅读也不爱阅读的学生

35. 对于像山体高位垮塌这样的“灭顶之灾”，经历或者亲眼目睹灾害现场的人或多或少都会在心

里留下一些创伤记忆，并且带来不同程度的情绪困扰，他们所表现出来的沮丧、悲伤、惊恐、焦虑等负面情绪都是正常反应，心理援助志愿者不要试图加以阻止或矫正。其实，大多数经历了创伤的灾民都会在经历一个自然康复过程后而缓解、痊愈，欲速则不达。任何他人都不宜设置时间指标尽快帮他们走出心理阴影，应尊重和配合他们自然的康复过程，心理援助志愿者们要做的只是因势利导。

这段文字意在说明（ ）。

- A. 心理援助志愿者在灾民心理康复过程中作用有限
- B. 受创伤灾民的身心康复是一个循序渐进的自然过程
- C. 自然灾害对人的心灵创伤巨大
- D. 灾民身心康复时间存在个体差异

36. 类似“笨鸟先飞”“不让孩子输在起跑线上”等口号，在很多家庭的教育观念中，都可谓根深蒂固。然而，这种所谓“起跑线上的恐慌”，更像是一种焦虑症。与其说“起跑线上的恐慌”是一个家庭的焦虑，还不如说是一个时代、一个社会的教育谎言，在其背后，仍然有着深厚的现实因素和价值追求背景。正因如此，才应该将这种观念从单一个体抽离出来，放到一个社会大环境来审视。

对这段文字的主旨概括最准确的是（ ）。

- A. 中国式家庭教育观念大体一致
- B. 在中国社会里“起跑线上的恐慌”问题突出
- C. 家庭教育问题是一项重大复杂的社会问题
- D. 家庭教育应当“因材施教”并遵守孩子的天性

37. 南仁东是我国著名天文学家，是国家重大科技基础设施建设项目——“中国天眼”500米口径球面射电望远镜工程（简称FAST）的发起者和奠基人。他主导提出利用我国贵州省喀斯特洼地作为望远镜台址，从论证立项到选址建设历时22年，主持攻克了一系列技术难题，为FAST重大科学工程的顺利完成发挥了关键作用，作出了重要贡献。他不计个人名利得失，长期默默无闻地奉献在科研工作第一线，与全体工程团队一起通过不懈努力，迈过重重难关，实现了中国拥有世界一流水平望远镜的梦想。今年9月，南仁东因病逝世。

这段文字主要告诉我们（ ）。

- A. 天文学家南仁东的生前工作
- B. 天文学家南仁东的功勋
- C. 天文学家南仁东的因病逝世
- D. 中国实现了拥有世界一流水平望远镜的梦想

38. 香港是一个典型的法治社会，每一个人都应当用和平守法的方式来表达自己的诉求，来共同维护法治这一核心价值观。任何损害法治、破坏社会正常秩序的诉求方式都是不可取的。希望香港各界在全国人大常委会有关决定和基本法的框架内务实理性讨论、逐渐形成共识，力争如期实现下一任行政长官的普选。

对上述文字理解最准确的是（ ）。

- A. 香港是一个法治社会，任何人都可以行使自己的合法权利
- B. 在香港这样一个以法治为核心价值的社会里，任何人都可以用任何方式表达自己的诉求

C. 在香港这样的法治社会，政府保护公民的合法权利

D. 香港是一个典型的法治社会，任何人都应当用和平守法的方式来表达自己的诉求

39. 脑子不用会坏掉，左脑和右脑，用的节奏不对，会加速坏掉。好在生活并不是天然被分成左脑生活和右脑生活，也许日本的研究，更多是对生活的调侃。但至少可以说明，我们想当然认为没用的东西，八卦消息和电子游戏，亲人之间的闲聊，它们其实有着相当现实的意义——生活中这些边边角角的，看上去性价比不高的平庸素材，居然是对身体的一种训练。

这段话主要支持了这样一个观点，即（ ）。

A. 早有研究表明，大脑左右两个部门分别支配身体不同器官

B. 生活中一些看似无聊的东西，其实对大脑健康有很大帮助

C. 锻炼大脑和锻炼身体同样重要，特别是对右脑潜力的开发

D. 一些国家或团体的研究，看似调侃，但具有极强的科学性

40. 和其他国家一样，我国的反导拦截系统也由多个层次组成，按高度分为大气低层拦截、大气高层拦截和大气层外拦截。其中，大气低层拦截已经初具规模，由引进的 S-300PMU2 和国产的红旗-9 改进型远程防空导弹组成，主要针对的是射程较近、弹道高度较低的短程弹道导弹；而大气层外拦截，亦即为人所熟知的中段反导拦截，则是红旗-19 型拦截弹和 SC-19 型拦截弹的任务。

红旗-9 改进型反导拦截系统属于（ ）。

A. 大气低层拦截

B. 大气高层拦截

C. 大气层外拦截

D. 中段反导拦截

41. 缺

42. 最好的诗不是让人立刻有所感悟，而是让人发呆。《诗经·采薇》：“昔我往矣，杨柳依依。今我来思，雨雪霏霏。”我每读一遍，就发一遍呆。发了半天呆，还是一点想法都没有。那是太深切的感伤，是我所不能体会的，只能发呆。为了不继续发呆，只好不读。可忍不住又想读。如果什么东西可以上瘾的话，发呆应该是一种。如果我是诗中那位旅人，我怎么受得了。

文中我读《诗经·采薇》时发呆的理由是（ ）。

A. 《诗经·采薇》太深奥，我读不懂

B. 《诗经·采薇》写得太好了，我惊呆了

C. 《诗经·采薇》感伤太深，我不能体会

D. 《诗经·采薇》让我读书上瘾

43. 如今，中国每年有 700 多万大学毕业生，超过美国和欧盟每年大学毕业生的总和。中国更有数以亿计的为了家庭幸福和个人梦想在各行各业诚实劳动、勇于创新的年轻人。他们一起撑起这个国家未来的希望。国强，少年便有更多的人生机会、更宽广的国际视野、更理性的价值观念；少年强，则会推动国家不断向更高的层次迈进。

下列说法与原文不符的是（ ）。

A. 少年在祖国的发展中起到了重要的作用

B. 一个国家的强大，可为少年提供更好的发展平台

C. 少年与国本为一体，国强与少年强相辅相成

D. 少年强则国必强，国强则少年必强

44. 人们掌握科学知识要以一定的素质为前提，而科学知识的掌握又会促进素质的提高和发展。科学知识对于人们就像血液滋补身体一样，是珍贵的精神食粮。

这段话的主要意思是（ ）。

- A. 人所具有的素质与他掌握的科学知识是互相联系，互相影响的
- B. 人要掌握科学知识要以一定的素质为前提
- C. 科学知识的掌握会促进素质的提高和发展
- D. 科学知识对于人们是珍贵的素质

45. 想要在农村建设儒学讲堂或老年人协会，关键是将儒家文化转化为能被农民理解并且接受的生活习惯。所以，真正有生命力的乡村儒学必须要以组织的形式存在。传统的村庄不仅仅只是地域意义上的团体，也是一种具有能生产公共价值能力的社会组织。围绕乡村建设的底线目标，儒学的作用在于重塑具有道德规范的乡村公共生活。

根据上述文字，与作者表述相符的是（ ）。

- A. 在乡村道德规范的重塑过程中，面对文化水平低下的农民儒学思想的传授可能性较小
- B. 在传授儒学思想的时候，只需将儒家文化转化为能被农民理解的生活习惯即可
- C. 根据乡村建设的底线目标，要发挥儒学重塑具有道德规范的乡村公共生活的作用
- D. 重塑乡村道德规范，既是一件重要的事情也是一件无奈的事情

第三部分 判断推理

(共 25 题，参考时限 25 分钟)

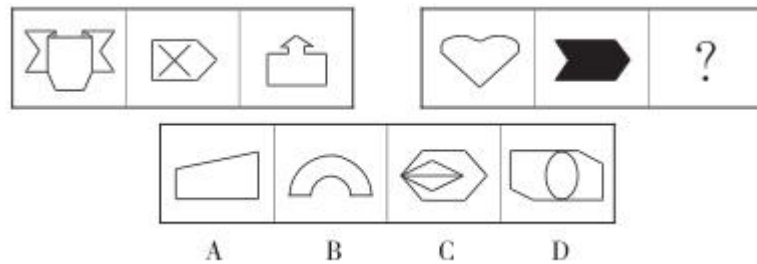
一、图形推理：从所给四个选项中，选择最合适的一个，使之呈现一定的规律性。

请开始答题：


46. 从所给的四个选项中，选择最合适的一个填入问号处，使之呈现一定的规律性。

Fat	dirt	priority	Infinity	?
girl	significant	ling	identification	
A	B	C	D	

47. 从所给的四个选项中，选择最合适的一个填入问号处，使之呈现一定的规律性。




48. 从所给的四个选项中，选择最合适的一个填入问号处，使之呈现一定的规律性。



49. 缺

50. 如图，一个正方体的每个面上都画有一个图形，其平面展开图如下图所示，那么在该正方体中，和“◎”相对的图形应该是（ ）。



二、定义判断：每道题先给出一个概念的定义，然后分别列出四种行为。要求你严格依据定义从中选出一个最符合或最不符合定义的答案。注意：假设这个定义是正确的，不容置疑的。

请开始答题：

51. 消费者有权自收到商品之日起7日内无理由退货。但消费者订做的、鲜活易腐、数字化商品、交付的报纸期刊除外，这被业界称为“网购后悔权”。

某消费者今日有四次网购经历，能够实施“网购后悔权”的是（ ）。

- A. 网购计算机安装软件一套
- B. 网购了一个刻有自己名字的水晶礼品
- C. 网购景观热带鱼一缸
- D. 网购名著《红楼梦》一套

52. 所谓人化自然，就是指被人的实践改造过并打上了人的目的和意志烙印的自然。

根据上述定义，下列哪种情况最符合人化自然？（ ）

- A. 在亚马逊河深处的原始森林
- B. 山东丘陵地带的梯田
- C. 人们在城市修筑的高楼大厦
- D. 收养了各种珍稀动物的动物园

53. 行政授权，指行政组织内部上级机关把某些权利授予下级行政机关或职能机构，以便下级能够在上级的监督下自主地行动和处理行政事务。

根据以上的定义，下列属于行政授权的一项是（ ）。

- A. 某乡镇政府将辖区内道路交给某建筑公司修理
- B. 某省人力资源与社会保障厅将本省公务员招录的工作授权给厅公务员管理处

- C. 某市长授权其秘书全权处理自己的私人信件
 - D. 某公司总经理授权公司人力资源部门调查员工考评中的舞弊行为
54. 缺

55. 相对剥夺感是指人们在与那些既和自己地位相近，又不完全等同于自己的人或群体做比较时，由价值期待和价值能力不一致的认知所产生的一种心理状态。

根据上述表述，下列属于相对剥夺感的是（ ）。

- A. 作为新人的谢某看到单位的一位老同事不断得到各项荣誉奖励，心中的羡慕之情油然而生
- B. 王某退休前是单位老总，前呼后拥的人员很多，退休后没人在其身边了，王某感觉到非常的冷清
- C. 王某看到不如自己的大学同学现如今能够在核心期刊上多次发表论文，而自己却屡试不第，不免感觉有些失落
- D. 小学生张某上学后，发现同桌用的文具、穿的衣服都和自己一样，于是非常生气

三、演绎（逻辑）推理：每题给出一段陈述，这段陈述被假设是正确的，毋庸置疑的，要求你根据这段陈述，选择一个答案。注意：正确的答案应与所给的陈述相符合，不需要任何附加说明即可从陈述中直接推出。

请开始答题：

56. 斯坦福大学的罗伯特·米兰卡和他的同事重新审视了正向群体行为。他们指出，对于形形色色的蠕虫、蜜蜂以及人类而言，尽管社会行为促进了种群生存，但也消耗了个体大量的精力和能量。因此，他们推测，社会行为必须要给予生物个体一定回报，否则还有什么原因能使得社会行为通过演化保存下来呢？

以下哪项如果为真，最能支持研究人员的观点？（ ）

- A. 研究人员在小鼠身上对这种观点进行实验研究，发现假设被证实
- B. 血清素，作为一种能提升愉悦感的化学物质，对正向社会行为给予奖励
- C. 在实验者身上正向社会互动的强化需要催产素与血清素的协调活动
- D. 有不止一个社会学家对此表示认同与支持

57. 某市市场监督管理局查获一批劣质药品，企业辩称，根据国家药典标准里所列的成分一一核查，所有的成分含量都符合国家药典的标准。

即使企业所说为真，下列哪一项最有助于该市市场监督管理局将此药品认定为劣质药品？（ ）

- A. 国家药典标准已经过时
- B. 药品中含有不应该出现的其他成分，这种成分药典标准中标注不允许出现
- C. 其他药厂的同类药品质量更好
- D. 该药厂以前生产过伪劣药品

58. 海尔集团同时推出了 TQ-1 和 WQZ-60 两款空调。两款空调以“变频、舒适、健康、智能、磁悬浮”等特色受到消费者的欢迎。两款空调销售时都带有空调使用出现一般问题的处理说明书以及使用一年后情况反馈表。TQ-1 购买者的 43%同时购买了一年的家电延保服务，WQZ-60 购买者的 70%同时购买了一年的家电延保服务。一年后，WQZ-60 空调反映出现的问题的反馈表是 TQ-1 的两倍。由此可见，WQZ-60

空调比 TQ-1 的质量差, WQZ-60 空调购买者同时购买一年的家电延保服务比 TQ-1 空调多是有一定道理的。

以下哪项如果为真, 最有助于加强上述论证? ()

- A. TQ-1 空调的广告是 WQZ-60 空调的两倍, 其良好的质量广为人知
- B. 购买 TQ-1 空调的客户数量是购买 WQZ-60 空调的两倍
- C. TQ-1 空调的使用情况反馈表比 WQZ-60 空调的情况反馈表更完善, 需要花费更多的时间
- D. 海尔集团收到的 TQ-1 投诉信数量是 WQZ-60 的两倍

59. “风险投资家要有准确预测的才能, 如果预测之事没有发生, 也必须有巧妙说明的本领。”

如果这一判断是真的, 则以下哪项不能是真的? ()

- A. 风险投资家可能作出错误的预测
- B. 风险投资家可能没有巧妙说明的本领
- C. 风险投资家如果没有巧妙说明的本领, 就必须有准确预测的才能
- D. 风险投资家可能既没有准确预测的才能, 又没有巧妙说明的本领

60. 近来, 信用卡公司遭到了用户团体的抗议, 抗议其收费偏高的不公正做法, 事实上, 信用卡公司收费的比率比银行向私人贷款的比率是高几个百分点, 但是, 用户们忽视了这样一个事实: 信用卡给使用者带来很大方便, 使用户能够在大甩卖时及时买到各种商品, 这样购物时低成本抵消了信用卡公司收取的额外费用。

上述论证以下哪项为假设? ()

- A. 削价出售货物时买东西省下来的费用至少与消费者办理及持有信用卡时所付出的额外费用持平
- B. 信用卡的申请不会被拒绝, 除非申请者有拖欠的历史或其他问题
- C. 消费者在大甩卖时购买的价格仍然很高, 使得销售者足以收回成本并且使生产者适当获利
- D. 信用卡用户平均的超值差额不大于无信用卡债务的用户总数

四、类比推理: 每道题先给出一组相关的词, 要求你在备选答案中找出一组与之在逻辑关系上最为贴近、相似或匹配的词。

请开始答题:

61. 单价: 数量: 总额

- A. 质量: 密度: 体积
- B. 动能: 速度: 时间
- C. 电流: 电压: 功率
- D. 长度: 宽度: 周长

62. 黑眼圈: 睡眠

- A. 存钱罐: 硬币
- B. 冷: 感冒
- C. 停机: 余额
- D. 运动: 减肥

63. 鸡鸣狗盗: 孟尝君

- A. 十面埋伏: 孙坚
- B. 指鹿为马: 李林甫
- C. 纸上谈兵: 赵括
- D. 口蜜腹剑: 赵奢

64. 煤气灶: 电烤箱

- A. 砧板: 水池
- B. 菜刀: 电饭煲

- C. 微波炉：电冰箱
65. 缺
66. 困难：克服：成功
A. 调节：友好：和平
C. 紧张：镇定：缓和
67. 千篇一律：别具一格：独具匠心
A. 瞻前顾后：毫不犹豫：坚决果断
B. 改头换面：憨厚老实：三五成群
C. 三心二意：粗心大意：一心一意
D. 坚持不懈：锲而不舍：坚定不移
68. 不尽长江滚滚流：辛弃疾
A. 无意插柳柳成荫：王安石
C. 燕雀安知鸿鹄之志哉：吴广
D. 餐桌：餐椅
B. 冲突：爆发：混乱
D. 吵闹：噪音：消除
B. 冲冠一怒为红颜：吴三桂
D. 有缘千里来相会：施耐庵
69. 司机 对于 () 相当于 () 对于 土地
A. 汽车 农民
C. 教练 水果
B. 驾照 大米
D. 火车 老师
70. 刑法 对于 () 相当于 () 对于 哺乳动物
A. 处罚 两栖动物
C. 修订 抚养
B. 民法 狮子
D. 法律 鲸鱼

第四部分 常识判断

(共 20 题，参考时限 15 分钟)

根据题意，从四个选项中选出最符合题意的一项。

71. 2018 年 3 月 14 日，国家主席习近平致电 ()，祝贺她第四次当选并就任德国总理。
A. 马克龙
B. 特蕾莎·梅
C. 迪吕波
D. 默克尔
72. 习近平总书记指出：对 () 的信仰，对社会主义和共产主义的信念，是共产党人的政治灵魂，是共产党人经受住任何考验的精神支柱。
A. 马克思主义
B. 毛泽东思想
C. 邓小平理论
D. “三个代表”重要思想
73. 《新闻联播》推出“重读抗战家书”系列报道，今天我们再读这些尘封的家书，依然能读到硝烟和苦难，读到思念和牵挂，更能读到以死殉国的毅然决然。重读抗战家书的最主要意义在于 ()。
A. 培育“四有”新人
B. 提高全民族的文化素质
C. 弘扬和培育中华民族精神
D. 在继承的基础上发展文化
74. 建设中国特色社会主义法治体系，是全面依法治国的 ()。
A. 总方针
B. 总目标
C. 总格局
D. 总保证

75. 党的十八届六中全会提出，（ ）是党和国家的生命线、人民的幸福线，是政治生活正常开展的根本保证。

- A. 党在社会主义初级阶段的思想路线
- B. 党在社会主义初级阶段的政治路线
- C. 党在社会主义初级阶段的基本路线
- D. 党在社会主义初级阶段的群众路线

76. 下列哪些措施有利于我国外贸长远发展？（ ）

- ①优化贸易结构，培育以技术、服务为核心的外贸出口服务
- ②加大对中小微企业出口的政策支持
- ③保持人民币币值稳定

- A. ①②
- B. ①③
- C. ②③
- D. ①②③

77. 国内生产总值是指在一定时期内，一个国家或地区的经济中所生产出的全部最终产品和劳务的价值。以下计入当年国内生产总值的是（ ）。

- A. 购买一部旧的机床
- B. 购买 3 千元基金
- C. 购买一套二手房，支付中介费 50000 元
- D. 农民家自己养的不卖的家禽

78. 我国人民币汇率采取以市场供求为基础的、单一的、有管理的（ ）汇率制。

- A. 浮动
- B. 固定
- C. 间接
- D. 以上均不对

79. 下列选项中，行政相对人不能向人民法院提起诉讼的是（ ）。

- A. 某市公安局作出的行政处罚
- B. 国务院作出的最终裁决行为
- C. 某地行政机关违法要求履行义务
- D. 行政强制措施

80. 梁某报名参加 2017 年硕士研究生考试，事先他与蔡某达成协议：蔡某替梁某参加考试，事后梁某付其一定的报酬。考试当天蔡某如约替考，但不幸被抓。对此，梁某与蔡某面临的刑罚不可能是（ ）。

- A. 判处拘役
- B. 判处管制
- C. 单处罚金
- D. 判处有期徒刑

81. 张某在一次交通事故中不幸身亡，他所拥有的财产中不可作为遗产继承的是（ ）。

- A. 房屋
- B. 存款
- C. 抚恤金
- D. 宠物狗

82. 根据民事诉讼法，下列适用先予执行的是（ ）。

- ①追索抚养费
- ②追索赡养费
- ③追索赔偿的医疗费用
- ④追索劳动报酬

- A. 仅③
- B. ①②③
- C. 仅④
- D. ①②③④

83. 在我国，下列哪项不是结婚的必备条件？（ ）

- A. 双方签订婚约
- B. 双方完全自愿
- C. 双方三代以内不是旁系血亲
- D. 男不得早于 22 周岁，女不得早于 20 周岁

84. 激励原理的核心是以人们的各种（ ）为基本内容的动力问题。

- A. 情绪
- B. 性格
- C. 需要
- D. 爱好

85. 行政责任的核心在于如何保障（ ）对政府行政行为的有效监督和控制。

- A. 国家权力机关
- B. 国家司法机关
- C. 缺
- D. 媒体和社会舆论监督

86. 缺

87. 吴官正著书道：“要明白‘人走茶凉’的道理。我认为，还是人走茶凉好。你在一个地方当什么书记，什么长，人家来请示工作，求你办事，你走了，这些情况就不存在了，还会门庭若市吗？”从管理学角度讲，这主要说明领导者的职权是（ ）。

- A. 流动权利
- B. 法定职权
- C. 个人魅力的集成
- D. 专长权

88. 关于决定和决议的说法正确的是（ ）。

- A. 决定有较强的指令性，要求认真执行
- B. 决议比较集中单一，多用于布置工作，提出要求
- C. 决定必须经过会议表决通过，才能正式行文
- D. 决议开头直接阐明行文缘由，无较强的议论色彩

89. 在 windows 操作系统中，快速切换窗口的快捷键是（ ）。

- A. Alt+Shift
- B. Alt+Tab
- C. Alt+Ctrl
- D. Alt+Delete

90. “一候鹿角解，二候蝉始鸣，三候半夏生”指的是二十四节气中的（ ）。

- A. 芒种
- B. 小满
- C. 立夏
- D. 夏至

第五部分 资料分析

(共 10 题，参考时限 10 分钟)

针对下列资料回答问题，你应根据资料提供的信息进行分析、比较、计算、处理。

一、根据下列资料回答 91~95 题。

A 国 2011~2017 年核桃供需情况表

项 目	2011 年	2012 年	2013 年	2014 年	2015 年	2016 年	2017 年
产量(万吨)	1.40	1.05	1.18	1.22	1.23	1.26	1.32
进口量(万吨)	2.67	2.65	2.51	2.83	3.51	3.20	4.17
进口金额(万美元)	9044	11522	11075	13179	18150	13304	14307
出口量(万吨)	0.07	0.09	0.10	0.07	0.10	0.07	0.08
出口金额(万美元)	341	462	466	342	591	357	337
消费量(万吨)	4.00	3.61	3.59	3.98	4.64	4.39	5.41

91. 2011 年至 2017 年，A 国核桃的平均进口量约为（ ）。

- A. 2.7 万吨/年
- B. 2.9 万吨/年
- C. 3.1 万吨/年
- D. 3.5 万吨/年

92. 2015 年 A 国核桃出口金额比上年约增长（ ）。

- A. 42.1%
- B. 56.7%
- C. 68.6%
- D. 72.8%

93. 从 2012 到 2017 年，A 国核桃消费量同比增长率小于 0 的年数是（ ）。

- A. 1 年
- B. 2 年
- C. 3 年
- D. 4 年

94. 从 2011 年到 2017 年，A 国核桃产量在消费量中所占比重最大的年份是（ ）。

- A. 2011 年 B. 2012 年 C. 2013 年 D. 2014 年

95. 根据材料，下列表述错误的是（ ）。

- A. 从 2013 年到 2017 年，A 国核桃产量逐年递增，但是消费量并没有逐年递增
B. 从 2011 年到 2017 年，A 国核桃出口量低于进口量
C. 从 2011 年到 2017 年，A 国核桃进口价格最低的是 2017 年
D. 从 2011 年到 2017 年，A 国核桃产量最大的是 2011 年

二、根据下列资料回答 96~100 题。

2017 年前三季度，广东省第一产业实现增加值 2643.16 亿元，同比增长 3.4%，比上年同期提高 0.3 个百分点。年初以来，全省农业气象条件总体正常，未对农作物生长造成较大损失，园林水果产量同比增长 5.1%；羊肉、禽蛋产量分别同比增长 2.1%和 4.9%；海洋捕捞产量受海洋渔船“双控”制度影响下降 4.2%。

前三季度，全省第二产业完成增加值 27621.04 亿元，同比增长 6.6%，增幅比上年同期提高 0.4 个百分点。规模以上工业实现增加值 25136.45 亿元，同比增长 7.2%，增幅比上年同期提高 0.5 个百分点。其中：民营工业增长 11.3%。工业行业增长面扩大，纳入统计的 41 个工业行业中，有 33 个行业同比增速回升，比上半年多 2 个行业。电子（增长 13.4%）、电器（增长 9.9%）和汽车（增长 11.6%）三大支柱产业对规模以上工业增加值增长的贡献率达 63.3%，比上年同期提高 8.4 个百分点，拉动规模以上工业增加值增长 4.5 个百分点。高技术制造业和先进制造业（新口径）增加值分别增长 14.1%和 10.3%，拉动全省规模以上工业增长 3.7 个和 5.2 个百分点。

前三季度，全省第三产业增加值 34551.18 亿元，增长 8.8%，增幅比上年同期提高 0.2 个百分点。从具体的行业看：交通运输业增长 10.6%，增幅比上年同期提高 3.1 个百分点；其他服务业增加值增长 12.7%，增幅比上年同期提高 3.0 个百分点。

从工业行业结构看，先进制造业（新口径）和高技术制造业增加值占规模以上工业增加值比重为 52.5%和 27.6%，分别比上年同期提高 1.1 个和 0.3 个百分点。从固定资产投资结构看，基础设施投资占固定资产投资比重为 23.5%，比上年同期提高 2.4 个百分点。从进出口结构看，一般贸易出口占出口比重为 44.9%，高于加工贸易 7.3 个百分点。

96. 2016 年前三季度，广东省第一产业实现增加值为（ ）亿元。

- A. 2556.25 B. 2736.19 C. 2553.29 D. 2731.03

97. 2017 年前三季度，广东省下列产量同比下降的是（ ）。

- A. 园林水果产量 B. 羊肉产量 C. 禽蛋产量 D. 海洋捕捞产量

98. 2017 年上半年，广东省纳入统计的 41 个工业行业中，有（ ）个行业同比增速没有回升。

- A. 7 B. 8 C. 9 D. 10

99. 2017 年前三季度，广东省第一、二、三产业增加值比值为（ ）。

- A. 4.5:43.1:52.4 B. 4.2:44.3:51.5
C. 4.1:42.6:53.3 D. 4.8:45.9:49.3

100. 从三次产业结构看，广东省 2017 年前三季度，第一、二、三产业这三类产业中，其增加值同比增长超过 5%的有（ ）。

- A. 0 个 B. 1 个 C. 2 个 D. 3 个

2018年5月27日浙江省金华市磐安县事业单位考试试卷

《申 论》

一、注意事项

1. 本卷总分 100 分，限时 120 分钟；
2. 仔细阅读给定资料，按照后面提出的“申论要求”作答；
3. 用蓝、黑色钢笔（签字笔）将自己的姓名、准考证号填写在试卷、答题纸相应的位置上；
4. 每题都要用蓝、黑色钢笔（签字笔）作答在答题纸指定位置，作答在其他位置上的一律无效。

二、给定资料

资料 1

征地拆迁、项目服务、社区管理、纠纷调解……这些大事小事本已耗尽基层工作人员的心力，但在“属地管理”的名义下，不少原由上级部门担负的职责纷纷“甩锅”给了基层。

不少基层工作人员感慨，现在基层要承担的责任越来越多，但是基层干事的人却没有增加。身兼数职、“5+2”“白加黑”成为很多基层干部工作常态，即使这样“忙碌”，很多事情还是干不完。

“这么点人承担日常分内的监管责任就已捉襟见肘，现在上面还经常搞一些所谓的‘百日行动’‘专项整治’，动辄需要全力配合，人手就更加紧张了。”苏北某乡镇一位基层干部说。他所在的乡镇有 8 万多人口，企业也较为密集，但负责全镇企业安全生产检查和食品药品监管的安监所只有 7 名临时工。

今年 57 岁的张黎（化名）是苏中某街道一名专职农技人员，同时还兼任菜蔬畜禽等农副产品安全检测工作。今年 7 月，他被任命为辖区一个涉农社区的支部书记。失地农民保障办理、集体资产处置、公共工程建设……新增的一项项社区事务，让他整天忙得焦头烂额，无暇顾及本职工作。

“上级部门开展一项安全检查或者环境整治，他们只需层层转发文件，但镇里要开会动员部署、成立小组、制订方案、细化措施，相关站所负责人还要一起商谈联合执法细节。”一位基层乡镇干部抱怨，有时上级部门上午刚下通知，下午下班前就要整治行动的反馈报告，“执法过程中还要拍照上传，准备材料上报，最后还要接受上级有关部门督查，前前后后，心力交瘁。”

江苏一位大学生村官向记者展示她每月工作用的文件夹，每个大文件夹下面密密麻麻套着很多小文件夹，里面全都要递交给上级“条块”部门的表格。

“比如我们举办一个有关留守儿童的活动，虽然内容、意义、流程都是一样的，但因为涉及的部门侧重点有所不同，所以每张表格要想办法填得不一样。”她说，每个月光填表就要花去不少时间。

资料 2

随着政府公共服务职能重心逐渐下移，基层职能定位不清的现象在一些地方较为突出。一些基层干部反映，很多基层部门并没有法律法规正式授予的职权，这导致他们在监管、督办、落实种种职责时没有底气。

老刘是苏北某乡镇城管队长。他告诉记者，城管队是乡镇自己组织的执法力量，没有执法证、执法权与处罚权，出去监管执法，自己心里都没底，大多数情况下只能通过个人私下关系劝其整改，工作开展起来难度很大，很担心别人质问自己没有执法权限。“以前我们处罚过一个流动商贩 50 元，但是后来被纪委通报，说我们城管没有私自处罚的权力。”

“上级一些职能部门总是通过一纸通知，就把监管责任甩给了我们基层，但是我们又没有执法权，整治行动没有威慑力，一些安全隐患即使看到也无权根除，只能干着急和担心。”在基层调研时，不少基层干部表达了履责时的尴尬。

“城管拆完就走了，居民会到社区来理论，但社区什么权力都没有，怎么解决？只能磨破嘴皮子劝。”南通如皋一名涉农社区支部书记说，他以前做过城管队员，当时觉得碰到违章拆了就行，当了社区支书以后才发现，拆了以后留下的烂摊子还得要社区来收拾。

“虽然在联合执法的文件里头，有执法权的上级职能部门列了七八个，但是基本都没什么明确的责任，反而成为配合我们乡镇执法的角色。”谈及某些上级职能部门对监管责任的推诿与不作为，一位乡镇干部略显气愤地说，“他们只是坐等乡镇把工作做完后再下来‘检查’，收收执法照片和汇报材料后一走了之。”

为了让乡镇重视，这些上级职能部门一般都会联合草拟文件，通过上级党委政府的名义下发。草拟的文件还会时不时提及“属地管理、各司其职、失职追责”等字样，以督促基层贯彻落实。一位乡镇干部告诉记者，这样做的目的是把责任留给乡镇基层，出了问题也有了追责基层的依据。

资料 3

目前乡镇街道的安监所、食安办等“七站八所”工作人员当中很少有人具备相关专业知识，但却要承担专业的监管任务，这使得基层在履职过程中显得有心无力，容易出现外行监管内行的现象。

“食品安全隐患凭肉眼是看不见的，需要专业人员拿着仪器设备去检测才行。”王元是苏中某街道食安办负责人，但他的实际人事编制却是文卫科助理，街道办没有配备专门的食品安全监管力量。

“国家对环境保护、安全生产越来越重视，但这方面均有专业的操作流程和技术指标，目前很多乡镇都未配备这方面专业人员和设备，从事这方面的监管执法就太困难了。”某乡镇主管安全生产的干部介绍说，近几年，他们选择服务外包的形式，聘请市里专业安全检查团队到镇上企业检查安全生产，这虽缓解了一部分安全监管压力，但是技术指导毕竟时间有限，无法常态化监管。

记者调研时了解到，县区将专业监管责任传导到乡镇街道，而乡镇街道往往又会以二次分解的方式，将责任传导到基层自治组织。虽然社区一般都挂有食品安全和安全生产监管部门的牌子，但大多都是“聋子的耳朵——摆设”，基层社区本来事多人少，这类专业的监管人员更是付诸阙如。

“上级让我们社区来负责食品安全检查，但这些食品的检验标准、采样设备、专业鉴定人员我们都没有，我们怎么能做好这项工作呢？”江苏淮安一城市社区支部书记说，他们社区能做的也仅仅是组织一些农家厨师培训，为他们提供规范的操作要求，“在我们能力范围内只能做到这些。”

资料 4

省里要求 2018 年前完成旱改厕任务，到市里就变成在 2017 年必须全部完成，而且即便工作要求脱离实际，也必须严格按照要求落实到位。这是东部省份一位基层乡镇党委书记，近期向记者“吐槽”当地推进农村旱厕改造工程的遭遇。

“时间紧、任务重就算了，但上级部门提出的工作程序，与实际情况差距很大，给基层工作平添很多时间、精力、资金成本。”这位乡镇党委书记说，市里要求早改厕的施工方必须通过市县公共资源交易中心招标，选择有资质的企业来做。事实上早改厕项目点多面广、单个金额少，适合五到十个人的小施工队做，有资质的大企业都没有积极性。实际操作中只能镇上邀请大公司帮忙顶名投标，招标确定后再请小施工队操作。

另一个乡镇党委书记介绍，早改厕要求一个农村片区农户家中全部安装“双瓮式”冲水厕所，但北方天气冷也容易上冻，一旦上冻，冲水管不出水、粪便也冲不下去，全部堵在便器里。加上农村没有配套排污管网，过去旱厕储粪池半年清理一次；改厕后每周都得清理，否则就污水外溢，“民心工程极易变成糟心工程”。

一些基层干部反映，像这类旱厕改造工程中，上级统一规定工程实施程序、完成节点、改厕方式，没有充分考虑基层实际情况与需求，背后都是“本本主义”在作祟，让基层工作很难开展、工作成本也大幅上升。

一位基层乡镇党委书记说，仅早改厕走公共平台招标这么一趟程序，在县公共资源交易平台招标耗了两三个月不说，支付招标代理费就有约3万元，相当于20多家农户改厕项目投资，“浪费时间、浪费金钱，群众也有意见”。

中部省份一位村支书说，领导安排、指示必须严格落实到位，即便与实际情况相差十万八千里。他说，他所在村只有4户贫困户，不属于贫困村，但上级要求开扶贫会、报数据，他们都得照样参会、填表。

“开一次会来去一天时间，仅扶贫领域平均两天一次会，让村干部疲于奔命，很少有时间能够好好考虑本村实际发展。”这位村支书说，上面千条线下面一根针，基层工作任务确实多、杂，需要抓关键、抓重点，可上级领导抓的重点与本村实际情况不符合，也只能硬着头皮上，否则就是落实不得力，作风有问题。

资料5

基层到底有多少表要填？网友“玩盐”给我们提供了一个数据：一个基层部门，一年就下发了698份文件。

身兼数职，有心无力。网友“小哩”说：“我一个人干人事、财务，还要应对上面各种网络直报、表格，基层把我锻炼成一个‘全能型人才’了。”网友“守望”说：“我是南通如皋某村委会的，主要负责的工作有会计、社会保障、残联、农业生产、企业安全、司法民调……”

个别上级部门布置工作靠的是“一拍脑袋”，令人啼笑皆非。网友“浅淡岁月书香缘”说：“我们中午12点半接到上级电话通知，让中午12点前上报有关材料，我恍惚感觉穿越了时空，我们是要配备月光宝盒了吗？”

留言中经历最离谱的要数网友“陈大白”，她说：“前天上级部门刷新了纪录，通知要求20分钟统计完整个镇的数据，臣妾真的做不到啊！”

上有政策，下有对策。网友“无奈”说，数据是编出来的，照片是摆拍的。网友“三水”道出实情，数据编起来快得很，都是模板。网友“庭有枇杷树”觉得很无奈，今天一个登记表，明天换成调查表，后天又变成会议签字表。

网友“鑫立”讲述了自己的亲身经历。省里给市里下通知，要求月底前交材料，市里就要求县里20

日之前交，县里要求所里 15 日之前交。所里一看，今天都 12 日了，还是周五，只能先等等了，一等就到了 15 号，所里图省事，把用过的材料拿出来再“加工加工”交给了县里。县里就等着收材料呢，18 日统一交给市里。市里一看各县都交齐了，这下不着急了，下另一个通知，30 日要下去检查。

有了检查，自然还要考核，还要集中学习、考试。这样做事的结果就是，大家都变成了“老油条”，对付对付就行；每个人都变成了“算盘珠”，拨一下才动一下。

网友“琳琅妙笔”觉得，迎检的表格、文件如果能分批次下发，一年时间可以放慢脚步好好做，而不是像现在这样，到年底了几十个单位一起发。

网友“江枫渔火”建议，将县级各职能部门人员分派到乡镇驻扎，让干部在县城与乡镇间流动，在增强基层力量的同时也让领导知道基层工作是如何开展的，减少上级部门胡乱指挥、不接地气的现象发生。网友“柳叶子”也关注“动态办公”，她建议每年设一定量的指标，让那些在基层表现好的同志有机会去上级部门交流学习。

网友“一条龙”总结，一口想吃成一个胖子，一口要吃上热豆腐，一步就要登天，这体现出急功近利的浮躁心态存在于我们社会的方方面面，需要科学调控“正骨位”。

资料 6

近年来，在中央反“四风”、纠文风的大背景下，不少地方的新闻报道、政府公文、领导讲话等文字材料中的官话套话少了，“接地气”的群众语言多了，文风有所好转。但需要注意的是，仍有一些基层单位的文字材料中，出现多种类型的话语乱象。

——“改头换面”型。一些地方“工作无创新，文字材料整”，多少年来同样的一项工作，每年年初换一个新提法，将文字材料“改头换面”，就当“创新事项”了。

以党的群众路线为例，某县就有干部联系群众、干部“户户到”、干部“双联”等多个提法。乍一看以为是不同工作，实则“换汤不换药”。

——“滥用新词”型。不管是“新常态”等中央提出的新术语，还是“打 call”等网络新流行语，经常被滥用到基层各种文字材料中。

比如，“新常态”原本是经济领域术语，但近年来不乏“‘人机共存’将成人类社会新常态”“真抓实干成干部成长新常态”“基层民主新常态”“文化新常态”“旅游新常态”等各种“新常态”，甚至把一些不良现象都归入新常态。

山东某县委政研室副主任告诉记者：“我一年需要撰写的大小材料多达上百份，‘5+2’‘白+黑’都不够用，哪有时间下乡调研？只能是多多‘借鉴’别人写过的材料。”

另外，一些基层单位“以开会落实开会、以文件落实文件”的形式主义根深蒂固，也是造成造词乱象的重要原因。

还有，“上级要求创新，下级疲于应付”也助长了这种风气。山东一名乡镇干部告诉记者，多个上级部门考核乡镇工作时，都有专门的“创新事项”加分。但在人手不足的情况下，基层许多工作又乏善可陈。为了考核加分，只好编造、美化文字材料来“创新”。

资料 7

不少受访基层工作人员认为，工作安排脱离实际也要硬着头皮上，没有领导指示、实施细则就不愿干、不会干等“本本主义”乱象，给基层工作带来多重危害，要将其彻底杜绝需要根治四项“病灶”：

一是杜绝“部署教条化”。工作部署中，不能过于强调“一竿子插到底”“一根标尺看好坏”，应在完善事中、事后监管基础上，给予基层合理调整、灵活处置的空间。

河南省太康县马厂镇党委书记说，需要给基层干部一定的工作创造空间，让他们能围绕当地实际情况，结合个人工作优势，将基层急需解决的问题、老百姓迫切盼望解决的问题解决好。

二是治理“干部慵懒散”。一方面应加大对干部的管理和监督力度，通过作风巡查、溯源追责等方式，强化公务员队伍履职担当责任心与主动性；另一方面也要通过探索合理正向激励机制，完善绩效考核等方式，充分调动干部干事创业积极性，治理干部作风“慵懒散”，根治遇到问题“推拖绕”等问题。

三是打破“唯上式考核”。政策好不好，要看乡亲们是哭还是笑。国家行政学院竹教授等专家表示，在针对基层干部的考核评价体系中，应该将群众拥护不拥护、赞成不赞成、高兴不高兴、答应不答应，作为衡量标准，而非领导是否注意、是否满意，引导基层干部注意力“往下看”，真正做到不唯上、不唯书、只唯实。

四是改变“出错难容忍”。让基层干部工作有信心、有底气，关键还得让“试错”“容错”机制落到实处。

尽管各地都已陆续出台干部改革创新“容错”机制，但一些地方仍然对干部“犯错”容忍度低。对于基层干部实际工作中因非主观因素出现的错误，应在及时纠错、补救中，对干部予以充分的容忍、保护，真正激活基层干部干事创业的主观能动性。

三、申论要求

(一) 阅读资料 1~3，总结当前基层治理中存在的问题。(20 分)

要求：分析准确，概括全面，语言简洁；字数在 200 字以内。

(二) 资料 6 反映出当前基层存在的文风问题，有人指出“转文风要先转作风”，请理论联系实际对这句话进行分析。(30 分)

要求：观点正确，语言简洁；条理清晰，逻辑合理；思考全面，针对性强；字数在 500 字以内。

(三) 根据资料 4 划线句子，以“莫把‘民心工程’变成‘糟心工程’”为主题，写一篇论述性文章。(50 分)

要求：题目自拟，论点明确；层次分明，语言流畅，论述深刻；字数在 800 字左右。

2019年11月2日浙江省金华市磐安县事业单位考试试卷

《申论》

一、给定材料：

材料1

《礼记：学记》中说：“凡学之道，严师为难。师严然后道尊，道尊然后民知敬学。”只有对老师怀有尊敬之心，学生才会仔细聆听老师讲授的内容，然后才能恭敬地对待学习、知识，最后学而有成。

明代著名画家唐伯虎从小就喜欢文学和画画，师从当时著名画家沈周学画。

转眼一年过去了，他画技大长，所画的画已经显现出大家风范，在附近很有名气。唐伯虎开始有点洋洋自得，觉得比起老师的画来自己也毫不逊色，从他那里再也学不到什么了。于是，他借口母亲需要照顾，向老师提出想早点回去。他还拿出自己的画作请老师点评，实际上是想炫耀自己的画艺。沈周老师知道他的心思。他既没有强留唐伯虎，也没有看他的画作，只是请他到自己房间来吃饭送别。这个房间只有一扇窗户，窗外景色宜人，沈周老师就让唐伯虎过去开窗通风。

唐伯虎朝窗户走去，可谁知那“窗”怎么开也开不了。唐伯虎问：“窗户上锁了吗？”沈周笑笑说：“哈哈，你看仔细了再开。”

唐伯虎揉揉眼睛，仔细一看，才发现这哪是什么窗户，而是老师挂在墙上的一幅画。老师这画画得十分逼真，以至于让唐伯虎误认作是窗户。

唐伯虎羞愧地对老师说：“请老师原谅我的肤浅骄傲，我愿意再跟您学习三年。”

此后，唐伯虎改变了目空一切的态度，认真领会老师的教导，终于成为一代大师。

材料2

“我也不知道为什么，那天早上一起床就忽然想到老师应该有自己的节日。”教师节的最早创意人、中科院院士王梓坤教授这样说。那是1984年12月9日，王教授当天就把这个想法告诉了《北京晚报》。第二天，《北京晚报》就刊出文章《王梓坤校长建议开展尊师重教月活动》，引起了读者强烈反响。12月15日，北师大钟敬文、启功、王梓坤、陶大镛、朱智贤、黄济、赵擎寰联名，正式提议设立教师节。1985年1月21日，第六届全国人大常委会第九次会议作出决议，将每年的9月10日定为教师节。

为了发扬“尊师重教”的优良传统，提高教师地位，1985年1月21日第六届全国人大常委会第九次会议确定，每年9月10日为中国教师节。在第一个教师节，当时的国家主席李先念向全国教师发出慰问信祝贺节日，首都召开万人庆祝大会，教师节期间20个省市共表彰11871个省级优秀教师集体和个人。

其实早在1932年，国民党政府曾规定6月6日为教师节，解放后废除了6月6日的教师节，改用“五一国际劳动节”同时为教师节，但教师没有单独活动，没有特点。而将教师节定在9月10日是考虑到全国大、中、小学新学年开始，学校要有新的气象。新生入学伊始，即开始尊师重教，可以给“教师教好、学生学好”创造良好的气氛。1985年9月10日，是中国恢复建立第一个教师节，而从此以年，

老师便有了自己的节日。

材料 3

21 世纪的初期，作为中国社会变革的转型期，是一个多事之秋；中国的教育界也是如此。其中的焦点便是集中在教育的两大主体——教师和学生——的关系上面：一方面是教师惩罚学生，诸如《女儿被老师骂成精神病家长向学校索赔百万》（K12 网新闻频道 2001 年 2 月 14 日转载中新社消息），《女教师报复学生家长小学生无辜惨死课堂》（万维读者网 2000 年 3 月 12 日转载《厦门商报》）的事情频频发生；另一方面是学生惩罚老师，如《郴州师生冲突致教师挥刀自伤折射困惑师道尊严》（搜狐网转载《中国青年报消息》）的事端也时有发生。

材料 4

今年 13 岁的婷婷，半年前转入商丹高新学校就读初中一年级。可在半年的学习生活中，婷婷却生活在班主任王老师的长期脏话辱骂中。

“下学期你不要来，你再要来，我把你捏死在教室里”、“你贱不贱，你自己丢不丢人，你像个死人一样坐在教室里”、“你咋老是这分数，怕是种的事”……

婷婷向媒体讲述自己的遭遇：王老师上着课无缘无故就骂我，一节课最多能骂我八九次。

实际上，婷婷本身性格开朗，爱交朋友。然而，在新学校里，王老师却不许学生和她交朋友：“只要一接触我，老师就会骂他们，说不能跟我在一起，跟那二 x 在一起，你们也会传染成二 x。”

今年 4 月，婷婷家人曾就此事和学校沟通，可事态并未得到遏制。无奈之下，从 6 月 14 日至 7 月 5 日，婷婷断断续续录下了王老师辱骂性言语超 100 条，总时长超 20 小时。其中一条录音里，老师正诱导全班同学回答：咱班同学谁贱？没有得到回应几秒钟后，他又喊道，谁贱？接着，多人一起高喊出一个名字。

材料 5

一则题为“毕业后，他用耳光报答当年的老师”的视频在网上热传。网传视频及所配字幕显示，事发河南省洛阳市栾川县，毕业于栾川县实验中学的男子常某，将车停在路边，待当年的老师骑电动车经过时将其拦住，让同伴在车旁持手机拍摄，然后自己一边扇老师嘴巴一边骂——

“你还记不记得我？以前咋削我你还记得不记得？知道不知道？过去十几年了！”

“以前你咋当的老师？”

被打后，老师没有还手，仅是嘴里喏喏地说“对不起”。16 日晚，疑似打人男子常某在网上“解释”殴打老师的原因。称其今年 33 岁，打老师时既没喝酒也没失去理智，只因 20 年前 13 岁（1998 年）在栾川县实验中学读书时，因家里没钱没权，被该老师任意欺负践踏尊严，多次把他踩在脚底下连踹十几脚并踹头，对他的心灵造成了一辈子的伤害。

对此情况，记者 18 日致电栾川县教育局求证，该局表示此事正在调查，具体情况“问学校”。随后，记者从栾川实验中学学生处主任获得证实，男子打老师就是“出于报复心理”，被打老师并无大碍。该主任透露，事发时间是今年夏天“7 月底 8 月初”，最近因为视频在网上广泛传播才引发官方关注，其目前正在派出所处理此事。

8 月 19 日上午，河南省洛阳市中级人民法院对常仁尧寻衅滋事案二审宣判，裁定驳回上诉，维持原

判。常仁尧寻衅滋事一案，河南省栾川县人民法院于2019年7月10日作出一审判决，认定常仁尧犯寻衅滋事罪，判处有期徒刑一年六个月。

宣判后，常仁尧提出上诉，洛阳市中级人民法院依法立案受理，并组成合议庭进行了审理。合议庭审阅了案件全部卷宗材料，审查了常仁尧的上诉状及其辩护人的辩护意见，讯问了常仁尧并听取了其辩护人意见，核对了全案证据，对一审认定的事实和适用法律进行了全面审查，充分保障了常仁尧及其辩护人的诉讼权利。经合议庭评议，洛阳市中级人民法院依法作出二审裁定。

洛阳市中级人民法院在二审裁定中对一审认定的事实、证据予以确认，上诉人常仁尧为发泄情绪、逞强耍横，借故生非，在公共场所拦截、辱骂、随意殴打被害人张某某，并安排他人同步录制视频，引发多名群众围观。后常仁尧又将其殴打张某某的视频传播给他人，导致社会舆论广泛关注，严重影响了张某某及其家人的工作、生活，且严重破坏了社会道德准则和公序良俗，情节恶劣，其行为已构成寻衅滋事罪。一审判决认定的事实清楚，证据确实、充分，定罪准确，量刑适当。审判程序合法。常仁尧的上诉理由及其辩护人的辩护意见均不能成立，不予采纳。依照《中华人民共和国刑事诉讼法》第二百三十六条第一款第一项之规定，裁定驳回上诉，维持原判。该裁定为终审裁定。

材料6

去年一则实发的突发的悲剧消息，让人看了很悲痛。某日中午时分，在呼和浩特一名14岁初中女生从高楼坠亡，从呼和浩特市公安局回民区分局获悉，事发时为中午13时许，坠亡女孩14岁，姓牛，乌兰察布人，目前就读于呼和浩特市秋实中学初二年级，是一名住校生，坠楼地点为回民区明珠丽景东区，此处并非她家。

网友1：以前呼和浩特二中就有跳楼的，孩子不补课，老师就瞧不起学生。因为老师挣不到钱，中国的补课式教育啥时候是个头。

网友2：上课不讲重点，课外班主任补课收费，这就是中国试教育。可怜的孩子。

网友3：教育就是这样，上学学习成绩都不及格，只从他们班主任补课以后全部九十分以上，你说能不补习嘛，为了孩子，没法了，年年的，开学，过节，过年，红包伍佰一千没断过，这种情况不在少数吧？

材料7

海口市琼山区中小学部分老师跟我们反映，学校已经拖欠临聘老师两个月的工资没发了。临聘老师的工资目前是七月、八月，都没有发，社保也没有交进去，我现在生小孩了，要报生育险，目前是没有交社保的话，是报不了。王女士告诉记者，她在2016年9月份和海口市琼山第五小学签订劳动合同，在该校教授语文课程。按照合同约定，校方每个月需要支付给她，包括社保在内，2800元的工资。但是，从今年7月份起，王女士和学校其他70余名临聘老师，都没有收到学校发放的工资，这给她们的生活带来一定困扰。王女士说，其实从今年三月份开始，工资发放就一直不太正常。

琼山区教育局方面介绍，由于近年学生逐年增多、教师学科结构性缺员及产假、病假、退休等原因导致各校教师缺员较严重，2018年，琼山区聘请代课教师、职工等临聘人员达到800多人，比去年多出100来人，而当中中小学编外临聘教师近500人。但是，海口市财政局给教师工资拨款数额是按照学生人数计算，而各区临聘教师工资是由区政府承担，因此造成工资缺口。据统计，目前琼山区公办中小学

临聘人员工资缺口超过 1000 万。

材料 8

一位来自浙江老师的自述，我是浙江 ZT 下面一个县城城区的老师，98 年毕业工作去年评上一级教师 4800 很多一线教师都希望，仿照公务员职级晋升制度……（此处省略，大致意思为：相比同时考上去公务员的同学，觉得教师工资低）

材料 9

美国堪萨斯州的小学老师盖瑞尔曾许诺，如果学生们的教学评估测评通过率在 80% 以上，他就与猪亲吻。结果，学生们达到了要求，盖瑞老师便信守诺言，于 2006 年 4 月 18 日这天，当着学生们的面，和一头猪接了吻，让学生们在成功的喜悦中着着实实开心了一回。

材料 10

2018 年 1 月，中共中央、国务院印发《关于全面深化新时代教师队伍建设改革的意见》，就曾提到，深入推进高等学校教师考核评价制度改革，突出教育教学业绩和师德考核，将教授为本科生上课作为基本制度。

21 世纪教育研究院副院长熊丙奇曾指出，在以往很长一段时间里，有些学校特别重视学术研究成果，强调教授的论文、成果产出，人才培养却被忽略。以前虽然教育部门一再强调要建立“教授给本科生上课”制度，但缺乏明确的处理规定，制度也动辄被束之高阁。

我们去年也说过，要让一部分学生天天打游戏、天天睡大觉、谈恋爱这样的日子一去不复返。在全世界来看，高等学校的毕业率很低，中国相对较高，但我们有自己的国情，不能简单对比。但让所有的学生进了学校就进了安全箱，然后一定能毕业，这个一定要改变。有学生不对自己负责，不对家庭负责，不对社会负责，就要付出应该付出的代价。

材料 11

今年中共中央、国务院发布了《关于审核教育改革全面提高义务教育质量的意见》（以下简称《意见》），这是中共中央、国务院印发的第一个聚焦义务教育阶段教育教学改革的重要文件，是新时代我国深化教育教学改革、全面提高义务教育质量的纲领性文件。

《意见》提出了全面提高义务教育质量的主要任务。一是坚持“五育”并举，全面发展素质教育。认真落实党中央、国务院关于“发展素质教育”的新要求，强化德育、体育、美育和劳动教育应有地位，突出德育实效，提升智育水平，强化体育锻炼，增强美育熏陶，加强劳动教育，促进学生全面发展。二是强化课堂主阵地作用，切实提高课堂教学质量。优化教学方式，注重启发式、互动式、探究式教学。加强教学管理，健全教学管理规程，规范教学行为。完善作业考试辅导，落实减轻过重学业负担要求。促进信息技术与教育教学融合应用，缩小城乡教育差距。三是按照“四有好老师”标准，建设高素质专业化教师队伍。大力提高教师教育教学能力，优化教师资源配置，依法保障教师权益和待遇，提升校长实施素质教育能力，充分调动教师和教育管理队伍在深化教育教学改革中的主动性和创造性。四是深化关键领域改革，为提高教育质量创造条件。加强课程教材建设，完善招生考试制度，制订县域义务教育质量、学校办学质量和学生发展质量评价标准，坚决克服唯分数、唯升学的功利化倾向。充分发挥教研支撑作用。落实学校办学自主权，激发学校生机活力。实施义务教育质量提升工程。五是加强组织领导，

为新时代提高义务教育育人质量提供坚强保障。坚持党的全面领导，落实部门职责，强化考核督导，切实加强教育教学改革的价值引导、组织领导和支持保障。加快推进家庭教育立法，密切家校联系，加强家庭教育指导，构建学校、家庭、社会“三位一体”的协同育人格局。

材料 12

一市级政务平台上出现这样的举报信息：一对教师“双职工”在暑假期间为自己的孩子辅导课业，一位家长得知后遂以“违反在职教师不准参与补课禁令”为由，向当地教育部门举报。好在当地政府及时回应，明确表示此类行为不属于补课。

从留言内容看，这位心绪难平的家长憋了一肚子气，一是认为这对“双职工”暑假只辅导自己的子女，对其他人造成极大不公平；二是认为教师子女在考学中应提高录取分数线。如此举报，令人啼笑皆非，但也发人深思。

这种“只把自家的孩子当宝贝，拿别人的孩子不当人”的双标型家长，对学校、教师的正常教学秩序带来干扰乃至杂音，也给因教育而焦虑的社会群体添了一把火。对教师队伍、学校教育的猜疑与焦虑，会筑起一道看不见的墙。

在人人皆可言教育的年代，猜疑与隔阂正在消解传统意义上的师道尊严。教师，也算是一个清苦的职业。看似有寒暑假，实际上多数时间都要用来备课、评课。双休日，学校要承担各类社会考试；工作日，课多人少，一人请假就可能影响教学进度。在这样的工作压力下，倘若再得不到应有的尊重，轻则让教师心灰意冷，重则令名师远走高飞。

涵养师道尊严，固然需要教师始终怀揣教书育人的理想信念，根据时代发展培养人才，从内而外提升职业素养、铸就职业声誉。但同样离不开外部环境持续改善，社会要给予教师充分的支持与理解。

材料 13

政协第三届全国委员会于 2019 年 8 月 27 日下午举行。中共中央政治局常委、全国政协主席汪洋出席。16 位全国政协常委围绕“办好人民满意的教育”作大会发言。田惠光常委代表提案委员会发言建议，坚持德育为先，教育引导学生爱党爱国爱人民爱社会主义，培养德智体美劳全面发展、能担当民族复兴大任的时代新人；吴昌德常委代表教科卫体委员会发言提出，要强化落实政府责任，加快学前教育立法，切实解决入园难、入园贵问题；孙东生常委建议，完善招生制度、改革考试制度，多措并举减轻中小学生学习负担；何报翔常委代表民革中央发言建议，应从改进教育资源配置入手，切实解决“大班额”问题；陈群常委代表民盟中央发言提出，要加强高校教师师德建设，把立德树人成效作为评价的根本标准；王光谦常委认为，要全面、客观评价西部地方高校的作用和贡献，改变“人才凹地”现象；叶小钢常委建议，要在真正敬畏师道尊严和严格管理上下功夫，消除高校浮躁之风；张杰常委认为，要对接国家战略，加快高等教育特别是研究生教育体制创新，让更多创新型人才脱颖而出；刘伟常委代表经济委员会发言提出，通过分类管理和差别化扶持，重点扶持和建设质量较高、特色鲜明、符合产业转型和人民需要的民办学校；张勇常委代表农业和农村委员会发言建议，要优先发展农村教育事业，为乡村振兴提供智力支持；甄贞常委代表社会和法制委员会发言建议，要适当增加农村中小学教师的培训数量，推进农村中小学教师队伍建设；朱永新常委代表民进中央发言时表示，发展“互联网+教育”促进城乡优质教育资源共享，推动乡村教育模式变革、体系重构；达久木甲常委代表民族和宗教委员会发言提出，要将职业教育作为加快民族地区发展的长期战略举措统筹考虑，推动民族地区职业教育加快发展；楼继伟常

委代表外事委员会发言建议，完善教育经费投入机制，优化教育支出结构，提高资金使用效益；耿惠昌常委代表港澳台侨委员会发言提出，要创新海外华文教育体制机制、路径和方法，推动海外华文教育全面发展；陈冯富珍常委建议，加强香港青少年爱国主义教育，促进香港青少年人心回归，确保“一国两制”事业薪火相传、行稳致远。

材料 14

福建省领导多次召开加大教师队伍。《意见》印发后，我省高度重视，把制定福建实施方案作为重大的政治任务来抓。省领导多次召开会议，开展调研，作出批示，要求加大教师队伍建设的投入和支持力度，画好施工图，当好施工队，不折不扣贯彻落实。2018年9月10日，省委省政府正式印发我省实施意见。我省实施意见对标中央精神，立足福建实际，提出了一些实招、硬招、管用的招。

广东省则加大示范学院支持力度，肇庆学院教师教育学院院长肖起清应邀出席发布会，介绍肇庆学院振兴教师教育、推进新师范建设的经验和亮点。肖起清表示，要办好师范教育，首先要抓源头，聚焦师范院校和师范专业，着力提高师范生的培养质量。广东省加大师范院校的支持力度，推出一系列的政策举措，为师范院校的发展奠定了发展后劲。在此基础上，肇庆学院积极落实，大力推进师范教育。第一，创新教师教育体制。提出教师教育一体化、培养目标卓越化、三位一体协同化、协同育人开放化的办学理念，设立教师教育学院，形成教学、实训、竞赛、实践、职后培训、相关研究一体化的教师教育新体制。第二，创新教师培养模式。按照强化师德修养，注重专业知识，突出师范技能，提升职业精神的要求，积极探索大类招生、二次选拔的模式，创立未来卓越教师“砚园班”，成为广东省师范生培养的品牌。第三，推进教师教育协同育人。与肇庆市下辖的7个县区共建教师教育改革创新试验区和协同育人合作区，建立260多个教育实践基地，每年选派1600多名师范生顶岗职教实习，实现多方共赢。

材料 15

武昌工学院教师董雯娟和学生定协议，迟到不论原因，根据迟到时间做俯卧撑，男女平等，师生平等。12日，董雯娟遇交通事故迟到20分钟，她卷起袖子就做了20个俯卧撑。学生说：“老师都‘身先士卒’了，我们再不敢迟到！”（4月17日 楚天都市报）

对董雯娟做俯卧撑自罚的事儿，有人表示不解：“这样做有损师道尊严”、“老师当众自罚，以后学生会怎么看？”笔者认为，“自罚俯卧撑”不但不会损害“师道尊严”，反而，能够站起“师道尊严”。

曾经有一位家长在学校开学典礼上演讲，站在学校教师家长演讲。直面高中学生，从学校为什么要严格管理，到学生为什么要珍惜时光；从老师为什么对学生“刻薄”，到家长为什么对孩子“苛刻”；从学习的态度，到人生的奋斗。整个演讲动之以情，晓之以理，令人震撼。正如一位网友留言说，这位家长了不起！有知识，懂教育。肺腑之言撼动学子，震撼老师，激励家长。

演讲结束后，这位家长把一件特殊的礼物（一把戒尺）送给老师，并且说道：心有戒尺，行有所止，把教育孩子的权利交给老师，请老师放心大胆管理。作为家长，绝不护短，绝对配合。当家长发言完毕，台下就响起雷鸣般的掌声，学生、家长、老师都被发言所震撼。

材料 16

教师曾担着知识、思想、真理的历史使命。习主席201年3月18日在北京召开学校思想政治理论课教师座谈会并发表重要讲话习近平总书记从党和国家事业发展的全局出发，深刻阐释了办好思想政治理论课的重大意义，深入分析了教师的关键作用，明确提出了思想政治理论课改革创新的基本原则和目

标要求。他强调，办好思想政治理论课，最根本的是要全面贯彻党的教育方针，解决好培养什么人、怎样培养人、为谁培养人这个根本问题。办好思想政治理论课关键在教师，关键在发挥教师的积极性、主动性、创造性。推动思想政治理论课改革创新，要不断增强思想政治理论课的思想性、理论性和亲和力、针对性。习近平总书记的重要讲话，高屋建瓴、内涵丰富、思想深邃，具有很强的政治性和针对性，为办好学校思想政治理论课提供了根本遵循。

习近平总书记对思想政治理论课教师提出了殷切期望，思想政治理论课教师，要给学生心灵埋下真善美的种子，引导学生扣好人生第一粒扣子。思想政治理论课教师，政治要强、情怀要深、思维要新、视野要广、自律要严、人格要正。这“六个要”为加强思想政治理论课教师队伍建设指明了方向。

二、作答要求：

（一）阅读全文，谈谈你对“师道尊严”的理解。（20分）

要求：全面、准确、逻辑清晰，字数不少于200字。

（二）根据材料3~8，分析我国“师道尊严”面临的窘境。（30分）

要求：紧扣资料，内容全面；层次分明，有逻辑性；字数不少于400字。

（三）阅读材料，自选角度，自拟题目，写一篇论述性文章。（50分）

要求：内容充实，结构完整，论述深刻；思路清晰，语言流畅；字数不少于800字。

2020 年 11 月 21 日浙江省金华市磐安事业单位招聘考试试卷
《职业能力倾向测试和申论（A 卷）》

第一部分 常识判断

根据题目要求，请在四个选项中选出最恰当的答案。

1. 民政部 2020 年第四季度例行发布会消息，截至今年 6 月底，全国已有近 22 万个养老服务和设施，700 多万张养老服务床位。同比分别增长 26.6%和 7.7%；“十四五”期间，我国老年人口将突破（ ），将从轻度老龄化买入中度老龄化。

- A. 2 亿 B. 2.5 亿 C. 3 亿 D. 3.5 亿

2. 在纪念中国人民志愿军抗美援朝出国作战 70 周年之际，中央宣传部以云发布的方式，向全社会宣传中国人民志愿军老战士孙景坤，徐振明的先进事迹，授予他们（ ）称号。

- A. “时代楷模” B. “峥嵘楷模” C. “战斗英雄” D. “时代英雄”

3. 根据党的十九大报告，下列说法不准确的是（ ）。

- A. 发展是解决我国一切问题的基础和关键，发展必须是科学发展，必须坚定不移贯彻创新、协调、绿色、开放、共享的发展理念
- B. 要毫不动摇坚持和巩固中国特色社会主义制度，中国特色社会主义制度是一个严密完整的科学制度体系，起四梁八柱作用的是根本制度、基本制度、重要制度，其中具有统领地位的是人民代表大会制度
- C. 文化自信是一个国家、一个民族发展中更基本、更深沉、更持久的力量
- D. 带领人民创造美好生活，是我们党始终不渝的奋斗目标。必须始终把人民利益摆在至高无上的地位，让改革发展成果更多更公平惠及全体人民，朝着实现全体人民共同富裕不断迈进

4. 能源是国民经济的重要物质基础，纵观社会发展史，人类经历了（ ）三个能源时期。

- A. 柴草、煤炭、石油天然气 B. 柴草、煤炭、电力
- C. 畜力、电力、石油天然气 D. 畜力、煤炭、电力

5. 根据生产要素在各产业中的相对密集度，可以将产业划分为不同类型，下列对应错误的是（ ）。

- A. 土地密集型产业——种植业、林牧渔业、采掘业
- B. 劳动密集型产业——化工业、现代制药业
- C. 技术密集型产业——电子计算机工业、机器人工业、航天工业
- D. 资本密集型产业——交通、钢铁、机械、石油等基础工业和重化工业

6. 下列属于居民财产性收入的是（ ）。

- A. 劳动兼职所得 B. 房租 C. 养老金 D. 商业买卖收入

7. 根据《中华人民共和国公司法》的规定, 下列关于股份有限公司股份转让的说法错误的是()。
- A. 股东持有的股份可以依法转让, 股东转让其股份, 应当在依法设立的证券交易所进行或者按照国务院规定的其他方式进行
- B. 记名股票, 由股东以背书方式或者法律、行政法规规定的其他方式转让
- C. 无记名投票的转让, 由股东将该股票交付给受让人后即发生转让的效力
- D. 发起人持有的本公司股份, 自公司成立之日起两年内不得转让
8. 下列与我国军事国防相关的说法不准确的是()。
- A. 核力量是维护国家主权和安全的战略基石
- B. 中国始终奉行不首先使用核武器的政策, 坚持自卫防御的核战略
- C. 中国无条件不对无核武器国家和无核武器区使用或威胁使用核武器
- D. 中国不与任何国家进行核军备竞赛, 核力量始终在维持国家安全需要的正常水平
9. 黄埔军校是中国近现代历史上著名军事学校, 下列关于黄埔军校的说法正确的是()。
- A. 黄埔军校由蒋介石创建
- B. 平定商团叛乱是黄埔军校是建校以来的第一战
- C. 毛泽东曾在黄埔军校担任教官
- D. 黄埔军校不是中国现代史上第一所培育革命军队干部的军事学校
10. 15 世纪后期至 16 世纪前半期, 意大利文艺复兴运动达到鼎盛, 出现了“美术三杰”, “美术三杰”指的是()。
- A. 达·芬奇、米开朗琪罗和拉斐尔
- B. 梵高、毕加索和莫奈
- C. 高更、达·芬奇、米开朗琪罗
- D. 伦勃朗、莫奈和毕加索
11. 《花间集》是中国五代十国时期编纂的一部词集, 也是文学史上的第一部文人词选集, 由()编辑。
- A. 元稹
- B. 赵崇祚
- C. 殷强
- D. 温庭筠
12. 冷锋是中国最常见的一种锋, 由冷气团主动向暖气团移动形成。下列关于冷锋的说法错误的是()。
- A. 冷锋过境时, 会伴有偏北风加大温度减低, 但是不会造成雨雪天气
- B. 移动快, 坡度大
- C. 冬季强、夏季弱, 出现的频数相近
- D. 在我国活动范围甚广, 几乎遍及全国
13. 地质时间单位, 是地史上据以表达时间的单位, 以下选项中哪个不是地质年代单位?()
- A. 宙
- B. 年
- C. 代
- D. 世
14. 下列节气中, 按一年内发生的先后顺序排列正确的是()。
- A. 立春→春分→小雪→小寒
- B. 雨水→清明→惊蛰→芒种
- C. 处暑→大暑→霜降→立冬
- D. 谷雨→春分→夏至→立秋

第二部分 言语理解与表达

本部分包括表达与理解两方面的内容。请根据题目要求，在四个选项中选出一个最恰当的答案。

15. 随着经济和科技的不断发展，管理理论也随着时代的发展经历着不断的_____。科学的管理模式可以促进企业健康持续发展，也因此受到越来越多人关注。

填入划横线部分最恰当的一项是（ ）。

- A. 变化 B. 演变 C. 演进 D. 进化

16. 不管在这个难以理解的世界里是多么坎坷、多么愁闷，它仍然是美好的，我们毕竟都_____能成为幸福的人，彼此相爱。

填入划横线部分最恰当的一项是（ ）。

- A. 盼望 B. 期待 C. 期望 D. 热望

17. _____的设计，高雅精致的布局和时尚惬意的环境布局不仅造就了一座座“文化地标”，更吸引了众多消费者前来“打卡”，营造出了实体书店新风景。

填入划横线部分最恰当的一项是（ ）。

- A. 富丽堂皇 B. 竹苞松茂 C. 雕栏玉砌 D. 美轮美奂

18. 我不相信命运，我只相信我的手，因为它不属于_____任何未知的力量，而只属于我的心。我可以支配它，去干我想干的任何一件事情。

填入划横线部分最恰当的一项是（ ）。

- A. 命中注定 B. 扑朔迷离 C. 悄无声息 D. 冥冥之中

19. 人生有那么一首诗，往往是当你拥有它的时候，你没有读懂它，可当你在读懂它的时候，它又离你远去了，这首诗就是青春。青春实在太美好。在这样一趟永远不可能在复制的旅程中，每个人都刻下了自己_____的记忆，无论这些记忆是悲伤的，_____热烈的、甚至是疯狂的，它都是人世间最美好的_____。

依次填入划横线部分最恰当的一项是（ ）。

- A. 独一无二 回忆 B. 与众不同 印象
C. 举世无双 纪念 D. 绝无仅有 记忆

20. 罗马不是一天建成的，新职业也不是一夜之间冒出来的。_____的新科技，_____的新业态，是孕育这些新职业的沃土。

依次填入划横线部分最恰当的一项是（ ）。

- A. 斗转星移 方兴未艾 B. 日新月异 风起云涌
C. 翻天覆地 如火如荼 D. 今非昔比 突飞猛进

21. “_____”，所以历史可以让我们的地更加地清晰，可以更加明白一些道理，以文化人，以德润心，文化科研让我们的心灵更加地滋润，更加地丰富。所以作为炎黄子孙，触摸历史，传承文化，是我们义不容辞的责任和义务。

填入划横线部分最恰当的一项是（ ）。

- A. 人事有代谢，往来成古今
- B. 千古兴亡多少事？悠悠。不尽长江滚滚流
- C. 以史为镜，可以知兴替
- D. 百年世事三更梦，万里乾坤一局棋

22. 其实过一个美妙的人生并不难。你选一个公认的世界难题，最好是只用一张纸和一支铅笔就可以解答的数学难题，比如哥德巴赫猜想或费尔马大定理什么的，或连纸笔都不要的纯自然哲学难题，比如宇宙的本源之类，投入全部身心钻研，_____，不知不觉地专注其中，一辈子也就过去了。

填入划横线部分最恰当的一项是（ ）。

- A. 只问耕耘，不问收获
- B. 尽人事，听天命
- C. 谋事在人，成事在天
- D. 我命由我不由天

23. 要改变对公共卫生、疾病防控的狭义理解和评判，明确公共卫生不单是医学问题和技术问题，它具有强烈的公共政策性质，更是一个社会系统工程；对公共卫生、疾病防控不能采用临床医学的效益标准来推动发展。坚持公共卫生公益性导向。公共卫生属于公共物品，相关的产品和服务应该由政府而不是市场来提供，要进一步明确公共卫生公益性导向，以“大卫生、大健康”为导向强化政府公共卫生管理职能，把疾病预防控制明确为政府应优先保障的基本公共服务。

上述文字意在强调（ ）。

- A. 要确立公共卫生的理念和导向
- B. 要构建新型公共卫生安全防控网络
- C. 要提高公共卫生应急体系安全防控网络
- D. 要加强疾控机构核心能力建设

24. 要加快青年人才队伍梯次发展，加强以“90”后为主体的基层干部后备梯队建设，打造高质高效人才供应链是高质量打好脱贫攻坚战的坚实基础。青年干部要发扬求真务实的精神，养成良好风气。在干事创业时，要个性鲜明、坚持原则，敢抓敢管、不怕得罪人；要做到政治上守规、作风上干净、工作上作为，塑造成优秀人才；要严守政治纪律，把准政治方向，毫不动摇坚持党的领导。要遵守纪律作风，提升廉洁自律力；要培养健康的生活方式，提高文化素养，发扬艰苦奋斗、勤俭节约的优良传统和作风。坚持把火热的实践作为最好的课堂，经风雨、见世面、壮筋骨、长才干，为高质量打好脱贫攻坚战作出贡献。

上述文字意在说明（ ）。

- A. 打造青年人才链就得坚持党性锤炼
- B. 打造青年人才链就须加快能力提升
- C. 打造高质高效人才供应链就要始终围绕政治建设为统领
- D. 打造青年人才链就要加强作风养成

25. 在相当多人的心中，一说到“加强管理”，就立刻联想到领导怎样控制群众、组织如何控制成员。所以，要求加强党员管理，便简化为在各种新型的经济、社会组织中建立党支部，或把那里的干部任命，乃至经费使用管起来。管理的确有控制的一面，但管理并非就是控制，它还包括沟通、协调、监督等内容，它要把成员有机地组织起来，同心同德，实现某一特定的目标。

上述文字意在强调（ ）。

- A. 加强党员队伍建设要深化“大课堂”教育

- B. 加强党员队伍建设要更新教育管理理念
- C. 加强党员队伍建设要拓展教育管理形式
- D. 加强党员队伍建设要严把党员发展入口关

26. 新时代党全方位谋划制度建设，不断总结制度建设的经验，在开放中创新制度体系，实现了制度体系的有序完善和功能优化。中国特色社会主义制度是当代中国发展进步的根本保障，是具有中国特色、明显优势、抢答自我完善能力的先进制度。中国特色社会主义制度体系的强大生命力在于它是人民当家做主的制度体系，是维护人民根本利益的制度，是党的意志和人民意愿的统一。

上述文字意在说明（ ）。

- A. 党领导建设的中国特色社会主义制度体系要素完备、层次清晰、结构健全
- B. 党领导建设的中国特色社会主义制度体系机制完备、运转规范
- C. 党领导建设的中国特色社会主义制度体系开放包容、创新发展，具有强大的生命力
- D. 党领导建设的中国特色社会主义制度体系运转高效，有利于制度优势转化为致力效能

27. 总体上看，人们在网络社交上发布的表情大致可分为三类：一是抽象化的字母或标点符号的组合，即“颜文字”；二是社交软件中的各种人脸表情；三是文字和图片相结合的图片表情。其中，图片表情常以时下流行的明星、语录、动漫、影视截图为素材，再配上简短、幽默的文字，制作成静态或动态图片，用在聊天中表达特定的情感。这类表情符号常以成对或成组的形式出现，被称作表情包。从内容看，卡通动漫、影视明星、可爱萌宠和自制表情等，都是当下表情包里的热门。

这段文字主要介绍了（ ）。

- A. 表情包消除了社交隔阂
- B. 表情包沟通生动传神
- C. 表情包花样繁多受热捧
- D. 表情包走上了产业化之路

28. 海豹身体呈流线型，四肢为鳍状，适于有用，海豹有一层厚的皮下脂肪保暖，并提供食物储备，产生浮力。身体均呈纺锤形，适于游泳。其头部近似圆形，眼大萌萌的；与海狮不同，海豹没有外耳廓，耳朵极小或退化成只剩下两个洞，游泳时可自由开闭；全身被毛；四肢均具有5趾，趾间有蹼，形成鳍状肢，具锋利爪，利于在水中游泳、掳食。海豹游泳时大多靠后脚，但后脚不能向前弯曲，故无法行走。所以在陆地上活动时，总是拖着累赘的后肢，将身体弯曲爬行，在地图上留下一行扭曲痕迹。

根据这段文字，下列说法错误的是（ ）。

- A. 海豹在皮下脂肪的功能包括保暖，提供食物储备和产生浮力
- B. 海豹没有外耳廓
- C. 海豹属于濒危动物
- D. 海豹在陆地上无法行走，只能爬行

29. 明明吃不完非要装满盘，食物只拿贵的不拿对的，一整盘未动的食物直接倒进泔水桶……这样的场景在不少自助餐厅似乎已经见怪不怪。自助餐本是按量取餐、杜绝浪费的就餐方式，却被不少消费者吃成了“浪费餐”。这很大程度上是消费者“宁可吃剩，不能吃亏”的“自助餐心态”在作祟。有些人觉得既然花了钱，就一定要吃回本，有些人甚至不顾身体健康，认为“饿得扶墙进，撑得扶墙出”才是吃自助餐的理想状态。其实，能吃不是罪，可眼馋肚饱，拿的比吃的多，剩下的比吃掉的多，这就是

对食物的犯罪了。

这段文字意在强调（ ）。

- A. 要杜绝“自助餐心态”，科学理性用餐 B. 自助餐成餐饮浪费的“重灾区”
C. 一粥一饭，来之不易 D. 勤俭节约是中华民族的传统美德

30. ①远古腕足动物化石十分丰富，在整个在在整个显生宙（5.4 亿年前~至今）都有分布，在古生态学、古地理学和生物宏演化研究中发挥着重要作用

②后者或能将腕足动物的食物转为自食

③这一成果标志着迄今化石记录中最古老的寄生关系正式被发现

④腕足动物是小型有壳的海洋动物，形似双壳类，现存约 450 种，但是化石记录显示存在逾 12000 种

⑤日前，西北大学地质学系张志飞教授带领科研团队研究发现，古代腕足动物被一种生物寄生
将以上 5 个句子重新排列，语序正确的一项是（ ）。

- A. ④①②③⑤ B. ⑤④③①② C. ④⑤②③① D. ⑤②③④①

第三部分 数量关系

在这部分试题中，每道题呈现一段表述数字关系的文字，要求你迅速、准确地计算出答案。

31. 某单位决定投资 32000 元建一长方体的仓库，高度恒定。它的后墙利用旧墙不花钱，正面用铁栅，每米造价 400 元，两侧砌墙，每米造价 450 元，顶部每平方米造价 200 元，为使仓库的总面积达到最大，正面铁栅应设计为（ ）。

- A. 10m B. 12m C. 15m D. 20m

32. 某公司仓库中原有一些产品，以后每天还不断地运送相同数量的产品进仓库，现在用载重量相同的汽车将仓库中的产品运输到码头，如果每天用 4 辆汽车，9 天恰好运完；如果每天用 5 辆汽车，则 6 天恰好运完。如果每天用 1 辆汽车运输仓库里原有的产品，则需要（ ）天运完。

- A. 12 B. 15 C. 16 D. 18

33. 二元一次方程 $3x+5y=58$ 的非负整数解共有（ ）对。

- A. 3 B. 4 C. 5 D. 6

34. 现有 3 个蓝色小球，2 个黑色小球，1 个橙色小球，这 6 个小球除颜色外其余皆相同，将这 6 个小球排成一排，要求相同颜色的小球不能相邻，则不同的排法共有（ ）种。

- A. 10 B. 12 C. 14 D. 24

35. 从正方体 8 个顶点中随机选取 3 个顶点，所连成的三角形为等边三角形的概率为（ ）。

- A. $\frac{3}{28}$ B. $\frac{9}{56}$ C. $\frac{1}{8}$ D. $\frac{1}{7}$

36. 某俱乐部小组中有 6 个人喜欢射箭，15 个人喜欢攀岩，9 个人喜欢玩滑板，则喜欢其中两个项目的人数最多为（ ）个人。

- A. 9 B. 12 C. 15 D. 18

37. 小东从图书馆借了一本《基督山伯爵》，计划每天看 105 页，15 天看完，小东看了 5 天后，由于某些原因，需要在 7 天内将剩下的看完，则小东之后平均每天至少要看（ ）页。

- A. 175 B. 150 C. 135 D. 120

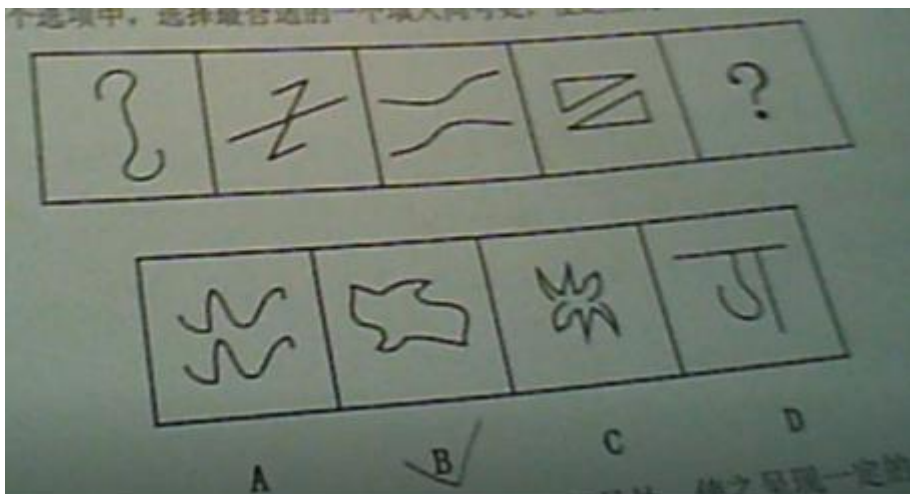
38. 小李和小刘进行骑行比赛，两人上午 9 点同时从 A 地出发去 B 地，小李每小时比小刘多骑 2 千米，中午 12 点小李到达 B 地之后立刻返回 A 地，在距 B 地 4 千米处遇到小刘。那么 A、B 两地相距（ ）千米。

- A. 8 B. 9 C. 10 D. 12

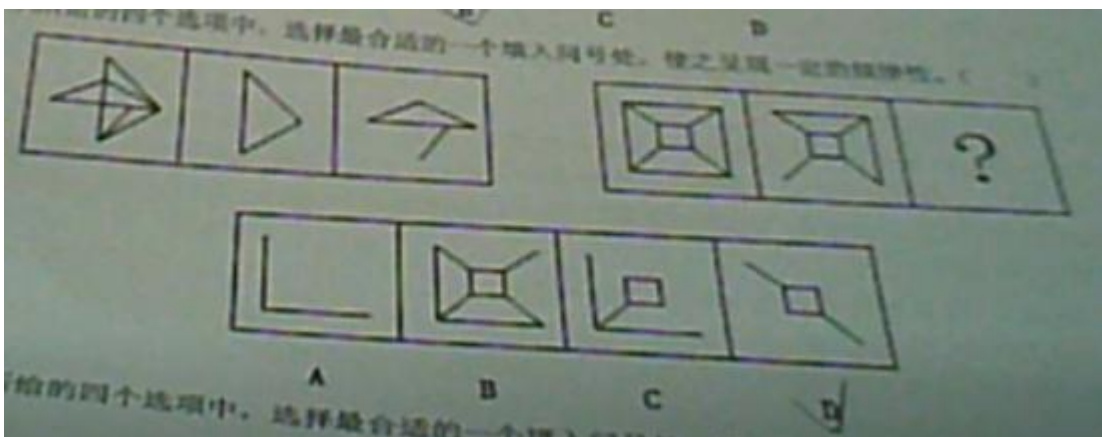
第四部分 判断推理

一、图形推理。本类题共 4 小题，每小题 0.95 分，共 3.8 分。请按每道题的答题要求作答。


39. 从所给的四个选项中，选择最合适的一个填入问号处，使之呈现一定的规律性。



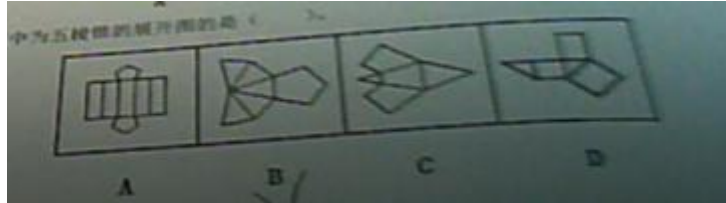
40. 从所给的四个选项中，选择最合适的一个填入问号处，使之呈现一定的规律性。



41. 从所给的四个选项中，选择最合适的一个填入问号处，使之呈现一定的规律性。



42. 以下选项中为五棱锥的展开图的是（ ）。



二、定义判断。每道题先给出定义，然后列出四种情况，要求你严格依据定义，从中选出一个最符合或最不符合该定义的答案。注意：假设这个定义是正确的，不容置疑的。

43. 司法文件是指侦查、检查、审判、公正等司法机关在处理各类案件的各个环节、步骤上形成与使用的专用文书。

根据以上定义，下列属于司法文书的是（ ）。

- A. 审判机关关于国庆节放假的通知
- B. 某企业的年终总结
- C. 侦查机关关于某案件的立案报告
- D. 军队内部关于组织训练的文书

44. 社会人假设认为在社会上活动的员工不是各自孤立存在的，而是作为某一个群体的一员有所归属的“社会人”，是社会存在。人具有社会性的需求，人与人之间的关系和组织的归属感比经济报酬更能激励人的行为。“社会人”不仅有追求收入的动机和需求，他在生活工作中还需要得到友谊、安全、尊重和归属等。

根据上述定义，下列说法符合社会人假设的是（ ）。

- A. 小王最近为了修改项目方案天天加班，但是他也获得了相应的加班报酬
- B. 小李每天除了完成相应的工作之外，还会在和同事的社交上花费时间
- C. 小赵的上司告诉他如果这次的订单能顺利签下，小赵将获得升职机会，为此小赵更加卖力地游说客户
- D. 某团队的负责人对团队成员说：“项目完成后整个团队将进行海南三日游”

45. 预防成本是指有关企业预防不良产品或服务发生的成本，包括计划与管理系统、人员训练、品质管制过程，以及对设计和生产两阶段的注意以减少不良品发生的机率所产生的种种成本。这类成本一般都发生在生产之前，而且这一类成本若发生，往往使故障成本下降。

根据上述定义，下列不属于预防成本的是（ ）。

- A. 甲公司为使工序达到质量要求，预防不合格品招标所产生的控制费用
- B. 乙公司为树立产品良好的品质形象聘请明星代言的费用

- C.丙公司制定和实施质量改进计划、采取预防或改进措施所产生的各项活动费用
- D.丁公司索取某产品的质量情况、情报等资料的费用

46.定义:

①脱水: 人体由于病变, 消耗大量水分, 而不能即时补充, 造成新陈代谢障碍的一种症状, 严重时会造成虚脱, 甚至有生命危险, 需要依靠输液补充体液。

②低渗性脱水: 细胞外液减少合并低血钠。

③高渗性脱水: 细胞外液减少合并高血钠。

④等渗性脱水: 细胞外液减少而血钠正常。

典型例证:

- (1) 小竹在沙漠中迷路水源断绝。
- (2) 小吉下丘脑病变损害口渴中枢, 造成渴感障碍。
- (3) 小秋大面积烧伤, 大量体液丢失而只补充了水。

对上述典型例证与定义的关系判断正确的是 ()。

- A. 例证 (1) (2) (3) 分别与定义①②③相符
- B. 例证 (1) (2) 分别与定义①③相符
- C. 例证 (1) (3) 分别与定义①②相符
- D. 例证 (2) (3) 分别与定义③②相符

三、类比推理。每道题先给出一组相关的词, 要求你在备选答案中找出一组与之在逻辑关系上最为贴近、相似或匹配的词。

47. 蜥蜴: 爬行动物

- A. 氧化物: 酸
- B. 重力: 支持力
- C. 公因数: 倍数
- D. 钛: 金属

48. 日本: 绿雉

- A. 美国: 白头鹰
- B. 南非: 企鹅
- C. 澳大利亚: 考拉
- D. 英国: 麋鹿

49. 田野: 水稻: 稻谷

- A. 水池: 锦鲤: 金鱼
- B. 果园: 桃树: 桃子
- C. 牧场: 草地: 牛群
- D. 海洋: 磷虾: 鲸鱼

50. 崎岖 对于 () 相当于 () 对于 悲痛

- A. 陡峭 愉悦
- B. 平坦 沉痛
- C. 坦途 心酸
- D. 险峻 悲哀

51. 深入: 浅出

- A. 颠倒: 是非
- B. 凶多: 吉少
- C. 冷嘲: 热讽
- D. 欢天: 喜地

四、逻辑判断。每道题给出一段陈述，这段陈述被假设是正确的，不容置疑的。要求你根据这段陈述，选择一个答案。注意：正确的答案应与所给的陈述相符合，不需要任何附加说明即可以从陈述中直接推出。

52. 最近，位于 F 市的植物保护协会发现某种树木的数量在上世纪 90 年代骤减，到 21 世纪初，已经濒临灭亡，因此该植物保护协会的专家认为，造成该现象产生的原因是人类过度的砍伐。

以下哪项如果为真，最能支持上述植物保护协会的专家的主张？（ ）

- A. 在 21 世纪初，国家实行保护制度后，砍伐变少，该树木的数量也稳定增加
- B. 该树木的生存环境要求比较苛刻
- C. 上世纪 90 年代初，F 市发生了一起较为严重的泥石流事故，这起事故中，该树木的数量受到了影响
- D. 与该树木属同一科的树木也被大量砍伐过，但这种树木的数量并没有减少

53. 某单位即将举行职工运动会，他们在办公室里讨论小王要参加什么项目。小刘说：“不是铅球，不是羽毛球”，小赵说：“不是铅球，是排球”，小李说：“不是排球，是铅球”。最后，经小王确认，三人中有一人的判断完全正确，一个人只说对了一半，另外一个人则完全说错。

据此，可以推出（ ）。

- A. 小刘的判断完全正确，小王参加的是排球
- B. 小赵的判断完全正确，小王参加的不是铅球
- C. 小李的判断完全正确，小王参加的是铅球
- D. 小李只说对了一半，小王参加的是羽毛球

54. 已知如果小王喜欢篮球，则他会喜欢足球，如果他不喜欢篮球，则他会喜欢乒乓球。但是，如果小王不喜欢足球，则他对乒乓球也就不感兴趣了。

据此，可以推出小王（ ）。

- A. 喜欢足球
- B. 喜欢乒乓球
- C. 不喜欢乒乓球
- D. 喜欢篮球

55. 作为一名经验丰富的劳工组织者和乙国最有权势的工会的副主席，小卫是领导新的劳资关系委员会的最佳人选。

下列哪一项如果为真，最能加强上述结论？（ ）

- A. 新的劳资关系委员会要想成功，就必须得到国家劳工领袖的支持
- B. 新的劳资关系委员会主席必须是能与全国最大的工会领导人直接联系的人
- C. 新的劳资关系委员会的大多数其他成员将是工商管理利益的代表
- D. 了解劳工的需要和问题是担任新的劳资关系委员会主席的唯一必要资格

第五部分 资料分析

所给出的图、表、文字或综合性资料均有若干个问题要你问答。你应根据资料提供的信息进行分析、比较、计算和判断处理。

根据以下资料，回答 56~60 题。

2019 年全年某市完成全部工业增加值 420.5 亿元，下降 4.1%，工业增加值占 GDP 的比重（工业化率）约 39%，使全市 GDP 相比去年减少了 1.9 个百分点。全年“四基一高”产业助推经济转型升级。年末全市规模以上工业企业达到 738 家，规模以上工业增加值下降 4.3%；全市 36 个工业行业中有 13 个行业增加值实现增长。非煤工业占全市工业增加值比重为 50.7%，与上年持平。全年战略性新兴产业产值同比增长 22.6%，占规模以上工业比重达到 18%，比上年提高 2.3 个百分点；高新技术产业增加值下降 4.8%，占规模以上工业比重达到 23.2%，比上年下降 1.6 个百分点。

2019 年在重点统计的 11 种工业产品中，产品产量“4 升 7 降”。2019 年全年规模以上工业企业实现营业收入 1349.2 亿元，比上年下降 8.9%；实现利润总额 119.7 亿元，增长 11.8%。工业经济效益综合指数 298.9%，比上年提高 43.3 个百分点；产品产销率 95.5%，比上年下降 2.6 个百分点。

2019 年年末全市资质内总承包和专业承包建筑业企业 50 家；全年完成建筑业总产值 65.8 亿元，增长 19.9%；竣工产值 17.2 亿元，下降 3.9%。全年房屋建筑施工面积 293.2 万平方米，增长 12.3%。

2019 年全市规模以上工业增加值增长速度

指 标	比上年增长 (%)
工业增加值	-4.3
其中：煤炭行业	-2.7
电力行业	6.1
煤化工工业	-0.8
机械制造	-10.3
食品工业	-7.3
其中：农副食品加	-2.4
工	
食品制造	-39.2
饮料制造业	-3.2
纺织服装	-22.7
建材行业	6.9

2019 年工业主要产品产量及增长速度

产品名称	计量单位	完成数	比上年增长 (%)
原煤	万吨	3804.6	-3.9
洗精煤	万吨	1292.7	-4.6
发电量	亿千瓦时	213.4	-2.5
小麦粉	万吨	1162187	2.7
饲料	万吨	763023	-9.5
饮料酒	千升	35389	-20.0
白酒 (折65度商品量)	千升	34712	-18.5
纱	吨	54716	-13.6
服装	万件	5877.5	2.4
焦炭	万吨	410.9	-3.3
水泥	万吨	664.1	6.3
日用玻璃制品	吨	50634	27.6

56. 2018 年全年该市工业化率约为 ()。
- A. 40% B. 38% C. 35% D. 42%
57. 2018 年全年非煤工业增加值约为 () 亿元。
- A. 241.1 B. 225.4 C. 222.3 D. 213.1
58. 2019 年全年工业主要产品产量中增长量最大的是 ()。
- A. 小麦粉 B. 服装 C. 水泥 D. 日用玻璃制品
59. 2019 年全年规模以上工业企业平均实现利润 () 万元。
- A. 1736.44 B. 1621.95 C. 1928.23 D. 1924.72
60. 根据以上资料, 下列说法正确的是 ()。
- A. 2018 年全年战略性新兴产业产值占规模以上工业比重高于高新技术产业
- B. 2019 年全年规模以上工业增加值下降速度最快的是机械制造
- C. 2018 年全年发电量约为 218.8 千瓦时
- D. 2018 年全年完成建筑业总产值约为 54.879 亿元

第六部分 申论

阅读下列材料, 完成问题。

背景材料

【材料 1】

李克强总理曾强调指出: “就业是 14 亿多人口大国最大的民生。”我国是一个农业大国, 国家重视三农问题。农村籍大学生毕业后如果难以顺利就业, 不仅可能使个人及家庭经济压力增大, 还可能拖慢农村地区和国家教育事业的发展, 甚至造成更严重的社会问题。而解决农村大学生的就业问题, 就是

解决农村籍家庭最大的民生，助力社会的和谐稳定。

从2000年开始，高校每年毕业生人数都逐年增加，2017年和2018年分别达到795万，820万人，累计未就业毕业生人数还将远超当年的毕业生人数。而随着高等教育的普及，越来越多的农村籍学生有了上大学，接受高等教育的机会。但农村大学生作为高校毕业生中的庞大群体，面对毕业生总量大、劳动力竞争激烈、人力资本、社会资本等多种严峻的就业现状，他们在就业中面对的实际困境重重。

乡村振兴战略背景下，大学生农村就业不仅为乡村振兴战略实施提供了人才支撑，而且有利于促进农业现代化发展、增强农村美、实现农民富。有利于缓解大学生就业压力，实现人生价值。

乡村振兴战略是党的十九大作出的重大战略决策部署，是新时代农业、农村、农民“三农”工作的总纲领和重要抓手，为新时代解决“三农”问题提供了战略性的指导意见和基本遵循。实施乡村振兴战略，人才支撑是重要基石。2018年中央一号文件《中共中央国务院关于实施乡村振兴战略的意见》明确强调：“实施乡村振兴战略，必须破解人才瓶颈制约。要把人力资本开发放在首要位置……聚天下人才而用之。”

这充分说明了人才资源在乡村振兴发展战略中的重要地位。当代大学生是担当民族大任的时代新人，是推动经济社会发展的重要人才资源，更是推动乡村振兴战略落地、落实的重要潜在力量。

【材料2】

党的十八大以来，我国的扶贫工作受到党和国家高层的普遍重视。2013年至今，精准扶贫一词就被党和国家领导人和教育部门领导广泛提及。扶贫不能局限于表面功夫，通过职业教育就可以很好的解决这一点。从上世纪的90年代末开始，就关于职业教育可以减轻消除贫困的研究，综合近年来的职业教育消除贫困的理论，不难发现，职业教育通过对贫困群体的组织和教育，有针对性的提高了贫困群众的知识技能水平，从而更好的帮助他们就业，真正融入到社会中，让他们脱离贫困。目前我们所处的后疫情时代，在经济上，国家经济已经逐渐恢复，企业对就业的需求正在缓缓回升，但仍有大批疫情期间失业的群众，或是因为疫情无法外出求职的应届大学生，可以说就业的压力仍然很大，在这种情况下拥有自己的一技之长，在社会上有自己独到的用处，就更能为企业青睐，拿到自己的工作岗位。而想要增加这样的机会，职业教育的加强也是很有必要的。当前大学生的数量激增，质量却良莠不齐，相比之下受到职业教育的人在某种程度下往往更具竞争力。尽管我国作为一个人民当家作主的国家，建国以来和改革开放至今一直在努力提升人民群众的生活水平，不断持续改革，不断推进脱贫攻坚的工作，国家也对此付出了很大的努力，然而不可否认的是疫情减慢了国家实现全面小康和全面脱贫的速度，所以在当前对职业教育的改革就拥有了其时代意义。

【材料3】

党的十九大报告提出实施乡村振兴战略，并指出：“农业农村农民问题是关系国计民生的根本性问题，必须始终把解决好“三农”问题作为全党工作重中之重。”乡村振兴战略是新时代我国解决“三农”问题的总抓手，决定着全面建成小康社会的成效和社会主义现代化的质量。我们要深刻认识到实施乡村振兴发展战略的重要性和必要性。在乡村振兴战略的实践中，人才资源的职称是关键。而大学生是实施乡村振兴战略的重要人才资源，引导大学生农村就业是一项推动乡村振兴、促进农业现代化和解决大学生就业难的重要举措，具有强烈的现实意义。

乡村振兴归根到底要靠人才来支撑，要解决人才问题除了培养大量的新型职业农民，引导大学生农村就业是在重要的举措。目前弄农村人口的基数虽然大，但农村人才的大量流失、人口老龄化、人口结构不合理、文化素质普遍偏低等问题使得农村的人才储备和人才素质远远不能满足乡村振兴的需要。广大农村呈现出乡村振兴主体缺位、内在动力不足等制约瓶颈。因此，大学生农村就业通过农业技术开发、现代农业生产经营、农村基层治理、乡村文化建设等途径不仅为农村经济发展注入新的活力，而且青年大学生凭借年轻的体魄、丰富的学识、开阔的视野以及新的管理理念、经营方式和技术素质等提升了农村的人力资本，为破解农村人才需求的困境提供了现实的保障。

农村就业的大学生作为助力乡村振兴战略实施的新兴力量，拥有现代化的知识结构、科技能力、市场理念和技能优势，再加上互联网等现代技术以及现代化的管理手段和市场化的运作模式的推广和应用，进一步拓宽了农村经济的发展空间，改变了农村经济的发展模式。这都是农业现代化发展的基础，也是实现农民富裕的重要途径。“农业现代化迫切需要大学生的支持，人才不足始终是制约农业现代化建设的主要因素。”尤其是借助于互联网信息技术的应用，大学生农村就业能够将农产品与网络销售相结合、将农产品与超商销售相结合以及将农产品与特色旅游相结合。根据市场需求来优化农村产业结构，不仅拓宽了农产品的销售市场，而且以市场为导向的生产推进了农业供给侧结构改革，推进了体力型农业向智力型农业的转变，带来了更多的收益，增加了农民收入，有利于农民致富。在这一过程中农民的科技素质也得到了提高，发挥现代媒体的意识和能力不断增强，绿色种植、绿色发展的理念也会使广大农民群众的生态文明意识和能力随之提高。这一过程既是农业产业化过程，也是农业现代化的过程，更是农业产业强、农民富和农村美的实现过程。

近年来，高校大学生的就业形势比较严峻，尤其是区域就业扎堆现象非常严重，导致大城市就业压力大，人才竞争激烈，就业市场供过于求。而乡村振兴战略中人才储备严重不足，对人才资源求贤若渴。在这种严峻现实下，大学生农村就业不仅能够有效解决大城市“人才过剩”就业难的问题，而且有利于解决乡村振兴对高素质人才的需求，同时还为大学生实现人生价值提供了更大的舞台和发展空间。乡村振兴战略背景下，农村经济和产业的发展可以为大学生农村就业提供更多的机遇，大学生农村就业也会促进乡村经济和产业的进一步升级和发展，带动更多的人群更好地就业，促进农村和农业更好的发展。大学生农村就业，“一方面，为农村发展注入活力，促进基层治理与建设；另一方面，为自身发展、施展才华寻到一片更广阔的天地，使得自己在服务家乡发展、承担大国责任的过程中，也获得了自我职业生涯的提升与发展”。因此，大学生农村就业，在奉献社会实现社会价值的同时，也更好地实现了自我的人生价值。

【材料4】

乡村振兴战略的事实，为新时代乡村的发展提供了难得的机遇。也使得广大乡村成了一片大有可为的热土，为青年大学生农村就业带来了新的机遇。乡村振兴战略背景下大学生农村就业，一方面拓宽了大学生的就业渠道，开辟了大学生就业的新途径，为大学生施展才华提供了新的天地，为大学生实现人生价值观提供了新方向；另一方面也解决了乡村振兴战略所需要的人才问题，为新时代“三农问题”的解决提供人才支撑和智力保障。此外，还缓解了大学生的就业压力，优化了城乡人力资源结构，有助于大学生就业的多元化，进一步解决了当前大学生就业难的问题。

在全面深化改革的新阶段，我国“三农”工作稳步推进，各项政策也正逐渐完善，支农、惠农、便农、强农的大趋势不会改变，但目前大学生农村就业的渠道仍然以“大学生村官”“三支一扶”“西部计划”“特岗教师”等政府主导项目为主，市场化的岗位（如到农村组织或农业企业中就业）数量较少，形式也比较单一。较窄的农村就业渠道和单一的就业形势不能充分发挥大学生的专业优势和聪明才智，因而不能吸引更多大学毕业生到农村就业。此外，地市政府吸纳大学生农村就业的保障政策不完善、社会保障体系不健全、政策待遇落实不到位等让大学生在农村就业问题上顾虑重重。如一些基层用人单位在大学生农村就业中的落户、建档、档案托管、“五险一金”等配套服务跟不上，基本的社会保障得不到落实，再加上城乡之间收入的差距，上升通道不畅通，“下去容易，上来难”等都成为影响大学生农村就业的“拦路虎”。

改革开放的十多年来，我国农业、农村的发展取得了历史性成就。广大农村面貌发生了翻天覆地的变化。正如 2018 年中央一号文件所讲：“5 年来，粮食生产能力能跨上新台阶。农业供给侧结构性改革迈出新步伐，农民收入持续增长，乡村民生全面改善，脱贫攻坚取得决定性进展。农村生态文明建设显著加强。农民获得感显著提升，农村社会稳定和谐。”但人们对农村固有的观念就是“自给自足”“面朝黄土背朝天”，条件艰苦，缺乏生气和活力。年复一年日复一日辛苦地劳作。跟城市相比，农村属于落后地区，既没有高收入也没有好声望，回农村就业不是体面的工作，而是没有能力的表现。父母和亲朋好友也会觉得没有面子，甚至觉得大学等于白读了。这些歧视性的偏见导致大学生农村就业的氛围不浓厚。

长期以来，我国高校在市场就业的影响下，专业设置和人才培养模式的市场导向越来越明显，大部分高校都积极引导大学生在城市优越的岗位上就业。在考虑为农村发展培养人才方面重视力度不够。在大学生就业指导课程中，缺乏专门的农村就业知识教育和农村就业政策宣传。对大学生农村就业的引导力度不够，导致大学生农村就业的积极性不高。在教学上，大学生所学知识与农村基层的需要不匹配以及当前教学中重理论轻实践、重科研轻技能的倾向，导致大学生动手能力和社会实践能力不强，缺乏农村基层就业的技术能力。部分高校教师自身的就业观念存在偏颇。对大学生农村就业的现实意义和价值认识不够。因此，课堂教学中对大学生农村就业的引导作用没有得到充分发挥，此外，高校在机构设置上，缺乏相关的管理机构力引导师生关注乡村发展，激励教师开展相关研究，深化大学生对“三农”问题的认知，积极引导大学生到农村就业，甚至对于政府主导的大学生农村就业项目的宣传力度也远远不够。

青年大学生由于长期生活在学校这个小社会中，对农村的发展状况和农村就业的基本情况都缺乏正确的认知。很多大学生对农村的认知只是来自学校教育、电视、网络媒体等渠道的被动认知，而很少深入实地去了解当下真实的农村，因此认知带有较大的片面性和局限性。据调查，约 87% 的被调查者对农村的就业政策不太了解；89% 的被调查者都渴望在城市找到一份满意的工作；城市出生的大学生被调查者中 91% 对当代农村的认知程度相当低；85% 的城市出生大学生和 73% 的农村出身大学生更愿意条件比较好的城市就业。由此可见，在城市就业是大学生就业的首选。城市大学生由于从小在城市生长，缺乏对农业、农村、农民的认知和了解，不愿意在农村就业；农村大学生由于长期在校学习，逐渐疏离农村，对农村的实际情况越来越生疏。再加上受社会观念的影响，农村大学生考入大学的其中之一就是跃出“农

门”，脱离农村在城市找到一份收入稳定、体面的工作，融入城市生活。青年大学生既没有看到乡村振兴战略下，农村面貌发生的深刻变化和提供的就业机会，也没意识到当前严峻的就业形势下，农村资源丰富，生活压力相对较小以及农业现代化需求下的就业优势，因此，大学生普遍缺乏对农村就业的正确认知，也没有足够的意愿到农村就业。

【问题】

61. 请结合材料 3 的内容，概括乡村振兴战略背景下大学生农村就业的现实意义。（10 分）

要求：概括全面，语言简洁，条理清晰，字数在 200 字以内。

62. 请结合材料四的内容，分析当前大学生农村就业的现实困境及制约因素。（10 分）

要求：分析全面，语言流畅，条理清晰。字数在 200 字以内。

63. 请结合给定资料，针对“如何纾解大学生农村就业障碍”写一篇作文。（30 分）

要求：对策合理，针对性强，切实可行，条理清晰，语言流畅。字数不少于 1000 字。