

展鸿 2021 年浙江省事业单位统考笔试试卷

《职业能力倾向测验》模拟卷（二）

第一部分 言语理解与表达

（共 15 题）

本部分主要考查考生对语言文字的理解和驾驭能力。这种能力包括：对词、句子、短文一般意思和特定意义的理解；对比较复杂的概念和观点的准确理解；根据上下文，合理推断句子隐含的内容，准确地辨明句义，筛选信息等等。

请开始答题：

1. 改革开放以来，随着社会的巨变，各种各样的思潮也_____。这些社会思潮与社会的变迁有怎样的_____，其间是否有脉络可寻，各种思潮是否有共识可以分享？

依次填入划横线部分最恰当的一项是（ ）。

- A. 各有所长 关联 B. 此消彼长 纠结
C. 来势汹汹 联系 D. 层出不穷 来源

2. 这次国际金融危机_____了中国特色发展模式的优越性。中国积极应对国际金融危机，并以本国经济增长为相关国家和经济体摆脱困境提供市场和资金支持，进而在国际危机治理和国际机构改革过程中发挥了_____作用，改善了国际形象，提升了道义感召力，国际社会开始重新_____中国发展模式。

依次填入划横线部分最恰当的一项是（ ）。

- A. 表明 重要性 注意 B. 显现 关键性 注视
C. 凸显 建设性 审视 D. 突显 重大性 思考

3. 20 世纪 60 年代，赞助商的美元滚滚而来，赛车水平和速度_____般地飞跃，同时飞跃的还有车手的_____性。从此，规则制定者的头号任务就是让赛车慢下来。

依次填入划横线部分最恰当的一项是（ ）。

- A. 魔术 冒险 B. 奇迹 技术 C. 闪电 危险 D. 戏剧 重要

4. 辍学打工虽然可以赚到第一桶金，但缺少了读书求学的_____和校园生活的_____，你的青春风景会大打折扣，人生又会回到老路。

依次填入划横线部分最恰当的一项是（ ）。

- A. 历练 熏陶 B. 锻炼 培养 C. 经历 陶冶 D. 经验 回忆

5. 那是一个大师辈起的年代，是一个充满_____的年代，也是一个尊重知识、_____“异端”、追求平等的年代。

这样流速带来的大量泥沙就淤积在河口段，海洋动力的侵蚀速率小于淤积的速率，这样在河流入海处长年累月就形成扇面状的堆积体。另一个造成泥沙大量沉积的原因，是河流中有大量以胶体状态存在的细黏土，这些细黏土遇到海水时，由于盐的作用逐渐形成凝絮沉淀下来，并随着堆积的越来越高而逐渐露出水面，形成三角洲平原。

这段话主要来介绍的是（ ）。

- A. 三角洲平原的特点
- B. 三角洲平原形成的原因
- C. 三角洲平原的分布特点
- D. 三角洲平原对人类生活的意义

11. 人生所有的问题，都是关系的问题。在所有的关系之中，你和你自己的关系最为重要，它是关系的总脐带。如果你处理不好和自我的关系，你的一生就不得安宁和幸福。你可以成功，但没有快乐。你可以有家庭，但缺乏温暖。你可以有孩子，但他难以交流。你可以姹紫嫣红宾朋满座，但却不曾有高山流水患难之交。

这段文字告诉我们人生处理好你和你自己的关系的目的是为了（ ）。

- A. 获得事业的成功
- B. 组建自己的家庭
- C. 找到很多的朋友
- D. 寻求一生的安宁和幸福

12. 在以往的新闻报道里，我们看到过这样的事件：为了减轻负担，肇事司机倒车把撞倒的人碾死；为了报复，把硫酸泼到无辜的少女脸上；为了获取口供，对嫌疑人严刑拷打；为了完成任务，不惜对群众动武动粗等等。人道氛围的贫弱，人道意识的淡薄，人道声音的细小，使得一些暴力的、野蛮的、冷酷的、不计后果的意识毒害人们的心灵。

根据上述文字，作者最想表达的是（ ）。

- A. 我们的新闻媒体其实不该只把焦点放在一些负面事件之上
- B. 越来越多的人受到一些负面事件的影响，丧失了内心的人道
- C. 社会上出现的一些恶性事件，往往与缺少人道主义意识有关
- D. 如何唤起人们心底的良知，新闻媒体有不可推卸的社会责任

13. 所谓自己不知道的欲念，不但有病的人如此，就是常人也会如此。比如有人说他自己的欲念是 A，他的行为是要达到 A，但从别人看来，他的行为却是趋向 B 的，而 B 又是禽兽或野蛮人所常常趋向的一种目的，为文明人所不屑道的。他虽有这种行为，但他决不肯自己承认，在旁人看去，他的行为确是趋向这个目的的。

这段文字直接支持了这样一种观点，即（ ）。

- A. 多数人并不知道自己的欲念
- B. 很多人都有错误的欲念
- C. 有人会因为欲念而做错事
- D. 有一些人的欲念和行为是不统一的

14. 有一个太太多年来总是嘲笑对面太太懒惰：“那个女人的衣服，永远洗不干净，看，她晾在阳台上的衣服，总是有斑点，我真无法想象，她怎么会洗衣服都洗成那个样子……”直到有一天，有个朋友到她家，才发现不是对面的太太衣服洗不干净。细心的朋友拿了一块抹布，把她窗上的灰渍抹掉，说：“看，这不就干净了吗？”原来，是自家的窗玻璃脏了。

以下最适合作为上述文段标题的是（ ）。

- A. 多从自身找原因
- B. 不要嘲笑别人
- C. 擦亮自己的窗户
- D. 换位思考

15. 演讲者在演讲时应当注意自己的语言，不要受流行歌曲、广告及影视节目中港台腔的影响，要多用短句，少用长句，宁可用浅显明白的语言，也不故弄玄虚，故作高深，说些转弯抹角的别扭话。

这段话的主要意思是（ ）。

- A. 演讲时不要受流行歌曲的影响使用港台腔
- B. 演讲时要多用短句，少用长句
- C. 演讲时要用浅显明白的语言
- D. 在演讲时要尽量使用规范的语言

※※※ 第一部分结束，请继续做第二部分！ ※※※

第二部分 数量关系

(共 15 题)

本部分包括两种类型的试题：

一、数字推理：

1. 给你一个数列，但其中缺少一项，要求你仔细观察数列的排列规律，然后从四个选项中选出你认为最合理的一项来填补空缺项。

请开始答题：

16. $1, \frac{1}{2}, \frac{2}{3}, \frac{3}{4}, ()$

- A. 2
- B. 1
- C. $\frac{5}{2}$
- D. $\frac{6}{7}$

17. 186, 114, 150, 132, 141, ()

- A. 123
- B. 132
- C. 136.5
- D. 143

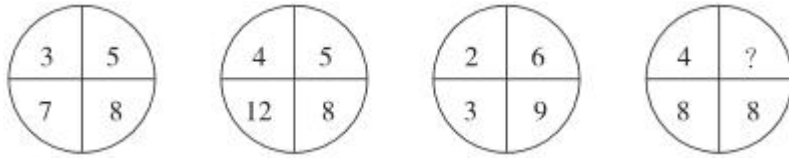
18. -23, 73, 49, 55, ()

- A. 54
- B. 53.5
- C. 53
- D. 52.5

2. 每题图形中的数字都包含一定的规律，请你总结前三个图形中数字的规律，从四个选项中选出你认为问号应该代表的数字。

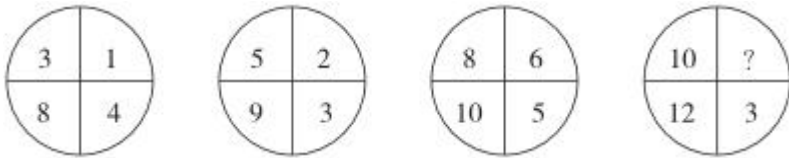
请开始答题：

19.



- A. 2 B. 3 C. 4 D. 5

20.



- A. 10 B. 8 C. 6 D. 4

二、数学运算：每道试题呈现一道算术式，或表述数字关系的一段文字，要求你迅速、准确地计算或论证出答案。

请开始答题：

21. 甲、乙两列火车通过一条长 500 米的隧道。甲火车通过时，从车头进入隧道到车头开出需要 10 秒；乙火车通过时，从车头进入隧道到车尾开出需要 16 秒。已知甲火车的速度是乙火车的 $\frac{5}{4}$ 倍，则乙火车的长度为多少米？（ ）

- A. 110 B. 120 C. 130 D. 140

22. 现在姐姐年龄是弟弟年龄差的 3 倍，5 年后，弟弟年龄是姐弟年龄差的 3 倍。则弟弟现在的年龄是（ ）。

- A. 10 岁 B. 15 岁 C. 18 岁 D. 20 岁

23. 有八位成年男子，其中任意四个人的平均体重都不小于 55 千克，那么其中体重小于 55 千克的男子，最多有（ ）人。

- A. 1 B. 2 C. 3 D. 4

24. 某部门为考查员工的基础业务水平，组织了一次基础业务考试，规定员工成绩若低于第一名成绩的 88%，则绩效相应减分。此次考试共 7 名员工参加，平均成绩为 82 分（成绩都为整数），每人成绩各不相同且构成等差数列，结果只有 1 名员工因此绩效减分。问第 1 名的成绩是多少分？（ ）

- A. 88 B. 89 C. 90 D. 91

25. 平安夜李老师准备采购一些苹果送给班里同学，已知当天苹果 6 元/个，且买 30 个送 2 个，班里同学每人 1 个，最后李老师共花费 336 元。问班里共有多少名同学？（ ）

- A. 33 B. 48 C. 53 D. 58

26. 某科室有 6 名男医生、5 名女医生，现需要从中选出 2 名男医生、1 名女医生组成一个医疗小组，则不同的选法共有（ ）。

- A. 60 种 B. 70 种 C. 75 种 D. 150 种

27. 海面上有 A、B 两艘船，A 船以 20km/h 的速度向正东行驶，B 船以 30km/h 的速度向正北行驶。某一

时刻B船在A船正东方向且两船正中间有一灯塔，两小时后，B船在灯塔北偏东 45° 的方向，则此时A、B两船相距（ ）。

- A. 40km B. 60km C. 80km D. 100km

28. 甲、乙、丙、丁四人按要求组装一批零部件，甲、乙两人合作9天可组装完毕，甲、丙两人合作8天就可组装完毕，乙、丁两人合作同样8天即可完毕，则丙、丁合作可以比甲、乙合作提前几天完成组装任务？（ ）

- A. 1.6天 B. 1.8天 C. 2.0天 D. 2.2天

29. 甲、乙两烧杯内有相同质量的盐溶液，它们的浓度之比是4:3，现将乙烧杯中溶液倒出一半，然后将甲烧杯中溶液的一半倒入乙烧杯，再往甲烧杯内加水至原来质量。此时甲、乙烧杯中溶液的浓度比变为多少？（ ）

- A. 3:7 B. 4:7 C. 1:2 D. 3:5

30. 小木有一盏创意灯，可以呈现白、红、黄、绿、蓝、紫六种颜色，每拍一次变换一种颜色，即熄灭状态下拍一次为白色，再拍一次为红色，以此类推，拍到第六次时为紫色，随后再拍灯熄灭，需再拍一次灯亮且为白色。某次灯原本为熄灭状态，小木拍完后发现灯为蓝色，则小木可能共拍了多少次？（ ）

- A. 37 B. 38 C. 39 D. 40

※※※ 第二部分结束，请继续做第三部分！ ※※※

第三部分 判断推理

(共10题)

本部分包括三种类型的试题：

一、类比推理：先给出一对相关的词，要求你在备选答案中找出一对与之在逻辑关系上最贴近或相近的词。

请开始答题：

31. 口蜜腹剑：笑里藏刀

- A. 处心积虑：无所用心 B. 历历在目：记忆犹新
C. 不求甚解：循序渐进 D. 浮光掠影：烟消云散

32. 光纤：传输：高速

- A. 瓷器：观赏：易碎 B. 园丁：栽培：辛勤
C. 煤炭：供热：低效 D. 风力：发电：清洁

33. 元旦 对于 () 相当于 () 对于 谷物

- A. 新年 养生
 - B. 春节 丰收
 - C. 红包 坚果
 - D. 节日 小麦
34. 威尼斯商人：莎士比亚
- A. 儒林外史：吴敬梓
 - B. 长生殿：孔尚任
 - C. 桃花扇：王实甫
 - D. 后汉书：司马迁

二、逻辑判断：每题给出一段陈述，这段陈述被假设是正确的，不容置疑的。要求你根据这段陈述，选择一个答案。注意，正确的答案应与所给的陈述相符合，不需要任何附加说明即可以从陈述中直接推出。

请开始答题：

35. 近年来，以轻型/超轻型无人机、动力伞等为代表的低空、小型飞行器（下称“低慢小”）越来越多。为解决“低慢小”飞行器的隐患问题，某科研团队开发了一款“低空卫士”高科技系统。该系统通过发射激光烧蚀“低慢小”的表面材料、功能部件，以破坏其动力学特性、能源系统、飞行控制系统等，使目标失去飞行能力，因此，能够有效打击“低慢小”，保障低空安保。

以下哪项如果为真，不能支持上述结论？（ ）

- A. 当激光辐照加热和复合材料自身燃烧释热共同作用时，会引起“低慢小”飞翼或机体材料较大面积烧蚀、炭化，致使其结构材料强度下降
- B. “低空卫士”系统的低空有效护卫面积为 12 平方公里，部署后能在 5 秒内精准拦截多种航空器
- C. 使用以导弹和高炮相结合的现代防空手段处置“低慢小”效率不高，还有可能对地面和人群造成附带损伤
- D. “低空卫士”配套的雷达系统克服了传统雷达体积大、转动慢、灵敏度有限，且无法在高层建筑上布设等不足

36. 大李认识张先生的朋友小王，而小王又认识大李的朋友林女士。凡认识小王的都具有公共管理专业硕士学位，凡认识林女士的都是江苏人。

根据上述信息，可以得出具有公共管理专业硕士学位的江苏人是（ ）。

- A. 大李
- B. 小王
- C. 张先生
- D. 林女士

37. 某研究小组对肝脏分泌的硒蛋白 P 进行了研究。在实验中发现，过剩的硒蛋白 P 对肌肉起作用，引发使运动无效的“运动抵抗性”病态。研究小组继而在对健康者进行的临床研究中发现，经过 8 周有氧运动锻炼，血液中硒蛋白 P 浓度高的人比浓度低的人运动效果低很多。研究者称，该发现解释了 II 型糖尿病和脂肪肝患者的运动效果往往差强人意的原因。

以下哪项最可能是研究者的论断所基于的前提？（ ）

- A. 天生不具备硒蛋白 P 的小鼠与普通小鼠相比，在相同强度相同时间进行运动疗法，其运动效果倍增
- B. 肥胖、II 型糖尿病、高血压和脂肪肝等各种生活习惯病患者血液中的硒蛋白 P 浓度较高
- C. 定期运动是对肥胖、II 型糖尿病、高血压和脂肪肝等各种生活习惯病进行预防和治疗的推荐方法
- D. 研究者尝试通过药物抑制肝脏生产硒蛋白 P，以期改善 II 型糖尿病和脂肪肝患者的运动效果

38. 某国研究人员称，他们利用一个深空探测器搭载的太空望远镜，从距离地球 1500 万公里的地方

成功拍摄了地球高层大气，首次确认地球的氢原子最远扩散至距离地球 24 万公里处，大约相当于地月距离的 60%。


以下哪项如果为真，最能削弱上述研究结果？（ ）

- A. 一些行星的高层大气由氢原子和氦原子组成
- B. 月球土壤中曾检测到来自地球大气层的氢原子
- C. 美国宇航员曾在登月时观测过地球周围的氢原子
- D. 地球的氢原子由紫外线照射大气水分子分解而来

三、图形推理：请按每道题的答题要求作答。

请开始答题：

39. 根据所给图形的既有规律，选出一个最合理的答案。



40. 从所给的四个选项中，选择最合适的一个填入问号处，使之呈现一定的规律性。



※※※ 第三部分结束，请继续做第四部分！ ※※※

第四部分 常识判断

（共 15 题）

根据题目要求，在四个选项中选出一个最恰当的答案。

请开始答题：

41. 习近平在二〇二一年新年贺词中指出，我们秉持（ ），永葆初心、牢记使命，乘风破浪、扬帆远航，一定能实现中华民族伟大复兴。

- A. 为人民服务的理念
- B. 团结奋进的观念
- C. 奋勇向前的信念
- D. 以人民为中心

42. 在汉字的形体演变过程中，位于小篆和楷书之间的字体是（ ）。

A. 金文 B. 大篆 C. 隶书 D. 草书

43. 如果运动过于剧烈或持久,人通常会感觉全身酸痛,这一现象的产生主要是因为肌肉中的()增加了。

A. 脂肪 B. 维生素 C. 乳酸 D. 葡萄糖

44. 根据 2021 年中央一号文件,下列不属于 2021 年目标任务的是()

A. 粮食播种面积保持稳定、产量达到 1.3 万亿斤以上
B. 农民收入增长继续快于城镇居民
C. 乡村建设行动全面启动
D. 农村生活设施便利化初步实现

45. 下列关于果酒、果醋、腐乳、泡菜等的制作,叙述正确的一项是()。

A. 均使用原核细胞发酵菌群 B. 均可以使用自然菌种
C. 均需高温高压灭菌 D. 均需控制无氧条件

46. 四大名茶之一的铁观音的主要产地是()。

A. 浙江杭州 B. 福建安溪 C. 江苏洞庭 D. 安徽黄山

47. 中央经济工作会议提出 2021 年要抓好的重点任务,下列各项说法不正确的是:

A. 解决好粮食安全问题
B. 强化反垄断和防止资本无序扩张
C. 解决好大城市住房突出问题
D. 做好碳达峰、碳中和工作

48. 田园诗人的鼻祖是()。

A. 孟浩然 B. 陶渊明 C. 王维 D. 柳宗元

49. 用于对下级机关布置工作,阐明工作活动的指导原则的领导指导性文件,称为()。

A. 命令 B. 指示 C. 批复 D. 通知

50. “狗不理包子”是我国()的传统小吃。

A. 天津 B. 北京 C. 重庆 D. 山东

51. 实施“科教兴国”战略,体现了邓小平理论中()的思想。

A. 发展才是硬道理 B. 尊重知识,尊重人才
C. 科学技术是第一生产力 D. 教育要面向现代化、面向世界、面向未来

52. 反映计算机存储容量的基本单位是()。

A. 二进制位 B. 字节 C. 字 D. 双字

53. 燃烧是可燃物与氧气或空气进行的快速放热和放光的氧化反应,下列物质燃烧只生成水的是()。

A. 煤炭 B. 石油 C. 氢气 D. 氦气

54. ()是清朝末代皇帝,也是中国历史上最后一个皇帝。

A. 溥仪 B. 朱由检 C. 载淳 D. 载恬

55. 下列属于影响消费的主要因素是（ ）。

- A. 商品的性质和质量
B. 人们的可支配收入和预期收入
C. 商品的推销和广告
D. 居民的收入和物价水平

※※※ 第四部分结束，请继续做第五部分！ ※※※

第五部分 资料分析

(共 10 题)

所给出的图、表或一段文字均有 5 个问题要你回答。你应根据资料提供的信息进行分析、比较、计算和判断处理。

请开始答题：

一、根据下列资料，回答 56~60 题。

上海市 2016 年城市信息化成果显著，全年实现信息产业增加值 2994.33 亿元，比上年增长 8.5%。其中，信息服务业增加值 1963.79 亿元，增长 11.9%。

至 2016 年末，全市光纤到户覆盖总量达 941 万户，比上年末增加 31 万户，实际使用用户数达到 515.74 万户，比上年末增加 54.62 万户。固定宽带用户平均可用下载速率 14.03Mb/s，比上年末提高 2.72Mb/s。下一代广播电视网（NGB）覆盖 744 万户家庭，比上年末增加 24 万户。全市第三代移动通信技术（3G）和第四代移动通信技术（4G）用户总数达到 2390.09 万户，比上年末增加 178.82 万户。开展 i-Shanghai 服务优化升级，公共场所服务场点累计开通 1400 余处，比上年末增加近 600 处。互联网网民数 1791 万人，互联网普及率为 74.1%。城市公共区域 WLAN 接入热点累计达 13.72 万个。互联网宽带接入用户 804.12 万户，比上年末增加 119.30 万户。互联网省际出口宽带 8.59T，比上年末增加 2.99T，互联网国际出口宽带 1.08T，比上年末增加 0.16T。IPTV 用户数达 230 万户，增加 53 万户。数字电视用户数达 562 万户，增加 20 万户。

全年完成电子商务交易额 20049.30 亿元，比上年增长 21.9%。其中，B2B 交易额 14445.60 亿元，增长 17.3%，占电子商务交易额的 72.1%；网络购物交易额 5603.70 亿元，增长 35.4%，占 27.9%。

全年口岸税费电子支付系统入网企业累计约 8.3 万家，增长 3.7%，报文传输量为 2.47 亿个，实现电子支付金额 13662 亿元，增长 7.4%。至年末，已有 148 万家单位持有有效“一证通”185 万张。

至年末，“市民信箱”累计注册用户 582 万人，比上年增长 20.0%。

至年末，市信用平台累计对外提供查询 2223.84 万次。其中，法人信用信息被查询 713.38 万次；自然人信用信息被查询 1510.46 万次。97 家单位确认向市信用平台提供 5198 项信息事项，其中，涉及法人信息事项 4072 项，涉及自然人信息事项 1126 项。平台可查询数据 3.14 亿条，法人数据 1064.03 万条，自然人数据 3.04 亿条。

至年末，市信用平台已建 21 个子平台（16 个区以及市商务委、市住建委、市司法局、市社团局、市酒类专卖局等 5 家市级委办局），在建子平台 1 个（市卫计委）。除市信用平台服务大厅外，已设立

13 家服务窗口（10 个区、自贸试验区和司法局服务窗口、上海图书馆），在建服务窗口 1 个（宝山区）。

56. 2015 年，上海市信息服务业增加值约为（ ）亿元。

- A. 1755 B. 1966 C. 1976 D. 1952

57. 至 2016 年末，全市光纤使用用户数占光纤到户覆盖总量的比重约为（ ）。

- A. 50.5% B. 58.7% C. 56.4% D. 54.8%

58. 截止 2016 年末，下列哪一项的数值最高？（ ）

- A. IPTV 用户数 B. 移动通信技术用户数
 C. 互联网宽带接入用户数 D. “市民信箱”累计注册用户数

59. 2016 年，B2B 交易额约为网络购物交易额的（ ）倍。

- A. 3.6 B. 3.0 C. 2.6 D. 2.0

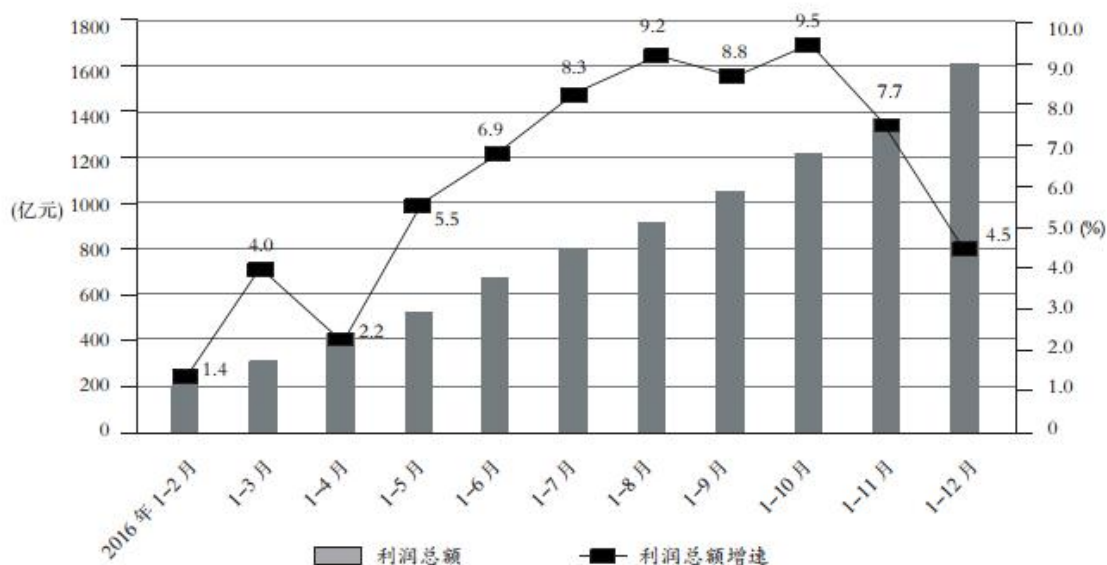
60. 根据上述资料，无法推出的是（ ）。

- A. 2016 年实现信息产业增加值较上年有所增加
 B. 至 2016 年末，市信用平台累计对外提供查询超 0.2 亿次
 C. 至 2016 年末，互联网国际出口宽带量高于省际出口宽带量
 D. 至 2016 年末，市信用平台已建 21 个子平台

二、根据下列资料，回答 61~65 题。

2016 年，甲省规模以上工业企业累计实现主营业务收入 37686.47 亿元，同比增长 7.6%；盈亏相抵后实现利润总额 1620.52 亿元，增长 4.5%；增幅比 1~11 月回落 3.2 个百分点。全年基本呈现震荡上行，年末回落的态势。每百元主营业务收入中的成本为 84.44 元，主营业务收入利润率为 4.30%。

2016 年甲省规模以上工业企业利润总额及同比增速



61. 2015 年甲省规模以上工业企业累计实现主营业务收入约为（ ）亿元。

- A. 35124.53 B. 35024.60 C. 35011.55 D. 35000.25

62. 下列时间段，甲省利润总额同比增速最大的是（ ）。

- A. 2016 年 1~2 月 B. 2016 年 1~3 月 C. 2016 年 1~4 月 D. 2016 年 1~5 月
63. 2016 年上半年，甲省规模以上工业企业利润总额约占全年总额的（ ）。
- A. 20% B. 30% C. 43% D. 60%
64. 2015 年 10 月，甲省规模以上工业企业利润总额约为（ ）亿元。
- A. 70 B. 80 C. 130 D. 200
65. 根据上述材料，下列说法正确的是（ ）。
- A. 2016 年 1~5 月，甲省规模以上工业企业累计利润总额约为 650 亿元
- B. 2016 年下半年，甲省规模以上工业企业累计利润总额同比增速一直在上升
- C. 2015 年，甲省规模以上工业企业利润总额约为 1550.74 亿元
- D. 2015 年 1~7 月，甲省规模以上工业企业累计利润总额约为 810 亿元

※※※ 全部测验到此结束，请将题本和答题卡留在桌上，等待指示 ※※※