

## 展鸿 2021 年浙江省事业单位统考笔试试卷

## 《职业能力倾向测验》模拟卷（一）

## 第一部分 言语理解与表达

（共 15 题）

本部分主要考查考生对语言文字的理解和驾驭能力。这种能力包括：对词、句子、短文一般意思和特定意义的理解；对比较复杂的概念和观点的准确理解；根据上下文，合理推断句子隐含的内容，准确地辨明句义，筛选信息等等。

请开始答题：

1. 当一个社会总有一部分自命为“精英”的人，习惯把炫耀视为生活品质，改变就会变得异常艰难。这首先是一种不正确的荣辱观\_\_\_\_\_，搞不清或者干脆无视民众的情绪，一再\_\_\_\_\_公众的道德底线，甚至还把挑衅当成与众不同。他们生活在自己的狭窄世界里，却以为在引领潮流。

填入划横线部分最恰当的一项是（ ）。

- A. 作怪 挑战            B. 使然 打击            C. 导致 冲击            D. 作祟 触犯

2. 随着收入水平的提高，人们的消费心态也随之发生改变，个性化消费需求显著提高。互联网时代，商家可以利用消费数据的积累分析出商品的市场反响情况，对消费者\_\_\_\_\_，实现更精准的营销策略。

填入划横线部分最恰当的一项是（ ）。

- A. 一视同仁            B. 有的放矢            C. 无微不至            D. 予取予求

3. 印象主义画家莫奈致力于观察沐浴在光线中的自然景色，把握色彩的冷暖变化和相互作用，用看似\_\_\_\_\_实则准确的迅捷的手法，把\_\_\_\_\_的光色效果记录在画布上，留下各种瞬间的永恒图像。

填入划横线部分最恰当的一项是（ ）。

- A. 粗糙 转瞬即逝            B. 模糊 千变万化  
C. 荒诞 五彩斑斓            D. 随意 变幻莫测

4. 能源、水和食品是这个世界上最关键的三种资源，尽管这一事实已在政策圈中达成共识，但这三种资源之间的\_\_\_\_\_关系却被严重忽视。其中任何一种资源的紧缺都会影响另外两种。这使得真实社会要比我们想象的\_\_\_\_\_得多。

填入划横线部分最恰当的一项是（ ）。

- A. 互补 复杂            B. 交互 恶劣            C. 共生 困难            D. 依赖 脆弱

5. 晚明江南的富裕，提供了附庸风雅的环境与条件，使得饮茶风尚引发了名牌效应。先是苏州虎丘茶风行，然后有大方和尚以虎丘制茶法在徽州松萝山制茶，造就了明末\_\_\_\_\_的松萝茶。一旦成了名牌，人们追求时尚，\_\_\_\_\_，商家就有了商机，争相仿制，价格也直线上升。

填入划横线部分最恰当的一项是（ ）。

- A. 如雷贯耳 一掷千金                      B. 闻名遐迩 如影随形  
C. 声名鹊起 趋之若鹜                      D. 风靡一时 蜂拥而至

6. 下列词语中，加点字的读音正确的一项是（ ）。

- A. 滂（páng）沓              B. 押解（jiè）              C. 徇私（xún）              D. 碑帖（tiè）

7. 下列词语中，没有错别字的一项是（ ）。

- A. 病入膏肓 同舟共济                      B. 戎马生涯 白璧微暇  
C. 针贬时弊 不计其数                      D. 风起云涌 峨冠博带

8. ①该卷长 525 厘米，宽 25.5 厘米，是北宋晚期张择端所画

②当时京师风俗，清明节日要出城上坟祭扫，同时也是群众性郊游的日子

③张择端，字正道，东武（今山东诸城）人，徽宗年间游学于京师

④这时四郊景色正好，东郊沿汴河一带游人尤其多，“上河”成为一时风尚

⑤《清明上河图》现藏于北京故宫博物院，全卷描绘清明节日前往汴河一带游览所见到的情景，十分细致而生动

⑥所谓“上河”，就是前往汴河游览的意思

将以上 6 个句子重新排列，语序正确的是（ ）。

- A. ③⑤④⑥②①              B. ⑤①③②④⑥              C. ③②⑤⑥①④              D. ⑤②⑥④①③

9. 无论在中国古代还是在古希腊，早在公元前若干世纪，已经有学者注意到不同地理环境对各人类群体的性情、心理和气质等所产生的不同影响。西方学术界自 18 世纪孟德斯鸠《论法的精神》出版以后，普遍重视社会历史发展过程中自然地理的重要作用，强调地理环境对人类文明类型和文化模式的重要影响。中国自 20 世纪初年节译出版《论法的精神》（译名为《万法公理》）后，学术界中以梁启超为首，广泛探讨“地理与文明之关系”，而“地理史观”也一时蔚然成风。

这段文字意在说明（ ）。

- A. “地理史观”的出现有其内在原因  
B. 学者普遍认为地理环境对文明影响深远  
C. 孟德斯鸠影响了人们对地理环境的认识  
D. 应该重视自然地理对社会发展的作用

10. 和西方同行一样，中国的一些科学家和企业家也对捕捞技术和设备的不断升级感到担忧：现代的捕捞效率将超过海洋的自我更新效率，最终导致全球渔业枯竭。虽然中国的海产品出产量很大，但海产品并未主宰人们的消费。中国人吃的鱼来自湖泊、河流、水库等淡水水体，不过，关于淡水污染的一些信息，让部分人因担心传统鱼类的食品安全问题而选择海产品。因此，要减少对海洋生物的过度捕捞，\_\_\_\_\_。

填入划横线部分最恰当的一项是（ ）。

- A. 转变人们的饮食观念是首要问题                      B. 提高海产品的食品质量势在必行  
C. 应先恢复消费者对淡水渔场的信任                      D. 食品安全问题必须受到应有的重视

11. 半夜开车的时候遇到红灯，即使无人无车也不能通过，这是浪费资源，这是智能化带来的智能交通的红绿灯控制车流，而物联网将其变革成了车流量控制红绿灯，并已有现实的应用。通过智能安防

的摄像机系统抓捕逃犯，这是智能化做到的事后追踪，而物联网却能做到事先预警，防范于未然。

这段文字意在说明（ ）。

- A. 智能化与物联网的区别
- B. 物联网上的信息可预测
- C. 智能化和物联网的功能
- D. 物联网是超越智能化的

12. 传续文明，首先是要保护先人留下的文化遗产，比如要保存好图书文献的各种版本。\_\_\_\_\_。

犹太文明的传承，就没有完全依赖物质遗产。传续文明，最核心的乃是传续先人的精神。

填入划横线部分最恰当的一项是（ ）。

- A. 但这并不是没有意外的
- B. 但这只是事情的一方面
- C. 但这不是完全可靠的
- D. 但这并不是最重要的

13. 明清鼎革之际，商品经济发展迅速，商贸流通日益增强，徽州商帮成为中国商界翘楚，积累了丰厚的财资。商人们遵循传统，发家后便返乡大兴土木，广修宗祠，遍设书院。同时，徽商“贾而好儒”的文化品质使他们追求生活的艺术品位，强调建筑的布局、结构、装饰要展现主人的涵养。此外，这一时期徽州本土的新安画派、徽州版画也颇为发达，对砖雕艺术具有深远影响。

上述材料旨在说明（ ）。

- A. 徽州商帮的理家方略
- B. 徽州商人的文化品质
- C. 徽商经营与绘画关系
- D. 徽州建筑发达的原因

14. 单看日渐升温的机器换人热潮，在目前劳动力供给偏紧的背景中，它对就业还未见明显的负面影响。而且，科技革命带来的产业深化、分工细化，还可能衍生出更多的就业机会。但是，那种决然否认机器换人和充分就业并不矛盾的说法未免过于乐观。在当下，从事重复性、常规性、高危性工作的员工，最有可能在人机竞争中先被淘汰出局。面对科技的更新，我们在结构改革中还不能轻易放弃有利于增加就业含量的传统制造业，还需要加快发展有利于吸纳就业人口的现代服务业。

这段文字意在强调（ ）。

- A. 发展传统制造业和现代服务业有利于就业
- B. 应该对日渐升温的机器换人热潮进行理性评估
- C. 科技更新可以为缓解当前的就业压力提供新思路
- D. 结构改革中应注意采取措施缓解机器对就业的冲击

15. 一段中国的箏箫古曲，多有雨声中的幽远；一幅中国的山水古画，多有雨声中的迷蒙。一大堆中国古代的哲学，其所谓“自足”“求诸己”“尽其在我”一类的命题，作为几千年文明的意旨内核和情感基点，当然是事出有因。\_\_\_\_\_，它们也许都来自作者们在雨声中的独处。

填入划横线部分最恰当的一项是（ ）。

- A. 雨声会让人心中安宁静谧
- B. 这是中国文化独有的意趣
- C. 所谓情由境生和感由事发
- D. 就好像“小楼一夜听春雨”

※※※ 第一部分结束，请继续做第二部分！ ※※※

## 第二部分 数量关系

(共 15 题)

本部分包括两种类型的试题：

### 一、数字推理：

1. 给你一个数列，但其中缺少一项，要求你仔细观察数列的排列规律，然后从四个选项中选出你认为最合理的一项来填补空缺项。

请开始答题：

16. 1 0 4 5 ( ) 14

A. 7                                      B. 9                                      C. 10                                      D. 11

17. -1 3 -3 -3 -9 ( )

A. -9                                      B. -4                                      C. -14                                      D. -45

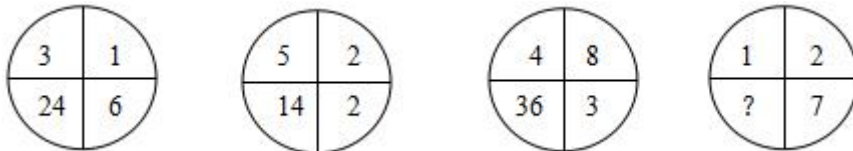
18. 2 3 4 15 56 ( )

A. 285                                      B. 235                                      C. 245                                      D. 225

2. 每题图形中的数字都包含一定的规律，请你总结前三个图形中数字的规律，从四个选项中选出你认为问号应该代表的数字。

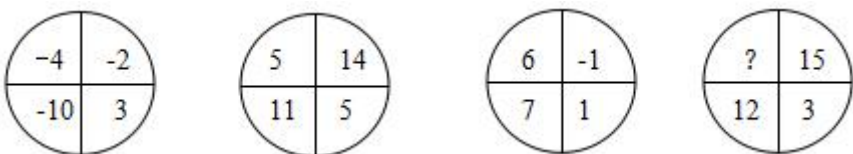
请开始答题：

19.



A. 18                                      B. 19                                      C. 20                                      D. 21

20.



A. 8                                      B. 9                                      C. 10                                      D. 11

二、数学运算：每道试题呈现一道算术式，或表述数字关系的一段文字，要求你迅速、准确地计算或论证出答案。

请开始答题：

21. 请问 539 能被多少个不同的自然数整除？ ( )

A. 6 个                                      B. 8 个                                      C. 10 个                                      D. 12 个

22. 四个装药的瓶子都贴了标签，其中三个贴错了，那么，共有几种可能贴法？ ( )

A. 6 种                                      B. 8 种                                      C. 12 种                                      D. 16 种

23. 某公司研发出了一款新产品，当每件新产品的售价为3000元时，恰好能售出15万件；新产品的售价每增加200元时，就要少售出1万件。如果该公司仅售出12万件新产品，那么该公司新产品的销售总额为（ ）。

- A. 4. 32亿元                      B. 4. 46亿元                      C. 4. 64亿元                      D. 4. 72亿元

24. 甲、乙两条生产线同时接到羽毛球、网球两种球拍的生产任务。已知甲要生产的球拍总数和乙相同，甲的网球拍生产任务是乙的 $\frac{1}{3}$ ，乙的羽毛球拍生产任务是甲的 $\frac{1}{4}$ ，如甲、乙工作效率相同，且单个羽毛球拍生产时间是网球拍的一半，问甲、乙完成任务用时之比为（ ）。

- A. 7:10                              B. 10:7                              C. 13:19                              D. 19:13

25. 某人和同事去吃盖浇饭，一部分人点了每份 25 元的大份盖浇饭，其他人点了每份 18 元的小份盖浇饭，一共花了 183 元。若大份盖浇饭打 8 折的话，他们可以只花 168 元。请问他们一共多少人去吃盖浇饭？（ ）

- A. 8 人                              B. 9 人                              C. 10 人                              D. 11 人

26. 两个人带着宠物狗玩游戏，两人相距200米，并以相同速度1米/秒相向而行，与此同时，宠物狗以3米/秒的速度，在两人之间折返跑，当两人相距60米时，宠物狗总共跑的距离为（ ）。

- A. 210米                              B. 240米                              C. 270米                              D. 300米

27. 一个位于O点的雷达探测半径为25千米。某日该雷达探测到一辆车沿直线驶过探测区，行驶过程中途经距离雷达20千米外的P点。如该车在雷达探测区内行驶的距离为X千米，问X的最大值和最小值相差多少千米？（ ）

- A. 15千米                              B. 16千米                              C. 20千米                              D. 25千米

28. 老张购进一批商品，共20件。销售时，每件合格的商品可以赚50元，不合格的商品一件亏损20元。他卖出的这20件商品中有几件是不合格的，那么卖出这批商品可能赚（ ）。

- A. 690元                              B. 720元                              C. 780元                              D. 850元

29. 某检修工作由李和王二人负责，两人如一同工作 4 天，剩下工作量李需要 6 天，或王需要 3 天完成。现李和王共同工作了 5 天，则剩下的工作李单独检修还需几天完成？（ ）

- A. 2 天                              B. 3 天                              C. 4 天                              D. 5 天

30. 现有10张形状完全相同的卡片，上面分别标有1、2、3、4、5、6、7、8、9、10的数字，从中任取两张卡片，其上两数字之积为4的倍数的概率为（ ）。

- A.  $\frac{16}{45}$                               B.  $\frac{2}{5}$                               C.  $\frac{19}{45}$                               D.  $\frac{4}{9}$

※※※ 第二部分结束，请继续做第三部分！ ※※※

### 第三部分 判断推理

(共 10 题)

本部分包括三种类型的试题：

一、类比推理：先给出一对相关的词，要求你在备选答案中找出一对与之在逻辑关系上最贴近或相近的词。

请开始答题：

31. 报名：培训：结业

A. 高考：招生：毕业

B. 设计：产品：使用

C. 驾驶：公路：旅行

D. 挂号：看病：痊愈

32. 净水：过滤

A. 名次：竞赛

B. 房屋：装修

C. 苗条：节食

D. 环境：绿化

33. 上衣：领袖

A. 兄弟：手足

B. 时间：岁月

C. 身体：耳目

D. 动物：鹰犬

34. U 盘：光盘

A. 楼梯：电梯

B. 插头：插座

C. 国画：毛笔

D. 水杯：杯盖

35. 作品：文学作品：摄影作品

A. 人身权：姓名权：肖像权

B. 糖果：棒棒糖：水果糖

C. 科学：自然科学：经济学

D. 面食：面条：重庆小面

二、逻辑判断：每题给出一段陈述，这段陈述被假设是正确的，不容置疑的。要求你根据这段陈述，选择一个答案。注意，正确的答案应与所给的陈述相符合，不需要任何附加说明即可以从陈述中直接推出。

请开始答题：

36. 某种虾常出现于高温的深海间歇泉附近，那里生长着它爱吃的细菌类生物。由于间歇泉发射一种暗淡的光线，因此，科学家认为这种虾是通过背部的感光器官来寻找间歇泉，从而找到食物的。

下列哪项对科学家的结论提出质疑？（ ）

A. 这种虾的感光器官对间歇泉发出的光并不敏感

B. 间歇泉的光线十分暗淡，人类肉眼难以察觉

C. 大多数其他品种的虾的眼睛都位于眼柄的末端

D. 其他虾身上的感光器官同样能起到发现间歇泉的作用

37. 在一项实验中，研究者让大学生回忆他们在高中时期的成绩，告知他们研究者将会从高中获取其真实成绩，所以撒谎没有任何意义。结果显示：参与者回忆起的成绩有五分之一都和实际不符，而不



同等级的成绩，被误记的概率也是不同的。分数越高越不容易记错：得了 A 的时候总是能准确地被回忆起来，但得了 F 的时候却难以被想起。

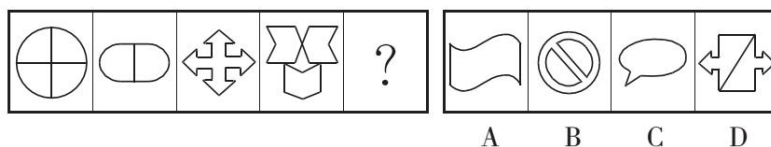
根据以上信息，可以推出的是（ ）。

- A. 错误的记忆可以保护我们对公平正义的信念
- B. 错误的记忆让我们自我感觉良好，利于健康
- C. 人们记忆中的成绩可能比真实的的成绩更优秀
- D. 一般来说，人们最擅长的就是对细节的遗忘

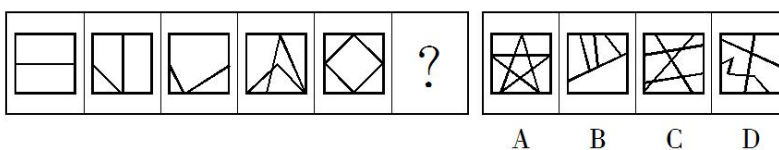
三、图形推理：请按每道题的答题要求作答。

请开始答题：

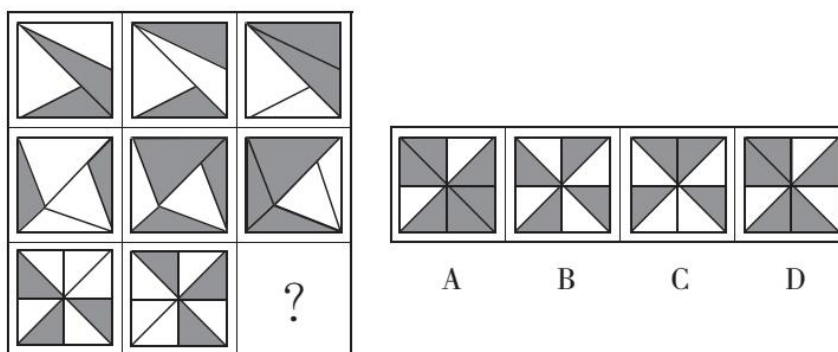
38. 从所给的四个选项中，选出一个填入问号处，使之呈现一定的规律性。



39. 从所给的四个选项中，选出一个填入问号处，使之呈现一定的规律性。



40. 从所给的四个选项中，选出一个填入问号处，使之呈现一定的规律性。



※※※ 第三部分结束，请继续做第四部分！ ※※※

## 第四部分 常识判断

(共 15 题)

根据题目要求，在四个选项中选出一个最恰当的答案。

**请开始答题：**

41.地球上生物的种类极其丰富，从表面上看，不同的生物之间似乎并没有相同之处，但其实所有的生物都具有一些共同特征。以下不属于生物共同特征的是（ ）。

- A. 由单细胞构成
- B. 需要能量才能生存
- C. 具有生命周期
- D. 新陈代谢

42.下列关于避雷针的说法，错误的是（ ）。

- A. 南北朝时就已出现与避雷针工作原理相似的“避雷室”
- B. 避雷针和它要保护的建筑是由绝缘物质隔开的
- C. 接闪器可用铝合金、镀锌钢、不锈钢等各种材料制成
- D. 我国现在已经放弃了“避雷针”这一叫法，而代之以“接闪杆”

43.下列古代汲水灌溉工具与应用原理对应错误的是（ ）。

- A. 桔槔——杠杆原理
- B. 辘轳——轮轴原理
- C. 翻车——对称守恒原理
- D. 筒车——叶轮原理

44.下列有关生活知识的表述中，正确的是（ ）。

- A. 炒菜时，油锅着火应立即泼水救火
- B. 泡沫灭火器灭火时，能喷射出大量一氧化碳及泡沫
- C. 运行中的电梯进水时，应将电梯开到底层，并通知维修人员
- D. 电梯下降失去控制时，乘客应两腿微弯，整个背部和头部紧贴电梯壁，呈一直线，以减小电梯坠落受到的冲击

45.下列中国历史上的变法与其内容对应不正确的是（ ）。

- A. 商鞅变法——实行郡县制
- B. 王安石变法——颁行保甲法
- C. 张居正变法——推行青苗法
- D. 戊戌变法——开办京师大学堂

46.严重缺氧的病人输氧时，要在纯氧中混入 5%的  $\text{CO}_2$ （二氧化碳），目的是（ ）。

- A. 用  $\text{CO}_2$  维持呼吸中枢的兴奋
- B. 节约氧气
- C. 让人体吸收  $\text{CO}_2$
- D. 用  $\text{CO}_2$  增加氧气罐压力

47.下列与电有关的说法，正确的是（ ）。

- A. 铜的导电性比铁弱
- B. 电水壶属于纯电阻用电器
- C. 电风扇是将电能全部转化为热能
- D. 白炽灯的发光原理与 LED 灯相同

48.下列关于云的说法中，错误的是（ ）。

- A. 冷却云中强烈的气旋扰动使飞机发生波动
- B. 积雨云中的雷电会给飞机带来极大的危险



C. 贝母云常见于高纬度地区，有珍珠般光泽

D. 夜光云出现在黄昏后的夜空，有银色光泽

49. 旅行者 2 号探测器于 1977 年 8 月 20 日在肯尼迪航天中心成功发射升空，近探过太阳系的四颗行星后，飞向了外太空。这四颗行星依次为（ ）。

A. 水星、金星、火星、天王星

B. 水星、金星、木星、天王星

C. 木星、土星、天王星、海王星

D. 木星、火星、天王星、海王星

50. 下列关于管理学知识的表述中，错误的是（ ）。

A. 在行政组织结构中管理幅度和管理层次成正比例关系

B. 审计监督是行政监督中内部监督的一种方式

C. 时间性原则是公共危机管理的第一原则

D. 公共危机管理的决策是一种非程序性决策

51. 根据我国刑事诉讼法的规定，下列证据应当予以直接排除的是（ ）。

A. 采用刑讯逼供的方法收集的犯罪嫌疑人的供述

B. 收集犯罪嫌疑人贪污所得现金不符合法定程序的

C. 收集合同诈骗罪涉案支票不符合法定程序，可能严重影响司法公正的

D. 收集盗窃自行车不符合法定程序，不会影响司法公正，但无法作出合理解释的

52. 在当下社会，纸币已经出现电子形态，比如越来越多的人使用手机进行支付，整个支付过程完全见不到纸币的踪影。这说明手机支付可以代替货币的哪项职能？（ ）

A. 世界货币

B. 储藏手段

C. 价值尺度

D. 支付手段

53. 根据 2021 年中央一号文件，加强农村社会保障不包括（ ）

A. 完善统一的城乡居民基本医疗保险制度，合理提高政府补助标准和个人缴费标准

B. 提高医疗救助服务水平，地级市域范围内实现“一站式服务、一窗口办理、一单制结算”

C. 健全县乡村衔接的三级养老服务网络

D. 落实城乡居民基本养老保险待遇确定和正常调整机制

54. 2020 年 12 月 16 日至 18 日，中央经济工作会议提出了深化对在严峻挑战下做好经济工作的“五个根本”规律性认识，下列各项说法正确的是：

①党中央权威是危难时刻全党全国各族人民迎难而上的根本依靠

②人民至上是作出正确抉择的根本前提

③制度优势是形成共克时艰磅礴力量的根本保障

④中国特色社会主义是当代中国发展进步的根本方向

⑤科学决策和创造性应对是化危为机的根本方法

⑥科技自立自强是促进发展大局的根本支撑

A. ①②③④⑤

B. ②③④⑤⑥

C. ①②③⑤⑥

D. ①②④⑤⑥

55. 燕京八绝是指具有“京作”特色的八种工艺门类，它们充分汲取了各地民间工艺的精华，又承袭了宫廷文化的精髓，是北京的艺术典范。下列关于燕京八绝的说法中，正确的是（ ）。

- A. 内画壶属于燕京八绝之一
- B. 八大工艺门类均兴起于清代，并形成了宫廷特色
- C. 燕京八绝都属于非物质文化遗产
- D. 这八类工艺品均以皇家生活场景为创作内容

※※※ 第四部分结束，请继续做第五部分！ ※※※

### 第五部分 资料分析

(共 5 题)

所给出的图、表或一段文字有 5 个问题要你回答。你应根据资料提供的信息进行分析、比较、计算和判断处理。

某省 2016 年 1~6 月居民人均可支配收入情况表 (单位: 元)

项 目	全省居民		城镇居民		农村居民	
	2016 年 1~6 月	增长 (%)	2016 年 1~6 月	增长 (%)	2016 年 1~6 月	增长 (%)
人均可支配收入	17372	8.8	20625	9.0	12217	8.5
工资性收入	12417	12.6	14533	14.0	9063	9.2
经营净收入	773	-0.8	780	-4.6	761	6.1
财产净收入	1978	9.0	2585	9.2	1017	8.6
转移净收入	2204	-5.9	2728	-9.0	1375	5.5

56. 2016 年 1~6 月，全省居民的人均工资性收入比上年同期大约增加了 ( )。
- A. 1350 元                      B. 1370 元                      C. 1390 元                      D. 1410 元
57. 2015 年 1~6 月，该省城镇居民的人均转移净收入约占其可支配收入的 ( )。
- A. 9.3%                          B. 11.5%                          C. 13.7%                          D. 15.9%
58. 2016 年 1~6 月，该省农村居民的人均工资性收入约是其转移净收入的多少倍? ( )
- A. 4.8 倍                          B. 6.6 倍                          C. 8.4 倍                          D. 10.2 倍
59. 2016 年 1~6 月，该省农村居民人均可支配收入中比上年同期增加最少的收入为 ( )。
- A. 工资性收入                      B. 经营净收入                      C. 财产净收入                      D. 转移净收入
60. 由表可知，2015 年 1~6 月，该省城镇居民人均可支配收入约是农村居民的多少倍? ( )
- A. 1.7 倍                          B. 2.5 倍                          C. 3.3 倍                          D. 4.1 倍

※※※ 全部测验到此结束，请将题本和答题卡留在桌上，等待指示 ※※※