

2018年5月27日浙江省磐安县事业单位考试笔试试卷

《行政职业倾向测试》

第一部分 数量关系

(共15题, 参考时限15分钟)

本部分包括两种类型的试题:

一、数字推理: 给你一个数列, 但其中缺少一项, 要求你仔细观察数列的排列规律, 然后从四个选项中最符合规律的一项来填补空缺项。

请开始答题:

1. 11, 12, 26, 14, (), 16

A. 15 B. 20 C. 27 D. 37

2. 1, 0, 4, 5, (), 14

A. 7 B. 9 C. 10 D. 11

3. 0, 5, 13, 27, 50, ()

A. 72 B. 85 C. 91 D. 97

4. 3, 4, 5, 11, 14, 107, ()

A. 196 B. 93 C. 89 D. 47

5. 2800, 399, 56, 7, ()

A. 0 B. 1 C. 2 D. 3

6. 16, 17, 19, 22, 27, (), 48

A. 37 B. 34 C. 36 D. 35

7. 0, 0, 6, 24, 60, 120, ()

A. 206 B. 210 C. 214 D. 222

8. 364, 355, 246, 137, ()

A. 119 B. 108 C. 56 D. 28

9. 4.5, $9\frac{1}{3}$, (), $\frac{126}{5}$, $36\frac{1}{6}$ A. $8\frac{1}{3}$ B. 16 C. $16\frac{1}{6}$ D. 16.2510. 0, 1, $\frac{6}{5}$, $\frac{9}{7}$, $\frac{4}{3}$, ()A. $\frac{15}{11}$ B. $\frac{15}{13}$ C. $\frac{17}{15}$ D. $\frac{5}{4}$

二、数学运算：每道试题呈现一道算术式，或表述数字关系的一段文字，要求你迅速、准确地计算或论证出答案。

请开始答题：

11. 某村的一池塘用于养鱼，前年产鱼 30 万千克，去年改善池塘环境，产量增加 20%。今年由于天气不适，产量下降 20%，今年产量为（ ）万千克。

- A. 31 B. 29.2 C. 29 D. 28.8

12. 毕业时，大家提议毕业旅行，全班 38 人，有 7 人忙于找工作不去，有 3 人已独自出发去国外旅游并表示不参加此次班级活动，还有 8 人已回老家，同时有上述两种理由不参加的有 2 人，则此次实际参加集体毕业旅行的有（ ）人。

- A. 19 B. 20 C. 21 D. 22

13. 树林里长有松鼠喜欢吃的松子，25 只松鼠可以在 8 周内吃光，20 只松鼠可以在 12 周内吃光，问这片树林最多可以容纳多少只松鼠吃 6 周？（假定松子生产的速度不变）（ ）

- A. 28 B. 30 C. 35 D. 40

14. 男生占全校学生总数的 60%还少 63 人，男生比女生多 26 人。六年级中，男生与女生的人数之比是 35:31，男生比女生多 8 人，那么其他年级中女生的人数有（ ）人。

- A. 305 B. 317 C. 323 D. 341

15. 一列 180 米长的列车，以 5m/s^2 的加速度启动向前方驶去，当速度达到 180m/s 时（未达到最高速度），列车信号故障，遂以 -12m/s^2 的加速度刹车减速至停车。假设列车在加速与减速阶段分别做匀加速和匀减速运动，则列车在这期间共行驶（ ）米。

- A. 4590 B. 1890 C. 2700 D. 6480

第二部分 言语理解与表达

（共 30 题，参考时限 25 分钟）

每道题包含一段话或一个句子，后面是一个不完整的陈述，要求你从四个选项中选出一个来完成陈述。注意：答案可能是完成对所给文字主要意思的提要，也可能是满足陈述中其他方面的要求，你的选择应与所提要求最相符合。

请开始答题：

16. 数十年来几代河南农大人自始至终扎根在田间地头等生产一线，他们的研究成果来源于实践，同时又服务于实践，不浮夸、不_____。

填入划横线部分最恰当的一项是（ ）。

- A. 轻飘 B. 花哨 C. 浮躁 D. 冒险

17. 由于疏于维护管理，一些有较高文化价值的明代长城文字砖被拆解、偷盗、贩卖的现象屡见不鲜，一些缺少保护的古长城生存状况_____。

填入划横线部分最恰当的一项是（ ）。

- A. 担忧 B. 堪忧 C. 担心 D. 忧愁

18. 在学校举行的圣诞节晚会上，学生会文艺部的女生们自编自演了一个话剧，几位同学把剧中人物演得_____，博得了全场观众的热烈掌声。

填入划横线部分最恰当的一项是（ ）。

- A. 绘声绘色 B. 惟妙惟肖 C. 有声有色 D. 栩栩如生

19. 仅在美国，每年由“生物入侵”造成的经济损失就高达两千多亿美元，面对这样的天文数字，人们岂能_____？

填入划横线部分最恰当的一项是（ ）。

- A. 痛不欲生 B. 恬不为怪 C. 无动于衷 D. 不动声色

20. 人的心理不是一个独立的领域，更不是生理神经领域，它和政治、社会、经济、文化等_____在一起，是一个复杂系统中的一部分。脱离了这些领域去看人的心理，是一种失真的_____。

依次填入划横线部分最恰当的一项是（ ）。

- A. 牵扯 抽象 B. 糅合 表述 C. 掺和 概括 D. 联系 缺

21. 人生就像旅行，跟谁同行，往往比去哪里更重要。如果身边是个讨厌的人，那么再美的风景、再有趣的行程，也总是难以_____。而若是跟喜欢的人在一起，就算是去楼下的公园，都会_____。

依次填入划横线部分最恰当的一项是（ ）。

- A. 高兴 赏心悦目 B. 尽兴 心旷神怡
C. 完美 神魂颠倒 D. 美满 怡然自得

22. 年轻人用魄力和勇气_____着生命的宽度，期间洋溢的青春旋律令人动容，大学生创客是创新社会体制机制的一泓清泉，要想_____，需要沉潜积累，也考验创业者的眼力、智力、定力和精力。

依次填入划横线部分最恰当的一项是（ ）。

- A. 拓展 激流勇进 B. 扩展 百舸争流
C. 增加 知难而上 D. 拓宽 奋勇前进

23. 从深不见底的大峡谷到_____的北极光，新的无人机镜头捕捉到了冰岛惊艳的自然风光。就在今年的早些时候，一群电影制作人长途跋涉，穿越这个火山_____的国家，通过航拍记录下了这独特的风光。在一段五分钟的视频短片中，我们随着无人机穿梭在冰川峭壁间，领略绝美的北欧风光。

依次填入划横线部分最恰当的一项是（ ）。

- A. 变幻无穷 横行 B. 千奇百怪 肆虐
C. 难以捉摸 肆虐 D. 难以捉摸 遍地

24. 在舆论场，中国的任何一点成就，都会_____被拿来和美国对比。中美在互联网时代的竞逐，尤为_____。一个得到普遍认可的观点是，互联网时代只有中、美两个竞争者。从技术角度看，美国是互联网时代的开创者，也是全新的引领者。中国则凭借巨大的市场，在应用层面开始反超。

依次填入划横线部分最恰当的一项是（ ）。

- A. 不可避免 夺人眼球 B. 无可回避 引人注目
C. 自然而然 备受瞩目 D. 无可奈何 有目共睹

25. 用雄辩的事实_____一些媒体上的恶意炒作，全面_____一个真实的张灵甫，这对人们提

高政治免疫力和增强正能量宣传，都会是大有_____。

依次填入划横线部分最恰当的一项是（ ）。

- A. 肃清 揭示 帮助
B. 讲清 显示 好处
C. 澄清 揭示 裨益
D. 划清 显示 利益

26. 沉默是一种_____，也是一种_____，更是一种_____。如果没有沉默，就没有孕育，就没有震荡，就没有突破。蛾在沉默了一冬之后，终于把飞的梦幻变成现实；海在沉默了一时之后，终于把惊涛的壮观推出了地平线。

依次填入划横线部分最恰当的一项是（ ）。

- A. 风度 气质 人格
B. 容忍 反抗 智慧
C. 智慧 品格 气质
D. 气质 风度 品格

27. 人生的美就是一路行走，一路捡拾前人散落在草丛里的思想碎片，观_____从暗夜里醒来的慧星，赏_____在空谷中绽放的兰花，装_____从时光隧道里吹来的清风，然后染_____智慧的芬芳。

依次填入划横线部分最恰当的一项是（ ）。

- A. 一株 一颗 一襟 一身
B. 一颗 一株 一襟 一身
C. 一颗 一株 一身 一襟
D. 一株 一颗 一身 一襟

28. ①过高的成本预期，_____了人们的生育意愿，也造成了这样那样的社会问题。

②和谐往往不是通过对不同意见的_____实现的。

③如果能左右自己的思想，就能够_____自己的情感。

④U22 主帅傅博目前身兼国家队代理教练职位，这样精力受到很大_____，恐怕不利备战。

依次填入划横线部分最恰当的一项是（ ）。

- A. 遏制 压制 控制 牵制
B. 控制 遏制 牵制 压制
C. 牵制 控制 压制 遏制
D. 压制 牵制 遏制 控制

29. 中国古语说“_____”，这是一个糟糕的引导。用知识使人致富来诱导读书，是把读书异化成了一种功利性的投入。

从上文的语意推断，句中横线上应填入的古语是（ ）。

- A. 士为知己者死
B. 书中自有黄金屋
C. 志当存高远
D. 学然后知不足

30. 生物科学告诉我们嗅觉、味觉、性欲都是无法度量的，人的心理感知如喜悦、厌烦、痛苦、思念、怀旧、贪婪、野心等也是无法度量的。人的智能还有一个基本部分就是直觉。直觉是人基于对硬数据和软数据、冷识别和热识别综合在一起产生的一种高度的、抽象的、跳跃性的反应。这种直觉依赖的数据不但不可度量、不可传递，而且产生的直觉本身也是人无法描述的。人的智能和机器中间有一个鸿沟，人工智能的基础就是可以度量、可以描述、可以传递的数据，训练人工智能得满足这几个条件。

这段文字主要讲的是（ ）。

- A. 人的智能和人工智能的本质区别
B. 人的智能强于人工智能

C. 机器要成为人工智能的基础是有可以度量、可以描述、可以传递的数据

D. 人工智能要成为现实，必须训练可度量数据和无法度量的部分

31. 有超强记忆力显然是个天才。其实每个人下苦功都可以成为有限的天才。中国古代读书科考者大都能背下四书五经。像乾隆皇帝，当皇子时已能背诵四书五经全部著作，我想今天的中国恐无一人可以有此成就。由此可见，“天才”是可以训练出来的。我还认识一位朋友，当年身陷囹圄，只给一本马克思的《资本论》看，十年下来，出狱时已能背诵几十万字的《资本论》。时隔几十年，偶尔聊天时他随意背诵一段《资本论》，让任何在场的人都瞠目结舌，惊为天人。

上面这段话要表达的中心是（ ）。

A. 中国古代读书科考者都是天才

B. 乾隆皇帝是中国历史上的天才之一

C. 我认识的当年身陷囹圄的朋友是个天才

D. “天才”是可以训练出来的

32. 可以肯定，一个城市，越是文化特征突出，文化性格鲜明，它对人的气质的影响就越大。这种影响是有可能超物质的。不要说里弄拆了，石库门没了，就算大上海沉没了，上海文化也还是上海文化。北京的牌楼拆了好些年了，老北京变成了新北京，但北京人没有变成上海人或别的什么城市人。这就叫“辫没了，神留着”。

这段话中“辫没了，神留着”的意思是（ ）。

A. 文化性格比物质形态来得重要

B. 上海已形成其特有的文化特征并将流行下去

C. 缺

D. 缺

33. 在人际交往频繁的现代社会中，大家都重视外貌，都希望保持美好的容颜，于是化妆品大行其道，健美操也广为流行。如果这时提倡以“积德与读书”来美容，会不会引来一阵讪笑？老子说：“下士闻道大笑之，不笑不足以为道。”世人的讪笑也许正好证明了我们提议的办法是对的。以心为本，则相不受年龄与风霜的侵蚀，超越有形的美丑，契合于完美的“人”之相。

上文要告诉我们的观点是（ ）。

A. 提倡“积德与读书”会被人讪笑

B. 现代社会提倡“积德与读书”不合时宜

C. 提倡“积德与读书”可使人完美

D. “积德与读书”是不能“美容”的

34. 人们通常把在学校接受教育的过程，叫作“读书”。这种语言习惯昭示出，一个人在学校课桌旁度过十几年宝贵光阴之后，应当得到的最重要的东西，就是阅读的兴趣和习惯。然而，问题多多的学校语文教育，尤其是严重脱离本真读书过程的语文课堂教学，每年都向社会大批量地输送着不会阅读也不爱阅读的“准文盲”。

文中“准文盲”是指（ ）。

A. 读过书却不认识字的人

B. 教书却不让学生阅读的教师

C. 问题多多的学校语文教育

D. 不会阅读也不爱阅读的学生

35. 对于像山体高位垮塌这样的“灭顶之灾”，经历或者亲眼目睹灾害现场的人或多或少都会在心

里留下一些创伤记忆，并且带来不同程度的情绪困扰，他们所表现出来的沮丧、悲伤、惊恐、焦虑等负面情绪都是正常反应，心理援助志愿者不要试图加以阻止或矫正。其实，大多数经历了创伤的灾民都会在经历一个自然康复过程后而缓解、痊愈，欲速则不达。任何他人都不宜设置时间指标尽快帮他们走出心理阴影，应尊重和配合他们自然的康复过程，心理援助志愿者们要做的只是因势利导。

这段文字意在说明（ ）。

- A. 心理援助志愿者在灾民心理康复过程中作用有限
- B. 受创伤灾民的身心康复是一个循序渐进的自然过程
- C. 自然灾害对人的心灵创伤巨大
- D. 灾民身心康复时间存在个体差异

36. 类似“笨鸟先飞”“不让孩子输在起跑线上”等口号，在很多家庭的教育观念中，都可谓根深蒂固。然而，这种所谓“起跑线上的恐慌”，更像是一种焦虑症。与其说“起跑线上的恐慌”是一个家庭的焦虑，还不如说是一个时代、一个社会的教育谎言，在其背后，仍然有着深厚的现实因素和价值追求背景。正因如此，才应该将这种观念从单一个体抽离出来，放到一个社会大环境来审视。

对这段文字的主旨概括最准确的是（ ）。

- A. 中国式家庭教育观念大体一致
- B. 在中国社会里“起跑线上的恐慌”问题突出
- C. 家庭教育问题是一项重大复杂的社会问题
- D. 家庭教育应当“因材施教”并遵守孩子的天性

37. 南仁东是我国著名天文学家，是国家重大科技基础设施建设项目——“中国天眼”500米口径球面射电望远镜工程（简称FAST）的发起者和奠基人。他主导提出利用我国贵州省喀斯特洼地作为望远镜台址，从论证立项到选址建设历时22年，主持攻克了一系列技术难题，为FAST重大科学工程的顺利完成发挥了关键作用，作出了重要贡献。他不计个人名利得失，长期默默无闻地奉献在科研工作第一线，与全体工程团队一起通过不懈努力，迈过重重难关，实现了中国拥有世界一流水平望远镜的梦想。今年9月，南仁东因病逝世。

这段文字主要告诉我们（ ）。

- A. 天文学家南仁东的生前工作
- B. 天文学家南仁东的功勋
- C. 天文学家南仁东的因病逝世
- D. 中国实现了拥有世界一流水平望远镜的梦想

38. 香港是一个典型的法治社会，每一个人都应当用和平守法的方式来表达自己的诉求，来共同维护法治这一核心价值观。任何损害法治、破坏社会正常秩序的诉求方式都是不可取的。希望香港各界在全国人大常委会有关决定和基本法的框架内务实理性讨论、逐渐形成共识，力争如期实现下一任行政长官的普选。

对上述文字理解最准确的是（ ）。

- A. 香港是一个法治社会，任何人都可以行使自己的合法权利
- B. 在香港这样一个以法治为核心价值的社会里，任何人都可以用任何方式表达自己的诉求

C. 在香港这样的法治社会，政府保护公民的合法权利

D. 香港是一个典型的法治社会，任何人都应当用和平守法的方式来表达自己的诉求

39. 脑子不用会坏掉，左脑和右脑，用的节奏不对，会加速坏掉。好在生活并不是天然被分成左脑生活和右脑生活，也许日本的研究，更多是对生活的调侃。但至少可以说明，我们想当然认为没用的东西，八卦消息和电子游戏，亲人之间的闲聊，它们其实有着相当现实的意义——生活中这些边边角角的，看上去性价比不高的平庸素材，居然是对身体的一种训练。

这段话主要支持了这样一个观点，即（ ）。

A. 早有研究表明，大脑左右两个部门分别支配身体不同器官

B. 生活中一些看似无聊的东西，其实对大脑健康有很大帮助

C. 锻炼大脑和锻炼身体同样重要，特别是对右脑潜力的开发

D. 一些国家或团体的研究，看似调侃，但具有极强的科学性

40. 和其他国家一样，我国的反导拦截系统也由多个层次组成，按高度分为大气低层拦截、大气高层拦截和大气层外拦截。其中，大气低层拦截已经初具规模，由引进的 S-300PMU2 和国产的红旗-9 改进型远程防空导弹组成，主要针对的是射程较近、弹道高度较低的短程弹道导弹；而大气层外拦截，亦即为人所熟知的中段反导拦截，则是红旗-19 型拦截弹和 SC-19 型拦截弹的任务。

红旗-9 改进型反导拦截系统属于（ ）。

A. 大气低层拦截

B. 大气高层拦截

C. 大气层外拦截

D. 中段反导拦截

41. 缺

42. 最好的诗不是让人立刻有所感悟，而是让人发呆。《诗经·采薇》：“昔我往矣，杨柳依依。今我来思，雨雪霏霏。”我每读一遍，就发一遍呆。发了半天呆，还是一点想法都没有。那是太深切的感伤，是我所不能体会的，只能发呆。为了不继续发呆，只好不读。可忍不住又想读。如果什么东西可以上瘾的话，发呆应该是一种。如果我是诗中那位旅人，我怎么受得了。

文中我读《诗经·采薇》时发呆的理由是（ ）。

A. 《诗经·采薇》太深奥，我读不懂

B. 《诗经·采薇》写得太好了，我惊呆了

C. 《诗经·采薇》感伤太深，我不能体会

D. 《诗经·采薇》让我读书上瘾

43. 如今，中国每年有 700 多万大学毕业生，超过美国和欧盟每年大学毕业生的总和。中国更有数以亿计的为了家庭幸福和个人梦想在各行各业诚实劳动、勇于创新的年轻人。他们一起撑起这个国家未来的希望。国强，少年便有更多的人生机会、更宽广的国际视野、更理性的价值观念；少年强，则会推动国家不断向更高的层次迈进。

下列说法与原文不符的是（ ）。

A. 少年在祖国的发展中起到了重要的作用

B. 一个国家的强大，可为少年提供更好的发展平台

C. 少年与国本为一体，国强与少年强相辅相成

D. 少年强则国必强，国强则少年必强

44. 人们掌握科学知识要以一定的素质为前提，而科学知识的掌握又会促进素质的提高和发展。科学知识对于人们就像血液滋补身体一样，是珍贵的精神食粮。

这段话的主要意思是（ ）。

- A. 人所具有的素质与他掌握的科学知识是互相联系，互相影响的
- B. 人要掌握科学知识要以一定的素质为前提
- C. 科学知识的掌握会促进素质的提高和发展
- D. 科学知识对于人们是珍贵的素质

45. 想要在农村建设儒学讲堂或老年人协会，关键是将儒家文化转化为能被农民理解并且接受的生活习惯。所以，真正有生命力的乡村儒学必须要以组织的形式存在。传统的村庄不仅仅只是地域意义上的团体，也是一种具有能生产公共价值能力的社会组织。围绕乡村建设的底线目标，儒学的作用在于重塑具有道德规范的乡村公共生活。

根据上述文字，与作者表述相符的是（ ）。

- A. 在乡村道德规范的重塑过程中，面对文化水平低下的农民儒学思想的传授可能性较小
- B. 在传授儒学思想的时候，只需将儒家文化转化为能被农民理解的生活习惯即可
- C. 根据乡村建设的底线目标，要发挥儒学重塑具有道德规范的乡村公共生活的作用
- D. 重塑乡村道德规范，既是一件重要的事情也是一件无奈的事情

第三部分 判断推理

(共 25 题，参考时限 25 分钟)

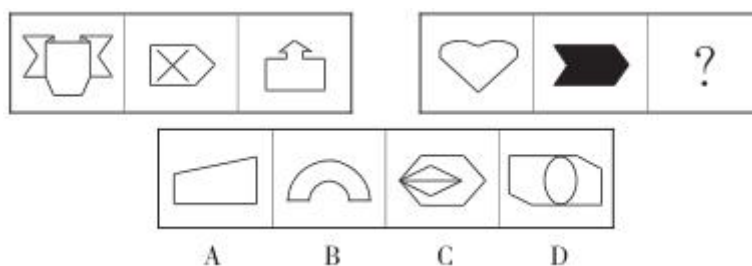
一、图形推理：从所给四个选项中，选择最合适的一个，使之呈现一定的规律性。

请开始答题：


46. 从所给的四个选项中，选择最合适的一个填入问号处，使之呈现一定的规律性。

Fat	dirt	priority	Infinity	?
girl	significant	ling	identification	
A	B	C	D	

47. 从所给的四个选项中，选择最合适的一个填入问号处，使之呈现一定的规律性。




48. 从所给的四个选项中，选择最合适的一个填入问号处，使之呈现一定的规律性。



49. 缺

50. 如图，一个正方体的每个面上都画有一个图形，其平面展开图如下图所示，那么在该正方体中，和“◎”相对的图形应该是（ ）。



二、定义判断：每道题先给出一个概念的定义，然后分别列出四种行为。要求你严格依据定义从中选出一个最符合或最不符合定义的答案。注意：假设这个定义是正确的，不容置疑的。

请开始答题：

51. 消费者有权自收到商品之日起7日内无理由退货。但消费者订做的、鲜活易腐、数字化商品、交付的报纸期刊除外，这被业界称为“网购后悔权”。

某消费者今日有四次网购经历，能够实施“网购后悔权”的是（ ）。

- A. 网购计算机安装软件一套
- B. 网购了一个刻有自己名字的水晶礼品
- C. 网购景观热带鱼一缸
- D. 网购名著《红楼梦》一套

52. 所谓人化自然，就是指被人的实践改造过并打上了人的目的和意志烙印的自然。

根据上述定义，下列哪种情况最符合人化自然？（ ）

- A. 在亚马逊河深处的原始森林
- B. 山东丘陵地带的梯田
- C. 人们在城市修筑的高楼大厦
- D. 收养了各种珍稀动物的动物园

53. 行政授权，指行政组织内部上级机关把某些权利授予下级行政机关或职能机构，以便下级能够在上级的监督下自主地行动和处理行政事务。

根据以上的定义，下列属于行政授权的一项是（ ）。

- A. 某乡镇政府将辖区内道路交给某建筑公司修理
- B. 某省人力资源与社会保障厅将本省公务员招录的工作授权给厅公务员管理处

- C. 某市长授权其秘书全权处理自己的私人信件
 - D. 某公司总经理授权公司人力资源部门调查员工考评中的舞弊行为
54. 缺

55. 相对剥夺感是指人们在与那些既和自己地位相近，又不完全等同于自己的人或群体做比较时，由价值期待和价值能力不一致的认知所产生的一种心理状态。

根据上述表述，下列属于相对剥夺感的是（ ）。

- A. 作为新人的谢某看到单位的一位老同事不断得到各项荣誉奖励，心中的羡慕之情油然而生
- B. 王某退休前是单位老总，前呼后拥的人员很多，退休后没人在其身边了，王某感觉到非常的冷清
- C. 王某看到不如自己的大学同学现如今能够在核心期刊上多次发表论文，而自己却屡试不第，不免感觉有些失落
- D. 小学生张某上学后，发现同桌用的文具、穿的衣服都和自己一样，于是非常生气

三、演绎（逻辑）推理：每题给出一段陈述，这段陈述被假设是正确的，毋庸置疑的，要求你根据这段陈述，选择一个答案。注意：正确的答案应与所给的陈述相符合，不需要任何附加说明即可从陈述中直接推出。

请开始答题：

56. 斯坦福大学的罗伯特·米兰卡和他的同事重新审视了正向群体行为。他们指出，对于形形色色的蠕虫、蜜蜂以及人类而言，尽管社会行为促进了种群生存，但也消耗了个体大量的精力和能量。因此，他们推测，社会行为必须要给予生物个体一定回报，否则还有什么原因能使得社会行为通过演化保存下来呢？

以下哪项如果为真，最能支持研究人员的观点？（ ）

- A. 研究人员在小鼠身上对这种观点进行实验研究，发现假设被证实
- B. 血清素，作为一种能提升愉悦感的化学物质，对正向社会行为给予奖励
- C. 在实验者身上正向社会互动的强化需要催产素与血清素的协调活动
- D. 有不止一个社会学家对此表示认同与支持

57. 某市市场监督管理局查获一批劣质药品，企业辩称，根据国家药典标准里所列的成分一一核查，所有的成分含量都符合国家药典的标准。

即使企业所说为真，下列哪一项最有助于该市市场监督管理局将此药品认定为劣质药品？（ ）

- A. 国家药典标准已经过时
- B. 药品中含有不应该出现的其他成分，这种成分药典标准中标注不允许出现
- C. 其他药厂的同类药品质量更好
- D. 该药厂以前生产过伪劣药品

58. 海尔集团同时推出了 TQ-1 和 WQZ-60 两款空调。两款空调以“变频、舒适、健康、智能、磁悬浮”等特色受到消费者的欢迎。两款空调销售时都带有空调使用出现一般问题的处理说明书以及使用一年后情况反馈表。TQ-1 购买者的 43%同时购买了一年的家电延保服务，WQZ-60 购买者的 70%同时购买了一年的家电延保服务。一年后，WQZ-60 空调反映出现的问题的反馈表是 TQ-1 的两倍。由此可见，WQZ-60

空调比 TQ-1 的质量差, WQZ-60 空调购买者同时购买一年的家电延保服务比 TQ-1 空调多是有一定道理的。

以下哪项如果为真, 最有助于加强上述论证? ()

- A. TQ-1 空调的广告是 WQZ-60 空调的两倍, 其良好的质量广为人知
- B. 购买 TQ-1 空调的客户数量是购买 WQZ-60 空调的两倍
- C. TQ-1 空调的使用情况反馈表比 WQZ-60 空调的情况反馈表更完善, 需要花费更多的时间
- D. 海尔集团收到的 TQ-1 投诉信数量是 WQZ-60 的两倍

59. “风险投资家要有准确预测的才能, 如果预测之事没有发生, 也必须有巧妙说明的本领。”

如果这一判断是真的, 则以下哪项不能是真的? ()

- A. 风险投资家可能作出错误的预测
- B. 风险投资家可能没有巧妙说明的本领
- C. 风险投资家如果没有巧妙说明的本领, 就必须有准确预测的才能
- D. 风险投资家可能既没有准确预测的才能, 又没有巧妙说明的本领

60. 近来, 信用卡公司遭到了用户团体的抗议, 抗议其收费偏高的不公正做法, 事实上, 信用卡公司收费的比率比银行向私人贷款的比率是高几个百分点, 但是, 用户们忽视了这样一个事实: 信用卡给使用者带来很大方便, 使用户能够在大甩卖时及时买到各种商品, 这样购物时低成本抵消了信用卡公司收取的额外费用。

上述论证以下哪项为假设? ()

- A. 削价出售货物时买东西省下来的费用至少与消费者办理及持有信用卡时所付出的额外费用持平
- B. 信用卡的申请不会被拒绝, 除非申请者有拖欠的历史或其他问题
- C. 消费者在大甩卖时购买的价格仍然很高, 使得销售者足以收回成本并且使生产者适当获利
- D. 信用卡用户平均的超值差额不大于无信用卡债务的用户总数

四、类比推理: 每道题先给出一组相关的词, 要求你在备选答案中找出一组与之在逻辑关系上最为贴近、相似或匹配的词。

请开始答题:

61. 单价: 数量: 总额

- A. 质量: 密度: 体积
- B. 动能: 速度: 时间
- C. 电流: 电压: 功率
- D. 长度: 宽度: 周长

62. 黑眼圈: 睡眠

- A. 存钱罐: 硬币
- B. 冷: 感冒
- C. 停机: 余额
- D. 运动: 减肥

63. 鸡鸣狗盗: 孟尝君

- A. 十面埋伏: 孙坚
- B. 指鹿为马: 李林甫
- C. 纸上谈兵: 赵括
- D. 口蜜腹剑: 赵奢

64. 煤气灶: 电烤箱

- A. 砧板: 水池
- B. 菜刀: 电饭煲

- C. 微波炉：电冰箱
65. 缺
66. 困难：克服：成功
A. 调节：友好：和平
C. 紧张：镇定：缓和
67. 千篇一律：别具一格：独具匠心
A. 瞻前顾后：毫不犹豫：坚决果断
B. 改头换面：憨厚老实：三五成群
C. 三心二意：粗心大意：一心一意
D. 坚持不懈：锲而不舍：坚定不移
68. 不尽长江滚滚流：辛弃疾
A. 无意插柳柳成荫：王安石
C. 燕雀安知鸿鹄之志哉：吴广
D. 餐桌：餐椅
B. 冲突：爆发：混乱
D. 吵闹：噪音：消除
B. 冲冠一怒为红颜：吴三桂
D. 有缘千里来相会：施耐庵
69. 司机 对于 () 相当于 () 对于 土地
A. 汽车 农民
C. 教练 水果
B. 驾照 大米
D. 火车 老师
70. 刑法 对于 () 相当于 () 对于 哺乳动物
A. 处罚 两栖动物
C. 修订 抚养
B. 民法 狮子
D. 法律 鲸鱼

第四部分 常识判断

(共 20 题，参考时限 15 分钟)

根据题意，从四个选项中选出最符合题意的一项。

71. 2018 年 3 月 14 日，国家主席习近平致电 ()，祝贺她第四次当选并就任德国总理。
A. 马克龙
B. 特蕾莎·梅
C. 迪吕波
D. 默克尔
72. 习近平总书记指出：对 () 的信仰，对社会主义和共产主义的信念，是共产党人的政治灵魂，是共产党人经受住任何考验的精神支柱。
A. 马克思主义
B. 毛泽东思想
C. 邓小平理论
D. “三个代表”重要思想
73. 《新闻联播》推出“重读抗战家书”系列报道，今天我们再读这些尘封的家书，依然能读到硝烟和苦难，读到思念和牵挂，更能读到以死殉国的毅然决然。重读抗战家书的最主要意义在于 ()。
A. 培育“四有”新人
B. 提高全民族的文化素质
C. 弘扬和培育中华民族精神
D. 在继承的基础上发展文化
74. 建设中国特色社会主义法治体系，是全面依法治国的 ()。
A. 总方针
B. 总目标
C. 总格局
D. 总保证

75. 党的十八届六中全会提出，（ ）是党和国家的生命线、人民的幸福线，是政治生活正常开展的根本保证。

- A. 党在社会主义初级阶段的思想路线 B. 党在社会主义初级阶段的政治路线
C. 党在社会主义初级阶段的基本路线 D. 党在社会主义初级阶段的群众路线

76. 下列哪些措施有利于我国外贸长远发展？（ ）

- ①优化贸易结构，培育以技术、服务为核心的外贸出口服务
②加大对中小微企业出口的政策支持
③保持人民币币值稳定

- A. ①② B. ①③ C. ②③ D. ①②③

77. 国内生产总值是指在一定时期内，一个国家或地区的经济中所生产出的全部最终产品和劳务的价值。以下计入当年国内生产总值的是（ ）。

- A. 购买一部旧的机床 B. 购买 3 千元基金
C. 购买一套二手房，支付中介费 50000 元 D. 农民家自己养的不卖的家禽

78. 我国人民币汇率采取以市场供求为基础的、单一的、有管理的（ ）汇率制。

- A. 浮动 B. 固定 C. 间接 D. 以上均不对

79. 下列选项中，行政相对人不能向人民法院提起诉讼的是（ ）。

- A. 某市公安局作出的行政处罚 B. 国务院作出的最终裁决行为
C. 某地行政机关违法要求履行义务 D. 行政强制措施

80. 梁某报名参加 2017 年硕士研究生考试，事先他与蔡某达成协议：蔡某替梁某参加考试，事后梁某付其一定的报酬。考试当天蔡某如约替考，但不幸被抓。对此，梁某与蔡某面临的刑罚不可能是（ ）。

- A. 判处拘役 B. 判处管制 C. 单处罚金 D. 判处有期徒刑

81. 张某在一次交通事故中不幸身亡，他所拥有的财产中不可作为遗产继承的是（ ）。

- A. 房屋 B. 存款 C. 抚恤金 D. 宠物狗

82. 根据民事诉讼法，下列适用先予执行的是（ ）。

- ①追索抚养费 ②追索赡养费
③追索赔偿的医疗费用 ④追索劳动报酬

- A. 仅③ B. ①②③ C. 仅④ D. ①②③④

83. 在我国，下列哪项不是结婚的必备条件？（ ）

- A. 双方签订婚约 B. 双方完全自愿
C. 双方三代以内不是旁系血亲 D. 男不得早于 22 周岁，女不得早于 20 周岁

84. 激励原理的核心是以人们的各种（ ）为基本内容的动力问题。

- A. 情绪 B. 性格 C. 需要 D. 爱好

85. 行政责任的核心在于如何保障（ ）对政府行政行为的有效监督和控制。

- A. 国家权力机关 B. 国家司法机关
C. 缺 D. 媒体和社会舆论监督

86. 缺

94. 从 2011 年到 2017 年，A 国核桃产量在消费量中所占比重最大的年份是（ ）。

- A. 2011 年 B. 2012 年 C. 2013 年 D. 2014 年

95. 根据材料，下列表述错误的是（ ）。

- A. 从 2013 年到 2017 年，A 国核桃产量逐年递增，但是消费量并没有逐年递增
B. 从 2011 年到 2017 年，A 国核桃出口量低于进口量
C. 从 2011 年到 2017 年，A 国核桃进口价格最低的是 2017 年
D. 从 2011 年到 2017 年，A 国核桃产量最大的是 2011 年

二、根据下列资料回答 96~100 题。

2017 年前三季度，广东省第一产业实现增加值 2643.16 亿元，同比增长 3.4%，比上年同期提高 0.3 个百分点。年初以来，全省农业气象条件总体正常，未对农作物生长造成较大损失，园林水果产量同比增长 5.1%；羊肉、禽蛋产量分别同比增长 2.1%和 4.9%；海洋捕捞产量受海洋渔船“双控”制度影响下降 4.2%。

前三季度，全省第二产业完成增加值 27621.04 亿元，同比增长 6.6%，增幅比上年同期提高 0.4 个百分点。规模以上工业实现增加值 25136.45 亿元，同比增长 7.2%，增幅比上年同期提高 0.5 个百分点。其中：民营工业增长 11.3%。工业行业增长面扩大，纳入统计的 41 个工业行业中，有 33 个行业同比增速回升，比上半年多 2 个行业。电子（增长 13.4%）、电器（增长 9.9%）和汽车（增长 11.6%）三大支柱产业对规模以上工业增加值增长的贡献率达 63.3%，比上年同期提高 8.4 个百分点，拉动规模以上工业增加值增长 4.5 个百分点。高技术制造业和先进制造业（新口径）增加值分别增长 14.1%和 10.3%，拉动全省规模以上工业增长 3.7 个和 5.2 个百分点。

前三季度，全省第三产业增加值 34551.18 亿元，增长 8.8%，增幅比上年同期提高 0.2 个百分点。从具体的行业看：交通运输业增长 10.6%，增幅比上年同期提高 3.1 个百分点；其他服务业增加值增长 12.7%，增幅比上年同期提高 3.0 个百分点。

从工业行业结构看，先进制造业（新口径）和高技术制造业增加值占规模以上工业增加值比重为 52.5%和 27.6%，分别比上年同期提高 1.1 个和 0.3 个百分点。从固定资产投资结构看，基础设施投资占固定资产投资比重为 23.5%，比上年同期提高 2.4 个百分点。从进出口结构看，一般贸易出口占出口比重为 44.9%，高于加工贸易 7.3 个百分点。

96. 2016 年前三季度，广东省第一产业实现增加值为（ ）亿元。

- A. 2556.25 B. 2736.19 C. 2553.29 D. 2731.03

97. 2017 年前三季度，广东省下列产量同比下降的是（ ）。

- A. 园林水果产量 B. 羊肉产量 C. 禽蛋产量 D. 海洋捕捞产量

98. 2017 年上半年，广东省纳入统计的 41 个工业行业中，有（ ）个行业同比增速没有回升。

- A. 7 B. 8 C. 9 D. 10

99. 2017 年前三季度，广东省第一、二、三产业增加值比值为（ ）。

- A. 4.5:43.1:52.4 B. 4.2:44.3:51.5
C. 4.1:42.6:53.3 D. 4.8:45.9:49.3

100. 从三次产业结构看，广东省 2017 年前三季度，第一、二、三产业这三类产业中，其增加值同比增长超过 5%的有（ ）。

A. 0 个

B. 1 个

C. 2 个

D. 3 个

2018年5月27日浙江省磐安县事业单位考试笔试试卷

《行测》参考答案及解析

1. 【答案】A。解析：原数列各项个位上数字除以十位上数字得到：1、2、3、4、（5）、6。观察选项，只有A项符合。故本题选A。

2. 【答案】D。解析：原数列两两相加得到：1、4、9、（16）、（25），分别为1、2、3、（4）、（5）的平方数。因此原数列未知项为 $16-5=11$ ，验证后项， $11+14=25$ ，符合。故本题选D。

3. 【答案】B。解析：原数列后项减前项得到：5、8、14、23，继续后项减前项得到：3、6、9、（12），是公差为3的等差数列。因此原数列未知项为 $12+23+50=85$ 。故本题选B。

4. 【答案】C。解析：原数列满足如下规律： $a_{n+2}=a_n^2-a_{n+1}$ （ $n \geq 1$ ），即 $5=3^2-4$ ， $11=4^2-5$ ， $14=5^2-11$ ， $107=11^2-14$ 。因此原数列未知项为 $14^2-107=89$ 。故本题选C。

5. 【答案】A。解析：原数列满足如下规律： $a_{n+1}=a_n \div 7-1$ （ $n \geq 1$ ），即 $399=2800 \div 7-1$ ， $56=399 \div 7-1$ ， $7=56 \div 7-1$ 。因此原数列未知项为 $7 \div 7-1=0$ 。故本题选A。

6. 【答案】D。解析：原数列后项减前项得到：1、2、3、5、（8）、（13），为和数列。因此原数列未知项为 $27+8=35$ ，验证后项 $35+13=48$ ，符合。故本题选D。

7. 【答案】B。解析：原数列后项减前项得到：0、6、18、36、60，继续后项减前项得到：6、12、18、24、（30），是公差为6的等差数列。因此原数列未知项为 $30+60+120=210$ 。故本题选B。

8. 【答案】D。解析：原数列十位上的数字分别为6、5、4、3、（2），个位上的数字分别为4、5、6、7、（8）。因此原数列未知项为28。故本题选D。

9. 【答案】D。解析：原数列写成如下形式： $4\frac{1}{2}$ 、 $9\frac{1}{3}$ 、（）、 $25\frac{1}{5}$ 、 $36\frac{1}{6}$ ，整数部分4、9、（16）、25、36分别为2、3、（4）、5、6的平方数，分数部分分别为 $\frac{1}{2}$ 、 $\frac{1}{3}$ 、（ $\frac{1}{4}$ ）、 $\frac{1}{5}$ 、 $\frac{1}{6}$ 。因此原数列未知项为 $16\frac{1}{4}=16.25$ 。故本题选D。

10. 【答案】A。解析：将原数列反约分得到： $\frac{0}{1}$ 、 $\frac{3}{3}$ 、 $\frac{6}{5}$ 、 $\frac{9}{7}$ 、 $\frac{12}{9}$ ，分子列：0、3、6、9、12、（15），是公差为3的等差数列；分母列：1、3、5、7、9、（11），是公差为2的等差数列。因此原数列未知项为 $\frac{15}{11}$ 。故本题选A。

11. 【答案】D。解析：根据题意可知，去年产量为 $30 \times (1+20\%)=36$ 万千克，今年产量为 $36 \times (1-20\%)=28.8$ 万千克。故本题选D。

12. 【答案】D。解析：根据题意可知，不参加集体毕业旅行的人实际有 $7+3+8-2=16$ 人，因此实际参加集体毕业旅行的有 $38-16=22$ 人。故本题选D。

13. 【答案】B。解析：牛吃草问题。根据题意可知，松树每周的生产量为 $(20 \times 12 - 25 \times 8) \div (12 - 8)=10$ ，则原有松子量为 $(25 - 10) \times 8 = 120$ 。因此，要使松鼠吃6周，则最多可容纳 $(120 + 6 \times 10) \div 6 = 30$ 只。故本题选B。

14. 【答案】A。解析：设该校男生有 x 人，则女生有 $(x-26)$ 人。根据题意有 $(2x-26) \times 0.6 - 63 = x$ ，解得 $x=393$ ，即全校共有男生393人，女生367人。六年级男生与女生人数之比为35:31，男生比女生多8人，则六年级有女生 $31 \times \frac{8}{35-31}=62$ 人。因此其他年级中女生有 $367-62=305$ 人。故本题选A。

15. 【答案】A。解析：从启动到速度达到 180m/s，经过了 $180 \div 5 = 36\text{s}$ ，则加速阶段行驶了 $\frac{0+180}{2} \times 36 = 3240$ 米。当速度减为 0，经过了 $180 \div 12 = 15\text{s}$ ，则减速阶段行驶了 $\frac{180+0}{2} \times 15 = 1350$ 米。因此，

该列车在这期间共行驶了 $3240+1350=4590$ 米。故本题选 A。

16. 【答案】B。解析：文段讲研究成果源于实践，横线处的词语用于形容“研究成果”，且与“浮夸”意思相近。“轻飘”“冒险”显然不能用于形容研究成果；“浮躁”指急躁、不沉稳，用于形容人；“花哨”形容过于华丽，符合语义。故本题选 B。

17. 【答案】B。解析：横线处需要填入谓语，“担忧”和“忧愁”为名词，语法不通，排除 A、D 项。“担心”的主体为人，而句子的主体是古长城，排除 B 项。“堪忧”意为令人担忧，符合文意。故本题选 B。

18. 【答案】C。解析：文段形容表演得逼真，“绘声绘色”形容叙述描写得生动，“惟妙惟肖”形容描写或模仿得非常逼真；“栩栩如生”形容画作、雕塑等艺术形象生动逼真，对象错误，排除 A、B、D 项。“有声有色”形容说话、表演等生动形象，符合文意。故本题选 C。

19. 【答案】C。解析：文段讲面对巨大的经济损失，人们不能坐视不理，A 项明显错误。“恬不为怪”指毫不觉得奇怪；“不动声色”形容非常镇定，不符合文意，排除 B、D 项。“无动于衷”形容对应该关心、注意的事毫不关心、置之不理，符合文意。故本题选 C。

20. 【答案】A。解析：先看第一空，文段讲人的心理与政治、社会、经济、文化等紧密联系，即有着密切的关系，“糅合”与“掺和”都指完全混合在一起，排除 B、C 项。再看第二空，文段讲脱离了政治、社会等领域去看人的心理，就会失真，“抽象”可以形容笼统、不具体，符合语义。故本题选 A。

21. 【解析】B。解析：先看第二空，文段要形容人很高兴，“赏心悦目”用于形容景色，“神魂颠倒”形容精神恍惚，均不符合文意，排除 A、C 项。再看第一空，“难以”后需连接动词，“美满”为形容词，排除 D 项；“尽兴”指感到满足，符合语义。故本题选 B。

22. 【答案】A。解析：先看第一空，“拓宽”和“宽度”语义重复，排除 D 项。再看第二空，“要想”后连接的部分应为一个目标，“百舸争流”形容许多大船争着在江面上行驶的场面，“知难而上”形容勇往直前的精神品质，均不能作为目标，排除 B、C 项。“激流勇进”形容在激流之中奋勇前进，符合语义。故本题选 A。

23. 【答案】C。解析：先看第二空，文段讲冰岛是个火山活动剧烈频繁的国家，“横行”无法形容火山活动，“遍地”只能形容火山的数量多，排除 A、D 项。再看第一空，文段讲通过无人机镜头捕捉自然风光，“难以捉摸”与前文的“深不见底”、后文的“捕捉”形成呼应，体现了无人机技术能够拍摄到常规方法难以拍摄的风光。故本题选 C。

24. 【答案】B。解析：先看第一空，文段讲中国的任何成就都会被拿来和美国对比，“无可奈何”明显错误，排除 D 项。再看第二空，文段讲中美在互联网时代的竞逐极其引人注目。“夺人眼球”常指故意通过一些手段来引起关注，不符合文意；“备受瞩目”与“尤为”语义重复，排除 A、C 项。故本题选 B。

25. 【答案】C。解析：先看第一空，文段讲用事实来弄清真相，清除炒作，只有“澄清”符合语义，“讲清”和“划清”明显错误，“肃清”指完全清除，与“一些”相矛盾，锁定 C 项。验证后两空，均符合语义。故本题选 C。

26. 【答案】D。解析：通读文段，三个空用“是”“也是”“更是”连接，可知三个空中的成分在含义上相近，在程度上递进。观察选项，B 项中三个词含义完全不同，C 项中“智慧”与其他两个词不在同一维度，排除 B、C 项。比较 A、D 项，第三空所填词程度应最深，“人格”为中性词，是每一个人都有属性；“品格”为褒义词，是一种优秀的品质，因此“品格”更加恰当。故本题选 D。

27. 【答案】B。解析：先看前两空，通过量词搭配，易排除 A、D 项。再看后两空，“然后”一词可表示递进，应按从小到大的顺序排列，验证语义，“一襟清风”“一身芬芳”搭配恰当。故本题选 B。

28. 【答案】A。解析：“遏制”指阻止，迫使停止；“压制”指竭力限制或制止；“控制”指掌握住不使任意活动或超出范围，“牵制”指拖住对方使其不能自由活动。①讲过高的成本预期使人们的生育意愿降低。②讲对于不同意见不能进行镇压。③讲掌握自己的情感。④讲精力会受到分散。观察选项，易选“遏制”“压制”“控制”“牵制”。故本题选A。

29. 【答案】B。解析：由后文“用知识使人致富”“功利性的投入”可知，这句古语将知识作为获得经济利益的渠道，显然，只有B项最恰当。故本题选B。

30. 【答案】C。解析：文段讲人的嗅觉、味觉、性欲、直觉，包括喜悦、厌烦、痛苦等心理感知都是无法度量的，因此人工智能的基础是可以度量、可以描述、可以传递的数据，C项正确。A项“本质区别”文段没有重点论述；B项“人的智能”与“人工智能”的比较文段没有体现；D项说法有误，训练人工智能得满足“可以度量、可以描述、可以传递”这几个条件，不仅仅是“可度量数据和无法度量的部分”。故本题选C。

31. 【答案】D。解析：文段是总一分结构，开头提出“其实每个人下苦功都可以成为有限的天才”的观点，后文通过中国古代科考者和乾隆皇帝能背诵四书五经，以及身陷囹圄的朋友能背诵《资本论》的例子加以论证。显然，文段主要讲“天才”是可以训练出来的。A项“都是”说法过于绝对，B、C项均是文段的例证。故本题选D。

32. 缺

33. 【答案】C。解析：文段讲现代社会大家重视外貌，化妆品大行其道和健美操广为流行的情况下，提倡以“积德与读书”来美容应该会引来讪笑。后文则通过老子的话道出自己的看法：世人的讪笑也许正好证明了我们提议的办法是对的。换言之，作者认为“积德与读书”，以心为本，才能超越有形的美丑，契合于完美的“人”之相。A项“会被人讪笑”是作者的揣测，但不是重点；B项“不合时宜”说法过于武断；D项与文段意思相悖。故本题选C。

34. 【答案】D。解析：由“每年都向社会大批量地输送着不会阅读也不爱阅读的‘准文盲’”可知，“准文盲”是指不会阅读也不爱阅读的学生。故本题选D。

35. 【答案】B。解析：文段讲经历或者亲眼目睹像山体高位垮塌这样的“灭顶之灾”的人，所表现出来的沮丧、悲伤、惊恐、焦虑等负面情绪都是正常反应，心理援助志愿者不要试图设置时间指标尽快帮他们走出心理阴影，应尊重和配合他们自然的康复过程。显然，文段意在说明受创伤灾民的身心康复是一个循序渐进的自然过程。A项“作用有限”表述有误，C项不是文段论述重点，D项文段无从体现。故本题选B。

36. 【答案】C。解析：文段主要讲“起跑线上的恐慌”其实是一个时代、一个社会的教育谎言，而不仅仅是一个家庭的焦虑，其背后有着深厚的现实因素和价值追求背景，因此应该从单一个体抽离出来，放到社会大环境中去审视。显然，文段主要讲家庭教育问题其实是一个复杂的社会问题。A项未提到社会因素，B项未提到“起跑线上的恐慌”问题的复杂性，D项“因材施教”文段没有论述。故本题选C。

37. 【答案】B。解析：文段主要介绍天文学家南仁东生前作为FAST工程的发起者和奠基人，为实现中国拥有世界一流水平望远镜梦想作出重要贡献。可见文段主要介绍了南仁东的伟大事迹，B项正确。A项“生前工作”无法体现南仁东作出的巨大贡献，C项无法体现生平事迹，D项没有体现“南仁东”的论述对象。故本题选B。

38. 【答案】D。解析：由“香港是一个典型的法治社会，每一个人都应当用和平守法的方式来表达自己的诉求”可知，在香港这样一个典型的法治社会里，任何人都应当用和平守法的方式表达自己的诉求，A、B项理解有误，C项“政府保护公民的合法权利”文段没有提及。故本题选D。

39. 【答案】B。解析：文段讲大脑如果不用会坏掉，左脑和右脑用的节奏不对会加速坏掉。“但”后面的内容是作者的观点，即作者认为生活中一些性价比不高的平庸素材其实是对身体的一种训练。显然，B项是文段的观点。A项“分别支配身体不同器官”和C项“对右脑潜力的开发”文段均没有论述，D项不是文段论述的重点。故本题选B。

40. 【答案】A。解析：由“大气低层拦截已经初具规模，由引进的S-300PMU2和国产的红旗-9改进

型远程防空导弹组成”可知，红旗-9改进型反导拦截系统属于大气低层拦截。故本题选A。

41. 缺

42. 【答案】C。解析：由“那是太深切的感伤，是我所不能体会的，只能发呆”可知，作者读《诗经·采薇》时发呆是因为这首诗感伤太深，他不能体会。故本题选C。

43. 【答案】D。解析：A项正确，由“少年强，则会推动国家不断向更高的层次迈进”可知少年在祖国的发展中起重要作用。B项正确，由“国强，少年便有更多的人生机会”可知国家的强大可为少年提供更好的发展平台。C项正确，由文段最后一句内容可得知。D项错误，文段仅论述“国强”与“少年强”是相辅相成的关系，二者是否存在必然联系，文段没有论述。故本题选D。

44. 【答案】A。解析：文段讲人们掌握科学知识要以一定的素质为前提，而科学知识的掌握对人们而言，又是珍贵的精神食粮，会促进素质的提高和发展。显然，人所具有的一定素质是与其掌握的科学知识相互影响的，A项最恰当。其他三项概括均不全面。故本题选A。

45. 【答案】C。解析：A项错误，“传授可能性较小”文段无从体现。B项错误，由“关键是将儒家文化转化为能被农民理解并且接受的生活习惯”可知，“只需将儒家文化转化为能被农民理解的生活习惯即可”表述有误。C项正确，由“围绕乡村建设的底线目标，儒学的作用在于重塑具有道德规范的乡村公共生活”可知。D项错误，“是一件无奈的事情”文段无从体现。故本题选C。

46. 【答案】B。解析：题干各图形均只含有一个“t”，各选项图形中“t”的数量依次为0、1、0、2，只有B项符合。故本题选B。

47. 【答案】B。解析：题干第一组图形均为轴对称图形，且对称轴方向依次为竖、横、竖。第二组图形也遵循此规律，则问号处应为轴对称图形，且对称轴方向为竖。观察选项，只有B项符合。故本题选B。

48. 【答案】C。解析：题干图形均由内外两部分构成，观察选项，只有C项符合。故本题选C。

49. 缺

50. 【答案】B。解析：根据正方体Z字两端是相对面可得，笑脸相对的图形应为B。故本题选B。

51. 【答案】D。解析：“网购后悔权”的定义要点是“订做的、鲜活易腐、数字化商品、交付的报纸期刊除外的商品”。A项“计算机安装软件”属于数字化商品，不符合定义要点，排除；B项“刻有自己名字的水晶礼品”属于订做的，不符合定义要点，排除；C项“热带鱼”属于鲜活的，不符合定义要点，排除；D项符合定义要点，能够实施网购后悔权。故本题选D。

52. 【答案】B。解析：“人化自然”的定义要点：①被人的实践改造过；②打上人的目的和意志烙印的自然。A项“原始森林”未被人改造过，不符合①，排除；B项“梯田”是被人的实践改造过的自然环境，符合定义要点，属于人化自然；C项“高楼大厦”和D项“动物园”均不属于自然，不符合②，均排除。故本题选B。

53. 【答案】B。解析：“行政授权”的定义要点：①行政组织内部；②上级机关把某些权力授予下级行政机关或职能机构；③自主处理行政事务。A项“建筑公司”不属于下级行政机关或职能机构，不符合②，排除；B项“授权给厅公务员管理处”属于行政组织内部上级机关授予下级机关的行政事务，符合定义要点，属于行政授权；C项“处理私人信件”不属于处理行政事务，不符合③，排除；D项“某公司”不属于行政组织，不符合①，排除。故本题选B。

54. 缺

55. 【答案】C。解析：“相对剥夺感”的定义要点：①地位相近又不完全等同；②将自己与他人作比较；③价值期待和价值能力不一致。A项新人和老同事的地位并不相近，不符合①，排除；B项未体现出与他人作比较，不符合②，排除；C项“王某”与“大学同学”地位相近，符合①，“自己屡试不第，不免感觉有些失落”即通过与他人比较，因价值期待和价值能力不一致而产生的心理状态，符合②③，属于相对剥夺感；D项“发现用的文具、穿的衣服和自己一样”不是出自价值期待和价值能力的不一致产生的心理状态，不符合③，排除。故本题选C。

56. 【答案】A。解析：题干论点：社会行为必须要给予生物个体一定回报。论据：社会行为消耗了

个体大量的精力和能量。A项“通过在小鼠身上进行实验研究”即以实验的方式论证论点，能够支持题干论点；B项“血清素”不是社会行为给予生物个体的回报，不能加强题干论点，排除；C项“正向社会互动的强化”与社会行为给予生物个体的回报无关，属于无关项，排除；D项“不止一个社会学家表示认同和支持”与社会行为必须要给予生物个体一定回报无关，不能支持论证，排除。故本题选A。

57.【答案】B。解析：题干论点：药品合格。论据：根据国家药典标准里所列的成分，所有成分含量都符合国家药典标准。A项“药典标准过时”无法说明该药品不符合目前的药典标准，不能帮助认定该药品为劣质药品，排除；B项“该成分药典标准中不允许出现”即该药品不符合药典标准，属于劣质药品，最能帮助认定；C、D项属于无关项，排除。故本题选B。

58.【答案】B。解析：题干论点：WQZ-60空调比TQ-1空调的质量差。论据：WQZ-60空调反映出现的问题的反馈表是TQ-1的两倍。A项属于无关项，排除；B项“购买TQ-1空调的客户数量是购买WQZ-60空调的两倍”但WQZ-60空调反映出现的问题的反馈表是TQ-1的两倍，说明WQZ-60空调出现问题的比例比TQ-1空调要多，能够支持题干论点；C项“花费更多的时间”说明TQ-1空调反馈表少可能是因为其反馈表填写花费时间过长，削弱题干论点，排除；D项指出TQ-1空调投诉信是WQZ-60的两倍，即TQ-1空调的质量比WQZ-60空调差，削弱题干论点，排除。故本题选B。

59.【答案】D。解析：题干信息翻译为：风险投资家→准确预测的才能∨巧妙说明的本领，一准确预测→巧妙说明的本领，因此D项必然为假。肯定后件可以推出肯定前件，即准确预测的才能→风险投资家，巧妙说明的本领→一准确预测，巧妙说明的本领→风险投资家。所以风险投资家可以做出错误的预测，只要他有巧妙说明的本领，风险投资家若没有巧妙说明的本领则必须有准确预测的才能，A、B、C项正确，D项错误。故本题选D。

60.【答案】A。解析：题干论点：购物时低成本抵消了信用卡公司收取的额外费用。论据：信用卡使用户能够在大甩卖时及时买到各种商品。假设A项不成立，则使用信用卡的消费者付出了额外的费用，论点不成立，因此题干论证以A项为假设；B项“信用卡申请不会被拒绝”与信用卡收费高低无关，排除；C项“大甩卖时购买的价格仍然很高”即购物时不存在低成本抵消信用卡公司收入的额外费用，削弱论证，排除；D项与B项同理，排除。故本题选A。

61.【答案】C。解析：单价乘以数量等于总额，C项电流乘以电压等于功率。A项质量除以密度等于体积，排除。B项动能的大小等于物体质量与速度平方的乘积的二分之一（ $mv^2/2$ ），排除。D项周长不等于长度乘以宽度，排除。故本题选C。

62.【答案】C。解析：睡眠不足会产生黑眼圈，C项余额不足会停机。A项硬币放在存钱罐里面，排除；B项冷可能会导致感冒，与题干逻辑关系不符，排除；D项减肥需要运动，排除。故本题选C。

63.【答案】C。解析：鸡鸣狗盗的故事与孟尝君有关，C项纸上谈兵的故事与赵括有关。A项十面埋伏出自楚汉相争的垓下之战，排除；B项指鹿为马的故事与赵高有关，排除；D项口蜜腹剑的故事与李林甫有关，排除。故本题选C。

64.【答案】B。解析：煤气灶和电烤箱都用于烹饪，且一个不是电器一个是电器，B项菜刀和电饭煲都用于烹饪，且一个不是电器一个是电器。A项两者均不是电器，排除；C项两者均是电器，排除；D项两者均不是电器，排除。故本题选B。

65. 缺

66.【答案】C。解析：困难需要克服，然后才能成功，C项情绪紧张需要镇定，然后情绪才能缓和。A项通过调节得到友好与和平，排除；B项冲突爆发之后引起混乱，排除；D项吵闹造成噪音，需要消除，排除。故本题选C。

67.【答案】A。解析：“千篇一律”和“别具一格”为反义关系，“别具一格”和“独具匠心”为近义关系，A项“瞻前顾后”和“毫不犹豫”为反义关系，“毫不犹豫”和“坚决果断”为近义关系。B项三个词语之间没有明显联系，排除；C项“三心二意”和“粗心大意”不存在反义关系，排除；D项三个词语均为近义关系，排除。故本题选A。

68.【答案】D。解析：“不尽长江滚滚流”出自辛弃疾的作品，“有缘千里来相会”出自施耐庵作

品。A项“无意插柳柳成荫”出自周希陶作品，排除；B项“冲冠一怒为红颜”出自吴伟业作品，排除；C项“燕雀安知鸿鹄之志哉”出自司马迁作品，排除。故本题选D。

69.【答案】A。解析：选项逐一代入。A项司机在汽车上驾驶，农民在土地上耕种，前后关系一致；B项司机开车需要驾照，大米在土地上生长，前后关系不一致，排除；C项司机学开车需要交流，水果在土地上生长，前后关系不一致，排除；D项司机驾驶火车，老师和土地无明显关系。故本题选A。

70.【答案】D。解析：选项逐一代入。A项根据刑法进行处罚，两栖动物和哺乳动物为并列关系，前后关系不一致，排除；B项刑法和民法为并列关系，狮子是哺乳动物，前后关系不一致，排除；C项修订刑法，抚养和哺乳动物没有明显联系，排除；D项刑法是法律的一种，鲸鱼是哺乳动物的一种，前后关系一致。故本题选D。

71.【答案】D。解析：国家主席习近平2018年3月14日致电安格拉·默克尔，祝贺她第四次当选并就任德国总理。故本题选D。

72.【答案】A。解析：坚定理想信念，坚定共产党人精神追求，始终是共产党人安身立命的根本。对马克思主义的信仰，对社会主义和共产主义的信念，是共产党人的政治灵魂，是共产党人经受住任何考验的精神支柱。故本题选A。

73.【答案】C。解析：英雄家书中所承载的民族精神，体现了中华民族的整体风貌和精神特征，体现了中华民族的共同价值追求。重读英雄家书有利于弘扬和培育民族精神，有利于提高全民族综合素质，有利于增强我国国际竞争力，有利于坚持社会主义道路。故本题选C。

74.【答案】B。解析：党的十八届四中全会指出，全面推进依法治国，总目标是建设中国特色社会主义法治体系，建设社会主义法治国家。故本题选B。

75.【答案】C。解析：《关于新形势下党内政治生活的若干准则》指出，党在社会主义初级阶段的基本路线是党和国家的生命线、人民的幸福线，也是党内政治生活正常开展的根本保证。必须全面贯彻执行党的基本路线，把以经济建设为中心同坚持四项基本原则、坚持改革开放这两个基本点统一于中国特色社会主义伟大实践，任何时候都不能有丝毫偏离和动摇。故本题选C。

76.【答案】D。解析：推动我国外贸发展的措施主要有：优化贸易结构，培育以技术、服务为核心的外贸出口服务；政府加大对中小微企业出口的政策支持；保持人民币币值稳定；进一步优化外贸发展的内外部环境，加大贸易摩擦应对力度，提高贸易便利化水平等。故本题选D。

77.【答案】C。解析：国内生产总值是指一个国家（或地区）所有常住单位在一定时期内生产的全部最终产品和服务价值的总和。GDP必须按当期最终产品计算，中间产品不能计入，否则会造成重复计算。C项中介费是当年新提供的服务，计入当年GDP。故本题选C。

78.【答案】A。解析：自1994年起，我国人民币实行以市场供求为基础的、单一的、有管理的浮动汇率制度，由中国人民银行根据银行间外汇市场形成的价格，每日公布人民币对主要外币的汇率。故本题选A。

79.【答案】B。解析：《行政诉讼法》第13条规定，人民法院不受理公民、法人或者其他组织对下列事项提起的诉讼：（一）国防、外交等国家行为；（二）行政法规、规章或者行政机关制定、发布的具有普遍约束力的决定、命令；（三）行政机关对行政机关工作人员的奖惩、任免等决定；（四）法律规定由行政机关最终裁决的行政行为。故本题选B。

80.【答案】D。解析：《刑法》第284条第四款规定，代替他人或者让他人代替自己参加第一款规定的考试的，处拘役或者管制，并处或者单处罚金。故本题选D。

81.【答案】C。解析：《继承法》第3条规定，遗产是公民死亡时遗留的个人合法财产，包括：（一）公民的收入；（二）公民的房屋、储蓄和生活用品；（三）公民的林木、牲畜和家禽；（四）公民的文物、图书资料；（五）法律允许公民所有的生产资料；（六）公民的著作权、专利权中的财产权利；（七）公民的其他合法财产。C项抚恤金不能作为遗产继承。故本题选C。

82.【答案】D。解析：《民事诉讼法》第106条规定，人民法院对下列案件，根据当事人的申请，可以裁定先予执行：（一）追索赡养费、扶养费、抚育费、抚恤金、医疗费用的；（二）追索劳动报酬

的；（三）因情况紧急需要先予执行的。故本题选 D。

83. 【答案】A。解析：根据《婚姻法》的规定，结婚必须男女双方完全自愿，不许任何一方对他方加以强迫或任何第三者加以干涉。结婚年龄，男不得早于二十二周岁，女不得早于二十周岁。晚婚晚育应予鼓励。有下列情形之一的，禁止结婚：（一）直系血亲和三代以内的旁系血亲；（二）患有医学上认为不应当结婚的疾病。A 项不是结婚的必备条件。故本题选 A。

84. 【答案】C。解析：激励原理的核心是以人们各种需要为基本内容的动力问题。动力的正确运用和需要满足度的提高，能产生巨大的激励力，根据人们需要的不同层次和内容，激励的动力分为三种基本类型：物质动力、精神动力、信息动力。故本题选 C。

85. 【答案】A。解析：行政责任是指犯有一般违法行为的单位或个人，依照法律法规的规定应承担的法律责任。行政责任的核心在于如何保障国家权力主体对政府行政行为的有效监督和控制。故本题选 A。

86. 缺

87. 【答案】B。解析：法定的与职位相当的行政权力，就是行政领导者的职权。行政领导者的职权，是其行使指挥与统御过程的支配性影响的实质条件。职权是由职位衍生出来的，职位的性质决定职权的性质。故本题选 B。

88. 【答案】A。解析：决定与决议的区别：（1）形成过程不同。决定可产生于法定的会议，是会议集体讨论并按照法定程序表决的结果，也可由领导机关研究后直接作出。而决议必须经法定的会议讨论，并按法定多数票通过才能形成。（2）内容和写法不同。决定的内容往往是某一方面的重要工作，相对具体，写法上侧重对工作作出较具体的指导和安排。而决议的内容多为全局性、原则性的重大问题或重大事项，写法上常有较多的评论和论证成分，以阐明指导思想、方针、政策等问题。（3）目的不同。决定与决议都要求认真贯彻执行，但决定的指令性和约束力更强。A 项说法正确，B、C、D 三项均错误。故本题选 A。

89. 【答案】B。解析：在 windows 操作系统中，可用 Alt+Tab、Win+Tab 键来切换窗口。故本题选 B。

90. 【答案】D。解析：中国古代将夏至分为三候：一候鹿角解；二候蝉始鸣；三候半夏生。故本题选 D。

91. 【答案】C。解析：根据表格第三行可知，2011~2017 年，A 国核桃的平均进口量为 $\frac{2.67+2.65+2.51+2.83+3.51+3.2+4.17}{7} = \frac{21.54}{7} \approx 3.1$ 万吨/年。故本题选 C。

92. 【答案】D。解析：根据表格可知，2015 年 A 国核桃出口金额为 591 万美元，2014 年出口金额为 342 万美元，则 2015 年的增长率为 $\frac{591-342}{342} \times 100\% = \frac{249}{342} \times 100\%$ ，直除首位为 7，只有 D 项符合。故本题选 D。

93. 【答案】C。解析：同比增长率小于 0，即负增长。根据表格最后一行可知，2012~2017 年，A 国核桃消费量同比增长率小于 0 的年份有 2012、2013、2016 年共 3 年。故本题选 C。

94. 【答案】A。解析：根据表格第二行和最后一行可知，2011 年的占比为 $\frac{1.4}{4} \times 100\%$ ，2012 年占比为 $\frac{1.05}{3.61} \times 100\%$ ，2013 年占比为 $\frac{1.18}{3.59} \times 100\%$ ，2014 年为 $\frac{1.22}{3.98} \times 100\%$ 。根据“分子分母反向变化比较”可先排除 2012 年。 $\frac{1.4}{4}$ 与 $\frac{1.22}{3.98}$ 比较，分母只相差 0.02，分子相差 0.18，因此前者大于后者，排除 2014 年。 $\frac{1.4}{4}$ 与 $\frac{1.18}{3.59}$ 比较，差分数为 $\frac{0.22}{0.41} \approx 0.5 > \frac{1.18}{3.59} \approx 0.3$ ，因此 $\frac{1.4}{4} > \frac{1.18}{3.59}$ ，即 2011 年的占比最大。故本题选 A。

95. 【答案】C。解析：A项正确，产量逐年递增，消费量在2016年出现下降。B项正确，根据表格第三和第五行数据可知。C项错误，进口价格为进口金额 \div 进口量，根据第三和第四行数据可知，2011年的价格为 $9044 \div 2.67 \approx 3387$ 美元/吨，2017年的价格为 $14307 \div 4.17 \approx 3431$ 美元/吨，因此最低的不是2017年。D项正确，根据表格第二行数据可知。故本题选C。

96. 【答案】A。解析：根据材料第一段“2017年前三季度，广东省第一产业实现增加值2643.16亿元，同比增长3.4%”，可知2016年前三季度广东省第一产业实现增加值为 $2643.16 \div (1+3.4\%) \approx 2556.25$ 亿元。故本题选A。

97. 【答案】D。解析：根据材料第一段“园林水果产量同比增长5.1%；羊肉、禽蛋产量分别同比增长2.1%和4.9%；海洋捕捞产量受海洋渔船“双控”制度影响下降4.2%”，可知，同比下降的是海洋捕捞产量。故本题选D。

98. 【答案】D。解析：根据材料第二段“纳入统计的41个工业行业中，有33个行业同比增速回升，比上半年多2个”可知，同比增速没有回升的有 $41 - (33 - 2) = 10$ 个行业。故本题选D。

99. 【答案】C。解析：根据材料可知，2017年前三季度广东省第一、二、三次产业增加值分别为2643.16亿元、27621.04亿元、34551.18亿元。由此可知，第一产业不足第二产业的10%，排除A、D项。 $34551.18 \div 27621.04 \approx 1.25$ ，B项 $51.5 \div 44.3 \approx 1.16$ ，不符合，C项 $53.3 \div 42.6 \approx 1.25$ ，符合。故本题选C。

100. 【答案】C。解析：根据材料可知，第一产业增加值同比增长3.4%，第二产业同比增长6.6%，第三产业同比增长8.8%。因此超过5%的有2个。故本题选C。