

★★★启封前绝密★★★

丽水事业单位真题汇编版

《职业能力倾向测验》

2019年12月1日莲都事业单位笔试《职业能力倾向测验》真题

2019年12月14日龙泉事业单位笔试《职业能力倾向测验》真题

2019年11月9日浙江省下半年统考《职业能力倾向测验》真题

2019年10月19日青田事业单位笔试《职业能力倾向测验》真题

2019年7月27日景宁事业单位笔试《职业能力倾向测验》真题

《综合应用能力》

2019年12月1日莲都事业单位笔试《综合应用能力》真题

2019年12月14日龙泉事业单位笔试《综合应用能力》真题

2019年11月9日浙江省下半年统考《综合应用能力》真题

2019年7月27日景宁事业单位笔试《申论》真题

展鸿2021年丽水事业单位笔试培训

班次	课程特色	授课时间	费用
【翰林特训班】	市区统一上课 贴合考情，夯实基础 王牌师资，阶段提升 客观题提分，主观题打磨	3月15日-4月23日 40天39晚 包住宿	18800元 不住宿费用另减 老学员优惠1800
【翰林协议班】	高屋建瓴，登峰造极 赠送网课	3月15日-4月23日 40天39晚笔试+面试班 包住宿	29800元 笔试未通过退15000 进面未录取退全退
【高端特训班】	市区统一上课 贴合考情，夯实基础 名师坐镇，模块覆盖	4月4-4月23日 20天19晚 包住宿	9800元 不住宿费用另减 老学员优惠1800
【高端协议班】	模考演练，查漏补缺， 重难点透析，出类拔萃 赠送网课	4月4-4月23日+面试班 20天19晚 包住宿	23800元 笔试未通过退15000 进面未录取全退
【高复特训班】	区县当地上课 贴合考情，夯实基础 名师坐镇，模块覆盖	4月9-4月23日+面试班 15天14晚 包住宿	7800元 不住宿优惠1000 老学员优惠800
【高复协议班】	模考演练，查漏补缺， 重难点透析，出类拔萃 赠送网课	4月9-4月23日+面试班 15天14晚 包住宿	21800元 笔试未通过退15000 进面未录取全退
【名师题海特训班】	区县当地上课 题库研磨，模考刷题 错题专讲，督学服务 专项预测，考前冲刺	4月16-4月23日 8天7晚 包住宿	4280元 在最高优惠400 不住宿最高优惠800
【名师题海协议班】	模考演练，所向披靡 赠送网课	4月16-4月23日 8天7晚笔试+面试班 包住宿	18800元 笔试未通过退15000 进面未录取退全退
【周末特训班】	区县当地上课 名师授课，贴合考情 模考刷题，实战训练	4月3日-5日 4月10日-11日 4月17-18日 (7天)	2000元 进面后笔试所有费用 全额抵扣面试班费用 (相当于笔试0元学)
【周末协议班】	考前冲刺，一举夺魁 赠送网课	4月3日-5日 4月10日-11日 4月17-18日 +面试班	16800 笔试未通过退15000 进面未录取全退

2019 年 12 月 1 日浙江省丽水市莲都区事业单位考试试卷**《职业能力倾向测验》****第一部分 常识判断**

(共 20 小题, 每小题 0.9 分, 共 18 分。)

根据题目要求, 请在四个选项中选出一个最恰当的答案。

【考点】常识判断——政治常识——时事政治

1. 当地时间 2019 年 11 月 14 日, 国家主席习近平在巴西利亚出席金砖国家领导人第十一次会晤时, 就当前香港局势表明中国政府严正立场, 明确提出(), 为香港止暴制乱、恢复秩序指明了方向、提供了遵循。

- A. “六个坚定” B. “四个坚持” C. “两个绝不” D. “一个肯定”

【考点】常识判断——政治常识——时事政治

2. 由国务院新闻办公室、新华通讯社和浙江省人民政府共同主办的“中国治理的世界意义”国际论坛于 2019 年 11 月 18 日在浙江() 召开, 来自近 20 个国家的 200 多名学者共同研究中国治理的经验、价值和意义, 这是中共十九届四中全会之后首次举办以“中国治理”为主题的国际论坛。

- A. 杭州 B. 绍兴 C. 湖州 D. 金华

【考点】常识判断——政治常识——其他

3. 中国共产党执政的最大优势是(), 执政后的最大危险是脱离群众。

- A. 实事求是 B. 密切联系群众
C. 理论联系实际 D. 党的先进性、高尚性和优秀性

【考点】常识判断——人文历史常识——文学文化常识——中国文化常识

4. 与“近朱者赤, 近墨者黑”体现的道理一致的成语是()。

- A. 东施效颦 B. 唇亡齿寒 C. 搔首弄姿 D. 耳濡目染

【考点】常识判断——法律常识——刑法

5. 某日情敌小张和小赵相遇并发生了争执, 在二人争执的过程中, 小赵拿出随身的水果刀想要刺伤小张, 小张见势不对赶紧逃跑, 在逃跑的过程中, 小张遇到了朋友大胖和小胖, 小赵一看小张人多势众, 便扔下水果刀想要逃跑, 小张不服气, 捡起水果刀将小赵刺伤。小张刺伤小赵的行为构成()。

- A. 过失伤害 B. 正当防卫 C. 紧急避险 D. 故意伤害

【考点】常识判断——公文常识——公文写作与处理

6. 下列关于公文格式的说法中，错误的是（ ）。

- A. 主送机关又称抬头、上款，书写在标题之下靠左顶格位置
- B. 印章是制发机关对公文生效负责的凭证。通常，联合上报的公文，由主办机关加盖公章；联合下发的公文，发文机关都应加盖公章
- C. 附件是公文的重要组成部分，附件名称一般需加书名号
- D. 发文机关标识一般由发文机关全称或规范化简称后加“文件”两字组成

【考点】常识判断——经济常识——市场经济

7. 近来，猪肉价格一路飙升，“吃不起猪肉”成为一些网民的口头禅。然而，在市场中我们可以发现，鱼肉、鸡肉、鸭肉等肉类的价格也在一定程度上也有所提升，这体现了（ ）。

- A. 生产商品的社会必要劳动时间决定商品价值量，社会必要劳动时间越长，商品价值量越大
- B. 商品的价格受供求关系的影响，需求越大价格越高
- C. 商品使用价值会影响人的消费选择，使用价值不足时人们会转而消费另一种商品
- D. 生产生活必需品的价格越低，越有利于社会稳定

【考点】常识判断——科技生活常识——医学

8. （ ），中国中医药学家，是第一位获得诺贝尔科学奖项的中国本土科学家、第一位获得诺贝尔生理医学奖的华人科学家。

- A. 屠呦呦
- B. 莫言
- C. 杨振宁
- D. 李政道

【考点】常识判断——人文历史常识——历史常识——中国近现代史

9. 下列选项中，不属于我国改革开放以后取得的新成就是（ ）。

- A. 原子弹爆炸成功，提高了我国的国际地位和国际威信
- B. 经济上的腾飞，基本解决了脱贫致富问题
- C. 具有世界先进水平的高速铁路，形成比较完善的高铁技术体系
- D. “神舟”系列宇宙飞船的成功发射，使中国成为第三个能将人类送上太空的国家

【考点】常识判断——人文历史常识——历史常识——共产党党史

10. （ ）的召开集中力量解决了具有决定意义的军事问题和组织问题。结束了王明“左”倾冒险主义在党中央的统治，会议重新肯定了以毛泽东为代表的马克思主义军事路线。这是中国共产党历史上一个生死攸关的转折点，是中国共产党从幼年走向成熟的标志。

- A. 古田会议
- B. 瓦窑堡会议
- C. 遵义会议
- D. 庐山会议

【考点】常识判断——科技生活常识——化学

11. 化学与生产和生活密切相关。下列过程中没有发生化学变化的是（ ）。

- A. 焚烧垃圾
- B. 化冰为水
- C. 高炉炼铁
- D. 肥皂水作蚊虫叮咬处的清洗剂

【考点】常识判断——人文历史常识——文学文化常识——中国文学常识

12. 郦道元是北魏地理学家、散文家，著有（ ）。

- A. 《本草纲目》
- B. 《归园田居》
- C. 《山海经》
- D. 《水经注》

【考点】常识判断——地理国情常识——人文地理

13. () 始建于明正德初年(16 世纪初), 是江南古典园林的代表作品。它与北京颐和园、承德避暑山庄、苏州留园一起被誉为中国四大名园。

- A. 静思园 B. 网师园 C. 豫园 D. 拙政园

【考点】常识判断——人文历史常识——文学文化常识——中国文化常识

14. “为救李郎离家园, 谁料皇榜中状元”这句唱词是出自()。

- A. 豫剧——《花木兰》 B. 昆曲——《牡丹亭》
C. 黄梅戏——《女驸马》 D. 京剧——《霸王别姬》

【考点】常识判断——人文历史常识——文学文化常识——中国文学常识

15. 中共中央总书记习近平分别用“雄关漫道真如铁”“人间正道是沧桑”“长风破浪会有时”三句诗概括了中华民族的昨天、今天和明天。这三句诗分别出自()。

- A. 《渔家傲·秋思》; 《正气歌》; 《蜀道难》
B. 《西江月·秋收起义》; 《沁园春·长沙》; 《酬乐天扬州初逢席上见赠》
C. 《忆秦娥·娄山关》; 《七律·人民解放军占领南京》; 《行路难》
D. 《离骚》; 《过零丁洋》; 《上李邕》

【考点】常识判断——地理国情常识——人文地理

16. 浙江历史悠久, 是中国古代文明的发祥地之一, 被称为“丝绸之府”“鱼米之乡”, 浙江特产更是丰富。下列不属于浙江特产的是()。

- A. 西湖龙井 B. 怀远石榴 C. 嘉兴粽子 D. 天目笋干

【考点】常识判断——政治常识——时事政治

17. 习总书记强调, 新时代下要建设美丽中国, 必须树立尊重自然、顺应自然、保护自然的生态文明理念; 坚持保护优先、自然恢复为主, 实行最严格的生态环境保护制度, 在生态系统保护和修复中, 摆在首位的是()。

- A. 绿色发展为主、低碳为主 B. 节约资源、保护环境
C. 利用自然力修复生态系统 D. 创新发展减少生态资源利用

【考点】常识判断——人文历史常识——文学文化常识——世界文学、文化常识

18. 列奥纳多·迪·皮耶罗·达·芬奇是欧洲文艺复兴时期的天才科学家、发明家、画家、现代学者称他为“文艺复兴时期最完美的代表”, 是人类历史上绝无仅有的全才, 他最大的成就是绘画。下列哪一项不属于他的作品?()

- A. 《星空》 B. 《最后的晚餐》 C. 《岩间圣母》 D. 《蒙娜丽莎》

【考点】常识判断——人文历史常识——文学文化常识——中国文化常识

19. 小张的小学启蒙老师今年 60 岁生日, 小张打算写一副对联送给老师, 下列对联最适合的是()。

- A. 不雕不琢年当服政, 有为有守学到知非
B. 为学有宗花甲成庆, 诲人无倦恩重及门

- C. 碧桃献岁宜家受福，古稀逢春获寿延年
D. 千古文章功参麟笔，两朝开济庆洽羲文

【考点】常识判断——科技生活常识——日常生活常识

20. 小清在家中不慎打翻了热水壶，热水淋到了她的腿上，此时小清的下列做法正确的是（ ）。
- A. 将出现的水泡戳破
B. 将植物油涂抹在烫伤部位
C. 立即脱掉裤子并用毛巾擦干热水
D. 立即用冷水冲洗烫伤部位

第二部分 言语理解与表达

(共 30 小题，每小题 1 分，共 30 分)

本部分包括表达与理解两方面的内容，请根据题目要求，在四个选项中选出一个最恰当的答案。

21. 任何不尊重消费者的企业，必然要受到消费者的（ ），等待它的只有市场的惩罚，这个道理放在任何国家都是一样的。

填入括号部分最恰当的一项是（ ）。

- A. 孤立
B. 阻止
C. 制裁
D. 抵制

22. 少数民族医药是我国医药卫生事业的重要组成部分，任何时候都不能偏废，要让少数民族医药（ ），生生不息，为人类健康增色添彩。

填入括号部分最恰当的一项是（ ）。

- A. 栉风沐雨
B. 休戚与共
C. 薪火相传
D. 一脉相承

23. 中美贸易（ ）发生后，在互联网上流传着一种声音：中国应该懂得（ ），做点退让，委屈才能求全，才能为我们自己争取更多的发展时间。不能不说，这种想法真的好傻、好天真。

依次填入括号部分最恰当的一项是（ ）。

- A. 龃龉 和解
B. 冲突 调和
C. 摩擦 妥协
D. 争执 迁就

24. 文明不仅是我们追求美好生活的高度，更是我们（ ）自身行为规范的尺度。素质的养成无法一蹴而就，也不可能（ ），需要“化”、更要管，如果说传统美德是社会文明的“根”和“魂”。那么法治和规则就是它的“骨架”，二者缺一不可，（ ）。

依次填入括号部分最恰当的一项是（ ）。

- A. 丈量 一劳永逸 相辅相成
B. 衡量 一笔勾销 珠联璧合
C. 测量 一了百了 相得益彰
D. 估量 一步登天 息息相关

25. 招商引资必须由法律铺路，给前去投资的企业吃下法治“定心丸”，如果（ ），经过严格法律程序的事项都能动辄被推翻，只会吓跑投资商。

依次填入括号部分最恰当的一项是（ ）。

- A. 朝三暮四 B. 见异思迁 C. 狙公赋茅 D. 朝令夕改

26. 开张不久就陷入“赝品风波”，重庆大学博物馆引来不少围观，有网友参观后发文（ ）疑似“赝品博物馆”，重庆文物局也表示该馆及其所办展览均未备案，可以说，数百件展品孰真孰假，运营管理孰是孰非，无论在舆论场、学术界还是文物全都掀起了不小的（ ）。

依次填入括号部分最恰当的一项是（ ）。

- A. 自问 波涛 B. 斥问 风暴 C. 叩问 涟漪 D. 质问 波澜

27. 从实体书到电子书，再到有声书，盗版侵权乱象，始终（ ）。这种不负责任的“拿来主义”，严重（ ）了作者的权益，偷走了他们的作品，偷走了他们的权利，更偷走了他们的财物。

依次填入括号部分最恰当的一项是（ ）。

- A. 死缠烂打 侵略 B. 阴魂不散 侵犯
C. 变本加厉 侵蚀 D. 恬不知耻 侵袭

28. 但事实上，人们（ ）在一个更开放、更生态的城市空间里，看到并亲近那些对人类没有危害的野生动物，这也是为什么西湖边的小松鼠会那么受游客（ ）的原因。

依次填入括号部分最恰当的一项是（ ）。

- A. 渴望 青睐 B. 期盼 赏识 C. 祈求 重视 D. 企图 招徕

29. （ ），粮食事关国计民生，粮食安全这根弦片刻不能放松。从现实来看，中国的粮食产需仍将维持紧平衡态势，当有限的耕地、有限的水资源与呈刚性增长态势的粮食需求、消费者日益提高的品质需求相遇，为粮食生产提出（ ）。

依次填入括号部分最恰当的一项是（ ）。

- A. 居安思危 挑战 B. 有备无患 挑衅
C. 未雨绸缪 挑唆 D. 常备不懈 挑拨

30. 民以食为天，每一个对自己负责的人都会管住自己的嘴，不去吃对身体有害的食物，但如果有毒有害的食物是被一个有安全标识的包装所（ ）的，我们不得不（ ）这将是一件多么可怕的事情。

依次填入括号部分最恰当的一项是（ ）。

- A. 伪装 惊异 B. 伪装 惊愕 C. 伪造 惊愕 D. 伪造 惊异

31. “文无第一”，因为赏析者不同、时代不同、际遇不同等原因，一篇文章的机遇也会（ ），有人愿意千金购买的文章或许在另一些人眼里（ ）。对此，我们大可不必（ ）。

依次填入括号部分最恰当的一项是（ ）。

- A. 相差无几 价值连城 踟蹰 B. 截然不同 一文不值 置喙
C. 毫厘不爽 龙蟠蠖屈 置疑 D. 大相径庭 炙手可热 恣睢

32. 对于依靠加工制造支撑而起步的中国经济而言缺乏自有品牌的（ ）与拉动，一直是长期存在的客观现实。然而近年来，在“双创”之风的（ ）下，中国品牌引来了前所未有的创新浪潮，各行各业涌现出的新品牌犹如雨后春笋，有的甚至一夜之间将行业原有的格局，搅得（ ）。

依次填入括号部分最恰当的一项是（ ）。

- A. 引领 吹拂 天翻地覆 B. 引导 擦过 地动山摇
C. 指挥 吹动 天旋地转 D. 凝聚 掠过 石破天惊

33. 对于群主来讲，这是所有群内活动赖以存在的前提，（ ）对于群成员来讲，（ ）遵守这些公共规则，（ ）能够在群里愉快地交流，而不至于危及微信群和群主。

依次填入括号部分最恰当的一项是（ ）。

- A. 而 只有 才 B. 但 虽然 也
C. 就 无论 都 D. 且 既然 就

34. 当年的电视购物，主要靠的是主持人的（ ），营造出了一一种夸张氛围，从而让群体心理学从线下（ ）到了线上，而现在的网络直播，何尝不是如此，大量的主播，依然走着过去电视购物的老路，如果抛开网络，（ ）主播这个标签，简直让人怀疑回到了过去。

依次填入括号部分最恰当的一项是（ ）。

- A. 撕心裂肺 蔓延 剥离 B. 撕心裂肺 延伸 黏贴
C. 声嘶力竭 延伸 剥离 D. 声嘶力竭 蔓延 黏贴

35. 一项项惠民政策，一笔笔惠民资金，就这样在官僚主义面前，（ ）大打折扣，让（ ）群众切身利益的款项，如此糊里糊涂、不明不白，有违中央要求，有负群众期待，有愧自身（ ）。

依次填入括号部分最恰当的一项是（ ）。

- A. 功效 涉嫌 职责 B. 功效 涉及 任务
C. 效果 涉及 职责 D. 效果 涉嫌 任务

36. 当前在香港发生的肆意纵火、打砸商铺、暴力袭警等极端暴力事件中，美国一些政客打着所谓人权和民主问题的幌子，（ ），就是为了明里暗里给“反中乱港”分子支起一把“保护伞”，（ ）他们更加有恃无恐地抛弃良知，为美国利益冲锋效命。

依次填入括号部分最恰当的一项是（ ）。

- A. 危言耸听 姑息 B. 众口铄金 撺掇
C. 巧取豪夺 游说 D. 混淆视听 怂恿

37. 从 2015 年 5 月 10 日起，我国执行全新烟草税收标准，大多数零售价涨幅 10%，但人们直观的感受是自己并不会被香烟涨价影响。香烟加税能否帮助烟民戒烟？实际上，消费是有弹性的，微小的价格涨幅似乎并不足以改变人们的选择，价格只是影响人们选择的诸多因素之一，观念的变化，健康的忧虑一直存在，香烟涨价，即使只有一两块钱，也会成为压死骆驼的最后一根稻草，改变人们的行为，促进戒烟的发生。

作者对香烟加税的态度是（ ）。

- A. 不支持，有烟民受加税影响仍不愿戒烟
B. 不支持，加税带给国家的税收不高
C. 支持，能加深对香烟危害的认识

D. 支持，能有效地抑制抽烟行为

38. 随着经济社会快速发展、人均预期寿命持续延长，如今，高血压、糖尿病等慢性病患者众多。据统计，我国慢性病患者已经逾 4 亿人。一些慢性病虽不是要命的危急重病，稳定期也不用住院治疗，但对于患者来说，一经诊断就必须长期服药，不少人每天要吃药、每次吃好几种药，随着病情的发展，用药往往越来越新、越来越贵，有与筹资水平不同，各地医院报销在药品范围、比例等方面也存在差异，有些参保患者在门诊开药报销不了，或者在大医院开报销药较少，因此，把相关门诊用药纳入医保报销，有助于切实减轻慢病患者的家庭负担。

作者接下来最有可能描写（ ）。

- A. 分析慢性病患者在中国的地域分布情况
- B. 将高血压、糖尿病等慢病用药纳入门诊报销范围的好处
- C. 针对慢性病患者每月收入与支付的调查数据
- D. 医疗保障对有效管控慢病风险，维护全民健康的重要性

39. 高仿 App 的泛滥，可以说是当前公众上网体验感有待提升、网络安全权益保护不力的一个现实注脚，近些年，中国上网用户规模显著上升，互联网应用也快速发展，但在“大”和“快”的背后，也不应该忽视人们真实上网体验感和安全感的缺失，唯有行业创新的步伐与权益保护、监督水平并驾齐驱，方能构建一个健康、安全的现代网络服务环境。

这段文字最有可能出现在一篇文章中的哪个部分，起什么作用？（ ）

- A. 开头 点明主旨
- B. 文中 浓墨渲染
- C. 文中 扩展联想
- D. 文末 总结全文

40. 在很多大学课堂上，教师授课并不完全依赖于某本教材，而是以自编的讲义、课件为主，通过打印、电子邮件等形式将这些课程材料分发给学生。在这种情况下，教材只是相对重要的参考书，只是期末考试前值得信赖的复习材料，特别是一些高校教材编写水平不高，不具备收藏价值，有的作者、出版社将教材视为敛财的工具，明明有经典教材珠玉在前，却非要另起炉灶挖土烧砖，重新编写，出版一套教材推荐给学生。据统计，有的高校基础课，全国有近 500 家出版社出版了逾千种教材，这其中难免有粗制滥造的情况。那些虽是正版但编写水平不高的教材，被大学生视为“用过即抛”的消费品，而不愿意为其付出太多的费用。

根据这段文字，下列说法不正确的是（ ）。

- A. 有些编写水平不高的教材被视为“用过即抛”的消费品
- B. 许多大学生不愿为粗制滥造的教材付出太多的费用
- C. 有的作者、出版社把教材视为敛财的工具
- D. 所有教材都只是参考书，不具备收藏价值

41. 网络传销骗取财物、坑害家庭、危害社会，但囿于干预和打击的滞后，很多网络传销活动未能在起步阶段，或者危害并不算大的阶段被及时打断。而一旦侦破往往就是牵涉几千人、上万人，涉及几十亿元、上百亿元甚至更大金额的重大案件。这样的案件即便彻底侦破，但危害已经造成，

进一步完善相关法律法规，建立周密防范、及时介入的防控机制，提高反应的灵敏度，才可能对网络传销活动实现拦腰截断，乃至扑灭于萌芽之中。

这段话意在强调（ ）。

- A. 网络传销是无法被杜绝的
- B. 网络制式传销变得更隐蔽、分散、复杂
- C. 杜绝网络传销应在体制机制上下功夫
- D. 网络传销的顽固性比其他骗术不具有的

42. 近年来，个人信息的内涵与范围均在不断延伸。与姓名、职业、通讯记录、家庭住址等传统信息相较，如今，个人上网痕迹、位置轨迹等数据日益重要，人脸、指纹、声纹等生物特征信息应用日益广泛，相关信息保护工作难度加大，比如，当人们积极拥抱人脸识别技术，享受着“刷脸”带来的便利时，不久前一则 17 万“人脸数据”在某网络商城公开售卖的消息，就给人们敲响了一记警钟。另据媒体报道，即便是拍照时比“剪刀手”，也有可能被不法分子获取指纹信息。

本段文字意在说明（ ）。

- A. 在数字时代，拍照意味着个人信息的泄露
- B. 保护个人信息不泄露是数字时代不得不面对的难题
- C. 人脸识别技术没有安全风险，可以放心的广泛应用于生活中
- D. 个人信息的安全应依赖于相关的法律和有关部门采取的措施

43. 联合国粮农组织的数据显示，18%的温室气体排放来自肉类排气，这一数据足以说明有关“食”的碳排放量是如何重要，而在肉类消费中，牛产生的温室气体又是最多的，每生产 1 公斤牛肉相当于向大气排放 3.6~6.8 公斤的二氧化碳。此外，饲料的生产以及饲养牲畜的农场排出废物也都要释放大量温室气体。德国健康杂志报道称，如果饮食中有三成热量是来自红肉（猪牛羊等饱和脂肪酸含量高的肉类）或乳制品，一年所排放的二氧化碳约为 1485.1 公斤，而对应的白肉（鸡鸭鱼等）年排放量约为 1054.2 公斤。

下列说法符合文章的一项是（ ）。

- A. 我们要从日常生活入手来减少碳排放，保护环境
- B. 应尽量避免食用肉类产品
- C. 在肉类消费中，牛产生的温室气体是最多的
- D. 饱和脂肪酸含量高的肉类产生的温室气体最少

44. 美国费城有一个小学五年级学生，聪明好学，成绩优秀。有一天，他在看报纸上的天气预报，他发现自己一个字也不认识，极为恐怖的是即使拿出他自己已经学过的教科书来看，也感到一无所知，他痛苦的告诉父亲，他看不懂，已读小学五年级的他怎么连天气预报也看不懂呢？他父亲不相信，带他去看医生，不料，医生经过测试，证实这是真的，并说孩子患了一种叫失读症的病。

接下来作者最有可能描写（ ）。

- A. 失读症对人的影响
- B. 哪些人群易患失读症
- C. 失读症的定义与形成原因
- D. 失读症该如何治疗

45. 造成客服乱象的一个重要原因，在于许多企业将客服中心视为“成本部门”。客服及其背后的培训、管理、流程协调，成本投入越来越高，有公司测算，“一个客户打了 5 分钟的投诉电话，企业就花出 9 块钱”。因此，客服外包或者部分外包成为多数互联网企业的趋势性选择。然而，外包节省了成本，却会产生发包方与承包方协调不通畅、发包方赋予承包方处理权限不高、业务人员能力参差不齐等弊端，很容易造成投诉响应慢、问题解决效率低、用户体验差等问题。在“乐清女子滴滴打车遇害事件”中，滴滴外包客服备受诟病，便是例证。

根据这段文字，下列说法正确的是（ ）。

- A. 在互联网时代，客服愈发不重要
B. 有些企业为节省成本将客服外包
C. 客服外包并不会让用户体验变差
D. 客服外包对企业形象不会造成影响

46. 近年来，出现了许多民间自发组织的“走陵人”团队，所谓走陵，就是对有历史价值的古代陵寝进行寻访，考察陵寝的神道、神兽、残存石刻等遗迹。此前，咸阳唐崇陵就发生过一次走陵活动，这一活动的目的，就是收集石刻残件，统一放到唐崇陵白虎门的监控摄像头下，他们认为这样才能更好地保护文物，其实，随意改变文物的摆放位置，也是对文物的破坏。

作者想要强调的是（ ）。

- A. 保护“野生”文物人人有责
B. “走陵人”团队不应该存在
C. “野生”文物爱好者的存在是对文物的伤害
D. 非专业考古人员面对文物应该只看不碰

47. 老年护理分级，有利于机构和个人开展老年服务工作。没有分级，机构和个人难以做到有备而来，服务人员也无法做好事先培训细致分工，护理服务只能“胡子眉毛一把抓”。没有分级，收费标准也不好拉开距离，机构和个人若遇到一位“麻烦的老人”，就会觉得不划算，这样就难免出现挑选老人等不良现象。商业保险机构在开发护理商业保险时，也难以做到区别对待，导致商业品种单一，甚至只能按照老人的最差状况来设置保险规则。实现护理分级后，就可以分级来制定不同的规则，提供差异化的服务，许多问题将得到迎刃而解。

这段文字的主旨是（ ）。

- A. 解释老年护理分级的好处与必要性
B. 分析老年人的特点与对护理的实际需求
C. 说明各方对老年护理分级的看法
D. 研究实现老年护理分级有关部门会面对的问题

48. ①许多拥有多个公众号的运营团队通过互相导流、多级跳转的方式，将夸张、惊悚标题文章的流量，吸引到自己的小说站，通过阅读充值方式实现流量变现

②为解决“标题党”乱象，早在 2017 年，国家网信办发布了《互联网新闻信息标题规范管理规定（暂行）》，并联合相关部门多次进行整治

③显然，其背后隐藏着巨大的商业利益

④但朋友圈里的“标题党”乱象屡禁不止

⑤最近就有媒体作了详细调查：“标题党”文章只是吸引粉丝的手段，公众号吸引流量，为的是变

现

将以上 5 个橘子重新排列，语序正确的是（ ）。

- A. ②①④⑤③ B. ②④③⑤① C. ③④⑤②① D. ③⑤①②④

49. ①揭开“科学骗子”的面目并不难，睁开被焦虑蒙蔽的双眼却不易

②在这种背景下，孩子的教育成了一场疯狂的军备竞赛，“人无我有”的攀比心理自然就会产生“宁可信其有”的荒谬逻辑，“皇帝的新装”也就借机会登台亮相

③很少有父母能够拒绝孩子成为神童的诱惑，更不用说挥之不去的焦虑情绪

④一个个漏洞百出的骗术算不上高明，却不乏有硕士学历的家长中招

⑤这其中固然有个人心理认知偏见、知识经验缺乏的原因，更多的是因为家长的“神童情结”

作祟

将以上 5 个句子重新排列，语序正确的是（ ）。

- A. ①⑤②④③ B. ④①③⑤② C. ①④⑤③② D. ④⑤②①③

50. ①然而，有专业人士表示，在打击“李鬼”APP 时，存在多方协调难、举报下架过程漫长、相关法律政策不完善等问题

②很多高仿 APP，其实并不高级，就是仿“正主”的名字，使他人陷入错误认识，误把“李鬼”当李逵

③手机用户自行识别，效率不高，如果遭遇隐私泄露或财产损失，维权成本倒是很高

④一些尴尬随之而来——由手机应用商店甄别“李鬼”，缺乏统一标准，可能各行其是

⑤借李逵的大名，“李鬼”干着蒙骗的勾当，不光令人不齿，更涉嫌侵权违法

⑥某个应用商店下架某款 APP，不具有追责性，“李鬼”获取的不义之财则无法被追缴，更不用说惩处，“李鬼”难免有恃无恐，可以“打一枪换一个地方”

将以上 6 个句子重新排列，语序正确的是（ ）。

- A. ③②①⑥⑤④ B. ③④⑤①②⑥ C. ②⑤①④⑥③ D. ②⑥④③①⑤

第三部分 数量关系

(共 10 小题，每小题 1.1 分，共 11 分。)

在这部分试题中，每道题呈现一段表述数字关系的文字，要求你迅速、准确地计算出答案。

51. 已知母亲现在的年龄是女儿的 4 倍，5 年前女儿的年龄是母亲的 $\frac{1}{7}$ ，则现在女儿（ ）岁。

- A. 8 B. 10 C. 12 D. 15

52. 某单位将 18 个参加出国旅游的机会分配给 3 个部门，要求每个部门至少有 1 个名额且各部门分配的名额互不相等，则共有（ ）种不同的分配方式。

- A. 96 B. 114 C. 128 D. 136

53. 王某每天从家骑共享单车去上学，已知若以每分钟 300 米的速度行驶，则提早 2 分钟到学

校；若以每分钟 200 米的速度行驶，则会迟到 7 分钟到学校。则王某家到学校的距离为（ ）米。

- A. 5000 B. 5400 C. 5600 D. 6000

54. 某班有 54 名学生，将举行元旦晚会。据调查，其中 28 人会唱歌，12 人会跳舞，5 人既会唱歌又会跳舞，则该班学生中既不会唱歌又不会跳舞的学生有（ ）人。

- A. 16 B. 17 C. 18 D. 19

55. 某奢侈品商店将甲、乙两件奢侈品以相同的价格出售，已知甲奢侈品的出售价格比成本低 10%，乙奢侈品的出售价格比成本价高 80%，且总利润为 12 万元。则甲奢侈品的成本比乙奢侈品成本高（ ）万元。

- A. 20 B. 30 C. 32 D. 28

56. 李老师买了一些苹果准备奖励给幼儿园小朋友，若每个小朋友奖励 4 个苹果，则还剩下 28 个苹果；若每个小朋友奖励 5 个苹果，则最后一个小朋友得到的苹果数不足 4 个。该幼儿园的小朋友至少有（ ）人。

- A. 26 B. 28 C. 30 D. 32

57. 某厂生产一批零件，王师傅单独做需 8 小时完成。现由王师傅带着他的徒弟一起做 2 小时，剩下的由王师傅徒弟一个人做，又用了 7 小时才完成。若这批零件始终由师徒两人一起做，需（ ）小时完成。

- A. 4.8 B. 5 C. 6.4 D. 6

58. 某商场甲、乙、丙、丁四种商品这个月的销售额是上个月的 1.2 倍，已知甲商品的销售额增长了 50%，乙商品的销售额与上个月相同，丙和丁商品的销售额都增长了 25%，且上个月甲、丙、丁三种商品的销售额之比为 2:4:5，则乙商品这个月的销售额占四种商品总销售额的比例为（ ）。

- A. $\frac{1}{3}$ B. $\frac{2}{7}$ C. $\frac{5}{18}$ D. $\frac{7}{26}$

59. 现有浓度分别为 10% 和 30% 的酒精溶液共 100 克，各倒出若干克混合配置出浓度为 20% 的 60 克酒精溶液，然后将剩下的酒精溶液混合在一起，得到浓度为 15% 的酒精溶液。则原有浓度为 10% 的酒精溶液（ ）克。

- A. 60 B. 50 C. 45 D. 40

60. 小童每工作 4 天休息 1 天，已知 2019 年 11 月她的第一个休息日为 11 月 1 日星期五，则这一年的 12 月她最后一个休息日是（ ）。

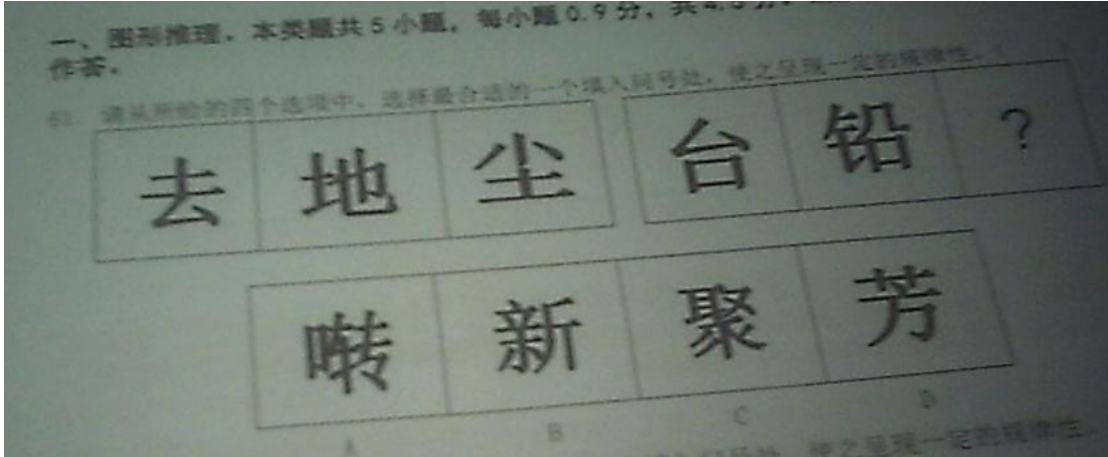
- A. 星期一 B. 星期二 C. 星期三 D. 星期四

第四部分 判断推理

(共 25 小题，共 24.5 分)


一、图形推理。本类题共 5 小题，每小题 0.9 分，共 4.5 分。请按每道题的答题要求作答。

61. 请从所给的四个选项中，选择最合适的一个填入问号处，使之呈现一定的规律性。（ ）



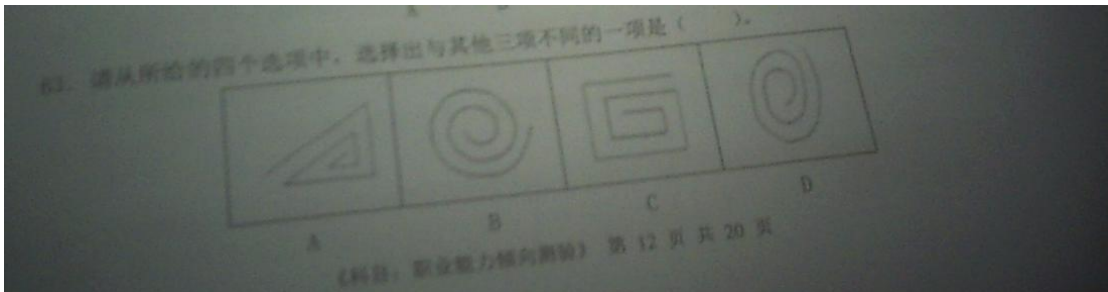
A. A B. B C. C D. D

62. 请从所给的四个选项中，选择最合适的一个填入问号处，使之呈现一定的规律性。（ ）



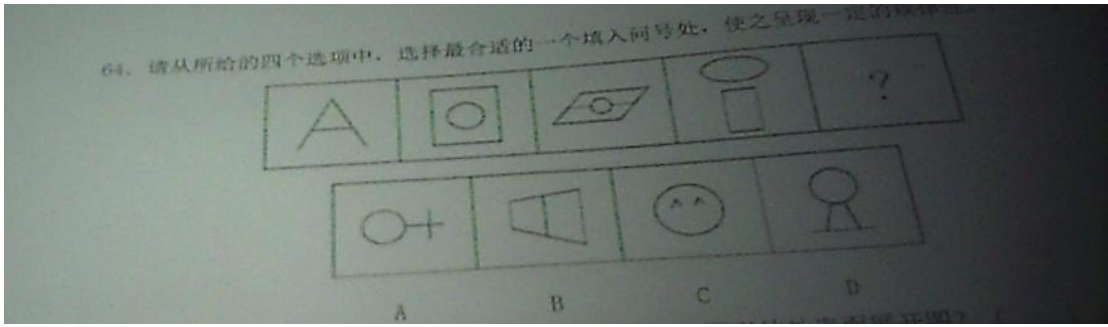
A. A B. B C. C D. D

63. 请从所给的四个选项中，选择出与其他三项不同的一项是（ ）。



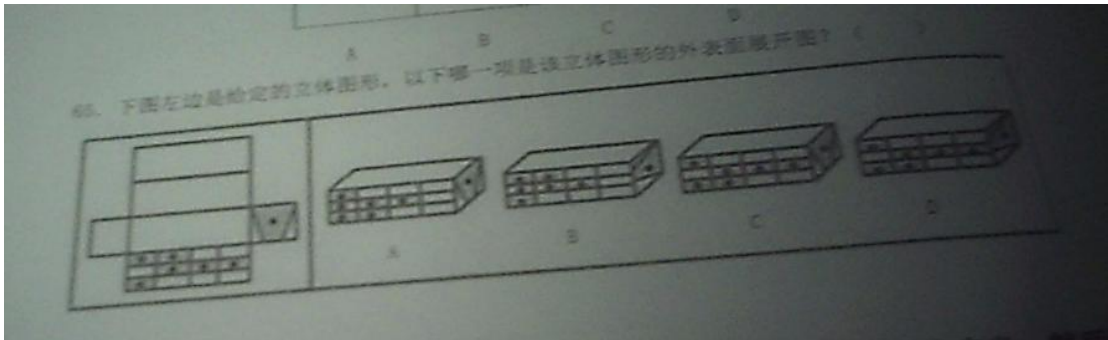
A. A B. B C. C D. D

64. 请从所给的四个选项中，选择最合适的一个填入问号处，使之呈现一定的规律性。（ ）



- A. A B. B C. C D. D

65. 下图左边是给定的立体图形，以下哪一项是该立体图形的外表面展开图？（ ）



- A. A B. B C. C D. D

二、定义判断。本类题共 6 小题，每小题 1 分，共 6 分。每道题先给出定义，然后列出四种情况，要求你严格依据定义，从中选出一个最符合或最不符合该定义的答案。注意：假设这个定义是正确的，不容置疑的。

66. 路怒症，顾名思义就是带着愤怒去开车，指汽车或其他机动车的驾驶人员有攻击性或愤怒的行为，用以形容在交通阻塞情况下开车压力与挫折所导致的愤怒情绪。

根据上述定义，下列不属于路怒症的是（ ）。

- A. 小朱国庆期间自驾游，在某拥堵路段塞车近一小时，而后面上来的出租车想强行超车，小朱一时生气踩下油门将该出租车的保险杠撞碎
- B. 小芳每天下午都要去学校接孩子回家，而每次一到放学时间学校门前都会堵车。有一次在自己 8 岁的女儿面前说了脏话
- C. 小刘在郊区路段行驶时，因拐弯不及时而将路边的指示牌撞到
- D. 小彭在某工作日的下班高峰期开车回家，在避让了几个横穿马路的行人后故意闯红灯。

67. 学术腐败是指利用学术资源谋取不正当利益或者利用不正当资源谋取学术利益。学术腐败是在一种相当宽泛的意义上就学术文化界和高等教育界存在的学风问题与学术弊端而言的。

根据上述定义，下列不属于学术腐败的是（ ）

- A. 李老师在某知名大学的教授，他将自己学生撰写的论文伪造成自己的，从而发表杂志赚取稿费

- B. 小王是某知名大学的博士生导师，他经常利用自己的身份开直播为商家做虚假宣传
- C. 某大学为了创收办了各种硕士班、博士班，老板们以送钱为代价，谋取导师或者教授资格
- D. 小杨在撰写科研报告时，参考了网上不少的参考资料，在其参考文献中将其一一列出，并刊登杂志

68. 法律援助是指由政府设立的法律援助机构组织法律援助的律师，为经济困难或特殊案件的人给予无偿提供法律服务的一项法律保障制度。

根据上述定义，下列属于法律援助的是（ ）。

- A. 小郑请了一位有名的律师为他打离婚官司
- B. 某法院在节假日为阳光社区做义务法律咨询
- C. 周律师近年来一直在为农民工欠薪官司奔波，但收效甚微
- D. 盲人小钱因涉嫌盗窃被起诉，他无亲人，检察院委派一名律师担任其辩护人。

69. 花盆效应又称局部生境效应。花盆是一个半人工、半自然的小生境。首先，它在空间上有很大的局限性；其次，由于人为地创造出非常适宜的环境条件，在一段时间内，作物和花卉可以长得很好，但一离开人的精心照料，经不起温度的变化，更经不起风吹雨打。

根据上述定义，下列不属于花盆效应的是（ ）。

- A. 某校采用全封闭的管理模式管理学生，但从这所学校毕业的学生进入社会后多被评为“以自我为中心”“口语交际能力差”“写作实用表达能力差”“书生气”等
- B. 小刚的父母外出务工，家中无人照顾，导致其性格柔弱内向且产生了厌学心理
- C. 小明是家中的独生女，从小备受家庭宠爱，进入大学开始寄宿生活后，发现自己生活自理方面出现了很多困难
- D. 小欢平时上班时工作不多且要做的事情十分固定，每日按时下班逛街煲剧。领导某次交予其一个难度相对较大的任务，她便不知所措了起来

70. 侧向思维是沿着正向思维旁侧开拓出新思路的一种创造性思维。通俗地讲，侧向思维就是利用其他领域里的知识和资讯，从侧向迂回地解决问题的一种思维形式，借助系统之外的信息、知识、经验来解决面临的难题。

根据上述定义，下列属于侧向思维的是（ ）。

- A. 小井是个上课很认真仔细的孩子，但是每次数学考试分数却不尽人意，原来是因为小井只懂得书本上的方法做题，当题目需使用别的方法做时他就不明白了
- B. 小泓平时很爱吃蛋糕，当她闻到甜香的味道时，第一时间想到的就是蛋糕的味道
- C. 小高上学的必经之路上有一个小坑，他时常因为小坑而摔倒，于是他拿了一块布将小坑盖住却不做任何掩埋措施，第二天依旧还是摔倒了
- D. 小张在某地承包了一个小型鱼塘，每月依靠卖鱼的收入并不高，于是想到举办了一个钓鱼比赛推动营销，当月收入创出新高

71. 函是指不相隶属机关之间商洽工作、询问和答复问题，请求批准和答复审批事项时所使用的公文。函作为工位中唯一的一种平行文种，其适用的范围相当广泛。

根据上述定义，下列不属于函的是（ ）

- A. 杭州市民政局向南京市公安局询问的“关于信息资源共享与合作协议”的问题所用文种
- B. 国务院办公厅就宁波海关的行政级别问题答复浙江省人民政府和海关总署所用文种
- C. 宁波市水利局向温州市水利局就“关于水法规体系建设规划”所用文种
- D. 国务院办公厅向全国人大就“关于提请审议《中华人民共和国劳动法（草案）》”所用文种

三、类比推理。本类题共 7 小题，每小题 0.8 分，共 5.6 分，每道题先给出一组相关的词，要求你在备选答案中找出一组与之在逻辑关系上最为贴近、相似或匹配的词。

72. 水果：西瓜 （ ）

- A. 试题：文具
- B. 裙子：衣柜
- C. 电脑组件：显示器
- D. 橘子：睡莲

73. 积累：累积 （ ）

- A. 犯罪：罪犯
- B. 牙刷：刷牙
- C. 答应：应答
- D. 觉察：察觉

74. 鲁迅：《呐喊》 （ ）

- A. 老舍：《骆驼祥子》
- B. 巴金：《边城》
- C. 沈从文：《家》
- D. 莫言：《半生缘》

75. 魂牵梦绕：日思夜想 （ ）

- A. 各执一词：众说纷纭
- B. 专心致志：无的放矢
- C. 僵李代桃：以邻为壑
- D. 有恃无恐：不堪一击

76. 交通警察：处理：事故 （ ）

- A. 警察：犯人：监狱
- B. 教师：教导：学生
- C. 医生：手术：病人
- D. 飞行员：驾驶：坦克

77. 雨水：春：清明 （ ）

- A. 处暑：秋：夏至
- B. 小寒：冬：白露
- C. 小满：夏：立夏
- D. 冬至：春：惊蛰

78. 大姑娘坐轿 对于 （ ） 相当于 （ ） 对于 走着瞧

- A. 铁了心 小和尚念经
- B. 头一回 骑驴看账本
- C. 管得宽 秀才遇上兵
- D. 说黑话 司马昭之心

四、逻辑判断。本类题共 7 小题，每小题 1.2 分，共 8.4 分。每道题给出一段陈述，这段陈述被假设是正确的，不容置疑的。要求你根据这段陈述，选择一个答案。注意：正确的答案与所给的陈述相符合，不需要任何附加说明既可以从陈述中直接推出。

79. 小周参加高中毕业会考，其时间科目为物理、化学、通用技术、生物的实验操作。物理和

通用技术实验操作的成绩之和与另外两门实验操作的成绩之和相等，物理和生物实验操作的成绩之和大于另外两门实验操作的成绩之和，通用技术实验操作的成绩比物理和化学两门实验操作的成绩之和还高。

根据以上条件，以下哪项是小周四门实验操作成绩从高到低的排列顺序？（ ）

- A. 通用技术、生物、化学、物理 B. 生物、通用技术、物理、化学
C. 通用技术、生物、物理、化学 D. 生物、通用技术、化学、物理

80. 某市全面推行共享汽车后监管较为困难，出现了各种问题。为了改善这些问题，市政府决定，共享汽车全面退出该市。

以下哪项最能对市政府的决定进行质疑？（ ）

- A. 该市的经济收入与共享汽车的推行使用无关
B. 使用共享汽车发生交通事故，责任无法判定
C. 共享汽车的推行使用方便人们搬家时租借
D. 共享汽车的推行使用可获得更多资源以开发公园和城市

81. 保险推销员不是消防员，消防员都穿消防战斗服，所以穿消防战斗服的都不是保险推销员。以下哪项与上述推理的逻辑结构一致？（ ）

- A. 长期食用甜食的人会加大患糖尿病的概率，患有糖尿病则会出现疲乏无力和肥胖的症状，所以长期食用甜食的人会出现疲乏无力和肥胖的症状
B. 食材废料属于厨余垃圾，中药药渣当然属于厨余垃圾，所以中药药渣当然是食材废料
C. 原核生物与真核生物存在一定差异，真核生物均有细胞核，所以有细胞核的都不是原核生物
D. 所有获取国家奖学金的学生都是通过刻苦学习得到的，我不刻苦学习，所以我没有获取国家奖学金

82. 小静：雄蝶必须通过跳舞求偶才能得到和雌蝶交配的机会。但问题是为什么雄蝶求偶时的舞姿各不相同？

小璇：这很容易理解，因为雌蝶更愿意和舞姿优美的雄蝶进行交配。

以下哪项陈述准确概括了小璇应答中的错误？（ ）

- A. 把所有要解释的现象本身作为对这一现象的一种解释
B. 忽略了两个统计相关的现象之间不一定有因果关系
C. 基于少数个例得出一般性的结论
D. 把属于人类的典型特征归属于动物

83. 某公司年底职称评定结果即将公示。为此，某部门的几位同事对评定结果进行猜测。

甲：“如果戊能评上，那么乙也能。”

乙：“我觉得我们部门没有人能够评上。”

丙：“我觉得戊评不上”

丁：“我看乙评不上，但戊能。”

如果证明，几位同事中只有一人的猜测是正确的。

以下哪项说法必然正确？（ ）

- A. 戊被评上了
- B. 该部门至少有三人被评上
- C. 丁的猜测是正确的
- D. 如果乙没被评上，则甲的猜测是正确的

84. 2019 年天猫双十一成交额再创新高，是以说明现在很多人越来越喜欢在网络上购物。因此余教授认为，实体店将会迎来寒冬，在不远的将来，越来越多的实体店将会被网络商店所取代。

以下哪项如果为真，最能削弱余教授的观点？（ ）

- A. 网购虽然方便，但是个人信息容易被泄露
- B. 通常情况下，网络商店只有在其实体商店的支撑下才能生存
- C. 当购买贵重商品时，考虑到安全因素，许多人会选择实体店而不是网络商店
- D. 有些网络卖家经常延迟发货，且快递速度很慢

85. 小东喜欢数学，也喜欢英语，他的同学中没有人既喜欢数学，也喜欢英语，但他的所有同学都喜欢语文。

如果上述断定为真，则以下哪项不可能为真？（ ）

- A. 小东有一个同学既不喜欢数学，也不喜欢英语
- B. 小东喜欢语文
- C. 小东的所有同学都喜欢英语
- D. 小东喜欢的科目，他有一个同学都喜欢

第五部分 资料分析

(共 15 题，每小题 1.1 分，共 16.5 分。)

所给出的文字材料均有若干问题要你回答。你应根据资料提供的信息进行分析、判断和处理。

一、根据以下资料，回答 86~90 题。

2018 年全年研究与试验发展 (R&D) 经费支出 19657 亿元，比上年增长 11.6%，与国内生产总值之比为 2.18%，其中基础研究经费 1118 亿元。全年境内外专利申请 432.3 万件，比上年增长 16.9%；授予专利权 244.7 万件，增长 33.3%；PCT 专利申请受理量为 5.5 万件。截至年底，有效专利 838.1 万件，其中境内有效发明专利 160.2 万件，每万人口发明专利拥有量 11.5 件。全年共签订技术合同 41.2 万项，技术合同成交金额 17697 亿元，比上年增长 31.8%。

2018 年专利申请、授权和有效专利情况

指 标	专利数 (万件)	同比增长 (%)
专利申请数	432.3	16.9
其中：境内专利申请	412.1	17.3

其中：发明专利申请	154.2	11.6
其中：境内发明专利申请	138.1	11.9
专利授权数	244.7	33.3
其中：境内专利授权	231.9	36.0
其中：发明专利授权	43.2	2.9
其中：境内发明专利授权	34.0	6.0
年末有效专利数	838.1	17.3
其中：境内有效专利	739.9	19.3
其中：有效发明专利	236.6	13.5
其中：境内有效发明专利	160.2	18.1

86. 2018 年全年研究与试验发展 (R&D) 经费支出的同比增长量约为 () 亿元。

- A. 1896 B. 2043 C. 2256 D. 2452

87. 2018 年平均每项技术合同的成交金额约为 () 万元。

- A. 388.6 B. 403.2 C. 429.5 D. 523.6

88. 2018 年境内有效专利占年末有效专利的比重较 2017 年所占的比重约 () 。

- A. 提高了 1.05 个百分点 B. 降低了 1.05 个百分点
 C. 提高了 1.48 个百分点 D. 降低了 1.48 个百分点

89. 2018 年境内专利授权的增长量约是境内专利申请的增长量的 () 。

- A. 1.0 B. 2.1 C. 2.6 D. 3.3

90. 根据上述资料，下列说法正确的是 () 。

- A. 2017 年境内发明专利数不超过 110 万件
 B. 2017 年境内发明专利授权占发明专利授权的比重约为 76.4%
 C. 2018 年国内生产总值超过了 100 万亿元
 D. 2018 年基础研究经费高于全年研究与试验发展经费支出的一成

二、根据以下资料，回答 91~95 题。

2018 年年末全国拥有水上运输船舶 13.70 万艘，比上年下降 5.5%；净载重量 25115.29 万吨，下降 2.1%；载客量 96.33 万客位，下降 0.4%；集装箱箱位 196.78 万标准箱，下降 9.0%。

全国水上运输船舶构成（按航行区域分）

指 标	实 绩	同比增长 (%)
内河运输船舶		
运输船舶数量 (万艘)	12.43	-6.0
净载重量 (万吨)	12915.50	-1.8
载客量 (万客位)	71.59	-1.0
集装箱箱位 (万 TEU)	33.81	4.1
沿海运输船舶		
运输船舶数量 (万艘)	10379	0.6
净载重量 (万吨)	6885.06	-2.3

载客量（万客位）	22.68	1.4
集装箱箱位（万 TEU）	56.62	12.9
远洋运输船舶		
运输船舶数量（万艘）	2251	-2.4
净载重量（万吨）	5314.73	-2.6
载客量（万客位）	2.06	-1.0
集装箱箱位（万 TEU）	106.34	-20.4

2014~2018 年全国水上运输船舶拥有量

	船舶数量（万艘）	船舶净载重量（万吨）
2014	17.20	25785
2015	16.59	27244
2016	16.01	26623
2017	14.49	25652
2018	13.70	25115

（注：船舶平均净载重量=船舶净载重量÷船舶数量）

91. 2017 年内河运输船舶净载重量约为（ ）万吨。

- A. 13152.24 B. 13896.25 C. 14115.23 D. 12687.13

92. 2016 年全国水上运输船舶平均净载重量约是 2014 年的（ ）倍。

- A. 1.04 B. 1.11 C. 1.25 D. 1.34

93. 2018 年表中三种类型运输船舶数量占全国水上运输船舶的比重较上年相比有所提高的有（ ）类。

- A. 0 B. 1 C. 2 D. 3

94. 2018 年年末全国水上运输船舶平均净载重量同比约（ ）。

- A. 增加了 3.55% B. 下降了 3.55% C. 增加了 4.68% D. 下降了 4.68%

95. 根据上述资料，下列说法正确的是（ ）。

- A. 2015~2018 年，全国水上运输船舶净载重量减少最多的是 2016 年
 B. 2015~2018 年，全国水上运输船舶数量下降最快的是 2017 年
 C. 2018 年远洋运输船舶数量是内河运输船舶数量的 100 倍以上
 D. 2018 年全国水上运输实现载客量超过了 100 万客位

三、根据以下资料，回答 96~100 题。

2018 年全年浙江省货物进出口总额 28519 亿元，比上年增长 11.4%。其中，出口 21182 亿元，增长 9.0%，出口占全国的 12.9%，份额比上年提高 0.2 个百分点；进口 7337 亿元，增长 19.0%。民营经济出口 16530 亿元，增长 10.6%，占出口总额的 78.0%，比重比上年提高 1.1 个百分点。机电产品出口 9214 亿元，增长 9.6%；高新技术产品出口 1408 亿元，增长 11.5%。对欧盟、美国进出口分别增长 9.3%、10.1%，其中，出口分别增长 7.8%和 12.2%。对“一带一路”沿线国家合计进出口 8967 亿元，增长 12.3%，其中出口 6822 亿元，增长 8.3%。中欧（义新欧）班列开行 320 列。推动中国（浙江）自由贸易试验区扩权，2018 年自贸区固定资产投资 419 亿元，新增注册企业 7413 家，

新增油品企业 1998 家，大宗商品电子交易额 1487 亿元。

全年服务贸易进出口额 3815 亿元，比上年增长 83.5%，居全国第 4 位，服务贸易进出口额占货物和服务贸易总额的 11.8%。其中，出口 1069 亿元，增长 72.2%；进口 2745 亿元，增长 88.3%。

新批外商直接投资项目 3529 个，比上年增加 499 个；合同外资 430.6 亿美元，实际利用外资 186.4 亿美元，分别增长 24.1%和 4.1%。第二产业中，制造业实际利用外资 59.7 亿美元，增长 9.2%。第三产业投资项目 2940 个，比上年增加 502 个，占外商直接投资项目总数的 83.3%，合同外资 307.8 亿美元，实际利用外资 120.0 亿美元，分别增长 28.7%和 2.6%，占外资总额的比重分别为 71.5%和 64.4%。

全年经备案核准的境外企业和机构共计 737 家，比上年增加 210 家。境外直接投资备案额 1262 亿元，比上年增长 1 倍。国外经济合作完成营业额 518.9 亿元，比上年增长 9.0%。其中，对外承包工程完成营业额 506.9 亿元，增长 8.6%；新签合同额 273.0 亿元，下降 17.6%；共派出各类劳务人员 22589 人次，外派劳务人员实际收入 12.0 亿元。

96. 2017 年，全年服务贸易进出口额约为（ ）亿元。

- A. 2079 B. 2256 C. 2466 D. 2841

97. 2018 年，外派劳务人员实际平均收入约为（ ）万元。

- A. 4.1 B. 4.6 C. 5.3 D. 6.5

98. 2018 年货物进口额占货物进出口总额的比重较 2017 年所占比重约（ ）。

- A. 提高了 1.64 个百分点 B. 降低了 1.64 个百分点
C. 提高了 2.15 个百分点 D. 降低了 2.15 个百分点

99. 2018 年机电产品的出口增长量约是高新技术产品的出口增长量的（ ）倍。

- A. 4.85 B. 5.56 C. 6.54 D. 6.87

100. 根据上述资料，下列说法错误的是（ ）。

- A. 2018 年新批外商直接投资项目个数的增长率约为 16.47%
B. 2017 年第三产业中，合同外资约是实际利用外资的 2.04 倍
C. 2018 年国外经济合作完成营业额的同比增长量约为 42.8 亿元
D. 2017 年第二产业中，制造业实际利用外资不超过 53 亿元

2019 年 12 月 14 日浙江龙泉事业单位招聘考试试卷

《职业能力倾向测验》

一、单选题（共 70 题，每小时 1 分，共 70 分。）

1. 国家主席习近平 2019 年 12 月 3 日在人民大会堂会见出席“2019 从都国际论坛”外方嘉宾。习近平指出，（ ）道路是中国能够不断发展稳定的最根本原因，得到了全中国人民的衷心拥护和支持。

- A. 资本主义 B. 共产主义 C. 和平主义 D. 中国特色社会主义

2. 十九大报告中会出，发展的根本目的是（ ），保证全体人民在共建共享发展中有更多获得感，不断促进人的全面发展、全体人民共同富裕。

- A. 丰富民主形式
B. 推动新型工业化、信息化、城镇化、农业现代化同步发展
C. 增进民生福祉
D. 突破利益固化的藩篱

3. 下列行为中，并未违反《中华人民共和国劳动法》的是（ ）。

- A. 十四岁的小芳在一家书店工作试用期满后，已转为正式员工
B. 小彭与一家饲料公司签订了一份试用期为一年的劳动合同
C. 小泓欲 10 月底从公司离职，她已于 9 月中旬提交离职申请
D. 小杰所在的科技公司正处于上市的关键时期，该公司强制要求员工每一天都必须到公司工作且加班

4. 宪法是国家的根本法，是治国安邦的总章程，具有最高的法律地位、法律权威、法律效力，国家宪法日为每年的（ ），国家会通过多种形式开展宪法宣传教育活动。

- A. 12 月 4 日 B. 9 月 23 日 C. 7 月 1 日 D. 3 月 16 日

5. 杜甫是唐代伟大的现实主义文学作家，其著作有“三吏”“三别”等，下列作品中，不属于其“三吏”的是（ ）。

- A. 《石壕吏》 B. 《新安吏》 C. 《垂老吏》 D. 《潼关吏》

6. 下列关于我国文学知识的相关说法中，不正确的是（ ）。

- A. 创造了“楚辞”这一诗体的伟大诗人是屈原
B. 关汉卿是“元曲四大家”之一
C. 我国最早的田园诗人是辛弃疾
D. 《聊斋志异》中的“异”指的是奇怪的事情

7. 下列选项中，不属于浙江省级非物质文化遗产的是（ ）。

- A. 舟山渔业谚语 B. 杭州手工制瓷技艺

C. 温州发绣 D. 平阳木偶戏

8. 浙江省四季分明，夏季高温多雨，冬季温和少雨，雨热季节变化同步，同时光照较多，空气湿润。则浙江省的气候类型为（ ）。

A. 亚热带季风气候 B. 热带雨林气候
C. 温带海洋性气候 D. 高原山地气候

9. 下列关于天文常识的相关说法中，不正确的是（ ）。

A. “血月”一般在月全食发生时出现
B. 发生月偏食时，只有部分月亮被挡住
C. 观看日食时，可佩戴墨镜保护眼睛
D. 月食一定跟满月一起发生

10. 下列关于农产品的相关说法中，不正确的是（ ）。

A. 大米发霉后需及时摊晾和通风，可以防止大米继续变质
B. 在日常生活中，植物油和动物油宜搭配或交替食用
C. 蔬菜有没有虫眼并不能作为蔬菜是否安全的标志
D. 陈化粮允许在口粮市场售卖

11. 尽管不少智能客服都被拟人化，但程序的设定、冰冷冷的态度、绕圈圈的回应，还是让不少用户（ ）。

填入括号部分最恰当的一项是（ ）。

A. 敷衍了事 B. 额手相庆 C. 敬而远之 D. 细大不捐

12. 一味依靠直觉、相信直觉，甚至让情绪在“捕风捉影”中（ ），不仅有悖于关注事件的初衷，更不利于推动事件的进展与解决。

填入括号部分最恰当的一项是（ ）。

A. 生长 B. 蔓延 C. 拓展 D. 舒展

13. 一些地方加入“古代名人故里争夺战”，想延续文脉、塑造文化的举动可以理解，但很多古人就算真的出生在某地，随着岁月（ ），恐怕也早已没有半点遗迹。

填入括号部分最恰当的一项是（ ）。

A. 没落 B. 消亡 C. 消失 D. 流逝

14. （ ）我国食品安全整体水平稳步提升、总体形势不断好转，（ ）食品安全区域仍然处于矛盾凸显期和问题高发期。

依次填入括号部分最恰当的一项是（ ）。

A. 尽管 但 B. 如果 就 C. 要是 那么 D. 不但 而且

15. 语言学习，需要大量反复练习，而最难练习的是写作能力。（ ），作业批改的人力成本非常高，不仅费时，而且对批改者专业素养有要求。这就在提高写作能力方面形成了巨大的教育（ ）。

依次填入括号部分最恰当的一项是（ ）。

- A. 有目共睹 范围
B. 一目了然 规模
C. 众所周知 鸿沟
D. 接踵而至 天堑

16. 实际上，（ ）质疑、化解风险，必须准确把握司法与民意的关系。在不久前召开的第七次全国刑事审判工作会议上，最高人民法院负责人指出，刑事审判不能对民意（ ），搞机械司法，也不能被舆论所左右，搞舆论审判。这对准确把握司法与民意的关系提供了基本的（ ）。

依次填入括号部分最恰当的一项是（ ）。

- A. 消解 无动于衷 遵循
B. 消解 无动于衷 服从
C. 消弭 无动于衷 服从
D. 消弭 从容不迫 遵循

17. 在各类优质产品（ ）的今天，售前售后服务早已成为产品质量的一部分。积极回应消费者（ ），建立完善合理的问题反馈和解决机制，才能让商家和品牌在市场上立于不败之地。

依次填入括号部分最恰当的一项是（ ）。

- A. 不足为奇 央求
B. 司空见惯 哀求
C. 层出不穷 诉求
D. 不一而足 苛求

18. 在一些小区电梯间的显示屏上，由年轻美女明星以及网红代言的美容整容广告基本（ ）了大部分时段，对未成年乃至儿童所带来的负面影响更（ ）。

依次填入括号部分最恰当的一项是（ ）。

- A. 盘踞 不容小觑
B. 盘踞 经久不衰
C. 占领 不容小觑
D. 占领 经久不衰

19. 对于依靠加工制造支撑而起步的中国经济而言，缺乏自有品牌的（ ）与拉动，一直是长期存在的客观现实。然而近年来，在“双创”之风的（ ）下，中国品牌迎来了前所未有的创新浪潮。各行各业涌现出的新品牌犹如雨后春笋，有的甚至一夜之间将行业原有的格局，搅得（ ）。

依次填入括号部分最恰当的一项是（ ）。

- A. 引领 吹拂 天翻地覆
B. 引导 擦过 地动山摇
C. 指挥 吹动 天旋地转
D. 凝聚 掠过 石破天惊

20. 大学生兼职骑手让人钦佩。在他们身上，体现了新一代青年活跃的思维、开阔的视野和敢于行动的勇气。大学不应该“筑起围墙办学”，围墙不只是物理隔离，更是一道文化隔离，容易造成学生与实践脱节。如果学生有大量机会接触社会，在社会实践中发现问题、研究问题、解决问题，他们就能一边获得知识，一边增长才干。在这个过程中，学生可以更加了解自我、了解职场，找准自己的定位，明确发展方向，在未来人生发展过程中，他们将更加游刃有余。

这段文字最有可能出现在一篇文章中的哪个部分？起什么作用？（ ）

- A. 开头 点明主旨
B. 文中 浓墨渲染
C. 文中 举例说明
D. 文末 总结全文

21. 《相见欢·林花谢了春红》是五代十国时期南唐后主李煜的词作。此词是即景抒情的典范之作，它将人生失意的无限怅恨寄寓在对暮春残景的描绘中，表面上是伤春咏别，实质上是抒写“人

“生长恨水长东”的深切悲慨。这种悲慨不仅是抒写一己的失意情怀，更是涵盖了整个人类所共有的生命的缺憾，是一种融汇和浓缩了无数痛苦的人生体验的浩叹。

这段文字是在（ ）。

- A. 感叹李煜作为南唐后主的悲惨遭遇
- B. 说明李煜在创作《相见欢·林花谢了春红》的相关背景
- C. 对《相见欢·林花谢了春红》进行文学赏析
- D. 描绘不同名家对《相见欢·林花谢了春红》的不同看法

22. 面对家暴，受害者要么抱着对方一定会改的心态，要么抱着家丑不外扬的想法，要么就为了所谓的家庭和谐一忍再忍。殊不知，“忍一时风平浪静，退一步海阔天空”这句话对家暴就是“毒药”，忍和让，都是对施暴者的纵容。勇敢站出来及时求救，才是自救。

这段文字意在强调（ ）。

- A. 家庭暴力事件给全社会敲响了警钟
- B. 我国的已婚妇女面对家暴不愿求助
- C. 家暴者与被家暴者都具有家丑不可外扬的想法
- D. 被家暴者不应沉默，而该勇敢地站出来求助

23. 随着年底交付季的到来，不少楼盘被发现严重的质量问题。一些精装修楼盘的隐蔽工程做得很糟糕，水管、电线、开槽，布线很不规范，十分凌乱。令人意外的是，这些问题是业主自己发现的！据媒体报道，相关业主为了维权，与开发商斗智斗勇，用记者的话说，“文能做 PPT、开公众号，武能翻墙探工地”。一些业主为了搞懂建筑问题，自学成才，成了行家里手，让开发商都服气。读了相关报道，冒出一串问号：建设项目不是有监理单位的吗？相关工地的监理工程师在干什么？政府部门不是设有各级工程质量监督站吗？这些监督站如果尽到责任了，哪会有那么多的工程质量问题？

最适合作为本段文字标题的是（ ）。

- A. 业主为什么从购房者转变为维权者
- B. 业主与开发商斗智斗勇，监管部门哪去了
- C. 维权业主“自学成才”
- D. 降标减配成风，业主买房即维权

24. 真实的科学研究没有那么烂漫写意，科研工作者的生活也不像影视剧里那么丰富多彩。科学前进的每一小步，背后都耗费了大量的心血。科研工作者要耐得住寂寞，经得起挫折，受得起失败，每天实验室、家、食堂三点一线的生活，很可能就是职业生涯的常态。这个时候的科研工作者，可能就是一位“孤独的旅行者”。在寻求创新而又尚未取得最终突破的关键时期，是最难熬的日子，也是最容易放弃的阶段，他们需要雪中送炭的帮助，需要一点光，照亮他们继续攀登科学高峰的路，呵护他们不断追寻未知的科学探索精神。

这段话表达的主要观点是（ ）。

- A. 让科学探索成为公众尤其是年轻人的追求，是新时代的风尚

B. 科学研究是一件枯燥的事，只有真正的科学家才能忍受

C. 科学家在成长过程中离不开国家的鼎力支持

D. 应该呵护科学家的探索精神，帮助他们度过黎明前的黑暗

25. 不久前，2019 年诺贝尔化学奖颁发给 3 位科学家，表彰他们在锂离子电池（以下简称“锂电池”）方面的研究，贡献，再次引起人们对锂电池的关注和讨论。从上世纪 70 年代锂电池概念的提出，到上世纪 90 年代进入市场，如今，锂电池已经被应用到方方面面，改变了人们的生活。未来，随着相关研究的深入推进，锂电池的发展和應用将迎来更加广阔的前景，进而推动人类社会能源变革与创新，为经济社会可持续发展、加强环境保护注入新的动能。

与这段文字不相符的一项是（ ）。

A. 对锂电池的研究和应用还没有到尽头

B. 2019 年诺贝尔化学奖已经颁发了

C. 锂电池在上世纪 70 年代开始大规模应用

D. 未来的锂电池可能会推动人类社会能源变革

26. 事实上，“AI 测面相”并无大数据作为基础，毫无智能可言。揭开“AI 测面相”的虚假面纱，让更多人不被人工智能这个时髦词所惑，方能让更多人避免上当受骗。与此同时，需要注意的是，因为相关软件的推广带来与传销相似的做法，比如“零门槛副业赚钱”“18 天推广佣金过万”的代理模式，不仅很具有诱惑性，而且可产生滚雪球似的营销效果，最终让参与者不仅是受害者，而且可以摇身一变成为加害者。“AI 测面相”成为赚钱工具，其真实与否对于“加盟者”反倒显得不重要。

作者对“AI 测面相”的态度是（ ）。

A. 支持，这是大数据的合理应用

B. 支持，这是人工智能的最新应用

C. 不支持，该软件测算结果真实可靠但所带广告虚假

D. 不支持，该软件只是赚钱工具并无真实性可言

27. 以贵阳为例，山城地势复杂多样，交通建设成本也高，长期以来就以堵闻名，但由于引入互联网思维，推动交通基础设施的智能化建设，近年来贵阳的交通拥堵状况已有明显改善，这也是支撑其最终放开限购的重要客观条件。另外，随着网络普及，互联网数字技术在城市交通管理当中的运用也越来越普遍，也成为打破城市交通堵点的一大利器。譬如，杭州余杭区公安交警部门就联合区数字管理局经过大量数据汇总比对分析，基于阿里云技术，研发出一套智慧交通蓝图。这套能准确计算出“延误指数”的数字交通在线新应用，可以做好交通削峰填谷的协调工作，充分整合利用现有道路智能交通设备，为防控城市交通拥堵工作提供新的有效解决方案。

作者想要举例说明（ ）。

A. 互联网数字技术能有效地防控城市交通拥堵情况

B. 汽车限购是治理交通拥堵情况的好方法之一

C. 互联网数字技术对交通贡献仅体现在治堵上

D. 互联网数字技术使汽车不再限购

28. 据媒体报道, 宁波多了个“网红小区”——江北区甬江街道万丰社区江湾花苑小区。小区 2016 年 6 月交付, 现有居民 424 户, 是一个小型住宅小区。2017 年, 第三方公司随机调查结果显示, 江湾花苑的高地物业, 居民满意度仅 13 分, 在该物业的全国排名中倒数。可短短的一年多时间里丑小鸭变白天鹅, 今年 7 月的调查显示, 该小区物业的居民满意度为 90 分, 在总部所属项目中排名全国第一。

作者接下来最有可能描写 ()。

- A. 所有小区都应该向江湾花苑小区学习治理手段
- B. 江湾花苑小区是通过哪些方法提高居民满意度的
- C. 物业在江湾小区成为“网红小区”中所起到的作用
- D. 居民满意度离不开小区自治, 而小区自治需要业主热心

29. ①总不能逃避一生吧

②“逃避式考研”能否给你更好的人生前景, 恐怕也是一个未知数

③当逃避成为人生态度之后, 更加有害

④逃避并不是一种积极的人生态度, 第一次面对无法解决的问题时选择逃避, 第二次、第三次面临时怎么办

⑤因为想逃避一种生活, 而陷入了另一种无可逃避的生活之中, 这是很多“逃避式考研”者的一种真实状态, 这种感觉并不好

将以上 5 个句子重新排列, 语序正确的是 ()。

- A. ②④①⑤③
- B. ②⑤①④③
- C. ③②①⑤④
- D. ③⑤②④①

30. ①极端情形下, 还可能酿成重大安全事故

②当下社会文化比较宽容, 中国人过洋节早不算什么新鲜事

③万圣节是“舶来品”, 因节日里怪异、另类的装扮, 许多人对这个节日一直有异议, 但也受到一些追求刺激的年轻人喜欢

④如果不分场合, 化着恐怖妆走进地铁等公共空间, 容易引发恐慌

⑤然而, 凡事讲求一个“度”, 须因地因时制宜才好

将以上 5 个句子重新排列, 语序正确的是 ()。

- A. ⑤②④③①
- B. ⑤①②③④
- C. ③⑤①④②
- D. ③②⑤④①

31. 已知母亲与儿子的年龄差为 30 岁, 8 年后母亲的年龄是儿子年龄的 2 倍, 则母亲现在的年龄为 () 岁。

- A. 48
- B. 50
- C. 52
- D. 55

32. 小洁参加了 3 次高三数学模拟考试, 已知第一次模拟考试成绩取得 135 分以上的概率是 40%, 第二次模拟考试成绩取得 135 分以上的概率是 50%, 第三次模拟考试成绩取得 135 分以上的概率是 60%, 则小洁三次成绩都不高于 135 分的概率为 ()。

- A. 12%
- B. 15%
- C. 21%
- D. 35%

33. 小陈决定买情侣手机壳，已知 6 元一对的情侣手机壳有 6 种，12 元一对的情侣手机壳有 8 种，18 元一对的情侣手机壳有 2 种，且手机壳必须成对销售，若小陈共消费了 24 元且每对手机壳不重复购买，则小陈有（ ）种选择。

- A. 4 B. 60 C. 175 D. 678

34. 某学校组织带学生购买一些水果送给养老院的老人们，其中购买的苹果和猕猴桃的数量之比为 4:3。若 80 岁以下的老人每人可分得苹果和猕猴桃各 3 个，则 80 岁及 80 岁以上的老人每人恰好可分得苹果 3 个、猕猴桃 2 个，则该养老院 80 岁及 80 岁以上的老人占比为（ ）。

- A. 25% B. 50% C. 75% D. 80%

35. 某幼儿园大班共 152 人，分为 A、B 两个班，已知 A、B 两个班男生与女生人数之比为 2:3 和 5:7，若 A 班男生人数比 B 班男生人数多 2 人，则该幼儿园大班共有（ ）名女生。

- A. 48 B. 62 C. 86 D. 90

36. 某师傅带有两个学徒，现有一批零件需完成，师傅与学徒甲合作完成这批零件的时间比学徒甲、乙合作完成的时间少 6 天，已知师傅、学徒甲、学徒乙的工作效率之比为 5:3:1，则师傅与学徒乙合作 7 天后，学徒乙再单独做（ ）天可完成。

- A. 8 B. 6 C. 5 D. 4

37. 某公交共有 17 个站台，从初始站到终点站的时间为 125 分钟，该公交从驶离第 4 站到抵达第 10 站，用时 45 分钟。若公交在相邻两站之间的运行时间相同，且在每个站的停靠时间也相同，则公交从初始站到终点站共停靠了（ ）分钟。

- A. 30 B. 45 C. 48 D. 50

38. 小丽打算参加 2020 年国编教室招聘考试，提前买了一本《教育综合知识》，已知她 15 天看了整本书的 $\frac{1}{3}$ ，小丽想提前进入刷题阶段，所以她打算比计划提前 6 天看完这本书，则小丽之后每天看书的工作量比计划提高（ ）。

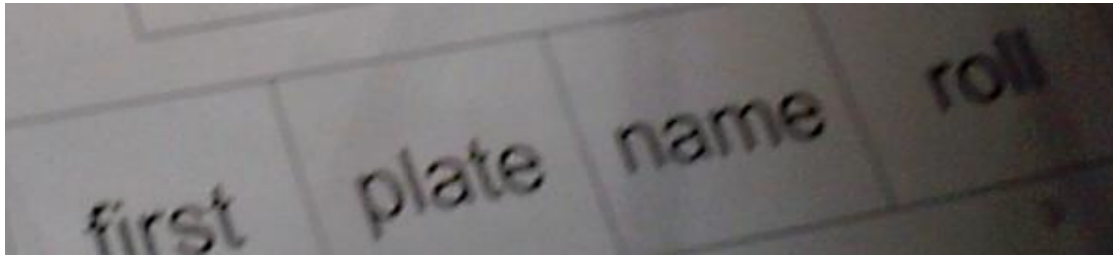
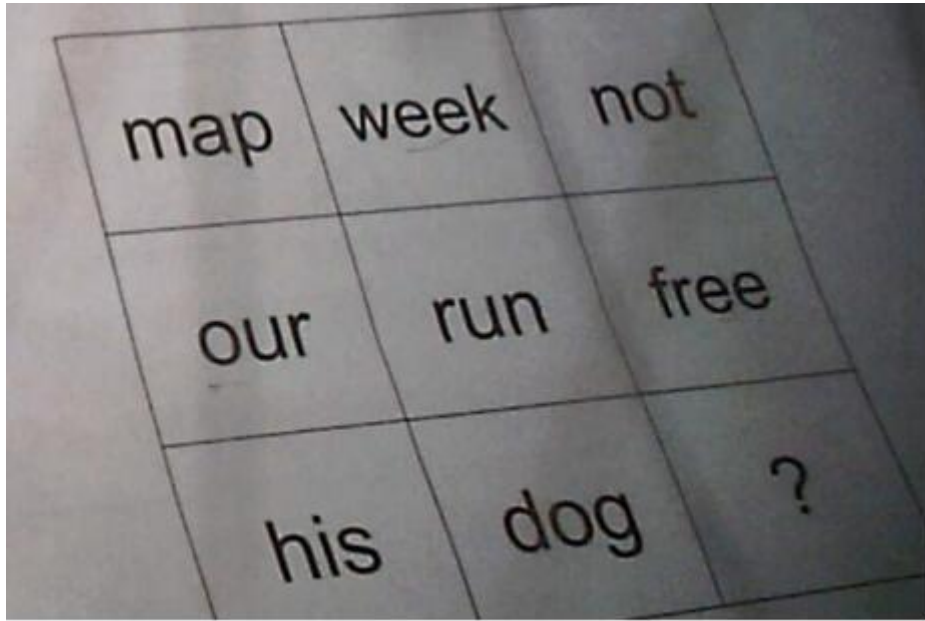
- A. 15% B. 20% C. 25% D. 30%

39. 现有一瓶浓度为 30% 的盐水，加入一定量的盐后，盐水浓度变为 45%，再加入若干克盐后变为浓度为 50% 的盐水，则前后两次加入的盐量之比为（ ）。

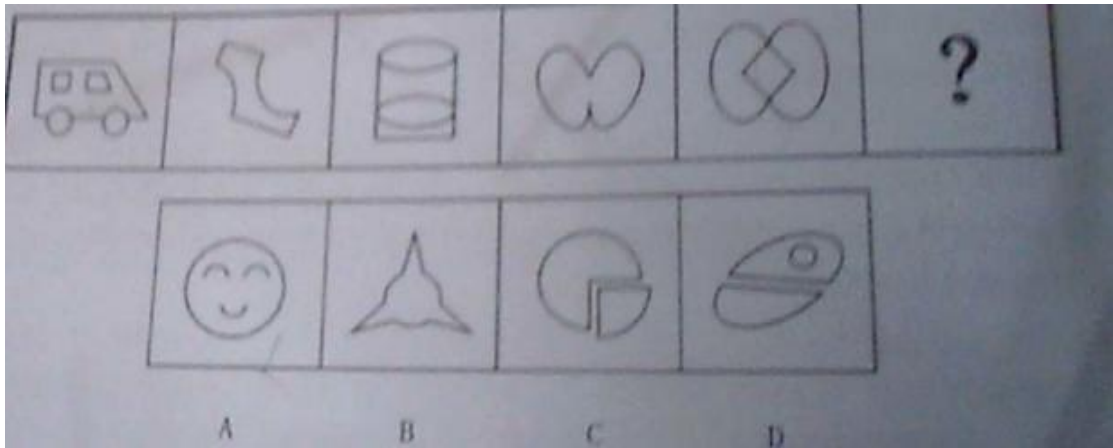
- A. 2:1 B. 3:1 C. 3:2 D. 5:2

40: 略（后续更新）


41. 从所给的四个选项中，选择最合适的一个填入问号处，使之呈现一定的规律性。



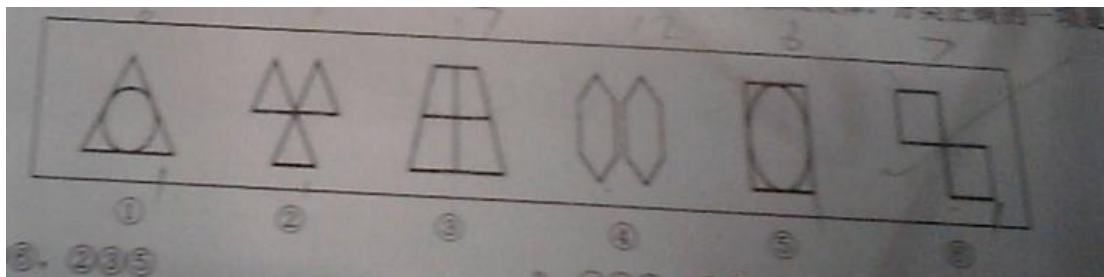
42. 从所给的四个选项中，选择最合适的一个填入问号处，使之呈现一定的规律性。



43. 从所给的四个选项中，选择最合适的一个填入问号处，使之呈现一定的规律性。

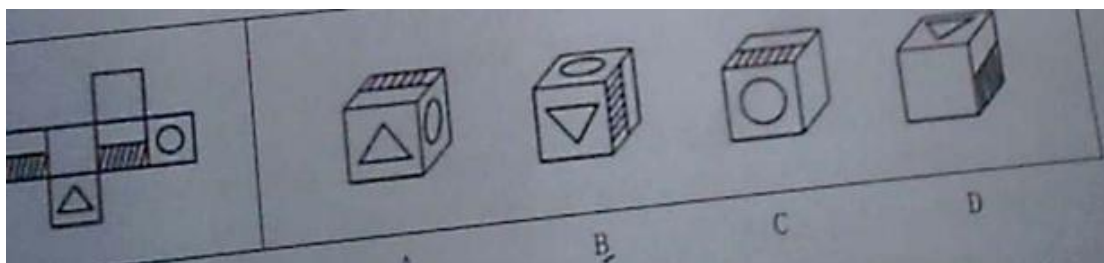


44. 把下面的六个小图形分为两类，使每一类图形都有各自的共同特征或规律，分类正确的一项是。



A. ①④⑥, ②③⑤ B. ①②④, ③⑤⑥ C. ①②③, ④⑤⑥ D. ①③④, ⑤②⑥

45. 下图左边给定的是纸盒的外表面，下面哪一项能由它折叠而成？



46. 拇指规则又叫“经验法则”，是一种可用于许多情况的、简单的、经验性的、探索性的但不是很准确的原则。

根据上述定义，下列没有运用到拇指规则的是（ ）。

A. 卖肉的老板只要掂掂手里的肉，就知道有几斤几两

- B. 某农场引进新品种后，获得了大丰收
- C. 有经验的篮球评论员赛前会预测比赛结果，而且准确率较高
- D. 老奶奶看了一眼天空，对我们说快要下雨了

47. 比例偏见是指在很多场合，本来应该考虑数值本身的变化，但是人们更加倾向于考虑比例或者倍率的变化，也就是说人们对比例的感知，比对数值本身的感知更加敏感。

根据上述定义，下列不属于比例偏见的是（ ）。

- A. 比起买 1000 元的电饭煲送 50 元的不粘锅，买 999 元的电饭煲，再加 1 块钱，就可以换购 50 元的不粘锅更受消费者喜爱
- B. 一款手机售价 2000 元，相机的像素是 500 万。这个时候同样的配置，像素升到了 1000 万，手机的售价只要 2200 元，消费者会觉得很划算
- C. 同一部原价 5000 元的电脑，甲商店优惠 5%，乙商店直降 250 元，但甲商店的销售业绩明显比乙商店要好
- D. 同一块手表，甲商店卖 100 元，乙商店卖 60 元，很多人会选择花更多的时间，从甲商店到乙商店去买手表，来节省这 40 元

48. 责任推卸定律是人们一旦预测到在不久的将来自己会与某件事情产生瓜葛，就会从这一分钟开始推卸掉与此事相关的一切责任，而承担责任的往往是对情况一无所知的人。

根据上述定义，下列属于责任推卸定律的是（ ）。

- A. 为了避免台风造成人员伤亡，某市决定将一部分市民紧急转移到安全避难区
- B. 小李在最后时刻的失误导致球队输掉了比赛，赛后，小李主动向主教练承担责任，但主教练没有责怪他
- C. 经理小王在得知这次任务的执行结果会影响职位晋升后，谎称自己身体不舒服，将此任务转交给对这次任务完全不知情的副经理小赵
- D. 小刘在得知此次的实验没有成功后，感觉很庆幸，因为他从一开始就退出了此次实验任务

49. 达克效应，全称为邓宁-克鲁格效应。它是一种认知偏差现象，指的是能力欠缺的人在对自己欠考虑的决定的基础上得出错误结论，但是无法正确认识到自身的不足，辨别错误行为。这些能力欠缺者们沉浸在自我营造的虚幻的优势之中，常常高估自己的能力水平，却无法客观评价他人的能力。

根据上述定义，下列没有设计达克效应的是（ ）。

- A. 甲被同学叫做运动健将，以为自己运动天赋很强，于是报名参加马拉松，结果只跑了 1/3 就放弃了
- B. 要想学好英语，必须多读多记，乙初学英语，口语不是很好，经常受到同学的嘲笑，但他认为只要肯下功夫，就会有收获
- C. 丙在公司呆了几年，认为自己能力很强，出去单独开公司，最后因经营不善而破产
- D. 丁总是认为自己基础扎实，考试前从不复习，也看不起考试前在那背书的同学，但是考试成绩下来后，丁的成绩在班上排名倒数

50. 法律援助是指由政府设立的法律援助机构组织法律援助的律师，为经济困难或特殊案件的人给予无偿提供法律服务的一项法律保障制度。

根据上述定义，下列属于法律援助的是（ ）

- A. 小郑请了一位有名的律师为他打离婚的官司
- B. 某法院在节假日为阳光社区做义务法律咨询
- C. 周律师近年来一直在为农民工欠薪官司奔波，但收效甚微
- D. 盲人小钱因涉嫌盗窃被起诉，他无亲人，检察院委派一名律师担任其辩护人

51~55 题中，每道题给出一组相关的词，请在备选答案中找出一组与之在逻辑关系上最为贴近、相似或匹配的词。

51. 整数：自然数

- A. 垃圾：干垃圾
- B. 分数：无理数
- C. 小于号：大于号
- D. 森林：树木

52. 阅读：书籍

- A. 搜索：信息
- B. 玉树：临风
- C. 全面：调查
- D. 大声：呼叫

53. 学生：党员

- A. 医生：天使
- B. 电脑：手机
- C. 诗人：教师
- D. 女人：美丽

54. 趋炎附势：如蚁附膻

- A. 不自量力：以卵投石
- B. 雪中送炭：雪上加霜
- C. 安居乐业：颠沛流离
- D. 名副其实：名不副实

55. 文章：作家：发表

- A. 艰辛：生活：充满
- B. 运动：儿童：操场
- C. 电脑：程序员：编辑
- D. 作品：画家：展示

56. 除非有足够的资金保障，否则任何公司都不可能既赞助篮球，又赞助足球。

以下哪项与上述陈述的意思最为接近？（ ）

- A. 任何公司如果有足够的资金保障，必然既赞助篮球，又赞助足球
- B. 任何公司如果有足够的资金保障，都有可能既赞助篮球，又赞助足球
- C. 任何公司如果没有足够的资金保障，仍有可能既赞助篮球，又赞助足球
- D. 任何公司如果没有足够的资金保障，必然或者赞助不了篮球，或者赞助不了足球

57. 品行不好的人不可能成为哲学家，没有一个真诚的智者学习卜卦术，卜卦家均学习卜卦术，但是有些卜卦家却是哲学家。

以下哪项如果为真，最能反驳上述观点？（ ）

- A. 品行好的人都是真诚的智者
- B. 有些品行好的人不是真诚的智者

C. 有些真诚的智者都是品行好的人 D. 有些卜卦家不是哲学家

58. 小北准备休年假去看 CBA（中国男子篮球职业联赛），出发前，她参考了网友的看法和实际情况，综合来看，有以下三条建议：

- (1) 如果去看广东队，就不去看浙江队；
- (2) 浙江队和北京队择一去看；
- (3) 北京队和浙江队不都看。

实际上，小北没有接受上述三条建议中的任何一条，则关于小北所去看的队，以下哪项描述正确？（ ）

- A. 去看广东队和浙江队，不去看北京队
- B. 广东队、浙江队、北京队都去看
- C. 广东队、浙江队、北京队都不去看
- D. 不去看广东队，去看浙江队和北京队

59. 数据显示，2019 年天猫双十一成交额再创新高，这足以说明现在很多人越来越喜欢通过网络购物。因为网上购物非常方便，因此余教授认为，实体店将会迎来寒冬，在不远的将来，越来越多的实体店将会被网络商店所取代。

以下哪项如果为真，最能削弱余教授的观点？（ ）

- A. 网购虽然方便，但是个人信息容易被泄露
- B. 通常情况下，网络商店只有在实体商店的支撑下才能生存
- C. 当购买贵重商品时，考虑到安全因素，许多人会选择实体店而不是网络商店
- D. 有些网络卖家经常延迟发货，且快递速度很慢

60. 光速是指广波或电磁波在真空或介质中的传播速度。真空中的光速是目前所发现的自然界物体运动的最大速度。近日，S 天文台监测到某黑洞有一种疑似超越光速的物质。根据测量，这种物质的速度的确已经超越光速。李教授据此认为：光速最大理论应该被推翻。

以下哪项如果为真，最能质疑李教授的观点？（ ）

- A. 无数次试验和实践都证明光速最大理论是正确的
- B. 测量数据可能存在一些偏差
- C. 要么 S 天文台的观测有误，要么有人篡改了疑似超越光速的物质的测量数据
- D. 如果 S 天文台的观测和测量数据没有问题，光速最大理论就应该被推翻

根据以下资料，回答 61~65 题。

2019 年 10 月全国邮政行业发展情况表

指标名称	单 位	10 月份		同期增长 (%)	
		累 计	当 月	累 计	当 月
一、邮政行业业务收入	亿元	7704.4	821.7	21.3	21.4
1. 邮政寄递服务	亿元	345.5	38.4	11.1	24.0
2. 快递服务	亿元	5929.0	658.0	24.0	23.2
二、邮政行业业务总量	亿元	12721.9	1473.1	31.3	31.1

1. 邮政寄递服务	万件	2015581.4	211454.8	2.8	10.0
2. 快递业务	万件	4966441.2	575730.1	26.0	22.7
其中：同城	万件	877519.0	94270.2	-2.0	-4.9
异地	万件	3975940.7	468487.0	34.4	30.0
国际/港澳	万件	112981.5	12972.9	28.1	35.1
台					

注：邮政行业业务收入中包括邮政储蓄银行直接营业收入

61. 2018 年 10 月份，邮政行业业务总收入约为（ ）亿元。

- A. 668.3 B. 676.9 C. 748.6 D. 778.5

62. 2018 年，10 月份快递业务收入占 1~10 月累计快递业务总收入的比重约为（ ）。

- A. 11.2% B. 16.5% C. 18.6% D. 21.2%

63. 2019 年 10 月份，同城快递业务量占快递业务总量的比重较上年同期约（ ）。

- A. 提高了 5.69 个百分点 B. 下降了 5.69 个百分点
C. 提高了 4.75 个百分点 D. 下降了 4.75 个百分点

64. 2019 年 1~10 月邮政寄递服务收入的同期增长量约为（ ）亿元。

- A. 25.6 B. 30.4 C. 34.5 D. 45.4

65. 根据上述资料，下列说法错误的是（ ）。

- A. 2018 年 10 月份国际/港澳台快递业务量约为 0.96 亿件
B. 2019 年 1~9 月平均每月的快递业务收入约为 610 亿元
C. 2019 年 10 月邮政寄递服务量的同期增长量超过 1 亿件
D. 2019 年 10 月份异地快递业务量约占 1~10 月累计异地快递业务总量的 12%

根据以下资料，回答 66~70 题。

2019 年 1~9 月，浙江消费市场平稳增长，全省实现社会消费品零售总额 19342 亿元，同比增长 8.5%，继续领先于东部沿海主要省市。网络零售成绩亮眼，达成零售额 12464.4 亿元，增长 17.1%。省内居民网络消费 6595.3 亿元，同比增长 18.1%；网络零售顺差达到 5869.2 亿元。2019 年 1~9 月，浙江省跨境网络零售出口 535.7 亿元，同比增长 39.0%；其中，金华市、杭州市、温州市等 3 地居全省前三名，占比分别为 52.4%、21.3%、9.6%，占全省跨境网络零售出口的 83.3%。

2019 年 1~9 月浙江省各地市网络零售和居民网络消费基本情况

地 方	网络零售（亿元）	同比增长（%）	居民网络消费（亿元）	同比增长（%）
全省	12464.4	17.1	6595.3	18.1
杭 州	4303.3	15.4	1826.2	17.0
宁 波	1223.1	17.8	978.9	17.9
温 州	1452.2	16.6	893.5	19.9

湖州	458.2	22.1	281.4	17.0
嘉兴	1197.0	18.6	514.5	17.0
绍兴	417.0	18.8	459.1	18.3
金华	2117.1	15.9	686.9	21.0
衢州	158.2	37.1	135.5	24.4
舟山	47.6	31.7	125.7	15.9
台州	859.9	17.3	524.7	15.4
丽水	230.8	25.6	169.2	21.1

2019年1~9月,浙江全省进出口总额2.2万亿元,增长6.3%,高于全国3.5个百分点,增速继续居沿海主要省市前列。其中,出口1.7万亿元,增长7.5%,高于全国2.3个百分点,较上年加快0.9个百分点,占全国份额为13.5%,较去年底提高0.6个百分点。

66. 2019年1~9月,全省实现社会消费品零售总额同比增长量约为()亿元。

- A. 1423 B. 1515 C. 1643 D. 1735

67. 2018年1~9月,全省网络零售总额约是同年省内居民网络消费额的()倍。

- A. 1.9 B. 2.3 C. 2.5 D. 3.0

68. 2019年1~9月,全省网络零售同比增长量超过100亿元的地市有()个。

- A. 4 B. 5 C. 6 D. 7

69. 2019年1~9月,全省出口额占全省进出口总额的比重较上年同比约()。

- A. 提高了0.86个百分点 B. 下降了0.86个百分点
 C. 提高了1.52个百分点 D. 下降了1.52个百分点

70. 根据上述资料,下列说法正确的是()。

- A. 2018年1~9月,温州居民网络消费额约为795.2亿元
 B. 2019年1~9月,全国出口总额约为25.63万亿元
 C. 2018年1~9月,嘉兴网络零售额约占全省网络零售额的9.5%
 D. 2019年1~9月,全国进出口总额的增长率约为6.27%

二、多选题(共10题,每小题1.4分,共14分。)

71. 中共中央、国务院于2019年12月1日印发了《长江三角洲区域一体化发展规划纲要》,《纲要》指出,长江三角洲区域一体化发展规划范围包括()全域。

- A. 上海市 B. 江苏省 C. 浙江省 D. 安徽省

72. 党的十八大以来,以习近平同志为核心的党中央,把脱贫攻坚作为全面建成小康社会的重要内容,脱贫攻坚取得了历史性成就。下列选项中,属于我国脱贫攻坚战取得的历史性成就有()。

- A. 脱贫攻坚取得了明显成效，城乡区域发展和收入分配已无差距
- B. 形成了内涵丰富、思想深刻、体系完整的脱贫攻坚战略思想
- C. 形成了“四梁八柱”的制度体系，为打赢脱贫攻坚战提供了有力的制度保障
- D. 开展了脱贫攻坚重点工作，确保脱贫工作务实、脱贫过程扎实、脱贫结果真实

73. 下列名句中，与其作者对应错误的有（ ）。

- A. 人生得意须尽欢，莫使金樽空对月——李白
- B. 春蚕到死丝方尽，蜡炬成灰泪始干——王维
- C. 欲把西湖比西子，淡妆浓抹总相宜——苏轼
- D. 沉舟侧畔千帆过，病树前头万木春——杜牧

74. 随着气温越来越低，园林工人会将树干涂白，其作用有（ ）。

- A. 催化生长
- B. 杀菌、防虫
- C. 不因昼夜温差巨大而冻裂
- D. 方便夜间行路

75. 海洋是生命的起源之地，但海洋本省是很脆弱的，自净能力有限。下列选项中，属于海洋对环境合理的治理措施有（ ）。

- A. 加大海洋垃圾清理力度
- B. 开展沿海城市海洋垃圾污染综合防控示范
- C. 将海洋垃圾纳入海洋环境例行监测范围
- D. 积极参与应对海洋垃圾和塑料污染的国际进程

76. 某日暴雨，小邹路过一施工现场是，暴雨将电线打落至小邹身体上，在电线移除后，小邹已无知觉，呼吸停止但心跳尚存。下列救治做法中，正确的有（ ）。

- A. 静卧休息，并请医生救治
- B. 施行人工呼吸
- C. 采取胸外心脏挤压法
- D. 不予救治

77. 走进城市的大街小巷，不难发现许多这样的微型家政服务公司：简陋到只有一间铺面、一部电话、几位阿姨，坐等雇主上门。公司与家政服务人员之间属于“搭伙过日子”的松散型关系，事前无培训、事中缺监督、品质难保障。有些公司所掌握的家政服务人员信息，不会超过一张身份证。假如雇主与家政服务人员发生纠纷，家政服务人员“玩失踪”，公司也未必找得着人，更负不起责任。如果大企业、品牌企业参与服务市场供给，情况就会有大的改变，无论是企业对家政服务人员的管理、消费者权益的保障，还是政府对企业的监管，都要容易得多、有效得多。

根据这段文字，下列说法不正确的有（ ）。

- A. 运营成本低的微型家政服务公司已成为家政行业的趋势
- B. 许多家政公司为保证服务质量会细心培养家政服务人员
- C. 许多家政公司与家政服务人员只是松散型关系，消费者权益很难保障
- D. 家政服务人员的监管问题需要政府出台相关法律，家政公司无法起到监管作用

78. 人脸识别作为基于人的脸部特征信息进行身份识别的生物识别技术，具体应用的过程中必然要采集并保存含有人脸的图像或视频流。但包括人脸在内的图片或其他信息属于应受法律严格保

护，遵循合法、正当、必要的原则，明示收集、使用信息的目的、方式和范围，并经消费者同意。经营者及其工作人员对收集的消费者个人信息必须严格保密，不得泄露、出售或者非法向他人提供。

根据这段文字，下列说法正确的有（ ）。

- A. 经营者向他人出售消费者个人信息是违法行为
- B. 任何使用消费者的个人信息的行为只需经消费者同意即可
- C. 消费者的个人信息受到法律保护，经营者不能非法收集
- D. 人脸识别属于生物识别技术，具体应用过程中有泄露风险

79. 员工沉默是指当员工有能力改进当前组织状况时却保留了对组织环境在行为、认知或情感上的评价，没有把这种真实感受报告给自己认为能作出改变或矫正的人，是一种员工对组织中潜在问题保留个人观点的组织文化现象。将影响员工沉默的性格方面和自我效能方面的因素抛开，基于员工动机的不同，可将员工沉默分为三类：漠视性沉默、人际恐惧沉默和默许性沉默。漠视性沉默是指员工由于对组织低水平的承诺而消极保留观点；人际恐惧沉默是员工为了避免发表意见而产生人际隔阂；默许性沉默是指员工预期自己没有能力改变现状而被动、消极地保留观点。

根据上述定义，下列不属于默许性沉默的有（ ）。

- A. 小周是个高中生，经常在厕所看到一群学生在吸烟，但是他不愿多管闲事，便没有向老师反映这个情况
- B. 小吴和小赵是同一家公司的员工，他们之间有些矛盾，小吴看到小赵的设计方案有很大的漏洞，但是他选择视而不见
- C. 某公司打算推出新款手机，小郑经过市场调查后认为现在不适宜推出新款手机，公司总经理不认可他这个观点，所以在新款手机研讨会上小郑并未发表意见
- D. 小王是某公司的销售职员，他发现部门老蔡擅自拿客户的回扣，但在老蔡的威胁下小王假装不知道此事

80. 不努力的人肯定不能成为一名音乐家，但非常努力的人也不一定能成为一名音乐家。在导致人成为一名音乐家的其他因素当中，大部分因素属于天赋。

由此不可以推出（ ）。

- A. 一个有天赋的人后天又很努力，那么其必定能成为一名音乐家
- B. 天赋和努力程度对成为一名音乐家很重要
- C. 非常努力的人，天赋一定很低
- D. 天赋很高的人不一定能成为一名音乐家

三、判断题（共 20 题，每小题 0.8 分，共 16 分。正确的选“A”，错误的选“B”。）

81. 《疫苗管理法》于 2019 年 12 月 1 日起施行，法律规定政府以成本价向居民提供免疫规划疫苗。

82. 2019 年 11 月 22 日，习近平主席在人民大会堂会见出席 2019 年“创新经济论坛”外方代表。习近平指出，创新是当今时代的重大命题。

83. 建设现代化经济体系，必须把发展经济的着力点放在实体经济上，把提高供给体系质量作为主攻方向，显著增强我国经济质量优势。

84. 吸食毒品属于违法及犯罪行为。

85. 小朱侄子一家到小朱家拜访，五岁的侄子看到小朱的笔记本电脑就抢着要玩。小朱百般制止无果，侄子的父母也未予以阻拦。后侄子将笔记本电脑摔坏，小朱报警。在此过程中，其侄子的父母并未构成犯罪。

86. “桂冠”“鳌头”“问鼎”均是表示第一的词语。

87. 古代科举制度最高级别的考试为殿试，录取分三甲。

88. “遥知不是雪，为有暗香来”一句中，描写的花是牡丹。

89. 在寒冷的天气里，人们的手指、手臂和脚往往是最后变凉的。

90. 地震是可以由地震仪提前预测并测量出地震的强度、方向。

91. 齐白石画虾堪称画坛一绝，其通过毕生的观察，力求深入表现虾的形神特征。（ ）

92. 京剧脸谱，是一种具有中国文化特色的特殊化妆方法，项羽脸谱的专用眉为寿字眉。（ ）

93. 现代社会出行只需要一部能上网的智能手机，是因为地图、路况等复杂的信息都储存在服务提供商的“云”中，这正是基于云计算技术的 GPS 带给了人们这一切。（ ）

94. 珠江是我国南方的一条大河，其中东江最长，通常被称为珠江的主干。（ ）

95. “对于高考命题，相关各方不可谓不重视，都是以万无一失的要求开展相关工作。但人非圣贤，孰能无过。就命题环节而言，虽然反复斟酌，亦难免百密一疏，此次单选题出现两个答案，便是典型例证。”句中“人非圣贤，孰能无过”这一典故使用恰当。（ ）

96. “高仿微信公众号招摇撞骗的背后，暴露出微信平台在公众号审核和监督方面存在漏洞。”句中“招摇撞骗”这一词语使用不恰当。（ ）

97. 已知刚收割的玉米其含水量为 28%，放到太阳底下晒半天，其含水量为 10%，那么晒了的玉米的重量是刚收割玉米重量的 64%。（ ）

98. 某班有 50 位同学参加足球运球和篮球运球两项体育达标测试，最终结果足球运球测试不及格的有 15 人，篮球运球不及格的有 19 人，两项运球都及格的有 21 人，那么该班级两项运球都不及格的有 5 人。（ ）

99. 相对反义词在意义上互相对立，肯定甲必否定乙，肯定乙必否定甲；但是，否定甲不一定就是肯定乙，否定乙也不一定就是肯定甲。则生和死是一对相对反义词。（ ）

100. “并非有的演员不可能有演技”的等价命题是“所有演员可能有演技”。（ ）

2019年10月19日浙江省青田县事业单位考试试卷

《职业能力倾向测验》

一、单选题（本大题共100分，每小题1分，共100分，请将最恰当的一个选项前的字母填涂在《答题卡》对应题号处。）

1. 近日，“国家荣誉称号”获得者樊锦诗属（ ）。
A. 文化保护杰出贡献者 B. 人民英雄
C. 人民教育家 D. 人民艺术家
2. 近日，土耳其对（ ）境内的库尔德武装发动军事行动，引发国际社会关注。
A. 黎巴嫩 B. 约旦 C. 伊拉克 D. 叙利亚
3. 2019年8月（ ）当选澳门特区第五任行政长官。
A. 何厚桦 B. 崔世安 C. 梁振英 D. 贺一诚
4. 近日，习近平对印度的访问，开启了“龙（ ）共舞”的新局面。
A. 熊 B. 鹰 C. 象 D. 虎
5. 我们今天所讲的“不忘初心、牢记使命”中的“初心”是指（ ）。
A. 为人民谋幸福 B. 实现共产主义
C. 坚持中共领导 D. 祖国的强大
6. 近日，美国特朗普总统和（ ）总统通话，表述了不该表述的内容，而深陷“电话门”。
A. 俄罗斯 B. 波兰 C. 乌克兰 D. 土耳其
7. “曹国门”事件是最近发生于（ ）的政治事件。
A. 日本 B. 菲律宾 C. 韩国 D. 泰国
8. 今年的诺贝尔和平奖授予了埃塞俄比亚总理阿比·艾哈迈德·阿里，阿里获奖原因是（ ）。
A. 取消种族隔离 B. 解决了与邻国的冲突
C. 制定了让女童上学的法律 D. 在本国实现了耕者有其田
9. 马克思主义哲学和具体科学的关系是（ ）的关系。
A. 领导和被领导 B. 部分和整体 C. 全局和局部 D. 一般和个别
10. 整个认识的起点是（ ）。
A. 感觉 B. 概念 C. 知觉 D. 表象
11. 主要矛盾和矛盾主要方面原理要求我们在实际中坚持（ ）。
A. 一点论 B. 两点论 C. 重点论 D. 均衡论
12. 中国特色社会主义的本质要求和重要保障是（ ）。
A. 全面深化改革 B. 全面建设小康社会
C. 全面依法治国 D. 全面从严治党

13. 科学发展观的基本要求是（ ）。
- A. 以人为本
B. 统筹兼顾
C. 发展
D. 全面、协调、可持续
14. 最先把科学社会主义理论变为社会主义制度实践的是（ ）。
- A. 马克思
B. 列宁
C. 斯大林
D. 毛泽东
15. 以下犯罪主体必须是国家工作人员的是（ ）。
- A. 行贿罪
B. 侵占罪
C. 贪污罪
D. 危害公共安全罪
16. 以下不属于我国刑罚主刑的是（ ）。
- A. 管制
B. 拘役
C. 死刑
D. 缓刑
17. 依照我国现行宪法的规定，国务院对各部、各委员会发布的不适当的命令、指示和规章有权予以（ ）。
- A. 收回
B. 废除
C. 改变或撤销
D. 发回重议
18. 甲到外地出差，委托邻居乙照看家。一日，乙将甲的一盆花搬到阳台上，不巧花盆被风吹落，将行人丙砸伤，花掉医药费 400 元，此医药费应由（ ）负担。
- A. 甲
B. 乙
C. 甲、乙双方
D. 丙
19. 我国股份有限公司股本的法定资本最低限额是人民币（ ）。
- A. 500 万元
B. 1000 万元
C. 2000 万元
D. 3000 万元
20. 以下不属于我国刑诉强制措施的是（ ）。
- A. 拘传
B. 拘留
C. 剥夺政治权利
D. 取保候审
21. 继承开始的时间是（ ）。
- A. 被继承人死亡时间
B. 被继承人失踪时间
C. 立好遗嘱时间
D. 法院宣判时间
22. 小张利用财务工作之便，贪污了单位现金 3 万元，单位并未发现，小张在法律威慑下，主动向单位交回全部赃款，小张的行为构成（ ）。
- A. 犯罪预备
B. 犯罪中止
C. 犯罪未遂
D. 犯罪既遂
23. 欧盟的前身是（ ）。
- A. 欧安会
B. 欧共体
C. 北约
D. 华约
24. 区分人类历史上不同的社会形态的根本标志是（ ）。
- A. 社会文明水平
B. 社会经济制度
C. 市场发达程度
D. 科技发展水平
25. 区别不同税种的主要标志是（ ）。
- A. 纳税人
B. 税率
C. 课税对象
D. 纳税环节
26. 市场经济的活动主体不包括（ ）。
- A. 社会
B. 家庭
C. 企业
D. 政府
27. 下列各项中，对政府预算执行情况进行的总结是（ ）。
- A. 决算
B. 下年度政府预算
C. 财政收支计划
D. 审计报

28. 促销的实质是 ()。

- A. 推出产品广告 B. 观察受众反应 C. 协调公共关系 D. 传递和沟通消息

29. 资本主义扩大再生产的重要源泉是 ()。

- A. 价值形成 B. 可变资本 C. 资本积累 D. 必要劳动

30. 发文登记一般采用的形式是 ()。

- A. 联单式 B. 簿册式 C. 卡片式 D. 图表式

31. 用于答复下级机关请示事项的公文是 ()。

- A. 指示 B. 请示 C. 批复 D. 命令

32-33 缺 (后续更新)

34. 下列文种必须以领导人签发日期为成文日期的是 ()。

- A. 工作总结 B. 会议报告 C. 条例 D. 请示

35. 公文的主送机关是指 ()。

- A. 公文的主要受理机关 B. 公文的协办机关
C. 公文的发文机关 D. 公文的知照机关

36. 在公文办理程序中, 能充分体现秘书部门在办文办事中出谋献策, 变被动服务为主动服务, 发挥参谋手作用的环节是 ()。

- A. 分办 B. 承办 C. 注办 D. 拟办

37. 《三都赋》的作者是 ()。

- A. 司马相如 B. 张衡 C. 左思 D. 陆游

38. 提出“文章合为时而著, 歌诗合为事而作”的诗人是 ()。

- A. 杜甫 B. 白居易 C. 刘禹锡 D. 王维

39. 新文化运动与文学革命的主要阵地是 ()。

- A. 《新青年》 B. 《每周评论》 C. 《湘江评论》 D. 《少年中国》

40. 下列现代小说家中, 具有感伤的、抒情的浪漫主义特色的作家是 ()。

- A. 郁达夫 B. 鲁迅 C. 巴金 D. 郭沫若

41. 20 世纪 80 年代中国战争题材小说的代表作是 ()。

- A. 《白鹿原》 B. 《长恨歌》 C. 《废都》 D. 《高山下的花环》

42. 美国作家马克·吐温创作的突出特点是 ()。

- A. 严肃、深沉 B. 夸张、扭曲 C. 幽默、讽刺 D. 结局出人意料

43. 质能方程中“ $E=mc^2$ ”的“m”指 ()。

- A. 能量 B. 质量 C. 光速 D. 时间

44. 文成公主在唐太宗的旨意下嫁给了谁? ()

- A. 呼韩邪单于 B. 成吉思汗 C. 松赞干布 D. 耶律阿保机

45. 《四库全书》是清朝 () 年间修编完成的。

- A. 顺治 B. 康熙 C. 雍正 D. 乾隆

46. 在（ ）中，北洋舰队全军覆没。
- A. 鸦片战争 B. 中法战争 C. 甲午战争 D. 八国联军侵华战争
47. （ ）的成立，标志着中国的资产阶级民主革命运动进入了新阶段，其所确定的“三民主义”纲领是当时社会历史条件下最完整、最系统的民主革命纲领。
- A. 同盟会 B. 兴中会 C. 国民党 D. 中共
48. 中国共产党的第一任总书记是（ ）。
- A. 李大钊 B. 陈独秀 C. 毛泽东 D. 董必武
49. 1937 年 10 月，国共达成协议，将留在南方八省的红军和游击队改编为国民革命陆军新编第四军，由（ ）担任军长。
- A. 张云逸 B. 项英 C. 叶挺 D. 陈毅
50. “孔雀王朝”是（ ）著名的奴隶制王朝。
- A. 古埃及 B. 古希腊 C. 古印度 D. 古波斯
51. 坚持推行军事改革，主张依靠经济、军事实力，实现德意志统一，人称“铁血宰相”的是（ ）。
- A. 俾斯麦 B. 威廉一世 C. 加里波第 D. 加富尔
52. 20 世纪 70 年代初，跃居资本主义世界第二经济大国的是（ ）。
- A. 德国 B. 法国 C. 英国 D. 日本
53. 世界上干流流经国家最多的河流是（ ）。
- A. 尼罗河 B. 密西西比河 C. 多瑙河 D. 黄河
54. （ ）组织生产无形产品。
- A. 零售 B. 服务型 C. 经营 D. 制造业
55. 太阳系中，体积最小的行星是（ ）。
- A. 金星 B. 火星 C. 水星 D. 木星
56. 哪个星座发生的流星雨特别有名？（ ）
- A. 狮子座 B. 仙后座 C. 大熊座 D. 金牛座
57. 最先发现美洲大陆的航海家是（ ）。
- A. 达伽马 B. 麦哲伦 C. 郑和 D. 哥伦布
58. 以下山河为南北走向的是（ ）。
- A. 乌拉尔山 B. 黄河 C. 天山 D. 巴拿马运河
59. 吉他有几根弦？（ ）根。
- A. 4 B. 5 C. 6 D. 7
60. 周代时，九鼎就成了最高统治者的象征，“九鼎”制造材质为（ ）。
- A. 金 B. 铁 C. 石 D. 铜
61. “瓦尔德内尔”是世界著名的（ ）运动员。
- A. 乒乓球 B. 排球 C. 足球 D. 羽毛球

62. “涌泉”穴位于（ ）。
- A. 头部 B. 腹部 C. 脸部 D. 足部
63. 薛定谔有关量子力学的著名思想实验主体是（ ）。
- A. 狗 B. 鼠 C. 猫 D. 兔
64. 以下词语书写正确的一组（ ）。
- A. 和霭 B. 请樱 C. 朝覲 D. 搏弈
65. 以下加点字读音错误的是（ ）。
- A. 气氛【fēn】 B. 皈【guī】依 C. 沏【qī】茶 D. 发酵【xiào】
66. 以下加点词解释正确的是（ ）。
- A. 望洋兴叹（看着海洋） B. 贻笑大方（专家）
C. 不速之客（迅速） D. 寥若晨星（很多）
67. “教室里静得连一根针掉落地上都听得清楚。”此句运用了（ ）修辞。
- A. 比喻 B. 夸张 C. 借代 D. 拟人
68. 以下句子排序正确，可形成原文的是（ ）。
- ①要不是敌人的冷炮在间歇地盲目地轰响着，我真以为我们是去赶集的呢！
②两边地里的秋庄稼，给雨水冲洗得青翠水绿，珠烁晶莹。
③早上下过一阵下雨，现在虽放了晴，路上还是滑得很。
- A. ①②③ B. ③②① C. ②③① D. ②①③
69. 以下哪句最喜欢高？（ ）
- A. 不怕高 B. 高不怕 C. 怕不高 D. 高怕不
70. “今后我们的队伍里，_____死了谁，_____是炊事员，是战士，_____他是做过一些有益的工作的，我们_____要给他送葬。”此句关联词应填入（ ）。
- A. 只要 哪怕 如果 那么 B. （不管 还 只有 都）
C. 不管 不管 只要 都 D. （不管 还是 只有 才）
- 71——100 题请在客观题对应题号处填涂，否则无效。**
71. 以下无歧义的句子是（ ）。
- A. 这个意见，我提不好 B. 这件事，就这么定
C. 在艺校，只有我跟他学长 D. 局长要学习文件
72. “年轻的小王十分勤劳”此句中为副词的是（ ）。
- A. 年轻 B. 小王 C. 十分 D. 勤劳
73. “蜜蜂轻易不蜇人，准是误以为你要伤害它，才蜇，一蜇，它自己就_____生命，也活不久了。”空格处最恰当的填入是（ ）。
- A. 拼尽 B. 耗尽 C. 牺牲 D. 用尽
74. 以下为祈使句的是（ ）。
- A. 你别去了！ B. 难道还要我再说一次？

C. 他是我们学习的榜样。 D. 多么漂亮的花啊!

75. 在一本1~50页的书中，数字1在书页中出现了多少次? ()

A. 10 B. 11 C. 15 D. 17

76. 一截长绳对折3次后，再从中间剪断，会出现几截绳子? ()

A. 6 B. 7 C. 8 D. 9

77. 把1至100的整数连加，得到的和是 ()。

A. 4050 B. 5252 C. 5050 D. 4545

78. 用2、4、6三个数组合成百位数，最多可以组成几个百位数? ()

A. 5 B. 6 C. 7 D. 8

79. 坐井观天的壁虎，想爬出井来开开眼界，现井高9米，壁虎白天上爬3米，晚上又退下2米，问壁虎几天才能出井? ()

A. 6 B. 7 C. 8 D. 9

80. 一个四口之家，妈妈比爸爸大两岁，哥哥比妹妹大五岁。现在一家人的年龄之和是71岁，八年前一家人的年龄之和是48岁，则哥哥今年几岁? ()

A. 4 B. 5 C. 6 D. 7

81. 一个正方体的体积为216立方厘米，现将该正方体切割成体积相等的八个小正方体，则八个小正方体的表面积之和为 ()。

A. 2304平方厘米 B. 1728平方厘米

C. 576平方厘米 D. 432平方厘米

82. 在物物交换的年代，已知50个鸡蛋可以换4袋米，9袋米可以换5只鸡，7只鸡可以换3袋盐。2袋盐能换几个鸡蛋? ()

A. 89个 B. 98个 C. 105个 D. 106个

83. 缺

84. 根据以下所给汉字规律，“?”处可以推导出 ()。

壬	伪	厂	木
无	八	走	?

击	至	于	户
---	---	---	---

A

B

C

D

85. 根据以下所给字母规律，“?”处可推导出 ()。

K	o	h
---	---	---

m	b	?
---	---	---

P	f	x	S
A	B	C	D

86. 根据以下所给数字规律，“？”处可推导出（ ）。

2	1	3	5	1	4	1	6	6	8	4	2
---	---	---	---	---	---	---	---	---	---	---	---

1	4	5	6	2	4	3	2	6	9	3	?
---	---	---	---	---	---	---	---	---	---	---	---

5	6	3	7
A	B	C	D

87. 根据以下所给字母规律，“？”处可推导出（ ）。

E	F	T
---	---	---

S	J	?
---	---	---

N	I	y	L
A	B	C	D

88. 我叫她爸爸的老婆为姑妈，她叫我爸爸为（ ）。

- A. 舅舅 B. 伯伯 C. 姑父 D. 姨夫

89. 某足球运动员点球未罚进，教练向其宣布：“要么加练点球，要么罚跑。”该队员道：“不行。”假如队员坚持自己的意见，则以下哪项实际上他必须同意？（ ）。

- A. 加练点球但不罚跑
B. 既不罚跑也不加练点球
C. 既罚跑又加练点球
D. 若做不到既不罚跑也不加练点球，那么就必须接受罚跑又加练点球

90. 花园里有 5 朵花：红、黄、蓝、白、紫，园丁表扬了红、黄、蓝三朵漂亮，那么白、紫的情况应是（ ）。

- A. 白、紫可能漂亮 B. 白花肯定不漂亮
C. 紫花肯定漂亮 **D. 白、紫花肯定**

91. 新西兰：智利

- A. 土耳其：阿富汗 B. 秘鲁：阿根廷
C. 加拿大：巴西 D. 乌克兰：西班牙

92. 以下事件按照时间先后排序的正确的是（ ）。

- ①美国南北战争 ②俄国十月革命 ③英国工业革命 ④鸦片战争

- A. ③④①② B. ④③①② C. ②①④③ D. ③④②①

93. 下列有“”关系的项是（ ）。

- A. 工人，年轻人 B. 浙江，丽水 C. 粮食，大米 D. 铁榔头，郎平

94. 2018年8月份，电动车行业总销量1139.4万吨，环比下降10%。问2018年7月电动车行业总销量是（ ）万辆。

- A. 1158 B. 1266 C. 1325 D. 1243

95. 据下表，2016年某市机电产品出口额拉动该市出口总额增长约（ ）。

某市	2015年	2016年
出口总额	100	120
机电产品	30	35

- A. 2个百分点 B. 5个百分点 C. 6个百分点 D. 7个百分点

根据以下材料回答96~100题。

部分地区粮食进出口统计表 （单位：吨）

	粮食进口数			粮食出口数		
	2015年	2016年	2017年	2015年	2016年	2017年
甲	31 20	41 70	46 80	10 40	28 80	31 00
乙	47 0	61 0	67 0	17 80	16 80	17 40
丙	53 0	58 0	60 0	55 0	88 0	10 00
丁	19 60	19 10	18 70	19 10	19 50	21 10
戊	51 20	46 00	49 20	61 30	61 80	63 50
己	530	470	530	320	370	470
庚	7710	7510	7600	1980	2110	2220
辛	1890	2010	2150	1440	7230	7740
壬	2110	2200	2200	1830	2450	2840
癸	2520	2770	2990	5680	6410	6640
子	490	520	550	350	430	470

96. 表中2017年粮食进口数量低于粮食出口数量的地区有（ ）。

- A. 5个 B. 7个 C. 4个 D. 6个

97. 2016~2017年，以下四地区粮食出口数量增长最大的是（ ）。

- A. 丙 B. 己 C. 壬 D. 子

98. 2015年哪个地区粮食进出口数量排名第二多？（ ）

- A. 庚 B. 癸 C. 甲 D. 戊

99. 表中地区，2015年粮食出口数量最少的是（ ）。

A. 己

B. 壬

C. 丙

D. 子

100. 缺

2019 年 7 月 27 日浙江省景宁县事业单位考试试卷

《职业能力倾向测验》

一、言语理解与表达（每题 1 分，共 25 分）

1. _____清正廉洁的为政底线，必须深入推进反腐败斗争，狠抓作风建设，努力营造风清气正的政治生态。

填入划横线部分最恰当的一项是（ ）。

- A. 守住 B. 遵从 C. 尊重 D. 恪守

2. 各级领导干部一定要勤政爱民，扎实工作，为人民群众_____实实在在的利益。

填入划横线部分最恰当的一项是（ ）。

- A. 牟取 B. 谋取 C. 获取 D. 争取

3. 习近平总书记在考察时强调，只要还有一家一户乃至一个人没有解决基本生活问题，我们都不能_____；只要群众对幸福生活的_____还没有变成现实，我们都要毫不懈怠带领群众一起奋斗。

依次填入划横线部分最恰当的一项是（ ）。

- A. 安之若素 憧憬 B. 如释重负 梦想
C. 袖手旁观 追求 D. 高枕无忧 夙愿

4. 全国政协工作_____关注民生、保障民生、改善民生，这既是职责所在，更是党和人民的重托。_____，对于各级党委、政府和领导干部来说，关注民生是最大的政治，改善和保障民生是最大的政绩。

依次填入划横线部分最恰当的一项是（ ）。

- A. 专心致志 然而 B. 坚忍不拔 同样
C. 矢志不渝 同样 D. 持之以恒 然而

5. “实干才能梦想成真”。以新思想引领新征程，坚韧不拔、锲而不舍，保持永不懈怠的精神状态和_____的奋斗姿态，继续朝着实现中华民族伟大复兴的中国梦奋勇前进。我们脚下的路必然将连通无尽的未来，在一代又一代人的接续奋斗中_____更加辉煌的明天。

依次填入划横线部分最恰当的一项是（ ）。

- A. 兢兢业业 铸就 B. 勇往直前 期待
C. 一往无前 抵达 D. 慷慨激昂 创造

6. 在诗的最后一节，诗人写出了现代文明的冲击对他本人的影响。从寥寥数笔的_____中，我们不难体味到诗人对现代文明的大胆_____。

依次填入划横线部分最恰当的一项是（ ）。

- A. 描绘 捉弄 B. 刻画 嘲讽 C. 勾勒 嘲弄 D. 勾画 玩弄

7. 讲故事、听故事是人们闲暇时的一种娱乐活动，是人们紧张、繁忙劳动生活之余的一种精神上的_____，_____是对那些居住在农村以及偏远地区缺乏其他文化活动的人们来说，讲故事、听故事

是人们的一种重要的娱乐活动。

依次填入划横线部分最恰当的一项是（ ）。

- A. 慰藉 尤其 B. 娱乐 当然 C. 享受 自然 D. 舒缓 特别

8. 从不文明到文明，从文明的较低层次向较高层次_____，需要一个过程。从这个角度出发，我们也不应一味批评公民素质_____，更当以每一次问题暴露为契机，优化管理方式、加强机制构建，真正从治理现代化的高度推进文明建设。

依次填入划横线部分最恰当的一项是（ ）。

- A. 演化 差强人意 B. 发展 泥沙俱下
C. 转变 鱼龙混杂 D. 递进 参差不齐

9. 教育除了需要根据社会变化而与时俱进、更新知识体系外，还应向受教育者提供许多“_____”的东西，比如创新意识和批判精神的_____，品行、修为的培养，智商、情商和灵商的开发。无论时间如何流逝，知识如何更新，上述内容都应始终存在于高等教育之中，成为学校培养目标的基石和灵魂。

依次填入划横线部分最恰当的一项是（ ）。

- A. 持之以恒 发扬 B. 亘古不变 植入
C. 焕然一新 传授 D. 一脉相承 树立

10. 任何民俗事项都不可能_____其赖以生存的文化环境：一方面，文化传统需要_____于各种民俗事项作为其存在和传播的载体；另一方面，各种民俗事项必须具有一定的文化内涵才具有真正的价值和意义。

依次填入划横线部分最恰当的一项是（ ）。

- A. 摆脱 利用 B. 脱离 借助 C. 超脱 使用 D. 远离 帮助

11. 当代中国建筑风格盲目西化、过度奢华求异等现象_____，这其中既有缺乏文化自信和创新动力的因素_____，也有规划不切实际，决策唯领导是从的体制障碍。

依次填入划横线部分最恰当的一项是（ ）。

- A. 屡见不鲜 作祟 B. 层出不穷 掣肘
C. 习以为常 制约 D. 司空见惯 牵制

12. 尽管一个时代有一个时代的诗歌，但那种认为诗歌功颂德观念可以无限_____的观点是有问题的。其实，诗歌最基本的东西在古典时代已_____，而主要框架在现代也构建成形。后来的诗人所能够做的，便是在人与世界、心灵、语言的互动中使基本的诗性元素得以重构、激活并_____。

依次填入划横线部分最恰当的一项是（ ）。

- A. 蜕变 奠基 呈现 B. 退变 奠定 显现
C. 改变 奠定 显现 D. 变换 奠基 呈现

13. 小说以明晰晓畅的语言、巧妙精致的_____、深刻蕴藉的思想以及_____的从容笔调，为我们讲述了一个曲折浪漫，甚至有些诡异的故事。

依次填入划横线部分最恰当的一项是（ ）。

- C. 旧城改造时要兼顾保护老式建筑 D. 城市建设要避免建筑风格格式化

19. 公元 1616 年，莎士比亚与汤显祖同年逝世，二人都可算作 16、17 世纪之交的伟大剧作家。二人都爱写剧本，不过写法却不大一样。比如《罗密欧与朱丽叶》故事临近结尾，一双恋人殉情身亡，惨烈的悲剧以双方家族的和解收尾。和解的意愿的确美妙，只可惜，莎翁用于和解的笔墨太过不经意，仿佛仅仅为了“和解”的概念草草应付收场。《牡丹亭》里的杜丽娘，因梦中的相遇而思，而哀，而死，又因此而还生，而圆满。汤显祖将笔墨挥洒于爱而不耗损于恨，推敲于柔美而不沉醉于暴力，他笔下的爱，期待、给予、容纳、无嗔。

这段文字的主旨是（ ）。

- A. 阐述莎士比亚和汤显祖的伟大之处 B. 分析《牡丹亭》独特的写作手法
C. 比较莎士比亚和汤显祖的艺术风格 D. 总结中外古典戏曲的共同点

20. 传统诗词，穿越时代而仍然有着浸润心灵、启迪人心的力量。拥有强大内心的独臂女孩张超凡，人生处处是诗意的修车大爷王海军，“千磨万击还坚劲”的抗癌农民白茹云，自信返场的北大工科博士陈更，横跨汉字听写大会、成语大会和诗词大会的全才彭敏，拥有古典气质的夺冠才女武亦姝……100 余位诗词大会的选手都是普通人，是诗歌让他们在或浮躁纷扰、或艰难困苦的环境中仍能保持一份心中的恬淡、宁静，也让观众感悟到古典诗词滋养的诗意人生。在春风化雨、润物无声中，汲取我们民族生生不息、发展壮大的丰厚滋养。

这段文字意在强调（ ）。

- A. 诗词洗涤心灵使人回归优雅 B. 古典诗词穿越时空浸润人心
C. 诗词是生生不息的文化滋养 D. 满怀诗意，人生便春暖花开

21. 中国模式最终一定会影响世界政治的游戏规则，丰富世界民主政治的内容和形式。西方模式也是一路走来，并最终成为强势模式的。这很像学外语，如果你认为世界上只有英语好，那么你就永远是学生，他永远可以说你哪些地方不对，甚至打个不及格。现在中国崛起了，中文也自然会成为国际社会的强势语言，你要和我交流，就要好好学习我的语言，尽量达到我的母语水平。好戏在后头。

从这段文字看来，作者想要表明的态度是（ ）。

- A. 中文将成为强势语言，值得自豪 B. 中国模式正在超越西方模式
C. 中国模式将最终成为强势模式 D. 平视西方模式，中国应更自信

22. 一部人类史，就是人与自然、科学与社会的互动史。在漫长的文明进程中，科学曾仅仅是“闲人”的志趣，科学普及无从谈起，人们在“非科学”的禁锢中艰难摸索。随着近现代科学兴起，人类对自然认识不断加深，科学与社会联系日趋紧密，科学普及在人与自然、科学与社会的结合点上顽强生长，科学在人类现代化道路上散发出璀璨的光芒。

上述文字主要阐述了（ ）。

- A. 人与自然、科学与社会的互动极大促进了科学普及
B. 在人类文明进程中，科学普及前进的道路异常艰辛
C. 科学普及应紧密联系社会并且找准结合点和切入点

D. 随着近现代科学兴起，科学普及前景更加灿烂辉煌

23. 音乐成为一种治疗方法起源于二战期间。当时美国军队医生发现，聆听音乐不仅能改善伤病员的情绪，也能降低感染率和死亡率，这种现象引起了社会的关注。最初，音乐家和临床医生们尝试将音乐用于临床治疗中，并通过临床研究证实其安全性和有效性。之后，随着心理学、生理学、神经生物学等多学科专家的介入，从音乐情感反应到音乐引发人体各系统生物学效应，从音乐心理学到音乐神经生物学研究，音乐逐渐成为疗法，广泛应用于一些身心疾病的治疗。

这段文字主要介绍了（ ）。

- A. 音乐家和医生们对音乐疗法的贡献 B. 音乐是如何与心理学等学科相结合的
C. 音乐对人体生理和心理的重要影响 D. 音乐成为一种治疗方法的发展过程

24. 在中国城镇化进程中，传统戏曲面临着前所未有的生态变化。以民间职业演出为基础，积极地适应农村娱乐需要，或者重新恢复传统民俗演剧形式，借助节庆礼俗，发挥戏曲传统的礼乐教化职能；或者广取博收、与时俱进，以时尚流行的艺术元素充实戏曲本体，衍生出新的戏剧娱乐形态。以体制内职业剧团为基础，在传统与创新中进行艺术传承，或者深入农村、送戏下乡，在城市演出市场衰微的情况下，仍然维持在基层农村的演出；或者放弃农村，寻求多元的创新方式，勉力维持城市市场，导致戏曲在农村文化生活中趋于弱势和边缘。

这段文字意在说明（ ）。

- A. 戏曲艺术传承发展要寻求多元化和与时俱进
B. 戏曲是传承和弘扬优秀文化的重要载体
C. 政府要加大力度支持职业剧团在农村的演出
D. 戏曲在农村的影响力出现了两极化发展趋势

25. 企业生产更能满足需求的高质量产品和服务的内在动机，就在于高质量能够为企业带来更高的市场收益。质量作为一种投入的要素，相较于其他投入要素而言，能够为企业带来更高的收益。只要有真实需求的优质产品与服务质量的供给，既可以消除有效需求不足的问题，也可以减少企业的产能过剩，实现供给和需求的均衡。

对以上文字主要观点描述最准确的一项是（ ）。

- A. 质量是企业的生命
B. 质量是企业获取市场效益的内动力
C. 解决当前我国经济结构问题有赖于企业提高质量
D. 高质量产品和服务能为企业带来更高的效益和经济结构的优化

二、数量关系（每题 1 分，共 15 分）

26. 10 年前父亲的年龄是儿子的 6 倍，10 年后父亲的年龄是儿子的 2 倍，那么父亲今年（ ）岁。

- A. 30 B. 36 C. 40 D. 42

27. 某专业有若干学生，现开设有甲、乙、丙三门选修课。有 40 人选修甲课程，36 人选修乙课

程, 30 人选修丙课程, 兼选甲、乙两门课程的有 28 人, 兼选甲、丙两门课程的有 26 人, 兼选乙、丙两门课程的有 24 人, 甲、乙、丙三门课程均选的有 20 人, 三门课程均未选的有 2 人。该专业共有学生 () 人。

- A. 48 B. 50 C. 52 D. 54

28. 木匠加工 2 张桌子和 4 张凳子共需要 10 个小时, 加工 4 张桌子和 8 张椅子需要 22 个小时。问如果他加工桌子、凳子和椅子各 10 张, 共需要 () 个小时。

- A. 47.5 B. 50 C. 52.5 D. 55

29. 一支科学考察队前往某条河流的上游去考察一个生态区, 他们以每天 17 千米的速度出发, 沿河岸向上游行进若干天后到达目的地, 然后在生态区考察了若干天, 完成任务后以每天 25 千米的速度返回, 在出发后的第 60 天, 考察队行进了 24 千米后回到出发点。科学考察队在生态区考察了 () 天。

- A. 14 B. 15 C. 22 D. 23

30. 同学甲跑 100 米的用时与同学乙跑 80 米的相同, 在一个 400 米环形跑道上, 甲、乙两人在同一起点出发, 甲先跑了 N 米后乙开始跑, 320 秒后, 甲第一次追上乙, 此刻乙跑了 1280 米, 那么 N 为 () 米。

- A. 80 B. 100 C. 120 D. 160

31. 操场跑道一圈为 400 米, 甲、乙两人测试 5000 米长跑。假设两人在同一起跑线起跑, 都以匀速跑完全程。甲速度为 360 米/分, 乙速度为 280 米/分, 那么他们在测试全过程中甲追上乙 () 次。

- A. 2 B. 3 C. 4 D. 5

32. 小张步行从甲单位去乙单位开会, 30 分钟后小李发现小张遗漏了一份文件, 随即开车去给小张送文件, 小李出发 3 分钟后追上小张, 此时小张还有 $\frac{1}{6}$ 的路程未走完, 如果小李出发后直接开车到乙单位等小张, 需要等 () 分钟。

- A. 6 B. 7 C. 8 D. 9

33. A、B 两地相距 400 米, 早上 8 点小周和老王同时从 A 地出发在 A、B 两地间往返锻炼。小周每分钟跑 200 米, 老王每分钟走 80 米, 问 8 点 11 分, 小周和老王之间的距离是 () 。

- A. 0 B. 80 C. 120 D. 200

34. 某班有 56 名学生, 每人都参加了 a、b、c、d、e 五个兴趣班中的其中一个, 已知有 27 人参加 a 兴趣班, 参加 b 兴趣班的人数第二多, 参加 c、d 兴趣班的人数相同, e 兴趣班的参加人数最少, 只有 6 人。问参加 b 兴趣班的学生有 () 人。

- A. 7 个 B. 8 个 C. 9 个 D. 10 个

35. 一个旅游团租车出游, 平均每人应付车费 40 元, 后来又增加了 7 人, 这样每人应付的车费是 35 元, 租车费是 () 。

- A. 2000 元 B. 1960 元 C. 1900 元 D. 1850 元

36. 某单位有工作人员 48 人, 其中女性占总人数的 37.5%, 后来又调来女性若干人, 这时女性

人数恰好是总人数的 40%，问调来（ ）名女性。

- A. 1 人 B. 2 人 C. 3 人 D. 4 人

37. 一艘轮船先顺水航行 40 千米，再逆水航行 24 千米，共用了 8 小时。若该船先逆水航行 20 千米，再顺水航行 60 千米，也用了 8 小时。则在静水中这艘船每小时航行（ ）千米。

- A. 11 B. 12 C. 13 D. 14

38. 有一根长 8 米的长方形木头，锯成等长的 5 段，表面积增加了 1 平方米，这根木头的体积是（ ）立方米。

- A. 1 B. 1.5 C. 2 D. 2.4

39. 一桶盐水的浓度为 8%，倒出一半加满水，如此重复 2 次后，盐水浓度为（ ）。

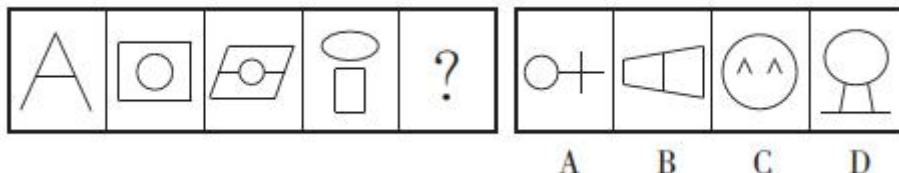
- A. 1% B. 2% C. 3% D. 4%

40. 已知自行车与摩托车速度比为 2:3，摩托车与汽车速度比为 2:5，已知汽车 15 分钟比自行车多走 11 千米，则自行车 30 分钟比摩托车少走（ ）千米。

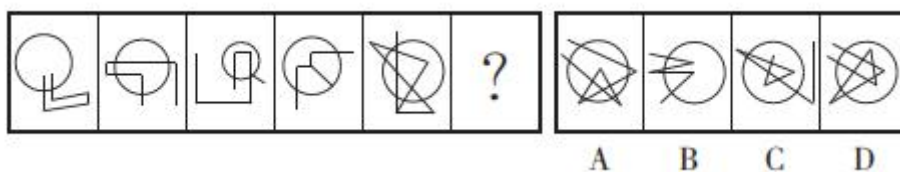
- A. 2 B. 4 C. 6 D. 8

三、判断推理（每题 1 分，共 25 分）

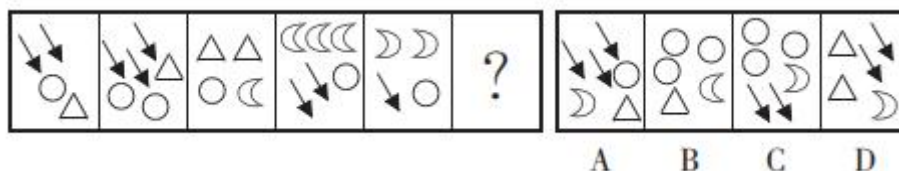
41. 从所给的四个选项中，选择最合适的一个填入问号处，使之呈现一定的规律性。



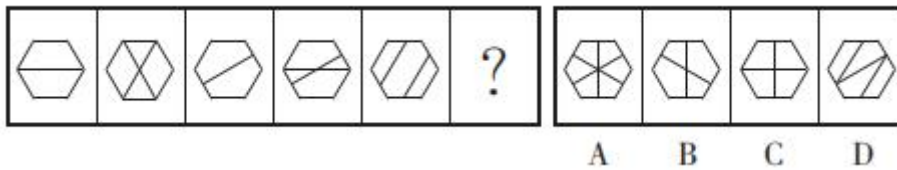
42. 从所给的四个选项中，选择最合适的一个填入问号处，使之呈现一定的规律性。



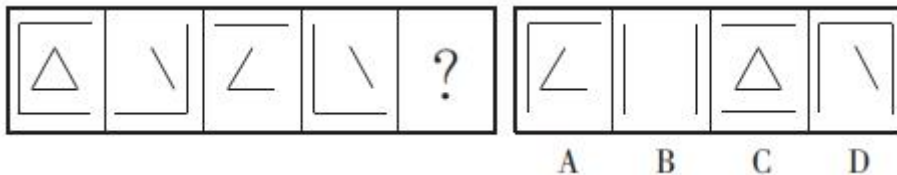
43. 从所给的四个选项中，选择最合适的一个填入问号处，使之呈现一定的规律性。



44. 从所给的四个选项中，选择最合适的一个填入问号处，使之呈现一定的规律性。



45. 从所给的四个选项中，选择最合适的一个填入问号处，使之呈现一定的规律性。



46. 偶然音乐是指音乐家在创作中将偶然性因素引入创造过程或演奏过程的一种音乐形式。具体方法包括：谱写作品时采用随意手法，允许演奏者进行没有任何提示的即兴演奏，甚至以改造乐器或加入场外声响来演奏曲目。

根据上述定义，下列选项不属于偶然音乐的是（ ）。

- A. 在钢琴琴弦中塞进橡皮和铁钉等物以模拟打击乐的声响来演奏音乐
- B. 指挥家在演出前随机决定使用乐器的数量、演出时长以及参演人数
- C. 用掷骰子、丢硬币来确定作品的音高、力度与配器等并创作成曲谱
- D. 演奏者保持沉默，此时台上台下偶然出现的掌声、笑声构成了乐曲

47. 新媒体，是新的技术支撑体系下出现的，相对于报刊、户外、广播、电视四大传统意义上的媒体，新媒体被形象地称为“第五媒体”。

根据上述定义，下列属于新媒体的是（ ）。

- A. 具有接收新闻功能的 3G 手机
- B. 地铁站台上的大屏幕电视
- C. 改版后的《都市娱乐报》采用了新的印刷技术，文字和图片更为清晰
- D. 广场上采用高科技手段的科普展览

48. 文饰作用是一种自我防御机制或适应行为，指一个人为了掩饰不符合社会价值标准，明显不合理的行为，或不能达到个人追求目标时，往往在自己身上或周围环境中找一些理由来为自己辩护，把自己的行为说成是正当合理的，以隐藏自己的真实动机或愿望。

根据上述定义，下列选项属于文饰作用的是（ ）。

- A. 小王想成为公司经理，但他认为自己能力不够，没有报名竞聘，事后却对人说自己不屑参加
- B. 小明因为没有复习功课，不惜把自己的手弄伤以逃避考试
- C. 某犯罪嫌疑人为了逃避法律制裁，串通证人作伪证，编造不在场证明为自己开脱
- D. 某电子公司新产品投放市场失败，经过研究，管理层认定失败的原因是前期宣传没有做好

49. 有意想象是指事先有预定目的的想象，可分为再造想象和创造想象，前者指根据别人的描述或图样，在头脑中形成新形象的过程；后者指不根据现成的描述，而在大脑中独立地产生新形象的过程。

根据上述定义，下列属于创造想象的是（ ）。

- A. 老刘故地重游时脑海里浮现出了一些往事
- B. 公安人员根据受害者的描述画出犯罪嫌疑人的肖像
- C. 人们在听评书《三国演义》时仿佛身临其境来到了古战场
- D. 小明在他创作的科幻小说中描绘了未来人类在月球上的生活图景

50. 物候现象是生物随着气候一年四季的周期性变化而发生的相应季节性变化的现象。影响物候现象的因素主要包括海拔的差异、经度的差异、纬度的差异和时间的差异。

根据上述定义，下列诗句反映的物候现象受到海拔差异影响的是（ ）。

- A. 日出江花红胜火，春来江水绿如蓝
- B. 竹外桃花三两枝，春江水暖鸭先知
- C. 羌笛何须怨杨柳，春风不度玉门关
- D. 人间四月芳菲尽，山寺桃花始盛开

51. 摄影：绘画

- A. 复印：扫描
- B. 书法：刺绣
- C. 雕刻：打磨
- D. 歌唱：弹奏

52. 温故知新：不耻下问

- A. 卧薪尝胆：纸上谈兵
- B. 洞若观火：明察秋毫
- C. 戊戌变法：辛亥革命
- D. 沧海桑田：白云苍狗

53. 高楼：庭院

- A. 骏马：宠物
- B. 时装：布衣
- C. 都市：乡村
- D. 豪宅：斗室

54. 白醋：消毒

- A. 热水器：加热
- B. 汽油：去渍
- C. 白糖：调味
- D. 人参：滋补

55. 公路：交通

- A. 公园：游客
- B. 公司：员工
- C. 码头：泊船
- D. 机场：飞机

56. 河流：水

- A. 沙漠：泥土
- B. 森林：树木
- C. 草原：动物
- D. 山脉：冰雪

57. 指标：调整

- A. 未来：展望
- B. 理想：实现
- C. 会议：推迟
- D. 实力：增强

58. 玉兔：玉盘

- A. 菊花：桂花
- B. 铜剑：铜鼎

- C. 子规：子鹃
59. 关怀：无微不至
A. 准确：分毫不差
C. 呐喊：声嘶力竭
- D. 今天：当天
B. 挣扎：日落西山
D. 憔悴：望眼欲穿

60. 团扇：羽毛扇：舞蹈扇
A. 宣纸：餐巾纸：铜版纸
C. 排球：羽毛球：乒乓球
- B. 圈椅：实木椅：办公椅
D. 墨镜：老花镜：显微镜

61. 在当今全球变暖的背景下，各国均不同程度地从中受益或受损。有的影响是正面的，有的影响却是负面的；有的国家既是全球气候变暖的污染源，也是气候变暖的受害者，这些都影响了他们应对气候变化国家政策方案的出台及对国际气候政策制定的态度。

由此可以推断（ ）。

- A. 所有的国家都受到全球气候变暖的有益影响
B. 所有的国家都受到全球气候变暖的有害影响
C. 有的国家是全球气候变暖的受害者
D. 有的国家不是全球气候变暖的污染源

62. 为丰富员工业余生活，某企业每年划出一笔固定经费用作员工的旅游福利。该企业的部分员工自发成立了一个驴友协会，驴友协会中的一些人是该企业的技术骨干。最近，该企业的部分领导准备把这笔经费挪作他用，这一想法得到企业管理层所有成员的同意，但驴友协会的成员都不同意企业管理层的这一决定。

根据上述陈述，可以得出以下哪项结论？（ ）

- A. 有些技术骨干不是管理层成员
C. 驴友协会的成员都是技术骨干
- B. 管理层成员都不是技术骨干
D. 有些管理层成员是技术骨干

63. 为了减少温室气体排放，有效应对全球气候变暖，有些专家建议，应把燃树发电作为削减二氧化碳排放的策略。他们认为，树木比煤、天然气更具有“碳中性”，砍树燃树所产生的二氧化碳将会被在原地再次生长的树木吸收。

以下哪项如果是真，最能质疑上述专家的观点？（ ）

- A. 砍树之后及时栽树，新生的树木就会再次吸收空气中的碳，形成稳定的碳循环
B. 燃树发电的政策建议一旦实施，可能会导致乱砍滥伐，加剧全球环境生态危机
C. 碳循环的计算比较复杂，砍树燃树释放的碳与栽树重新吸收的碳可能并不相等
D. 砍树燃树排放的碳要等到新栽树苗长大后才能被完全吸收，时间上存在滞后性

64. 世界的和平发展有利于世界经济的一体化，只有世界经济一体化并且建立了全球认可的新规范，才能有人类的民主。

从这段文字可以推出（ ）。

- A. 没有人类的民主就没有世界经济一体化
B. 如果没有全球认可的新规范就没有人类的民主

- C. 没有人类的民主就没有世界的和平发展
- D. 没有世界经济的一体化就没有全球认可的新规范

65. 有一项对 500 名 25~35 岁女性进行的科学实验，设置两个实验组，第一组实验者长期服用阿司匹林，第二组实验者没有服用阿司匹林。结果发现，长期服用阿司匹林者眼角比不服用阿司匹林者眼角出现皱纹要晚，而且皮肤光滑柔嫩。这一实验表明，阿司匹林有可能成为一种廉价有效的防皱、保青春药物。

以下哪项如果为真，最能削弱上述结论？（ ）

- A. 两组被实验者的眼角皮肤在实验前是不同的，服用组实验前眼角皮肤就没有皱纹
- B. 两组被实验者的人数不相等
- C. 第一组被实验者服用的阿司匹林的量较大
- D. 阿司匹林是人工合成的

四、常识判断（每题 1 分，共 20 分）

66. 《中共中央关于加强党的政治建设的意见》就加强党的政治建设作出了多项部署。关于其部署，下列说法错误的是（ ）。

- A. 坚定政治信仰，坚持用党的科学理论武装头脑
- B. 强化政治领导，坚决做到“两个维护”
- C. 防范政治风险，增强党组织政治功能
- D. 净化政治生态，严肃党内政治生活

67. 2019 年 1 月 21 日，省部级主要领导干部坚持底线思维着力防范化解重大风险专题研讨班在中央党校开班。习近平总书记在开班式上强调，各级党委和政府要坚决贯彻（ ），落实党中央关于维护政治安全的各项要求，确保我国政治安全。

- A. “四个意识”
- B. 总体国家安全观
- C. 新时代中国特色社会主义思想
- D. 新发展理念

68. 习近平总书记在中国共产党与世界政党高层对话会上的主旨讲话中曾 16 次提到“人类命运共同体”一词。他强调，中华民族历来讲求“天下一家”，主张“民胞物与、协和万邦、天下大同”，憧憬“大道之行，天下为公”的美好世界。下列古语所体现的思想，与上述理念不一致的是（ ）。

- A. 普天之下莫非王土，率土之滨莫非王臣
- B. 声同则处异而相应，德合则未见而相亲
- C. 万物并育而不相害，道并行而不相悖
- D. 天下兼相爱则治，交相恶则乱

69. 伴随着智能手机的普及与各种 App 的发展，网络直播已经从一个“年轻群体的娱乐方式”变成了“全民娱乐”，但网络直播丰富了人们的生活、带来了经济利益的同时，也带来了网络卖淫、贩卖假货等问题。这说明（ ）。

- A. 经济基础决定上层建筑

- B. 事物的发展是前进性和曲折性的统一
C. 矛盾具有普遍性，要坚持一分为二地看问题
D. 主要矛盾和次要矛盾在一定条件下互相转化
70. 张某离开自己的住所下落不明满 4 年，其妻李某（ ）。
A. 只能申请宣告失踪
B. 只能申请宣告死亡
C. 只能先申请宣告失踪，再申请宣告死亡
D. 既可以申请宣告失踪，也可以申请宣告死亡
71. 下列属于有效民事法律行为的是（ ）。
A. 10 岁的甜甜将妈妈给自己买的金项链送给好朋友
B. 26 岁的欢欢签订买车合同
C. 18 岁的乐乐将自己租赁的房子卖给他人
D. 20 岁的奇奇将偷来的电动车送给妹妹
72. 为了抑制通货紧缩，国家宏观调控部门可以采取的措施是（ ）。
A. 减少产品出口数量
B. 提高央行基准利率
C. 降低央行再贴现率
D. 提高银行存款准备金率
73. 国际上用来综合考察居民内部收入分配差异状况的一个重要分析指标是（ ）。
A. 恩格尔系数
B. 基尼系数
C. 道·琼斯指数
D. 纳斯达克指数
74. 某企业主张在顾客、员工与合作者之间结成利益共同体，努力探索按生产要素分配的内在动力机制，“我们决不让雷锋吃亏，奉献者定当得到合理的回报”。这体现了（ ）。
A. 放任式管理
B. 任务式管理
C. 团队式管理
D. 俱乐部式管理
75. 行政监督尤其是合理性监督与行政活动有着密切联系，可以说何时行政活动，何时就有行政监督。这主要体现了行政监督的（ ）。
A. 弹性原则
B. 幅度原则
C. 经常性原则
D. 公正性原则
76. “天宫”“天眼”“悟空”“墨子”“大飞机”等是党的十八大以来我国取得的重大科技成果的代号。其中，“天眼”指的是（ ）。
A. 单口径球面射电望远镜
B. 量子科学实验室
C. 暗物质粒子探测卫星
D. 空间实验室
77. 下列关于石墨烯的描述，说法错误的是（ ）。
A. 石墨烯具有非常好的光学性质，其透光率大约是 97.7%
B. 石墨烯具有非常好的热传导性能，是目前为止导热系数最高的碳材料
C. 石墨烯是已知强度最高的材料之一，同时还具有很好的韧性，并且可以弯曲
D. 石墨烯具有非常好的电学性能，其导电性仅次于银和金
78. 下列说法不正确的是（ ）。
A. 雷达是一种利用电磁波探测目标的电子设备
B. 患者需要服用药片时不宜用牛奶送服
C. “酒香不怕巷子深”反映了带有酒香的气体分子的扩散

D. 漂白粉和洁厕精混合在一起，去污力更强

79. 以下诗句反映的景象是发生在太阳直射点从赤道到南回归线之间的是（ ）。

- A. 梅须逊雪三分白，雪却输梅一段香 B. 明月松间照，清泉石上流
C. 小荷才露尖尖角，早有蜻蜓立上头 D. 迟日江山丽，春风花草香

80. 《论语》是儒家最重要的经典著作，下列有关《论语》表述错误的一项是（ ）。

- A. 是孔子弟子及再传弟子记录孔子及其门人、时人言行的语录体著作，约成书于战国初年
B. 核心思想为“仁”，内容涉及哲学、政治、时事、教育、文学等诸多方面
C. 语言平易雅正，隽永含蓄，对后世影响极大
D. 以朴素辩证法的观点，提出一切事物均有正反两面，并能由对立而转化

81. 近代思想家魏源指出：“天下无数百年不弊之法，无穷极不变之法，无不除弊而能兴利之法，无不易简而能变通之法。”这一言论说明魏源主张（ ）。

- A. 经世致用，改革旧法 B. 兴利除弊，变更政体
C. 改革体制，中体西用 D. 变通治法，提倡工商

82. “中华老字号”沿袭和传承了中华民族优秀的文化传统，每个老字号都有特色的产品、技艺或服务。下列按经营服务范围对老字号进行归类正确的是（ ）。

- A. 稻香村、女儿红 B. 小绍兴、王老吉
C. 瑞蚨祥、老凤祥 D. 片仔癀、福胶

83. 完成人类历史上第一次环球航行的是（ ）。

- A. 郑和 B. 哥伦布 C. 麦哲伦 D. 达伽马

84. 地名是人们赋予某一特定空间位置上自然或人文地理实体的专有名称，人们在不同时期会对同一地方有不同的称谓。以下地名中，古代与现代匹配错误的是（ ）。

- A. 扶桑——日本 B. 交趾——越南
C. 狮子国——缅甸 D. 真腊——柬埔寨

85. 山脉构成我国地形的骨架，山脉延伸的方向称作走向，下列选项中不属于南北走向山脉的是（ ）。

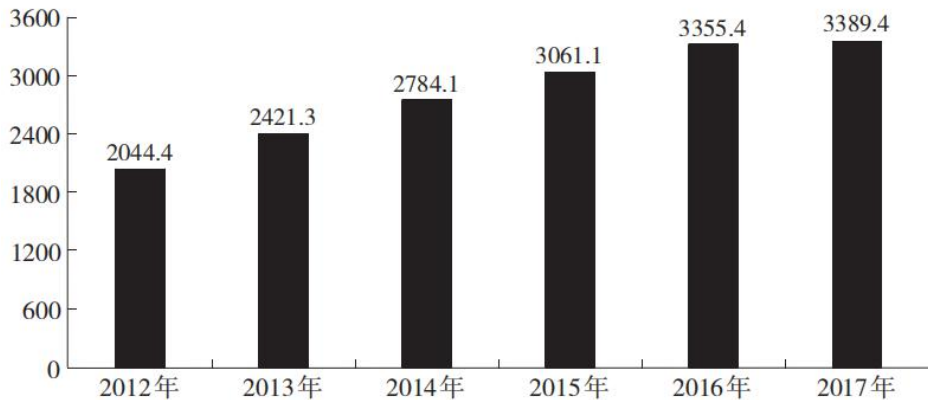
- A. 六盘山 B. 南岭 C. 横断山脉 D. 贺兰山脉

五、资料分析（每题 1 分，共 15 分）

（一）根据所给资料，回答 86~90 题

经国家统计局审定，某省 2017 年全年地方一般公共预算收入 3389.4 亿元，其中税收收入 2329.2 亿元，增长 5.0%。一般公共预算支出 8011.9 亿元，增长 9.8%。

2012 年至 2017 年地方一般公共预算收入



年末金融机构人民币各项存款余额 65638.4 亿元，比上年年末增长 10.9%，其中，住户存款余额 31950.4 亿元，增长 11.8%。人民币各项贷款余额 42828.1 亿元，增长 12.7%，其中，住户贷款余额 13100.8 亿元，增长 12.2%。

年末共有保险公司 87 家。按业务性质分，有产险公司 38 家、寿险公司 43 家、养老险公司 4 家和健康险公司 2 家；按资本国别属性分，有中资公司 65 家，外资公司 22 家。全年原保险保费收入 1712.1 亿元，比上年增长 35.1%。其中，财产险原保险保费收入 487.6 亿元，增长 9%；人身保险保费收入 1224.4 亿元，增长 49.3%。全年支付各项赔款和给付 554.4 亿元，增长 22.1%。其中，财产险费赔付支出 235.0 亿元，增长 0.2%；人身险赔付支出 319.4 亿元，增长 45.5%。

年末有证券公司 4 家，期货公司 3 家，证券投资咨询公司 3 家。证券公司分公司 36 家，基金分公司 14 家，证券期货营业部 400 家。年末有证券投资者账户 1509.8 万户，全年累计实现证券交易额 11.2 万亿元，比上年下降 38.1%。

86. 2016 年年末该省地方一般公共预算收支差为 () 亿元。

- A. 4622.5 B. 3941.4 C. 3512.5 D. 3067.4

87. 按业务性质分，能够正确描述 2017 年年末各项业务保险公司数量所占保险公司总数比重的统计是 ()。

- A. 43.7%，49.4%，4.6%，2.3% B. 27.2%，28.4%，23.3%，21.1%
 C. 41.1%，26.2%，21.4%，11.0% D. 48.1%，20.1%，22.1%，9.7%

88. 假设 2017 年年末证券投资者账户数量与上年持平，则 2016 年年末户均证券投资者实现证券交易额为 () 万元。

- A. 1.2 B. 74 C. 120 D. 0.74

89. 2017 年全年税收收入占地方一般公共预算收入的比重较上年 ()。

- A. 上升了 3 个百分点 B. 下降了 3 个百分点
 C. 上升了 7 个百分点 D. 下降了 7 个百分点

90. 根据上述材料，下列说法正确的是 ()。

- A. 2012~2017 年地方一般公共预算收入增量逐年降低
 B. 2017 年年末住户存贷款余额占金融机构人民币各项存款余额的比重约为 48.6%
 C. 2017 年年末中资保险公司的数量比外资保险公司约多 3 倍

D. 2017 年年末财产险原保险保费收入与赔付支出比小于人身险

(二) 根据下列资料, 回答 91~95 题

2015 年全社会固定资产投资 562000 亿元, 比上年增长 9.8%, 扣除价格因素, 实际增长 11.8%。2015 年按领域分固定资产投资 (不含农户), 制造业投资 180365 亿元, 占 32.7%; 基础设施投资 101271 亿元, 占 18.4%; 房地产开发投资 95979 亿元, 占 17.4%; 其他投资 173976 亿元, 占 31.5%。

2015 年分行业固定资产投资 (不含农户) 及其增长速度

行 业	投资额 (亿元)	比上年增长 (%)
农、林、牧、渔业	19061	30.8
采矿业	12971	-8.8
制造业	180365	8.1
电力、热力、燃气及水生产和供应业	26621	16.6
建筑业	4895	10.2
批发和零售业	18682	20.1
交通运输、仓储和邮政业	48972	14.3
住宿和餐饮业	6504	5.1
信息传播、软件和信息技术服务业	5517	34.5
金融业	1367	0.3
房地产业	126674	2.5
租赁和商务服务业	9436	18.6
科学研究和技术服务业	4752	12.6
水利、环境和公共设施管理业	55673	20.4
居民服务、修理和其他服务业	2628	15.5
教 育	7723	15.2
卫生和社会工作	5175	29.7
文化、体育和娱乐业	6724	8.9
公共管理、社会保障和社会组织	7851	9.1

91. 2015 年, 固定资产投资 (不含农户) 为 ()。
- A. 551575 亿元 B. 551591 亿元 C. 551771 亿元 D. 552391 亿元
92. 2014 年, 表中固定资产投资达到万亿的行业有 ()。
- A. 6 个 B. 7 个 C. 8 个 D. 9 个
93. 2015 年, 下列领域固定资产投资占比第二高的是 ()。
- A. 制造业投资 B. 房地产开发投资 C. 基础设施投资 D. 其他投资
94. 2015 年, 表中固定资产投资达到万亿的行业按投资额从高到低排名的顺序与 2014 年相比变化的有 ()。
- A. 0 个 B. 2 个 C. 3 个 D. 4 个
95. 根据上述资料, 下列说法错误的是 ()。
- A. 2014 年, 全社会固定资产投资未达到 51 万亿元

- B. 2015 年，投资额最高的行业约是最低的 132 倍
- C. 2015 年，只有采矿业投资额下降
- D. 若保持增长速度不变，2016 年信息传播、软件和信息技术服务投资额将超过住宿和餐饮业

(三) 根据所给资料，回答 96~100 题。

2017 年，全国固定资产投资（不含农户）41378 亿元，同比增长 8.9%，增速比上年全年加快 0.8 个百分点，其中，国有控股投资 14662 元，增长 14.4%；民间投资 24977 亿元，增长 6.7%，比上年全年加快 3.5 个百分点，占全部投资的比重为 60.4%。

分产业看，第一产业投资 886 亿元，同比增长 19.1%；第二产业投资 14496 亿元，增长 2.9%，其中制造业投资 12160 元，增长 4.3%；第三产业投资 25996 亿元，增长 12.2%，其中基础设施投资 8315 亿元，增长 27.3%。高技术制造业投资同比增长 18.4%，增速快于全部投资 9.5 个百分点。

96. 2016 年，国有控股投资额约为（ ）亿元。
- A. 10246 B. 12816 C. 19129 D. 17129
97. 2016 年，第三产业投资在三个产业总投资中所占比重约为（ ）。
- A. 39% B. 51% C. 61% D. 72%
98. 2017 年较 2015 年的全国固定总投资多（ ）亿元。
- A. 6229 B. 10000 C. 3382 D. 9611
99. 2017 年，制造业投资和基础设施投资的差距相比 2016 年的两者差距（ ）。
- A. 明显增大 B. 明显缩小 C. 基本不变 D. 无法推算
100. 根据上述资料，下列说法不正确的是（ ）。
- A. 2017 年，第二产业投资占总投资的比重较 2016 年有所下降
- B. 2016~2017 年民间投资占全部投资的比重不断下降
- C. 2016 年，第一产业投资额约为 744 亿元
- D. 2017 年，高技术制造业投资在第二产业投资中所占比重最高

2019年11月9日浙江省事业单位统考试卷

《职业能力倾向测验》

第一部分 言语理解与表达

(共25题, 参考时限20分钟)

本部分主要考查考生对语言文字的理解和驾驭能力。这种能力包括:对词、句子、短文一般意思和特定意思的理解;对比较复杂的概念和观点的准确理解;根据上下文,合理推断句子隐含的内容,准确地辨明句义,筛选信息等。

1. 票房数据的下降不禁让人发问:观众是否在逃离电影院?不少业内人士认为,数据的减少并不等同于电影市场的走坏,反而恰恰是市场逐渐成熟,观众愈发_____,行业_____的必经阶段。

依次填入划横线部分最恰当的一项是()。

- A. 挑剔 去芜存菁 B. 理性 百废俱兴
C. 精明 精雕细琢 D. 机敏 大浪淘沙

2. 司法权的终局性注定了要通过辩论的优胜劣汰机制_____一个正确的最终解决方案。在现代法治体制面前,大数据、云计算、信息技术、人工智能都只是实现合法正义的辅助手段,切不可_____。

依次填入划横线部分最恰当的一项是()。

- A. 推导 喧宾夺主 B. 判断 避重就轻
C. 挑选 削足适履 D. 选择 本末倒置

3. 同现实社会一样,网络空间既要提倡自由,也要维持秩序。打击网络谣言与保护网络自由完全可以_____。只不过,守好网络舆论阵地,一定得讲究方式方法,必须防止_____。

依次填入划横线部分最恰当的一项是()。

- A. 并行不悖 过犹不及 B. 左右开弓 南辕北辙
C. 并驾齐驱 矫枉过正 D. 双管齐下 操之过急

4. 月饼因为“过度包装”而抬高身价,这是_____的秘密。包装精美的月饼不值这么多钱,为什么却有人_____地纷纷掏钱购买呢?这应该与他们的过度消费习惯和“死要面子”有关。

依次填入划横线部分最恰当的一项是()。

- A. 尽人皆知 络绎不绝 B. 众所周知 趋之若鹜
C. 不言而喻 挥金如土 D. 家喻户晓 争先恐后

5. 开市客 (Costco) 的到来, 更多的是带来一种“_____”, 将会给整个零售业态带来经营思维上的冲击, 未来若本土零售企业不去大胆求变, 可能会面临_____的局面。

依次填入划横线部分最恰当的一项是 ()。

- A. 马太效应 山穷水尽 B. 鲶鱼效应 不进则退
C. 羊群效应 进退维谷 D. 蝴蝶效应 错综复杂

6. 中国经历了漫长的农耕时期, 古人大多_____, 囿于一隅, 连方圆十公里以为的地方都未曾涉足, 多数人对发生在远方的事毫无兴趣, 有兴趣的人也多从_____的民间通道中了解外界的变化, 小道消息几乎代表了大部分古人对新闻的认识。

依次填入划横线部分最恰当的一项是 ()。

- A. 入乡随俗 道听途说 B. 按部就班 人云亦云
C. 随遇而安 拾人牙慧 D. 安土重迁 口口相传

7. 迪士尼利用衍生品来_____创业行业的不确定性。当迪士尼开始卖玩具时, 很多电影行业的人以为, 迪士尼只不过是想通过这种方式来宣传自己的电影, 让更多的人走进电影院。结果_____, “电影只是概念, 电影行业的未来是电影院之外的一切。电影的未来在商店里”。

依次填入划横线部分最恰当的一项是 ()。

- A. 对冲 恰恰相反 B. 弥补 如出一辙
C. 减弱 出人意料 D. 缓冲 正中下怀

8. 量子理论_____, 正是大有可为之时。公众的关注, 对量子理论的研究和普及, 有着很好的_____作用。但是, 如果为了商业利益和各种私心, 毫无底线、肆无忌惮地过度消费公众对于量子领域的好奇心, 到头来就会使公众对量子理论的科学性产生怀疑。

依次填入划横线部分最恰当的一项是 ()。

- A. 大势所趋 促进 B. 方兴未艾 推动
C. 风起云涌 传播 D. 前途无量 示范

9. “深圳”这两个字, 无疑是改革开放事业最具代表性的标签质疑。深圳的_____, 外界习惯用“创新”来说明原因。“创新”是一种绝对不会错的政治正确, 可是, 它很容易成为_____的口号, 让我们失去对中国经济转型的深入思考。

依次填入划横线部分最恰当的一项是 ()。

- A. 进步 时髦 B. 发展 简单 C. 繁荣 高调 D. 崛起 空洞

10. 代购是一份随时都能从事的职业, 人物流通和信息发布的便捷, 其背后是一条_____的产业链。其复杂性, 从电商法的出台经历_____。该法修定经历了五年时间, 其中平台责任认定的轻重争议, 还曾引起社会广泛讨论。

依次填入划横线部分最恰当的一项是 ()。

- A. 盘根错节 可见一斑 B. 牢不可破 显而易见

C. 焕然一新 可想而知

D. 环环相扣 初见端倪

11. 除了速度更快，目前 5G 手机似乎未展现出其他的优势。对于消费者而言，5G 手机显得有些“鸡肋”。此外，5G 手机耗电量大、芯片研发滞后等_____，也_____了其推广进度。

依次填入划横线部分最恰当的一项是（ ）。

A. 瑕疵 妨碍

B. 缺陷 阻挡

C. 瓶颈 制约

D. 漏洞 延误

12. 过去的农民起义和改朝换代多以灾荒引发，_____在正常年份，民怨再多也不容易导致暴动，_____灾荒一来，民众遭受饥饿，这时候一有民愤，容易变成暴乱起义。理论上讲，如果常平仓等储粮足够多的，即使灾荒发生，由常平仓、社仓发放粮食，民变的_____应该可控，至少会比没有储粮的情况下更低。

依次填入划横线部分最恰当的一项是（ ）。

A. 由于 然而 数量

B. 如果 一旦 可能

C. 因为 但是 概率

D. 即使 假如 倾向

13. ①更让人惊奇的是，亚马孙上游虽然紧靠安第斯山脉，但河底的岩石颗粒与安第斯山脉的岩石并不一致，反而与河流中下游的岩石属同一种类，也就是说亚马孙上游底那古老的沉积物或许来自大河的下游

②近年来，科学家们在亚马孙河流的上游发现来自下游的一种名为锆石的沉积物

③美国地质学家发现亚马孙河河底的锆石年龄在 13 亿到 21 亿年，但安第斯山脉只有几百万岁，这表明亚马孙河流域的矿物质不可能来自年轻的安第斯山脉

④锆石是一种细小的矿物质，它来自许多早已化为尘埃的古代山系，在沧海桑田的变化中，地质学家们常通过检测锆石来判断山脉河流的年龄

⑤人们都说亚马孙河发源于南美大陆西海岸边缘的安第斯山脉，但其实几百万年前或许并非如此，证据就是这种来自亚马孙河流底部的沉积物锆石

⑥有的人称呼这是亚马孙河倒流！可是亚马孙河真的曾经倒流吗

将以上 6 个句子重新排列，语序正确的是（ ）。

A. ②⑥⑤④③①

B. ⑤④②⑥①③

C. ④⑤②③①⑥

D. ③④⑥①②⑤

14. ①然而，环境相容性和昂贵电池组件的回收能力也逐渐成为评价不同类型电池的重要指标

②因此可以认为，那些基于其他电荷载体的电池，或组件在空间上分离的反应电池，还有无需使用某些稀缺关键材料的电池，未来也能在市场上立足

③不同种类的电池由于背后的化学原理不同，在能量密度、性能、成本和使用寿命方面各有优势

④因为它们看来最有可能加速由内燃机到电动机的转型过程：体积小、重量轻，容量也足够汽车使用

⑤在未来的电动汽车社会中，它们即便不适合直接为车供能，至少能负责可再生能源电力的固定储存

⑥目前，大学和工业界对于电动汽车电池的研究主要集中在锂离子电池上

将以上 6 个句子重新排列，语序正确的是（ ）

- A. ③①⑤④⑥② B. ③⑥④①②⑤ C. ⑥⑤②③①④ D. ⑥①③②④⑤

15. 某些干部热衷学历造假，将一纸假文凭当作升迁路上的必备跳板，_____，一方面，可能过于看重学历与年龄等硬指标，而忽略了对能力与品德的考察，让一些急功近利者铤而走险；另一方面，对于包括虚假文凭在内的各种材料造假，审核把关不严格，让学历“注水”的风险低于所得的好处。

填入划横线部分最恰当的一项是（ ）。

- A. 折射出干部选任制度存在的漏洞
B. 原因值得各地各级党政部门深思
C. 这与相关制度没有落实到位有一定关系
D. 说明他们没把学历造假看成多么严重的问题

16. 台风是一种给人类的生产和生活造成严重影响的灾害性天气，随着气象卫星及数值天气预报等技术的进步，人类对主导台风路径的大尺度环境气流的刻画能力大幅提高，台风路径的预报精度也随之逐年提高，目前已达到 24 小时路径预报小于 70 公里可观准确率。但是，对于受台风结构变化影响更甚的台风强度预报，则由于台风在海上，台风结构及其变化的观测资料获取较为困难等原因导致对强度的预报能力仍然有限。为了提高台风强度的预报精度，除了要设法获取台风内部结构的观测资料外，还要加强探究台风的结构变化及其与下垫面的相互作用对台风强度的影响机理的探究，以完善台风强度的预报模型，才能做出更准确的台风强度预报。

根据这段文字，下列说法正确的是（ ）。

- A. 以现有的技术，预测台风路径比预测台风强度更难
B. 台风的结构变化会影响人类对台风路径的预报精度
C. 收集台风内部结构的观测资料有助于台风强度预报
D. 比对历史数据对建立台风强度的预报模型至关重要

17. 在我们面临的各种污染中，光污染_____。照明设计与安装方法稍作改变，进入大气层的光线量就会出现立竿见影的变化，节能通常也是立竿见影的。最早设法控制光污染——半个世纪以前在亚利桑那州的弗拉格斯塔夫——是为了保护洛厄尔天文台的视野，此后，弗拉格斯塔夫逐渐加强管理。2001 年被命名为第一个“国际黑暗天空城市”。

填入划横线部分最恰当的一项是（ ）。

- A. 可能是被最早遏制的 B. 想必是最常被忽视的
C. 大概是最容易化解的 D. 应该是最没有威胁的

18. 随着人工智能技术的发展，虚假新闻特别是深伪（Deepfake）音视频的制作已进入低成本、低技术知识的阶段。有分析认为，世界或将进入一个信息真假难辨的阶段。其实，大部分非专业制作的虚假视频新闻都非常粗糙，稍有知识的受众都可以甄别出来，但由于传播平台的指数级增加，信息如洪水猛兽般涌向受众，快速分散着受众的注意力，加之视频本身的质量和分辨率等因素，受众在很短的时间内根本难辨真假。受众基于自身兴趣，条件反射般地进行转发，也对虚假音视频的

传播起到推波助澜的作用。而研究表明，眼球经济的结果是人们的注意力被分割得越来越小，对信息的专注时间甚至已经短于金鱼。

这段文字主要介绍了（ ）。

- A. 眼球经济带来的后果
- B. 虚假信息泛滥的原因
- C. 保证新闻真实的手段
- D. 人工智能泛滥的弊端

19. 如今文化事业蓬勃发展，然而文化遗产能否得到科学合理地保护，依然要打上问号。就可移动文物来说，展览策划越来越丰富，但文物安全保护意识则有待提高。特别是在一些基层文博单位，由于资金、人员不足，管理意识不到位，藏品库房分类混乱，甚至连库房基本温湿条件都难以保证。而就不可移动文物而言，有些地区存在文物保护完全让步于城市经济建设的现象，甚至出现“破坏性修复”。前有云接寺清代壁画被重绘成“现代动画”，后有辽宁绥中用少量水泥抹平“最美野长城”……督促落实“修旧如旧”“最小干预”“不改变文物现状”等修缮原则，推广预防性保护的理念，任重道远。

最适合做这段文字标题的是（ ）。

- A. 让文化遗产传承不绝
- B. 文化遗产保护任重道远
- C. 基层文化遗产保护不容乐观
- D. 提高文化遗产保护意识刻不容缓

20. 在电子信息时代以前，因缺乏合适的记忆载体，大自然的数据和人类的行为，绝大多数是没有被记录和保存的。现在，随着移动互联网的发展，信号无处不在，手机又是随身携带的，以至于我们的任何行为都会被记录下来，形成或有价值或无价值的数据，如微信会记录下用户每天的步数，还给他们弄个排名，以刺激其加强锻炼；网络购物则会知晓消费者的喜好，从而在合适的时间推送出合适的商品；滴滴打车常年追踪着乘客经常去哪里，一来二去就能计算出一些“打车最佳路线”等等，但显然，单凭借这些自然地、无意识的数据，还远远达不到人工智能的远景目标，依旧需要大量的人工来“制造”数据。

这段文字接下来最可能讲的是（ ）。

- A. 大自然的数据对人工智能的影响
- B. 人类如何更有效地训练人工智能
- C. 人工智能未来的发展方向和目标
- D. 大量数据作用于人工智能的方式

21. 随着物质生活水平的不断提高，中国消费者越来越理性，贵的并不一定就是好的，便宜的也不一定就是没有好货。消费升级，升的不是价格，而是品质。所以，新品牌在理性消费时代更容易被用户接受。现在 95 后、00 后的消费观念与 70 后、80 后有很大不同，他们更容易接受新事物、新品牌，也更相信身边人的使用体验和自己真实的体验，不盲目迷信大品牌。他们对好坏的判断，与固有的品牌印象关系不大。随着这些年轻人成为消费主力，有品质的新品牌也迎来最好的时代。

这段文字意在强调（ ）。

- A. 现在的年轻人更注重真实体验而非品牌价值
- B. 只要产品的质量好，新品牌也可以大受欢迎
- C. 年轻人的消费观念比中年人更加理性和成熟
- D. 相比大品牌，新品牌将更受到年轻人的青睐

22. 万物感知、万物互联、万物智能，给智能终端和移动互联网产业链带来更大的想象空间。以物联网和人工智能的发展为契机，智能家庭落地化程度逐渐加深，智能门锁开始走上“舞台”中央，越来越多的企业正在试图打造以智能门锁为核心的智能化家庭安全场景和服务体系。事实上，智能门锁作为智慧家庭的另一个重要“入口”，已经开始得到越来越多民众的认可，逐渐从高端市场进入千家万户，成为很多家庭第一件真正意义上的智能家居产品。人们从门锁开始，感受智能化以及物联网技术对生活便利性的切实改变。

这段文字中的“入口”理解最恰当的是（ ）。

- A. 广大民众认可的标准
- B. 智能化家庭的技术门槛
- C. 智能家庭落地化的切入点
- D. 智能家居市场的突破口

23. 勤劳智慧的中华民族很早就发现了甲烷的存在。我国西周时期成书的《易经》在谈到一些自然界发生的有关甲烷的现象时说：“象曰：泽中有火。”这里的“泽”就是沼泽。而“火井”则是我国古代的人们给天然气井的形象命名。不过由于技术与认识的局限，古代的中国人并没有将甲烷与天然气区分开来单独进行研究。直到 18 世纪，欧洲的科学家们才对甲烷进行了科学的研究。1790 年英国医生奥斯汀研究发现甲烷燃烧生成水和二氧化碳，从而确定甲烷是碳和氢的化合物。在随后的漫长岁月里，通过一代代化学家不懈努力，人类对甲烷的认识逐渐清晰。

下列表述与原文意思相符的是（ ）。

- A. 天然气是碳和氢的化合物
- B. 沼泽中有甲烷，能起火燃烧
- C. 18 世纪前欧洲人还未了解甲烷性质
- D. 古代中国人认为甲烷和天然气没有区别

24. “11.11 光棍节”这个看似荒诞的节日起源于高校，是青年群体的自嘲与认同，也反映当前青年社交的困境，青年群体希望通过创造节日实现互动交流。因此，早期光棍节的庆祝活动主要局限于青年群体之间，节日内容也多表现为青年群体内部的聚会、交友等活动。在光棍节形成风潮之际，以淘宝为代表的商业资本从 2009 年开始，通过创立“网络狂欢节”的方式迅速收编这一节日，将原本局限于高校青年群体的光棍节改造为全民参与的消费狂欢节。十年来，双十一购物节订单和交易额连年创新高，2018 天猫双 11 当日物流订单量超过 10 亿，交易额突破 2 千亿。

这段文字意在说明（ ）。

- A. 网络时代的亚文化节日有很高的商业价值
- B. 亚文化与商业文化共谋催生双十一购物节
- C. 节日这一概念本身的权威属性已急剧下降
- D. 强势的商业资本对节日文化的渗透和改造

25. 一个真正的大国，需要在思想理念上拥有影响这个世界的力量。在这方面，中华优秀传统文化提供了丰富的思想资源。当今年夏天北半球的持续高温引发全球变暖的热议，人们可以重温道法自然、天人合一的思想；当网络世界不断爆出安全漏洞，不妨回到“己所不欲，勿施于人”的黄金法则；当一些地区的战争阴霾挥之不去，“百姓昭明，协和万邦”的世界想象应该激起更多共鸣。把中华优秀传统文化中具有当代价值、世界意义的文化精髓提炼出来、展示出来，不仅能够提升中华文化影响力，而且能让中华优秀传统文化同世界各国优秀文化一道造福人类。

最适合做这段文字标题的是 ()。

- A. 博大精深的中华优秀传统文化 B. 如何挖掘中华传统文化的力量
 C. 讲好中国故事，共塑中国形象 D. 弘扬中华传统文化精髓，造福人类

第二部分 数量关系

(共 25 题，参考时限 25 分钟)

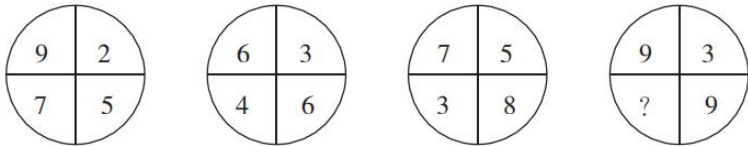
本部分包括两种类型的试题：

一、数字推理：共 10 题。

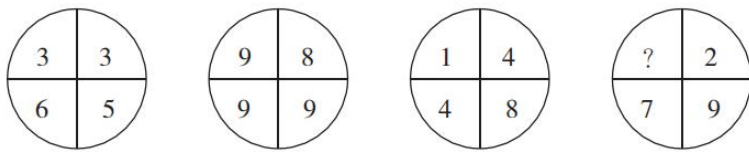
1. 给你一个数列，但其中缺少一项，要求你仔细观察数列的排列规律，然后从四个选项中选择你认为最合理的一项来填补空缺项。

26. $\frac{1}{2}$ $\frac{1}{2}$ $\frac{5}{8}$ $\frac{7}{9}$ $\frac{11}{10}$ $\frac{13}{12}$ ()
 A. $\frac{17}{14}$ B. $\frac{19}{16}$ C. $\frac{7}{6}$ D. $\frac{23}{20}$
27. 8 1 4 2 4 4 ()
 A. 4 B. 6 C. 8 D. 10
28. 70 36 18 8 2 () -5
 A. -2 B. 0 C. 2 D. 4
29. 2 0 5 5 12 14 23 ()
 A. 25 B. 26 C. 27 D. 28
30. 0 2 10 30 68 () 222
 A. 124 B. 130 C. 136 D. 142

2. 每题图形中的数字都包含着一定的规律，请你总结前三个图形中数字的规律，从四个选项中选择你认为问号应该代表的数字。

31. 
- A. 2 B. 4 C. 6 D. 8

32.



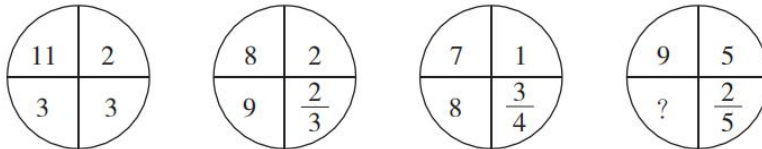
A.1

B.2

C.3

D.4

33.



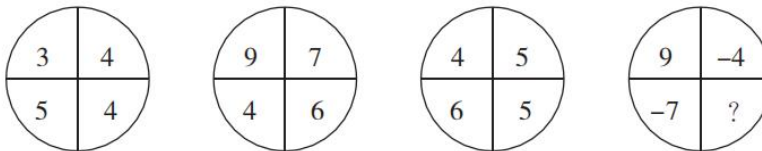
A.5

B.10

C.15

D.20

34.



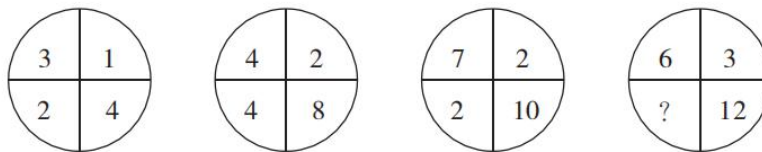
A.0

B.2

C.4

D.6

35.



A.2

B.4

C.6

D.8

二、数学运算：共 15 题。每道试题呈现出一道算术式，或一段表达数字关系的文字，要求你迅速、准确地计算或论证出答案。

36.6 个油桶装了同样多的油，如果从每个桶里分别倒出 5 升油装入一个空容器，那么 6 个桶中剩下的油合计正好是该容器里的 9 倍。问原来每个桶里有多少升油？（ ）

A.40

B.50

C.60

D.70

37.一支温度计刻度均匀但测量不准，放入沸水中显示为 95 度，放在冰水混合物中显示为 5 度，把这支温度计放在实际室温为 28 度的办公室，那么它显示的度数是多少？（ ）

A.23

B.29.5

C.30.2

D.33

38.一张日历表，每行以周日为起始，以周六结尾，从某月中取一个 2×2 方块，这个方块中的 4 个日期之和为 48。问这个方块中最早的日期是几号？（ ）

A.7

B.8

C.9

D.10

39.已知周某生日的月份数乘以 2，加上 10，再把和乘以 5，加上他家人数，结果是 143。如果周某家人数不到 10 人，则他生日在几月？（ ）

A.9

B.10

C.11

D.12

40.从 2、3、4、5、6 中任取 3 个数字，可以组成多少个三位奇数？（ ）

A.12 B.24 C.30 D.60

41. 一列火车要通过两座大桥，已知完全通过第一座大桥用时 30 秒，桥长 650 米，之后为了尽快达到目的地，火车将速度提升了 25%，随后完全通过第二座大桥用时 40 秒，桥长 1250 米。问火车的长度为多少米？（ ）

A.150 B.175 C.200 D.250

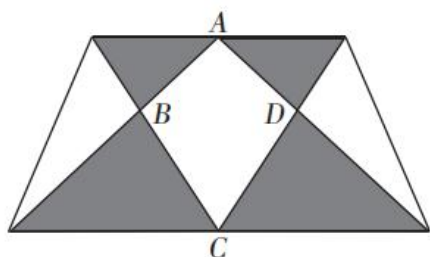
42. 某赛事实行积分赛制，获胜积 5 分，打平积 2 分，失败扣 1 分。已知小辉在 20 场积分赛后积 61 分且有 3 场比赛打平，那么小辉的胜率为（ ）。

A.48% B.55% C.60% D.75%

43. 某经销商以 2 元/千克的价格购进 5000 千克大蒜存入冷库。已知大蒜的市场价每天每千克将上涨 0.5 元，而冷库存放大蒜每天需要支出各种费用合计 400 元，且大蒜在冷库中最多保存 60 天，同时，每天有 10 千克大蒜坏掉不能出售。若经销商获得 39600 元利润，则这批大蒜存放多少天后集中全部出售？（ ）

A.16 B.20 C.24 D.28

44. 如图所示，一块梯形农田中有个四边形鱼塘 ABCD，周围阴影部分是蔬菜种植区，其面积为 266 平方米，其余部分是果林园，已知鱼塘面积是蔬菜种植区的 $\frac{19}{28}$ ，那么这块农田的面积是多少平方米？（ ）



A.572 B.627 C.683 D.745

45. 甲、乙、丙三个小朋友去买奶茶。如果用甲带的钱买三杯奶茶，还差 6.3 元；如果用乙带的钱去买三杯奶茶，还差 8 元；如果用三个人带的钱买三杯奶茶，多了 2.7 元。已知丙带了 4.1 元，那么买一杯奶茶要用多少元？（ ）

A.4.3 B.6.1 C.9.2 D.12.9

46. 3 月份某品牌冰箱的利润率为 43%，10 月份降价 11%，11 月份价格又上涨 7%，问 11 月份冰箱的利润率约为多少？（ ）

A.32% B.34% C.36% D.38%

47. 屏幕上有 4、13、26、58、27、18、9 这七个数。程序自动擦去其中任意三个数，再写上这三个数的和减去 3 的差（例如，擦去 13、27 和 9，再写上 46）。经过几次之后，屏幕上仅剩下一个数。问最后剩下的数是（ ）。

A.146 B.149 C.152 D.155

48. $M=29 \times 38 \times 47 \times 56 \times \dots \times n$ （每两个连续因数的差均相等），已知数 M 连续有 12 个“0”，

则数 n 的最小值是 ()

- A.470 B.515 C.560 D.1010

49.甲工程队每工作 5 天休息 1 天,乙工程队每工作 6 天休息 2 天。一项工程由甲工程队单独完成需要 65 天,由乙工程队单独完成需要 86 天。甲、乙两个工程队合作,从 7 月 5 日开始动工,则完工日期是 8 月几日? ()

- A.3 B.7 C.10 D.11

50.A 地到 B 地的公路长 40 千米,该公路早高峰拥堵期间开始于上午 7:00~8:00 之间的随机时点,持续时间为 2 小时,非拥堵期间车辆行驶速度为 80 千米/小时,拥堵期间车辆行驶速度减半。小张随机选择上午 6:00~9:00 之间的任一时点从 A 地开车前往 B 地,则全程用时不超过 45 分钟的概率 ()。

- A.低于 40% B.在 40%~45%之间
C.在 45%~50%之间 D.高于 50%

第三部分 判断推理

(共 20 题,参考时限 20 分钟)

本部分包括三种类型的试题:

一、类比推理:共 8 题。先给出一组相关的词,要求你在备选答案中找出一组与之逻辑关系上最贴近或相似的词。

51.落后:升级

- A.规矩:创新 B.失衡:调整
C.筛选:淘汰 D.探索:迷茫

52.籍籍无名:平凡

- A.处心积虑:复杂 B.深不可测:广泛
C.虚怀若谷:谦逊 D.脱颖而出:幸运

53.理论:实际

- A.物质:精神 B.分子:分母
C.垂直:水平 D.乐观:悲观

54.公交车:汽油车:汽车

- A.空调:电扇:电器 B.正整数:奇数:整数
C.护理学:麻醉学:医学 D.行星:卫星:银河系

55.指责:苛责

- A.平静:麻木 B.宽容:包容
C.宠爱:溺爱 D.无视:蔑视

56.老黄牛：孺子牛

A.变色龙：墙头草

C.替罪羊：出头鸟

57.赛跑：速度：跑道

A.足球：球员：球场

C.经营：利润：高校

58.高楼：大厦

A.朝朝：暮暮

C.喜出：望外

B.千里马：领头羊

D.纸老虎：井底蛙

B.手术：药效：医院

D.考试：成绩：考场

B.胡言：乱语

D.见异：思迁

二、逻辑判断：共 7 题。每题给出一段陈述，这段陈述被假设是正确的，不容置疑的，要求你根据这段陈述，选择一个答案。注意：正确的答案应与所给的陈述相符合，不需要任何附加说明即可以从陈述中直接推出。

59. 当来自恒星的光线抵达地球大气时，光线会发生弯曲，这种弯曲使光线集中并聚焦在地球另一边太空中的某个区域。哥伦比亚大学的戴维·基平说，在合适的位置放置一枚航天器，就可以捕捉到聚焦的光线。据此，基平认为与目前地球上的望远镜相比，航天器上的仪器也许能收集更多来自不那么明亮的物体的光线，该“地球望远镜”也许能进行超灵敏测量。

以下哪项如果为真，最能质疑上述观点？（ ）

A. 在地球较远轨道放置航天器，已不是什么难事

B. 恒星的光线抵达地球大气后发生弯曲，聚焦在离地球较远的地方

C. 巧妙的设计并不能使天文学摆脱“想要一个比现有望远镜更大的望远镜”的线性思维陷阱

D. 航天器上的仪器难以阻挡来自地球的多余光线，不同高度进入大气的光线可能造成图像模糊

60. 有研究人员表示，年龄较大的父母生育的子女较少表现出破坏规则或对他人进行肢体攻击的倾向。研究人员对数万名儿童进行了研究，通过让这些 10 到 12 岁儿童的父母和老师填写调查问卷，研究人员对晚生晚育和子女行为之间的关系进行了分析。年龄较大的父母们在经济上更稳定，往往拥有更高的受教育程度，而且更加耐心和有条理，能为子女提供更加安全和健康的环境。反之，较为年轻的父母往往更为冲动，并且会把这种不安全感传递到孩子身上。

以下哪项如果为真，最能质疑上述结论？（ ）

A. 大多数孩子的行为习惯更多地受父母陪伴的影响

B. 年龄较大的父母来自于工作的压力要高于年轻父母

C. 选取的儿童中，晚婚晚育父母家庭条件并不比年轻父母好

D. 无证据表明两类孩子在罹患焦虑症等疾病的概率上有差异

61. 一项针对 2000 名英国人（一半男性，一半女性）的研究发现，13%的男性每日午睡，但只有 6%的女性这样做。该研究发现，有四分之一的女性称，她们一生中从未打过盹儿，而在男性中这一比例为 16%。研究表明：20 分钟到 30 分钟的小睡足以关闭神经系统，给全身补充能量，提高警

惕性。更长时间的打盹儿足以让你进入深度睡眠，会让你在醒来时感觉昏昏沉沉的。

由此可以推出（ ）。

- A. 没有午休的人肯定有打盹的时候
- B. 20 分钟以内的小睡并不能让全身充满能量
- C. 现实生活中，男性打盹的人数一定多于女性
- D. 打盹超出 30 分钟，醒来后可能会有短暂迷糊

62. 一项研究发现，森林象的灭绝可能导致西非和中非雨林的“地上生物量”（包括树枝和叶子在内的树木的重量）减少 7%。森林象的存在使能更好捕获温室气体大型树木增多，但如果没有这些象，吸收碳能力较弱的小型树木就会繁盛。这项研究发现，森林象在刚果和其他地方会清除较小的植被，久而久之，这会令硬木树变得更少但更大，这些树比较小的树活得更久。

以下哪项如果为真，最能支持上述结论？（ ）

- A. 大型食草动物活动范围广，有利于植物种子传播
- B. 考古人员在西非和中非雨林中均发现了森林象的化石
- C. 森林象吃掉小型树木，令森林变得稀疏，有利于数量更少、体积更大、木材密度更高树木的快速生长，从而增加碳储存量
- D. 在有森林象的区域，树冠总覆盖面积较没有大象的区域多 70%，只有约一半的自然光照到地面，从而抑制了小型树木的生长

63. 在“我爱唱歌”擂台赛中，六名歌手互相之间都要 PK 一次，赛制规定每人每天 PK 一次，用五天时间赛完。已知第一天 1 号和 4 号 PK，第二天 3 号和 6 号 PK，第三天 4 号和 6 号 PK，第四天 2 号和 3 号 PK，那么第二天 1 号和几号选手 PK，才能使五天内六名歌手互相之间都恰好 PK 一次？（ ）

- A. 2
- B. 3
- C. 5
- D. 6

64. 一项医学研究表明，通过检测人体血液中六万种代谢物中的十几个冠心病标志物，若这些标志物异常，即可得出被测者患有冠心病的结论，从而及早介入治疗。有媒体报道称，该医学研究实现了只需抽血即可检测和预防冠心病。

以下哪项如果为真，最能削弱该媒体的结论？（ ）

- A. 每个人血液中的代谢物种类基本相同
- B. 这项医学研究仍在进行大量的临床实验
- C. 只有冠心病患者的冠心病标志物才会异常
- D. 人的汗液和唾液中也含有多个冠心病标志物

65. 一项实验让两组人员观察 20 张图像后，A 组服用咖啡因药丸，B 组服用安慰剂药丸。24 小时后，再向两组人员展示 20 张图像，其中包含若干之前的图像，结果显示，A 组人员能更快速、更准确地辨认出之前的图像。因此，该实验表明，喝咖啡可以增强记忆。

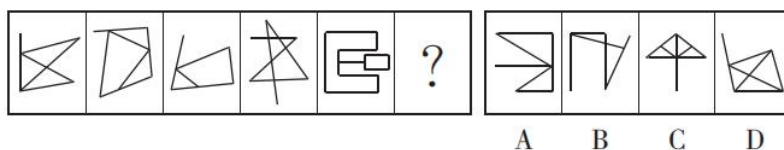
以下哪项如果为真，最能削弱上述结论？（ ）

- A. B 组人员平均年龄比 A 组大 15 岁

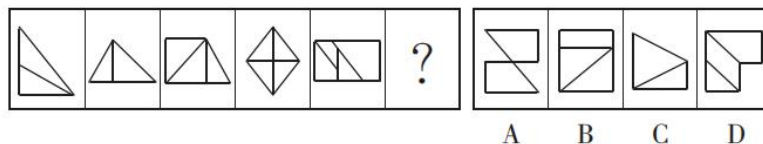
- B. 大部分图像都非常复杂，难以记住
- C. 咖啡因在人体内作用最多持续 8 小时
- D. 服用的咖啡因药丸剂量大于一杯

三、图形推理：共 5 题。请按每道题的答题要求作答。

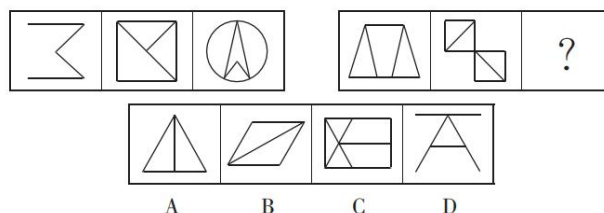
66. 从所给的四个选项中，选择最合适的一项填入问号处，使之呈现一定的规律性。



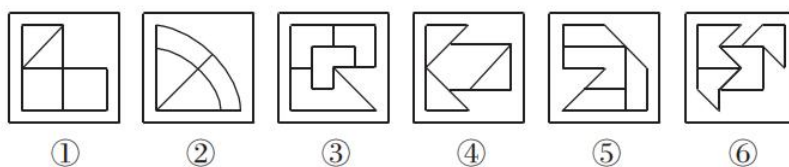
67. 从所给的四个选项中，选择最合适的一项填入问号处，使之呈现一定的规律性。



68. 从所给的四个选项中，选择最合适的一项填入问号处，使之呈现一定的规律性。

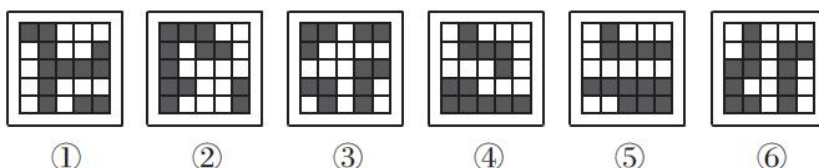


69. 把下面的六个图形分为两类，使每一类图形都有各自的共同特征或规律，分类正确的一项是 ()。



- A. ①③④, ②⑤⑥
- B. ①③⑤, ②④⑥
- C. ①②⑥, ③④⑤
- D. ①④⑥, ②③⑤

70. 把下面的六个图形分为两类，使每一类图形都有各自的共同特征或规律，分类正确的一项是 ()。



A. ①③⑥, ②④⑤

B. ①③⑤, ②④⑥

C. ①⑤⑥, ②③④

D. ①④⑥, ②③⑤

第四部分 常识判断

(共 15 题, 参考时限 10 分钟)

根据题目要求, 在四个选项中选出一个最恰当的答案。

71. 2019 年 5 月 31 日, 习近平主席在“不忘初心, 牢记使命”主题教育工作会议上指出了这次主题教育的五个具体目标, 下列不属于五个具体目标的是 ()。

A. 干事创业敢担当

B. 理论学习有收获

C. 为民服务解难题

D. 统筹兼顾抓落实

72. 2019 年 10 月 1 日, 习近平主席在庆祝中华人民共和国成立 70 周年大会上的讲话中用五个“坚持”为我们指明了前进征程, 下列不属于五个“坚持”的是 ()。

A. 坚持人民主体地位

B. 坚持和平发展道路

C. 坚持解放思想, 实事求是

D. 坚持“和平统一、一国两制”的方针

73. 10 月 1 日举行的国庆 70 周年阅兵活动中, 装备方队备受瞩目, 受阅的 580 台(套)装备均为国产现役主战装备, 其中几款首次亮相的全新装备更是吸引了全世界的目光。关于本次阅兵活动的装备, 下列说法错误的是 ()。

A. “东风-41”是我国现役导弹中射程最远的型号, 可以覆盖全球战略目标

B. “东风-17”是我国首款正式列装的高超音速导弹, 飞行速度可超过 5 倍音速

C. 攻击-11 无人机是世界首款正式服役的飞翼隐身无人机, 执行任务时几乎不会被雷达发现

D. 99 式主战坦克是我国自主研发的第二代主战坦克, 也是我国首台真正意义上的信息化坦克

74. 近日, 浙江省海宁市发现一处墓葬群。经推断, 该墓葬群为介于西汉和东汉之间的家族墓地。该墓地群出土的随葬品中最不可能出现的是 ()。

A. 漆器 王莽币

B. 陶仓 青铜镜

C. 刺绣 铜油灯

D. 宣纸 紫砂

75. 关于我国传统文学及其特点, 下列说法错误的是 ()。

A. 唐诗中的古体诗有五言和七言之分, 句数可多可少, 篇章可长可短, 韵脚可以转换

B. 宋词有婉约与豪放之分, 婉约词语言圆润清新, 不拘于音律, 代表人物有李清照、陆游、柳永等

C. 元曲中的各个曲牌句式、字数、平仄虽有定格, 但可加衬字, 有一些曲牌还能增句

D. 明清小说中的章回体小说源于民间说书艺人的“讲史话本”, 我国古典小说四大名著都属于章回体小说

76. 今年的台风“利奇马”威力巨大，影响了多个省市，下列关于台风的说法正确的是（ ）。
A. 台风是一种强热带风暴
B. 台风一般以顺时针方向旋转
C. 温带气候经常会转化为热带气候
D. 台风和飓风是不同的地区的习惯称法
77. 我国的城市名称有着各种各样的来历，下列城市与其名称来历对应错误的是（ ）。
A. 铜陵市——铜矿蕴藏丰富
B. 中山市——纪念孙中山先生
C. 商丘市——战国时期商鞅的封地
D. 齐齐哈尔——达斡尔语“天然牧场”之意
78. 关于蔬菜，下列说法正确的是（ ）。
A. 茺荳又名香菜、胡荳，原产于北美洲
B. 西蓝花的维生素 C 含量比番茄更高
C. 大白菜、豌豆和韭菜都不含胡萝卜素
D. 香椿只在长江以南生长是其昂贵的主要原因
79. 下列历史事件按照发生时间先后顺序排列正确的是（ ）。
① 攻占巴士底狱 ② 《共产党宣言》的发表 ③ 十月革命
④ 君士坦丁堡战役 ⑤ 欧盟正式成立 ⑥ 东西教会大分裂
A. ⑥①④⑤②③ B. ④①⑥②③⑤
C. ⑥④①②③⑤ D. ④⑤⑥①③②
80. 关于吸烟对人体的危害，下列说法错误的是（ ）。
A. 烟草中的尼古丁使人对吸烟上瘾
B. 吸烟过程中生成的烟焦油含有多种致癌物质
C. 长期吸烟会引发哮喘、慢阻肺等呼吸系统疾病
D. 过量吸入烟草中的可可碱会导致急性心肌梗塞
81. “二十四史”是中国古代二十四部正史的总称，下列“二十四史”中的史书主要作者对应错误的是（ ）。
A. 《隋书》——魏征 B. 《后汉书》——班固
C. 《新五代史》——欧阳修 D. 《三国志》——陈寿
82. 下列关于时差的说法正确的是（ ）。
A. 全球一共分为 12 个时区
B. 新德里时间比伦敦时间晚
C. 中国的所有省份统一使用东八区的时间
D. 世界上拥有时区最多的国家是俄罗斯
83. 下列诗句所描写的花与其他三句不同的是（ ）。
A. 兴尽晚回舟，误入藕花深处
B. 醉漾轻舟，信流引到花深处
C. 昔日芙蓉花，今成断根草
D. 绿竹含新粉，红莲落故衣
84. 下列关于无氧呼吸的说法错误的是（ ）。
A. 马铃薯块茎进行无氧呼吸时产生乳酸
B. 微生物的无氧呼吸会产生酒精或乳酸
C. 无氧呼吸是对机体能量需求的一种暂时性补充

D. 植物细胞在缺氧的条件下，会将糖类有机物分解成彻底氧化的产物

85. 随着电子产品的普及，我国青少年的近视率与日俱增，近视患者之所以看不清远处的物体，是因为（ ）。

- A. 眼球视觉细胞出现大面积损伤
- B. 眼球晶状体正常功能受到影响
- C. 光线经眼球屈光系统后聚焦在视网膜之前
- D. 光线经眼球屈光系统后聚焦在视网膜之后

第五部分 资料分析

（共 15 小题，参考时限 15 分钟）

所给出的图、表或一段文字均有 5 个问题要你回答。你应根据资料提供的信息进行分析、比较、计算或判断、选出答案。

一、根据下列资料，回答 86~90 题。

2017 年 1~2 月累计，全国一般公共预算收入 31454 亿元，比去年同期增加 4069 亿元；1~2 月累计，全国一般公共预算支出 24860 元，比去年同期增加 3689 亿元。在支出中，中央一般公共预算本级支出 3403 亿元，同比增长 8.1%；地方一般公共预算支出 21457 亿元，同比增长 19.1%。

2017 年 1~2 月全国一般公共预算主要支出情况

支出项目	金额(亿元)	同比增长(%)
教育支出	3945	16.7%
科学技术支出	539	31.0%
文化教育与传媒支出	283	16.2%
社会保障和就业支出	4883	25.9%
医疗卫生与计划生育支出	1850	26.5%
城乡社区支出	2059	4.5%
农林水支出	1567	5.0%
交通运输支出	947	13.2%
住房保障支出	691	34.5%
债务付息支出	642	16.4%

86. 2017 年 1~2 月累计，全国一般公共预算收入同比增长约为（ ）。

- A. 15%
- B. 17%
- C. 23%
- D. 26%

87. 与上年同期相比，2017 年 1~2 月累计，中央一般公共预算本级支出占全国一般公共预算支出的比重约（ ）。

- A. 提高 12 个百分点
- B. 降低 12 个百分点

- C. 降低 1.2 个百分点
D. 提高 1.2 个百分点
88. 2017 年 1~2 月, 表中各项支出项目中, 同比增长金额超过 100 亿元的项目有几个? ()
A. 3 B. 4 C. 5 D. 6
89. 2016 年 1~2 月, 表中支出项目金额最高的项目其支出金额约是最低的多少倍? ()
A. 14 B. 16 C. 18 D. 20
90. 能够从上述资料中推出的是 ()。
A. 2016 年 1~2 月, 表中支出项目金额超过 1800 亿元的有 2 个
B. 2017 年 1~2 月, 地方一般公共预算支出较上年同期增长超过 3000 亿元
C. 2016 年 1~2 月, 全国一般公共预算住房保障支出金额高于债务付息支出
D. 2017 年 1~2 月, 全国地方一般公共预算各支出项目同比增速均快于中央

二、根据下列资料, 回答 91~95 题。

2018 年 8 月 20 日, 中国互联网络信息中心 (CNNIC) 发布了第 42 次《中国互联网络发展状况统计报告》。截至 2018 年 6 月, 我国网民规模为 8.02 亿, 上半年新增网民 2968 万人, 互联网普及率达 57.7%。

根据《报告》, 我国农村网民规模为 2.11 亿, 占整体网民的 26.3%, 较 2017 年末增加 204 万人, 增幅为 1.0%; 城镇网民较 2017 年末增加 2764 万人。增幅为 4.9%。我国不断推进城镇化进程, 使得城镇人口不断增加, 农村人口不断减少。城乡网民结构受此影响也发生了细微变化。

截至 2018 年 6 月, 10~39 岁群体占总体网民的 70.8%, 其中 20~29 岁年龄段的网民占比最高, 达 27.9%; 10~29 岁、30~39 岁群体占比分别为 18.2%、24.7%, 与 2017 年末基本保持一致; 30~49 岁中年网民群体占比由 2017 年末的 36.7%扩大至 39.9%。

图 1 中国网民规模和互联网普及率

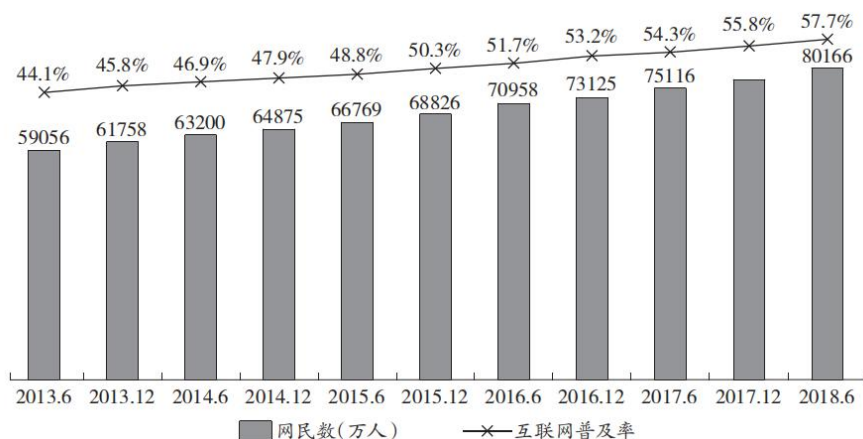
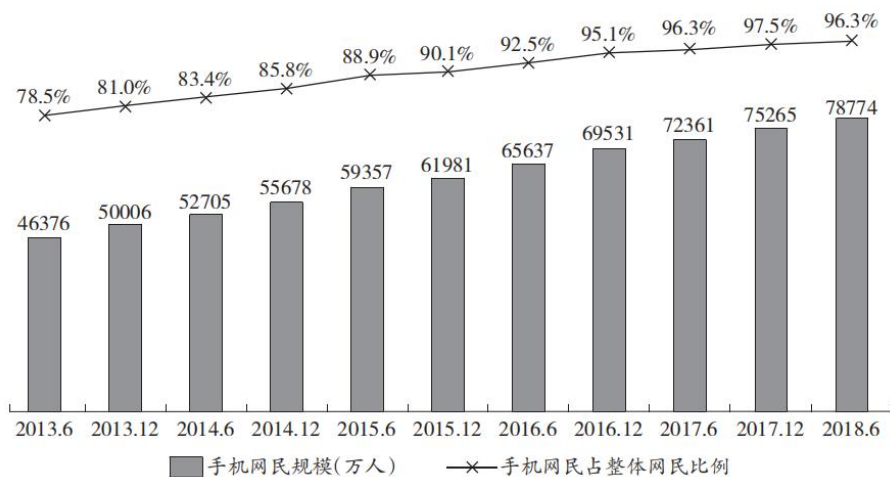


图 2 中国手机网民规模及其占网民比例



- 91.图 1 中, 2017 年 12 月柱状图对应的数字应该是 ()。
- A.75265 B.76657 C.77198 D.77402
- 92.截至 2018 年 6 月, 我国手机网民较 2017 年末增长百分比约为 ()。
- A.0.8 B.3.8 C.4.7 D.4.9
- 93.2018 年 6 月我国城乡网民结构中, 城镇网民占比约为 ()。
- A.4.9% B.24.7% C.70.8% D.73.7%
- 94.2018 年上半年, 30~49 岁网民约增加多少万人? ()
- A.3500 B.3650 C.3800 D.3950
- 95.根据资料, 下列说法正确的是 ()。
- A.2017 年, 我国新增手机网民 5734 万人
- B.截至 2018 年 6 月, 我国城镇网民规模为 5.81 亿
- C.2017 年末, 30~39 岁群体占总体网民的 18%左右
- D.2017 年末, 网民中使用手机上网人群的占比为 98.3%

三、根据下列材料, 回答 96~100 题

2018 年上半年, 沪市上市公司共计实现营业收入 15.4 万亿元, 同比增长 11%; 净利润 1.6 万亿元, 同比增长 14%。上半年, 沪市实体行业企业质量效益稳步提升, 实现营业收入 12.1 万亿元, 同比增长 13%, 实现净利润约 0.6 万亿元, 同比增长 25%; 金融行业实现营业收入 3.4 万亿元, 同比增长 7%, 实现净利润约 0.9 万亿元, 同比增长 7%。沪市专用设备制造业实现净利润 95 亿元, 同比增长 58%; 信息传输、软件和信息技术服务业实现净利润 100 亿元, 同比增长 25%; 租赁和商务服务业实现净利润 83 亿元, 同比增长 36%。

上半年, 深市上市公司合计实现营业总收入 5.41 万亿元, 同比增长 17.24%; 合计实现净利润 3963.50 亿元, 同比增长 16.86%。深市上市公司分属的 19 个行业中, 17 个行业营业收入同比增长, 13 个行业净利润同比增长。占深市近七成的制造业公司营业收入和净利润分别增长 17.46%和 14.83%。中小板 912 家公司平均实现营业收入 23 亿元, 同比增长 21.29%; 平均实现净利润 1.63 亿

元，同比增长 13.57%。创业板 730 家公司平均实现营业收入 8.10 亿元，同比增长 19.92%；平均实现净利润 0.75 亿元，同比增长 8.13%。深市上市公司通过非公开发行、配股等方式实施再融资的家数为 243 家次，同比增长 3.4%，筹资金额为 2037.37 亿元，同比大幅下降 48.65%。

96. 2017 年上半年，沪市和深市上市公司共计实现营业收入约多少万亿元？（ ）

- A. 17.5 B. 18.5 C. 19.5 D. 20.5

97. 2018 年上半年，沪市金融行业营业收入净利率约比实体行业（ ）。

- A. 高 21.5% B. 高 11.5% C. 低 11.5% D. 低 21.5%

98. 2018 年上半年，下列哪个行业的公司净利润同比增长最慢？（ ）

- A. 沪市专用设备制造业
B. 沪市租赁和商务服务业
C. 沪市信息传输、软件和信息技术服务业
D. 深市制造业

99. 2018 年上半年，创业板上市公司营业收入占深市的比重约是多少？（ ）

- A. 9% B. 11% C. 13% D. 15%

100. 根据资料，下列说法正确的是（ ）。

- A. 2018 年上半年，沪市营业收入净利率比深市低
B. 2018 年上半年，深市上市公司再融资金额同比上升
C. 2017 年上半年，沪市上市公司合计实现营业总收入不到 10 万亿元
D. 2018 年，深市至少有 11 个行业实现营业收入和净利润同比增长

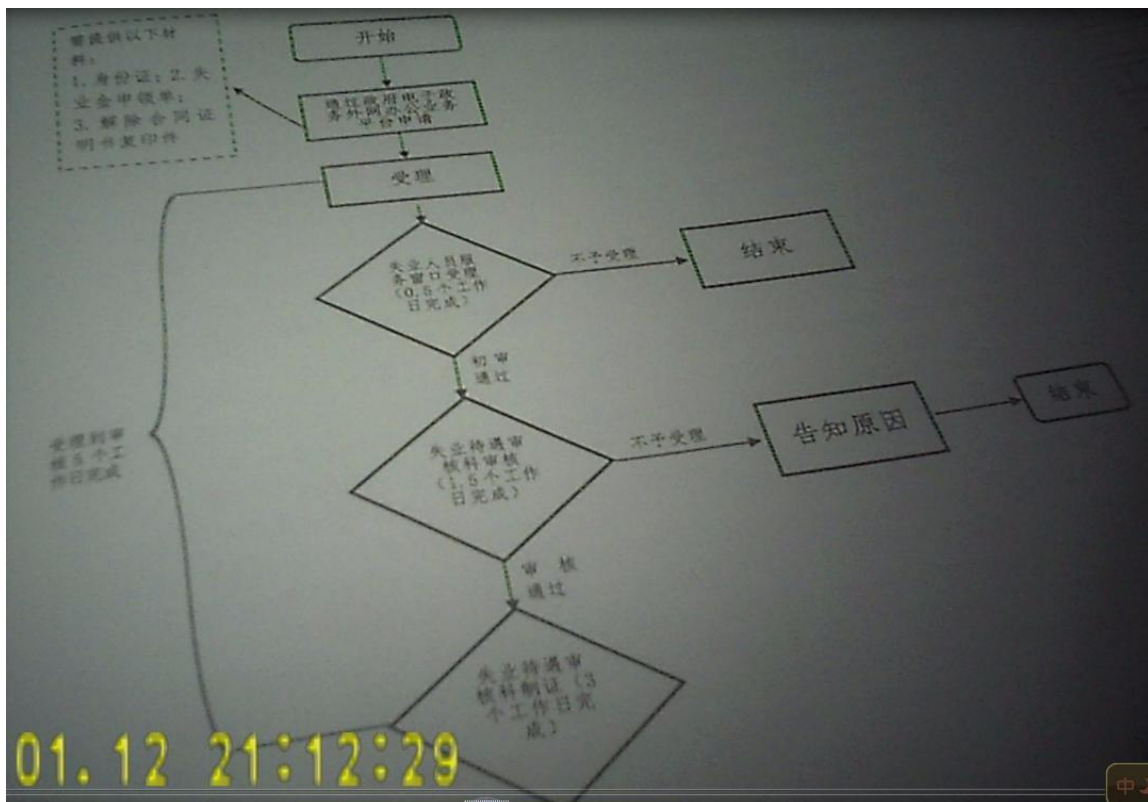
2019 年 12 月 1 日浙江省丽水市莲都区事业单位考试试卷
《综合应能用能力》

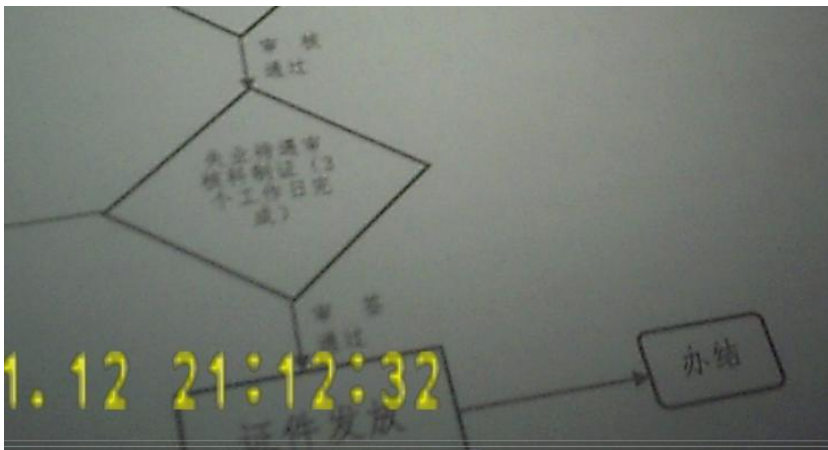
一、给定材料

【材料 1】

下面是 A 市人社局顺应“最多跑一次”改革趋势，制订的就业失业登记证的申报流程图。

A 市就业失业登记证申领流程图





【材料2】

为进一步提高窗口工作人员综合业务素质，更好地服务人民群众，根据省人社厅和全市人社系统“政风行风建设年”活动安排，10月28日，A市人社局举行窗口工作人员“四项基本功”专题培训会。

市人社局党组成员、机关党委书记李某，市第三人民医院副院长、心理危机干预中心主任、主任医师、医学博士张某，市商业银行知名内训师陈某分别从“作风养成”“心理调适与情绪管理”、“态度礼仪”和“沟通艺术”等方面作讲解。

下面是部分参与培训的人员撰写的培训手记：

参训人员小王：参加了局里举办的为期2天的“四项基本功”专题培训会之后，从作为一名窗口岗位人员所需要的言行举止方面收到了教育，万不可把自己手中那一点人民赋予的权利当成谋取半点私利的资本，树立并保持正确人生观、价值观。现结合自身工作实绩，谈谈参加培训之后自己的一点看法和观点。刘书记的讲授围绕作风建设开展，使我深有感触，作为一名公职人员，要始终把初心和使命放在第一位，但是对于一些理论知识，还是缺乏一些顿悟，我们作为基层服务人员，可能更需要的是一些通俗易懂案例进行理解，不过这也说明我还需要进一步的学习。张主任的课程幽默风趣，用通俗易懂的语言把一系列我们之前没有接触过的心理学知识传授给我们，还给我们发放了一些心理学量表，让我们可以实时了解自己的心理状态，及时做好调节，可惜没能在课程结束前向他请教些快速放松身心的方法。陈教授的礼仪和沟通很实用，虽然和我们之前的培训部分有重复，但是看得出来，陈老师的专业素养比以往的老师都要强，还通过情景模拟的方式，让我们切身感受到如何做好一名窗口服务人员。

参训人员小孟：窗口服务工作是我们给予办事群众良好印象的第一道“关口”“冷、硬、横、推”是我们的大忌，也是我们迫切需要解决及改变的重要问题。这次培训，可以说使我个人的职业素养得到了很大的提升。虽然最近降温严重，但是为了参加这次培训，我还是坚持五点起床，然后坐将近两个半小时的车来到培训会场，不过看到大家都风尘仆仆却没有一人迟到，我还是为能有这样的同事而感到自豪。培训分为“作风养成”“心理调适与情绪管理”、“态度礼仪”和“沟通艺术”这几个大的方面，每一个方面都是针对我们当前存在的一些问题。李书记的课克服了以往单纯说教、灌输式的思想政治工作的缺点和不足，以深化工作人员同群众的感情为出发点和落脚点。思

想是行动的先导，有什么样的思想，就有什么样的行动。通过这次教育学习，我更深切体会到了忠于职守、廉洁自律的必要性。张主任的课，让我学到了正确对待生活和工作的方式，以正确、健康的心态工作、学习、生活，碰到问题不消极，想办法解决。通过陈老师礼仪和知识的培训，我深感自己在礼仪方面还存在许多不足，单位组织的礼仪培训活动非常有必要，使我深有感触，受益匪浅。

参训人员小蒋：首先，非常感谢领导们给了我们人社工作人员一次难得的学习机会，让我们有幸听到了各位专家、领导的大家之言，受益匪浅。李书记的讲课，犹如一面明镜，让我们在中国博大精深的文化氛围中，感受了淡泊名利、宁静致远的超然境界，也清醒地认识到加强自身廉洁自律的重要性。同时犹如一记警钟，让我们时刻谨记作为一名国家公职人员必须依法行政。如今，随着改革开放和现代化建设步伐的不断加快，礼仪更显得尤为重要。它内容之多，范围之广，可谓包罗万象，无处不在。一个人的举止、表情、贪图，对人待物等方方面面，都能展示一个人的素质修养，一个单位的整体形象。陈老师的课，对提升我们沟通和礼仪方面的能力具有重要意义。张主任的心理培训课，在我心里激起了阵阵涟漪，我相信这次培训给与我的东西绝不止心理学的理论知识，它会有一种延续性，影响我的生活，影响我的工作，影响我的人生……它会让我更为自信更为坦然地接受一次次的挑战！

【材料 3】

走进 A 市行政服务中心，人社服务大厅似乎是一个“另类”。往日的长队和喧嚣被静谧和安详取代。变化的秘密，隐藏在“领跑者”的改革试点中。

为提升群众办事便捷度，A 市推出“五办”模式，即“网上办”“掌上办”“一证通办”“就近能办”“全市通办”。截至目前，A 市试点已实现 5 个 100% 目标：134 个服务事项“网上办”“掌上办”实现率均达到 100%；48 个民生事项“一证通办”实现率达到 100%；“社银合作”“邮政代办”“就近办”乡镇（街道）网点覆盖率达到 100%；91 个事项实现 100%“全市通办”。全市人社服务大厅日均人流量从最多时超 2000 万人次下降到目前的 600 人次。

2019 年 10 月 21 日，A 市区一企业的方经理想为自己单位的工作人员申请综合计算工时制。方经理在金华市政务服务网的综合计算工时制审批中提交了电子版申请表。半小时后方经理就收到了一条短信通知，提示申请已通过，可通过扫描办件进度查询的二维码下载审批决定书。

在全面推行“全科受理、一窗通办”的同时，A 市探索推行“机器换窗、人机联办”服务，让工作人员从柜台走向大厅、从服务走向引导。目前，A 市人社服务大厅已划分为自助经办区、自助网办区和复杂件 VIP 专区三个区，服务窗口从原来的 37 个减少到 10 个，铺设自助服务终端 12 台，自助网办终端 8 台，自助终端已承担大厅 2/3 的业务办理量，办件时间从 20 分钟/件降到 5 分钟/件，除高峰期窗口办理需等候 5 至 10 分钟外，其余时间均已实现即来即办、即办即走。通过试点，A 市已在全市范围打造了“两个 10 分钟”人社服务圈，即 10 分钟内有人社服务网点、10 分钟内事项办结。

2019 年 10 月 17 日，A 市区的曹某在单位办理辞职手续后来到了人社大厅。咨询服务区“导服员”将其引导至自助机前，在“人社助跑员”协助下，曹光荣凭身份证在自助机上完成了个人续缴养老保险费及领取失业保险金业务。

A 市还在全市 147 个乡镇（街道）全部建立人社服务专区，设立银行、邮政代办网点 368 个，80%以上办事事项可在基层网点办理，所有事项实现“八统一”标准，开展大厅工作人员下沉经办指导，投放 247 台综合自助终端，确保基层网点“一窗通办”落得下、接得牢。A 市区乡镇（街道）和银行邮政代办网点日均办件量达到 1200 件左右。

2019 年 9 月 10 日，某街道一名群众把社保卡交给村里的劳动保障协理员，让他为自己办理个体劳动者（灵活就业人员）参保登记。很快，村劳动保障协理员就帮她把事情办好。

【材料 4】

“最多跑一次”，是甲省于 2016 年底开始启动的一项简政放权的深刻变革。在这次改革中，甲省人社系统的“最多跑一次”改革积累了很多实践经验。A 市的窗口业务技能“比武”活动就是其中的范例。

进一步深化“最多跑一次”改革，推动业务经办从“专科受理”向“全科受理”转变——这是推进人社经办业务“一窗受理、集成服务”改革的关键。

当地人社系统经办业务涉及事项多、政策广，人社窗口工作人员数量多，业务水平参差不齐。通过“比武”活动，让全体经办人员得到业务上的锤炼，成为 A 市人社局的初衷。因此，A 市在本次“比武”活动的组织上坚持“全”字为先，即参赛人员全覆盖，考试题型全科目，考核技能全方位。

人员全覆盖，体现在“比武”活动组织环节的每一个细节中：15 个区县（市）人社局各自组队，A 市局代表队则由市局行政服务中心牵头组队参赛。每队 6 名选手，3 名由各代表队遴选参赛，另外 3 名由市人社局“跑改办”临赛前随机抽选……

参赛队选手的合理设置，不仅保证了窗口工作人员参与活动的广泛度，也充分调动了全市人社部门的积极性，选送“全能”选手参赛。

在实现“比武”活动人员全覆盖的同时，A 市人社局对考试题型进行了精心策划——全市人社系统各业务部门共同参与，围绕窗口及经办机构基本职责和服务要求，“最多跑一次”事项相关法规及业务经办等内容，建立了 1300 道竞赛题库。

“题库内容涵盖人才政策、就业创业、社会保险、劳动保障维权、社会保障卡服务等 154 项人社办事事项，实现了人社业务领域和业务操作系统的全覆盖。”A 市人社局副局长说。

从“专科人才”到“全科大夫”，需要窗口工作人员对经办业务的长期积累，更需要通过真比赛，选拔出一批“全能”选手来实现窗口经办“全科受理”的目标。

在考试准备环节，为了考验选手的学习能力和业务经办的涉猎面，他们把题库里的 800 道题下发给各代表队备赛，另外 500 道题不对外公开。

为了考核选手的实际操作和业务经办能力，在技能操作比赛时，相关部门专门在 A 市社保服务大厅一楼窗口搭建“全科受理”实际经办所需的软硬件环境。

在 A 市人社局会议室搭建的“比武”活动上机操作的现场我们可以看到，选手从抽取试题到材料审核，再到上机操作，都是有条不紊、沉着从容，展现了他们良好的职业素养。同时，比赛环节和程序的设计也达到了“比武”活动就是要比选手真本事的目。

一位窗口工作人员说，正是因为“比武”活动是真比真赛，而且大家的水平、能力不分伯仲，

所以“比武”活动才更激烈，更吸引人，也更鼓舞人。

“比武”活动结束了，但A市人社系统深化“最多跑一次”改革、实现“服务争效”的步伐并未停止。A市各级人社部门和窗口工作人员以“比武”活动为契机，掀起了学业务、比素质、提能力、强服务的新高潮。

说起参加比赛的感受和比赛带来的变化，在“比武”活动中获得“最佳业务技能选手”称号的A市某区社保所科员郭太云的心情久久不能平静。

“‘比武’活动是展示自我的舞台，也是学习业务、让人成长进步的平台。在全力深化‘最多跑一次’改革、推行‘一窗受理、集成服务’的当下，我参加这次‘比武’活动，提升了业务素养和服务能力。”郭某说。

同样获得“最佳业务技能选手”称号的A市另一个区人社局社保所科员张某告诉记者，比赛已经结束，但是比拼的战火烧到了经办现场。

“一个个服务窗口变成了大赛现场。大家比培训，集中上课、轮岗学习，学习积极性高涨；也比操作，梳理便民事项，简化办事流程；还比服务，容缺办、免单办、快递办、银行办，创新举措层出不穷。”

“赛场的比拼，变成了优化服务、提升群众获得感的比拼。让群众进一步体验到‘最多跑一次’改革的成效，是此次‘比武’活动的最终目的。”张某说。

谈起“比武”活动对系统练兵的促进作用，不少区县的人社局负责人都给予充分肯定。一位负责人说，“比武”活动不仅推动了窗口工作人员学习理念的转变，让他们从“要我学”变成“我要学”，还促进了服务技能的大提升。

谈及此次“比武”活动的可推广性，标准化是前提，业务的标准化使全市人社系统业务技能“比武”有了统一的衡量标准；统一业务操作平台是保障，全市人社系统业务技能“比武”有了统一的操作平台，才使得比赛存在可操作性。此外，还要合理处理区域差异，可以分区域、分事项、分条线举办全国性比赛。

二、作答要求

(一) 请指出材料 1 流程中的不合理之处, 并提出改进措施。(15 分)

要求: 准确可行, 简明扼要, 不超过 200 字。

(二) 结合材料 2 的内容, 分析 A 市举办的此次培训活动存在哪些问题。(20 分)

要求: 准确全面, 语言精练, 不超过 300 字。

(三) A 市人社服务大厅被评为“群众满意基层站所(办事窗口)”示范单位。省电视台进行报道, 请你结合材料 3 的内容为 A 市人社服务大厅写一篇简短的介绍。(25 分)

要求: 观点突出, 语言精练, 不超过 300 字。

(四) 甲省人社厅拟举办一次“最多跑一次”改革工作座谈会, 请你结合 4 则材料的内容, 为参加座谈会的 A 市人社局领导写一篇参加座谈会的发言稿, 介绍改革工作的开展情况。(40 分)

要求: 总结全面, 内容详实, 800 字左右。

2019 年 12 月 14 日浙江省丽水市龙泉事业单位考试试卷

《综合应用能力》

考生须知

1. 请考生认真核对试卷科目、类别是否与本人报考岗位、专业相符。
2. 请考生将姓名和准考证号填在答题卡上相应位置，并用 2B 铅笔将相应数字填涂。
3. 本次考试，共 5 题，满分 100 分。
4. 请在答题卡上题目对应的答题区域内作答，答案填写在试题本上则作答无效。
5. 本次考试时间共 150 分钟。

一、材料分析题（共 2 题，每小题 10 分，共 20 分）

【材料 1】

在国人的传统观念中，教师惩戒学生就如同父母教训不听话的儿子一样，是天经地义的事情。直到上世纪八九十年代以后，人们才开始对教育惩戒产生疑问。在赏识教育兴起之后，教育中的惩戒更一度被认为是非人道、反教育、落后教育方式的代名词。

2019 年 7 月 9 日，《关于深化教育教学改革全面提高义务教育质量的意见》的提出，将保障教师依法享有教育惩戒权。

《意见》中提出的教育惩戒权是完整而严谨的体罚，《意见》明确的不是一般意义上的惩戒权。非指向教育目的的惩戒，非教育形态下的惩戒，均不在确认之列。所以，教育惩戒权的表述完整不可分割，切不可省了或少了“教育”两字。甚至可以说，教师并没有脱离“教育”的惩戒权。

《意见》中的教育惩戒权有明确的边界和程序，无论是民国时期大教育家陈鹤琴笔下认可的“友谊式的劝导、命令式的警告、揭示姓名、分座”等方式，或者是当前教育实践较为普遍的“语言责备、隔离、剥夺某种权利、没收、留校、警告、处分、停学和开除”等方法，其边界和程序均应清晰明确，并在实际操作中留有因人因事而异的灵活性。

《意见》倡导的教育惩戒权应该有配套的系统措施。在赋予和明确教师的教育惩戒权的同时，也该同时明确学生的权利救济途径，并应该加强对于教师行使该权力的外在监督，确保其在规则和笼子里运行，并严格禁止体罚或变相体罚，防止“20 年后打老师”的悲剧再度上演。

出于积极的教育观考虑，即便确认了教师的教育惩戒权，我们仍希望某些较为严厉的教育惩戒能像鲁迅笔下三味书屋里先生的戒尺和罚跪的规则一样，“不常用”甚至“用不到”。

确实，教育惩戒与惩戒有着密切的联系。教育惩戒是手段与目的的结合，只有符合教育目的的惩罚方式才是教育惩戒。不符合教育目的，甚至反教育的惩罚方式不是教育惩戒。以体罚为例，体

罚是惩罚方式的一种，它是指通过对身体的责罚，特别是造成疼痛，来进行惩罚的行为。体罚有损人格尊严，会给学生造成身体和心理的伤害，甚至会影响学生的健康成长，且体罚宣扬暴力，不利于教育目的的实现，是反教育的。

因此，我们要反对体罚，反对不符合教育目的的惩罚，但不能连符合教育目的的教育惩戒也一起反对。

【材料2】

近日，广东省人大常委会在官网发布《广东省学校安全条例（草案修改稿征求意见稿）》，将老师可对学生进行罚站罚跑的条例删除，并将具体的惩戒规定下放至学校主管部门。此条款最初提出时，不少媒体认为有利于将教育惩戒权落到实处，为何在这次的意见稿中删除了呢？

根据相关介绍，一审审议认为，原草案中的具体措施不能广泛适用于各年龄段和各教育类型学生群体，不利于教育行政部门和学校根据实际情况制定更合理可行的惩戒措施，因此建议将具体措施删除，交由地方教育行政部门和学校制定。也确实有声音认为，该条例没有明确标准，容易变为变相体罚。如何把握好惩戒权的尺度一直是立法细化教育惩戒权的难点，有人认为应当给教师自主裁量权，但是这其中又诞生了一种问题，那就是老师不敢管的现象依旧没有发生本质变化，因为这个细则由老师规定，而不是“上头”规定，那么老师为了避免家校冲突，可能倾向于制定一些“不痛不痒”的惩戒细则。

厦门某小学的老师就提到，学校中大部分老师不敢对学生进行“体罚”，一般口头批评，没有效果再联系家长，自己的学校虽然允许对学生进行罚站处罚，但是每次不能超过五分钟。这种轻微的惩罚对于一些情节严重的学生来说，起不到约束教育的作用，也难以对其他学生形成震慑作用。

针对家校分歧，可由校方与家长，学生与教师共同约定惩戒权细则。一方面在确立规则的阶段就可找到家校分歧并通过共同讨论找出解决方案；另一方面，帮助学生树立规则精神，让他们更深刻地了解何种情况理应受到惩戒，由此学会遵守规则。

【材料3】

近年来，从中央到地方，都在呼吁、探索保障教师的教育惩戒权。但受访的基层教育工作者们认为，从建章立制走向真正落地，仍是“路漫漫其修远兮”。在白纸黑字与现实操作之间，尚有两道坎需要跨越。

昆明家长王女士有个正在上小学的女儿。作为教育惩戒权的坚定拥护者，王女士专门买了一把戒尺，在班级家长微信群中“推广”。她坦言，目前教育惩戒权落地情况不容乐观，一个很大的原因是，“有些家长不接受孩子被惩罚，只要有一个家长去学校、教育局闹过一次，就会让整个学校的老师不敢再行使惩戒权”。

家校共育心理学专家梁晓玲说，成人心理状态的不稳定，往往会投射到孩子的教育领域。“父母的心是一片大海，孩子是海里的小船。如果大海总是波涛汹涌，小船怎么能平稳航行？”梁晓玲说，家长抗拒教师适度行使惩戒权，对孩子而言，看似是心理保护，实则是心理磨损。

当然，近年来确有一些教师滥用惩戒权的负面事件出现。过度惩戒给学生身心造成伤害，也让一些家长忧心忡忡。家长与老师之间由此引发的不互信，导致不少地区家校共育的良性循环没有形

成。

同时，江西南昌某小学的李老师认为，尽管从中央到地方都有保障教师行使惩戒权的倡议和指导性文件，但细则的缺乏导致一些构想的操作性并不充分。

“确实不好把握尺度。话说多重算批评，多重又算辱骂？抄几首古诗算练习，几首又算体罚？”不少老师追问。“现在一些标准很主观，家长觉得老师爱孩子，批评就是惩罚，老师不爱孩子，批评就成了伤害。可老师爱不爱学生，这是个主观判断，边界在哪里？谁说了算呢？”李老师认为，要让老师用好“戒尺”，关键在于有明确的法规细则为教师壮胆撑腰。“只有细化、明确化，才有可操作性。不妨拟出清单式管理条例，既明确原则性的红线底线，又明确可以实施的惩戒方式内容。厘清边界，才能握住戒尺。”

【问题】

1. 请结合材料内容，为“教育惩戒”下一个定义。

要求：准确，精炼，总字数不超过 100 字。

2. 材料 3 指出教育惩戒权落地“尚有两道坎需要跨越”，请结合材料内容分析这两道坎指的是什么。

要求：准确，清晰，总字数不超过 150 字。

二、论证评价题（共 1 题，共 16 分。指出材料中存在的 4 处论证错误，并分别说明理由，每条不超过 200 字。指出及改正时，请使用段落序号，涉及具体语句请抄写原句。）

【材料】

①“我被家暴了，过去的半年我仿佛活在噩梦里，关于家暴的这一切，我必须说出来！”在联合国确立的“国际消除家庭暴力日”当天，一名博主发布的一段视频登上了热搜榜。视频中，该博主讲述了自己恋爱一年来五次被家暴的经历，并附上了在电梯间里面遭到殴打的影像记录。目前，施暴者已被当地警方处以行政拘留二十日，并被处罚款。当地法院也对该博主作出人身安全保护令。

②在舆论关注中，相信施暴者会受到应有的处理。相比之下，对那些没有关注度甚至没有收入的家暴受害者来说，如何摆脱施暴者的毒手，走出家庭暴力的阴影，依然是不得不正视的社会问题。据统计，我国有 24.7%的家庭存在不同形式的家庭暴力，妇联系统每年受理 4 到 5 万件家暴投诉，从这我们可以看出，家庭暴力的受害者均为妇女、儿童以及老人。数字背后是一个个生活在暴力阴影下的受害者，和一个个令人唏嘘的家庭悲剧。

③“姐姐告他！不能忍”，网友的声援不少，但也有人问，第一次被打为什么不分手呢？事实上，亲密关系中，很难做到如此理性的决断。毕竟，心软和宽容之间并没有特别明晰的界线，这也是人类所拥有的长处之一。现实中，家庭暴力的存在有着复杂的原因，这背后往往是不平等的社会经济关系，比方说老人因为年迈仰仗子女的赡养与照料，一些妻子因为更多投入家庭育儿需要依赖

丈夫的收入，孩子因为幼小需要父母长辈提供养育资源，在这些情况下，受害者往往难以“直起腰杆”，这就需要社会给予更多物质、精神上的支持，更多法律和制度上的保护。

④近年来，从《反家庭暴力法》的出台，到社区、妇联、民政等多种救济机制的初步建立，再到每一起案件背后舆论的高度关注，客观来说，在反对家庭暴力问题上，整体是朝着好的方向发展，在彻底根治上也是高效快速的。然而，调查显示，女性平均被家暴 35 次之后，才会选择报警，报警率不到 10%。这是因为在很多人的意识中家丑不可外扬，宁愿忍气吞声，也不会公之于众。当然，不少地方仍然认为家庭暴力是“家务事”，救济渠道不通畅，对家暴受害者的求助不能给予有效的反馈，也是造成“沉默大多数”的原因。

⑤问题的解决需要时间，不再沉默是必须迈出的第一步。在这起事件中令人感动的是，施暴者的两位前妻、两位朋友和一位学生也为受害者发了声。一位勇敢的女学生在镜头中说：“我不能再装聋作哑……不站出来，沉默，不作为，选择中立，对他这样的人来说是一种推手作用。”不过，面对施暴者嚣张的气焰和发出的威胁，谁来保护站出来的人？如何让施暴者得到应有惩戒？目前，打破沉默仅仅是靠舆论撑腰，因此我们更应在完善制度、严格法治上下功夫。惟其如此，才能让每一个站出来的人更有安全感，也更有勇气和底气。

三、校阅改错题（共 1 题，共 24 分。下列文字在行文逻辑、文字运用等方面存在一些错误或不当之处，请指出其中的 8 处错误并予以改正。指出及改正时，请使用句子序号，不用抄写全句。）

【材料】

①什么是基本功？画家李可染先生说得通透：“基本功是从艺术修炼的全过程中，抽出最根本、最困难、最关键性的规律部分，只有这些最根本的规律被掌握被突破了，以后在创作上遇到具体问题也就容易解决了。”②艺术创作规律如此，推及各个行业也大概不差，基本功是在技艺传承中沉淀下来的、带有一些规律性的内容，掌握了它，才可以谈粉墨登场、谈推陈出新，就好比书法中的横竖点撇捺，虽不是架构的基本素材，却是完整的汉字，要想运笔自如、结构匀称，只能从笔画练起。

③然而，在一些“捷径”的诱惑下，有些年轻人偏离了下笨功夫、练基本功的正途。④其实，那些所谓捷径通往的注定不是成功的彼岸，反而可能是泥潭和陷阱，即使暂时有了获益，却可能形成路径依赖。⑤年轻人还是要有长远眼光，喜欢写作就要坚持深度思考、字斟句酌，喜欢表演就要坚持艺术学习、锤炼演技，喜欢设计就要殚精竭虑、锐意创新，如此才能慢慢积累优势，到达别人到不了的高度和境界。

⑥但练基本功是一场苦尽甘来的修行，尽管吃不了苦，忍不住艰辛，功力还是无法修炼到位。⑦大国工匠高凤林为了练出稳、准、匀的焊接手法，喝水时端着盛满水的缸子练稳定性，休息时举着铁块练耐力，还冒着高温观察铁水的流动规律，对手臂烫伤、腰板僵硬来说他更是常有的事。⑧国旗护卫队的展旗手杨博每年在模拟旗杆下练习几千次基本动作，手上血泡长了又破、破了又长，越是大风大雨，越是强迫自己加强训练。

⑨练基本功不仅要吃苦，还要慢下来。要学会放慢脚步，耐住性子。⑩年轻人容易有急于求成

的心理，追求立竿见影的效果。⑪但正如世间没有包治百病的灵丹妙药，在各个行业领域也不可能有一日三秋的捷径可走。⑫跳水界有个说法叫“十年磨一秒”，运动员入水那一秒的姿态决定了成绩，但为了这一秒，要用十几年的时间来重复练习转体、抱膝、反身等基本动作。⑬其实各个行业都有这“一秒”的荣光，它会酬报所有的努力，但无不需要不日复一日、年复一年的训练、领悟和改进。

四、材料作文题（共 1 题，共 40 分。）

阅读材料，完成写作。

【材料 1】

查干湖渔猎文化第 20 代传承人张文走在冰封的查干湖上，他的一身装束是标准的“鱼把头”——一件反毛朝外的雪白羊皮袄、一顶绒毛长长的貉壳帽、一双及膝的棉靴子。这一身穿戴虽然看起来十分笨重，但走起路来却依然健步如飞。在绞盘和出网的冰口之间跑上几个往返，依然情绪高昂、气力不减。

他一边指挥渔工们收网、拖套、摘鱼、码网，一边兴致勃勃地讲述习近平总书记来查干湖视察的情景。

张文说，总书记来时，他正好就在今天撒网的这片水域进行“明水”捕鱼。那天，他事先知道有大领导来视察，但他和他的同伴们绝对没有想到，来的会是总书记。

这些年，张文作为文化传承人和冬捕的“大把头”，每年都要在渔猎节上唱主角，主持祭湖仪式。

总书记一见面就认出了张文，称赞张文是经常上电视的“大明星”，并和他亲切握手。张文说他当时激动得连嘴都张不开了，一时不知道应该说些什么，只是望着总书记一个劲儿地傻笑。但总书记的问候、关心以及嘱托，他却记得清清楚楚。

张文说，当总书记得知渔工们的日子过得很好时，笑得特别开心。他能够感觉到那种笑是发自内心的高兴。张文说：“最让人感到温暖的是，总书记坐船都走很远了，还在一遍遍挥手，祝福我们‘年年有鱼，年年有余’。”

说到此处，张文侧过头来神秘地笑了一下：“你看，总书记的祝福当年就兑现了。今年查干湖冬捕收获最大，比历年都好。就在前天，我们打到了历史上最大的一个‘红网’，一网打上来差不多 60 万斤鱼；昨天特意往鱼少的地方挪了挪窝儿，还打上来 40 万斤，库里都堆满了。个头儿也比往年大了不少。往年上来的胖头鱼多数在 15 斤左右，今年却多数是 18 斤左右。如果不出意外的话，今年的销售，至少能比去年提高两位数。”

总书记那天说的几句重要的话，张文都牢牢地记在心上。他总觉得总书记的话虽然不多，但意味深长，不论对查干湖的其他人还是自己都是很有用的。

“要守护好查干湖这块金字招牌。”

“要让生活年年有鱼，年年有余。”

“要为子孙后代留下金山银山。”

这些话，张文不但反复说给别人听，自己也在不断地玩味。越玩味越觉得不一般。既是眼前的大实话，又是能管一辈子或几辈子的大道理。

生于1963年的张文，从小在查干湖边长大，父亲是渔场成立之初的第一批渔工。当上了鱼把头之后，他隐隐地感觉到，从此，打渔再也不仅仅是一个人的事情。目前，张文已经过了退休年龄，两个女儿均在外地发展，轮番劝他不要再不舍年月地继续干他的老行当：“风里来、雨里去、冰上滚、雪上爬地干了大半辈子，也该歇一歇啦！”

听了总书记的话以后，张文对查干湖和他自己的事业又有了新的理解。先说这片水域，直到今天他才认识到有多么值得珍视。它不仅有丰富的物产，还是美好的生命家园，持续稳定地为众多生灵提供安全感、幸福感和无尽的欢乐。再说传统的渔猎文化，也并不仅是简单的打渔方法，这里边还有深奥的道理，要不断地传承、丰富和发展，这是一种责任和使命。张文说，为了查干湖的天长地久和美好明天，他也要像老把头石宝柱那样，不到走不动，不到生命的最后一息，绝不轻言放弃。

【材料2】

2003年7月，时任浙江省委书记的习近平同志在谋划部署“八八战略”时，就提出要进一步发挥浙江的生态优势，建设生态省，打造“绿色浙江”。2005年8月，习近平同志在浙江安吉余村首次提出“绿水青山就是金山银山”理念。2015年5月，习近平总书记回浙江视察时，充满深情地说，“这里秀美的山水，这里勤劳的人民，这里悠久的历史，给我留下了难以忘怀的印象”。党的十八大以来，以习近平同志为核心的党中央把生态文明建设作为治国理政的重要内容，推动美丽中国建设取得历史性成就，形成了习近平生态文明思想。2017年6月，浙江省第十四次党代会提出，谋划实施“大花园”建设行动纲要，使山水与城乡融为一体、自然与文化相得益彰。浙江顺势应时作出建设大花园的决策部署，要让习近平生态文明思想在浙江大地生根开花。

大花园是浙江自然环境的底色、高质量发展的底色、人民幸福生活的底色。从生态看，浙江有山有水、有江有海、有河有湖、有岛有滩、有林有田、有花有草，本身就是大花园。绿水青山、蓝天白云是浙江自然环境的显著标志，也是建设大花园的生态基础。从生产看，建设大花园，是实现绿色发展方式、推动高质量发展的重大举措，要让绿色成为高质量发展的普遍形态，让绿色经济成为浙江经济新的增长点，让绿色发展成为全省人民的自觉行动。从生活看，美丽的大花园是美好生活的基础、人民群众的期盼。建设大花园，目的是不断满足人民日益增长的美好生活需要。

大花园不仅属于浙江，也属于长三角乃至全中国。绿色是浙江的自然优势，全省森林覆盖率为61%，完全有条件成为长三角的“后花园”。从全国范围看，浙江自然风光与人文景观交相辉映，杭州是“人间天堂”，义乌是“购物天堂”，舟山是“东方明珠”，国家级风景名胜区、中国优秀旅游城市数量均居全国首位，4A、5A级景区数量居全国第二位，完全有条件成为全国最佳旅游目的地。

大花园事关全省域、事关每个人、事关子子孙孙。人民群众不仅是大花园的建设者，也是大花园的享受者。要全面开展“人人成园丁、处处成花园”行动，动员广大群众积极主动参与大花园建设，用自己勤劳的双手把家乡建设得更加美丽富饶，建成各有所长、百花齐放、各美其美、美美与共的大花园。

【材料 3】

扬中市是全国首批“国家级生态示范区”“国家生态文明建设示范区”，曾陆续获得“国家生态市”“国家卫生城市”“国家园林城市”等殊荣。

在长期发展过程中，扬中市已形成了鲜明的“生态品牌”城市标识，而通过把“光伏”等新能源产业作为主导产业、持续壮大生态经济，力促产城融合建设、提质升级，是这座“生态之城”快速迈向高质量发展的关键。

扬中市通过打造光伏产业高地，为“生态之城”建设注入活力。据了解，扬中市现有光伏企业 40 多家，其中规模以上企业 23 家，已形成了硅料提纯——铸锭切片——组件封装——集成应用等较为完整的产业链，产业链产品涵盖单多晶铸锭、切片、电池片、组件、焊带、碳化硅、坩埚、密封胶、石墨器件、接线盒、切割线等 20 多个子项。2018 年，扬中市光伏产业实现销售 127 亿元，占全市工业经济比重超过 21%，是扬中市近年来重要的经济增长极。

扬中市力促新能源产学研落地融合，为“生态之城”建设集聚创新要素。扬中市高质量招引高校院所以及人才等创新资源，建成了国家级光伏产业接入系统研究所、江苏省首家“新能源产业园”以及镇江市首家新能源院士专家工作站等，大力实施新能源专项人才招引计划，鼓励企业外引内联，持续构建以科研为核心的综合竞争力。

扬中市大全、环太、荣德、美科、丰源等企业，进入国家工信部《光伏制造行业规范条件》名单，大全、太阳等企业参与全国行业标准制定……这些企业均以生产工艺和产品技术引领细分市场，带动扬中市光伏企业集群、高质量发展。

扬中市加快走出去步伐，为“生态之城”建设打开国际格局。为积极面对国际市场复杂多变的形势，近年来，扬中市紧抓“一带一路”国际倡议新机遇，持续加快走出去步伐。扬中市通过举办“国际绿色能源发展大会”、建设光伏博览馆、与澳大利亚利文斯顿市结为友好城市等举措，着力促进生态发展、新能源产业等领域的国际交流与合作，向世界递出扬中“绿色能源岛”的金名片，打造共同致力于生态文明建设的世界级朋友圈。

同时，扬中市鼓励企业在巩固欧美等市场容量大的国家和地区的同时，加大拓展亚太、拉美和 中东等新兴市场的开拓力度，构建多元化的全球市场体系。目前，荣德新拓展了韩华、越南光伏等海外工厂业务，加大了海外直接销售业务量，大全集团发挥光伏“全产业链”优势在境外投资设厂。

扬中市经济发展局相关负责人介绍，扬中最早发展工程电器，是国内有名的“工程电器岛”。自 2007 年起，扬中市依托独特的“人脉经济”，开始布局新能源产业，大力发展晶硅光伏，打造“新能源产业岛”，如今，以光伏为主的新能源产业已成为扬中市主导产业之一，与智能电气、船舶装备制造，共同构成全市“3+X”的产业格局。

【问题】当今世界，绿色发展已经成为一个重要趋势，“绿色”也是习近平总书记提出的新发展理念之一。请参考以上材料，结合实际，自拟题目，论述新时期应如何践行绿色发展理念。

要求：观点明确，内容充实，结构严谨，语言流畅，不少于 800 字。

2019年7月27日浙江省丽水市景宁事业单位考试试卷

《申论》

(满分：100分 时限：150分钟)

一、注意事项

1. 申论考试与传统的作文考试不同，是分析驾驭材料的能力与表达能力并重的考试。
2. 仔细阅读给定的资料，按照后面提出的“作答要求”依次作答在答题纸指定位置。
3. 答题时请认准题号，避免答错位置影响考试成绩。
4. 作答时必须使用黑色钢笔或圆珠笔，在答题纸有效区域内作答，超出答题区域的作答无效。

二、给定材料

材料1

最近发生的杭州淳安失踪女童“章子欣案”牵动着很多家长的心，直到警方确定消息，海上打捞出章子欣遗体，搜索行动已解散。虽然“失踪案”已经有了结果，可是网上对此的讨论却还没有停止，甚至有一大批声音在指责孩子的家长，不是责怪孩子的爷爷奶奶轻信他人，就是谴责孩子的父亲防范意识弱。

但是这件事能全怪孩子的爷爷奶奶和父亲吗？这个案件看上去是一个女童被拐骗最后遇害的事情，背后反映的却是无数农村留守儿童的监护隐患。我们在网络的一端对他们表示的同情并不会改变他们的处境，如何避免类似悲剧的发生才是我们更应该关注的。

随着章子欣的尸体被发现，两名犯罪嫌疑人双双自杀，我们恐怕再也无法得知这起诱拐事件的真相了。我们只能从嫌疑人的人生轨迹和最后的监控录像，种种蛛丝马迹拼凑出他们的作案动机和手法。

在网上，孩子的奶奶被骂，爷爷被骂，爸爸被骂，妈妈也被骂。他们承受着这些骂声。网友认为他们应该为女孩的死亡负责：父母没尽到看护责任，爷爷奶奶没有表现出足够伤心，竟然把亲孙女交给陌生人的行为令人费解，重男轻女似乎是一个很“合理”的解释。

章子欣的遗体被发现后，迅速上了热搜，大家对女孩的不幸表达了同情、痛心、难过。这是一个正常人类在看到无辜孩子被杀害后的正常反应。但要说的是：同情是最廉价的东西。不是说同情是不好，但仅有同情完全不够。

根据媒体报道，章子欣是一个典型的农村留守儿童，她是数以千万计的留守儿童中的一个。我们究竟是否真正了解到留守儿童生活艰难？还是对此视而不见。比起发生恶性事件后贡献绵薄的“同情”和“悲伤”，我们更多需要是“看见”他们的存在。

近日，杭州淳安 9 岁女孩章子欣被租客带走实践引发社会关注。7 月 13 日中午，子欣的遗体在宁波象山石浦海域海面上被发现。7 月 14 日，警方发布《警情通报》。子欣“回不来了”，但这其中反映出的“留守儿童”自身和监护人安全防范意识薄弱、社会关爱关注不够、日常安全教育不足等问题值得深思和警醒。

为进一步增强青少年尤其是农村“留守儿童”等重点群体的自我保护意识，切实提升家庭、学校、社区基层组织和教育培训机构对青少年安全问题的重视程度和风险防范能力，7 月 15 日，杭州市检察院联合团市委、市妇联，会签《关于联合开展暑期的“留守儿童”安全隐患排查暨安全教育宣传活动的紧急通知》。

材料 2

2018 年中国人民公安大学教授王大伟的一篇“告诉女孩，身边也有大灰狼”的微博长文火了，文中讲述一周三起儿童性侵案件，看了让人震惊又心痛。短短一周时间竟然发生三起儿童性侵案件，让人触目惊心。这些天真无辜的小女孩，她们的人生从那一刻就彻底被改变，悲惨的精力将噩梦一般一辈子烙在孩子们心中。网络的发达把这些伤害孩子们的龌龊事件摆在大众面前，接二连三的猥亵儿童和性侵儿童案不时地刺痛着公众的神经。

令人心痛的一个事实是：类似案件一直以来从未停止发生……

自 2013 年 5 月 8 日海南万宁发生“小学校长带女生开房”事件到 5 月 27 日，20 天内至少有 8 起校园内猥亵幼女案被曝光。2013 年 5 月 29 日，最高人民法院公布三起侵犯未成年人权益犯罪典型案例，以打击震慑侵犯未成年人权益犯罪，提高全社会法制意识与防范保护意识。雷州市英利镇某村小学校长郑某波涉嫌强奸该校女生；云南彝良县农村教师张某猥亵 7 名女童；湖南永顺某乡镇学校校长猥亵 6 名女童；四川小学教师魏某多次对 11 名儿童实施奸淫猥亵——据“女童保护”调查报告显示，2017 年媒体公开报道的性侵儿童（14 岁以下）案例 378 起，2016 年未 433 起，平均每天曝光 1.21 起。然而，这些数字只是冰山一角，大部分的性侵儿童案因为种种你原因没有被公开。曾由学者表示，性侵害案件，尤其是针对中小学生的性侵害，其隐案的比例是 1 比 17。也就是说，一起性侵儿童新闻的曝光，或许意味着 7 起案件已然发生。

材料 3

2019 年 7 月 3 日，上海市公安局普陀分局通报了某上市公司王某某猥亵女童案，称犯罪嫌疑人已被刑事拘留。犯罪行为发生在 6 月 29 日下午，在上海大渡河路一家五星级酒店，被猥亵女童事后向在江苏的母亲打电话哭诉，母亲立刻来到上海报警。目前女童已验伤情，阴道有撕裂伤，构成轻伤。带女童入住的女子周某也已到案，事发当天，她带了两个女孩入住酒店，一个 9 岁，一个 12 岁。两个女孩的母亲为周某朋友。周某谎称带两女孩去上海迪斯尼玩，从江苏带至上海。当天王某对 9 岁女童实施犯罪，事后给付周某现金 1 万元。每次幼童遭遇性侵猥亵的事件，都会让大家出奇愤怒。而这次事件，更有很多人高呼意想不到，把孩子送到坏人手上的，居然是孩子母亲的朋友！

央视网消息：在本周人们关注的上市公司老总性侵幼女案件当中，一个链条格外地让人敏感，那就是女性周某某，以带孩子们去上海玩迪士尼为由，带着 9 岁和 12 岁的两个女童到了上海，9 岁的女童成了最终的受害者。回头看孩子们和这个周阿姨自然是熟人关系。其实针对性侵未成年人案件，今年全国两会期间就有过一份相关的调查报告公布，报告里总结了一些问题，比如熟人作案的比例一直很高，一般会占到案件总数的 60% 以上，个别年份会接近 90%。因为人们潜意识中会把熟人定义为可以信任的，孩子更是如此。

白岩松强调，对于侵害未成年人违法犯罪，全社会的防范，自然是最为重要的，但是依然会有这类的案子发生。那么，犯罪者受到了法律的惩罚，但因为相当大比例都不是死刑，最终回到社会，怎样不让他们成为再次的犯罪者？类似职业限制等举措就显得非常必要。韩国的电影《素媛》，就是以真实性侵儿童事件改编的。而犯人原型将于明年释放，几十万的韩国民众无数次请愿禁止释放这个不思悔改极易再次犯罪的罪人。

白岩松说，性侵儿童在任何一个法治国家都是严重的刑事犯罪。即便在监狱里，在犯人中间，猥亵和强奸幼女的罪犯都是号里最被歧视的人。由此可见，上市公司老总性侵幼女的事件，在人群中所激发的愤怒。也正如此，中国的法律也一定会在严肃地调查之后给予犯罪者以严惩。但有时，当我们把目光投放到司法系统的时候，往往已经有些晚了，如何在事前和事后都建立起更加有效的机制，让孩子们拥有更大的安全，这才是愤怒的同时必须加快补上的短板。

材料 4

最近一段时间，侵害女童事件时有曝光，令人痛心。如何把未成年人保护落到实处，考验着各级各部门的智慧和能力，更需要拿出掷地有声的举措，让不法者承担应有的法律责任。对此，最高人民检察院就如何更好地落实一号检察建议，再次调研表态。2018 年 10 月，最高检在认真分析办理的性侵幼儿园儿童、中小学生犯罪案件基础上，向教育部发送高检建〔2018〕1 号检察建议书。这是历史上首次以最高检名义发出的检察建议，其重要性不言而喻。

一号检察建议之所以重要，关键要看其为何必要。有数据显示，2018 年 1 月至今年 4 月，全国检察机关共批准逮捕侵害未成年人犯罪 5.42 万人，起诉 6.76 万人。侵犯未成年人犯罪案件多发，给依法惩治侵害未成年人犯罪、加强未成年人司法保护提出了更高要求。面对未成年人保护的严峻现实，切实发挥好一号检察建议的作用，就不能纸上谈兵，而在于行动有力、措施有效。

材料 5

校园内教师性侵害案件频发的原因，具有综合因素。它与师生之间畸形和强烈的从属关系有关，也与长期以来舆论导向过高地拔高了教师的道德价值有关。“老师是人类灵魂的工程师”“教师是燃烧自己、照亮别人的蜡烛”等等，都让教师的职业受到了一定程度的神化，从而让学生和家长都对老师自然而然地产生了一种道德敬畏和精神依附。因此，多数学生对老师超出常人的举止行为缺乏防范意识，这也为一些教师实施性侵犯提供了便利条件。另外，学校和家长长期以来对学生没有进行性保护意识的教育、对防止性侵害这类敏感话题讳莫如深、学校相对独立封闭的环境方便作案以及家长监护的不力等，都是教师性侵害案件频发的重要原因。显然，要解决这个问题，需要进行综合治理。

有心理专家认为，教育部门划师德红线，但是有很多事不全是道德问题。比如猥亵学生，那不仅是道德问题，更是法律问题、心理问题。“光讲道德解决不了问题，在校园性侵事件面前，道德规范显然缺乏约束力。”

一些法律人士认为，我们已经有了《教师法》《未成年人保护法》等相关法律、法规，所谓的师德“一票否决”，明显与法律和制度设置重复，有点没有必要。像教师性侵幼女这样的行为，已经明显是违法犯罪，又何谈师德？依法治校、依法治教才是解决问题的根本，仅靠师德“一票否决”显然是起不到大作用的。因此，与其花大力气去重新设置师德“红线”，倒不如认真落实好现有的相关法律、法规。

教师性侵案件的频发，也让人们反思教师准入的门槛问题。教育是关系到国家强盛、社会和谐的重要基础，而教育的主体是教师。教师职业的重要性和神圣性，决定了它应当具有严格的准入制度。但现在的现实情况是：由于近年来教育事业发展很快，学校规模不断扩展，许多地方都出现了师资匮乏问题，尤其是在一些边远地区和农村地区，师资匮乏问题更为突出，一些在教学水平和职业操守上存在问题的人也被放进了教师队伍。

此外，长期以来教育行政部门对校长实行“一票否决权”，也让很多学校在处理涉及猥亵学生的教师时，总有一种“家丑怕外扬”的心理，总是试图大事化小、小事化了，能遮就遮。大多地方教育部门、学校采取的做法是对当事人进行内部处理，而回避用法律去解决问题。这在客观上助长了一些教师实施犯罪时的侥幸心理。

据了解，儿童性侵害易发生的年龄是8至12岁，但其实从5岁开始，性侵害的危险就开始逐步增加。因此，性保护教育应从幼儿开始。专家指出，防止校园性侵，家长也有责任，解决该问题要从家庭开始。在家庭教育中，不应避讳与孩子谈到“性”的问题，对于性侵的防范教育，越早开始越好。

校园性侵案件的频发，暴露出在学校教育、家庭教育中，长期以来对学生进行人格教育、心理教育和自我保护教育的严重缺失。我们的教育都在告诉孩子不要做什么，而很少告诉孩子自己可以做什么，也很少告诉孩子哪些行为属于侵权行为，以至于孩子受伤害后，或害怕或害羞而不敢及时告诉家长和学校。

比如，要教导儿童树立正确的性观念，任何人提出的性接触，都要断然拒绝；要让儿童知道身体某些部位是属于个人隐私，别人不可随意触碰的；对于不当或不舒服的身体接触，要教育儿童勇敢说“不”。让儿童知道不正当的触摸可能来自陌生人，也可能来自熟人，应避免独自在无人的场所逗留。

父母要让孩子知道，对他带来性侵犯的可以是任何人。广东省妇联去年进行的调查显示，六成以上儿童性侵案件的作案者并非陌生人，而是孩子最熟悉、最信任、最尊重、最亲近和最依赖的人，包括自己的亲人、邻居、老师、父母的朋友等。如果没有父母的教导，孩子对这些人完全没有防范意识，不会想到他们所爱的人和尊重的人会对自己实施性侵害。

一些专家还指出，父母还应该让孩子学会辨别什么样的身体接触是好的，什么样的身体接触是不好的。

材料 6

随着我国改革开放带来的经济高速发展，大部分的农村青年人跟着进城的潮流来到了城市，然而，因为各种原因他们只能让未成年的孩子待在家里，成了一群特殊的群体——留守儿童。据调查显示，父母双方都外出流动，儿童不能与父母在一起生活的情况在全部留守儿童中超过了半数，比例高达 56.17%。由此可见，因人口流动引发的农村留守儿童问题已经成为了不可忽视的社会问题。

如今，农村留守儿童教育问题不仅是一个教育问题，如果任其发展下去的话，将最终演变成严重的社会问题。据中国妇联发布的《全国农村留守儿童状况研究报告》中显示，目前，全国农村留守儿童约 5800 万人，其中十四周岁以下的农村留守儿童约 4000 多万人，平均每四个农村儿童中就有一个留守儿童。由于留守儿童缺乏来自父母和完整家庭的亲情呵护，一定程度上造成了这些儿童的思想道德、心理健康尤其是家庭教育等方面的严重断层或缺位。

材料 7

根据全国妇联的关于农村留守儿童状况报告显示，超过半数的留守儿童不能和父母生活在一起，33%的父亲、25%的母亲外出 5 年以上，60%~70%以上的父母在外省打工。父母的长期在外对留守儿童的身体和心理健康都造成了严重的影响。南方沿海某省一项调查显示，19.6%的留守儿童觉得自己不如人，11.4%觉得自己受歧视，9.6%有过被遗弃的感觉。而在北方某省的一项调查显示，青少年犯罪中留守儿童所占比例已高达 20%。由此可见，亲情缺失对留守儿童的身心健康造成了不可忽视的负面影响。

在学“留守儿童”40%成绩较差，30%成绩中等偏下，仅有 10%成绩比较优秀（班级前 20%）。据老师反映，留守和非留守儿童在完成家庭作业方面有明显差别。父母在家的孩子，作业完成得比较及时、认真；父母不在家的，作业经常拖欠，甚至还出现抄袭、不写的情况。这主要是因为多数留守儿童与祖辈共同生活，而农村老人的文化水平相对比较低下，有些甚至是文盲，无法给留守儿童提供学习上的帮助。因此，更多的教育监护责任被“转嫁”给学校，但由于农村教育资金普遍不足，专业资源也相对匮乏，学校、老师对留守儿童的特殊需求常常是有心无力。

由于留守儿童的看护人只是把精力放在孩子的生存和生活上，而忽视对孩子的安全教育。监管的缺失造成留守儿童时刻存在着安全隐患，特别是留守女童的安全问题更加突现。大部分女童软弱无助、对生理知识毫无了解，造成其缺乏性安全防范意识，因此，留守女童的生理、心理比留守男童更容易受到伤害，特别是性侵害。

材料 8

十八大以来，以习近平同志为核心的党中央高度重视未成年人的健康成长。习近平曾寄语全国各族少年儿童，美好的生活属于你们，美丽的中国梦属于你们；他还曾叮嘱，要关心留守儿童，完善工作机制和措施，加强管理和服，让他们能感受到社会主义大家庭的温暖。

2013 年 11 月 12 日，在十八届三中全会审议通过的《中共中央关于全面深化改革若干重大问题的决定》中，提出要“健全……困境儿童分类保障制度”，“困境儿童”一词第一次被写入国家最高层次的政策文件，成为重要的政策用语。

2015 年 12 月，最高人民检察院未成年人检察工作办公室正式成立。这是继当年 5 月发布《检

察机关加强未成年人司法保护八项措施》后，最高检加强未成年人司法保护的又一重大举措，监察机关四级未检机构组织体系基本构建完成。

2017年8月，民政部、教育部、财政部、共青团中央、全国妇联五部门联合出台《关于在农村留守儿童关爱保护中发挥社会工作专业人才作用的指导意见》，提出了一系列支持引导社会工作专业人才参与农村留守儿童关爱保护工作的政策措施。

三、作答要求

（一）材料5中提到：“校园内教师性侵害事件频发的原因，具有综合因素。”请结合给定材料，简要概括校园性侵案件频发的原因有哪些？（20分）

要求：

- （1）简明扼要，全面准确，分条概括；
- （2）字数不超过150字。

（二）如果你到某山区小学支教，请你为该小学拟写一份关爱留守儿童的工作计划。（30分）

要求：

- （1）内容全面，切实可行；
- （2）条理清楚，结构完整；
- （3）字数不超过500字。

（三）结合给定资料，以“未成年人保护”为话题，联系实际，自拟题目，自选角度，写一篇议论性文章。（50分）

要求：

- （1）主旨明确，结构完整，思路清晰；
- （2）内容充实，论述深刻，语言流畅；
- （3）不拘泥于给定资料；
- （4）字数1000字左右。

2019 年 11 月 9 日浙江省事业单位统考试卷

《综合应用能力》

注意：

1. 本卷为全主观题，请用黑色字迹的钢笔或签字笔在答题纸上作答，直接在试卷上作答无效；
2. 请在试卷、答题纸上严格按照要求填写姓名、填涂准考证号；
3. 本卷总分 100 分，考试时间为 150 分钟；
4. 特别提醒：请在答题纸规定的区域内作答，超出答题区域作答无效。

一、案例分析题（根据所给案例，回答后面的问题。50 分）

案例一

资料 1

二战后，德国人为了消除纳粹精神对民族人格的影响，非常重视培养孩子的善良品质。德国人认为良好人格品质的养成比知识的获取更为重要，因此把培养孩子仁爱、友善、宽容等优良品质和社会责任感，作为德国家庭教育的主要内容。在教育方式上，德国家长通过身体力行来营造良好的家庭教育氛围，不放纵和溺爱孩子，引导孩子参与家庭劳动，让孩子学会关爱他人；教会孩子饲养小动物，鼓励孩子参与公益组织等，对孩子进行善良教育；定期带孩子到养老院等地，鼓励孩子为老人洗衣服、打扫卫生，对孩子进行“怜弱教育”。在参与过程中，让孩子认识自己所承担的社会责任，了解自我实现的途径。

德国人强调孩子生活在一个与其息息相关的生态环境中，要学会探索和利用自然界中的事物。德国教育界认为，根据孩子每一阶段的身心特点，让孩子与具体事物接触，通过实践和具体感受积累直接经验。如让孩子亲近大自然来获取更加直观的知识，培养孩子的观察能力、分辨能力、识记能力；让孩子维修自己的小玩具和家庭物品等，来培养孩子的专注能力、实践能力和创造能力。

德国人认为孩子生活在一个与其互动的社会空间，他需要与同伴、成人、社区以及乡土文化建立各种各样的关系，所以德国人很重视发展孩子与社会的关系。德国社会认同的一个观点是孩子年满 18 岁就是成年人，他就需要独立地去面对社会。因此，德国家长在教育过程中为孩子提供各种帮助，让孩子理性地思考与生活实践相关的各种因素，从社会规范与理想观念中自行选择被社会认可的价值取向。如通过让孩子参与家庭事务管理和决策，来培养孩子的思维能力、判断能力、独立能力等。

资料 2

日本大部分家庭都要求孩子做家务劳动，包括洗菜做饭、饭后的碗筷及餐桌收拾等，让孩子收

拾自己的房间，自己去买东西，将垃圾分类，在规定的时间内将不同的垃圾放到指定地点由物业回收等。他们认为孩子常做力所能及的家务事，能帮助锻炼孩子的生活自理能力、自制能力、动手能力及处理问题的能力。

在日本家庭里，父母对孩子常说的一句话是“不给别人添麻烦”，并且在日常生活中不断地强化这种思想，如早晨上学要不要带雨伞，家长不直接告诉孩子，而是要他注意收听气象预报；节假日外出旅游，每个人都得将自己的东西装进自己的包里。无论多么小的孩子，都要无一例外地背上一个背包。这样做的目的，是要让孩子知道，自己的事情，凡能自己做的，就要自己做，尽量不要给别人（包括父母）添麻烦。

大部分日本人认为，只有在家庭教育中让孩子懂得规矩，养成遵守社会规范的习惯，将来他们进入社会才能成为遵守规范的社会人，而只有具有了共同规范的人相互之间才能产生信赖。日本的孩子坐电车时一般不来回走动，在餐馆吃饭时也不大声哭闹或喧哗，垃圾总是扔进垃圾桶或者带回家。在家里也有一整套的规矩需要遵守。吃饭前后，日本的孩子一定会说礼貌话。离家时，都要和家人告别，说一声“我走了”，家人也不忘回一句“你走好”；回到家，必然会说“我回来了”。日本的家庭就是这样，在一些细小的地方，一点一滴地影响着、教育着他们的下一代。

在日本，孩子受点委屈、挫折，家长不会马上去帮助他们，而是鼓励他们自己去克服。小孩走路摔跤了，父母不是主动扶他起来，而是鼓励他自己站起来。孩子两岁之前，家长会教他们学会“等待”；两岁之后，就会教他们学会“忍耐”。家长普遍认为：只有让儿童经受一定的以忍耐为内容的身心训练，而不是满足他们的各种要求，才能培养儿童克服困难的能力，形成坚韧和顽强的品质。家长让孩子冬季也穿短装，洗冷水浴，也主要是培育孩子的耐寒能力和坚强的意志力。

资料 3

美国家长培养孩子着眼于把他们培养成为具有适应各种环境和独立生存能力的人。因此，十分注重孩子从小的锻炼，设法给孩子制造锻炼的环境。例如，让幼儿从小单独夜宿，无父母陪护；小孩子摔跤，让他自己爬起来；让孩子做家务，洗碗、扫地、洗衣服等。这样不仅可以培养孩子的劳动观念，还可以培养孩子独立生活的能力。

美国父母普遍尊重孩子的想法，让孩子去决定自己的事情，不强迫孩子，对孩子的想法给予理解和支持，与孩子建立起一种民主平等的亲子关系。孩子犯错误，总是耐心解释，给孩子讲道理。他们对孩子说话时大多使用礼貌语，例如，让孩子帮忙时会说，“请你做……”或“你可以帮我吗？”等。美国家长会对孩子说：“亲爱的，你已经长大成为一个男子汉了，自己的事情应该自己做主，不要总是让我们给你提供意见。”

美国父母很重视给孩子选择的权利，让他们在合适的条件下自理、自主、自我选择。一旦孩子年满 18 周岁，父母就不会替孩子做决定，更多的是从旁提醒、参谋和引导，即使孩子的决定是错误的。美国父母对于孩子外出打零工是非常支持的，孩子也更倾向于选择去兼职挣钱来开支消费。在美国父母眼里从小让子女树立经济独立的意识就是对他们表达爱的方式，只有经济独立，孩子才能掌握生存的本领。美国父母对孩子的零花钱一般是定额的一次性支付，让孩子逐渐知道量入为出，合理安排支出；父母也会给孩子一些理财的机会，培养孩子储蓄的意识。除此之外，美国父母从小

培养孩子养成习惯将每一美分的用途都记载清楚。

问题：根据资料，谈谈对我国家家庭教育的启示。（25 分）

要求：全面、准确，有条理，不超过 300 字。

案例二

资料 1

如今，夜生活已经渐渐成为人们生活中不可缺少的一部分。

深夜，是 B 市兴业街一天中最热闹的时候。如果你走出兴业街地铁站，就会被街边麻辣鲜香的气味儿撞个满怀；街面上，标志性的红灯笼点缀着夜色，几乎每个馆子门前都坐满了等待的食客。

同样，夜晚的延安路商圈也人流密集，爆肚、烤串、奶茶等小吃档口前排起了长队。边逛街边吃点“网红”小吃，成为更多年轻人的选择。

除了各式商圈，24 小时便利店也成为人们夜生活中不可缺少的一部分。“我家小区门前的便利店，半夜都能买到热乎乎的包子、玉米、关东煮，对经常上夜班的人来说，真是一件幸福的事情。”家住北方某省会城市的赵女士在医院工作，凌晨下夜班是常态，过去回家饿了只能自己煮碗挂面、蒸个蛋羹，现在，她随时随地都能在便利店里买到自己喜欢的美食。

当然，美食并不是“夜生活”的全部。晚上九点多，B 市某特色商街音乐餐吧的驻唱歌手拨动着手中的吉他，为“深夜食堂”的食客们添了一道视听“大菜”。在 HI-PARK 篮球公园，室外夜赛正打得火热。小张每周五晚上都要约上兄弟们到篮球公园来打全场。“多晚都有人打球，基本上打到这儿关灯才走。”他说，“我在这儿结交了许多好兄弟，我们建了自己的微信群，除了篮球，私底下也成为很好的朋友。”

某些夜经济发展较早的城市，正升级换代，将“文化范儿”整合进夜经济中。

周末，C 市的汪女士特意与朋友一起约到九街，在花园夜市中逛一逛。在她看来，近几年本市夜经济业态的变化十分明显，“以前都是餐饮、娱乐为主，其实久了也会有点腻，觉得不如在家里休息一下，但现在不一样了。”汪女士说，“现在能玩、能参与的夜间项目越来越多，比如九街最近十分火爆的‘街头沉浸式话剧’，上次我路过时，还特别幸运地成了其中一个角色，不经意间就从‘路人’变成了‘剧中人’。”

24 小时不打烊书店则为夜色添了几分静谧。深夜，位于中部 W 市的王子书店，仍有不少年轻人在看书。据店长说，该书店从 2014 年起便开展了 24 小时不打烊业务。做 24 小时书店不为赢利，而是一种文化信仰的坚守。2015 年起，该书店每年举办诗歌节，邀请百余位中外诗人出席，令城市的夜色诗意璀璨。

资料 2

据商务部一份关于城市居民消费习惯的调查报告显示，有 60% 的消费发生在夜间，大型商场每天晚上 18 到 22 时的销售额占比超过全天的 50%。夜经济俨然已成为拉动城市消费的新增长点。据不完全统计，2019 年，已有北京、天津、上海、济南、杭州等地出台相关政策措施，激发夜间经济新动能。

2019 年春节期间，西安“大唐不夜城”、重庆两江夜游、西双版纳“澜沧江湄公河之夜”等夜间体验项目大爆；2019 年元宵节，故宫首次开放“紫禁城上元之夜”活动，门票一开售便“秒光”……夜游项目的火爆，一方面折射出现代人对夜间消费的刚需，另一方面也暴露出目前夜间消费项目还

远不能满足消费者需求。中国旅游研究院的一项调查显示，我国近八成旅游企业夜游产品投资规模不足 20%；参与调研的 657 家旅游企业中，72.99% 的旅游企业提供的夜游产品品类在 30% 以下，79.24% 的旅游企业夜游产品收入不足 30%，夜游产品供给在数量和质量上仍有较大提升空间。

资料 3

“夜间经济有其自身的独特内涵。就像外滩表现出夜上海十里洋场的浓郁氛围，王府井蕴含着皇城根下的京文化，成都的锦里夜市骨子里透出巴蜀休闲味道，这些都是在白天不能完全展现的。”某专家一语道破玄机，“我们应该给予夜市乃至夜经济更多的文化内涵，让其具有长久的生命力，且历久弥新。”

“Y 市大部分公交都会在晚上九点前停止运营，对于年轻人来说，这个点夜生活才刚刚开始。每次我吃完饭都得打车回家，有时去一些偏的地方吃饭甚至连车都打不上，只能选择黑车。”Y 市市民段先生吐槽。不少人也表示有同样的经历，“夜经济商圈周围交通设施是否完善”“深夜出行是否安全”已成为各地市民关注的焦点。据中国旅游研究院的调查显示，限制游客夜间体验的因素中，受访者担心安全问题占比 49.4%，夜间交通不便占比 25.8%。

“出门旅游会发现，几乎每个城市都有夜市，其实就是些商业街，长得都差不多，里面的品牌也大同小异。”Z 市的赵先生抱怨道。

“大部分夜间消费需求与白天不一样，如果仅把白天的商品结构、服务业态、市场布局原封不动顺延到晚上，消费者不一定‘买账’，不同地段的商圈夜间需求也不一样。”S 市商业经济学会齐会长说。

某经贸大学董教授表示：“我们的夜经济，该有的点儿有了，该有的业态有了，但离满意还有一定的差距。比方说，听相声、看话剧、看演出、听音乐会，晚上也能去。但从质量上来说，高水平的节目还是欠缺。”

“目前我国城市夜间经济多以餐饮、购物等消费为主，夜间消费供给结构还需要进一步优化，要顺应消费者由商品消费向服务消费升级的趋势。”中国贸促会研究院某研究部赵主任说。

“夜间经济繁荣以后，会给城市交通、环境、安全等带来管理压力和责任，如果城市管理延续过去的思维和模式，就难以满足夜间经济发展的需要。”国务院发展研究中心某研究所李副所长认为，还要加快对城市现有管理体系的梳理和调整，为夜间经济发展创造良好环境。

问题：结合资料，谈谈应从哪些方面着手促进夜经济发展？（25 分）

要求：条理清晰，针对性强，不超过 400 字。

二、作文题（阅读以下材料，然后根据后面的要求作答。50 分）

2019 年 9 月，浙江省委书记车俊分别走访慰问了在革命、建设、改革各时期作出突出贡献的 8 位同志，给他们送上了一份珍贵的礼物——由中共中央、国务院、中央军委颁发的“庆祝中华人民共和国成立 70 周年”纪念章。

这 8 位同志有促进教育改革进步的功勋教师徐承楠，参加过淮海战役、渡江战役和多次援外任务的老战士曲福仁，扎根天子岭垃圾填埋场近 30 年的城市美容师缪文根，经历过长征、

参加过辽沈战役和平津战役的老红军贾少山，为浙江平安建设奉献毕生心血的老公安蔡杨蒙，成功研制出甲肝减毒活疫苗的中科院院士毛江森，决策开放第一代义乌小商品市场的改革先锋谢高华，推动杭州经济体制改革的亲历者湛青。

车俊书记动情地说，事业是一代代人干出来的。浙江革命、建设和改革取得的巨大成就，都凝结着大家的心血和汗水。大家身上那种浴血奋战、不怕牺牲的革命精神，自力更生、艰苦创业的奋斗精神，敢闯敢试、敢为人先的改革精神，丰富了浙江精神的内涵，为浙江留下了宝贵的精神财富。

正是这些为了国家和人民、和平与发展在平凡岗位上默默奉献甚至不惜付出自己生命的人，汇聚起推动时代和社会前行的力量。

结合以上材料，联系实际，自选角度，自拟题目，写一篇议论性文章。要求：中心明确，内容充实，论证深刻，有说服力，字数 1000 字左右。

展鸿2021年丽水事业单位笔试培训

班次	课程特色	授课时间	费用
【翰林特训班】	市区统一上课 贴合考情，夯实基础 王牌师资，阶段提升 客观题提分，主观题打磨	3月15日-4月23日 40天39晚 包住宿	18800元 不住宿费用另减 老学员优惠1800
【翰林协议班】	高屋建瓴，登峰造极 赠送网课	3月15日-4月23日 40天39晚笔试+面试班 包住宿	29800元 笔试未通过退15000 进面未录取退全退
【高端特训班】	市区统一上课 贴合考情，夯实基础 名师坐镇，模块覆盖 模考演练，查漏补缺， 重难点透析，出类拔萃	4月4-4月23日 20天19晚 包住宿	9800元 不住宿费用另减 老学员优惠1800
【高端协议班】	赠送网课	4月4-4月23日+面试班 20天19晚 包住宿	23800元 笔试未通过退15000 进面未录取全退
【高复特训班】	区县当地上课 贴合考情，夯实基础 名师坐镇，模块覆盖 模考演练，查漏补缺， 重难点透析，出类拔萃	4月9-4月23日+面试班 15天14晚 包住宿	7800元 不住宿优惠1000 老学员优惠800
【高复协议班】	赠送网课	4月9-4月23日+面试班 15天14晚 包住宿	21800元 笔试未通过退15000 进面未录取全退
【名师题海特训班】	区县当地上课 题库研磨，模考刷题 错题专讲，督学服务 专项预测，考前冲刺 模考演练，所向披靡	4月16-4月23日 8天7晚 包住宿	4280元 在最高优惠400 不住宿最高优惠800
【名师题海协议班】	赠送网课	4月16-4月23日 8天7晚笔试+面试班 包住宿	18800元 笔试未通过退15000 进面未录取退全退
【周末特训班】	区县当地上课 名师授课，贴合考情 模考刷题，实战训练 考前冲刺，一举夺魁	4月3日-5日 4月10日-11日 4月17-18日 (7天)	2000元 进面后笔试所有费用 全额抵扣面试班费用 (相当于笔试0元学)
【周末协议班】	赠送网课	4月3日-5日 4月10日-11日 4月17-18日 +面试班	16800 笔试未通过退15000 进面未录取全退

