

一、常识判断

1. 参会代表在主席台前合影后，某专家要求拍一张单身照，摄影师应采取的方法是（ ）。  
A. 使照相机靠近他，同时镜头往后缩，离胶片近一些 B.  
使照相机靠近他，同时镜头向前伸，离胶片远一些 C.  
使照相机远离他，同时镜头往后缩，离胶片近一些 D.  
使照相机远离他，同时镜头向前伸，离胶片远一些
2. 下列与电有关的说法正确的是（ ）。  
A. 电风扇将电能全部转化为机械能 B. 保险丝串联接入才能起到保护电路的作用C.  
为城市输电的高压输电线电压为220伏 D. 能使电笔发亮的插口连接的是零线
3. 人造骨要求作为原料的金属具有耐热性、韧性和生物相容性等特点。据此，下列材料最适合制作 人  
造骨的是（ ）。  
A. 钛合金 B. 青铜 C. 焊锡 D. 不锈钢
4. 以下各项按时间先后顺序排列正确的是（ ）。  
A. 秦朝——南朝——北朝——唐朝  
B. 三叠纪——泥盆纪——侏罗纪——白垩纪  
C. 法国大革命——美国南北战争——辛亥革命——五四青年运动D.  
《论语》——《百年孤独》——《三国志》——《战争与和平》
5. 面对我国人多地少、土地后备资源不足的基本国情以及土地资源浪费的严峻形势，“节约集约用  
地”成为缓解土地供需矛盾的根本出路，是确保经济社会可持续发展的战略抉择。  
①G市对黄河北岸的连片荒山进行“人工改造”，使其成为适合城市的建设土地  
②L市通过土地改革，使城乡建设用地对接，实现农村建设用地入市流转和使用  
③M市在多地进行了“三旧”改造试点，对以前的旧村庄、旧厂房、低效利用的城镇土地进行整理开  
发，盘活再利用  
④某开发区的工业用地综合容积率达到1.4以上，远超国内平均水平  
问以上符合“节约集约用地”的是（ ）。  
A. ①② B. ②③ C. ③④ D. ①④
6. 关于唐宋八大家，下列表述不正确的是（ ）。  
A. 提倡骈文，反对散文 B. 除韩愈、柳宗元外，其余都是北宋人

- C. 《永州八记》的作者是唐宋八大家之一 D. 唐宋八大家是唐宋古文运动的中心人物
7. 一提到书法中的草书，人们便会想到“颠张醉素”，请问下列属于“颠张”的作品的是（ ）。
- A. 《自叙帖》 B. 《自言帖》 C. 《中秋帖》 D. 《黄州寒食帖》
8. DNA检测技术的应用为执法部门侦破案件起到重要作用，有效的减少了错案的出现。下列有关遗传物质的说法正确的是（ ）。
- A. DNA是一种遗传物质，同一家族每个人都相同  
B. DNA是一种蛋白质，每个人都不同  
C. 只有染色体才是遗传物质，父子之间一模一样  
D. DNA是一种遗传物质，它可由亲代遗传给子代
9. 依据我国相关法律规定，行政违法的构成要件包括（ ）。
- A. 行政行为符合执法人对法律的理解 B. 行政法律关系主体具有不履行法定义务的行为  
C. 行为主体必须是行政法律关系主体 D. 行政法律关系主体具有相关的法定义务
10. 结核病是由结核分枝杆菌引起的慢性传染病，可侵及许多脏器，以肺部结核感染最为常见。下列有关预防结核病的说法，错误的是（ ）。
- A. 打喷嚏时用手帕捂住嘴，避免面对其他人 B. 勤洗手，多通风，不随地吐痰  
C. 到人员密集场所，应该一直戴口罩 D. 多锻炼，提高免疫力
11. 竹枝词是风土诗的一种，保存了大量有价值的第一手资料。如要了解近代上海开埠后的商业活动，可选用的竹枝词是（ ）。
- A. 田家妇女帮农作，镇市夫男晓女工。蓬首晨兴遥入市，归家手挈米和盐 B. 北口山头民力忙，耕牛无恙乐平康。一鞭残照吹横笛，蚕豆青青麦半黄  
C. 菜圃瓜畦拓百弓，杭家村北夕阳红。楝花倒覆三间屋，酒幔低垂十里风  
D. 南北分开两市忙，南为华界北洋场。有城不若无城富，第一繁华让此方
12. 朋友见面打招呼，过去是“吃饭了吗”，如今流行“搬新家了吗”“旅游了吗”“进修了吗”。这种现象可以反映出（ ）。
- A. 恩格尔系数时小时大 B. 恩格尔系数变小 C. 恩格尔系数不变 D. 恩格尔系数变大
13. 有一副对联，“白话通神，红楼梦、水浒，真不可思议；古文讨厌，欧阳修、韩愈，是什么东西。”这副对联最有可能出自（ ）。
- A. 洋务运动时期 B. 辛亥革命时期 C. 戊戌变法时期 D. 新文化运动时期
14. 下列说法中，错误的是（ ）。
- A. 小明10岁时裸眼见到一次哈雷彗星，若他能活到90岁，还可能裸眼见到一次  
B. 小亮若乘宇宙飞船飞到金星上，他会看到太阳是从西面升起，并向东方落下  
C. 小林对类地行星具有浓厚的研究兴趣，因此他应重点研究水星、木星和土星  
D. 小刚喜欢观察月相，他观察上弦月的最佳时间应是农历每月上半月的上半夜
15. 下列区域与其定位关系对应错误的是（ ）。
- A. 上海自由贸易区——推进提高开放型经济水平的试验田

B. 平潭综合试验区——探索海峡两岸合作新模式的试验区 C.

青岛西海岸新区——全国海洋经济科学发展新路径范本 D.

苏州高新技术区——新型工业化综合配套改革试验区

16. 马基雅维利的法律思想颇有几分中国古代儒家的民本主义色彩。在《君主论》一书中，他强调说“君主统治稳固的基本条件就是他的臣民不憎恨他”“君主最坚固的堡垒就是人民的支持”“人民的支持是挫败阴谋的保障”。关于君主如何赢得人民的支持，马基雅维利言简意赅地指出：“只要不对公民或臣民的财产妻女打主意就行了。至关重要的是，不要妄动别人的财产。”从材料可看出，马基雅维利思想与下列儒家思想表述最接近的一项是（ ）。

A. 君之视臣如手足，则臣之视君如腹心；君之视臣如土芥，则臣之视君如寇仇

B. 鸡豚狗彘之毛畜，无失其时，七十者可以食肉矣；百亩之田，勿夺其时，数口之家，可以无饥也 C. 得天下有道，得其民，斯得天下也；得其民有道，得其心，斯得民矣；得其心有道，所欲与之聚之，所恶勿施尔也

D. 王如好货，与百姓同之，于王何有？王如好色，与百姓同之，于王何有

17. 下列说法错误的是（ ）。

A. 在太阳系中，太阳是中心天体，其他天体都在太阳的引力下，绕太阳公转。其他的主要成员是水星、金星、地球、火星、木星、土星、天王星、海王星等

B. 光年是天文学中常用的距离单位，光在真空中一年所走的距离叫光年C.

生物具有遗传和变异，既能保持物种相对稳定，又能促使生物不断演化

D. 染色体是细胞核中载有遗传信息（基因）的物质，由核酸和蛋白质组成。哺乳动物雄性个体细胞的性染色体对为XX，雌性则为XY

18. 与“东风不与周郎便，铜雀春深锁二乔”提及的战争发生年代最接近的是（ ）。

A. 长平之战

B. 牧野之战

C. 淝水之战

D. 官渡之战

19. 下列戏曲唱词与曲目对应错误的是（ ）。

A. 劝千岁杀字休出口——《甘露寺》

B. 原来姹紫嫣红开遍——《牡丹亭》

C. 我本是卧龙岗上散淡的人——《空城计》

D. 专心投水浒，回首望天阙——《单刀会》

20. 煤、石油与天然气并称为“三大化石燃料”，下列关于它们的说法错误的是（ ）。

A. 天然气易溶于石油而难溶于水

B. 石油的密度一般比水小

C. “乌金”是煤的美称

D. 石油的导电性较好

## 二、言语理解与表达

21. 有关取消全运会奖牌榜的消息成为既定事实之后，体育界对此的看法并不\_\_\_\_\_。取消了奖牌榜，竞技体育还有什么存在价值？类似的不解与怨艾，\_\_\_\_\_没有成为业界的主流声音，\_\_\_\_\_丝丝缕缕、不绝于耳。

依次填入划横线部分最恰当的一项是（ ）。

A. 同意 如果 仍然

B. 一致 一旦 那就

C. 统一 虽然 却也

D. 成熟 即便 也是

22. 一个人的成长成才，并不完全由其起点决定，而是看在这个过程之中个人所付出的努力。如果一味\_\_\_“出生在农村，注定样样落后”，不仅是对一些客观事实选择性地无视，而且\_\_\_\_\_了个人奋斗的价值。

依次填入划横线部分最恰当的一项是（ ）。

- A. 鼓吹 漠视  
B. 宣扬 肯定  
C. 渲染 抹杀  
D. 鼓励 否定

23. 近年来，男护士在医院中的比例越来越高，他们帮助女护士\_\_\_\_\_了不少繁重的工作，也为患者家属减轻了不少\_\_\_\_\_。现在医院的男护士在普通病房工作的比较少，一般都是在手术室和重症 监护室\_\_\_比较耗费体力的工作。

依次填入划横线部分最恰当的一项是（ ）。

- A. 担负 分担 负担  
B. 担负 负担 分担  
C. 分担 担负 负担  
D. 分担 负担 担负

24. 随着劳动年龄人口进入负增长，人口红利终究要消失，经济增长从过去的高速转为相对低速的常态也是不可避免的。生育政策的调整也不可能在短期内\_\_\_\_\_人口红利。不过，\_\_\_\_\_地调整生育政策，对于未来中国人口均衡发展\_\_\_\_\_长期潜在增长率，仍然可以产生积极的效果。

依次填入划横线部分最恰当的一项是（ ）。

- A. 带来 高瞻远瞩 甚至  
B. 增加 恰如其分 以及  
C. 逆转 未雨绸缪 乃至  
D. 恢复 不失时机 抑或

25. 在养老举措、制度设计等各方面\_\_\_\_\_更多“老吾老以及人之老”的同理心，是一座城市、一个社会对待老年人应有的温情与敬意。

填入下列横线处的词语，最恰当的一项是（ ）。

- A. 灌注  
B. 灌溉  
C. 灌输  
D. 灌制

26. 依次填入下列横线处的词语，最恰当的一组是（ ）。

在危机出现之前，不少美国大银行由于在住房抵押贷款方面提供不实信息，\_\_\_\_\_了投资者，因此投资者提出了上千亿美元的巨额现金赔偿要求，相关的法律诉讼和监管调查给这些经营刚刚有所好转的银行带来了新的\_\_\_\_\_。

- A. 误导 压力  
B. 诱导 阻力  
C. 误导 阻力  
D. 诱导 压力

27. ①今年全国两会实行矿泉水“实名制”，不再提供沏茶服务。这\_\_\_\_\_不是一种创新？

②只要我们还拥有生命，就得对生命负责，让生命\_\_\_\_\_出光彩。

③我们经历了灾难的创痛，更在灾难中铸就了不屈的精神，\_\_\_\_\_了无尽的力量。

- A. 难道 散发 凝结  
B. 何尝 散发 凝聚  
C. 何尝 焕发 凝聚  
D. 何曾 焕发 凝结

28. 依次填入下列各句横线处的词语，最恰当的一组是（ ）。

云山雾霾之间，一定流动着\_\_\_\_\_的香火气息。登高一望，便会对“人间烟火”这四个常见的文字多了一重超拔的见解与\_\_\_\_\_。

A. 幽静 感悟

B. 清幽 感触

C. 幽静 感触

D. 清幽 感悟

29. 鸦片战争结束后，当得知英军已经撤出长江，道光皇帝的第一个\_\_\_\_\_就是下令沿海各省撤军，清政府的军政大员\_\_\_\_\_。有人形容当时文恬武嬉的状态：“大有雨过忘雷之意。”中国的一切仿佛又回到\_\_\_\_\_。

依次填入划横线部分最恰当的一项是（ ）。

A. 反映 额手称庆 起点 B. 决定 欣喜若狂 初始

C. 反应 弹冠相庆 原点 D. 旨意 欢欣鼓舞 平静

30. 质疑和否定是人类文化最积极活泼的精神，它不断触发新生力量去打破\_\_\_\_\_平衡，建立新平衡，从自然、社会、群体到个人，从宏观世界到微观世界，轮回交替，\_\_\_\_\_，每一种存在形态，都是对旧秩序的反抗和否定，从而形成的一种崭新的相对平衡。

依次填入划横线处最恰当的一项是（ ）。

A. 传统 代代相继

B. 原有 滚滚而来

C. 既有 生生不息

D. 古老 绵绵不断

31. 口感好、有营养、无污染……随着这些理念的\_\_\_\_\_，有机产品迅速发展。然而，一些问题也开始\_\_\_\_\_：有的生产或销售企业有机产品认证标志使用不规范；有的企业甚至以普通产品\_\_\_\_\_有机产品

依次填入划横线部分最恰当的一项是（ ）。

A. 推行 突现 替换

B. 推进 凸现 代替

C. 推动 突显 冒充

D. 推广 凸显 假冒

32. 进一步\_\_\_\_\_地域特色，进行特色打造和品位提升是名镇名村创建工作的目的之一。

A. 挖掘

B. 探索

C. 发掘

D. 摸索

33. 情绪并不是独立存在的，它常常伴随着信息而传播。作为一种态度，情绪不仅能够\_\_\_\_\_人们对所传播的信息的认知，还会在一定程度上指导人们的行为。积极的情绪会促进人们积极地认识世界，消极的情绪则可能会给他人甚至整个社会带来破坏性后果。人在情绪失控时，很容易不顾后果地做出\_\_\_\_\_的举动。

依次填入划横线部分最恰当的一项是（ ）。

A. 影响 危险

B. 左右 出格

C. 干扰 反常

D. 支配 冲动

34. 历史认识的局限性成就了历史研究的魅力。历史认识有局限性，才需要人们不断拷问、修正和创新。如果研究者因此而敬畏研究对象，兢兢业业、\_\_\_\_\_，这正是历史研究的幸事。反之，如果把历史认识的局限性作为规避责任的遁词和主观臆断的托词，人们就会愈发相信历史毫无\_\_\_\_\_可言。

依次填入划横线部分最恰当的一项是（ ）。

A. 身体力行 科学性

B. 恪尽职守 公平性

C. 如履薄冰 客观性

D. 谨言慎行 系统性

35. 没有什么\_\_\_\_\_的。生活就像自然，有阳春，也有金秋；有酷夏，也有寒冬。走运和倒霉

都不可能持续很久。对于\_\_\_\_\_情况，如果没有充分的思想准备，那么厄运就会像大海的波涛一样，在你生活的海岸上忽起忽落拍打不停。

填入划横线部分最恰当的一项是（ ）。

- A. 一成不变 突发
- B. 循规蹈矩 特殊
- C. 按部就班 意外
- D. 千篇一律 临时

36. 在已有的上千处世界遗产名录中岩画遗址有30余处。目前已发现的岩画遍及世界五大洲的150多个国家和地区。据考证，这些遗留在岩石上洞穴内的画面至少已有三四万年的历史。在今天看来，它们更像是儿童的作品，散发着童年时代的人类所有烂漫的观察与思考，是人类在没有文字之前的最真实的书写。中国是世界上岩画遗存最丰富的地区之一，在此之前却没有一处成为世界遗产，“左江花山岩画文化景观”弥补了这一缺憾。

从这段文字，可以看出作者的意图是（ ）。

- A. 岩画是人类童年时代的作品，是与古人对话的文化密码

在已有世界文化遗产名录中，岩画遗址拥有相当的数量

- C. “左江花山岩画文化景观”是中国第一项岩画类世界遗产

岩画遍及世界，其中中国是岩画遗存最丰富的地区之一

37. 此刻，我们经历的时光，将来都会变成从前。时光如落花，盛开时我们忽略它的美，反而在它凋落之时嗅到它的余香。不只是爱情，所有的事，都是如此。我们拥有的时候，往往是漠然的，等到一切成为从前，才恍然觉得珍贵。

对这段文字概括最恰当的是（ ）。

- A. 旧事物，总是被诗化
- B. 因为失去，所以珍惜
- C. 偏是人间留不住，只恨当时作寻常
- D. 逝水流年，拥有不如怀念

38. 研究人员让志愿者在一个黑暗的屋子里长时间盯着屏幕上的一个小圆点，同时用红外照相机实时追踪志愿者的眼球运动和眨眼。志愿者每眨一次眼睛，小圆点就向右移动一厘米。志愿者事后表示并没有察觉到这细微的变化。经过大约30次眨眼，志愿者的视线适应了小圆点的同步移动，可以在眨眼之后自动偏向新的小圆点位移。

这段文字意在说明（ ）。

- A. 眨眼可以稳定视线
- B. 眼球活动受噪音等因素的影响，不会引起视线的不稳定
- C. 眨眼时眼球转动，眼球总能回到在眼睛重新睁开时的那个位置

大脑无法判断人们眨眼前后所见物体的差异

39. 长期耐心细致的普法教育活动，确实有助于增强人们对于法律的信心，但与此同时，我们也要看到，纸面上的法律并不能自动保障人们的权利，仅仅通过法制宣传与教育，并不能全面深入地促进人们对于法律的信仰。纸面上的法律条文到底意味着什么，还要依赖法律机构的运作者来表达。换言之，以法官为核心的法律人团队，才是法律最根本的载体；法律人的职业活动，才是活生生的法律；法律人的一言一行、一举一动，无不昭示着法律的真实面目。因此，如果要让社会公众知道法律是什么，与其

举行一百场法律讲座，发放一千份宣传资料，还不如严格按照法律精神，进行一次诉讼活动，一次公正的诉讼，尽管亲见亲历者人数有限，但是通过口耳相传，就会形成一种普遍的社会舆论：法律人值得信赖，法律值得信仰。

这段文字意在强调（ ）。

- A. 普法活动的宣传教育效果逊色于法庭诉讼
- B. 法律的精神实质需要公众亲身体会才能感受到
- C. 法律条文的意义依赖于法律机构的运作者表达
- D. 法律人的职业活动有助于公众建立法律信仰

40. 春节期间，duang“震碎”无数网友的屏幕。作为2015年开年第一个爆红的“字”，网友张口闭口不duang一下，似乎都不好意思跟人打招呼。然而，随着近年来这类网络新说法的日益增多，很多人开始担忧它们对传统汉字和传统文化的冲击，并建议应该规范汉字的使用。其实，汉字文化的演变本来就是一个继承与发展的动态过程，这些网络新说法，作为当下社会发展的映照，从一个侧面说明我们的汉文化是一种充满活力的、可再生的文化体系。如果真的有一些新说法被留下来了，也不失为一件悦事。

概括文段语义，最恰当的一项是（ ）。

- A. 文字传承有自身规律，无需谈“新”色变
- B. 随着大量新词的产生，应该不断规范汉字的使用
- C. 汉字的极大丰富说明汉字文化具有极大的可再生能力
- D. 新说法的涌现不会冲击传统文化，甚至还丰富了汉字文化体系

41. 清朝乾隆年间，河南巡抚叶存仁为官数十载，美誉有加。准备告老还乡之时，原下属新任巡抚牛某前来送行。寒暄礼毕，牛巡抚道：“请大人留于此地，属下愿供奉于你！”叶存仁道：“承蒙美意。汝年轻有为，任重道远，在此虽好，只恐拖累你，我欲归园田居，颐养天年。”牛巡抚苦留不住，自怀中取出银票，以表栽培之恩。叶存仁亦决然推拒。

下列关于从政修身的名言，与这段文字内容无关的是（ ）。

- A. 俭，德之共也；侈，恶之大也
- B. 以德服人者，中心悦而诚服也
- C. 君子笃于义而薄于利
- D. 君子所贵者在守道，不在求荣

42. 一位年轻人曾问乔布斯：你的智慧从哪里来？乔布斯回答：来自精确的判断力。年轻人又问：精确的判断力从哪来？乔布斯回答：来自经验的积累。年轻人再问：那你的经验又从哪来？乔布斯真诚地回答：来自无数错误的判断。

与这个故事揭示的道理最不相符的是（ ）。

- A. 胜败乃兵家常事
- B. 失败是成功之母
- C. 实践里面出真知
- D. 吃一堑，长一智

43. 谁都希望自己一生平安顺利，但挫折、困难、逆境往往在所难免。当今社会，资源更稀缺，竞争更激烈，人们遭遇挫折和逆境的可能性也在加大。在这一背景下，有人提出“逆商”概念。所谓“逆商”，是指摆脱挫折、克服困难、走出困境的能力。因为一个人事业成功、生活幸福，不仅需要智商、情商，还需要“逆商”，以更好地摆脱挫折、克服困难、走出困境。

下列古代名句中，不能直接说明原文主旨的一项是（ ）。

- A. 天行健，君子以自强不息
- B. 不畏浮云遮望眼，只缘身在最高层
- C. 宝剑锋从磨砺出，梅花香自苦寒来
- D. 天生我材必有用，千金散尽还复来

44. 常常被感动而充满激情的人是有福的。我或许属于其中之一。故我想，感动是由于我们深爱着世上一切美好的事物，甚至比别人更留意也更钟情于它们。而这些美好的事物也仿佛是我的朋友和亲人，也同样爱着、留意着、钟情着我。每次小小的感动都会洗净我灵魂中某个小小斑点和污渍，每一次深深的感动都有可能斩断我性情中某一段深深的劣根。日复一日，年复一年，感动使我们的内心变得清洁、明亮、丰富而又宽敞，使我们对每一轮崭新的日出都能赢得一个全新的自我。

这段文字主要告诉我们（ ）。

- A. 人应该有不断完善自我的意识
- B. 充满爱的人才有可能获得幸福
- C. 人应该对美好事物充满感情
- D. 提升人格境界需要持之以恒

45. 现在一些国家的法律体系中之所以出现越来越多的“软法”，根本原因就在于，在一个多元化的社会，道德价值的多元化决定了人们在处理社会关系时很难达成一致意见，将一些普遍遵循的道德规范变成共同的行为准则，不仅可以避免多元化社会道德评判混乱的现象，同时也可以在一定程度上引导公民的行为，让他们时刻意识到自己行为的“合法性”。

这段文字的主要观点是（ ）。

- A. “软法”有利于凝聚共同价值观
- B. “软法”顺应了社会多元化发展
- C. “软法”对道德准则有强化作用
- D. “软法”可以判定行为的合法性

46. 自我提升可能是一种被打上“生物遗传”与“基因性状”烙印的心理现象，它因具有潜在的适应价值而被保存在人类的基因中。其实，真实、准确的自我认识才是个体获得幸福和成功的必要前提，一个适应良好的个体应当对自我有着正确的认识，那些头脑中常存错觉、不能清醒认识自我的人，往往容易受到心理疾病的侵扰。然而日常生活中，大多数人都会“透过玫瑰色的眼镜”看待自己，其典型表现便是寻求积极自我认识、避免消极反馈评价的积极错觉。而这些积极错觉和自我欺骗又被科学研究证实是不无裨益的。

这段文字旨在说明（ ）。

- A. 自我提升不能造就幸福
- B. 自我提升是种遗传现象
- C. 自我提升可能造成错觉
- D. 自我提升是一把双刃剑

47. ①这些霜花团团簇簇的，很有点花园的气象

②一旦太阳从山峦中升起来，印着霜花的玻璃窗就像魔镜一样，散发出奇诡的光辉

③早晨，迎接我的是一夜寒流和冷月，以及凝结在玻璃窗上的霜花

④这天的霜花不似往日的，总是呈树的形态

⑤想必霜花也知道立春了吧

⑥你能从中看出喇叭形的百合花来，也能看出重瓣的玫瑰和单瓣的矢车菊来 将

以上6个句子重新排列，语序正确的是（ ）。

- A. ⑤③④⑥②①
- B. ③⑤④①⑥②
- C. ⑤④③⑥①②
- D. ③④⑤②①⑥

48. 风是地球上空的传送带，它将大陆的沙尘吹向海洋，又将海洋的水汽吹向大陆，沙尘和水汽相遇，便能结合为云，最终化为降水。可见沙尘不仅在土壤的分布和补充上扮演着重要的角色，而且在全球的水循环上也扮演着重要的角色。可以说，\_\_\_\_\_。

填入划横线部分最恰当的一句是（ ）。



- A. 决定全球生态的平衡因子是沙尘  
B. 风使得全球生态达到了平衡状态  
C. 全球生态的平衡因子取决于风向  
D. 沙尘也是决定全球生态的平衡因子

49. ①楼市远未到健康发展的程度，然而这并不妨碍我们认识一个真实的中国楼市格局

②而长期来看，让市场起决定性作用，无可避免地将成为中国楼市发展的方向

③无论看涨者和看跌者找到多少理由支持自己的观点，楼市的大格局就摆在那里

④于是乎，各色看法、判断甚至惊人言论无不是裹挟着民意打“影响政策”的主意

⑤中国楼市的参与者都知道，楼市趋势的继续或反转并非来自市场或他们的预测，而是来自政策

⑥事实清楚不过，在认清楼市格局的基础上，保持政策连续性、稳定性是当前稳预期稳房价的关键一招 将以上6个句子重新排列，语序正确的是（ ）。

- A. ①③⑤④⑥②      B. ①⑤③④⑥②      C. ⑤③①②④⑥      D. ⑤⑥①②④③

50. ①我们相信要对成千上万的项目说不，这样我们才能真正专注于那些对我们来说确实重要和有意义的少数项目

②我们相信，我们在地球上存在的目的就是创造伟大的产品

③我们崇尚简约而不是复杂

④这一点不会改变

⑤我们相信团队间的深度合作和相互启发，这让我们用别人没有的方式进行创新

⑥我们一直专注于创新

将以上六个句子重新排列，语序正确的是（ ）。

- A. ⑥④②③⑤①      B. ③④①⑥②⑤      C. ②④⑥③①⑤      D. ①③⑥④⑤②

现在有90%的人过于关注食品安全问题，对于营养的理解，大多数人还停留在“营养问题没多大危害，顶多胖点瘦点”的水平上，事实上因为营养问题导致身体健康严重恶化甚至失去生命的大有人在。

随着工业化、城镇化、老龄化进程加快，我国慢性病患者、死亡呈现持续快速增长趋势。2012年7月 卫生部发布的报告称，我国慢性病确诊患者已超过2.6亿人，因慢性病死亡占居民总死亡比重升至85%， 慢性疾病已成为我国居民健康的第一杀手，而慢性疾病的主要原因在于生活方式错误、食物营养不均衡。

心脑血管疾病、糖尿病、痛风等目前高发的慢性疾病，甚至乳腺癌、前列腺癌、肠癌等常见癌症，很多都与营养问题密切相关。很遗憾的是，现在很多人对绿叶蔬菜、各种杂粮薯类等天然食物的安全性 过于担心，同时又被各种低营养价值的零食甜点、油炸食品等所诱惑，造成膳食中营养素和保健成分摄入不足，能量和脂肪摄入量过剩，这是很多日常健康问题的主要成因。如果不改变膳食结构，仅仅依赖 一两种保健品，很难达到改善健康状况、预防癌症和慢性病的效果。

营养均衡的膳食，同时也会是提高自身安全性的饮食。一方面，减少高度加工食品的摄入量，多吃杂粮、薯类、蔬菜等，合理控制鱼肉蛋奶的数量，能减少积蓄性环境污染物的摄入量，并减低很多毒物的吸收率和致癌作用。另一方面，合理的营养能够保障人体的解毒功能，提高人体在污染环境中的应对能力。

营养不均衡的人，在污染条件下更容易受害。以镉大米事件为例，我国大部分消费者，尤其是南方

人，每天的饭桌上都少不了米饭。但为了减低镉超标大米对健康的影响，主食应尽可能多样化，减少对大米（特别是单一来源大米）的依赖。不要餐餐吃米饭。杂粮、豆薯等来自不同产地，即便富集污染，特性也不同。混吃可减少同种污染物长期蓄积的危险，还能改善营养均衡。

膳食内容越丰富多样，受一种污染物蓄积毒害的风险就越小；各种营养越均衡，身体对毒物的抵抗能力就越强。例如，人体一旦缺钙，镉、铅等二价有害金属的毒性作用就会增强。粗粮、豆类、蔬菜、水果中的各种膳食纤维，都有利于排除重金属。

作为一个普通人，虽然食品安全的大环境很难把握在个人手中，但营养均衡完全可以由自己决定。改善营养均衡，既能预防衰老和疾病，又能减少污染危害，是在不安全世界中找到生存之道的关键所在。

由于我国缺乏相应的营养师制度，普通民众在日常生活中得不到可靠的营养指导。遇到营养问题时，他们不知道该向谁去咨询，只能在网上或报刊上搜索一些相关的只言片语作参考，然而这些信息未必能够符合每个人的具体情况，经常会造成误解甚至误导。在各种未经验证的信息互相矛盾时，他们更是无所适从。对于这种状况，本该由政府承担的社会建设方面的责任，现如今却由“民间科普人士”自发地对民众作营养知识宣传，而这还远远不能满足民众对营养知识的个体化需求。

51. 下列最适合作本文标题的一项是（ ）。

- A. 慢性疾病是我国居民健康的第一杀手
- B. 别让营养不均衡害了你
- C. 不必过于担心食品安全问题
- D. 我国需要建立营养师制度

52. 关于实现营养均衡的方法，最符合原文意思的一项是（ ）。

- A. 保健品的食用要多样化
- B. 尽量吃自己栽种的绿叶蔬菜
- C. 不要相信网络、报刊上的营养知识
- D. 食用不同产地的主食

53. 下列关于导致我国普通民众出现营养问题的表述，不符合原文意思的一项是（ ）。

- A. 对营养问题导致后果的严重性认识不足
- B. 不懂得导致慢性疾病的主要原因是食物营养不均衡
- C. 食品安全问题日益严重，蓄积性环境污染物的摄入量大大
- D. 缺乏相应的营养师制度，常常被网络或报刊上的只言片语所误导

54. 下列不符合原文意思的一项是（ ）。

- A. 过于担心食品安全问题是出现营养问题的原因之一
- B. 不安全食品对营养不均衡的人危害更大
- C. 丰富的膳食结构是解决食品安全问题的关键
- D. 营养越均衡，身体的解毒能力就越强

55. 下列最符合本文主旨的一项是（ ）。

- A. 营养问题会导致身体的健康严重恶化甚至危及生命
- B. 食品安全问题带来严重后果
- C. 政府在宣传营养知识方面责无旁贷
- D. 民众要通过多种渠道，提升营养知识水平

现代医院制度的历史很短。古代医院制度大约始于四世纪初，基督教把救死扶伤作为教会慈善事业的重要组成部分。325年，基督教第一次大公会议规定，凡教会建立之处必须配备慈善场所，凡建教堂之处都要有医护馆舍。巴勒斯坦地区的凯撒利亚主教建立了第一所基督教医护所，法碧奥拉修女在罗马、兰德里主教在巴黎也相继建立起同样的机构。

在美国，早期医院仅作为宗教活动与贫民救助的场所，由慈善或宗教人士主持，提供非功利性服务。1713年，威廉·佩恩在费城建立第一所慈善医院，主要功能是济贫，其次是照顾病人。以治疗为主要功能的医院是1751年建立的宾夕法尼亚医院。1794年之后的50年中，医院逐渐成为医学教育和研究的中心，在医学职业机构中的地位大幅提升。战争中的战地救护强化了医生与医院的结合，也凸显了护理的职能。20世纪后，随着物理技术向医疗技术的渗透与转移，辅助诊疗设备、器械在医疗中的作用越来越明显，医生与医院的技术地位越来越强势。

在医院的发展历程中，南丁格尔是一位重要的推手，她是现代护理学的开创者，也是现代医院制度的反思者和变革者。她的反思与变革主要聚焦于“治疗与照顾”的关系。她的不朽著作《护理札记》积极倡导以照顾为中心的专业化服务，认为医院的核心价值是人性的呵护、周到的生活料理、身心的照顾、配合治疗的养护、病中的温暖和舒适。她的另一部重要著作《医院札记》则开启了以舒适为中心的设施改造运动，认为医院首先必须提供良好的“生活”境遇，然后才是良好的“治疗”环境。

当代医学史家卢森伯格系统考察了医院制度的源流，他洞悉了医院制度的致命弱点，即伤病者、求助者必须依赖“陌生人的帮助与照顾”。医患关系的缔约双方是陌生人，凭着小小一张挂号单，医生成为病人个人生活的“闯入者”。患者要将个人的秘密告诉医生，甚至冒着巨大风险去接受伤害性药物与手术的干预，而他们对医生的德行技艺却知之甚少。

医学不仅仅是知识体系，还是生命信仰；不仅面对患者的躯体，还面对患者的心灵。科学与人学、技术与人性、工具与价值的思考应该伴随其始终。

56. 关于古代医院制度，以下说法正确的是（ ）。

- A. 医生通常提供上门服务
- B. 一般和教堂建在一起
- C. 最早由法碧奥拉修女创建
- D. 第一所基督教医护所建在罗马

57. 根据第2段，战地救护强化了医院在哪方面的职能？（ ）

- A. 治疗
- B. 护理
- C. 科研
- D. 教育

58. 文中引用南丁格尔的事例是为了说明（ ）。

- A. 医院应重视人文关怀
- B. 医院环境变革势在必行
- C. 《医院札记》具有重要价值
- D. 护士在医院系统中十分重要

59. 第4段中，卢森伯格认为医院制度的致命弱点是（ ）。

- A. 医患双方信息不对等
- B. 医患双方存在陌生感
- C. 医院环境十分冷漠
- D. 缺乏考核医德的标准

60. 本文最适合的标题是（ ）。

- A. 医院制度：从身体照顾到心灵抚慰
- B. 南丁格尔：冰冷医院中的一盏明灯
- C. 基督教：古代医院制度的重要推手
- D. 卢森伯格：现代医院制度的批判者

### 三、数量关系

61. 希望中学为三个特困学生发放课外读本。甲发到的读本数与乙发到的读本数的2倍之和比丙发到的读本数多6本；甲发到的读本数与丙发到的读本数的2倍之和比乙发到的读本数多3本，则三个学生发到的读本数的平方和最小值为（ ）。

A. 14

B. 28

C. 24

D. 20

62. 上午8点, 甲、乙两车同时从A站出发开往1000公里外的B站。甲车初始速度为40公里/小时, 且在行驶过程中均匀加速, 1小时后速度为42公里/小时; 乙车初始速度为50公里/小时, 且在行驶过程中均匀减速, 1小时后速度为48公里/小时。问中午12点前, 两车最大距离为多少公里? ( )

A. 8

B. 12.5

C. 16

D. 25

63. 两箱同样多的蛋黄派分别分发给两队志愿者做早餐, 分给甲队每人6块缺8块, 分给乙队每人7块剩6块。已知甲队比乙队多6人, 则1箱蛋黄派有 ( ) 块。

A. 120

B. 130

C. 160

D. 240

64. 某商场销售某种商品, 第一个月将此商品的进价加价20%作为销售价, 共获利6000元, 第二个月商场搞促销活动, 将商品的进价加价10%作为销售价, 第二个月的销售量比第一个月增加了100件, 并且商场第二个月比第一个月多获利2000元。此商品第二个月的销售件数是 ( )。

A. 270

B. 260

C. 170

D. 160

65. 在小李等车期间, 有豪华型、舒适型、标准型三种旅游车随机开过。小李不知道豪华型的标准, 只能通过前后两辆车进行对比。为此, 小李采取的策略是: 不乘坐第一辆, 如果发现第二辆比第一辆更豪华就乘坐; 如果不是, 就乘坐最后一辆。那么, 他能乘坐豪华型旅游车的概率是 ( )。

A.  $\frac{1}{2}$

B.  $\frac{1}{3}$

C.  $\frac{1}{4}$

D.  $\frac{1}{5}$

66. 夏天干旱, 甲、乙两家请人来挖井。阴天时, 甲家挖井需要8天, 乙家需要10天; 晴天时, 甲家工作效率下降40%, 乙家工作效率下降20%, 两家同时开工并同时挖好井。问甲家挖了几个晴天? ( )

A. 2天

B. 8天

C. 10天

D. 12天

67. 钟老师与四名老师一起参加学校举办的教师技能大赛。这四名老师的成绩分别是78分、81分、82分、79分, 而钟老师的成绩比五人的平均成绩多6分。那么, 在五人中, 第二名成绩比第四名多 ( ) 分。

A. 2

B. 3

C. 4

D. 5

68. 张先生在某个闰年中的生日是某个月的第四个也是最后一个星期五, 他生日的前一个和后一个月正好也只有4个星期五。问当年的六一儿童节是星期几? ( )

A. 星期一

B. 星期三

C. 星期五

D. 星期日

69. 某航空公司所有机票一律七折, 在此基础上, 教师可以再享受八折优惠, 学生可以再享受六折优惠。学生小丁与父亲和当老师的妈妈用2520元购得机票三张一起外出旅游, 则小丁一家所购机票原价为每张 ( ) 元。

A. 800

B. 1000

C. 1250

D. 1500

70. 王明抄写一份报告, 如果每分钟抄写30个字, 则用若干小时可以抄完。当抄完  $\frac{2}{5}$  时, 将工作效率提高40%, 结果比原计划提前半小时完成。问这份报告共有多少字? ( )

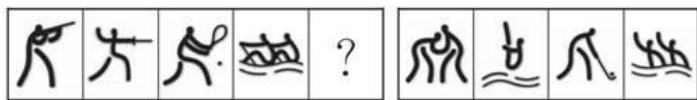
A. 6025

B. 7200

C. 7250


D. 5250





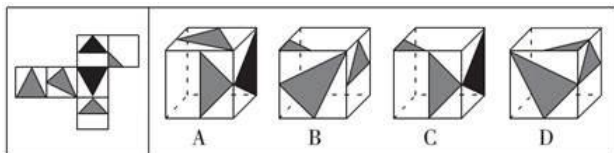
- A. A                                      B. B                                      C. C                                      D. D

80. 从所给的四个选项中，选择最合适的一个填入问号处，使之呈现一定的规律性。



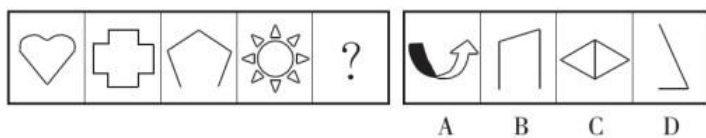
- A. A                                      B. B                                      C. C                                      D. D

81. 左边给定的是纸盒外表面的展开图，右边哪一项能由它折叠而成？请把它找出来。



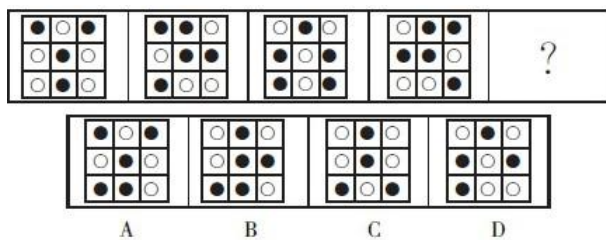
- A. A                                      B. B                                      C. C                                      D. D

82. 从所给的四个选项中，选择最合适的一个填入问号处，使之呈现一定的规律性。



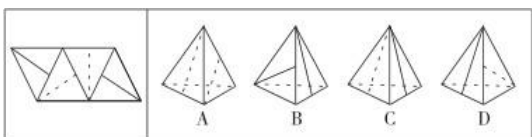
- A. A                                      B. B                                      C. C                                      D. D

83. 从所给的四个选项中，选择最合适的一个填在问号处，使之呈现一定的规律性。



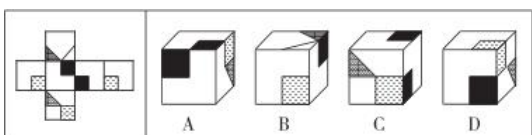
- A. A                                      B. B                                      C. C                                      D. D

84. 左边给定的是纸盒外表面的展开图，右边哪一项能由它折叠而成？请把它找出来。



- A. A                                      B. B                                      C. C                                      D. D

85. 左边给定的是纸盒外表面的展开图，右边哪一项能由它折叠而成？请把它找出来。



- A. A                                      B. B                                      C. C                                      D. D

86. 作茧自缚：化蛹成蝶

- A. 灯蛾扑火：化羽归尘                                      B. 雨润花开：春华秋实  
C. 鱼翔浅底：鹰击长空                                      D. 凤凰浴火：涅槃重生



C. 市一中即将搬往高新区的消息一传开，高新区的房价就一路飙升，连紧邻的湾树区房价也跟着涨了三四成

D. 老徐的网店短短半年内就赢利数万，朋友们纷纷前来取经，采用同样的经营方式创办了自己的网店，一个个赚得盆满钵满

98. 主观唯心主义把个人的某种主观精神如感觉、经验、心灵、意识、观念、意志等看作世界上一切事物产生和存在的根源与基础，而世界上的一切事物则是由这些主观精神所派生的，是这些主观精神的显现。

根据上述定义，下列观点不属于主观唯心主义的是（ ）。

- A. 生死有命，富贵在天
- B. 对象和感觉是同一个东西
- C. 有条件要上，没条件也要上
- D. 万物森然于方寸之间，满心而发，充塞宇宙

99. 列联问题指的是两个相互关联的问题，其中对第二个问题的回答必须依据对第一个的回答情况作答。

根据上述定义，下列哪项中的两个问题属于列联问题？（ ）

- A. 你现在饿吗？你打算去哪儿吃饭？
- B. 你的属相是什么？你今年多少岁了？
- C. 买房的合同签了吗？你去看房了吗？
- D. 你喜欢小动物吗？你妹妹喜欢小动物吗？

100. 专化防御和反专化防御是物种进化过程中的两种反应类型。前者是指两种物种在防御方面的协同进化过程中所作出的特定进化反应。例如：加纳园蛛在黄昏时把网建成，而到黎明时又把网拆毁，以对付烈蛛蜂白天对其捕食。反专化防御是相对专化防御而言的，是指物种为破除其他物种的专化防御而采取的行为反应。

根据上述定义，下列属于反专化防御的是（ ）。

- A. 响尾蛇的尾巴晃动时，能够发出声响，有时用来警告老鹰等天敌
- B. 狼过着群居的生活，一般七匹为一群，共同抵御狮子、老虎的攻击
- C. 蜗牛的头有四个触角，走动时头伸出，受惊时则头尾一起缩进甲壳中
- D. 羚羊为躲避猎豹捕食，会选择在夜间觅食，猎豹有时也会在夜间捕食

101. 性格色彩学将人的性格分为红、蓝、黄、绿4种颜色。它认为红色性格的人是快乐的带动者，做任何事情的动机很大程度上是为了快乐，心态开放，喜欢体验新鲜的东西，情感丰富而外露，容易情绪化，随性而又善于交际。

根据上述定义，下列最符合红色性格特征的人物是（ ）。

- A. 猪八戒
- B. 林黛玉
- C. 宋江
- D. 诸葛亮

102. 近因效应是指新出现的具有对立意义的刺激能够把人们心目中已有的印象反转为对立的印象。根据上述定义，下列情形符合近因效应的是（ ）。

- A. 自从老王到养老院做志愿者后，同事们就对他刮目相看
- B. 小林的学习成绩不太好，但是羽毛球水平很高，同学们很羡慕他
- C. 一家口碑良好的企业偷税漏税的丑闻被曝光后，公众指责其为“无良企业”
- D. 医疗事故发生后，医院诚恳地向患者家属道歉并减免了医药费，家属表示愿意谅解

103. 院墙外正义：指对于不涉及自身利益的不良行为往往表现得义正辞严、充满正义；但是一旦涉



及自身的利益，即使面对的是同样不良的行为，则往往采取完全不同的态度。 下

列属于院墙外正义的是（ ）。

A. 小赵正在家中看书，从院子外边传来激烈的争吵声。他冲出去一看，原来是隔壁夫妻在吵架。他赶紧回家打电话，请居委会派人来调解

B. 张院长在学院会议上严厉批评个别老师上课迟到的现象，强调必须严肃处理。有人提起他上周迟到的事，他又补充了一句：凡事不能一概而论

C. 小陈担任部门经理以前，也像其他员工一样经常抱怨公司管理措施过于严苛。现在，他已经逐渐理解了管理部门的良苦用心

D. 小李是某医学院大三学生，平时经常向周边的同学和朋友宣传义务献血的意义和好处，但自己却从来没有献过一次血

104. 人才逆流动：指原本在知名大城市工作的专业人士，主动选择到中小城市工作的人才流动现象。

下列属于人才逆流动的是（ ）。

A. 小赵家乡的县城近年来经济发展迅猛，正在到处招聘有大城市工作背景的专业人才，反复考虑之后，小赵辞去北京某研究部门的工作回乡应聘成功

B. 高中毕业的小韩在深圳打拼多年，深感这里的工作机遇虽多，年收入也很可观，但竞争压力太大，有时力不从心，春节后他决定留在家乡创业

C. 小黄在天津某大学桥梁设计专业取得硕士学位后，来到女友所在的小城市找了一份不错的工作，他和女友都很开心

D. 0后白领小李在上海的一家金融机构总部任职，几天前决定跳槽到附近的一家保险公司，意外发现自己的这一决定与不少同事的选择不谋而合

105. 定向销售：指商家出于特定目的，以低于市场同类商品的价格向特定客户出售商品的营销方式。

下列属于定向销售的是（ ）。

A. 为打响知名度，吸引购车者，某汽车城决定开业当日给予医生、教师2万元的优惠，比许多4S店便宜了不少

B. 为庆祝公司成立十周年，某公司董事会决定给员工发放纪念品。经过与某皮具厂家协商，以优惠价格购买了一批时尚、高档的真皮包

C. 为了避免浪费，某生鲜店规定：每天晚上8点后，所有非冰冻类的鲜鱼、鲜肉产品一律五折出售

D. 某食品生产企业为了实现一季度销售业绩开门红，以行业底价线上线下同时开展促销活动，销售量大幅上升

106. 根据我国现行法律规定，同一楼内的邻居向外面高空抛物，使他人的人身或财产遭受损害，如果查不出抛物者，就由可能造成损害的同一楼的居民共同承担补偿责任。这样的法律规定保护了受害者的权利，维护了公共安全，同时，让可能的加害人分担责任，能够增强其监督预防的意识。

以下哪项如果为真，最能支持上述论证？（ ）

A. 小区安装了监控探头，能较准确地确定真正的抛物人，要求其承担责任

- B. 人们购买了人身意外保险，在不幸被抛落的物品砸伤时可获得保险赔偿 C. 小区居民担心承担责任，自发宣传高空抛物的危害并积极检举相关行为 D. 国家设立了专门的救助基金，为遭遇意外事故的受害人提供一定的救济

107. 学校的校长坚持认为，学生的成绩不及格是由于老师没有教好造成的。新学期开学不久，上学期学习成绩还不及格的学生已经没有不及格的了。因此，校长高兴地认为，这是学校教学质量得到改善的证据。

以下（ ）项推理的缺陷与题干相似。

A. 营养学家坚持认为，队员们的体重增加是由于暴饮暴食引起的。在较短时间段内，所有队员都停止暴饮暴食。因此，营养学家认为，队员们的体重将不会增加

B. 团队成员在抱怨体重增加，但营养学家认为体重增加仅仅是队员们的想象，为此向队员们发放了过去三个月的体重变化表。因此，营养学家很高兴关于体重增加的投诉减少了

C. 经理坚持认为，工人投诉是由于他们的工作任务太复杂。经理简化了工作，工人的抱怨停止了。因此，经理高兴地认为工作环境得到了改善

D. 经理坚持认为，工人提出投诉是由于工作量不饱和。不久以后，工厂里没有出现投诉。因此，经理高兴地认为，这是因为工人们的工作越来越充实了

108. 某汽车企业在传统车型的基础上新增了自动上锁装置，能保证汽车和车内财产的安全性。因此，这款自动上锁车型的销售量将大大高于传统车型。

以下（ ）项如果为真，最能对上述推理提出质疑。

- A. 传统车型中有一些最常用的功能并没有在新车型中体现 B. 新车型使用者与传统车型使用者的生活环境不同  
C. 无论是装有自动上锁的新车型还是传统车型，使用习惯都是因人而异的  
D. 该企业生产的这款自动上锁装置获得了专利权，是目前市面上其他汽车所不具备的

109. 党的十八届四中全会审议通过的《中共中央关于全面推进依法治国若干重大问题的决定》指出：“法律是治国之重器，良法是善治之前提。”这是在我们党的文件中首次将法治与善治联系起来，其依据的正是法治与善治的内在必然联系，法治是善治的基础，善治必须建立在法治之上，没有法治就没有善治，法治本身也是构成善治的基本要素。

由此可以推出（ ）。

- A. 有善治就有法治 B. 没有善治就没有法治 C. 有法治就有善治 D. 有善治不一定有法治

110. 曹操又称魏武王，河南安阳西高穴大墓中出土了刻有“魏武王格虎大戟”的石碑以及刻有“魏武王常用魏项石”的石枕等随葬品。所以西高穴大墓就是曹操墓。

如果下列哪项为真，最能加强上述推断？（ ）

- A. 随葬品是证明墓穴墓主身份的重要证据  
B. 如果在墓穴中没有发现刻有“魏武王”之类字样的随葬品，就不能证明该墓穴是曹操墓 C. 只有在墓穴中发现刻有“魏武王”之类的字样的随葬品，才能证明该墓穴是曹操墓  
D. 只要在墓穴中发现刻有“魏武王”之类字样的随葬品，那么该墓穴就是曹操墓

111. 某品牌的新型插座产品中包含防雷击部件，在电器遭到雷击后能保证所连接电器不受损害，有

人提出，应将这种部件作为标准配件安装到该品牌所有的插座产品中；另有人认为这么做会提高产品成本，降低其在行业内的价格竞争优势，且国内行业标准并没有强制要求产品加装防雷部件，故没有必要加装防雷击部件。

以下哪项如果为真，最能削弱上述反对意见？（ ）

- A. 越来越多其他品牌的插座也开始加入了防雷部件
- B. 调查显示大多数消费者对其电路遭受雷击并不感到担忧
- C. 在家电遭受雷击的已知案例中，使用了该新型插座的家电都没有受损
- D. 在即将发布的国家标准中，强制要求所有插座产品都包含防雷击部件

112. 房屋装修可能引发白血病。经某医院血液科一年多来的初步统计，来医院看白血病的孩子都表现出一个共同的特点，他们大多在发病前半年内，家里进行了房屋的豪华装修，使用的材料包括美化墙面的油漆、铺地面用的大理石等豪华建材，这样的白血病患者占就诊白血病患者总数的90%。

以下哪项如果为真，最能加强上述结论？（ ）

- A. 白血病病人中孩子占的比例较高
- B. 来医院看白血病的孩子家庭经济状况富裕
- C. 除了装修对环境的污染，病毒也是引起白血病的主要因素
- D. 来医院看白血病的孩子的年龄、父母的工作、体重、身高基本相同

113. 张红、李聪、王敏，一个是江苏人，一个是浙江人，一个是广东人。浙江人比李聪年龄小，张红和浙江人不同岁，王敏的年龄比广东人大。

根据上述断定，可以推出（ ）。

- A. 张红是江苏人，李聪是浙江人，王敏是广东人
- B. 张红是广东人，李聪是江苏人，王敏是浙江人
- C. 张红是浙江人，李聪是广东人，王敏是江苏人
- D. 张红是浙江人，李聪是江苏人，王敏是广东人

114. 某校食堂发生一起严重的食物中毒事故，关于事故的原因，有如下四种说法：

甲：事故是由食物过期引起的；

乙：如果事故是由食物过期引起的，那么食堂管理方面一定存在着监管不到位的现象；

丙：事故确实是由食物过期引起的，但食堂管理方面并不存在监管不到位的现象；

丁：事故不是由食物过期引起的，但食堂管理方面存在监管不到位的现象。如

果上述四种说法中只有一种是真的，由此可以推出（ ）。

- A. 丙为真
- B. 乙为真，但食堂没有存在监管不到位的现象
- C. 甲为真
- D. 乙为真，且食堂存在监管不到位的现象

115. 医生对小李说：“你最近脾气不好，是因为肝火旺。”

如果医生说的是真的，则以下陈述中也一定为真的是（ ）。 I.

也许是因为小李肝火旺，也许是因为小李压力大

II. 小李最近睡眠不好

III. 小李最近脾气不好，并且肝火旺

IV. 小李最近脾气不好, 不是因为压力大

A. III

B. I 和III

C. III和IV

D. I 和IV

### 五、资料分析

2012年, 全国国内旅游人数29.57亿人次, 比上年增长12.0%。其中, 城镇居民19.33亿人次。2012年, 全国国内旅游收入22706.22亿元人民币, 比上年增长17.6%。2012年全国入境外国游客人数比上年增长0.3%, 其中, 亚洲市场入境人数1664.88万人次, 与上年基本持平, 占入境外国游客人数的61.2%; 欧洲市场入境人数593.16万人次, 增长0.2%; 美洲市场入境人数317.95万人次, 减少0.7%; 大洋洲市场入境人数91.49万人次, 增长6.5%; 非洲市场入境人数52.49万人次, 增长7.4%。

2012年主要客源国入境旅游情况

国 家	入境旅游人数 (万人次)	与上年比较 (%)
美 国	211.81	0.1
日 本	351.82	-3.8
俄罗斯	242.62	-4.3
韩 国	406.99	-2.8
英 国	61.84	3.8
德 国	65.96	3.5
马来西亚	123.55	-0.8
越 南	113.72	13.0
澳大利亚	77.43	6.6
蒙 古	101.05	1.6
菲律宾	96.20	7.6
新加坡	102.77	-3.3
加拿大	70.83	-5.3
意大利	25.20	7.2
印 尼	62.20	2.2
哈萨克斯坦	49.14	-2.9
緬 甸	20.59	7.8
泰 国	64.76	6.5
印 度	61.02	0.6
法 国	52.48	6.4

116. 2011年, 全国国内的旅游收入约为 ( )。

A. 15247.11亿元人民币

B. 17354.03亿元人民币

C. 18642.37亿元人民币

D. 19308.01亿元人民币

117. 2012年, 农村居民国内旅游人数占全国国内旅游人数的比例约为 ( )。

A. 30.53%

B. 32.43%

C. 34.63%

D. 38.83%

118. 2012年, 欧洲各国入境游客量占欧洲入境游客总量比例超过11%的国家有 ( )。

A. 1个

B. 2个

C. 3个

D. 4个

119. 2011年, 除美国、加拿大以外的美洲国家游客入境旅游人数约为 ( )。

A. 13.8万人次

B. 23.8万人次

C. 33.8万人次

D. 43.8万人次

120. 根据上述资料, 不能推出的是 ( )。

A. 2012年, 韩国为我国第一大入境客源国

B. 2012年, 在20个主要客源国中, 六成来自亚洲

C. 2012年, 非洲市场入境游客量占入境外国游客总量的2%

D. 2012年，越南是入境旅游人数增长最快的客源国

2015年6月底，全国光伏发电累计装机容量达到3578万千瓦，其中，光伏电站3007万千瓦，分布式光伏571万千瓦。全国各省（区、市）中，累计光伏发电装机容量超过100万千瓦的分别为甘肃578万千瓦、新疆570万千瓦、青海470万千瓦、内蒙古403万千瓦、江苏302万千瓦、宁夏239万千瓦、河北160万千瓦和浙江143万千瓦。上半年全国新增光伏发电装机容量773万千瓦，其中，新增光伏电站装机容量669万千瓦、新增分布式光伏装机容量104万千瓦。新增装机容量前六的地区为：新疆214万千瓦、内蒙古101万千瓦、浙江70万千瓦、甘肃61万千瓦、青海58万千瓦和江苏45万千瓦。

2014年底，光伏发电累计装机容量2805万千瓦，其中，光伏电站2338万千瓦，分布式467万千瓦。2014年新增装机容量1060万千瓦，约占全球新增装机的五分之一，占我国光伏电池组件产量的三分之一，实现了《国务院关于促进光伏产业健康发展的若干意见》中提出的平均年增1000万千瓦目标；其中，光伏电站855万千瓦，分布式205万千瓦。中东部地区新增装机容量达到560万千瓦，其中，江苏省新增152万千瓦，仅次于内蒙古；河北省新增97万千瓦，居全国前列。西部省份中，内蒙古、青海、甘肃和宁夏均大。2013年底光伏发电累计装机容量为1745万千瓦，当年新增装机容量1095万千瓦。

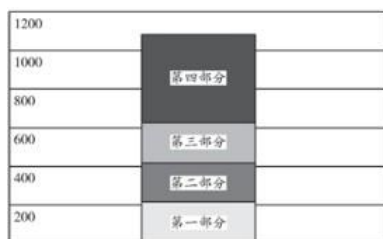
121. 2015年6月底，全国光伏电站累计装机容量约是分布式光伏发电累计容量的（ ）。

- A. 0.15倍                                      B. 6.3倍                                      C. 5.3倍                                      D. 0.16倍

122. 2015年上半年，光伏发电累计装机容量与新增光伏发电装机容量占全国总量均超过10%的省（区、市）的个数为（ ）。

- A. 1    B. 4    C. 3    D. 2

123. 图中哪项反映了2014年江苏和河北总新增光伏发电装机容量？（ ）



- A. 第一部分                                      B. 第四部分                                      C. 第三部分                                      D. 第二部分

124. 2015年上半年月均新增光伏发电装机容量比2014年全年月均新增光伏发电装机容量约（ ）。

- A. 高41万千瓦                                      B. 低50万千瓦                                      C. 低41万千瓦                                      D. 高50万千瓦

125. 能够从上述资料推出的是（ ）。

- A. 4年新增光伏发电装机容量首次突破1000万千瓦  
B. 5年上半年与2014年内蒙古新增光伏装机容量在全国均居第二  
C. 2015年上半年光伏发电累计装机容量约是2014年底的1.3倍  
D. 2012年新增光伏发电装机容量超过700万千瓦

2012年全年货物进出口总额38668亿美元，比上年增长6.2%。其中，出口20489亿美元，增长7.9%；进口18178亿美元，增长4.3%。



2012年主要客源国入境旅游情况

国 家	入境旅游人数 (万人次)	与上年比较 (%)
美 国	211.81	0.1
日 本	351.82	-3.8
俄罗斯	242.62	-4.3
韩 国	406.99	-2.8
英 国	61.84	3.8
德 国	65.96	3.5
马来西亚	123.55	-0.8
越 南	113.72	13.0
澳大利亚	77.43	6.6
蒙 古	101.05	1.6
菲律宾	96.20	7.6
新加坡	102.77	-3.3
加拿大	70.83	-5.3
意大利	25.20	7.2
印 尼	62.20	2.2
哈萨克斯坦	49.14	-2.9
緬 甸	20.59	7.8
泰 国	64.76	6.5
印 度	61.02	0.6
法 国	52.48	6.4

131. 2011年，全国国内的旅游收入约为（ ）。

- A. 15247.11亿元人民币  
B. 17354.03亿元人民币  
C. 18642.37亿元人民币  
D. 19308.01亿元人民币

132. 2012年，农村居民国内旅游人数占全国国内旅游人数的比例约为（ ）。

- A. 30.53%  
B. 32.43%  
C. 34.63%  
D. 38.83%

133. 2012年，欧洲各国入境游客量占欧洲入境游客总量比例超过11%的国家有（ ）。

- A. 1个  
B. 2个  
C. 3个  
D. 4个

134. 2011年，除美国、加拿大以外的美洲国家游客入境旅游人数约为（ ）。

- A. 13.8万人次  
B. 23.8万人次  
C. 33.8万人次  
D. 43.8万人次

135. 根据上述资料，不能推出的是（ ）。

- A. 2012年，韩国为我国第一大入境客源国  
B. 2012年，在20个主要客源国中，六成来自亚洲  
C. 2012年，非洲市场入境游客量占入境外国游客总量的2%  
D. 2012年，越南是入境旅游人数增长最快的客源国