

行测模拟卷
(五)

一、常识判断

1. 2015年9月3日，纪念中国人民抗日战争暨世界反法西斯战争胜利70周年大会在北京天安门广场隆重举行。在抗日战争相持阶段，八路军在华北地区发动的一次规模最大、持续时间最长的战役，粉碎了日军的“囚笼政策”，增强了全国军民取得抗战胜利的信心，提高了中国共产党和八路军的声望。这次战役是（ ）。

- A. 平型关战役 B. 台儿庄战役 C. 武汉会战 D. 百团大战

2. 如果将豆腐冰冻一段时间再解冻，豆腐内部会出现非常多的小孔。这一变化的原因是（ ）。

- A. 豆腐内的水分聚集凝结成冰晶，体积增大，挤出了这些小孔 B.

豆腐在低温下组织纤维变硬，体积膨大，露出了空隙

- C. 温度骤然变化导致豆腐的组织纤维热胀冷缩，露出了空隙

- D. 豆腐中的某些成分在低温环境下释放出大量气体，挤出了这些小孔

3. 在公共场所中常有各种各样的提示语，下列选项中，提示语使用最恰当的是（ ）。

A. 盘山公路转弯处：亲爱的司机朋友们，为了您和家人的幸福，请将车速控制在每小时20千米，前方为本段公路转弯处，是本路段的事故高发点

- B. 公共绿地：你我垃圾乱扔，谁来掩埋填坑？爱护环境靠大家，想想后代子孙 C.

超市：内有监控，小偷自重，一经确认，偷一罚十

- D. 餐厅：无烟场所，请勿吸烟；面阻不雅，利己利他

4. 下列有关长城的说法，错误的是（ ）。

- A. 今天所指的长城多指明代修建的长城，它东起鸭绿江，西至甘肃省的嘉峪关 B.

长城是中国也是世界上修建时间最长、工程量最大的一项古代防御工程

- C. 国家文物局2012年宣布中国历代长城总长度为两万余千米 D.

长城始建于战国时期的秦国

5. 网格化管理是一种新型数字化城市管理模式，它借助信息技术和社会力量在政府层级、职能和部门之间努力进行全方位的打通。下列关于网格化管理表述正确的是（ ）。

- A. 它是继“无缝隙政府”模式后在政府管理流程上的一个重大变革和突破 B.

它利用信息技术推进信息共享，进而进一步打破职能的边界

- C. 它更加适合“对人的管理”而非“对事的管理”

D. 目前，城市应急联动中心属于一种网格化管理模式

6. 《国家发展改革委关于降低国内成品油价格的通知》（发改电〔2014〕296号）称：根据近期国际市场油价变化情况，按照现行成品油价格形成机制，决定降低成品油价格。上述信息属于（ ）。

- A. 文字形态的指挥性信息
- B. 声像形态的相关信息
- C. 记忆形态的本单位信息
- D. 文字形态的政策法规信息

7. 中国共产党在领导全国各族人民改造半殖民地半封建的旧中国的过程中，高度重视主观世界的改造，开展反腐倡廉斗争，以保持自身肌体的先进与纯洁。在1927年召开的中国共产党第五次全国代表大会上，选举产生了维护和执行党的纪律的第一个专门机构——（ ）。

- A. 中央纪律检查委员会
- B. 中央纪律执行委员会
- C. 中央监察局
- D. 中央监察委员会

8. 小壮是年满8周岁的小学生。小壮的下列行为中，他人不得主张无效的是（ ）。

- A. 签订买卖校服的合同
- B. 购买价值50元的游戏机
- C. 将自己的钢笔赠与他人
- D. 接受赠与

9. 国产动画电影《西游记之大圣归来》，从古典名著《西游记》中汲取灵感，凭借优良的制作技术和丰富的视觉效果，塑造了与传统《西游记》完全不同的全新人物形象，它昭示了一条将传统与现代有机结合的国产动画电影发展道路，是一部符合互联网时代要求，整合中国与国外动画资源，具备世界眼光的影片。其创作过程体现的哲学道理是（ ）。

- A. 事物质变是量变的必然结果
- B. 对规律的认识与改造是其成功的源泉
- C. 创造性思维是其成功的源泉
- D. 辩证的否定是事物发展和联系的环节

10. 下列关于中医著作的说法，错误的是（ ）。

A. 《黄帝内经》开创了中医学独特的理论体系，标志着我国医学由单纯积累经验的阶段发展到了系统的理论总结阶段

B. 《伤寒杂病论》在世界上首次记载了人工呼吸的治疗方法

C. 《神农本草经》是一本药理学著作，它改进了中国传统的药物分类方法

D. 《难经》中的“难”是“问难”之义，该书是以问难的形式，即假设问题、解释疑难的体例进行编纂的

11. 美国著名影星布拉德皮特主演的电影《返老还童》，描述的是主人公本杰明巴顿一出生便如80岁老人一般，之后便越活越年轻，最后竟以婴儿的形态离开人世。但现实中，古今中外，从没有真正出现这一现象，这是因为（ ）。

- A. 人类还没有找到可以“返老还童”的神奇干细胞
- B. 人类现有的医学、生理学技术手段还不可能实现“返老还童”
- C. “生一弱一壮一衰一亡”是事物发展不可违背的客观规律
- D. 人类还没有真正找到“穿越”时空的技术手段

12. 下列对中国经济新常态的理解，不正确的是（ ）。

- A. 中国经济从中高速增长转为高速增长
- B. 发展方式由规模速度型向质量效率型转变
- C. 增长动力从要素驱动、投资驱动转向创新驱动
- D. 经济结构不断优化升级

13. 下列不属于“礼贤下士”典故的是（ ）。

- A. 吐哺握发
- B. 虚左以待
- C. 拥彗先驱
- D. 闭关却扫

14. 在经济繁荣时期为降低经济过热的风险，可以采取的方法是（ ）。

- A. 增加政府支出 B. 降低公司所得税 C. 降低个人所得税 D. 提高贷款利率

15. 刑事诉讼中的强制措施里（ ）指公检法机关为保证刑事诉讼的顺利进行，对犯罪嫌疑人、被告人依法强制其到案接受讯问的强制方法。

- A. 拘传 B. 刑事拘留 C. 罚金 D. 取保候审

16. 下列物品利用凸透镜透光原理的是（ ）。

- A. 近视镜 B. 显微镜目镜 C. 汽车观后镜 D. 手电筒反光镜

17. 科学发展观的核心是（ ），基本要求是（ ）。

- A. 以人为本 全面协调可持续 B. 发展 全面协调可持续
C. 以人为本 统筹兼顾 D. 发展 统筹兼顾

18. 凡是宪法、法律规定只能由法律规定的事项，不得以其他形式规定，或者只有在法律授权的情况下，才能由行政机关加以规定，这一原则被称为法律保留原则。关于这一原则，下列说法正确的是（ ）。

- A. 这一概念中的“法律”是广义上的法律
B. 法律保留范围在一定程度上决定着立法权与行政权的界限
C. 我国司法制度属于法律绝对保留事项
D. 对非国有财产的征收属于法律相对保留事项

19. “青红皂白”现在常用来比喻事情的是非曲直，其原意是指各种深浅不同的颜色。其中“皂”指的是（ ）。

- A. 黑色 B. 灰色 C. 黄色 D. 绿色

20. 仿生学是研究生物系统的结构和性质，为工程技术提供新的设计思想及工作原理的科学。其中，（ ）等发明就是运用仿生学的研究成果。

- A. 雷达 B. 尼龙搭扣 C. 广角镜头 D. 声纳

二、言语理解与表达

21. 经历了数代学院派导演在艺术上的探索和产业化白手起家的拓荒，电影不再只是“声光电”的艺术形式，更开启了一个_____的市场化运作的时代。众多资本的涌入，一方面创造出巨大的利益空间，另一方面也暴露出行业内部的_____，乱象频生。

依次填入划横线部分最恰当的一项是（ ）。

- A. 波澜壮阔 鱼目混珠 B. 雄心勃勃 鱼龙混杂
C. 焕然一新 尔虞我诈 D. 意气风发 良莠不齐

22. 对互联网企业来讲，从用户那里收集到的信息主要包括消费习惯、行为特征、个人数据等。企业可以通过收集这些信息去开展大数据分析，进一步挖掘用户的潜在消费能力和更_____的价值，从而为用户提供更具_____的服务。

依次填入划横线部分最恰当的一项是（ ）。

- A. 市场化 独创性 B. 多元化 针对性 C. 智能化 实用性 D. 规模化 多样性

23. 在音乐理论中，有所谓的“音乐的语言”；在语言形式美的理论中，应该_____有所谓“语

言的音乐”，_____音乐和语言不是一回事，_____二者之间有一个共同点：音乐和语言都是靠声音来表现的。

依次填入划横线部分最恰当的一项是（ ）。

- A. 也 尽管 但是 B. 还 虽然 但是
C. 也 不仅 而且 D. 还 不但 而且

24. 建设现代农业，要努力在提高粮食生产能力上_____新潜力，在优化农业结构上_____新途径，在转变农业发展方式上_____新突破。

- A. 发掘 开发 寻求 B. 挖掘 开发 寻找
C. 发掘 开辟 寻找 D. 挖掘 开辟 寻求

25. 互联网就是看待争议、弥合争议的窗口。观点_____、_____、_____，莫不投射其中，像极了一件布满裂纹却又浑然天成的钧瓷。

依次填入下列横线处的词语，最恰当的一组是（ ）。

- A. 交流 交锋 交融 B. 交锋 交融 交流
C. 交融 交流 交锋 D. 交流 交融 交锋

26. 如今，恶意制裁或屏蔽竞争对手软件，未经告知就修改用户默认设置、上传用户数据等类似事件的不断出现，已经在_____，如果互联网没有规则，互联网竞争不遵守规则，那必然是_____，并不断消耗中国互联网的创新能力，损害网民利益，阻碍互联网的发展。

依次填入下面横线处的词语最恰当的是（ ）。

- A. 警示 竭泽而渔 B. 预示 鹬蚌相争
C. 证明 寅吃卯粮 D. 昭告 作茧自缚

27. 在美国这样的商业社会里，无论他们抛出了多少关乎人文、情怀、精神的词藻，几乎所有艺术 与技术，_都是一门生意，即便是教主乔布斯和他的苹果也不例外。但这本身无可指责，也不_____这些公司和这些人缔造一个伟大的时代。

依次填入划横线部分最恰当的一项是（ ）。

- A. 自始至终 影响 B. 归根结底 妨碍
C. 无庸讳言 干扰 D. 理所当然 排斥

28. 随着人类生命的延长和对生活健康品质的个性化需求，制造业正在从以满足人类对交通和能源的需求向满足人类对生命健康的需求_____，人工关节、人工肝脏等的_____正是其中的典型代表。但不可否认的是，人工关节等产品仍存在着不可解决的缺陷，人类期待着制造出人造组织甚至人造器官，用以替换受损组织或器官。

依次填入划横线部分最恰当的一项是（ ）。

- A. 转变 崛起 B. 拓展 成功
C. 迁移 出现 D. 变化 更迭

29. 赵景深在《文心剪影》里说：“他（叶圣陶）的复信措辞谦抑，字迹圆润丰满，正显出他那_____而又诚实的心。”正如当年他主编《小说月报》曾精心培育了一大批后来成为新文学史上的著名作家时那样。他那_____的精神和工作态度，给予年轻一代的教育、鼓舞的力量是无法_____

的。

依次填入划横线部分最恰当的一项是（ ）。

- A. 谦卑 兢兢业业 估价
B. 谦和 公而忘私 估量
C. 正直 大公无私 衡量
D. 率真 孜孜以求 想象

30. 填入下列横线处的词语，最恰当的是（ ）。

科学家必须在_____的经验事实中抓住某些可用精密公式来表示的普遍特性，由此探求自然界的普遍原理。

- A. 偶发
B. 零散
C. 庞杂
D. 系统

31. 在食品安全治理上，公众监督很有必要。但从监督治理的_____来看，公众监督不应该成为监管部门卸责的借口，食品安全_____太多的专业领域，公众不是专家，不具有科学的_____手段和方法。

依次填入划横线部分最恰当的一项是（ ）。

- A. 路径 涉及 检测
B. 途径 涉及 检验
C. 途径 牵扯 检验
D. 路径 牵扯 检测

32. 以节俭清正_____奢靡之风，_____勤俭节约传统美德和“八项规定”保持质朴和勤俭的本色，刹住公款吃喝，规范接待标准，精简活动规模，杜绝浪费陋习，狠刹挥霍享乐和骄奢淫逸的不良风气。

- A. 克制 恪守
B. 克服 遵守
C. 克制 遵守
D. 克服 恪守

33. 政府的行为对社会行为有着重要的_____和示范作用，所以，政务诚信建设必须_____，并且要抓实抓好。

- A. 引领 快马加鞭
B. 指导 快马加鞭
C. 指导 一马当先
D. 引领 一马当先

34. 项羽，中国军事史上“实力派”和“勇战派”的代表人物，有着_____之勇。和汉高祖刘邦相比，更多人认为项羽是_____的英雄。

依次填入划横线处最恰当的一项是（ ）。

- A. 锐不可当 举世无双
B. 万夫不当 当之无愧
C. 无所畏惧 虚有其表
D. 威武不屈 独一无二

35. 想法或假说的产生，来源于研究者_____的思想，用来解释事物的成因，寻找或构造相关的_____，以便揭示所观察到的事实的真相。因而，假说完全有可能是_____的，知道这一点，养成产生想法时保留判断的习惯就非常重要。

依次填入划横线部分最恰当的一项是（ ）。

- A. 自由 证据 错误
B. 主观 定律 歪曲
C. 特别 学说 荒谬
D. 独立 理论 虚假

36. 通俗地说，暗物质就是宇宙中看不见的物质。有迹象表明，宇宙中还存在大量人们看不见的物质，它们不发出可见光或其他电磁波，用天文望远镜观测不到。但它们能产生万有引力，会对可见的物

质产生作用。暗物质中的“暗”，不仅在于其“没有正常物质的光谱”，还在于“人类对其的未知”。这段文字未涉及的是（ ）。

- A. 暗物质如何被发现
- B. 暗物质的基本特点
- C. 关于暗物质目前所知甚少
- D. 暗物质大量存在于宇宙之中

37. 机会分配不仅能对收入分配结果产生重要影响，而且会直接影响到社会的经济发展效率。在不公正的机会分配下，一些人会因为某些特殊原因而获得发展机会，但这些获得机会的人很可能缺乏利用发展机会从事社会劳动和创造的能力，这必然导致他们所从事的劳动或经营项目的生产效率在下降，进而影响到整个社会的经济发展效率。让真正有才华的人获得机会，把合适的人放在适合的岗位上，是经济体系健康运行的基础。只有实现机会平等，才能最大限度地激发社会活力和人的积极性、主动性、创造性，提高社会劳动生产率和生产力发展水平。

这段文字意在说明（ ）。

- A. 收入分配的差距主要由机会分配不平等造成
- B. 经济体系健康运行的标志是公平的机会分配
- C. 公平的机会分配有助于提高社会经济发展效率
- D. 机会分配是维护社会公平正义不可或缺的内容

38. 从政治经济到日常生活，从全球化到地区的复兴，从实用技术到话语表达所面对的诸多难题乃至危机，都与空间这一因素密切相关。这是以地震海啸灾难、边界武装冲突、房地产业的崩盘、道路拥堵以及空间竞争日趋激烈等多种形式表现出来的。

这段文字意在说明（ ）。

- A. 经济全球化带来很多空间危机
- B. 自然和人为空间危机日趋突出
- C. 如今空间变得越来越重要
- D. 人口增多带来很多空间问题

39. 在联合国人权理事会举行的第34次会议上，通过了关于“经济、社会、文化权利”和“粮食权”两个决议，决议明确表示要“构建人类命运共同体”。这是人类命运共同体重大理念首次载入人权理事会决议，标志着这一理念成为国际人权话语体系的重要组成部分。

最适合做这段文字标题的是（ ）。

- A. 人类命运共同体重大理念已成为国际人权话语体系的重要组成部分
- B. 人类命运共同体重大理念首次载入人权理事会决议
- C. 构建人类命运共同体势在必行
- D. 联合国人权理事会通过关于“经济、社会、文化权利”与“粮食权”决议

40. 有人疑问，古诗文默写在高考语文中占比不多，为什么要让学生花那么多时间去背？以“应试心态”对待传统文化，难免会产生“划不划算”的困惑。一位大学生如此回应：“背诵的许多内容已经忘记，但在诵读经典时，心灵受到的触动、激发的思考和从中汲取的养分，将受益终身。”我们重温那些代代相传的诗词文本，不是因为它们行将消失、即将毁灭，也不是因为我们忧思古人、恋旧复古，而是因为它们记述着我们民族所特有的精神追求、人文精神和智慧力量，是我们生生不息的文化滋养，是我们走向复兴的精神支撑。

这段文字意在强调（ ）。

- A. 我们需要从传统的文化原乡汲取精神力量
- B. 诗歌是古今一脉的文化印记
- C. 古诗文默写大有必要
- D. 诗心是个人的，而诗意是共同的

41. 在不同的时期，约有7000种植物和几百种动物被人类当作食物。物种的丧失将使食物的多样性减少，使人类仅仅依赖个别几种主要的食物，从而打破人们均衡的饮食结构。此外，随着森林、田野中物种的丧失可能导致某些病原体的增加，而这些病原体是有机体感染疾病的元凶。一些最有可能灭绝的动物、植物和微生物，实际上是传染病传播的“缓冲区”，它们在人类受到感染之前，代人类承担了许多疾病的侵袭。

下列说法与原文不符的是（ ）。

- A. 特有物种能够缓冲传染病的传播
- B. 生物多样性的丧失影响人类健康
- C. 物种的丧失危及人类食品的安全
- D. 物种多样性与疾病感染关系微妙

42. 钙需求的推荐量是根据人体每天从汗液、尿液等途径损失的钙量，同时考虑钙的吸收效率估算出来的。欧美国家的推荐标准是青少年每天1300毫克，成年人每天1000毫克，而老年人则是1200毫克。不过WHO/FAO联合专家组指出这个标准是基于欧美人群的，并不一定适用于其他地方。他们指出，钙的需求量受多种因素的影响，在骨折高发的人群中，应该每天摄入400~500毫克以上的钙来减轻骨质疏松，但是对于骨折发生率低的地方则没有推荐。相比于欧美人群，亚洲人的骨折发生率就比较低。如果要直接回答“我们到底需要多少钙”的话，答案是对于以植物性食物为主的中国人，还缺乏确切的科学数据。

下列选项最适合作文字标题的是（ ）。

- A. 中国人要不要补钙
- B. 一般人群要补多少钙
- C. 中国人要补多少钙
- D. 正常体质者要不要补钙

43. 国家终于出台政策，强调要保护文物，这是好事。中国的文物，经过革命和建设两大冲击之后，残存的已经不多了。从地表上看，中国已经变得比美国还要年轻，城市有一个算一个，比纽约还要纽约，建筑都是新的，钢筋水泥加大玻璃，广场街道，霓虹灯，每个城市都一个样。文物有吗？有，都在几个中心城市的博物馆里，在私人收藏家手里。然而，那里的东西，已经不是文物，只是脱离了文化背景的商品，就跟纽约大都会博物馆里的中国文物一样，只是观赏和拍卖的价值。

这段文字最想说明的是（ ）。

- A. 文物被收藏便不是文物是古玩
- B. 文物的文化价值才是永恒的
- C. 城市建设与文物保护相克相生
- D. 文物流失是中国文物保护之痛

44. 决定茶叶品质的主要是影响色泽的叶绿素，以及产生苦味、影响口感的茶多酚、氨基酸和一些酯类物质。春天时，由于太阳光不甚强烈，所以新长出的茶树叶芽需要产生更多的叶绿素来进行光合作用，自然也就显得更绿一些。而作为发育枝条尖端的部位，“建设”细胞所需的氨基酸和酯类物质都会聚集于此，由于温度的影响，这时细胞的生长发育会比较缓慢，因而大量的提供鲜味口感的氨基酸都被积累了下来。当然，代谢不紧不慢地进行，也让茶多酚这些次生代谢产物积累在一个适合的水平上，所以这时的茶叶口感最好。

这段文字主要介绍了（ ）。

- A. 决定茶叶口感的主要因素
- B. 氨基酸在茶树新陈代谢中的作用
- C. 春天新茶叶品质好的原因
- D. 温度和气候对于茶叶口感的影响

45. 研究人员的大脑镜像实验显示，厌食症患者大脑中负责协调情绪和负责制定计划并感知后果的两部分神经回路不平衡，导致面对食物时，这两部分神经回路会轮流控制患者的感官，使患者一方面饱受饥饿感的煎熬，一方面又因为觉得可能发胖而不敢进餐。

这段文字主要探讨了（ ）。

- A. 厌食症的生理成因
- B. 厌食症患者所受的痛苦
- C. 厌食症与恐惧心理的联系
- D. 厌食症患者表现出的症状

46. 人们在茶叶生产和消费过程中的约定俗成的行为模式，通常是以茶礼、茶俗以及茶艺等形式表现出来。如宋代诗人杜耒“寒夜客来茶当酒”的名句，说明来客敬茶是我国的传统礼节；千里寄茶表示对亲人的怀念；民间旧时行聘以茶为礼，称“茶礼”，送“茶礼”称“下茶”，古时谚语曰“一女不吃两家茶”，即女家受了“茶礼”便不再接受别家聘礼；还有以茶敬佛，以茶祭祀等等。至于各地、各民族的饮茶习惯便是异彩纷呈，各种饮茶方法和茶艺程式也如百花齐放，美不胜收。

这段文字主要介绍了（ ）。

- A. 古代诗词中的茶文化
- B. 与茶有关的民间习俗
- C. 饮茶的方法和茶艺花样繁多
- D. 不同地区的饮茶习俗各有千秋

47. 学习西方并没有错，但把西方视为“真理”则大错特错了，中国并不拒绝其他文明和价值，但中国文化本身必须成为主体。在学习西方过程中，因为没有中国的主体意识，中国文化就失去了自己的主体地位。问题在于，西方文化主导下的西方话语解释不了中国的一切。今天，越来越多的人已经意识到西方话语不能说明自己。但是，很少有人去创造，去发明。这种情况不改变，中国永远不会有自己的话语、自己的概念和自己的理论，当然更不用说是文化软实力了。

对这段文字的主旨概括最准确的是（ ）。

- A. 学习西方时应首先确立中国文化的主体地位
- B. 中西方文化都应有各自独立的价值体系
- C. 自身强大后才能在文化交流中掌握话语权
- D. 中西方交流中的文化创造或创新应另辟蹊径

48. 世人心灵深处均多少缺乏安全感，都有克服这种与生俱来的不安全感的需要，人们将这种由此形成的本能的渴望称之为“救赎”。西方文化反映了游牧民族先民的感受，因而当现有的水草用罄时，要找出路永远是寻求外在的绿洲。相反的，中国文化反映了大陆性农民祖先的感受，若今年收成不好，办法不外是就地从自我努力开始，譬如修筑灌溉管道、改进土壤与种子等等，以期来年的庄稼有质与量的增进。

这段文字意在说明（ ）。

- A. 形成东西方“救赎”观念差异的历史背景
- B. 东西方“救赎”观念的差异源于其文化内涵不同
- C. 东西方文化对“救赎”有着不同的认识
- D. 自我改良才是“救赎”的正确途径

49. ①手工艺和手工艺品能给人以美的享受，是人在自然与互动中产生的，是人类情感的表达，与艺术、信仰紧密相连，具有民族和地域特色，是人类历史文化延续的见证
②木雕、石雕、玉雕、面塑给人以美的愉悦；剪纸、刻纸、皮影、年画有丰富的文化内涵和艺术价值；造纸术和印刷术对文明的传承和传播起了极大的作用

③所有传统技艺均是人类的发明创造，它不只为人们简单的生活所需，更蕴含了人类的聪明才智和情感追求

④它所具有的民生价值、艺术价值、历史文化价值均是其传承价值所在 将

以上4个句子重新排列，语序正确的是（ ）。

- A. ③②①④ B. ①③②④ C. ①②④③ D. ③①②④

50. 淡水水螅具有超强的生存能力。它们不会衰老，随着年龄的增大，死亡率不会升高，繁殖能力也不会下降，即使身体被切成几段，它们也可以从一小段身体开始，重新长出完整的身体来。水螅能够永葆青春的奥秘在于：它身上的每一个细胞既是体细胞，也是生殖细胞。而对于大多数高等动物来说，_____。在长期的进化中，我们已经分化出了许多专职细胞，如神经细胞、肌细胞等，其实这种分工使我们的生存获得了巨大的优势。

填入划横线部分最恰当的一句是（ ）。

- A. 细胞的生殖功能和日常的生理功能是完全分开的
B. 衰老的过程是不可避免的
C. 机体本身并不具备再生能力
D. 细胞在生命不同阶段发挥的功能有所不同

三、数量关系

51. $\sqrt{2}$, 2, $\sqrt{7}$, $2\sqrt{3}$, $\sqrt{21}$, ()

A.

$\sqrt{38}$

B. 30

C. 6

D.

$5\sqrt{2}$

52. 143, 59, 25, 9, 7, ()

A. -2

B. -3

C. -4

D. -5

53. $\frac{1}{3}$, 1, 9, 243, ()

A. 19683

B. 19785

C. 19827

D. 19869

54. 2, 3, 10, 26, 72, ()

A. 124

B. 170

C. 196

D. 218

55. 1, 1, 2, 6, 24, ()

A. 86

B. 112

C. 120

D. 144

56. 某工厂有3条无人值守生产线a、b和c。a生产线每生产2天检修1天，b生产线每生产3天检修1天，c生产线每生产4天检修1天。2017年（不是闰年）元旦三条生产线正好都检修，则当年3月有多少天只有1条生产线保持生产状态？（ ）

A. 3

B. 4

C. 5

D. 6

57. 某商店促销，购物满足一定金额可进行摸球抽奖，中奖率100%。规则如下：抽奖箱中有大小相同的若干个红球和白球，从中摸出两个球，如果都是红球，获一等奖；如果都是白球，获二等奖；如果

A. 4

B. 5

C. 6

D. 7

68. $(2+1) \times (22+1) \times (24+1) \times (28+1) = ()$ 。

A.

$2^{15}-1$

B.

2^{15}

C.

$2^{16}-1$

D.

2^{16}

69. 五名工人按甲—乙—丙—丁—戊的顺序轮流值夜班，每人值班1天休息4天。某日乙值夜班，问再过789天该谁值班？（ ）

A. 甲

B. 乙

C. 丙

D. 戊

70. A、B、C三支施工队在王庄和李庄修路，王庄要修路900米，李庄要修路1250米。已知A、B、C队每天分别能修24米、30米、32米，A、C队分别在王庄和李庄修路，B队先在王庄，施工若干天后转到李庄，两地工程同时开始同时结束。问B队在王庄工作了几天？（ ）

A. 9

B. 10

C. 11

D. 12

71. 现有10张形状完全相同的卡片，上面分别标有1、2、3、4、5、6、7、8、9、10的数字，从中任取两张卡片，其上两数字之积为4的倍数的概率为（ ）。

A. $\frac{4}{9}$

B. $\frac{2}{5}$

C. $\frac{16}{45}$

D. $\frac{19}{45}$

72. 用一根绳子测量一口枯井的深度，如果绳子对折去量就多出4米，三折去量就多出1米，则该井的深度是（ ）。

A. 6米

B. 5米

C. 4米

D. 3米

73. 甲、乙、丙三人同去商城购物，甲花的钱的 $\frac{1}{2}$ 等于乙花的钱的 $\frac{1}{3}$ ，乙花的钱的 $\frac{3}{4}$ 等于丙花的钱的 $\frac{4}{7}$ ，结果丙比甲多花93元，则三人一共花的钱是（ ）。

A. 432元

B. 422元

C. 429元

D. 430元

74. 局长找甲、乙、丙三位处长谈话，计划与甲交谈10分钟，与乙交谈12分钟，与丙交谈8分钟。办公室助理通过合理调整三人交谈的顺序，使得三人交谈和等待的总时间最少。请问调整后的总时间为多少？（ ）

A. 46分钟

B. 48分钟

C. 50分钟

D. 56分钟

75. 枣园每年产枣2500公斤，每公斤固定盈利18元。为了提高土地利用率，现决定明年在枣树下种植紫薯（产量最大为10000公斤），每公斤固定盈利3元。当紫薯产量大于400公斤时，其产量每增加n公

斤将导致枣的产量下降0.2n公斤。问该枣园明年最多可能盈利多少元？（ ）

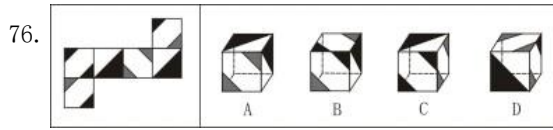
A. 46380

B. 46260

C. 46200

D. 46176

四、判断推理



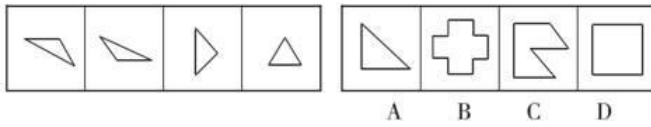
A. A

B. B

C. C

D. D

77.



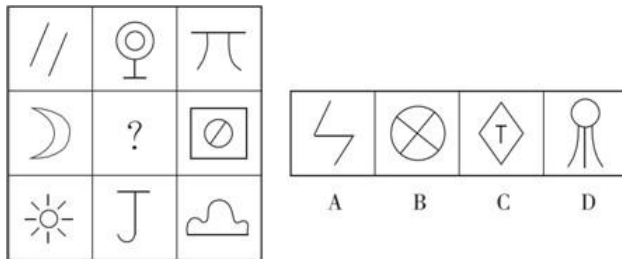
A. A

B. B

C. C

D. D

78. 从所给的四个选项中，选择最合适的一个填入问号处，使之呈现一定的规律性。



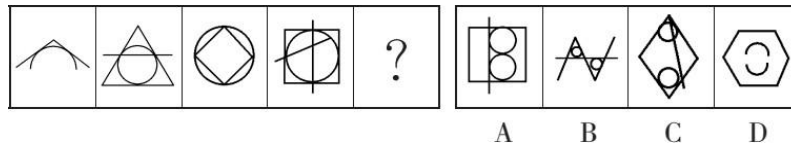
A. A

B. B

C. C

D. D

79. 从所给四个选项中，选择最合适的一个填入问号处，使之呈现一定规律性。



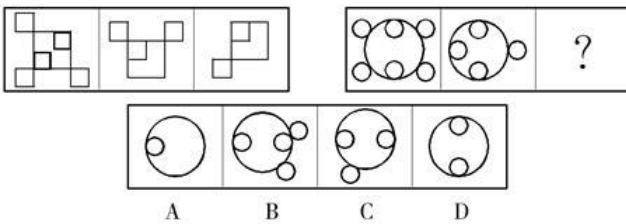
A. A

B. B

C. C

D. D

80. 从所给的四个选项中，选择最合适的一个填入问号处，使之呈现一定的规律性。



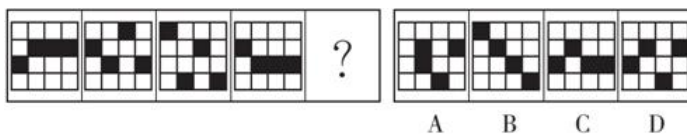
A. A

B. B

C. C

D. D

81. 下列选项中，符合所给图形变化规律的是（ ）。




A. A

B. B

C. C

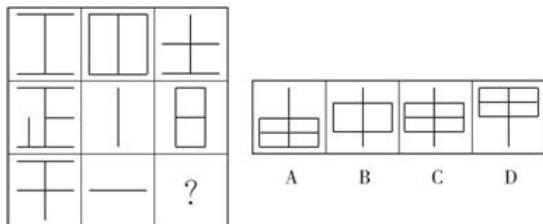
D. D

82. 从所给的四个选项中，选择最合适的一个填入问号处，使之呈现一定的规律性。



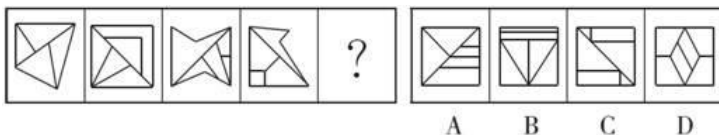
- A. A B. B C. C D. D

83. 从所给四个选项中, 选择最合适的一个填入问号处, 使之呈现一定的规律性。



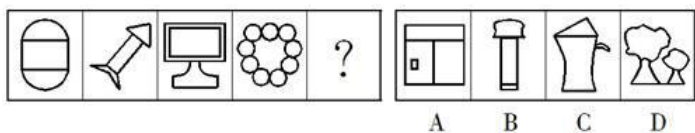
- A. A B. B C. C D. D

84. 从所给的四个选项中, 选择最合适的一个填入问号处, 使之呈现一定的规律性。



- A. A B. B C. C D. D

85. 从所给的四个选项中, 选择最合适的一个填入问号处, 使之呈现一定的规律性。



- A. A B. B C. C D. D

86. 西湖：太湖

- A. 都会：议会 B. 电脑：人脑 C. 男生：女生 D. 加法：除法

87. 竞争：淘汰

- A. 惊吓：失色 B. 疏忽：失算 C. 亏损：失信 D. 判断：失误

88. 汉文帝：刘恒：文景之治

- A. 宋太祖：赵匡胤：杯酒释兵权 B. 唐太宗：李世民：贞观之治

- C. 清圣祖：爱新觉罗·玄烨：康乾盛世 D. 秦始皇：嬴政：焚书坑儒

89. 衣服：衣领：衣袖

- A. 鱼：鱼头：鱼尾 B. 警察：刑警：交警

- C. 音乐：古典音乐：流行音乐 D. 人民币：美元：韩币

90. 计算：电脑

- A. 可乐：饮料 B. 热水：茶壶 C. 载货：货车 D. 火焰：灶台

91. 木雕：木材

- A. 硅藻：海水 B. 果盘：水果 C. 香椿：春天 D. 米线：大米

92. ◎◎~!!&~※&※

- A. &&~◎~◎!※!※ B. ~~&&※!!◎※◎

- C. ※※~&&!~◎!◎ D. !!◎※※◎~&~&

93. 摇头：反对

- A. 愤怒：心情 B. 手语：意思 C. 困乏：休息 D. 微笑：开心

94. 电脑：程序：功能

- A. 组织：机制：作用 B. 汽车：汽油：路程 C. 环境：意识：保护 D. 纸张：印刷：书本

95. 家用电器：洗衣机

- A. 游戏厅：游戏机 B. 台式电脑：笔记本 C. 交通工具：大巴车 D. 北京大学：中文系

96. 学校工会举办“教工好声音”歌唱比赛，赛后参赛者们预测比赛结果。张

老师说：“如果我能获奖，那么李老师也能获奖。”

李老师说：“如果我能获奖，那么刘老师也能获奖。”

刘老师说：“如果田老师没获奖，那么我也不能获奖。”

比赛结果公布后发现，上述三位老师说的都对，并且上述四位老师中有三位获奖。由

此可以推出没有获奖的是（ ）。

- A. 张老师 B. 李老师 C. 刘老师 D. 田老师

97. 小明每个周末都要去校外上英语补习班，小强从来没有上过英语补习班。结果，这次期末考试，小明和小强的英语成绩分别为95分和55分。因此，小明的英语成绩比小强好的原因是由于上了校外补习班。

以下各项如果为真，最能削弱上述论断的是（ ）。

- A. 英语补习班的老师教学不太认真
B. 小红和小明同时上了英语补习班，她这次英语考了80分
C. 上次英语考试，小明和小强的英语成绩分别为99分和39分
D. 小刚也没有上过英语补习班，他这次英语考了80分

98. 某次学术会议，主席台（只有一排）需要安排赵、钱、孙、李、周、吴、郑和王8位嘉宾就坐。按照自左至右的顺序，座位安排有下列要求：

- (1) 赵或者钱安排在最左边；
- (2) 郑不要安排在最右边；
- (3) 孙安排在李的左边，他们中间隔一位嘉宾；
- (4) 周安排在吴的左边，他们中间隔二位嘉宾；
- (5) 王安排在李和吴的右边。

108. 以下哪项是可能的？（ ）

- A. 赵第一，郑第八 B. 钱第五，王第八 C. 李第三，吴第七 D. 周第二，孙第三

99. 有甲、乙、丙、丁四人，如果甲炒股，那么乙、丙、丁也都炒股。

如果上述断定为真，那么以下哪项也一定为真？（ ）

- A. 如果甲没有炒股，那么乙、丙、丁也没有炒股
B. 如果甲没有炒股，那么乙、丙、丁中至少有一人没有炒股
C. 如果乙、丙、丁都炒股，那么甲也炒股
D. 如果丁没有炒股，那么甲和乙至少有一人没有炒股

100. 某人因为心理疾病尝试了几种不同的心理疗法：精神分析疗法、认知行为疗法以及沙盘游戏疗

法。他说：“心理治疗过程让我非常不快乐，因此，这些疗法是无效的。” 以

下哪项如果为真，将最有力质疑上述的结论？（ ）

- A. 几种不同心理疗法所针对的心理疾病是不同的
- B. 尝试多种心理疗法的人要比只尝试一种疗法的人快乐
- C. 同时尝试不同心理疗法能够更容易找到可以起作用的方法
- D. 治疗效果好的人在治疗过程中往往感觉不快乐

101. 在人们的印象中，生物燃料是一种可再生的绿色能源，而最新公布的研究成果颠覆了人们的这一传统印象。研究人员发现，生物燃料可能因其未完全燃烧而转化为乙醛，进而污染空气，这种污染会导致M国每年有1400人早亡。因此，有M国医疗机构人员认为现阶段应该暂缓推广生物燃料，限制其使用。

以下哪项如果为真，会对医疗机构人员的观点提出最有力的质疑？（ ）

- A. 现阶段M国科学家已研制出使生物燃料充分燃烧的新技术
- B. 目前M国正在使用的其他燃料的污染每年会导致超过3000人早亡
- C. 石油等传统燃料已经得到技术改善，由燃料所带来的污染大幅降低
- D. 科学家预计，随着研究工作的推进，5年后新型生物燃料将不会再产生乙醛

102. 王涛的好朋友都喜欢歌手周某的歌。王涛在某咨询公司工作的同学都不喜欢歌手周某的歌。丽莎既是王涛的同学，也是他的好朋友，米蓝是王涛的同学但不在该咨询公司工作，贺宇是王涛的同学但不喜欢歌手周某的歌。

根据以上陈述，一定可以得出以下哪项？（ ）

- A. 米蓝喜欢歌手周某的歌
- B. 王涛不在该咨询公司工作
- C. 贺宇在该咨询公司工作
- D. 丽莎不在该咨询公司工作

103. 俄罗斯某研究机构的调查结果显示，在处理乌克兰危机过程中，俄罗斯总统普京的支持率稳步上升，并且在三月中旬克里米亚加入俄罗斯时达到普京执政以来的新高。

以下哪一项陈述最准确地解释了上述现象？（ ）

- A. 在国内民众中支持普京以强硬手段解决乌克兰危机的人多于不支持的人
- B. 在普京以强硬手段解决乌克兰危机后，先前不支持他的人现在转而支持他
- C. 在乌克兰发生危机之前，支持普京的人现在仍然继续支持他
- D. 普京以强硬手段解决乌克兰危机是其支持率飙升的唯一原因

104. 某医院所有的医生都是男性，所有的护士都是女性，所有的已婚者都是护士，医务室主任尚未结婚。

从以上论述可以推导出（ ）。

- A. 医务室主任是男性
- B. 已婚者中有男性
- C. 护士中可能有未婚者
- D. 医生中有的已经结婚

105. 在某公司中，李明帮助了王刚，而王刚帮助了赵贤。李明纳税比赵贤多。由此可以推出（ ）。

- A. 王刚纳税比赵贤多
- B. 李明纳税和王刚一样多
- C. 有人帮助了一个纳税比他少的人
- D. 有人帮助了一个纳税比他多的人

106. 军事上的电子欺骗指的是利用电子设备对己方的相关信息进行伪装或者虚假模拟，欺骗敌方的电子侦察，使敌方对己方部署、作战能力和作战企图等产生错误判断，从而达到迷惑和扰乱敌方的目的。

根据上述定义，下列涉及电子欺骗的是（ ）。

A. 军事演习时蓝军故意丢失伪造的电子作战地图，佯装泄露己方情报

B. 某国将无人机藏匿于敌国领空，冒充敌国领导人编制、发布虚假命令

C. 二战中盟军虚设了一个司令部，用通讯设备源源不断地发送各种“指挥命令”

D. 驻扎在太平洋小岛的某部为其计算机系统设置了数量庞大的仿真数据库

107. 订单式培养：指用人单位提出用人申请后，由劳动保障部门委托培训机构根据用工需求组织实施的明确就业岗位去向的人才培养模式。

下列属于订单式培养的是（ ）。

A. 某职业技术学院调研后发现，烹饪即将成为未来数年的紧俏职业，当年就开设了烹饪专业，果然，毕业生很抢手，很多餐饮名店都登门签约

B. 某民办托儿所急需几名保育员，主管部门接到申请后马上找到一家资深代培机构组织培训，几名合格的保育员很快到岗

C. 某市每年都会根据各乡镇上报的用人需求，在全省高校中聘请一批科研人员，然后分派到各地担任科技副镇长

D. 某物业公司最近被多个小区选中，需要补充大批保安，为了顺利接手各个小区的安保工作，公司急招了数十名新手，正委托专业保安公司强化培养

108. 大气污染物分为一次污染物和二次污染物。从污染源排放到大气后，直接污染空气称一次污染物，主要有二氧化硫、一氧化碳、氮氧化物、二氧化氮、颗粒物（飘尘、降尘、油烟等）、氮气及含氧、氮、氯、硫有机化合物以及放射性物质等。二次污染物是由于阳光照射污染物，排入环境中的一次污染物在物理、化学因素或生物的作用下发生变化，或与环境中的其他物质发生反应所形成的物理、化学性状与一次污染物不同的新污染物。

根据上述定义，下列没有提及二次污染物的是（ ）。

A. 火山爆发喷出的二氧化硫与大气中的氧结合会形成硫酸雾或硫酸盐气溶胶，引起环境酸化，后者还会通过直接或间接辐射强迫作用影响气候变化

B. 颗粒物质是漂浮在大气中的固体和液体微粒，颗粒物质能散射和吸收阳光，使可见度降低，影响交通，增加汽车与航空事故

C. 工业生产排放出的氮氧化物和乙醛会发生光化学反应生成过氧乙酰硫酸酯，该物质强烈刺激眼睛，会引起呼吸困难、心功能障碍和肺功能衰竭等一系列症状

D. 汽车发动机排放的污染物中的氮氧化物和碳氢化合物，经阳光照射，在大气中形成光化学烟雾，对人类呼吸系统产生极大危害

109. 防御商标，是指知名商标的所有人在该注册商标核定使用的商品（服务）或类似商品（服务）以外的其他不同类别的商品或服务上注册的若干相同商标，为防止他人在这些类别的商品或服务上注册使用相同的商标，原商标为主商标，其余为防御商标。通过注册防御商标，商标所有人可以防止他人借

用知名商标品牌的影响力“搭便车”，获取不正当竞争的利益。

根据上述定义，下列各项中的商标所有人可以通过注册防御商标的方式保护相关权利的是（ ）。

A. 某演艺公司旗下的艺人里奇是国内知名的实力派演员，近期某药业公司注册了“里奇”商标，作为其生产的药品和医疗器械的商标来使用

B. 某运动品生产企业拥有“SKALA69”知名商标，近期发现有厂商在其生产的篮球鞋上使用“SKALA69”商标，以冒充该企业的产品进行销售

C. 某日用品生产企业拥有“丝净”知名商标，用于其生产的洗手液、洗发水等产品，近期发现有厂商也在其生产的日化品中使用“丝净”商标

D. 某网络公司拥有“度度”著名商标，近期某餐饮公司注册“度度烤肉”商标开设多家烤肉店，令许多消费者误以为是该网络公司在多元化经营

110. 分布式能源系统是指各种集成或单独使用、靠近小型用户、容量范围在几千瓦到50兆瓦的模块化发电装置，其与能源管理和储存系统相结合，用于改善输电系统的运行。

根据上述定义，下列不属于分布式能源系统的是（ ）。

A. 在医院附近设立模块化发电设备，保证医院供电稳定

B. 在工业园区附近设置发电装置，以防电网崩溃影响生产

C. 在社区附近设立发电装置，以防用电高峰期时电力不足而跳闸

D. 在便利店里面放置千瓦以内的小型发电机，以便在停电时应急

111. 心理学家认为，在一般情况下，人们都不愿接受较高较难的要求，因为它费时费力又难以成功，相反，人们却乐于接受较小的、较易完成的要求，在实现了较小的要求后，人们才慢慢地接受较大的要求，这就是“登门槛效应”。

根据上述定义，下列不符合登门槛效应的是（ ）。

A. 某推销员总是仔细地记录客户的需求，并定期向他们宣传新产品

B. 先请居民在赞成安全行驶的请愿书上签字，几周后再向他们提出在自己房前竖立“小心驾驶”的语牌

C. 某高中的班主任不忽视学生的每一点进步，并帮助他们制定短期目标，促使他们考上理想的大学

D. 一位百米长跑冠军说：“我将10000米分成10段。每段我都保持了领先，所以赢得了胜利。”

112. 激情群体是指一种临时性的、高效率的，往往为某项富有挑战性的工作而临时组建的工作群体。

根据上述定义，下列属于激情群体的是（ ）。

A. 某画家发起、多位画家一起聚居的创意和设计社区

B. 某人因见义勇为而受伤的事迹感动了网友，数位网友发起募捐活动

C. 为尽快完成多品牌战略规划，某汽车公司集结了公司内数名专家组成项目组

D. 数十名自行车爱好者组成骑车团队，相约在某个周末从上海骑自行车去苏州

113. 菜单成本指的是商家调整产品价格而产生的成本。

根据上述定义，下列选项属于菜单成本的是（ ）。

- A. 某百货公司进行店面装修，为此提高部分商品价格，转嫁开支
 B. 某手机生产商下调产品价格，销量大增，为此对生产线进行扩建
 C. 某汽车生产商对某车型进行升级后，提高了该车型的市场售价
 D. 某保险公司增加险种，受到顾客欢迎，但因此理赔成本也增加了

114. “创新”作为严格的经济学概念，特指企业以新产品、新服务、新市场、新的管理和商业模式 获取利润的行为。

根据上述定义，下列不属于经济学概念中的“创新”的是（ ）。

- A. “蛟龙号”载人潜水器的深潜核心技术
 B. 某菜农在网上销售自家大棚的蔬菜
 C. 某供销社的“三创三先”为农服务新模式
 D. 马云创办的阿里巴巴旗下的“淘宝网”

115. 破坏交通设施罪是指故意破坏正在使用中，或者已经交付的轨道、桥梁、隧道、公路、机场、 航道、灯塔、标志，或者进行其他破坏活动，使火车、汽车、电车、船只、航空器发生倾覆、毁坏危 险，足以危害公共安全的行为。

根据上述定义，以下行为不构成破坏交通设施罪的是（ ）。

- A. 李某和王某为获取经济利益，窃取某市多个路口的交通护栏、导向标志牌、红绿灯设施后进行变 卖
 B. 张某因为航班延误，导致生意损失极大，在恼怒之际不顾安全人员阻拦，冲进机场跑道，击碎机 场跑道指示灯
 C. 孙某担心自己下岗，经过计划，在同乡的帮助下，私自卸下数根铁轨，自己再去阻拦火车，制造 立功表现的假象
 D. 小严是某建筑工程集团的工程师，由于与公司存在劳资矛盾，故意在大桥施工过程中使用劣质水 泥材料，暗中降低大桥承重能力

五、 资料分析

2011年底，全国共有乡镇综合文化站34139个，平均每站面积由2006年的277.01平方米，增长到2011年的516.38平方米，平均每站文化活动用房面积由2006年的175.49平方米增长到2011年的391.00平方米。

2006~2011年，每年乡镇综合文化站从业人员和专职人员增长比例均保持在5%左右。2011年底，全国乡 镇综合文化站从业人员78148人，专职人员52718人。

2011年，全国各级财政对乡镇综合文化站的财政拨款达到42.76亿元，比2006年增加31.84亿元，增幅高 达291.6%，年均增长28.6%。各级财政对乡镇综合文化站的投入占全国文化事业总投入的10.9%，占群众 文化投入的41.1%，分别比2006年提高4.0个百分点和7.3个百分点。

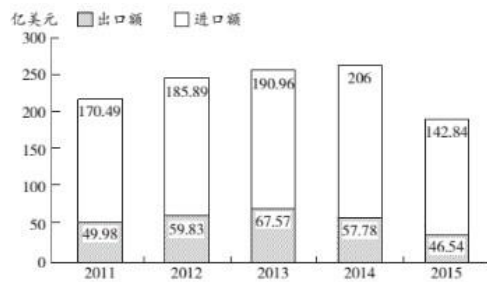
2011年，全国乡镇综合文化站共组织文艺活动32.64万次，比2006年增长20.0%；举办训练班15万次，比 2006年增长26.8%；培训人次1232万人次，比2006年增长230%。

2011年底，全国乡镇综合文化站共指导群众业余文艺团队154799支，辖区内社区（村）文化活动室 360649个。

116. 2011年底，全国乡镇综合文化站总面积约为多少万平方米？（ ）

- A. 1763
 B. 1335
 C. 946
 D. 599

2011~2015年全省进出口总额



2016年对外贸易情况表

指标	1~12月	
	绝对量 (万美元)	增速 (%)
海关进出口总值	1844246	-2.3
出口总值	420568	-8.8
国有企业	98058	-20.2
外商投资企业	134248	-4.0
集体企业	1395	-12.1
私营企业	185970	-5.1
进口总值	1423678	-0.2
国有企业	447697	0.3
外商投资企业	799532	0.4
集体企业	5372	46.5
私营企业	159282	-4.5

126. 以下各项中, 该省净进口贸易总额数值最小的年份是 ()。
- A. 2015 B. 2011 C. 2012 D. 2014
127. 根据图表, 该省出口额占进出口贸易总额的比重最大的年份是 ()。
- A. 2013 B. 2016 C. 2015 D. 2014
128. 下列企业中, 2016年该省海关进出口差额最大的是 ()。
- A. 国有企业 B. 私营企业 C. 集体企业 D. 外商投资企业
129. 2016年该省外商投资企业进出口总值占海关进出口总值的比重约为 ()。
- A. 53.21% B. 51.17% C. 50.63% D. 49.07%
130. 根据材料, 以下说法错误的一项是 ()。
- A. 2011~2015年, 该省的进出口贸易总额的变化趋势是先增后减
- B. 2016年该省私营企业出口总值增速最快
- C. 2012年该省的进口额净增长大于2015年该省的进口额净增长
- D. 2015年该省进口额的同比增长率为-30.66%