

目 录

【真题试卷】

2015 年中央、国家机关公务员录用考试《行政职业能力测验》试卷(省部级)	3
2014 年中央、国家机关公务员录用考试《行政职业能力测验》试卷	30
2013 年中央、国家机关公务员录用考试《行政职业能力测验》试卷	56
2012 年中央、国家机关公务员录用考试《行政职业能力测验》试卷	82
2011 年中央、国家机关公务员录用考试《行政职业能力测验》试卷	109

【参考答案及解析】

2015 年中央、国家机关公务员录用考试《行测》参考答案及解析	136
2014 年中央、国家机关公务员录用考试《行测》参考答案及解析	148
2013 年中央、国家机关公务员录用考试《行测》参考答案及解析	161
2012 年中央、国家机关公务员录用考试《行测》参考答案及解析	176
2011 年中央、国家机关公务员录用考试《行测》参考答案及解析	189

【考情分析】

历年国家公务员考试《行测》真卷分析	200
-------------------------	-----



2015 年中央、国家机关公务员录用考试试卷（省部级）

《行政职业能力测验》

说 明

本测验卷共有五个部分，135道题（其中地市级为130题，数学运算少5题，常识判断更换5题，其他题目均相同），总时限为120分钟。各部分不分别计时，但都给出了参考时限，供你参考以分配时间。

请在题本、答题卡上严格按照要求填写好自己的姓名，填涂准考证号。

请仔细阅读下面的注意事项，这对你获得成功非常重要：

1. 题目应在答题卡上作答，在题本上作答的一律无效。
2. 监考人员宣布考试开始时，你才可以开始答题。
3. 监考人员宣布考试结束时，你应立即停止答题，将题本、答题卡和草稿纸都翻过来留在桌上，待监考人员确认数量无误，允许离开后，方可离开考场。

如果你违反了以上任何一项要求，都将影响你的成绩。

4. 在这项测验中，可能有一些试题较难，因此你不要在一道题上思考时间太久，遇到不会答的题目，可先跳过去，如果有时间再去思考。否则，你将可能没有时间完成后面的题目。

5. 试题答错不倒扣分。
6. 特别提醒你注意，涂写答案时一定要认准题号。
7. 严禁折叠答题卡。

第一部分 常识判断

(共20题，参考时限15分钟)

根据题目要求，在四个选项中选出一个正确答案。

其中【地市级】1、8、10、12、14这5题有所更换。

请开始答题：

1. 2014年是第二次世界大战爆发75周年，3月28日，国家主席习近平在德国科尔伯基金会发表演讲，谈到二战时引用到的名言是（ ）。

- A. 谁忘记历史，谁就会在灵魂上生病
- B. 胜利不会向我走来，我必须自己走向胜利
- C. 历史的道路不是涅瓦大街上的人行道，它完全是在田野中前进的
- D. 世界上最宽阔的是海洋，比海洋更宽阔的是天空，比天空更宽阔的是人的胸怀

2. 关于我国农村三级卫生服务网络，下列说法正确的是（ ）。

- A. 主要承担预防保健、基本医疗、健康教育、计生指导等任务
- B. 包括乡镇卫生院、村卫生室和家庭自我保健
- C. 以让农民“看病不出乡镇”为发展目标
- D. 以乡镇卫生院为基础

3. 根据生产要素在各产业中的相对密集度，可以将产业划分为不同类型。下列对应错误的是（ ）。

- A. 土地密集型产业——畜牧业、采掘业
- B. 劳动密集型产业——钢铁业、化工业
- C. 技术密集型产业——微电子工业、现代制药业
- D. 资本密集型产业——重型机械工业、电力工业

4. 下列说法错误的是（ ）。

- A. 成语“南橘北枳”是与晏婴出使楚国有关
- B. 苏武牧羊的地点在今天的贝加尔湖一带
- C. 东汉使者班超同时也是《汉书》的作者
- D. 西汉张骞与唐代鉴真出行的方向不同

5. 关于现代武器，下列说法错误的是（ ）。

- A. 追击炮通常配属装甲兵使用
- B. 陆军航空兵以直升机为主要装备
- C. 洲际弹道导弹是目前射程最远的导弹
- D. 驱逐舰具有防空、反潜和对地攻击的综合作战能力

6. 关于我国政府信息公开，下列说法错误的是（ ）。

- A. 行政机关对政府信息不能确定是否可以公开时，应不公开

- B. 公民可以根据自身生产、生活和科研等特殊需要申请政府信息公开
- C. 行政机关逾期不答复公民申请信息公开的，公民可依法提起行政诉讼
- D. 县级以上各级人民政府的办公厅(室)可以作为本级政府信息公开工作的主管部门

7. 下列哪种情形最可能实行一审终审？（ ）

- A. 基层人民法院审理被告提出反诉的买卖合同纠纷案件
- B. 基层人民法院审理夫妻双方争夺子女抚养权的离婚案件
- C. 中级人民法院审理在本辖区有重大影响的合同纠纷案件
- D. 基层人民法院审理权利义务关系明确的租赁合同纠纷案件

8. 下列关于地理位置的描述与城市之间对应关系错误的是（ ）。

- A. 北通汝洛，西带秦蜀，南遮湖广，东瞰吴越——襄阳
- B. 东压江淮，西挟关陇，北通幽燕，南系荆襄——南京
- C. 南抚百越，北望中洲，据五岭之要会，扼赣闽粤湘之要冲——赣州
- D. 居浙江之上游，控鄱阳之肘腋，制闽越之喉吭，通宣歙之声势——衢州

9. 下列语句按出现时间先后排序正确的是（ ）。

- ①劳心者治人，劳力者治于人
- ②少年富则国富，少年强则国强
- ③苟全性命于乱世，不求闻达于诸侯
- ④业精于勤，荒于嬉；行成于思，毁于随

- A. ③①④②
- B. ③②①④
- C. ①③④②
- D. ①②③④

10. 下列选项所描述的对象，哪一项与其他三项不同？（ ）

- A. 挥毫掣电，随手万变
- B. 池墨泼飞云，紫毫挥广宇
- C. 湖光秋月两相和，潭面无风镜未磨
- D. 恹恹如闻神鬼惊，时时只见龙蛇走

11. 下列哪组成语反映了同一种人际关系？（ ）

- A. 琴瑟和鸣 破镜重圆
- B. 负荆请罪 载舟覆舟
- C. 结草衔环 青梅竹马
- D. 相濡以沫 舐犊情深

12. 话说当时住持真人对洪太尉说道：“太尉不知，此殿中当初是祖老天师洞玄真人传下法符，嘱咐道：‘此殿内镇锁着三十六员天罡星，七十二座地煞星，共是一百单八个魔君在里面。上立石碑，凿着龙章凤篆天符，镇住在此。若还放他出世，必恼下方生灵。’如今太尉放他走了，怎生是好？”关于这段文字所属著作，下列说法正确的是（ ）。

- A. 是我国古代著名的长篇神魔小说
- B. 其作者与曹雪芹生活在同一时期
- C. “白帝城托孤”是书中的一个情节
- D. 以北宋末年为故事背景

13. 一跨国企业计划7月份在全球两个大城市同期举办大型室外活动。为避免降雨影响活动效果，选择下列哪两个城市最为合理？（ ）

- A. 北京和纽约
- B. 东京和马德里
- C. 上海和伦敦
- D. 罗马和洛杉矶

14. 日常生活中经常可以依靠动物的某些行为预判天气。下列对应正确的是（ ）。

- A. 麻雀囤食——雨天
B. 蚂蚁垒窝——晴天
C. 蜻蜓低飞——雨天
D. 龟背冒“汗”——晴天

15. 下列唐诗所描写的内容与对应的体育项目不相符的是（ ）。

- A. 御马牵来亲自试，珠球到处玉蹄知——马球
B. 杨桴击节雷阗阗，乱流齐进声轰然——游泳
C. 壮徒恒贾勇，拔拒抵长河——拔河
D. 上弦明月半，激箭流星远——射箭

16. 下列情境不可能发生在19世纪的是（ ）。

- A. 杰克打电话约玛丽一起去看电影
B. 史蒂芬逊乘火车到斯托克顿旅行
C. 约翰乘电梯登大楼楼顶拍照留念
D. 汤姆通过广播收听葛底斯堡演说

17. 对下列诗词蕴含的化学原理解释错误的是（ ）。

- A. 蜡炬成灰泪始干——烃类的不完全燃烧
B. 爆竹声中一岁除——爆炸产生二氧化硫
C. 日照香炉生紫烟——多环芳香烃的升华
D. 洪炉照破夜沉沉——燃烧释放二氧化碳

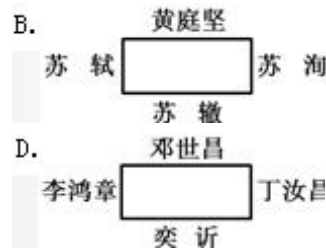
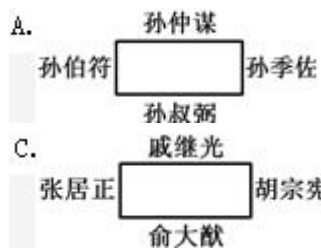
18. 下列俗语与对应的成语，二者本意所指属于同一物理现象的是（ ）。

- A. 宝剑锋从磨砺出——百炼成钢
B. 酒香不怕巷子深——近朱者赤
C. 小小秤砣压千斤——举重若轻
D. 近水楼台先得月——海市蜃楼

19. 关于生活常识，下列说法错误的是（ ）。

- A. 吃松花蛋时佐以食醋，是为了减少松花蛋的涩味
B. 电灯泡中加入少量红磷，是为了防止灯丝氧化
C. 纯碱使馒头稀松多孔，是因为化学反应产生二氧化碳
D. 千滚水不宜饮用，是因为其中的细菌含量会大大增加

20. 中国古代在“室”内举办宴会，座位以西为尊，北次之，南再次之，东最次，按“上北下南，左西右东”的方位，下列宴会座位安排符合礼法的是（ ）。



第二部分 言语理解与表达

(共40题，参考时限35分钟)

本部分包括表达与理解两个方面的内容。请根据题目要求，在四个选项中选出一个最恰当的答案。

请开始答题：

21. 交流是复杂的艺术，有声语言并不是表达意义的唯一方式，辅以动作和面部表情，可以使表达生动形象，也折射出历史和文化智慧的光芒。各民族间的形体语言，有的形式和意义相同(如握手致意)，有的虽然形式相同，意义却_____。如果不能正确解读就可能产生误会，甚至引起严重的后果。

填入划横线部分最恰当的一项是()。

- A. 南辕北辙 B. 针锋相对 C. 截然相反 D. 纷繁复杂

22. 从统计学角度看，用平均数指标反映趋势虽精确敏感，但也有其致命弱点，尤其是平均数的“_____”，很容易掩盖个体之间的差异。

填入划横线部分最恰当的一项是()。

- A. 以管窥天 B. 削峰填谷 C. 大而化之 D. 等量齐观

23. 定义的使命是抽象、概括出某类事物的本质特征。当定义概括不了时，本应修正定义，而有人却常常“开除”那些概括不了的同类事物，以维护定义的纯洁性，这无疑是_____。

填入划横线部分最恰当的一项是()。

- A. 指鹿为马 B. 削足适履 C. 自欺欺人 D. 掩耳盗铃

24. 对于家长们来说，能够和孩子一起参与其中，亲身_____到孩子的进步，是一次难得的亲子活动经历。同时，他们也可以在训练营中受到_____，得到一些教育的灵感。

依次填入划横线部分最恰当的一项是()。

- A. 感触 启示 B. 感悟 启蒙 C. 感受 启发 D. 感觉 启迪

25. 缺乏必要的试错机制，很多政府部门和领导干部对改革创新都心存_____情绪，“不求有功，但求无过”，导致改革创新动力普遍不足。以此来看，_____“改革失败”的责任，创造一个宽容的创新环境，才能让更多的政府部门和官员“甩开膀子”谋改革、搞创新。

依次填入划横线部分最恰当的一项是()。

- A. 畏难 豁免 B. 紧张 宽恕 C. 侥幸 淡化 D. 抵触 忽略

26. 过去，城市规模基本上是由政策决定的。如果把城市当作一个_____的系统，它的吞吐、消耗以及内部运转，所有的生态流是完全能够定量计算的。我们的城市设计，必须跟周围的生态环境形成良好的共生关系，与其生态承载力相_____，根据周围生态承载力确立城市规模，才是科学态度。

依次填入划横线部分最恰当的一项是()。

- A. 循环 支持 B. 封闭 匹配 C. 机械 符合 D. 动态 平衡

27. 广义相对论发表以来，一直是最成功的引力理论，已经_____了无数次的天文观测和各种实验的检验。但是几乎所有这些都是弱引力场下，检验爱因斯坦引力和牛顿引力的微小差别。如果想使

爱因斯坦引力的效应比较明显，则需要在强引力场中才能发生，而这方面的检验还是非常_____的。

依次填入划横线部分最恰当的一项是（ ）。

- A. 经历 罕见 B. 经过 需要 C. 通过 迫切 D. 经受 缺乏

28. 网络主权概念的提出，意味着国家行使主权去维护网络安全，但网络空间的特殊性决定了政府作用有限。政府决策者应关注如何在维护网络主权的同时_____互联网行业的健康发展，并且在维护网络主权与行业发展之间寻求恰当的_____。

依次填入划横线部分最恰当的一项是（ ）。

- A. 保证 平衡 B. 保护 转换 C. 保障 立场 D. 保持 时机

29. 我国高校每年有数万项科研成果通过验收，其中有30%以上的成果被鉴定为“国际首创”“国际领先”或者“填补了国内空白”。_____的是，这些成果中只有极少一部分转化为实际生产力，大部分成果只能“沉睡”在实验室和书斋中，高校科技研究成果推广_____。

依次填入划横线部分最恰当的一项是（ ）。

- A. 可悲 难以为继 B. 遗憾 步履维艰
C. 可惜 寸步难行 D. 无奈 一筹莫展

30. 作为全国最高的货币管理机构，央行独具优势，颇有“惯看秋月春风”的_____，由此而一展“任凭风浪起，稳坐钓鱼台”的“定力”是毫无疑问的。不过，一旦说到“精准发力”，央行究竟是为了稳定预期，还是真的自信能“精确打击”，倒是值得_____一番的。

依次填入划横线部分最恰当的一项是（ ）。

- A. 气度 琢磨 B. 气概 捉摸 C. 气质 期待 D. 气派 商榷

31. 我们随时都处在各种健康“小贴士”狂轰滥炸的包围中。但其实，并非所有的健康建议都有扎实的科学研究来_____。《新科学家》网站近日为我们破除了我们耳熟能详且奉为_____的6大健康“迷信”。

依次填入划横线部分最恰当的一项是（ ）。

- A. 检验 信条 B. 验证 准则 C. 支持 圣旨 D. 支撑 圭臬

32. 装在司机座位上的这个系统可以在司机疲劳驾驶的时候，发出_____或者自动刹车。此外，这个系统不但可以提醒车辆被盗，还可以通过_____到的数据识别出盗贼的身份。

依次填入划横线部分最恰当的一项是（ ）。

- A. 警戒 采集 B. 警报 汇集 C. 警示 收集 D. 警告 搜集

33. 发展经济并没有错，有效利用文化资源带动当地社会发展也是很好的尝试。但倘若不论真伪，抑或不顾文化自身的形态，_____、强行落地，旅游未必能够发展起来，反而可能_____。它所反映出来的，恰恰是对文化缺乏认识，对建设缺乏创新的“啃古”心态。

依次填入划横线部分最恰当的一项是（ ）。

- A. 牵强附会 劳民伤财 B. 曲意逢迎 适得其反
C. 偷梁换柱 进退维谷 D. 附庸风雅 无所适从

34. 现代人对微信_____不已，及至几乎不能有一朝一夕的分离，与其说是微信的功能强大，不如将之理解成空虚寂寞冷的人们，需要某种精神层面的_____。

依次填入划横线部分最恰当的一项是（ ）。

- A. 崇拜 皈依 B. 痴狂 抚慰 C. 眷恋 寄托 D. 痴迷 慰藉

35. 天气预报看似很_____，只有寥寥几句话，但实际上，要做出_____的天气预报，工程量非常大。而且，气象是一个大环境，大气运动本身又_____，这是天气预报有时不准确的根本原因所在。

依次填入划横线部分最恰当的一项是（ ）。

- A. 轻松 准确 无迹可寻 B. 平常 精密 变幻莫测
C. 普通 精确 难以捉摸 D. 简单 精准 错综复杂

36. 尽管环境保护任务艰巨，但却迫在眉睫，不容_____。经济发展与环境保护不是对立的关系：一方面，经济发展一定要以环境的_____能力为基础；另一方面，环境保护_____的是粗放型的发展模式，不会阻碍经济的健康发展。

依次填入划横线部分最恰当的一项是（ ）。

- A. 推脱 承受 抑制 B. 推脱 承载 制约
C. 推托 承受 抑制 D. 推托 承载 制约

37. 很多时候，我们的问题在于不能正确地_____个人和社会的界限。事实上，如果_____了个人，就不可能加强集体；如果_____了个人，集体也不可能获得自由。

依次填入划横线部分最恰当的一项是（ ）。

- A. 区别 削减 约束 B. 分清 减弱 限制
C. 划清 削弱 束缚 D. 区分 降低 压制

38. 相对于其他作品，史书有太多芜杂的琐碎记载，把主线_____得有些模糊不清。然而细节有细节的_____之处，因为虽然撰写史书的史官难免受到某些思维导向的影响，有意无意地隐此扬彼，但所谓“细节之中有魔鬼”，某个历史人物的性格总会在一些细节之中_____。

依次填入划横线部分最恰当的一项是（ ）。

- A. 遮蔽 精妙 若隐若现 B. 隐藏 奇巧 跃然纸上
C. 衬托 精彩 昭然若揭 D. 叙述 可爱 露出马脚

39. 在嘈杂环境下，大脑会自动_____不熟悉的人的声音，只_____身边熟人所发出的声音。在这种情况下，那些不熟悉的话语声只好面对_____的命运。

依次填入划横线部分最恰当的一项是（ ）。

- A. 筛选 保留 置若罔闻 B. 过滤 接收 充耳不闻
C. 淘汰 选择 灰飞烟灭 D. 排除 存储 烟消云散

40. 宇宙中最冷的地方是“回力棒星云”，那里的温度仅比绝对零度高1度。在绝对零度条件下，所有的原子都会_____。_____到“回力棒星云”面容的“阿尔马”（望远镜）设在阿塔卡马沙漠中海拔5000米的高原上，那里几乎没有湿气或植被，能对天空_____。

依次填入划横线部分最恰当的一项是（ ）。

- A. 凝结 眺望 一目了然 B. 固结 目睹 一览而尽
C. 冻结 捕捉 一览无余 D. 凝固 观测 一目千里

41. 如果能够做好南极生态环境的承受力评估，并严格执行有关规定，南极旅游造成的生态影响就可以得到有效控制。因为与南极大陆极为广袤的地域相比，游客活动的地域仅为总面积的3%左右。而如何管理好长期设在南极的科考站，才是更为棘手的问题，尤其是一些被废弃的科考站，已对南极生态环境造成了新的威胁。

这段文字意在强调（ ）。

- A. 南极生态环境评估的意义
- B. 南极生态旅游的发展前景
- C. 南极生态环境管理机制的必要性
- D. 南极科考站对当地生态环境的影响

42. 汉语西文字母词被汉语词典收录的历史已有100多年，收录字母词早已是汉语词典和工具书编纂的惯例和通行的做法。1903年出版的《新尔雅》在正文中收录了“X光线”一词，这是汉语词典首次收入字母词。在辞书史上，这部词典是近代中国最早的一部新语词词典，它虽然还不是纯粹现代意义上的汉语词典，但具有承前启后的重要意义。

这段文字介绍《新尔雅》的目的是（ ）。

- A. 总结西文字母词在汉语词典中的收录规律
- B. 说明汉语词典收录西文字母词早有先例
- C. 论述其对于近代以来辞书编纂的影响
- D. 探讨汉语词典收词规律的历史演变

43. 随着我国对外开放深化和世界经济全球化加速，国际经济环境因素对我国宏观经济运行稳定性的影响越来越大，需要我们密切关注，谨慎对待。目前国际市场石油价格、粮食和食用油价格上涨对我国国内市场价格的影响越来越大，成为造成国内市场相关商品价格上涨的不可忽视的因素。这种输入型成本推动造成的价格上涨的影响，将随着我国对国外石油等重要资源性商品依赖程度的上升，而变得越来越大，可能成为推动价格上涨的长期因素，对此我们必须更加重视。

这段文字意在说明（ ）。

- A. 我国输入型成本将随全球化程度的加深不断增高
- B. 我国对外依赖型经济模式是价格上涨的原因之一
- C. 国际市场价格对我国国内市场价格的影响很大
- D. 要重视国际经济因素对我国经济稳定性的影响

44. 在美国的电影院线，无论是重磅大片，还是低成本制作，票价都是相同的。这看上去并不符合“需求大小决定价格高低”的经济学理论。有研究人员指出，任何一家影院同期上映的所有电影票价均相同，这一现象形成于上世纪70年代。不仅电影业如此，体育赛事和演出也都遵循这一规律。虽然在某些时候和某些地区，机动定价能够使电影公司和影院获得更高的收益，但对于影院来说，保持不同电影的票价相同仍然利大于弊。

这段文字接下来最有可能讲述的是（ ）。

- A. 不同电影票价相同对影院更有利的原因
- B. 美国电影行业确定票价的主要参考因素
- C. 电影制作成本和观众需求与影片定价的关系
- D. 体育赛事和演出等其他行业票价的形成规律

45. 中国历代统治者对户口的管理都极为重视，他们将户口多寡作为国力盛衰与社会治乱的标志，建立了从中央至州、县、乡的完备户籍管理体系，但究其原因，是将户籍作为调派劳役、征收赋税的主要依据，以此维护建立在小农经济基础上的特权。这是一种源远流长的文化烙印，纵使历史的车轮滚滚向前，但那道印痕仍难以抹去。

这段文字主要介绍了（ ）。

- A. 户籍管理体系的文化背景
- B. 户籍制度存在的历史根源
- C. 中国古代户籍管理体系的构建方式
- D. 户籍制度对维护政治统治的深远影响

46. “微创新”，这个概念正在成为中国企业尝试的新方向。今天的技术革新在很多时候已经不再是颠覆性的更新换代，任何针对用户体验的微小改变，都可能引爆整个市场。微博就可以看作是在博客基础上的微创新，用140个字拉低了用户门槛，迅速引发了全民微博潮。对于习惯了模仿的企业来说，如何不让微创新成为“山寨”的代名词，是问题的关键，特别是在互联网领域，像“团购”这样的一窝蜂现象屡见不鲜，然而其中很难看到“微创新”在发挥作用。

这段文字用“团购”来说明（ ）。

- A. 盲目从众的现象
- B. 更新换代的趋势
- C. 复制与模仿的做法
- D. 集体相约采购的行为

47. 当夜深人静，即将准备进入梦乡时，我们的身体常常会突然抽搐一下，这种抽搐通常被科学家们称作临睡肌跃症（又称入睡抽动）。目前没有研究彻底搞明白它的原因，因而人们对此有诸多猜测。有一种解释认为，人脑是基于爬行动物的大脑进化而来的，因此仍然保留了一部分爬行动物的应激反应模式。肌肉彻底放松时，大脑会基于这一应激反应模式，以为我们在自由坠落，出于自我保护的需要，大脑指挥全身肌肉马上行动，试图在下坠过程中抓住什么东西，于是本已放松的肌肉会突然收紧，导致入睡抽动。

这段文字（ ）。

- A. 介绍临睡肌跃症的临床表现
- B. 提供一种对临睡肌跃症的解释
- C. 说明临睡肌跃症与大脑的关系
- D. 阐述临睡肌跃症对人类的意义

48. 上世纪七十年代，湖南长沙马王堆汉墓出土了十二万字以上的帛书，其中有一部失传已久的《相马经》，是我国动物学、畜牧学的重要文献。春秋战国时期，由于已从车战演变到骑兵作战，马的身价愈来愈高。传说中的相马专家是伯乐，事实上，这类专家数量众多，《吕氏春秋》就提到十个相马家，《史记》也提到“以相马立命天下”的人士，这些都可以证明古人对相马的重视。

下列说法与原文相符的是（ ）。

- A. 相马技术的发展使得车战逐渐被淘汰
- B. 《相马经》是伯乐所撰写的相马学专著
- C. 相马术的出现推动了古代动物学的发展
- D. 相马师这一职业早在汉代以前就已经出现

49. 1996年，意大利帕尔马的脑科学研究人员发现，在猴子大脑里存在一种特殊的细胞，叫镜像神经元。让猴子看到或听到一个动作，当它自己做这一动作时，这些细胞会兴奋。后来的研究证明，人脑中也存在这种镜像神经元，能够感受对象的害怕和愤怒、难过和恶心；复杂的感受如害羞、孤独和不受欢迎，也都能够通过镜像神经元明显地感受到。当我们看到别人的表情或者经历过的情感状态，镜像神经元就会被激活，让我们体验到他人的感受，走进别人的情感世界。

最适合做这段文字标题的是（ ）。

- A. “同情”的魔力
- B. 何谓神经元
- C. 脑科学的新发现
- D. “爱”的潜在根源

50. 铁是所有有机体必需的基本营养物质，海洋浮游植物必须要从海水中汲取铁质。海水中生成的铁通常很少，因此对于广大的海洋地区来说，铁的有限性限制了浮游植物的生长。海水中的铁主要来自河流中的悬浮质，然而这些含铁悬浮质大多都在近海地区沉积下来，因此风尘的输送成为远离大陆的海洋中铁的主要补给形式，尤其是对铁量较少的地区（如高纬度海域）来说，这种补给对于浮游植物的生长具有很大的促进作用。

下列说法与原文相符的是（ ）。

- A. 深海浮游植物的主要功能是分解含铁悬浮质
- B. 低纬度地区海洋中的铁主要来源于风尘输送
- C. 风尘输送的含铁物质对海洋浮游植物很重要
- D. 深海地区的铁主要以河流悬浮质的形式存在

51. 超细颗粒功能制备机是先以高速气流的猛烈碰撞把颗粒超细粉碎、自动分级后，再加入需要复合的纳米或微米材料进行多种性能的捏合，使颗粒分体达到所需要的功能。使用超细颗粒功能制备机将化学药品超细粉碎后，仍容易团聚结块不易流化，而且药效易挥发。此时加入药品级的表面包覆复合剂，通过高速旋转吸附在药品的超细颗粒表面，既能防止超细颗粒团聚，又能形成一层保护膜以保护药效。

这段文字说明了“超细颗粒功能制备机”（ ）。

- A. 承担了药品从原料变成制剂的加工任务
- B. 特点及它在药品粉碎以及制备中的运用
- C. 设计原理及在药品粉碎和制备中的应用
- D. 解决了化学药品粉碎制备中出现的问题

52. ①各国对于发动机的制造工艺是严格保密的，甚至对一些顶级的发动机严格控制出口

②发动机可以说是工业的心脏

③因此，自主研发成为治愈中国工业“心脏病”最为现实的选择

④发动机制造水平上不去，是中国工业的“心脏病”

⑤这使得进口高级发动机的生产线成为奢望

⑥从轮船、汽车、飞机到火箭，都离不开发动机

将以上6个句子重新排列，语序正确的是（ ）。

- A. ②⑥④①⑤③
- B. ⑥④②⑤①③
- C. ①③⑤④⑥②
- D. ④②⑥③①⑤

53. ①因此，生态红线不能触碰，否则就会受到大自然的惩罚，影响人类社会的持续发展

②生态红线是指生态系统在发展演进中生态平衡被打破，导致生态系统衰退甚至崩溃的临界状态

③在生态红线面前，任何破坏生态环境的行为都必须停止

④生态红线是保证生态安全的底线，具有约束性和强制性

⑤生态作为生物在一定的自然环境下生存和发展的状态，是一个不断发展演进的系统

⑥生态红线一旦被突破，以后即使投入大量的人力、财力、物力，生态平衡也往往难以恢复原状

将以上6个句子重新排列，语序正确的是（ ）。

- C. 忽视规则和模式的观念不利于激发创造力
- D. 没有固定结构的创新会限制创新者的思维

58. 20世纪初普朗克、波尔等物理学家共同创造了量子力学，它与相对论一起被认为是现代物理学的两大基本支柱。量子力学的发展，革命性地改变了人们对物质的结构及其相互作用的认识。借助量子力学，许多现象才得以真正地被解释，新的、无法凭直觉想象出来的现象被预言，接着又被验证。量子力学等理论的诞生，对于推动世界文明进步具有十分深远的意义。这些耗时多年的基础研究成果，其科学价值是无可估量的，绝不是用“有没有用”这样的简单标准就能衡量的。

这段文字意在强调（ ）。

- A. 科学研究需要长期积累
- B. 量子力学对现代物理学意义重大
- C. 基础研究不应急功近利
- D. 科学价值无法用量化指标来衡量

59. 新闻是客观的报道，评论是主观的判断，评论要想摆脱主观臆断而尽可能保持客观理性，必须以新闻事实为基础，而不是依靠自己的想像。这决定了评论永远只能跟在新闻的后面，根据新闻事实，作出相应的评论和价值判断，而不能跑在新闻的前面，不能作出超越新闻事实的判断，不能根据碎片化的想像拼凑出一个事实，然后大加挞伐。

对这段文字的主旨，概括最准确的是（ ）。

- A. 评论是新闻报道的延伸
- B. 评论源于新闻却高于新闻
- C. 评论是对新闻事实的提炼与升华
- D. 评论虽有主观性但仍须基于新闻事实

60. 回溯整条产业链，中国奶粉业的困境是上游小农经济的困境。中国处于人口出生高峰期，所需奶粉量与出产之间存在巨大的缺口，高质量的奶源是稀缺产品，尤其在草场退化，奶农自养为主的今天，传统的畜牧模式已经成为中国奶粉发展最大的掣肘。我国的奶源无法满足暴涨的市场需求，如果要保障有质量的奶源，需要将目前的小农式散养模式，转变为工业牧场式养殖模式，而这需要土地流转、农业人口分流、原始资本大量投入等诸多根本性改革，难度比恢复奶粉信用还高。

这段文字意在说明中国奶粉业（ ）。

- A. 产业链布局上存在先天不足
- B. 从生产模式上变革困难重重
- C. 短时间内难以摆脱进口依赖
- D. 恢复自身行业信用尚待时日

第三部分 数量关系

(共 15 题，参考时限 15 分钟)

在这部分试题中，每道题呈现一段表述数字关系的文字，要求你迅速、准确地计算出答案。

其中【地市级】多5题，包括65、70、71、72、75这5题。

请开始答题：

61. 某农场有36台收割机，要收割完所有的麦子需要14天时间，现收割了7天后增加4台收割机，并通过技术改造使每台机器的效率提升5%，问收割完所有的麦子还需要几天？（ ）

- A. 3
- B. 4
- C. 5
- D. 6

62. 某单位有50人，男女比例为3:2，其中有15人未入党。如从中人选1人，则此人为男性党员的概率最大为多少？（ ）

- A. $\frac{3}{5}$ B. $\frac{2}{3}$ C. $\frac{3}{4}$ D. $\frac{5}{7}$

63. 某技校安排本届所有毕业生分别去甲、乙、丙3个不同的工厂实习。去甲厂实习的毕业生总数的32%，去乙厂实习的毕业生比甲厂少6人，且占毕业生总数的24%，问去丙厂实习的人数比去甲厂实习的人数（ ）。

- A. 少9人 B. 多9人 C. 少6人 D. 多6人

64. 甲、乙、丙、丁四人共同投资一个项目，已知甲的投资额比乙、丙二人的投资额之和高20%，丙的投资额是丁的60%，总投资额比项目的资金需求高 $\frac{1}{3}$ 。后来丁因故临时撤资，剩下三人的投资额之和比项目的资金需求低 $\frac{1}{12}$ 。则乙的投资额是项目资金需求的（ ）。

- A. $\frac{1}{6}$ B. $\frac{1}{5}$ C. $\frac{1}{4}$ D. $\frac{1}{3}$

65. 甲、乙、丙、丁四个人分别住在宾馆1211、1213、1215、1217和1219这五间相邻的客房中的四间里，而另外一间客房空着。已知甲和乙两人的客房中间隔了其他两间客房，乙和丙的客房号之和是四个人里任意二人的房号和中最大的，丁的客房与甲相邻且不与乙、丙相邻。则以下哪间客房可能是空着的？（ ）

- A. 1213 B. 1211 C. 1219 D. 1217

66. 把12棵同样的松树和6棵同样的柏树种植在道路两侧，每侧种植9棵，要求每侧的柏树数量相等且不相邻，且道路起点和终点处两侧种植的都必须是松树，问有多少种不同的种植方法？（ ）

- A. 36 B. 50 C. 100 D. 400

67. 餐厅需要使用9升食用油，现在库房里库存有15桶5升装的，3桶2升装的，8桶1升装的。问库房有多少种发货方式，能保证正好发出餐厅需要的9升食用油？（ ）

- A. 4 B. 5 C. 6 D. 7

68. 小李的弟弟比小李小2岁，小王的哥哥比小王大2岁、比小李大5岁。1994年，小李的弟弟和小王的年龄之和为15。问2014年小李与小王的年龄分别为多少岁？（ ）

- A. 25, 32 B. 27, 30 C. 30, 27 D. 32, 25

69. 现要在一块长25公里、宽8公里的长方形区域内设置哨塔，每个哨塔的监视半径为5公里。如果要求整个区域内的每个角落都能被监视到，则至少需要设置多少个哨塔？（ ）

- A. 7 B. 6 C. 5 D. 4

70. 甲、乙两名运动员在400米的环形跑道上练习跑步，甲出发1分钟后乙同向出发，乙出发2分钟后第一次追上甲，又过了8分钟，乙第二次追上甲，此时乙比甲多跑了250米，问两人出发地相隔多少米？（ ）

- A. 200 B. 150 C. 100 D. 50

71. 某单位有3项业务招标，共有5家公司前来投标，且每家公司都对3项业务发出了投标申请，最终发现每项业务都有且只有1家公司中标。如果5家公司在各项业务中中标的概率均相等，问这3项业务由

同一家公司中标的概率为多少？（ ）

- A. $\frac{1}{25}$ B. $\frac{1}{81}$ C. $\frac{1}{125}$ D. $\frac{1}{243}$

72. 网管员小刘负责甲、乙、丙三个机房的巡检工作，甲、乙和丙机房分别需要每隔2天、4天和7天巡检一次。3月1日，小刘巡检了三个机房，问他在整个3月有几天不用做机房的巡检工作？（ ）

- A. 12 B. 13 C. 14 D. 15

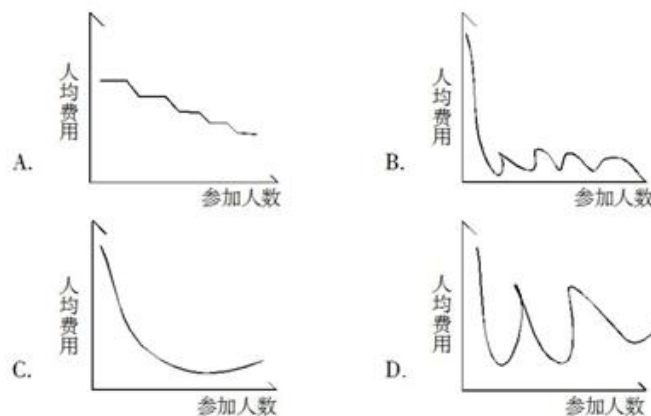
73. 某企业调查用户从网络获取信息的习惯，问卷回收率为90%，调查对象中有179人使用搜索引擎获取信息，146人从官方网站获取信息，246人从社交网站获取信息，同时使用这三种方式的有115人，使用其中两种的有24人，另有52人这三种方式都不使用。问这次调查共发出了多少份问卷？（ ）

- A. 310 B. 360 C. 390 D. 410

74. 某学校准备重新粉刷升国旗的旗台，该旗台由两个正方体上下叠加而成，边长分别为1米和2米，问需要粉刷的面积为（ ）。

- A. 30平方米 B. 29平方米 C. 26平方米 D. 24平方米

75. 某学校组织学生春游，往返目的地时租用可乘坐10名乘客的面包车，每辆面包车往返的租金为250元。此外，每名学生的景点和午餐费用为40元。如要求尽可能少租车，则以下哪个图形最能反映平均每名学生的春游费用支出与参加人数之间的关系？（ ）



第四部分 判断推理

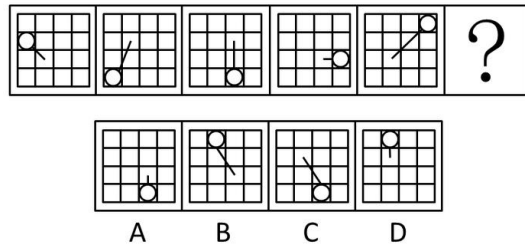
(共 40 题，参考时限 35 分钟)

本部分包括四种类型的试题：

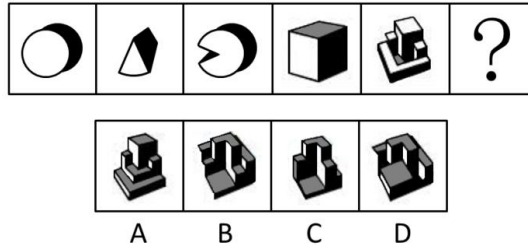
一、图形推理。请按每题的答题要求作答。

请开始答题：


76. 从所给的四个选项中，选择最合适的一个填入问号处，使之呈现一定规律性。



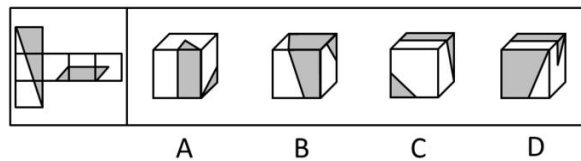
77. 从所给的四个选项中，选择最合适的一个填入问号处，使之呈现一定规律性。



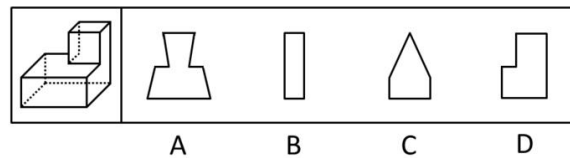
78. 从所给的四个选项中，选择最合适的一个填入问号处，使之呈现一定规律性。



79. 左边给定的是纸盒的外表面，右边哪一项能由它折叠而成？（ ）



80. 一正方体如下图所示切掉了上半部分，现从任意面剖开，下面哪一项不可能是该多面体的截面？（ ）



81. 把下面的六个图形分为两类，使每一类图形都有各自的共同特征或规律，分类正确的一项是（ ）。

二、定义判断。每道题先给出定义，然后列出四种情况，要求你严格依据定义，从中选出一个最符合或最不符合该定义的答案。注意：假设这个定义是正确的，不容置疑的。

请开始答题：

86. 垂直绿化指的是利用攀援植物向空中生长进行纵向绿化的一种方式，以期达到在有限面积内最大限度地利用空气和阳光来提高绿化的效率。

根据上述定义，下列涉及垂直绿化的是（ ）。

- A. 爬山虎爬满了墙头和屋顶
- B. 松树林从山脚一直延伸到山顶
- C. 利用巴根草匍匐攀援的特性，人们在沙漠中逐渐开拓出一片绿洲
- D. 在丘陵地区，人们常使用飞机从空中播种的方式对山地进行绿化

87. 赋、比、兴指的是诗歌的三种表现手法。赋：铺陈直叙，把思想感情及其有关的事物平铺直叙地表达出来；比：类比，以彼物比此物，使此物更加生动具体、鲜明浅近；兴：先言他物，然后借以联想，引出诗人所要表达的事物、思想、感情。

根据上述定义，下列诗句中使用了“比”的是（ ）。

- A. 死生契阔，与子成说。执子之手，与子偕老
- B. 七月流火，九月授衣。春日载阳，有鸣仓庚
- C. 我心匪石，不可转也。我心匪席，不可卷也
- D. 手如柔荑，肤如凝脂。领如蝤蛴，齿如瓠犀

88. 经济学中，系统内部个别效率较高的组织的出现，会对其他效率较低的组织的存在和发展构成破坏或抑制，人们把这种作用称为“顶尖效应”。由于个人之间、地区之间、国家之间的发展不平衡，因此“顶尖效应”是普遍存在的。

根据上述定义，下列有助于避免“顶尖效应”的是（ ）。

- A. 发达国家甲与经济落后国家乙之间的贸易交易费用下降，导致乙国的资金外流
- B. 某地制定新政，加大对中小企业的扶持力度，同时对垄断行业进行调控，限制规模
- C. 某粮食生产企业一直不景气，在采用先进栽培技术后，企业生产规模扩大，销售份额开始提升
- D. 某地规定，对于优秀留学归国人员可参照其学历或专业水平直接授予相应等级的专业技术职称，不受任何年限等限制

89. 正惩罚是指当个体发出某种行为后，引发外部对其行为的某种反应，导致令该个体不愉快的后果，使个体今后发出此行为的可能性降低。负惩罚是指当个体发出某种行为后，撤销令个体愉快的后果，使个体今后发出此行为的可能性降低。

根据上述定义，下列属于正惩罚的是（ ）。

- A. 禁烟标识贴出后，在办公室吸烟的人明显减少
- B. 母亲要求小明不写作业不得出去玩
- C. 某人因酒驾被处罚后，再没有酒驾
- D. 冰棍解暑，所以夏天冰棍很畅销

90. 疑罪是指司法机关对被告人是否犯罪或罪行轻重难以确证的情况。疑罪从无原则是现代刑法“有利被告”思想的体现，是无罪推定原则的具体内容之一，即在既不能证明被告人有罪又不能证明被告人无罪的情况下，推定被告人无罪。

根据上述定义，下列采用了疑罪从无原则的是（ ）。

- A. 赵六因盗窃他人网络密码被起诉，但由于赵六被证明从来不使用网络，法院判其无罪
- B. 史某和汤某打架，两人都受了伤，因无法确定谁先动手，法庭建议庭外和解
- C. 钱某因涉嫌投毒被起诉，后因证据不足，法院判决钱某无罪
- D. 张三起诉李四侵权，但因拿不出任何证据，结果败诉

91. 隐域性是指自然地理现象在受到局部的地形、水文、土壤、气流、洋流、季风等因素的影响下，在地球表面不按或偏离纬向地带性规律分布的特性，它使地带性分布规律变得不鲜明，使自然环境变得更具复杂性与多样性。

以下属于隐域性分布的是（ ）。

- A. 关汉卿《窦娥冤》中描写的“六月飞雪”
- B. 余秋雨所描写的丝绸之路上的“月牙泉”
- C. 岑参在诗中所描述的“北风卷地白草折”
- D. 电影《木乃伊归来》中所出现的大沙漠

92. 甗是古代的一种盛酒器和盛水器，亦可用于盛酱。流行于商代至战国。圆体，敛口无颈，广肩，大腹，圈足，带盖，亦有方形甗。

根据上述描述下列器具中哪一个是甗？（ ）



A.



B.



C.



D.

93. 垂直搜索引擎是针对某一个行业的专业搜索引擎，是对网页资源中的某类专门的信息进行一次整合，定向分字段抽取出需要的数据进行处理后再以某种形式返回给用户。

根据上述定义，下列应用与垂直搜索引擎关系最为密切的是（ ）。

- A. 在某个购物网站上在线购买鞋子
- B. 登陆央视网站查询某个城市天气
- C. 用百度音乐搜索自己爱听的歌曲
- D. 在图书馆网站上查询该馆的藏书

94. 概念的内涵是指概念所反映的事物具有的本质属性（或特有属性），它是从质的方面反映概念的，概念的外延是指具有概念所反映的本质属性（或特有属性）的那些事物，它是从量的方面反映概念的。内涵和外延的反变关系是指具有属种关系的概念之间所具有的一种相互联系、相互制约的关系，一个概念的外延越大，它的内涵越少；一个概念外延越小，它的内涵越多。反之，一个概念的内涵越多，它的外延越小；一个概念内涵越少，它的外延越大。

根据上述定义，下列哪组概念体现了概念内涵与外延的反变关系？（ ）

- A. 司法机关，最高审判机关，最高人民法院
- B. 水杯，热水杯，大号热水杯
- C. 中国，新疆，乌鲁木齐
- D. 中国人，文学家，鲁迅

95. 时间知觉是对客观现象延续性和顺序性的感知，时间知觉的信息，既来自于外部，也来自内部。外部信息包括计时工具，也包括宇宙环境的周期性变化，内部信息是机体内部的一些有节奏的生理过程和心理活动。

根据上述定义，下列没有包含时间知觉信息的是（ ）。

- A. 东边日出西边雨，道是无晴却有晴
- B. 三更灯火五更鸡，正是男儿读书时
- C. 人有悲欢离合，月有阴晴圆缺
- D. 月出惊山鸟，时鸣春涧中

三、类比推理。每道题先给出一组相关的词，要求你在备选答案中找出一组与之在逻辑关系上最为贴切、相似或匹配的词。

请开始答题：

96. 小麦：馒头

- A. 麝鹿：麝香
- B. 叶绿体：细胞
- C. 乌贼：墨汁
- D. 棉花：布鞋

97. 八卦：乾坤

- A. 九族：师生
- B. 七情：情志
- C. 五音：宫商
- D. 四书：五经

98. 春夏秋冬：四季

- A. 喜怒哀乐：情绪
- B. 赤橙黄绿：颜色
- C. 早中晚：一天
- D. 东南西北：四方

99. 深入：浅尝辄止

- A. 疏远：形影不离
- B. 细致：事无巨细
- C. 安定：水深火热
- D. 独立：自食其力

100. 音符：乐谱：五线谱

- A. 笔画：汉字：金文
- B. 树木：森林：自然
- C. 稻穗：稻谷：香米
- D. 卫星：星云：宇宙

101. 经济赤字：收入：开支

- A. 债务纠纷：还钱：借钱
- B. 优胜劣汰：适应：淘汰
- C. 销售利润：进价：售价
- D. 背信弃义：诺言：谎言

102. 鸳鸯：凤凰：雄雌

- A. 翡翠：珊瑚：红绿
- B. 经纬：阡陌：纵横
- C. 满月：弦月：盈缺
- D. 锱铢：分毫：长短

103. 铁匠：火炉：镰刀

- A. 医学家：试管：药剂
B. 记者：摄像机：新闻稿
C. 科学家：科技文献：新产品
D. 网民：互联网：营销

104. 存折 对于 () 相当于 栅栏 对于 ()

- A. 储户 牛羊
B. 存款 绿地
C. 虚拟 实物
D. 银行卡 围墙

105. 七寸 对于 () 相当于 () 对于 头绪

- A. 尺度 线索
B. 要害 眉目
C. 七步 头脑
D. 关键 脉络

四、逻辑判断。每道题给出一段陈述，这段陈述被假设是正确的，不容置疑的。要求你根据这段陈述，选择一个答案。注意：正确的答案与所给的陈述相符合，不需要任何附加说明即可以从陈述中直接推出。

请开始答题：

106. 在防治癌症方面，橙汁有多种潜在的积极作用，尤其由于它富含橙皮素和柚苷素等类黄酮抗氧化剂。研究证据已经表明，橙汁可以减少儿童患白血病的风险，并有助于预防乳腺癌、肝癌和结肠癌。根据研究结果，橙汁的生物效应在很大程度上受到其成分的影响，而其成分的变化又依赖于气候、土壤、水果成熟度以及采摘后的存储方法等条件。

由此可以推出 ()。

- A. 并非所有的橙汁都有相同的防癌功效
B. 过度饮用橙汁会给身体健康造成不良影响
C. 相对于健康儿童而言，白血病患儿的橙汁饮用量较小
D. 生长于良好的气候土壤条件下，成熟并避光保存的橙子最有功效

107. 某国际小组对从已灭绝的一种恐鸟骨骼化石中提取的 DNA 进行遗传物质衰变速率分析发现，虽然短 DNA 片段可能存在 100 万年，但 30 个或者更多碱基对序列在确定条件下的半衰期只有大约 15.8 万年。某位科学家据此认为，利用古代 DNA 再造恐龙等类似于电影《侏罗纪公园》中的故事不可能发生。

以下哪项如果为真，最能反驳该科学家的观点？ ()

- A. 《侏罗纪公园》虽然是一部科幻电影，但也要有事实依据
B. 上述研究的化石样本可能受到人类 DNA 的“污染”
C. 环境因素会影响 DNA 等遗传物质的衰变速率
D. 恐鸟与恐龙的碱基对序列排列顺序不同

108. 碎片化时代人们的注意力很难持久。让用户在邮件页面停留更长时间已经成为了营销者不断努力的方向。随着富媒体化的逐步流行，邮件逐步从单一静态向动态转变，个性化邮件的特性也逐步凸显。GIF 制作简单，兼容性强，在邮件中可以增加视觉冲击力。因此，在邮件中插入 GIF 动态图片，更能吸引用户的目光，增加用户的点击率。

以下哪项如果为真，最能支持上述结论？ ()

- A. 如果针对特定用户群而制定个性化营销邮件，那么销售机会会增加20%
- B. 过去没有插入 GIF 动态图片的个性化营销邮件，也为很多企业带来了成功
- C. 上世纪70年代出生的人习惯于电子邮件的静态界面，不喜欢花里胡哨的东西
- D. 插入 GIF 动态图片的个性化营销邮件，比普通发送的邮件给企业带来的收入多18倍

109. 一个旅行者要去火车站，早上从旅馆出发，到达一个十字路口。十字路口分别通向东南西北四个方向，四个方向上分别有饭店、旅馆、书店和火车站。书店在饭店的东北方，饭店在火车站的西北方。该旅行者要去火车站，应当往哪个方向走？（ ）

- A. 东
- B. 南
- C. 西
- D. 北

110. 由于一种新的电池技术装置的出现，手机在几分钟内充满电很快就会变成现实。这种新装置是一种超级电容器，它储存电流的方式是通过让带电离子聚集到多孔材料表面，而非像传统电池那样通过化学反应储存这些离子。因此这种超级电容器能在几分钟内储满电。研究人员认为这种技术装置将会替代传统电池。

以下哪项如果为真，不能支持上述结论？（ ）

- A. 超级电容器能够储存大量电能，保证长时间正常运行
- B. 超级电容器能循环使用数百万次，相比之下传统电池只能使用数千次
- C. 超级电容器可嵌入汽车底盘为汽车提供动力，可更方便地进行无线充电
- D. 超级电容器充电时所耗电能比传统电池少90%，但供电时间比后者长10倍

111. 台风是大自然最具破坏性的灾害之一。有研究表明：通过向空中喷洒海水水滴，增加台风形成区域上空云层对日光的反射，那么台风将不能聚集足够的能量，这一做法将有效阻止台风的前进，从而避免更大程度的破坏。

上述结论的成立需要补充以下哪项作为前提？（ ）

- A. 喷洒到空中的水滴能够在云层之上重新聚集
- B. 人工制造的云层将会对邻近区域的降雨产生影响
- C. 台风经过时，常伴随着大风和暴雨等强对流天气
- D. 台风前进的动力来源于海水表面日光照射所产生的热量

112. 有一段时间，电视机生产行业竞争激烈。由于电视机品牌众多，产品质量成为消费者考虑的首要因素。某电视机生产厂家为了扩大市场份额，一方面加大研发力度，进一步提高了电视机产品的质量；另一方面在价格上作调整，适当降低了产品的价格。然而，调整之后的头三个月，其电视机产品的市场份额不但没有提高反而有所下降。

以下哪项如果为真，最能解释上述现象？（ ）

- A. 消费者通常会考虑不同产品的价格差异，而非同一产品在不同时期的价格差异
- B. 一个家庭再次购买电视机产品时会首先考虑原来的品牌
- C. 消费者通常是通过价格来衡量电视机产品质量的
- D. 其他电视机生产厂家也调整了产品价格

113. 城市病指的是人口涌入大城市，导致其公共服务功能被过度消费，最终造成交通拥挤、住房紧张、空气污染等问题。有专家认为，当城市病严重到一定程度时，大城市的吸引力就会下降，人们不会

再像从前一样向大城市集聚，城市病将会减轻，从而焕发新的活力。

如果以下各项为真，能够削弱上述观点的是（ ）。

- A. 我国已经进入城市病的爆发期，居民生活已受到影响
- B. 大城市能够提供的公共服务是中小城市所无法替代的
- C. 政府应该将更多财力用于发展中小城市、乡镇、农村
- D. 中小城市活力足，发展潜力大，对人们吸引力会很强

114. “有好消息，也有坏消息。”无论是谈起什么主题，这样的开场白都顿时让人觉得一丝寒意传遍全身。接着这句话，后边往往是这样一个问题：你想先听好消息还是坏消息？一项新的研究表明，你可能想先听坏消息。

如果以下各项为真，最能削弱上述论证的是（ ）。

- A. 若消息是来自一个你信任的人，那么你想先听好坏消息的顺序会不同
- B. 研究发现，若由发布消息的人来决定，那么结果往往总是先说好消息
- C. 心理学家发现，发布好坏消息的先后顺序很可能改变人们对消息的感觉
- D. 心理评估结果证明先听到坏消息的学生比先听到好消息的学生焦虑要小

115. 今年联赛决赛的最后4支队伍是甲、乙、丙和丁。其中N与T分别为甲队和丁队的主教练。有人指出，甲队此前每次夺该项桂冠的赛季都曾战胜过T教练所在的球队；过去4年间，丁队在N教练的指导下，每隔一年都能夺得该项桂冠，而去年丁队没有夺冠。

以下哪项如果为真，与上述表述相矛盾？（ ）

- A. T教练可能执教过丁队
- B. N教练去年曾执教丁队
- C. 甲队曾4次夺得该项冠军
- D. 丁队前年未获得该项冠军

第五部分 资料分析

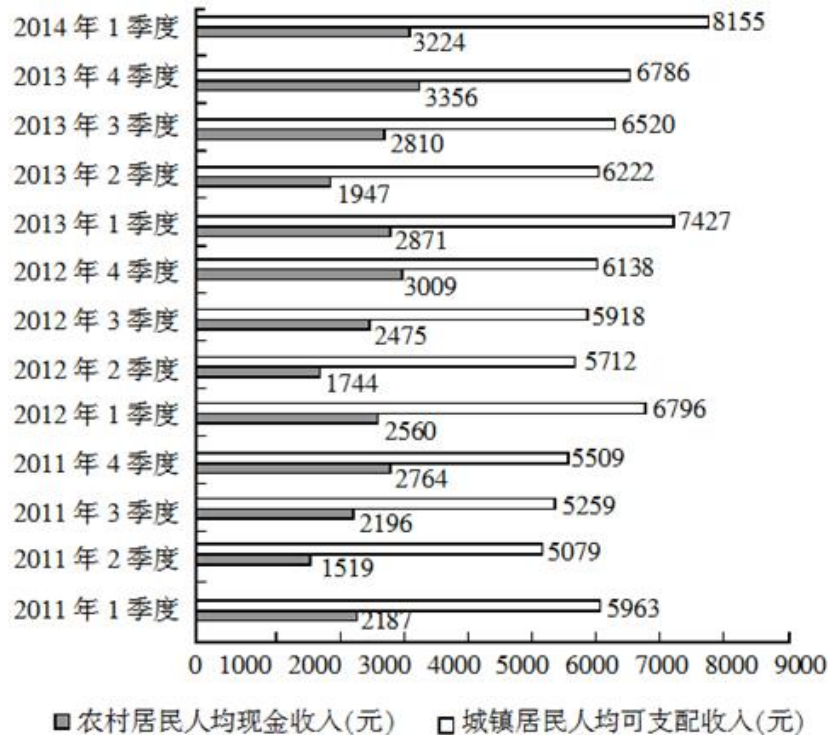
（共 20 题，参考时限 20 分钟）

所给出的图、表、文字或综合性资料均有若干个问题要你回答。你应根据资料提供的信息进行分析、比较、计算和判断处理。

请开始答题：

一、根据以下资料，回答 116~120 题。

2011 年 1 季度~2014 年 1 季度全国农村居民与城镇居民收入情况



116. 与2011年同期相比，2014年1季度农村居民人均现金收入约增长了（ ）。

- A. 25.9% B. 36.8% C. 47.4% D. 52.5%

117. 2013年城镇居民人均可支配收入同比增加了（ ）。

- A. 4千多元 B. 3千多元 C. 2千多元 D. 1千多元

118. 综合2011~2013年的数据，农村居民人均现金收入和城镇居民人均可支配收入最高的季度分别是（ ）。

- A. 1季度和1季度 B. 1季度和4季度 C. 4季度和4季度 D. 4季度和1季度

119. 2011~2013年，农村居民年人均现金收入超过1万元的年份有几个？（ ）

- A. 0 B. 1 C. 2 D. 3

120. 能够从上述资料中推出的是（ ）。

- A. 2013年各季度农村居民人均现金收入均同比增加
 B. 2013年4季度城镇居民人均可支配收入同比增速低于环比增速
 C. 2014年1季度城镇居民人均可支配收入环比增长了三成多
 D. 2013年下半年农村居民人均现金收入比上半年多约2000元

二、根据以下资料，回答121~125题。

2013年，某省工业企业全年实现主营业务收入37864亿元、税金1680亿元、利润2080亿元，分别增长19.1%、19.4%、26.4%，分别高出全国7.9、8.4、14.2个百分点。该省工业企业主营业务收入占全国

工业的3.7%，比上年提高0.3个百分点。百户重点企业主营业务收入、税金、利润分别增长10.2%、11.1%、20.8%，分别占全省工业的29.5%、51%、27.6%。

2013年，汽车行业实现主营业务收入4538亿元，增长23.1%；实现利润416.6亿元，增长19.9%；税金225.3亿元，增长50%。销售利润率（利润占主营业务收入的比重）攀升至9.2%。

食品（含烟草）实现主营业务收入6359亿元，增长20.8%，增速同比放缓9.2个百分点。实现利润398亿元，增长34.5%；工业税金506.2亿元，增长11.4%。

钢铁行业实现主营业务收入3510亿元，增长1.8%，利润总额34.6亿元，增长18.8%。行业销售利润率仅1%。

石化行业主营业务收入5138亿元，增长18.8%；实现利润204.2亿元，增长38.1%。子行业中，石油加工业净亏损0.2亿元，同比减亏13.6亿元；化工行业全年利润增长31.6%，扭转上半年利润下降局面；石油开采业净亏损8.6亿元，橡胶塑料行业利润增长29.1%。

建材行业实现主营业务收入2412亿元，增长27.1%；实现利润167.2亿元，增长51.6%。

机械行业实现主营业务收入3886亿元，增长26.6%；实现利润191.6亿元，增长23.8%。其中，电气机械（家电）利润增长38.5%，专用设备利润增长22.1%，船舶行业利润增长18.9%。

121. 2013年全国工业企业主营业务收入约为多少万亿元？（ ）

- A. 84 B. 90 C. 97 D. 102

122. 2013年全国工业企业的税金增速比利润增速（ ）。

- A. 低1.2个百分点 B. 低5.8个百分点 C. 高7.0个百分点 D. 高8.4个百分点

123. 2013年该省工业企业利润增速从高到低排序正确的是（ ）。

- A. 石化行业，建材行业，机械行业
B. 建材行业，石化行业，机械行业
C. 汽车行业，食品（含烟草）行业，钢铁行业
D. 食品（含烟草）行业，钢铁行业，汽车行业

124. 2013年该省工业企业的哪项信息，能够从上述资料中直接推出？（ ）

- A. 工业企业利润占全国工业企业利润总额的比重
B. 船舶行业主营业务收入占机械行业的比重
C. 橡胶塑料行业工业企业实现利润额
D. 百户重点企业的总体销售利润率

125. 能够从上述资料中推出的是（ ）。

- A. 2012年该省食品（含烟草）行业主营业务收入同比增速为11.6%
B. 2012年该省工业企业税金总额中，汽车行业所占比重超过15%
C. 2013年该省建材行业的销售利润率高于2012年水平
D. 2012年该省石油加工业净亏损13.4亿元

三、根据以下资料，回答126~130题。

2014年1~5月份副省级城市软件和信息技术服务业部分软件业务收入情况

单位：亿元

城市名称	信息技术咨询服务收入		数据处理和运营服务收入		嵌入式系统软件收入		IC设计收入	
	本期累计	同比增长(%)	本期累计	同比增长(%)	本期累计	同比增长(%)	本期累计	同比增长(%)
大连	130.51	22.2	133.48	24.7	52.20	16.2	2.37	19.0
宁波	2.97	20.5	11.78	28.8	29.94	16.0	2.25	21.7
厦门	53.35	28.3	35.82	29.2	38.60	18.9	8.56	41.8
青岛	63.26	39.5	56.44	41.0	166.03	38.7	9.51	43.3
深圳	24.40	27.3	206.84	28.3	472.19	17.4	6.95	11.6
沈阳	73.03	19.9	83.73	22.2	84.42	24.4	10.20	17.2
长春	0.89	20.1	2.70	21.7	10.15	21.4	0.03	20.7
哈尔滨	3.02	10.1	2.09	21.8	3.36	16.2	0.19	17.0
南京	100.30	21.8	130.90	37.5	154.50	14.9	12.30	3.3
杭州	13.09	35.7	258.28	53.3	164.78	17.5	8.06	10.6
济南	112.54	20.3	74.01	33.3	28.08	11.9	0.10	34.9
武汉	36.68	33.1	60.34	34.2	45.93	32.1	1.20	20.4
广州	178.67	18.1	209.64	16.1	14.05	21.3	13.74	22.1
成都	59.62	28.5	190.57	8.4	3.60	8.7	18.87	12.9
西安	84.22	32.7	14.37	33.3	32.28	26.0	14.25	26.5
合计	936.56	24.2	1470.98	28.0	1300.11	20.5	108.60	19.1

2014年1~5月，我国软件和信息技术服务业实现软件业务收入约13254亿元，同比增长20.9%，比去年同期回落3.3个百分点。其中，软件产品完成收入4141亿元，信息系统集成服务完成收入2649.3亿元，信息技术咨询服务完成收入1399.2亿元，数据处理和运营服务完成收入2429.5亿元，嵌入式系统软件完成收入2230.3亿元，IC设计完成收入405.1亿元。

126. 2014年前5个月完成收入排名前三的软件业务，同期完成收入占我国软件业务总收入的比重约为（ ）。

- A. 61.8% B. 69.6% C. 81.2% D. 86.5%

127. 2014年1~5月，表中四项软件业务收入之和最高的东北地区副省级城市是（ ）。

- A. 大连 B. 长春 C. 沈阳 D. 哈尔滨

128. 2014年1~5月，副省级城市哪项软件业务完成收入之和低于该业务全国总收入的一半？（ ）

- A. 数据处理和运营服务 B. 信息技术咨询服务
C. 嵌入式系统软件 D. IC设计

129. 2014年1~5月，信息技术咨询服务收入同比增速最快的副省级城市，该项收入约是增速最慢的副省级城市的多少倍？（ ）

- A. 12 B. 25 C. 2 D. 5
133. 2013年群众文化机构开展的活动中，平均每次活动参加人数最多的是（ ）。
- A. 展览 B. 文艺活动 C. 公益性讲座 D. 训练班
134. 2007～2013年间，平均每万人群众文化设施建筑面积同比增速高于10%的年份有几个？（ ）
- A. 5 B. 4 C. 3 D. 2
135. 能够从上述资料中推出的是（ ）。
- A. 2012年末全国群众文化机构共有从业人员16万多人
- B. 2013年文艺活动的参加人数约是公益性讲座的50倍
- C. 2013年全国人均群众文化设施建筑面积比2006年翻了一番
- D. 2013年乡镇文化站占群众文化机构总数的比重高于上年水平

2014 年中央、国家机关公务员录用考试试卷

《行政职业能力测验》

说 明

本测验卷共有五个部分，135道题，总时限为120分钟。各部分不分别计时，但都给出了参考时限，供你参考以分配时间。

请在题本、答题卡上严格按照要求填写好自己的姓名，填涂准考证号。

请仔细阅读下面的注意事项，这对你获得成功非常重要：

1. 题目应在答题卡上作答，在题本上作答的一律无效。

2. 监考人员宣布考试开始时，你才可以开始答题。

3. 监考人员宣布考试结束时，你应立即停止答题，将题本、答题卡和草稿纸都翻过来留在桌上，待监考人员确认数量无误，允许离开后，方可离开考场。

如果你违反了以上任何一项要求，都将影响你的成绩。

4. 在这项测验中，可能有一些试题较难，因此你不要在一道题上思考时间太久，遇到不会答的题目，可先跳过去，如果有时间再去思考。否则，你将可能没有时间完成后面的题目。

5. 试题答错不倒扣分。

6. 特别提醒你注意，涂写答案时一定要认准题号。

7. 严禁折叠答题卡。

第一部分 常识判断

(共20题，参考时限15分钟)

根据题目要求，在四个选项中选出一个正确答案。

请开始答题：

1. 下列关于党风建设的创新，按时间先后顺序排列正确的是（ ）。

①以马克思列宁主义的理论思想武装起来的中国共产党，在中国人民中产生了新的工作作风，这主要的就是理论和实践相结合的作风，和人民群众紧密地联系在一起的作风以及自我批评的作风

②工作作风上的问题绝不是小事，如果不坚决纠正不良风气，任其发展下去，就会像一座无形的墙把我们党和人民群众隔开，我们党就会失去根基、失去血脉、失去力量

③务必使同志们继续地保持谦虚、谨慎、不骄、不躁的作风，务必使同志们继续地保持艰苦奋斗的作风

④抓精神文明建设、抓党风、社会风气好转，必须狠狠地抓，一天不放松地抓，从具体事件抓起

A. ①③②④ B. ③④①② C. ③①④② D. ①③④②

2. 关于宇航员在太空的生活，下列说法不正确的是（ ）。

- A. 宇航员可使用特定的加热器对食品进行加热
- B. 宇航员从太空返回地面后，失重状态消失，质量会有所增加
- C. 宇航员应睡在固定的睡袋中，以免被气流推动误碰仪器设备开关
- D. 在同一航空器中的宇航员可以直接交谈，无需借助无线电通讯设备

3. 下列关于国家主权及国防地理的表述，不正确的是（ ）。

- A. 主权是联合国赋予国家的最基本的权利
- B. 一国的领海和领空都是其领土的组成部分
- C. 我国南海四大群岛是东沙、西沙、中沙和南沙群岛
- D. 我国与越南、缅甸、吉尔吉斯斯坦等十几个国家接壤

4. 下列情形可能发生的是（ ）。

- A. 南北朝贵族妇女去佛寺礼佛
- B. 半坡原始居民种植玉米
- C. 周武王穿着铁制铠甲伐纣
- D. 秦朝儿童春天放纸风筝

5. 下列按主导产业演进顺序排列正确的是（ ）。


①石化产业 ②旅游服务业 ③服装业 ④信息产业 ⑤农产品加工业

A. ⑤④①③② B. ⑤①③②④ C. ⑤③①②④ D. ③①⑤④②

6. 《人民日报》评论指出：“一个人挥舞胳膊的自由止于别人鼻子的地方。”下列可以代替该评论的名言是（ ）。

- A. 哪里没有法律，哪里就没有自由
- B. 法典就是人民自由的圣经
- C. 法律是自由的保姆
- D. 自由只服从法律

7. 下列法律谚语与其蕴含的法学理论对应正确的是（ ）。
- A. 法无明文授权不得为：人的权利根源于法条
B. 在法律面前人人平等：人的自由不能被剥夺
C. 迟到的正义不是正义：效率是法的价值目标
D. 民若不告则官必不究：诉权只能由个人行使
8. 我国古代文人在诗词中常运用典故表达自己的思想感受，下列作品中没有使用典故的是（ ）。
- A. 桃花潭水深千尺，不及汪伦送我情
B. 蓬山此去无多路，青鸟殷勤为探看
C. 为报倾城随太守，亲射虎，看孙郎
D. 东篱把酒黄昏后，有暗香盈袖
9. 俗语说“绣花要得手绵巧，打铁还须自身硬”，下列与该俗语哲学道理相同的是（ ）。
- A. 身正不怕影子斜
B. 师傅领进门，修行靠个人
C. 水大漫不过船
D. 有理不在声高
10. 下列诗句按其所描写节日的先后顺序，排列正确的是（ ）。
- ①桃符呵笔写，椒酒过花斜
②九日黄花酒，登高会昔闻
③粽包分两髻，艾束著危冠
④马上逢寒食，途中属暮春
- A. ④②③①
B. ①④③②
C. ②④③①
D. ③①②④
11. 下列加括号词语在古代和现代含义相同的是（ ）。
- A. 阡陌（交通），鸡犬相闻
B. （烈士）暮年，壮心不已
C. 今天下三分，益州疲弊，此诚（危急）存亡之秋也
D. 若舍郑以为东道主，（行李）之往来，共其乏困，君亦无所害
12. 下列关于自然现象的说法，错误的是（ ）。
- A. 霾通常呈黄色或橙灰色，吸入后有害
B. 露水会对农作物的生长造成危害
C. 雾和云是由于温度下降造成的
D. 彩虹有时会同时出现两条
13. 下列成语与工艺技术或行业对应不正确的是（ ）。
- A. 量凿正枘——木工
B. 锦上添花——纺织
C. 炉火纯青——冶炼
D. 青出于蓝——陶瓷
14. 关于图中示意的自然现象，下列说法错误的是（ ）。



- A. 山峰两侧可能呈现完全不同的自然景观
B. 气流随地形抬升是图中降水的主要成因

- C. 图中的降水往往会持续较长时间 D. 翻过山脉后气流温度会有所上升
15. 下列说法错误的是（ ）。
- A. 根据光的偏振原理可以制成看立体电影的立体眼镜
B. 打枪瞄准时闭上一只眼利用了光沿直线传播的原理
C. 光在光纤中传播利用的是光的全反射原理
D. 潜望镜利用了光的折射原理
16. 下列军事武器装备按发明时间先后排序，错误的是（ ）。
- A. 弓箭、云梯、火药 B. 火炮、机枪、冲锋枪
C. 雷达、坦克、鱼雷 D. 航母、导弹、原子弹
17. 关于目前的国际体育赛事，下列说法正确的是（ ）。
- A. 世界一级方程式锦标赛所用赛车的发动机排量没有限制
B. 进入世界杯和欧洲杯足球赛决赛圈的球队数量相同
C. 斯诺克台球属于奥运会的比赛项目之一
D. 法国网球公开赛属于大满贯的赛事
18. 下列关于农业的说法正确的是（ ）。
- A. 花生、大豆、向日葵和芝麻都属于油料作物
B. 农药在夏天中午气温较高时喷洒灭虫效果最好
C. 有机农作物通常种在便于运输的交通主干线附近
D. 追肥是农闲时期为调节土地所含养分而施用的肥料
19. 燃放烟花最佳的气象条件：有较多分散性低云、碎积云，云底高度在1000米左右，有一定的水汽，相对湿度70%左右，风力小于3级。下列诗句描述的天气中最适合欣赏烟花的是（ ）。
- A. 晴空一鹤排云上，便引诗情到碧霄 B. 黄梅时节家家雨，青草池塘处处蛙
C. 天上灰布悬，雨丝定连绵 D. 风雨从北来，万木皆怒号
20. 一般认为热带雨林是指阴凉、潮湿多雨、高温、结构层次不明显、层外植物丰富的乔木植物群落。下列关于热带雨林的说法正确的是（ ）。
- A. 热带雨林有春、夏、秋、冬四季 B. 热带雨林有春季、夏季两个季节
C. 热带雨林有雨季、干季两个季节 D. 热带雨林没有季节之分，常年都是雨季

第二部分 言语理解与表达

（共40题，参考时限35分钟）

本部分包括表达与理解两个方面的内容。请根据题目要求，在四个选项中选出一个最恰当的答案。

请开始答题：

21. 心理学家根据临床观察发现，我们生活中的许多“抑郁症”是属于假性抑郁症，一般人的情绪变化有一定_____，通常是短期的，人们通过自我调适，充分发挥自我心理防卫功能，就能恢复心绪

平稳。

填入划横线部分最恰当的一项是（ ）。

- A. 突发性 B. 周期性 C. 时限性 D. 反复性

22. 国际电信世界大会上，审议具有24年历史的《国际电信规则》是一个巨大的挑战，因为要确保它能_____，适应新一代信息通信技术用户的需求和全球化、激烈竞争和创新不断加深的技术环境。

填入划横线部分最恰当的一项是（ ）。

- A. 推陈出新 B. 与时俱进 C. 精益求精 D. 破旧立新

23. 消极完美主义者总是非常仔细地检查任何事情的细枝末节，有时竟达到_____的地步。他们缺少一种适时放弃的智慧，他们所追求的“完美”，不是美学意义上的“完美”，而是一种非常刻板而教条式的“完美”。

填入划横线部分最恰当的一项是（ ）。

- A. 抱残守缺 B. 宁缺勿滥 C. 冥顽不灵 D. 吹毛求疵

24. 纪录片也要注重挖掘人的情感和历史，因为一部好的纪录片不仅是对人和事物的简单_____，更是对世界的_____发现。

依次填入划横线部分最恰当的一项是（ ）。

- A. 记录 独特 B. 记叙 独到 C. 记述 独立 D. 记载 独创

25. 读书时对感兴趣的东西深钻细研，无疑有助于我们更全面、系统、深入地了解这些东西。但不感兴趣的东西，有的也可能恰恰是我们所_____的。这不仅因为兴趣本身有一定的局限性，而且因为在特定领域浸染日久，往往会_____这种兴趣，形成越不感兴趣越排斥的恶性循环，导致短板更短。

依次填入划横线部分最恰当的一项是（ ）。

- A. 需要 泛化 B. 忽视 僵化 C. 欠缺 固化 D. 提倡 弱化

26. 尽管人工培育和种植可以在很大程度上弥补市场需求的缺口，起到保护野生中草药的效果，但这种做法并非_____，因为有的品种可以实现人工种植，但仍有很多草药品种无法实现这一突破。面对越来越多野生中草药濒危的现状，启动对野生中草药资源的大规模普查_____。

依次填入划横线部分最恰当的一项是（ ）。

- A. 无可厚非 为期不远 B. 一劳永逸 势在必行
C. 事半功倍 任重道远 D. 万无一失 恰中要害

27. 一些学者认为，在信息时代强化互联网服务提供者的责任，实际上就是要求他们对互联网使用者发布的信息进行_____，这不利于我国宪法和法律所规定公民的言论自由和出版自由的实现。毫无疑问，这是典型的_____。如果散布谣言也属于“自由”，那么任何人都可以借助互联网散布谣言，损害国家利益、公共利益和公民的合法利益。

依次填入划横线部分最恰当的一项是（ ）。

- A. 过滤 偷梁换柱 B. 整合 断章取义
C. 评价 混淆是非 D. 审核 以偏概全

28. 当人类社会进入到信息时代，曾有人_____，计算机是方块汉字的掘墓人。然而，事实_____了对汉字的这些偏见和悲观论调。据统计，现在已有1000多种汉字输入法，无论从速度还是准确率上看，方

块汉字的计算机输入丝毫不逊色于拼音文字。

依次填入划横线部分最恰当的一项是（ ）。

- A. 宣称 打破 B. 断言 粉碎 C. 妄言 驳斥 D. 预言 批判

29. 胡适曾经提出这样一个观点：大胆地假设，小心地求证。这句话很好地概括了科学研究的两个基本步骤：首先要能_____，不断提出新的问题、新的想法；之后要能对提出的假说做严格的论证或实验_____。

依次填入划横线部分最恰当的一项是（ ）。

- A. 去粗取精 言之成理 B. 不拘一格 革故鼎新
C. 吐故纳新 有的放矢 D. 标新立异 去伪存真

30. 目前，社会上对种种迷信现象，笃信、盲从者不在少数，根源就在于思辨和理性的_____。在社会的进步和发展中，科学精神是消除各种_____，破除种种迷信的利器。科学精神的核心，就是不盲从、不迷信。

依次填入划横线部分最恰当的一项是（ ）。

- A. 失效 误解 B. 匮乏 罪恶 C. 缺失 愚昧 D. 苍白 无知

31. 在早已对漂亮假花、假树司空见惯的现代人眼里，干枯苍白的植物标本或许难有多少魅力可言。但在标本馆中，每一份看似不起眼的植物标本都代表着它在地球上的_____。它们虽然远离了阳光雨露，告别了生长的土地，却在科学殿堂中_____了自己的生命。

依次填入划横线部分最恰当的一项是（ ）。

- A. 物种 证明 B. 经历 重现 C. 存在 超越 D. 同类 延续

32. 我们现在认为，严格意义上的地图应该仅仅是对某一片特定区域的_____记录，它必须严谨如卫星所拍摄到的照片一样。而过去，地图被认为是一种复杂的手工绘制作品，且有着各种不同的主观色彩，因为对于同一个地方而言，不同的地图表现出来的内容会_____。如今，人们加诸地图的主观性正在逐渐消失，人类随之失去的，也是地图蕴含着的重要的文化和历史信息。

依次填入划横线部分最恰当的一项是（ ）。

- A. 清晰 如出一辙 B. 真实 殊途同归
C. 客观 千差万别 D. 全面 各有千秋

33. 近几年，不少银行向影视业提供了较多的贷款支持，但迫切渴望融资渠道中的中小影视公司仍难以得到扶持，银行往往只是“_____”。而私募基金投资影视业则是“_____”：尽管目前号称以影视产业为主要投资方向的基金已有近20只，声称募集资金达200亿元，但披露的有影响力的投资项目却寥寥可数。

依次填入划横线部分最恰当的一项是（ ）。

- A. 借花献佛 小心翼翼 B. 雪中送炭 纸上谈兵
C. 点到为止 画饼充饥 D. 锦上添花 雷大雨小

34. 历史反复昭示我们，向海而兴，背海而衰，是一条_____的铁律。中华民族要实现伟大复兴，必须_____地走向海洋、经略海洋，坚定不移地走以海富国、以海强国的和平发展之路。

依次填入划横线部分最恰当的一项是（ ）。

- A. 亘古不变 义无反顾 B. 一成不变 勇往直前
C. 原封不动 理直气壮 D. 颠扑不破 昂首阔步

35. 或许我们真的需要经典作品来_____我们偶尔困顿迷茫的精神，用大师的智慧烛照我们前行的步伐，他们的作品有着_____岁月阻隔的力度，唤起我们在这个浮躁时代里重新对人生的追索，从眼前困扰的现实中超脱出来。

依次填入划横线部分最恰当的一项是（ ）。

- A. 观照 消弭 B. 支撑 穿透 C. 唤醒 超越 D. 消除 跨越

36. “假说”在没有事实验证的情况下还不是科学理论。现有的科学知识和理论远不是事实的全部，而我们的许多科学家在从事研究工作时，总是_____于现有的一些学说，只是试图用实验结果来证明这些假说的合理性，而不是设法去_____它。实际上，许多流行的假说与科学理论必须符合客观实际、逻辑严谨、没有矛盾的要求_____。

依次填入划横线部分最恰当的一项是（ ）。

- A. 拘泥 否定 相去甚远 B. 受制 反驳 背道而驰
C. 纠结 求证 大相径庭 D. 局限 排斥 针锋相对

37. 治理环境确为政府职责，环境出现问题，其监管_____、执法不严难逃其责，但是，当大家不断_____政府不作为时，是不是也应该_____一下自己：我们有没有污染环境？

依次填入划横线部分最恰当的一项是（ ）。

- A. 不当 谴责 检察 B. 不周 斥责 检查
C. 不善 苛责 检点 D. 不力 指责 检讨

38. 迟迟没有落地的补贴细则，让有意投资光伏电站的企业们对光伏电站的大蛋糕_____，上周，据某研究所人员透露，对光伏电站的补贴已经纳入到财政预算，将“缺多少补多少”，但大部分企业对此却依然_____，在补贴不到位的情况下，企业还将面临垫资的风险，因此就整个光伏电站市场而言，资金实力雄厚的大企业占据主导地位是_____的。

依次填入划横线部分最恰当的一项是（ ）。

- A. 望洋兴叹 举棋不定 显而易见 B. 望而生畏 犹豫不决 有目共睹
C. 望而却步 将信将疑 不言而喻 D. 望尘莫及 优柔寡断 不证自明

39. 叶片眷恋地_____，栖息在行人的身上，或是顺着头发身体_____，无所依托地静卧在褐色的砖道上。深褐、暗红、浅黄及那些许丝丝绿色，在叶脉中若隐若现地_____。

依次填入划横线部分最恰当的一项是（ ）。

- A. 回旋 滑落 流淌 B. 回旋 漂落 交织
C. 舞动 滑落 交织 D. 舞动 飘落 流淌

40. 对很多作家来说，最_____的文字，几乎都是源自早年的乡土经验。因为一进入旧时的场景，就温暖，就自在，就身心通泰，_____，有如神助。相反，那些凭空想象的创作，虽然_____，用尽心力，还是拘涩凝滞，不能自由伸展。

依次填入划横线部分最恰当的一项是（ ）。

- A. 成功 洋洋洒洒 精雕细琢 B. 得意 下笔成章 绞尽脑汁

C. 原创 文思泉涌 处心积虑

D. 珍贵 妙语连珠 费尽心机

41. 相对于政府公关，民间外交更具柔性，传播内容和载体更易于被接受，更能达到“润物细无声”的效果。当前，越来越多外国民众来华参观访问，中国越来越多的公民走出国门，网络媒体的发展也使普通公众更易影响舆论。因此要因势利导，通过新闻媒体、社区组织、民间社团等渠道，引导国内公众主动配合公共外交，积极传播中国的文化传统和价值理念，维护国家形象。

这段文字意在强调（ ）。

A. 民间外交与政府公关的差别

B. 民间外交在国际交往中的意义

C. 应引导民间外交积极发挥作用

D. 媒体应在国际交往中正确引导公众

42. 收入分配是一系列社会政治经济政策及其相关制度的结果，因此，改革收入分配，其实质就是改革造成收入分配不公平的社会政治经济政策及其相关制度。收入分配改革，从严格意义而言，并非是“均贫富”的改革，而是使社会政治经济制度更加靠近公平、公正和正义的改革，是为全体社会成员提供更加平等发展机会的社会政治经济环境的改革。有了起码的社会公平、公正和正义，有了可以为社会成员提供平等发展机会的政治经济制度，才有可能形成一个合理的收入分配制度。

这段文字主要说明了（ ）。

A. 收入分配改革的实质

B. 收入分配改革的背景

C. 什么是真正的社会公正

D. 什么是合理的收入分配制度

43. 偶然性在心理学中扮演的角色时常被外行人士甚至临床心理从业者忽略。人们很难意识到，行为的变化有一部分是随机因素引起的，因此心理学家不应自诩能够预测每一个案的行动。心理学的预测应该是概率性的，表示自己可以在个体层次上进行心理预测，是临床心理学家常犯的错误。

这段文字意在说明（ ）。

A. 人的行为发展变化具有偶然性

B. 心理学的预测是对行为的总体预测

C. 目前对人类行为预测的准确性还不高

D. 临床心理学家更擅长对个体进行心理预测

44. 焚香的习俗在中国有着悠久的历史，通常人们为了礼仪将衣服熏香，古代文人雅士也喜欢在书房内焚上一炉香，营造“红袖添香夜读书”的意境。因此，早在汉代以前就出现了以陶、瓷、铜、铁、瓦为材料制成的香炉。汉代时，佛教的传入对香炉的发展起了相当大的作用。元末明初，原先其他材料制成的香炉逐渐被铜香炉所取代，明代宣德年间则是铜香炉制作的巅峰时期。

这段文字是一篇文章的引言，文章接下来最可能讲述的是（ ）。

A. 宗教对于香炉制作技术的影响

B. 焚香习俗逐渐淡出礼仪的原因

C. 香炉制作材料的发展演变过程

D. 宣德香炉的制作及其艺术成就

45. 将“幸福”传感器放在人体表面或植入人体，通过各项指标可测出人们每一刻的幸福指数。没有一个“幸福”传感器会是完美无缺的，而且也不需要。温度计被发明出来时也很不精确，但随着时间推移，温度计的设计日渐精致，现已是不可或缺的日用品。科学家们相信，“幸福”传感器也将遵循类似进化进程，虽然它们在评估人们心理状态时总会有一定程度的不确定性，可穿戴传感器却已比衡量幸福的传统工具来得更为低调，更加易用。

这段文字意在强调（ ）。

A. 任何“幸福”传感器都不可能完美无缺

- B. “幸福”传感器将成为不可或缺的日用品
- C. “幸福”传感器会向着高精度的方向发展
- D. 人类并不需要完美无缺的“幸福”传感器

46. 通过遥感探测发现，每年10月到次年的3月期间，每2~3天在2公里以上的高空就有一股从西风带吹来的浮尘，当它抵达华北平原上空后，由于地势降低，风速下降以后浮尘便会往下与污染物相混合，遭遇水汽后细粒子个体便迅速增大，造成大范围高强度的污染现象。如果遇上南边气流比较强，会形成华北地区持续多天的重污染天气。

这段文字意在说明华北地区空气污染现象的（ ）。

- A. 形成原因
- B. 形成过程
- C. 覆盖范围
- D. 发生时间

47. 一个普遍的说法是，人类能辨别1万种不同的气味。一只猎犬的鼻膜上有2.2亿个气味受体细胞，而人类只有2000万个，但我们的嗅觉系统也是相当复杂而专业的。气味分子随气流进入鼻子，通过鼻腔顶端上皮和它的气味受体细胞，这些细胞表面覆盖着能捕捉气味分子的蛋白。气味受体蛋白共有300多种，分别负责不同的气味分子，可以产生大量组合，形成大量的气味模式，_____。而且我们的嗅觉很容易训练，短期内可见惊人成效。在实验中，如果暴露在单一的花香中，人只要3分半钟，就能极大提高对这种花香的辨别能力。

填入划横线部分最恰当的一句是（ ）。

- A. 这些气味信息直接进入嗅觉皮层还会影响人的情感反应
- B. 但是不同的人对这些气味模式的敏感程度有所不同
- C. 这也就是人类能够辨别1万种不同气味的原因
- D. 因此对人类来讲嗅觉仍是第一大感官知觉

48. 事实上，延期偿债不仅无助于真正化解地方政府债务风险，在大多数情况下反而是埋下了威力更为巨大的“定时炸弹”。一旦“借新还旧”成为地方政府的常规做法，后果更是不堪设想。有鉴于此，中央政府应及时采取强硬手段，制止地方政府继续大唱“拖字诀”；有关部委也应积极考虑借助资本市场消化地方政府公共债务，以债务证券化等方式引入民间资本，化解债务风险；地方政府也应适当削减其经济建设职能，实现财权、事权对等，从根本上消除负债过度的生存土壤。

对这段文字概括最准确的是（ ）。

- A. 强调中央政府在缓解地方政府债务风险上的指导作用
- B. 论述缓解地方政府债务风险的有效手段
- C. 分析限制地方政府延期偿债的原因
- D. 说明地方政府偿还债务的常规做法

49. 目前在火电领域诞生的新技术很多，联合循环技术就是其中之一。简单来说，联合循环技术就是“一气两用”：将燃气轮机排出的高温废气，通过余热锅炉回收转换为蒸汽，进入蒸汽轮机后驱动其运转，两台轮机都将动能输送至发电机进行发电；废气再次进入锅炉，进一步将其中蕴含的热能转化为动能，降低最终排除气体的温度。这样不仅环保，还能节省燃料。除了发电效率高外，启动速度快也是一大优点，其工作原理是在开机之初关闭运转较慢的蒸汽轮机，只启动燃气轮机，产生足够的热能后，再切换到联合循环模式。这一特点对于电力应急事件频发的大城市十分实用。

关于联合循环技术，下列说法与上述文字不相符的是（ ）。

- A. 停电时可在短时间内迅速启动
- B. 蒸汽轮机早于燃气轮机启动
- C. 高温废气得以循环利用
- D. 明显提高了发电效率

50. ①经过理论与实践的积累，再生建筑学也逐步成为了一门独立而完整的技术科学

②到第一次世界大战爆发时，欧洲众多城市已经完成改造，向现代生活方式过渡

③在保持原有建筑基本构架的基础上，通过改变局部结构和装修，大幅改变建筑的使用功能，这就是“再生建筑”

④以阿姆斯特丹等港口为发端，欧洲各主要城市先后开始漫长的建筑再生运动

⑤它起源于19世纪40年代的欧洲，当时西欧各国逐步完成工业革命对产业和城市的升级改造

⑥城市中传统的以居住为主的封闭社区和街区，开始让位于交流、娱乐、购物等现代商业的空间需求

将以上6个句子重新排列，语序正确的是（ ）。

- A. ⑥①⑤③④②
- B. ④③⑤⑥①②
- C. ①③②④⑤⑥
- D. ③⑤⑥④②①

51. ①学者们进一步推测，基克拉底群岛上可能已经出现了早期的国家

②由于地理位置有利，基克拉底群岛一度控制着爱琴海贸易的海上霸权

③遗址发掘发现，当时已经出现了冶炼和制作青铜器的作坊

④从大量墓葬群的分布情况分析，该文明已经出现了比较成熟的早期城市居住区

⑤活跃的商贸活动为该地区居民带来巨大财富，进而为该文明发展提供了必要的物质基础

⑥考古发掘和古物研究证实，基克拉底文明是爱琴海上最古老的文明

将以上6个句子重新排列，语序正确的是（ ）。

- A. ⑥②⑤③④①
- B. ②⑥③④①⑤
- C. ②⑤⑥③①④
- D. ⑥④②③⑤①

52. 在西方，足球曾经是卑贱、粗野的代名词。那时的足球活动没有什么规则，更谈不上什么礼仪，和打群架没有什么区别，弄出人命是常有的事。但这种游戏特别血腥，特别刺激，特别有吸引力，虽屡屡遭禁，却每每“春风吹又生”。为了使得这个人们又爱又恨的游戏益于身心，也为了改变“下贱的踢球人”的形象，人们创造了足球规则，增加了足球礼仪。

这段文字意在强调（ ）。

- A. 规则和礼仪对足球运动很重要
- B. 足球在西方一直颇受大众欢迎
- C. 足球运动曾有遭人唾弃的历史
- D. 足球运动面貌经历了巨大变化

53. 诺贝尔文学奖得主埃利亚斯·卡内提的杰作《群众与权力》是一部分析不同族群特征的最具影响力的著作。该著作从不同角度剖析群众的形象，首先是按国别、地缘、族群来展开，并去分析每个国家特殊的文化背景，由于作者没有从经济层面展开分析，在国别分析中范围仅限于欧洲，因此，本文尝试_____。

填入划横线部分最恰当的一句是（ ）。

- A. 从经济层面来谈谈欧洲族群特征研究对我国的启示
- B. 从文化层面来谈谈特殊文化背景对欧洲族群的影响

- C. 从文化层面来谈谈欧洲文化背景对日本族群的影响
- D. 从经济层面来谈谈中国和日本的族群特征及其启示

54. 在漫长的传统农业社会，人类一直无法摆脱生产的不足和基础物资的匮乏，而且社会总财富相对比较恒定，财富主要依靠有限的自然资源来供给。这就意味着，国际关系更多地是围绕获取有限的自然资源展开的。然而，现代工商业的发展、科学技术的进步使得社会财富总量得到了爆炸式的增长，世界各国越来越认识到，共同建立一个公正合理的世界秩序是实现大家利益的最佳途径。

这段文字意在说明（ ）。

- A. 社会总财富的增长主要依赖对自然资源的利用
- B. 社会财富获取方式的变化对国际关系产生深刻影响
- C. 国际关系与自然资源之间存在紧密的联系
- D. 人类正逐渐摆脱自然资源供给的束缚

55. 在地震面前，科学还是大有作为的。通过对地震波的研究，人们发现地震波包括纵波和横波，前者传播速度更快，但破坏力较小，而后者则相反。因此，人们通过地震监测台网，监测到传播速度更快的地震波纵波，向监测中心发出信号，监测中心即可通过客户端用无线电波向公众和重点设施发出警报。也就是说，地震警报是无线电波和地震横波的一场“赛跑”，在地震横波尚未到达时，给人们以警示。

这段文字意在说明（ ）。

- A. 地震波横波的监测难度高于纵波
- B. 地震警报系统的精度和速度亟待提高
- C. 无线电波技术的发展是实现震前预测的前提条件
- D. 科学利用两种地震波的时间差可以发出有效的地震警报

56. 传统的纯文学杂志正在悄然地进行一场“时尚革命”。最近一段时间，陆续有著名纯文学杂志宣布“触网”，这些杂志都有几十年历史，从来都是“几十页纸走天下”，所以此番赶时髦引发了众多围观。不过本报记者在调查中了解到，这些文学期刊大多面临传统读者减少、年轻读者难寻的窘境。因此“触网”对它们而言固然是时尚，也是一种顺应时代的自我救赎。

这段文字没有论及的是（ ）。

- A. 传统文学期刊面临着如何吸引年轻一代读者的问题
- B. 传统文学期刊“触网”是顺应时代潮流，大势所趋
- C. 纯文学杂志走向数字化是摆脱目前困境的唯一救赎
- D. 过去的几十年，纯文学杂志保持着纸质媒介的传统

57. 解决科技与经济结合的问题始终是科技体制改革的核心，以往的改革从技术商品化、科技运行机制、组织结构、人事制度等方面采取了一系列措施，主要着力在微观组织层面。改革进程发展到今天，需要更多地从宏观管理层面思考问题。换句话说，改革已经改到了推动科技体制改革的政府管理者自己头上。政府科技资源配置的理念需不需要转变？对科技活动管理的模式需不需要改变？管理科技活动的组织机构需不需要调整？回答了这三个问题，才有可能解决科技、经济“两张皮”的问题。

这段文字意在说明（ ）。

- A. 应从政府管理角度思考科技体制改革问题

- B. 进行国家科技体制的深层次改革迫在眉睫
- C. 明确政府职责是科技体制改革的重要前提
- D. 科技与经济相脱节是我国科技体制的弊端

58. 进入21世纪以来，欧洲一直受竞争力下滑的困扰。2010年，欧盟曾在新颁布的“欧洲2020战略”中，明确提出研发创新占国内生产总值的比例平均每年都要达到3%。但在债务危机的冲击下，各国忙于紧缩财政，创新问题一直被忽视。根据欧盟最新的统计数字，2011年，欧盟研发经费占国内生产总值的比列仅为2.03%，27个成员国中，仅丹麦和马耳他实现了既定目标。未来数年，由于公共债务和“财政契约”的限制，欧盟各国的财政政策总体上仍会偏紧，能够用于刺激研发的资金有限，这意味着创新困境难有改善，从根本上决定了欧洲经济增长将缺乏引擎。

根据这段文字，欧洲竞争力不断下滑的根本原因是（ ）。

- A. 债务危机重创欧洲制造业
- B. 用于研发的资金投入有限
- C. 财政紧缩导致创新力度不足
- D. 经济增长无法带动产品质量上升

59. 目前我国并不缺乏好的设计，人才也不少。但如何与生活、市场结合，让设计成为产业，其间还有不少障碍。一是艺术家与生产厂家缺少交流的渠道，二是设计师闭门造车的不少，三是厂家对设计缺乏兴趣。许多专家认为，对设计的现代认知应该推广到所有企业，让企业舍得投资，只有明白了设计是未来竞争的主要资本，是国际社会衡量产品的主要标准，是消费购买天平中的主要砝码，企业才能拥有重视设计的战略眼光。

从这段文字中可以推出（ ）。

- A. 企业对设计的漠视阻碍了我国设计的产业化发展
- B. 设计者与企业沟通不畅制约着设计的市场化进程
- C. 国内企业对设计水平的评价与国际标准存在差异
- D. 企业不愿在设计环节投资造成大批设计人才流失

60. 我10岁的时候，就辍学回家当了农民，当时我做梦也没有想到几十年后，我竟然成了一个以写小说为职业的人。我在农村度过了漫长的青少年时期，在这期间，我把周围几个村子里那几本书读完之后，就与书本脱离了关系。我的知识基本上是用耳朵听来的：就像诸多作家都从老祖母讲述的故事里汲取了最初的文学灵感一样，我也有一个很会讲故事的祖母，还有一个会讲故事的爷爷，还有一个比我的爷爷更会讲故事的太爷爷——我爷爷的哥哥，村子里凡是上了点岁数的人，都是满肚子的故事，我在与他们相处的几十年里，从他们嘴里听说过的故事实在是难以计数。

这段文字的关键词是（ ）。

- A. 耳朵 阅读 回忆
- B. 耳朵 阅读 灵感
- C. 阅读 故事 灵感
- D. 阅读 故事 回忆

第三部分 数量关系

(共 15 题，参考时限 15 分钟)

在这部分试题中，每道题呈现一段表述数字关系的文字，要求你迅速、准确地计算出答案。

请开始答题：

61. 30个人围坐在一起轮流表演节目。他们按顺序从1到3依次不重复地报数，数到3的人出来表演节目，并且表演过的人不再参加报数，那么在仅剩一个没表演过节目的时候，共报数多少人数？（ ）
A. 87 B. 117 C. 57 D. 77
62. 老王两年前投资的一套艺术品市价上涨了50%，为尽快出手，老王将该艺术品按市价的八折出售，扣除成交价5%的交易费用后，发现与买进时相比赚了7万元。问老王买进该艺术品花了多少万元？（ ）
A. 84 B. 42 C. 100 D. 50
63. 搬运工负重徒步上楼，刚开始保持匀速，用了30秒爬了两层楼（中间不休息），之后每多爬一层多花5秒，多休息10秒，那么他爬到七楼一共用了多少秒？（ ）
A. 220 B. 240 C. 180 D. 200
64. 烧杯中装了100克浓度为10%的盐水，每次向该烧杯中加入不超过14克浓度为50%的盐水，问最少加多少次之后，烧杯中的盐水浓度能达到25%？（假设烧杯中盐水不会溢出）（ ）
A. 6 B. 5 C. 4 D. 3
65. 某连锁企业在10个城市共有100家专卖店，每个城市的专卖店数量都不同。如果专卖店数量排名第5多的城市有12家专卖店，那么专卖店数量排名最后的城市，最多有几家专卖店？（ ）
A. 2 B. 3 C. 4 D. 5
66. 某单位原有45名职工，从下级单位调入5名党员职工后，该单位的党员人数占总人数的比重上升了6个百分点。如果该单位又有2名职工入党，那么该单位现在的党员人数占总人数的比重为多少？（ ）
A. 50% B. 40% C. 70% D. 60%
67. 工厂组织职工参加周末公益活动，有80%的职工报名参加，报名参加周六活动的人数与报名参加周日活动的人数比为2:1，两天的活动都报名参加的为只报名参加周日活动的人数的50%，则未报名参加活动的人数是只报名参加周六活动的人数的（ ）。
A. 20% B. 30% C. 40% D. 50%
68. 一个立方体随意翻动，每次翻动朝上一面的颜色与翻动前都不同，那么这个立方体的颜色至少有几几种？（ ）
A. 3 B. 4 C. 5 D. 6
69. 某单位某月1~12日安排甲、乙、丙三人值夜班，每人值班4天。三人各自值日班期数字之和相等。已知甲头两天值夜班，乙9、10日值夜班，问丙在自己第一天与最后一天值夜班之间，最多有几天不用值夜班？（ ）

- A. 6 B. 4 C. 2 D. 0

70. 8位大学生打算合资创业，在筹资阶段，有2名同学决定考研而退出，使得剩余同学每人需要再多筹资1万元；等到去注册时，又有2名同学因找到合适工作而退出，那么剩下的同学每人又得再多筹资几万元？（ ）

- A. 3 B. 4 C. 1 D. 2

71. 一次会议某单位邀请了10名专家，该单位预定了10个房间，其中一层5间、二层5间。已知邀请专家中4人要求住二层，3人要求住一层，其余3人住任一层均可，那么要满足他们的住房要求且每人1间，有多少种不同的安排方案？（ ）

- A. 43200 B. 7200 C. 450 D. 75

72. 某羽毛球赛共有23支队伍报名参赛，赛事安排23支队伍抽签两两争夺下一轮的出线权，没有抽到对手的队伍轮空，直接进入下一轮。那么，本次羽毛球赛最后共会遇到多少次轮空的情况？（ ）

- A. 1 B. 2 C. 3 D. 4

73. 小王、小李、小张和小周4人共为某希望小学捐赠了25个书包，按照数量多少的顺序分别是小王、小李、小张、小周。已知小王捐赠的书包数量是小李和小张捐赠书包的数量之和；小李捐赠的书包数量是小张和小周捐赠的书包数量之和。问小王捐赠了多少个书包？（ ）

- A. 9 B. 10 C. 11 D. 12

74. 两同学需托运行李，托运收费标准为10公斤以下6元/公斤，超出10公斤部分每公斤收费标准略低一些。已知甲、乙两人托运费分别为109.5元和78元，甲的行李比乙重了50%。那么，超出10公斤部分每公斤收费标准比10公斤以内的低了多少元？（ ）

- A. 1.5元 B. 2.5元 C. 3.5元 D. 4.5元

75. 甲、乙两个工程队共同完成A和B两个项目。已知甲队单独完成A项目需13天，单独完成B项目需7天；乙队单独完成A项目需11天，单独完成B项目需9天。如果两队合作用最短的时间完成两个项目，则最后一天两队需要共同工作多长时间就可以完成任务？（ ）

- A. $\frac{1}{12}$ 天 B. $\frac{1}{9}$ 天 C. $\frac{1}{7}$ 天 D. $\frac{1}{6}$ 天

第四部分 判断推理

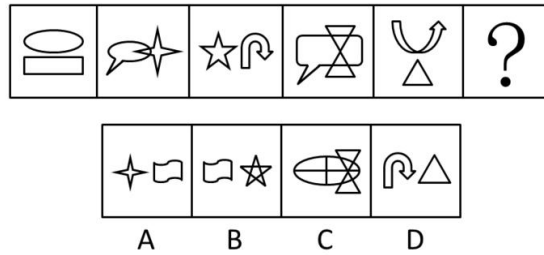
（共40题，参考时限35分钟）

本部分包括四种类型的试题：

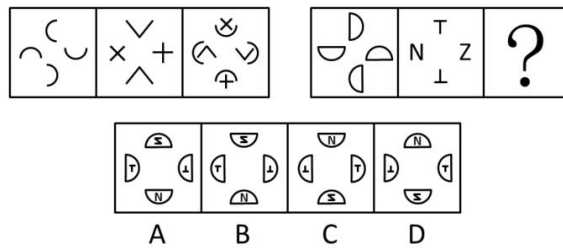
一、图形推理。请按每题的答题要求作答。

请开始答题：

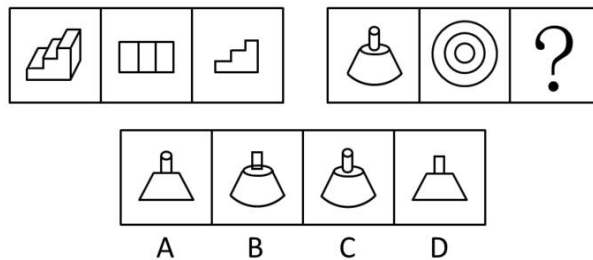
76. 从所给的四个选项中，选择最合适的一个填入问号处，使之呈现一定规律性。



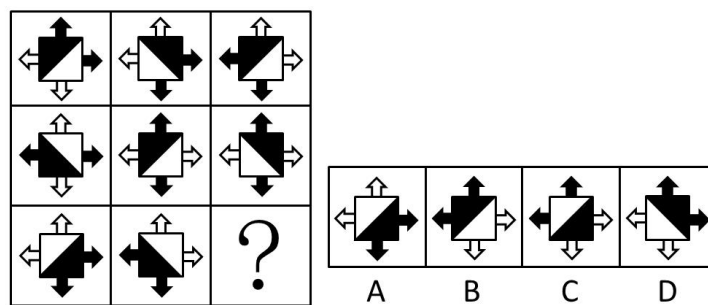
77. 从所给的四个选项中，选择最合适的一个填入问号处，使之呈现一定规律性。



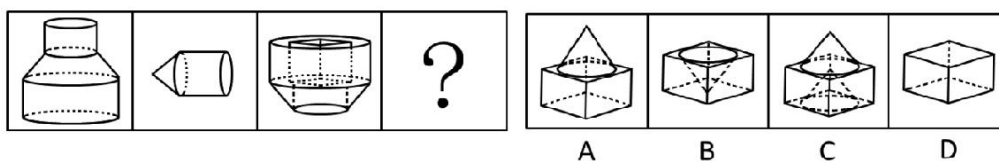
78. 从所给的四个选项中，选择最合适的一个填入问号处，使之呈现一定规律性。



79. 从所给的四个选项中，选择最合适的一个填入问号处，使之呈现一定规律性。



80. 下列中的立体图形①是由立体图形②、③和④组合而成，下列哪一项能够填入问号处？（ ）



- C. 超市琳琅满目的商品，包装各异、颜色鲜亮，吸引了许多顾客的眼球
- D. 根据客户的要求，广告设计师特别关注了大量以温馨家园为题材的售楼广告素材

90. 顺从型互动是指行动者之间发生性质相同或方向一致的行动过程，常有三种形式：有意无意向他人发出信号或暗示，并引起他人反应；不经过考量，直接按照他人的方式去行动；行动者在他人压力下接受他人行动方式，并且照做。

根据上述定义，下列不属于顺从型互动的是（ ）。

- A. 很多投资者寻找项目时什么热就投资什么，股票热时炒股票，翡翠热时炒翡翠
- B. 大家对小刘的业务能力有目共睹，连素来挑剔的老主任也赞成选小刘为业务主管
- C. 护士阿姨一边说“不哭啊，一点都不疼”，一边在毛毛的手臂上注射，毛毛果然没哭
- D. 小文对新来的家教老师不满意，但无奈于父母的苦心和已缴的学费，还是开始了家教课程

91. 组织控制是指组织用各种规章制度和奖惩手段来约束组织成员行为，以保证组织的决策和指令能够有效地贯彻执行，维护组织的各项秩序。

根据上述定义，下列最能体现组织控制的是（ ）。

- A. 某高校不断加强对外交流，派遣访问学者的名额逐年增加
- B. 某公司每年举办新人入职会，以便让新加入团队的成员尽快熟悉环境
- C. 某生产厂商为了提高员工生产积极性，薪酬计算由原来的计时绩效改为计件绩效
- D. 某外企实行上班打卡制，如果员工去见客户可以不用打卡，但须在前一天向上级报告

92. 矩阵对策是指处于利益竞争的两个关系主体，各自可选的策略有限，且在一局对策中双方得失和为零的现象，即要不成功、要不失败。对策中，一方真正成功的措施应该是，针对对方所采取的行动相应地制定有利于自己的应对策略，各方选择的策略必定是自己对对方策略预测的最佳反应。

根据上述定义，下列属于矩阵对策的是（ ）。

- A. 齐王和田忌按原条件重新赛马，并约定每局比赛须用同等级的马参赛
- B. 劳资双方进行薪资谈判，经过反复的讨价还价，最终双方都作出让步
- C. 在进入奥运女子排球决赛后，某国家队重新安排队员阵容和出场排序
- D. 丈夫要去踢球，妻子要去看电影，儿子要去游乐园，最后三人去郊游

93. 签名效应是指当人们在纸上写上自己名字时，大脑中的自我意识会加强，此时看到喜欢的东西，更容易把物品和自己联系起来，产生“这个东西真适合我”等想法，从而激发购买欲望。

根据上述定义，下列现象可用签名效应解释的是（ ）。

- A. 快递公司坚持“先签字后验货”的做法
- B. 采取实名捐款的办法能够募捐到更多善款
- C. 手术前，患者被要求在《知情同意书》上签字
- D. 中介公司要求租客在看房前签订《看房协议书》

94. 红旗原则是指如果侵犯著作权的事实是显而易见的，网络服务商就不能装作看不见，或以不知道侵权的理由来推脱责任。

根据上述定义，下列适用红旗原则的情形是（ ）。

- A. 未经用户许可，某客户端软件就能够自动扫描、获取用户个人数据

- B. 甲某利用网络服务商提供的免费存储空间，非法经营盗版影视作品
- C. 乙某上传正在首播的某热门电视剧，并被网站编辑推荐到下载首页
- D. 丙某通过第三方在有下载功能的互联网电视上获取未经授权的节目

95. 角色混同指的是将自己所具有的不同角色相混淆，而发生的导致背离角色期待和角色规范的行为。根据上述定义，下列哪项属于角色混同？（ ）

- A. 到北京来打工的某外省青年有时不自觉地说起家乡话，常常弄得同事莫名其妙
- B. 庄周梦见自己变成蝴蝶，醒过来之后惊惶不定，庄周不知自己梦中变成了蝴蝶，还是蝴蝶梦中变成了自己
- C. 小王是个游戏迷，他常常将工作中的同事假想成游戏中的玩家，也常常将游戏中的玩家想象成自己的某个同事
- D. 老李是某局局长，对于儿子提出的要求，他常常不自觉地：“这事得和其他同志研究研究。”为此，他多次受到妻子的批评

三、类比推理。每道题先给出一组相关的词，要求你在备选答案中找出一组与之在逻辑关系上最为贴切、相似或匹配的词。

请开始答题：

96. 创新：僵化

- A. 开放：闭塞
- B. 发展：前进
- C. 计划：秩序
- D. 革新：失败

97. 厨师：炒鱿鱼

- A. 法官：和稀泥
- B. 司机：开天窗
- C. 脚夫：撂挑子
- D. 高手：摆擂台

98. 生命：生物

- A. 绿色：植物
- B. 思维：人类
- C. 收获：秋季
- D. 节气：历法

99. 抽样调查：抽样原则

- A. 调查问卷：征求意见
- B. 人物访谈：访谈内容
- C. 数学模型：建模软件
- D. 设备操作：操作规程

100. 交通：拥堵：治理

- A. 生活：贫困：救济
- B. 食材：讲究：享用
- C. 音乐：动感：聆听
- D. 健康：虚弱：保健

101. 红茶：发酵：保健

- A. 丝绸：染色：收藏
- B. 玉镯：磨制：装饰
- C. 石油：蒸馏：燃烧
- D. 中药：采摘：治病

102. 言而有信：言而无信：承诺

- A. 童叟无欺：明码实价：交易
- B. 心满意足：贪心不足：满意

- C. 言之凿凿：口说无凭：证据
D. 文思泉涌：搜索枯肠：知识
103. 木材：抽屉：收纳
- A. 钢铁：剪刀：切割
B. 棉花：毛线：保暖
- C. 城墙：石头：防御
D. 橡胶：气垫：缓冲
104. () 对于 国家 相当于 免疫 对于 ()
- A. 民族 脱敏
B. 人民 淋巴
- C. 国防 生物
D. 阶级 疫苗
105. 坚若磐石 对于 () 相当于 () 对于 良心
- A. 懦弱 金石为开
B. 意志 知恩图报
- C. 信心 落井下石
D. 品质 铁石心肠

四、逻辑判断。每道题给出一段陈述，这段陈述被假设是正确的，不容置疑的。要求你根据这段陈述，选择一个答案。注意：正确的答案与所给的陈述相符合，不需要任何附加说明即可以从陈述中直接推出。

请开始答题：

106. 该不该让小孩玩电脑游戏？这让很多家长困扰，因为有太多的报告指责游戏正摧毁着下一代，不过一项新的研究显示，玩游戏有益于小孩的阅读能力，甚至可帮助他们克服阅读障碍。

以下哪项如果为真，最不能支持上述结论？()

- A. 研究发现，如果让孩子们玩体感游戏，即依靠肢体动作变化来操作的游戏，累计超过12小时，孩子的阅读速度及认字准确率会显著提升
- B. 长期玩游戏的儿童阅读游戏规则更容易，还会对游戏中出现的画面变得敏感，但却对周围的事物表现冷漠
- C. 相比玩单机版游戏的儿童，玩网络互动游戏的儿童会更加注重相互交流，因此他们的阅读能力提高得更快
- D. 儿童阅读障碍主要与神经发育迟缓或出现障碍有关，游戏只能暂时提高阅读速度，却无法克服阅读障碍

107. 在南极海域冰冷的海水中，有一种独特的鱼类，它们的血液和体液中具有一种防冻蛋白，因为该蛋白它们才得以存活并演化至今。但时至今日，该种鱼类的生存却面临巨大挑战。有人认为这是海水升温导致的。

以下哪项如果为真，最能支持上述观点？()

- A. 南极海水中的含氧量随气温上升而下降，缺氧导致防冻蛋白变性，易积于血管，导致供血不足，从而缩短鱼的寿命
- B. 防冻蛋白能够防止水分子凝结，从而保证南极鱼类正常的活动，气候变暖使得该蛋白变得可有可无
- C. 南极鱼类在低温稳定的海水中能够持续地演化，而温暖的海水不利于南极鱼类的多样性
- D. 并非所有南极物种都具有防冻蛋白，某些生活于副极地的物种并没有这种蛋白

108. 如果用户手机里安装了企业的手机客户端，那么就可以大大提高用户浏览手机时看到企业标识

和名称的机会，进而达到宣传企业形象和品牌的目，提高企业的知名度。

上述结论的假设前提是（ ）。

- A. 手机用户数量增长势头强劲
- B. 手机客户端是项成熟的技术
- C. 手机用户有浏览手机的习惯
- D. 手机管制的时效强、成本低

109. 研究发现，试管婴儿的出生缺陷率约为9%，自然受孕婴儿的出生缺陷率约为6.6%。这两部分婴儿的眼部缺陷比例分别为0.3%和0.2%，心脏异常比例为5%和3%，生殖系统缺陷的比例分别为1.5%和1%。因而可以说明，试管婴儿技术导致试管婴儿比自然受孕婴儿出生缺陷率高。

以下哪项如果为真，最能质疑该结论？（ ）

- A. 试管婴儿要经过体外受精和胚胎移植过程，人为操作都会加大受精卵受损的风险
- B. 选择试管婴儿技术的父母大都有生殖系统功能异常，这些异常会令此技术失败率增加
- C. 试管婴儿在体外受精阶段可以产生很多受精卵，只有最优质的才被拣选到母体进行孕育
- D. 试管婴儿的父母比自然受孕婴儿的父母年龄大很多，父母年龄越大，新生儿出生缺陷率越高

110. 在一项实验中，让80名焦虑程度不同的女性完成同样的字母识别任务，同时在她们头上放置电极，观察大脑活动。结果表明，焦虑程度高的女性完成任务时脑电活动更复杂，更容易出错。实验者由此得出结论：女性焦虑影响完成任务的质量。

以下哪项如果为真，最能反驳上述结论？（ ）

- A. 焦虑程度高的女性与其他女性相比在实验前对任务不熟悉
- B. 女性焦虑时，大脑会受到各种思绪的干扰而无法专注
- C. 女性焦虑容易引起强迫症、广泛性焦虑等心理问题
- D. 有研究显示，焦虑和大脑反应错误率是正相关的

111. 素数是指只含有两个因子的自然数(即只能被自身和1整除)，孪生素数，是指两个相差为2的素数。比如3和5，17和19等。所谓的孪生素数猜想，是由希腊数学家欧几里得提出的，意思是存在着无穷对孪生素数。该论题一直未得到证明。近期，美国一位华人讲师的最新研究表明，虽然还无法证明存在无穷多个之差为2的素数对，但存在无穷多个之差小于7000万的素数对。有关方面认为，如果这个结果成立，那么将是数论发展的一项重大突破。

以下哪项如果为真，最能支持有关方面的观点？（ ）

- A. 这位华人讲师长期从事数学领域的相关教学和科研工作
- B. 关于孪生素数猜想的证明需要一个漫长的、逐步推进的过程
- C. 这是第一次有人正式证明存在无穷多组间距小于定值的素数对
- D. 7000万这个数字很大，离孪生素数猜想给出的2还有很大距离

112. 一个人生活虽然很难，但也必须学会一个人，不要轻易依赖别人，这样以后身边的人都离开你的时候，你还可以好好活下去。

如果以上为真，则以下哪项为真？（ ）

- A. 身边人都离开时还可以好好活，未必是因你以前学会如何一个人生活
- B. 不能独自生活的人，在身边的人都离开他的时候，就无法好好活下去
- C. 一个人生活虽然艰难，但也比身边的人都离开他的时候要来得容易些

D. 不要轻易依赖别人，因为一个人生活的时候会很难无法好好活下去

113. 调查显示，中国消费者对奢侈品品牌的忠诚度远远低于西方消费者，对许多中国消费者而言，高价格仍然很重要，物有所值仍然比品牌重要，而且现阶段甚至比质量还重要。

由此可以推出（ ）。

- A. 中国消费者购买奢侈品时往往不会考虑价格因素
- B. 中国消费者喜欢购买价格高且物有所值的奢侈品
- C. 比起知名度来，奢侈品的价格更吸引中国消费者
- D. 中国消费者不甚关注知名奢侈品的价格及其质量

114. 研究小组利用超级计算机模拟宇宙，并结合多种其他计算，证明了在我们这个加速膨胀的宇宙中，描述大尺度时空结构的因果关系网络曲线图，是一个具有显著聚类特征的幂函数曲线，和许多复杂网络如互联网、社交网、生物网络等惊人的相似。

由此可推出（ ）。

- A. 人脑研究有助于了解宇宙的结构
- B. 宇宙就是一个大脑或一台计算机
- C. 宇宙万物的演化遵循同样的规律
- D. 复杂系统演化存在某种相似法则

115. 某局办公室共有10个文件柜按序号一字排开。其中1个文件柜只放上级文件，2个只放本局文件，3个只放各处室材料，4个只放基层单位材料。

1	2	3	4	5	6	7	8	9	10
---	---	---	---	---	---	---	---	---	----

要求：

- (1) 1号和10号文件柜放各处室材料；
- (2) 两个放本局文件的文件柜连号；
- (3) 放基层单位材料的文件柜与放本局文件的文件柜不连号；
- (4) 放各处室材料的文件柜与放上级文件的文件柜不连号。

已知4号文件柜放本局文件，5号文件柜放上级文件，由此可以推出（ ）。

- A. 6号文件柜放各处室材料
- B. 7号文件柜放各处室材料
- C. 2号文件柜放基层单位材料
- D. 9号文件柜放基层单位材料

第五部分 资料分析

(共20题，参考时限20分钟)

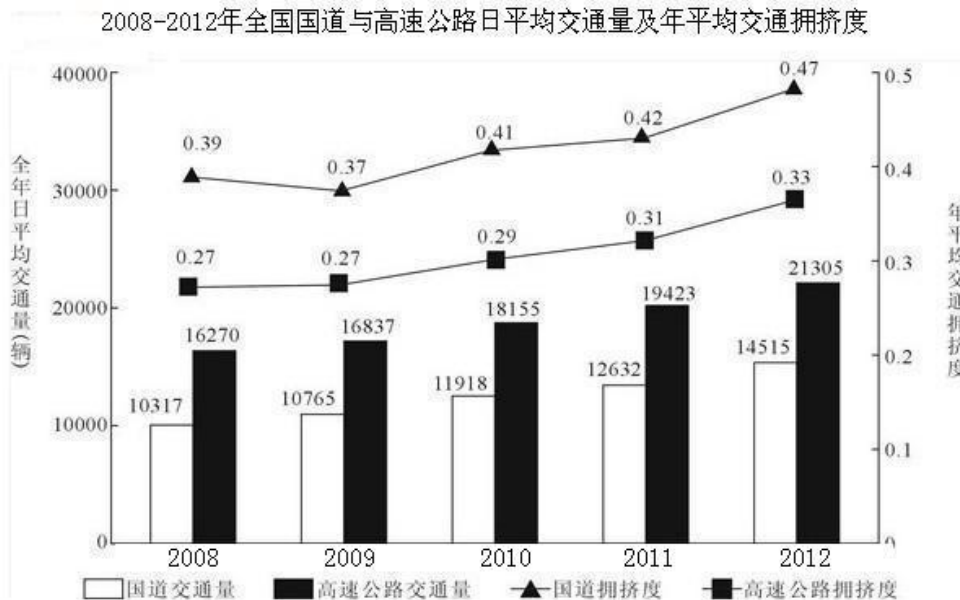
所给出的图、表、文字或综合性资料均有若干个问题要你回答。你应根据资料提供的信息进行分析、比较、计算和判断处理。

请开始答题：

一、根据以下资料，回答116~120题。

2012年全国国道网车流量较大的地区主要集中在北京、天津、上海、江苏、浙江、广东和山东，上

述省市国道网的日平均交通量均超过2万辆。全国国道网日平均行驶量为244883万公里，北京、天津、河北、山西、上海、浙江、湖北、广东的国道年平均拥挤度均超过0.6。其中，国家高速公路日平均交通量为22181辆，日平均行驶量为148742万公里；普通国道日平均交通量为10845辆，日平均行驶量为111164万公里。全国高速公路日平均交通量为21305辆，日平均行驶量为204717万公里。（注：交通拥挤度指公路上某一路段折算交通量与适应交通量的比值，反映交通的繁忙程度。）



116. 2009~2012年全国国道日平均交通量同比增速最快的一年是（ ）。

- A. 2010年 B. 2009年 C. 2012年 D. 2011年

117. 2008~2012年全国国道与高速公路年平均拥挤度数值相差最小的年份，高速公路全年日平均交通量为（ ）。

- A. 10765辆 B. 16837辆 C. 12632辆 D. 19423辆

118. 以下关于2012年日平均行驶量由高到低排序正确的是（ ）。

- A. 国家高速公路——全国高速公路——普通国道
 B. 全国高速公路——国家高速公路——全国国道网
 C. 全国国道网——普通国道——国家高速公路
 D. 全国国道网——国家高速公路——普通国道

119. 2012年国家高速公路日平均交通量约是普通国道日平均交通量的（ ）。

- A. 1.7倍 B. 1.5倍 C. 2.0倍 D. 1.8倍

120. 下列选项中，能够从上述资料中推出的是（ ）。

- A. 2008~2012年，全国国道交通繁忙程度持续增加
 B. 2012年国道网日平均交通量超过2万辆的省份最多有6个
 C. 2008~2012年，全国高速公路交通繁忙程度持续增加
 D. 2012年国道年平均拥挤度超过0.6的省份至少有8个

二、根据以下资料，回答121~125题。

2012年第三季度全国100个城市的公共就业服务机构市场中，用人单位通过公共就业服务机构招聘各类人员约643.3万人，进入市场的求职者约610万人，岗位空缺与求职人数比率比上年同期上升了1%。上年同期这100个城市中，用人单位通过公共就业服务机构招聘各类人员约577.9万人。

2012年第三季度，在所有求职人员中：失业人员所占比重为48.8%，其中，新成长失业青年占24.2%（在新成长失业青年中应届高校毕业生占51.4%），就业转失业人员占13.4%，其他失业人员占11.2%；外来务工人员的比重为41%，外来务工人员由本市农村人员和外埠人员组成，其中本市农村人员为95.2万人。

2012年第三季度全国十个城市岗位需求和求职信息

城市	岗位空缺与求职人数的比率	第二产业需求岗位占比(%)	第三产业需求岗位占比(%)	岗位空缺大于求职人数缺口的最大的前三个职业
天津	0.81	24.4	75.6	推销展销人员；电气电子设备装配人员；储运人员
上海	1.08	10.5	89.4	餐厅服务员、厨工；治安保卫人员；营业人员、收银员
重庆	1.02	32.1	67	机械冷加工人员；裁剪缝纫人员；推销展销人员
石家庄	1.02	15.1	84.9	推销展销人员；行政业务人员；清洁人员
福州	1.26	63.7	35.7	搬运、包装人员；电子元件、器件制造人员；餐厅服务员、厨工
郑州	1.49	7.7	92.2	推销展销人员；部门经理；简单体力劳动人员
武汉	1.15	26.3	72.5	推销展销人员；机械冷加工人员；裁剪缝纫人员
长沙	1.11	33.4	65.5	机械冷加工人员；治安保卫人员；清洁人员
西安	0.95	33.5	61.2	机械冷加工人员；治安保卫人员；清洁人员
成都	1.04	36.8	62.8	推销展销人员；餐厅服务员、厨工；采购人员

121. 与2011年同期比，2012年第三季度全国100个城市调查的公共就业服务机构市场供求中，进入市场的求职者人数（ ）。

- A. 高于上年同期 B. 低于上年同期 C. 与上年同期持平 D. 无法推出

122. 2012年第三季度全国100个城市，求职的新成长失业青年中，应届高校毕业生人数约为（ ）。

- A. 66万 B. 71万 C. 76万 D. 81万

123. 2012年第三季度全国十个城市中，第三产业需求岗位数超过第二产业2倍的城市共有（ ）。

- A. 3个 B. 4个 C. 5个 D. 6个

124. 2012年第三季度全国十个城市中，岗位空缺大于求职人数缺口的最大的前三个职业，在半数以

上城市中出现过的是（ ）。

- A. 推销展销人员 B. 治安保卫人员 C. 机械冷加工人员 D. 餐厅服务员、厨工

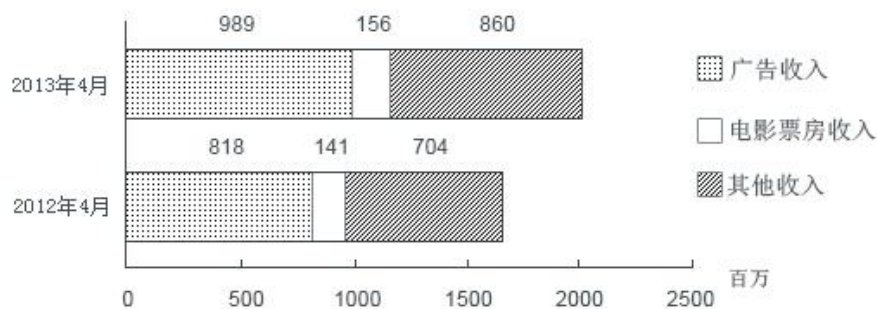
125. 下列选项中，从上述资料中能够推出的是（ ）。

- A. 2012年第三季度在全国100个城市，进入市场的外来务工人员在新成长失业青年中所占的比重
 B. 2012年第三季度在全国100个城市，进入市场的外来务工人员中外埠人员在求职者中所占的比重
 C. 2012年第三季度在全国十个城市中，劳动力缺口最大的岗位
 D. 2012年第三季度在全国十个城市中，失业人口最多的城市

三、根据以下资料，回答126~130题。

2012 及 2013 年 1~4 月某市电影院线票房情况

	场次（万）		观众人次（百万）		票房收入（亿元）	
	2012 年	2013 年	2012 年	2013 年	2012 年	2013 年
1 月	9.77	10.91	3.19	3.50	1.28	1.47
2 月	9.02	9.79	2.89	3.36	1.19	1.54
3 月	9.47	11.07	2.18	3.17	0.88	1.34
4 月	8.87	11.13	3.08	3.72	1.41	1.56



2012年及2013年4月该市广播影视主要创收情况

126. 2013年1~4月，该市电影院线平均每场电影观众人数最少的月份是（ ）。

- A. 1月 B. 2月 C. 3月 D. 4月

127. 2013年第一季度，该市电影院线平均每场电影的票房收入约为多少元？（ ）

- A. 1170 B. 1370 C. 1570 D. 1770

128. 2013年1~4月，该市电影院线票房收入同比增量从高到低排序正确的是（ ）。

- A. 3月—2月—1月—4月 B. 4月—2月—1月—3月
 C. 3月—4月—2月—1月 D. 4月—3月—1月—2月

129. 2012年1~4月，该市平均每天观看电影的观众超过10万人次的月份有几个？（ ）

- A. 1 B. 2 C. 3 D. 4

130. 关于2013年4月该市播放广播影视情况，能够从资料中推出的是（ ）。

- A. 广告收入同比上升了近两成 B. 电影观众人次环比增速下降

C. 电影票房收入同比增速快于其他收入 D. 电影播放场次环比增速慢于同比增速

四、根据以下资料，回答131~135题。

2008~2012年国家电网公司机组并网容量

单位：万千瓦

	2008年	2009年	2010年	2011年	2012年
并网总容量	61300	67100	74400	81800	88000
其中：清洁能源机组并网容量	13524	15357	17585	20260	24004
其中：水电并网容量	12214	13419	14458	15617	16816
核电并网容量	507	507	574	640	640
新能源发电机组并网容量	803	1431	2553	4003	6548

2008~2012年国家电网公司并网机组上网电量

单位：亿千瓦时

	2008年	2009年	2010年	2011年	2012年
总上网电量	22800	24300	28800	32400	33900
其中：清洁能源机组上网电量	4161	4321	4943	7177	24004
其中：水电上网电量	3662	3692	4103	4373	5518
核电上网电量	353	355	308	416	475
新能源发电机组上网电量	146	274	492	1154	1184

131. 下列年份中，国家电网公司并网机组总上网电量同比增速最快的是（ ）。

- A. 2010年 B. 2009年 C. 2012年 D. 2011年

132. 2012年清洁能源机组并网容量占当年并网机组总容量的比重比上年（ ）。

- A. 上升了5.5个百分点 B. 上升了2.5个百分点
C. 下降了5.5个百分点 D. 下降了2.5个百分点

133. 下列年份中，清洁能源机组上网电量占当年并网机组总上网电量比重最高的是（ ）。

- A. 2009年 B. 2008年 C. 2012年 D. 2011年

134. 下列哪一张图能反映2012年清洁能源机组并网容量中水电、核电和新能源发电的构成？（ ）



135. 关于2008~2012年间国家电网公司清洁能源的发展，能够从资料中推出的是（ ）。

- A. 新能源发电机组上网电量从2011年开始超过核电上网电量
B. 水电上网电量年均增长率超过同期水电并网容量年均增长率
C. 新能源发电机组并网容量翻了8番
D. 核电上网电量保持持续增长



2013 年中央、国家机关公务员录用考试试卷

《行政职业能力测验》

说 明

本测验卷共有五个部分，135道题，总时限为120分钟。各部分不分别计时，但都给出了参考时限，供你参考以分配时间。

请在题本、答题卡上严格按照要求填写好自己的姓名，填涂准考证号。

请仔细阅读下面的注意事项，这对你获得成功非常重要：

1. 题目应在答题卡上作答，在题本上作答的一律无效。

2. 监考人员宣布考试开始时，你才可以开始答题。

3. 监考人员宣布考试结束时，你应立即停止答题，将题本、答题卡和草稿纸都翻过来留在桌上，待监考人员确认数量无误，允许离开后，方可离开考场。

如果你违反了以上任何一项要求，都将影响你的成绩。

4. 在这项测验中，可能有一些试题较难，因此你不要在一道题上思考时间太久，遇到不会答的题目，可先跳过去，如果有时间再去思考。否则，你将可能没有时间完成后面的题目。

5. 试题答错不倒扣分。

6. 特别提醒你注意，涂写答案时一定要认准题号。

7. 严禁折叠答题卡。

第一部分 常识判断

(共20题，参考时限15分钟)

根据题目要求，在四个选项中选出一个正确答案。

请开始答题：

1. 《国家“十二五”时期文化改革发展规划纲要》提出要加大政府对文化事业建设的投入力度。下列属于政府投入保障政策的是（ ）。
 - A. 支持文化企业在海外投资、投标、营销、参展和宣传等活动
 - B. 继续完善文化市场的准入政策，吸引社会资本投资文化产业
 - C. 文化内容创意生产、非物质文化遗产项目经营享受税收优惠
 - D. 通过政府购买服务的方式，鼓励社会力量提供公共文化产品
2. 关于中国共产党历史上的重要会议，下列说法不正确的是（ ）。
 - A. 古田会议：解决新型人民军队建设问题
 - B. 遵义会议：纠正“左倾”的军事路线
 - C. 洛川会议：决定北上抗日的总方针
 - D. 瓦窑堡会议：确定建立抗日民族统一战线的方针政策
3. 中国人民艰苦卓绝的革命斗争中，诞生了不少脍炙人口的歌曲。下列歌词均来自这些著名歌曲，其中创作时期与其他三首不同的是（ ）。
 - A. 河西山冈万丈高，河东河北高粱熟了
 - B. 我们生长在这里，每一寸土地都是我们自己的
 - C. 每个人被迫着发出最后的吼声
 - D. 宽广美丽的土地，是我们亲爱的家乡
4. 下列经济指标与衡量对象对应关系正确的是（ ）。
 - A. 赤字率——财政风险
 - B. 恩格尔系数——收入分配差距
 - C. 基尼系数——居民生活水平
 - D. 生产者物价指数——货币供应量
5. 下列不属于收入再分配手段的是（ ）。
 - A. 最低工资保障
 - B. 最低生活保障
 - C. 税收
 - D. 社会保险
6. 下列诗句反映的历史事件，按时间先后排序正确的是（ ）。
 - ①北师覆没威海卫，签订条约在马关
 - ②鸦片带来民族难，销烟虎门海滩前
 - ③武装起义占三镇，武昌汉口和汉阳
 - A. ①③②
 - B. ②③①
 - C. ①②③
 - D. ②①③
7. 某县开展行政执法大检查：①某食品厂生产腐竹时非法添加硼砂被当场查获，县工商局以证据确

凿为由吊销该厂营业执照，不再另行举行听证会；②县矿业公司将含镉的工业废渣倾倒入河，造成河水镉浓度超标，县环保局、县水利局分别决定对其罚款10万元和5万元；③县卫生局接到群众举报某火锅店使用过期牛油，遂派一工作人员前往检查，对牛油进行查封、送检。上述县直单位做法妥当的是（ ）。

- A. 县工商局 B. 县环保局 C. 县水利局 D. 县卫生局

8. 下列法律现象与概念对应错误的是（ ）。

- A. 春秋之治狱，论心定罪——自由裁量权
B. 载于简牍谓之书，合而验之谓之契——合同
C. 一兔走，百人追之；积兔于市，过而不顾——物权
D. 罪疑惟轻，功疑惟重，与其杀不辜，宁失不经——疑罪从无

9. 下列做法符合我国法律规定的是（ ）。

- A. 某公立大学以其教学大楼产权作抵押向银行申请贷款
B. 某乡镇企业以所属土地使用权作抵押向银行申请贷款
C. 某农民以所属宅基地的使用权作抵押向银行申请贷款
D. 某国有企业以所属土地使用权作抵押向银行申请贷款

10. “天下九塞，雁门为首”，下列诗词描写“雁门关”的是（ ）。

- A. 黑云压城城欲摧，甲光向日金鳞开
B. 出关去，往辽东，诏徙十万填新丰
C. 长城饮马寒宵月，古戍盘雕大漠风
D. 八百里分麾下炙，五十弦翻塞外声，沙场秋点兵

11. 下列作品与评价对应不正确的是（ ）。

- A. 《桃花扇》——借离合之情，写兴亡之感
B. 《石头记》——满纸荒唐言，一把辛酸泪
C. 《儒林外史》——一部儒林，终之以琴，滔滔天下，谁是知音
D. 《聊斋志异》——使神魔皆有人情，精魅亦通世故

12. 下列表述正确的是（ ）。

- A. 人的唾液是由舌头分泌的 B. 胆分泌胆汁不足，容易导致胆囊炎
C. 食盐、鱼肝油可被消化道直接吸收 D. 正常情况下，卵细胞在子宫内受精

13. 关于中药，下列归类正确的是（ ）。

- A. 辛味药：连翘、杏仁 B. 甘味药：当归、人参
C. 酸味药：陈皮、黄连 D. 苦味药：黄柏、乌梅

14. 国家气象局地面观测规范规定，降水量仅包括垂直降水，即由空中降落到地面上的水汽凝结物。

按照这一标准，下列哪组现象都会被计入“降水量”？（ ）

- A. 雹、霜、雾 B. 雨、雪、霜
C. 雪、露、雾 D. 雨、雪、雹

15. 关于地球生物演化史，下列哪组排序是正确的？（ ）

- A. 蓝藻→蕨类→裸子植物→被子植物

- B. 节肢动物→草履虫→软体动物→脊椎动物
- C. 细菌→腔肠动物→爬行类→鱼类
- D. 苔藓→绿藻→菌类→双子叶植物

16. 下列卫星系列不属于我国对地观测卫星的是（ ）。

- A. “海洋”
- B. “风云”
- C. “天绘”
- D. “北斗”

17. 《萨马拉斯颂歌》1958年被正式确定为现代奥林匹克运动会永久会歌，并改名《奥林匹克颂歌》。


下列关于该会歌的表述错误的是（ ）。

- A. 《奥林匹克颂歌》是首庄严悠扬的乐曲
- B. 开、闭幕式都要演唱《奥林匹克颂歌》
- C. 《萨马拉斯颂歌》改编自古罗马管弦乐
- D. 《萨马拉斯颂歌》出现时间早于五环旗

18. 从3月下旬到10月上旬，太阳在地球上直射位置的移动规律是（ ）。

- A. 赤道→南回归线→赤道
- B. 赤道→北回归线→赤道
- C. 南回归线→赤道→北回归线
- D. 北回归线→赤道→南回归线

19. 对下列道路交通标志解释不正确的是（ ）。



- A. 注意儿童
- B. 注意行人
- C. 前方有施工
- D. “徒步”旅游区

20. 下列谚语与农业生产经验不符的是（ ）。

- A. 人在屋里热得跳，稻在田里哈哈笑
- B. 麦苗盖上雪花被，来年枕着馍馍睡
- C. 立秋无雨样样有，立秋有雨收半秋
- D. 下秧太冷怕烂秧，小秧出水怕青霜

第二部分 言语理解与表达

（共 40 题，参考时限 35 分钟）

本部分包括表达与理解两个方面的内容。请根据题目要求，在四个选项中选出一个最恰当的答案。

请开始答题：

21. 莫里哀曾说：“喜剧的责任，就是通过娱乐来纠正人的缺点。”近年来的法国轻喜剧，尤其擅长_____，用淡淡的笑声拆解社会难题的九连环，具有较高的思想价值和现实意义。

填入划横线部分最恰当的一项是（ ）。

- A. 举重若轻
- B. 借古讽今
- C. 微言大义
- D. 振聋发聩

22. 在人类历史上，科技发明和人工工程曾导致不少“出人意料”“始料不及”甚至“_____”

的结果。如果想少出一些这样的事，我们就应该对大自然始终保持一份_____，在推广新技术、上马新工程之前多一些研究评估，少一些独断专行。

依次填入划横线部分最恰当的一项是（ ）。

- A. 事与愿违 敬畏 B. 事倍功半 谨慎
C. 针锋相对 尊重 D. 南辕北辙 克制

23. 舞台上，一个是京剧大师，一个是交响乐指挥家；一会儿传来韵味十足的京腔，一会儿又是沁人心脾的管弦乐。面对京剧传承的尴尬和交响乐普及的艰难，这种“抱团取暖”的方式，把两个不搭界的艺术形式进行“嫁接”，究竟是_____还是异想天开？

填入划横线部分最恰当的一项是（ ）。

- A. 相得益彰 B. 取长补短 C. 推陈出新 D. 移花接木

24. 近年的欧洲连续经历严寒的冬天，这似乎与全球气候变暖的说法相左。但在不少专家看来，异常寒冷事件并未说明气候变暖趋势_____，相反，这是气候变暖大背景下全球极端天气愈加频发的_____。

依次填入划横线部分最恰当的一项是（ ）。

- A. 偏转 表现 B. 逆转 缩影 C. 倒转 象征 D. 反转 预兆

25. 20年市场经济改革，把中国经济送上了持续增长的快车道，把在现代化道路上艰苦跋涉的中国人推上了一个高峰。然而，_____，我们一刻都不曾忘记发展中那些“不平衡、不协调、不可持续”的风险隐患；_____，“发展起来以后的问题不比不发展时少”。

依次填入划横线部分最恰当的一项是（ ）。

- A. 夕惕若厉 如履薄冰 B. 防患未然 戒骄戒躁
C. 常备不懈 未雨绸缪 D. 居安思危 喜中有忧

26. 在一定程度上，全球化是对民族性的_____和挑战。它要求我们既要从民族的角度进行思考，也要学会从全球的角度进行分析；既要进行纵向思维，在发展中传承历史经验，也要注重横向思维，在_____中汲取他人之长。

依次填入划横线部分最恰当的一项是（ ）。

- A. 同化 交流 B. 排斥 沟通 C. 超越 比较 D. 吸纳 协商

27. 影响消费者口碑的，有时不是产品的主体，而是一些不太引人注目的“零部件”，如西服的纽扣、家电的按钮等等，这些_____的失误，却足以引起消费者的反感。赢得口碑必须对各项基础工作做得非常细致、到位并_____，只有产品和服务水平超过顾客的期望，才能让消费者在快乐享受的同时，广泛地进行传播。

依次填入划横线部分最恰当的一项（ ）。

- A. 随处可见 面面俱到 B. 漫不经心 有的放矢
C. 司空见惯 无微不至 D. 微不足道 持之以恒

28. 覆盖全国的高速公路网已经形成，高速铁路网正在迅速形成。中国已经是世界上最大的人力流动和物资流动国家，过去那种“_____”的产业分工格局已被打破，地区间产业分工趋向合理；全国范围内的产业链_____迅速推进，高效统一的全国大市场正在形成之中。

依次填入划横线部分最恰当的一项是（ ）。

- A. 自成一体 整合
- B. 壁垒分明 升级
- C. 各自为政 运转
- D. 条块分割 扩充

29. 无论是古代的邮驿系统还是现代的邮政系统，书信从寄信人到收信人手中，都需要经过一个时间、空间的旅行，它的特点是慢。而这种慢又_____了人们的情感体验方式和书信体验方式。正是因为书信的_____，古人的时空感知才变得遥远而漫长，而等待、盼望、忐忑、焦虑等等，便成为这种时空观的产物。

依次填入划横线部分最恰当的一项是（ ）。

- A. 成就 真实
- B. 培养 细腻
- C. 塑造 迟缓
- D. 丰富 浪漫

30. 经过墨子及其弟子们的毕生努力，《墨经》终于脱稿成书。在那古奥的外表下，数学、力学、光学等科学知识_____其中，一些概念定义和科学发现与西方近代科学十分_____，闪耀着惊人的智慧之光。

依次填入划横线部分最恰当的一项是（ ）。

- A. 散布 接近
- B. 汇聚 吻合
- C. 罗列 相似
- D. 融合 对应

31. 元代的方回，论诗颇有眼力，而对朱熹的诗却抬举过分，事出反常。这里除了有乡里私心的原因之外，很可能与方“秽德彰闻，依托道学”的隐曲有关，文人既心存依附之念，势必_____。再如，中国古代文论的作者，常常自己就兼作家身份，“文章得失寸心知”，发而为论，时有取长补短或_____的隐衷。

依次填入划横线部分最恰当的一项是（ ）。

- A. 进退维谷 才短思塞
- B. 随波逐流 博采众长
- C. 进退失据 扬长避短
- D. 骑虎难下 避实就虚

32. 我们如今有铺天盖地地新信息需要去消化和记忆。互联网、移动电话、电视和其它电子产品里，都_____地涌现出新鲜事物。当不同信息同时涌现在记忆中，人们会无法_____出与当前目标不相关的信息，甚至还会禁不住去思考那些尚未开始做的事情，于是会出现_____。

依次填入划横线部分最恰当的一项是（ ）。

- A. 源源不断 筛选 顾此失彼
- B. 滔滔不竭 挑选 杞人忧天
- C. 络绎不绝 遴选 应接不暇
- D. 层出不穷 甄选 急于求成

33. 尽管诗歌绝无翻译的可能，却大有翻译介绍的必要。有多位前辈时贤对诗歌翻译理论不乏鞭辟入里的_____。然而，何谓诗歌翻译的理想形式却_____。

依次填入划横线部分最恰当的一项是（ ）。

- A. 真知灼见 各执一端
- B. 不刊之论 见仁见智
- C. 不易之论 各持己见
- D. 远见卓识 众说纷纭

34. 在伦敦的日子里，我每天乘着红色的双层巴士在大街上_____，每天都有新发现。一次，在皮卡迪利广场，我又看到读小说的乞丐。在慵懒的夕阳下，那乞丐穿戴齐整_____地坐在马路旁，面前放着一个供路人扔硬币的碗。他把书放在碗旁的地面上，低着头，用手指指着页面，一行一行地读着。他读得那样认真，身边的车水马龙，周遭的一切_____，似乎都不复存在。

依次填入划横线部分最恰当的一项是（ ）。

- A. 徘徊 旁若无人 喧哗
B. 踟蹰 置若罔闻 喧腾
C. 穿行 泰然自若 喧闹
D. 穿梭 神情自若 喧嚣

35. 做学问首先是有一说一，实事求是，尊重原始实验数据的真实性。在诚实做研究的前提下，对具体实验结果的分析、理解有_____甚至错误是很常见的，这是科学发展的正常过程。可以说，许多学术论文的分析、结论和讨论都存在不同程度的_____，越是_____的科学研究，越容易出现错误理解和结论。

依次填入划横线部分最恰当的一项是（ ）。

- A. 争论 错误 严谨
B. 异议 弱点 复杂
C. 偏差 瑕疵 前沿
D. 意见 局限 真实

36. 怎么才能让老板给自己加薪？职场上最纠结的事情莫过于此。可是偏偏就有人_____，幽默地给我们做出了榜样。漫画《老板，求加薪》中给我们列出了加薪三十六计，从借刀杀人到_____，书中的妙计连连，让人忍俊不禁。虽然都是些_____的招式，但或许你的加薪之道就在其中。

依次填入划横线部分最恰当的一项是（ ）。

- A. 知难而上 两面三刀 出人意表
B. 激流勇进 刀头舔蜜 出奇制胜
C. 游刃有余 代人捉刀 鸡鸣狗盗
D. 举重若轻 笑里藏刀 剑走偏锋

37. “达”意为显贵，无论处在什么样的社会形态和社会阶段，所谓“达者”始终只占少数。如果“穷者”只顾自己的_____，只有占社会成员少数的“达者”才“兼济天下”，那么当今社会的风气不可想象。如果团结互助、志愿服务的社会风气只依靠占少数的“显达”成员来_____，那么和谐社会、社会主义现代化建设只能是_____。

依次填入划横线部分最恰当的一项是（ ）。

- A. 涵养 承受 梦想
B. 修养 承担 空谈
C. 教养 负责 幻想
D. 素养 负担 空想

38. 可以毫不夸张地说，每一个老字号背后都是道不尽的_____，数不清的传奇风流。但是有的地方的老字号或者消失或者_____，唯独广州的中药老字号不仅数量多，而且各个越活越年轻。这其实与广州人对中医药文化的推崇和信任_____。

依次填入划横线部分最恰当的一项是（ ）。

- A. 人生百态 朝不保夕 息息相通
B. 辛酸无奈 岌岌可危 休戚相关
C. 沧海桑田 危在旦夕 休戚与共
D. 苦心孤诣 奄奄一息 息息相关

39. 早在几千年前，人类已开始利用酵母来制作发酵产品。最早在市场上销售的产品是酵母泥，它的发酵速度快，但_____和使用不便，产品的商业化受到了一定的_____。从销售酵母泥算起，酵母制造工业已有200余年的历史了。酵母现已成为世界上研究最多的微生物之一，是当今生物技术产品研究开发的_____。

依次填入划横线部分最恰当的一项是（ ）。

- A. 保存 影响 支柱
B. 运输 限制 热点
C. 销售 阻碍 关键
D. 制作 干扰 难点

40. 创新路上，中国科技正不断向各种高度、深度和广度_____。而“精度”的意义在于，它既是科技创新的目标，也是_____科技创新质量的标尺，神九展现的“中国精度”，实质上是创新的结果，更是不断追求创新的号角。

依次填入划横线部分最恰当的一项是（ ）。

- A. 拓展 衡量 推动 B. 扩大 考量 拉动
C. 延伸 丈量 驱动 D. 发展 考察 促进

41. 先秦儒家的“人情—秩序”理论一方面确实存在压抑人性、压抑情感的消极因素；另一方面，我们也不能否认其正面价值，它是站在治世的高度探寻人生修养之艺术，将个体性情自由与群体政治需要融为一体，把情感发动与秩序建构统一起来，为治世之道开出了一剂良方。先秦儒家的这种治世理论对于当下的和谐社会建设不无有益的启示。如今，我们在强调个性自由的同时，也应当为这种自由设定一个边界：社会和谐。唯有如此，个体真性情的发动才能具有合理性与正当性，个体与社会才能达成统一，而这正是和谐社会建立的根基。

这段文字主要是说明先秦儒家“人情—秩序”理论的（ ）。

- A. 时代特征 B. 现实意义 C. 独特价值 D. 深远影响

42. 《中华人民共和国老年人权益保障法（修订草案）》明确规定，赡养人应履行对老年人经济上供养、生活上照料和精神上慰藉的义务，照顾老年人的特殊需求。应当关心老年人的精神需求，不得忽视、冷落老年人，与老年人分开居住的赡养人，应当经常看望或者问候老年人。而专家表示，应当大力倡导赡养人经常看望慰问老人，但如何入法，语言上要仔细推敲。

下列作为选文标题最恰当的一项是（ ）。

- A. 请关注老年人的精神赡养 B. “常回家看看”如何入法
C. 精神赡养是道德更是法律 D. “常回家看看”或入法律

43. 我磕磕绊绊地走在村庄里，似乎仅仅听到了自己的脚步声和喘息。两堵泥墙的夹缝偶尔闪出一条窄窄的小巷，光滑的石板路笔直地伸入纵深之后一折绕走了。巷子尽头的泥墙有一扇小小的石窗，窗内乌黑一片。沿途遇见了若干倒塌的院落，阳光之下芳草萋萋，几堵孤立的残墙缄默不语，两扇开始朽烂的门板黯然歪倒在地。随行的朋友从路上捡起一根竹条，说下一个路口的几条狗十分凶悍。话音未落，一群大大小小的黄狗雄赳赳地冲出来，拥挤在路口伸长脖子狂吠，仿佛他们才是这些房子的真正主人。

这段文字最合适的标题是（ ）。

- A. 宁静的村庄 B. 落寞的村庄 C. 孤独的村庄 D. 原始的村庄

44. 有着36亿年历史的细菌是整个生命史中的耐力冠军，是地球上最大的“适者”。在很多学者看来，无论将来人类将如何统治地球，细菌地位的改变仍然无法想象。它们的数量居于压倒性地位，种类之繁无可匹敌；它们的生活环境极为广泛，代谢模式又无可比拟。人类对于环境的破坏性行为可能招致自身的毁灭，但对于种类繁多的细菌来说却毫无影响。

这段文字意在强调（ ）。

- A. 微小的细菌相对于人类来说生命力更强 B. 地球的自然环境最适宜于细菌生长繁殖
C. 细菌的生存繁殖远远超出了人们的想象 D. 遵循自然规律才是人类的生存发展之道

45. 生命是如此的复杂，以至于几乎每一位生物学家都只能在一个很小的领域进行探索。尽管在每

一个领域都产生了大量的描述性数据，但是科学家能够从这些海量的数据中得出一个整体的概念吗？例如，生物是如何运作的？系统生物学这门正在形成的学科为回答这些问题提供了一些希望。它试图把生物学的各个分支联系起来，利用数学、工程和计算机科学的方法让生物学研究更加量化。不过，现在还无法得知这些方法是否能够最终让科学家理解生物运作的整体图景。

这段文字意在说明（ ）。

- A. 获取描述性数据是生物研究的必要条件
- B. 系统生物学为解开生命之谜提供了可能
- C. 如何从生物学数据中得到生命全景还是未知
- D. 对生物运作的整体图景进行科学解释即将成为现实

46. 页岩气燃料因价格便宜和洁净，现已成为许多国家政府、石油公司以及地质勘探和开采公司的重点研究目标。预计中国未动用的页岩气储量比普通天然气多10倍，比美国的储量还高。美国对页岩气的使用已走在了前面，一些专家表示，页岩气可能帮助美国摆脱对进口能源的依赖。21世纪初，页岩气使用只占美国天然气总量的1%。而今天已占到25%，以后还可能再增加。然而，这并不意味着中国可以复制美国的过程。亚洲的地质情况与美洲有很大差别，而且每个国家开发页岩气所需要解决的问题都是不同的，必须考虑诸如页岩中气的含量，施工成本、后勤保障，以及地质和地球化学等参数。

根据这段文字，下列说法正确的是（ ）。

- A. 中国页岩气燃料的储量居世界第一位
- B. 页岩气燃料开采时对生态环境破坏不大
- C. 地质条件决定了各国页岩气开发的独特性
- D. 目前世界各国都在加大对页岩气的开采投入

47. 市场经济以自愿交易为基础，交易即产权的交换，交易顺利完成的前提是产权的界定和保护。若无产权保护，市场就有可能变成战场，侵占将取代互利，成为配置资源的主要方式。若想防止暴力配置资源，社会必须保护产权和保证契约的执行，这就需要一个完善的法律体系，法律的作用是惩罚侵权者和违约者。

这段文字意在说明（ ）。

- A. 产权受到法律保护市场经济才能够正常运行
- B. 制定产权保护的相关法律可以有效惩治侵权
- C. 市场经济发展的前提是遵循公平互利的原则
- D. 资源有效配置应从产权的界定和保护入手

48. 所谓声誉，实际上是企业利益相关者对企业过去在市场交易中的表现的评价。声誉良好的企业，意味着在与利益相关者交易的历史中，扮演着可以信赖的伙伴角色。个人或者组织选择自己的交易对象，_____。因此，那些有着良好信用记录的企业，将更多地获得利益相关方的青睐，而且彼此的交易更倾向于继续发展下去，而不是“一锤子买卖”。

填入划横线部分最恰当的一句是（ ）。

- A. 往往取决于企业在行业中的地位和影响力
- B. 是凭借自己或者他人的交易经验来进行判断的

- C. 需要考虑双方企业发展的切实需要
- D. 合作对象的知名度是其首要考虑的因素

49. 每个人的德性都与公共生活紧密相关。现代国家中的公民，是构成社会的基本分子，离不开公共生活。公共生活的重要部分之一，就是完全超越利己动机的公益慈善。事实上，追问人的本性，每个社会成员都有向善、为善的一面。与其说这是完成他的社会责任，不如说这会给他带来助人的喜悦和欢愉。这既是本性，也是权利。那种片面地将公益慈善视为社会精英特权或某些组织禁脔的思想，是无视人之本性的陋见，不利于公共伦理和公共道德的形成，是阻碍现代公民意识生成的绊脚石。

这段文字意在强调（ ）。

- A. 德性与公共生活紧密相关
- B. 行善给人带来喜悦和欢愉
- C. 做善事是社会成员的权利
- D. 不正确的慈善观危害甚大

50. ①据此，洪堡提出了青藏高原“热岛效应”理论

②这不符合常理

③早在18世纪末，德国科学家洪堡就发现，赤道附近的高山雪线，比中纬度的青藏高原许多高山的雪线低200米左右

④故其热量较同纬度、同海拔高度的其他地区高得多，甚至比赤道附近的同海拔地区也要高得多

⑤对流层大气的主要直接热源是地面，青藏高原由于下垫面大面积提升，相当于把“火炉”升高了

⑥由于赤道地区热量较高，高山雪线通常应该从赤道向两极递降，到极地附近降至海平面

将以上6个句子重新排列，语序正确的是（ ）。

- A. ③②⑥①⑤④
- B. ③①⑤④②⑥
- C. ⑥②③①⑤④
- D. ⑥②③⑤④①

51. ①上个世纪30年代，徽州的一些文献陆续流往杭州、南京等地

②抗战结束之初，历史学家方豪在南京购得一批徽州文书，于上世纪70年代撰写并发表了十几篇论文，这是目前所知学术界对徽州文书的第一次收集

③徽州文书是徽州民众在日常生活、商业活动和其他社会活动中形成的原始档案

④目前所知从徽州外流最早的文书，是现藏于美国哈佛大学燕京图书馆的明代歙县方氏信函700通。这批尺牍在晚清光绪以前就已流入日本

⑤随着时代的变迁，这些文书档案逐渐散落出来

⑥它们原先主要保存在私人手中，还有的保存于祠堂、文会等各类基层组织的管理者手中

将以上6个句子重新排列，语序正确的是（ ）。

- A. ②③⑥⑤④①
- B. ②③⑤④⑥①
- C. ③①⑥⑤④②
- D. ③⑥⑤④①②

52. 让我们爱恨交织的技术太多了，从世人完全陌生到人人耳熟能详，它们大部分只花了几十年的时间，势头快得让人不敢掉以轻心。这里面就包括机器人。但近几年，人工智能前行的步伐把机器人研发带到了一个崭新的领域，它们不但眼耳口鼻、连所思所行都越来越像我们人类。不过，这种改变却是渐进式的，这让人类似乎很难真的意识到正在发生改变的机器人意味着什么，或者说，未必做好了应对这一改变的准备。于是近日，美国《国家地理》以《我们，与他们》为题撰写了一篇文章，试图

填入划横线部分最恰当的一句是（ ）。

- A. 揭开人工智能技术的神秘面纱
- B. 探索机器人和人类当前的关系及未来发展
- C. 说明目前机器人并不会达到人类的思维水平
- D. 反思当前人工智能技术对人类伦理道德观的冲击

53. 美国交通运输业正逐渐从以石油为基础过渡为采用多种替代能源，如乙醇、生物柴油、电力或氢能等。为了更加壮大这支队伍，能源部阿贡国家实验室的研究人员已经开始调查将压缩天然气（CNG）作为轻型轿车和卡车能源选择的可能性。CNG 汽车是指主要由甲烷构成的天然气在25兆帕左右的压力下储存在车内类似于油箱的气瓶内、用作汽车燃料。使用 CNG 替代汽油作为汽车燃料，可大量减少温室气体排放和噪音污染，而且其不含铅、苯等致癌的有毒物质。

下列说法与原文不符的是（ ）。

- A. CNG 作为卡车能源可能性很大
- B. CNG 可能会成为一种替代能源
- C. 美国交通运输业现在仍以石油为基础
- D. CNG 替代汽油作为汽车燃料好处很多

54. “孤独乔治”恐怕是世界上最有名的单身汉了，它是加拉帕戈斯群岛象龟一个亚种中最后的成员，多年来，它都孑然一身，人类将它与近亲繁殖的尝试也终告失败。2012年6月，“孤独乔治”被发现死亡，享年已达100多岁。在过去的四十年中，乔治作为世界上最稀有的生物，成为了全球物种保护的象征符号。它的形象曾经出现在纸币、邮票、纪念币上。乔治死后，当地的达尔文大道上的一块黑板上写着：“_____”。

填入划横线部分最恰当的一句是（ ）。

- A. 乔治，物种的终结者
- B. 我们不想再看到下一个
- C. 我们亲眼目睹了灭绝
- D. 又一个物种亚种消失了

55. 木版年画曾是我国民间最普及的艺术品之一，如今，随着生活方式的改变，具有浓郁乡土气息的传统年画几乎已无迹可寻。这些改变，不仅使年节少了许多味道，也使木版年画的手工技艺面临生存的危机。如果其不能应世而变，终将成为博物馆里的标本。但从文化遗产的角度看，木版年画又不应在商业过程中肆意改变，那么与社会适应又不失人文内涵就成了新的课题。

这段文字想要传递的信息是（ ）。

- A. 年画的传统功能减弱但文化价值依然存在
- B. 传统技艺如何在市场竞争中保持其生命力
- C. 木版年画需要在保留传统的同时进行创新
- D. 生活方式的变化导致木版年画正逐渐衰退

56. 语言文字功底扎实，大致意思是要求学者能较好地掌握研读经典和撰写论文所需要的语言文字。这一点具有普适性，而对于研究传统文化或西方文化、印度文化的学者来说尤其重要。没有扎实的古文字功底，不熟练掌握英语、梵文等外语，仅从白话本、汉译本这些二手资料入手来做学问，固然也可以取得一定的学术成果，但不大可能成为学术大家。

这段文字意在说明（ ）。

- A. 掌握古文字和外语是搞好学术研究的前提
- B. 占有第一手资料才能取得突出的学术成果
- C. 正确解读语言文字是文化研究的关键所在
- D. 语言文字功底影响学术研究的深度与水平

57. 城墙是古代城市的标志，也是研究城市发展的独特角度。对中国城墙的描述，自古以来就大量出现在正史、方志、文学作品或绘图绘画中，并且是都城学、规划学、军事学等多门学科的重要研究对象，这说明城墙并非一堵“墙”那么简单。可以说，每一座古城墙，都是一本厚重的大书，每一块城砖、每一座城门、每一段护城河，都是这本大书中的一行一页。面对如此厚重的中国城墙，我们当心存敬畏。

这段文字意在说明（ ）。

- A. 应对古城墙的文化遗产价值予以重视
- B. 古城墙的文化价值远高于其商业价值
- C. 亟须对现存的古城墙开展保护和研究
- D. 城墙为研究城市发展提供了独特视角

58. “90后”一代拥有一个网络童年，信息技术革命带来的社会变迁在他们身上打下了深深的烙印。他们中的不少人使用“火星文”，装扮怪异，喜欢动漫，照毕业照时不会正襟危坐，而要追求“古灵精怪”的效果……例如舆论的关注点和兴奋点都集中在这些个性行为上，关于“90后”的刻板印象就会悄然形成。从而导致对这个群体的认知偏差。

这段文字未暗示的信息是（ ）。

- A. 舆论过分关注“90后”的个性行为
- B. “90后”身上也蕴含着优秀的品格
- C. 社会应以包容的心态看待“90后”
- D. “90后”受到网络文化的巨大影响

59. 童话故事《木偶奇遇记》中，木偶人匹诺曹一撒谎，鼻子就会变长，谎话显而易见。现实生活中，虽然说谎话时我们的鼻子不会变长，但我们身体确实也会产生一些细微的生理变化，有的通过肉眼就可以观察到，有的则要通过精密的测谎仪器才测试出来。日前，美国犹他州大学的科学家研发出一款新型的眼球测谎仪，通过追踪眼球运动来判断被测试人有没有说谎。

作者接下来最有可能讲述的是（ ）。

- A. 眼球测谎仪如何识别撒谎
- B. 眼球测谎仪市场前景广阔
- C. 目前市场上测谎仪的种类
- D. 眼球测谎仪未来发展趋势

60. 在陈列馆里，有一只名为“西班牙公主”的船舶模型上雕刻着这样的文字：本船共计航海50年，其中11次遭遇冰川，有6次遭海盗抢掠，有9次与另外的船舶相撞，有21次发生故障抛锚搁浅。陈列馆的一面墙上，是对上千年来造船厂的所有出厂的船舶的概述：造船厂出厂的近10万只船舶当中，有6000只在大海中沉没，有9000只因为受伤严重不能再进行修复航行，有6万只船舶都遭遇过20次以上的大灾难，没有一只船从下海那一天开始没有过受伤的经历……

与这段文字主旨无关的名言是（ ）。

- A. 对于不屈不挠的人来说，没有失败这回事
- B. 对勇气的最大考验，就是看一个人能否做到败而不馁
- C. 人的一生就是进行尝试，尝试得越多，生活就越美好
- D. 人生的光荣，不在永不失败，而在于能够屡仆屡起

第三部分 数量关系

(共 15 题，参考时限 15 分钟)

在这部分试题中，每道题呈现一段表述数字关系的文字，要求你迅速、准确地计算出答案。

请开始答题：

61. 某单位2011年招聘了65名毕业生，拟分配到该单位的7个不同部门，假设行政部门分得的毕业生人数比其他部门都多，问行政部门分得的毕业生人数至少为多少名？（ ）
- A. 10 B. 11 C. 12 D. 13
62. 阳光下，电线杆的影子投射在墙面及地面上，其中墙面部分的高度为1米，地面部分的长度为7米。甲某身高1.8米，同一时刻在地面形成的影子长0.9米。则该电线杆的高度为（ ）。
- A. 12米 B. 14米 C. 15米 D. 16米
63. 某汽车厂生产甲、乙、丙三种车型，其中乙型产量的3倍与丙型产量的6倍之和等于甲型产量的4倍，甲型产量与乙型的2倍之和等于丙型产量的7倍。则甲、乙、丙三型产量之比为（ ）。
- A. 5:4:3 B. 4:3:2 C. 4:2:1 D. 3:2:1
64. 甲和乙进行打靶比赛，各打两发子弹，中靶数量多的人获胜。甲每发子弹中靶的概率是60%，而乙每发子弹中靶的概率是30%。则比赛中乙战胜甲的可能性为（ ）。
- A. 小于5% B. 在5%~10%之间 C. 在10%~15%之间 D. 大于15%
65. 某单位组织党员参加党史、党风廉政建设，科学发展观和业务能力四项培训，要求每名党员参加且只参加其中的两项。无论如何安排，都有至少5名党员参加的培训完全相同，问该单位至少有多少名党员？（ ）
- A. 17 B. 21 C. 25 D. 29
66. 某种汉堡包每个成本4.5元，售价10.5元。当天卖不完的汉堡包即不再出售，在过去十天里，餐厅每天都会准备200个汉堡包，其中有六天正好卖完，四天各剩余25个。问这十天该餐厅卖汉堡包共赚了多少钱？（ ）
- A. 10850 B. 10950 C. 11050 D. 11350
67. 某人银行账户今年底余额减去1500元后，正好比去年底余额减少了25%，去年底余额比前年余额的120%少2000元，则此人银行账户今年底余额一定比前年底余额（ ）。
- A. 多1000元 B. 少1000元 C. 多10% D. 少10%
68. 书架的某一层上有136本书，且是按照“3本小说、4本教材、5本工具书、7本科书、3本小说、4本教材……”的顺序循环从左至右排列的。问该层最右边的一本是什么书？（ ）
- A. 小说 B. 教材 C. 工具书 D. 科技书
69. 根据国务院办公厅部分节假日安排的通知，某年8月份有22个工作日，那么当年的8月1日可能是（ ）。
- A. 周一或周三 B. 周三或周日 C. 周一或周四 D. 周四或周日

70. 某河段中的沉积河沙可供80人连续开采6个月或60人连续开采10个月。如果要保证该河段河沙不被开采枯竭，问最多可供多少人进行连续不间断的开采？（假定该河段河沙沉积的速度相对稳定）（ ）

- A. 25 B. 30 C. 35 D. 40

71. 公路上有三辆同向行驶的汽车，其中甲车的时速为63公里，乙、丙两车的时速均为60公里，但由于水箱故障，丙车每连续行驶30分钟后必须停车2分钟。早上10点，三车到达同一位置，问1小时后，甲、丙两车最多相距多少公里？（ ）

- A. 5 B. 7 C. 9 D. 11

72. 某市园林部门计划对市区内30处绿化带进行补栽，每处绿化带补栽方案可从甲、乙两种方案中任选其中一方案进行。甲方案补栽阔叶树80棵，针叶树40株；乙方案补栽阔叶树50株、针叶树90株。现有阔叶树苗2070株、针叶树苗1800株，为最大限度利用这批树苗，甲、乙两种方案要应各选（ ）。

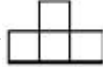
- A. 甲方案18个、乙方案12个 B. 甲方案17个、乙方案13个
C. 甲方案20个、乙方案10个 D. 甲方案19个、乙方案11个

73. 小王参加了五门百分制的测验，每门成绩都是整数，其中语文94分，数学的得分最高，外语的得分等于语文和物理的平均分，物理的得分等于五门的平均分，化学的得分比外语多2分，并且是五门中第二高的得分，问小王的物理考了多少分？（ ）

- A. 94 B. 95 C. 96 D. 97

74. 两个派出所某月内共受理案件160起，其中甲派出所受理的案件中有17%是刑事案件，乙派出所受理的案件中有20%是刑事案件，问乙派出所在这个月中共受理多少起非刑事案件？（ ）

- A. 48 B. 60 C. 72 D. 96

75. 若干个相同的立方体摆在一起，前、后、左、右的视图都是，问这堆立方体最少有多少个？（ ）

- A. 4 B. 6 C. 8 D. 10

第四部分 判断推理

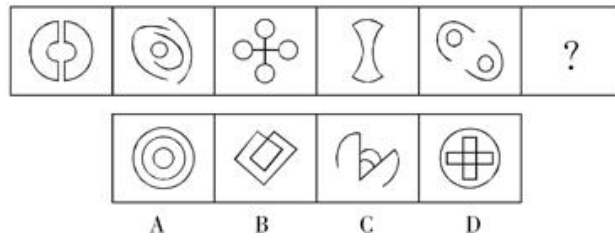
（共 40 题，参考时限 35 分钟）

本部分包括四种类型的试题：

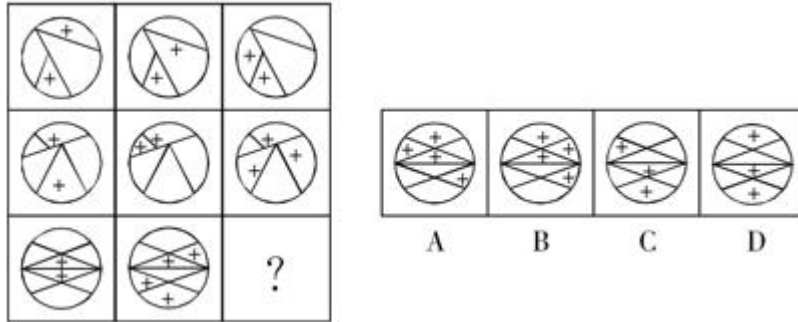
一、图形推理。请按每题的答题要求作答。

请开始答题：

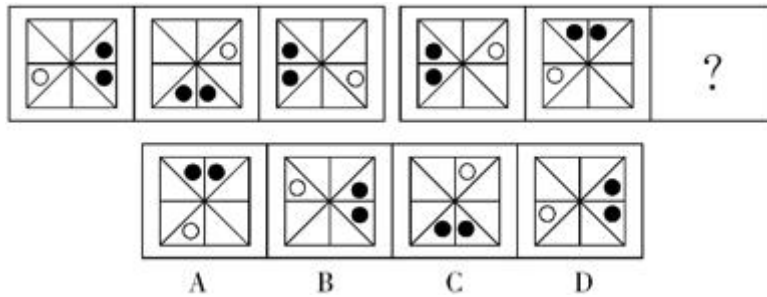
76. 从所给的四个选项中，选择最合适的一个填入问号处，使之呈现一定的规律性。




77. 从所给的四个选项中，选择最合适的一个填入问号处，使之呈现一定的规律性。



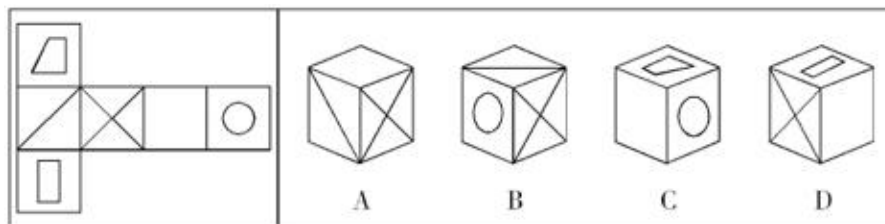
78. 从所给的四个选项中，选择最合适的一个填入问号处，使之呈现一定的规律性。



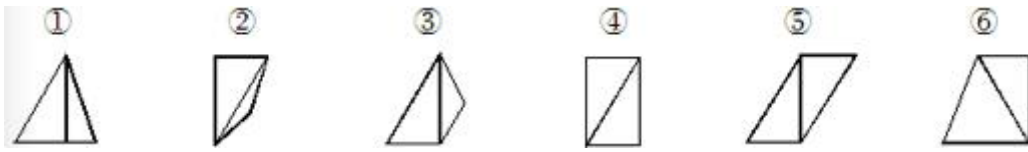
79. 一立方体如图所示从中挖掉一个圆锥体，然后从任意面剖开，下面哪一项不可能是该立方体的截面？（ ）



80. 左边给定的是纸盒的外表面，右边哪一项能由它折叠而成？（ ）

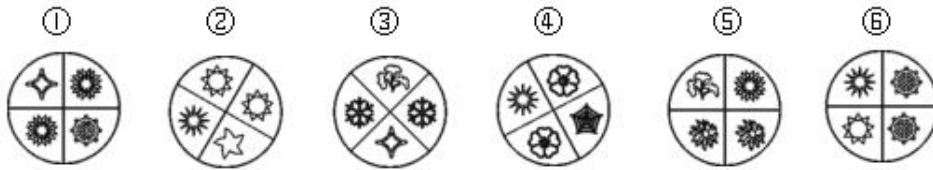


81. 把下面的六个图形分为两类，使每一类图都有各自的共同特征或规律，分类正确的一项是（ ）。



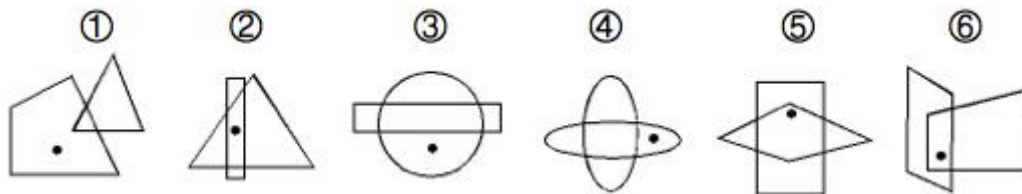
- A. ①④⑥, ②③⑤
 B. ①④⑤, ②③⑥
 C. ①②⑤, ③④⑥
 D. ①③⑥, ②④⑤

82. 把下面的六个图形分为两类，使每一类图都有各自共同特征或规律，分类正确的一项是 ()。



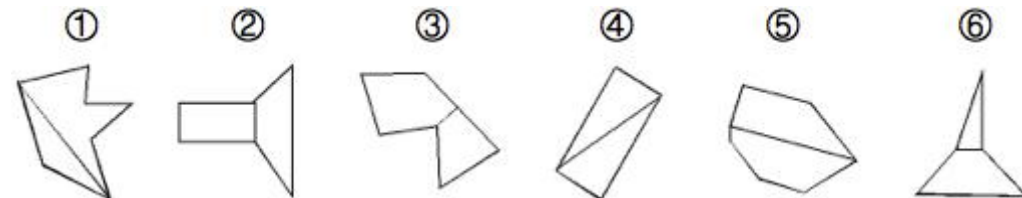
- A. ①③⑤, ②④⑥
 B. ①④⑥, ②③⑤
 C. ①③④, ②⑤⑥
 D. ①②⑤, ③④⑥

83. 把下面的六个图形分为两类，使每一类图都有各自共同特征或规律，分类正确的一项是 ()。



- A. ①⑤⑥, ②③④
 B. ①③④, ②⑤⑥
 C. ①②④, ③⑤⑥
 D. ①②⑤, ③④⑥

84. 把下面的六个图形分为两类，使每一类图都有各自共同特征或规律，分类正确的一项是 ()。



- A. ①③⑥, ②④⑤
 B. ①②⑤, ③④⑥
 C. ①②⑥, ③④⑤
 D. ①④⑤, ②③⑥

85. 把下面的六个图形分为两类，使每一类图都有各自共同特征或规律，分类正确的一项是 ()。

- ① ② ③ ④ ⑤ ⑥
- % C 互 ↑
○
- Y §
- A. ①②④, ③⑤⑥ B. ①②③, ④⑤⑥
- C. ①③⑥, ②④⑤ D. ①③⑤, ②④⑥

二、定义判断。每道题先给出定义，然后列出四种情况，要求你严格依据定义，从中选出一个最符合或最不符合该定义的答案。注意：假设这个定义是正确的，不容置疑的。

请开始答题：

86. 职业认同是指个人对所从事的职业主观建构的、与职业特征联系在一起的认知和感受，常常包括职业角色的意义感和价值感、职业是否有乐趣和吸引力等。职业认同分为过程性职业认同和状态性职业认同。其中过程性职业认同是指个体从自己经历中逐渐发展出的认同自己职业角色的过程；状态性职业认同是指个体当前对自己所从事职业的认同程度。

根据上述定义，下列属于过程性职业认同的是（ ）。

- A. 身为一名警察，老张几十年如一日，始终将维护公共安全的原则牢记于心
- B. 李老师凭借自己灵活的授课方式赢得最佳教师奖，为此她深感自豪
- C. 听完老党员的模范事迹，小赵顿时感觉到作为一名党员干部身上肩负的重任
- D. 陈医生行医多年，“救死扶伤”四个字已从字面意思转变为人生追求

87. 获致身份是指一个人经历某种公开的、具有竞争性的奋争或因具备某种特殊的本领而获得的社会地位。

根据上述定义，下列选项符合获致身份说法的是（ ）。

- A. 生子当如孙仲谋 B. 王侯将相宁有种乎
- C. 忠臣必出孝子之门 D. 上品无寒门，下品无士族

88. 制度的反功能指的是该制度实现了系统的某些功能之后而产生的副作用，诸如破坏该系统的内部协调、稳定关系，造成系统内部冲突，对系统良性运行产生破坏作用等现象。

根据上述定义，下列涉及制度的反功能的是（ ）。

- A. 某校实行绩效考核，实行一段时间后引发了教师争抢上课、乱发文章等一系列问题
- B. 某售楼处规定销售额可以提成，结果某销售员一个月卖房近50套
- C. 一对夫妻新婚后实行家庭消费AA制，一段时间后觉得不方便就取消了
- D. 某部门实行人性化管理，结果上班迟到现象反而比实行考勤制度时减少了

89. 优势富集效应是一种起点发展理论，是指起点上的微小优势经过关键过程的级数放大，产生更大级别的优势积累。

根据上述定义，下列不属于优势富集效应的是（ ）。

A. 某名牌大学建校时间很早，文化传统悠久，并拥有政策、资金等多方面支持，全国许多优秀的学生填写高考志愿时都选择了该校

B. 上海的金茂大厦楼体高度略微超过“东方明珠”电视塔，被誉为“中华第一高楼”，因此吸引了众多游客和广告商，各类会议也常在此举办，呈现后来居上的态势

C. 某教育培训机构为了拓展业务，也像别的培训机构那样，通过发送宣传单来进行宣传，后来随着规模的不断扩大，服务质量也更上一层楼，成为业内的典范

D. 某服装品牌设立之初，最先提出要做“夹克之王”的理念，并通过电视媒体进行推广，后来这个概念逐渐被人们认可，许多人都认为买夹克就应该买这个品牌的

90. “翻异别勘”是宋代为防止冤假错案而规定的复审制度，是指犯人如果在录问或行刑时提出申诉，案件必须重新审理。宋代的“翻异别勘”分为原审机关的“移司别勘”和“差官别勘”两种形式。“移司别勘”是指由原审机关将案子交给另一个同级的司法机关复审。“差官别勘”是指原审机关将案子申报到上级机关，由上级机关负责差派与原审机关不相干的另外一个机关的官员重新审理。这种情况下，往往或者是差派上级机关的官员前往原审机关主审，或者将案子移往上级机关复审。

根据上述定义，下列不属于“翻异别勘”的是（ ）。

- A. 犯人对州县审理的案件提出申诉，可以将案件移交至州县的上级——路的长官进行重审
- B. 宋代中央司法机关刑部分左、右两厅，对其中一厅审理的案件，若犯人提出申诉，则由另一厅重审
- C. 犯人对州县审理的案件提出申诉，州县的上级——路的长官可以亲至州县对案件进行重审
- D. 宋代地方司法机关从上至下分为路、州、县三级，对由县上诉至州的案件作出判决后，若犯人提出申诉，则由州发回县重审

91. 求助者有两种求助动机：执行性求助和工具性求助。前者是自己不作任何尝试或努力，只想知道答案或让他人代自己完成任务；后者是借助其他人的力量以达自己解决问题或实现目标的目的。

根据上述定义，下列属于工具性求助的是（ ）。

- A. 妈妈为五岁的小明报了很多兴趣班，小明在兴趣班中结识了许多新朋友
- B. 家教老师耐心讲解了这道题的思路和原理后，小斌还是请老师直接给出答案
- C. 综合了多家咨询机构提供的意见，小峰拟定了符合自身条件的出国学习规划
- D. 小文每次阅读英语文章遇到生词时都会查阅电子词典，掌握生词的读音和意义

92. 生态演替是指在同一地段上生物群落有规律的更替过程，分为原生演替和次生演替两类。在过去从未有过植被，或者原来有过植被但被彻底破坏，原有植被下的土壤已不复存在的裸地上开始的演替称为原生演替；在原有植被虽已被破坏，但仍保持着土壤和植物繁殖体的地方开始的演替称为次生演替。发生次生演替的生物群落趋向于恢复到破坏前的形态。

根据上述定义，下列可能导致次生演替的情形是（ ）。

- A. 人类利用转基因技术培育的植物种子洒向森林
- B. 某岛屿火山爆发之后，火山岩浆覆盖整座岛屿
- C. 当森林被反复砍伐后，演化成为了稀疏的草原
- D. 水坝建成后下游湖泊干涸，沿湖植被大多枯死

93. 电子反对抗是指防止敌方或己方的电子对抗措施影响己方的设备和人员作战效能所进行的各种活动，以防护己方的战争力不遭受其损害，主要措施包含电子反侦察、电子反干扰、抗反辐射摧毁、抗定向能致盲和抗计算机病毒传染。

根据上述定义，下列选项不涉及电子反对抗的是（ ）。

- A. 军事演习前，演习指挥中心提前对使用的电脑进行病毒查杀
- B. 发射车向敌方发射反辐射导弹，关闭己方电子设备以免误击
- C. 军舰在冲突海域降低雷达发射信号功率，并设置反辐射诱饵
- D. 为对抗敌方电子干扰，指挥部决定重要指令用固定电话下达

94. 文化自觉是指生活在一定文化中的人，对自己的文化有“自知之明”，即明白它的来历、形成过程、特色和发展趋向，从而增强自身文化转型的能力，并获得在新的时代条件下进行文化选择的能力和地位。此外，文化自觉还表现为应具有世界眼光，能够理解别的民族的文化，增强与不同文化之间接触、对话、相处的能力。

根据上述定义，下列选项属于文化自觉的是（ ）。

- A. 经谈判，中方同意增加美国电影进行中国市场的配额
- B. 为保护贵州梭嘎苗族文化习谷建立了梭嘎生态博物馆
- C. 赵武灵王的“胡服骑射”与北魏拓跋式的“禁断胡语”
- D. 湖北省襄樊市与河南省南阳市都自称是“诸葛亮故里”

95. 偶然音乐是指音乐家在创作中将偶然性因素引入创造过程或演奏过程的一种音乐形式。具体方法包括：谱写作品时采用随意手法，允许演奏者进行没有任何提示的即兴演奏，甚至以改造乐器或加入场外声响来演奏曲目。

根据上述定义，下列选项不属于偶然音乐的是（ ）。

- A. 指挥家在演出前随机决定使用乐器的数量、演出时长以及参演人数
- B. 在钢琴琴弦中塞进橡皮和铁钉等物以模拟打击乐的声响来演奏音乐
- C. 用掷骰子、丢硬币来确定作品的音高、力度与配器等并创作成曲谱
- D. 演奏者保持沉默，此时台上台下偶然出现的掌声、笑声构成了乐曲

三、类比推理。每道题先给出一组相关的词，要求你在备选答案中找出一组与之在逻辑关系上最为贴切、相似或匹配的词。

请开始答题：

96. 认真：一丝不苟

- A. 清楚：一清二楚
- B. 正确：分毫不差
- C. 温暖：风和日丽
- D. 干净：一尘不染

97. 火炬：蜡烛

- A. 中药：草药
- B. 矿石：煤炭
- C. 棉布：丝绸
- D. 扇子：蚊香

98. X光片：骨折

- A. 卫星云图：降雨
- B. 科普图书：知识
- C. 电子导航：路线
- D. 饮食习惯：健康

99. 柏油公路：阳光大道

- A. 蔚蓝行星：美丽地球
B. 纳米涂料：超级墙漆
C. 双峰骆驼：沙漠之舟
D. 液晶屏幕：璀璨荧屏
100. 新月：满月：残月
A. 生产：销售：消费
B. 含苞：怒放：凋零
C. 早晨：中午：夜晚
D. 春困：秋乏：冬眠
101. 出征：击鼓：士气
A. 比赛：呐喊：信心
B. 生产：监督：效率
C. 喝酒：谈判：气氛
D. 宣传：登报：名气
102. 电动车：摩托车：救护车
A. 乒乓球：保龄球：羽毛球
B. 葡萄酒：香槟酒：保健酒
C. 天鹅绒：清洁绒：法兰绒
D. 联谊部：俱乐部：文学部
103. 风险：规避：损失
A. 保险：购买：赔偿
B. 老人：关爱：长寿
C. 锻炼：加强：肥胖
D. 军队：保卫：战争
104. () 对于 邮费 相当于 纬度 对于 ()
A. 邮局 国家
B. 重量 气候
C. 邮票 经度
D. 距离 时区
105. () 对于 感时花溅泪 相当于 高兴 对于 ()
A. 伤心 含情杏花喜
B. 哀伤 一日看尽长安花
C. 多情 化作春泥更护花
D. 憔悴 人比黄花瘦

四、逻辑判断。每道题给出一段陈述，这段陈述被假设是正确的，不容置疑的。要求你根据这段陈述，选择一个答案。注意：正确的答案与所给的陈述相符合，不需要任何附加说明即可以从陈述中直接推出。

请开始答题：

106. 研究显示，在115摄氏度下，将甜玉米分别加热10分钟、25分钟和50分钟后发现，其抗自由基的活性分别升高了22%、44%和53%，因此，加热时间越长的玉米，抗衰老的作用越好。

以下各项如果为真，无法削弱上述结论的是 ()。

- A. 加热65分钟后，玉米抗自由基的活性反而降低了
B. 与甜玉米相比，糯玉米在加热相同时间后，其抗自由基的活性增高的幅度很小
C. 甜玉米是玉米中比较少见的一种，不具有代表性
D. 对于玉米来说，并非是抗自由基的活性越高，其抗衰老的作用越好

107. 5000多年前某地是大汶口文化，但在距今约4400年的时候，为龙山文化所替代。是什么原因导致这两种文化的更迭？考古人员发现，在距今约4400年的时候，发生了一次严重的“冷事件”，环境由原来的温暖湿润转变为寒冷干燥，植被大量减少，藻类、水生植物基本绝迹了，大汶口文化向南迁移，而龙山文化由北迁到此地。他们据此认为，距今4400年左右的极端气候变化，可能是导致这次文化变迁

的主要原因。

以下哪项如果为真，最能支持上述论证？（ ）

- A. 大汶口文化有不断向南方迁移的传统
- B. 龙山文化刚迁来时，人口较多，但之后逐渐减少，在距今约4000年的时候消失了
- C. 大汶口文化的族群以藻类和水生植物作为食物的主要来源
- D. 不同生存方式的族群对气候和环境都有相对稳定的需求

108. 有研究表明，要成为男性至少需要拥有一条 Y 染色体。3 亿年前，男性特有的 Y 染色体在产生之际含有 1438 个基因，但现在只剩下 45 个。按照这种速度，Y 染色体将在大约 1000 万年内消失殆尽。因此，随着 Y 染色体的消亡，人类也将走向消亡。

以下各项如果为真，最不能质疑上述论证的是（ ）。

- A. 恒河猴 Y 染色体基因确实经历过早期高速的丧失过程，但在过去的 2500 万年内则未丢失任何一个基因
- B. 男性即使失去 Y 染色体也有可能继续生存下去，因为其他染色体有类似基因可以分担 Y 染色体的功能
- C. 人类进化过程中，可以找到单性繁殖或无性繁殖后代的方法，从而避免因基因缺失引发的繁殖风险
- D. Y 染色体存在独特的回文结构，该结构具有自我修复功能，可以保持丢失基因的信息，实现基因再生

109. 我国的佛教寺庙分布于全国各地，普济寺是我国的佛教寺庙，所以普济寺分布于我国各地。

下列选项中所犯逻辑错误与上述推理最为相似的是（ ）。

- A. 父母酗酒的孩子爱冒险，小华爱冒险，所以小华的父母酗酒
- B. 文明公民都是遵纪守法的，有些大学生遵纪守法，所以有些大学生是文明公民
- C. 寒门学子上大学机会减少，大学生小飞不是寒门学子，所以小飞上大学的机会不会减少
- D. 现在的独生子女娇生惯养，何况他还是三代单传的独苗呢

110. 某公司行政部人员手机使用情况如下：

- ①小王拨打过行政部所有人的电话；
- ②小李曾经拨打过小赵的电话，但是小赵不曾拨打过其他人的电话；
- ③不曾接听来自行政部其他人电话的人也就不曾拨打过其他人的电话。

由此可以推出（ ）。

- A. 小赵不曾接听过来自小李的电话
- B. 小李曾经接听过来自小王的电话
- C. 行政部曾有人拨打过小王的电话
- D. 小王接听过来自行政部所有人的电话

111. 现代企业在管理过程中发现，人力资源管理部门对于公司的发展虽然十分重要，但由于该部门并没有全程参与公司发展战略的决策，而且公司聘请的高级经理均由 CEO 决定，所以人力资源管理部门更多的时候起到的是支持和辅助的作用。

以下各项如果为真，最能削弱上述论证的是（ ）。

- A. 世界 500 强的企业中，人力资源管理部门的员工一般都有丰富的经验
- B. 人力资源管理部门能为公司设计出人性化的报酬体系，进而留住人才

- C. 世界上最大的物流公司，人力资源部经理有权参加公司最高决策会议
- D. 人力资源部虽没有决定雇佣高级经理的权力，但有权雇佣中层管理者

112. 有人说，工作的时候，我们要将重要事务放在主要位置，重要事务是必要条件，关系着一件事情成功与否，重要的事务没做好，一定不成功。但是，细节也是很重要的，细节是成功的充分条件，同样也与一事情成功与否相关。一个成功的人是能够协调好重要事务与细节的关系的。

由此可推出（ ）。

- A. 成功并不代表着所有细节都处理好了
- B. 如果不成功则说明重要事务没有做好
- C. 成功的前提条件是既要做好重要事务，又要处理好细节
- D. 虽然处理好了细节，但没做好重要事务，也不一定成功

113. 在不同语言中，数字的发音和写法都不一样。一些科学家认为，代表不同文化背景的语言，会对人们大脑处理数学信息的方式产生影响。

以下哪项如果为真，最能支持上述结论？（ ）

- A. 相比欧洲，亚洲地区的人们在进行数量大小比较时，大脑中个别区域的活跃程度有所不同
- B. 在同一国家，不同方言区的人们进行数学运算时，大脑语言区的神经传递路线并不十分一致
- C. 研究发现，以英语为母语的人进行心算时主要依赖大脑的语言区，而以中文为母语的人主要动用了大脑的视觉信息识别区
- D. 研究发现，不同专业背景的人们在计算数学题时会选择不同的思考方法，但都会不同程度地依赖大脑的语言区

114. 20世纪50年代以来，人类丢弃了多达10亿吨塑料，这种垃圾可能存在数百年甚至数千年。近日，一个科研小组在亚马逊雨林中发现一种名为内生菌的真菌，它能降解普通的聚氨酯塑料。科研人员认为利用这种真菌的特性，将有望帮助人类消除塑料垃圾所带来的威胁。

科研人员的判断还需基于以下哪一前提？（ ）

- A. 塑料垃圾是人类活动产生的最主要的废弃物种类
- B. 内生菌在任何条件下都可以很好地分解塑料制品
- C. 目前绝大多数塑料垃圾都属于普通的聚氨酯塑料
- D. 这种真菌在地球上其他地区也能正常地存活生长

115. 生物处于污染条件下，可以通过结合固定、代谢解毒、分室作用等过程将污染物在体内富集、解毒。其中生物的解毒能力是生物抗性的基础，解毒能力强的生物都具有抗性，但解毒能力不是抗性的全部，抗性强的生物不一定解毒能力就强。

由此可以推知（ ）。

- A. 解毒能力不强的生物不具有抗性
- B. 具有抗性的生物一定具有较强的解毒能力
- C. 生物可将污染物富集、解毒，所以生物能在污染环境下生存
- D. 不具有抗性的生物解毒能力一定不强

第五部分 资料分析

(共 20 题，参考时限 20 分钟)

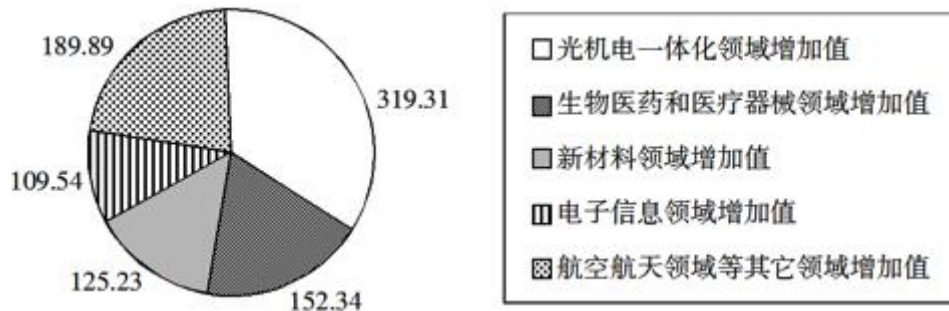
所给出的图、表、文字或综合性资料均有若干个问题要你回答。你应根据资料提供的信息进行分析、比较、计算和判断处理。

请开始答题：

一、根据以下资料，完成116~120题。

2011年前十一个月，某省高新技术产业完成总产值3763.00亿元，实现增加值896.31亿元。增加值同比增长30.74%，比规模以上工业增加值高11.64个百分点，占规模以上工业增加值的比重达到25.32%。高新技术产业各领域的增加值如下图所示：

高新技术产业各领域增加值饼形图（单位：亿元）



116. 2011年前十一个月，该省规模以上工业增加值同比增长约为多少？（ ）

- A. 11.64% B. 19.10% C. 30.74% D. 42.38%

117. 2010年前十一个月，该省规模以上工业增加值约为多少亿元？（ ）

- A. 2972 B. 3540 C. 3865 D. 4373

118. 2011年前十一个月，光机电一体化领域实现增加值与生物医药和医疗器械领域、新材料领域、电子信息领域增加值总和的比约为（ ）。

- A. 3:5 B. 3:4 C. 5:6 D. 9:10

119. 若该省高新技术产业增加值保持同样的增长速度，则2012年前十一个月高新技术产业增加值比2010年同期约增加多少亿元？（ ）

- A. 210.7 B. 486.3 C. 275.5 D. 685.6

120. 关于该省高新技术产业各领域增加值情况，下列说法错误的是（ ）。

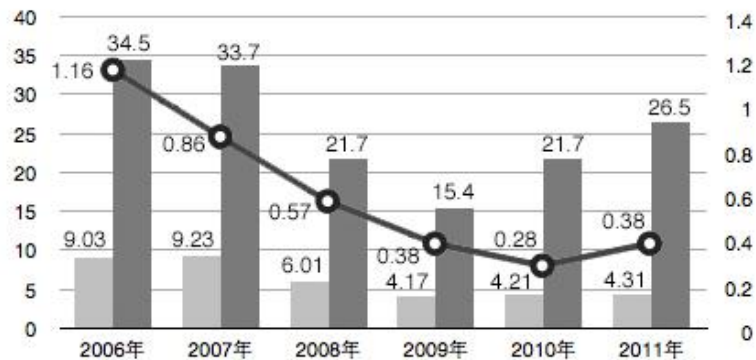
- A. 生物医药和医疗器械领域的增加值超过全省高新技术产业增加值的1/6
 B. 光机电一体化领域与新材料领域增加值之和大约是全省高新技术产业增加值的1/2
 C. 航空航天领域实现的增加值可能不到全省高新技术产业增加值的1/3
 D. 生物医药和医疗器械领域与电子信息领域增加值之和不到全省高新技术产业增加值的1/4

二、根据以下资料，完成121~125题。

2011年发现违法用地行为7.0万件，涉及土地5.0万公顷（耕地1.8万公顷），同比分别上升5.8%、11.0%（耕地下降2.4%）。立案查处违法用地案件4.2万件，涉及土地4.4万公顷（耕地1.5万公顷），同比分别上升2.5%、11.4%（耕地下降5.7%）。依法拆除违法构筑物1289.8万平方米，收回土地3791.2公顷（耕地1064.7公顷），罚没款26.5亿元。

2006~2011年我国违法用地案件查处情况（一）

■ 本期结案（万件） ■ 罚没款（亿元） ○ 收缴土地面积（万公顷）



2006~2011年我国违法用地案件查处情况（二） 单位：件，公顷

年 度	本期发现违法			本期立案			本期结案		
	件 数	涉及土地 面积	其中耕地 面积	件 数	涉及土地 面积	其中耕地 面积	件 数	涉及土地 面积	其中耕地 面积
2006年	131077	92237	43408	96133	84082	38680	90340	69559	34331
2007年	123343	99069	47339	95937	89847	39382	92347	80873	36708
2008年	100266	57660	21518	60399	46672	17579	60077	50430	19965
2009年	72940	37973	17039	41623	31086	13868	41662	31851	14182
2010年	66373	45124	18030	49795	39279	15833	42140	39330	16230
2011年	70212	50074	17596	41806	43756	14935	43149	46064	15353

121. 与2006年相比，2011年全国收缴土地面积约减少了（ ）。

- A. 52% B. 110% C. 67% D. 205%

122. 2011年结案的案件中，平均每个案件的罚没款约为多少万元？（ ）

- A. 0.56 B. 1.13 C. 3.78 D. 6.14

123. 2011年，发现违法但未立案的违法用地行为占发现违法用地行为总数的比重约为多少？（ ）

- A. 59.5% B. 40.5% C. 38.5% D. 61.5%

124. 下列年份中，本期结案中涉及的耕地面积占结案涉及土地面积比重最高的是（ ）。

- A. 2006年 B. 2008年 C. 2010年 D. 2011年

125. 能够从上述资料中推出的是（ ）。

- A. 2006~2011年，违法用地案件查处中收缴土地面积逐年减少
B. 2006~2011年，违法用地案件查处中罚没款的变化趋势与收缴土地面积变化趋势安全一致
C. 2011年发现违法用地行为涉及土地面积中非耕地面积同比上升约20%
D. 2006年立案涉及的土地面积略小于2010年与2011年立案涉及土地面积之和

三、根据以下资料，完成126~130题。

截至2011年4月21日22时，沪深两市已有534家上市公司公布第一季度财报。这534家公司实现营业总收入4572.78亿元，同比增长30.74%；实现净利润336.7亿元，同比增长30.52%。不过，一季度销售收入和净利润环比则有所下降，其中营业总收入环比下降12%，净利润环比下降25%，这534家公司2011年一季度存货6167.68亿元，较上年年末增长10%。

已公布一季度的创业板公司有71家，实现营业收入80.08亿元，同比增长73.60%；实现净利润13.16亿元，同比增长80%。已公布一季报的中小企业板公司有202家，实现营业收入789.97亿元，同比增长36%；实现净利润73.25亿元，同比增长25%。25家已公布一季报的房地产公司一季度实现营业收入193.68亿元，同比增长9%；实现净利润29.97亿元，同比增长31%；存货2892.18亿元，同比增长10%。

已公布一季报的6家钢铁板块公司一季度存货为322亿元，实现营业收入493.39亿元，同比略有降低，环比下降20%；实现净利润12.65亿元，同比增长62%，环比表现更好，这6家公司2010年四季度净亏损3.77亿元。

建筑机械类公司持续了之前的景气度，有4家公司公布一季报，实现营业总收入15.90亿元，同比增长39%；实现净利润1.18亿元，同比增长47.5%。

126. 已公布一季报的534家公司，平均每家在2010年第四季度实现营业收入约多少亿元？（ ）

- A. 0.63 B. 7.54 C. 8.56 D. 9.73

127. 这534家公司中，平均每家中小企业板公司在2011年第一季度的净利润约是创业板公司的（ ）。

- A. 2倍 B. 3倍 C. 4倍 D. 5倍

128. 已公布2011年一季报的房地产公司中，平均每家的存货比上年同期增长了约多少亿元？（ ）

- A. 5 B. 11 C. 51 D. 105

129. 已经公布一季报的钢铁板块公司2010年第四季度的净利率（净利润比营业收入）约为（ ）。

- A. 2.57% B. 1.80% C. -0.96% D. -0.61%

130. 关于这534家公司在2011年第一季度营业状况的描述与资料相符的是（ ）。

- A. 所有公司净利润之和比2010年第四季度有所上升
B. 超过1/4的净利润来自中小企业板公司
C. 平均每家钢铁板块公司的存货高于534家公司的平均水平

D. 平均每家建筑机械类公司的营业收入高于534家公司的平均水平

四、根据以下资料，完成131~135题。

2011年全国农民工总量达到25278万人，比上年增加1055万人，增长4.4%。农民工从业仍以制造业、建筑业和服务业为主，从事建筑业的比重明显提高。从农民工的就业地区来看，2011年在东部地区务工的农民工16537万人，比上年增加324万人；在中部地区务工的农民工4438万人，比上年增加334万人，增长8.1%；在西部地区务工的农民工4215万人，比上年增加370万人，增长9.6%。

2008~2011年农民工从事的主要行为分布 单位：%

	2008年	2009年	2010年	2011年
制造业	37.2	36.1	36.7	36.0
建筑业	13.8	15.2	16.1	17.7
交通运输、仓储和邮政业	6.4	6.8	6.9	6.6
批发零售业	9.0	10.0	10.0	10.1
住宿餐饮业	5.5	6.0	6.0	5.3
居民服务和其他服务业	12.2	12.7	12.7	12.2

2011年农民工在不同地区从事的主要行业分布

	全 国	东部地区	中部地区	西部地区
制造业	36.0	44.8	23.0	15.4
建筑业	17.7	13.4	24.7	27.4
交通运输、仓储和邮政业	6.6	5.5	8.1	9.3
批发零售业	10.1	8.7	13.1	12.5
住宿餐饮业	5.3	4.5	5.9	7.3
居民服务和其他服务业	12.2	12.3	11.4	12.2

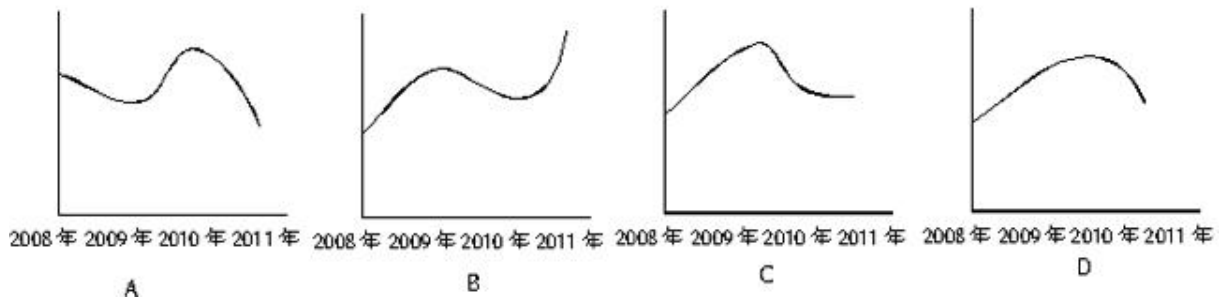
131. 与上一年相比，2011年在东部地区务工的农民工人数增长率约为（ ）。

- A. 2.0% B. 4.4% C. 5.2% D. 8.1%

132. 2008~2011年从事建筑业、批发零售业、居民服务和其他服务业的农民工人数总和超过从事制造业的农民工人数的年份有（ ）。

- A. 1个 B. 2个 C. 3个 D. 4个

133. 2008~2011年农民工从事交通运输、仓储和邮政业的比重变化趋势符合（ ）。



134. 2011年在中部地区务工的农民工占农民工总人数的比重，较上一年约增加（ ）。

- A. 0.6% B. 3.7% C. 6.2% D. 12.5%

135. 能够从上述资料中推出的是（ ）。

- A. 2008~2011年我国从事住宿餐饮业的农民工比重持续上升
 B. 2010年在东部地区务工的农民工人数超过西部和中部总和的两倍
 C. 2008年农民工从事交通运输、仓储和邮政业的人数多于批发零售业
 D. 2011年农民工在中部地区从事建筑业、批发零售业、居民服务和其他服务业的比重均超过全国平均水平

2012 年中央、国家机关公务员录用考试试卷

《行政职业能力测验》

说 明

本测验卷共有五个部分，135道题，总时限为120分钟。各部分不分别计时，但都给出了参考时限，供你参考以分配时间。

请在题本、答题卡上严格按照要求填写好自己的姓名，填涂准考证号。

请仔细阅读下面的注意事项，这对你获得成功非常重要：

1. 题目应在答题卡上作答，在题本上作答的一律无效。

2. 监考人员宣布考试开始时，你才可以开始答题。

3. 监考人员宣布考试结束时，你应立即停止答题，将题本、答题卡和草稿纸都翻过来留在桌上，待监考人员确认数量无误，允许离开后，方可离开考场。

如果你违反了以上任何一项要求，都将影响你的成绩。

4. 在这项测验中，可能有一些试题较难，因此你不要在一道题上思考时间太久，遇到不会答的题目，可先跳过去，如果有时间再去思考。否则，你将可能没有时间完成后面的题目。

5. 试题答错不倒扣分。

6. 特别提醒你注意，涂写答案时一定要认准题号。

7. 严禁折叠答题卡。

第一部分 常识判断

(共 25 题，参考时限 20 分钟)

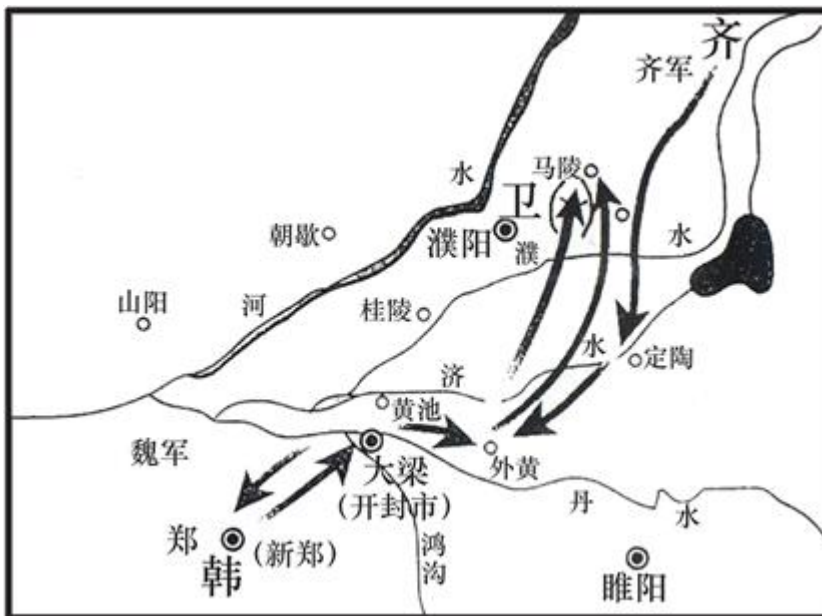
根据题目要求，在四个选项中选出一个正确答案。

请开始答题：

- 下列哪项是我国在“十二五”开局之年取得的科技成就？（ ）
 - 我国首辆高速磁浮国产化样车交付使用，标志着我国已经具备了磁浮车辆国产化设计、整车集成和制造能力
 - 我国具有自主知识产权的戊型肝炎疫苗研制成功，标志着我国在戊型肝炎疫苗研制上已经处于世界领先地位
 - 我国第一台自行设计，自主集成研制的“蛟龙号”载人潜水器3000米级海试取得成功，标志着我国成为世界上掌握3500米以上大深度载人深潜技术的国家之一
 - 国内首套具有自主知识产权的“机载 SAR 测图系统”研制成功，至此，我国可成功实现全天时、全天候从万米高空获取高分辨率测绘数据，及时动态监测地理国情
- 下列关于推进“十二五”期间资源节约和环境保护的表述，不正确的是（ ）。
 - 我国耕地资源有限，要加大耕地保护工作的力度
 - 提高森林蓄积量和覆盖率是“十二五”期间的重要任务
 - 提高化石能源消费的比重，以降低能耗总值和排放水平
 - 坚持保护优先和自然修复为主，加大生态保护和建设力度
- 在历史上中国共产党曾提出：①讲学心、讲政治、讲正气；②知识青年到农村去；③枪杆子里面出政权；④科学技术是第一生产力。按时间先后顺序排列正确的是（ ）。
 - ②③④①
 - ③②④①
 - ②①③④
 - ③②①④
- 下列关于我国民主党和无党派人士的说法，不正确的是（ ）。
 - 工商联不属于民主党派
 - 民主党派是参政党，不是在野党
 - 无党派人士是指既不参加中国共产党也不参加民主党派的普通群众
 - 中国共产党与民主党派将长期共存、互相监督、肝胆相照、荣辱与共
- 关于欧洲主权债务危机的原因，下列说法不正确的是（ ）。
 - 欧元升值
 - 欧元区经济低迷
 - 巨额财政赤字
 - 财政政策与货币政策的不协调
- 为了抑制通货膨胀，国家宏观调控部门可以采取的措施是（ ）。
 - 降低再贴现率
 - 降低央行基准利率
 - 提高个人所得税起征点
 - 提高银行存款准备金率
- 孔子在中国历史上留下了光辉的文化轨迹，以下关于孔子的说法正确的是（ ）。

- A. 著作《论语》，记录孔子本人及弟子言行
 - B. 孔子在教育学上的贡献是打破公学，创办私学
 - C. “罢黜百家，独尊儒术”使孔子一跃成为当时名家
 - D. 孔子核心思想是“仁政”，提出“民贵君轻”观点
8. 下列关于《共产党宣言》的说法不正确的是（ ）。

- A. 是法国大革命的理论基础
 - B. 标志着马克思主义的正式诞生
 - C. 贯穿全书的基本思想是唯物主义的历史观
 - D. 把马克思主义哲学、政治经济学和科学社会主义原理融为一体
9. 关于这张古代作战图，下列说法正确的是（ ）。



- A. 战役发生在南北朝时期
- B. 交战双方是齐国和韩国
- C. 历史上称其为“马陵之战”
- D. 孙臏、白起是交战双方的指挥者

10. 关于佛教、基督教和伊斯兰教，下列说法正确的是（ ）。

- A. 都是一神论宗教
- B. 都以亚洲为发源地
- C. 基督教产生时间最早
- D. 目前佛教信仰人数最多

11. 甲、乙两家是邻居，甲家在距乙家地基2米处种有一棵大树。每逢刮大风，风便会将这棵树的一些大树枝刮落到乙家房屋上。乙担心会损坏房屋，多次找甲协商，要求甲将树枝砍去一些，被甲拒绝。某日，暴风雨即将来临，乙再次找甲协商却找不到，情急之下自己砍去了一些伸到自家房屋上的树枝。甲回家后要求乙赔偿500元，乙不同意，甲将乙起诉至法院。下列说法正确的是（ ）。

- A. 狂风暴雨即将来临，乙砍掉一些树枝来避免自己房屋的损害属于紧急避险，因而乙不应承担民事责任
- B. 乙的行为已经构成了对甲财产权利的侵害，因为乙为自己的利益未经甲同意就砍掉了一些树枝，因此，乙应当承担赔偿责任

C. 虽然这棵树属于甲，但因伸到了乙的房顶，这棵树在乙房屋界内的部分应当属于乙，因此，乙砍掉那些树枝是合法的，不应承担民事责任

D. 乙的行为已经构成了对甲财产权利的侵害，因为乙为自己的利益未经甲同意就砍掉了一些树枝。但是乙在砍之前有意愿但无法告知甲，因此可豁免其部分责任

12. 下列哪一典故与《庄子》无关？（ ）

- A. 鹏程万里 B. 庖丁解牛 C. 庄生梦蝶 D. 刻舟求剑

13. 根据《中华人民共和国刑法修正案（八）》，下列说法正确的是（ ）。

- A. 社区矫正不适用犯罪分子
B. 给予外国政府官员财物可能构成犯罪
C. 行贿人主动交代行贿行为的，应当减免处罚
D. 审判的时候已满七十五周岁的人不应判处死刑

14. 下列说法中正确的一项是（ ）。

- A. 日光灯通过电流加热钨丝产生热量，继而产生光辐射来发光
B. 数码相机利用电子传感器技术，与普通相机记录图像的原理基本相同
C. 等离子电视显示采用荧光粉显示屏幕，因而亮度高于液晶电视
D. 激光打印机是把射到感光器的图像传印到打印板（或复印纸）上，其原理与复印机不同

15. 下列表述不正确的是（ ）。

- A. 自然界中的金属在常温下一般呈固态
B. 惰性气体不与其他物质发生化学反应
C. 天然气是一种无色无味无毒的气体燃料
D. 钢是铁和碳按照一定比例加工而成的合金

16. 作家肖伯纳说：“人生有两大悲剧，一是没得到你心爱的东西，另一是得到了你心爱的东西。”学者周国平则说：“人生有两大快乐，一是没有得到你心爱的东西，于是你可以去寻求和创造，另一是得到了你心爱的东西，于是你可去品味和体验。”从哲学角度看，两个观点存在差异的主要原因是（ ）。

- A. 追求真理是一个永无止境的认识过程
B. 价值判断和价值选择具有社会历史性特征
C. 人们的认识结果是由客观对主体的作用决定的
D. 意识对于客观事物的反映是主动的、有选择的

17. 世界大河中，与长江流向大致相同的是（ ）。

- A. 尼罗河 B. 印度河 C. 亚马逊河 D. 伏尔加河

18. 下列音乐作品与创作作者对应不正确的是（ ）。

- A. 《蓝色多瑙河》——巴赫 B. 《安魂曲》——莫扎特
C. 《天鹅湖》——柴可夫斯基 D. 《命运交响曲》——贝多芬

19. 海鸥是最常见的海鸟，被称为海上航行安全的“预报员”。下列对海鸥“预报员”称号的解释不符合事实的是（ ）。

- A. 如果海鸥贴近海面飞行，那么未来的天气将是晴好的

- B. 海鸥常落在浅滩、岩石或暗礁周围、航海者可据此判断附近是否有暗礁
- C. 海鸥有沿港口出入飞行的习性，迷失方向时可观察海欧的飞行方向寻找港口
- D. 如果海鸥离开水面高高飞翔，成群结队地从海边飞向大海远处，则显示着暴风雨即将来临
20. 人受伤后，如果伤口范围较大或损伤较严重，那么伤口在康复的过程中，尤其是最后结痂时，会有很痒的感觉。产生痒的感觉的原因是（ ）。
- A. 伤口在愈合时，刺激了毛细血管的修复，旧组织被分解吸收，从而产生痒的感觉
- B. 伤口在愈合的过程中，快速生长的新生组织会刺激挤在一起的新生神经，产生痒的感觉
- C. 伤口在愈合时，人体的免疫细胞会清除伤口中的细菌、细菌尸体刺激伤口从而产生痒的感觉
- D. 伤口在愈合的过程中，新组织的生长和旧组织的脱落会摩擦皮肤，从而在伤口周围产生痒的感觉
21. 匾额是中国古建筑的重要组成部分，显示建筑物的性质，下列匾额与建筑物对应正确的一组是（ ）。
- A. 明镜高悬——贡院
- B. 万世师表——关帝庙
- C. 还我河山——武侯祠
- D. 正大光明——乾清宫
22. 冰是水在低温条件下的一种形态，然而生活中发现，在我国北方的冬季，河流往往是表面结冰而深层依然是流动的水。对于此种现象，原因是（ ）。
- A. 水固化成冰时会释放出热量
- B. 表面冰层具有隔热保温作用
- C. 水在0℃左右具有热缩冷胀的性质
- D. 气温尚未低到使河流整体冰冻的程度
23. 现代生活中，手机的普及和应用给人们的生活带来了极大的便利，但在现实生活中，使用手机时也需要注意安全。以下安全问题不是由于手机无线通讯引起的是（ ）。
- A. 在加油站不能打手机
- B. 坐飞机时不能打手机
- C. 驾驶机动车时不能打手机
- D. 在使用医疗器械的病区不能打手机
24. 2011年3月，日本强地震造成核泄漏。为降低和防止核泄漏造成的危害，发生核泄漏时，下列做法中不正确的是（ ）。
- A. 离开核泄漏地区后，要换衣服和鞋子并将其放在塑料袋中
- B. 食品不暴露在空气中，而是放在密闭的容器内或冰箱里保存
- C. 进入被放射物质污染的地区时，使用手帕、毛巾等捂住口鼻
- D. 将从核泄露国家回来的人员隔离，避免他人受到放射性元素的伤害
25. 在超市里常常看到牛奶装在方形的容器中出售，而碳酸饮料则常装在圆形的容器中出售。下列关于此现象的原因解释不合理的是（ ）。
- A. 视觉上圆形比方形更柔和舒缓，吸引更多的顾客购买
- B. 圆柱形易拉罐下底可做成半球形凹槽以承受更大的压力
- C. 牛奶通常需要存放在冷藏柜中，立方体容器更节约空间
- D. 碳酸饮料通常直接用包装罐饮用，圆柱体拿在手里更舒服

第二部分 言语理解与表达

(共 40 题，参考时限 35 分钟)

本部分包括表达与理解两个方面的内容。请根据题目要求，在四个选项中选出一个最恰当的答案。

请开始答题：

26. 怀特海说：科学研究的概率是999个想法会没有任何结果。可是，第1000个想法也许会改变世界。可见，好想法的产生不是_____的。

填入划横线部分最恰当的一项是（ ）。

- A. 随心所欲 B. 轻而易举 C. 一蹴而就 D. 信手拈来

27. 很多人认为动力是一块馅饼，会从天而降，幸运地砸在自己头上，他们意识到自己缺少动力，却还在_____，期望动力哪天能无缘由地突然撞到自己身上。

填入划横线部分最恰当的一项是（ ）。

- A. 望眼欲穿 B. 翘首以盼 C. 浮想联翩 D. 守株待免

28. 语言在代代相传的过程中会发生改变。在人口众多的族群中，语言倾向于保持_____，原因很简单，因为有更多的人能记住上一辈说话的方式，然而在规模较小的族群中，语言有可能更快地发生变化，在世代交替中有些将会_____。

依次填入划横线部分最恰当的一项是（ ）。

- A. 稳定 流失 B. 传统 异化 C. 活力 消亡 D. 原貌 式微

29. 一个民族的文化与精神的健康发展，最重要的标志就是敢于并善于_____所有优秀的文化，如我们常常讲，大唐时代长安流行胡乐，并没有使我们的文化出现_____。

依次填入划横线部分最恰当的一项是（ ）。

- A. 吸收 断裂 B. 接纳 蜕变 C. 借鉴 浮躁 D. 融合 停滞

30. 持之以恒的精神固然可贵，但如果我们所坚持、所固守的是_____甚至错误的，那坚持到底的结果只能是一错再错，人生允许_____，敢于放弃不切实际的理想，也是一种生存智慧。

依次填入划横线部分最恰当的一项是（ ）。

- A. 消极 无功而返 B. 盲目 知错就改
C. 反面 偃旗息鼓 D. 偏颇 改弦易辙

31. 不管是无意还是有意，总有些_____的“史实”并不真实，又或者，有些历史真相看起来无可置疑，但在它们背后，却隐藏着另一层真相。当我们试图从历史中汲取前人经验，为未来提供借鉴时，却发现历史并非全部都是真相，而是被_____过的。

依次填入划横线部分最恰当的一项是（ ）。

- A. 盖棺定论 增添 B. 言之凿凿 加减
C. 铁证如山 修饰 D. 无可厚非 篡改

32. 徐霞客的山水之志来源于父亲的榜样、游记书籍的熏陶和母亲的支持，大概因为读书有偏好，



霞客十来岁时应试童子试不成，索性改志投奔山水之间，到此时，霞客的所为并不_____，古代这样的人很多，但他从此以后，_____，纯粹一生，别无他顾，这就难得了。

依次填入划横线部分最恰当的一项是（ ）。

- A. 出格 专心致志
- B. 独特 坚韧不拔
- C. 新鲜 矢志不渝
- D. 另类 持之以恒

33. 现在一些谈中国科技落后的文章，经常以晚清保守派把西方科技作为“奇技淫巧”的例子来说明中国封建社会_____科学技术。这只是一_____的说法。实际中国传统上并不排斥科学技术，中国早期学者对此前影响生产力变化和社会变迁的重大发明创造都是相当看重的，并对它们给予了没有任何神秘色彩的记述和肯定。

依次填入划横线部分最恰当的一项是（ ）。

- A. 排斥 以点带面
- B. 抵制 断章取义
- C. 鄙夷 信口开河
- D. 轻视 以偏概全

34. 网络由于飞速发展在整个社会活动中发挥着日益巨大的作用，由于_____的加强，信息交流加快，生产和工作效率都大为提高，同时，也可能_____各种社会问题，如计算机犯罪、个人信息被泄露等。

依次填入划横线部分最恰当的一项是（ ）。

- A. 关联 催生
- B. 联系 引发
- C. 互动 暴露
- D. 交往 带来

35. 近几年，越来越多的慈善家从组织直接捐助转变到希望通过基金会来发挥杠杆作用，_____社会的慈善家资源。基金会的兴起最重要的意义就是让整个公益界开始形成行业，可以吸引人才，加强管理，使中国的慈善公益组织走上_____化道路。

依次填入划横线部分最恰当的一项是（ ）。

- A. 撬动 专业
- B. 整合 职业
- C. 挖掘 科学
- D. 吸引 正规

36. 微博实时、便捷，与旅游“在路上”的状态_____。微博提供“社交加媒体”平台，用户乐于在此交流信息，分享感受，也容易接受他人的推荐。旅游属于体验型服务、即时消费型产品，人们在消费前往往会_____别人的评价，两者再次找到契合点。

依次填入划横线部分最恰当的一项是（ ）。

- A. 一拍即合 搜索
- B. 殊途同归 借鉴
- C. 不谋而合 参考
- D. 相辅相成 听取

37. 借助于影视改编的力量，谍战小说近几年在市场上_____，屡屡成为人们茶余饭后的谈资，也渐次进入文学研究的视野。而谍战小说家屡获文学大奖，更_____着“谍战小说热”所传递的某种文化诉求已经参与了当下文化空间的书写。

依次填入划横线部分最恰当的一项是（ ）。

- A. 风生水起 象征
- B. 方兴未艾 预示
- C. 炙手可热 说明
- D. 声名鹊起 透露

38. 春天，雌蛾会发出一种气味，能将远在几百米外活动的雄蛾吸引过来。科学家们析取了这一气味物质，用此来_____雄蛾对雌蛾的追踪，并诱使它们飞进所设的捕网。这是一种_____害虫的有

效的新方法。

依次填入划横线部分最恰当的一项是（ ）。

- A. 监测 控制 B. 阻止 防治 C. 促成 捕捉 D. 扰乱 消灭

39. 中国武术传播的不应仅仅是其技术体系，而更应是文化，是理念，是那种重德行、重关系以及重人际信任的理念。参与其中的行动主体更应该获得的是亲密关系、高度信任、遵从规范和精神气质的_____，而绝非是仅仅获取_____的技术。

依次填入划横线部分最恰当的一项是（ ）。

- A. 净化 战无不胜 B. 陶冶 匹夫之勇
C. 培养 炉火纯青 D. 涵养 好勇斗狠

40. 国际金融实践领域出现的新情况，_____了人们对国际金融理论与政策变革的需求，随着国际金融危机的全面爆发，各国之间经济金融政策相互协调的重要性再次_____，学术界和政府部门对各国政策协调配合的_____也更为激烈。

依次填入划横线部分最恰当的一项是（ ）。

- A. 激发 明晰 反响 B. 强化 浮现 争议
C. 刺激 彰显 讨论 D. 推动 凸显 谈判

41. 说话不仅是一种生理功能，更是一种能力，会说话的人，纵然_____，滔滔不绝，听者也不以为苦；纵然_____，一字千金，也能绕梁三日。成功人士大多是成功的说话者，毫不夸张地说，其成功至少有一半是靠舌头_____的。

依次填入划横线部分最恰当的一项是（ ）。

- A. 能言善辩 讷口少言 实现 B. 绘声绘色 不露声色 完成
C. 口若悬河 片言只语 创造 D. 侃侃而谈 缄口不言 获取

42. 从长远来看，要维持一个城市的活力和繁荣，就必须注重提高普通市民的生活质量，这最终决定了一个城市真正的_____，决定了一个城市是不是_____长期居住，是不是值得在闲暇之时走进_____，去发现和体验每个人各具特色的生活状态。

依次填入划横线部分最恰当的一项是（ ）。

- A. 内涵 值得 千家万户 B. 品位 适宜 大街小巷
C. 地位 方便 街头巷尾 D. 价值 能够 寻常巷陌

43. 生物分子计算机是一种用生物分子元件组装成的纳米级计算机，将其植入人体能自动扫描身体信号、_____生理指标、_____疾病并控制释放等。但研究人员指出，要实现这一_____还要克服很多障碍。

依次填入划横线部分最恰当的一项是（ ）。

- A. 监测 判断 目标 B. 记录 查找 理想
C. 显示 治疗 技术 D. 检测 诊断 愿景

44. 唐朝中期以来，帝国再次陷入激烈的持续动荡，农民起义和藩镇割据成为唐帝国后叶的_____。最终，中国进入了50余年的五代十国大分裂时期，看起来，黄河文明似乎已经_____。但是，为什么中国的文明没像古埃及和古巴比伦那样彻底衰亡，而是_____，一直延续至今呢？

依次填入划横线部分最恰当的一项是（ ）。

- A. 主题 危在旦夕 薪尽火传
B. 主线 岌岌可危 柳暗花明
C. 主调 危机四伏 重振旗鼓
D. 主流 危如累卵 涅槃重生

45. 人就是一棵树。当我们有所失的时候，必须去_____，你会发现生命中那些曾以为不可或缺的东西，就像树的须根，一旦_____，同样也能顽强地活下去，这就是生命力。当人被迫面临一个新的环境，或是一种完全不同的生命状态时，曾经的成就与辉煌，就像那华丽的树冠，只会成为生命的_____。

依次填入划横线部分最恰当的一项是（ ）。

- A. 适应 失去 负担
B. 争取 干枯 象征
C. 承受 萎缩 点缀
D. 挽救 暴露 印记

46. 蒙田说：“初学者的无知在于未学，而学者的无知在于学后。”意思是说，第一种无知是连字都不识，当然谈不上有学问；第二种无知却是错读了许多书，反而变得无知。“初学者”的无知容易辨别、也容易避免，但是“读书读得越多越好”的错误观点似乎更能迷惑人。因此有必要审慎选择阅读的书目，以免读得越多就偏离得越远。

根据这段文字，“初学者的无知”和“学者的无知”（ ）。

- A. 都是缺乏正确引导造成的
B. 既容易区分又经常被混淆
C. 都是求知过程中难以避免的
D. 是两种不同学习经历的反映

47. 在古代，每逢战乱，手艺人都会成为战争双方争夺的对象，这是因为手艺人掌握着传统社会中最重要的技术，他们代表着当时最先进的社会生产力。如今，尽管现代科学技术取代了手工技能，成为当今时代最强大的生产力，但传统工艺完全可以借助现代科技而提升，继续服务于大众。

这段文字意在说明（ ）。

- A. 与现代科技联姻是传统工艺发展的有效途径
B. 任何时代，社会发展的第一要素是社会生产力
C. 现代科技的进步对传统手工艺产生的深远影响
D. 现代科技可以解决制约着生产的传统工艺难题

48. 目前我国气象卫星的技术能力，只能在太空给大气“拍照”，呈现出的是平面的图像，对大气的立体探测能力尚不足。随着卫星更新换代、新科技的研发，今后可以给大气做“CT”，比如能监测出云层的厚度、温度及湿度的分布、台风的热力学结构，这将提高天气预报的准确率，提升我国应对气候变化的能力。目前我国的气象卫星在规模、核心技术方面和美国等发达国家相比还存在一些差距，再经过十年的发展，有望赶上国际先进水平，甚至在部分领域取得领先，可能从一个“气象卫星大国”变成“气象卫星强国”。

根据这段文字，以下说法正确的是（ ）。

- A. 现阶段欧美国家的天气预报准确率略高于中国
B. 我国和发达国家的气象卫星技术水平相差十年
C. 我国气象卫星未来将能够实现大气的立体探测
D. 目前我国气象卫星技术在某些领域处于世界领先地位

49. 苏州曾经是经济兴盛、文化发达、人才荟萃之地。明末清初以后，苏州士绅除少数人发生身份和观念转化外，多数人的传统观念仍根深蒂固。而作为社会主流的士绅观念和意识往往通过各种渠道浸润展延，严重影响一般民众。正因如此，晚清苏州民风靡弱闲散，生活节奏缓慢，缺乏早期现代化必需的紧迫感与开拓精神。清末及民国初期，苏州人很少愿意将资本投入到现代实业中，以至于苏州钱庄吸收的存款在当地难以消纳，不得不转向外埠寻求出路。

这段文字主要介绍了（ ）。

- A. 清末苏州资金消纳的途径与方式
- B. 苏州民众在士绅观念影响下的转变
- C. 民国初期苏州实业发展衰落的原因
- D. 士绅观念制约了近代苏州的现代化进程

50. 人口的激增，让地球的粮食供应面临严峻的考验，有科学家预计，到2050年，需要增加70%的耕地，人类才能养活自己。但地球上根本没有这么多可增加的耕地。于是，科学家转向海洋求助：在远离海岸的开阔海域中养鱼，可以给人类提供足够的营养。我们可以大胆地预计，人类食物的蓝色革命即将拉开序幕。

根据这段文字，“人类食物的蓝色革命”是指（ ）。

- A. 对海洋产品进行深度加工，提高其利用率
- B. 海水养殖业将逐渐取代传统农业的主导地位
- C. 加大深海养殖的力度，弥补近海养殖的不足
- D. 海洋鱼类资源将在人类食物结构中占较大比重

51. 瓦特发明的蒸汽机将人类带入工业社会，从此，以消耗自然资源为基础的社会经济发展模式向各领域逐渐渗透，开始主导人类社会的方方面面。这种模式如同做蛋糕一样，被做得越来越大，已经不只局限在“突飞猛进”的工业生产领域，在城市规划与建设等领域更为突出。这种模式的确为社会创造了巨大财富，人们也从中或多或少得到了实惠，但其弊端正在逐渐显现。

根据这段文字，可以看出作者的意图是（ ）。

- A. 倡导转变社会经济发展模式
- B. 批判工业社会的经济增长方式
- C. 揭示工业社会经济发展模式的实质
- D. 呼吁人们降低对自然资源的消耗水平

52. 在任何一个历史时代和艺术潮流中，丧失民族特性的艺术家和作品都会成为外来艺术的附庸和追随者。这不但使民族文化处于被改造的弱势地位，还会让艺术家丧失民族自信心，这样的创作无疑也是缺乏活力的。近些年，当代绘画的活跃和繁荣，不仅仅得益于艺术家日益扩大的视野和活跃的创作思想，更得益于中国艺术家对于本民族文化的尊重和挖掘。

这段文字意在说明（ ）。

- A. 艺术创作离不开民族特性
- B. 艺术家应该保持民族自信心
- C. 绘画的繁荣得益于本土文化元素的挖掘
- D. 民族文化对绘画艺术的发展产生深刻影响

53. 审计部门的审计，只是对相关单位的财政资金使用起到一个监督的作用，但是问责的权力并不在审计部门，他们的职责是发现问题，然后把问题移交给司法等相关部门去查处。这也就意味着，如果没有了其他部门依法依规的后续处理，那么审计部门所做的工作就会付诸东流。公众呼吁“审计清单之外还应该有一个问责清单”，原因正在于此。

对这段文字概括最恰当的是（ ）。

- A. 审计部门的职能范围有待拓宽 B. 审计工作发挥作用的前提是流程透明
C. 问责程序是审计工作发挥效用的保障 D. 公众对审计、问责机制的建议应受重视

54. 随着社会环境的影响和对儿童阅读市场的认识不断加深，越来越多的作家自觉地思考读者定位，发挥自己的创作特长。从读者年龄段来说，有的作家专心致志地为幼儿写作，有的专门为小学低年级写作，还有的着力满足小学中高年级的阅读需求；从写作内容来说，有的作家专门为孩子写科幻故事，有的一心写冒险小说，有的则认真地为孩子写生活故事。

对这段文字概括最准确的是（ ）。

- A. 儿童图书写作的目的性不断增强 B. 儿童图书作者的创作定位趋向精准
C. 定位准确的儿童图书更适合儿童阅读 D. 作家应结合自身特长与市场需求确定创作方向

55. ①在这里，人们已经从浮躁的、高速的城市发展中沉淀下来，希望获得内在的平衡

②二十多年以来，从外表上看，那里的变化并不是非常巨大

③整个城市显得平和恬静

④每年，我仍旧有机会飞往硅谷，参加各种年会

⑤包括节能减排的新举措

⑥但是生活在那里的人正在源源不断地为它注入各种生机

将以上6个句子重新排列，语序正确的是（ ）。

- A. ④②⑥⑤①③ B. ②④⑤⑥①③
C. ②④①③⑤⑥ D. ④①③②⑥⑤

56. ①认为玛雅文明和中国古代文明是同一祖先的后代在不同时代、不同地点发展的结果

②主要根据是《梁书》中关于五世纪时中国僧人慧深飘洋过海到达“扶桑国”的故事，认为“扶桑”即墨西哥

③日前，著名人类学家张光直教授提出了一个“玛雅—中国文化连续体”的假设

④遗憾的是，这些说法至今还没有得到考古学的明确证实

⑤后来又有“殷人东渡说”，是说商朝时的中国人横渡太平洋将文明带到了美洲

⑥长期以来，不少人认为玛雅文明的源头是古代的中国文明，最早提出这种观点的是“扶桑国”说
将以上6个句子重新排列，语序正确的是（ ）。

- A. ③⑥①②⑤④ B. ③①④⑥②⑤
C. ⑥③②⑤①④ D. ⑥②⑤③①④

57. 饮食最基本的功能就在于它是人体从外界环境中吸取赖以生存的营养与能量的主要途径，是生命活动的基础与表现。纳入文化领域后，饮食就被赋予了更深的涵义。尤其是经过民族文化旅游浪潮的洗礼，_____，使人们不仅仅将饮食看作是果腹的手段，而且更注重体会和欣赏饮食过程中的民族文化内涵。在欣赏自然与人文美景的同时，品尝目的地的特色饮食正成为旅游者新的追求和向往。

填入划横线部分最恰当的一句是（ ）。

- A. 美食体验成为一种新兴的旅游项目 B. 民族饮食文化与旅游文化逐步整合
C. 民族特色饮食文化的潜力得到开发 D. 饮食在文化领域中的地位愈发重要

58. 1798年，英国航空科学家乔治·凯利设计出最早的直升飞行器并实践了飞行计划，其创意来自

童年玩耍过的中国玩具“竹蜻蜓”。一百年后，“竹蜻蜓”加上达·芬奇直升飞行器的设计草图，又变幻成了俄国伊戈尔·西科斯基童年梦中的趣味飞行；当他的公司在1931年秋正式向泛美航空公司交付第一架S-42四发水上飞机的时候，西科斯基动情地说道：“现在大家看到的正是我30年前童年梦中的那个座舱……”

这段文字主要想传递的信息是（ ）。

- A. 很多代表进步的产物萌生于童年的梦想
- B. 科技发展的每一步都凝聚着人类的智慧
- C. 许多看似平凡的事物却蕴藏了无限的奥秘
- D. 儿时的想象力往往更为大胆，更富有创造性

59. 行业收入差异反映了行业壁垒的存在，其给予社会的直接影响就是个人的价值可能是无用的。在市场经济社会，最有价值的本是人才，一个人只要有能力，在不同行业都应该能够得到社会的承认，但是在行业壁垒存在的现实中，个人的价值让位于行业的价值，个人的价值由行业的价值体现，而不是由个人体现，当然此种情况下行业的发展也将受到制约。同时，由于进入行业的机制并不是自由竞争，行业收入差异还将让人们看到公平的缺失和缺位——那些没有能力但有关系进入高收入行业者，他们仅仅因为能够进入而成为了更有价值的人。

这段文字旨在说明（ ）。

- A. 行业壁垒的存在体现了用人机制的不公
- B. 个人价值的高低不应该由行业价值来评估
- C. 行业收入差异使人们对个人价值的评判发生扭曲
- D. 行业壁垒使得真正的人才往往被拒之门外

60. 云南是“生物王国”，而且地处大江大河的上游，是江河下游地区的“生态屏障”。曾有一段时间，云南想通过发展旅游等第三产业绕过工业化来发展，最大限度地保护生态环境和民族文化。现在看来，如果工业或者相关产业发展不到位，第三产业就没有服务对象，不仅经济社会发展受到制约，生态环境保护往往也因缺乏社会经济资源，难以持久维持。

作者通过这段文字意在强调（ ）。

- A. 云南经验证明发展工业与保护环境两者并举不悖
- B. 在云南单纯发展第三产业，保护环境的作用不大
- C. 在云南兼顾经济发展与环境保护有较多困难
- D. 在云南发展工业是保护生态环境的必要条件

61. 中国学术历来轻“术”。经济学、金融学都是太低级的“术”，所以，它们往往被忽略。遗憾的是，时下的儒家研究学者还是不能走出用文化来谈文化的圈子，特别是以儒家文化来评价儒家文化，其结论当然不会是别的，用“四书五经”来看“四书五经”，只能是越看越美。如果脱离传统儒家社会的实践现实，不去研究特定文化背后的成因（特别是经济成因），那么得出“以中华文明整合世界”这样的认识就不奇怪了。

这段文字意在说明（ ）。

- A. 中国文化研究缺少经济成因分析

- B. 传统中国学术历来看轻经济学科的价值
- C. “以中华文明整合世界”的想法轻率荒谬
- D. 当代儒家研究学者依然没有走出轻“术”的窠臼

62. 目前，IBM 公司研发的电脑沃森战胜了美国电视智力节目《危险边缘》的两名人类常胜将军。一时间，很多网友担心，电脑越来越像人了，将会超越人类智慧。从深蓝到沃森，人工智能又向前跨越了一大步。电脑会代替人脑吗？近几年，每次有电脑战胜人脑的事发生，都会有“终结者”之类的担忧。甚至有人认为，电脑的计算速度正变得越来越快，不久的将来电脑将能够模拟人脑、产生意识，并最终替代人类。

作者对于“电脑替代人脑”这种观点的态度是（ ）。

- A. 作者认为人工智能技术有可能实现电脑模拟人脑
- B. 看不出作者是否认同“电脑替代人脑”这种观点
- C. 认同这种观点，因为人工智能技术不断超越人类智慧
- D. 不认同这种观点，因为人类是人工智能技术的主宰者

63. “笔墨当随时代”。_____。时代主题的转换要求文艺面对生活调整自身的姿态。随着时代主题从战争与革命向和平与发展转换，文艺的斗争思维向和谐思维转型也就成为历史的要求。

填入划横线部分最恰当的一句是（ ）。

- A. 只有与时代同步伐，文艺才具有蓬勃的生命力
- B. 任何一个历史时期都会带来文艺产业的发展与进步
- C. 文艺的思维方式不可避免地要受到时代生活的影响
- D. 时代主题往往是特定时代的反映，是政治思想的凝集

64. 当前，信息技术、视听手段的空前发展，改变着人们的生活方式。可以说，这是发明蒸汽机和电力以来，最伟大的科学进步。不少人认为，电视、电脑提供的画面与音响，已足够提供人类所需要的信息与知识，超过了文字的功能。于是他们片面地认为，人类进入了所谓的“读图时代”。

这段文字意在说明（ ）。

- A. 传统文字的价值依然存在，并不会被图像信息完全替代
- B. 对于信息与知识的主要来源，很多人存在错误的看法
- C. 影像所提供的信息含量并不比文字负载的信息少
- D. 信息技术的影响力在当前社会是非常重大的

65. 纵观历史，所有的文明都深知教育的价值。实质上，每一种文明的巅峰状态都伴随着许多伟大学术中心的发展——古希腊、阿巴斯王朝巅峰时期的阿拉伯穆斯林，阿卡巴国王统治时期的印度和中国的唐朝时期都是如此。鉴于西方近几个世纪的领先地位，如今西方拥有众多全球知名大学便不足为奇。真正使这些西方大学出类拔萃的是，它们认为自己负有保护全人类的古老知识和发展学术前沿的使命。

这段文字意在强调（ ）。

- A. 西方大学的成功之处在于重视学术研究，而不是以西方文明为导向
- B. 任何文明的兴盛与历史并无直接关联，而是来源于教育事业的繁荣
- C. 重视人类文明的成果并使其不断发展进步是西方优秀学校的独特之处

D. 为了传承和发扬中国文化，中国的大学需要向西方众多知名大学学习

第三部分 数量关系

(共 15 题，参考时限 15 分钟)

在这部分试题中，每道题呈现一段表述数字关系的文字，要求你迅速、准确地计算出答案。

请开始答题：

66. 有300名求职者参加高端人才专场招聘会，其中软件设计类、市场营销类、财务管理类和人力资源管理类分别有100、80、70和50人。问至少有多少人找到工作，才能保证一定有70名找到工作的人专业相同？（ ）

- A. 71 B. 119 C. 258 D. 277

67. 甲乙二人协商共同投资，甲从乙处取了15000元，并以两人名义进行了25000元的投资，但由于决策失误，只收回10000元。甲由于过失在己，愿意主动承担 $\frac{2}{3}$ 的损失。问收回的投资中，乙将分得多少钱？（ ）

- A. 10000元 B. 9000元 C. 6000元 D. 5000元

68. 某儿童艺术培训中心有5名钢琴教师和6名拉丁舞教师，培训中心将所有的钢琴学员和拉丁舞学员共76人分别平均地分给各个老师带领，刚好能够分完，且每位老师所带的学生数量都是质数。后来由于学生人数减少，培训中心只保留了4名钢琴教师和3名拉丁舞教师，但每名教师所带的学生数量不变，那么目前培训中心还剩下学员多少人？（ ）

- A. 36 B. 37 C. 39 D. 41

69. 只装有动力桨的船，其单靠人工划船顺流而下的速度是水速的3倍。现该船靠人工划动从A地顺流到达B地，原路返回时只开足动力桨行驶，用时比来时少 $\frac{2}{5}$ 。问船在静水中开足动力桨行驶的速度是人工划船速度的多少倍？（ ）

- A. 2 B. 3 C. 4 D. 5

70. 有5对夫妇参加一场婚宴，他们被安排在一张10个座位的圆桌就餐，但是婚礼操办者并不知道他们彼此之间的关系，只是随机安排座位。问5对夫妇恰好都被安排在一起相邻而坐的概率是多少？（ ）

- A. 在1%到5%之间 B. 在5%到1%之间 C. 超过1% D. 不超过1%

71. 2010年某种货物的进口价格是15元/公斤，2011年该货物的进口量增加了一半，进口金额增加了20%。问2011年该货物的进口价格是多少元/公斤？（ ）

- A. 10 B. 12 C. 18 D. 24

72. 三位专家为10幅作品投票，每位专家分别都投出了5票，并且每幅作品都有专家投票。如果三位专家都投票的作品列为A等，两位专家投票的列为B等，仅有一位专家投票的作品列为C等，则下列说法正确的是（ ）。

- A. A等和B等共6幅 B. B等和C等共7幅
C. A等最多有5幅 D. A等比C等少5幅

73. 某市气象局观测发现，今年第一、二季度本市降水量分别比去年同期增加了11%和9%，而两个季度降水量的绝对增量刚好相同。那么今年上半年该市降水量同比增长多少？（ ）

- A. 9.5% B. 10% C. 9.9% D. 10.5%

74. 甲、乙两人计划从A地步行去B地，乙早上7:00出发，匀速步行前往，甲因事耽搁，9:00才出发。为了追上乙，甲决定跑步前进，跑步的速度是乙步行速度的2.5倍，但每跑半小时都需要休息半小时，那么甲什么时候才能追上乙？（ ）

- A. 10:20 B. 12:10 C. 14:30 D. 16:10

75. 为了浇灌一个半径为10米的花坛，园艺师要在花坛里布置若干个旋转喷头，但库房里只有浇灌半径为5米的喷头，问花坛里至少要布置几个这样的喷头才能保证每个角落都能浇灌到？（ ）

- A. 4 B. 7 C. 6 D. 9

76. 超市将99个苹果装进两种包装盒，大包装盒每个装12个苹果，小包装盒每个装5个苹果，共用了十多个盒子刚好装完。问两种包装盒相差多少个？（ ）

- A. 3 B. 4 C. 7 D. 13

77. 某项工程由A、B、C三个工程队负责施工，他们将工程总量等额分成了三份同时开始施工。当A队完成了自己任务的90%，B队完成了自己任务的一半，C队完成了B队已完成任务量的80%，此时A队派出2/3的人力加入C队工作。问A队和C队都完成任务时，B队完成了其自身任务的（ ）。

- A. 80% B. 90% C. 60% D. 100%

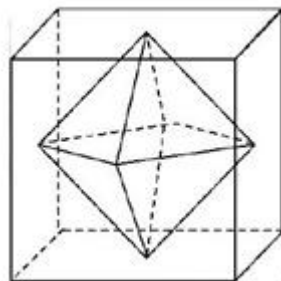
78. 某成衣厂对9名缝纫工进行技术评比，9名工人的得分刚好成等差数列，9人的平均得分是86分，前5名工人的得分之和是460分，那么前7名工人的得分之和是多少？（ ）

- A. 602 B. 623 C. 627 D. 631

79. 草地上插了若干根旗杆，已知旗杆的高度在1至5米之间，且任意两根旗杆的距离都不超过它们高度差的10倍。如果用一根绳子将所有旗杆都围进去，在不知旗杆数量和位置的情况下，最少需要准备多少米长的绳子？（ ）

- A. 40 B. 100 C. 60 D. 80

80. 连接正方体每个面的中心构成一个正八面体（如下图所示）。已知正方体的边长为6厘米，问正八面体的体积为多少立方厘米？（ ）



- A. 182 B. 242 C. 36 D. 72

第四部分 判断推理

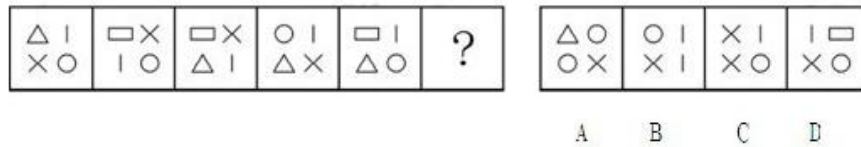
(共 35 题，参考时限 30 分钟)

本部分包括四种类型的试题：


一、图形推理。请按每题的答题要求作答。

请开始答题：

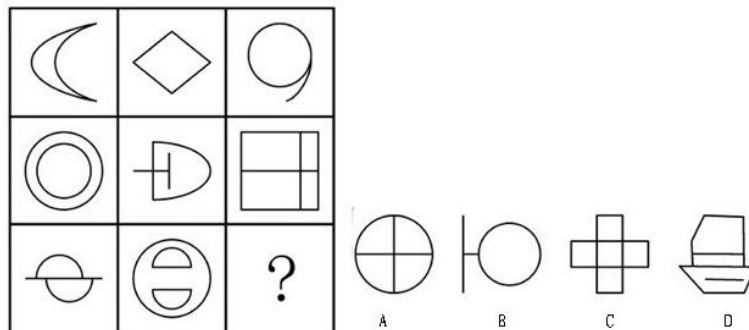
81. 从所给的四个选项中，选择最合适的一个填入问号处，使之呈现一定的规律性。



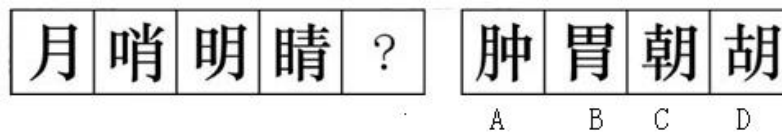
82. 从所给的四个选项中，选择最合适的一个填入问号处，使之呈现一定的规律性。



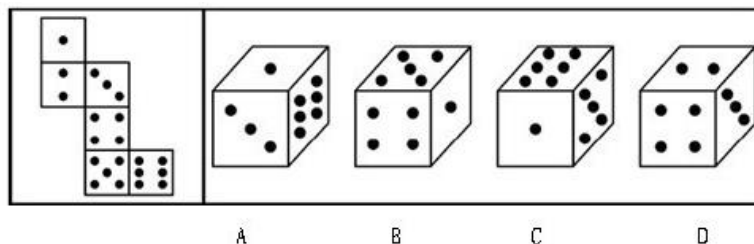
83. 从所给的四个选项中，选择最合适的一个填入问号处，使之呈现一定的规律性。



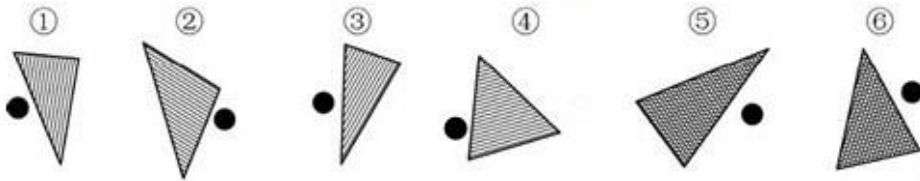
84. 从所给的四个选项中，选择最合适的一个填入问号处，使之呈现一定的规律性。



85. 左边给定的是纸盒的外表面，右边哪一项能由它折叠而成？（ ）

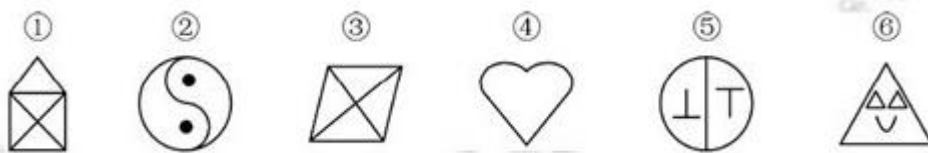


86. 把下面的六个图形分为两类，使每一类图形都有各自共同的特征和规律，分类正确的一项是（ ）。



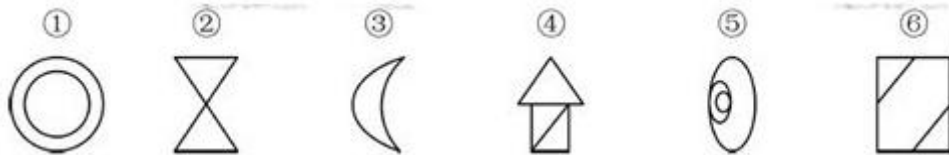
- A. ①②⑥, ③④⑤
 B. ①③⑤, ②④⑥
 C. ①②④, ③⑤⑥
 D. ①③④, ②⑤⑥

87. 把下面的六个图形分为两类，使每一类图形都有各自共同的特征和规律，分类正确的一项是（ ）。



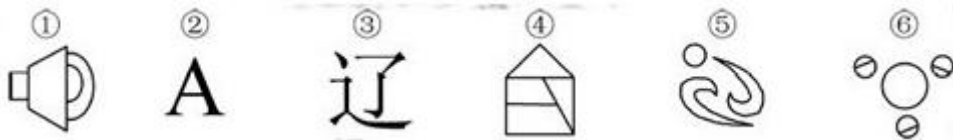
- A. ①③④, ②⑤⑥
 B. ①③⑥, ②④⑤
 C. ①④⑥, ②③⑤
 D. ①③⑤, ②④⑥

88. 把下面的六个图形分为两类，使每一类图形都有各自共同的特征和规律，分类正确的一项是（ ）。



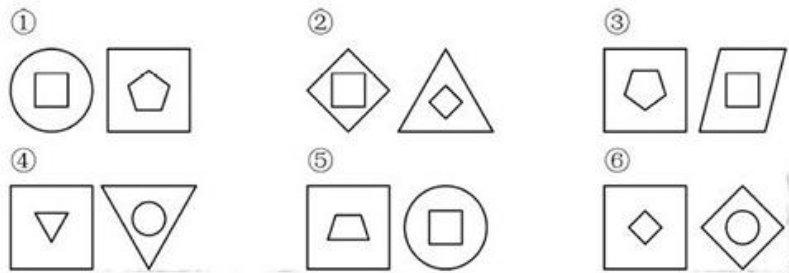
- A. ①⑤⑥, ②③④
 B. ①③⑤, ②④⑥
 C. ①②③, ④⑤⑥
 D. ①②⑥, ③④⑤

89. 把下面的六个图形分为两类，使每一类图形都有各自共同的特征和规律，分类正确的一项是（ ）。



- A. ①②③, ④⑤⑥
 B. ①⑤⑥, ②③④
 C. ①②④, ③⑤⑥
 D. ①④⑥, ②③⑤

90. 把下面的六组图形分为两类，使每一类图形都有各自的共同特征和规律，分类正确的一项是（ ）。



- A. ①④⑥ ， ②③⑤
 B. ①③⑥， ②④⑤
 C. ①③④， ②⑤⑥
 D. ①②④， ③⑤⑥

二、定义判断。每道题先给出定义，然后列出四种情况，要求你严格依据定义，从中选出一个最符合或最不符合该定义的答案。注意：假设这个定义是正确的，不容置疑的。

请开始答题：

91. 群体极化指的是群体成员中存在的某一种倾向性，通过群体相互影响而使结果得到加强并趋于极端化，从而偏离某种合理性的现象。群体极化通常存在两种情形，一种是使结果变得更为冒险甚至激进，称为冒险偏移；一种是使结果变得更加保守，称为谨慎偏移。

根据上述定义，下列哪项中的现象不涉及群体极化？（ ）

- A. 一部略带瑕疵的电影在某网络论坛被批驳得一无是处
 B. 经过表决，答辩委员会一致否决了某同学的毕业论文答辩
 C. 对某人的不良行为，大家均保持沉默，这使得他气焰更加嚣张
 D. 足球比赛中甲队因犯规被判点球，甲队球迷表示极大不满，并纷纷向场内投掷杂物

92. 包容性增长即为倡导机会平等的增长，最基本的含义是公平合理地分享经济增长。它涉及平等与公平的问题，寻求的是社会和经济的协调发展及可持续发展，与单纯追求经济增长相对立。

根据上述定义，下列哪项不涉及包容性增长？（ ）

- A. 增进社会不同阶层的相互理解，对各种社会矛盾增加容忍度
 B. 还田于海，退耕于林，延长禁捕期，对山林进行保护性封育
 C. 反对投资和贸易的地方保护主义，提倡投资和贸易自由化
 D. 在发展经济的同时充分重视社会保障体系的建立

93. 根据我国有关规定，职工遇有下列情形之一的，可以认定为工伤：（一）在工作时间和工作场所内，因工作原因受到事故伤害的；（二）在工作时间和工作场所内，因履行工作职责受到暴力等意外伤害的；（三）因工外出期间，由于工作原因受到伤害或者发生事故下落不明的；（四）在上下班途中，受到非本人负主要责任的交通事故或者城市轨道交通、客运轮渡、火车事故伤害的。

根据上述规定，下列情形中可以认定为工伤的是（ ）。

- A. 周某开车在下班途中违章驾驶，与前车发生追尾事故，导致颅骨骨折
 B. 交警小李因纠正王某的违章行为引起王某不满，在上班途中遭到王某的殴打

C. 赵某在车间加班时因操作不当，手指被绞进机器中，事后被鉴定为二级伤残

D. 张经理为加深与同事的感情，在工作日邀请同事共进午餐，结果同事在用餐后不慎摔伤

94. 动物福利指的是尊重动物的权利、保护生态环境，促进人与动物协调发展。动物福利主要包括：生理福利，即无饥渴之忧虑；环境福利，即让动物有适当的居所；卫生福利，即尽量减少动物的伤病；行为福利，即保证动物表达天性的自由；心理福利，即减少动物恐惧和焦虑的心情。

根据上述定义，下列哪项不涉及动物福利？（ ）

A. 为了科研目的对动物进行活体实验时注射麻药

B. 采取多种奖励方式，激发猴子表演高难度动作

C. 在山区修建高速公路时预留多处动物过桥涵洞

D. 养鸡场让母鸡在山林中自由觅食，提高产蛋率

95. 客体行政文化是指作为行政管理对象的个人、群体和组织对行政主体（主要是指行政机关）的行为做出合理的评价，其评价标准会因各自利益的不同而呈现多样性。

根据上述定义，下列属于客体行政文化的是（ ）。

A. 某地环保部门加大对污染严重企业的监管力度，其严肃执法的态度受到当地群众的一致好评

B. 小王是某政府部门工作人员，工作认真负责，他的主管领导和同事都认为小王是一名合格的工作者

C. 个体经营者张某未按规定缴税，税务部门向其下达限期缴纳税款的通知单，张某不但置之不理，还责怪税务部门不该向其征税

D. 某市工商部门为支持当地中小企业的发展，根据有关法律法规对这些企业实施优惠政策，这一举措得到了广大中小企业经营者的欢迎

96. 差别化信贷是指对不同地区、不同行业、不同群体、不同用途的信贷额度和还贷方式采取差别对待的政策。这是国家对经济进行宏观调控的重要手段。通过差别化信贷遏制两极分化趋势、促进社会公平、促进经济结构调整和全面可持续发展。

根据上述定义，下列选项中属于差别化信贷的是（ ）。

A. 2008年年初，央行放宽商业银行信贷规模，全国性商业银行在原有信贷规模基础上调增5%，地方性商业银行在原有信贷规模基础上调增10%，共新增约2000亿元贷款

B. 某商业银行规定：贷款不满一年提前还款，收取不低于实际还款额三个月的利息；贷款满一年后提前还款，则收取不低于实际还款额一个月的利息

C. 新购房政策规定：购买首套住房，且套型建筑面积在90平方米以下的家庭，可以享受首付款20%的政策；如果首套住房套型面积大于90平方米，贷款首付款比例不得低于30%

D. 2009年，某国际银行对中小企业的贷款总额较去年增长14%，同时又推出“幸福时贷”无担保个人贷款，18~55岁的本地居民可获得最高50万元的贷款

97. 相对剥夺感是指人们在与那些既和自己地位相近，又不完全等同于自己的人或群体作比较时，由价值期待和价值能力不一致的认知所产生的一种心理状态。

根据上述定义，下列属于相对剥夺感的是（ ）。

A. 参加学生会竞选的人数比往年多了一倍，小燕感到竞选的压力更大了

- B. 王某从海外名校学成归来，总觉得在单位里无法施展自己的才华和能力
- C. 小张经常出色地完成各项工作，项目组其他人认为小张就是喜欢表现自己
- D. 小杨原本认为自己的工作还不错，但是参加同学聚会后，他觉得跟同学相比显得没有前途

98. 研究中把实际观测或调查的一部分个体称为样本，研究对象的全部称为总体。抽样误差是指抽样方法本身所引起的误差，即样本指标值与被推断的总体指标值之差。

根据上述定义，下列不涉及抽样误差的是（ ）。

- A. 调查员因为粗心、疏忽等原因将样本数据登记错误
- B. 通过随机拨打电话了解大众对某品牌洗发水的忠诚度
- C. 要了解某班学生数学水平，将他们的数学期中考试成绩进行统计分析
- D. 要调查全国城市居民婚姻满意度，选取北京200名已婚者作为调查对象

99. 军事上的电子欺骗指的是利用电子设备对己方的相关信息进行伪装或者虚假模拟，欺骗敌方的电子侦察，使敌方对己方部署、作战能力和作战企图等产生错误判断，从而达到迷惑和扰乱敌方的目的。

根据上述定义，下列涉及电子欺骗的是（ ）。

- A. 军事演习时蓝军故意丢失伪造的电子作战地图，佯装泄露己方情报
- B. 某国将无人机藏匿于敌国领空，冒充敌国领导人编制、发布虚假命令
- C. 二战中盟军虚设了一个司令部，用通讯设备源源不断地发送各种“指挥命令”
- D. 驻扎在太平洋小岛的某部为其计算机系统设置了数量庞大的仿真数据库

100. 统计性歧视，是指将一个群体的典型特征推断为群体中的个体具有的特征，并将此特征作为对个体的评价标准。

根据上述定义，下列属于统计性歧视的是（ ）。

- A. 小莉觉得周围许多金牛座的人都不太诚实，她就认为金牛座的人都不诚实可靠
- B. 公司认为某高校毕业生工作稳定性不够，该校的优秀毕业生小刘因此未被公司录取
- C. 某专家根据北京市过去十年的降雨量推断今年的降雨量将与往年的平均值基本持平
- D. 一名外国游客在旅游区随手乱扔垃圾，周围人们认为来自这个国家的人素质普遍较低

三、类比推理。每道题先给出一组相关的词，要求你在备选答案中找出一组与之在逻辑关系上最为贴切、相似或匹配的词。

请开始答题：

101. 取款机：银行职员

- A. 收音机：播音员
- B. 售货机：营业员
- C. 学习机：辅导员
- D. 读卡机：售票员

102. 通话记录：手机

- A. 硬盘：计算机
- B. 遥控器：电视机
- C. 录音磁带：录音机
- D. 语音文件：录音笔

103. 琵琶：木材：乐器

- A. 鼎：青铜：用具
- B. 水墨画：宣纸：工艺

- C. 浮雕：石块：建筑
D. 竹筒：竹片：书籍
104. B超：超声波：诊断
- A. 雷达：天线：探测
B. 相机：底片：摄影
- C. 冰箱：制冷剂：冷藏
D. 电脑：显示屏：工作
105. 萎靡不振 对于 () 相当于 () 对于 食物
- A. 动力 饥肠辘辘
B. 活力 丰衣足食
- C. 精力 饥寒交迫
D. 毅力 饥不择食

四、逻辑判断。每道题给出一段陈述，这段陈述被假设是正确的，不容置疑的。要求你根据这段陈述，选择一个答案。注意：正确的答案与所给的陈述相符合，不需要任何附加说明即可以从陈述中直接推出。

请开始答题：

106. 任何无法量化及不设定时限的目标都是无效目标，而任何无效的目标都没有实际操作的方法。因此，详细的职业规划不是无法量化及不设定时限的目标。

为使上述论证成立，必须补充以下哪项作为前提？()

- A. 详细的职业规划不都是无效的目标
B. 详细的职业规划有实际操作的方法
C. 有效的目标都是可以量化和设定时限的目标
D. 无法量化及不设定时限的目标没有实际操作的方法

107. 一项调查显示：78%的儿童中耳炎均来自二手烟家庭。研究人员表示，二手烟环境会增加空气中的不健康颗粒，其中包括尼古丁和其他有毒物质。与居住在不吸烟环境的孩子相比，居住于二手烟环境的孩子患中耳炎几率更大，因此医学专家表示，父母等家人吸烟，是造成儿童罹患中耳炎的重要原因。

以下哪项如果为真，最能削弱上述论证？()

- A. 调查中还显示，无烟家庭的比率呈逐年上升的趋势
B. 研究证明，二手烟家庭中儿童中耳炎的治愈率较高
C. 门诊数据显示，儿童中耳炎就诊人数下降了4.6%
D. 在这次调查的人群中，只有20%的儿童来自无烟家庭

108. 某刑事人类学家在对260名杀人犯的外貌进行了考察后，发现他们具有一些共同的生理特征，于是得出“杀人犯具有广颧、颧骨突出、头发黑而短特征”的结论。

以下哪项与上述推理方式相同？()

- A. 24~28之间没有质数
B. 八月十五云遮月，正月十五雪打灯
C. 植物种子经超声波处理后可增产，所以玉米种子经超声波处理后也可以增产
D. 某高校在对全校学生进行调查后，得出“我校同学学习态度普遍较好”的结论

109. 分手不仅令人心理痛苦，还可能造成身体疼痛。美国研究人员招募40名志愿者，他们在过去半

年中被迫与配偶分手，至今依然相当介意遭人拒绝。研究人员借助功能性磁共振成像技术观察志愿者的
大脑活动，结果发现他们对分手等社会拒绝产生反应的大脑部位与对躯体疼痛反应的部位重合，因此分
手这类社会拒绝行为会引起他们躯体疼痛。

得到上述结论，隐含的假设是什么？（ ）

- A. 个体对于疼痛的感受与社会应激事件有密切关系
- B. 功能性磁共振技术是目前进行大脑定位的常用方法
- C. 个体情绪等心理过程的改变能影响其生理反应
- D. 生理与心理反应可以通过大脑产生关联

110. 众所周知，西医利用现代科学技术手段可以解决很多中医无法解决的病症，而中医依靠对人体
经络和气血的特殊理解也治愈了很多令西医束手无策的难题。据此，针对某些复杂疾病，很多人认为中
西医结合的治疗方法是必要的。

上述这些人在论断时作的假设是（ ）。

- A. 针对这些疾病的中医和西医的治疗方法可以相互结合，扬长避短
- B. 这些疾病单独用中医疗法或者单独用西医疗法并不能有效治疗
- C. 针对这些疾病，医疗界已经掌握了中西医疗法结合的方法
- D. 针对这些疾病，医学界已经尝试了中西医结合的疗法，取得了良好的效果

111. 近来网上出现了一则有关“公务员绿色出行”的报道，即 A 市教育局通过添置公务自行车，使
得较近距离的公务活动不再派汽车，从而大幅降低了公务汽车使用率。B 市环保局负责人看了这则报道，
认为引进公务自行车能缩减财政开支，于是决定也采取这种做法。

以下哪项如果为真，不能构成上述决定的前提条件？（ ）

- A. 自行车出行的方式结合 B 城市的地理环境以及道路交通状况是可行又可取的
- B. B 市环保局的办公人员规模和已有公车数量与 A 市教育局相近
- C. 较近距离的公务活动由自行车取代汽车不会影响办公效率
- D. B 市环保局原来的公务活动主要采取汽车出行的方式

112. 某高校外语教研室新招进五位外语老师，每位老师只教授一门外语。并且满足以下条件：

- (1) 如果小钱教德语，那么小孙不教俄语
- (2) 或者小李教德语，或者小钱教德语
- (3) 如果小孙不教俄语，那么小赵不教法语
- (4) 或者小赵教法语，或者小周不教英语。

以下选项如果为真，可以得出“小李教德语”的结论？（ ）

- A. 小孙不教俄语
- B. 小钱教德语
- C. 小周教英语
- D. 小赵不教法语

113. 美国研究人员分析了南极半岛和邻近的斯科舍海地区的实地数据后发现，20 世纪 70 年代以来，
当地气温上升了 5 至 6 摄氏度，并且来自其他海域的哺乳动物增多导致南极哺乳动物捕食竞争加剧。因此，
在上述地区作为哺乳动物主要食物来源的磷虾的密度降低了 80%。而同一时期，生活在该地区以磷虾为
主食的阿德利企鹅和帽带企鹅的数量也急剧减少。

由此可以推出（ ）。

- A. 气温上升造成了南极海洋哺乳动物捕食的竞争加剧
- B. 如果磷虾的密度继续减少，阿德利企鹅和帽带企鹅都会灭绝
- C. 气候变暖和哺乳动物的捕食竞争加剧威胁了帽带企鹅的生产
- D. 气温上升对南极地区生态环境的破坏极大

114. 张老师将文房四宝装在一个有四层抽屉的柜子里，让学生猜笔、墨、纸、砚分别在哪一层。按照笔、墨、纸、砚的顺序，小李猜测四宝依次装在第一、二、三、四层，小王猜测四宝依次装在第一、第三、第四和第二层，小赵猜测四宝依次装在第四、第三、第一和第二层，而小杨猜测四宝依次装在第四、第二、第三和第一层。张老师说，小赵一个都没有猜对，小李和小王各猜对了一个，而小杨猜对了两个。

由此可以推测（ ）。

- A. 第一层抽屉里装的是墨
- B. 第二层抽屉里装的是纸
- C. 第三层抽屉里装的不是笔
- D. 第四层抽屉里装的不是砚

115. 碳纳米管材料具有重量轻、强度高等优点，被广泛应用于自行车和球拍等产品生产中。但是近日研究发现，长期从事生产碳纳米管工作或利用该材料制造其他产品的工人，有可能因吸入碳纳米管而致癌。

以下哪项如果为真，最能支持上述研究发现？（ ）

- A. 研究表明，容易引发癌症的是一些较长的碳纳米管，这可能是因为它们更容易卡在肺部或腹部细胞间的空腔中
- B. 在使用体外培养的人体皮肤细胞进行实验时显示，碳纳米管可以进入细胞内部，降低细胞自身的免疫能力
- C. 动物实验显示，如果碳纳米管大量进入实验鼠的腹部，约有10%的实验鼠会在一年内患腹腔炎症
- D. 石棉是国际癌症组织确认的致癌物质，而碳纳米管在化学分子结构上和石棉存在一些相似之处

第五部分 资料分析

（共 20 题，参考时限 20 分钟）

所给出的图、表、文字或综合性资料均有若干个问题要你回答。你应根据资料提供的信息进行分析、比较、计算和判断处理。

请开始答题：

一、根据以下资料，完成116~120题。

2010年，某省广电实际总收入为145.83亿元，同比增长32.07%。其中，广告收入为67.08亿元，同比增长25.88%；有线网络收入为45.38亿元，同比增长26.35%；其他收入为33.37亿元，同比增长57.3%。

2010年，该省广电收入中，省级收入为65.32亿元，比上年增加15.5亿元；地市级收入为41.61亿元，比上年增加13.39亿元；县级收入为38.90亿元，比上年增加6.52亿元。

2010年该省各市、县广电收入的区域分布如下：

东部地区50.06亿元，同比增长32.48%，占市县收入份额的62.18%，该地区的市均收入为10.01亿元，上年同期为7.56亿元。中部地区17.78亿元，同比增长40.70%，该地区的市均收入为5.93亿元，上年同期为4.21亿元。西部地区12.67亿元，同比增长80.86%，该地区的市均收入为2.53亿元，上年同期为1.4亿元。

截止2010年底，该省有线电视用户数为1885.88万户，比上年末净增161.7万户。其中有线数字电视用户为1007.8万户，比上年末净增277.58万户。

116. 2009年，该省的有线网络收入约为多少亿元？（ ）
- A. 21 B. 36 C. 57 D. 110
117. 2009年，该省广告收入占广电总收入的比重约为（ ）。
- A. 23% B. 26% C. 31% D. 48%
118. 2010年，该省地级市广电收入的同比增速约为（ ）。
- A. 15% B. 20% C. 32% D. 47%
119. 该省有线电视用户平均每月的有线网络费用约为多少元？（ ）
- A. 20 B. 36 C. 180 D. 240
120. 关于该省广电收入的情况，下列说法正确的是（ ）。
- A. 2010年，省级广电收入同比增长金额低于县级
- B. 2010年，东部地区广电收入超过中部地区的3倍
- C. 2009年，中部地区市均广电收入约是西部地区的3倍
- D. 2010年，有线电视用户中有线数字电视用户的比重不足一半

二、根据以下资料，完成121~125题。

表1 2010年三大经济圈产业结构及增长速度（%）

	长三角		珠三角		京津冀		全国	
	占地区生产总值比重	增长速度	占地区生产总值比重	增长速度	占地区生产总值比重	增长速度	占地区生产总值比重	增长速度
第一产业 产值	4.7	3.6	5.0	4.4	6.6	3.3	10.2	4.3
第二产业 产值	50.6	13.4	50.4	14.5	43.8	15.2	46.8	12.2
第三产业 产值	44.7	10.7	44.6	10.1	49.6	11.4	43.0	9.5

表 2 2010 年三大经济圈主要经济指标 (%)

指 标	长三角		珠三角		京津冀		全 国
	占地区生产 总值比重	增长 速度	占地区生产 总值比重	增长 速度	占地区生产 总值比重	增长 速度	
地区生产总值	21.4	11.8	9.4	12.0	10.8	12.7	10.3
固定资产投资	14.7	17.7	4.1	18.2	9.7	22.6	23.8
社会消费品零售额	18.9	18.6	8.0	16.8	10.1	18.2	18.4
地方财政收入	23.5	21.1	7.7	24.4	11.7	21.7	18.4
实际利用外资	47.9	10.6	17.4	4.8	19.9	12.8	17.4
进出口贸易额	36.6	35.3	25.3	28.4	14.3	38.3	34.7

121. 三大经济圈中，2010年三次产业增长速度均超过全国平均水平的有几个？（ ）

- A. 0 B. 1 C. 2 D. 3

122. 2010年，珠三角地区第二产业产值占国内生产总值的比重为（ ）。

- A. 3.72% B. 5.76% C. 4.74% D. 6.78%

123. 2010年地方财政收入占地区生产总值比重低于全国平均水平的经济圈是（ ）。

- A. 长三角 B. 珠三角 C. 京津冀 D. 以上皆非

124. 2010年，京津冀经济圈的哪一经济指标值居三大经济圈之首？（ ）

- A. 实际利用外资占全国比重 B. 进出口贸易额占全国比重
C. 固定资产投资增长速度 D. 第一产业值增长速度

125. 能够从上述资料中推出的是（ ）。

- A. 产业结构越向第三产业倾斜的经济圈，进出口贸易额增长越迅速
B. 地区生产总值越高的经济圈，其地区生产总值增长速度越低
C. 社会消费品零售额越高的经济圈，进出口贸易额越高
D. 固定资产投资越高的经济圈，实际利用外资额越低

三、根据以下资料，完成126~130题。

2010年底，全国高速公路里程为7.41万公里，居世界第二位，比“十一五”规划目标增加9108公里。其中，国家高速公路5.77万公里，比上年末增加0.54万公里。“五纵七横”12条国道主干线提前13年全部建成。全国有11个省份的高速公路里程超过3000公里。

图1 “十一五”期间全国高速公路年新增里程

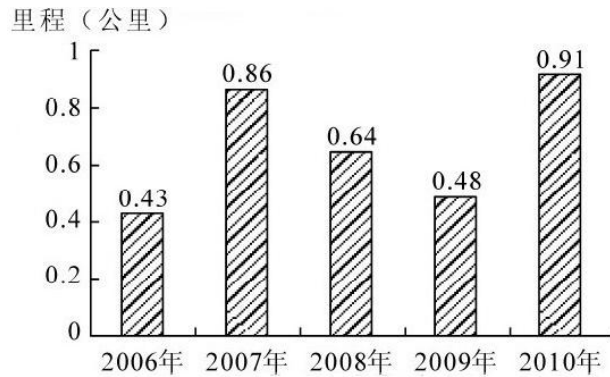
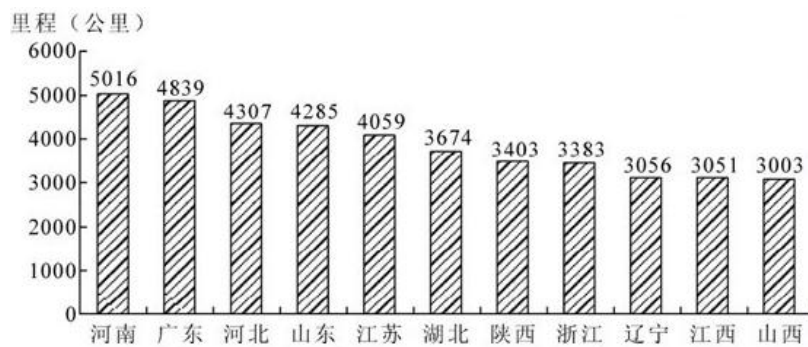


图2 2010年底部分省份高速公路里程



126. 根据“十一五”规划，2010年底全国高速公路里程应达到多少万公里？（ ）
- A. 5 B. 5.5 C. 6 D. 6.5
127. 2010年底，高速公路里程超过全国总里程5%省份有几个？（ ）
- A. 5 B. 6 C. 7 D. 8
128. 2005年底，全国高速公路里程为多少万公里？（ ）
- A. 2.46 B. 3.89 C. 4.09 D. 4.53
129. 2010年底，图2中11省拥有高速公路的里程约占同期全国总里程的（ ）。
- A. 49% B. 57% C. 62% D. 70%
130. 关于我国“十一五”期间高速公路建设状况，能够从资料中推出的是（ ）。
- A. 高速公路里程每年同比增长率都超过10%
- B. 沿海省份高速公路里程显著高于内陆省份
- C. 2010年底，国家高速公路占全国高速公路里程的比重达到90%
- D. 2010年全国高速公路新增里程中，国家高速公路的里程超过一半

四、根据以下资料，完成131~135题。

2010年，我国进出口贸易总额为29727.6亿美元，同比增长34.7%。

2010年，我国机电产品出口9334.3亿美元，同比增长30.9%；高新技术产品出口4924.1亿美元，同比增长30.7%。船舶、汽车零部件出口保持较快增长，其中船舶出口同比增长44.5%。汽车零部件出口同

比增长44.1%。

2010年，机电产品进口额达到6603.1亿美元，同比增长34.4%，高新技术产品进口额达到4126.7亿美元，同比增长33.2%。

2010年我国进出口贸易情况

项 目		出 口		进 口	
		金额 (亿美元)	同比增速 (%)	金额 (亿美元)	同比增速 (%)
总 值		15779.3	31.3	13948.3	38.7
贸易方式	一般贸易	7207.3	36.0	7679.8	43.7
	加工贸易	7403.4	26.1	4174.3	29.5
	其他方式贸易	1168.6	37.7	2094.2	40.2
企业性质	国有企业	2343.6	22.7	3875.5	34.3
	外商投资企业	8623.1	28.3	7380.0	35.3
	其他企业	4812.7	42.2	2692.8	56.7

131. 2009年我国进出口贸易总额约多少万亿美元? ()
- A. 1.6 B. 2.2 C. 2.6 D. 3.0
132. 2010年高新技术产品出口额占到出口总额的比重与上年相比约 ()。
- A. 增加了10个百分点 B. 减少了10个百分点
- C. 增加了0.1个百分点 D. 减少了0.1个百分点
133. 在2010年我国进出口贸易中，下列哪一项的同比增长金额最高? ()
- A. 机电产品出口 B. 高新技术产品出口
- C. 机电产品进口 D. 高新技术产品进口
134. 下列关于2010年净出口额（出口额减进口额）的关系表述正确的是 ()。
- A. 加工贸易>一般贸易 B. 其他方式贸易>一般贸易
- C. 国有企业>外商投资企业 D. 国有企业>其他企业
135. 下列关于2010年我国进出口贸易的表述正确的是 ()。
- A. 高新技术产品逆差约为800亿美元
- B. 国有企业进出口总额同比增速为28.5%
- C. 机电产品出口额占出口总额的一半以上
- D. 船舶出口同比增长金额高于汽车零部件

2011 年中央、国家机关公务员录用考试试卷

《行政职业能力测验》

说 明

本测验卷共有五个部分，135道题，总时限为120分钟。各部分不分别计时，但都给出了参考时限，供你参考以分配时间。

请在题本、答题卡上严格按照要求填写好自己的姓名，填涂准考证号。

请仔细阅读下面的注意事项，这对你获得成功非常重要：

1. 题目应在答题卡上作答，在题本上作答的一律无效。

2. 监考人员宣布考试开始时，你才可以开始答题。

3. 监考人员宣布考试结束时，你应立即停止答题，将题本、答题卡和草稿纸都翻过来留在桌上，待监考人员确认数量无误，允许离开后，方可离开考场。

如果你违反了以上任何一项要求，都将影响你的成绩。

4. 在这项测验中，可能有一些试题较难，因此你不要在一道题上思考时间太久，遇到不会答的题目，可先跳过去，如果有时间再去思考。否则，你将可能没有时间完成后面的题目。

5. 试题答错不倒扣分。

6. 特别提醒你注意，涂写答案时一定要认准题号。

7. 严禁折叠答题卡。

第一部分 常识判断

(共 25 题，参考时限 15 分钟)

根据题目要求，在四个选项中选出一个最恰当的答案。

请开始答题：

1. 社会建设与人民幸福安康息息相关，党的十七大报告提出，要加快推进以改善民生为重点的社会建设。下列各项不属于社会建设范畴的是（ ）。
 - A. 在学校建立贫困生资助体系
 - B. 为低收入家庭提供住房保障
 - C. 扩大各项社会保险的覆盖范围
 - D. 强化政府服务职能，建设服务型政府
2. 随着综合国力的提升，我国在国际社会中的作用与影响越来越突出。下列说法正确的是（ ）。
 - A. 我国的出口贸易额在“金砖四国”中位居第二
 - B. 我国目前是二十国集团中唯一的亚洲发展中国家
 - C. 我国在哥本哈根气候峰会上提出了单位 GDP 碳减排的量化目标
 - D. 我国已与周边所有邻国建立正式的外交关系
3. 我国的能源条件可以概括为（ ）。
 - A. 缺煤、富油、少气
 - B. 富煤、缺油、少气
 - C. 缺煤、缺油、多气
 - D. 富煤、富油、多气
4. 关于我国第六次人口普查，下列表述正确的是（ ）。
 - A. 其标准时点是 2010 年 1 月 1 日至 2010 年 12 月 31 日
 - B. 所取得的数据不得作为对普查对象实施处罚的依据
 - C. 所需经费由中央政府完全负担，列入相应年度的财政预算
 - D. 采用按户口所在地登记的原则
5. 2010 年 7 月，党中央、国务院召开了西部大开发工作会议，总结西部大开发 10 年取得的巨大成就和丰富经验，全面分析国内外形势和西部大开发面临的新机遇、新挑战，关于西部大开发战略。下列表述不正确的是（ ）。
 - A. 西部大开发在我国区域协调发展总体战略中居于优先地位
 - B. 西部大开发战略实施的最主要目的是解决沿海同内地的贫富差距
 - C. 西部大开发覆盖地域指陕、甘、宁、青、新等西北五省（区）及西藏自治区
 - D. 实施西部大开发的核心工作是保障和改善民生
6. 在西柏坡时期，党中央：①领导了解放区的土改运动；②召开了党的七届二中全会；③组织指挥了辽沈、淮海、平津三大战役。上述历史事件出现的先后顺序是（ ）。
 - A. ①③②
 - B. ②①③
 - C. ②③①
 - D. ③①②
7. 下列说法不符合法律规定的是（ ）。
 - A. 甲村村委会在村民会议上提交了修建学校的经费筹集方案

B. 乙村村委会与村民李某签订山林承包合同，承包期为 10 年，到期后，村委会又将山林承包给该村村民赵某

C. 丙村有一座石灰矿，丙村村委会组织该村村民成立丙村经济合作社，以经济合作社的名义申请石灰矿的采矿许可证

D. 丁村享有选举权的村民有 500 人，其中 300 人参与了村委会主任选举，候选人王某、张某和黄某分别获得选票 120 票、100 票和 80 票，因而王某当选

8. 根据我国国防动员法的有关规定，在国家的主权、统一、领土完整和安全遭受威胁时，决定全国总动员或局部动员和发布动员令的分别是（ ）。

- A. 全国人民代表大会、国务院总理
- B. 国家主席、国务院总理
- C. 全国人民代表大会常务委员会、国家主席
- D. 全国人民代表大会常务委员长、国家主席

9. 下列关于我国人大代表选举的表述，不正确的是（ ）。

A. 1953 年通过的选举法规定，全国人大代表的选举，各省按每 80 万人选代表 1 人，直辖市和人口在 50 万以上的直辖市按每 10 万人选代表 1 人

B. 1979 年修订的选举法规定，自治州、县、自治县人大代表中，农村每一代表的人口数 4 倍于镇每一代表所代表的人口数，省、自治区人大为 5:1，全国人大为 8:1

C. 1995 年修改的选举法规定，省、自治区和全国人大代表中，农村每一代表与城市每一代表所代表的人口数为 4:1，自治州、县、自治县仍是 4:1

D. 2010 年修改的选举法规定，全国人民代表大会代表名额，按照每一代表所代表的城乡人口数 2:1 的原则，以及保证各地区、各民族、各方面都有适当数量代表的要求进行分配

10. 下列关于人类航天史的说法，正确的是（ ）。

- A. 载人飞船首次在地球轨道上实现交会和对接是在 20 世纪 60 年代
- B. 前苏联宇航员加加林是世界上第一个进行太空行走的人
- C. 成功将世界上第一颗人造地球卫星送入太空的是美国
- D. 首次实现登月的载人飞船是“阿波罗 13 号”

11. 新中国成立后，我国在一些前沿技术领域取得了一批具有较大国际影响力的创新成果。下列全部属于近 30 年来取得的重大突破的一组是（ ）。

- A. 歌德巴赫猜想、载人航天、古生物考古、南水北调
- B. 月球探测、核电工程、反西格玛负超子、陆相成油理论
- C. 超大规模集成电路、第三代移动通信、高性能计算机、超级杂交水稻
- D. 激光照排技术、量子通讯、古生物考古、人工合成牛胰岛素结晶

12. 关于我国的军衔制度，下列说法正确的是（ ）。

- A. 士兵军衔肩章版面底色有棕绿色、天蓝色、黑色三种
- B. 一般分帅、将、校、尉、士五个等级
- C. 刘伯承、陈毅、粟裕等人曾被授予元帅军衔

- D. 中国人民解放军第一次实行军衔制度是在 1949 年
13. 关于中国交通建设，下列说法不正确的是（ ）。
- A. 目前国道线采用数字编号，分别以 1、2、3、4 开头
- B. 我国自建的第一条铁路——京张铁路由詹天佑主持设计修建
- C. 20 世纪 50 年代，新中国第一架自制飞机在南昌试飞成功
- D. 宋元时期的泉州港是当时世界上最大的贸易港之一
14. 汇率变动会对一国对外经济活动产生影响，假如某国货币升值，则下列表述不正确的是（ ）。
- A. 不利于出口贸易
- B. 有利于公民出境旅游
- C. 会导致热钱流入
- D. 有利于消除贸易逆差
15. 下列关于我国经济发展现状的表达，不正确的是（ ）。
- A. 人均国民生产总值已超过 3000 美元
- B. 黄金储备量已超过 1000 吨
- C. 对石油进口的依存度已接近 30%
- D. 第三产业增加值已接近第二产业
16. 我国民族关系中的“三个离不开”是指（ ）。
- A. 少数民族的发展离不开自身的努力，离不开发达地区的帮助，离不开国家民族政策的支持
- B. 汉族离不开少数民族，少数民族离不开汉族，少数民族之间也相互离不开
- C. 民族关系的和谐离不开经济发展，离不开民族政策教育，离不开法制建设
- D. 各民族的团结离不开共同繁荣，离不开共同发展，离不开共同进步
17. 2010 年新成立的我国第三个副省级新区是（ ）。
- A. 新疆喀什
- B. 上海浦东
- C. 天津海滨
- D. 重庆两江
18. 下列有关地震的表述，不正确的是（ ）。
- A. 2008 年四川汶川地震是我国自 1949 年以来破坏性最强、波及范围最广的一次地震
- B. 我国位于世界两大地震带——环太平洋地震带与欧亚地震带之间
- C. 我国的地震带主要分布在台湾、西南、西北、华北、东南沿海等五个区域
- D. 震源的深度越浅，地震破坏力越大，波及范围也越广
19. 京剧作为我国著名剧种，和中医、国画并称为“中国三大国粹”。下列关于京剧的表述正确的是（ ）。
- A. 人们习惯上称戏班、剧团为“杏园”
- B. 京剧行当中的“净”是指女性角色
- C. “梅派”唱腔创始人是京剧艺术大师梅兰芳先生
- D. 《梁山伯与祝英台》是京剧经典曲目之一
20. 关于我国的出土文物，下列说法正确的是（ ）。
- A. 湖南长沙马王堆汉墓出土了素纱禅衣
- B. 西安附近出土了大量殷商时期的刻有文字的龟甲和兽骨
- C. 越王勾践剑是战国时期兵器冶炼技术的杰出成果
- D. 洛阳出土的唐三彩以红、蓝、白三种颜色为主
21. 在几千年人类文明发展进程中，亚洲、非洲、美洲、欧洲都留下许多宝贵的文学、艺术和建筑

遗产。下列文化遗产属于同一个大洲的是（ ）。

- A. 《最后的晚餐》、雕塑“思想者”、雕塑“大卫”
- B. 胡夫金字塔、狮身人面像、帕特农神庙
- C. 《百年孤独》《老人与海》《海底两万里》
- D. 《飞鸟集》《高老头》《源氏物语》

22. 下列有关书法艺术的表达，正确的是（ ）。

- A. 东汉著名书法家张芝被称为“书圣”
- B. 唐代书法家颜真卿是“楷书四大家”之一
- C. 《真书千字文》是唐代著名书法家怀素的代表作
- D. “苏、黄、米、蔡”中的“黄”指的是黄公望

23. 下列有关天文知识的表述，正确的是（ ）。

- A. 开普勒制成人历史上第一台天文望远镜，并证实了歌白尼学说
- B. “四象”青龙、白虎、朱雀、玄武分别代表东、西、南、北四个方向
- C. 世界最早的哈雷彗星记录是《诗经》中的“鲁庄公七年星陨如雨”
- D. 月食发生时地球、月球、太阳在一条直线上，且月球居中

24. 下列关于日常生活中的做法，不正确的是（ ）。

- A. 为了方便和最大限度地利用材料，机器上用的螺母大多是六角形
- B. 在加油站不能使用手机，是因为手机在使用时产生的射频火花很容易引起爆炸，发生危险
- C. 交通信号灯中红色被用作停车信号是因为红色波长最长
- D. 家中遇到煤气泄漏事件应立即使用房间的电话报警

25. 下列有关生活常识的说法，不正确的是（ ）。

- A. 夏天不宜穿深色衣服，深色衣服比浅色衣服更易吸收辐射热
- B. 驱肠虫药若饭后服用，不易达到最好的驱虫效果
- C. 按照建筑采光要求，相同高度的住宅群，昆明的楼房间距应该比哈尔滨的楼房间距大
- D. 在汽车玻璃清洗液中加入适当比例的酒精，可使其抗冻效果更好

第二部分 言语理解与表达

(共 40 题，参考时限 35 分钟)

本部分包括表达与理解两方面的内容，请根据题目要求，在四个选项中选出一个最恰当的答案。

请开始答题：

26. 荀子认为，人的知识、智慧、品德等，都是由后天学习、积累而来的，他专门写了《劝学》篇，论述学习的重要性，肯定人是教育和环境的产物，倡导_____、日积月累、不断求知的学习精神。

填入划横线部分最恰当的一项是（ ）。

- A. 孜孜不倦
- B. 坚韧不拔
- C. 按部就班
- D. 一丝不苟

27. 目前我国高校博物馆的数量已有 150 多座，然而这些博物馆却很寂寞，终年_____，有的连自己学校的师生都不知晓，有的由于没有展出条件，众多的宝贝常年灰尘满面，利用率很低，至于说到免费开放和惠及民众，更是很_____的话题。

依次填入划横线部分最恰当的一项是（ ）。

- A. 门可罗雀 遥远 B. 无人问津 突兀
C. 门庭冷落 生僻 D. 人迹罕至 超前

28. 信用卡从根本上改变了我们的花钱方式，当我们用现金买东西时，购买行为就涉及实际的损失——我们的钱包变空了。然而，信用卡却把交易行为_____化了，这样我们实际上就不容易感觉到花钱的消极面了。脑成像实验表明，刷卡真的会降低脑岛的活动水平，而脑岛是与消极情绪有关的脑区。信用卡的实质就是_____我们，让我们感觉不到付账的痛苦。

依次填入划横线部分最恰当的一项是（ ）。

- A. 合理 麻痹 B. 抽象 麻醉 C. 简单 迷惑 D. 概念 蒙蔽

29. 如果孩子只能在美术课上画画，往往会变得很_____：他们总是用同一系列颜色表现同一类主题，画中充斥着令人担忧的“现实主义”，毫无_____可言。

依次填入划横线部分最恰当的一项是（ ）。

- A. 固执 灵气 B. 刻板 新意 C. 保守 创新 D. 单调 理想

30. 过去的 25 年中，尽管经历着通货膨胀和经济衰退，美国人的消费能力始终没有减退，背后最主要的推力就是个人信贷业的异常_____，尽管个别客户可能破产，但总体上，个人消费信贷是_____的。

依次填入划横线部分最恰当的一项是（ ）。

- A. 活跃 节节攀升 B. 频繁 安然无虞
C. 繁荣 有利可图 D. 发达 高枕无忧

31. 人类千万年的历史中，最_____的不是令人目眩的科技，不是大师们浩瀚的经典，而是实现了对权力的_____，实现了把权利关进笼子的梦想。

依次填入划横线部分最恰当的一项是（ ）。

- A. 珍贵 约束 B. 重大 限制 C. 成功 束缚 D. 难得 控制

32. 互联网怎样影响了我们的社会和生活，这看上去好像是个_____的话题，每个人都能说上几句，但事实上，有几个人能把这个问题说清楚，说细致，说出点儿新意，说出点儿可意会不可言传的_____？

依次填入划横线部分最恰当的一项是（ ）。

- A. 见仁见智 理由 B. 众说纷纭 道理
C. 历久弥新 独见 D. 老生常谈 妙处

33. 要解决孩子上幼儿园难的问题，_____是各级政府要把学前教育经费纳入地方财政预算，提高投入比例，增加公办幼儿园的数量，以满足城乡居民子女的入园需求。

填入划横线部分最恰当的一项是（ ）。

- A. 当务之急 B. 首当其冲 C. 理所当然 D. 无可置疑

34. 在高楼林立的现代都市里，在人们的_____中，本已零落的古建筑更加凋零，每天都面临着彻底消失的命运，如果教育能让孩子从小感受古建筑所蕴含的魅力，让他们懂得珍惜，就能最终积累出保护古代建筑最_____的力量。

依次填入划横线部分最恰当的一项是（ ）。

- A. 忙碌 可靠 B. 漠视 坚实 C. 误解 基础 D. 麻木 强大

35. 任何城市的演变都是城市的历史与新元素的_____，城市的历史和历史建筑应当是我们的资源、城市的特色，而不应被看作城市建设的_____。

依次填入划横线部分最恰当的一项是（ ）。

- A. 融会贯通 负担 B. 兼收并蓄 阻力
C. 此消彼长 包袱 D. 相辅相成 障碍

36. 对经典的质疑不会使经典变得_____，反倒有助于公众更加清醒地认识经典的意义所在，并正确对待经典中可能存有的某些_____。

依次填入划横线部分最恰当的一项是（ ）。

- A. 一文不值 不足 B. 平淡无奇 缺陷
C. 百无一用 弊病 D. 黯淡无光 瑕疵

37. 在金属发展史上，从陨铁的锻制到人工冶炼铁的出现，这一演进绝不是_____的，而是经历了长达 600 年以上的_____。

依次填入划横线部分最恰当的一项是（ ）。

- A. 一蹴而就 摸索 B. 自然而然 努力
C. 一朝一夕 改进 D. 轻而易举 发展

38. “不畏浮云遮望眼，只缘身在最高层。”只要我们站在时代的前沿，以历史的眼光_____世界大势，以战略家的智慧_____未来，以互利共赢的精神致力于发展，以务实开放的态度_____区域合作，我们就能克服前进道路上的艰难险阻，不断谱写出本地区和平、发展与繁荣的新篇章。

依次填入划横线部分最恰当的一项是（ ）。

- A. 运筹 展望 促进 B. 观察 把握 推动
C. 分析 赢得 加强 D. 洞察 谋划 推进

39. 北极地区冰壶的逐渐融化，更_____的意义在于北冰洋上将出现新航道。新航道的出现可以让环北极地区国家_____提出对北极地区的主权主张，不仅可以使本国获得经济和军事利益，而且可以直接对其他国家的科学考察、经济开发等活动进行_____。

依次划横线部分最恰当的一项是（ ）。

- A. 深远 趁机 干预 B. 现实 方便 限制
C. 重要 合法 监控 D. 直接 明确 介入

40. 从某种意义上来说，大脑就像肌肉一样，如果_____锻炼某个部分，就会使该区域增强，科学家发现小提琴演奏家的大脑中用来控制左手的区域远大于常人，因为左手按压琴弦的工作比较_____，而右手拉弓弦则相对简单。同样，阅读盲文的盲人，其大脑中很大的区域_____给触觉。

依次填入划横线部分最恰当的一项是（ ）。

- A. 长期 紧张 安排 B. 反复 繁琐 分配
C. 直接 劳累 划分 D. 刻意 复杂 预留

41. 品牌一词，“品”在前，“牌”在后，这说明要先有“品”，才有“牌”，也就是说，要是没有好的产品作支撑，单靠打广告，搞赞助，即使能做出个名牌，也只是_____。这方面的教训_____。所谓的“品”，不仅指“产品”“品质”，还包括企业的“品行”，也就是说企业还要积极地履行社会责任。

依次填入划横线部分最恰当的一项是（ ）。

- A. 掩耳盗铃 比比皆是 B. 昙花一现 不胜枚举
C. 名实不符 振聋发聩 D. 浮光掠影 屡见不鲜

42. 相对于中原地区，黄河上游人们的生活与风俗我并不熟悉，无法一下子_____到心灵层面的东西。但我还是带着_____去拍摄，去体验普通人的生活，在令人敬畏的大自然和_____的历史面前是什么情形。

依次填入划横线部分最恰当的一项是（ ）。

- A. 感受 疑问 悠久 B. 碰触 好奇 变迁
C. 深入 憧憬 沉寂 D. 捕捉 敬意 沧桑

43. 一部本来颇有可能写成论文状的著作，读来却丝毫没有艰涩之感，反而_____，实在_____。要知道，在这样一个高速运转的社会里，一本_____的书往往会被放在桌子上作临时杯垫用。

依次填入划横线部分最恰当的一项是（ ）。

- A. 妙趣横生 难能可贵 令人费解 B. 引人入胜 匠心独具 高深莫测
C. 深入浅出 叹为观止 曲高和寡 D. 平易近人 不可多得 枯燥无味

44. 皮影戏在我国流传地域广阔，在长期的_____过程中，其音乐唱腔的风格与韵律都_____了各自地方戏曲、曲艺、民间小调的精华，从而形成了众多_____的流派。

依次填入划横线部分最恰当的一项是（ ）。

- A. 演变 融汇 标新立异 B. 演化 吸收 异彩纷呈
C. 传承 借鉴 家喻户晓 D. 积淀 汲取 风格迥异

45. 许多人善意地对某人建言，内容值得一提，但时机不对，反而造成当事人的_____与羞愤。有的人讲话内容_____，时机也对，但对象不够成熟，讲得再多也_____，对不同的对象，要能讲出适合他听的话。

依次填入划横线部分最恰当的一项是（ ）。

- A. 尴尬 精辟 徒劳无益 B. 不齿 丰富 白费口舌
C. 误解 透彻 无济于事 D. 苦恼 鲜明 枉费心机

46. 中国历代异常发达的政治哲学和历史哲学早就无数次地告诫世人：权利的私有及日益专横，只能导致万民涂炭、王朝崩溃的惨祸。但是所有这些沉痛剖析永远难以进入法律层面而成为制约统治权力的刚性力量，所以它们只能转而定型为一种“代偿”方式，即思辩、文学和伦理等领域中的深深涵泳和喟叹。因此，在中晚唐开端的“中国皇权社会后期文化”中，以李商隐等人的作品为代表，不仅“咏史”之作数量日益庞大，而且诸多经典之作极其繁荣，具有空前沉郁的历史悲剧感。

对这段文字的主旨概括最准确的是（ ）。

- A. 告诫世人吸取历史兴亡的深刻教训
- B. 剖析权利私有必然造成社会危机
- C. 评价李商隐等唐代诗人的创作成就
- D. 说明咏史诗作诞生的社会政治背景

47. 在美国，学术界、工商界、主管部门和多数消费者倾向于认为用豆浆代替牛奶是一种更健康的选择。不过，绝大多数西方人很不喜欢豆味，所以美国的豆浆有进一步去除或掩盖豆味的操作，而中国人就会觉得这样一点儿豆味也没有。对奶味的偏好和对豆味的排斥，是豆浆在西方不够受欢迎的主要原因。此外，豆浆在保存过程中比牛奶容易发生聚集下沉，这也给豆浆成为牛奶那样的方便带来了难度。保存难度高，加上市场需求量不是那么大，导致美国豆浆的价格远远高于牛奶。

对这段文字的主旨概括最准确的是（ ）。

- A. 对比中国人和西方人对豆浆口味的不同喜好
- B. 剖析豆浆在美国市场上价格偏高的原因
- C. 探究豆浆在西方市场不受欢迎的根本原因
- D. 指出豆浆打入美国市场所必需的技术手段

48. 美国著名学者伊顿曾预言：“我们深信，在不久的将来，我们国家的最高经济利益，将主要取决于我们同胞的创造才智，而不取决于自然资源。”伊顿的预言在今天已经变为现实。金融危机、能源和矿产资源价格急剧上涨，世界经济滞涨风险苗头显现，国民的创新能力得到许多国家前所未有的重视。

这段文字意在强调（ ）。

- A. 人力资源将在经济增长中发挥越来越多的作用
- B. 自然资源在国家发展中的重要性将逐步降低
- C. 国家要发展必须充分发挥国民的创造能力
- D. 国民素质的高低将决定国家未来发展的方向

49. 人类的平均寿命越来越长，但是人类所观察到的癌症发生率也越来越高。在分析这种趋势的时候，很多人会把它归结为现代食物的品质越来越差，于是时不时有人发出“某某食物致癌”的言论，总能吸引一堆眼球；如果指出这种“致癌的食物”跟现代技术有关，_____。

填入划横线部分最恰当的一句是（ ）。

- A. 那就更容易得到公众的普遍认同
- B. 那就应该分析其关联性到底有多大
- C. 那也不能作为反对现代技术的理由
- D. 那么据此得出的结论就往往只是初步的

50. 信息时代里的企业就像一个完整的人：组织如骨骼，资金如血液，信息如神经。信息流就是生命线，信息系统是神经系统，顾客需求是刺激源。在统一的数字神经系统下，从决策到管理者再到执行者，从人到机器，如果信息可以一路顺畅，整个企业就能用一个大脑思考。这颗数字大脑不仅要能对多样化、个性化的顾客需求做出及时准确的反应，还有在对这类信息资源的筛选和分析中不断寻找新的机遇，拓展进步的空间，打造时刻贴近顾客需求的无缝隙的服务品牌。

这段文字意在强调（ ）。

- A. 打造知名品牌是企业长远发展的基础
- B. 应高度重视企业各个环节的有效整合
- C. 如何对顾客需求做出及时准确的反应
- D. 信息系统对企业具有至关重要的意义

51. 诗人从生活和大自然捕捉灵感，将语言剪裁成诗；知音的理解和回响，可以使诗的意象和隐藏

其中的思想感情浮现出来。天地一沙鸥，海上生明月，悠然见南山，经由后人的吟诵品味，其意象更为深化；巴山夜雨，易水悲歌，汉关秦月，江山风光和人物诗文相互烘托，转化为跨时空的文化符号，丰富了文学的内容，影响一代代人的精神面貌。

这段文字的关键词是（ ）。

- A. 诗 知音 意象
- B. 自然 灵感 文化
- C. 生活 感情 品味
- D. 文学 符号 精神

52. 甜菜的上部叶片垂直生长，叶簇呈漏斗形，这种生长方式所形成的叶面空间的配制结构，极有利于光照的吸收，提高植株和群体的光合效率。而车前草的叶片是轮生的，叶片夹角为 137.5° ，这正是圆的黄金分割的弦角，叶片按照这个角度生长，可以充分利用光照。梨树随着树干长高，叶片沿对数螺旋上升，每个叶片都不会遮蔽下面的叶片。

这段文字意在说明（ ）。

- A. 光照吸收率是影响植物生长的关键因素
- B. 暗合数学规律的叶片结构对植物生长有利
- C. 不同的生长环境造成了植物叶片生长的差异
- D. 对光照的吸收影响叶片的生长角度

53. 纵观世界流行音乐史，你会发现它基本上就是黑、白两种不同文化的融合史，而且总是由黑人提供原始素材，然后白人把它“偷”过来，并加以完善，最终作为一种崭新的商品推向全球。牙买加由于其特殊的地理位置，成为这一融合的最大受益者，这种模式也顺理成章地推广到田径领域，终于成就了牙买加田径运动的辉煌。

这段文字主要谈论（ ）。

- A. 世界流行音乐史的发展模式
- B. 文化融合给牙买加带来的好处
- C. 地理位置在文化交流中的特殊意义
- D. 黑人和白人对音乐、体育的不同贡献

54. 目前，我国正处于产业结构调整的关键阶段。在当前的世界经济危机中，我们已有的外贸主导型经济模式可持续性越来越小，农业是经济危机的避风港，只有通过强农惠农、提高农业综合生产能力和粮食市场竞争力，来全面提高农民的收入，推动农村经济的大发展和广阔的农村市场需求的大升级，才能全面扩大内需，推动我国外向型经济向内向型经济的顺利转型。

对这段文字的主旨概括最准确的是（ ）。

- A. 当前我国扩大内需最有效的途径应是大力发展农业
- B. 世界经济危机可以成为我国经济转型的一个契机
- C. 当前我国产业结构调整的重点是农业生产结构的调整
- D. 强农惠农政策是当前我国转变经济发展方式的必然要求

55. 世界茶叶生产的规律是“南红北绿”，即：较低纬度地区（如印度、肯尼亚）只能生产优质红茶，相对较高纬度的地区（北纬 $25^\circ\sim 30^\circ$ ）最适宜生产优质绿茶。国际茶价历来绿茶高于红茶。茶叶主产国印度、印尼、斯里兰卡的绿茶品质都不高，以上三国从上个世纪 70 年代开始“红改绿”，企图占领国际绿茶市场，均以失败告终，我国名优绿茶主要分布在山区，拥有丰富的农村劳动力资源和较低的劳动力成本，发展绿茶产业具有明显的比较优势。

以下说法与原文相符的是（ ）。

- A. 目前国际市场上红茶供过于求
B. 印度绿茶价格高于国际绿茶均价
C. 中国绿茶在国际市场上具有竞争实力
D. 国际茶叶市场上出现“红改绿”的趋势

56. 纵观各国货币发展历史，货币国际化虽然给所在国带来一定风险，但却远远低于所带来的好处。从老百姓的角度看，本国货币的国际化程度高，就意味着在出国旅行、消费、留学的过程中，可以较为便利地用本币进行支付，不必经过繁琐的汇兑程序；从政府的角度看，国际货币发行国，可以通过发行本国货币为国际赤字融资，相对于别的国家征收了“铸币税”，其中的好处不言而喻。因此，许多国家的货币都“争先恐后”地走向国际化。

这段文字意在（ ）。

- A. 揭示促使货币国际化的原因
B. 说明实现货币国际化的结果
C. 提醒货币国际化潜藏的危险
D. 剖析货币国际化的实现途径

57. 在以前的对外传播和交往中，我们的外交官经常会遇到这样的情况：外国人在中国博大精深、错综复杂的文化历史面前望而却步，甚至连我们自己也无法精要地描述这一深刻变动的古老文明。我们提出的“和平崛起”“和谐世界”等战略框架和口号，更多地着眼于国外的战略决策者，而不是针对那些普普通通、对中国不甚了解的国外民众。用现代形象管理学的标准来衡量，我们的“广告词”和“象征符号”还不太贴近群众，在视觉触摸感和情感想象力上，还总让人感到有些缺憾。

这段文字谈讨的核心问题是（ ）。

- A. 外交官在对外交往中遭遇的困境
B. 古老文明走向世界需要突破的难关
C. 我国在对外传播和交往中存在的误区
D. 中西不同文化间客观上存在的隔膜

58. 我们今天所依循的谈论中国古代绘画的文字全都出自中国文人之手，也正因为如此，中国文人已长时期主宰了绘声绘画讨论的空间，他们已惯于从自己的着眼点出发，选择对于文人艺术家有利的观点，而如今——或者早该如此——已是我们对他们提出抗衡的时候了，并且也应该质疑他们眼中所谓的好画家或好作品。许多优秀的非文人艺术家都因为文人的偏见而未能获得应有的认可，在此，我们应该——重新给予他们客观的评价和应有的地位。

下列说法与原文相符的是（ ）。

- A. 文人艺术家的鉴赏水平落后于他们的创作水平
B. 古代很多有才华的文人艺术家因偏见而被埋没
C. 文人在中国绘画理论领域长期居于强势地位
D. 古代文人画与非文人画的趣味分歧由来已久

59. 一般来说，一个社会的监督体系是由多方面力量组成的，媒体监督不应成为其中的主要力量，更不应“一枝独秀”，因为这个体系还应该包括公众监督、制度监督等多个方面，任何一方面的缺失，都会使整个体系出现明显漏洞。单纯依靠一种监督力量，对于任何一个社会来说都是“不安全”的，因为不同的监督力量，在整个体系中扮演的角色是不同的。媒体监督相对于制度监督等方式而言，是一种非强制性的监督，不仅受制于舆论环境，而且监督效果在很大程度上取决于监督对象的态度，因此，将整个社会监督的“希望”全部寄托在媒体身上，既不科学，也不现实。

这段文字针对的主要问题是（ ）。

- A. 目前媒体监督被赋予过多的期望
B. 社会监督未引起监督对象的足够重视
C. 媒体监督的效果尚不理想
D. 强制性监督的作用未得到充分发挥

60. ①它们没有超过一千年的家谱
②金鱼是世界上养殖最普遍的宠物鱼类
③不过有一件事是可以确定的
④却没有多少证据证实它们是什么时候被驯养的
⑤只有少数几个国家还没有引进
⑥尽管我们知道金鱼原产于中国

将以上 6 个句子重新排列，语序正确的是（ ）。

- A. ②⑤③①⑥④
B. ②⑤③⑥④①
C. ②⑤⑥④③①
D. ⑥④③①②⑤

61. ①就可能走向思维的误区
②这无疑是最好的强国路径
③对于经济增长和民众福利来说，更重要的是人均意义上的增长，而不是总量意义上的增长
④当然，也不能说总量意义上的增长没有意义，毕竟有很多事情是由“总体实力”决定的
⑤简单地通过增加劳动力供给的数量来推动总量意义上的增长
⑥如果人均意义上的增长快，却能够在提高民众福利的同时提高“总体实力”

将以上 6 个句子重新排列，语序正确的是（ ）。

- A. ③⑤①④⑥②
B. ④⑥②③⑤①
C. ⑤①⑥②③④
D. ⑥②⑤①③④

62. ①商代以后，随着文字的出现，书写需求增加，周宣王时期“刑夷始制墨”，出现了颗粒状人工墨
②到了以彩陶为典型特征的仰韶文化时期，已经有了用来研墨颜料的研磨器——石研
③这些长过半米的大石器，是用来加工粮食的
④砚起源于研磨器，目前已知最早的研磨器是距今七、八千年的裴李岗、磁山文化时期的石磨盘和石磨棒

⑤此后，用于研磨的石研，就成为早期的砚

将以上 5 个句子重新排列，语序正确的是（ ）。

- A. ①③④⑤②
B. ④③②①⑤
C. ①③④②⑤
D. ④③②⑤①

63. 文明和文化是不同的。文明使所有的地方所有的民族越来越相似，按照德国人埃利亚斯《文明的进程》的说法，文明是一个群体社会中大家按照同一规则生活，就好像按照一个节拍跳舞，不至于踩到脚一样；而文化使一个民族与别的民族不同，它是与生俱来的，不是规则而是习惯。其实城市化也可以这样看：城市迅速发展，摩天大楼变成城市象征，这其实是现代文明在世界各个角落强势发展的结果。但是，我们又希望文明不要压倒文化，“同一”不要消灭“差异”。

这段文字意在（ ）。

- A. 质疑现代文明忽略民族个性的趋势
B. 探究城市化进程与文明发展的关系

- C. 强调城市化进程中保存文化的必要性
- D. 比较文明与文化对人类发展的不同影响

64. 中小企业由于规模有限、力量较小，不论是技术创新还是市场扩展，很多事情依靠每个企业单打独斗既不可能，也不经济。因此，发展中小企业的协会和服务组织，对中小企业的发展十分重要。这类组织既可以是综合性的，也可以是专业性的。事实证明，中小企业的发展与这类服务组织的发展之间存在着很大的相关性。积极参与和支持这类组织的发展和运作是中小企业的分内之事，虽然会花费一定的精力，付出一定的的代价，但这种付出和代价是值得的。

这段文字意在说明（ ）。

- A. 发展中小企业协会和服务组织将成为大势所在
- B. 中小企业应意识到参与协会和服务组织的意义
- C. 现实状况下中小企业协会和服务组织大有可为
- D. 中小企业参与协会和服务组织才能提高竞争力

65. 有些被宣称为“清热下火”的凉茶，其实连茶的远亲都算不上，它们不是普通的“茶叶”，只是含些中草药提取液。从现代医学角度看，人体的许多症状跟中医所说的“热”“火”类似，而这些症状，有许多是会自然减退的，不管喝凉茶还是白水，一段时间后都会减轻。另一方面，在理论上完全可能有中草药的某些成分正好对某些症状有效，所以不少人喝了凉茶，觉得清了“热”、下了“火”，这并不奇怪。但是，这样一种“有效”却符合大众的思维方式，但凡质疑这些功效的言论都会招来大量消费者“现身说法”的攻击，也就成了顺理成章之事。

这段文字意在说明（ ）。

- A. 乱喝凉茶可能会对健康不利
- B. 很多消费者并不了解凉茶的实质
- C. 某些凉茶“清热下火”的功能值得怀疑
- D. 凉茶中真正发挥功效的是中草药成分

第三部分 数量关系

(共 15 题，参考时限 20 分钟)

在这部分试题中，每道题呈现一段表述数字关系的文字，要求你迅速、准确地计算出答案。

请开始答题：

66. 小王步行的速度比跑步慢 50%，跑步的速度比骑车慢 50%。如果他骑车从 A 城去 B 城，再步行返回 A 城共需要 2 小时。问小王跑步从 A 城到 B 城需要多少分钟？（ ）

- A. 45
- B. 48
- C. 56
- D. 60

67. 甲、乙、丙三个工程队的效率比为 6:5:4，现将 A、B 两项工作量相同的工程交给这三个工程队，甲队负责 A 工程，乙队负责 B 工程，丙队参与 A 工程若干天后转而参与 B 工程。两项工程同时开工，耗时 16 天同时结束，问丙队在 A 工程中参与施工多少天？（ ）

- A. 6 B. 7 C. 8 D. 9

68. 甲、乙两人在长 30 米的泳池内游泳，甲每分钟游 37.5 米，乙每分钟游 52.5 米，两人同时分别从泳池的两端出发，触壁后原路返回，如是往返。如果不计转向的时间，则从出发开始计算的 1 分 50 秒内两人共相遇了多少次？（ ）

- A. 2 B. 3 C. 4 D. 5

69. 某公司去年有员工 830 人，今年男员工人数比去年减少 6%，女员工人数比去年增加 5%，员工总数比去年增加 3 人，问今年男员工有多少人？（ ）

- A. 329 B. 350 C. 371 D. 504

70. 受原材料涨价影响，某产品的总成本比之前上涨了 $1/15$ ，而原材料成本在总成本中的比重提高了 2.5 个百分点，问原材料的价格上涨了百分之多少？（ ）

- A. $1/9$ B. $1/10$ C. $1/11$ D. $1/12$

71. 某商店花 10000 元进了一批商品，按期望获得相当于进价 25% 的利润来定价，结果只销售了商品总量的 30%，为尽快完成资金周转，商店决定打折销售，这样卖完全部商品后，亏本 1000 元，问商店是按定价打几折销售的？（ ）

- A. 九折 B. 七五折 C. 六折 D. 四八折

72. 甲、乙两个科室各有 4 名职员，且都是男女各半，现从两个科室中选出 4 人参加培训，要求女职员比重不得低于一半，且每个科室至少选 1 人，问有多少种不同的选法？（ ）

- A. 67 B. 63 C. 53 D. 51

73. 小赵、小钱、小孙一起打羽毛球，每局两人比赛，另一人休息，三人约定每一局的输方下一局休息，结束时算了一下，小赵休息了 2 局，小钱共打了 8 局，小孙共打了 5 局，则参加第 9 局比赛的是（ ）。

- A. 小钱和小孙 B. 小赵和小钱 C. 小赵和小孙 D. 以上皆有可能

74. 某市对 52 种建筑防水卷材产品进行质量抽检，其中有 8 种产品的低温柔度不合格，10 种产品的可溶物含量不达标，9 种产品的接缝剪切性能不合格，同时两项不合格的有 7 种，有 1 种产品这三项都不合格，则三项全部合格的建筑防水卷材产品有多少种？（ ）

- A. 37 B. 36 C. 35 D. 34

75. 用一个平面将一个边长为 1 的正四面体切分为两个完全相同的部分，则切面的最大面积为（ ）。

- A. $1/4$ B. $\sqrt{2}/4$ C. $\sqrt{3}/4$ D. $1/2$

76. 某单位共有 A、B、C 三个部门，三部门人员平均年龄分别为 38 岁、24 岁、42 岁，A 和 B 两部门人员平均年龄为 30 岁，B 和 C 两部门人员平均年龄为 34 岁，该单位全体人员的平均年龄为多少岁？（ ）

- A. 34 B. 36 C. 35 D. 37

77. 同时打开游泳池的 A、B 两个进水管，加满水需 1 小时 30 分钟，且 A 管比 B 管多进水 180 立方米，若单独打开 A 管，加满水需 2 小时 40 分钟，则 B 管每分钟进水多少立方米？（ ）

- A. 6 B. 7 C. 8 D. 9

78. 某城市共有 A、B、C、D、E 五个区，A 区人口是全市人口的 $\frac{5}{17}$ ，B 区人口是 A 区人口的 $\frac{2}{5}$ ，C 区人口是 D 区和 E 区人口总数的 $\frac{5}{8}$ ，A 区比 C 区多 3 万人，那么全市共有多少万人？（ ）

- A. 20.4 B. 30.6 C. 34.5 D. 44.2

79. 某城市 9 月平均气温为 28.5 度，如当月最热日和最冷日的平均气温相差不超过 10 度，则该月平均气温在 30 度及以上的日子最多有多少天？（ ）

- A. 24 B. 25 C. 26 D. 27

80. 一个班的学生排队，如果排成 3 人一排的队列，则比 2 人一排的队列少 8 排；如果排成 4 人一排的队列，则比 3 人一排的队列少 5 排。这个班的学生如果按 5 人一排来排队的话，队列有多少排？（ ）

- A. 9 B. 10 C. 11 D. 12

第四部分 判断推理

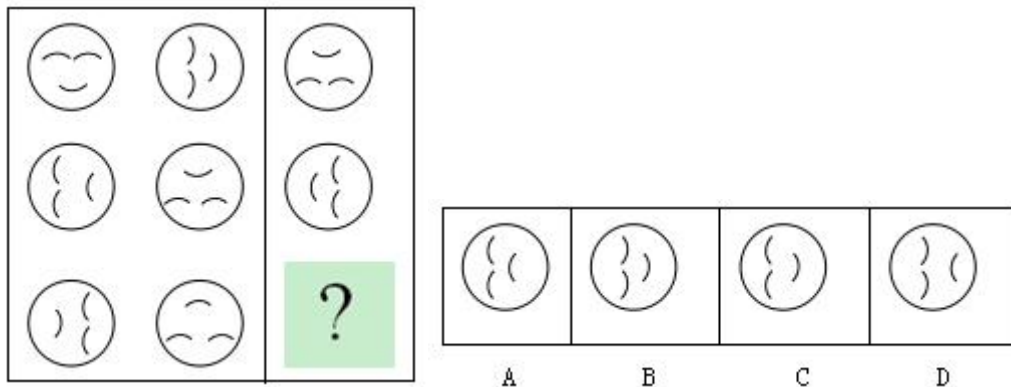
（共 40 题，参考时限 35 分钟）

本部分包括四种类型的试题：

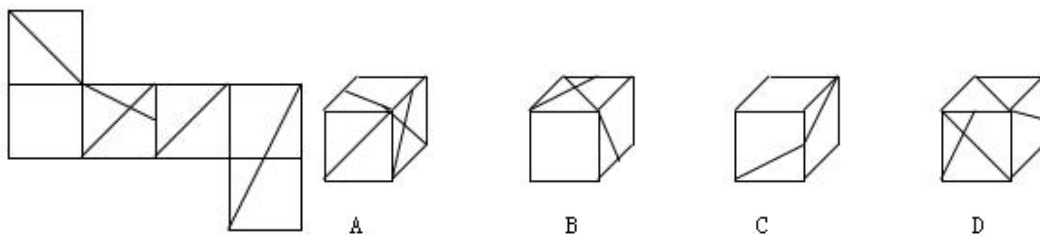
一、图形推理。请按每道题的答题要求作答。

请开始答题：

81. 从所给的四个选项中，选择最合适的一个填入问号处，使之呈现一定的规律性。



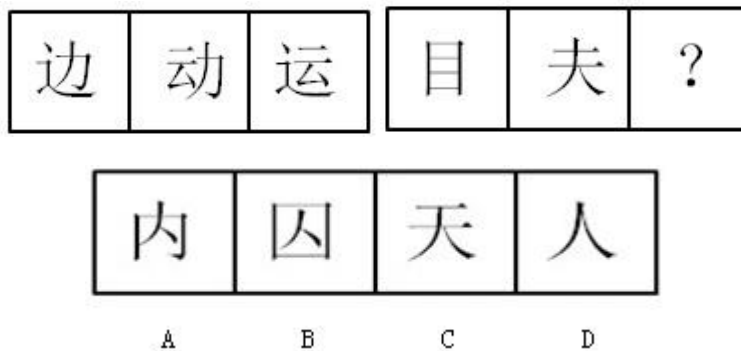
82. 左边给定的是纸盒的外表面，右边哪一项能由它折叠而成？（ ）



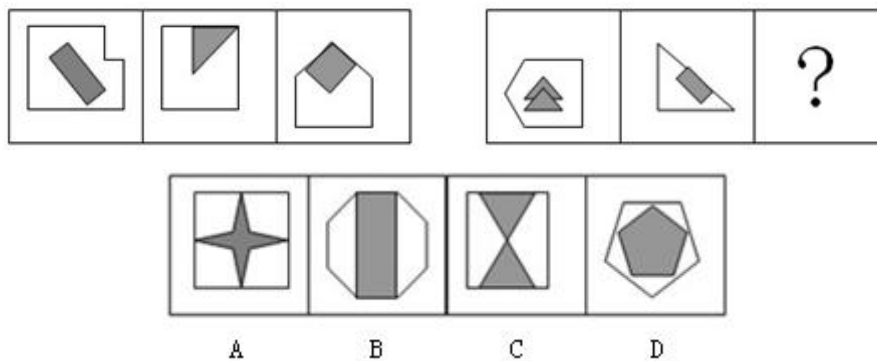
83. 从所给的四个选项中，选择最合适的一个填入问号处，使之呈现一定的规律性。



84. 从所给的四个选项中，选择最适合的一个填入问号处，使之呈现一定的规律性。

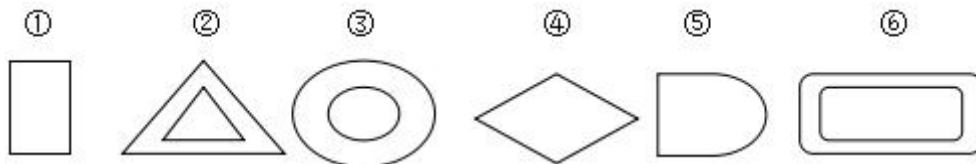


85. 从所给的四个选项中，选择最适合的一个填入问号处，使之呈现一定的规律性。



以下 86~90 题，每个题目包含六个图形，请把此六个图形分为两类，使得每一类图形都有各自的共同特征或规律。

例题：



- A. ①③④，②⑤⑥ B. ①④⑤，②③⑥
 C. ①②③，④⑤⑥ D. ①④⑥，②③⑤

（答案：B。例题中，①、④、⑤都是一个图形，②、③、⑥都是由内外相似的两个图形组成）

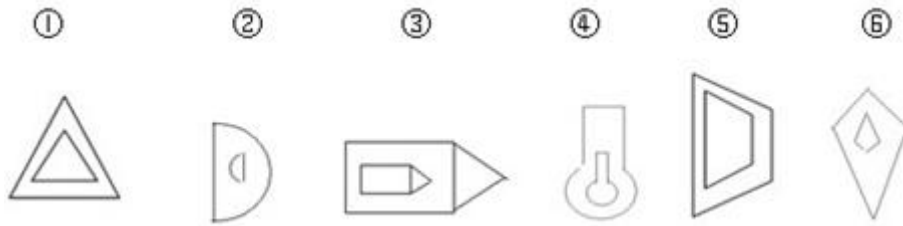
请开始答题：

86. 把下面的六个图形分为两类，使每一类图形都有各自的共同特征或规律，分类正确的一项是（ ）。



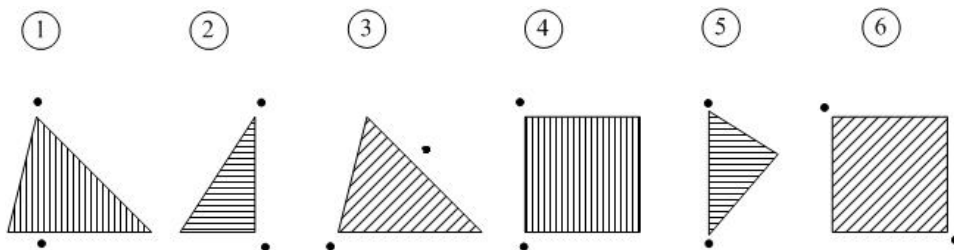
- A. ①③④, ②⑤⑥
 B. ①⑤⑥, ②③④
 C. ①②⑥, ③④⑤
 D. ①②④, ③⑤⑥

87. 把下面的六个图形分为两类，使每一类图形都有各自的共同特征或规律，分类正确的一项是 ()。



- A. ①②⑤, ③④⑥
 B. ①④⑥, ②③⑤
 C. ①③④, ②⑤⑥
 D. ①③⑤, ②④⑥

88. 把下面的六个图形分为两类，使每一类图形都有各自的共同特征或规律，分类正确的一项是 ()。



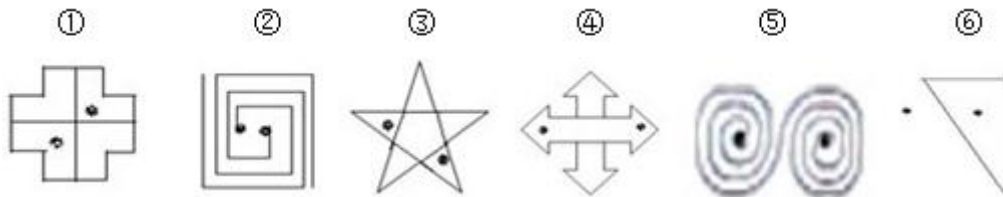
- A. ①③⑥, ②④⑤
 B. ①③⑤, ②④⑥
 C. ①③④, ②⑤⑥
 D. ①⑤⑥, ②③④

89. 把下面的六个图形分为两类，使每一类图形都有各自的共同特征或规律，分类正确的一项是 ()。



- A. ①②⑥, ③④⑤
 B. ①②③, ④⑤⑥
 C. ①④⑤, ②③⑥
 D. ①④⑥, ②③⑤

90. 把下面的六个图形分为两类，使每一类图形都有各自的共同特征或规律，分类正确的一项是（ ）。



- A. ①③⑥，②④⑤
 B. ①②⑤，③④⑥
 C. ①③④，②⑤⑥
 D. ①④⑤，②③⑥

二、定义判断。每道题先给出定义，然后列出四种情况，要求你严格依据定义，从中选出一个最符合或最不符合该定义的答案。注意：假设这个定义是正确的，不容置疑的。

请开始答题：

91. “社会人”假设是组织行为学家提出的一种与管理有关的人性假设。“社会人”假设认为，人们在工作中得到的物质利益对于调动其生产积极性是次要的，人们最重视在工作中与周围的人友好相处，良好的人际关系对于调动人的工作积极性起决定作用。

根据上述定义，下列哪项是基于“社会人”假设的管理方式？（ ）

- A. 员工的奖金与绩效挂钩，并且实行密薪制
 B. 鼓励、支持员工利用业余时间参加职业培训
 C. 对不同年龄层的员工实行不同的管理措施
 D. 上级和下级不同程度地参与企业决策的研究和讨论

92. 顺从是指互动中的一方自愿或主动地调整自己的行为，按另一方的要求行事，即一方服从另一方。顺应的含义比顺从更广泛，除了有顺从的含义外，它还指互动的双方或各方都调整自己的行为，以实现互相适应。

根据上述定义，下列行为属于顺应的是（ ）。

- A. 王某经常将垃圾堆放在家门口，影响了居民楼内的环境卫生，邻居们向他提出意见后，王某家门口变得干净起来
 B. 小燕经常出色地完成各项工作，经理根据小燕的表现在员工大会上表扬了她，并给予奖励
 C. 某食品厂因存在不正当竞争行为，被工商部门处以 20 万元罚款，该厂以罚款过重为由提起行政复议，上级工商部门作出罚款 10 万元的决定
 D. 强盛公司与荣发公司有意进行合作，经过多轮激烈的磋商，双方都降低了自己的条件，从而实现了合作目标

93. 体验营销是指企业采用让目标顾客观摩、聆听、尝试、试用等方式，使其亲身体验企业提供的产品或服务，让顾客实际感知产品或服务的品质或性能，从而促使顾客认知、喜好并购买的一种营销方式。

根据上述定义，下列采用了体验营销方式的是（ ）。

- A. 某美容公司举办了一场以“亲子教育”为主题的消费者联谊会，把“为消费者着想”的经营理念传递给潜在的客户

- B. 某服装公司邀请批发商参加其产品推广介绍会，在会上安排了表演、小竞赛、新产品试用等活动
- C. 某公司为维护行业领军地位，多次举办全国性的行业讨论会，邀请其部分消费者参与研讨
- D. 某化妆品公司先打开国外市场，树立国际品牌形象，然后在国内以电视购物的方式传播销售，逐步占领国内市场

94. 行政指令是指行政主体依靠行政组织的权威，运用行政手段，包括行政命令、指示、规定、条例及规章制度等措施，按照行政组织的系统和层次进行行政管理活动的方法。

根据上述定义，下列描述不属于行政指令的是（ ）。

- A. 体育局局长签发嘉奖令，表彰在全运会上取得优异成绩的运动员和教练员
- B. 消费者协会同中国家用电器协会正式发布《太阳能热水器选购指南》
- C. 市教育局紧急电话通知，要求全市中小学、幼儿园加强校园安全管理
- D. 市消防大队对未经消防设计备案擅自施工的违法工程下发《责令改正通知书》

95. 政策性收益是指由于某些政策、法规的变动而导致的个体收益，这种收益不会导致整个社会财富的增长，只会导致整个社会财富的重新分配。

根据上述定义，下列涉及政策性收益的是（ ）。

- A. 由于市相关部门联合整治经营环境，小张经营的书店效益明显好转，每月营业额增加 5000 元
- B. 歹徒意欲行凶，小王挺身而出制服了歹徒，因此获得市政府见义勇为奖 5 万元
- C. 由于国家加大西部开发力度，某县获得了 5000 万元专项水利建设基金
- D. 由于利率调整，小李的存款利息比此前每月增加 100 元

96. 反应性相倚是指在沟通过程中，沟通双方都以对方的行为作为自己行为的依据，做出相应的反应，而并不按照原来的计划进行沟通。

根据上述定义，下列属于反应性相倚的是（ ）。

- A. 妈妈得知小明考试失利准备劝慰一番，但她发现小明的情绪并未受到影响，于是放弃了劝慰小明的打算
- B. 王厂长在大会上宣读了关于加强劳动纪律的发言稿，由于制定的措施不合理，职工在下面议论纷纷，但他还是完成了自己的发言
- C. 张老师认为他为学生准备的口试题目并不难，但是仍有一些学生回答不出，当学生要求张老师提示时，张老师断然拒绝
- D. 小李同意按照编辑意见修改稿件，但希望保留原文的写作风格，与编辑沟通后，编辑表示同意

97. 附款行政行为是指除行政法规明确规定外，行政主体根据实际需要在主内容基础上附加从属性内容的行政行为。这里的附款就是附条件，是行政主体规定（而不是行政法规规定）的某种将来不确定事实或行为，该条件是否符合将决定法律行为的效力。

根据上述定义，下列属于附款行政行为的是（ ）。

- A. 某省物价局在关于小儿广谱止泻口服液的价格批复中规定该药物每盒不得高于 36 元，此价格从 2009 年 9 月 30 日起执行
- B. 某税务所对王某（现在外地打工）偷税行为作出的处理决定是：处王某罚款 1500 元，所处罚款及所欠税款待王某回乡后缴清

C. 交通警察李某对超速驾驶的刘某作出罚款 100 元的处罚决定，同时告知刘某应在规定的时间内到指定地点缴纳罚款，逾期需缴纳滞纳金

D. 某市人民政府为发展地方经济，规划未来五年内在本市南部建立高新技术产业开发区，吸引一批高新技术企业前来投资

98. 反向诱导是指政府、媒体等主体所采取的措施或者宣传活动，在实际的社会生活中不但没有收到预期的效果，反而导致了与预期相反的社会现象大量出现。

根据上述定义，下列属于反向诱导的是（ ）。

A. 某影院为了让观众摘下帽子，在荧幕上打出通告：“本院允许老年人戴帽观赏。”结果通告一出，许多观众纷纷摘下了帽子

B. 某单位要求员工统一着装，结果招致单位很多女员工的强烈反对，最后只好不了了之

C. 高温季节供水相对紧张，某市自来水公司贴出告示，告知市民近期不会停水，结果导致很多市民在家中大量囤水备用

D. 某电视台播放预防心理疾病的讲座，很多市民对号入座，觉得自己得了心理疾病，纷纷打电话咨询

99. 仿生设计学以自然界万事万物的“形”“色”“音”“功能”“结构”等为研究对象，有选择地在设计过程中应用这些特征原理，同时结合仿生学的研究成果，为设计提供新的思想、新的原理、新的方法和新的途径。其中，结构仿生设计学主要研究生物体和自然界物质存在的内部结构原理在设计中的应用问题，适用于产品设计和建筑设计。

根据上述定义，下列属于结构仿生设计的是（ ）。

A. 设计师根据鱼鳔的作用原理发明了潜艇

B. 科学家发明了能够模仿鱼类声音的电子诱鱼器

C. 受变色龙的启发，军方设计出适用于野外作战的迷彩服

D. 我们的祖先有巢氏受鸟类在树上筑巢的启发，发明“巢居”以防御猛兽的攻击

100. 非正式组织是指人们在共同工作或相互接触中，以感情、性格、爱好相投为基础形成的若干人群。这些群体不受正式组织的行政部门和管理层次等的限制，也没有明确规定的正式结构，但在其内部形成一些特定的关系结构，自然涌现出自己的“领导者”，形成一些不成文的行为准则和规范。

根据上述定义，下列提及的人群属于非正式组织的是（ ）。

A. 老王过生日，邀请了十多位同事在自己家中聚会

B. 小刘下班后和本单位的几名年轻人一起踢足球

C. 小张是校学生会文艺部部长，经他介绍，几名同学参加了文艺演出

D. 几位退休职工自发成立老人曲艺社，利用周末时间在社区演出

三、类比推理。每道题先给出一组相关的词，要求你在备选答案中找出一组与之在逻辑关系上最为贴近、相似或匹配的词。

请开始答题：

101. 航线：飞行

A. 土壤：种植

B. 煤炭：发电

- C. 提纲：发言
D. 地基：建筑
102. 树根：根雕
A. 纸张：剪纸
B. 陶土：瓷器
C. 竹子：竹排
D. 水泥：砚台
103. 亦步亦趋：主见
A. 兴高采烈：恐惧
B. 优柔寡断：果断
C. 鼠目寸光：眼力
D. 孤陋寡闻：胆识
104. 导游：旅行社：行程
A. 职员：公司：总结
B. 演员：剧院：表演
C. 教师：学校：大纲
D. 司机：车队：驾照
105. 车轮：汽车：运输
A. 衣服：衣架：晒衣
B. 镜片：眼镜：读书
C. 听筒：电话：通话
D. 墨汁：毛笔：书法
106. 治疗：患者：医院
A. 付款：顾客：商场
B. 观看：观众：影院
C. 判罚：裁判：赛场
D. 改造：罪犯：监狱
107. 刀：屠夫：肉
A. 剪刀：裁缝：布料
B. 粉笔：老师：黑板
C. 法律：法官：犯人
D. 相机：记者：摄影
108. () 对于 吉祥 相当于 狼烟 对于 ()
A. 和平 战争
B. 麒麟 信号
C. 盛世 烽火
D. 凤凰 入侵
109. () 对于 绿茶 相当于 音乐 对于 ()
A. 龙井 浪漫
B. 早春 娱乐
C. 咖啡 绘画
D. 健康 情操
110. () 对于 表达 相当于 信件 对于 ()
A. 比喻 沟通
B. 文字 载体
C. 感情 抒情
D. 交流 包裹

四、逻辑判断。每道题给出一段陈述，这段陈述被假设是正确的，不容置疑的。要求你根据这段陈述，选择一个答案。注意：正确的答案应与所给的陈述相符合，不需要任何附加说明即可以从陈述中直接推出。

请开始答题：

111. 据某知名房产中介机构统计，2010年9月份第二周全国十大城市的商品房成交量总体呈上涨趋势，并且与8月份第二周相比上周幅度更明显。如果没有其他因素抑制，按照这种趋势发展，9月份或将创新政以来成交量最高水平，虽然现在还不能明确楼市完全回暖，但未来楼价调控的压力还是很大的。

下列最有可能是上述论证前提假设的是（ ）。

- A. 炒房者将大量资金投入楼市
- B. 国家对楼价的调控手段不足
- C. 消费者对房子的购买热情没有减退
- D. 楼市成交量的增长会带动楼价的上涨

112. 研究人员认为，如果母亲在怀孕的头几个月接触杀虫剂较多，那么出生的婴儿在智力上可能较差。他们认为，妇女怀孕后不久胚胎大脑便开始发育，因此怀孕前期是婴儿大脑发育的关键时期，接触杀虫剂较多可能改变孕妇体内正在发育的胚胎大脑周围的环境。

以下哪项如果为真，最能支持研究人员的观点？（ ）

- A. 由于母亲接触杀虫剂较多，导致许多婴儿提前出生
- B. 杀虫剂对人们的健康是一个潜在的威胁，它还会导致帕金森症、癌症和心理疾病等很多疾病
- C. 此前的研究已经发现，较多地接触杀虫剂会导致孕妇的甲状腺出现问题，而孕妇的甲状腺状况会影响胎儿的智力发育
- D. 研究人员对 1500 个孕妇进行了跟踪调查，发现较多地接触杀虫剂的孕妇所生育的孩子在数学和语言学科上表现显著较差

113. 知己知彼，才能百战不殆。这句话同样适用于人际交往之中，一个人只有先了解自己，才能了解别人；任何人也只信赖充分了解他的人，包括他自己。试想，如果一个人根本不了解你，他如何值得你信赖呢？

由此可以推出（ ）。

- A. 只有信赖自己，才能信赖别人
- B. 不了解自己，就不会被任何人信赖
- C. 他充分了解你，所以他值得你信赖
- D. 充分了解自己，就可以获得许多人的信赖

114. 研究人员对四川地区出生的一批恐龙骨骼化石进行分析后发现，骨骼化石内的砷、钡、铬、铀、稀土元素等含量超高，与现代陆生动物相比，其体内的有毒元素要高出几百甚至上千倍。于是一些古生物学家推测这些恐龙死于慢性中毒。

如果以下各项为真，不能质疑上述推测的是（ ）。

- A. 恐龙化石附近土壤中的有毒元素会渗进化石
- B. 恐龙化石内还有很多相应的解毒元素
- C. 这批恐龙化石都是老年恐龙，属于自然死亡
- D. 在恐龙化石附近的植物化石里，有毒元素含量很少

115. 从世界经济的发展历程来看，如果一国或者地区的经济保持着稳定的增长速度，大多数商品和服务的价格必然会随之上涨，只要这种涨幅始终在一个较小的区间内就不会对经济造成负面影响。

由此可以推出，在一定时期内（ ）。

- A. 如果大多数商品价格上涨，说明该国经济在稳定增长
- B. 如果大多数商品价格涨幅过大，对该国经济必然有负面影响

- C. 如果大多数商品价格不上涨，说明该国经济没有保持稳定增长
- D. 如果经济发展水平下降，该国的大多数商品价格也下降

116. 北京市为了缓解交通压力实行机动车辆限行政策，每辆机动车周一到周五都要限行一天，周末不限行。某公司有 A、B、C、D、E 五辆车，保证每天至少有四辆车可以上路行驶。已知：E 车周四限行，B 车昨天限行，从今天算起，A、C 两车连续四天都能上路行驶，E 车明天可以上路。

由此可知，下列推测一定正确的是（ ）。

- A. 今天是周六
- B. 今天是周四
- C. A 车周三限行
- D. C 车周五限行

117. 2008 年上半年原油期货价格一度上涨到每桶 147 美元，是 2000 年同期价格的 4.2 倍，年均增长 20%，而同期世界经济年均增长率在 5% 左右，世界石油消费需求并没有出现跳跃式的、急剧的增长。这说明原油价格的迅速攀升并不是由于世界石油供求关系的变化引起的，而是国际投机资本在石油期货市场进行疯狂投机的结果。

如果以下各项为真，哪项不能质疑上述推论？（ ）

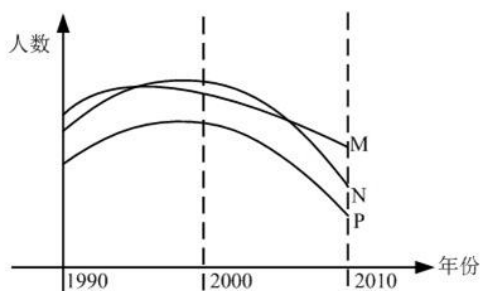
- A. 2000 年至 2008 年，各国政府普遍加大了石油的战略储备量
- B. 较小的经济增长率总带来较大的石油需求增长率
- C. 石油需求变化率和石油价格变化率并不对称
- D. 即便对于国际投机资本来说，投资石油期货也是风险巨大

118. 一项最新研究发现，经常喝酸奶可降低儿童患蛀牙的风险。在此之前，也有研究人员提出酸奶可预防儿童蛀牙，还有研究显示，黄油、奶酪和牛奶对预防蛀牙并没有明显效果。虽然多喝酸奶对儿童的牙齿有保护作用，但酸奶能降低蛀牙风险的原因仍不明确。目前一种说法是酸奶中所含的蛋白质能附着在牙齿表面，从而预防有害酸侵蚀牙齿。

以下哪项如果为真，最能支持这项研究发现？（ ）

- A. 黄油、奶酪和牛奶的蛋白质成分没有酸奶丰富，对儿童牙齿的防蛀效果不明显
- B. 儿童牙龈的牙釉质处于未成熟阶段，对抗酸腐蚀的能力低，人工加糖的酸奶会增加蛀牙的风险
- C. 有研究表明，儿童每周至少食用 4 次酸奶可将蛀牙发生率降低 15%
- D. 世界上许多国家的科学家都在研究酸奶对预防儿童蛀牙的作用

119. S 市规定，适龄儿童须接种麻疹疫苗，适龄儿童必须接受义务教育，如图表示：1990 年到 2010 年间 S 市儿童数量的一些统计，其中 M 表示接受义务教育的儿童总数，N 表示新生儿总数，P 表示接种麻疹疫苗的儿童总数。



下面哪一项最能解释 2000 年到 2010 年间 S 市接受义务教育的儿童总数与接种麻疹疫苗的儿童总数下降程度的不同？（ ）

- A. 2000 年至 2010 年间，有部分在 S 市接种麻疹疫苗的儿童没有在 S 市入学
- B. 2000 年至 2010 年间，约有 20% 的父母没有按照 S 市的规定让他们的孩子接种麻疹疫苗
- C. 2000 年至 2010 年间，每年都有不在 S 市出生但已接种了麻疹疫苗的儿童在 S 市入学
- D. 2000 年至 2010 年间，S 市新生儿总数下降，因此入学儿童总数和接种麻疹疫苗的儿童总数也随之下降

120. 提起极地冰，很多人眼前总是浮现一幅洁白无瑕、晶莹剔透的景观。然而，在北纬 71 度，西经 168 度附近的北冰洋海域，“雪龙”号首次驶入一片“脏”冰区，只见一块淡蓝色的浮冰中间夹杂了许多脏兮兮的黄色冰块，这种黄色冰块，既出现在当年的新生冰块上，也出现在多年冰块上。对于“人类造成的污染已经殃及极地浮冰”的说法，有专家解释说这只是生活在极地冰中的一种特有生物——黄褐色的冰藻。

如果以下各项为真，能够反驳专家上述观点的是（ ）。

- A. 在新生冰块上形成冰藻需要多年
- B. 北极冰中生长有冰藻并不是普遍现象
- C. 近年来人类踏上北极的次数逐年增加
- D. 北冰洋周围的陆地常有沙尘天气

第五部分 资料分析

（共 15 题，参考时限 15 分钟）

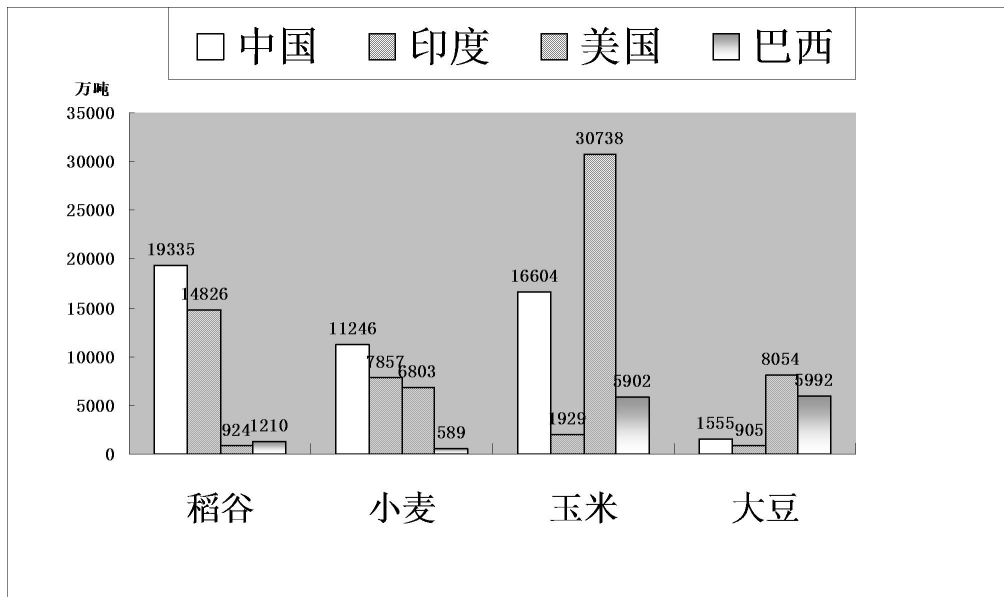
所给出的图、表、文字或综合性资料均有若干个问题要你回答。你应根据资料提供的信息进行分析、比较、计算和判断处理。

请开始答题：

一、根据以下资料，回答 121~125 题。

2008 年世界稻谷总产量 68501.3 万吨，比 2000 年增长 14.3%；小麦总产量 68994.6 万吨，比 2000 年增长 17.8%；玉米总产量 82271.0 万吨，比 2000 年增长 39.1%；大豆总产量 23095.3 万吨，比 2000 年增长 43.2%。

2008 年部分国家各种谷物产量



2008 年与 2000 年相比各种谷物产量增长率 (%)

国家	稻谷	小麦	玉米	大豆
中国	1.9	12.9	56.4	0.9
印度	16.3	2.9	60.2	71.4
美国	6.7	12.0	22.0	7.3
巴西	9.1	254.2	85.1	83.0

121. 下列四种谷物中，2008 年与 2000 年相比全世界增产量最多的是 ()。

- A. 稻谷 B. 小麦 C. 玉米 D. 大豆

122. 将每个国家的四种谷物按 2008 年的产量分别排序，哪个国家产量排名第一的谷物与 2000 年相比产量增长率最高？ ()

- A. 中国 B. 美国 C. 印度 D. 巴西

123. 2000 年，中国稻谷产量占世界稻谷产量的比重约为 ()。

- A. 20% B. 24% C. 28% D. 32%

124. 2000 年，表中所列四国玉米的最高产量约是最低产量的多少倍？ ()

- A. 11 B. 16 C. 21 D. 26

125. 下列选项中，能够从上述资料中推出的是 ()。

- A. 2008 年，美国是世界最大的大豆产地
 B. 2008 年，巴西玉米产量占世界总产量的比重比 2000 年略有下降
 C. 与 2000 年相比，2008 年中国小麦产量增产 900 多亿吨
 D. 2008 年，印度稻谷产量是其小麦产量的 2 倍以上

二、根据以下资料，回答 126~130 题。

2010 年上半年，全国原油产量为 9848 万吨，同比增长 5.3%，上年同期为下降 1%。进口原油 11797

万吨（海关统计），增长 30.2%。原油加工量 20586 万吨，增长 17.9%，增速同比加快 16.4 个百分点。成品油产量中，汽油产量增长 6%，增速同比减缓 7.9 个百分点；柴油产量增长 28.1%，增速同比加快 15.8 个百分点。

据行业统计，2010 年上半年成品油表观消费量 10963 万吨，同比增长 12.5%。其中，一、二季度分别增长 16.3% 和 9.2%。

2010 年 6 月份，布伦特原油平均价格为 75.28 美元/桶，比上月回落 1.75 美元/桶，同比上涨 10.4%。结合国际市场油价变化情况，国家于 6 月 1 日将汽油、柴油批发价格分别下调 230 元/吨和 220 元/吨。

2010 年上半年，全国天然气产量 459 亿立方米，同比增长 10.8%，增速同比加快 3.2 个百分点。国家于 6 月 1 日将国产陆上天然气出厂基准价格上调了 230 元/千立方米。

2010 年 1~5 月，石油石化行业实现利润 1645 亿元，同比增长 76.4%，上年同期为下降 35.4%。其中，石油天然气开采业利润 1319 亿元，同比增长 1.67 倍，上年同期为下降 75.8%，炼油行业利润 326 亿元，同比下降 25.7%，上年同期为增长 1.8 倍。

126. 2010 年上半年全国原油产量比 2008 年同期约增长了（ ）。

- A. 1.8% B. 4.2% C. 6.3% D. 9.6%

127. 2010 年上半年，全国成品油表观消费量同比增加了约多少万吨？（ ）

- A. 1009 B. 1218 C. 1370 D. 1787

128. 2010 年 5 月份，布伦特原油的平均价格约为每桶多少美元？（ ）

- A. 68.19 B. 73.53 C. 75.28 D. 77.03

129. 2009 年 1~5 月，石油天然气开采业利润占石油石化行业实现利润的比重约为（ ）。

- A. 53% B. 66% C. 80% D. 91%

130. 下列选项中，能够从上述资料中推出的是（ ）。

- A. 2009 年上半年，全国原油进口量高于原油产量
 B. 2009 年上半年，全国汽油产量同比增长率高于柴油
 C. 2009 年一季度，全国成品油表观消费量高于二季度
 D. 2009 年上半年，全国天然气产量同比增长 14%

三、根据以下资料，回答 131~135 题。

2010 年一季度，我国水产品贸易进出口总量 158.7 万吨，进出口总额 40.9 亿美元，同比分别增长 14.2% 和 29.0%。其中，出口量 67.1 万吨，出口额 26.5 亿美元，同比分别增长 11.7% 和 24.9%；进口量 91.6 万吨，进口额 14.4 亿美元，同比分别增长 16.0% 和 37.5%。

表 1 主要进口来源地（进口额前 7 位）

	进口量（万吨）	同比增长率（%）	进口额（亿美元）	同比增长率（%）
俄罗斯	33.20	57.10	4.63	52.30
秘 鲁	15.16	-15.63	2.08	31.29
东 盟	7.63	18.40	1.20	32.40
美 国	6.88	59.30	1.13	42.00

	进口量（万吨）	同比增长率（%）	进口额（亿美元）	同比增长率（%）
智利	5.24	-40.10	1.11	5.70
挪威	3.88	54.87	0.85	67.31
日本	4.09	80.30	0.65	87.40

表 2 主要出口目的地（出口额前 7 位）

	出口量（万吨）	同比增长率（%）	出口额（亿美元）	同比增长率（%）
日本	13.24	8.27	6.45	16.95
美国	10.72	3.05	4.66	8.76
欧盟	10.68	11.50	3.71	12.89
韩国	10.30	16.21	3.04	48.68
中国香港	3.42	9.98	2.08	23.78
东盟	6.83	-14.60	1.73	19.43
中国台湾	2.10	52.30	1.28	124.90

131. 2010 年一季度，我国水产品出口额比上年同期约增长了多少亿美元？（ ）

- A. 5.3 B. 7.0 C. 9.2 D. 21.2

132. 2010 年一季度，我国水产品主要进口来源地，按进口量从小到大排序正确的是（ ）。

- A. 日本—挪威—美国 B. 秘鲁—东盟—日本
C. 挪威—美国—东盟 D. 东盟—智利—俄罗斯

133. 2010 年一季度，我国与美国水产品进出口贸易额占我国水产品进出口贸易总额的比重约为（ ）。

- A. 7.8% B. 12.7% C. 14.2% D. 17.6%

134. 2010 年一季度，我国对以下哪个国家或地区出口水产品的平均单价最高？（ ）

- A. 日本 B. 美国 C. 欧盟 D. 韩国

135. 下列选项中，能够从上述资料中推出的是（ ）。

- A. 2010 年一季度，我国是俄罗斯最大的水产品出口目的地
B. 2009 年一季度，日本比美国进口了更多的我国水产品
C. 2010 年一季度，我国从秘鲁进口水产品的平均单价比上年同期有所下降
D. 2009 年一季度，我国对东盟水产品进出口贸易为逆差

2015 年中央、国家机关公务员录用考试试卷（省部级）

《行测》参考答案及解析

1. 【答案】A。解析：2014年3月28日，习近平主席在德国科尔伯基金会发表演讲，结尾讲到：“今年是第一次世界大战爆发100周年、第二次世界大战爆发75周年。德国文学家莱辛说，历史不应该是记忆的负担，而应该是理智的启迪。贵国前总理勃兰特曾经说过：‘谁忘记历史，谁就会在灵魂上生病。’中国人说，前事不忘，后事之师。中国人民从自身经历中形成了走和平发展道路的自觉选择，我们也真诚希望世界各国都走和平发展道路，携手建设持久和平、共同繁荣的和谐世界。”故本题选A。

2. 【答案】A。解析：农村三级卫生服务网是指以县级医疗卫生机构为龙头，乡镇卫生院为主体，村卫生室为基础的卫生服务体系。B、D项错误。农村三级卫生服务网络主要承担着预防保健、基本医疗、卫生监督、健康教育、计划生育技术指导等任务，为农民获得基本卫生服务提供保障。A项正确。可缓解看病难、看病贵，实现农村医疗卫生发展目标，使农民“小病不出村、一般疾病不出乡、大病基本不出县”。C项错误。故本题选A。

3. 【答案】B。解析：钢铁业、化工业属于资本密集型产业，而不是劳动密集型产业。故本题选B。

4. 【答案】C。解析：A项正确，“南橘北枳”出自《晏子春秋·内篇杂下》：“橘生淮南则为橘，生于淮北则为枳，叶徒相似，其实味不同。所以然者何？水土异也。”这是晏婴出使楚国时说的话。B项正确，苏武在天汉元年（前100年）奉命以中郎将持节出使匈奴，被扣留，匈奴贵族多次威胁利诱，欲使其投降，后将他迁到北海边牧羊。北海也就是今天的贝加尔湖一带。C项错误，《汉书》又称《前汉书》，由我国东汉时期的历史学家班固编撰，而非班超。D项正确，西汉张骞出使西域，唐代鉴真则东渡日本，两人出行的方向不同。故本题选C。

5. 【答案】A。解析：迫击炮是支援和伴随步兵作战的一种有效的压制兵器，是步兵极为重要的常规兵器，而非配属装甲兵使用，A项错误。故本题选A。

6. 【答案】A。解析：根据《政府信息公开条例》第14条规定，行政机关对政府信息不能确定是否可以公开时，应当依照法律、法规和国家有关规定报有关主管部门或者同级保密工作部门确定。A项说法错误。故本题选A。

7. 【答案】D。解析：《民事诉讼法》第157条规定，基层人民法院和它派出的法庭审理事实清楚、权利义务关系明确、争议不大的简单的民事案件，适用本章规定。基层人民法院和它派出的法庭审理前款规定以外的民事案件，当事人双方也可以约定适用简易程序。第162条规定，基层人民法院和它派出的法庭审理符合本法第157条第一款规定的简单的民事案件，标的额为各省、自治区、直辖市上年度就业人员年平均工资百分之三十以下的，实行一审终审。D项符合。故本题选D。

8. 【答案】B。解析：B项“江淮”指江南、淮南地区，今江苏、安徽一带，“关陇”指陕西关中和甘肃东部一带，“幽燕”指今河北北部及辽宁一带，“荆襄”主要指湖北一带，则该城市位于河南，此处应为古都洛阳。故本题选B。

9. 【答案】C。解析：①出自《孟子》，出现在战国时期；②出自梁启超《少年中国说》，出现在民国时期；③出自诸葛亮的《出师表》，出现在三国时期；④出自韩愈的《进学解》，出现在唐朝时期。故时间顺序为①③④②。故本题选C。

10. 【答案】C。解析：A、B项由“挥毫”“泼墨”“紫毫”可知描述的是书法；D项出自李白的《草书歌行》，赞扬怀素草书艺术；C项出自刘禹锡的《望洞庭》，描写的是湖景。故本题选C。

11. 【答案】A。解析：A项“琴瑟和鸣”与“破镜重圆”描写的都是夫妻间的关系。B项“负荆请罪”指的是朋友之间的关系，“载舟覆舟”则指的是统治者与百姓之间的关系。C项“结草衔环”指的

是报恩关系，“青梅竹马”则指的是男女儿童之间两小无猜的情状。D项“相濡以沫”指的是夫妻关系，“舐犊情深”则指的是父母与孩子之间的关系。故本题选A。

12. 【答案】D。解析：《水浒传》中将108位好汉分为“三十六员天罡”“七十二座地煞”，其作者施耐庵为元末明初时期人士，故事背景设定在北宋末年。A项对应《西游记》；B项中曹雪芹为清早期人士；C项“白帝城托孤”是《三国演义》中的一个情节。故本题选D。

13. 【答案】D。解析：选项中八个城市都位于北半球，7月份北半球正处于夏季。A项，北京为北温带半湿润大陆性季风气候，夏季高温多雨，冬季寒冷干燥；纽约属于北温带，四季分明，雨水充沛。B项，东京属于亚热带季风气候，夏季受东南季风影响，降水较多；马德里属于大陆性气候，秋冬两季雨水较多，6月、7月、8月为旱季，雨水稀少。C项，上海属北亚热带季风性气候，四季分明，日照充分，雨量充沛，全年60%以上的雨量集中在5月至9月的汛期；伦敦属温带海洋性气候，空气湿润，多雨雾。D项，罗马是典型的地中海气候，每年7月和8月是最热和最干燥的季节；洛杉矶位于地中海型气候带，大体上终年干燥少雨，只是在冬季降雨稍多。故选择罗马和洛杉矶最为合理。故本题选D。

14. 【答案】C。解析：农谚中的描述是：麻雀囤食要落雪。蚂蚁垒窝要落雨。鱼跳水，有雨来。燕子低飞要落雨。癞蛤蟆出洞，下雨靠得稳。龟背潮，下雨兆。由此可知A、B、D项错误。故本题选C。

15. 【答案】B。解析：“杨桴击节雷阗阗，乱流齐进声轰然”出自刘禹锡的《竞渡曲》，所描写的是赛龙舟的活动。故本题选B。

16. 【答案】D。解析：A项电话机是美国人贝尔于1876年发明的。B项，英国人斯蒂芬森在1814年发明了一台蒸汽机车，它在前进时不断从烟囱里冒出火来，因此被称为“火车”。C项，1852年，美国的E.G.奥蒂斯研制出钢丝绳提升的安全升降机；1889年12月，美国奥的斯电梯公司制造出了名副其实的电梯。D项，广播诞生于20世纪20年代，所以汤姆不可能在19世纪通过广播收听葛底斯堡演说。故本题选D。

17. 【答案】C。解析：“日照香炉生紫烟”的主要原理是水的汽化。多环芳香烃是一类含有多个苯环的芳香族化合物，是煤炭、木材、石油等有机物不完全燃烧的产物。两者之间没有联系。故本题选C。

18. 【答案】B。解析：B项中的情况都属于扩散现象。物质是由分子组成的，分子在不停地做无规则运动，且分子间存在相互作用的引力和斥力。由于分子在不停地做无规则运动，故不同物质的分子会彼此进入对方，发生扩散现象。故本题选B。

19. 【答案】D。解析：千滚水是指在炉上沸腾了一夜或很长时间的水，或者电热水器中反复煮沸的水，其在该过程中滋生出亚硝酸盐、重金属等有害物质而非细菌含量大大增加，D项错误。故本题选D。

20. 【答案】A。解析：古代贵族男子的字前常加伯(孟)、仲、叔、季表示排行。按照长幼顺序，孙伯符应坐主位，孙仲谋次之，孙叔弼再次之，孙季佐居末座。四人分别对应西北南东。故本题选A。

21. 【答案】C。解析：“却”字表转折，则划横线部分所填内容应该表示意义不同。“南辕北辙”比喻行动和目的正好相反，不合题意。“针锋相对”比喻双方在策略、论点及行动方式等方面尖锐对立，主语为人，用在此处不恰当。“纷繁复杂”形容头绪多，情况复杂，侧重于复杂，用在此处不恰当。“截然相反”形容事物或事件毫无共同之处，用在此处恰好加深了语义，与文意相符。故本题选C。

22. 【答案】B。解析：划横线部分所填内容应是“平均数”的特点。“削峰填谷”，削低山峰来填平山谷，与平均数把总数按份平分，以多补少的特点相符。其他三项都不能用来形容“平均数”的特点。故本题选B。

23. 【答案】B。解析：划横线部分内容应当与“开除”相对应。“指鹿为马”比喻故意颠倒黑白，混淆是非；“自欺欺人”指欺骗自己，也欺骗别人；“掩耳盗铃”比喻自己欺骗自己，明明掩盖不住的事情偏要想法子掩盖。这三个词语所表达的意思与“开除”这一行为不相符，排除A、C、D三项。“知足适履”比喻不合理地牵就凑合或不顾具体条件，生搬硬套，与文意相符。故本题选B。

24. 【答案】C。解析：第一空，“亲身感受”为固定搭配；第二空，后文是“得到一些教育的灵感”，横线处用“启发”刚好符合文意。故本题选C。

25. 【答案】A。解析：第一空应当与后文的“甩开膀子”表意相反，故用“畏难”最恰当，表明政府部门和干部畏惧改革创新的困难，不能放开手去搞。第二空应当与“创造一个宽容的创新环境”对应。“宽恕”常与“过错”“罪过”等搭配，与“责任”搭配不当，“淡化责任”含贬义，“忽略责任”明显错误。故本题选A。

26. 【答案】B。解析：“与……相……”不能与“支持”搭配，排除A项。“动态”表明事物是变化发展的，与“完全能够定量计算”不符，排除D项。根据“内部运转”，“封闭”比“机械”更符合文意，“匹配”填入空缺处契合句意。故本题选B。

27. 【答案】D。解析：根据“几乎所有这些都是在弱引力场下”，结合文意，第二空应当是强调在强引力场中进行的检验十分少或者从未有过，“需要”“迫切”不符合语境，排除BC。“观测”“检验”与“经受”搭配更为得当，与“经历”搭配不当，排除A项。故本题选D。

28. 【答案】A。解析：第一空，“保护”与“发展”搭配不恰当，故排除B项。第二空，由“应关注如何在维护网络主权的同时_____互联网行业的健康发展”可知，维护网络主权和行业健康发展之间存在矛盾，要二者兼顾，则应寻找恰当的“平衡”。故本题选A。

29. 【答案】B。解析：第一空，“可悲”语义过重，故排除A项。第二空，由“这些成果中只有极少一部分转化为实际生产力，大部分成果只能‘沉睡’在实验室和书斋中”可知，虽然高校科研成果转化率低，但并非完全没有推广，“寸步难行”程度过重，“一筹莫展”的搭配主体不能是“推广”，排除C、D项。故本题选B。

30. 【答案】A。解析：“气度”是指气魄风度；诗文气韵。气度也是心理素质的表现形式。“气概”意思是正直豪迈的态度，或者在某种活动中或生存方式中表现出来的态度、举动或气势。“气质”指人的相当稳定的个性特点。“气派”指人的态度作风或某些事物所表现的气势。而“惯看秋月春风”表现出的是一种气定神闲的风度，故用“气度”最为恰当。第二空“究竟是……还是……”表现了不确定的态度，用“琢磨”正好合适。故本题选A。

31. 【答案】D。解析：第一空，“科学根据”与“检验”“验证”搭配不当，排除A、B项。第二空，“圣旨”指帝王的意旨和命令，今多用于比喻不能违反的意见或话语，不符句意，排除C项。“圭臬”比喻标准、准则和法度；可以据此作出决定或判断的根据。“奉为圭臬”为一成语。故本题选D。

32. 【答案】C。解析：第一空，“警戒”意为告诫人使注意改正错误，“警告”的主体不能是“系统”，故排除AD。第二空，“汇集”意为聚集，与“数据”搭配不当，排除B。“收集数据”为常用搭配。故本题选C。

33. 【答案】A。解析：“曲意逢迎”指违心讨好，“附庸风雅”指缺乏文化修养的人为了装点门面而结交文人，参加有关文化活动，两者多用于个人行为，与文段意思不符，故排除B、D项；第二空，“反而”表转折，故所填内容应当与前文“能够发展起来”意思相反，用“劳民伤财”最为恰当。“进退维谷”指处境艰难，进退两难，与句意不符。故本题选A。

34. 【答案】D。解析：第一空，“崇拜”表示崇敬敬拜，一般用于对英雄或伟人，对微信“崇拜”显然不恰当；“痴狂”意为癫狂，无知而纵情任性，语义过重，故排除A、B项。第二空，“寄托”意为把理想、感情等放在（某人或某种事物上），“慰藉”着意安慰、抚慰。与“空虚寂寞冷”对应，用“慰藉”更为恰当。故本题选D。

35. 【答案】D。解析：第一空所填内容应当与“工程量非常大”所表达的意思相反，故“平常”“普通”不符句意，排除B、C项。第三空，大气运动不是“无迹可寻”，否则人们根本无法预报天气，故排除A。正是由于大气运动的“错综复杂”，所以不容易做出“精准”的天气预报，D项符合句意。故本题选D。

36. 【答案】B。解析：第一空，“推脱”意为推卸责任、错误等，“推托”意为借故拒绝，故使用“推脱”恰当，排除C、D项。第三空，“抑制”意为约束，压制，“制约”的释义为甲事物本身的存在和变化以乙事物的存在和变化为条件，则甲事物为乙事物所制约，故此处用“制约”更符合句意。第

二空，“环境的承载能力”搭配恰当。故本题选 B。

37. 【答案】C。解析：第一空，“区别”与“界限”搭配不当，排除 A 项。第二空，“减弱”“降低”与“个人”搭配不当，排除 B、D 项。第三空所填内容应当与“获得自由”表意相反，“束缚”符合句意。故本题选 C。

38. 【答案】A。解析：文段对史书细节中显现出历史人物的性格的叙述是客观、不带褒贬色彩的，“昭然若揭”“露出马脚”都含贬义，故排除 CD 项。第三空对应“有意无意地隐此扬彼”。“若隐若现”意为隐隐约约，看不清楚，使用恰当；“跃然纸上”意为活跃地呈现在纸上，形容文学作品叙述描写真实生动，不符合文意。故本题选 A。

39. 【答案】B。解析：从第三空入手，“那些不熟悉的话语声”是一直存在的，故“灰飞烟灭”“烟消云散”不符合文意，排除 C、D 项。再看第一空，“筛选”泛指在同类事物中去掉不需要的，留下需要的，那么“筛选”的对象应当是所有人的声音，而不只是“不熟悉的人的声音”，故“筛选”不符合句意，排除 A 项。“过滤”指滤掉杂质等，去除的是不需要的部分，即“不熟悉的人的声音”，符合句意。故本题选 B。

40. 【答案】C。解析：第一空描述的是原子的变化，“固结”指在荷载或其他因素作用下，土体孔隙中水分逐渐排出、体积压缩、密度增大的现象，不符合句意，排除 B 项。第二空，“眺望”指从高处远望，而望远镜是从低处向高处看，排除 A 项。第三空，“一目千里”原指视力好，眼睛看得远，意指某人有先见之明；“一览无余”形容视野广阔，没有阻碍，把事物或景象都看在眼里，没有遗漏。由“那里几乎没有湿气或植被”可知句中强调的是“看得广”，故“一览无余”更符合句意。故本题选 C。

41. 【答案】C。解析：文段强调的内容在第三句，“而如何管理好长期设在南极的科考站，才是最棘手的问题”说明强调的是“管理”的问题。故本题选 C。

42. 【答案】B。解析：文段首先指出汉语词典收录字母词的历史已有 100 多年，然后以《新尔雅》中“X 光线”一词的收录为例，说明这是汉语词典首次收录字母词。由此可知，文段介绍《新尔雅》的目的是为了说明汉语词典收录字母词早有先例。A 项“收录规律”、C 项“影响”、D 项“历史演变”在文中均没有涉及。故本题选 B。

43. 【答案】D。解析：文段第一句总说“国际经济环境因素对我国宏观经济运行稳定性影响越来越大，需要我们密切关注”，第二句以石油等重要资源具体举例说明国际市场如何影响我国经济运行稳定性，最后一句说明这种影响会越来越大，再次强调了我们必须加以重视。故文段意在说明要重视国际经济因素对我国经济稳定性的影响。故本题选 D。

44. 【答案】A。解析：本题属于推断下文题。文段主要论述了不同电影票价相同这一情况，在最后说明了这种方式不能使电影公司和影院获得更高的收益，但对于影院来说却仍然利大于弊。因此接下来最可能是解释为什么“利大于弊”，即讲述不同电影票价相同对影院更有利的原因。故本题选 A。

45. 【答案】B。解析：文段主要介绍了历代统治者重视户籍制度的原因——维护封建特权。由“这是一种源远流长的文化烙印，纵使历史的车轮滚滚向前，但那道痕迹仍难以抹去”可知文段介绍的是“历史根源”。故本题选 B。

46. 【答案】C。解析：文段讲述的是“微创新”。由“对于习惯了模仿的企业来说”以及“山寨”“一窝蜂”等关键词可知“团购”不是创新，而是企业间特别是互联网领域争相模仿与复制的现象。故本题选 C。

47. 【答案】B。解析：文段先提出临睡肌跃症的概念，然后指出“目前没有研究彻底搞明白它的原因，因而人们对此有诸多猜测”，接着提出了一种解释。故文段是提供一种对临睡肌跃症的解释。A、C、D 项在文中均未提及。故本题选 B。

48. 【答案】D。解析：由“《吕氏春秋》就提到十个相马家”，可知相马师这一职业在汉代以前已出现，D 项正确。其余三项均无法从原文中得到。A 项，原文只提到“由于已从车战演变到骑兵作战，马的身价越来越高”，并未提到相马技术的发展导致车战逐渐被淘汰。B 项，原文未提及《相马经》的

作者。C项，原文只提到《相马经》是“我国动物学、畜牧学的重要文献”，由此并不能推出相马术的出现推动了古代动物学的发展。故本题选D。

49. 【答案】A。解析：标题应能准确全面地概括文字的主要内容，并能起到吸引眼球的作用。“何为神经元”并不是文段叙述的内容，“脑科学的新发现”过于笼统，缺乏针对性、特点，故排除B、C项。镜像神经元能感受到“对象的害怕和愤怒、难过和恶心”以及“复杂的感受如害羞、孤独和不受欢迎”，这些情感和感受能够引起人们的同情心，故“‘同情’的魔力”最适合作为标题。而文段没有有关“爱”的体现。故本题选A。

50. 【答案】C。解析：A项原文并未提及；由“然而这些含铁悬浮质大多都在近海地区沉积下来，因此风尘的输送成为远离大陆的海洋中铁的主要补给形式”可知，B项“低纬度地区”说法有误；由“铁的有限性限制了浮游植物的生长”“这种补给对于浮游植物的生长具有很大的促进作用”，可知C项与原文相符；D项，原文只提到“海水中的铁主要来自于河流中的悬浮质”，并未提及深海地区铁的存在形式。故本题选C。

51. 【答案】C。解析：文段第一句介绍了超细颗粒功能制备机的设计原理，第二句介绍了使用超细颗粒功能制备机粉碎和制备药品的过程，并讲述了存在的问题和解决方法。综合文意，文段主要说明的是超细颗粒功能制备机的设计原理及在药品粉碎和制备中的应用。故本题选C。

52. 【答案】A。解析：⑤句中的“这”指的是①句的内容，⑤应当紧跟在①后面，故排除B、C项。由事理顺序可知，应先确定中国工业的心脏，再确定中国工业心脏病的所在，最终才能研究如何治愈心脏病，故②句应排在④、③句之前，排除D。故本题选A。

53. 【答案】D。解析：根据叙事逻辑，应从“生态”大概念引入到“生态红线”小概念上，故⑤应当排在②前面，排除A、B项。①句“因此”的“此”指的是⑥句的内容，故⑥应当排①前面，且①句是对生态红线问题的结论性陈述，应放在句尾作总结。故本题选D。

54. 【答案】C。解析：由“所以”可知划横线部分所填内容是从文段中得出的结论。A、B项均无法从文段中得出。文段前两句说明了输血原理及排异反应，最后一句说明了有血缘关系的人互相献血则会破坏受血者的识别排异反应，从而导致发病。由以上内容可得出直系亲属之间不能相互献血的结论，C项比D项更恰当。故本题选C。

55. 【答案】A。解析：“文如其人”指文章的风格同作者的性格特点相似，现也指文章必然反映作者的思想、立场和世界观。“文以载道”指文章是为了说明道理，弘扬精神的。“知人论世”原指了解一个人并研究他所处的时代背景，现也指鉴别人物的好坏，议论世事的得失。“诗以言志”用诗来表达自己的志向和决心。由“社会价值体系对文学家的人格有较高的要求”“坚持‘德艺双馨’的文艺评论原则”等可知，传统上中国古代对文学作品的看法与作者的“人格”有关，“文如其人”符合题意，故本题选A。

56. 【答案】B。解析：文段由亲子节目联想到现实生活中孩子依然没有父亲陪伴的情况，接着提到“这种现象同样发生在母亲身上”，说明了在现实生活中，父母总是缺席孩子教育的现象，故文段意在说明的是亲子教育主体（即父母）的缺位。故本题选B。

57. 【答案】B。解析：由“我们则主张一种截然不同的方法”可知，文段的重点在“在众所周知的框架内思考，不要跳出它的范围”，后文也说明了在框架内思考创造力才是最强大的，B项符合文意。A项无中生有；文段并未否认传统的创新观念的作用，故C、D项不符文意。故本题选B。

58. 【答案】C。解析：文段叙述了量子力学的重要作用，指出“量子力学等理论的诞生，对于推动世界文明进步具有十分深远的意义”，最后得出结论“这些基础研究成果，其科学价值是无法估量的，绝不是用‘有用没用’这样的简单标准就能衡量的”。故文段是在说明用“有用没有”这样功利性的标准来衡量基础研究是不正确的，即“基础研究不应急功近利”。故本题选C。

59. 【答案】D。解析：文段先指出“评论是主观的判断”，接着指出“这决定了评论永远只能跟在新闻的后面，根据新闻事实，作出相应的评论和价值判断，而不能跑在新闻的前面，不能作出超越新闻

事实的判断”，说明了评论虽然是主观的，但它只能基于新闻事实而不能超越新闻事实。故本题选 D。

60. 【答案】B。解析：文段先指出“中国奶粉业的困境是上游小农经济的困境”，接着指出“传统的畜牧模式已经成为中国奶粉发展最大的掣肘”，最后进一步指出想要保障有质量的奶源，需要转变目前的生产模式，然而变革生产模式需要诸多根本性变革，“难度比恢复奶粉信用还高”。故文段意在说明中国奶粉业“从生产模式上变革困难重重”。故本题选 B。

61. 【答案】D。解析：设原来每台收割机每天的工作效率为 1，则工作总量为 36×14 ，7 天后工作效率为 $1 + 5\% = 1.05$ ，收割机数量为 $36 + 4 = 40$ ，设收割完所有的麦子还需要 n 天，则 $36 \times 7 + 1.05 \times 40n = 36 \times 14$ ，解得 $n = 6$ 。故本题选 D。

62. 【答案】A。解析：由“某单位有 50 人，男女性别比为 3:2”可知该单位共有男性 30 人，女性 20 人，要使从中任选一人为男性党员的概率最大，则未入党的 15 人均均为女性，男性都为党员，故最大概率为 $\frac{30}{50} = \frac{3}{5}$ 。故本题选 A。

63. 【答案】B。解析：由题意可知去丙厂实习的人数占 $1 - 32\% - 24\% = 44\% > 32\%$ ，则去丙厂的人数比去甲厂多 $44\% - 32\% = 12\%$ ，设为 x 人，去甲厂实习的人数比去乙厂的多 $32\% - 24\% = 8\%$ ，为 6 人，根据 $6 : x = 8\% : 12\%$ ，解得 $x = 9$ ，故去丙厂的人数比去甲厂的多 9 人。故本题选 B。

64. 【答案】A。解析：设项目的资金需求为 1，则总投资额为 $甲 + 乙 + 丙 + 丁 = 1 + \frac{1}{3} = \frac{4}{3}$ ， $甲 + 乙 + 丙 = 1 - \frac{1}{12} = \frac{11}{12}$ ，所以 $丁 = \frac{4}{3} - \frac{11}{12} = \frac{5}{12}$ ；丙的投资额是丁的 60%，故 $丙 = \frac{5}{12} \times 60\% = \frac{1}{4}$ ， $甲 + 乙 = \frac{11}{12} - \frac{1}{4} = \frac{2}{3}$ ； $甲 = (乙 + 丙) \times (1 + 20\%)$ ，故 $1.2(乙 + \frac{1}{4}) + 乙 = \frac{2}{3}$ ，解得 $乙 = \frac{1}{6}$ 。故本题选 A。

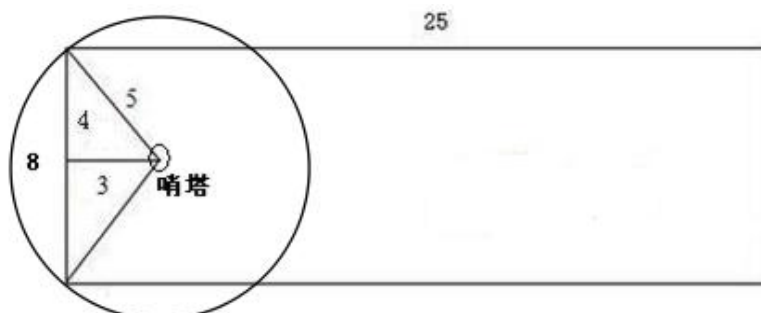
65. 【答案】D。解析：由“甲和乙两人的客房中间隔了其他两间客房，乙和丙的客房号之和是四个人里任意二人的房号和中最大的”可知乙的房号比甲大，则甲的房号可能是 1211 或 1213。假设甲的房号是 1211，则乙在 1217；由“丁的客房与甲相邻且不与乙、丙相邻”可知丁在 1213，丙在 1219，则空房为 1215，无对应选项。再设甲在 1213，则乙在 1219，丁在 1211，丙在 1215 或者 1217，对应空房为 1215 或 1217，则空房可能是 1217。故本题选 D。

66. 【答案】C。解析：每侧种 9 棵，每侧的柏树数量相等，则每侧种 6 棵松树，3 棵柏树。由于起点和终点处两侧种植的都必须是松树，则相当于将柏树插入松树之间，运用插空法，6 棵松树形成了 5 个空，则每侧有 $C_5^3 = 10$ 种植方法，总共有 $10 \times 10 = 100$ 种。故本题选 C。

67. 【答案】C。解析：9 升油可以有以下构成： $5 + 2 \times 2$ ， $5 + 2 + 1 \times 2$ ， $5 + 1 \times 4$ ， $2 \times 3 + 1 \times 3$ ， $2 \times 2 + 1 \times 5$ ， $2 \times 1 + 1 \times 7$ 。故共有 6 种方式。故本题选 C。

68. 【答案】B。解析：由“小王的哥哥比小王大 2 岁、比小李大 5 岁”可知小王比小李大 3 岁，只有 B 项符合要求。故本题选 B。

69. 【答案】C。解析：如图所示：



由图可知一个哨塔能使宽为 $3 \times 2 = 6$ 公里区域内的每个角落都被监视到，要达到完全覆盖，则需要 $25 \div 6 = 4.17$ 个，至少5个。故本题选 C。

70. 【答案】B。解析：乙第一次追上甲后，两人同时、同向、同起点开始第二次追及，则第二次追及过程中乙比甲多跑一圈的路程即400米，但两次追及加起来乙只比甲多跑了250米，说明乙第一次追上甲时乙比甲少跑了 $400 - 250 = 150$ 米，则乙的出发点在甲出发点前方150米处。故本题选 B。

71. 【答案】A。解析：5家公司在各项业务中中标的概率均相等，即每家公司中标的概率都为 $\frac{1}{5}$ ，则3项业务由同一家公司中标的概率为 $C_5^1 \times \frac{1}{5} \times \frac{1}{5} \times \frac{1}{5} = \frac{1}{25}$ 。故本题选 A。

72. 【答案】C。解析：甲、乙和丙机房分别需要每隔2天、4天和7天巡检一次，即每3天、5天和8天巡检一次。除3月1日外，甲机房有4、7、10……31，共10天需要巡检；乙机房除去和甲机房重复的日子，有6、11、21、26，共4天需要巡检；丙机房除去和甲、乙机房重复的日子，有9、17，共2天需要巡检。故不需要巡检的天数为 $31 - (1 + 10 + 4 + 2) = 14$ （天）。故本题选 C。

73. 【答案】D。解析：由三集合公式“总数=使用搜索引擎+使用官方网站+使用社交网站-使用两种-2×使用三种+均不使用”可知，回收问卷总数= $179 + 146 + 246 - 24 - 2 \times 115 + 52 = 369$ 份，则发出问卷总数为 $369 \div 90\% = 410$ 份。故本题选 D。

74. 【答案】D。解析：由“该旗台由两个正方体上下叠加而成”可知大正方体被小正方体覆盖的部分以及两个正方体的底面不用粉刷，则不用粉刷的部分的面积为 $1 \times 1 + 2 \times 2 + 1 \times 1 = 6$ ，总的表面积为 $6 \times 2 \times 2 + 6 \times 1 \times 1 = 30$ 。故需要粉刷的面积为 $30 - 6 = 24$ 。故本题选 D。

75. 【答案】B。解析：思路一：设参加人数为 x ，平均每名学生的春游费用为 y ，面包车数量为 n ，则 $y = \frac{250n + 40}{x}$ ， $10(n-1) < x \leq 10n$ ($x \neq 0$, n 为整数)，为分段函数，每一段都为反函数，最低点对应学生数为 $10n$ ，极大值点对应学生数为 $10n+1$ 。故本题选 B。

思路二：只有1个人时平均费用最高，为 $(250+40)$ ，随着人数的增多，平均费用会减少，且人数刚好到租一辆车即10的倍数时平均费用最少，此时若再增加1个人，那么平均费用又会增加，成为下一周期的最大值，以此类推，可得 B 项最能反应平均费用与人数之间的关系。故本题选 B。

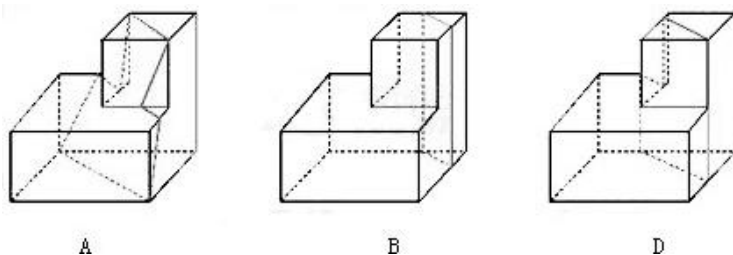
76. 【答案】D。解析：图形中的圆圈沿最外一圈方格按逆时针移动，每次移动2个方格；线条的端点在中间的四个方格中按顺时针移动，每次移动一格。故本题选 D。

77. 【答案】B。解析：第一组图中的第一个图形由第二个和第三个图形组合构成，同理，第二组图中的第一个图形由第二个图形和第三个图形组合构成，观察凹凸性，B 项符合。故本题选 B。

78. 【答案】D。解析：从每行来看，第三个图形是由第一个图形先顺时针旋转90度，再与第二个图形叠加并去同存异得到的，D 项符合。故本题选 D。

79. 【答案】A。解析：B 项中右侧面上的阴影三角形应当位于右下角；C 项中正面的阴影三角形与顶面的阴影部分应当相接；D 项右侧面阴影三角形方位错误。故本题选 A。

80. 【答案】C。解析：如下图：



A 项沿着上表面的对角线斜着切，可以得到；B 项沿着上表面的对角线竖着切，可以得到；D 项超过对角线切，可以得到。C 项无法得到。故本题选 C。

81. 【答案】B。解析：①④⑤图形都有封闭区域，②③⑥图形都没有封闭区域。故本题选B。

82. 【答案】A。解析：①③④中圆圈在图形的最长边一侧，②⑤⑥中圆圈在图形的最短边一侧。故本题选A。

83. 【答案】C。解析：①②⑥图形都可两笔画成，③④⑤图形都可一笔画成。故本题选C。

84. 【答案】D。解析：①②⑤图形都有三条对称轴，③④⑥图形都只有一条对称轴。故本题选D。

85. 【答案】B。解析：①③④中阴影部分都是直角三角形，②⑤⑥中阴影部分都是锐角三角形。故本题选B。

86. 【答案】A。解析：定义要点：①利用攀援植物向空中生长进行纵向绿化；②在有限面积内最大限度的提高绿化的效率。A项符合要点；B项松树不是攀援植物；C项巴根草不是向空中生长，也不是纵向绿化；D项不是利用攀援植物向空中生长的特点。故本题选A。

87. 【答案】D。解析：“比”的要点是“以彼物比此物”。A项是直接表达自己的感情，属于“赋”，排除。B项是对有关事物的直接叙述，属于“赋”，排除。C项是借物联想来表达自己的感情，属于“兴”，排除。D项的意思是“双手白嫩如春蕖，肤如凝脂细又腻；脖颈粉白如蝤蛴，齿如瓜子白又齐”，是在两种事物间进行类比，符合定义。故本题选D。

88. 【答案】B。解析：顶尖效应的要点是：①由于个人之间、地区之间、国家之间的发展不平衡；②效率较高组织对效率较低组织的存在和发展构成破坏或抑制。A项属于顶尖效应的一个例子，而不是有助于避免“顶尖效应”的情况，排除；C项不存在效率较高组织对效率较低组织存在和发展的破坏或抑制，排除；D项不涉及组织，排除；B选项对中小企业的扶持和对垄断企业的调控属于避免“顶尖效应”的手段。故本题选B。

89. 【答案】C。解析：正惩罚的定义要点是：①个体发出某种行为；②引发外部对其行为的某种反应；③导致令该个体不愉快的后果；④个体今后发出此行为的可能性降低。A、B项都是撤销令个体愉快的后果，属于“负惩罚”；C项符合“正惩罚”所有要点；D项与“惩罚”无关。故本题选C。

90. 【答案】C。解析：疑罪从无的定义要点是：①适用刑法，即必须是刑事案件；②司法机关不能证明被告人有罪或无罪的情况下；③推定被告人无罪。A项中赵六被证明从来不使用网络，即能证明他是无罪的，不符合要点②；B项没有推定无罪，只是建议和解，不符合要点③；D项属于民事案件，不符合要点①。C项符合要点。故本题选C。

91. 【答案】B。解析：隐域性的定义要点是：①自然地理现象；②受到局部的地形、水文、土壤等因素的影响；③不按或偏离纬向地带性规律分布的特性。A项的“六月飞雪”是小说中虚构的现象，而非自然地理现象，不符合要点①；C项属于气候现象，不符合要点①；D项是正常的按地带性规律分布的地理现象，不符合要点③。B项的“月牙泉”是沙漠当中的奇景，符合所有要点。故本题选B。

92. 【答案】B。解析：根据题干对甬的描述排除选项。由“敛口无颈”可排除A、C项；由“广肩，大腹”可排除D项。故本题选B。

93. 【答案】C。解析：垂直搜索引擎的定义要点是：①针对某一个行业；②对网页资源中的某类专门信息进行整合。A项某个购物网站是在其网站内部进行资源整合，不是针对某一个行业，排除；B项央视网并非针对某一个行业，也不是对某类专门信息进行整合，排除；D项也不是针对某一个行业，并且整合的是图书实体资源，排除。只有C项是专门针对音乐的搜索引擎。故本题选C。

94. 【答案】B。解析：概念的内涵和外延的反变关系是：外延越大，内涵越少；外延越小，内涵越多；反之，内涵越多，外延越小；内涵越少，外延越大。A项最高审判机关和最高人民法院是全同关系，两者的内涵相同，外延完全重合，没有体现反变关系；C项的内涵在减小，外延没有增大；D项中国人和文学家是交叉关系，无法判断二者内涵和外延的大小变化。B项“热水杯”限定了所盛水的种类，内涵增加，同时符合这个概念的本质属性的事物量减少，即外延缩小；“大号热水杯”又限定了型号，内涵进一步增加，同时符合这个概念的本质属性的事物量进一步减少，体现了反变关系。故本题选B。

95. 【答案】A。解析：时间知觉信息包括：①外部信息：计时工具，宇宙环境的周期性变化等；②

内部信息：机体内部的一些有节奏的生理过程和心理活动。B项“三更”和“五更”是外部信息的计时；C项“阴晴圆缺”属于宇宙环境的周期性变化；D项“月出”也是宇宙环境的周期性变化。A项“东边日出”描述的是天气，不能体现时间信息。故本题选A。

96. 【答案】D。解析：前者是后者的制作材料。用小麦来做馒头；用棉花来制作布鞋。故本题选D。

97. 【答案】C。解析：前者包含后者。“八卦”包含乾、坤、坎、艮、震、巽、离、兑；C项“五音”包含宫、商、角、徵、羽。A项“九族”泛指亲属；B项，七情，即喜、怒、忧、思、悲、恐、惊七种情志变化；D项，四书指《论语》《孟子》《大学》《中庸》，五经指《诗经》《尚书》《礼记》《周易》《春秋》。A、B、D项均不符合题干逻辑关系。故本题选C。

98. 【答案】D。解析：四季即春夏秋冬，D项四方即东南西北。A、B、C项均不是这种关系。故本题选D。

99. 【答案】A。解析：“深入”与“浅尝辄止”为反义词关系，A项“疏远”与“形影不离”为反义词关系。故本题选A。

100. 【答案】A。解析：音符构成了乐谱，五线谱是乐谱的一种，A项笔画构成了汉字，金文是汉字的一种。故本题选A。

101. 【答案】C。解析：开支大于收入就会产生经济赤字，C项售价大于进价就会产生销售利润。故本题选C。

102. 【答案】B。解析：“鸳”和“鸯”、“凤”和“凰”分别对应“雄”和“雌”，B项“经”和“纬”、“阡”和“陌”（“阡”为南北向的田埂，“陌”为田间东西方向的道路）分别对应“纵”和“横”。故本题选B。

103. 【答案】A。解析：铁匠用火炉造镰刀，A项医学家用试管制作药剂。故本题选A。

104. 【答案】D。解析：存折和银行卡有同样的作用，栅栏和围墙也有同样的作用。故本题选D。

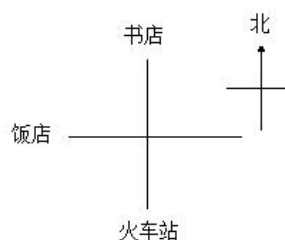
105. 【答案】B。解析：七寸比喻要害，眉目比喻头绪。故本题选B。

106. 【答案】A。解析：由题干“橙汁的生物效应在很大种程度上受到其成分的影响”可知橙汁的功效并非都一样，A项说法正确；B项无中生有，题干并未提及过度饮用橙汁会给身体健康造成不良影响，错误；C项也属无中生有，题干并未提及白血病患儿的橙汁饮用情况，错误；D项，题干未提及怎样条件下的橙子最有功效，错误。故本题选A。

107. 【答案】C。解析：论据：虽然短DNA片段可能存在100万年，但30个或者更多碱基对序列在确定条件下的半衰期只有大约15.8万年；论点：无法利用古代DNA再造恐龙。C项“环境因素会影响DNA等遗传物质的衰变速率”，意味着恐鸟的半衰期虽然在一定条件下有15.8万年，但是环境因素可能使得半衰期更长，削弱了论据，反驳了科学家的观点，正确；A项与题干论证无关；B项削弱力度较弱；D项只说明恐龙和恐鸟碱基对序列不同，对论据没有影响。故本题选C。

108. 【答案】D。解析：题干论点：在邮件中插入GIF动态图片，更能吸引用户的目光，增加用户的点击率，无明显论据。A项“个性化营销邮件”不一定插入了GIF动态图片，不能说明GIF动态图片的作用，无法支持结论；B项削弱了题干结论；C项习惯于静态界面，反驳了题干结论；D项插入GIF动态图片获得了更多收入，支持了论点。故本题选D。

109. 【答案】B。解析：由“书店在饭店的东北方，饭店在火车站的西北方”可知三者的方位如下图所示。饭店在西方，书店在北方，故火车站在南方。故本题选B。



110. 【答案】C。解析：题干由超级电容器充电快，得出这种技术装置将会替代传统电池的结论。A项说明超级电容器比传统电池储容量大，运行时间长，支持论点；B项说明超级电容器比传统电池可使用次数多，支持论点；C项超级电容器可嵌入汽车底盘为汽车提供动力与论点无关，不能支持；D项说明超级电容器比传统电池耗能少、供电时间长，支持论点。故本题选C。

111. 【答案】D。解析：题干论点：通过向空中喷洒海水水滴，增加台风形成区域上空云层对日光的反射，那么台风将不能聚集足够的能量，将有效阻止台风的前进。要使结论成立，需要在“能量”和“台风的前进”之间建立联系，D项符合。故本题选D。

112. 【答案】C。解析：本题属于解释矛盾型。题干中矛盾的现象是：某电视机生产厂家提高了电视机产品的质量，降低了产品的价格，但产品销量没有提高反而有所下降。A项不能解释为什么销量会有所下降；B项与产品质量、价格无关，不能解释；C项消费者通过价格来衡量产品的质量，那么降低了产品的价格，人们就会认为其质量也会降低，故会减少购买，很好地解释了题干中矛盾的现象；D项其他厂家也调整了产品的价格，但不同厂家的价格优势无法比较，故不能解释。故本题选C。

113. 【答案】B。解析：题干论点：当城市病严重到一定程度时，大城市的吸引力会下降，城市病将减轻。A项指出城市病很严重，与人口是否集聚无关，属无关项；B项指出大城市提供的公共服务是小城市无法替代的，也就是说大城市即使出现城市病，但公共服务功能依然强，大城市的吸引力并不会下降，削弱了题干观点；C项政府财力倾向中小城市，进而中小城市容易集聚人口，大城市的吸引力下降，属加强项；D项中小城市吸引力强，进而集聚人口，属加强项。故本题选B。

114. 【答案】A。解析：题干论点：当有好消息也有坏消息时，你可能想先听坏消息。A项指出先听坏消息的顺序会受到告诉你消息的人的影响，属于另有他因，削弱了题干结论；B项的“由发布消息的人决定”与“你想先听什么”无关；C项的“人们对消息的感觉”为无关项；D项是消息对人的影响，也属无关项。故本题选A。

115. 【答案】D。解析：由“在过去4年间，丁队在N教练的指导下，每隔一年都能夺得该项桂冠，而去年丁没夺冠”可知前年丁肯定夺冠，故D项与题干矛盾。A、B、C三项均可能发生，与题干不矛盾。故本题选D。

116. 【答案】C。解析：由图中信息得： $\frac{3224-2187}{2187} = \frac{1037}{2187} \approx 4\%$ 。故本题选C。

117. 【答案】C。解析：2013年城镇居民人均可支配收入为：6786+6520+6222+7427 \approx 6800+6500+6200+7400=26900元，2012年城镇居民人均可支配收入为：6138+5918+5712+6796 \approx 6100+5900+5700+6800=24500元，则同比增加约为：26900-24500=2400元。故本题选C。

118. 【答案】D。解析：由图中信息可知2011~2013年中，每一年4季度农村居民人均现金收入最高，每一年1季度城镇居民人均可支配收入最高。故本题选D。

119. 【答案】B。解析：2011年农村居民年人均现金收入为2764+2196+1519+2187=8666，不符合；2012年农村居民年人均现金收入为3009+2475+1744+2560=9788，不符合；2013年农村居民年人均现金收入为3356+2810+1947+2871=10984，符合。故超过1万元的年份只有一个。故本题选B。

120. 【答案】A。解析：A项，由图中信息可知2013年各季度农村居民人均现金收入均大于2012年各季度，正确。B项，同比增长为 $\frac{6786-6138}{6138} = \frac{648}{6138}$ ，环比增长为 $\frac{6786-6520}{6520} = \frac{266}{6520}$ ， $\frac{648}{6138} > \frac{266}{6520}$ ，错误；C项，由图中信息可知，环比增长为 $\frac{8155-7427}{7427} = \frac{727}{7427} < 0.3$ ，错误；D项，2013年下半年农村居民人均现金收入比上半年多(3356+2810)-(1947+2871)=1348，错误。故本题选A。

121. 【答案】D。解析：2013年全国工业企业主营业务收入约为37864 \div 3.7%>1000000亿元=100万亿元。故本题选D。

122. 【答案】A。解析：2013年该省工业企业税金、利润分别增长19.1%、26.4%，分别高出全国8.4、

14. 2个百分点，则2013年全国工业企业的税金增速为 $19.4\% - 8.4\% = 11\%$ ，利润增速为 $26.4\% - 14.2\% = 12.2\%$ 。则2013年全国的税金增速比利润增速低 $11\% - 12.2\% = -1.2$ 个百分点。故本题选A。

123. 【答案】B。解析：根据材料可知，2013年该省工业企业各行业利润增速分别为：石化行业38.1%、建材行业51.6%、机械行业23.8%、汽车行业19.9%、食品(含烟草)行业34.5%、钢铁行业18.8%，则建材行业>石化行业>食品(含烟草)行业>机械行业>汽车行业>钢铁行业。故本题选B。

124. 【答案】D。解析：A项，材料中只给出工业企业利润，没有给出全国工业企业利润总额，故无法算出比重；B项，材料中只给出机械行业主营业务收入，没有给出船舶行业主营业务收入，故无法算出比重；C项，材料中只给出橡胶塑料行业的利润增长量，无法算出橡胶塑料行业工业企业实现利润额；

D项，百户重点企业的总体销售利润率可以由材料第一段推出，为 $\frac{2080 \times 27.6\%}{37864 \times 29.5\%}$ 。故本题选D。

125. 【答案】C。解析：A项，2012年该省食品(含烟草)行业主营业务收入同比增速为 $20.8\% + 9.2\% = 30\%$ ，错误；B项，2012年该省工业企业税金总额中，汽车行业所占比重为 $\frac{225.3}{1.5} \div \frac{1680}{1.194} = \frac{225.3}{1680} \times \frac{1.194}{1.5} <$

$\frac{225.3}{1680} \approx 13\%$ ，错误；C项，2013年该省建材行业的销售利润率减去2012年该省建材行业的销售利润率为：

$\frac{167.2}{2412} - \frac{167.2}{1.516} \div \frac{2412}{1.271}$ ，因为 $\frac{1.271}{1.516} < 1$ ，故 $\frac{167.2}{2412} > \frac{167.2}{1.516} \div \frac{2412}{1.271}$ ，故2013年该省建材行业的销售利润率高

于2012年水平，正确；D项，2012年该省石油加工业净亏损为 $0.2 + 13.6 = 13.8$ ，错误。故本题选C。

126. 【答案】B。解析：完成收入排名前三的软件业务分别是：软件产品，收入4141亿元；信息系统集成服务，收入2649.3亿元；数据处理和运营服务，收入2429.5亿元。则所求为 $(4141 + 2649.3 + 2429.5) \div 13254 \approx 9200 \div 13000 = 70.X\%$ ，B项最接近。故本题选B。

127. 【答案】A。解析：由表格大致估算可知，选项中A项大连的四项软件业务收入之和最高。故本题选A。

128. 【答案】D。解析：由表格最后一行数据大致估算可知，满足条件的只有IC设计。故本题选D。

129. 【答案】A。解析：由表格第三列数据可知，信息技术咨询服务同比增速最快和最慢的副省级城市分别是青岛(39.5%)和哈尔滨(10.1%)，该项收入分别是63.26亿元、3.02亿元，则所求为 $63.26 \div 3.02 \approx 63 \div 3 = 21$ 。故本题选A。

130. 【答案】B。解析：A项，由表中信息可知广州市的嵌入式系统软件收入排名靠后，错误；B项，比较武汉和合计的同比增长量，可知武汉市的四项业务收入增速均高于副省级城市平均水平，正确；C项，深圳市IC设计业务收入为6.95，副省级城市IC设计业务收入的平均水平为 $108.6 \div 15 > 7$ ，错误；D项，由表中信息可知数据处理和运营服务收入最高的是杭州(258.28)，嵌入式系统软件收入最高的是深圳(472.19)，错误。故本题选B。

131. 【答案】C。解析：2013年末全国群众文化机构数量同比约增长： $384 \div (44260 - 384) = 384 \div 43876 > 380 \div 44000 = 0.8\%$ 。故本题选C。

132. 【答案】C。解析：由文字材料可知2013年每个馆办文艺团体平均每月演出约 $\frac{15.13 \times 10^4}{6022 \times 12} \approx 2$ 场。故本题选C。

133. 【答案】A。解析：由表格中数据可知，2013年平均每次参加展览活动的人数为 $9245 \div 13.85 = 6**$ ，文艺活动为 $31379 \div 74.06 = 4**$ ，公益性讲座为 $441 \div 2.36 < 200$ ，训练班为 $3105 \div 39.08 < 100$ 。人数最多的是展览。故本题选A。

134. 【答案】B。解析：建筑面积同比增速高于10%，即同比增长量大于前一年的10%。根据图中数据可知，2007年建筑面积同比增长量为 $126.2 - 123.5 < 12.35$ ，2008年为 $145.4 - 126.2 = 19.2 > 12.6$ ，2009年为 $164.3 - 145.4 = 18.9 > 14.5$ ，2010年为 $188.6 - 164.3 = 24.3 > 16.4$ ，2011年为 $221.2 - 188.6 = 32.6 > 18.8$ ，

2012年为 $234.2 - 221.2 = 13 < 22.1$ ，2013年为 $249.1 - 234.2 = 14.9 < 23.4$ 。符合条件的只有2008、2009、2010、2011共4年。故本题选B。

135. 【答案】C。解析：A项，根据文字材料2012年末全国群众文化机构共有从业人员 $164355 - 8127 < 160000$ ，错误；B项，根据表中数据可得2013年文艺活动的参加人数是公益性讲座的 $31379 \div 441 > 50$ 倍，错误；C项，根据柱状图可得2013年全国人均群众文化设施建筑面积是2006年的 $249.1 \div 123.5 \approx 2$ 倍，即翻了一番，正确；D项，2013年乡镇文化站占群众文化机构总数的比重减去2012年比重为 $\frac{34343}{44260} -$

$\frac{34343 - 242}{44260 - 384} < 0$ ，错误。故本题选C。

2014 年中央、国家机关公务员录用考试试卷

《行测》参考答案及解析

1. 【答案】D。解析：①项提到的是“三大优良作风”，是1945年毛泽东在党的第七次全国代表大会上作的《论联合政府》的政治报告中总结概括出的；②项是2013年1月22日习近平在中国共产党第十八届中央纪律检查委员会第二次全体会议上强调指出的观点；③项提到的是“两个务必”，是1949年毛泽东在党的七届二中全会上总结指出的；④项是1986年1月17日邓小平在中央政治局常委会上的讲话中提出的重要论断。故本题选D。

2. 【答案】B。解析：根据物理常识，质量是物体的一种属性，不随物体的形状、状态、空间位置的改变而改变。“失重”指物体失去了重力场的作用，而非失去质量，故回到地球质量并不会增加，B项表述错误。故本题选B。

3. 【答案】A。解析：主权是一个国家对其管辖区域所拥有的至高无上、排他的政治权力，是国家最基本的特征之一。其法律形式对内常规定于宪法或基本法中，对外则是国际的相互承认，并非由某一机构组织赋予。在联合国成立之前，国家就具有主权。故本题选A。

4. 【答案】A。解析：A项，佛教于汉朝传入中国，南北朝在汉代之后，故可能发生；B项，玉米原产于美洲，16世纪传入中国，半坡原始居民生活于公元前，当时玉米尚未传入中国，故不可能发生；C项，铁制品出现于春秋时期，此前的商周时期尚无铁制品，故不可能发生；D项，东汉年间蔡伦改进造纸术后，坊间才开始以纸做风筝，故秦朝不可能有纸制风筝。故本题选A。

5. 【答案】C。解析：按照产业结构的演进历程，依次为以农业为主导、轻纺工业为主导、原料工业和燃料动力工业等基础工业为重心的重化工业为主导、低度加工型的工业为主导、高度加工组装型工业为主导、第三产业为主导、信息产业为主导等几个阶段。③服装业属于轻纺工业，①石化产业属于重化工业，②旅游服务业属于第三产业。②在④之前，排除A、D项，③在①之前。故本题选C。

6. 【答案】D。解析：题干“一个人挥舞胳膊的自由止于别人鼻子的地方。”鼻子是人身体的一部分，即鼻子代表了人身权，任何人不得侵犯他人人身权，而权利代表法律，所以自由不能侵犯法律，只能服从法律。故本题选D。

7. 【答案】C。解析：人的权利根源于人的自然属性和社会属性，“法无明文授权不得为”是指权力部门的行为应当严格按照法律的规定作为，A项表述有误；“法律面前人人平等”是指在法律面前每个人的地位是一样的，与自由是否被剥夺无关，而人在触犯法律的情况下是可以被剥夺自由的，如有期徒刑、死刑等刑罚，B项表述有误；C项“迟到的正义”说明在事件发生的当下，法律没有达到应有的维护正义的作用，导致了事件发生当时的不正义，所以强调效率的重要性，C项表述正确；“民不告则官不究”主要是针对民事诉讼和刑事诉讼中的自诉案件，诉权也可由检察院行使，D项表述有误。故本题选C。

8. 【答案】A。解析：B项出自李商隐的《无题》，“蓬山”“青鸟”出自《山海经》，西王母居于蓬莱仙山之上，青鸟是她的使者。C项出自苏轼的《江城子·密州出猎》，“亲射虎，看孙郎”出自《三国志》，“孙郎”指孙权，一次出巡中，他的坐骑为猛虎所伤，但他仍镇定地在马前击毙猛虎。D项出自李清照的《醉花阴·薄雾浓云愁永昼》，“东篱”为菊圃的代称，出自陶渊明《饮酒》诗：“采菊东篱下，悠然见南山”，“有暗香盈袖”化用了《古诗十九首》“馨香盈怀袖，路远莫致之”。A项出自李白《赠汪伦》，描写汪伦在桃花潭送别李白的情形，抒发友人之情，未用典故。故本题选A。

9. 【答案】B。解析：题干俗语“绣花要得手绵巧，打铁还须自身硬”意思是说绣花要绣得好看，手必须要灵活灵巧；要打出坚固耐用的铁器，铁匠必须“自身硬”，有打铁的实力。主要强调人的主观

能动性。A、C、D项讲的是现象与本质的关系，说明现象不能掩盖本质。只有B项讲的是客观条件与人的主观能动性相比，人的主观能动性起决定作用。故本题选B。

10. 【答案】B。解析：①中的“桃符”是“春联”的别称，诗句描写的是春节时的情形，时间为农历正月初一；②中的“黄花酒”为菊花酒，饮菊花酒、“登高”为重阳节活动，时间为农历九月初九；③中“食粽子”“佩艾叶”为端午节习俗，时间为农历五月初五；④中“寒食”节为古代节日，在节气“清明”之前，时间为农历三月，从“暮春”一词也可看出其时间指向。故本题选B。

11. 【答案】C。解析：A项“交通”出自陶渊明《桃花源记》，意为“交错相通”，今义为各种运输和邮电事业的总称；B项“烈士”出自曹操《步出夏门行·龟虽寿》，意为“志向远大的英雄”，今义为为了正义事业和他人的生命财产而牺牲自己生命的人；C项“危急”出自诸葛亮《出师表》，意为“情况危险紧迫”，与今义相同；D项“行李”出自《左传》选篇《烛之武退秦师》，意为“使人、使者”，今义为“出门所带的包裹、物品”。故本题选C。

12. 【答案】B。解析：“霾”是由空气中的灰尘、硫酸、硝酸、有机碳氢化合物等粒子组成的，能使大气浑浊，视野模糊并导致能见度恶化。硫酸、灰尘等粒子多呈黄色或橙灰色，吸入后对人体有害。A项表述正确。“露水”能滋润土壤，起到帮助植物生长的作用，有利于田庄的作物对已积累的有机物进行转化和运输，对农作物的生长是有利的，B项表述有误；云、雾主要是由空气中的水蒸气遇冷凝聚成小水滴而形成的，C项表述正确；彩虹是阳光穿过空气中的小水滴发生折射而产生的，若光线在水滴内进行了两次反射，便会产生第二道彩虹，D项表述正确。故本题选B。

13. 【答案】D。解析：A项“量凿正枘”指木工度量器物孔眼的大小方圆，制作可与之相契合的榫头，后比喻说话办事须从实际出发，对应正确。B项“锦上添花”指在锦上再绣花，比喻好上加好，美上添美，“锦”为纺织品，对应正确。C项“炉火纯青”原指道士炼丹炼到炉里发出纯青色的火焰就算成功了，后比喻功夫造诣已达到了精湛、纯熟、完美的境界。古代的炼丹和冶炼技术互有助益，都要用到高温焙烧，也就是“炉火纯青”，对应正确。D项“青出于蓝”意指青从蓝草中提炼出来，但颜色比蓝草更深，比喻学生超过老师或后人胜过前人。这一说法没有特定的行业或技术指向，对应错误。故本题选D。

14. 【答案】C。解析：图中示意的自然现象是地形雨。潮湿的气团前进遇到高山阻挡时，气流被迫缓慢上升，引起绝热降温，水汽发生凝结，这样形成的降雨，称为地形雨，B项正确。地形雨多降在迎风面的山坡（迎风坡）上，背风坡面则因空气下沉引起绝热增温，反使云量消减，降雨减少，D项正确。迎风坡降水量大、温差小，植被茂盛，背风坡降水量小、温差大，植物生长环境相对比较艰苦，山峰两侧常常呈现完全不同的自然景观，A项正确。地形雨如不与对流雨或气旋雨结合，雨势一般不会很强。山麓地带气流抬升不够，成云致雨较少，山体的中部降水最多，而山顶部分空气湿度已经大大降低，云雨较少，因此C项的“降水持续时间长”表述错误。故本题选C。

15. 【答案】D。解析：潜望镜成像原理是利用光的反射原理来实现传播路径的弯折。光的折射是指光线从一种介质（如空气）斜射入另一种介质（如水、玻璃）时发生的对直线路径的偏离，潜望镜成像原理不存在传播介质的变化。故本题选D。

16. 【答案】C。解析：A项，弓箭发明于原始社会；云梯一般认为是春秋时鲁国公输班（即鲁班）发明的；火药发明于唐宋时期，时间排序正确。B项，火炮发明于中国元代末期，即14世纪；机枪发明于19世纪80年代；冲锋枪发明于20世纪初，时间排序正确。C项，雷达发明于19世纪40年代；坦克发明于一战期间，即20世纪初；鱼雷发明于19世纪50年代，排序错误。D项，世界第一艘航空母舰在1917年由英国海军改装出来；导弹出现于20世纪40年代，二战后期已在实战中使用；原子弹发明于1945年二战即将宣告结束时，排序正确。故本题选C。

17. 【答案】D。解析：根据国际汽车运动联合会（FIA）的规定，一级方程式锦标赛所用赛车的发动机排量为3000cc，A项说法错误，排除；进入世界杯决赛圈的队伍为32支，欧洲杯为16支，B项说法错误，排除；斯诺克的女性参与者太少，这使得它很难成为奥运项目，且斯诺克也只是台球运动的一项，

不可能单独列为奥运项目，C项说法错误，排除；大满贯赛事包括澳大利亚公开赛、法国公开赛、温布尔登网球锦标赛和美国公开赛，D项说法正确。故本题选D。

18. 【答案】A。解析：花生、大豆、向日葵、芝麻都属于油料作物，分别可制作花生油、豆油、葵花油、芝麻油，A项说法正确。夏日中午太阳光照强，大多数害虫躲在叶片的背光面，甚至停止活动，药物喷后杀虫率低，而气温高、光照强易造成农药分解、挥发、降低药效，虫嗅到药味逃之夭夭，此外午间长期作业易造成人中暑，B项说法错误。有机农作物有其种植生产特定的农业生产原则，在生产中不采用基因工程获得的生物及其产物，不使用化学合成的农药、化肥、生长调节剂、饲料添加剂等物质，遵循自然规律和生态学原理。交通干线附近化学、噪声污染较大，不符合有机农作物生产要求，C项说法错误。追肥的作用主要是为了供应作物某个时期对养分的大量需要，或者补充基肥的不足，D项说法错误。故本题选A。

19. 【答案】C。解析：A项中“晴空”不符合“较大分散性云”的要求，且未提及相对湿度、风力等条件，排除A项。梅雨时节空气中的相对湿度接近饱和，不符合题干中的相对湿度70%左右的描述，排除B项。C项描述的是将雨未雨的情景，符合“较多分散性低云、碎积云”“相对空气湿度70%”等要求。“万木皆怒号”的风力大于4级，不符合题干中描述的“风力小于3级”，排除D项。故本题选C。

20. 【答案】D。解析：热带雨林主要分布于赤道南北纬5~10度以内的热带气候地区。这里全年高温多雨，无明显的季节区别。故本题选D。

21. 【答案】C。解析：根据后文“通常是短期的”可知，人的情绪变化应该是有“时限性”。即情绪变化是“算时间”的，通常为短期。故本题选C。

22. 【答案】B。解析：推陈出新：去掉旧事物的糟粕，取其精华，并使它向新的方向发展（多指继承文化遗产）。与时俱进：观念、行动和时代一起进步。精益求精：已经很好了，还要求更好。破旧立新：破除旧的，建立新的。根据空格后面“适应新一代信息通信技术用户的需求和全球化、激烈竞争和创新不断加深的技术环境”，空格强调要跟上时代步伐，故选择“与时俱进”更恰当。故本题选B。

23. 【答案】D。解析：抱残守缺：意为守住陈旧、残破的东西，不肯放弃，原本比喻泥古守旧，今多比喻思想保守，不求上进，不肯接受新事物。宁缺勿滥：意为宁愿空缺，也不要降低标准，一味求多。冥顽不灵：形容愚昧无知。吹毛求疵：比喻故意挑剔别人的缺点，寻找差错，也指细致到繁琐、挑剔的地步。根据空格前面“有时竟达到”，可知空格中应填贬义词，且比前句意寓应更“深一点”，排除B项，再根据前文中“非常仔细地检查任何事物的细枝末节”可知，“吹毛求疵”更符合题意。故本题选D。

24. 【答案】A。解析：先看第一空，“记叙”“记述”“记载”都用“文字”，而纪录片是影像、声音、文字的集合体，因此排除“记叙”“记述”和“记载”。第二空，与“发现”搭配，只有“独特”恰当。“独到”形容见解和观点，“独立”形容人格和地位，“独创”强调创造出新内容。故本题选A。

25. 【答案】C。解析：第一空根据后文“短板更短”可知，是缺少的、忽视的，排除A、D项。第二空，“僵化”一般形容思想，用“固化”更合理。故本题选C。

26. 【答案】B。解析：无可厚非：主要指没有可过分责难的。一劳永逸：常用于形容一次把事情做好，以后就不用再做。事半功倍：意为只用一半的功夫，而收到加倍的功效，形容用力小而收效大。万无一失：指非常有把握，绝对不会出差错。第一空，根据后文的“有的可以……，但仍有……无法实现这一突破”排除A项“无可厚非”和C项“事半功倍”。第二空，通过“越来越多”“濒危”可以判断普查一事重要且紧急，故选择“势在必行”。故本题选B。

27. 【答案】A。解析：第一空，从词语搭配看，“评价信息”明显错误，先排除C项；第二空根据前文的论述，有些学者认为对信息进行处理，不利于公民实现公民的言论自由和出版自由，这其实已经偷换概念，显然，只有A项“偷梁换柱”最符合语境。故本题选A。

28. 【答案】B。解析：先看第一空，C项“妄言”本身是个动宾词语，后面通常不再加宾语，先排除；第二空，从词语搭配看，“打破”常搭配“局面、僵局”等，“批判”常搭配“观点”等，二者与

文段的“偏见”和“论调”无法搭配，亦排除A、D项。故本题选B。

29. 【答案】D。解析：根据前文“大胆地假设”和后文“不断提出新的问题、新的想法”可知第一空填“标新立异”较为合适。再看第二空，根据“做严格的论证或实验”，“去伪存真”符合题干意思。故本题选D。

30. 【答案】C。解析：由文段意思可知，第一空需填入动词，可排除B项“匮乏”和D项“苍白”。第二空，“科学”常与“愚昧”构成反义关系，显然，A项不符合。故本题选C。

31. 【答案】D。解析：先从第二空进行排除，标本不可能再“重现”或者“超越”“生命”，先排除B、C项；再看第一空，标本本身，或者有生命力时就是一种“物种”，它所代表的是它自己的“同类”，只有D项正确。故本题选D。

32. 【答案】C。解析：第一空联系前后文，前文对应“严格意义上的地图”，后文对应“严谨如卫星所拍摄到的照片一样”，再联系第二句转折的“主观色彩”，第一空强调的应该是不带主观色彩，B项“真实”和C项“客观”比较合适，D项“全面”也可，但不如“真实”和“客观”。第二空根据前文“不同的主观色彩”，可知强调的是“不同”，“千差万别”和“各有千秋”都有“不同”的意思。“千差万别”表示数量多，差距大，“各有千秋”则强调各有价值，故“千差万别”更恰当。故本题选C。

33. 【答案】D。解析：根据前文“迫切渴望融资渠道中的中小影视公司仍难以得到扶持”可知，扶持没有提供给真正迫切需要的公司，而是给了那些已有一定资金的公司，第一空选择D项“锦上添花”最为妥当。第二空根据后文“尽管目前号称以影视产业为主要投资方向的基金已有近20只，声称募集资金达200亿元，但披露的有影响力的投资项目却寥寥可数”可知，表面声势很大，但实际作用很小，故应选D项“雷大雨小”。故本题选D。

34. 【答案】A。解析：对应前文“历史”，第一空选择A项“亘古不变”最为恰当。B项“一成不变”和C项“原封不动”偏贬义，不恰当。再看第二空，空前的“必须”强调语义，用“义无反顾”最合适，本句并没有强调勇气、理由和气势，故B项“勇往直前”、C项“理直气壮”和D项“昂首阔步”均不恰当。故本题选A。

35. 【答案】B。解析：第一空，D项“消除”和A项“观照”与“困顿迷茫的精神”不搭配，排除。第二空与“阻隔”搭配，只有“穿透阻隔”没有“超越阻隔”。故本题选B。

36. 【答案】A。解析：文意表达的是现在的科学家在做研究时不考虑现有学说的合理性，就直接以其为依据，从未想过去质疑它。第一空，B项“受制”强调的是受控制，比较被动，与语境不符，故排除B项。第二空，由“只是试图用实验结果来证明这些假说的合理性，而不是……”可知第二空与“证明”语义相对，填“否定”更恰当。根据文意和词语搭配排除CD。第三空填入“相去甚远”正合适。故本题选A。

37. 【答案】D。解析：第一空与“监管”搭配，排除B项的“不周”；第二空根据文意应填中性词，排除C项；第三空“检讨自己”为固定搭配。“指责”表示指出过失并责备，“不力”指不尽力、不用力、成效差、效率低，放入文段符合语境。故本题选D。

38. 【答案】C。解析：第一空根据语境，可先排除B、D项，“望而生畏”指看见了就害怕，“望尘莫及”现多用于表示对人钦佩的自谦。第二空必须理解文意，根据前文“将‘缺多少补多少’”，大部分企业却还是有些不相信这个举措，这里并不是强调“犹豫不决”，而是有“质疑”之意，因此A项也排除。故本题选C。

39. 【答案】A。解析：先看第二空，从“顺着头发身体”可知，“滑落”比“飘落”更为恰当，先排除B、D项；第三空必须深入体会文字信息，由前面“深褐、暗红、浅黄及那些许丝丝绿色”可知，这些颜色是在“叶脉”中活动，那么，“流淌”显得更形象生动，更符合诗意化的表达。故本题选A。

40. 【答案】B。解析：先从第二空入手，根据后文的“有如神助”，可知强调文章写作的顺畅，先排除D项，“妙语连珠”指巧妙风趣的话一个接一个，不符合语境；再看第三空，C项“处心积虑”

是贬义词，明显错误，先排除 C 项；A 项“精雕细琢”比喻做事情精益求精、认真细致，B 项“绞尽脑汁”形容苦思积虑、费尽脑筋、想尽办法，联系后文的“用尽心力”，可知“绞尽脑汁”更恰当。故本题选 B。

41. 【答案】C。解析：整个文段是一个表示因果的句群。第一句描述了民间外交的重要意义，第二句说明民间外交繁荣发展的现状，这些原因引出了后面的结论。“因此”后面的内容是重点，直接指出我们应该通过正确的渠道引导民间外交积极地发挥作用，故选项 C 正确。D 项中“媒体”只是最后一句话中“渠道”的一个例子，与题意有偏差。故本题选 C。

42. 【答案】A。解析：首句重点在“因此”之后，“改革收入分配，其实质就是改革造成收入分配不公平的社会政治经济政策及其相关制度”。后文是对改革收入分配实质的解释说明。故本题选 A。

43. 【答案】B。解析：文段首先说明原因，即“偶然性在心理学中扮演的角色时常被外行人士甚至临床心理从业者忽略”，人们容易忽视偶然性心理学。后文说的是结论，即“心理学家不应自诩能够预测每一个案的行动”。最后一句对结论进一步解释说明，心理学预测不可能在个体层次上展开。B 项是在主旨上适当延伸，心理学预测不可能在个体层次上展开，心理学是对行为的总体预测。故本题选 B。

44. 【答案】D。解析：根据文段意思结构，第一句为原因，第二句引出结论，说明香炉的发展历程。先说汉代以前，再说汉代时、元末明初，最后说到明代宣德年间是铜香炉制作的巅峰时期。由此可以推知，下文将要讲述巅峰时期，关于宣德香炉的制作及艺术成就。故本题选 D。

45. 【答案】B。解析：前两句引出本文讨论对象“‘幸福’传感器”。第三句给出对比对象“温度计”。“科学家们相信”引出两者对比后的重点，强调“‘幸福’传感器”的优点。根据“温度计”的进化进程，从“不精准”发展到“不可或缺的日用品”，本题意在强调“幸福”传感器也将成为“不可或缺的日用品”。故本题选 B。

46. 【答案】A。解析：从“由于地势降低，风速下降以后浮尘便会往下与污染物相混合，遭遇水汽后细粒子个体便迅速增大，造成……”可知，文段主要论述的是污染现象的形成的原因。C、D 项明显错误；B 项强调“过程”，而文段主要论述的是“原因”，不符合题意。故本题选 A。

47. 【答案】C。解析：文段第一句指出“人类能辨别 1 万种不同的气味”这个巨大的气味识别量，第二句通过人类与猎犬的对比说明人类的气味受体细胞很少。第三、四句解释说明为什么很少的受体细胞可以辨别大量的气味。故本题选 C。

48. 【答案】B。解析：前两句提出问题，延期偿债埋下了威力更为巨大的“定时炸弹”，后果更是不堪设想。第三句解决问题，通过中央政府、有关部委和地方政府三个主体阐述对策。对策为主旨，B 项“论述缓解地方政府债务风险的有效手段”是对第三句的概括。A 项仅谈及了中央政府，概括不全面。故本题选 B。

49. 【答案】B。解析：本题为细节判断。由题干“将燃气轮机排出的高温废气，通过余热锅炉回收转换为蒸汽，进入蒸汽轮机后驱动其运转”和“其工作原理是在开机之初关闭运转较慢的蒸汽轮机，只启动燃气轮机”可以得出，应是燃气轮机早于蒸气轮机启动。故本题选 B。

50. 【答案】D。解析：语句排序题。文段的主要意思围绕“再生建筑”展开。③句引出论述话题“再生建筑”，并阐明其含义，应为段落首句，由此可以快速得出答案为 D。将 D 项进一步验证，即引出论题后，⑤句介绍“再生建筑”的起源，⑥④②说明其发展，①最后说明了“再生建筑学”应运而生。故本题选 D。

51. 【答案】A。解析：语句排序题。一般情况下，内容一致的两句话应该连在一起，②中的“贸易”和⑤中的“商贸活动”应该相连，排除 BD。④中“大量墓葬群的分布情况分析”和①中“学者们进一步推测”均为分析，应连在一起，又因为①中出现“进一步”，所以④在①的前面，可排除 C 项。故本题选 A。

52. 【答案】A。解析：文段首句先说明“足球曾经是卑贱、粗野的代名词”，第二句“没有什么规则，更谈不上什么礼仪”，第三句“虽屡屡遭禁，却每每‘春风吹又生’”。最后一句解决问题，“创造

了足球规则，增加了足球礼仪”。本文意在强调足球规则和礼仪的重要，同义替换为A项。故本题选A。

53. 【答案】D。解析：最后一句为因果关系，原因是“作者没有从经济层面展开分析，在国别分析中范围仅限于欧洲”，结论后面一定是要解决前文提出的问题，故本文作者将要尝试经济层面的分析，而国别分析范围也与欧洲不同，即非欧洲族群。故本题选D。

54. 【答案】B。解析：文段前两句重点说明传统农业社会的国际关系受自然资源的影响，转折关系的关联词“然而”后引出的第三句，主要强调新的财富获取方式要求国际关系有所改变。转折后为文段重点，即社会财富获取方式的变化对国际关系的影响。故本题选B。

55. 【答案】D。解析：文段先引出地震与科学，第二句简要叙述地震监测的基本原理。第三句通过结论关联词“因此”得出“人们如何能够发出地震警报，即利用地震纵波和横波传播速度的不同，在地震横波尚未到达时，给人们以警示”这一结论。故本题选D。

56. 【答案】C。解析：本题为细节判断题。A项，可以通过“年轻读者难寻的窘境”得到。B项，通过原文最后一句得到。C项，最后一句“‘触网’对它们而言固然是时尚，也是一种顺应时代的自我救赎”，不能证明走向数字化是唯一的途径，故C项错误。D项，可以通过“这些杂志都有几十年历史，从来都是‘几十页纸走天下’”得到。故本题选C。

57. 【答案】A。解析：文章第一句是背景“以往的改革从技术商品化、科技运行机制、组织结构、人事制度等方面采取了一系列措施”，第二句以后都是具体对策。具体包括第二句“需要更多地从宏观管理层面思考问题”，第三句“改革已经改到了推动科技体制改革的政府管理者自己头上”，以及最后四句中对政府管理者改革解释说明的三个具体问题。隐含主旨必为解决问题的对策，同义替换为A项。通读全段，本文段的关键词是“科技体制改革”，故排除CD。B项中“深层次”与原文的宏观管理并不完全一致。故本题选A。

58. 【答案】C。解析：文段首先说明“欧洲的竞争力一直下滑”这一结论，后文开始阐述原因。第二句和第三句指出“欧洲2020战略”中提出了研发创新目标，但“在债务危机的冲击下，各国忙于紧缩财政，创新问题一直被忽视”，第五句指出“欧盟各国的财政政策总体上仍会偏紧”“这意味着创新困境难有改善，从根本上决定了欧洲经济增长将缺乏引擎”。由此可知财政紧缩导致的创新力度不足，致使欧洲竞争力不断下滑。故本题选C。

59. 【答案】A。解析：文段前三句提出问题，“如何与生活、市场结合，让设计成为产业，其间还有不少障碍”。最后提出解决问题的对策，“对设计的现代认知应该推广到所有企业……只有明白了设计是未来竞争的主要资本……企业才能拥有重视设计的战略眼光”。本题的隐含主旨即为企业漠视设计会阻碍我国设计的产业化发展，选择A项。B项只说明了问题的一个表现。C项的“评价标准”和D项的“企业不愿意投资”，在原文均未提及。故本题选A。

60. 【答案】C。解析：文段选自莫言《用耳朵阅读》，作者介绍自己成为作家的经历是通过读完几本书后，听老祖母、爷爷、大爷爷等长辈的故事找到的灵感。请注意所有选项中均有“阅读”，证明有一个关键内容是强调了作者读书，比阅读更重要的是听故事，这些都激发了作者的灵感。所以，这段文字的关键词是：阅读、故事、灵感。故本题选C。

61. 【答案】A。解析：30个人最终剩下1个人没演过节目，说明有29个人都演了节目，而每次如果有1个人演节目，就需要有3个人报数，所以一共报数的人数为 $29 \times 3 = 87$ 人。故本题选A。

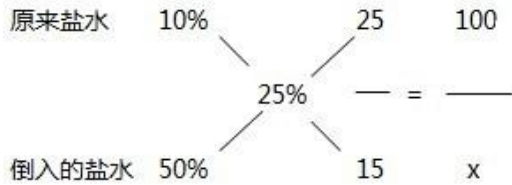
62. 【答案】D。解析：解析一：利用赋值法，假设进货价为100万元，则上涨50%之后为150万元，按照八折出售即为120万元，同时扣除5%的交易费6万元，则实际售价为114万元，会赚14万元。而题目说赚了7万元，所以按照比例，调整赋值法的进货价，为50万元。故本题选D。

解析二：数理本质法，由于（进货价+赚的7万元）相当于（八折后价格的95%），可知（进货价+7万元）能够被19整除，代入四个选项，只有（50+7）能够满足被19整除，直接得出答案。故本题选D。

63. 【答案】D。解析：爬到7楼需要爬6次，前两次时间是15+15秒，后4次爬楼时间依次为20、25、30、35秒；另外，再计算休息时间，第3次爬楼结束休息时间为10秒，每次多10秒，则4、5两次结束后

需要休息20秒、30秒，而第6次爬楼后已经到达7楼不需要休息。最终将所有时间相加，为200秒。故本题选D。

64. 【答案】B。解析：典型的十字交叉法：



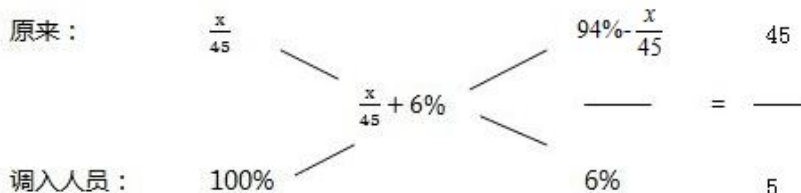
所以解得 $x=60$ ，至少要倒入60克的溶液，当每次加入盐水质量为14克时，所用次数最少，为5次。故本题选B。

65. 【答案】C。解析：为了让排名最后的城市专卖店尽量多，排名前五名的店的数量要尽量少，又由于“店的数量都不同”，所以前五名依次为16、15、14、13、12。这时占了70家店，还剩30家店分给后5名，为了让最后一名尽量多，采用尽可能均布的思想，设后5名的店数分别为 $x+4$ 、 $x+3$ 、 $x+2$ 、 $x+1$ 、 x ，店的总数为30，解得 $x=4$ 。故本题选C。

66. 【答案】A。解析一：列方程，设原有党员 x 人，根据党员占总人数比例列方程 $\frac{x+5}{45+5} = \frac{x}{45} + 6\%$ ，解得 $x=18$ ，再计算新入党2名职工的情况，比重为 $(18+5+2) \div 50=50\%$ 。故本题选A。

解析二：利用十字交叉求解，假设原有党员 x 人，则原有党员的比重为 $\frac{x}{45}$ ，调入的5人都是党员，

所以调入的党员比重为100%，调入后比重变为 $(\frac{x}{45} + 6\%)$ 。



解得 $x=18$ ，再计算新入党2名职工的情况比重为 $(18+5+2) \div 50=50\%$ 。故本题选A。

67. 【答案】C。解析：运用赋值法的思想，假设两天都参加人数为1人，则周日参加人数为3人（只参加周日为2人），参加周六为6人，故参加总人数为 $6+3-1=8$ ，则职工总数为 $8 \div 80\%=10$ 人，均未参加的为2人，如图。因此所求比例为 $2 \div 5=40\%$ 。



故本题选C。

68. 【答案】A。解析一：立方体6个面中，每次翻动都会出现相邻的任意面，则相邻的不能用同一种颜色，那么选3种颜色都在相对的面上填涂即可。故本题选A。

解析二：运用图形推理中的“相对面关系法”可知，两个相对的面在立体图中能且仅能出现一次，所以为3种颜色。故本题选A。

69. 【答案】D。解析：由于连续的1~12日值班，同时又注意到“三人各自值班期数字之和相等”，

已知甲在1号和2号值班，故11号和12号也必须是他值班；同理，乙9号和10号值班，则3号和4号必须安排他值班。所以剩下的5、6、7、8日就只能让丙值班，既然丙连续值班，因此期间没有休息日。故本题选D。

70. 【答案】D。解析：2名学生考研放弃后，剩下的6人每人多付1万元弥补他们的金额，一共付出了6万元，即原来计划每人付出3万元；当又有2名同学找到合适工作退出的时候，本应该这两名同学每人付出4万元共8万元的款，就要平摊到剩下的4名学生身上，即每人再多出2万元。故本题选D。

71. 【答案】A。解析：有需求住几层的需要优先排列，要求住一层的有3人，有 $A_3^3=60$ 种住法；要求住二层的有4人，有 $A_4^4=120$ 种住法；剩下三人安排在剩下3个房间中，共有 $A_3^3=6$ 种。则不同的安排方案共有 $60 \times 120 \times 6=43200$ 种。故本题选A。

72. 【答案】B。解析：23支进行第一轮有一支轮空，第二轮剩下12支，第三轮6支，第四轮3支，有一支轮空，第五轮只有两支进行决赛，没有轮空。故轮空的情况一共有2次。故本题选B。

73. 【答案】C。解析：假设小周捐赠 x 个，小张捐赠 $x+y$ 个，则小李捐赠了 $2x+y$ 个，小王捐赠了 $3x+2y$ 个。把所有的书包数量相加得到， $7x+4y=25$ ， x 只能取1、2、3，代入得 $x=3$ ， $y=1$ 。故小王捐赠的书包数为11个。故本题选C。

74. 【答案】A。解析一：分段计费问题，设乙超出的重量为 x ，即乙总重量为 $10+x$ ，则甲的重量为 $1.5(10+x)$ ，则甲超出部分的重量为 $1.5(10+x)-10=5+1.5x$ ，超出金额为49.5元。按照比例，乙超出了重量 x ，超出金额为18元，得到 $\frac{x}{5+1.5x} = \frac{18}{49.5}$ ，解得 $x=4$ ，故超出部分单价为 $18 \div 4=4.5$ 元，比10公斤以内低 $6-4.5=1.5$ 元。故本题选A。

解析二：盈亏思路，由于甲的重量比乙多50%，分段看，乙超出部分为18元，则对应的多50%的重量，应该是27元。则从甲超出的49.5元中扣除27元，还剩22.5元，这个钱数应该对应着10公斤的50%，即5公斤22.5元。故超出部分每公斤为4.5元，比10公斤以内低 $6-4.5=1.5$ 元。故本题选A。

75. 【答案】D。解析：由题干可知，由甲做B项目，乙做A项目，7天后甲做完B项之后，和乙一起做A项目，这时完成A、B项目所用时间最短。假设整个A工程量为143，则甲效率为11，乙效率为13，当B完成时，即7天后，乙完成了 $13 \times 7=91$ ，还剩下 $143-91=52$ ，所以剩下的合作需要 $52 \div (11+13) = \frac{13}{6}$ 天，则最后一天工作时间为 $\frac{1}{6}$ 天。故本题选D。

76. 【答案】C。解析：元素组成凌乱，但都由两个图形组成，观察两个图形间的关系。发现图形规律成奇偶性，即1、3、5图形相离，2、4图形相交，那么接下来选择的图形应该为两个图形相交的形式。故本题选C。

77. 【答案】D。解析：元素组成相似，考虑元素叠加。左边的半圆弧元素叠加时其位置逆时针旋转90度，而中间的元素叠加时位置顺时针旋转90度。第二组遵循同样的规律，第一个图像的半圆作为外框，同时逆时针旋转90度，中间的字母位置顺时针旋转90度，叠加后为选项D。故本题选D。

78. 【答案】D。解析：三视图考察。第一组图形中第二个图形与第三个图形分别是第一个立体图形的俯视图与侧视图。第二组图形具有同样的规律，所填图形应为第一个立体图形的侧视图，图形从正面看过去，不会有曲线。故本题选D。

79. 【答案】A。解析：以行为单位，元素组成相同，考查位置的旋转和翻转。每行第一个图形整体顺时针旋转 90° 得到第二个图形；第二个图形整体左右翻转得到第三个图形。第三行依此规律。故本题选A。

80. 【答案】B。解析：立体图形的拆分，第二个图形有圆锥，而第一个组合图形没有圆锥，故第二

个图形中的圆锥一定要插进某个凹槽才可以。故本题选 B。

81. 【答案】B。解析：本题考查的是图形对称问题，所有图形都为中心对称图形，其中②④⑥还为轴对称图形。故本题选 B。

82. 【答案】A。解析：元素组成凌乱，且由多个元素组合而成，观察元素之间的关系，观察发现①④⑥为线相接，②③⑤为点相接。故本题选 A。

83. 【答案】B。解析：图形都相同，只是图形上的线的位置不同。旋转之后发现，①③⑥都是同一个图形的相同的三个面，只是从不同的角度旋转得到的；②④⑤也都是同一个图形的相同的三个面，从不同的角度旋转得到的。故本题选 B。

84. 【答案】C。解析：每个图形中都包含两个箭头，①④⑤中两个箭头是垂直的关系；②③⑥中两个箭头都是平行的关系。故本题选 C。

85. 【答案】B。解析：图中每个五角星都有黑、点、白三种样式，①③⑥三个图形都有一个黑色块、两个点色块和三个白色块，②④⑤三个图形则都有一个黑色块、两个白色块和三个点色块。故本题选 B。

86. 【答案】A。解析：“选择性曲解”的关键词是①“面对客观事物”；②“不自觉地把外界输入的信息与头脑中早已存在的模式相结合”。A 项符合选择性曲解的三个要点，B 项“指鹿为马”是个人的有意识行为，不符合要点②，C 项“按图索骥”是按照线索去寻找，不符合要点②，D 项“度日如年”不符合要点①。故本题选 A。

87. 【答案】D。解析：“扩大论题”的关键词是①“故意扩大对方的论题”；②“将对方的论题推到荒谬的地步”。A 项“过分”二字属于缩小论题；B 项是在解释和陈述理由，最后的论题还是“人性本恶”，不存在扩大和缩小论题的问题；C 项两个论题涉及到德国人的范围的问题，解释成“所有德国人”是集合概念和非集合概念的问题。即前者是泛指，后者是指每一个德国人。D 项“人性本善”是说人性原本是善良的，解释成“没有人是不善的”，“人”是对“人性”概念的扩大，“善”是对“本善”概念的扩大，属于扩大论题。故本题选 D。

88. 【答案】A。解析：“内隐学习”的关键词是“潜意识获得知识”“无需意志努力就可以将这些知识提取出来”。B 项“经常看他人而掌握方法”、C 项“不知不觉”、D 项“耳濡目染”均是在无意志的情况下获得的，只有 A 项是在有意志的情况下获得的，不属于定义范畴。故本题选 A。

89. 【答案】D。解析：本题考查的是“内源性注意”，“内源性注意”的关键词是“个体主动根据自己的需要和目标分配注意”。A 项“‘轰’的一声”是外界的声音吸引人们的注意；B 项许多孩子和家长是被魔术吸引了，属于被动注意；C 项超市的商品“琳琅满目”吸引了许多顾客注意力也是一种被动注意，D 项设计师是主动关注符合客户需要的信息，是根据自己的目标或意图来分配注意、支配行为，符合定义。故本题选 D。

90. 【答案】B。解析：题中已给出了顺从型互动的三种形式，只要选项符合三种形式中的一种，即为顺从型互动。B 项“大家对小刘的能力……连老主任都赞成……”，三种类型都不符合。A 项“很多投资者寻找项目时什么热就投资什么”，“是不经过考量，直接按照他人的方式去行动”，发生性质相同的行动过程，属于顺从型互动的第二种形式。C 项护士阿姨有意向毛毛发出暗示，并引起毛毛发生方向一致的行动过程，属于顺从型互动的第一种形式。D 项小文在父母的压力下开始了家教课程，发生方向一致的行动过程，属于顺从型互动的第三种形式。故本题选 B。

91. 【答案】D。解析：“组织控制”的关键词是①“组织”；②“用各种规章制度和奖惩手段”；③“约束组织成员行为”。A 项“加强对外交流”和 B 项“每年举办新人入职会”，不符合②。C 项“为了提高员工生产积极性”并不是约束组织成员行为不符合③。D 项，外企是“组织”，上班打卡制满足用各种规章制度来约束组织成员上下班的行为。故本题选 D。

92. 【答案】C。解析：“矩阵对策”的关键词是①“双方得失和为零，即必有一胜一负”；②“对对方策略预测最佳反应”。C 项“在进入奥运女子排球决赛后，某国家队重新安排队员阵容和出场排序”，符合对对方策略预测的最佳反应且必有胜负。A 项不符合②；B 项没有体现一胜一负；D 项没有体现双方

得失和为零。故本题选 C。

93. 【答案】D。解析：“签名效应”的关键词是①“有签名”；②“产生购买认同感，产生购买欲望”。D 项满足两个条件。A 选项购买在签名之前，不符合②；B 项捐款不属于购买意愿，不符合②；C 项显然与购买无关，不符合①②。故本题选 D。

94. 【答案】B。解析：“红旗原则”的关键词是①“著作权”；②“侵权事实是显而易见的”；③“网络服务商”。只有 B 项提到了网络服务商，且显然侵犯了著作权，故 B 项符合。A 项不涉及著作权，不符合①；C、D 项不能判定其是否侵权，不符合②。故本题选 B。

95. 【答案】D。解析：“角色混同”关键词是①“将自己所具有的不同角色相混淆”；②“导致背离角色期待和角色规范”。D 项老李对儿子的要求不自觉地工作中语言，属于角色混同。A 项只有打工青年一个角色，不符合①；C 项小王把玩家想成同事，或者把同事想成玩家，都是假想，不符合②；D 项庄周只是做梦，不涉及角色问题。故本题选 D。

96. 【答案】A。解析：考查反义关系。创新与僵化属于反义关系，开放与闭塞属于反义关系，符合题干关系特征。故本题选 A。

97. 【答案】C。解析：考查词语之间的对应关系和象征意义。厨师的职业相关动作是炒鱿鱼，且炒鱿鱼也可以表示开除。C 项脚夫的职业相关动作是撂挑子，且撂挑子可以表示丢下该负责的工作不管。A、B 项的动作与职业相关性不强，D 项的“高手”不是职业。故本题选 C。

98. 【答案】B。解析：考查事物的必然属性。题干中生命属于生物的一种特有属性，是唯一对应关系。思维是人类的一种特有属性，是唯一对应关系。故本题选 B。

99. 【答案】D。解析：考查对应关系。依据抽样原则进行抽样调查，即后者是前者遵循的原则。D 项，按照操作规程进行设备操作，与题干关系一致。故本题选 D。

100. 【答案】A。解析：考查对应关系。由于交通拥堵而进行治理，交通拥堵是主谓结构，治理交通是动宾关系。A 项由于生活贫困而进行救济，生活贫困是主谓结构，救济生活是动宾关系。故本题选 A。

101. 【答案】B。解析：考查对应关系。红茶是在绿茶的基础上经发酵而成的；红茶具有保健的作用。B 项玉镯是磨制而成的，“装饰”是玉镯的作用。故本题选 B。

102. 【答案】C。解析：“言而无信”与“言而有信”是反义词，而且分别描述“承诺”的两个方面。C 项“言之凿凿”形容说话有证据，“口说无凭”是指单凭口说，没有证据。两个词是反义关系，而且分别描述有证据和没有证据两个方面，与题干一致。故本题选 C。

103. 【答案】D。解析：木材是抽屉的原材料，抽屉的功能是收纳东西。D 项，橡胶是气垫的原材料，气垫的功能是起缓冲作用。故本题选 D。

104. 【答案】C。解析：逐一代入选项。C 项，国防保卫的对象是国家，免疫保护的对象是生物，C 项正确。故本题选 C。

105. 【答案】B。解析：逐一代入选项。B 项，“坚若磐石”形容像大石头一样坚固，比喻不可动摇，形容有意志；“知恩图报”形容有良心，B 项正确。故本题选 B。

106. 【答案】D。解析：文段论点：玩游戏能够提高小孩的阅读能力，帮助孩子解决阅读障碍，无明显论据，属于削弱论点题型。A 项通过研究结果证明了题干的结论的正确性，加强了论点。B 项“长期玩游戏的儿童阅读游戏规则更容易”，加强了论点。C 项通过互动网络游戏的例子来说明玩游戏可以提高阅读能力，加强了论点。D 项“却无法克服阅读障碍”直接削弱了论点。题干需选择不能支持的选项。故本题选 D。

107. 【答案】A。解析：文段论点：海水升温导致鱼类生存面临巨大挑战，无明显论据，为加强论点题型。A 项在“海水升温”与“鱼类生存”之间搭建桥梁，补充了论据，加强了论点。B 项“可有可无”，并没有说鱼类生存是否面临挑战，不能支持；C 项“鱼类的多样性”和 D 项“有些物种没有防冻蛋白”均为无关项不能加强。故本题选 A。

108. 【答案】C。解析：文段论点：在用户手机里安装企业客户端，就能达到提高企业知名度。无

明显论据。题干论证成立必须在“安装客户端”与“提高知名度”之间搭桥，C项“手机用户有浏览手机的习惯”，在两者之间搭桥，加强了论点。A项“用户手机数量增长”、B项“客户端技术成熟”、D项“手机时效强、成本低”都不是题干论证成立必须要有的前提。故本题选C。

109.【答案】D。解析：文段论据：一系列数字统计表明。论点：试管婴儿技术导致试管婴儿比自然受孕婴儿出生缺陷率高。为削弱论点题型。D项说明试管婴儿缺陷率与父母年龄有关，属于他因削弱；A项说明试管婴儿技术在操作过程中的确会加大风险，加强了论点；B项说的是试管婴儿技术失败率，属无关选项；C项指出试管婴儿的受精卵是最优质的，排除他因，加强了论点。故本题选D。

110.【答案】A。解析：文段论据：实验结果表明，焦虑程度高的女性完成任务时脑电活动更复杂，更容易出错。论点：女性焦虑影响完成任务的质量。为削弱论点题型。A项焦虑程度高的女性与其他女性相比在实验前对任务不熟悉，属于他因削弱。B项说明焦虑时的状态，与题干论点无关；C项焦虑引起其他心理问题，与论点无关；D项是对结论的支持，加强了论点。故本题选A。

111.【答案】C。解析：文段论点：如果“存在无穷多个之差小于7000万的素数对”这个结果成立，那么将是数论发展的一项重大突破。无明显论据，为加强论点题型。要加强题干，需要在“存在无数多个之差小于7000万的素数对”与“数论发展的一项重大突破”建立联系。C项说明“存在无数多个之差小于7000万的素数对”这个结果是第一次有人正式证明，说明这项结果一旦成立确实是数论发展的一项重大突破，加强了论点。A项华人讲师的资历，与论点无关；B项“素数证明过程还很漫长”和D项“离2还很遥远”，在一定程度上削弱了论点。故本题选C。

112.【答案】A。解析：题干“必须学会一个人生活，这样当身边人离开你的时候，你可以好好活下去。”同义替换为“如果你可以学会一个人，那么以后身边的人都离开你的时候，你还可以好好活下去”。前件为：你可以学会一个人；后件为：以后身边的人都离开你的时候，你还可以好好活下去。A项肯定了后件，可以推出可能性结论，A项正确；B项“不能独自生活的人”为否前件，无法推出绝对结论，B项错误；C项没有提到“一个人生活”和“身边的人都离开”之间的关系；D项的艰难没有在推出关系中。故本题选A。

113.【答案】B。解析：用排除法。A项表达过于绝对，文中是说“对于很多中国消费者而言，高价格仍然很重要”；B项根据“高价格仍然很重要，物有所值仍然比品牌重要，而且现阶段甚至比质量还重要”可以得到；C项“知名度”在文中未提及，无法比较；D项表达过于绝对。故本题选B。

114.【答案】D。解析：末尾“和许多复杂网络如互联网、社交网、生物网络等惊人的相似”是题目的主旨句。A项中“人脑研究”并未提及；B项“宇宙就是一个大脑”的表达过于绝对；C项“宇宙万物的演化”题干中也未提及；D项“复杂系统”是指“宇宙”“互联网”“社交网”“生物网络”等，“某种相似法则”与文中“惊人的相似”对应，是对文段的合理推理，D项说法正确。故本题选D。

115.【答案】D。解析：由已知条件知，1号、10号放处级材料，4号放本局，5号放上级材料，由“放本局材料连号”知3号放本局材料；由“基层材料与本局材料不连号”知2号放处级材料，故6、7、8、9号放基层材料。故本题选D。

116.【答案】C。解析：计算各年同比增速，2009年： $\frac{10765-10317}{10317} < 10\%$ ，2010年： $\frac{11918-10765}{10765} \approx 10\%$ ，2011年： $\frac{12632-11918}{11918} < 10\%$ ，2012年： $\frac{14515-12632}{12632} > 10\%$ ，故2012年全国国道日平均交通量同比增速最快。故本题选C。

117.【答案】B。解析：据图可知，全国国道与高速公路年平均拥挤度数值相差最小的年份是2009年，2009年高速公路全年日平均交通量为16837辆。故本题选B。

118.【答案】D。解析：根据文段可知，“全国国道网日平均行驶量为244883万公里，国家高速公路日平均行驶量为148742万公里，普通国道日平均行驶量为111164万公里”。故本题选D。

119.【答案】C。解析：根据文段可知，“国家高速公路日平均交通量为22181辆；普通国道日平均

交通量为10845辆”，故有 $22181 \div 10845 \approx 2$ 倍。故本题选C。

120. 【答案】D。解析：A项，据图可知，2009年，全国国道交通繁忙程度降低，A项错误；B项，根据文段第一句可知，2012年国道网日平均交通量超过2万辆的省份给出的已有7个，B项错误；C项，据图可知，2009年全国高速公路交通繁忙程度与2008年相同，C项错误；根据文段可知，“北京、天津、河北、山西、上海、浙江、湖北、广东的国道年平均拥挤度均超过0.6”，则2012年国道年平均拥挤度均超过0.6的省份至少超过8个，D项正确。故本题选D。

121. 【答案】A。解析：由材料第一段可知，2012年第三季度“用人单位通过公共就业服务机构招聘各类人员约643.3万人，进入市场的求职者约610万人；上年同期用人单位通过公共就业服务机构招聘各类人员约577.9万人”，而“岗位空缺与求职人数比率与上年同期上升了1%”，变化不大，故进入市场的求职者人数高于上年同期。故本题选A。

122. 【答案】C。解析：由材料第二段可知，“在所有求职人员中，事业人员所占比重为48.8%。其中，新成长失业青年占24.2%（在新成长失业青年中应届高校毕业生占51.4%）”，故新成长失业青年中应届高校毕业生人数为 $610 \times 24.2\% \times 51.4\% = 76$ 。故本题选C。

123. 【答案】D。解析：根据表格简单估算可知，天津、上海、重庆、石家庄、郑州、武汉6个城市的第三产业需求岗位超过第二产业2倍。故本题选D。

124. 【答案】A。解析：根据表格最后一列可以直接得到答案。在岗位空缺大于求职人数缺口最大的前三个职业中，推销展销人员出现次数最多，共有6次，治安保安人员出现3次，机械冷加工人员出现4次，餐厅服务员、厨工出现2次。故本题选A。

125. 【答案】B。解析：A项，新成长青年失业人员不包括外来务工人员，无法求出比重等信息；C项和D项由于各个城市的求职者人数未知，无法计算；B项已知求职者610万人，外来务工人员的比重为41%，本市农村人员为95.2万人，故可求得外埠人员数量，同时占求职者的比重也可求。故本题选B。

126. 【答案】C。解析：通过表格可以看出，3月份的观众人数相对较少，同时电影场次相对较多，可知人均一定最小。故本题选C。

127. 【答案】B。解析：2013年第一季度总票房为 $(1.47+1.54+1.34)$ 亿元，总场次为 $(10.91+9.79+11.07)$ 万场，则该市电影院线平均每场的电影票房收入为 $\frac{(1.47+1.54+1.34) \times 10000}{10.91+9.79+11.07} \approx 1370$ 元。故本题选B。

128. 【答案】A。解析：同比增量即2013年的票房收入与2012年同期的票房收入之差，1~4月分别为：0.19、0.35、0.46、0.15。则3月份第一，2月份第二，1月份第三，4月份最低。故本题选A。

129. 【答案】B。解析：假设每天刚好有10万观众观看电影，之后将每月的人数与实际人数相比即可。1月： $10万 \times 31天 < 319$ ，2月： $10万 \times 29天 > 289$ ，3月： $10万 \times 31天 > 218$ ，4月： $10万 \times 30天 < 308$ ，故超过的月份有1月和4月。故本题选B。

130. 【答案】D。解析：A项，广告收入同比上升 $\frac{989-818}{818} = \frac{171}{818}$ ，超过两成，A项错误；B项，2013年3月电影观众人次环比增速为负值，4月环比增速为正值，故四月环比增速上升，B项错误；C项，据图估算可知，电影票房同比增速最慢，C项错误；D项，电影播放场次环比增速为 $\frac{11.13}{11.07} - 1$ ，同比增速为

$\frac{11.13}{8.87} - 1$ ，比较可知环比增速慢于同比增速，D项正确。故本题选D。

131. 【答案】A。解析：由第二个表格可知，2012年总上网电量同比增长 $\frac{33900}{32400} - 1 = \frac{15}{324} < 10\%$ ，2011年增长 $\frac{32400}{28800} - 1 = \frac{1}{8} = 12.5\%$ ，2010年增长 $\frac{28800}{24300} - 1 = \frac{45}{243} > \frac{45}{250} = \frac{9}{50} = 18\%$ ，2009年增长 $\frac{24300}{22800} - 1 = \frac{15}{228} < 10\%$ ，比较可知，2010年增速最大。故本题选A。

132. 【答案】B。解析：由第一个表格可知，2012年所占比重与2011年相比为 $\frac{24004}{88000} - \frac{20260}{81800} \approx 2.5\%$ ，

上升了2.5个百分点。故本题选 B。

133. 【答案】C。解析：由第二个表格可知，清洁能源机组上网电量逐年增长，且2012年增长率最高。2012年清洁能源机组上网电量是2008年的5倍多，而2012年总上网电量只是2008年的1.5倍左右，由此可知2012年清洁能源机组上网电量占总上网电量比重最高。故本题选 C。

134. 【答案】D。解析：由第一个表格可知，清洁能源机组并网容量为24004万千瓦，其中水电为16816万千瓦，占清洁能源总容量为 $\frac{16816}{24004} \approx 70\%$ ，比 $\frac{3}{4}$ 略少；而新能源发电6548万千瓦，约占27%，比 $\frac{1}{4}$ 略多。

故本题选 D。

135. 【答案】B。解析：A 项，由第二个表格可知，2010年新能源上网电量为492，核电上网电量为308，即从2010年开始新能源上网电量超过核电上网电量，A 项错误。B 项，比较年均增长率，需要的计算比较复杂。由于年份相同，只要总增长率大，年均增长率就一定大，从而将年均增长率转换成总增长率的计算。水电上网电量总增长率为 $\frac{5518}{3662} - 1 > 50\%$ ，而水电并网容量总增长率为 $\frac{16816}{12214} - 1 < 50\%$ ，B 项正确。

C 项，新能源电机并网容量由803增长到6548， $6548 \div 803 \approx 8 = 2^3$ ，即翻3番，C 项错误；D 项，2010年核电上网电量为308亿千瓦时，与2009年的355亿千瓦时相比降低了，D 项错误。故本题选 B。

2013 年中央、国家机关公务员录用考试试卷

《行测》参考答案及解析

1. 【答案】D。解析：《国家“十二五”时期文化改革发展规划纲要》第十一条政策措施包括五大内容，分别为：政府投入保障政策、文化经济政策、文化贸易促进政策、版权保护政策、法制保障。第一点政府投入保障政策，其中谈到“加大政府投入力度，转变投入方式”，具体就是通过政府购买服务、项目补贴、以奖代补等方式，鼓励和引导社会力量提供公共文化产品和服务，促进文化产业发展。设立国家文化发展基金，扩大有关文化基金和专项资金规模，提高各级彩票公益金用于文化事业比重。而 A、B 两项属于“文化贸易促进政策”，C 项属于“文化经济政策”，均排除。故本题选 D。

2. 【答案】C。解析：古田会议是指 1929 年 12 月 28 日至 29 日，红四军在上杭县古田村召开的第九次党的代表大会。该会议解决了如何把一支以农民为主要成分的军队建设成为中共领导下的新型人民军队的问题，故 A 项正确。遵义会议是指 1935 年 1 月 15 日至 17 日，中共中央政治局在贵州遵义召开的独立自主地解决中国革命问题的一次极其重要的扩大会议，此次会议是在红军第五次反“围剿”失败和长征初期严重受挫的情况下，为了纠正王明“左”倾领导在军事指挥上的错误而召开的，故 B 项正确。瓦窑堡会议是指 1935 年 12 月 17 日至 25 日，中国共产党在陕北瓦窑堡召开的政治局扩大会议。会议分析了华北事变后国内阶级关系的新变化，讨论了抗日民族统一战线、国防政府和抗日联军等问题，批判了党内长期存在着的“左”倾关门主义，制定了抗日民族统一战线的策略方针。故 D 项正确。洛川会议是指 1937 年 8 月 22 日至 25 日，中共中央在陕北洛川召开的政治局扩大会议，此次会议通过了《抗日救国十大纲领》，决定把党的工作重心放在敌后，在敌后放手发动群众，开展独立自主的游击战争，开辟敌后战场，建立敌后抗日根据地，故 C 项表述错误。确定“决定北上抗日的总方针”的是 1935 年 6 月召开的“两河口”会议。故本题选 C。

3. 【答案】D。解析：A 项是《黄河大合唱》里的歌词，这首歌是冼星海于 1938 年创作的；B 项是《游击队之歌》里的歌词，这首歌是贺绿汀于 1937 年创作的；C 项是《义勇军进行曲》里的歌词，这首歌是聂耳于 1935 年创作的；D 项是《歌唱祖国》里的歌词，这首歌是王莘于 1950 年创作的。前三首歌都诞生于新中国成立之前，是在反抗日本帝国主义侵略的年代完成的，而第四首歌诞生于新中国成立后，故本题选 D。

4. 【答案】A。解析：赤字是财政上的一个专业术语，财政赤字是指财政支出超过财政收入的部分，意味着“花”的钱超过了“挣”到的钱。赤字率则是指财政赤字占国内生产总值的比重，是衡量财政风险的一个重要指标。故 A 项正确。B 项恩格尔系数对应居民生活水平，C 项基尼系数对应收入分配差距，D 项生产者价格指数是指衡量工业企业产品出厂价格变动趋势和变动程度的指数，是反映某一时期生产领域价格变动情况的经济指标。故本题选 A。

5. 【答案】A。解析：国民收入再分配是国民收入继初次分配之后在整个社会范围内进行的分配，是指国家的各级政府以社会管理者的身份主要通过税收和财政支出的形式参与国民收入分配的过程。在社会主义制度下，国民收入必须要进行再分配。国民收入再分配，主要通过国家预算、银行信贷、劳务费用、价格变动等途径来进行，最低生活保障、税收、社会保险都属于收入再分配手段，而最低工资保障属于初次分配的内容。故本题选 A。

6. 【答案】D。解析：①句反映的事件是 1894~1895 年的“中日甲午战争”以及 1895 年《马关条约》的签订，②句反映的事件是 1839 年的“虎门销烟”，③句反映的事件是 1911 年的“武昌起义”。因此按时间先后排序为②①③，故本题选 D。

7. 【答案】B。解析：根据《工商行政管理机关行政处罚案件听证规则》第六条，工商行政管理机

关作出下列行政处罚决定之前，应当告知当事人有要求举行听证的权利。其中一条包括“吊销、收缴或者扣缴营业执照、吊销广告经营许可证、撤销商标注册、撤销特殊标志登记”，可知①句的工商局的做法不妥当。根据《中华人民共和国水污染防治法》第八条，县级以上人民政府环境保护主管部门对水污染防治实施统一监督管理，以及《中华人民共和国行政处罚法》第二十四条，对当事人的同一个违法行为，不得给予两次以上罚款的行政处罚。可知②句的罚款应由县环保局决定，县水利局做法不对。根据《卫生监督执法检查程序》规定，卫生监督执法人员进行现场检查时应不少于2人，穿戴制服，出示行政执法证件，说明来意及检查依据，告知被检查人的权利和义务，可知③句的县卫生局做法不妥当。故本题选B。

8. 【答案】A。解析：A项中“春秋之治狱，论心定罪”对应“原心定罪”，其内容是在审判中重点考察犯罪者的动机是否合乎儒家道德，如不合乎，必须严惩；如合乎，虽犯法亦可从轻论处。由此可知A项法律现象与概念对应错误。B项“载于简牍谓之书，合而验之谓之契”指的是在使用简牍书写的时代里，人们总是将交易内容一式二份同时写在简牍两边，然后从中间破别开来，两家各得其一，检验时两片验之相合称为契合。故B项对应正确。C项“一兔走，百人追之；积兔于市，过而不顾”的意思是一个兔子跑，很多的人去追，但对于集市上的那么多的兔子，却看也不看。这不是不想要兔子，而是所有权已经确定，不能再争夺了，否则就是违背法律，要受到制裁。这是法家的思想，主要强调法律，尤其是物权的作用。故C项对应正确。D项“罪疑惟轻，功疑惟重，与其杀不辜，宁失不经”出自《尚书》，基本含义是，在处理两可的疑难案件时，宁可偏宽不依常法，也不能错杀无辜。该思想就是中国古代“疑罪从无”法律思想的一个印证。故D项对应正确。故本题选A。

9. 【答案】D。解析：根据《物权法》第一百八十四条规定，下列财产不得抵押：（一）土地所有权；（二）耕地、宅基地、自留地、自留山等集体所有的土地使用权，但法律规定可以抵押的除外；（三）学校、幼儿园、医院等以公益为目的的事业单位、社会团体的教育设施、医疗卫生设施和其他社会公益设施；（四）所有权、使用权不明或者有争议的财产；（五）依法被查封、扣押、监管的财产；（六）法律、行政法规规定不得抵押的其他财产。A项中的“教学大楼”属于以公益为目的的设施，学校不得抵押；B项中的“土地所有权”不得抵押；C项中的“宅基地”不得抵押；D项的土地使用权可以抵押。故本题选D。

10. 【答案】A。解析：A项中的“黑云压城城欲摧，甲光向日金鳞开”出自唐朝李贺《雁门太守行》，描写的是雁门关；B项中的“出关去，往辽东，诏徙十万填新丰”出自清朝尤侗的《出关行》，描写的是山海关；C项中的“长城饮马寒宵月，古戍盘雕大漠风”出自清朝林则徐的《出嘉峪关感赋》，写的是嘉峪关；D项中的“八百里分麾下炙，五十弦翻塞外声，沙场秋点兵”出自南宋辛弃疾的《破阵子·为陈同甫》，“沙场”泛指战场，并不特指某个地方。故本题选A。

11. 【答案】D。解析：D项“神魔皆有人情，精魅亦通世故”是鲁迅对《西游记》的评价，不是对《聊斋志异》的评价。故本题选D。

12. 【答案】C。解析：人的唾液是由口腔内的唾液腺分泌的，而不是由舌头分泌的，A项说法错误；胆囊炎系感染、胆汁刺激、胰液向胆道反流，以及胆红质和类脂质代谢失调等所引起的胆囊炎性疾病。胆汁分泌不足，不会产生胆囊炎，反而胆汁的排泄受阻会引发胆囊炎，B项说法错误；鱼肝油主要成分是维生素A和维生素D，可以被消化道直接吸收，C项说法正确；正常情况下，卵细胞在输卵管内受精，在子宫内发育，D项说法错误。故本题选C。

13. 【答案】B。解析：杏仁是苦味药，因此A项错误；甘味药的主要成分有氨基酸、糖、维生素等，可提高人体的抗病能力，当归、人参都是甘味药，因此B项正确；黄连不是酸味药，是苦味药，因此C项错误；乌梅是酸味药，不是苦味药，因此D项错误。故本题选B。

14. 【答案】D。解析：水平降水是指大气中水汽直接在地面或地物表面上以及低空产生的凝结物，垂直降水是指由空中降落到地面的水汽凝结物。雾是空气中的水汽凝结成水滴而悬浮于空中。露是空气中的水汽以液滴形式覆盖在地面或物体上的液化现象。霜是水蒸气在地面上遇冷凝华附在物体表面而形

成。因此雾、露、霜都不属于垂直降水，属于水平降水，排除A、B、C三个选项。而雨、雪、雹都是由空中降落到地面的水汽凝结而成，属于垂直降水。故本题选D。

15. 【答案】A。解析：根据地球生物演化史，A项顺序正确。B项顺序错误，单细胞生物应该在最前面，草履虫属于单细胞生物，正确顺序为：草履虫→软体动物→节肢动物→脊椎动物。C项顺序错误，鱼类应该在爬行类之前，正确顺序为：细菌→腔肠动物→鱼类→爬行类。D项顺序错误，植物进化第一阶段是菌藻植物时代，而后是蕨类植物时代，苔藓是蕨类植物，正确顺序为：菌类→绿藻→苔藓→双子叶植物。故本题选A。

16. 【答案】D。解析：对地观测卫星是用于对地球进行遥感的各种人造地球卫星和航天器。我国对地观测卫星主要有“风云”“海洋”“资源”“遥感”“天绘”等系列。而“北斗”系列卫星是导航卫星，不是对地观测卫星。故本题选D。

17. 【答案】C。解析：《萨马拉斯颂歌》是一曲优美而庄严的古典管弦乐曲，由希腊人斯皮罗斯·萨马拉斯作曲、科斯蒂斯·帕拉马斯作词，曾在1896年雅典第一届奥运会开幕式上演奏过。五环旗于1913年根据皮埃尔·德·顾拜旦的构思而设计制作的。由此可知C项错误。故本题选C。

18. 【答案】B。解析：根据太阳在地球上直射位置的移动规律可知，春分（3月20日或21日）时太阳直射赤道，随后逐渐北移。夏至（6月21或22日）时，太阳直射北回归线，后南移。秋分（9月22或23日）时太阳直射赤道，之后继续南移。冬至（12月21或22或23日）时直射南回归线。故本题选B。

19. 【答案】B。解析：根据交通标志及解释可知A、C、D三项正确，B项的图标表示禁止行人通行，而不是注意行人。故本题选B。

20. 【答案】C。解析：A、D两项正确地表述了气温与农业收成的关系，B项正确表述了降雪与农业收成的关系，C项表述错误，应是“立秋有雨样样有，立秋无雨收半秋”。立秋这天无雨预示着秋季会比较干旱，影响收成。故本题选C。

21. 【答案】A。解析：本题考查成语语境最佳选择。文段主要讲轻喜剧的作用，根据“娱乐纠正缺点”“淡淡的的笑声拆解社会难题”可知，其作用是用简单的方法解决难题。A项“举重若轻”是指举起沉重的东西像是在摆弄轻的东西，比喻能力强，能够轻松地胜任繁重的工作或处理困难的问题；B项“借古讽今”表示假借古代的事情影射今天的现实，而文中没有古今的对立；C项“微言大义”指精微的言辞表达深刻的道理，是精微和深刻的对比；D项“振聋发聩”比喻高超的言论能使麻木糊涂的人觉醒。对比可知B、C、D项均不符，因此排除。故本题选A。

22. 【答案】A。解析：本题突破口在第一空。由空格前提示词语“甚至”可知，空格处应填入与“出人意料”“始料未及”语义相近但程度更深的词语，即填入一个表示结果与目的相反的词语。A项“事与愿违”形容事实与主观愿望相反，符合要求。B项“事倍功半”形容效率低下，不符合要求。C项“针锋相对”形容双方观点的尖锐对立，不符合要求。D项“南辕北辙”形容行动和目的相反，不符合要求。第二空“敬畏”表示既敬重又害怕，是人类对大自然应有的态度，填入此空意思全面且搭配恰当，验证A项当选。故本题选A。

23. 【答案】A。解析：根据关联词“究竟是……还是……”可知，此空应填入一个与“异想天开”语义相反的词语。A项“相得益彰”指两个人或两件事物互相配合，使双方的能力、作用和好处能得到充分展示，最符合题意。B项“取长补短”表示吸取别人长处弥补自己不足，京剧和交响乐各有长短，“抱团取暖”是为了互相配合，并非为了弥补不足，故排除。C项“推陈出新”表示去掉旧事物的糟粕，并使它向新的方向发展，文中没有新旧事物的对比，因此排除。D项“移花接木”比喻暗中用手段更换人或事物来欺骗别人，与文意不符。故本题选A。

24. 【答案】B。解析：第一空，根据文段关键词“连续经历严寒”“全球变暖”可知，此处应填入表示向相反方向转变的词。“逆转”“倒转”“反转”均有此意，“偏转”只是改变方向或位置，不是转到对立面，排除A项。第二空，根据原文“气候变暖大背景下全球极端天气愈加频发”可知，极端天气是由气候变暖造成的，而欧洲极寒天气只是总体的一小部分。“缩影”比喻能代表同一类型特征的具

体而微的人或事物，最符合原意。“象征”是指用具体事物表现某些抽象意义，原文没有具体和抽象的对立；“预兆”表示（某种迹象）预示某件事即将发生，而全球变暖事实上正在发生。由此可排除C、D项。故本题选B。

25. 【答案】D。解析：本题突破口在第一空，根据“高峰……然而……不忘隐患”可知，此空应填入一个表示处在安全的环境也要想到可能出现的困难危险的词语，D项“居安思危”符合要求。A项“夕惕若厉”形容做事极其谨慎小心，不敢怠慢；C项“常备不懈”表示时刻保持高度警惕性；B项“防患未然”表示在事故或灾害发生之前就加以防备；A、B、C三项均不及“居安思危”确切。第二空根据“发展起来以后的问题”可知，“发展起来”是令人喜悦的地方，但是带来的问题是令人担忧的地方。“喜中有忧”与文意相符，验证了D选项。故本题选D。

26. 【答案】C。解析：第一空，根据“它要求我们既要从小民族的角度……也要学会从全球的角度”可知，全球化并未排斥民族性，排除B项。再根据空格后面的“挑战”可知，此空填入的词与“挑战”寓意相近且感情倾向相同。“同化”表示使不同的事物逐渐相近、相同，“吸纳”表示吸收容纳，均不符。“超越”表示超出、越过，当选。第二空，根据常用搭配“纵向发展，横向比较”验证C选项正确。故本题选C。

27. 【答案】D。解析：第一空根据“不是主体……而是‘零部件’”“却足以”可知，这些失误是微小的，“微不足道”形容事物细小而轻微，不足挂齿，当选。“随处可见”“司空见惯”侧重事物出现的普遍，“漫不经心”形容疏忽的态度，均不符合要求，因此排除A、B、C三项。第二空“持之以恒”表示对某事长久的坚持下去，产品要想赢得好的口碑，除了各项基础工作做得非常细致、到位之外还要坚持，符合语境。故本题选D。

28. 【答案】A。解析：本题的关键点在于第一空的双引号，双引号的使用表示反语。再根据文意，过去的某种格局被打破才使得人力、物资流动。说明过去的这种格局是封闭、独立的。“自成一体”是指在客观规律条件下，自然形成一种风格和流派，或自发形成的一种形式，且情感色彩是积极的，符合要求。B项“壁垒分明”本身是贬义词，如果在这里使用则不需要加引号。C项“各自为政”表示在各自职权范围内按照自己的主张行事，不互相配合，而题干各个产业间并非不互相配合，而是不互相流通，因此排除。D项“条块分割”比喻两种指挥体系把整个国家人为分割成不同的领域，与文意不符。第二空“整合”表示通过整顿、协调重新组合，符合第二空语境。故本题选A。

29. 【答案】C。解析：本题突破口在第二空。先看第二空，根据文意，作者描写的是书信的“慢”的特点，因此“正是因为”后面接的是表示“慢”的词语，只有“迟缓”符合，“细腻”“真实”“浪漫”都无法从原文得知，排除A、B、D选项。故本题选C。

30. 【答案】A。解析：以第二个空格为突破口，《墨经》与近代科学的形成年代、理论基础不同，所以他们不可能是“十分吻合”的，排除B选项；“十分”与“对应”，搭配不当，排除D选项。第一空，《墨经》不是专门的学科著述，因此“数学、力学、光学等科学知识”不是系统性的，不应是“罗列”其中，用“散布”更为恰当。故本题选A。

31. 【答案】C。解析：本题考查成语的语境搭配。第二个空，根据“或”可知空格处成语的意思应与“取长补短”意思相近。“扬长避短”指发扬优点或有利条件，回避缺点或不利条件，与“取长补短”语义相近，C项当选。A项“才短思涩”指见识短浅，思路迟钝。B项“博采众长”指广泛采纳众人的长处及各方面的优点。D项“避实就虚”原指避开敌人的主力，攻击敌人的薄弱环节，或指谈论问题回避要害。A、B、D三项都与“取长补短”在语义上存在很大的差异，C项“进退失据”符合语境，验证C项正确。故本题选C。

32. 【答案】A。解析：本题考查成语和实词的混搭填空。从第一空入手就能选出答案。A项“源源不断”形容事物接连不断，与“涌现”相对应，体现信息出现之多、之快。符合语境，当选。“滔滔不绝”形容口才好，不能用来修饰信息，排除B选项。C项“络绎不绝”形容人多，往来不断，也不能修饰信息多，排除。“层出不穷”表示连续不断地出现，“涌现”本身就有“出现”的意思，用在此处重

复。因此D项也排除。故本题选A。

33. 【答案】B。解析：本题考查成语的语境搭配。先看第一个空，根据文意可知，作者认为许多前辈对诗歌翻译理论的意见是非常准确、鞭辟入里的。B项“不刊之论”比喻不能改动或不可磨灭的言论，用来形容文章或言辞的精准得当，无懈可击，符合语境。C项“不易之论”指完全正确，不可更改的言论，形容论断或意见非常正确，符合语境。A项“真知灼见”指正确而深刻的认识和见解。“灼见”含有自己对事物的认识和理解。D项“远见卓识”指有远大的眼光和卓越的见解，强调远见和卓越。A、D项都不能体现出鞭辟入里，不能磨灭之意，故排除A、D项。再看第二个空，题干意思是很多人对于“诗歌翻译的理想形式”的看法是不同的。B项“见仁见智”指对同一个问题，不同的人从不同的立场或角度有不同的看法，符合语境。C项“各持己见”指各人都坚持自己的意见，用在此处会使句子缺少主语。故本题选B。

34. 【答案】D。解析：本题考查实词和成语的混搭。“徘徊”和“踟蹰”都有犹豫不决的含义，用在第一空与语境不符，故排除A、B项。再看第二空，“泰然自若”形容碰上意外、严重或紧急情况，能沉着镇静，不慌不忙；“神情自若”指神情态度十分自然。根据句意，并没有发生什么紧急情况，故排除C项。最后看第三空，“喧嚣”形容不清净，不安静。此处想表达的是乞丐沉浸在自己的书本世界里，周围的不安静都不能打扰到自己。“喧嚣”用于此处搭配合理，验证D项正确。故本题选D。

35. 【答案】C。解析：本题考查实词的语境搭配，突破口在第一个空，根据“甚至错误”可知，空格处需填入与“错误”词义相近但语义较轻的词语。“偏差”指工作上产生的过分或不及的差错，符合语境。“争议”“异议”和“意见”都不能体现出“错误”之意，因此排除A、B、D项。再看第二个空，通过“可以说”可知，后文是对前文的解释，故空格处填入的词也应是“错误”语义相近的词，“瑕疵”符合语境，验证C项正确。故本题选C。

36. 【答案】D。解析：本题考查成语填空。突破口在第二空，根据“三十六计，从借刀杀人到……”可直接得出答案，只有D选项的“笑里藏刀”属于三十六计中的一计。再看第一空，“举重若轻”比喻处理重要繁难的事情都能很轻松，“职场上最纠结的事情”却以漫画的形式幽默地解决了，因此可以用“举重若轻”形容，搭配合理，验证D选项正确。故本题选D。

37. 【答案】B。解析：本题考查近义词辨析。先看第三空，根据文段语境，作者用“只能是”体现了他的无奈，故应填入一个带有负面感情色彩的词，因而排除A项“梦想”。再看第一空，观察剩余三个选项，只有“修养”可以作动词，表示培养高尚的品质和正确的待人处世的态度，求取学识品德之充实完美。“只顾自己的”与“教养”“素养”都不可以搭配，因而排除C、D项。故本题选B。

38. 【答案】D。解析：本题考查成语语境最佳选择。突破口在第一空，根据后文“数不清的传奇风流”可知，第一空填入的词应该与“传奇风流”并列，且是一个褒义词。D项“苦心孤诣”指尽心竭力钻研达到了别人所达不到的地步，褒义词，符合要求。A项“人生百态”指人生酸甜苦辣各种形态，属于中性词，但形容的一定是人生，此处形容老字号，搭配不当，排除；B项“辛酸无奈”具有负面色彩，与要求不符；C项“沧海桑田”比喻世事变化巨大迅速，与文意无关。故本题选D。

39. 【答案】B。解析：本题考查实词语境填空。突破口在第三空，根据前文“研究最多”可知，对酵母的研究应该是一个“热点”。“支柱”“关键”“难点”都无从推知。再看第二空，由于酵母泥的“不便”所以其商业化受限，且“受到限制”为固定搭配，“阻碍”一般是主语发出的动作，不用作被动。“影响”“干扰”语义不准确。故本题选B。

40. 【答案】C。解析：本题的突破口在第二空，“考量”“考察”不能与“标尺”搭配，排除BD。再看第一空，“拓展”意为开拓、扩展，常与业务、市场等搭配，排除A项。“延伸”指在宽度、大小、范围上向外延长、伸展，与“各种高度、深度和广度”搭配合理。故本题选C。

41. 【答案】B。解析：根据文段关键词“其正面价值”“不无有益的启示”可知，文段主要强调先秦儒家“人情一秩序”理论的正面价值对于当下和谐社会的有益启示，即“现实意义”。A、C、D项都不够准确。故本题选B。

42. 【答案】D。解析：文段最后一句“如何入法，语言上要仔细推敲”点明该文的目。A项没有提到入法问题，排除。C项文中并未出现精神赡养的道德意义，属于无中生有，排除。需要入法的是赡养人看望慰问老人的问题，即“常回家看看”。B项文段并没有集中笔墨讨论如何入法的问题，排除。D项由于该老年人权益保障法是修订草案，因此“或入法律”表述准确。故本题选D。

43. 【答案】B。解析：根据文中出现的“倒塌的院落”“芳草萋萋”“孤立的残墙”可知，这是一个衰败的村庄，肯定不是“原始的”村庄，排除D项。且文中出现黄狗狂吠，故也不是“宁静的”“孤独的”村庄，排除A、C选项。故本题选B。

44. 【答案】A。解析：文段是总分结构，主旨句是首句，主要描述了细菌顽强的生命力，并与人类进行对比，故A项正确。B项中的自然环境和D项中的遵循自然规律均与原文无关。C项“超出了人们的想象”无法从原文得出。故本题选A。

45. 【答案】C。解析：文段属于分总结构，最后一句“不过，现在还无法得知这些方法是否能够最终让科学家理解生物运作的整体图景”是主旨句。只有C项准确复述了这一主旨。A项“描述性数据”不是文段集中论述的问题。B项“解开生命之谜”属于无中生有。D项“即将成为现实”表述错误。故本题选C。

46. 【答案】C。解析：A项属于无中生有，文段只是说中国的页岩气储量高于美国，但没有说居世界第一。B项曲解文意，“页岩气燃料洁净”并不能说明其开采时对生态环境破坏不大。D项属于无中生有，文中说世界各国都在对页岩气进行重点研究，并未提及世界各国都在加大对其的开采投入。只有C项是对原文最后一句话的准确复述。故本题选C。

47. 【答案】A。解析：文段是分总结构，先正面强调“产权的界定和保护”，再反面论证其重要性，最后总结保护产权的方法是“完善的法律体系”。A项是对全文的准确总结。B项，文章不是主要讨论如何“惩治侵权”，故排除。C项“公平互利的原则”没有在文中出现，排除。D项，文章不是主要论述资源有效配置问题，排除。故本题选A。

48. 【答案】B。解析：横线前谈及的是“交易的历史”，横线后谈及的是“良好信用记录”，则只有B项“交易经验”符合个人或组织选择交易对象的标准。“企业在行业中的地位 and 影响力”“双方企业发展的切实需要”或“合作对象的知名度”，这三项都无法从文段中得知。故本题选B。

49. 【答案】C。解析：根据后文“事实上”——表转折，可推知后文将会出现重点内容。作者主要想表达“助人的喜悦和欢愉既是本性，也是权利”，不是仅仅为了“完成他的社会责任”。故C项最符合此意。A项与主旨无关，B项太片面。D项“不正确的慈善观的危害甚大”也只是文段的一部分，故D不当选。故本题选C。

50. 【答案】A。解析：由于⑥的叙述完全符合常理故后面不可能紧接②，排除CD。⑤④是对①“‘热岛效应’理论”的阐述，因此④所说是符合常理的，其后面也不能紧接②，排除B项。故本题选A。

51. 【答案】D。解析：比较②③句，②句说明关于徽州文书的历史事件，③句定义徽州文书，③相比于②更适合作句首，排除A、B两项。①句中有“上世纪30年代”，②句中有“抗战结束之初”，根据时间顺序，二者应该靠的比较近。故本题选D。

52. 【答案】B。解析：文段先以“爱恨交织的技术”引出机器人技术，接着讲了机器人和人类在外形以及情绪上的联系和相关性，并指出了当下还面临的问题，因此“探索机器人和人类当前的关系以及未来发展”放在文末最能概括文段内容，且符合《我们，与他们》这一标题。A项无法体现机器人和人类的关系，C项无从得知，D项文中并未出现“人类伦理道德观”，属于无中生有。故本题选B。

53. 【答案】A。解析：A项偷换逻辑关系，文中原句是“研究人员已经开始调查将CNG作为轻型卡车和卡车能源选择的可能性”，其调查结果文段并未说明，因此“作为卡车的能源可能性很大”说法错误。B、C、D项都可从原文找到。故本题选A。

54. 【答案】C。解析：文段围绕“孤独乔治”进行叙述，介绍了“孤独乔治”是一个亚种中最后的成员，被作为全球物种保护的象征符号，最后被发现死亡。在它存活的几十年间，人们做了很多努力，

但它最终还是去世了，体现了“目睹”其灭绝这一过程，故C项最恰当。A项“物种”表达不当，“乔治”只代表加拉帕戈斯群岛象龟这一物种。B项，由于这句话是被写在当地大道上的黑板上的，因此用“我们不想再看到下一个”会给人造成误解，“下一个”指代不明，不知道指代人还是物种。D项“又”字代表另一个，这一点无从得知。故本题选C。

55. 【答案】C。解析：文段主要讲述了木版年画目前遭遇的进退两难问题——如果不创新就会成为标本；如果肆意改变，又会失去人文内涵。故C项“木版年画需要在保留传统的同时进行创新”是本文的隐含主旨。B项“传统技艺”太过泛化。A、D项只是文段叙述的一点，不是本段要叙述的主要问题。故本题选C。

56. 【答案】D。解析：文段为总分结构，首句为主旨句，提出语言文字功底的重要性，接着从反面进一步进行解释说明，可见作者意在强调语言文字功底能影响学术的水平和深度。A项，掌握研读经典和撰写论文所需要的语言文字并非指古文字和所有外语。B项，掌握第二手资料也可以取得一些学术成果。C项，“文化研究”只是作者举的例子，并非主旨要探讨的问题。故本题选D。

57. 【答案】A。解析：作者先以城墙的历史价值，引出自己的观点“城墙并非‘一堵墙’那么简单”，我们要对城墙的文化遗产价值予以重视。B项“商业价值”在原文中并没有提到，C项“保护和研究”原文也没有提及，D项说的是城墙的历史价值，不是原文想要强调的主旨。故本题选A。

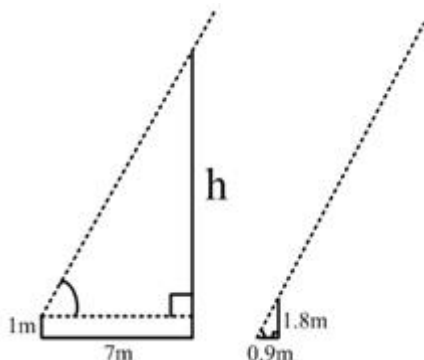
58. 【答案】B。解析：文段叙述的是“90后”身上的个性行为，并没有说这些是他们身上的“优秀品格”，故不能推出B项。“舆论的关注点和兴奋点都集中在这些个性行为上”可以推出A项表述正确；根据“关于‘90’后的刻板印象就会悄然形成，从而导致对这个群体的认知偏差”可知，文段对舆论过于关注“90后”的个性行为是不认同的，认为不该刻板地看待他们，可以推出C项表述符合文意；D项由首句可以推出。故本题选B。

59. 【答案】A。解析：文段通过童话故事引出测谎仪，最后一句提到“眼球测谎仪”，可推知接下来讨论的主体是“眼球测谎仪”。C项脱离此主体，与材料最后一句不能连贯，故排除。既然这是一款新型的仪器，那么下文就需要对其具体工作原理进行介绍，A选项符合要求。B项的“前景广阔”衔接得较突兀，如要说明，还需在前面具体说明“前景广阔”的原因，而文段并没有提到这些，因此排除B项；D项引申过度，前面没有提到目前的发展趋势，后面就不会直接谈到未来发展趋势。故本题选A。

60. 【答案】C。解析：文段通过“西班牙公主”船舶模型上雕刻的文字和一面墙上对所有出厂船舶的描述，说明了船只的航海充满了众多风险和失败的经历，但船舶还在不停建造，船只依然不停出海，船运并不因这些困难和失败而停止。A、B、D三项的名言都强调在失败面前不气馁，与文段想表达的意思相符。C项表达的“不断尝试”可以从文段推出，但“生活就越美好”在文段中找不到根据。故本题选C。

61. 【答案】B。解析： $65 \div 7 = 9$ 余2，即平均分配给7个不同部门还剩余2名毕业生，已知行政部门分得的毕业生人数最多，则只需将剩余的2名毕业生分配给行政部门即可（如果只分配1名，那么其他部门也会出现不少于10人的情况），因此至少为 $9 + 2 = 11$ 人，故本题选B。

62. 【答案】C。解析：画图分析：



设电线杆高 h 米，由于光线与地面夹角固定，故上图两个直角三角形相似，根据相似原理可得 $\frac{h-1}{1.8} = \frac{7}{0.9}$ ，解得 $h=15$ 米，故本题选 C。

63. 【答案】D。解析：设甲的产量为 X ，乙的产量为 Y ，丙的产量为 Z 。根据题意可得如下方程： $3Y+6Z=4X$ ， $X+2Y=7Z$ ，解得 $Y=2Z$ ， $X=3Z$ ，因此 $X:Y:Z=3:2:1$ 。故本题选 D。

64. 【答案】C。解析：事件“乙战胜甲”有三种情况：①乙两发全中而甲只中一发；②乙两发全中而甲中0发；③乙中一发而甲中0发。①的概率为 $0.3 \times 0.3 \times (C_2^1 \times 0.6 \times 0.4) = 0.09 \times 0.48$ ，②的概率为 $0.3 \times 0.3 \times (0.4 \times 0.4) = 0.09 \times 0.16$ ，③的概率为 $C_2^1 \times 0.3 \times 0.7 \times (0.4 \times 0.4) = 0.42 \times 0.16$ ，则“乙战胜甲”的概率为 $0.09 \times (0.48+0.16) + 0.42 \times 0.16 = 0.09 \times 0.64 + 0.42 \times 0.16 = 0.16 \times (0.36+0.42) = 12.48\%$ 。故本题选 C。

65. 【答案】C。解法一：有四项培训，则每名党员有 $C_4^2 = 6$ （种）选择情况，要使至少有 5 名党员参加的培训完全相同，即它们的选择情况完全相同，必须在每种情况均有 4 名党员选择的基础上，再加上一个党员，即至少要有 $6 \times 4 + 1 = 25$ （名）党员，才能符合要求。故本题选 C。

解法二：利用抽屉原理。根据抽屉原理“将多于 mn 件的物品任意放到 n 个抽屉中，那么至少有一个抽屉中的物品不少于 $(m+1)$ 件”，这里的 $n=6$ ， $m=4$ ，则党员至少有 $4 \times 6 + 1 = 25$ （名）。故本题选 C。

66. 【答案】B。解析：若十天全卖出去，则赚了 $(10.5 - 4.5) \times 200 \times 10 = 12000$ 元，但其中有四天各剩余 25 个，没卖出的部分，不仅每个没赚到 $10.5 - 4.5 = 6$ 元，还赔进去成本 4.5 元，共赔了 $10.5 \times 25 \times 4 = 1050$ 元，最终赚了 $12000 - 1050 = 10950$ 元。故本题选 B。

67. 【答案】D。解析：根据题意，设前年底余额为 m 元，则去年底余额为 $(1.2m - 2000)$ 元，今年年底余额为 $[0.75 \times (1.2m - 2000) + 1500]$ 元，化简得今年年底为 $0.9m$ 元，即今年年底余额比前年底减少 10%，故本题选 D。

68. 【答案】A。解析：根据题意可知，循环周期为 $3+4+5+7=19$ ， $136 \div 19 = 7 \cdots 3$ ，即 7 个周期多 3 本，则最右边的一本书是小说，故本题选 A。

69. 【答案】D。解析：8 月份共有 31 天，由题意 8 月份有 22 个工作日，可知 8 月份休息日有 9 天，而 31 天大于四周小于五周，故有两种情况：① 1 号为周日，保证休息日为 $1+2 \times 4 = 9$ 天；② 31 号为周六，保证休息日为 $2 \times 4 + 1 = 9$ 天，则 3 号为周六，此时 1 号为周四。故本题选 D。

70. 【答案】B。解析：设每人每月开采量为 1，河沙初始量为 M ，每月沉积量为 N 。则有： $M = (80 - N) \times 6 = (60 - N) \times 10$ ，解得 $N = 30$ ，即每个月的沉积量可供 30 人开采；可知当开采人数为 30 时，才能保证连续不间断的开采，故本题选 B。

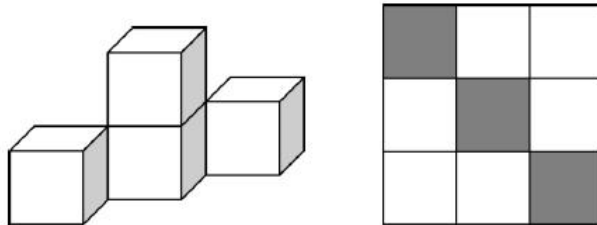
71. 【答案】B。解析：在这 1 个小时中，丙车最多休息 4 分钟，那么丙在这一个小时内的行程最少为 $60 \times 56 \div 60 = 56$ 公里。而甲车持续行驶，可达 63 公里。因此两车最多相距 7 公里，故本题选 B。

72. 【答案】A。解析：本题考查不等式。设甲方案 X 个、乙方案 Y 个，根据题意： $X+Y=30$ ， $80X+50Y \leq 2070$ ， $40X+90Y \leq 1800$ ，并使得数字越接近 2070 和 1800 越好。可直接将选项代入验证。先考虑甲方案或乙方案最多的两个极端情况，代入 C 项： $80 \times 20 + 50 \times 10 = 2100 > 2070$ ，不符合；代入 B 项： $80 \times 17 + 50 \times 13 = 1910 > 1800$ ，不符合。再代入 A 项：阔叶树用 $80 \times 18 + 50 \times 12 = 2040$ 株，针叶树 $40 \times 18 + 90 \times 12 = 1800$ 株，剩余 30 株；代入 D 项：阔叶树用 $80 \times 19 + 50 \times 11 = 2070$ 株，针叶树 $40 \times 19 + 90 \times 11 = 1750$ 株，剩余 50 株。题意要求最大限度利用树苗，故本题选 A。

73. 【答案】C。解析：根据题意已知语文 94 分，外语的得分等于语文和物理的平均分，又因每门成绩都是整数，则物理成绩必为偶数，排除 BD；已知数学最高，化学第二高，物理为平均分，则物理不可能为 94 分，否则平均分大于 94 分，排除 A 项。故本题选 C。

74. 【答案】A。解析：已知甲派出所受理案件的17%为刑事案件，因案件数不可能为小数，则甲受理案件数必为100的倍数。再根据题意判断，甲派出所受理案件只能为100件，故乙受理案件为60件，可得乙受理非刑事案件数为 $60 \times (1 - 20\%) = 48$ 件，故本题选A。

75. 【答案】A。解析：由于前、后、左、右视图一样，从最少的情況考虑，如下图所示即可实现。右图为俯视情况，其中阴影表示放置有立方体的位。



最少4个就可以实现，故本题选A。

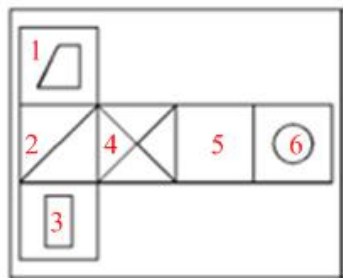
76. 【答案】C。解析：元素组成凌乱，考数数。题干图形中曲线数都为4，则问号处也应有4条曲线的图形，只有C项符合。A、B、D项图形中曲线数分别为3、0、1，故本题选C。

77. 【答案】A。解析：组成元素相似，考元素的叠加运算。九宫格中，每一行为一组，每组中第三个图形是由前两个图形按叠加规律叠加而成，叠加规律如下：白+白=星，白+星=白，星+星=星。观察选项，只有A项符合叠加规律。故本题选A。

78. 【答案】B。解析：元素组成相同，位置不同，考位置。在第一组图形中，两个黑色小球整体移动两次，每次沿顺时针移动两格；白色小球移动两次，第一次先移动到对角线位置，再顺时针移动一格，第二次在第一次的基础上再顺时针移动一格。第二组图形也应符合这个规律，故本题选B。

79. 【答案】A。解析：本题考查立方体的截面。B项可由立方体的一个角剖开得到；C、D项可由立方体的侧面剖开得到。A项无法得到，故本题选A。

80. 【答案】C。解析：本题考查平面图形折成立体图形。将各个面编号，得到下图。



根据“相对面不能同时出现在立体图形中”，2和5为对立面，4和6为对立面，故A、B项错误；D项中长方形的长边应与3和4的公共边平行，因此D项也错误。故本题选C。

81. 【答案】B。解析：考数特殊三角形个数。题干图形都是由两个三角形组成，且都包含直角三角形，所以数直角三角形的个数。①④⑤中都包含两个直角三角形，②③⑥中都包含一个直角三角形。故本题选B。

82. 【答案】C。解析：题干每个图形内部元素存在相似或相同，所以考查每个图形的内部特征。①③④中相同的两个图案在对角位置，②⑤⑥中相同的两个图案在同侧位置，故本题选C。

83. 【答案】B。解析：每组图形都是由两个相交图形和一个黑点组成。①③④中黑点只在一个图形内部，②⑤⑥中黑点在两个图形相交部分。故本题选B。

84. 【答案】D。解析：考查图形组成特征。每组图形都是由两个图形拼接而成，观察每组图形的内部特征。①④⑤中两个图形的交线是图形中最长的线段，②③⑥中两个图形的交线是图形中最短的线段。故本题选D。

85. 【答案】C。解析：元素组成凌乱，考对称属性，①③⑥属于中心对称图形，②④⑤属于轴对称

图形。故本题选 C。

86. 【答案】D。解析：“过程性职业认同”定义要件为：①自己经历；②逐渐发展的；③认同自己职业角色；④过程。A 项老张“几十年如一日”，不是逐渐发展的过程，故排除；B 项李老师是为自己获奖而感到自豪，不是对职业角色本身的认同，排除；C 项老党员的模范事迹不属于小赵自己的经历，且党员不是一种职业，排除；D 项陈医生行医是自己经历，“救死扶伤”属于职业角色，“多年”“从字面意思转变为人生追求”表明是一个逐步发展的过程，符合定义要件。故本题选 D。

87. 【答案】B。解析：“获致身份”定义要件为：①公开的、具有竞争性的奋争；②具备某种特殊本领；③社会地位。A、C、D 选项强调的都是世袭和血统，不是通过公开的、具有竞争性的奋争，也不具备特殊本领，只是对原有社会地位的继承，不符合定义，故排除；B 的意思是“有权有势的高贵的人，难道生来就比别人高贵吗？王侯将相的贵都是靠自己打拼出来的”，符合定义要件。故本题选 B。

88. 【答案】A。解析：“制度的反功能”定义要件为：①实现了系统某种功能；②副作用。副作用包括“破坏该系统的内部协调、稳定关系”“造成系统内部冲突”“对系统良性运行产生破坏作用”等。A 项学校实现了“绩效考核”这种功能，“教师争抢上课、乱发文章等一系列问题”是产生的副作用，符合定义要件；B 项规定销售额可以提成，而“销售员一个月卖房近 50 套”是促进了销售，不属于副作用，排除；C 项夫妻实行消费 AA 制，“感觉不方便就取消”并没有破坏夫妻关系，不属于副作用，排除；D 项某部门实行人性化管理，“上班迟到现象减少”有助于部门的管理，不属于副作用，排除。故本题选 A。

89. 【答案】C。解析：“优势富集效应”定义要件为：①起点上的微小优势；②关键过程的级数放大；③更大级别的优势积累。A 项“建校时间很早”“拥有政策、资金等多方面支持”“很多优秀学生都报考该学校”，对应三个定义要件，符合定义；B 项“楼梯略高于”“吸引了众多游客和广告商，举办各类会议”“呈现后来居上的态势”，对应三个定义要件，符合定义；D 项“最先提出”“通过电视媒体进行推广”“许多人认为买夹克就应该买这个品牌”，对应三个定义要件，符合定义。C 项某教育机构采用和其他机构一样的宣传方式，不符合要件①，排除。故本题选 C。

90. 【答案】D。解析：“翻异别勘”包括“移司别勘”和“差官别勘”。“移司别勘”定义要件是“交给另一个同级司法机关复审”。“差官别勘”定义要件为：①申报到上级机关；②差派官员前往原审机关主审；③移往上级机关复审，满足其中一个即可中。A 项符合“差官别勘”要件①③；B 项符合“移司别勘”定义要件；C 项符合“差官别勘”要件①②；D 项提到了“申报到上级机关”，因此将其限定在“差官别勘”的范畴内进行判断，但由于其不满足“差派官员前往原审机关主审”和“移往上级机关复审”中的任何一个，故 D 项不属于“差官别勘”。故本题选 D。

91. 【答案】C。解析：由题干可知，“工具性求助”定义要件为：①借助其他人的力量；②自己解决。A 项妈妈为小明报兴趣班，没有体现妈妈的目标或遇到的问题，不符合定义要件；B 项小斌自己不作任何尝试或努力，只想老师给出答案，符合执行性求助；C 项小峰借助多家咨询机构提供的意见，自己制定符合自身条件的出国学习计划，符合定义要件①②；D 项小文每次都借助工具来掌握生词，不是由自己解决，不符合要件②。故本题选 C。

92. 【答案】D。解析：“生态演替”关键词为“生物群落更替”。“次生演替”定义要件为：①原有植被已被破坏；②保持着土壤和植物繁殖体。A 项原有植被即森林并没有被破坏，不符合定义要件①，故排除；B 项火山喷发后，原有植被已被破坏，原来的土壤和植被繁殖体也被覆盖，属于原生演替，故排除；C 项森林被反复砍伐，“已”变成稀疏的草原，该过程已经完成，不符合“可能导致次生演替的情形”，排除。D 项水坝建成后，沿湖植被都枯死，但植物繁殖体仍存在，若保证一定生存环境，植物可以恢复，符合定义要件，D 项正确。故本题选 D。

93. 【答案】D。解析：根据题意知“电子对抗”定义要件为：电子对抗措施、影响己方设备和人员作战效能。主要措施包括：电子反侦察、电子反干扰、抗反辐射摧毁、抗定向能致盲、抗计算机病毒传染。A 项符合“抗计算机病毒传染”这一项措施，B、C 项都符合“抗反辐射摧毁”这一项措施，都属

于电子对抗；D项重要指令用固定电话下达，固定电话不是电子对抗所针对的设备，因此不属于电子对抗。故本题选D。

94. 【答案】C。解析：定义要件为：①生活在一定文化的人；②自知之明；③自身文化转型；④获得新时代进行文化选择的能力和地位；⑤理解别的民族文化，增进接触、对话、相处能力。A项只是在原有基础上提高了配额，不符合任何定义要件，故排除；B项只体现了对自己文化的保护，没有体现“自身文化转型”的能力，故排除；C项的“胡服骑射”和“禁断胡语”分别是赵武灵王和北魏拓跋氏对于其他民族文化的学习与肯定，体现了定义要件；D项两个城市争夺“诸葛亮故里”，违背了“自知之明”这一点，故排除。故本题选C。

95. 【答案】A。解析：根据题意，“偶然音乐”的定义要件为：①偶然性因素；②创造过程或演奏过程。“偶然性因素”包括“谱写作品时采用随意手法”“即兴演奏”“改造乐器”“加入场外声响”。A项行为不符合“偶然性因素”包括的几个方面，所以不是偶然音乐；B项是一种“改造乐器”的行为，属于演奏过程中的“偶然性因素”；C项是一种“谱写作品时采用随意手法”的行为，属于创作过程中的“偶然性因素”；D项是一种“加入场外声响”的行为，属于演奏过程中的“偶然性因素”。因此B、C、D项都属于偶然音乐。故本题选A。

96. 【答案】D。解析：题干两词是近义关系，且后一个词是对前一个词具体的形容。与题干逻辑关系相同的只有D项。A项“清楚”和“一清二楚”是近义词；B项“正确”和“分毫不差”是近义词；C项“温暖”和“风和日丽”都可用来形容气候，但不是近义词。故本题选D。

97. 【答案】C。解析：题干两物品具有相同的功能，即“火炬”和“蜡烛”都可以用来照明。与题干逻辑关系相同的只有C项，“棉布”和“丝绸”都可以用来制作衣服。A项两词是包含关系，即“草药”是“中药”的一种；B、D两项两词没有明显的逻辑关系。故本题选C。

98. 【答案】A。解析：题干两词是对应关系，即“X光片”用来查看是否“骨折”，是一种可能性的对应。与题干逻辑关系相同的只有A项，即“卫星云图”用来查看是否“降雨”。B项“科普图书”用来学习“知识”，是一种必然的对应；C项“电子导航”用来查看“路线”，也是一种必然的对应；D项“饮食习惯”影响“健康”，不符合逻辑关系。故本题选A。

99. 【答案】D。解析：题干两词是对应关系，“柏油公路”对应“阳光大道”，前者是实际意义上的路，后者是象征意义上的路。与题干逻辑关系相同的只有D项，“液晶屏幕”是实际意义上的屏幕，“璀璨荧屏”是象征意义上的屏幕。A项两词是并列关系，都是一种天体；B项两词属于组成关系；C项两词属于种属关系，“双峰骆驼”是骆驼的一种，“沙漠之舟”即骆驼。故本题选D。

100. 【答案】B。解析：题干三词为并列关系，新月、满月和残月是指月亮的变化过程。与题干逻辑关系相同的只有B项，含苞、怒放和凋零为花的变化过程。A项生产、销售和消费是产品在流通过程中三个阶段，并未体现产品自身的变化过程；C项早晨、中午和夜晚是一天三个时间段对应的称呼，并非变化过程；D项春困、秋乏、冬眠指三个季节对人造成的影响，人本身并没有发生变化。故本题选B。

101. 【答案】A。解析：题干三词为对应关系，“出征”时“击鼓”可以鼓舞“士气”。与题干逻辑关系相同的只有A项，“比赛”时“呐喊”可以增强“信心”。B项“生产”时“监督”可以保证“质量”，而不是“效率”，对应错误；C项“喝酒”时“谈判”可以缓和“气氛”，不符合逻辑，应该是“谈判”时“喝酒”可以缓和“气氛”；D项“登报”是“宣传”的一种手段，不符合题干中的对应关系。故本题选A。

102. 【答案】B。解析：题干中三词为并列关系，“电动车”“摩托车”“救护车”都是车，且第三个词“救护车”体现了车的功能，与之逻辑关系相同的只有B项，“保健酒”体现了酒的功能，其他选项第三个词都没有体现相应的功能。故本题选B。

103. 【答案】C。解析：题干三词为顺承关系，“规避”“风险”可以避免“损失”。与题干逻辑关系相同的只有C项，“加强”“锻炼”可以避免“肥胖”。其他三项都不符合此逻辑关系，故本题选C。

104. 【答案】B。解析：采用代入法。A项代入：前一组为对应关系，在“邮局”办理业务需要支付

“邮费”，后一组没有明显的逻辑关系，前后逻辑关系不一致；B项代入：前一组为因果关系，“重量”影响“邮费”，后一组也是因果关系，“纬度”影响“气候”，前后逻辑关系一致；C项代入：前一组为对应关系，后一组“纬度”和“经度”是并列关系中的矛盾关系，前后逻辑关系不一致；D项代入：前一组为因果关系，“距离”影响“邮费”，后一组无逻辑关系，前后逻辑关系不一致。故本题选B。

105.【答案】B。解析：本题考查对应关系。“感时花溅泪”表现了“伤心”“哀伤”的情绪，表现不出“多情”“憔悴”，故排除C、D项。再看A、B项的句子，“一日看尽长安花”“含情杏花喜”都表现了“高兴”的情绪，表面上都符合，但根据诗句的感情色彩，“含情杏花喜”表达的是一种春色的美好，对应“高兴”不是很恰当，而“一日看尽长安花”表现了进士及第后的兴奋心情，对应“高兴”更为合适。故本题选B。

106.【答案】B。解析：题干的论点是“加热时间越长的玉米，活性越高，抗衰老的作用越好”。没有论据，属于削弱论点型。A项“反而降低了”直接削弱论点；C项是样本不典型，D项否认活性越高，抗衰老作用越强，均削弱了论点。B项糯玉米抗自由基的活性增高的幅度小，但也有增高，无法削弱论点。故本题选B。

107.【答案】D。解析：题干的论点是“距今4400年左右的极端气候变化，可能是导致这次文化变迁的主要原因”。论据是“在距今约4400年的时候，发生了一次严重的‘冷事件’，环境由原来的温暖湿润转变为寒冷干燥，植被大量减少，藻类、水生植物基本绝迹了，大汶口文化向南迁移，而龙山文化由北迁到此地”。论点和论据间存在因果关系，属于加强论点型。A项否定了大汶口文化是因为“冷事件”而向南迁移的，削弱了论点；B项属于无关选项；C项只能说明大汶口文化南迁是因为“冷事件”，不能说明龙山文化迁来此地也是因为“冷事件”，不能加强论点；D项不同生存方式的族群对气候和环境部有相对稳定的需求，即此次文化的变迁是由于气候变化导致当地的气候不能适应族群的需要，不同的族群才开始迁移到适合自己生存的气候，加强了论点。故本题选D。

108.【答案】A。解析：题干论点是“随着Y染色体的消亡，人类也将走向消亡”。论据是“成为男性至少需要拥有一条Y染色体，但人类男性Y染色体所含的基因不断减少”。论点和论据间存在因果关系，属于削弱论点型。A项属于无关选项，恒河猴的染色体与人类无关，不能削弱论点；B、D项均能说明人类不会消亡，直接削弱了论点；C项“实现基因再生”削弱了论点。故本题选A。

109.【答案】D。解析：题干推理过程：佛教寺庙⇒全国各地，普救寺⇒佛教寺庙，故普救寺⇒全国各地。题干将“普济寺”等价于“我国的佛教寺庙”，因此“分布于全国各地”，导致逻辑错误。A项父母酗酒⇒孩子冒险，小华冒险⇒小华的父母酗酒，“小华冒险”是肯后事件，无法推出绝对表达的结论；B项文明公民⇒遵纪守法，有些大学生⇒遵纪守法，所以有些大学生⇒文明公民，“遵纪守法”属肯后件，无法推出绝对表达的结论；C项寒门学子⇒上大学机会少，小华⇒-寒门学子，所以，小华⇒-上大学机会少，“-寒门学子”属否前件，无法推出绝对表达的结论；D项独生子女⇒娇生惯养，他⇒独生子女，所以他⇒娇生惯养。将“现在的独生子女”这一普遍概念的特性“娇生惯养”，赋予了“他”这一个体概念，与题干逻辑错误相似。故本题选D。

110.【答案】C。解析：本题的关键在对③的理解，-接听来自行政部其他人电话的人⇒-拨打过其他人的电话。这句话包含的意思有：有人打给你，你接听了，就可能会打给别人；接听了不一定打给别人；没有接过来自行政部的电话的是绝对不会打给别人的。小赵不曾拨打过其他人的电话，属于肯定③的后件，无法推出绝对表达的结论，A项错误；虽然①小王拨打过行政部所有人的电话，但是小李可以不接听电话，B项错误；因为①小王拨打过行政部所有人的电话，根据③的逆否规则，可推出小王一定接听过其他人的电话，即曾有人拨打过小王的电话，C项正确；根据C的分析，小王一定接听过其他人的电话，但不一定是所有人，D项过于绝对。故本题选C。

111.【答案】B。解析：题干论点是“人力资源管理部门更多的时候起到的是支持和辅助的作用”。论据是“人力资源部门并没有全程参与公司发展战略的决策，而且公司聘请的高级经理均由CEO决定”。由提问可知，属于削弱论点型。A项属于无关选项。B项，人力资源的重要职能就是招到人才并留住人

才，因此留住人才对公司是非常重要的，属于削弱论点。C项，通过世界最大的物流公司的例子说明人力资源部的重要，也为削弱论点。但是C项中只是一家公司，与B项描述的公司整体情况相比，削弱力度较弱。D项，人力资源部只能管理中层，没有资格管理高层，加强了论点。故本题选B。

112. 【答案】A。解析：第一步：翻译题干，利用充分条件和必要条件。第一句：相当于说重要事务是成功的必要条件，可翻译为“①成功 \Rightarrow 重要事务”，第二句：细节是成功的充分条件，可翻译为“②细节 \Rightarrow 成功”。①②可根据传递推理得到，细节 \Rightarrow 成功 \Rightarrow 重要事务。第二步：逐一翻译选项并判断选项的正误，利用逆否规则。A项：成功不一定能推出细节，“成功”属肯后，无法推出绝对化结论，但可推出可能性结论，故正确；B项：-成功 \Rightarrow -重要事务，“-成功”属否前件，无法推出绝对化结论，故错误；C项：成功 \Rightarrow 重要事务 \wedge 细节，虽然成功能推出重要事务，但成功不能推出细节，C项错误；D项：细节 \Rightarrow -成功，与题干结论细节 \Rightarrow 成功矛盾，因此D项错误。故本题选A。

113. 【答案】C。解析：本题论点是“代表不同文化背景的语言，会对人们大脑处理数学信息的方式产生影响”，没有论据。由提问可知属于加强论点型。A项没有体现不同文化背景的语言；B项比较笼统，未体现出对数学信息的处理方式不同；C项以英语为母语的人和以中文为母语的人进行心算时分别使用了大脑的语言区和视觉信息识别区，支持了论点；D项是不同专业背景，属无关项。故本题选C。

114. 【答案】C。解析：题干论点：这种真菌将有望帮助人类消除塑料垃圾所带来的威胁；论据：一种名为内生菌的真菌能降解普通的聚氨酯塑料。论点对象是塑料垃圾，论据对象是普通的聚氨酯塑料，论点和论据间对象不一致，需要在二者间搭桥加强论证。A项属无关选项，只提到塑料垃圾是最重要的废弃物种类，与真菌能否分解无关。B项“内生菌在任何条件下都可以很好地分解塑料制品”，属新增论据加强论点。C项在塑料垃圾和聚氨酯塑料之间进行了搭桥，建立了联系，加强了论证。D项说明这种真菌的生活环境很广泛，因此能够广泛用于分解塑料垃圾，属新增论据加强论点。在加强力度上，加强论证强于加强论点，故本题选C。

115. 【答案】D。解析：翻译题干。①生物抗性 \Rightarrow 生物的解毒能力；②解毒能力强的生物 \Rightarrow 具有抗性的生物；③解毒能力不是抗性的全部；④抗性强的生物不一定解毒能力就强。A项可翻译为“一解毒能力强的生物 \Rightarrow 一具有抗性的生物”，“解毒能力不强的生物”是对②的前件的否定，否前件无法推出否后件，故A项无法从题干推出；B项可翻译为“具有抗性的生物 \Rightarrow 解毒能力强的生物”，“具有抗性的生物”是对②的后件的肯定，肯后件无法推出肯前件，故B项无法从题干推出；C项，题干只说生物在污染条件下会将污染物在体内富集、解毒，但没有说明这种富集、解毒与在污染环境下生存的关系，无法推出；D项可翻译为“一具有抗性的生物 \Rightarrow 一解毒能力强的生物”，是②的逆否命题，符合逆否规则，可从题干推出。故本题选D。

116. 【答案】B。解析：根据“增加值同比增长30.74%，比规模以上工业增加值高11.64个百分点”可知2011年前十一个月，该省规模以上工业增加值同比增长 $30.74\% - 11.64\% = 19.10\%$ 。故本题选B。

117. 【答案】A。解析：根据上一题可知，2011年前十一个月，该省规模以上工业增加值同比增长为19.1%，则2010年前十一个月，该省规模以上工业增加值为 $\frac{896.31}{25.32\% \times (1+19.1\%)} \approx \frac{900}{0.25 \times 1.2} = 3000$ ，A项与之最接近。故本题选A。

118. 【答案】C。解析：根据扇形图中数据可得，光机电一体化领域实现增加值与生物医药和医疗器械领域、新材料领域、电子信息领域增加值总和的比为 $\frac{319.31}{109.54 + 125.23 + 152.34} \approx \frac{320}{109 + 125 + 150} =$

$\frac{320}{384} = \frac{5}{6}$ ，故本题选C。

119. 【答案】B。解析：根据文字描述可知，2010年前十一个月增加值为 $\frac{896.31}{1+30.74\%}$ ；若增长速度保持不变，则2012年前十一个月增加值为 $896.31 \times (1+30.74\%)$ ，可得2012年比2010年增加了 $896.31 \times$

$(1+30.74\%) - \frac{896.31}{1+30.74\%} \approx 900 \times 1.3 - \frac{910}{1.3} = 470$ ，B项与之最接近。故本题选B。

120. 【答案】D。解析：根据扇形图中数据判断。A项：生物医药与医疗领域所占比重约为 $\frac{152}{896} > \frac{1}{6}$ ，正确。B项：光机电一体化领域与新材料领域增加值之和大约是全省高新技术产业增加值的 $\frac{319+125}{896} = \frac{444}{896} \approx \frac{1}{2}$ ，正确。C项：航空航天领域增加值占全省高新技术产业增加值的比重为 $\frac{190}{896} < \frac{1}{3}$ ，正确。D项：二者之和约占全省高新技术产业增加值的 $\frac{152+110}{896} = \frac{262}{895} > \frac{1}{4}$ ，错误。故本题选D。

121. 【答案】C。解析：根据折线图资料可知，2006年收缴土地1.16万公顷，2011年为0.38万公顷，因此2011年全国收缴土地面积比2006年减少 $\frac{1.16-0.38}{1.16} = \frac{0.78}{1.16}$ ，直除首位应为6，C项符合。故本题选C。

122. 【答案】D。解析：根据折线图资料可知，2011年结案26.5亿件，罚没款4.31亿元，则平均每个案件的罚款为 $\frac{26.5\text{亿}}{4.31\text{万}}$ ，估算首位应为6，D项符合。故本题选D。

123. 【答案】B。解析：根据表中资料，2011年发现违法70212件，立案41806件，则发现违法但未立案的违法用地行为占违法用地行为的比重为： $\frac{70212-41806}{70212} \approx 40.5\%$ 。故本题选B。

124. 【答案】A。解析：根据表中资料，2006、2008、2010和2011年结案涉及耕地面积占涉及土地面积的比重分别为 $\frac{34331}{69559}$ 、 $\frac{19965}{50430}$ 、 $\frac{16230}{39330}$ 、 $\frac{15353}{46064}$ ，观察发现，只有2006年的比值接近50%，其他远小于50%，可知2006年最高。故本题选A。

125. 【答案】C。解析：A项：根据图表（一）中的折线走势可知，土地收缴面积在2011年比2010年高，并非逐年减少，A项错误。B项：根据图表（一）中的柱状图和折线图可知，土地罚没款从2010年较2009年同比上升，但土地收缴面积同比下降，其他年份同比表现趋势一致，因此二者并不完全一致，B项错误。C项：根据图表（二）可知，非耕地面积同比上升应为： $\frac{50074-17596}{45124-18030} - 1 \approx 0.20$ ，C项正确。D项：根据图表（二）可知，2006年立案涉及的土地面积为84082万公顷，2010年与2011年立案涉及的土地面积之和为39279+43756=83035万公顷，前者大于后者，D项错误。故本题选C。

126. 【答案】D。解析：根据资料第一段2011年一季度营业收入环比数据可知，2010年第四季度平均每家实现营业收入为 $\frac{4572.78}{(1-12\%) \times 534} \approx 9.73$ （亿元）。故本题选D。

127. 【答案】A。解析：根据资料第二段数据可知，平均每家中小企业板公司在2011年第一季度的净利润与创业板公司的比值为： $\frac{73.25}{202} \times \frac{71}{13.16} \approx \frac{75}{200} \times \frac{70}{14} \approx 1.9$ ，A项正确。故本题选A。

128. 【答案】B。解析：根据资料第二段数据可知，房地产公司平均存货为 $\frac{2892 \times 10\%}{(1+10\%) \times 25} = \frac{289.2}{1.1 \times 25} \approx \frac{290}{280} \approx 10$ ，B项与之最为接近。故本题选B。

129. 【答案】D。解析：钢铁板公司2010年第四季度的净利润为 $\frac{-3.77}{493.39} = \frac{-3.77 \times 0.8}{493.39} = \frac{-30.16}{493.39} \approx -0.61\%$ 。故本题选D。

130. 【答案】C。解析：A项：根据资料第一段倒数第二句可知，净利润之和比2010年第四季度有所下降，A项错误。B项：534家公司2011年第一季度实现净利润为336.7亿元，一季报中小企业板公司实现净利润73.25亿元，后者所占前者的比重为 $\frac{73.25}{336.7} < \frac{1}{4}$ ，B项错误。C项：钢铁板公司的平均存货

为 $\frac{322}{6} > 50$ ，大于534家公司的平均存货 $\frac{6167.68}{534} < 20$ ，C项正确。D项：建筑机械类公司的营业收入为 $\frac{15.9}{4} < 4$ ，小于534家公司的平均营业收入 $\frac{4572.78}{534} > 8$ ，D项错误。故本题选C。

131. 【答案】A。解析：2011年东部地区农民工人数增长率为 $\frac{324}{16537-324} = \frac{324}{16213}$ ，估算首位为2，

A项正确。故本题选A。

132. 【答案】C。解析：根据表中数据可知，2008~2011年从事建筑业、批发零售业、居民服务和其他服务业的农民工比重之和分别为 $13.8\%+9.0\%+12.2\%=35\%$ 、 $15.2\%+10.0\%+12.7\%=37.9\%$ 、 $16.1\%+10.0\%+12.7\%=38.8\%$ 、 $17.7\%+10.1\%+12.2\%=40\%$ ，而制造业的比重分别为37.2%、36.1%、36.7%和36%，前者大于后者的有2009、2010和2011三个年份。故本题选C。

133. 【答案】D。解析：根据表中数据可知，2008~2011年的比重分别为6.4%、6.8%、6.9%、6.6%，趋势是先升后降，且没有趋于平缓。故本题选D。

134. 【答案】A。解析：2011年中部地区农民工占农民工总人数的比重比上年增加 $\frac{4438}{25278} - \frac{4438-334}{25278-1055} = \frac{4438}{25278} - \frac{4104}{24223} \approx 0.18-0.17=1\%$ ，A项正确。故本题选A。

135. 【答案】B。解析：读取表中数据，从事住宿餐饮业的农民工比重：2010年为6.0%，2011年为5.3%，因此并非持续上升，A项说法错误；2010年东部地区农民工为 $16537-324=16213$ ，西部和中部农民工之和为 $4438-334+4215-370=8653-704=7949$ ，前后二者比值大于2，即超过了二倍，B项说法正确；读取表中数据，2008年从事交通运输、仓储和邮政业的农民工比重为6.4%，从事批发零售业的农民工比重为9.0%，前者少于后者，C项说法错误；2011年农民工在中部地区从事建筑业、批发零售业、居民服务和其他服务业的比重分别为24.7%、13.1%和11.4%，而全国平均水平分别为17.7%、10.1%和12.2%。其中，居民服务和其他服务业的比重前者低于后者，D项说法错误。故本题选B。

2012 年中央、国家机关公务员录用考试试卷

《行测》参考答案及解析

1. 【答案】D。解析：“十二五”规划的起止时间为2011~2015年。A项，2010年4月8日，由中航工业成飞制造的我国首辆高速磁浮国产化样车在成都实现交付。这标志着中航工业成飞已经具备了磁浮车辆国产化设计、整车集成和制造能力。B项，2009年初，厦门大学、养生堂万泰公司研制出我国第一种拥有自主知识产权的基因工程疫苗——重组戊型肝炎疫苗（大肠埃希菌）。C项，2010年8月26日，科学技术部与国家海洋局联合宣布，国家高技术研究发展计划（863计划）重大专项——我们第一台自行设计、自主集成研制的“蛟龙号”载人潜水器3000米级海试取得成功，最大下潜深度达到3759米。D项，2011年5月13日国家测绘局正式对外发布，历时3年科技攻关，打破西方技术壁垒，由中国测绘科学研究院牵头承担的“机载多波段多极化干涉 SAR 测图系统（简称‘机载 SAR 测图系统’）”的研制取得全面成功。故本题选 D。

2. 【答案】C。解析：“十二五”规划提到要“坚持最严格的耕地保护制度、从严控制各类建筑占用耕地；推进植树造林，新增森林面积1250万公顷；坚持保护优先和自然修复为主，加大生态保护和建设力度，从源头上扭转生态环境恶化趋势；推进能源多元清洁发展。”由此可知，A、B、D项说法正确。C项，对化石能源的消耗会加重资源浪费与环境污染，带来更多的碳排放，明显错误。故本题选 C。

3. 【答案】B。解析：①1995年11月8日，江总书记在北京视察工作时指出：“根据当前干部队伍的状况和存在的问题，在对干部进行教育当中，要强调讲学习、讲政治、讲正气。全国都要这样做，北京市更要起带头作用。”②1968年12月22日，《人民日报》在一篇报道的编者按语中传达了毛泽东指示：“知识青年到农村去接受贫下中农的再教育，很有必要。要说服城里干部和其他人，把自己初中、高中、大学毕业的子女，送到乡下去，来一个动员。各地农村的同志应当欢迎他们去。”③“枪杆子里面出政权”这一著名论断是毛泽东在1927年8月7日的“八七会议”上根据当时中国的国情提出的。④1988年9月，邓小平同志根据当代科学技术发展的趋势和现状，提出了“科学技术是第一生产力”的论断。故本题选 B。

4. 【答案】C。解析：无党派人士不等于无党派群众，无党派人士是指没有参加任何党派、对社会有积极贡献和一定影响的人士，其主体是知识分子。具体到我国，在新民主主义革命时期，一般称无党无派的知名人士为社会贤达。1949年中国人民政治协商会议成立后，专门设立了无党派民主人士界别。中共中央在2005年专门下发了一份文件——《中共中央关于进一步加强中国共产党领导的多党合作和政治协商制度的意见》，这里面明确了无党派人士需要具备的三个条件：①没有参加任何党派；②对社会有积极贡献和一定影响的人士；③社会基础，主要是积极分子。由此可知，C项说法有误。故本题选 C。

5. 【答案】A。解析：主权债务是指一国以自己的主权为担保向外（不管是向国际货币基金组织还是向世界银行，还是向其他国家）借来的债务，而主权债务危机是指一国在国际借贷领域中大量负债，超过了该国自身的清偿能力，造成无力还债或必须延期还债的现象，具体的表现就是巨额财政赤字、经济低迷以及货币贬值。A项说法不正确。故本题选 A。

6. 【答案】D。解析：A项，“再贴现率”是商业银行将其贴现的未到期票据向中央银行申请再贴现时的预扣利率。“再贴现”意味着商业银行向中央银行贷款，直接增加货币供应量，从而助长了通货膨胀，说法错误；B项，降低央行基准利率，即降低了存款需求，不利于抑制通货膨胀，说法错误；C项，提高个人所得税起征点是全国人大常委会的职权，不在国家宏观调控部门权力范围内，说法错误；D项，若提高银行存款准备金率，银行可提供放款及创造信用的能力就会下降。最终结果是社会的银根偏紧，货币供应量减少，利息率提高，投资及社会支出都相应缩减，抑制了通货膨胀，说法正确。故本题选 D。

7. 【答案】B。解析：A项，《论语》为孔子的弟子及其再传弟子编撰而成，而非孔子所作，说法错误；C项，“罢黜百家，独尊儒术”为汉武帝时董仲舒提出，且孔子在春秋时期即已成名，说法错误；D项，“民贵君轻”为孟子提出的社会政治思想，说法错误。B项说法正确，故本题选B。

8. 【答案】A。解析：法国大革命的时间是1789年，而《共产党宣言》是马克思于1848年创作的，因此法国大革命时期，《共产党宣言》还没有问世。A项说法错误。故本题选A。

9. 【答案】C。解析：观察图中两方行军箭头的变化，最后交汇于马陵，可知图中所表现的是马陵之战。“马陵之战”是战国时期，魏国为了补偿在桂陵之战时的损失，进攻弱小的韩国，使其向齐国求救而引发的一场齐魏战争，孙臏、庞涓是双方指挥。综上可知，A、B、D项说法错误，C项说法正确。故本题选C。

10. 【答案】B。解析：基督教于公元1世纪起源于巴勒斯坦，是信仰耶稣为救世主的一神论宗教，信教人数最多；伊斯兰教是公元7世纪初阿拉伯半岛麦加人穆罕默德所创的，是信奉真主安拉的一神论宗教；佛教相传是公元前6~前5世纪，由印度迦毗罗卫国王子乔达摩·悉达多（释迦牟尼）所创，是多神教。故本题选B。

11. 【答案】A。解析：民法中的紧急避险，是为了防止合法权益免受正在发生的危险，而不得已损害相对较小利益的行为，造成损害的，不负法律责任。“暴风雨即将来临”意味着乙的房屋安全面临迫在眉睫的危险，其“情急之下”砍掉部分树枝的行为构成紧急避险，不承担民事责任。故A项说法正确，B、D项说法错误。树木及树枝的所有权始终是属于甲的，C项说法错误。故本题选A。

12. 【答案】D。解析：“鹏程万里”出自《庄子·逍遥游》：“鹏之徙于南冥也，水击三千里，抟扶摇而上者九万里。”“庖丁解牛”出自《庄子·养生主》：“庖丁为文惠君解牛，手之所触，肩之所倚，足之所履，膝之所踣，砉然向然，奏刀騞然，莫不中音。”“庄生梦蝶”出自《庄子·齐物论》：“昔者庄周梦为蝴蝶，栩栩然蝴蝶也，自喻适志与，不知周也。俄然觉，则蘧蘧然周也。不知周之梦为蝴蝶与，蝴蝶之梦为周与？周与蝴蝶，则必有分矣。此之谓物化。”“刻舟求剑”出自《吕氏春秋·察今》，与《庄子》无关。故本题选D。

13. 【答案】B。解析：刑法修正案（八）规定，将刑法第三十八条原第二款作为第三款，修改为：“对判处管制的犯罪分子，依法实行社区矫正。”A项说法错误。将刑法第一百六十四条修改为：“为谋取不正当商业利益，给予外国公职人员或者国际公共组织官员以财物的，依照前款的规定处罚。”B项说法正确。第三百八十九条第二款规定：“行贿人在被追诉前主动交代行贿行为的，可以减轻处罚或者免除处罚。”这里是“可以”，不是“应当”，“应当”一词表述有误，C项说法错误。在刑法第四十九条中增加一款作为第二款：“审判的时候已满七十五周岁的人，不适用死刑，但以特别残忍手段致人死亡的除外。”D项表述过于绝对，说法错误。故本题选B。

14. 【答案】C。解析：日光灯是利用低气压的汞蒸气在通电后释放紫外线，从而使荧光粉发出可见光的原理发光，A项说法错误；数码相机是一种利用电子传感器把光学影像转换成电子数据的照相机，与普通照相机在胶卷上靠溴化银的化学变化来记录图像的原理不同，B项说法错误；等离子电视是在两张超薄的玻璃板之间注入混合气体，并施加电压利用荧光粉发光成像的设备；与液晶电视相比，具有亮度高，对比度高、可视角度大、颜色鲜艳和接口丰富等特点，C项说法正确；激光打印机和复印机的原理是相同的，D项说法错误。故本题选C。

15. 【答案】B。解析：惰性气体只是化学性质很不活泼，但并不是绝对不与其他物质发生化学反应，B项说法错误；A、C、D项说法正确。故本题选B。

16. 【答案】D。解析：意识是人脑对大脑内外表象的觉察，它对客观世界的反映是主动的、有选择的，并不是客观世界有什么就反映什么，只有当人们的实践活动需要时，人们才会去主动地反映它。从哲学角度来看，肖伯纳和周国平观点不同的主要原因是意识活动具有主动创造性和自觉选择性。故本题选D。

17. 【答案】C。解析：尼罗河是一条流经非洲东部与北部的河流，自南向北注入地中海。印度河主

要在巴基斯坦境内，由北向南注入印度洋。伏尔加河总体流向是由北向南，最后注入里海。只有亚马逊河与长江的流向一样，都是自西向东。故本题选 C。

18. 【答案】A。解析：《蓝色多瑙河》是奥地利作曲家小约翰·施特劳斯最富盛名的圆舞曲作品，并非巴赫所作，A 项对应错误。故本题选 A。

19. 【答案】D。解析：海鸥是海上航行安全的“预报员”。海鸥常着落在浅滩、岩石或暗礁周围，群飞鸣噪，这对航海者无疑是发出提防撞礁的信号；同时它还有沿港口出入飞行的习性，每当航行迷途或大雾弥漫时，观察海鸥飞行方向，亦可作为寻找港口的依据。此外，如果海鸥贴近海面飞行，那么未来的天气将是晴好的；如果它们沿着海边徘徊，那么天气将会逐渐变坏。如果海鸥离开水面，高高飞翔，成群结队地从大海远处飞向海边，或者成群的海鸥聚集在沙滩上或岩石缝里，则预示着暴风雨即将来临。故 A、B、C 三项说法正确，D 项说法错误。故本题选 D。

20. 【答案】B。解析：伤口愈合是由一种新的组织补上去的，这种新的组织叫结缔组织。新生的血管和神经都要长出结缔组织，这些新生的血管和神经特别密集，互相挤到一起。新生的神经末梢很容易受到刺激，由于此时功能尚不完备，感觉模糊，于是产生痒感。故本题选 B。

21. 【答案】D。解析：“明镜高悬”比喻官员判案公正廉洁，执法严明，判案公正，办事公正无私。在旧时府衙的公堂上，常挂有“明镜高悬”的匾额，而贡院是古代会试的考场，A 项对应不正确；“万世师表”一般挂于孔庙，“关帝庙”的匾额以“忠义”之意偏多，B 项对应不正确；“还我河山”悬挂在岳王庙，“武侯祠”的匾额是“明良千古”，C 项对应错误；乾清宫正殿高悬着由清代顺治皇帝御笔亲书的“正大光明”匾，D 项对应正确。故本题选 D。

22. 【答案】B。解析：冰的密度比水小，所以浮在水面上。而冰是热的不良导体，对下层的水热起到了隔热保温的作用，是冰下的水保持零摄氏度，从而不结冰。故本题选 B。

23. 【答案】C。解析：A 项，加油机普遍采用电脑控制，手机信号会影响设备工作，导致计量不准，更重要的是，手机拨打过程中出现的火花极易引起爆炸，不符合题意；B 项，手机可能会干扰地空通信，不符合题意；C 项，驾驶机动车时不能打手机是因为打手机会分散驾驶员的注意力从而可能引发交通事故，符合题意；D 项，手机辐射可能干扰各种救生设备的正常工作，不符合题意。故本题选 C。

24. 【答案】D。解析：核辐射并非传染病，不会影响别人，只是受辐射个体会受到影响，只需对受辐射个体及其所带物品进行处理即可。故本题选 D。

25. 【答案】A。解析：碳酸饮料中压入了二氧化碳气体，圆形的瓶子不易被撑得变形，而且半球形凹槽的底部设计可以承受更大的压力。碳酸饮料一般都是直接饮用的，圆柱形拿起来更舒服一些。牛奶的保质期很短，一般要求低温保存，需要存放在冷藏柜里，方形比圆形更节约空间。如果形状能吸引更多的顾客，进而带来巨大的收益的话，那么商家就都会设计成圆形的，A 项解释不合理。故本题选 A。

26. 【答案】C。解析：空格前文段表达的意思是，好想法产生之前会有许多不好的作基础。A 项“随心所欲”缺乏“一次成功”这一含义，因此排除；B 项“轻而易举”的对象一般是某个具体的任务或追求，用来形容产生想法不够恰当；C 项“一蹴而就”比喻事情一下子就成功，用在这个否定句中形容好想法不是简单几次就产生的，最为恰当；D 项“信手拈来”常用于形容写作诗文时运用材料、驾驭语言的随意或从容，与原文语境不符。故本题选 C。

27. 【答案】D。解析：根据原文“从天而降”“突然撞到自己身上”可知文段的感情色彩是不赞成的。“望眼欲穿”“翘首以盼”都是中性词，虽然有“等待”的意思，但缺少“无谓的等待，不会有结果”这一含义，排除 A、B 项。“浮想联翩”形容“飘浮不定的想象不断涌现出来”，原文没有这一意思，排除 C 项。D 项，“守株待兔”比喻不主动努力，而存万一的侥幸心理，希望得到意外的收获，符合文段意思。故本题选 D。

28. 【答案】A。解析：第一空根据后文“然而在规模较小的族群中，语言有可能更快地发生变化”可知，空格中所填词语应该倾向于保持不变，“稳定”与“原貌”均符合此意，“传统”一般相对于“现代”而言，不符文意，排除 B、C 项。再看第二空，“式微”泛指事物由兴盛而衰落，这里没有提到语

言消失前的兴盛，不符合题意，D项排除。“流失”泛指有用的东西流散失去，用在此处客观地陈述了部分语言消失的过程，符合题意。故本题选A。

29. 【答案】B。解析：第一空，根据后文举的“大唐时代长安流行胡乐”的例子可知，题干强调外来文化与民族文化的关系。“借鉴”常用于经验，不符合题意，排除C项。“融合”通常指两个事物互相施加影响，与原文不符，排除D项。再看第二空，“断裂”指折断开裂，用于此处语意过重，排除A项。“蜕变”符合题意。故本题选B。

30. 【答案】D。解析：第一空，根据空格后的“甚至”可知，所填词语应比“错误”的程度低一个层级，并且意思相同。“消极”“反面”意思都与“错误”是一个层级的，排除A、C项。“盲目”比喻认识不清，形容的是一种状态，而不是坚持的内容，排除B项。“偏颇”形容偏向一方，不公正，可以形容不恰当的坚持，而且比“错误”程度低，最适合填入空格处。“敢于放弃不切实际的理想”是为了让人们找到切合实际的，而不是鼓励人们“偃旗息鼓”“无功而返”，“知错就改”语意过重，不合适。“改弦易辙”比喻改变原来的方向、计划、办法等，符合文段意思。故本题选D。

31. 【答案】B。解析：“盖棺定论”指一个人的是非功过到死后才能做出结论；“言之凿凿”表示说得非常确实；“铁证如山”强调证据确凿、不容反驳，文中没有提到“证据”；“无可厚非”指做的事情不能算错，不必过分地加以责备。先排除A、C项。再看第二空，“篡改”表示故意地改动，而原文说的是“有意还是无意”，不符合文意。根据“历史并非全部真相”可知历史是变动过的，B项“加减”符合语意。故本题选B。

32. 【答案】C。解析：第一空，由原文“这样的人很多”可知空格中所填的词语表示比较常见。“出格”指超出常规，超出范围，侧重不符合常规，而非“不常见”，排除A项；B项“独特”形容独一无二，语义过重，排除B项。C项“新鲜”和D项“另类”都能表示不常见。再看第二空，由文段“纯粹一生，别无他顾”可知，应填表示志向坚定不变的词语，“矢志不渝”指立下志愿绝不改变，侧重赞扬其信念坚定，符合要求，确定C项。“持之以恒”指长久坚持下去，侧重坚持不懈，不特指信念很坚定，排除D项。故本题选C。

33. 【答案】B。解析：第一空，由后文“实际中国传统上并不排斥科学技术”可知，空格内所填的词语意思是排斥科学技术，故排除C、D两项。再看第二空，“以点带面”形容用一个单位或地方的成功经验带动许多单位或成片地区的工作，表示恰当地引用，是褒义词，不符合要求，排除A项。“断章取义”指不顾全篇文章或谈话的内容，孤立地取其中的一段或一句的意思，符合文段意思。故本题选B。

34. 【答案】B。解析：突破口在第二空。由文段可知，“网络飞速发展”与“社会问题”之间应该是因果关系，即第二空应填入表示因果关系的词语。A项，“催生”指加快本来就该有的现象的产生；C项，“暴露”指使显露，均不表示因果关系，故排除A、C项。再看第一空，“联系”指事物之间的有机关联，符合题意。“交往”的主体一般是人，与题意不符，排除D项。故本题选B。

35. 【答案】A。解析：第一空，与空格前“杠杆效用”相对，A项“撬动”最合适。再看第二空，A项，“专业化”是从不够专业到专业，符合题意；B项，“职业化”指一种工作状态的标准化、规范化、制度化，原文不是说工作状态，而是形容一种行业走上正轨，不符合题意，排除；C项，“科学化”与文段意思不符，排除；D项，“正规化”指从不正规到正规，原文“形成行业，吸引人才，加强管理”是一个从无到有的过程，之前并没有，不符合题意，排除。故本题选A。

36. 【答案】C。解析：第一空，文段的意思是“微博”的特性和旅游“在路上”的状态是相似的。“一拍即合”比喻因情意相投或有利害关系，一下子就说到一起或结合在一起，不符合题意，排除A项；“殊途同归”比喻采取不同的方法而得到相同的结果，文中并没有这层意思，排除B项；“不谋而合”形容未经商量（意见或行动）一致，符合文段意思；“相辅相成”指两件事物互相配合，互相辅助，缺一不可，不符合题意，排除D项。再看第二空，将“参考”代入原文符合题意。故本题选C。

37. 【答案】A。解析：第一空应填表示“谍战小说”发展较快或较好的词语。“风生水起”比喻事

情做得特别好，一定的时间里发展得特别快，迅速壮大起来或是产生意料之外的效果；“方兴未艾”形容事物正处于发展状态；“炙手可热”比喻权势大，气焰盛，使人不敢接近；“声名鹊起”比喻声名得到迅速提升。B、C、D 三项均不符合要求，排除。再看第二空，“象征”表示用具体事物表现某些抽象意义，符合题意。故本题选 A。

38. 【答案】D。解析：科学家使用的方法是要利用气味物质影响雄蛾对雌蛾的追踪，诱使雄蛾进入捕网。第一空，“监测”“促成”明显错误，排除 A、C 项；“阻止”语意过重，排除 B 项；“扰乱”符合题意，确定 D 项。再看第二空，“消灭”代入文中符合题意。故本题选 D。

39. 【答案】D。解析：第一空考查动词搭配，“净化”常搭配“心灵”，“陶冶”常搭配“情操”，故排除 A、B 项。第二空，“匹夫之勇”本身是一个名词，不能用来形容技术，排除 C 项。“好勇斗狠”形容只知道鲁莽武斗，符合文意。故本题选 D。

40. 【答案】C。解析：第二空，与“重要性”搭配的应该是“彰显”或“凸显”，一般不用“明晰”“浮现”，排除 A、B 项。第三空，由“学术界和政府部门”可知，是两者之间的“讨论”并非“谈判”，且“讨论激烈”是常用搭配，排除 D 项。C 项中的“刺激需求”为常用搭配。故本题选 C。

41. 【答案】C。解析：“能言善辩”形容能说会道，有辩才；“绘声绘色”指叙述、描写极其逼真；“口若悬河”形容能说会辩，说起话来没完没了；“侃侃而谈”指人理直气壮、从容不迫地说话。第一空应填与“滔滔不绝”意思相近的词，故“口若悬河”最适合。“讷口少言”指不善于说话，不善言谈，说话不多；“不露声色”指心里的打算不在说话和脸上显露出来；“片言只语”形容语言、文字数量极少；“缄口不言”指封住嘴巴，不开口说话。第二空应填与“一字千金”意思相近的词，“片言只语”侧重形容话少，填入空格内符合文意，确定正确答案为 C 项。再看第三空，成功是靠舌头来“创造”的，前后搭配恰当。故本题选 C。

42. 【答案】B。解析：第一空，由“注重提高普通市民的生活质量”可知，填入的词语应与“生活质量”相关，“品位”最符合语境；再看第二空，文段表达的是“是否适合居住”之意，故“适宜”比“值得”“方便”“能够”更恰当；第三空“大街小巷”泛指城里的各处地方，符合题干语境。故本题选 B。

43. 【答案】D。解析：第一空，“检测指标”为常见搭配。第二空，“疾病”通常只能搭配“治疗”“诊断”，故排除 A、B 项。再看第三空，“愿景”指所向往的前景，与原文希望利用纳米级计算机治疗疾病的愿望相符合。故本题选 D。

44. 【答案】A。解析：本题突破口在第三空，根据空后的“延续至今”可知，空格处应填入还有继承传播之意的词语，“薪尽火传”比喻一代代地传播下去，最符合题意。故本题选 A。

45. 【答案】A。解析：第一空，由空格后“那些曾以为不可或缺的东西”可知，我们所失去的东西，未必是必不可缺的，故“争取”和“挽救”不合适，排除 B、D 两项。第二空，由前文的“有所失”可知，填入的词语应含有“失去”之意，排除 C 项。故本题选 A。

46. 【答案】D。解析：A 项，由“连字都不识，当然谈不上有学问”可知，“初学者的无知”是因为知识的匮乏而导致的，而非缺乏正确的引导造成，排除。B 项，“两者既容易区分又经常被混淆”无法从原文得出，排除。C 项，由“‘初学者’的无知容易辨别、也容易避免”可知 C 项错误，排除。D 项，“初学者的无知”反映的是刚开始学习时的无知，“学者的无知”反映的是错读了许多书籍后的无知，两者属于不同学习经历，说法正确。故本题选 D。

47. 【答案】A。解析：文段最后“但传统工艺完全可以借助现代科技而提升，继续服务于大众”为文段重点。A 项是文段重点的同义转换；B 项所说并非作者观点；C、D 项均未表现出“借助现代科技继续服务于大众”这一核心内容。故本题选 A。

48. 【答案】C。解析：本题为细节判断题。A 项，文段只提到我国气象卫星天气预报的准确率，并不能推出现阶段欧美国家天气预报的准确率是否高于我国，说法错误。B 项，文段提到“再经过十年的发展，我国有望赶上国际先进水平”，“经过十年的发展”与“相差十年”是不同概念，说法错误。C

项，可由“随着卫星更新换代、新科技的研发，今后可以给大气做‘CT’”得出，说法正确。D项，由“经过十年的发展……甚至在部分领域取得领先”可知，并不是“目前”，说法错误。故本题选C。

49. 【答案】D。解析：本题为表面主旨题。全段围绕士绅观念的影响展开，“正因如此”之后所论述的，就是这种影响的表现。整个段落的主体词为“士绅观念”和“早期现代化”，对此概括最全面的为D项。A、B、C项都不够全面。故本题选D。

50. 【答案】D。解析：由文段可知，“人类食物的蓝色革命”是指在远离海岸的开阔海域中养鱼，可以给人类提供足够的营养。A项的“深度加工”“利用率”、B项的“取代传统农业的主导地位”、C项的“近海养殖”“深海养殖”在文段均未体现，排除。故本题选D。

51. 【答案】A。解析：由“这种模式的确为社会创造出了巨大财富，人们也从中或多或少得到了实惠，但其弊端正在逐渐显现”可知文段着重说明的是这种模式不好的一面。作者的意图就是倡导转变这一模式，A项表述正确。故本题选A。

52. 【答案】A。解析：文段为总—分结构，首句指出民族特性对于艺术家和作品的重要性，然后以当代绘画的活跃和繁荣为例，从反面论证了这一观点。由此可知，文段意在说明艺术创作不应丧失民族特性。A项，为文段同义转换；B项，文章主要说的不是民族自信心，排除；C、D项说的都只是文段所举的例子，不是作者观点，排除。故本题选A。

53. 【答案】C。解析：文段重点在“这就意味着”之后，即要保证审计工作发挥作用，就需要有相应的问责程序。A、B项均未涉及问责程序，排除；C项是对文段主旨的准确复述；D项，公众建议的态度只是为了说明问责程序对于审计工作的重要性，并不是文段主旨，排除。故本题选C。

54. 【答案】B。解析：文段为总—分结构，首句指出越来越多的作家自觉地思考读者定位，发挥自己的创作特长，然后列举了作家的不同定位。由此可知，文段主要说的是儿童图书作家定位的细化问题。A项，文段并没有提到作家写作的“目的性”，排除；B项为文段主旨的同义转换；C项过度延伸，不能从文中得出，排除；D项，文段并不是为了鼓励作家确定方向，而是陈述这一事实，排除。故本题选B。

55. 【答案】A。解析：②中有代词“那里”，放句首则指代不明，故排除B、C项。⑥⑤描述的是硅谷的变化，而①③则是对这一变化的进一步总结，由此可知，①③应该在⑥⑤之后。故本题选A。

56. 【答案】D。解析：根据⑥中的“最早”可知⑥在③前面，排除A、B项；再对比②和③，只有②中提到了⑥句句尾的“扶桑国”，故②应该紧跟在⑥之后，排除C项。故本题选D。

57. 【答案】B。解析：填入横线的句子应承上启下，前文主要是说饮食被赋予文化内涵，后文提到旅游与美食，横线处的句子应将饮食文化与旅游文化相结合。故首先排除C、D项。再看A项，文段在讲的是“饮食文化”，而不是“美食体验”，故排除A项。故本题选B。

58. 【答案】A。解析：本题为表面主旨题。文段主要列举了两个实例，乔治·凯利发明最早的直升飞行器的创意来自童年玩耍过的玩具和伊戈尔·西科斯基发明第一架S-42四发水上飞机的创意来自童年梦中的座舱。两者的共同点在于其创意都与童年经历或梦想有关，A项表述与此一致。B项的概述太过宽泛化；C项没有体现“童年”这一关键词；D项文段并没有体现出“儿时的想象力往往更为大胆”这一点。故本题选A。

59. 【答案】C。解析：文段前半部分主要说明由于行业壁垒的存在，个人的价值通过行业价值的差异来体现；后半部分主要说明由于公平的缺失和缺位，个人价值的衡量标准不是能力而是能否进入高收入行业。换言之，文段说的是行业收入差异对个人价值评判的影响。A、B项均只包括其中一方面的内容，不够全面；D项，“使得真正的人才往往被拒之门外”无法从文中得出，排除。故本题选C。

60. 【答案】D。解析：最后一句为文段重点，“工业或相关产业发展不到位，第三产业就没有服务对象，不仅经济社会发展受到制约，生态环境保护往往也因缺乏社会经济资源，难以持久维持”，因此发展工业是云南省保护生态环境的必要条件。A项表述错误；B项，文段只提及在不发展第二产业的情况下第三产业“难以持久维持”，不能说明“保护环境的作用不大”；C项，“经济发展”和“环境保护”是相辅相成的，不是对立关系。故本题选D。

61. 【答案】A。解析：文段重点在最后一句，即得出“以中华文明整合世界”的认识，是因为中国学术历来轻“术”，文化研究缺少经济成因分析。A项准确地概括了文段的主旨；B项，“经济学科”范围太小，排除；C项，文段谈论的是为何会得出“以中华文明整合世界”的认识，并没有批判这一认识的轻率荒谬，排除；D项，只指出了现在的状态，而且没有明确指出“经济成因”这个“术”的内涵，排除。故本题选A。

62. 【答案】B。解析：文段中出现的都是“很多网友担心”“‘终结者’之类的担忧”“甚至有人认为”，作者的态度在文段中并未体现。故本题选B。

63. 【答案】C。解析：横线前后的句子均围绕“文艺的思维方式”和“时代”展开，横线处所填句子应符合这一主线。D项不包含“文艺”，首先排除。B项中“文艺产业”与题干无关，排除。A项说的是文艺生命力与时代的关系，C项说的是文艺的思维方式受时代的影响。根据前后一致原则，“文艺面对生活调整自身的姿态”“文艺的斗争思维向和谐思维转型”是对空格部分填入语句的进一步阐述，可知C项与文段的衔接更紧密。故本题选C。

64. 【答案】A。解析：由“片面地”“所谓的”可以看出作者不认同“人类进入了所谓的‘读图时代’”这个观点，即认为文字是不会被图像代替的。B项“错误的看法”在文段不能得到体现；C、D项并不是文段的重点。故本题选A。

65. 【答案】C。解析：文段的重点是最后一句，即“真正使这些西方大学出类拔萃的是，它们认为自己负有保护全人类的古老知识和发展学术前沿的使命”。C项说法最为准确。A项“不是以西方文明为导向”说法有误，B项“来源于教育事业的繁荣”在文段并没有提及，D项“中国的大学需要向西方众多的大学学习”在文段并没有体现。故本题选C。

66. 【答案】C。解析：考虑最差情况，即四类专业找到工作的人数分别为69、69、69、50，总和为257人。此时再多1人找到工作，必然有一个专业达到70人，故所求最少人数为258人。故本题选C。

67. 【答案】A。解析：共损失了 $25000 - 10000 = 15000$ 元，甲承担 $15000 \times \frac{2}{3} = 10000$ 元，而甲只投入了10000元，故收回的钱都属于乙，即乙可以收回10000元。故本题选A。

68. 【答案】D。解析：设每名钢琴教师带 x 个学生，每名拉丁舞教师带 y 个学生，则根据题意有： $5x + 6y = 76$ 。根据方程可知， $76 - 6y$ 均为偶数，则 $5x$ 必为偶数，而 x 与 y 均为质数，因此 $x = 2$ ，代入可得 $y = 11$ 。故在学生人数减少后，还剩下学员 $4 \times 2 + 3 \times 11 = 41$ （人）。故本题选D。

69. 【答案】B。解析：用赋值法。设水速是1，则顺水速度为3，人工划船静水速度 $= 3 - 1 = 2$ 。顺水时间:逆水时间 $= 1 : (1 - \frac{2}{5}) = 5 : 3$ ，则顺水速度:逆水速度 $= 3 : 5$ ，所以逆水速度为5，动力桨静水速度 $= 5 + 1 = 6$ ，故动力桨静水速度是人工划船静水速度的 $6 \div 2 = 3$ 倍。故本题选B。

70. 【答案】A。解析：10个人在圆桌上就座，排列的方法共有 $\frac{A_{10}^{10}}{10}$ 种。将5对夫妻捆绑考虑，5对夫妻坐在圆桌上的方法共有 $\frac{A_5^5}{5}$ 种，而每对夫妻的内部排列方法都有两种，故5对夫妻恰好都被安排在一起的方法有 $\frac{A_5^5}{5} \times 2^5$ 种。故概率为 $(\frac{A_5^5}{5} \times 2^5) \div \frac{A_{10}^{10}}{10} = \frac{2}{945} \approx 0.002$ 。故本题选A。

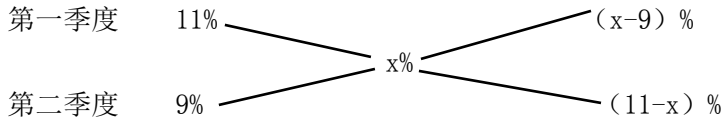
71. 【答案】B。解析：设2010年进口了 x 公斤，2010年进口金额是 $15x$ 元，则2011年进口了 $1.5x$ 公斤，进口金额是 $15x \times (1 + 20\%)$ 。故2011年进口价格为 $\frac{15x \times (1 + 20\%)}{1.5x} = 12$ 元/公斤。故本题选B。

72. 【答案】D。解析：设A、B、C等的作品分别有 x 、 y 、 z 幅，根据题意可得 $x + y + z = 10$ ， $3x + 2y + z = 15$ 。由方程组可得， $z - x = 5$ ，即A等作品比C等作品少5幅。故本题选D。

73. 【答案】C。解析：方法一：设绝对增长量为 X ，则今年上半年的增长量为 $2X$ ，去年的降水量为

$\frac{X}{11\%} + \frac{X}{9\%}$ 。故今年上半年该市降水量同比增长 = $\frac{2X}{\frac{X}{11\%} + \frac{X}{9\%}} = 9.9\%$ 。故本题选 C。

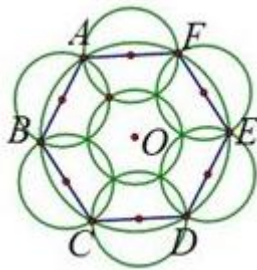
方法二：用十字交叉法，设该市上半年降水量总体增长为 $x\%$ ，则有



故去年第一、二季度降水量之比为 $(x-9) : (11-x)$ ，根据绝对增量相等可得， $(x-9) \times 11\% = (11-x) \times 9\%$ ，解得 $x=9.9\%$ 。故本题选 C。

74. 【答案】C。解析：用赋值法，设乙步行速度为1，则甲跑步速度为2.5，则9:00时甲乙两人之间的距离为2，5小时后，两人之间的距离为 $2 - (2.5 \times 0.5 - 1) \times 5 = 0.75$ ，此时，再经过半小时甲刚好追上乙，即共用了5个半小时，因此在14:30时甲追上乙。故本题选 C。

75. 【答案】B。解析：如图所示，根据题意可知，浇灌时要保证整个大圆能够被覆盖到。而一个小圆只能覆盖大圆的一段圆弧，每个小圆的直径为10，即一个小圆覆盖圆弧对应的弦最长为10，而大圆的半径为10，所以每个小圆最多盖住圆心角为 60° 所对应的弧长。因此想盖住整个圆圈，至少需要六个小圆，并且这六个小圆以大圆的内接正六边形各边中点为圆心进行覆盖。此时大圆的圆心处尚未被覆盖，则还需要一个小圆才能完成覆盖。故本题选 B。



76. 【答案】D。解析：利用数字特性。设大盒有 x 个，小盒有 y 个，根据题意可得 $12x+5y=99$ ， $x+y>10$ 。根据奇偶性可知， $12x$ 是偶数，99是奇数，故 $5y$ 是奇数， y 是奇数，则 $5y$ 的尾数是5，可知 $12x$ 的尾数是4，则可得 $x=2$ 或者 $x=7$ 。当 $x=2$ 时， $y=15$ ，符合 $x+y>10$ ，此时 $y-x=13$ ；当 $x=7$ 时， $y=3$ ，不符合 $x+y>10$ ，排除。故本题选 D。

77. 【答案】A。解析：设 A、B、C 三个工程队的工程量都为100，相同时间内，A、B、C 三队分别完成了自己的任务的90%、50%和40%，则他们的工作效率之比为9:5:4。设他们的效率分别为9、5、4，A 队派出 $\frac{2}{3}$ 的人力加入 C 队后，A、B、C 三队的工作效率之比变成3:5:10。此时 A 队剩10的任务，需要时间 $10 \div 3 = 3.33$ ；C 队还剩下60的任务，需要时间 $60 \div 10 = 6$ ，C 队后完成任务。此时 B 队又完成了 $6 \times 5 = 30$ 的任务，那么 B 队共完成了 $50+30=80$ ，即完成了自身任务的80%。故本题选 A。

78. 【答案】B。解析：利用等差数列的平均数等于中位数的值这个性质求解。由于前5名工人的得分之和是460分，则第三名工人的得分 = $460 \div 5 = 92$ （分），9人的平均得分是86分，即第五名工人的得分为86分，因此第四名的得分为 $(92+86) \div 2 = 89$ （分），故前7名的得分之和为 $89 \times 7 = 623$ （分）。故本题选 B。

79. 【答案】D。解析：最少情况即为所有的旗杆均在一条直线上。由于任意两根旗杆的距离都不超过它们高度差的10倍，即 $(5-1) \times 10 = 40$ 米，那么当所有旗杆均在这40米的线段上，只需要 $40 \times 2 = 80$ 米的绳子即可将所有的旗杆都围进去。故本题选 D。

80. 【答案】C。解析：正八面体可以拆解成两个完全相同的四棱锥，每个棱锥的体积 $V = \frac{1}{3}Sh$ ， $h=3$ 厘米，棱锥的底面是正方体横截面里的小正方形，故棱锥的底面积是正方体底面积的一半，为 $6 \times 6 \div 2 = 18$ 平方厘米，

每个棱锥的体积为 $\frac{1}{3} \times 18 \times 3 = 18$ 立方厘米，因此正八面体的体积为 $18 \times 2 = 36$ 立方厘米。故本题选 C。

81. 【答案】D。解析：题干每幅图中都有四种不同元素，并且竖线在每个格子里都出现。A、B、C 项均有相同元素出现。故本题选 D。

82. 【答案】C。解析：题干中封闭面都是通过点或线相连接的，并且不共线，选项中只有 C 项的各元素不共线。故本题选 C。

83. 【答案】D。解析：第一行都能一笔画成，第二行都能两笔画成，第三行都能三笔画成。A、B 项均能两笔画成，C 项可以一笔画成，只有 D 项能三笔画成。故本题选 D。

84. 【答案】B。解析：题干每个汉字封闭区间数量分别为 2、3、4、5 个，故问号处填入的汉字应含有 6 个封闭区间。故本题选 B。

85. 【答案】A。解析：B 项，由相对面不可能相邻可知，1 点面和 4 点面不可能相邻，不符合，排除；C 项，题干划时针 1 到 5 到 6，是顺时针，而 C 项是逆时针，不符合，排除；D 项，3 点面的方向错误，应右上到左下，2 点面应为纵向排列，不符合，排除。故本题选 A。

86. 【答案】D。解析：题干中所给的图都有三角形和点，考查点的相对位置，①③④点在三角形左侧，②⑤⑥点在三角形右侧。故本题选 D。

87. 【答案】C。解析：考查对称性。①④⑥为轴对称图形，②③⑤为中心对称图形。故本题选 C。

88. 【答案】B。解析：考察曲直性。①③⑤为曲线图形，②④⑥为直线图形。故本题选 B。

89. 【答案】C。解析：①②④都为整体图形，没有不相连部分；③⑤⑥为有不相连部分的图形。故本题选 C。

90. 【答案】A。解析：①④⑥中，左边图形的内部图形为右边图形的外框；②③⑤中，左边图形的外框为右边图形的内部图形。故本题选 A。

91. 【答案】B。解析：定义的关键词为①“通过群体相互影响”；②“偏离某种合理性的现象”。A 项，电影只是略带瑕疵，但是被批得一无是处，符合①②，属于“冒险偏移”。B 项中“经过表决”不符合①，“一致否决了某同学的博士论文答辩”说明没有“偏离某种合理性”，不符合②。C 项，“大家均保持沉默，这使得他气焰更加嚣张”，符合①②，属于“谨慎偏移”。D 项，球迷表示不满后相互影响投掷杂物，符合①②，属于“冒险偏移”。故本题选 B。

92. 【答案】A。解析：定义的关键词为①“机会平等的增长”；②“社会和经济的协调发展及可持续发展”。A 项只涉及社会的协调，没有涉及经济增长，不符合①②。B 项“对山林进行保护性封育”对社会和经济协调发展有益，符合②。C 项“提倡投资和贸易自由化”符合①。D 项充分体现了社会和经济的协调发展，符合②。故本题选 A。

93. 【答案】C。解析：定义的关键词为①“因工作原因受到事故伤害的”；②“因履行工作职责受到暴力等”；③“由于工作原因受到伤害或者发生事故下落不明的”，④“在上下班途中，受到非本人负主要责任的交通事故”。只需满足其中一个关键词即为工伤。A 项虽然是在上下班途中，但是周某违章驾驶，属于本人负主要责任，不符合④；B 项并非发生在工作时间和工作场所内，非工作原因，属于个人的打击报复，不符合①；C 项因工作原因受到事故伤害，符合①；D 项并非在工作时间，非工作原因，不符合③。故本题选 C。

94. 【答案】B。解析：定义的关键词为①“尊重动物的权利、保护生态环境”；②“生理福利”；③“环境福利”；④“卫生福利”；⑤“行为福利”；⑥“心理福利”。A 项“注射麻药”减少动物恐惧和焦虑的心情，符合⑥。B 项中“激发猴子表演高难度动作”显然存在危险性，是为对猴子的不尊重行为，不符合①。C 项“预留多处动物过桥涵洞”符合③。D 项“自由觅食”保证动物表达天性的自由，符合⑤。故本题选 B。

95. 【答案】D。解析：定义的关键词为“对行政主体的行为做出合理的评价”，主体是行政管理对象。A 项，评价主体是“当地群众”，不符合定义，排除。B 项，评价主体是“主管领导和同事”，不

符合定义，排除。C项，张某的评价是个人的错误评价，不符合定义中的“合理的评价”，排除。D项符合定义。故本题选D。

96.【答案】C。解析：定义的关键词有为①“不同地区、不同行业、不同群体、不同用途的信贷额度和还贷方式”；②“差别对待”；③“宏观调控的重要手段”。A项“央行放宽商业银行信贷规模”不符合①。B项商业银行的个别规定和D项国际银行的贷款政策不是“宏观调控的重要手段”，均不符合③。C项“新购房政策规定”，是通过对不同群体的首套房实行差别化信贷来进行宏观经济调控，符合①②③。故本题选C。

97.【答案】D。解析：定义的关键词为①“地位相近又不完全等同”；②“作比较”；③“价值期待和价值能力不一致”。A项中价值期待与价值能力并无不一致的地方，不符合③。B项未涉及“作比较”，不符合②。C项，项目组的其他人并没有就自身与小张作比较，只是对小张的行为进行了评价，不符合②。D项，小杨与同学的社会地位相近，符合①，他认为自己与同学的价值能力差距不大，但是现实是自己的工作不如同学，价值期待与价值能力的认知出现不一致，符合②③，故其产生的“没有前途”的心理属于相对剥夺感。故本题选D。

98.【答案】A。解析：定义的关键词为“抽样方法本身所引起的”。A项的误差是由调查员的人为原因导致的，不涉及抽样误差。B、C、D项均涉及抽样误差。故本题选A。

99.【答案】C。解析：定义的关键词为①“对己方的相关信息进行伪装或者虚假模拟”；②“欺骗敌方的电子侦察”。A项“故意丢失”“佯装泄露己方情报”没有体现“欺骗敌方的电子侦察”，不符合②。B项“冒充敌国领导人编制、发布虚假命令”不符合①。C项“虚设了一个司令部，用通讯设备源源不断地发送各种‘指挥命令’”符合①②。D项“设置了数量庞大的仿真数据库”没有体现“欺骗敌方的电子侦察”，不符合②。故本题选C。

100.【答案】B。解析：定义的关键词为“群体的典型特征推断为群体中的个体具有的特征”“作为对个体的评价标准”。A、D项都是通过局部或个体的行为特征来推断群体的典型特征，与定义的推断顺序相反，排除；C项，是对降雨量的推断，不存在主观评价，不符合，排除。故本题选B。

101.【答案】B。解析：前者是后者机器化的替代。A项中收音机仅为媒介；C项中学习机不是辅导员的替代；D项中读卡机对应的应该是检票员。故本题选B。

102.【答案】D。解析：前者为后者活动的记录文件。通话记录储存在手机中，D项语音文件储存在录音笔中。A项中硬盘是计算机的组成部分，B项遥控器是电视机的功能延伸工具，C项录音磁带是录音机的配套工具。故本题选D。

103.【答案】A。解析：琵琶是用木材制作的，琵琶是乐器的一种；鼎是由青铜制作的，鼎是古代烹煮用具中的一种。B项水墨画和工艺，C项浮雕和建筑，D项竹简和书籍，都和题干逻辑不一致。故本题选A。

104.【答案】C。解析：B超利用超声波来进行诊断，电冰箱利用制冷剂来进行冷藏。故本题选C。

105.【答案】A。解析：萎靡不振表示缺乏动力，饥肠辘辘表示缺乏食物。故本题选A。

106.【答案】B。解析：由题意可知，无法量化及不设定时限⇒无效目标，无效目标⇒一有实际操作的方法。根据逆否规则可以知道，一无效目标⇒一无法量化及不设定时限，有实际操作的方法⇒一无效目标。从而得到“有实际操作的方法⇒一无效目标⇒一无法量化及不设定时限”，故为了使“一无法量化及不设定时限”成立所需条件为“详细的职业规划有实际操作的方法”。故本题选B。

107.【答案】D。解析：论据：调查结果显示，78%的中耳炎儿童都是来自二手烟家庭。论点：父母等家人吸烟是造成儿童罹患中耳炎的重要原因。A、B、C项所说现象均与论点无关，属于无关项。D项，20%的儿童来自无烟家庭，即80%的儿童均来自二手烟家庭，说明调查结果并不可靠，削弱论据从而削弱了论点。故本题选D。

108.【答案】B。解析：题干通过对个体的调查，得出了杀人犯的生理特征，是由部分得到整体。A项是通过整体推出整体，不符合；B项通过对个体的调查，得出了普遍的结论，是由部分得到整体，符合；C项对植物种子的结论得到对玉米种子的推理，是由整体得到部分，不符合；D项从全校学生的调

查得到该校同学学习情况，是由整体推出整体，不符合。故本题选 B。

109. 【答案】D。解析：论点：分手会导致躯体疼痛；论据：研究人员通过观察大脑活动发现对分手等社会拒绝产生反应的大脑部位与对躯体疼痛反应的部位重合。要得到“分手引起躯体疼痛”这一结论，需要在生理与心理反应之间搭桥，加强论证。A 项“社会应激事件”不属于心理反应；B 项“功能性磁共振技术”是无关项；C 项只说明了心理对生理的影响，没有说明是通过大脑这个中介，属于强干扰项；D 项“生理与心理反应可以通过大脑产生关联”加强效果最强。故本题选 D。

110. 【答案】A。解析：论点：针对某些复杂疾病，很多人认为中西医结合的治疗方法是必要的；论据：西医利用现代科学技术手段可以解决很多中医无法解决的病症，而中医依靠对人体经络和气血的特殊理解也治愈了很多令西医束手无策的难题。A 项，中西医可以结合是开展治疗的前提；B 项，“这些疾病单独用中医疗法或者单独用西医疗法并不能有效治疗”，只说明单独治疗的效果不好，但不一定就需要中西医结合治疗，属无关项；C、D 项是题干论点“很多人认为中西医结合的治疗方法是必要的”的结论，而不是前提。故本题选 A。

111. 【答案】B。解析：论点：B 市要引进公务员自行车方式来缩减财政；论据：A 市用了同种方法效果很好。本题需要的是不能加强结论的选项。A、C 项从可行性方面支持了结论；D 项从可以节省开支方面支持了结论；B 项说的是公务人员规模和公车数量，与自行车出行无直接联系。故本题选 B。

112. 【答案】C。解析：利用逆否规则。（1）小钱教德语 \Rightarrow - 小孙教俄语；（2）小李教德语或者小钱教德语；（3）- 小孙教俄语 \Rightarrow - 小赵教法语；（4）小赵教法语或者小周不教英语。小李教德语，根据（2）可知，小钱不能教德语；要使小钱不能教德语，根据（1）可知，小孙要教俄语；根据（3）可知，如果小孙要教俄语，那么小赵要教法语；根据（4）可知，要使小赵教法语，那么小周一定要教英语。故本题选 C。

113. 【答案】C。解析：A 项，气温上升是否是哺乳动物捕食竞争加剧的原因无法得知，排除；B 项，说法过于绝对，排除；C 项，气温上升和捕食竞争加剧导致磷虾数量减少，而阿德利企鹅和帽带企鹅是以磷虾为主食的，可以推出选项说法；D 项，气温上升对生态环境的破坏无法得知，排除。故本题选 C。

114. 【答案】D。解析：此类题型，应从全错或全对的入手。将全部猜测情况用表格形式表示出来更为直观。

	笔	墨	纸	砚	正误情况
小赵	四	三	一	二	0 对
小李	一	二	三	四	1 对
小王	一	三	四	二	1 对
小杨	四	二	三	一	2 对

小赵的猜测全错，则从小赵的猜测入手，那么跟小赵一致的就是错的，可知小杨把笔猜错了；而小杨对了两个，故只要将小杨的猜测中，笔和墨纸砚三个中的其中一个调换，就是正确的顺序。如果砚在第四层的话，那么正确顺序就是笔墨纸砚分别在一、二、三、四层中，这与题干所说小李只猜对一个不符，故砚不可能在四层。则笔只能与墨或者与纸调换顺序，笔与墨调换顺序，将导致小王一个都没有猜对，与题干所说的小王猜对一个不符合，故笔只能与纸调换顺序。故笔墨纸砚分别在三、二、四、一层中。故本题选 D。

115. 【答案】A。解析：论点：长期从事碳纳米管工作的工人会因为吸入碳纳米管而致癌。没有明显的论据。为加强论点题型。A 项，通过说明一些较长的碳纳米管更容易卡在肺部或腹部细胞间的空腔中，从而容易引发癌症，证明了长期从事碳纳米管工作的工人会因为吸入碳纳米管而致癌，加强了论点；B 项，只说明碳纳米管能降低细胞自身的免疫能力，并没有说明是否会致癌，不能加强论点；C 项，说明的是“患腹腔炎症”的概率，而题干论述的是癌症，属无关选项；D 项，将碳纳米管和我们已知的强致癌物石棉进行比较并不能说明碳纳米管也会致癌。故本题选 A。

116. 【答案】B。解析：根据第一段“2010年，有线网络收入为45.38亿元，同比增长26.35%”可知，2009年，该省的有线网络收入约为 $\frac{45.38}{1+26.35\%} = \frac{45.38}{1.2635}$ ，利用直除法，首位数字为3。故本题选B。

117. 【答案】D。解析：根据第一段“2010年，某省广电实际总收入为145.83亿元，同比增长32.07%，其中，广告收入为67.08亿元，同比增长25.88%”可知，2009年，该省广告收入占广电总收入的比重约为 $\frac{67.08}{1+25.88\%} \div \frac{145.83}{1+32.07\%} = \frac{67.08}{1.2588} \times \frac{1.3207}{145.83} \approx \frac{67.08}{145.83}$ ，利用直除法，首位数字为4。故本题选D。

118. 【答案】D。解析：根据第二段“2010年，地市级收入为41.61亿元，比上年增加13.39亿元”可知，2010年，该省地级市广电收入的同比增速为 $\frac{13.39}{41.61-13.39} = \frac{13.39}{28.22}$ ，利用直除法，首位数字为4。故本题选D。

119. 【答案】A。解析：根据文段可知，“该省有线网络收入为45.38亿元，有线电视用户数为1885.88万户”，则每月平均费用为 $\frac{45.38 \times 10^4}{1885.88} \div 12 \approx 20$ 元，故本题选A。

120. 【答案】C。解析：根据文段可知，“2010年，省级收入比上年增加15.5亿元，县级收入比上年增加6.52亿元”，A项说法错误；根据第四段可知，“2010年，东部地区广电收入为50.06亿元，中部地区广电收入为17.78亿元”，东部地区广电收入没有超过中部地区的3倍，B项说法错误；根据第四段可知，“2010年，中部地区的市均收入为5.93亿元，上年同期为4.21亿元；西部地区市均收入为2.53亿元，上年同期为1.4亿元”，故2009年，中部地区市均广电收入约是西部地区的3倍，C项说法正确；根据最后一段可知，“截止2010年底，该省有线电视用户数为1885.88万户，其中有线数字电视用户为1007.8万户”，有线电视用户中有线数字电视用户的比重超过一半，D项说法错误。故本题选C。

121. 【答案】B。解析：根据表1可以直接得到答案，三大经济圈中，2010年三次产业增长速度均超过全国平均水平的只有珠三角地区1个。故本题选B。

122. 【答案】C。解析：根据表格可知，2010年，珠三角地区第二产业产值占地区生产总值比重为50.4%，地区生产总值占国内生产总值比重为9.4%，故珠三角地区第二产业产值占国内生产总值的比重为 $50.4\% \times 9.4\% \approx 4.74\%$ 。故本题选C。

123. 【答案】B。解析：全国平均水平=全国财政收入/全国生产总值，题干的意思即是地方财政收入/地区生产总值<全国财政收入/全国生产总值，相当于要求的是地方财政收入/全国财政收入<地区生产总值/全国生产总值，即地方财政收入占全国的比重<地区生产总值占全国的比重，由表2可知，只有珠三角地区符合。故本题选B。

124. 【答案】C。解析：由表2可知，A项，2010年实际利用外资占全国比重，长三角（47.9%）>京津冀（19.9%），不符合；B项，2010年进出口贸易额占全国比重，长三角（36.6%）>京津冀（14.3%），不符合；C项，2010年固定资产投资增长速度，京津冀为22.6%，是三大经济圈中最高的，符合；D项，2010年第一产业值增长速度，长三角（3.6%）>京津冀（3.3%），不符合。故本题选C。

125. 【答案】A。解析：A项，第三产业占地区生产总值比重，京津冀（49.6%）>长三角（44.7%）>珠三角（44.6%），进出口贸易额增长速度，京津冀（38.3%）>长三角（35.3%）>珠三角（28.4%），说法正确；B项，地区生产总值，珠三角（9.4%）<京津冀（10.8%），地区生产总值增长速度，珠三角（12.0%）<京津冀（12.7%），说法错误；C项，社会消费品零售额，珠三角（8.0%）<京津冀（10.1%），进出口贸易额，珠三角（25.3%）>京津冀（14.3%），说法错误；D项，三大经济圈中，长三角固定资产投资最高，实际利用外资也最高，说法错误。故本题选A。

126. 【答案】D。解析：根据文段可知，“2010年底，全国高速公路里程为7.41万公里，居世界第二位，比‘十一五’规划目标增加9108公里”，故2010年底全国高速公路里程应达到 $7.41 - 0.9108 \approx 6.5$ 万公里。故本题选D。

127. 【答案】A。解析：全国总里程的5%为 $74100 \times 5\% = 3705$ 公里，根据图2可以直接得出，满足条件的有河南、广东、河北、山东、江苏共5个省份。故本题选A。

128. 【答案】C。解析：根据图1可知，2005年底，总里程为 $7.41 - (0.91 + 0.48 + 0.64 + 0.86 + 0.43) = 4.09$ 。故本题选C。

129. 【答案】B。解析：2010年底，图2中11省拥有高速公路的里程为 $5016 + 4839 + 4307 + 4285 + 4059 + 3674 + 3403 + 3383 + 3056 + 3051 + 3003 = 42076$ 公里。故2010年底，图2中11省拥有高速公路的里程约占同期全国总里程的比重为 $\frac{42076}{74100}$ ，采用直除法可知，首位数字为5。故本题选B。

130. 【答案】D。解析：A项，由前面题可知2005年底，全国高速公路里程为4.09万公里，则2008年底的高速公路里程为 $4.09 + 0.43 + 0.86 + 0.64 = 6.02$ 万公里，2009年新增的高速公路里程 $0.48 < 6.02 \times 10\%$ ，错误；B项，河南是内陆省份，根据图2可知，河南的高速公路里程高于其他沿海省份的高速公路里程，错误；C项，根据文段可知，“2010年底，全国高速公路里程为7.41万公里……其中，国家高速公路5.77万公里”，故国家高速公路占全国高速公路里程的比重为 $5.77 \div 7.41$ ，采用直除法，可知首位数字为7，不超过90%，错误；D项，根据文段可知，“2010年底，全国高速公路里程为7.41万公里，居世界第二位，比‘十一五’规划目标增加9108公里。其中，国家高速公路5.77万公里，比上年末增加0.54万公里”，故2010年全国高速公路新增里程中，国家高速公路新增里程占全国高速公路新增里程的比重为 $\frac{5400}{9180}$ ，超过一半，正确。故本题选D。

131. 【答案】B。解析：根据文段第一段可知，“2010年，我国进出口贸易总额为29727.6亿美元，同比增长34.7%”，则2009年我国进出口贸易总额为 $\frac{29727.6}{1 + 34.7\%} \approx 30000 \div 1.4 \approx 21400$ ，B项最接近。故本题选B。

132. 【答案】D。解析：根据表格可知，2010年，我国出口总额15779.3亿美元，同比增加31.3%；根据文段第二段可知，“高新技术产品出口4924.1亿美元，同比增长30.7%”。我国出口总额同比增长率稍高于高新技术产品出口同比增长率，则2010年高新技术产品出口额占出口总额的比重与上年相比减少了，而且减少值很小。故本题选D。

133. 【答案】A。解析：根据文段第二、三段可知，“2010年，我国机电产品出口9334.3亿美元，同比增加30.9%；高新技术产品出口4924.1亿美元，同比增长30.7%……机电产品进口额达到6603.1亿美元，同比增长34.4%；高新技术产品进出口额达到4126.1亿美元，同比增长33.2%”，根据数据可知同比增长率都接近，机电产品出口的基数最大，故机电产品出口的同比增长金额最高。故本题选A。

134. 【答案】A。解析：根据表格可知，加工贸易净出口额为正值，一般贸易净出口额为负值，A项说法正确；2010年其他方式贸易净出口额为 $1168.6 - 2094.2 = -925.6$ ，一般贸易净出口额为 $7207.3 - 7679.8 = -472.5$ ，故其他方式贸易 < 一般贸易，B项说法错误；2010年国有企业净出口额为负值，外商投资企业和其他企业净出口额均为正值，C、D项说法均错误。故本题选A。

135. 【答案】C。解析：A项，高新技术产业为顺差，错误；B项，2009年国有企业进出口总额为 $\frac{2343.6}{1 + 22.7\%} + \frac{3875.5}{1 + 34.3\%} \approx 4796$ ，同比增速为 $\frac{(2343.6 + 3875.5) - 4796}{4796} \approx 29.7\%$ ，大于28.5%，错误；C项，机电产业出口额占出口总额的比重为 $\frac{9334.3}{15779.3}$ ，大于 $\frac{1}{2}$ ，正确；D项，船舶出口同比增长率高于汽车零部件出口同比增长率，但增长量无法判断，错误。故本题选C。

2011 年中央、国家机关公务员录用考试试卷

《行测》参考答案及解析

1. 【答案】D。解析：党的十七大报告提出“以改善民生为重点的社会建设”，并提出了社会建设六大方面的内容：第一是教育；第二是就业；第三是收入分配；第四是覆盖城乡居民的保障体系；第五是医疗公共卫生体制；第六是完善社会管理，维护社会稳定和团结。由此可知 D 项不属于社会建设范畴。故本题选 D。

2. 【答案】C。解析：2009 年，我国的出口总额居世界第一，A 项错误；二十国集团中具有广泛代表性的发展中国家包括南非、阿根廷、巴西、印度、印度尼西亚、墨西哥、沙特阿拉伯。中国并不是唯一的亚洲发展中国家，B 项错误；我国与不丹、锡金两个边境国家仍未建立正式的外交关系，D 项错误。故本题选 C。

3. 【答案】B。解析：我国煤炭储藏量居世界第一，先排除 A、C 项。目前我国一半左右的石油仍依靠进口，D 项也排除。故本题选 B。

4. 【答案】B。解析：根据《国务院关于开展第六次全国人口普查的通知》，我国第六次人口普查的标准时点是 2010 年 11 月 1 日零时，A 项错误；人口普查所需经费，由中央和地方各级人民政府共同负担，并列入相应年度的财政预算，按时拨付、确保到位，C 项错误；第六次全国人口普查采用按现住地登记的原则，D 项错误。故本题选 B。

5. 【答案】C。解析：西部开发区特指陕西省、甘肃省、青海省、宁夏回族自治区、新疆维吾尔自治区、四川省、重庆市、云南省、贵州省、西藏自治区、内蒙古自治区、广西壮族自治区等 12 个省、自治区、直辖市。故本题选 C。

6. 【答案】A。解析：1947 年 9 月，中共中央在河北省平山县西柏坡村召开全国土地会议，制定了《中国土地法大纲》，并于 10 月 10 日经中共中央批准正式公布，由此展开了解放区的土地运动。党的七届二中全会是 1949 年 3 月 5~13 日在中国河北建屏县西柏坡举行的。三大战役发生在 1948 年 9 月至 1949 年 1 月，是中国人民解放军同国民革命军进行的战略决战。故本题选 A。

7. 【答案】D。解析：《中华人民共和国村民委员会组织法》第十五条规定，选举村民委员会，由本村有选举权的村民直接提名候选人，候选人的名额应当多于应选名额。选举村民委员会，有选举权的村民的过半数投票，选举有效；候选人获得参加投票的村民的过半数的选票，始得当选。D 项中王某所得的票数不足参加投票的村民的一半，不符合法律规定。故本题选 D。

8. 【答案】C。解析：《中华人民共和国国防动员法》第 8 条规定，国家的主权、统一、领土完整和安全遭受威胁时，全国人民代表大会常务委员会依据宪法和有关法律的规定，决定全国总动员或者局部动员。国家主席根据全国人民代表大会常务委员会的决定，发布动员令。故本题选 C。

9. 【答案】D。解析：2010 年 3 月修改的《选举法》规定，全国人民代表大会代表名额，按照每一代表所代表的城乡人口数 1:1 的原则，以及保证各地区、各民族、各方面都有适当数量代表的要求进行分配。故本题选 D。

10. 【答案】A。解析：A 项正确：1966 年 3 月 16 日，美国发射载有阿姆斯特朗和斯科特的双子座 8 号，绕地球飞行 6.5 圈，历时 10 小时 41 分。飞行中首次实现载人飞船与一个名叫阿金纳的对接舱体对接。B 项错误：世界上第一个进行太空行走的宇航员是前苏联航天员列昂诺夫。C 项错误：1957 年，苏联成功地发射了第一颗人造地球卫星“伴侣”。D 项错误：1969 年 07 月 16 日，“土星 5 号”把“阿波罗 11 号”送往月球，实现了人类首次登月的壮举。故本题选 A。

11. 【答案】C。解析：A 项：哥德巴赫猜想的最佳结果是中国数学家陈景润于 1966 年证明的；B 项：

“反西格马负超子”是1959年由中国科学院原子能研究所王淦昌领导的实验组发现的；D项：人工合成牛胰岛素结晶是1965年9月17日，由中国科学院上海生物化学研究所等单位密切合作合成的，这是世界上第一次人工合成的一种具有生物活力的结晶蛋白质。故本题选C。

12. 【答案】A。解析：士兵军衔肩章的底色中，棕绿色代表陆军，天蓝色代表空军，黑色代表海军，A项正确；我国已经取消了“帅”这一军衔，B项错误；粟裕未被授予元帅军衔，C项错误；中国人民解放军第一次实行军衔制是1955年，D项错误。故本题选A。

13. 【答案】A。解析：国道的编号根据国道的地理走向分为三类：一类是以北京为中心的放射线国道，其编号为1××；另一类是南北走向国道(纵线国道)，其编号为2××；第三类是东西走向的国道(横线国道)，编号为3××。故本题选A。

14. 【答案】D。解析：货币升值指某国货币相对于其他国家来说价值增加或上升，这会提高本国产品在世界市场的价格，不利于出口贸易，故而不利于消除贸易逆差。故本题选D。

15. 【答案】C。解析：2009年我国的原油进口量首次超过日本，居全球第二，我国原油对外依存度也首度超过50%。故本题选C。

16. 【答案】B。解析：1990年8月，江泽民同志在新疆的视察中强调“汉族离不开少数民族，少数民族离不开汉族”，这个观点生动地反映了我国各族人民团结发展进步的历史。同时，又进一步指出：“我们伟大的中华民族，是由五十六个民族构成的，在我们祖国的大家庭里，各民族之间的关系是社会主义的新型关系，汉族离不开少数民族，少数民族离不开汉族，少数民族之间也相互离不开。”这不仅充分肯定了“两个离不开”思想，而且将其进一步发展完善为“三个离不开”的思想。故本题选B。

17. 【答案】D。解析：上海浦东是上世纪九十年代设立，天津滨海新区是1994年设立的，新疆喀什是特区。2010年6月18日，重庆两江新区正式挂牌，成为中国第三个副省级新区。故本题选D。

18. 【答案】D。解析：震源的深度越浅，波及范围越小。故本题选D。

19. 【答案】C。解析：人们习惯称戏班、剧团为“梨园”，并非“杏园”，A项错误。京剧行当中的“净”指的是男性花脸，B项错误。《梁山伯与祝英台》是越剧经典曲目之一，并非京剧，D项错误。故本题选C。

20. 【答案】A。解析：素纱禅衣是1972年在湖南省长沙马王堆汉墓出土，A项正确。大量殷商时期刻有文字的龟甲和兽骨是在河南安阳被发现的，B项错误。越王勾践剑是春秋时代铸成，C项错误。唐三彩以黄、白、绿为基本釉色，D项错误。故本题选A。

21. 【答案】A。解析：《最后的晚餐》是意大利著名画家达·芬奇的作品，“思想者”是法国雕塑家罗丹的作品，“大卫”雕像是意大利艺术家米开朗基罗的作品，三者都属于欧洲，A项正确。胡夫金字塔和狮身人面像同属横跨亚非两洲的埃及，帕特农神庙位于希腊，属于欧洲，B项错误。《百年孤独》是加西亚·马尔克斯的作品，属于拉丁美洲；《老人与海》是美国作家海明威的作品，属于北美洲；《海底两万里》是法国作家凡尔纳的作品，属于欧洲，C项错误。《飞鸟集》是印度诗人泰戈尔的作品，属于亚洲；《高老头》是法国作家巴尔扎克的作品，属于欧洲；《源氏物语》是日本女作家紫式部的作品，属于亚洲，D项错误。故本题选A。

22. 【答案】B。解析：“书圣”是晋代著名书法家王羲之，张芝有“草圣”之称，A项错误；《真书千字文》是隋朝书法家智永的代表作，C项错误；“苏黄米蔡”中的“黄”指的是黄庭坚，D项错误。故本题选B。

23. 【答案】B。解析：世界上第一台天文望远镜是伽利略发明的，A项错误。世界最早的彗星记录是《春秋》中的“秋七月，有星孛入于北斗”，C项错误。月食发生时太阳位于地球和月球之间，D项错误。故本题选B。

24. 【答案】D。解析：家中煤气泄漏时不能使用房间的电话报警，是因为打电话时会产生微弱电流，遇到煤气可能发生爆炸，D项说法错误。故本题选D。

25. 【答案】C。解析：昆明处于低纬度地区，哈尔滨处于高纬度地区，因而昆明地区的太阳高度要

高于哈尔滨，因此相同高度的住宅，昆明地区楼房间距应该小于哈尔滨。故本题选C。

26. 【答案】A。解析：通过后文“不断求知”可知，作者强调的是不停地勤奋学习。“孜孜不倦”指工作或学习勤奋不知疲倦，符合语境。故本题选A。

27. 【答案】A。解析：从第二空入手，文段谈到高校博物馆目前没有条件做到免费开放，可知这是一个“遥远”的话题，“突兀”和“生僻”明显错误，“超前”不符合实际情况，因为目前有的博物馆可以做到免费开放。故本题选A。

28. 【答案】B。解析：第一空，通过空格后“这样我们实际上就不容易感觉到花钱的消极面了”，可知信用卡把交易行为从“具体”变为“抽象”了。第二空“麻醉”也正好与后文的“让我们感觉不到付账的痛苦”相契合。故本题选B。

29. 【答案】B。解析：先看第一空，从后文的“总是用同一系列颜色表现同一类主题”，可知前文空格处的意思应该是“刻板”或“单调”的，排除A、C项。再联系第一个空的主语——孩子，只有“刻板”可以形容，“单调”通常不用来修饰人，亦排除D项。故本题选B。

30. 【答案】A。解析：第一空的主语是“个人信贷业”，很少用“频繁”和“发达”修饰，先排除B、D项。再比较A、C项，“有利可图”反映的是一种主观情况，而“节节攀升”反映的是一种客观现实，文段讲述的是个人消费信贷的客观事实。故本题选A。

31. 【答案】A。解析：先看第一空，“大师们浩瀚的经典”不能用“重大”来修饰，先排除B项。再看第二空，C项“束缚”常用来形容人，亦排除。最后比较A、D项，文段讲的是对权力的制约，不是限制，A项“约束”比D项“控制”更符合语境。故本题选A。

32. 【答案】D。解析：先看第一空，从后文“每个人都能说上几句”可知，这是每个人都有的话题，而不是强调纷争，排除B项“众说纷纭”。C项“历久弥新”指经历长久的时间而更加鲜活，更加有活力，更显价值，也不符合语境，亦排除。第二空从“说出点儿新意”，可知D项“妙处”的搭配最合适。故本题选D。

33. 【答案】A。解析：文段强调急切和重要性，先排除C项“理所当然”和D项“无可置疑”；再比较A、B项，“当务之急”指当前任务中最急切要办的事，“首当其冲”比喻最先受到攻击或遭遇困难。公共困难问题一般急于解决，显然，用“当务之急”最恰当。故本题选A。

34. 【答案】B。解析：从后文“本已零落的古建筑更加凋零”，可知第一空应该填入“漠视”或“麻木”，先排除A、C项。文段后半部分谈论的是对孩子从小进行教育，让其感受古建筑蕴含的魅力，如此才能积累出最“坚实”的力量，D项“强大”语义过重。故本题选B。

35. 【答案】D。解析：A项“融会贯通”指把各方面的知识和道理融化汇合，得到全面透彻的理解，不符合语境，先排除；B项“兼收并蓄”的主语通常是一个事物，排除；C项“此消彼长”和文段意思相悖，排除。故本题选D。

36. 【答案】D。解析：根据文段“质疑”一词，可知对经典并不是“完全否定”，先排除A项“一文不值”和C项“百无一用”。再比较B、D项，B项“缺陷”指某一方面的缺失，“瑕疵”指小的缺点，前者词义过重，排除。故本题选D。

37. 【答案】A。解析：第一空，根据后文“经历了长达600年以上的……”，可知“一蹴而就”最恰当，“一蹴而就”比喻事情轻而易举，一下子就成功。第二空用“摸索”也合适。故本题选A。

38. 【答案】D。解析：先看第一空，“世界大势”不能被“运筹”，排除A项；再看第二空，C项“赢得未来”的搭配不切合实际，亦排除；最后看第三空，“推动”指使工作展开，“推进”指推动事业、工作使之前进，后者更符合语境。故本题选D。

39. 【答案】A。解析：从第二空入手，文段中“提出主权”不涉及“合法”和“明确”，先排除C、D项。再看第三空，“限制”词义较重，不符合实际，“干预”是指过问或参与，较符合语境。故本题选A。

40. 【答案】B。解析：先看第一空，文段不涉及“刻意”或“直接”锻炼，先排除C、D项。根据

后文的“相对简单”，可知第二空应该选择与“简单”构成反义，B项的“繁琐”更恰当。故本题选B。

41. 【答案】B。解析：先看第一空，排除A、D项，“掩耳盗铃”比喻自己欺骗自己，明明掩盖不住的事情偏要想法子掩盖；“浮光掠影”比喻观察不细致，学习不深入，印象不深刻。再看第二空，C项“振聋发聩”比喻用语言文字唤醒糊涂麻木的人，使他们清醒过来，不符合语境，排除。故本题选B。

42. 【答案】D。解析：先看第一空，宾语是“心灵层面的东西”，C项“深入”不能与之搭配，排除。再看第二空，文段没有提及“疑问”，排除A项。最后比较B、D项，根据文段可知，作者并不只是单纯地想“碰触”黄河上游人们的生活与风俗，而是想深入理解，并加以“捕捉”，D项更恰当。故本题选D。

43. 【答案】A。解析：先看第一空，填入的成语必须与“艰涩”相反，B项“引人入胜”多用来指风景或艺术作品特别吸引人，不符合语意，排除。再看第二空，C项“叹为观止”指赞美所见到的事物好到了极点，不符合语境，亦排除。最后比较A、D项，可以判断A项的“妙趣横生”比D项的“平易近人”更恰当。故本题选A。

44. 【答案】B。解析：从第二空入手，宾语是“精华”，“吸收”或“汲取”都可行，先排除A、C项。再看第一空，文段强调的是“过程”，用“演化”更恰当。故本题选B。

45. 【答案】A。解析：第一空填入的词语应与“羞愤”同义，或者至少不能比“羞愤”语义轻的，据此先排除B、C项。再看第二空，D项“鲜明”通常不修饰“内容”，而是修饰“态度”等。故本题选A。

46. 【答案】D。解析：文段结构为“分——总”式，“因此”后是文段的总结句，即咏史诗作数量庞大，经典之作繁荣的社会政治背景。前两句话论述了历代的政治哲学和历史哲学早已看清权利私有制会危害到国家的发展，但是这些沉痛剖析难以融入到权利力量之中，只能转变为文学作品流传于世。故本题选D。

47. 【答案】B。解析：先排除A、D项，文段重点并不在于比较中国人和西方人对豆浆口味的不同喜好，也没有重点论述豆浆打入美国市场所需要哪些技术手段。C项“西方市场”的范围太过宽泛。文段末句有总结性作用，即美国豆浆价格远远高于牛奶的原因。B项为文段重点内容的同义替换。故本题选B。

48. 【答案】C。解析：文段通过对伊顿预言得以验证的事实来说明国民创造能力在国家发展中的重要作用。C项最符合作者的观点。故本题选C。

49. 【答案】A。解析：联系前文内容，即人们针对现代事物的品质产生了质疑，那么，其深层次便是质疑现代科技对食品带来的负面影响。由此可知，C项衔接最紧密，即如果证明“致癌的食物”和现代技术有关，那么，公众就更容易认同了。故本题选A。

50. 【答案】D。解析：本题只要抓住文段的关键词——“信息”，便可得出答案。文段把信息时代的企业比作一个完整的人，由“信息如神经”“信息流就是生命线，信息系统是神经系统”“如果信息可以一路顺畅，整个企业就能用一个大脑思考”等可知，文段强调的是信息系统对企业的重要意义。故本题选D。

51. 【答案】A。解析：文段共两句话，首句从诗人和知音两个角度谈论对诗的作用。第二句列举具体的诗词为例子，说明诗歌的意象经由吟诵后所产生的效果。那么，关键词应该是诗、知音和意象。故本题选A。

52. 【答案】B。解析：从“漏斗形”“夹角137.5度”“圆的黄金分割的弦角”“对数螺旋”等字眼，可知文段谈论的是叶片结构的数学规律对植物生长的有利作用。故本题选B。

53. 【答案】B。解析：文段共两句话，首句作为引子，抛出黑、白两种文化在流行音乐方面的融合。第二句话，提出论述主语牙买加，因其特殊的地理位置，成为融合的最大受益者，不仅是音乐，还有田径方面。故本题选B。

54. 【答案】D。解析：本题重点看文段第二句话，可以缩写为“只有……才……”的必要条件句子，

显然，只有 D 项是对该句的近义转换。故本题选 D。

55. 【答案】C。解析：A 项错误，文段指提到国际茶价历来绿茶高于红茶，并没有提及二者的供求关系；B 项错误，文段无从体现；C 项从未句可推知；D 项以偏概全，文段只提到印度、印尼和斯里兰卡上世纪 70 年代有“红改绿”的做法，并不是整个国际茶叶市场都呈现这一趋势。故本题选 C。

56. 【答案】A。解析：文段为总一分一总结构，分说部分从“老百姓”和“政府”两个角度，说明了货币国际化带来的好处，“因此”后为总结，即为什么许多国家的货币都“争先恐后”地走向国际化，其原因就是前文提到的“好处”。故本题选 A。

57. 【答案】C。解析：文段通过对外交官在对外交往中经常遇到的情况这个例子的说明，揭示了我国在对外传播和交往中存在的误区，即“无法精要地描述”我们古老的文明，而仅仅只是提出一些“战略框架和口号”。故本题选 C。

58. 【答案】C。解析：A、D 项说法无法从文段中推出，排除；B 项偷换概念，应该是“非文人艺术家”，而非“文人艺术家”。C 项从“中国文人已长时期主宰了绘声绘画讨论的空间”可得知。故本题选 C。

59. 【答案】A。解析：文段主要分析单纯依靠媒体监督是不合理的，所针对的对象应该是“媒体监督”，先排除 B、D 项。C 项没有体现文段中反复强调的“主要力量”“一枝独秀”“单纯依靠一种”等字眼，即文段并不在于讨论媒体监督的效果，而是讨论单纯依靠媒体监督的科学性，亦排除 C 项。故本题选 A。

60. 【答案】C。解析：先看选项，⑥“尽管”引导的让步复句，不能作为首句，先排除 D 项。再观察其他三项，可知③①衔接，⑥④衔接，再排除 B 项。根据逻辑关系，通常是在无法给出确切时间的情况下，才会给一个大概的时间，即③①应该在⑥④后面。故本题选 C。

61. 【答案】A。解析：先看选项，④“当然”通常用于对前面观点的补充论述，不能作为首句，先排除 B 项。再比较其他三项，⑥②衔接，⑤①衔接，只需确定④的位置。④是对前文关于“单纯推动总量意义”的转折补充论述，应在⑤①后。故本题选 A。

62. 【答案】B。解析：根据语意复现，③中的“这些长过半米的大石器”复现的是④中的“石磨盘”，故③在④后，排除 A、C 项；再根据时间顺序，①“商代以后”应在②“仰韶文化时期”之后，而⑤“此后”应紧接在①后，因此排除 D 项。故本题选 B。

63. 【答案】C。解析：文段前半部分比较文明和文化，转折词“但是”后面是作者的观点，即强调“文明不要压倒文化，‘同一’不要消灭‘差异’”，也就是强调保存文化的必要性。故本题选 C。

64. 【答案】B。解析：作者的观点在“因此”之后，即“发展中小企业的协会和服务组织，对中小企业的发展十分重要”，其后的内容是对这个观点的展开论述。B 项表述正确，D 项“竞争力”在文段中无从体现。故本题选 B。

65. 【答案】C。解析：文段阐述人们对“凉茶”“清热下火”认识的误区，意在表明有些凉茶可能并不具有“清热下火”的功能。B 项说法太宽泛，没有指出文段中反复提及的“清热下火”的内容。故本题选 C。

66. 【答案】B。解析：设小王步行速度为 1，则跑步速度为 2，骑车速度为 4。设 A 城、B 城之间的距离为 S，根据题意可知， $S/4+S/1=120$ （分钟），则 $S=96$ 。故小王跑步从 A 城到 B 城需要的时间为 $S/2=48$ （分钟）。故本题选 B。

67. 【答案】A。解析：设丙队在 A 工程参与了 X 天，根据题意可得： $6 \times 16 + 4X = 5 \times 16 + 4(16 - X)$ ，解得 $X=6$ 。故本题选 A。

68. 【答案】B。解析：泳池长 30 米，两人速度和为 90 米/分，则两人第一次相遇时所走的路程和应为 30 米，之后每隔 60 米相遇一次。1 分 50 秒即 $11/6$ 秒内两人共游了 $90 \times 11/6 = 165$ 米， $165 = 30 + 60 \times 2 + 15$ 最多可以相遇 3 次。故本题选 B。

69. 【答案】A。解析一：设去年男员工为 X 人，女员工为 Y 人，根据题意有： $X+Y=830$ ， $(1+5\%)Y=830+3$ ，

解得 $X=350$ 。则今年男员工有 $350 \times 94\% = 329$ 人。故本题选 A。

解析二：利用整除特性直接得出。今年男员工人数比去年减少 6%，即今年男员工数是去年的 94%，故今年男员工数可被 94% 整除，观察选项，只有 A 项符合。故本题选 A。

70. 【答案】A。解析：令原来总成本为 15，则原材料涨价后总成本变为 16，原材料价格也有所增加。设原材料价格为 x ，根据题意可得： $(x+1)/16 - x/15 = 2.5\%$ ，解得 $x=9$ ，则原产品的价格上涨了 $1/9$ 。故本题选 A。

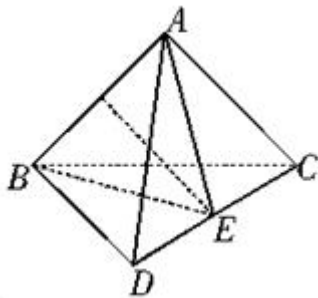
71. 【答案】C。解析：设一共有 10 件商品，折扣为 x ，则每件商品进价为 1000 元，定价为 1250 元。根据题意可得： $1250 \times 3 + 1250x \times 7 = 10000 - 1000$ ，解得 $x=0.6$ 。故本题选 C。

72. 【答案】D。解析：根据题意可知，共 4 人参加培训，则女职员可能有 4 人、3 人或 2 人参加。从两个科室选出 4 人，总共有 $C_8^4 = 70$ 种选法。其中，甲、乙中有一个科室 1 个人都没选的情况有 2 种；每个科室至少选一个，但是女职员比重低于一半的情况有 $C_4^4 + C_4^1 C_4^3 = 17$ 种，故满足题意的共有 $70 - 2 - 17 = 51$ 种选法。故本题选 D。

73. 【答案】B。解析：小赵休息了 2 局，即小钱和小孙打了 2 局，则小钱和小赵打了 $8 - 2 = 6$ 局，小孙和小赵打了 $5 - 2 = 3$ 局，则三人一共打了 $2 + 6 + 3 = 11$ 局。故小孙 11 局中休息了 6 局打了 5 局。由于不可能存在连续休息 2 局的情况，则小孙一定是休息 1 局打 1 局且第一局是休息的，因此第 9 局小孙休息，小赵和小钱打。故本题选 B。

74. 【答案】D。解析：不合格的共有 $8 + 10 + 9 - 7 - 2 \times 1 = 18$ 种，则合格品有 $52 - 18 = 34$ 种。故本题选 D。

75. 【答案】B。解析：当沿如图所示的方向进行切割时，切面最大。切面是腰长为 $\frac{\sqrt{3}}{2}$ ，底为 1 的等腰三角形，底边的高为 $\frac{\sqrt{2}}{2}$ ，切面面积为 $\frac{1}{2} \times \frac{\sqrt{2}}{2} \times 1 = \frac{\sqrt{2}}{4}$ 。故本题选 B。



76. 【答案】C。解析：利用十字交叉法可以求出 A、B 两部门人数之比和 B、C 两部门人数之比。

A 部门平均年龄 38 ———— (6) A 部门人数

B 部门平均年龄 24 ———— (8) B 部门人数

故 A、B 两部门人数之比为 3:4。

B 部门平均年龄 24 ———— (8) B 部门人数

C 部门平均年龄 42 ———— (10) C 部门人数

故 B、C 两部门人数之比为 4:5。则 A:B:C=3:4:5。设 A、B、C 三个部门的人数分别为 3、4、5，则该单位全体人员平均年龄为 $(38 \times 3 + 24 \times 4 + 42 \times 5) \div 12 = 35$ 岁。故本题选 C。

77. 【答案】B。解析：由题意可知，A 管每分钟比 B 管多进水 $180 \div 90 = 2$ 立方米。设 B 管每分钟进水 X ，则 A 管每分钟进水为 $(X+2)$ 。根据题意可得： $90 \times (X+X+2) = 160 \times (X+2)$ ，解得 $X=7$ 。故本题

选 B。

78. 【答案】D。解析：设全市人口为 x ，则 A 区人口为 $\frac{5x}{17}$ ，B 区人口是 A 区人口的 $\frac{2}{5}$ ，则 B 区人口为 $\frac{2}{5} \times \frac{5x}{17} = \frac{2x}{17}$ ，因此 C、D、E 三区的总人口为 $x - \frac{5x}{17} - \frac{2x}{17} = \frac{10x}{17}$ 。由 A 区人口比 C 区多三万人可知，C 区人口为 $(\frac{5x}{17} - 3)$ 。C 区人口是 D 区和 E 区总人口的 $\frac{5}{8}$ ，则有 $(\frac{5x}{17} - 3) + (\frac{5x}{17} - 3) \times \frac{8}{5} = \frac{10x}{17}$ 。解得 $x=44.2$ 。故本题选 D。

79. 【答案】B。解析：要使 30 度及以上的日子最多，则最热日的温度要尽可能低，为 30 度；最冷日的温度要尽可能低，为 20 度。设 30 度日子有 x 天，则 $[30x+20(30-x)]/30=28.5$ ，解得 $x=25.5$ ，因此 30 度及以上的日子最多有 25 天。故本题选 B。

80. 【答案】C。解析一：由题意可知，若排成 4 人一排的队列比 2 人一排的队列少 13 排，如果每排都排满人的话，设 4 人一排的有 x 排，则有 $4x=2(x+13)$ ，解得 $x=13$ 。此时总人数为 52 人，代入题干满足条件。则 5 人一排来排队的话，队列有 11 排。故本题选 C。

解析二：直接代入选项得出。经代入知，C 项 11 排是正确的，共有学生 52 人。故本题选 C。

81. 【答案】C。解析：题干前两行图形中，第一个图形逆时针旋转 90° 后，代表眼睛的两条曲线再翻转得到第二个图形，第二个图形逆时针旋转 90° 后，代表嘴巴的曲线再翻转得到第三个图形。第三行规律与之相反，第一个图形顺时针旋转 90° 后，代表嘴巴的曲线再翻转得到第二个图形，第二个图形顺时针旋转 90° 后，代表眼睛的两条曲线再翻转得到第三个图形。故本题选 C。

82. 【答案】D。解析：利用相邻关系可排除 A、B 项；C 项折叠方向错误，排除。故本题选 D。

83. 【答案】A。解析：题干第一个图形含有 1 个椭圆，第二个图形含有 2 个相同的半圆，第三个图形含有 3 个相同的五边形，第四个图形含有 4 个相同的梯形，第五个图形含有 5 个相同的三角形，则第六个图形应含有 6 个形同的小图形。观察选项，只有 A 项含有 6 个相同的长方形。故本题选 A。

84. 【答案】B。解析：第一组图形中前两个图形去同存异得到第三个图形，同理，第二组图形中前两个图形去同存异得到 B 项。故本题选 B。

85. 【答案】C。解析：第一组图形中内部图形的线条数比外部图形少，且重合边数分别为 0、1、2；第二组图形中内部图形的线条数比外部图形多，且重合边数分别为 0、1、(2)。故本题选 C。

86. 【答案】B。解析：每个图形包含的四个元素中有两个元素是相同的，①⑤⑥中两个相同元素分开交叉排放，②③④中两个相同元素并列排放。故本题选 B。

87. 【答案】B。解析：①④⑥中图形的对称轴为竖向，②③⑤中图形的对称轴为横向。故本题选 B。

88. 【答案】C。解析：①③④中小黑点在图形内部线条的两端，②⑤⑥中小黑点在图形内部线条的两侧。故本题选 C。

89. 【答案】D。解析：②③⑤中的两个图形相同，只是发生了旋转，①④⑥中的两个图形不相同。故本题选 D。

90. 【答案】A。解析：②④⑤中两个小黑点是连通的，①③⑥中两个小黑点是被隔开的。故本题选 A。

91. 【答案】D。解析：“社会人”假设的定义要点是“工作中”“人际关系”。A、B、C 项都没有提到工作中的人际关系。故本题选 D。

92. 【答案】D。解析：“顺应”的定义要点是“互动的双方或各方都调整自己的行为”。A 项只有王某调整了行为；B 项不存在“调整行为”；C 项只有上级工商部门调整；D 项两公司都作出了调整，符合定义。故本题选 D。

93. 【答案】B。解析：“体验营销”的定义要点是“亲身体验企业提供的产品或服务”。A、C、D 项都没有体验产品或服务；B 项“新产品试用”属于体验产品，符合定义。故本题选 B。

94. 【答案】B。解析：“行政指令”定义的主体是“行政主体”，“消费者协会”不是行政主体。

故本题选 B。

95. 【答案】D。解析：“政策性收益”的定义要点是“政策、法规的变动”“个体收益”。A项“市相关部门联合整治经营环境”并不是政策、法规的变动；B项显然不是政策、法规的变动；C项无法体现“个体收益”。故本题选 D。

96. 【答案】D。解析：“反应性相倚”的定义要点是：①“在沟通过程中”；②“沟通双方”；③“以对方的行为作为自己行为的依据”；④“不按照原来的计划进行沟通”。A项只涉及小明母亲的行为，不符合①②；B项王厂长仍然按照原计划完成了自己的发言，不符合③④；C项不存在“原来的计划”。故本题选 D。

97. 【答案】A。解析：“附款行政行为”的定义要点是“除行政法规明确规定外”“某种将来不确定事实或行为”。A项根据审批程序对一种特殊药物的批复，属于“某种将来不确定事实或行为”，符合定义。B、C项都是根据行政法规规定作出的行政行为；D项既不是行政行为也不是附款行政行为。故本题选 A。

98. 【答案】C。解析：“反向诱导”的定义要点是“导致了与预期相反的社会现象大量出现”。A项与预期相同；B项不是社会现象；D项看不出预期。只有C项本想传达近期不会停水的信息，结果反而使居民开始囤水，符合定义。故本题选 C。

99. 【答案】A。解析：“结构仿生设计”的定义要点是“研究生物体和自然界物质存在内部结构原理在设计中的应用问题”。B、C、D项都没有研究“内部结构原理”，排除。故本题选 A。

100. 【答案】D。解析：“非正式组织”的定义要点是：①“组织”；②“以感情、性格、爱好相投为基础形成的若干人群”；③“不受正式组织的行政管理部门和管理层次等的限制”。A、B项不是“组织”，不符合①；C项“校学生会文艺部”属于正式组织，不符合②③。故本题选 D。

101. 【答案】C。解析：按照航线飞行，按照提纲发言。故本题选 C。

102. 【答案】A。解析：根雕以树根为原材料，剪纸以纸张为原材料，两者都是从材料上去除多余部分制成的工艺品。故本题选 A。

103. 【答案】B。解析：“亦步亦趋”指没有主见，“优柔寡断”指不果断。故本题选 B。

104. 【答案】C。解析：导游是旅行社的员工，导游按既定行程导游；教师是学校的员工，教师按既定大纲讲课。故本题选 C。

105. 【答案】C。解析：车轮是汽车的组成部分，汽车的基本作用是运输；听筒是电话的组成部分，电话的基本作用是通话。故本题选 C。

106. 【答案】D。解析：患者在医院被治疗，罪犯在监狱被改造。故本题选 D。

107. 【答案】A。解析：屠夫用刀切肉，裁缝用剪刀剪布料。故本题选 A。

108. 【答案】D。解析：凤凰是吉祥的兆示；狼烟是外敌入侵的征兆。故本题选 D。

109. 【答案】C。解析：咖啡和绿茶都是饮料，音乐和绘画都属于艺术。故本题选 C。

110. 【答案】A。解析：比喻是一种表达方式，信件是一种沟通方式。故本题选 A。

111. 【答案】D。解析：论点：未来楼价调控的压力大；论据：目前成交量上涨。加强论证需要在“成交量”与“楼价”之间搭桥。D项“楼市成交量的增长会带动楼价的上涨”符合要求。故本题选 D。

112. 【答案】C。解析：论点：怀孕母亲在头几个月接触杀虫剂较多，则婴儿智力差；论据：杀虫剂影响胎儿大脑周围的环境。C项说明杀虫剂会导致孕妇甲状腺问题，而甲状腺状况影响胎儿智力发育，即杀虫剂影响胎儿发育的环境，影响胎儿智力发育，加强了论点。故本题选 C。

113. 【答案】B。解析：题干可以翻译为：了解他人=>了解自己；被信赖=>了解他人。则被信赖=>了解自己，-了解自己=>-被信赖。故本题选 B。

114. 【答案】D。解析：论点：恐龙死于慢性中毒。论据：化石内有毒元素比现代陆生动物高出几百甚至上千倍。A项说明化石内的毒素来自于恐龙死亡后，削弱了论点；B项说明化石内还有很多相应的解毒元素，因此可能不是死于中毒，削弱了论点；C项说明是自然死亡，属于他因削弱；D项属于无

关项。故本题选 D。

115. 【答案】C。解析：题干可翻译为：经济保持着稳定的增长速度=>大多数商品和服务的价格上涨；涨幅在较小区间内=>不会有负面影响。A 项肯定后件，不能肯定前件；B 项否定前件，不能否定后件；C 项符合否定后件必否定前件；D 项否定前件，不能否定后件。故本题选 C。

116. 【答案】B。解析：由“B 车昨天限行”可知昨天不是周六或周日，那么，今天不是周日或周一；由“E 车周四限行”“E 车明天可以上路”可知明天不是周四，那么，今天不是周三。假设今天是周二，则 B 车周一限行，而 A、C 两车周二、周三、周四、周五都不限行，显然不成立；假设今天是周四，则 B 车周三限行，A、C 两车周四、周五不限行，因此在周一或周二限行，D 车周五限行，符合题干要求；假设今天是周五，则 B 车周四限行，与 E 车重叠，不符合题意；假设今天是周六，则 B 车周五限行，A、C 两车周六、周日、周一、周二都不限行，即 A、C 两车都在周三限行，不符合题意。因此，今天是周四。故本题选 B。

117. 【答案】D。解析：论点：原油价格上涨不是供求关系引起的，而是国际投机资本炒作的结果；论据：2000 年上半年~2008 年上半年原油期货价格年均增长 20%，而同期世界经济年均增长率在 5%左右，世界石油消费需求并没有出现跳跃式的、急剧的增长。A 项说明战略储备影响了供求关系，削弱了论点；B 项解释了数据差异产生的原因，削弱了论点；C 项“石油需求变化率和石油价格变化率并不对称”说明有差异是正常的，削弱了论据，从而削弱论点；D 项谈论的是“风险”，属于无关项。故本题选 D。

118. 【答案】C。解析：论点：喝酸奶可降低儿童蛀牙的风险。论据：一是对比黄油、奶酪和牛奶没预防蛀牙效果；二是酸奶中的蛋白质能预防蛀牙。A 项只说明黄油、奶酪和牛奶对儿童牙齿的防蛀效果不明显，不能支持论点；B 项直接削弱了论点；C 项通过数据说明食用酸奶确实可降低蛀牙发生率，支持论点；D 项“许多国家的科学家都在研究”并不能说明酸奶的作用，不能支持论点。故本题选 C。

119. 【答案】C。解析：题干中的现象是：适龄儿童须接种麻疹疫苗，且适龄儿童必须接受义务教育，但在 2000 年到 2010 年间，S 市接受义务教育的儿童总数与接种麻疹疫苗的儿童总数下降程度不同。图中显示，M 曲线所示的 S 市接受义务教育的儿童总数下降速度比 P 曲线所示的在 S 市接种麻疹疫苗的儿童数量的下降速度慢。A 项中 M 曲线和 P 曲线的关系与题干相反；B 项错误，N 曲线所示的新生儿总数下降程度也大于 M 曲线所示的接受义务教育的儿童总数的下降程度，说明这些年间，在 S 市接受义务教育的儿童中有些不在 S 市出生，跟 S 市的父母有没有按规定给自己的孩子接种麻疹疫苗没有关系。C 项说明在 S 市接受义务教育的儿童中，包含了不在 S 市接种麻疹疫苗的儿童，从而导致在 S 市接受义务教育的儿童数量要多于在 S 市接种麻疹疫苗的儿童数量，使 M 曲线的下降程度小于 P 曲线。D 项无法解释 P 曲线和 M 曲线下降程度不同的原因。故本题选 C。

120. 【答案】A。解析：专家的观点是：极地浮冰上的黄色冰块不是人类污染导致的，而是生长着的一种黄褐色的冰藻所致。A 项“在新生冰块上形成冰藻需要多年”，则当年的新生冰块上出现这种黄色冰块，显然不是冰藻所致，削弱了专家的观点。其余几项都不能削弱专家观点。故本题选 A。

121. 【答案】C。解析：根据文段可知，稻谷增产量为 $\frac{68501.3}{1+14.3\%} \times 14.3\%$ ；小麦增产量为 $\frac{68994.6}{1+17.8\%} \times 17.8\%$ ；玉米增产量为 $\frac{82271.0}{1+39.1\%} \times 39.1\%$ ；大豆增产量为 $\frac{23095.3}{1+43.2\%} \times 43.2\%$ 。通过估算，可知玉米增产量最多。故本题选 C。

122. 【答案】D。解析：根据图表可知，中国产量排名第一的为稻谷，产量增长率为 1.9%；美国产量排名第一的为玉米，产量增长率为 22.0%；印度产量排名第一的为稻谷，产量增长率为 16.3%；巴西产量排名第一的为大豆，产量增长率为 83.0%。故本题选 D。

123. 【答案】D。解析：2000 年中国稻谷产量为 $\frac{19335}{1+1.9\%}$ ，2000 年世界稻谷总产量为 $\frac{68501.3}{1+14.3\%}$ 。则

2000 年中国稻谷产量占世界稻谷总产量的比重为 $\frac{19335}{1+1.9\%} \div \frac{68501.3}{1+14.3\%} \approx 32\%$ 。故本题选 D。

124. 【答案】C。解析：2000 年中国、印度、美国、巴西四国玉米产量分别为 $\frac{16604}{1+56.4\%}$ 、 $\frac{1929}{1+60.2\%}$ 、 $\frac{30738}{1+22.0\%}$ 、 $\frac{5902}{1+85.1\%}$ 。产量最高的是美国，产量最低的是印度， $\frac{30738}{1+22.0\%} \div \frac{1929}{1+60.2\%} \approx 21$ 。故本题选 C。

125. 【答案】A。解析：根据图可知，美国大豆产量为 8054 万吨，其他三个国家总产量大约为 8450 万吨，世界总量为 23095.3 万吨，则不可能有其他国家超过美国，A 项正确；巴西玉米产量增长率(85.1%)>世界玉米产量增长率(39.1%)，则巴西玉米产量占世界总产量的比重提高，B 项错误；世界小麦产量只有 68994.6 万吨，中国增产 900 多亿吨明显不可能，C 项错误；根据图可知，印度稻谷产量为 14826 万吨，小麦产量为 7857 万吨， $14826 \div 7857 < 2$ ，D 项错误。故本题选 A。

126. 【答案】B。解析：由第一段“2010 年上半年，全国原油产量为 9848 万吨，同比增长 5.3%，上年同期下降 1%”可知，2010 年上半年比 2008 年同期的增长率应略小于 5.3%，只有 B 项 4.2% 相符。故本题选 B。

127. 【答案】B。解析：由第二段“2010 年上半年成品油表观消费量 10963 万吨，同比增长 12.5%”可知，同比增长量为 $\frac{10963}{1+12.5\%} \times 12.5\% \approx 1218$ 。故本题选 B。

128. 【答案】D。解析：由第三段“2010 年 6 月份，布伦特原油平均价格为 75.28 美元/桶，比上月回落 1.75 美元/桶”可知，2010 年 5 月平均价格为 $75.28+1.75=77.03$ 美元/桶。故本题选 D。

129. 【答案】A。解析：由第五段“2010 年 1~5 月，石油石化行业实现利润 1645 亿元，同比增长 76.4%，上年同期为下降 35.4%。其中，石油天然气开采业利润 1319 亿元，同比增长 1.67 倍”可知，2009 年 1~5 月，石油天然气开采业利润占石油石化行业实现利润的比重为 $\frac{1319}{1+1.67\%} \div \frac{1645}{1+76.4\%} \approx 53\%$ 。故本题选 A。

130. 【答案】B。解析：2009 年上半年，全国原油进口量为 $\frac{11797}{1+30.2\%} \approx 9061$ (万吨)，原油产量为 $\frac{9848}{1+5.3\%} \approx 9352$ (万吨)，产量高于进口量，A 项错误；2009 年上半年，汽油产量同比增长率为 $6\%+7.9\%=13.9\%$ ，柴油产量同比增长率为 $28.1\%-15.8\%=12.3\%$ ，汽油产量同比增长率高于柴油，B 项正确；C 项无法从原文中推出；2009 年上半年，全国天然气产量同比增长 $10.8\%-3.2\%=7.6\%$ ，D 项错误。故本题选 B。

131. 【答案】A。解析：由文段可知，2010 年一季度，水产品出口额为 26.5 亿美元，同比增长 24.9%。故 2010 年一季度，我国水产品出口额比上年同期增长了 $\frac{26.5}{1+24.9\%} \times 24.9\% \approx 5.3$ 亿美元。故本题选 A。

132. 【答案】C。解析：读表可直接得出。由表 1 可知，按进口量从小到大排序为挪威—日本—智利—美国—东盟—秘鲁—俄罗斯，只有 C 项符合。故本题选 C。

133. 【答案】C。解析：2010 年一季度，我国与美国水产品进出口贸易额占我国水产品进出口贸易总额的比重为： $\frac{1.13+4.66}{40.9} = 14.2\%$ 。故本题选 C。

134. 【答案】A。解析：由表 2 可知，2012 年一季度，我国对这四个国家或地区出口水产品平均单价分别为：日本： $\frac{6.45}{13.24} \approx 0.49$ ；美国： $\frac{4.66}{10.72} \approx 0.43$ ；欧盟： $\frac{3.71}{10.68} \approx 0.35$ ；韩国： $\frac{3.04}{10.30} \approx 0.30$ (单位均为亿美元/万吨)。可见最高的是日本。故本题选 A。

135. 【答案】B。解析：A 项无法得出；2009 年一季度，日本进口我国水产品为 $\frac{13.24}{1+8.27\%}=12.23$ （万吨），美国进口我国水产品为 $\frac{10.72}{1+3.05\%}=10.40$ （万吨），日本多于美国，B 项正确；2010 年一季度，我国从秘鲁进口水产品的进口额比上年同期有所增加，进口量比上年同期有所下降，因此平均单价比上年同期有所上升，C 项错误；2009 年一季度，我国对东盟水产品进口额为 $\frac{1.20}{1+32.40\%}=0.91$ （亿美元），出口额为 $\frac{1.73}{1+19.43\%}=1.45$ （亿美元），进口额 < 出口额，为顺差，D 项错误。故本题选 B。

历年国家公务员考试《行测》真卷分析

国家公务员考试，指中央、国家机关公务员考试，考试时间相对比较固定，一般集中在10~11月份，简称“国考”。国考是国家部、委、署、总局招考在中央国家机关的工作人员的一种方式，招考条件相对比较苛刻、严格，一般均要求全日制本科应届、历届毕业生，部分职位要求硕士研究生和英语四级、计算机二级。

与往年不同，2015年国考《行测职业能力测验》科目发生重大调整，即不再采用同一份试卷，而是和申论一样，实现分级分类考试，省级以上机关和市地级以上机关职位分别命制试题。尽管如此，通过对2015年《行测》真题试卷的研究分析，可以发现，两类试卷在命题趋势和考点设置上并没有太大区别。

下面以历年真题试卷为例，具体分析历年国考《行测》科目的题型和题量分布特点。如下表所示：

2011~2015年国家公务员录用考试《行测》试卷题型及题量分布情况表

题 量 题 型		年 份					
		2011年	2012年	2013年	2014年	2015年	
						地市级	省部级
常识判断		25	25	20	20	20	20
言语理解 与表达	逻辑填空	20	20	20	20	20	20
	片段阅读	20	20	20	20	20	20
数量关系		15	15	15	15	10	15
判断推理	图形推理	10	10	10	10	10	10
	定义判断	10	10	10	10	10	10
	类比推理	10	5	10	10	10	10
	逻辑判断	10	10	10	10	10	10
资料分析		15	20	20	20	20	20
总 计		135	135	135	135	130	135

由上表可知，国考《行测》科目在题型和题量分布上都相对稳定，分为常识判断、言语理解与表达、数量关系、判断推理和资料分析五大模块；题量都稳定在135题。2015年实行分级分类考试后，在题量上，地市级比省部级少了5题，个别题目也有所更换，但总的来说，两份试卷的相似度极高。

综上所述，国考《行测》科目的命题方向基本保持不变，每个模块的题量自2013年以来也保持相对稳定。展鸿教育教研组预测，2016年国考《行测》科目还将沿袭2015年分级分类的考试形式，两类试卷的区分度也不会太大，题量依旧稳定在130~135题之间。

考生在备考国考时，必须以历年真题为本，准确把握五大模块各个题型的考查重点，切实掌握各考点的解题技巧。此外，还需要制定符合自身的练习和复习计划，不断进行经验总结和模考训练，如此方能有所收获，最终在国考中一举成功！