

江山模拟卷十六

一、言语理解与表达

1. “自由想象力崇拜”的背后，是“顿悟崇拜”。这种思想认为，一般人终日被自己的知识所_____，而一旦跳出就能取得重大突破。费曼说，相对论流行以后，很多哲学家跳出来说：“坐标系是相对的，这难道不是最自然的哲学要求吗？这个我们早就知道了！”可是如果你告诉他们光速在所有坐标系下不变，他们就会_____。

依次填入划横线部分最恰当的一项是（ ）。

A. 束缚 目瞪口呆 B. 羁绊 怅然若失 C. 钳制 呆若木鸡 D. 禁锢 追悔莫及

2. 某市推出“自住型商品房”，意在_____涨价预期，但由于自住型商品房用地进一步_____了普通商品房用地，使得商品房地价一再上涨。

A. 平抑 缩减 B. 制止 挤压
C. 抑制 压缩 D. 平抑 挤压

3. ①《国家通用语言文字法》_____了，我们要认真学习、宣传和贯彻、实施它。

②国家鼓励各民族互相学习语言文字，国家_____普通话，_____规范汉字。

③这是共同的道理，古今中外，_____。

A. 颁布 推广 推行 未能免俗
B. 公布 推行 推广 概莫能外
C. 颁布 推广 推行 概莫能外
D. 公布 推行 推广 未能免俗

4. 纵观世界范围内的装饰艺术，每个国家都有其自身传统的经典装饰绘画门类。我们都知道埃及绘画中那_____的人物造型和姿态：侧面的头、四肢，正面的身体，还有动物和花卉的形态。在埃及绘画中，没有一样东西使人感觉没有计划，没有一样东西似乎可以挪动位置。就是这种_____的秩序感，使埃及人把形式美发挥到了极致。

依次填入划横线部分最恰当的一项是（ ）。

A. 神奇 严格 B. 虚构 绝对 C. 独特 强烈 D. 固定 天生

5. 《关于消耗臭氧层物质的蒙特利尔协定书》是对消耗臭氧层的物质进行具体控制的全球性协定。该协定书实施以来，破坏臭氧层的氟氯化碳等气体在大气中的丰度逐渐降低。最近，由36个国家的近300位科学家对地球臭氧层进行了一项_____，结果显示，根据该协定书采取的行动正在帮助臭氧层_____到1980年的基准水平。

依次填入划横线部分最恰当的一项是（ ）。

- A. 评估 恢复
- B. 测评 还原
- C. 评价 回复
- D. 测试 复原

6. 围棋被人们形象地比喻为黑白世界，在古代称作对弈。由围棋的思维方式和行棋方式来看，它与古代哲学有着密切关系。后来，围棋也成为培养军人才能的重要工具，许多著名的军事家都对盘式、招法。随着围棋传遍大江南北，围棋名人的增多，_____也不断见于史载，常为人所乐道。

依次填入划横线部分最恰当的一项是（ ）。

- A. 了然于胸 掌故
- B. 胸有成竹 典故
- C. 滚瓜烂熟 逸事
- D. 烂熟于心 趣闻

7. 石油峰值论认为，石油产量会达到最高点，之后不可避免地开始下降。石油峰值几乎是确定的事，但仍然存在两个问题：它究竟何时出现？世界是否能够及时研发出代替能源？_____的观察家并不相信石油峰值会在2020年前出现，但一些石油公司承认他们此前夸大了地下石油储量。因此。这更引起人们的_____：我们可能已经过了这个峰值。

依次填入划横线部分最恰当的一项是（ ）。

- A. 乐观 担忧
- B. 激进 争议
- C. 冷静 怀疑
- D. 理智 恐慌

8. 中国梦是全国各族人民的共同理想，也是青年一代应该牢固树立的远大理想。只有每个人都为美好梦想而奋斗，才能_____起实现中国梦的_____力量，才能实现中华民族的伟大复兴。

- A. 积聚 磅礴
- B. 汇聚 庞大
- C. 积聚 庞大
- D. 汇聚 磅礴

9. 18世纪以后，由科学革命、工业革命和政治革命构成的_____反应给予欧洲资本主义以不可阻挡的_____；至1914年，欧洲列强在世界大部分地区建立的霸权，深刻地影响着殖民地和半殖民地社会的经济生活和社会结构。而欧洲之所以能够实现这种前所未有的_____，是因为其现代化进程一直在继续和加速。

依次填入划横线部分最恰当的一项是（ ）。

- A. 连串 生命力 发展
- B. 连锁 推动力 扩张
- C. 系列 助推力 拓展
- D. 连续 催化剂 扩展

10. 党和国家机关工作人员在国内交往中，_____收受_____影响公正执行公务的礼品馈赠，因为各种原因_____拒收的礼品，_____登记上交。

依次填入划横线部分最恰当的一项是（ ）。

- A. 不能 可能 未能 一定
- B. 不该 或许 没有 务必
- C. 不应 或许 没有 应该
- D. 不得 可能 未能 必须

11. 下列各句中，没有歧义的一句是（ ）。

- A. 南京某幼儿园是否给孩子喂药的问题，园方负责人已在记者招待会上予以否认

B. 剧组全体成员经过一年零三个月的苦战，一个形式新颖、制作精良的优秀节目中国好歌曲终于和观众见面了

C. 李敏镐的到场令在场的无数观众尖叫不已，找他签名合照的观众将他围堵了20多分钟

D. 从2012年1月1日起，34个电视上星综合频道要提高新闻类节目播出量，同时对部分类型的节目播出实施调控，以防止过度娱乐化或低俗倾向

12. 下列各句中，没有语病的一项是（ ）。

A. “快捷、健康、简约”，正成为中国公务活动用餐的新惯例。公务用餐改革正在推动中国掀起“餐桌革命”，倒逼高档餐馆努力转型

B. 胃癌似乎偏爱于上班族，不少上班族患上胃癌。上班族经常不能定时吃饭，即使吃饭也是狼吞虎咽的，而导致胃癌的原因就是这些吃饭的方式造成的

C. 由于环境保护压力的增大、能源需求的增加，天然气作为“对环境友好”的能源，其地位冉冉升起

D. 两会期间，奥巴马表示支持“强势美元”政策，但这究竟是出于国内政治需要还是真正要采取断然措施，西方评论家对此的看法是否定的

13. 把下面几个句子组成语意连贯的一段文字，排序正确的一项是（ ）。

(1) 后母戊鼎的铸造，充分说明商代后期的青铜铸造不仅规模宏大，而且组织严密，分工细致

(2) 鼎身共使用8块陶范，每个鼎足各使用3块陶范，器底及器内各使用4块陶范

(3) 铸造此鼎，所需金属材料超过1000千克

(4) 显示出商代青铜铸造业的生产规模与杰出的技术成就，足以代表高度发达的商代青铜文化

(5) 根据铸痕观察，鼎身与四足为整体铸造

(6) 后母戊鼎的铸造工艺十分复杂

(7) 鼎耳则是在鼎身铸成之后再装范浇筑而成

(8) 而且，制作如此的大型器物，在塑造泥模、翻制陶范、合范灌注等过程中，存在一系列复杂的技术问题，同时必须配备大型熔炉

A. 1-5-2-7-3-6-8-4 B. 1-3-2-5-7-6-8-4 C. 6-3-2-5-7-1-8-4 D. 6-5-2-7-3-8-1-4

14. 下列各句中，没有语病的一项是（ ）。

A. 北京的雾霾天气持续了近一个月，中国机动车污染防治委员会副主任说，政府的当务之急就是在于控制好那些尾气超标数十倍的车辆

B. 今年仍是“民生改善年”，我市八个调研组分别深入到各区县、社区和居民家中，听取群众意见，充实、完善和修改为民办实事的具体方案

C. 面对每逢节日快递运力紧张的局面，我国快递业应尽快提高从业人员的本地化比例，将采用加盟模式的民营快递企业转型为自营为主的模式

D. 正如远缘杂交可培育出品质更为优秀的后代一样，表面上隔行如隔山的不同专业、不同学科的交流，往往能撞击出天才的思想火花

15. 以中国文人传统，艺术鉴赏从来讲究私藏和私赏，除去拜师，递藏是习得书画和精进技艺的重要途径。“雅集”就是古代文人常见的聚会形式，尤其北宋李公麟绘画、米芾题记的驸马王诜的“西园

雅集”成为后来历代画家摹绘的母题。雅集主人多为书画大家或文坛领袖，选个合意的日子，将同门好友召集到宅第花园，摆酒吟诗，谈书品画。主人手里若是没有几件值得观赏的收藏，怎能应付得来这样的场面？

这段文字主要说明了（ ）。

- A. 古文人画士的高雅情趣
- B. 雅集是书画的主要母题
- C. 艺术鉴赏的方法与途径
- D. 艺术鉴赏需要适量藏品

16. 凡是到达了的地方，都属于昨天。哪怕那山再青，那水再秀，那风再温柔。太深的流连变成了一种羁绊，绊住的不仅仅有双脚，还有未来。没见过大山的巍峨，真是遗憾；见了大山的巍峨没见过大海的浩瀚仍然是遗憾；见了大海的浩瀚没见过大漠的广袤，依旧是遗憾；见了大漠的广袤没见过森林的神秘，还是遗憾。

这段文字作者意在说明（ ）。

- A. 风光无限，在昨日更在明天
- B. 昨日已然过去，可怀念不可流连
- C. 只有不断出发，未来的精彩才会继续
- D. 最美的风景，不是终点，而是在路上的自己

17. 大多数桥梁是向公众开放的。尽管一些桥梁要收取通行费，但是对于绝大多数车辆来说并不禁止通行。然而，多数网络系统对公众却是不开放的。原因显而易见——这些网络系统是用来储存和处理个人通信、财务数据、医疗记录和商业秘密等敏感信息的，这些信息都跟个人和机构密切相关。

这段文字重在说明（ ）。

- A. 大多数桥梁向公众开放的事实依据
- B. 桥梁和网络在开放程度方面的差别
- C. 网络系统的存储功能及其基本特点
- D. 多数网络系统对公众关闭的合理性

18. 在不同的时期，约有7000种植物和几百种动物被人类当作食物。物种的丧失将使食物的多样性减少，使人类仅仅依赖个别几种主要的食物，从而打破人们均衡的饮食结构。此外，随着森林、田野中物种的丧失可能导致某些病原体的增加，而这些病原体是有机体感染疾病的元凶。一些最有可能灭绝的动物、植物和微生物，实际上是传染病传播的“缓冲区”，它们在人类受到感染之前，代人类承担了许多疾病的侵袭。

下列说法与原文不符的是（ ）。

- A. 特有物种能够缓冲传染病的传播
- B. 生物多样性的丧失影响人类健康
- C. 物种的丧失危及人类食品的安全
- D. 物种多样性与疾病感染关系微妙

19. 古文明一般形成于中纬度大河沿岸的内陆地区，适宜的气候，肥沃的土壤条件较适宜于人类活动。而随着科学技术的发展，这些要素逐渐被弱化，人类活动已经从内陆转向沿海，出现了现代沿海向内陆的经济梯度。对比古文明与现代沿海文明的环境差异，其中最核心的是交通和可接近性对相关环境要求的改变。但高速公路和铁路等陆上交通的发展，又使内陆地区发展进入新机遇。

根据文段，可以得出的结论是（ ）。

- A. 不同时期文明对环境要素的要求不同
- B. 环境要素是某一时期文明形成至关重要的要素
- C. 科学技术的发展能改变某一时期文明对环境要素的要求
- D. 交通能够在不同时期给某一区域的发展带来新机遇

20. 近来，随着一批高替代性的“情感机器人”面世，做出简单的情感互动已经不再是制造情感机器人的最大挑战。空巢老人、自闭儿童和病患等社会问题的呈现使越来越多的商家看好“互动型”“陪伴型”机器人的未来市场。但是，独居老人无人陪伴，孩子在家无人照料，用机器人陪伴的方式解决而不是增加对人的关怀和陪伴，就像科学家为保护医生而研制“防砍制服”，从短期来看似乎是个令人振奋的好方法，但由此可能引发人们的情感错位、社会问题被加倍漠视以及机器人进一步类人而导致的伦理问题都需要提前考量。

这段文字的主要内容是（ ）。

- A. 很理解客户对情感机器人的需求
- B. 关注情感机器人的“陪伴”功能
- C. 赞赏不断突破难题的机器人技术
- D. 质疑靠情感机器人解决社会问题

21. 立法者希望通过法律文本语言向社会传递其价值立场，而要准确理解和严格遵守法律语言背后的价值立场，就需要对法律文本语言进行解释。因为以一般的、抽象的形式表达出来的法条最终需要适用于特殊的具体个案。法官需要解决的一个前提性问题就在于，该具体情形是否属于一般性规定所涵摄的范围，而回答这一问题的过程本身就是一个解释的过程。

这段文字着重强调的是（ ）。

- A. 法律解释的必要性
- B. 法律文本应通俗易懂
- C. 法官应准确理解法条
- D. 法条适用个案需具体化

22. 英国国家船舶博物馆里停泊着这样一艘船：它1894年下水，在大西洋上曾138次遭遇冰山、116次触礁、13次起火、207次被风暴折断桅杆。使这艘船名扬天下的是一名来此观光的律师。当时，他刚打输了一场官司，委托人也于不久前自杀了。每当遇到这样的事情，他总有一种负罪感，不知该怎样安慰这些不幸的人。当他看到这艘船时，忽然有一种想法，为什么不让他们来参观参观这艘船呢？于是，他就把这艘船的历史抄下来，连同这艘船的照片一起挂在他的律师事务所里，每当有委托人请他辩护，无论输赢，他都建议他们去看看这艘船。

这段文字的主旨是（ ）。

- A. 放下心中的包袱才能前行
- B. 要勇敢地告别过去
- C. 生活中遭遇挫折是不可避免的
- D. 失败是成功之母

23. 大家都知道生物多样性对于保护地球生态环境是非常重要的，但我们的眼光都被那些肉眼可见的植物所吸引，完全忘记了地球上最大的生物多样性宝库其实是属于微生物的，而且它们的作用要比动植物大得多。举例来说，海洋吸收了大气中至少一半的二氧化碳，这一吸收过程非常复杂，有大量微生物的参与，但人类对它们情况了解的极少，因此也就很难预测它们会对气候变化做出怎样的反应。幸运的是，随着DNA测序技术的改进，科学家们终于开始进入这个神秘的微观世界了。

这段文字接下来最可能讲述的是（ ）。

- A. DNA测序技术在微生物观测中的应用
- B. 微生物在海洋吸收二氧化碳过程中的作用
- C. 对生物多样性的重新认识具有现实意义
- D. 微生物的活动与气候变化之间的关系

24. 目前，在我国各地，养老问题的管理工作分散在老干部局、民政局、人力资源和社会保障局、医疗卫生部门、老龄办等多个部门和单位。此外，妇联、青联、公会、残联等机构也或多或少地介入了养老的服务保障和管理工作。

对我国养老管理工作描绘最准确的一项是（ ）。

- A. 多龙治水 B. 三个和尚没水吃 C. 二龙戏珠 D. 僧多粥少

25. 西方模式的契约由来已久，是一种刚性的经济契约。管理思想家杏尔斯·汉迪认为，西方契约问题很多，而“中国式契约”可以创造信任、让步、发展的“双赢局面”。“中国式契约”特指那种充满人情味的非正式的心理契约，是人情和法律的妥协，是熟人之间一种动态的、心照不宣的口头约定。但随着经济发展，口头承诺可信度受到挑战。

随着经济发展，中国式契约的最大挑战在于（ ）。

- A. 中国式契约简便灵活，适用广泛，但可信度不高
 B. 中国式契约不受法律的强制约束，也没有法律作保障
 C. 中国式契约要双方诚信，一旦毁约后果无法挽回
 D. 中国式契约双方要妥协互利，要确保双赢前景

二、数量关系

26. 7 14 28 56 ()

- A. 110 B. 112 C. 114 D. 119

27. 4 9 16 25 ()

- A. 36 B. 49 C. 64 D. 76

28. 3, 4, 5, 6, 8, ()

- A. 9 B. 10 C. 12 D. 15

29. -4, 0, 24, 80, ()

- A. 120 B. 132 C. 158 D. 180

30. $\sqrt{2}$, $\frac{3}{2}$, $\frac{2\sqrt{7}}{3}$, $\frac{\sqrt{65}}{4}$, ()

A.

$$\frac{\sqrt{126}}{5}$$

B.

$$\frac{7\sqrt{5}}{5}$$

C.

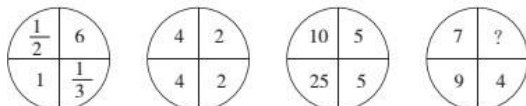
$$\frac{4\sqrt{6}}{5}$$

D.

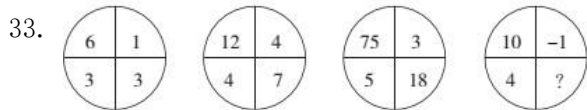
$$\frac{\sqrt{343}}{5}$$

31. 4, 7, 10, 16, 34, 106, ()

- A. 466 B. 428 C. 396 D. 374

32. 

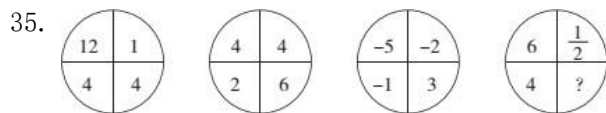
- A. 3 B. 6 C. 9 D. 12



- A. $\frac{1}{2}$
 B. $\frac{3}{2}$
 C. $\frac{5}{2}$
 D. $\frac{7}{2}$

34. 2 6 16 44 () 328

- A. 120 B. 110 C. 108 D. 104



- A. 1 B. 2 C. 3 D. 4

36. 甲、乙、丙三个植树队同时各种400棵树，当甲队把400棵树全部种完时，乙队还有150棵树没种，丙队才种了220棵树。当乙队全部种完时，丙队还有多少棵树没种？ ()

- A. 48 B. 52 C. 66 D. 74

37. 某地举办铁人三项比赛，全程为51.5千米，游泳、自行车、长跑的路程之比为3:80:20。小陈在这三个项目花费的时间之比为3:8:4，比赛中他长跑的平均速度是15千米/小时，且两次换项共耗时4分钟，那么他完成比赛共耗时多少？ ()

- A. 2小时14分 B. 2小时24分 C. 2小时34分 D. 2小时44分

38. 某饮料店有纯果汁（即浓度为100%）10千克，浓度为30%的浓缩还原果汁20千克。若取纯果汁、浓缩果汁各10千克倒入10千克纯净水中，再倒入10千克的浓缩还原果汁，则得到的果汁浓度为 ()。

- A. 40% B. 37.5% C. 35% D. 30%

39. 某运动品牌商城举行节日促销，顾客购物满368元即可获赠一张面值为100元的代金券，该代金券可在下一次消费时用于购买单件价格在129元以上的商品。小张想在该商城购买4件商品，价格分别为 299元、199元、119元、69元，则他至少需要支付 () 元。

- A. 386 B. 486 C. 586 D. 686

40. 针对100名旅游爱好者进行调查发现，28人喜欢泰山，30人喜欢华山，42人喜欢黄山，8人既喜欢黄山又喜欢华山，10人既喜欢泰山又喜欢黄山，5人既喜欢华山又喜欢泰山，3人喜欢这三个景点，则不喜欢这三个景点中任何一个的有 () 人。

- A. 20
 B. 18
 C. 17
 D. 15
 E. 14
 F. 13

G. 12

H. 10

41. $\frac{1}{\sqrt{2}+\sqrt{1}}+\frac{1}{\sqrt{3}+\sqrt{2}}+\frac{1}{\sqrt{4}+\sqrt{3}}+\dots+\frac{1}{\sqrt{16}+\sqrt{15}}$ 的值是 ()。

A. $\sqrt{2}$

B. 2

C. $\sqrt{8}$

D. 3

42. 某电商准备在“双十一”囤积一批货物，前10天囤积了 $\frac{1}{3}$ ，后来改进了工作方式，效率比原来提高了25%，这样，完成全任务比原计划提前的天数为 ()。

A. 4

B. 7

C. 6

D. 5

43. 编号为1~50的选手参加一个爬楼比赛，楼高为60层。所有选手在第1层均获得一个特别的号牌，此后每经过一个楼层，如果选手的编号正好是楼层数的整数倍，就将得到一个特别的号牌。所有选手都到达终点后，正好持有3个特别号牌的选手有多少人？ ()

A. 1

B. 4

C. 7

D. 10

44. x

若任意正整数x和y，定义 $x \oplus y = 2x + y$ ， $x \otimes y = y$ ，则 $1 \oplus (2 \otimes 3) = ()$ 。

A. 10

B. 11

C. 64

D. 81

45. 小张购买了2个苹果、3根香蕉、4个面包和5块蛋糕，共消费58元。如果四种商品的单价都是正整数且各不相同，则每块蛋糕的价格最高可能为多少元？ ()

A. 5

B. 6

C. 7

D. 8

46. 长江上游A港与下游S港相距270千米，一轮船以恒定速度从A港到S港需要6.75小时，而返回需要9小时，则长江的水流速度是 ()。

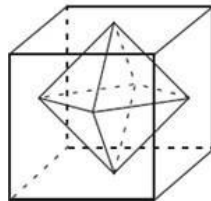
A. 7千米/小时

B. 6千米/小时

C. 5千米/小时

D. 4.5千米/小时

47. 连接正方体每个面的中心构成一个正八面体(如下图所示)。已知正方体的边长为6厘米，问正八面体的体积为多少立方厘米？ ()



A. 18

B. 24

C. 36

D. 72

48. 某大学音乐系学生在学校礼堂举行音乐会，第一场音乐会前三排位置的座位票价是每张10元，其他座位的票价是6元，全场的营业收入为2040元；第二场音乐会第四排位置的座位票价也被提升到每张10元，全场的营业收入为2120元。如果两场音乐会都满座，而且每一排的座位数量也都一样，那么该礼堂一共有 () 座位。

A. 300个

B. 320个

C. 480个

D. 500个

61. 定期运动不仅能让孩子打下健康的基础，而且成年后可能收入更高。芬兰学者在一项始于1980年、持续30年的研究中发现，相比童年很少锻炼的人，在9岁、12岁、15岁时经常参加体育锻炼的人成年以后在为期10年的时间内平均收入提高12%至25%。即使考虑个人和家庭背景等因素，这个研究也成立。但是，研究结果也显示，这种关联只针对男性群体，在女性群体中没有观察到这种关联。

如果以下哪项为真，最能支持上述结果？（ ）

- A. 政府应为不同经济社会背景的儿童提供参与体育活动的平等机会
- B. 爱运动的大学男生毕业后在工资和就业机会方面具有优势
- C. 之前很多研究表明，成年人的体育活动与收入成正比
- D. 社会各地许多体育冠军退役后生计没有着落

62. 某社交平台对一款网红App营销产品以“给用户带来骚扰，破坏用户体验”的理由进行封杀，这引起舆论关注和讨论。

以下各项如果为真，最能削弱“给用户带来骚扰，破坏用户体验”观点的是（ ）。

- A. 该平台曾以同样理由屏蔽过另一款App，以打击自己竞争对手
- B. 该款App在用户中有口皆碑，推出后下载量迅速上升至第5位
- C. 在该款App被封杀的同时，与该款App相关的应用软件也被屏蔽
- D. “用户体验”是相当感性的感受，该社交平台缺乏界定感受的数据

63. 某品牌的新型插座产品中包含防雷击部件，在电器遭到雷击后能保证所连接电器不受损害，有人提出，应将这种部件作为标准配件安装到该品牌所有的插座产品中；另有人认为这么做会提高产品成本，降低其在行业内的价格竞争优势，且国内行业标准并没有强制要求产品加装防雷部件，故没有必要加装防雷击部件。

以下哪项如果为真，最能削弱上述反对意见？（ ）

- A. 越来越多其他品牌的插座也开始加入了防雷部件
- B. 调查显示大多数消费者对其电路遭受雷击并不感到担忧
- C. 在家电遭受雷击的已知案例中，使用了该新型插座的家电都没有受损
- D. 在即将发布的国家标准中，强制要求所有插座产品都包含防雷击部件

64. 在科学界，我们希望论证中不出现任何“存在预设”。所谓存在预设，即预先设定命题中的主体存在。例如在“孙悟空有火眼金睛”这个命题中，并不预设孙悟空的存在，但在命题“有的花是红的”中，必须预设花的存在。牛顿第一运动定律，断定的是不受任何外力作用的物体必然保持静止状态或匀速直线运动状态。这个定律可能为真，但物理学家在表达和断定它的时候，并没有预设不受任何外力作用的物体存在。

从这段话中可以推出的是（ ）。

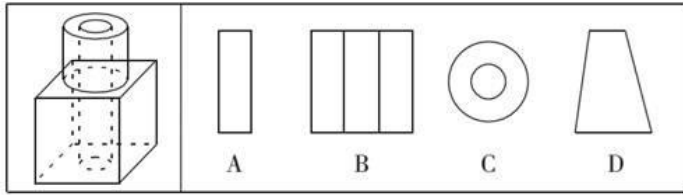
- A. 存在预设取决于命题主体是否真的存在
- B. 没有不受外力作用的物体
- C. 牛顿第一运动定律不适用于现实
- D. 牛顿第一运动定律的论证中不存在“存在预设”

65. 观看日全食需要佩戴专业的眼镜，永康牌和适度牌日食眼镜使用相同质量的镜片，由于永康牌日食眼镜的价格较低，所以当你购买永康牌而不是适度牌日食眼镜时，便用较低的价钱买到了观看效果相同的眼镜。

以下哪项如果为真，是推出上述结论的前提？（ ）

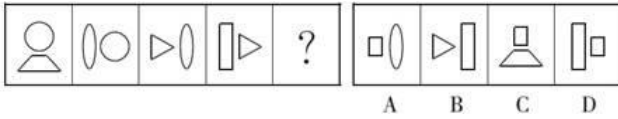
- A. 日食眼镜的价格主要取决于镜片的价格
- B. 这两款比市面上其他品牌价位更低
- C. 日食眼镜的观看效果只由镜片的质量来决定
- D. 永康牌日食眼镜比适度牌日食眼镜销量更高

66. 如图所示，立方体上叠加圆柱体再打通一个圆柱孔，然后从任意面剖开，下面哪一项不可能是该立体的截面？（ ）



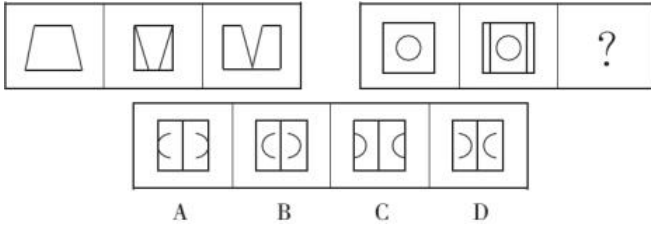
- A. A
- B. B
- C. C
- D. D

67. 从所给的四个选项中，选择最合适的一个填入问号处，使之呈现一定的规律性。



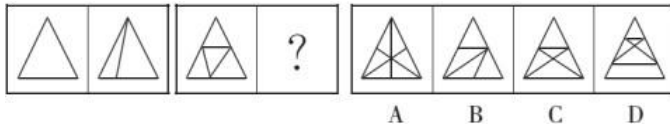
- A. A
- B. B
- C. C
- D. D

68. 从所给的四个选项中，选择最合适的一个填入问号处，使之符合已呈现的规律性。



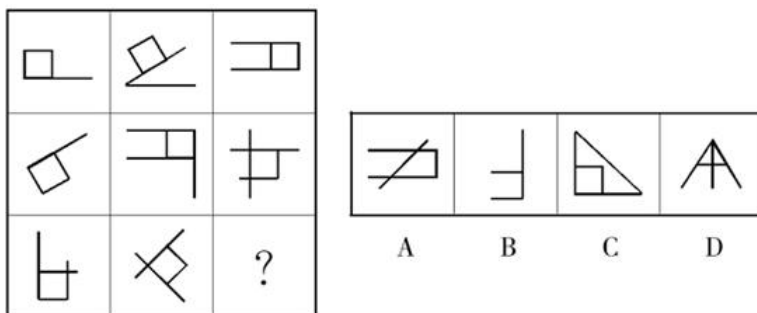
- A. A
- B. B
- C. C
- D. D

69. 从所给的四个选项中，选择最合适的一个填入问号处，使之呈现一定的规律性。



- A. A
- B. B
- C. C
- D. D

70. 从所给的四个选项中，选择最合适的一个填入问号处，使之呈现一定的规律性。



- A. A
- B. B
- C. C
- D. D

四、常识判断

71. 下列与电影有关的说法不正确的是（ ）。

- A. 西安电影制片厂是中国第一个电影制片厂
- B. 香港是世界三大电影制作地之一

C. 《定军山》是中国第一部电影 D. 中国电影华表奖是中国三大电影奖项之一

72. 关于液体燃料，下列说法错误的是（ ）。

A. 煤油易挥发，且挥发后与空气混合，会形成爆炸性的混合气B.

生物柴油具有“老化”倾向，宜避光，避免与空气接触保存C.

柴油能量密度高，燃油消耗率低，但废气中所含有害成分较多 D.

汽油具有一定的腐蚀性，在贮运过程中容易出现早期氧化变质

73. 科举是我国古代通过考试选拔官吏的一种制度。假如古代某位考生在参加某级科举考试中获 得“解元”，即该级考试第一名，那么，他之后通常应参加的更高一级考试是（ ）。

A. 乡试 B. 殿试 C. 会试 D. 童试

74. 父母血型分别是A和AB，其子女可能的血型是（ ）。

A. A、B、AB B. A、B、AB、O C. B、AB、O D. A、B、O

75. 电视剧里出现的一些古代场景，常有令人啼笑皆非的文史错误。下列电视剧中的场景没有违背 史实的是（ ）。

A. 秦始皇在宴会上招待群臣吃石榴 B. 汉将军李广和部下约定以烟火爆炸为进攻号令C.

三国曹植痛饮葡萄酒一醉方休 D. 唐太宗李世民背诵三字经教导百姓

76. 在日常生活中，佩戴饰品有一定的学问和讲究，下列不符合饰品佩戴礼仪的是（ ）。

A. 同时佩戴多种饰品，一般不应超过3种 B. 佩戴饰品应与性别、年龄、职业等匹配C.

戒指戴在中指上，一般表示已婚 D. 佩戴两种以上饰品，一般要求同质

77. 关于生活中的化学，下列说法正确的是（ ）。

A. 煤气中加入硫醇，可以中和有毒气体，降低煤气中毒的可能 B.

在食品袋中充入氮气，可以延长食品的保存时间

C. 用酸性物质浸泡蔬菜，可以降低残余农药的药性 D.

清洗干净的鸡蛋比没有清洗的鸡蛋保存时间更长

78. 2015年7月，在欧元区领导人峰会上，成员国就希腊债务问题达成协议，第三次救助希腊。下列 说法错误的是（ ）。

A. 作为独立主权国家，欧元区成员国拥有独立的货币政策 B.

欧元区挽留希腊，目的是避免欧洲经济一体化进程受挫 C.

希腊债务危机一旦蔓延，欧元贬值，中国对欧出口困难 D.

希腊选择留在欧元区内，必须实行更加紧缩的财政政策

79. 下列区域与其定位关系对应错误的是（ ）。

A. 上海自由贸易区——推进提高开放型经济水平的试验田 B.

平潭综合试验区——探索海峡两岸合作新模式的试验区 C.

青岛西海岸新区——全国海洋经济科学发展新路径范本 D.

苏州高新技术区——新型工业化综合配套改革试验区

80. 下列关于地理常识的表述中，不正确的是（ ）。

A. 北回归线和南回归线都穿过非洲

- B. 南极洲是地球上平均海拔最高的大洲
- C. 昆仑山脉和秦岭山脉大致走向均为东西方向
- D. 长江是仅次于密西西比河和亚马逊河的世界第三长河
81. 下列有关国防基础知识的表述中，不正确的是（ ）。
- A. 我国的第一任国防部长是彭德怀
- B. 我国的领海宽度为12海里
- C. 我国的现役部队由海军、陆军、空军三个军种组成
- D. 我国义务兵服现役的期限为2年
82. 根据民事诉讼法的规定，下列说法错误的是（ ）。
- A. 人民法院调解好的离婚案件，可以不制作调解书
- B. 修改后的民事诉讼法增加了“公益诉讼”的内容
- C. 人民法院可以根据实际情况，决定采取传真的方式送达判决书
- D. 修改后的民事诉讼法规定，当事人所在社区可推荐公民作为诉讼代理
83. 下列关于火山的表述错误的是（ ）。
- A. 喷出的物质有气态、液态和固态三种
- B. 页岩是最常见的岩浆岩
- C. 五大连池的形成与火山喷发有关
- D. 可分为死火山、活火山和休眠火山
84. 与“东风不与周郎便，铜雀春深锁二乔”提及的战争发生年代最接近的是（ ）。
- A. 长平之战
- B. 牧野之战
- C. 淝水之战
- D. 官渡之战
85. 下列俗语与包含的物理学知识对应错误的一项是（ ）。
- A. 但闻其声，不见其人——波的衍射
- B. 长啸一声，山鸣谷应——声音的反射
- C. 坐井观天，所见甚少——光线沿直线传播
- D. 洞中方一日，世上已千年——运动的相对性

五、资料分析

2015年1~2月份社会消费品零售总额主要数据

指 标	1~2月	
	绝对量(亿元)	同比增长(%)
社会消费品零售总额	47993	10.7
其中:限额以上单位消费品零售额	21840	8.1
其中:网上商品零售额	3991	47.4
按经营地分		
城 镇	41135	10.6
乡 村	6858	11.6
按消费类型分		
餐饮收入	5079	11.2
其中:限额以上单位餐饮收入	1356	5.1
商品零售	42913	10.7
其中:限额以上单位商品零售	20484	8.4
其中:粮油食品、饮料烟酒	3278	9.6
服装鞋帽、针纺织品	2329	9.1
化妆品	322	9.9
金银珠宝	564	-2.4
日用品	763	14.6
家用电器和音像器材	1169	12.4
中西药品	1191	16.4
文化办公用品	379	10.0
家 具	298	12.4
通讯器材	492	38.5
石油及制品	2667	-6.7
汽 车	5549	10.8
建筑及装潢材料	349	12.5

86. 2014年1~2月份社会消费品零售额是()。
- A. 42858.3亿元 B. 43207.5亿元 C. 43237.9亿元 D. 43354.1亿元
87. 2015年1~2月份石油及制品的销售额同比减少的绝对量是()。
- A. 178.7亿元 B. 191.5亿元 C. 291.2亿元 D. 332.9亿元
88. 2014年1~2月份网上商品零售额占社会消费品零售额的比重是()。
- A. 6.25% B. 8.11% C. 8.32% D. 10.70%
89. 下列四类商品中, 2015年1~2月份商品零售额同比增长最快的是()。
- A. 文化办公用品 B. 家具 C. 日用品 D. 汽车
90. 根据上述资料, 下列说法正确的是()。
- A. 农民的总体消费能力相对提高
- B. 中西药品零售额的增长速度高于化妆品
- 限额以上单位餐饮收入是餐饮收入的主体
- D. 社会消费品零售总额按消费类型分限额以上单位餐饮收入和限额以上单位商品零售

某年度某机构关于中国宠物主人消费行为及倾向调查回收的10680份有效问卷显示: 女性养宠者占58.1%, 宠物主人为“80~90后”占79.5%。将宠物定义为“孩子”“亲人”“朋友”和“宠物”的分别为54.5%、33.4%、7.7%和3.2%。8.9%的人月开销在100元以内, 49.4%的人开销在101至500元之间, 而花费在501至1000元之间的达到25%, 月消费1000元以上的人群达到16.4%。在购买物品方面, 购买宠物食物的人数达到有效问卷总人数的94.5%, 其次为药品、保健品以及日用品、玩具、服饰五项, 均接近60%。宠物主人外出时, 四成“委托亲朋照顾”, 三成“一起带走”, 委托寄养还不到20%。在训练方面, 99%的宠物处于自主训练或放任生长的状态, 但近一半人希望爱宠得到专业训练。在购买渠道方面, 74%的被访问者选择综合电商平台, 选择线下综合商店或专卖店者为53.3%, 选择宠物类垂直电商平

台的占33.6%，但其复购率更高。值得注意的是，目前宠物主人对购物类O2O服务有选择意向的不足4.0%。

91. 问卷中，男性养宠者占养宠人群的比重为（ ）。
- A. 58.1% B. 51.9% C. 41.9% D. 40.9%
92. 问卷中对宠物没有花费的人数约为（ ）。
- A. 38 B. 36 C. 34 D. 32
93. 问卷中，选择综合电商平台和选择购物类O2O服务的消费者人数之比为（ ）。
- A. 小于2.2:1 B. 大于2.2:1 C. 小于18.5:1 D. 大于18.5:1
94. 问卷中，在药品、保健品以及日用品、玩具、服饰方面有花销的总人次最可能有（ ）。
- A. 6408 B. 9612 C. 16020 D. 32040
95. 根据问卷，下列判断错误的是（ ）。
- A. 只有1%的宠物接受过训练，专业训练消费潜力巨大 B.
绝大部分宠物主人对宠物的定义超越了宠物本身C.
月均消费在101~1000元的是宠物消费的主流
D. 购物类O2O服务的市场还有待培育

2015年1~2月份社会消费品零售总额主要数据

指 标	1~2月	
	绝对量(亿元)	同比增长(%)
社会消费品零售总额	47993	10.7
其中：限额以上单位消费品零售额	21840	8.1
其中：网上商品零售额	3991	47.4
按经营地分		
城 镇	41135	10.6
乡 村	6858	11.6
按消费类型分		
餐饮收入	5079	11.2
其中：限额以上单位餐饮收入	1356	5.1
商品零售	42913	10.7
其中：限额以上单位商品零售	20484	8.4
其中：粮油食品、饮料烟酒	3278	9.6
服装鞋帽、针纺织品	2329	9.1
化妆品	322	9.9
金银珠宝	564	-2.4
日用品	763	14.6
家用电器和音像器材	1169	12.4
中西药品	1191	16.4
文化办公用品	379	10.0
家 具	298	12.4
通讯器材	492	38.5
石油及制品	2667	-6.7
汽 车	5549	10.8
建筑及装潢材料	349	12.5

96. 2014年1~2月份社会消费品零售额是（ ）。
- A. 42858.3亿元 B. 43207.5亿元 C. 43237.9亿元 D. 43354.1亿元
97. 2015年1~2月份石油及制品的销售额同比减少的绝对量是（ ）。
- A. 178.7亿元 B. 191.5亿元 C. 291.2亿元 D. 332.9亿元

98. 2014年1~2月份网上商品零售额占社会消费品零售额的比重是（ ）。
- A. 6.25% B. 8.11% C. 8.32% D. 10.70%
99. 下列四类商品中，2015年1~2月份商品零售额同比增长最快的是（ ）。
- A. 文化办公用品 B. 家具 C. 日用品 D. 汽车
100. 根据上述资料，下列说法正确的是（ ）。
- A. 农民的总消费能力相对提高
- B. 中西药品零售额的增长速度高于化妆品
- C. 限额以上单位餐饮收入是餐饮收入的主体
- D. 社会消费品零售总额按消费类型分限额以上单位餐饮收入和限额以上单位商品零售