

江山模拟卷十四

一、言语理解与表达

1. 成语是汉语的精髓，是中华文明的瑰宝。它具有_____的特性，常常在一段话甚至一篇文章中起着_____的作用，这就使得汉语表述简洁而又传神。

- A. 画龙点睛 言简意赅 B. 深入浅出 正本清源
C. 言简意赅 画龙点睛 D. 正本清源 深入浅出

2. 由于竞选活动需要雇用工作人员、制作竞选标语和招贴画、布置演讲场地、发布广播和电视广告等，因此花费高昂，这是近代民主政治的普遍现象。而在美国，总统选举从党内初选到两党全国代表大会再到最后投票历时至少一年，选举费用更是_____。

- A. 事随境迁 B. 水涨船高 C. 居高不下 D. 居高临下

3. 中国地理学研究在指向当前紧迫的经济和社会问题的同时，对基本概念和基础理论等学科基础的研究却出现了被_____的趋势。对地理学整体发展方向的关注较为薄弱，在一定程度上还_____了整个科学发展的大趋势，高新观测技术和信息处理技术的应用仍然不够普及。

依次填入划横线部分最恰当的一项是（ ）。

- A. 削弱 阻碍 B. 减弱 隔断
C. 削减 延缓 D. 减少 延宕

4. 依次填入下列横线处的词语，最恰当的一组是（ ）。

党的十八大以来，高压反贪腐很好地_____了腐败官员，在很大程度上_____了官场风气，但对权力的监督不能光靠运动，正如王岐山同志所言，治标是在为治本赢得宝贵时间。

- A. 震撼 转换 B. 威慑 扭转
C. 震撼 扭转 D. 威慑 转换

5. 有智慧的人，一直以来都在享受每一秒，因为他们知道这一秒一旦过去就永不再来；愚痴的人，一直以来都在抱怨每一秒，总觉得这一秒不幸，下一秒才好！同样经历每分每秒，但_____，天地悬隔。

填入划横线部分最恰当的一项是（ ）。

- A. 泾渭分明 B. 南辕北辙 C. 毫厘之差 D. 庸人自扰

6. 一个世界级的伟大作家当然先要有作品的_____，这一点，莫言毋庸置疑：近30年出版了10多部长篇小说，100多部中短篇小说，塑造出了_____的人物。

依次填入划横线部分最恰当的一项是（ ）。

- A. 厚度 无与伦比
- B. 高度 千奇百怪
- C. 广度 形态各异
- D. 深度 栩栩如生

7. 依次填入下列各句横线处的词语，最恰当的一组是（ ）。

伴随着中国走向世界舞台中央的脚步，春节这个中华民族的传统节日开始走出华人圈，成为中华文化最_____的品牌和符号之一。为了推进对华关系的发展，一些国家的政治家往往借春节来表达他们对发展双边关系的良好_____。

- A. 美丽 祝愿
- B. 亮丽 祝愿
- C. 亮丽 祝福
- D. 美丽 祝福

8. 一个好的创业者，至少需要两方面精神动力。一是创新精神，它强调思想的灵动、思维的_____；二是工匠精神，它强调_____，一丝不苟。有的创业者过于求新求异，追求新点子、新包装，只有破坏没有建设，而以持续、稳定、渐变为特征的工匠精神，则对此有纠偏和矫正功能。

依次填入划横线部分最恰当的一项是（ ）。

- A. 活跃 持之以恒
- B. 缜密 精益求精
- C. 跳跃 锲而不舍
- D. 连贯 坚持不懈

9. 意大利地处欧亚大陆和非洲大陆板块的挤压带上，因此境内活火山较多，频繁爆发的火山给意大利人带来了丰厚的_____——可作为优质胶凝材料的火山灰。这种_____的自然条件使古罗马人利用火山灰发明了自然混凝土。

依次填入划横线部分最恰当的一项是（ ）。

- A. 收获 天造地设
- B. 回报 应有尽有
- C. 财富 举世无双
- D. 馈赠 得天独厚

10. 从成长经历来看，新生代农民工没有经历过父辈那样从农村到城市的变化过程，与城市同龄人更为_____。

- A. 趋同
- B. 相同
- C. 雷同
- D. 同步

11. 上世纪60到70年代，一系列医学伦理事件的发生促进了病人权利的运动。在处理医学决定时，医生家长式作风受到批判，以“共享决定权”为原则的新的医患关系产生了。然而，_____。现代医学的专业性意味着医患之间存在无法逾越的巨大知识壁垒，平等也就无从谈起。病人对治疗效果的预期往往高于医生，对医学知识的掌握和医学风险认识又远远低于医生，缺位和无效的沟通既给临床治疗制造了巨大成本，又使医患的情感遭到巨大打击。

填入划横线部分最恰当的一项是（ ）。

- A. 医生与病人却被有史以来最为紧张的关系所羁绊
- B. 完完全全的平等并不是拯救现代医患关系的良药
- C. 病人们在这个时候却发现医生们越来越难以信任
- D. 今天作为医疗行业的医学所处的关系网极为复杂

12. 一位搏击高手参加比赛，自负地以为一定可以夺得冠军，却不料在最后的赛场上遇到一个实力

相当的对。搏击高手发觉，自己竟然找不到对方的破绽。他觉得很羞耻，愤愤不平地回去找师傅，央求师傅找到对方的破绽。师傅笑而不语，在地上划了一道线，要他在不擦掉这条线的前提下，设法让这条线变短。搏击高手苦思不解，请教师傅。师傅在原先那条线的旁边，又划了一道更长的线。师傅说：“_____”。

填入划横线部分最恰当的一句是（ ）。

- A. 短兵相接，智者为王
- B. 狭路相逢，勇者必胜
- C. 知己知彼，百战不殆
- D. 勤学苦练，敌弱我强

13. ①人类的哲学是历史的进步和发展的哲学

②才能历史地为人类提供“最高的支撑点”

③人类的历史是进步和发展的历史

④这就是哲学发展的历史与逻辑

⑤因此，只有塑造和引导新的时代精神的哲学才是真正的“时代精神的精华”

⑥才能把人类不断地推进到更为崇高的境界

将以上6个句子重新排列，语序正确的是（ ）。

- A. ③④①⑤②⑥
- B. ①③④⑤⑥②
- C. ③①⑤②⑥④
- D. ④①③⑤②⑥

14. ①群岛的总面积约为6.1万平方公里，和爱尔兰差不多大

②斯瓦尔巴群岛位于北大西洋和北冰洋的交界处，被公认为是北冰洋的门户，同时也是前往北极点的出发地

③斯瓦尔巴群岛中面积最大的岛名叫“斯匹茨卑尔根”，形状极不规则，边缘布满峡湾

④海水顺着峡湾倒灌进来，最长的峡湾甚至可以深入内陆上百公里

⑤这个词来自挪威语，指的是由冰川侵蚀而成的V形峡湾

⑥峡湾的一头连接内陆冰川，另一头直通大海

将以上6个句子重新排列，语序正确的是（ ）。

- A. ②①③⑤⑥④
- B. ②③⑤①④⑥
- C. ③⑤⑥④①②
- D. ③①⑤②⑥④

15. 在陪伴子女的过程中，很多家长都会遇到孩子撒谎或者隐瞒真实情况的问题。撒谎差不多算得上是许多父母最担心的子女不良行为，甚至比子女学习成绩不好更令他们惊慌、生气。如果说好多家长并没有很好地解决孩子撒谎的问题，至少他们大多予以重视，而孩子对家长隐瞒自身情况的问题则不仅解决得更差，也没有得到足够重视。

下列表述符合原文意思的是（ ）。

- A. 家长们认为孩子的知情不报比撒谎更令人担忧
- B. 家长们认为撒谎是最不可原谅的道德品质问题
- C. 对解决孩子撒谎问题多数家长心有余而力不足
- D. 孩子隐瞒自身情况的行为没有引起家长的重视

16. 艺术创作的世界没有“安慰奖”，作品自身的水准远比空谈“磨剑”的口头功夫来得重要。更何况有些标榜的“年数”，还未必真实。所以套用一句当下的流行语：少一些磨剑，多一些真诚。当然，这绝对不是说文艺作品不需要反复打磨；恰恰相反，正是因为文艺作品需要真诚与耐心的打磨，我

们才更应该对那些放卫星般的“数年磨一剑”说不，因为它将真正打磨作品的心血廉价化了——如果一个人用几个月把自己十年前想到的点子写出来就算是十年磨一剑的话，那些真正在三千多个日日夜夜里一遍遍呕心沥血、钻研雕琢的人，我们又该如何赞扬他们呢？

这段文字意在说明（ ）。

- A. 文艺作品不需要长时间打磨
- B. 标榜数年磨一剑是缺少真诚
- C. 作品耗时与创意起始点无关
- D. 作品价值无需强调创作艰辛

17. 钛合金强度大，重量轻，耐热性能好，适用于船只、汽车、航空航天工业，被人们视为未来材料。新型波音777客机采用了约9%的钛合金材料。然而，钛合金的加工难度极大，如加工一个钛合金船用涡轮增压机轮需要50个小时，而加工一个铝合金的同样部件仅需5小时。德国布伦瑞克大学的科学家采用了一种专门热处理方法，将氢原子渗入材料，掺氢的钛合金相对软化。对软化的钛合金进行切削加工，加工设备所承受的机械和热负载明显降低，切削力仅需过去的50%，大大降低了加工成本。加工完毕后，再经专门的热处理工序，材料的特性则回到原先状态。科学家称，该方法非常适用于大批量的钛合金铸件加工。

对这段文字的主要内容概括最为准确的是（ ）。

- A. 钛合金被视为未来材料，但加工难度大，德国科学家采用专门热处理的方法非常适用于大批量的钛合金铸件加工
- B. 钛合金被视为未来材料，德国科学家采用专门热处理方法降低其加工难度及成本
- C. 钛合金加工难度大，德国科学家采用专门热处理方法降低其加工难度
- D. 钛合金被视为未来材料，但加工难度极大，德国科学家采用专门热处理方法降低其加工难度及成本

18. 世界第四大岛马达加斯加位于非洲东南部，地质史上历经数次漫长的岩浆活动，形成独特的“天然矿石博物馆”。尤其在该岛中东部的高原山区，分布着一条条伟晶岩矿脉，出产碧玺、石榴石、水晶等多种宝石。经过仔细勘探，宝石学家在这些伟晶岩矿脉中，又发现了一种全新的宝石，外表呈柔和的粉红色，晶体大而透明，杂质与裂纹极少，令人爱不释手。考察队回到美国后，宝石学家提议以热衷矿石收藏的大银行家、此次考察的赞助商约翰·摩根命名这种宝石，摩根石由此登上了珠宝界的舞台。最适合作为这段文字标题的是（ ）。

- A. 五彩斑斓的宝石
- B. 摩根石的诞生
- C. 神奇的马达加斯加
- D. 天然矿石博物馆

19. 作为世界上第一部关于农业和手工业生产的综合性科技著作，《天工开物》十分重视理论阐述，而非单纯的技术描述，否则比之那些食谱、棋谱高明不了多少。有专家认为：“《天工开物》不只是中国，而且是整个东亚的一部代表性技术书，其包罗技术门类之广是欧洲技术书无法比拟的。”

根据这段文字，可以看出《天工开物》与食谱、棋谱最本质的区别在于（ ）。

- A. 前者为技术书，后者为工具书
- B. 前者重在逻辑，后者重在说明
- C. 前者重视理论，后者重视技术
- D. 前者是科技理论，后者是操作技术

20. 改革开放30多年来，中国经济显示出强大的造富功能：一跃成为世界经济大国，诸多经济指标名列世界前茅。与之相应，国人的财富观也发生了重大的历史变化，这就是从计划经济时期的拒斥财

富、恐惧财富，到今天的追求财富和拥有财富。的确，贫穷不是社会主义，但不容忽视的是，在我们日益走向富裕的新的社会发展环境下，确立正确的财富观，对财富的价值和意义有一个清醒的认识，就变得越来越重要。

这段文字意在说明（ ）。

- A. 中国经济的飞速发展提高了国民物质生活水平
- B. 社会主义的追求包括消除贫穷和贫富差异
- C. 国人应正确认识财富的价值和意义
- D. 国人的财富观发生了巨大变化

21. “土地代耕”是指一些不愿种地或者没能力种地的农民将土地委托给大户或专业合作社，由其代耕、代种。对农民而言，支付一定服务费用，保证自家土地不撂荒，还能增产增收；对代耕大户或合作社而言，收入主要靠代耕费及赚取农资差价等。在一些地区，农民“不想种又舍不得”，在打工和务农之间两头忙，两头不得利。而“土地代耕”一方面有利于农业社会化服务组织培育发展，解决务工农民的后顾之忧，另一方面也为农业标准化、规范化经营降低成本、提高效益创造条件。

根据这段文字，对“土地代耕”理解准确的是（ ）。

- A. 有助于彻底解决土地撂荒的问题
- B. 会增加农业生产成本
- C. 会显著降低农民务农的积极性
- D. 既便于农民外出打工又能增加收入

22. 手机预装软件，一般指手机出厂自带或第三方刷机渠道预装到消费者手机当中的应用或软件，包括工具、娱乐、社交、电商、安全、学习以及游戏类软件等应用。近日，因手机预装软件过多，且大量无法删除，上海市消费者权益保护委员会一纸诉状，将三星和OPPO两家智能手机公司告上法庭。这起诉讼，再度引发公众对手机预装软件乱象的关注。随着智能手机的普及，手机预装软件种种不规范问题日益突出，关于预装软件是否合法、无法删除是否合规的争议也越来越大。

下列关于手机预装软件造成的问题，文中没有涉及的是（ ）。

- A. 第三方强制预装软件，侵犯消费者知情权
- B. 必要的系统软件被删除导致手机无法使用
- C. 预装软件过多，会影响用户正常使用手机
- D. 预装软件不能被卸载，侵犯消费者选择权

23. 相较于传统外贸，跨境电子商务的优势非常明显，跨境电商不仅具有压缩中间环节、降低中小企业发展成本、增加就业等传统优势，还有重塑国际产业链、促进外贸方式转型、增强国际竞争力等作用，对于中国制造发展将带来极大利好。围绕跨境电商，我国正在形成一条从营销到支付、物流和金融服务的非常清晰完整的链条和支撑体系，为中小企业走出去提供了可能。

这段文字重在说明（ ）。

- A. 跨境电商较传统对外贸易有明显优势
- B. 跨境电商将为中国制造发展带来机遇
- C. 跨境电商为我国企业走出去提供支持
- D. 跨境电商能有效促进外贸方式的转型

24. PM2.5是指大气中直径小于或等于2.5微米的颗粒物，也称为可入肺颗粒物，直径相当于人的头发粗细的1/20。PM2.5的主要来源是发电、工业生产、汽车尾气排放等过程中燃烧产生的残留物。因为这些颗粒物太轻，很难自然降落在地面上，而是长期悬浮在空气中，可直接通过呼吸进入肺泡甚至融入血液。PM2.5直径小，在大气中的停留时间长，输送距离远，多含有二氧化硫、氮氧化物、硫酸铵等有害物质，因而对人体健康和大气环境质量的影响很大。

根据上述文字，下列表述不正确的是（ ）。

- A. 只要控制各种燃烧释放的残留物就能有效减少PM2.5

- B. PM2.5能长时间悬浮在空气中
- C. 只要能PM2.5降落到地面，就能避免其伤害
- D. PM2.5会直接将二氧化硫等有害物质带入人体内影响健康

25. 当企业组织发展迟缓，内部产生不良问题，企业必须改变管理模式。当外部变化影响不大时，企业可以从日常管理细节小幅度调整，以适应变化；而当小幅度调整无法适应变化时，企业需要考虑管理变革。需要注意的是，适应性调整和管理变革未必百分百成功，但如果不做调整或变革，那么企业的经营必然走向失败。

关于这段文字，以下理解准确的是（ ）。

- A. 企业发展迟缓往往说明企业的管理出了问题
- B. 企业内部产生不良问题可以首先考虑做适应性调整
- C. 企业管理调整或变革不成功会导致企业经营的失败
- D. 外部变化的影响是企业改变管理模式的决定性因素

二、数量关系

26. 3, 19, 43, 79, 133, ()

- A. 169
- B. 205
- C. 214
- D. 229

27. 7.1, 8.6, 14.2, 16.12, 28.4, ()

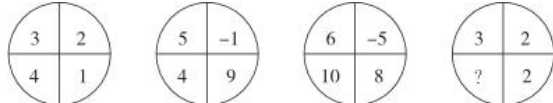
- A. 32.24
- B. 30.4
- C. 32.4
- D. 30.24

28. 1, 6, 18, 40, ()

- A. 65
- B. 70
- C. 68
- D. 75

29. 24, 35, 55, 57, ()

- A. 64
- B. 68
- C. 75
- D. 79

30. 

- A. -4
- B. -2
- C. 0
- D. 2

31. $\frac{1}{16}, \frac{1}{7}, \frac{1}{4}, \frac{2}{5}, \frac{5}{8}, ()$

A.

$\frac{6}{7}$

B. 1

C.

$\frac{3}{2}$

D. 2

32. 1, 10, 31, 70, 133, ()

- A. 218
- B. 210
- C. 228
- D. 226

33. 1, 3, 4, 8, 15, 27, ()

同，则有3辆独立行驶的汽车经过该十字路口全部右转弯的概率是（ ）。

- A. $\frac{1}{3}$
- B. $\frac{1}{6}$
- C. $\frac{1}{9}$
- D.

$\frac{1}{27}$

43. 某班有56名学生，每人都参加了a、b、c、d、e五个兴趣班中的其中一个。已知有27人参加a兴趣班，参加b兴趣班的人数第二多，参加c、d兴趣班的人数相同，e兴趣班的参加人数最少，只有6人。问参加b兴趣班的学生有多少个？（ ）

- A. 7个
- B. 8个
- C. 9个
- D. 10个

44. 甲、乙两个工程队共同修建一段长为2100千米的公路，甲队每天比乙队少修50千米。甲队先单独修3天，余下的路程与乙队合修6天完成，则乙队每天所修公路的长度是（ ）。

- A. 135千米
- B. 140千米
- C. 160千米
- D. 170千米

45. 一艘船往返于甲、乙两港口之间，已知水速为8千米/时，该船从甲到乙需要6小时，从乙返回甲需9小时，问甲、乙两港口的距离为多少千米？（ ）

- A. 216
- B. 256
- C. 288
- D. 196

46. 一个公比为2的等比数列，第n项与前n-1项和的差等于5，则此数列前4项之和为（ ）。

- A. 70
- B. 85
- C. 80
- D. 75

47. 有89吨货物要从甲地运往乙地，大卡车的载重量是7吨，小卡车的载重量是4吨。大卡车与小卡车每次的耗油量分别是14升、9升，如果使所派车辆运完货物耗油量最小，则最小耗油量是（ ）。

- A. 141升
- B. 162升
- C. 181升
- D. 193升

48. 如图所示，A、B、C、D、E、F将圆六等分，圆内接一个正三角形，已知阴影部分的面积是100平方米，则圆形面积为（ ）。



- A. 180平方米
- B. 200平方米
- C. 220平方米
- D. 240平方米

49. 一个圆柱形的容器内放有一个长方体铁块，现打开水龙头往容器中注水3分钟时，水恰好没过长方体铁块的顶面，又过了18分钟后，容器内被注满了水。已知容器的高是50厘米，长方体铁块的高是20厘米，那么长方体铁块的底面面积是圆柱形容器底面面积的（ ）。

A.

$\frac{5}{6}$

B.

$\frac{3}{4}$

C.

$\frac{2}{3}$

D.

$\frac{1}{2}$

50. 某商店的两件商品成本价相同，一件按成本价多25%出售，一件按成本价少13%出售，则两件商品各售出一件时盈利为多少？（ ）

- A. 6% B. 8% C. 10% D. 12%

三、判断推理

51. 著作：书：丛书

- A. 成语：词语：词汇 B. 树：树林：森林 C. 裙子：衣服：服装 D. 人：人群：人民

52. 李尧棠：巴金：作家：家春秋

- A. 聂耳：聂守信：音乐家：义勇军进行曲 B. 徐寿康：徐悲鸿：画家：愚公移山图C.

舒庆春：老舍：作家：子夜 D. 李东壁：李时珍：医学家：本草纲目

53. 扎小羊灯 之于 （ ） 相当于 剪福字窗花 之于 （ ）

- A. 灯笼 桃花 B. 喜乐 过年
C. 小羊 窗户 D. 细绳 剪刀

54. （ ） 对于 铁矿石 相当于 板凳 对于 （ ）

- A. 铲车 桌子 B. 矿山 森林 C. 矿工 木匠 D. 铁粉 木料

55. 近视：远视

- A. 雨水：冰雹 B. 瘦弱：肥胖 C. 前进：后退 D. 收缩：松弛

56. 道路：车辆：行人

- A. 脑袋：头发：眼睛 B. 月亮：嫦娥：后羿 C. 眼镜：鼻子：耳朵 D. 手提包：钱包：手机

57. 动车：飞驰

- A. 蝴蝶：起舞 B. 骏马：奔跑 C. 蚂蚁：搬家 D. 苍鹰：盘旋

58. 摇头：反对

- A. 愤怒：心情 B. 手语：意思 C. 困乏：休息 D. 微笑：开心

59. 与意大利、德国等欧洲国家不同，美国被一些球迷称为“足球荒漠”，他们认为在美国，足球 被视为边缘运动。

如果以下各项为真，最能反驳上述看法的是（ ）。

A. 美国足球队在世界杯等多项国际重大比赛上获得了傲人成绩，其在国际足联的排名有时甚至超过 英格兰等传统足球强国

B. 美国足球联赛起步虽晚，但发展飞速，现在其联赛水平已经超过阿根廷、巴西等传统足球强国 C.

足球已经成为美国12~24岁年轻人的第二运动，其青少年足球人口绝对数量位居世界第一

D. 因为缺乏相应的足球文化土壤的培育，所以在美国从事足球运动的人都是真正热爱足球的人，没有 复杂商业运作的足球运动更加纯粹

60. 司马光出身贫寒；明代大学士宋濂家中一贫如洗；苏联伟大作家高尔基曾经是个流浪儿……可 见 贫困也是一笔财富。

与题干中所使用的论证方法最相似的是（ ）。

A. 基本功对拿笔杆子的人很重要，不练是不行的。俗话说，拳不离手，曲不离口 B.

绘画的人常画，唱歌的人常唱，而搞文字的人怎么可以几个月不写东西呢

C. 左丘失明，阙有《国语》；孙子臧脚，兵法修列；不韦迁蜀，世传《吕览》；韩非囚秦，《说难》《孤愤》；《诗》三百篇，大抵圣贤发愤之所为作也

D. 盖文王拘而演《周易》；仲尼厄而作《春秋》；屈原放逐，乃赋《离骚》……由此可见，没有苦痛的挣扎，便不会有成功的喜悦

61. 某电视台拍摄一档真人秀节目，有A、B、C、D、E五位表演嘉宾，要安排他们入住红、黄、蓝三顶帐篷。五位表演嘉宾提出了以下几点入住要求：

①嘉宾A要住红色帐篷；

②B和C要住同一顶帐篷；

③如果D入住蓝色帐篷，则E也要入住蓝色帐篷；

④同时，栏目组要求，每顶帐篷中都要住人。

则下列安排肯定不符合上述要求的是（ ）。

A. B、C入住红色帐篷 B. B、D入住蓝色帐篷 C. D、E入住黄色帐篷 D. E入住红色帐篷

62. 目前，中国10个省区市设置了25个“弃婴安全岛”，广州市的“弃婴安全岛”在开放两周内就收到弃婴51名，南京市的“弃婴安全岛”也在启用2周内收到26名弃婴。统计数字显示，全国“弃婴安全岛”接收的婴儿基本男女各一半，但是几乎所有的弃婴都有残疾或重病。有专家就此批评指出，“弃婴安全岛”的设置助长了父母遗弃婴儿的行为。

以下哪项如果为真，最能质疑上述专家提出的批评？（ ）

A. 设置“弃婴安全岛”是对我国儿童医疗保障制度的一种有益补充

B. 患有残疾或重病的弃婴由于“弃婴安全岛”的设置而能得到社会及时救助

C. 弃婴对于家长来说实属无奈之举，忍痛遗弃孩子是希望他们得到更好救治

D. “弃婴安全岛”刚刚设置不久，其对婴儿父母行为的影响还有待进一步观察

63. 研究人员认为肥胖症和人体内寄生某些能产生特定气体的微生物有关，这些微生物使他们呼出的气体味道更难闻。加州洛杉矶CS医学中心分析了792位体检者的呼吸，发现呼出甲烷和氢气量高的人的身高体重指数（BMI）比正常人要高2.4点，即属于肥胖人群。

根据以上描述不能推出（ ）。

A. 胖人体内可能寄生着某些产生特定气体的微生物

B. 可以通过气体是否难闻来判定呼气者是否是肥胖症患者

C. 呼出气体中甲烷和氢气含量高的人群比正常人群更胖

D. 甲烷和氢气的混合物味道较难闻

64. 某书店有10个书架按序号1、2、3……10依次摆放，其中只放置儿童书籍的书架有1个；只放置科技书籍的书架有2个，并且连号排列；只放置历史书籍的书架有3个，并且不与放置儿童书籍的书架连号排列；只放置文学书籍的书架有4个，并且不与放置科技书籍的书架连号排列。

如果第1、3、10号书架放置历史书籍，4号书架放置科技书籍，那么儿童书籍一定放置在几号书架上？

()

A. 2号书架

B. 5号书架

C. 6号书架

D. 7号书架

65. 只有当我能够做出其他选择时, 我对我的行为才负有道德责任。因为一个人若无力避免某行为, 就不应被认为对该行为负有道德责任。

对上述论述最为正确的理解是 ()。

A. 如果我对我的行为负有道德责任, 那么我做出的行为是可以选择的 B.

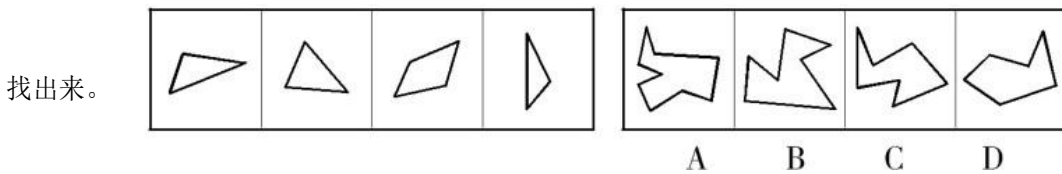
只要我能够做出其他选择, 我就对我的行为负有道德责任

C. 一个人如果能避免某种行为, 那么, 就应该认为他对该行为负有道德责任 D.

一个人如果能做出行为选择, 那么, 某种行为就是他能避免的

66.

下面四个图形中, 只有一个是 由上面的四个图形拼合 (只能通过上、下、左、右平移) 而成的, 请把它



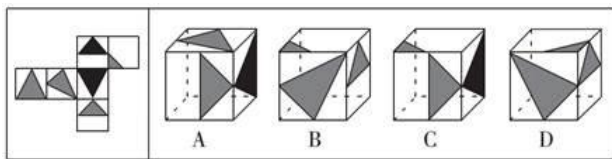
A. A

B. B

C. C

D. D

67. 左边给定的是纸盒外表面的展开图, 右边哪一项能由它折叠而成? 请把它找出来。



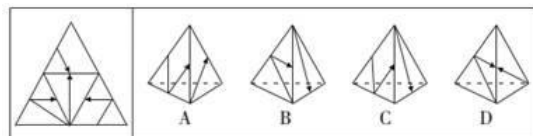
A. A

B. B

C. C

D. D

68. 左边给定的是纸盒外表面的展开图, 右边哪一项能由它折叠而成? 请把它找出来。



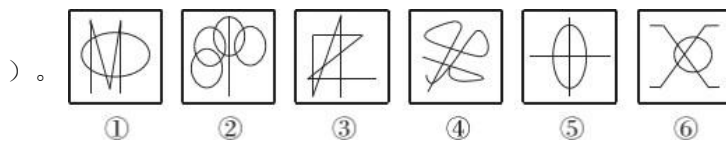
A. A

B. B

C. C

D. D

69. 把下面的六个图形分为两类, 使每一类图形都有各自的共同特征或规律, 分类正确的一项是 (



A. ①②③, ④⑤⑥

B. ①③④, ②⑤⑥

C. ①②⑤, ③④⑥

D. ①④⑤, ②③⑥

70. 右边四个图形中, 只有一个是 由左边的四个图形拼合 (只能通过上、下、左、右平移) 而成的, 请把它找出来。



A. A

B. B

C. C

D. D

四、常识判断

71. 下列有关地震的表述，不正确的是（ ）。

- A. 2008年四川汶川地震是我国自1949年以来破坏性最强、波及范围最广的一次地震 B. 我国位于世界两大地震带——环太平洋地震带与欧亚地震带之间
C. 我国的地震带主要分布在台湾、西南、西北、华北、东南沿海等五个区域 D. 震源的深度越浅，地震破坏力越大，波及范围也越广

72. 下列哪项与英国无关？（ ）

- A. 光荣革命 B. 第一次工业革命 C. 普利茅斯 D. 雾月政变

73. 下列关于地震，说法错误的是（ ）。

- A. 按地震的成因，可分为构造地震、火山地震、塌陷地震和诱发地震四种 B. 一次地震只有一个震级，但有多个烈度
C. 四大地震带中，最大的地震带是环太平洋地震带 D. 距震中越近，烈度越大；反之越小

74. 甲、乙两镇分别位于某市的两个区，因一块林地的权属纠纷向市政府申请解决。市政府裁定林地属于甲镇，乙镇不服裁定，向省政府申请复议。复议机关确认争议的林地归属于乙镇，甲镇不服复议决定，于是提起行政诉讼。本案中，有管辖权的法院是（ ）。

- A. 甲镇所在的区人民法院 B. 乙镇所在的区人民法院 C. 市中级人民法院 D. 省高级人民法院

75. 中关村国家自主创新示范区是我国第一个国家自主创新示范区。下列有关中关村国家自主创新示范区的表述，正确的有（ ）。

- A. 中关村国家自主创新示范区的目标是成为具有全球影响力的科技创新中心
B. 中关村国家自主创新示范区起源于二十世纪八十年代的“中关村电子一条街”
C. 十二五期间，中关村国家自主创新示范区将重点建设“两城两带”，两城即中关村科学城、未来科技城
D. 中关村国家自主创新示范区目前“一区多园”的空间格局包括海淀园、丰台园、昌平园、亦庄园、顺义园等十个园区

76. 国务院实行国务院全体会议和国务院常务会议制度。下列说法中错误的是（ ）。

- A. 国务院常务会议由总理、副总理、国务委员、秘书长组成 B. 国务院全体会议由总理召集和主持
C. 国务院全体会议一般每年召开一次
D. 国务院工作中的重大事项，必须经国务院全体会议或常务会议讨论决定

77. 农业是国民经济中的第一产业，对于中国这样的人口大国，农业具有战略性地位。以下关于我国农业的表述，错误的是（ ）。

- A. 我国最早的耕作技术是原始社会的人力耕作
B. 《三字经》中，将稻、粱、菽、麦、黍、稷并成为六谷
C. 今天我国广为种植的一些作物并非原产我国，而是外来引进，例如玉米
D. 休闲农业是利用农业景观资源和农业生产条件，发展阳光、休闲、旅游的一种新型农业生产经营形态

78. 据媒体报道，近日海南航空由成都飞往北京的一航班在飞行途中遭遇晴空颠簸，导致旅客和机组人员受伤。下列关于晴空颠簸的说法错误的是（ ）。

A. 航班通过接受定时定点和飞机尺度颠簸范围的预报来避免颠簸B.

遭遇晴空颠簸，旅客避免受伤的最好办法就是全程系好安全带C.

航从目前的科技水平来讲，晴空颠簸属于飞行中的一种不可抗力 D.

飞机可以通过升降高度，或者偏离航线来脱离晴空颠簸的影响

79. 下列广告行为，不符合法律规定的是（ ）。

A. 在互联网上发布内容符合规定的农药广告 B. 在广播电台和电视台发布非品牌白酒广告C.

在小学教材的封底上发布环保公益广告 D. 广告代言人为其未使用过的化妆品作广告

80. 下列关于我国京剧的表述中，不正确的是（ ）。

A. 京剧已列入人类非物质文化遗产代表作名录B.

京剧中一般用黑色脸谱来表示忠勇侠义

C. 京剧“四大名旦”是指梅兰芳、程砚秋、尚小云和荀慧生 D.

唱、念、做、打是京剧表演的四种艺术手法

81. 下列关于石灰的说法错误的是（ ）。

A. 生石灰通常可以作为食品干燥剂

B. 澄清石灰水放置在空气中易变浑浊

C. 汉白玉与石灰石的主要成分相同

D. “烈火焚烧若等闲”指熟石灰的高温煅烧

82. 人体内的免疫系统能发现和清除外来入侵的病原微生物，还能识别和清除体内发生突变的肿瘤细胞、衰老细胞、死亡细胞或其他有害的成分，并且通过自身免疫耐受和免疫调节使免疫系统内环境保持稳定。下列属于免疫系统疾病的是（ ）。

A. 冠心病

B. 艾滋病

C. 尿毒症

D. 红斑狼疮

83. “斗柄东指，天下皆春”的意思是指北斗七星斗柄指向东方的时候，春天就来了。那么，在冬季，北斗七星的斗柄指向（ ）。

A. 北方

B. 南方

C. 西方

D. 东方

84. 关于2013年我国各项工作的完成情况，下列表述不正确的是（ ）。

A. 城乡居民收入差距继续缩小

B. 进出口总额突破4万亿美元

C. 粮食产量较上年略有减少

D. 国内生产总值超过50万亿元

85. 一篇名人传记里介绍这位名人：“他出生于英国贵族家庭”“他在20世纪20年代到北京大学讲学”“他提倡离婚手续简化”“他以九十八岁高龄离世”……由此可以得知，这位名人是（ ）。

A. 培根

B. 康德

C. 罗素

D. 杜威

五、资料分析

2011年底，全国共有乡镇综合文化站34139个，平均每站面积由2006年的277.01平方米，增长到2011年的516.38平方米，平均每站文化活动用房面积由2006年的175.49平方米增长到2011年的391.00平方米。

2006~2011年，每年乡镇综合文化站从业人员和专职人员增长比例均保持在5%左右。2011年底，全国乡镇综合文化站从业人员78148人，专职人员52718人。

2014年上半年E省城乡常住居民人均可支配收入为11542元，同比增长9.9%，高于全国平均增速0.3个百分点；农村常住居民人均可支配收入5279元，同比增长12.5%，高于全国平均增速0.5个百分点。上半年全省城乡居民的收入增速均保持了高于GDP的水平，为实现2014年城乡居民收入增长跑赢GDP奠定了坚实的基础。

91. 2014年上半年与上年同期相比，E省地区生产总值增加了（ ）。
- A. 4814.3亿元 B. 349.6亿元 C. 5491.3亿元 D. 327.4亿元
92. 2014年上半年，全国食品类价格涨幅比居民消费价格（CPI）涨幅（ ）。
- A. 低1.1个百分点 B. 低1.4个百分点 C. 高1.1个百分点 D. 高1.4个百分点
93. 2014年上半年，E省第一、二、三产业增加值的比例为（ ）。
- A. 1:11.6:6.5 B. 1:6.5:11.6 C. 6.5:11.6:1 D. 11.6:6.5:1
94. 2013年上半年，E省外贸进出口总值顺差（+）或逆差（-）为多少亿美元？（ ）
- A. +55.67 B. -55.67 C. +125.4 D. -125.4
95. 下列说法正确的是（ ）。
- A. 从投资和消费看，E省2014年上半年的增幅比第一季度都有所增长，表明全省宏观经济正在回暖
- B. 2014年上半年E省城乡常住人均可支配收入增速慢于全国
- C. 2014年上半年E省城乡居民的收入增速均低于GDP的水平
- D. 2014年上半年E省CPI涨幅在全国处于剧烈震荡的区间

S省统计局日前发布《2014年S省果业发展统计公报》，初步核算，2014年全省果业增加值达320亿元，比上年增加3.5%，占全省种植业增加值30.2%，比上年提高0.1%。

2014年主要果品投入及收益情况

名称	水果产量		生产投入		经济纯收益	
	产量(万吨)	增长率(%)	生产投入(元/亩)	增长率(%)	纯收益(元/亩)	增长率(%)
苹果	942.82	-2.3	1691.29	12.5	3452.97	2.6
梨	97.26	8.4	1792.43	9.8	1436.62	18.3
柑橘	47.69	29.6	589.83	16.6	3737.25	13.5
猕猴桃	103.38	25.6	1517.56	-6.9	6644.84	8.3
红枣	67.60	-0.4	189.12	8.9	1514.40	3.5
葡萄	60.66	30.5	-	-	-	-
柿子	39.64	19.1	-	-	-	-
杏	20.36	-0.2	-	-	-	-
石榴	9.82	14.0	-	-	-	-
樱桃	11.23	17.6	-	-	-	-

96. 资料显示，2014年S省种植业增加值为（ ）。
- A. 1039.6亿元 B. 1059.6亿元 C. 1027.6亿元 D. 1047.6亿元
97. 2014年，苹果、梨、柑橘、猕猴桃和红枣等主要果品总投入占总收益的比例为（ ）。
- A. 0.34:1 B. 0.38:1 C. 0.43:1 D. 0.54:1
98. 2014年，S省主要水果产量最高增速与最低增速之差为（ ）。
- A. 27.3个百分点 B. 28.2个百分点 C. 31.9个百分点 D. 32.8个百分点
99. 资料显示，2013年S省果业增加值占种植业增加值的比重为（ ）。
- A. 26.7% B. 29.2% C. 30.1% D. 31.2%
100. 下列说法正确的是（ ）。

- A. 资料表明，2013年S省石榴产量为11.9万吨B. 2014年红枣收益与投入比为8:1
- C. 2013年S省果业增加值为310亿元 D. 2014年主要果品中，收益与投入比值最大的是柑橘