

## 江山模拟卷（十一）

### 一、言语理解与表达

1. 诗歌，这一文学皇冠上最古老而璀璨的明珠，在当代社会正面临着前所未有的境况。一面是大众偏见的\_\_\_\_\_，譬如“诗歌就是分行”“写诗是无病呻吟”等论调甚嚣尘上；一面是诗歌内部的\_\_\_\_\_，学术话语与商业话语分庭抗礼，业内与大众水火不容。

依次填入划横线部分最恰当的一项是（ ）。

- A. 流行 分歧  
B. 蔓延 抵触  
C. 横行 分裂  
D. 干扰 争议

2. 城市文明指人类创造的城市这种形式本身，以及以城市作为物质载体而创造的一切物质和精神成果。“城市文明”\_\_\_\_\_着有城市出现，“文明”虽然有着更为\_\_\_\_\_和抽象的含义，但是基本是指与城市和文字相联系的特定文化阶段，大多数情况下，城市与文字是同时存在的。

依次填入划横线部分最恰当的一项是（ ）。

- A. 意味 宽泛  
B. 代表 特殊  
C. 标志 深刻  
D. 隐含 广阔

3. 阿兹特克文明的帝国都城——特诺奇蒂特兰，在给人以神秘感的同时，也透出一丝淡淡的忧伤。神话传说与真实故事的\_\_\_\_\_，光辉帝国史与悲惨殖民史的\_\_\_\_\_，令人在心驰神往的同时，感慨时过境迁、沧海桑田。

依次填入划横线部分最恰当的一项是（ ）。

- A. 纠缠 消散  
B. 交织 更迭  
C. 重叠 嬗变  
D. 合契 幻灭

4. ①《国家通用语言文字法》\_\_\_\_\_了，我们要认真学习、宣传和贯彻、实施它。

②国家鼓励各民族互相学习语言文字，国家\_\_\_\_\_普通话，\_\_\_\_\_规范汉字。

③这是共同的道理，古今中外，\_\_\_\_\_。

- A. 颁布 推广 推行 未能免俗  
B. 公布 推行 推广 概莫能外  
C. 颁布 推广 推行 概莫能外  
D. 公布 推行 推广 未能免俗

5. 条纹，作为最简洁而又生机勃勃的视觉设计语言，自石器时代便被广泛运用。彩色条纹依旧不断\_\_\_\_\_于当今时装界，新锐设计师们拒绝了浮华，但同样\_\_\_\_\_着高调。

依次填入划横线部分最恰当的一项是（ ）。

- A. 风靡 保持
- B. 时兴 延续
- C. 流行 维持
- D. 活跃 蕴含

6. 黄土高原的形成和青藏高原的隆升，\_\_\_\_\_了侵蚀和风化的速度，使得高原周围的低洼地区\_\_\_\_\_了大量卵石、沙子和更细的微粒，以至只要大风骤起，西部地区就\_\_\_\_\_飞沙走石、尘土弥漫的景象。

依次填入划横线部分最恰当的一项是（ ）。

- A. 提升 沉淀 产生
- B. 加快 堆积 形成
- C. 提高 聚集 呈现
- D. 加剧 散落 造成

7. 当代大学生应当志存高远、脚踏实地，转变择业观念，坚持从实际出发，\_\_\_\_\_到基层一线和艰苦地方去，把人生的路一步步走稳走实，\_\_\_\_\_在平凡的岗位上创造不平凡的业绩。

- A. 乐于 善于
- B. 勇于 善于
- C. 乐于 易于
- D. 勇于 易于

8. 在生活中，刁难最初似乎是\_\_\_\_\_，但后来却是\_\_\_\_\_。因为一个被生活刁难过的人，都知道该怎样与世界\_\_\_\_\_，也明白生活有时是一\_\_\_\_\_的艺术。

依次填入划横线处最恰当的一项是（ ）。

- A. 伤害 成全 周旋 妥协
- B. 危险 机遇 战斗 坚守
- C. 障碍 机会 斡旋 放弃
- D. 挑战 成功 妥协 坚持

9. 爱迪生的成功和后期的某些失误，在科技文化发展史上具有一定的典型性，很值得后人\_\_\_\_\_。历史证明，在科技文化的发展中，理论家和发明家都非常重要。科学理论只有通过发明家才能\_\_\_\_\_为生产力，但又必须看到，发明者没有科学理论作为后盾，则必然是“短视”的。在爱迪生的时代是这样，在半个多世纪之后的今天依旧是这样，或者说\_\_\_\_\_是这样。

依次填入划横线部分最恰当的一项是（ ）。

- A. 学习 转化 不仅
- B. 学习 演化 更加
- C. 借鉴 演变 不仅
- D. 借鉴 转化 更加

10. 保障粮食安全，确保主要农产品基本供给，是保持国民经济健康持续稳定\_\_\_\_\_的战略需要。

- A. 运转
- B. 运作
- C. 运营
- D. 运行

11. 在经济学领域有“后发劣势”的概念。这指的是落后国家由于发展较迟，因此对发达国家进行模仿，模仿有两种形式，一种是模仿制度，另一种是模仿技术和工业化模式。由于是后发国家，所以可以在没有基础制度的情况下通过技术模仿实现快速发展。然而，这一模仿虽然相对容易实现，但会给长期的发展留下许多隐患。事实上，当前我国老工业基础所面临的一系列问题，\_\_\_\_\_。

填入划横线部分最恰当的一句是（ ）。

- A. 正是我国在工业化进程中后发劣势的体现

- B. 仅仅依靠市场这只无形的手是无法解决的
- C. 意味着我国传统产业的转型升级必须走向纵深
- D. 可通过淘汰落后产能和行业兼并重组等政策加以实现

12. 在中国传统绘画中，作为使笔运墨的方法，笔墨有些像文言文。文言在秦代以前就是一种书面语言，然而即便在当时，文人们在日常生活中也使用“古白话”，不会使用文言文去说话。因此，\_\_\_\_\_。同样，笔墨也成了文人画家隔离包括画工在内的广大民众的一道绘画语言的屏障。

填入划横线部分最恰当的一句是（ ）。

- A. 文言文成了读书人在特定圈子特定时候的特权
- B. 除了现实世界，文人们还拥有另一个更丰富的世界
- C. 文言文便有了一种特殊的韵味和魅力
- D. 文言文成为中国文化的重要载体

13. 将下列句子组成一段逻辑连贯、语言流畅的文字，排列顺序最合理的是（ ）。

- ①然而，繁华盛景背后的旧制度却已是风烛残年、百孔千疮
- ②德国总理默克尔赠给了中国贵宾一幅古老地图，在无数国人心中激起波澜
- ③在当时已经踏上现代化之路的欧洲人眼里，君权专制的中华帝国“翻来覆去只是一座雄伟的废墟”
- ④那幅绘于乾隆年间的中国地图，刻画的是中国封建史上最后一个辉煌的年代

- A. ②③①④
- B. ①②④③
- C. ②④①③
- D. ③②④①

14. 下列各句中，没有语病的一句是（ ）。

- A. 司法程序的透明与否，法官素质的高低，法院监督机制的强弱，是做到司法公正的重要保障
- B. 百年奥运的历史上，不乏有著名运动员因服用兴奋剂被赛会收回金牌并决定给予取消参加下一届奥运会的资格
- C. 中国古代钱币最晚在西周就已经出现，发展于东周，统一于秦皇，此后历经汉唐宋元明清两千多年的漫长历史，演进出了系统完整、内容丰富、脉络清晰、内涵博大的中国古代钱币文化
- D. 深圳市在司法公开领域的探索和实践卓有成效，尤其是审判公开对普通市民的法律水平有了很大的提高

15. 字库塔，也称字库、惜字塔、焚字塔、敬字亭等等，顾名思义，是古时焚烧字纸的塔形建筑。古人认为文字神圣而崇高，写有文字的纸张不应随意丢弃，哪怕废纸也需洗净焚化。焚烧字纸时非常郑重，不但有专人，还有专门的礼仪。有些地方的村民还组织“惜字会”，除了自愿外，人们义务上街收集字纸。所有用过的经史子集，磨损残破之后，要先将其供奉在字塔库内十年八载，然后择良辰吉日行礼祭奠之后，再点火焚化。从明代开始，字库塔在中国南方出现，至清代，敬惜字纸的信仰发展巅峰，现在遗存的字库塔也多为清代建造。

根据这段文字，可以看出作者的主要意图是（ ）。

- A. 呼吁今人勿失对字体的敬畏
- B. 肯定古人对字纸的神圣信仰
- C. 阐述古人惜字敬字具体仪式
- D. 说明字库塔建造的历史变迁

16. 法国的候车大厅设有故事自动分发机。上设1、3、5三个圆形按钮，分别代表阅读耗时一分钟、

三分钟和五分钟的故事，底下设有打印纸出口。按下任意按钮，就会随机打出一张印有故事的小纸条，供旅客在候车时或旅途中阅读，且不收一分钱。所谓故事，并非只是段子，它们中大多数是“风雅”的正规文学作品，有小说、诗歌、散文、童话等等。据了解，故事自动分发机项目在启动之初，就搜集到4万篇各种体裁的文学作品，且这些作品全部是原创，这在其他国家或许是难以想象的。

从这段文字中无法推出的是（ ）。

- A. 故事分发机为原创作品提供了发布平台
- B. “免费写，免费看”的模式会持续下去
- C. 故事自动分发机满足了乘客的文化需求
- D. 故事分发机契合了法国浓厚的文学氛围

17. 中国人常会举全族之力兴建家庙，以此弘扬家族传承，彰显先祖荣光；集地方财力设立乡祠，以此纪念故土先贤，宣示人杰地灵。至于身处异乡的客商们，则集资兴建会馆，以乡谊抱团，互相帮衬彼此提携。这是中国传统文化的特色。

下列没有体现文中所指的“中国传统文化特色”的是（ ）。

- A. 越鸟南栖
- B. 叶落归根
- C. 安土重迁
- D. 功成身退

18. 标准是人类文明进步的成果。从中国古代的“车同轨、书同文”，到现代工业规模化生产，都是标准化的生动实践。伴随着经济全球化深入发展，标准化在便利经贸往来、支撑产业发展、促进科技进步、规范社会治理中的作用日益凸显。要携手共建网络空间命运共同体，同样要通过完善规则体系，形成“通用语言”，进而互联互通、规范约束、系统发展。

作者接下来最有可能讲述的是（ ）。

- A. 如何完善网络空间规则体系
- B. 标准化的具体实施
- C. 共建网络空间命运共同体的理由
- D. 实施标准化的途径

19. 棉花花俗称草花，是棉花形成棉桃前所开的花朵，一直作为棉花产业的副产物被废弃。中国科学院新疆理化技术研究所的科研人员在对棉花花进行系统的化学成分分析研究时发现，棉花花含有丰富的黄酮类物质，具有良好的治疗老年痴呆的功效。他们采用现代工艺技术，将棉花花中的黄酮类物质提取出来，制成剂量小、药效明显、服用方便的“棉花花总黄酮片”，用于治疗轻中度老年痴呆症。2014年6月获批新疆首个中国中药5类新药临床试验。

对这段文字概括最准确的是（ ）。

- A. 黄酮类物质有助于治疗轻中度老年痴呆症
- B. 中国科学家变废为宝，发现棉花花新的价值
- C. “棉花花总黄酮片”获批新疆首个中国中药5类新药临床试验
- D. 我国科学家从棉花花中提取治疗轻中度老年痴呆症药并成功转让药企

20. 2016年初，诺贝尔经济学奖得主、美国经济学家约瑟夫·斯蒂格利茨在达沃斯年会上强调，过去15年，尤其是过去7年以来，中国一直是全球经济的发动机，包括非洲和拉丁美洲等地区都受益于中国经济的增长。中国经济的快速发展导致其对自然资源的需求快速上升，很显然，这种模式不可能持续，中国必须转变增长模式，从过去注重量的增长转变到注重质的提升，降低资源消耗。

这段文字主要强调的是（ ）。

- A. 十几年来中国一直在带动全球经济的发展
- B. 快速发展的中国经济对自然资源需求增长
- C. 中国经济快速发展惠及了非洲和拉美地区
- D. 中国经济增长模式面临挑战，必须加快转型

21. “中国民间可能隐藏着7000个梅西”，有外媒如此形容足改方案激发的人才潜能。但仅以发掘 球星、培养职业球员为标尺，反倒背离了校园足球的真谛。让足球真正扎根，取决于孩子们的“获得感”，快乐足球比精英足球更有生命力。

关于这段文字，以下理解正确的是（ ）。

- A. 剥离足球功利性，潜移默化植入兴趣，校园足球才有发展后劲
- B. 校园足球可以打破部门壁垒，理顺管理体制，为“体教结合”注入动力
- C. 让足球进校园，可以迅速撬动学校体育改革，夯实足球人才根基
- D. 校园足球的成败决定着中国足球的未来

22. 发轫于泥土间的许多传统戏曲门类都离不开田土间的那方舞台，和舞台下与这个剧种同宗同源的乡里乡亲。黄土高原上的信天游，离不开那片高天厚土；烟雨朦胧中的黄梅戏，离不开白墙黑瓦的徽派风情；川剧就该根植于川蜀的青山绿水；花鼓戏也离不开三湘四水一地一乡音……那是孕育这一剧种的山水，台下是最懂得这一剧种的戏迷，他们或许很少有机会走进“高大上”的剧场，但他們是最懂这门戏曲艺术的行家。

关于这段文字，以下理解正确的是（ ）。

- A. 与戏曲研究专家相比，乡里乡亲才是最懂传统戏曲艺术的行家
- B. 川剧一旦离开川蜀的青山绿水，就无法生存和发展
- C. 传统戏曲门类只有在田土间的那方舞台上演出，才有最广泛的受众
- D. 很多传统戏曲门类都与当地的风土人情紧密相连，反映了地域文化的特色

23. 法律的权威源自人民的内心拥护和真诚信仰。有了好的法律，没有严格执行，就会形成“破窗效应”，损害法律尊严，动摇法律根基。但是，在强调法制时，不少人却有意无意地将“民”排除在外，津津乐道所谓“法治不是治民，而是治官”。的确，我们谈依法治国、依法执政和依法行政，主要是针对行使权力者而言的，要求切实抓住领导干部这个“关键少数”。然而，无论治国、执政还是行政，都需要公民的配合。公民既需要作为相对人服从相关权力行使的结果，又需要根据法定规定，通过各种途径和形式，参与到“管理国家事务、管理经济和文化事业、管理社会事务”中来，所以，一方面要强调党员干部尤其是领导干部起好模范带头作用，另一方面要坚持走法治群众路线，扎实培育公民守法意识。要让人们确实体会到并铭记在心，公民不履行法定的义务，和行政主体不履行法定职责一样，都是对公共利益和他人合法权益的侵犯；违法或者不当的私人行为应当依法制裁和纠正。

这段文字意在说明（ ）。

- A. 在遵守既有法律的基础上建立健全政府依法决策机制
- B. 法律实施的时效性依赖于公民参与
- C. 法律是全体人民总体意思表示的一致
- D. 违法或者不当行使权力应当受到制裁和纠正

24. 使市场在资源配置中起决定性作用，绝不是说市场是万能的，可以把一切交给市场；更不是认为政府对市场可以撒手不管。更好发挥政府作用，一方面是要解决政府越位，即对市场干预过多和干预不当问题；另一方面是要解决政府缺位，政府要把该做的事做好，把该管的事管好。政府“有形的手”有效配合市场“无形的手”发挥作用，才能保证市场经济健康发展。对

这段文字的主旨理解最准确的是（ ）。

- A. 政府要把该管的事管牢管好
- B. 要正确处理政府与市场的关系

C. 市场在资源配置中具有天然优势

D. 政府的监管是对市场失灵的矫正

25. 目前, 各种新的技术还在测试中, 填埋也不是废物处理的唯一方式。垃圾的焚烧和循环利用也在许多国家的废物处理中占较大比例, 而且这两种方式正在经历技术变革并日趋完善。传统意义上的循环利用, 如金属、塑料及纸张的回收利用, 仍然发挥较大作用。但是最快的废物循环方式往往是最简单的方法: 垃圾堆肥。

从这段文字中不能得出的结论是 ( )。

- A. 垃圾焚烧正在经历技术变革并日趋完善 B. 填埋、焚烧、循环利用是常用的废物处理方式  
C. 传统的循环利用方式包括可再生物资的回收 D. 垃圾堆肥不久将取代其他废物循环利用方式

## 二、数量关系

26. 3, 11, 35, 107, ( )

- A. 321 B. 324 C. 323 D. 322

27. 1, 1.2, 1.8, 3.6, 9, ( )

- A. 12 B. 16.2 C. 25.2 D. 27

28. 13, 56, 99, 1312, 1715, 2118, 2521, 2924, 3327, ( ), ……

- A. 3727 B. 3730 C. 3733 D. 3736

29. 11, 6, 21, -16, 1, 36, ( )

- A. -53 B. -21 C. 21 D. 53

30.  $\sqrt{2}$ , , 2,  $2\sqrt{3}$ ,  $4\sqrt{3}$ , ( )

- A.  $6\sqrt{5}$   
B.  $4\sqrt{15}$   
C.  $6\sqrt{3}$   
D.  $7\sqrt{15}$

31. 2, 4, 12, 48, 240, ( )

- A. 1645 B. 1440 C. 1240 D. 360

32. 12, 23, 35, 47, 511, ( )

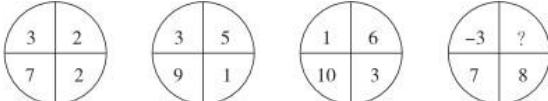
- A. 613 B. 612 C. 611 D. 610

33. 11, 12, 16, 39, 67, 122, ( )

- A. 228 B. 230 C. 336 D. 340

34. 6, 14, 22, ( ), 38, 46

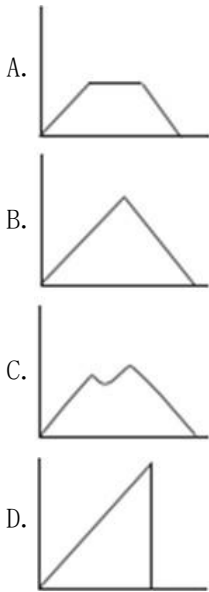
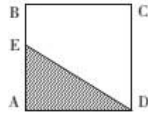
- A. 30 B. 32 C. 34 D. 36

35. 

- A. 1 B. 2 C. 3 D. 4

36. 如下图, 正方形ABCD边长为10厘米, 一只小蚂蚁E从A点出发匀速移动, 沿边AB、BC、CD

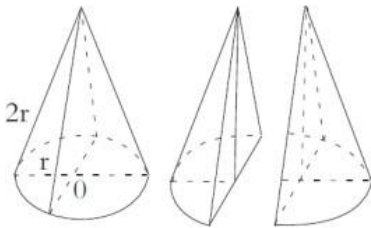
前往D点。问哪个图形能反映三角形AED的面积与时间的关系？（ ）



37. 有一根9节的竹子，其任意节与相邻节的长度成等差数列，上面4节的长度共3尺，下面3节的长度共4尺，则从上到下第6节的长度为多少尺？（ ）

- A.  $\frac{66}{65}$
- B.  $\frac{65}{66}$
- C.  $\frac{33}{37}$
- D.  $\frac{37}{33}$

38. 一实心圆锥体的底面半径为 $r$ ，母线长为 $2r$ 。若截圆锥体得到两个同样的锥体（如图），则所得两个锥体的表面积之和与原圆锥体表面积的比值是（ ）。



- A.  $\frac{1}{2}$
- B.  $\frac{\pi + 4\sqrt{3}}{6}$
- C.  $\frac{3\pi + 2\sqrt{3}}{3\pi}$
- D.  $\frac{3\pi + 4}{6\pi}$

39. 在一次航海模型展示活动中，甲乙两款模型在长100米的水池两边同时开始匀速航行，甲款模型航行100米要72秒，乙款模型航行100米要60秒，若掉头转身时间略去不计，在12分钟内甲乙两款模型相

遇次数为（ ）。

- A. 9次                                  B. 10次                                  C. 11次                                  D. 12次

40. 某次知识竞赛的决赛有3人参加，规则为12道题，每题由1人以抢答方式答题，正确得10分，错误扣8分。如果最后所有人得分都是正分，且回答问题最多的人是得分最少的人，那么前两名之间的分差最多为多少分？（ ）

- A. 8    B. 12    C. 20    D. 40

41. 某车队运输一批蔬菜，如果每辆汽车运3500千克，那么还剩下5000千克；如果每辆汽车运4000 千克，那么还剩下500千克。则该车队有（ ）辆汽车。

- A. 8    B. 9    C. 10    D. 11

42.  $\frac{2014 \times 1.5 - 2013 + \frac{1}{3}}{2014^2 - 2013 \times 2015}$  的值为（ ）。

- A.  $1511\frac{1}{4}$   
B.  $1972\frac{1}{3}$   
C.  $2013\frac{2}{3}$   
D.  $2015\frac{3}{4}$

43. 设  $a = 1 + \frac{1}{3} + \frac{1}{9} + \dots + \frac{1}{3^{2014}}$ ，则  $100a$  的整数部分是（ ）。

- A. 148    B. 149    C. 150    D. 100

44. 一菱形土地的面积为  $\sqrt{3}$  平方公里，菱形的最小角为  $60^\circ$ ，如果要将这一菱形土地向外扩张变成一正方形土地，问正方形土地边长最小为多少公里？（ ）

- A.  
6  
B.  
5  
C.  
 $2\sqrt{6}$   
D.  
 $\sqrt{6}$   
E.  
 $\sqrt{5}$   
F.  
2  
G.  
 $\sqrt{3}$   
H.  
 $\sqrt{2}$

45. 一个圆形的草地中央有一个与之同心的圆形花坛，在花坛四周和草地四周上各有3个不同的点，



安放了洒水的喷头。现用直管将这些喷头连上，要求任意2根喷头都能被一根水管连通，问最少需要多少根水管？（一根水管上可以连接多根喷头）（ ）

- A. 5    B. 8    C. 20    D. 30

46. 数字3、5至少都出现一次的三位数有多少个？（ ）

- A. 48    B. 52    C. 54    D. 60

47. 甲杯中有浓度为20%的盐水1000克，乙杯中有1000克水。把甲杯中盐水的一半倒入乙杯中，混合后再把乙杯中盐水的一半倒入甲杯中，混合后又把甲杯中的一部分盐水倒入乙杯中，使得甲、乙两杯中的盐水同样多。问最后乙杯盐水的浓度为多少？（ ）

- A. 6%    B. 7%    C. 8%    D. 9%

48. 某高校向学生颁发甲、乙两项奖学金共10万元。已知每份甲等、乙等奖学金的金额分别为3000元和1000元，每人最多只能获得一项奖学金，获得乙等奖学金的人数在获得甲等奖学金人数的2倍到3倍之间。问最多可能有多少人获得奖学金？（ ）

- A. 62    B. 64    C. 66    D. 68

49. 整数8可以写成1、1、2、4这4个整数的和，也可以写成这4个整数的乘积。那么最少有多少个不等于2008的整数，使得它们的和等于2008，它们的乘积也等于2008？（ ）

- A. 1002    B. 1004    C. 1006    D. 2

50. 某三年制普通初中连续六年在校生人数为 $X_1$ 、 $X_2$ 、 $X_3$ 、 $X_4$ 、 $X_5$ 、 $X_6$ ，假设该校所有学生都能顺利毕业，那么前三年的入学学生总数与后三年的入学学生总数之差为（ ）。

- A.  $(X_1+X_2+X_3) - (X_4+X_5+X_6)$    B.  $X_1-X_4$    C.  $X_3-X_6$    D.  $(X_3-X_1) - (X_6-X_4)$

### 三、判断推理

51. 口罩：唇膏

- A. 电源：电线                                  B. 布：颜料                                  C. 油纸：雨伞                                  D. 化肥：犁头

52. 饭店：厨师：菜肴

- A. 监狱：狱警：囚犯   B. 工厂：工人：产品   C. 舞台：演员：道具   D. 学校：教师：学生

53. 高大：矮小

- A. 黑色：白色                                  B. 男人：女人                                  C. 明亮：昏暗                                  D. 失去：得到

54. 礼器：铭文

- A. 股市：股票                                  B. 书籍：眉批                                  C. 内阁：首相                                  D. 轮船：航线

55. 雨：雪

- A. 热水瓶：盘子                                  B. 加热器：电容器                                  C. 音响：显示器                                  D. 电视机：游戏机

56. 绿洲：荒漠

- A. 开放：乐观                                  B. 白玉：玉石                                  C. 翠柳：黄花                                  D. 冷静：紧张

57. 泥土：煨烧：陶瓷

- A. 粮食：发酵：白酒   B. 玉石：雕刻：饰品   C. 学生：学习：人才   D. 煤炭：燃烧：热能

58. 左手：右手

- A. 黑色：白色                      B. 幸存者：遇难者                      C. 晴天：阴天                      D. 老人：孩子

59. 有些单位实行竞争性薪酬体系，员工的工作业绩会与他人对比评估，由此决定是否能够加薪。在庆业公司，加薪往往要考虑到员工的教育经历和工作经验。但是，庆业公司的新任总经理认为，应该倡导团队精神，在公司中营造一种和谐融洽的工作环境。

以下哪项如果为真，可以成为新任总经理观点成立的前提？（ ）

- A. 竞争是毫无价值的                      B. 合作的价值高于竞争  
C. 公司不同，环境不同                      D. 是否加薪没有统一标准

60. 天气与我们息息相关。天气预报是很多人每天都要关注的事情。但它有时候并不准确：明明“说好”是晴天，但自己刚出门就被大雨淋了。不过，我国气象科学技术虽然与发达国家存在一定的差距，但已基本上接近。

以下哪项结果为真，最能解释上述现象？（ ）

- A. 24小时晴雨预报准确率基本达80%                      B. 预报消息越新，其准确率也就越高  
C. 美国的暴雨准确率一般也只有20%                      D. 地域性较强的天气，预报准确率低

61. 在许多人看来，从一而终的就是好婚姻。其实，这种看法并不正确。婚姻并不意味着身体的忠诚，而且还包含了情感的相互扶持。所以不能说只要没有第三者，婚姻就没有问题。当下中国有许多婚姻是这样一种模式：夫妻并没有出轨，但双方都无法从婚姻中获得抚慰、滋养和治愈。实际上，没有单方面“犯错”的人，每个人都需要为自己的婚姻付出更多的努力。

根据以上论述，可以推出的是（ ）。

- A. 从一而终的并不就是好婚姻                      B. 没有第三者的婚姻也会有问题  
C. 只有出现了第三者，婚姻才会有问题                      D. 当下中国大多数婚姻已经出了问题

62. 精神病其实不是一个病理学的概念，而是一个社会学的概念，假如家属或权力机构强行把一个人送入精神病院，那么，这个人几乎只能被诊断成“精神病人”。家属和权力机构对他的“症状”的描述，成为判断他是否是精神病人的重要信息。而他如果说受到了迫害，并进行反抗，则恰恰符合精神病诊断标准中关于“妄想”“躁狂”之类的描述。他的自辩权利也被这个无敌的逻辑取消：你说自己不是精神病，那么，你恰恰在此时是，因为你拒绝承认自己有病——这正是精神病人的一种表现；而你承认了，你当然就是了。

以下哪项最可能从上述断定中推出？（ ）

- A. 精神病的诊断标准仅仅是“精神病人”的家属或相关权力机构的指控  
B. 家属或权力机构将某人送入精神病院，只是为了让他得到及时有效的治疗  
C. 大多数在精神病院治疗的精神病人其实并没有精神病

D. 在自己是否患有精神病这一问题上，被强制关入精神病院的个人的表达是苍白无力的

63. 统计数据表明，大多数汽车事故出在中等速度的行驶中，极少数的事故是出在大于150公里/小时的行驶速度上的，这就意味着高速行驶比较安全。

以下最能反驳上述论证的一项是（ ）

- A. 高速行驶如果发生爆胎的话是很危险的  
B. 由于多数人是中等速度开车，所以，多数事故出在中等速度的行驶中

C. 高速行驶的时候，特别是当有突发事件发生时，由于速度过快就很难控制住

D. 与中等速度行驶中出现的汽车事故损害后果相比，高速行驶出现的汽车事故损害后果要严重得多

64. 最有希望的成功者，并不是那些才干出众的人，而是那些善于抓住每一次机遇努力去开拓奋斗的人。

根据以上信息，得不出以下哪项？（ ）

A. 有的最有希望的成功者不是那些才干出众的人 B. 有的才干出众的人并不是最有希望的成功者 C.

有些才干出众的人是那些善于把握机遇的人 D. 有些善于把握机遇的人是最有希望的成功者

65. 人口平均预期寿命是反映一个国家和地区人民健康水平的重要指标。第六次全国人口普查显示，2010年我国人口平均预期寿命达74.83岁，而建国初期我国人口平均预期寿命只有35岁左右。因此，六十多年前人们认为的老年人现在看起来其实只是中年人。

以下哪项如果为真，最能削弱上述观点？（ ）

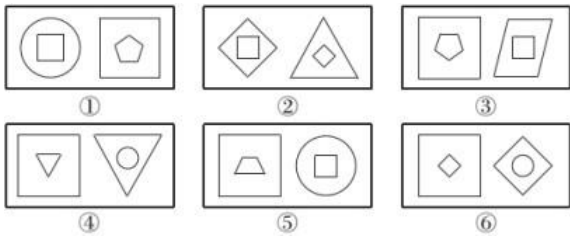
A. 建国以来，新生婴儿死亡数量的减少是人口平均预期寿命增加的最重要原因 B.

建国初期，国家正从战乱转向和平，全国形势仍不稳定，人口数量远低于现在 C. 建

国初期，生活环境比较艰苦，人们的营养水平比现在差得多

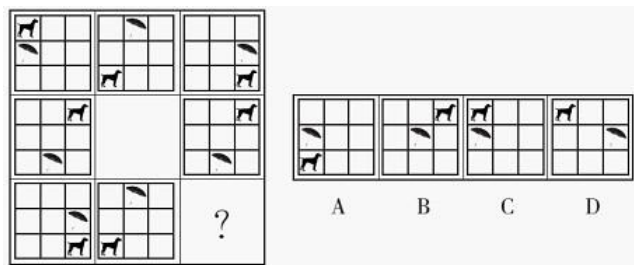
D. 随着医学的发展，医疗水平比建国初期有很大提高

66. 把下面的六组图形分为两类，使每一类图形都有各自的共同特征和规律，分类正确的一项是（ ）。



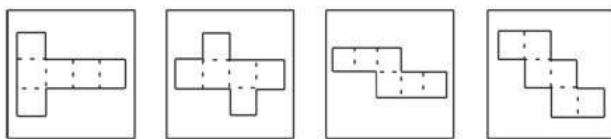
A. ①④⑥，②③⑤ B. ①③⑥，②④⑤ C. ①③④，②⑤⑥ D. ①②④，③⑤⑥

67. 下列选项中，符合所给图形的变化规律的是（ ）。



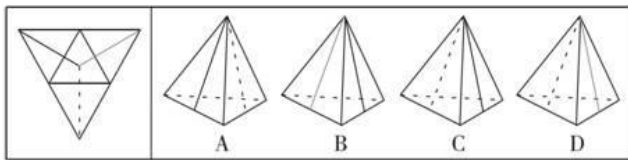
A. A B. B C. C D. D

68. 下列四块纸板均由六个正方形组成，沿虚线折叠，能形成立方体的有几个？（ ）



A. 1 B. 2 C. 3 D. 4

69.



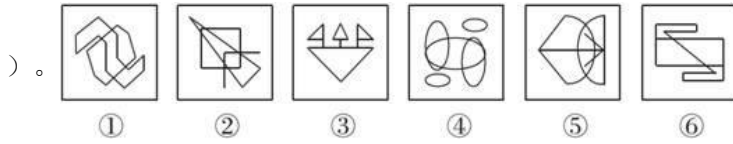
A. A

B. B

C. C

D. D

70. 把下面的六个图形分为两类，使每一类图形都有各自的共同特征或规律，分类正确的一项是（



A. ①②③，④⑤⑥

B. ①④⑥，②③⑤

C. ①②⑥，③④⑤

D. ①⑤⑥，②③④

#### 四、常识判断

71. 17岁的刘某在工厂打工，月收入3000元。某日，刘某外出忘关水龙头导致租住屋浸水，房东要求赔偿遭拒，遂将其诉至法院。下列关于本案的说法正确的是（ ）。

A. 法院应判决刘某独立承担赔偿责任，因其是完全行为能力人

B. 法院应判决刘某承担主要赔偿责任，因其是限制行为能力人

C. 法院应判决刘某家长承担赔偿责任，因刘某是无民事行为能力人

D. 法院应判决刘某家长承担连带赔偿责任，因为刘某是部分行为能力人

72. 中关村国家自主创新示范区是我国第一个国家自主创新示范区。下列有关中关村国家自主创新示范区的表述，正确的有（ ）。

A. 中关村国家自主创新示范区的目标是成为具有全球影响力的科技创新中心

B. 中关村国家自主创新示范区起源于二十世纪八十年代初的“中关村电子一条街”

C. 十二五期间，中关村国家自主创新示范区将重点建设“两城两带”，两城即中关村科学城、未来科技城

D. 中关村国家自主创新示范区目前“一区多园”的空间格局包括海淀园、丰台园、昌平园、亦庄园、顺义园等十个园区

73. 下列关于公务员职务升降的做法，错误的是（ ）。

A. 甲在省司法厅表现了特别优秀的才能，直接从科长晋升为处长

B. 市财政局政策法规处副处长退休，乙在全市财政局公务员系统内通过公开竞争上岗

C. 市工商局宣传处副处长辞职，丙通过面向社会的公开选拔，任职该岗位

D. 丁在区公安局试用期后第一年度定期考核中被确定为不称职，被辞退

74. 中国文学史上有很多父子作家，如曹操和曹丕、曹植，王羲之和王献之，苏洵和苏轼、苏辙，南唐中主李璟和后主李煜。以下诗歌名句是由父子两人分别创作的是（ ）。

A. 月明星稀，乌鹊南飞——本是同根生，相煎何太急

B. 无边落木萧萧下，不尽长江滚滚来——一骑红尘妃子笑，无人知是荔枝来

C. 但愿人长久，千里共婵娟——幽居一室少尘缘，妻子相看意自闲

D. 落花人独立，微雨燕双飞——春花秋月何时了，往事知多少

75. 古代不少建筑因为名家名篇而驰名后世。下列历史名楼与名人对应不正确的是（ ）。

- A. 岳阳楼——范仲淹
- B. 滕王阁——王勃
- C. 鹳雀楼——杜牧
- D. 黄鹤楼——崔颢

76. 公务员小李因工作遇到一些困难和挫折，最近处于情绪消沉状态，下列最适合引导他摆脱这种状态的诗句是（ ）。

- A. 少年辛苦终身事，莫向光阴惰寸功
- B. 莫愁前路无知己，天下谁人不识君
- C. 我自横刀向天笑，去留肝胆两昆仑
- D. 雄关漫道真如铁，而今迈步从头越

77. 为纪念中国人民抗日战争暨世界反法西斯战争胜利70周年，我国于2015年9月3日举行大阅兵，大阅兵是对武装力量进行检阅的仪式。下列不属于我国武装力量的是（ ）。

- A. 解放军第二炮兵部队
- B. 武警内卫部队
- C. 边防民兵分队
- D. 公安刑警大队

78. 王某在大街上遛狗。张某故意挑逗狗，之后跑掉，结果狗将路过的孙某咬伤，并继续追赶孙某。王某为阻止狗继续伤人，在狗不听使唤的情况下，用木棍将狗的腿打断。对此，下列表述正确的是（ ）。

- A. 孙某可以向张某或王某要求赔偿
- B. 孙某只能向王某要求赔偿
- C. 孙某要求王某承担赔偿责任，必须证明王某存在过错
- D. 王某不能要求张某赔偿狗受伤的损失

79. 编造、故意传播虚假恐怖信息，严重扰乱社会秩序，具有下列哪一情形的，应当处五年以上有期徒刑？（ ）

- A. 致使航班备降或返航
- B. 造成直接经济损失二十万元以上的
- C. 多次编造、故意传播虚假恐怖信息
- D. 造成三人以上轻伤或者一人以上重伤

80. 关于存款保险制度，下列说法错误的是（ ）。

- A. 存款保险制度起始于20世纪30年代大萧条之后的美国
- B. 存款保险制度有利于保护存款人的利益，提高公众对银行体系的信心
- C. 存款保险由存款人向存款保险公司投保

D. 存款保险通常只赔偿存款人因银行倒闭而遭受的部分损失

81. 关于农作物，下列说法正确的是（ ）。

- A. 中国是最早栽培大豆的国家
- B. 玉米是通过丝绸之路传入中国的
- C. 花生是世界上最主要的油料作物
- D. 印度是世界上最大的稻米出口国

82. 下列生化指标与体检项目对应正确的是（ ）。

- A. 转氨酶——血常规检查
- B. 总胆固醇——血脂检查
- C. 血肌酐——肝功能检查
- D. 血小板——肾功能检查

83. 面对灾害，下列做法正确的是（ ）。

- A. 强烈破坏性地震发生时，在低楼层的人应跳楼逃生
- B. 火灾发生时浓烟弥漫，应尽量采取低姿势爬行逃生
- C. 雷电交加时，在空旷多的野外尽量站在高处
- D. 刮大风时，应尽量将机动车辆停靠在高楼和大树下方

84. 2013年7月1日以后，上海市所有派出所均可以办理身份证登记指纹信息，此举可以有效防范冒

用他人居民身份证以及伪造、变造居民身份证等违法犯罪行为的发生，更好地保护公民合法权益。下列关于身份证的表述不正确的是（ ）。

- A. 公民身份号码的编码对象是具有中华人民共和国国籍的公民
- B. 十六周岁至四十五周岁的公民，发给有效期二十年的居民身份证
- C. 四十六周岁以上的公民，发给长期有效居民身份证
- D. 未满十六周岁的公民，由监护人代为申请领取居民身份证

85. 下列关于植物食用部分的叙述不正确的是（ ）。

- A. 马铃薯的食用部分是根部
- B. 洋葱的食用部分是茎部
- C. 甘薯的食用部分是根部
- D. 甘蓝的食用部分是叶部

### 五、资料分析

抽样调查数据显示，2014年1~5月A区农村居民人均现金收入9053元，同比增长10.3%，增速较去年同期提高0.4个百分点，其中人均工资性收入为5421元，同比增长8.5%；人均家庭经营收入为760元，同比下降0.6%；人均财产性收入为1241元，同比增长28.7%；人均转移性收入为1631元，同比增长10%。

2014年1~5月A区农村居民人均消费性支出5081元，同比增长9.9%，增速较去年同期下降1.7个百分点。

2014年1~5月A区农村居民人均生活消费支出情况

	1~5月(元)	同比增长(%)
生活消费支出	5081	9.9
1. 食品消费	2250	4.8
2. 衣着	472	8.6
3. 居住	695	18.0
4. 家庭设备、用品及服务	314	1.1
5. 交通和通讯	491	22.9
6. 文化娱乐用品及服务	305	4.5
7. 医疗保健	416	22.3
8. 其他商品和服务	138	21.9

86. 2013年1~5月A区农村居民人均现金收入增速比人均消费性支出增速（ ）。

- A. 高0.4个百分点
- B. 高2.1个百分点
- C. 低1.3个百分点
- D. 低1.7个百分点

87. 2014年1~5月A区农村居民四项人均现金收入同比增量由高到低依次为（ ）。

- A. 工资性收入、转移性收入、财产性收入、经营性收入
- B. 财产性收入、转移性收入、工资性收入、经营性收入
- C. 工资性收入、财产性收入、转移性收入、经营性收入
- D. 经营性收入、工资性收入、转移性收入、财产性收入

88. 一个支出水平与平均水平相当的A区农村居民三口之家，其2014年1~5月月均居住支出为多少元？（ ）

- A. 139
- B. 417
- C. 695
- D. 2085

89. 2013年1~5月A区农村居民8类生活消费支出中，人均支出最多的三类是（ ）。

- A. 家庭设备用品及服务、文化体育娱乐用品及服务、其他商品和服务

- B. 交通和通讯、居住、食品消费
- C. 交通和通讯、医疗保健、其他商品和服务D.
- 食品消费、衣着、居住

90. 下列关于2014年1~5月A区农村居民收入和支出情况的说法, 正确的是 ( )。

- A. 人均现金收入比人均消费性支出高4000多元B.
- 人均食品消费支出超过生活消费支出的一半
- C. 人均医疗保健支出同比增量高于人均衣着支出同比增量 D.
- 人均交通和通讯支出占消费性支出比重低于上年水平

某年度某机构关于中国宠物主人消费行为及倾向调查回收的10680份有效问卷显示: 女性养宠者占58.1%, 宠物主人为“80~90后”占79.5%。将宠物定义为“孩子”“亲人”“朋友”和“宠物”的分别为54.5%、33.4%、7.7%和3.2%。8.9%的人月开销在100元以内, 49.4%的人开销在101至500元之间, 而花费在501至1000元之间的达到25%, 月消费1000元以上的人群达到16.4%。在购买物品方面, 购买宠物食物的人数达到有效问卷总人数的94.5%, 其次为药品、保健品以及日用品、玩具、服饰五项, 均接近60%。宠物主人外出时, 四成“委托亲朋照顾”, 三成“一起带走”, 委托寄养还不到20%。在训练方面, 99%的宠物处于自主训练或放任生长的状态, 但近一半人希望爱宠得到专业训练。在购买渠道方面, 74%的被访者选择综合电商平台, 选择线下综合商店或专卖店者为53.3%, 选择宠物类垂直电商平台占33.6%, 但其复购率更高。值得注意的是, 目前宠物主人对购物类O2O服务有选择意向的不足4.0%。

- 91. 问卷中, 男性养宠者占养宠人群的比重为 ( )。
  - A. 58.1%
  - B. 51.9%
  - C. 41.9%
  - D. 40.9%
- 92. 问卷中对宠物没有花费的人数约为 ( )。
  - A. 38
  - B. 36
  - C. 34
  - D. 32
- 93. 问卷中, 选择综合电商平台和选择购物类O2O服务的消费者人数之比为 ( )。
  - A. 小于2.2:1
  - B. 大于2.2:1
  - C. 小于18.5:1
  - D. 大于18.5:1
- 94. 问卷中, 在药品、保健品以及日用品、玩具、服饰方面有花销的总人次最可能有 ( )。
  - A. 6408
  - B. 9612
  - C. 16020
  - D. 32040
- 95. 根据问卷, 下列判断错误的是 ( )。
  - A. 只有1%的宠物接受过训练, 专业训练消费潜力巨大 B.
  - 绝大部分宠物主人对宠物的定义超越了宠物本身C.
  - 月均消费在101~1000元的是宠物消费的主流
  - D. 购物类O2O服务的市场还有待培育

某年度某机构关于中国宠物主人消费行为及倾向调查回收的10680份有效问卷显示: 女性养宠者占58.1%, 宠物主人为“80~90后”占79.5%。将宠物定义为“孩子”“亲人”“朋友”和“宠物”的分别为54.5%、33.4%、7.7%和3.2%。8.9%的人月开销在100元以内, 49.4%的人开销在101至500元之间, 而花费在501至1000元之间的达到25%, 月消费1000元以上的人群达到16.4%。在购买物品方面, 购买宠物食

物的人数达到有效问卷总人数的94.5%，其次为药品、保健品以及日用品、玩具、服饰五项，均接近60%。宠物主人外出时，四成“委托亲朋照顾”，三成“一起带走”，委托寄养还不到20%。在训练方面，99%的宠物处于自主训练或放任生长的状态，但近一半人希望爱宠得到专业训练。在购买渠道方面，74%的被访问者选择综合电商平台，选择线下综合商店或专卖店者为53.3%，选择宠物类垂直电商平台的占33.6%，但其复购率更高。值得注意的是，目前宠物主人对购物类O2O服务有选择意向的不足4.0%。

96. 问卷中，男性养宠者占养宠人群的比重为（ ）。

- A. 58.1%                      B. 51.9%                      C. 41.9%                      D. 40.9%

97. 问卷中对宠物没有花费的人数约为（ ）。

- A. 38                              B. 36                              C. 34                              D. 32

98. 问卷中，选择综合电商平台和选择购物类O2O服务的消费者人数之比为（ ）。

- A. 小于2.2:1                      B. 大于2.2:1                      C. 小于18.5:1                      D. 大于18.5:1

99. 问卷中，在药品、保健品以及日用品、玩具、服饰方面有花销的总人次最可能有（ ）。

- A. 6408                              B. 9612                              C. 16020                              D. 32040

100. 根据问卷，下列判断错误的是（ ）。

- A. 只有1%的宠物接受过训练，专业训练消费潜力巨大  
B. 绝大部分宠物主人对宠物的定义超越了宠物本身  
C. 月均消费在101~1000元的是宠物消费的主流  
D. 购物类O2O服务的市场还有待培育