







从有了输液，不仅“挂个水好得快”被医生推荐，而且患者群体也对“输液好得快”普遍认同，主动要求医生输液的不在少数，有些患者还对医生不给输液颇有微辞。

这段文字意在说明（ ）。

- A. 患者缺乏科学的健康知识
- B. 人们对输液存在认识误区
- C. 输液见效快是其最大缺陷
- D. 推荐输液的医生不够专业

17. 历史上全球霸主衰落的原因往往是科技领袖地位的丧失，从工业革命到电气革命的变迁使得全球霸主从英国变为美国，而目前美国仍然处于全球科技创新的前沿位置，仍然是发达国家的领头羊。尽管潜在增长率有所下降、美国经济也许难以再现20世纪80年代的“里根繁荣”和90年代的“新经济繁荣”，但仍有很强的自我调整能力，在克服金融危机冲击之后，家庭、政府和企业的资产负债表修复均取得显著进展，美国实体经济竞争力将再次显现王者底蕴。

根据这段话，作者对美国前景的判断是（ ）。

- A. 力不从心
- B. 任重道远
- C. 绝处逢生
- D. 东山再起

18. 美国国家卫生研究院宣布，他们成功地将基因工程猪的心脏移植给了狒狒，有望为将来实现猪—人器官移植铺平道路。乍看之下，猪和人似乎截然不同。可实际情况是，猪的许多器官系统与人体对应系统的相似度高达80%到90%——无论就解剖学特征还是器官功能而言。吻合度最高的可能要数心血管系统了。由于存在器官的惊人相似性和越来越严重的捐献器官短缺问题，猪被看成是潜在的人类心肺捐献体。虽然狒狒、猩猩等灵长目动物与人类关系更近，但猪作为器官捐献的来源更具吸引力，因为猪的数量庞大，而且符合伦理。

依据这段文字，我们无法推出的是（ ）。

- A. 能在猪身上奏效的东西，在人身上奏效的几率也会更高
- B. 在医学世界里，猪能救人命的期待指数有可能越来越高
- C. 器官高度相似性，使猪—人器官移植已开始发展起来
- D. 与人类一样，猪也可能患上动脉硬化和心肌梗死等疾病

19. 吃鱼的时候，小刺要比大刺麻烦，因为大刺很容易被发现，小刺则必须下很大功夫才能清除。做人，小毛病要比大毛病难改正，因为大的差错很容易被发现，小缺点则必须格外留意才会被发现，虽然有小刺的鱼往往肉都特别细腻而鲜美，但许多人就因为怕小刺而不愿意吃那种鱼。虽然脾气怪异、不拘小节的人常有特殊的才华，但是许多人就因为讨厌这些小毛病而不愿意与这些人打交道。

这段文字意在说明（ ）。

- A. 要学会如何与人相处
- B. 小毛病会让人敬而远之
- C. 情商与智商同等重要
- D. 小毛病可能产生大影响

20. 中国的传统廉政文化源远流长，它对历代执政者的操守要求与为政规则不外乎五个方面：重民生而知根本，畏法度而能自律，明廉耻而知气节，崇节俭而重情操，知恩惠而思报国。

下列对传统廉政文化特点的概括与文意不符的一项是（ ）。

- A. 执法如山，遵章守纪
- B. 注重民生，情操高尚
- C. 学识渊博，乐善好施
- D. 生活简朴，严于律己

21. 我们每个人每天都会有意识地三思而后行。但易幻主义者认为，“思”的过程是由神经活动来

完成，它可能对“行”没有任何作用，或者只是在“行”之后编造理由使自己和其他人能够理解。然而，这种机制在进化上几乎没有任何合理性。要知道，仅占体重2%的大脑消耗了体内20%的能量，巨大的进化压力绝不容许错综复杂的有意识思维占用神经系统的进程，却做着与行为无关的运算。

作者对易幻主义者的态度最可能是（ ）。

- A. 批判易幻主义者的观点缺乏科学依据
- B. 认为易幻主义者没有关注生物进化的事实
- C. 批评易幻主义者割裂了“思”与“行”的联系
- D. 认为易幻主义者忽略了“思”在进化中的作用

22. 维生素E是一种溶解于油中的维生素，它是一种抗氧化剂，能清除氧自由基，从而保护细胞膜上的脂质，而脂质的氧化与冠心病、癌症、衰老等密切相关，总之，维生素E是人体不可缺少的营养成分，但是“需要”并不意味着越多越好。维生素E缺乏在人群中很少发生，只有几种人可能存在问题：胆汁缺乏或脂肪代谢困难的人、罕见的基因异常导致缺乏维生素E转移蛋白的人、因早产而体重严重不足的婴儿，这些情况在人群中都不易出现。

这段文字所传达的观点是（ ）。

- A. 正常人没必要补充维生素E
- B. 应该正确认识维生素E的作用
- C. 人们对维生素E的认识存在误区
- D. 要特别注意可能缺乏维生素E的人

23. 对“什么是优良的政治生活？”以及“如何实现优良的政治生活？”这两个问题作出鲜明的回答是政治哲学得以存在的合法性依据。作为西方早期马克思主义的代表，在“是”的问题上，葛兰西的回答尊奉了马克思的基本路径，即只有实现了人的全面而自由解放了的政治生活才是最优良的政治生活；而在“如何”的问题上，葛兰西从西欧的实际情况出发，提出了文化霸权的路径。

对这段文字概括最恰当的是（ ）。

- A. 葛兰西政治哲学的基本内容
- B. 葛兰西政治哲学是早期马克思主义的代表
- C. 葛兰西政治哲学对马克思主义传承、丰富和发展
- D. 政治哲学不仅要有好的规划，还要有实现的方法

24. 人们在茶叶生产和消费过程中的约定俗成的行为模式，通常是以茶礼、茶俗以及茶艺等形式表现出来。如宋代诗人杜耒“寒夜客来茶当酒”的名句，说明来客敬茶是我国的传统礼节；千里寄茶表示对亲人的怀念；民间旧时行聘以茶为礼，称“茶礼”，送“茶礼”称“下茶”，古时谚语曰“一女不吃两家茶”，即女家受了“茶礼”便不再接受别家聘礼；还有以茶敬佛，以茶祭祀等等。至于各地、各民族的饮茶习惯便是异彩纷呈，各种饮茶方法和茶艺程式也如百花齐放，美不胜收。

这段文字主要介绍了（ ）。

- A. 古代诗词中的茶文化
- B. 与茶有关的民间习俗
- C. 饮茶的方法和茶艺花样繁多
- D. 不同地区的饮茶习俗各有千秋

25. 位于中国丝绸之路东道北段的宁夏回族自治区西吉县今日出土17枚铜币，经鉴定为古丝绸之路遗留的“贵霜王朝”钱币。与中国汉代同时代的中亚贵霜王朝，是兴起于中亚细亚的奴隶制国家，公元105至250年发展至鼎盛时期，被认为是当时欧亚四大强国之一，与汉朝、罗马、安息并列。“贵霜”钱

币是古丝绸之路具有重要历史价值的一种钱币，采用希腊打压法制造，质地有金、银、铜等材质。钱币正面往往以文字、人物与图案设计并重，形状近似圆形或椭圆形。此前在楼兰遗址及和田地区曾出土数十枚贵霜钱币。

下列说法与原文相符的是（ ）。

- A. 我国境内首次发掘出贵霜钱币
- B. 贵霜王朝兴起于公元一世纪左右
- C. 贵霜王朝曾参与古丝绸之路的贸易
- D. 贵霜钱币采用当时最流行的铸币技术

## 二、数量关系

26.

$\sqrt{2}$ ,  $\sqrt{6}$ , ( ),  $2\sqrt{5}$ ,  $\sqrt{30}$

A.

$\sqrt{7}$

B.

$3\sqrt{2}$

C.

$\sqrt{10}$

D.

$2\sqrt{3}$

27. 4.2, 5.2, 8.4, 17.8, 44.22, ( )

A. 125.62

B. 85.26

C. 99.44

D. 125.64

28. -3, 12,  $\frac{25}{3}$ ,  $\frac{42}{5}$ , ( )

A.  $\frac{73}{9}$

B.  $\frac{89}{11}$

C. 9

D. 15

29. 3, 4, 5, 6, 8, ( )

A. 9

B. 10

C. 12

D. 15

30. 30, 16, 22, 18, 19, ( )

A. 16

B. 16.5

C. 17

D. 17.5

31. 1, 2,  $1+\sqrt{2}$ ,  $1+\sqrt{3}$ , 3, ( )

A.  $1+\sqrt{5}$

B. 4

C.  $3+\sqrt{5}$

D.  $3+\sqrt{5}$

32. 8, 32, 4,  $\frac{1}{8}$ , ( )

A.  $\frac{1}{32}$

B.  $\frac{1}{4}$

C. 8

D. 32

33. 2, 1, 4, 6, 26, 158, ( )

A. 5124

B. 5004

C. 4110

D. 3676

34.  $\frac{1}{2}$ , 1,  $\frac{9}{7}$ ,  $\frac{16}{11}$ ,  $\frac{25}{16}$ , ( )

A.

$\frac{18}{11}$

B.

$\frac{21}{11}$

C.

$\frac{23}{11}$

D.  $\frac{36}{23}$

35.  $3^2$ ,  $5^6$ ,  $9^{12}$ , ( ),  $33^{30}$

A.  $17^{20}$

B.  $16^{20}$

C.  $15^{18}$

D.  $20^{30}$

36. 甲、乙两个班的士兵同时从起点出发，向10公里外的目的地匀速急行军，甲、乙两班的速度分别为每分钟250米和200米。行军途中，甲班每看到一次信号弹，就会以 $n \times 20\%$ （ $n$ 为当前已看到信号弹的次数）的原速度向后行军1分钟，随后恢复原来的速度继续向前行军，最后乙班比甲班先到达目的地。问甲班在行军途中看到了几次信号弹？（ ）

A. 6

B. 7

C. 8

D. 9

37. 一列8节编组的动车从始发站开出，在7节80个位置的二等座车厢中，有6节上座率达到60%，另一节80%；在1节一等座车厢中，40个位置仅有8名旅客。则该列车从始发站开出时的上座率是多少？（ ）

A. 56%

B. 60%

C. 64%

D. 65%

38. 一辆客车与一辆货车从东、西两个车站同时出发匀速相向而行，客车和货车的行驶速度之比为4:3。两车相遇后，客车的行驶速度减少10%，货车的行驶速度增加20%，当客车到达西车站时，货车距离东车站还有17公里。东、西两个车站的距离是（ ）公里。





A. 11

B. 12

C. 13

D. 14

50. 某停车场按以下办法收取停车费:

时间段	9:00~12:00	12:00~17:00	17:00~22:00	22:00~次日 9:00
每小时收费	10元	5元	10元	2元

小张整点将车辆驶入该停车场,并于整点驶出,停车费为50元,问他停车的时间长有多少种不同的可能性? ( )

A. 5

B. 6

C. 7

D. 8

### 三、判断推理

51. 医院 之于 ( ) 相当于 学校 之于 ( )

A. 诊治 教学

B. 实验 手术

C. 医生 学生

D. 查房 课程

52. 杯 : 碗

A. 锯 : 刀

B. 灯 : 光

C. 木 : 椅

D. 火 : 炉

53. 把戏 : 伎俩 : 手段

A. 边疆 : 边境 : 边界 B. 爱护 : 爱戴 : 爱惜 C. 牟取 : 骗取 : 谋取 D. 嘲笑 : 讥笑 : 笑容

54. 大气 对于 ( ) 相当于 ( ) 对于 地球

A. 海洋 月

B. 岩石 地幔

C. 生命 人类

D. 环境 地核

55. 公司 : 经理

A. 邮局 : 邮差

B. 餐厅 : 厨师

C. 火车 : 司机

D. 大学 : 校长

56. 嫦娥奔月

A. 后羿射日

B. 鸡鸣起舞

C. 欢呼雀跃

D. 海纳百川

57. 刻薄不赚钱 : 忠厚不折本

A. 骏马不等鞭 : 响鼓不重锤

B. 慷慨杀身易 : 从容就死难

C. 枯木难复活 : 惯贼难悔悟

D. 谦虚使人进步 : 骄傲使人落后

58. 解放 : 束缚

A. 犯罪 : 惩罚

B. 蜕变 : 堕落

C. 伶俐 : 笨拙

D. 黎明 : 拂晓

59. 某科学家批评了人们对化学添加剂的恐惧。“食品标签上如果出现很多添加剂就会让人心生恐惧。但其实添加剂和防腐剂是受到严格控制和计量的,真正应该关注的是食品中糖和脂肪的含量。防腐剂是有益的,显然,我们都愿意吃到一个保存良好的罐头,而不希望因为摄入肉毒杆菌而死亡。”

下列陈述如果为真,哪项无法支持该科学家的观点? ( )

A. 很多药物也是化学制剂,是药三分毒,用药要谨慎

B. 纯天然无添加的原生态食品很难储存,而且价格更高

C. 防腐剂可以有效防止食品腐败变质、滋生细菌

D. 食品安全关键在于食品添加剂种类与量的严格控制

60. 牛奶的包装盒设计成方形,是因为方形比圆形的包装盒更节约存储牛奶所需的冷藏空间,这样一个冷藏柜中可以摆放更多的牛奶,可乐的瓶子设计成圆形是因为该形状更容易随手拿取和携带。

如果以上的观点是正确的，那么必须以下列（ ）为前提。

- A. 存储牛奶的冷藏空间比存储可乐的空间小 B. 可乐不需要冷藏而牛奶需要冷藏  
C. 产品包装设计以实用为主要目的 D. 人们无法接受圆形的牛奶盒和方形的可乐瓶

61. 现有甲、乙两艘船同时出发，同向行驶至某目的地。小明在甲船出发的瞬间开始从船头走向船尾，他出发时，甲、乙船头与目的地距离相等；当他走到船尾时，两船船尾与目的地距离相等。由此推论以下可能正确的是（ ）。

- (1) 乙船比甲船长，行驶速度比甲船快；  
(2) 甲船比乙船短，行驶速度比乙船快；  
(3) 甲、乙两船长度相等、行驶速度相同；  
(4) 乙船比甲船短，行驶速度比甲船快；  
(5) 甲船比乙船长，行驶速度比乙船快。

- A. (1) (3) (4) B. (1) (2) (5) C. (3) (4) (5) D. (1) (3) (5)

62. 五对夫妻结伴自驾游。从出发点到目的地，正好有三个服务区，将他们的行程分为四段路，他们在每个服务区都休息了一会儿，有的夫妻也刚好可以换人驾车走下一段路。车队行进过程中，每对夫妻均在自家车中，一人驾车，一人休息。小孙因头晚喝了不少酒，所以今天一直未敢碰方向盘，只是与驾车的妻子说着闲话。已知：

第一段路驾车的是：张、王、李、赵、周；

第二段路驾车的是：吴、王、张、赵、郑；

第三段路驾车的是：李、钱、张、刘、吴；

第四段路驾车的是：郑、张、王、钱、周。

依据以上信息，可以推出这五对夫妻分别是（ ）。

- A. 李吴、周郑、赵钱、孙张、刘王 B. 刘赵、钱王、孙李、郑张、周吴  
C. 孙张、李郑、吴周、刘王、赵钱 D. 孙张、周郑、李吴、刘赵、王钱

63. 研究者在云南普洱研究季风雨季、高温干旱等气候变化因素对茶叶生长环境和品质价值的影响。他们追溯了导致茶叶中化学物质变化的因素，发现在雨季，当它们生长速度加快时，叶片中主要含有的儿茶素和甲基黄嘌呤的含量仅是干季的一半。因此，研究者认为，气候变化会影响云南普洱茶茶叶中有益的化学物质含量。

以下哪项如果为真，最能支持上述论证？（ ）

- A. 普洱茶茶叶也可能因病虫害和其他生物入侵等气候变化之外的因素造成有益的化学物质含量递减 B. 气候变化对普洱茶产地其他作物的有益化学成分影响差异性很大，或影响明显，或几乎不受影响 C. 干旱季节普洱茶茶叶中含有的次生代谢物更高，但干旱季节如果持续时间过长，则可能使其含量递减  
D. 经检测，在过去的五年，云南某山区地带的普洱茶茶叶中有益化学成分含量在雨季和干季的区别不大

64. iPhone6上市后，有人去计算生产成本，发现成本只需二百多美元，工人加工费才四五美元，而其海外售价多在650美元以上。因此得出结论，iPhone6属于暴利商品。

以下哪项如果为真，最能支持上述论证？（ ）

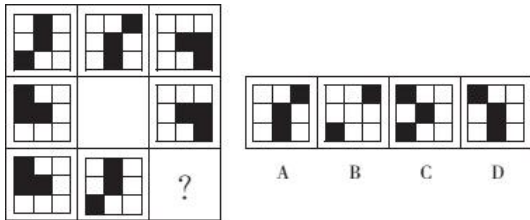
- A. 高新产品的直接生产成本不是最重要的，研发成本会占到很大的比重
- B. 高科技产品的研发存在高风险，就必然要有高回报才能吸引资本投入
- C. 高新产品的定价策略是基于消费者愿意为新产品带来的好处付多少钱
- D. 许多高科技新产品，比如医疗器械、眼镜、新药等等都是“暴利”的商品

65. 对绝大多数的人来说，大学是浪费时间和金钱的深渊，人们根本无需到学校里进行学习。若你钻进学校，不过想的是挣钱，你真是找错了门。在收入超过2500美元的人中，一半以上没大学文凭，你在大学里学得的一切，在工作中不过是一张废纸，最好不要浪费你们挣到的钱，虽然你的好朋友们都想挤进大学。

以下哪个为真，能削弱以上论述？（ ）

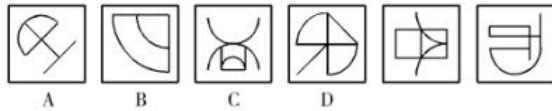
- A. 人们进入大学，目的仅在于钱，别无他图
- B. 许多收入甚丰的人未进过大学校门
- C. 大学里一般不传授与工作相关的技能
- D. 很多人认为进入大学获得学识或成就更重要

66. 下列选项中，符合所给图形的变化规律的是（ ）。



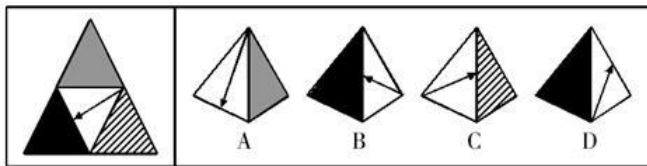
- A. A
- B. B
- C. C
- D. D

67. 以下去掉哪一项之后，剩下的图形呈现一定的规律性？（ ）



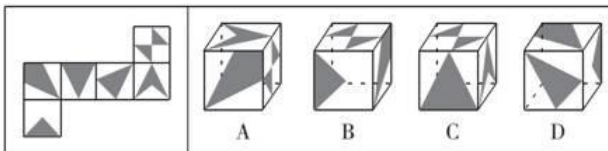
- A. A
- B. B
- C. C
- D. D

68. 左边给定的是纸盒外表的展开图，右边哪一项能由它折成？（ ）



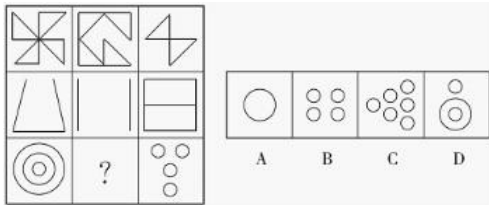
- A. A
- B. B
- C. C
- D. D

69.



- A. A
- B. B
- C. C
- D. D

70. 从所给四个选项中，选择最合适的一个填入问号处，使之呈现一定规律性。



A. A

B. B

C. C

D. D

#### 四、常识判断

71. 中国古人留下了许多经典著作，后人不断阐发其中蕴藏的深厚思想内涵。下列学问中，不是以研究某一部经典著作作为主的是（ ）。

A. 龙学

B. 理学

C. 许学

D. 红学

72. 下列语句与哲学原理对应错误的是（ ）。

A. 横切牛羊竖切猪，要省力气看纹路——办事要按客观规律

B. 工欲善其事，必先利其器——主观能动性发挥受客观条件限制

C. 破屋更遭连夜雨，漏船又遇打头风——事物发展是前进性与曲折性的统一

D. 不登高山，不知天之高也；不临深渊，不知地之厚也——实践是真理的来源

73. 2014年12月，钟某将名下的一处房屋出售给梁某，双方签订了买卖合同并约定于2015年6月付清全部房款后办理过户手续。2015年1月，该处房屋价格上涨，钟某后悔过早出售该房屋，又将该房屋出售给张某并约定在2015年5月办理过户手续。2015年4月，钟某将房屋重复出售的行为暴露，此时该房屋属于（ ）。

A. 钟某所有

B. 梁某所有

C. 张某所有

D. 梁某与张某共同所有

74. 下列诗句与其所描写的季节对应正确的是（ ）。

A. 儿童散学归来早，忙趁东风放纸鸢——春季

B. 忽如一夜春风来，千树万树梨花开——夏季

C. 小荷才露尖尖角，早有蜻蜓立上头——秋季

D. 碧云天，黄花地，西风紧。北雁南飞——冬季

75. 今天，社会经济和结构调整，价值和利益多元多样，任何一项改革措施的出台，都要遇到不同声音，遭受很多阻力，这很正常，重要的是统筹各方利益，汇聚真知灼见，找到改革的“最大公约数”，形成推动改革的合力。从哲学角度讲，这个“最大公约数”应该是（ ）。

A. 党和政府的政策主张

B. 人们对改革的正确认识

C. 改革开放的伟大实践

D. 最广大人民的根本利益

76. 下列哪组词语全都与端午节有关？（ ）

A. 屈原、雄黄酒

B. 汨罗江、银河

C. 桃木符、楚国

D. 介子推、龙舟

77. 下列哪项不是发育成台风的主要因素？（ ）

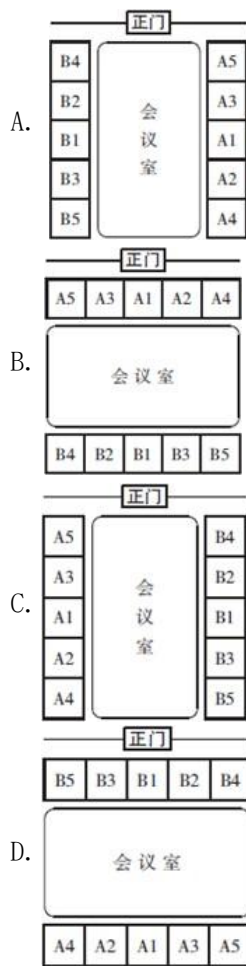
A. 广阔的热带洋面

B. 气温高导致大量海水蒸发升空

C. 地球自转偏向力

D. 不期而至的强风吹散空气漩涡

78. 如果A代表客方，B代表主方，A1、A2、A3…和B1、B2、B3…分别按客方和主方职务身份高低排序。下列谈判会议座次安排符合礼仪的是（ ）。



79. 下列说法错误的是（ ）。

- A. 蓝藻对地球表面从无氧变成有氧的大气环境起了巨大作用
- B. 植物光合作用主要在细胞的线粒体中进行
- C. 呼吸作用分为有氧呼吸和无氧呼吸两种类型
- D. 种子植物是地球表面绿色的主体

80. 下列生化指标与体检项目对应正确的是（ ）。

- A. 转氨酶——血常规检查
- B. 总胆固醇——血脂检查
- C. 血肌酐——肝功能检查
- D. 血小板——肾功能检查

81. 2013年高考前夕，一则消息让广大农村考生感到温暖和振奋：国家决定，提高重点高校招收农村学生比例，今年比去年增加8.6%。这主要体现了（ ）。

- A. 党和政府维护社会公平
- B. 党和政府以人为本的执政理念
- C. 党同人民群众的血肉联系
- D. 党和政府求真务实的工作作风

82. 以下对中国绘画艺术家的表述不正确的是（ ）。

- A. 唐代的吴道子被称为“画圣”
- B. 当代画家徐悲鸿最擅长画马
- C. “扬州八怪”之一郑板桥擅长画竹
- D. 吴冠中创作了巨幅国画《江山如此多娇》

83. 根据我国《行政许可法》，下列说法不正确的是（ ）。

- A. 国务院可以通过决定的形式设定行政许可
- B. 省级政府规章可以设定行政许可
- C. 省级发改委可以设定临时的行政许可
- D. 地方性法规可以设定行政许可

84. 下列哪项中“竹”的含义与其他三个不一样？（ ）

- A. 金石丝竹                      B. 势如破竹                      C. 罄竹难书                      D. 梅兰竹菊

85. “看人间，哪一寸土地不是人民开，哪一片庄稼不是人民栽，哪一间房屋不是人民盖，哪一部机器不是由人民来制造，哪一种商品不是由人民来生产……”这说明（ ）。

- A. 人民群众是社会物质财富的创造者                      B. 人民群众是社会革命的决定力量  
C. 人民群众是社会变迁的主力军                      D. 人民群众是社会精神财富的创造者

## 五、资料分析

某年度某机构关于中国宠物主人消费行为及倾向调查回收的10680份有效问卷显示：女性养宠者占58.1%，宠物主人为“80~90后”占79.5%。将宠物定义为“孩子”“亲人”“朋友”和“宠物”的分别为54.5%、33.4%、7.7%和3.2%。8.9%的人月开销在100元以内，49.4%的人开销在101至500元之间，而花费在501至1000元之间的达到25%，月消费1000元以上的人群达到16.4%。在购买物品方面，购买宠物食物的人数达到有效问卷总人数的94.5%，其次为药品、保健品以及日用品、玩具、服饰五项，均接近60%。宠物主人外出时，四成“委托亲朋照顾”，三成“一起带走”，委托寄养还不到20%。在训练方面，99%的宠物处于自主训练或放任生长的状态，但近一半人希望爱宠得到专业训练。在购买渠道方面，74%的被访问者选择综合电商平台，选择线下综合商店或专卖店者为53.3%，选择宠物类垂直电商平台的占33.6%，但其复购率更高。值得注意的是，目前宠物主人对购物类O2O服务有选择意向的不足4.0%。

86. 问卷中，男性养宠者占养宠人群的比重为（ ）。

- A. 58.1%                      B. 51.9%                      C. 41.9%                      D. 40.9%

87. 问卷中对宠物没有花费的人数约为（ ）。

- A. 38                      B. 36                      C. 34                      D. 32

88. 问卷中，选择综合电商平台和选择购物类O2O服务的消费者人数之比为（ ）。

- A. 小于2.2:1                      B. 大于2.2:1                      C. 小于18.5:1                      D. 大于18.5:1

89. 问卷中，在药品、保健品以及日用品、玩具、服饰方面有花销的总人次最可能有（ ）。

- A. 6408                      B. 9612                      C. 16020                      D. 32040

90. 根据问卷，下列判断错误的是（ ）。

A. 只有1%的宠物接受过训练，专业训练消费潜力巨大

B. 绝大部分宠物主人对宠物的定义超越了宠物本身

C. 月均消费在101~1000元的是宠物消费的主流

D. 购物类O2O服务的市场还有待培育

2008~2012 年国家电网公司机组并网容量

单位：万千瓦

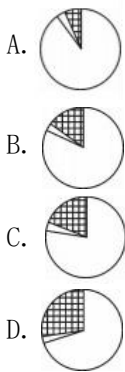
	2008 年	2009 年	2010 年	2011 年	2012 年
并网总容量	61300	67100	74400	81800	88000
其中：清洁能源机组并网容量	13524	15357	17585	20260	24004
其中：水电并网容量	12214	13419	14458	15617	16816
核电并网容量	507	507	574	640	640
新能源发电机组并网容量	803	1431	2553	4003	6548

2008~2012 年国家电网公司并网机组上网电量

单位：亿千瓦时

	2008 年	2009 年	2010 年	2011 年	2012 年
总上网电量	22800	24300	28800	32400	33900
其中：清洁能源机组上网电量	4161	4321	4943	7177	24004
其中：水电上网电量	3662	3692	4103	4373	5518
核电上网电量	353	355	308	416	475
新能源发电机组上网电量	146	274	492	1154	1184

91. 下列年份中，国家电网公司并网机组总上网电量同比增速最快的是（ ）。
- A. 2010年                      B. 2009年                      C. 2012年                      D. 2011年
92. 2012年清洁能源机组并网容量占当年并网机组总容量的比重比上年（ ）。
- A. 上升了5.5个百分点    B. 上升了2.5个百分点    C. 下降了5.5个百分点    D. 下降了2.5个百分点
93. 下列年份中，清洁能源机组上网电量占当年并网机组总上网电量比重最高的是（ ）。
- A. 2009年                      B. 2008年                      C. 2012年                      D. 2011年
94. 下列哪一张图能反映2012年清洁能源机组并网容量中水电、核电和新能源发电的构成？（ ）



95. 关于2008~2012年间国家电网公司清洁能源的发展，能够从资料中推出的是（ ）。
- A. 新能源发电机组上网电量从2011年开始超过核电上网电量
- B. 水电上网电量年均增长率超过同期水电并网容量年均增长率
- C. 新能源发电机组并网容量翻了8番
- D. 核电上网电量保持持续增长

截至2014年12月底，全国实有各类市场主体6932.22万户，比上年末增长14.35%，增速较上年同期增加4.02个百分点；注册资本（金）129.23万亿元，比上年末增长27.70%。其中，企业1819.28万户，个体工商户4984.06万户，农民专业合作社128.88万户。

2014年，全国新登记注册市场主体1292.5万户，比上年同期增加160.97万户；注册资本（金）20.66万亿元，比上年同期增加9.66万亿元。其中，企业365.1万户，个体工商户896.45万户，农业专业合作社30.95万户。

2014年，新登记注册现代服务业企业114.10万户，同比增长61.41%。其中，信息传输、软件和信息技术服务业14.67万户，同比增长97.87%；科学研究和技术服务业26.26万户，同比增长70.32%；文化、体

育和娱乐业6.59万户，同比增长83.51%；教育业0.68万户，同比增长86.17%。

2014年，新登记注册外商投资企业3.84万户，同比增长5.76%。投资总额2763.31亿美元，同比增长15.05%；注册资本1796.39亿美元，同比增长23.87%。

96. 截至2012年12月底，全国实有各类市场主体户数最接近以下哪个数字？（ ）
- A. 6100万                      B. 5500万                      C. 5100万                      D. 4500万
97. 2014年，全国新登记注册市场主体中个体工商户所占比重约为（ ）。
- A. 75%                          B. 69%                          C. 85%                          D. 81%
98. 2014年，以下哪个现代服务业新登记注册企业的户数同比增速最快？（ ）
- A. 科学研究和技术服务业                      B. 教育业
- C. 文化、体育和娱乐业                      D. 信息传输、软件和信息技术服务业
99. 2014年，新登记注册外商投资企业户均注册资本约比上年同期增长（ ）。
- A. 17%                          B. 12%                          C. 8%                          D. 4%
100. 能够从上述资料中推出的是（ ）。
- A. 2014年新登记注册现代服务业企业大部分属于教育行业
- B. 2014年末超过三分之一的农民专业合作社成立不满一年
- C. 2013年全国实有各类市场主体注册资本（金）不足100万亿元
- D. 2013年新登记注册科学研究和技术服务业企业不到20万户