

## 江山模拟卷（九）

### 一、言语理解与表达

1. 30岁时，纳什突然出现了许多古怪的举动……最终，他因为幻听被确诊为严重的精神分裂症，后来是接二连三的诊治与复发。1962年，当他被认为是\_\_\_\_\_的菲尔兹奖获得者时，他的精神状况却使他与奖项\_\_\_\_\_。

依次填入划横线部分最恰当的一项是（ ）。

- A. 无可辩驳 饮恨败北  
B. 实至名归 擦肩而过  
C. 名正言顺 抱憾终身  
D. 理所当然 失之交臂

2. 在求学、就业、看病、收入、居住、治安、生态环境等诸多满足感组合要素中，只要有一项出现问题，就会形成“\_\_\_\_\_”，幸福便会打折扣，甚至被“一票否决”。

根据语义，填入横线处最恰当的一项是（ ）。

- A. 鲶鱼效应  
B. 破窗效应  
C. 木桶效应  
D. 蝴蝶效应

3. 信息技术的发展及广泛应用是一个重大的系统工程，其日新月异的发展与\_\_\_\_\_的应用令人\_\_\_\_\_，或者有些始料未及。

依次填入划横线部分最恰当的一项是（ ）。

- A. 五花八门 瞠目结舌  
B. 无孔不入 无法招架  
C. 无所不在 目不暇接  
D. 形形色色 猝不及防

4. 中国地理学研究在指向当前紧迫的经济和社会问题的同时，对基本概念和基础理论等学科基础的研究却出现了被\_\_\_\_\_的趋势。对地理学整体发展方向的关注较为薄弱，在一定程度上还\_\_\_\_\_了整个科学发展的大趋势，高新观测技术和信息处理技术的应用仍然不够普及。

依次填入划横线部分最恰当的一项是（ ）。

- A. 削弱 阻碍  
B. 减弱 隔断  
C. 削减 延缓  
D. 减少 延宕

5. 在作品主题上，中国现代文学带有深刻的使命感和责任感，对黑暗的社会进行犀利的\_\_\_\_\_，对自身的弱点进行无私的\_\_\_\_\_，对人性的弊病进行无情的揭露，对整个人类的命运进行深切的\_\_\_\_\_。

依次填入划横线部分最恰当的一项是（ ）。

- A. 控诉 打击 同情  
B. 批判 剖析 关注  
C. 抨击 否定 关怀  
D. 讽刺 批判 慨叹

6. 填入下列横线处的词语，最恰当的一项是（ ）。

马航MH370上发生了什么，依然是一个难以揭开的谜团。在飞机黑匣子最终找到之前，具体细节的付之阙如、权威渠道的口径不一、官方消息的前后矛盾，让飞机的去向\_\_\_\_\_，也给围绕此事进行的各方解读提供了巨大的想象空间。

- A. 扑朔迷离                      B. 虚无缥缈                      C. 错综复杂                      D. 眼花缭乱

7. 依次填入下列横线处的词语，最恰当的一组是（ ）。

\_\_\_\_\_国防和军队改革，\_\_\_\_\_军事战略指导，\_\_\_\_\_现代军事力量体系。

- A. 完善 深化 加强                      B. 深化 完善 加强  
C. 加强 深化 完善                      D. 深化 加强 完善

8. 新近研究发现，人饥饿时胃黏膜中会出现一种激素，这种激素能够显著促进学习能力和记忆力。科学家解释说，这种激素在胃黏膜中\_\_\_\_\_后，借助血液循环进入大脑，能够引起反应，诸如激发脑垂体中许多不同的生长因子等，而这又将引起大脑其他区域内的\_\_\_\_\_反应，从而起到改善大脑功能的效果。

依次填入划横线部分最恰当的一项是（ ）。

- A. 产生 聚合                                      B. 形成 系列  
C. 合成 辐射                                      D. 分泌 连锁

9. 依次填入划横线部分最恰当的一项是（ ）。

①据此，我认为长期以来的疑惑已\_\_\_\_\_。

②我们要知道竹子的性质，就要特地栽种竹子，以研究它生长的过程，要把叶子切下来拿到显微镜下去观察，绝不是\_\_\_\_\_就可以得到的知识。

③这首诗之所以成为\_\_\_\_\_的名篇，无论如何不在于如专家所认为的在两句诗中罗列了三座桥和一座山。

④他的这种奇谈怪论，看来绝非是对历史的无知，而是\_\_\_\_\_地捏造谎言。

- A. 毋庸置疑 一蹴而就 家喻户晓 居心叵测  
B. 无可厚非 唾手可得 叹为观止 煞费苦心  
C. 迎刃而解 袖手旁观 脍炙人口 别有用心  
D. 不攻自破 不劳而获 流芳百世 千方百计

10. 依次填入下列各句横线处的词语，最恰当的是（ ）。

色彩绚烂的火烧云，波浪起伏的松花江，三三两两的渔船，构成一幅\_\_\_\_\_的《夕阳鱼归》图。

- A. 艳丽                                      B. 秀丽                                      C. 绮丽                                      D. 壮丽

11. 下列选项中，有语病的一项是（ ）。

- A. 男同学能够意识到塑造体形，是一件很不容易的事情  
B. 不少初中生的素描能力甚至达不到小学毕业生应达到的水平  
C. 当学生了解了美是什么，就会以美的标准来规范自己的行为 and 思想  
D. 有的家长让孩子学习艺术，其目的在于使孩子成为特长生或多学几门生存的技能

12. 当前文艺事业正迎来发展大繁荣的重要历史时期，广大戏剧工作者要\_\_\_\_\_创造出更多无愧

于民族和时代的思想精深、艺术精湛、制作精良的优秀戏剧作品。

- ①继续解放思想、继承传统、开拓创新
- ②迎上党和国家高度重视戏剧艺术传承与发展的大好机遇
- ③大力践行“爱国、为民、崇德、尚艺”的文艺界核心价值观

依次填入横线上的句子，排序恰当的一项是（ ）。

- A. ②③①                      B. ①②③                      C. ①③②                      D. ③②①

13. 下面语句中没有歧义的是（ ）。

- A. 据比赛组委会统计，参加这次围棋比赛活动的有二十个社区的选手
- B. 氨基比林、安乃近、非那西丁副作用明显，大部分国家已禁用，中国药品名录中未完全禁止；近来医学界部分人士对进口药品争议很大
- C. 1月3日下午2点25分左右，日本茨城县发生里氏5.0级地震。日本新闻网报道称，受此地震影响，茨城县和埼玉县部分地区的震级为4级，东京都、千叶县、神奈川县的震级为3级
- D. 这家电子科技公司成立于2003年，是一家致力于生产并销售鼠标、键盘、音箱、麦克风、手写板、耳机、手柄、线材等电脑周边产品的现代化企业

14. ①干细胞的重要性奠定了其在医药卫生、科技产业、国防等领域内的重要地位

- ②美国总统奥巴马上任之初就宣布取消前任总统对干细胞研究的限制
- ③干细胞因其在生命科学、新药试验和疾病研究这三大生物医药领域的重要作用受到全世界医学界和政治人物的关注
- ④2009年，美国FDA批准了世界上首次人类胚胎干细胞治疗脊髓损伤的临床试验
- ⑤因此，干细胞的研究、开发和应用可以看作是人类的健康工程，预期在未来几年内会有很大的飞跃
- ⑥现在人们已经发现，癌症、糖尿病、帕金森氏症、心脑血管病、组织器官纤维化、自身免疫性疾病等一系列疾病都可能是干细胞数量减少或结构功能变异引起的

将以上6个句子重新排列，语序正确的是（ ）。

- A. ③②①⑤⑥④                      B. ①⑤③②⑥④                      C. ③②④⑥①⑤                      D. ①⑤⑥④③②

15. 在古代，每逢战乱，手艺人都会成为战争双方争夺的对象，这是因为手艺人掌握着传统社会中最重要的技术，他们代表着当时最先进的社会生产力。如今，尽管现代科学技术取代了手工技能，成为当今时代最强大的生产力，但传统工艺完全可以借助现代科技而提升，继续服务于大众。

这段文字意在说明（ ）。

- A. 与现代科技联姻是传统工艺发展的有效途径
- B. 任何时代，社会发展的第一要素是社会生产力
- C. 现代科技的进步对传统手工艺产生的深远影响
- D. 现代科技可以解决制约着生产的传统工艺难题

16. 打开朋友圈，晒美食、晒美景，各种晒，再忙也不会忘记随手拍，让本来繁杂或简单的环节硬生生地多出了这些步骤。看似生硬，实则自然，已然融入工作生活的方方面面，在不知不觉中花了大量时间，流失了大量精力。有这样一则段子：伤口流血，首先做的不是止血，而是拍照发微信；遇人危难，千钧一发，路过的人首先也不是挺身而出，而是拍照发朋友圈；阅览者的反应，首先也不是问拍摄

者为什么是旁观者，而是盲目点赞，好也赞，坏也赞，欢也赞，愁还是赞。寻求帮助，除了得到赞以外，没有下文。

这段文字意在表明（ ）。

- A. 朋友圈的拍与炫      B. 朋友圈的看与赞      C. 朋友圈的假繁忙      D. 朋友圈的真欢喜

17. 若公众史学归属于历史学，那么目前历史学门类的三个一级学科（中国史、世界史和考古）都无法单独包容它；更何况它还包含着文学、传播学、艺术等非史学学科的元素。在欧美高校，公众史学要么是被作为历史学系所设立的专业学位项目，要么是由历史教育学与艺术专业合作设立的跨学科项目。由此，中国的公众史学若想拥有自己独特的学科属性，必须在这一点上有所明晰。

这段文字最适合的标题是（ ）。

- A. 公众史学与历史学门类的关系      B. 公众史学学科性质应有所明晰  
C. 中国与欧美公众史学不同的归属      D. 公众史学究竟是怎样的一门学科

18. 环保数据造假已成利益链条化，尽管企业是造假的第一责任主体，但板子显然不能只打在涉事企业身上。企业环保数据造假的“锅”，不仅应由涉事企业直接操作人员来背，潜居幕后的指挥者也应纳入执法视野。此外，地方环保部门是否出于数据“漂白”的考量而“睁一只眼闭一只眼”，设备生产商以及运行维护单位在多大程度上“配合”了企业的“造假定制”，这也都应予以关注。

这段文字意在说明（ ）。

- A. 环保数据造假已经体系化      B. 打击环保数据造假，不应该只惩罚涉事企业  
杜绝环保数据造假须全链条打击      C. 地方部门为了政绩，从而“漂白”环保数据  
D. 地方部门为了政绩，从而“漂白”环保数据

19. 研究发现，人们看待互联网的方式，就像看待交换记忆系统的人类伙伴。人们把记忆分摊给“云端”，就像分摊给家人、朋友一样轻而易举。但是，互联网又跟交互记忆系统的人类伙伴不一样——云端知道得更多，而且能更快提取信息。现今几乎所有信息都能轻易通过快速的网络搜寻取得。互联网不只降低了把信息分享给人类伙伴的必要性，或许也减低了人们想把刚学到的重要事情存进自己大脑记忆库里的渴望。

这段文字意在说明（ ）。

- A. 互联网和我们的关系近于亲友伴侣      B. 互联网正成为我们的外部记忆资源  
互联网带来了云端这样的信息大全      C. 互联网使得人类不再认为记忆重要  
D. 互联网使得人类不再认为记忆重要

20. 中国人过春节已有4000多年的历史，却没有一个统一的文化符号，未免让人遗憾。虽然春联、福字、门神、年画以及灯笼等诸多元素，都可以视作春节的文化符号，但是这些符号是琐碎而不统一的。我们的“春节符号”应该有一个统一的、品牌性的、超越以往的东西，让人一眼见之就能想到它代表着我们的春节。

这段文字的主要观点是（ ）。

- A. 春节最能体现中国年节文化的内涵      B. 春节需要统一的文化符号来代言  
年节文化内涵需要通过符号来表达      C. 春节记忆需要用“文化符号”唤醒  
D. 春节记忆需要用“文化符号”唤醒

21. 在这位演员死后的几周内，很多关于精神疾病和抑郁症的讨论纷纷见诸报端，包括演员自杀的各种猜测也走进了人们的视野。继而，舆论开始转向了对精神疾病和治疗进展的讨论，是的，社会确实需要鼓励开展这种话题的讨论，然而，有多少讨论是聚焦抑郁症患者每天必须面对的精神困扰？似乎更

多的讨论集中在精神疾病的悲剧结局上，而不是及时干预，似乎抑郁症患者的死亡比他们的生命更容易引起讨论，这种状况亟需改变。

下列说法不符合文意的是（ ）。

- A. 抑郁症患者的精神状况更值得关注
- B. 对抑郁症患者的精神困扰讨论不够
- C. 舆论应减少对精神疾病话题的讨论
- D. 舆论过度关注精神疾病患者的自杀原因

22. 近年来，众多电商长期耕耘数字阅读市场，造就了全民阅读热潮。政府的支持，数字出版产业经济的迅速发展、手机网民网络文学服务使用率的提高，以及针对多媒体信息的科技的进步，都为移动阅读提供了良好的环境支持。据第十二次全国国民阅读调查成果显示，近三年我国成年国民数字化阅读方式的接触率逐年提高，数字化阅读率首次超过传统图书阅读率。

这段文字意在强调（ ）。

- A. 全民阅读热潮方兴未艾
- B. 数字出版产业大规模兴起
- C. 电商造就了数字化阅读热潮
- D. 国民数字阅读已超越传统阅读

23. 在没有特别说明的情况下，通货膨胀率一般是用消费者价格指数（CPI）来衡量的物价涨幅，这主要是因为CPI是根据一国消费者最终消费支出的商品种类和权重编制的价格指数。该指数最直接地影响居民收入的真实购买力。政府从维护居民福利的角度看，没有哪个价格指数比CPI更合适、更体贴民意了。而食品价格波动主导了中国的消费者价格波动，这不仅是因为食品价格在商品篮子中占超过三成以上的比重，更重要的是食品价格本身的剧烈变动。故而关注食品价格波动成为研究中国通货膨胀的重中之重。

对这段文字概括最准确的是（ ）。

- A. 说明在中国食品价格为何成为研究通胀问题的焦点
- B. 分析控制食品价格波动对中国国计民生的重要意义
- C. 解释食品价格波动如何对消费者价格指数产生影响
- D. 强调提高居民的真实购买力应从控制食品价格入手

24. 词藻的妙用，在乎能显示印象，从片段里生出完整来。有些境界可用白描的手法，有些非词藻不为功，这个道理自然也有人理会得。依我个人的偏嗜，词中的温飞卿是很懂得用词藻的；六朝文之所以大胜唐宋四六文者，会用词藻至少是一原因。词藻，文学的色泽，也是应付某种需要而生，并非无聊地东涂西抹，专以炫人耳目为业的。俗滥是不善用之故，不是词藻本身的毛病。

根据这段文字，下面说法中错误的是（ ）。

- A. 作者认为有些场合非用词藻不可
- B. 作者认为温飞卿作词善用词藻
- C. 作者认为六朝文远胜于唐宋文
- D. 作者认为善用词藻不会俗滥

25. 学习西方并没有错，但把西方视为“真理”则大错特错了，中国并不拒绝其他文明和价值，但中国文化本身必须成为主体。在学习西方过程中，因为没有中国的主体意识，中国文化就失去了自己的主体地位。问题在于，西方文化主导下的西方话语解释不了中国的一切。今天，越来越多的人已经意识到西方话语不能说明自己。但是，很少有人去创造，去发明。这种情况不改变，中国永远不会有自己的话语、自己的概念和自己的理论，当然更不用说是文化软实力了。

对这段文字的主旨概括最准确的是（ ）。

- A. 学习西方时应首先确立中国文化的主体地位  
 B. 中西方文化都应有各自独立的价值体系  
 C. 自身强大后才能在文化交流中掌握话语权  
 D. 中西方交流中的文化创造或创新应另辟蹊径

## 二、数量关系

26.

$$\sqrt{2}, \sqrt{6}, (\quad), 2\sqrt{5}, \sqrt{30}$$

A.

$$\sqrt{7}$$

B.

$$3\sqrt{2}$$

C.

$$\sqrt{10}$$

D.

$$2\sqrt{3}$$

$$27, 13, 56, 99, 1312, 1715, 2118, 2521, 2924, 3327, (\quad), \dots$$

A. 3727

B. 3730

C. 3733

D. 3736

$$28, 4, 2, 2, 0, (\quad), -2, 4$$

A. -2

B. -1

C. 1

D. 2

$$29, 6, 11, 17, (\quad), 45$$

A. 30

B. 28

C. 25

D. 22

30.

$$1, 1, \frac{3}{4}, \frac{4}{8}, (\quad)$$

A.

$$\frac{5}{16}$$

B.

$$\frac{8}{16}$$

C.

$\frac{6}{32}$

D.

$\frac{16}{32}$

31.  $\frac{1}{3}$ , 1, 9, 243, ( )

- A. 19683                                      B. 19785                                      C. 19827                                      D. 19869

32. 1, 1,  $\frac{4}{3}$ , 2,  $\frac{16}{5}$ , ( )

A.

$\frac{32}{7}$

B.

$\frac{16}{7}$

C.

$\frac{32}{3}$

D.

$\frac{16}{3}$

33. 3, 7, 12, 15, 9, -18, ( )

- A. -27                                      B. -45                                      C. -81                                      D. -102

34. 6, 3, 5, 13, 2, 63, ( )

- A. -36                                      B. -37                                      C. -38                                      D. -39

35.  $\frac{64}{81}$ ,  $\frac{81}{4}$ , 4, 9, 6, ( )

A. 7

B.  $3\sqrt{5}$

C. 8.5

D.  $\frac{49}{16}$

36. 某集团企业5个分公司分别派出1人去集团总部参加培训，培训后再将5人随机分配到这5个分公司，每个分公司只分配1人。问5个参加培训的人中，有且仅有1人在培训后返回原分公司的概率( )。

- A. 大于35%                      B. 在30%~35%之间                      C. 在20%~30%之间                      D. 低于20%

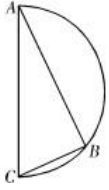
37. 某单位准备扩建一矩形花圃，若将矩形花圃的长和宽各增加4米，则新矩形花圃的面积比原来的面积增加了40平方米。那么，原矩形花圃的周长是多少？( )

- A. 12米                                      B. 24米                                      C. 32米                                      D. 40米

38. 由于连日暴雨，某水库水位急剧上升，逼近警戒水位。假设每天降雨量一致，若打开2个水闸放水，则3天后正好到达警戒水位；若打开3个水闸放水，则4天后正好到达警戒水位。气象台预报，大雨还将持续七天，流入水库的水量将比之前多20%。若不考虑水的蒸发、渗透和流失，则至少打开几个水闸，才能保证接下来的七天都不会到达警戒水位？( )

- A. 5                                      B. 6                                      C. 7                                      D. 8

39. 如下图所示，甲和乙在面积为 $54\pi$ 平方米的半圆形游泳池内游泳，他们分别从位置A和B同时出发，沿直线同时游到位置C。若甲的速度为乙的2倍，则原来甲、乙两人相距（ ）。



- A.  $9\sqrt{2}$  米
- B. 15 米
- C.  $9\sqrt{3}$  米
- D. 18 米

40. 从两双完全相同的鞋中，随机抽取一双鞋的概率是（ ）。

- A.  $\frac{2}{3}$
- B.  $\frac{1}{2}$
- C.  $\frac{1}{3}$
- D. 1

41. A、B两个容器装有质量相同的酒精溶液，若从A、B中各取一半溶液，混合后浓度为45%；若从A中取 $\frac{1}{2}$ 、B中取 $\frac{1}{4}$ 溶液，混合后浓度为40%。若从A中取 $\frac{1}{5}$ 、B中取 $\frac{4}{5}$ 溶液，则混合后溶液的浓度是（ ）。

- A. 48%
- B. 50%
- C. 54%
- D. 60%

42. 小王与父亲属相相同，小王的母亲比他父亲小4岁，某个蛇年小王的母亲年龄正好是小王的3倍（年龄按阴历年份计算，出生当年算0岁），则小王的属相可能是（ ）。

- A. 蛇
- B. 马
- C. 羊
- D. 猴

43. 车间领到一批电影票和球票发放给车间工人，电影票是球票数的2倍。如果每个工人发3张球票，则富余2张；如果每个工人发7张电影票，则缺6张。问车间领到多少张球票？（ ）

- A. 32
- B. 30
- C. 64
- D. 60

44. 某次考试中，成绩不超过30分的有153名考生，平均分为24分；成绩不低于80分的有59名考生，平均分为92分；成绩超过30分的平均分为62分；成绩低于80分的平均分为54分。那么参加这次考试的考生共有（ ）人。

- A. 795
- B. 875
- C. 1007
- D. 1264

45. 某汽车租赁公司有200辆同型号的汽车，每辆车的日租金为100元时可全部租出；当每辆车的日租金增加5元时，未租出的汽车就会多4辆，租出的车每天需要维护费20元。问每辆车的日租金为多少元时，租赁公司的日收益最大？（ ）

- A. 155
- B. 165
- C. 175
- D. 185

46. 某海鲜档口出售一批总共150斤的鲜鱼，按原售价每卖出一斤可赚5元。由于较为畅销，在卖出三分之一后，档主将售价上调20%。卖完所有鲜鱼后，档主一共赚了1250元，则原售价是每斤（ ）元。

- A. 20
- B. 25
- C. 30
- D. 35

47. 某公司有29名销售员，负责公司产品在120个超市的销售工作。每个销售员最少负责3个，最多



负责6个超市。负责4个超市的人最多但少于一半，而负责4个超市和负责5个超市的人总共负责的超市数为75个。问负责3个超市的人比负责6个超市的人多几个？（ ）

- A. 2                                  B. 3                                  C. 6                                  D. 9

48. 往返A市和B市的长途汽车以同样的发车间隔从两个城市分别发车，以每小时40公里的速度前往目标城市。上午9点多，李先生以每小时50公里的速度开车从A市长途汽车站前往B市长途汽车站，路途中总共追上了3辆从A市开往B市的长途汽车。问他在路途中最多能迎面遇到多少辆从B市开往A市的长途汽车？（ ）

- A. 27                                  B. 25                                  C. 36                                  D. 34

49. 60名员工投票从甲、乙、丙三人中评选最佳员工，选举时每人只能投票选举一人，得票最多的人当选。开票中途累计，前30张选票中，甲得15票，乙得10票，丙得5票。在尚未统计的选票中，甲至少再得（ ）票就一定当选。

- A. 15                                  B. 13                                  C. 10                                  D. 8

50. 一个圆柱形的容器内放有一个长方体铁块，现打开水龙头往容器中注水3分钟时，水恰好没过长方体铁块的顶面，又过了18分钟后，容器内被注满了水。已知容器的高是50厘米，长方体铁块的高是20厘米，那么长方体铁块的底面面积是圆柱形容器底面面积的（ ）。

- A.  
 $\frac{5}{6}$   
B.  
 $\frac{3}{4}$   
C.  
 $\frac{2}{3}$   
D.  
 $\frac{1}{2}$

### 三、判断推理

51. 森林：郁郁葱葱  
A. 法庭：庄严肃穆                  B. 校园：勤奋好学                  C. 餐桌：饕餮大餐                  D. 公园：嬉戏玩闹
52. 赛事 对于 （ ） 相当于 （ ） 对于 编辑  
A. 哨子 文字                  B. 运动 校对                  C. 裁判 书稿                  D. 进取 精确
53. 水面：镜子  
A. 毛笔：钢笔                  B. 藤条：绳子                  C. 图画：照片                  D. 火把：电灯
54. 大地 对于 （ ） 相当于 （ ） 对于 楼房  
A. 山峰 墙体                  B. 天空 楼梯                  C. 树木 地基                  D. 河流 水泥
55. 调查：发言权  
A. 中毒：死亡                  B. 批评：进步                  C. 损害：赔偿                  D. 锻炼：健康
56. 地理：自然地理：经济地理

A. 城市：居民区：商业区

B. 卫星：遥感：雷达

C. 糖果：水果糖：芝麻糖

D. 单位：千米：公里

57. 政务：公文

A. 广告：电视

B. 品牌：产品

C. 市场：需求

D. 规划：计划

58. 岳父：丈人

A. 舅舅：外甥

B. 姨妈：婶婶

C. 伯父：侄子

D. 祖母：奶奶

59. 互联网旅游金融服务是指旅游业依托互联网工具，实现资金融通、支付和信息中介等业务的一种新兴金融服务。未来，互联网旅游金融服务也更具有优势。

以下哪项如果为真，最能支持上述观点？（ ）

A. 随着收入的增加，人们越来越热衷于旅游

B. 目前已经使用旅游金融产品的用户只占到8.6%

C. 中国在线旅游用户中36~45岁选择旅游金融服务的比例较高

D. 旅游金融服务具有覆盖用户面更广、服务更便捷高效的优点

60. 与普通消费品以产品成本为基础的定价方式相异，奢侈品品牌通常会根据不同的市场期望值制定出欧洲、美国、亚洲3个不同的零售价格区域。在以法国、意大利为主要原产地的欧洲，奢侈品的定价往往最低。而欧洲品牌到了美国市场，通常也只会把价格稍微提高一些，因为那里的消费者对奢侈品的消费心理已经成熟。而在亚洲市场，奢侈品品牌的定价是最高的。

以下哪项最能解释奢侈品品牌在亚洲市场定价最高这一现象？（ ）

A. 亚洲远离奢侈品品牌原产地，物流成本高

B. 亚洲地区的人工及店铺租金等经营成本相对较高

C. 亚洲市场的消费者对奢侈品品牌怀有过高的期望值

D. 亚洲市场拥有比欧洲、美国市场更为庞大的奢侈品消费群体

61. 感冒是自限性疾病，一到两周之后会自愈。如果忍受得了，完全没有必要吃那些缓解症状的感冒药，注意多喝水和休息即可。忍受不了，吃点缓解症状的感冒药也行，但普通感冒药并不真正治疗感冒。

以下哪项如果为真，能够削弱上述观点？（ ）

A. 吃药缓解症状可加速感冒的治愈

B. 感冒会自愈，吃药的作用在于缓解症状

C. 多喝水多休息有利于感冒的自愈

D. 感冒药可缓解咳嗽、鼻涕等症状

62. 通常情况下，人体内的瘦素和胰岛素能帮人管住嘴巴，一旦吃饱就会发出信号传至大脑，告知人们停止进食。而垃圾食品中含有过量的饱和脂肪，饱和脂肪分子会屏蔽这些停止进食的信号。

由此可以得出（ ）。

A. 整体均衡饮食，保持营养全面是维护健康的最关键因素

B. 垃圾食品不仅会导致肥胖，还会诱发其他疾病

C. 垃圾食品中含有的饱和脂肪大大超过其他食品

D. 吃饱的信号传至大脑可避免饮食过度

63. 有一句歌词：“不经历风雨，怎能见彩虹。”

下面哪一个选项不是上面这句歌词的逻辑推论？（ ）

- A. 只有经历风雨，才能看见彩虹
- B. 若经历风雨，则能看见彩虹
- C. 除非经历风雨，否则不能看见彩虹
- D. 凡看见彩虹的都应该是经历过风雨的

64. 代购，特指帮助中国内地消费者从海外购回商品。近年来，在电子商务助推下代购生意在我国迅速红火起来，一些人专门从事代购业务，代购市场规模迅速扩大。据称，代购市场规模在2008年到2012年间增长了19倍，2012年达480亿元，2013年达740亿元。6年来，在购买奢侈品的我国消费者中，大约60%的人曾使用过代购。对此，某法律专家指出，只要代购商缴纳关税，代购就不违法；但如果代购商缴纳关税，商品境内外价格差就会大幅缩小，代购商没有钱赚了，代购对他们就失去了意义。根据该法律专家的看法，可以得出以下哪项？（ ）

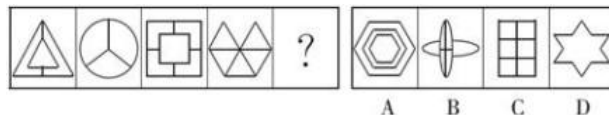
- A. 要让代购不违法，代购商就必须缴纳关税
- B. 只有代购商不缴纳关税，代购对他们来说才有意义
- C. 6年来，大多数使用过代购的消费者只是购买了生活必需品
- D. 6年来，大多数使用过代购的消费者都购买了奢侈品

65. 某汽车厂商宣称，其新推出的汽车已经通过了各种撞击测试，当车祸发生时，乘车人的安全可以得到充分保障。但是也有人质疑，仅通过撞击测试不足以证明汽车是安全的。

以下哪项如果为真，则不能支持这种质疑？（ ）

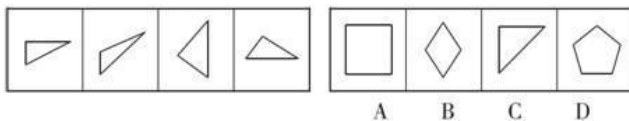
- A. 测试不能模拟驾驶员在车祸发生瞬间的应急反应
- B. 测试所使用的车辆未必与销售的车辆完全一致
- C. 测试通常是在实验室而非车祸多发路段进行
- D. 测试用的人偶的尺寸和质量等参数无法完全模拟真实人体

66. 请选择最适合的一项填入问号处，使之符合之前四个图形的变化规律。



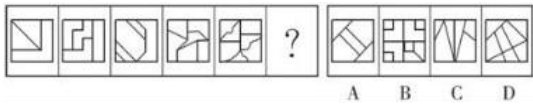
- A. A
- B. B
- C. C
- D. D

67. 右边四个图形中，只有一个是左边四个图形拼合而成（只能通过上下左右平移），请把它找出来。



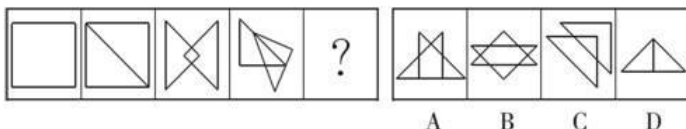
- A. A
- B. B
- C. C
- D. D

68. 从所给四个选项中，选择最合适的一个填入问号处，使之呈现一定规律性。




- A. A
- B. B
- C. C
- D. D

69. 从所给的四个选项中，选择最合适的一个填入问号处，使之呈现一定的规律性。



- A. A
- B. B
- C. C
- D. D

70. 从所给的四个选项中，选择最合适的一个填入问号处，使之呈现一定的规律性。



A B C D

A. A

B. B

C. C

D. D

#### 四、常识判断

71. 下列关于我国经济发展现状的表达，不正确的是（ ）。

A. 人均国民生产总值已超过3000美元

B. 黄金储备量已超过1000吨

C. 对石油进口的依存度已接近30%

D. 第三产业增加值已接近第二产业

72. 下列关于流行病的相关表述，错误的是（ ）。

A. 疟疾是一种感染人口众多，能在短时间内广泛蔓延的传染病

B. 艾滋病是由感染HIV病毒引起，这是一种能攻击人体免疫系统的病毒

C. 埃博拉的致死率并不高，该病毒主要通过空气传播

D. 登革热主要通过蚊虫传播，是东南亚儿童死亡的重要原因之一

73. 首因效应也叫第一印象效应，是指个体在社会认知过程中，通过“第一印象”最先输入的信息对客体以后的认知产生的影响作用。下列选项符合首因效应的是（ ）。

A. 物以类聚

B. 削足适履

C. 恶人先告状

D. 一俊遮百丑

74. 《黄帝内经》深受诸子百家学术思想的影响，其中有这么一段话：“心者，君主之官也，神明出焉。肺者，相傅之官，治节出焉。肝者，将军之官，谋虑出焉。胆者，中正之官，决断出焉。膻中者，臣使之官，喜乐出焉。”这段论述受到下列哪一学派思想的影响？（ ）

A. 儒家

B. 道家

C. 法家

D. 墨家

75. 下列关于“一带一路”说法错误的是（ ）。

A. 是“丝绸之路经济带”和“21世纪海上丝绸之路”的简称

B. 贯穿欧亚大陆，东边连接亚太经济圈，西边进入欧洲经济圈

C. 新疆地处亚欧大陆地理中心，是我国向西开放的桥头堡，是丝绸之路经济带上的重要节点、核心地区

D. 加快推进“一带一路”建设步伐，只需要国家层面的统筹协调，与沿线相关省区市的发展关系不大

76. 东坡居士苏轼有可能与下列哪一名句的作者一起推杯换盏，吟诗作对？（ ）

A. 在天愿作比翼鸟，在地愿为连理枝

B. 长风破浪会有时，直挂云帆济沧海

C. 问渠哪得清如许？为有源头活水来

D. 两情若是久长时，又岂在朝朝暮暮

77. 在当下社会，纸币已经出现电子形态，比如越来越多的人使用手机进行支付，整个支付过程完全见不到纸币的踪影。这说明手机支付可以代替货币的哪项职能？（ ）

A. 世界货币

B. 贮藏手段

C. 价值尺度

D. 支付手段

78. 下列表述错误的是（ ）。

- A. 长期饮用缺氟的水容易患上龋齿
- B. 纤维素属于糖类，是植物的主要成分
- C. 锌、钙、铁等在人的生长发育期是必不可少的
- D. 油脂在体内经氧化放出能量，为维持恒定体温提供能量

79. 下列国家中，不是实行总统共和制的是（ ）。

- A. 巴西
- B. 美国
- C. 埃及
- D. 德国

80. 公共预算不仅能够引导国家和地方的经济增长与发展，还可以促使公共管理者对从公民手中征得的、用于公共项目的资金承担法律责任。这体现了公共预算的（ ）。

- A. 政治性和管理性
- B. 政治性和经济性
- C. 经济性和责任性
- D. 管理性和责任性

81. 在我国，野外迷路时，下列辨别方向的方法不正确的是（ ）。

- A. 树木年轮较密的一侧是南方
- B. 树木枝叶茂盛的一侧是南方
- C. 岩石上布满青苔的一侧是北方
- D. 蚂蚁洞口朝向的一侧是南方

82. 中国的行政监督制度始于战国时期，到宋元明清时期才算比较完备。下列制度中，不属于中国古代行政监督制度的是（ ）。

- A. 春秋战国时的进谏奖励制度
- B. 魏晋南北朝时的九品中正制
- C. 秦汉时的监察御史和刺史制度
- D. 唐朝的三院分察制度

83. 某市公安局要发通报表彰公安民警甲在人民群众生命财产安全受到威胁的关键时刻，挺身而出、舍己救人的先进事迹。根据通报的写作要求，下列对这份通报正文的写作提示，正确的是（ ）。

- A. 首先要详细描述甲救人的经过
- B. 要对甲舍己救人先进事迹的意义进行简要分析
- C. 在分析意义之后写对甲进行表彰的决定
- D. 正文最后号召大家向甲学习

84. 古代不少建筑因为名家名篇而驰名后世。下列历史名楼与名人对应不正确的是（ ）。

- A. 岳阳楼——范仲淹
- B. 滕王阁——王勃
- C. 鹳雀楼——杜牧
- D. 黄鹤楼——崔颢

85. 在20世纪80年代，我国各大电视台不可能播报以下哪条新闻？（ ）

- A. 两伊战争
- B. 海湾战争
- C. 东欧剧变
- D. 星球大战计划

## 五、资料分析

2014年，上海市全年实现金融业增加值3268.43亿元，比上年增长14%。

全年新增各类金融单位96家。其中，货币金融服务单位37家；资本市场服务单位40家。至年末，全市各类金融单位达到1336家。其中，货币金融服务单位601家；资本市场服务单位292家；保险业单位363家。

至年末，全市中外资金融机构本外币各项存款余额73882.45亿元，比年初增加4612.96亿元；贷款余额47915.81亿元，比年初增加3424.23亿元。

全年通过上海证券市场股票筹资3962.59亿元，比上年增长57.5%；发行公司债2955.2亿元，比上年下降5.6%。至年末，上海证券市场上市证券3758只，比上年增加972只，其中股票1039只，增加42只。

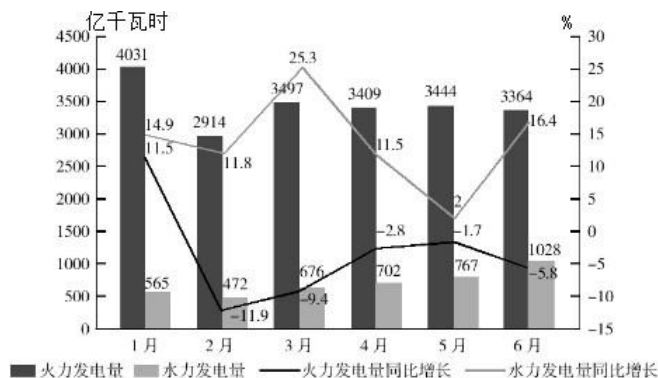
全年金融市场（包括外汇市场）交易总额达到786.66万亿元，比上年增长23.2%。上海证券交易所各类有价证券总成交金额128.15万亿元，增长48.1%，其中，股票成交金额37.72万亿元，增长63.8%。上海期货交易所总成交金额126.47万亿元，增长4.7%。中国金融期货交易所总成交金额164.02万亿元，增长16.3%。银行间市场总成交金额361.51万亿元，增长27.0%。上海黄金交易所总成交金额6.51万亿元，增长24.7%。

86. 2014年，上海市全年新增货币金融服务单位在当年新增的各类金融单位中占（ ）。
- A. 两成多                      B. 三成多                      C. 四成多                      D. 五成多
87. 2014年间，上海市中外资金融机构本外币存贷款差（ ）。
- A. 增加了1千多亿元      B. 增加了2万多亿元      C. 减少了1千多亿元      D. 减少了2万多亿元
88. 2014年上海市股票成交金额比2013年增加约（ ）万亿元。
- A. 10                              B. 12                              C. 15                              D. 18
89. 以下金融市场中，2014年成交金额同比增量最高的是（ ）。
- A. 上海证券交易所      B. 中国金融期货交易所      C. 上海黄金交易所      D. 上海期货交易所
90. 能够从上述资料中推出的是（ ）。
- A. 3年全年，上海市实现金融业增加值3000多亿元
- B. 3年上海市证券交易所各类有价证券总成交额中，股票成交金额占比高于2014年
- C. 2014年末，上海市资本市场服务单位数量不到货币金融服务单位数量的一半
- D. 2014年间，上海市银行间市场月均成交金额超过31万亿元

表 2013年第一季度至2014年第四季度我国发电量情况（单位：亿千瓦时）

时间	发电总量	水力发电量	火力发电量
2013年：第一季度	11823	1306	10006
第二季度	12519	1985	9949
第三季度	14347	2552	11161
第四季度	13763	2047	11037
2014年：第一季度	12719	1453	10782
第二季度	13444	2265	10582
第三季度	14592	3442	10377
第四季度	13883	2284	10677

2015年1~6月我国火力、水力发电量及其增长情况



91. 如果2015年7~11月我国水力发电量的月平均增速与2015年2~6月保持相同，则2015年11月我国水力发电量可达（ ）。
- A. 1390亿千瓦时      B. 1870亿千瓦时      C. 2063亿千瓦时      D. 2239亿千瓦时

92. 2015年第二季度我国火力发电量比上年同期少（ ）。
- A. 232亿千瓦时                      B. 260亿千瓦时                      C. 340亿千瓦时                      D. 365亿千瓦时
93. 2014年我国季度发电量同比增长最慢的是（ ）。
- A. 第一季度                              B. 第二季度                              C. 第三季度                              D. 第四季度
94. 2015年1~6月，我国火力发电量少于上年同期的月度个数是（ ）。
- A. 3    B. 4    C. 5    D. 6
95. 下列判断不正确的是（ ）。
- A. 2014年有三个季度的水力发电量占发电总量的比重不超过20%
- B. 2013~2014年我国各个季度火力发电量占发电总量的比重均超过70%
- C. 2015年上半年我国水力与火力发电量各月同比增长的方向均相反
- D. 2013年第二季度到2015年第二季度我国水力发电量有四个季度环比减少

2013年3月末，金融机构人民币各项贷款余额65.76万亿元，同比增长14.9%，增速比上年同期低0.8个百分点。

2013年3月末，主要金融机构及小型农村金融机构、外资银行人民币小微企业贷款余额11.78万亿元，同比增长13.5%，比全部企业贷款余额增速高1.2个百分点。

2013年3月末，主要金融机构本外币工业中长期贷款余额6.46万亿元，同比增长3.2%。其中，轻工业中长期贷款余额6824亿元，同比增长7.6%；重工业中长期贷款余额5.77万亿元，同比增长2.7%。服务业中长期贷款余额16.55万亿元，同比增长8.9%。

2013年3月末，主要金融机构及小型农村金融机构、村镇银行、财务公司本外币农村贷款余额15.24万亿元，同比增长18.4%；农户贷款余额3.86万亿元，同比增长16.9%；农业贷款余额2.87万亿元，同比增长12.3%。

2013年3月末，主要金融机构及小型农村金融机构、外资银行人民币房地产贷款余额12.98万亿元，同比增长16.4%。地产开发贷款余额1.04万亿元，同比增长21.4%。房产开发贷款余额3.2万亿元，同比增长12.3%。个人购房贷款余额8.57万亿元，同比增长17.4%。保障性住房开发贷款余额6140亿元，同比增长42.4%。

96. 2013年3月末，轻工业中长期贷款余额占工业中长期贷款余额总体的比重与上年相比（ ）。
- A. 约上升0.4个百分点    B. 约上升4个百分点    C. 约下降0.4个百分点    D. 约下降4个百分点
97. 2013年3月末，各项贷款余额从高到低排序正确的是（ ）。
- A. 农户贷款余额、地产开发贷款余额、农业贷款余额
- B. 房产开发贷款余额、地产开发贷款余额、轻工业中长期贷款余额
- C. 服务业中长期贷款余额、农户贷款余额、重工业中长期贷款余额
- D. 重工业中长期贷款余额、轻工业中长期贷款余额、房产开发贷款余额

98. 2013年3月末，金融机构人民币各项贷款余额约是2011年同期的多少倍？（ ）
- A. 1.1                                      B. 1.2                                      C. 1.4                                      D. 1.3

99. 2013年3月末，房地产开发贷款余额同比增速为（ ）。

A. 14.4%

B. 12.3%

C. 19.3%

D. 21.4%

100. 关于2013年3月末贷款余额的情况，能够从上述材料中推出的是（ ）。

A. 全部企业贷款余额同比增长了14.7%

B. 农村贷款余额比上年同期增长了3万多亿元

C. 个人购房贷款余额同比增速快于保障性住房开发贷款余额

D. 服务业中长期贷款余额同比增量超过工业中长期贷款余额的3倍