

江山模拟卷（七）

一、言语理解与表达

1. 依次填入下面横线上的词语，最恰当的一项是（ ）。

①当春到来时，百花盛开，各自争相斗艳，一派繁荣；当夏到来时，满池荷花，蝉鸣伴奏，_____。

②凶猛的网络经济，_____着传统媒体，差不多已经击垮了传统书店。

- A. 其乐融融 蚕食
B. 熙熙攘攘 吞食
C. 其乐融融 吞食
D. 熙熙攘攘 蚕食

2. 从长期看来，人民币国际化并逐步发展成为储备货币_____。一方面，中国经济基本面长期向好的_____没有变；另一方面，人民币的币值一直比较稳定，稳中有升，这些都为有强烈“保值增值”需求的各国央行提供了储备人民币的强大_____。

依次填入划横线部分最恰当的一项是（ ）。

- A. 势如破竹 态势 动机
B. 势不可挡 趋势 动力
C. 势在必行 势态 信心
D. 势如累卵 形势 信念

3. “意外惊喜”不是游客在朝鲜可以经常遇到的东西，因为导游会_____地规划你的行程，通常不惜绕远路也要避免你接触普通朝鲜民众。可喜的是，一些非政府组织正在_____打破这层厚重面纱。

依次填入划横线部分最恰当的一项是（ ）。

- A. 周密 企图
B. 谨慎 试图
C. 严密 努力
D. 审慎 考虑

4. 地球村内，防疫无国界，需要吸取教训、分享经验、共同御敌。抗击疫情，这是“我们”的战争，在_____的全球网络中，置身事外的“我”无法取胜，只有身处命运共同体的“我们”，才能有_____不断发起“军备竞赛”的病菌株。

依次填入划横线部分最恰当的一项是（ ）。

- A. 变幻莫测 抵抗
B. 唇齿相依 对抗
C. 瞬息万变 抵挡
D. 休戚相关 对付

5. 虽然政府与企业、家庭一起共同参与国民经济，但其行为方式和目的_____。企业和居民是以收益最大化为前提和目标的。而政府的经济活动一方面不能_____收益和成本，另一方面又必须以全社会的公正和公平为前提。

填入横线部分最恰当的一项是（ ）。

A. 大相径庭 忽视

B. 截然相反 忽略

C. 不尽相同 无视

D. 泾渭分明 轻视

6. 英语目前是世界上不同语言群体之间进行交流的主要方式。这种交流是文化间的知识交流，它的_____是存在着分离的文化。换句话说，作为通用语言的英语是处理语言差异和文化差异的方式，而不是_____它们的方式。

依次填入划横线部分最恰当的一项是（ ）。

A. 表达 同化

B. 特征 隔绝

C. 基础 统一

D. 前提 消灭

7. 在戏剧行业整体上陷入困境时仍具活力的越剧和黄梅戏，在戏剧复苏的今天却_____，令人扼腕。事实上不止越剧和黄梅戏，评剧、楚剧、粤剧等观众人口在中国位居前列的剧种，近年在新剧目创作中都出现相似的问题。

填入划横线部分最恰当的一项是（ ）。

A. 乏善可陈

B. 一落千丈

C. 败走麦城

D. 销声匿迹

8. 有智慧的人，一直以来都在享受每一秒，因为他们知道这一秒一旦过去就永不再来；愚痴的人，一直以来都在抱怨每一秒，总觉得这一秒不幸，下一秒才好！同样经历每分每秒，但_____，天地悬隔。

填入划横线部分最恰当的一项是（ ）。

A. 泾渭分明

B. 南辕北辙

C. 毫厘之差

D. 庸人自扰

9. 一个世界级的伟大作家当然先要有作品的_____，这一点，莫言毋庸置疑：近30年出版了10多部长篇小说，100多部中短篇小说，塑造出了_____的人物。

依次填入划横线部分最恰当的一项是（ ）。

A. 厚度 无与伦比

B. 高度 千奇百怪

C. 广度 形态各异

D. 深度 栩栩如生

10. _____长江是一条忽高忽低、忽曲忽直、忽细忽宽的漫长的跑道，_____，金沙江所跑的更是陡坡挨着陡坡，拐弯挨着拐弯啊。哦，它不是从高到低往下滑，而是猛地跳下来，突然地冲下去。

_____，正因为征途如此艰险，所以金沙江显得格外刚毅顽强，豪放潇洒。可以说，他是一位充满着浪漫主义色彩的运动员啊，金沙江不但浪漫而且英俊，_____古人称它为“丽水神川”。

依次填入划横线部分最恰当的一项是（ ）。

A. 假如 或许 仿佛 因此

B. 假如 那么 也许 所以

C. 如果 那么 也许 因此

D. 如果 或者 莫非 所以

11. 红色文化是中国革命和建设光荣历史的见证。红色文化渗透着对中国特色社会主义共同理想的向往、对民族精神的传承、对时代精神的创造和对社会主义荣辱观的践行，是社会主义核心价值体系的

内在组成部分。红色文化资源内容生动、感染力强，在价值观教育方面有极好的说服力。红色文化资源分布广泛，易于开发，具有广泛的适应性和针对性，是社会主义核心价值观体系建设的文化基础、文化资源和文化素材。挖掘红色文化的内在价值，大力传承与弘扬红色文化，_____。

填入划横线部分最恰当的一句是（ ）。

- A. 构建社会主义核心价值观教育的全新模式 B. 对培育社会主义核心价值观具有重要意义
把社会主义核心价值观体系融入国民教育中 C. 引领国民认同并践行社会主义核心价值观

12. ①这些实验告诉我们：科研进展有时就像马拉松赛，而不是很快就能见分晓的短程赛跑
②科学发展是人类追求的一个长期目标，但一些具体研究项目却往往是在一个较短时间尺度内进行和完成的
③有些研究项目的数据积累工作已持续了几个世纪，有的每年产生数以百计的论文，有的十年才产生一个数据点
④也有一些科学实验或科研项目却不可能在短期类完成，例如：人类寿命研究，地壳变动情况勘察，太阳表面变化观察等，有可能需要几十年甚至几个世纪的时间
⑤尽管如此，一些有远见的科学家仍以他们的奉献精神和坚韧不拔的毅力，将科学实验成果传承了下去
⑥如此漫长的实验因此受到各种外在条件和因素的挑战，如研究重点的转移和技术的变化等，并经常受到资金不足和人员变动的制约

将以上6个句子重新排列，语序正确的是（ ）。

- A. ③④⑥②⑤① B. ②③④①⑥⑤ C. ②④③⑥⑤① D. ③②④①⑤⑥

13. 下列各句中，没有语病的一句是（ ）。

- A. 目前我国教育领域的新课程改革的目标之一，在于改变课程内容过于注重书本知识的现状，关注和提高学生的学习兴趣和学习经验
B. 班主任召集班委进行协商，通过民主决议安排了主题班会的主题、时间、内容、环节，以及班会中应注意的问题
C. 林语堂先生认为，最懂得读书之乐者，莫如中国第一女诗人李清照及其夫赵明诚
D. 这就是创造了“楚辞”文体，被后世尊称为“诗歌之父”的爱国主义诗人屈原祠

14. 把下面几个句子组成语意连贯的一段文字，排序正确的一项是（ ）。

- (1) 后母戊鼎的铸造，充分说明商代后期的青铜铸造不仅规模宏大，而且组织严密，分工细致
(2) 鼎身共使用8块陶范，每个鼎足各使用3块陶范，器底及器内各使用4块陶范
(3) 铸造此鼎，所需金属材料超过1000千克
(4) 显示出商代青铜铸造业的生产规模与杰出的技术成就，足以代表高度发达的商代青铜文化
(5) 根据铸痕观察，鼎身与四足为整体铸造
(6) 后母戊鼎的铸造工艺十分复杂
(7) 鼎耳则是在鼎身铸成之后再装范浇筑而成
(8) 而且，制作如此的大型器物，在塑造泥模、翻制陶范、合范灌注等过程中，存在一系列复杂的技术问题，同时必须配备大型熔炉

- A. 1-5-2-7-3-6-8-4 B. 1-3-2-5-7-6-8-4 C. 6-3-2-5-7-1-8-4 D. 6-5-2-7-3-8-1-4

15. “中央机关新录公务员超过八成来自普通家庭”，正是公务员考试“阳光”之体现。当前，还须让公务员考试更加阳光，需要有关部门进一步努力和探索，为招录优秀人才进公务员队伍提供平等机会。我国从1993年10月1日开始实施《国家公务员暂行条例》，2006年1月1日开始实施《公务员法》，“凡进必考”逐渐成为公务员人才招录的主要途径，国家公务员考试吸引了大批高校毕业生及社会人士踊跃报考。可以说，是这些制度的保障与支撑，让公务员考试赢得了公众的信任。

依据文意筛选信息，要让公务员考试更加阳光的关键在于（ ）。

- A. 提供平等机会 B. “凡进必考” C. 依法招录 D. 加强制度建设

16. 相较于传统外贸，跨境电子商务的优势非常明显，跨境电商不仅具有压缩中间环节、降低中小企业发展成本、增加就业等传统优势，还有重塑国际产业链、促进外贸方式转型、增强国际竞争力等作用，对于中国制造发展将带来极大利好。围绕跨境电商，我国正在形成一条从营销到支付、物流和金融服务的非常清晰完整的链条和支撑体系，为中小企业走出去提供了可能。

这段文字重在说明（ ）。

- A. 跨境电商较传统对外贸易有明显优势 B. 跨境电商将为中国制造发展带来机遇
C. 跨境电商为我国企业走出去提供支持 D. 跨境电商能有效促进外贸方式的转型

17. 既然人是社会性的动物，做任何事情都无法脱离人际环境，那么，在单位时间内，谁能够以最低的沟通成本、最快地赢得他人的信任与配合，自然获得成功的几率就大——古今中外，凡能成就大事者，往往胜出在沟通、组织与行动的综合素质。进入工业时代的社会化大生产，以及市场经济环境下的商业竞争，无不需要将这类“人际型知识”贯穿于每一个“经济人”的行为之中。

下列说法与上述文字相符的是（ ）。

- A. 沟通对于成功很重要 B. 降低沟通成本才能成功
C. 沟通、组织与行动能够成大事 D. 得到他人信任的关键在于沟通

18. 妇女的生育决策受到经济、社会、文化等和生育政策的共同影响。生育的经济成本和心理成本对妇女生育二胎的计划有着显著影响，生育政策已经不是生育决策的唯一决定因素，经济社会发展和妇女地位以及个人发展将会对人们的生育决策产生越来越重要的影响。

这段文字意在强调（ ）。

- A. 生育政策已无法决定妇女的生育意愿 B. 当下妇女的生育决策并非完全取决于生育政策
C. 生育的经济成本是决定妇女生育意愿的关键 D. 妇女的地位与个人发展决定了妇女的生育决策

19. 新常态下，“共享经济”为经济结构调整和产业结构转型提供了新的思路。在信息化时代，物流行业具有覆盖范围广、涉及面多，且物流市场运营主体小而散、运营环节多而杂的特点，尤其需要企业、物流公司等多方共享信息和资源，变革物流运行模式和组织模式，全面推行信息化和智能化，通过简约、高效、完善的平台完成资源整合。

这段文字主要说明了（ ）。

- A. “共享经济”模式应主要用于物流行业
B. “共享经济”模式对物流行业有着重要的意义
C. 没有“共享经济”模式，物流行业的发展前景堪忧
D. 物流行业和“共享经济”模式的紧密结合

20. 亚洲国家躲过了近年来的全球大萧条，其中最主要的原因是它未被卷入2008年金融危机。然而近日一项调查显示，亚洲的债务水平正在以可怕的速度增长。从某些方面来说，这有部分合理理由，许多国家的超低息政策鼓励贷款，债务增长是财富增长的自然产物，但值得警惕的是，亚洲国家需要借助更大的债务规模来保持经济增长。这个信息表明，亚洲经济健康状况不像GDP增长速度反映的那样良好，亚洲目前的债务水平总体来说低于欧洲，还处在安全范围内，但债务的迅速增长会让经济体更容易遭受冲击。

这段文字意在表明（ ）。

- A. 亚洲国家经济增长缺乏后劲
- B. 盲目追求GDP增长速度后患无穷
- C. 亚洲国家需警惕陷入债务危机
- D. 要全面认识超低息贷款政策的利弊

21. 世界高新技术革命的浪潮已经把经济竞争从物质资源竞争推向人力资源的竞争，人力资源的开发、利用和管理将成为人类社会经济发展的关键因素，在这个过程中需要大量的人力资源信息，必然离不开人力资源会计。在人口众多、人口素质相对较差的我国，建立和推行人力资源会计制度更具备必要性。这段文字主要表述的是（ ）。

- A. 我国发展人力资源会计的必要性
- B. 世界高新技术革命的浪潮影响巨大
- C. 我国的人口众多且人口素质相对较差
- D. 人力资源竞争成了社会发展的关键因素

22. 在现实中的卢浮宫，你需要在蒙娜丽莎的外围等上数十分钟，才能凑近那发黄的小画看上片刻。虚拟博物馆此时就可以发挥效用：攒动的人潮没有了，距离没有了，推到眼前的只有高度还原的展厅景观和70亿像素无限细腻的细节和质感。而且博物馆虽然有丰富的馆藏和长期列展，但因为空间有限，并不会将所有作品同时展示在展厅里，但在数字展厅，那些难得一见的艺术品你都可以随时观览。这段文字主要介绍了（ ）。

- A. 数字博物馆的优势
- B. 博物馆的未来发展方向
- C. 传统博物馆的技术局限
- D. 建设数字博物馆的重要性

23. 目前，在我国各地，养老问题的管理工作分散在老干部局、民政局、人力资源和社会保障局、医疗卫生部门、老龄办等多个部门和单位。此外，妇联、青联、公会、残联等机构也或多或少地介入了养老的服务保障和管理工作。

对我国养老管理工作描绘最准确的一项是（ ）。

- A. 多龙治水
- B. 三个和尚没水吃
- C. 二龙戏珠
- D. 僧多粥少

24. 近年来，二维码在中国大行其道。车票机票、电视屏幕、报纸题头、商品标签、广告图片……到处都有它的身影。二维码又称二维条码，是条形码的升级。它诞生于日本，是用某种特定几何图形按一定规律在平面（二维方向上）分布的黑白相间图形，把文字、图像、音频、视频等“编码”成一个图像，当用特定软件拍摄这些图像时，所有信息就会显示出来。

根据这段文字，要定义“二维码”必不可少的要素有（ ）。

①二维条码 ②诞生于日本 ③黑白相间 ④用某种特定几何图形 ⑤“编码”

- A. ①②⑤
- B. ①③④
- C. ②④⑤
- D. ③④⑤

25. 现收藏于陕西省博物馆的八棱金杯，是唐代比较有代表性的作品，1970年发掘出土。此杯为国

家一级文物，高6.4厘米，侈口八角，圈足。八个面之间以连珠式图案相分割，分别装饰有拍板、吹箫、弹奏琵琶等人物浮雕图案，人物形象高鼻深目，明显是当时的西域胡人形象。此外，还有忍冬纹、卷草纹，以及山石、飞鸟、蝴蝶等装饰图案。这件文物对研究唐代金属工艺、造型艺术、文化交流、歌舞音乐以及服装穿戴等社会现象都有极大帮助。

下列说法与原文不相符的是（ ）。

- A. 唐代时已有箫、琵琶等音乐器具
- B. 当时西域与唐王朝有一定文化交流
- C. 八棱金杯是唐王朝赠送给西域的礼品
- D. 金杯的八个面之间以连珠式图案相分割

二、数量关系

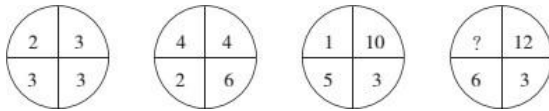
26. 2, 5, 10, 18, 31, 52, 86, 141, (), ……

- A. 175
- B. 196
- C. 230
- D. 285

27. $1, \frac{1}{2}, 3, 2, 7, 5, (), (), 31, 23$

- A. 6, 7
- B. 15, 11
- C. 10, 11
- D. 7, 9

28.

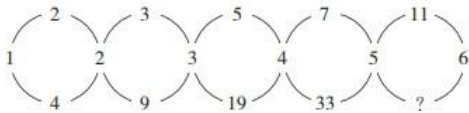


- A. 1
- B. 2
- C. 3
- D. 4

29. 10, 15, 25, 40, 65, ()

- A. 100
- B. 105
- C. 130
- D. 145

30. 根据下图数字之间的规律，问号处应填（ ）。



- A. 22
- B. 41
- C. 61
- D. 71

31. 根据下表数字之间的规律，问号处应填（ ）。

3	8	6	30
7	5	8	43
6	7	6	?

- A. 32
- B. 43
- C. 48
- D. 56

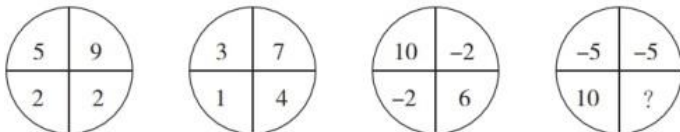
32. 12, 18, 30, 42, 66, ()

- A. 78
- B. 108
- C. 138
- D. 152

33. 1, 5, 20, 60, 120, ()

- A. 0
- B. 120
- C. 210
- D. 240

34.



- A. -6
- B. -4
- C. -2
- D. 0

35. 0, 5, 13, 27, 50, ()

- A. 72
- B. 85
- C. 91
- D. 97

36. 某商品的单位利润和进货量的大小相关，进货总额低于5万元时利润率为5%；低于或等于10万元时，高于5万元的部分利润率为10%；高于10万元时，高于10万元的部分利润为15%。问当进货量为20万元时，一共有多少万元的利润？（ ）

- A. 1.75 B. 2.25 C. 3.15 D. 4.05

37. 某单位准备扩建一矩形花圃，若将矩形花圃的长和宽各增加4米，则新矩形花圃的面积比原来的面积增加了40平方米。那么，原矩形花圃的周长是多少？（ ）

- A. 12米 B. 24米 C. 32米 D. 40米

38. A、B两地相距400米，早上8点小周和老王同时从A地出发在A、B两地间往返锻炼。小周每分钟跑200米，老王每分钟走80米，问8点11分，小周和老王之间的距离是多少米？（ ）

- A. 0 B. 80 C. 120 D. 200

39. 张家和李家都使用90米的篱笆围成了长方形的菜园，已知李家的长方形菜园的长边比张家短5米，但是菜园面积却比张家大50平方米，则李家的长方形菜园面积为（ ）。

- A. 550平方米 B. 500平方米 C. 450平方米 D. 400平方米

40. 旅游团安排住宿，如果4个房间每间住4人，其余房间每间住5人，空余2个床位；若有4个房间每间住5人，其余房间每间住4人，正好住满。该旅游团有多少人？（ ）

- A. 28 B. 42 C. 44 D. 48

41. 一列高铁列车A车长420米，另一列高铁列车B车长300米，在平行的轨道上相向而行，从两个车头相遇到车尾相离经过30秒。如果两车同向而行，列车B在前，列车A在后，从列车A车头遇到列车B车尾再到列车A车尾离开列车B车头经过120秒。那么列车A的速度为（ ）。

- A. 每小时54公里 B. 每小时100公里 C. 每小时200公里 D. 每小时300公里

42. 甲、乙两种商品，其成本价共100元，如甲、乙商品分别按30%和20%的利润定价，并以定价的90%出售，全部售出后共获得利润14.3元，则甲商品的成本价是（ ）。

- A. 55元 B. 60元 C. 70元 D. 98元

43. 某人欲将自己的手机密码设为3位数字，要求第一位是偶数，后两位中至少有一个是6，则他可选选择的密码个数为（ ）。

- A. 68 B. 72 C. 95 D. 100

44. 某工厂4个车间的工人都出生在1985到1988年间，如果统计任意2个车间的人数和，分别得到54、63、75、78、90、99这6个不同的结果。则人数最多的车间至少有多少工人出生于同一年？（ ）

- A. 14 B. 15 C. 16 D. 17

45. 年初，甲、乙两种产品的价格比是3:5；年末，由于成本上涨，两种产品的价格都上涨了9元，价格比变成了2:3，则年初时乙的价格比甲高出（ ）元。

- A. 9 B. 18 C. 27 D. 36

46. 已知 $1^3+2^3+3^3+\dots+n^3=(1+2+3+\dots+n)^2$ ，问 $1^3+3^3+5^3+\dots+19^3=()$ 。

- A. 19500 B. 19900 C. 20300 D. 22500

47. 某件商品如果打九折销售，利润是原价销售时的 $\frac{2}{3}$ ；如果打八折后再降价50元销售，利润是原价销售时的 $\frac{1}{4}$ 。该商品如果打八八折销售，利润是多少元？（ ）

- A. 240 B. 300 C. 360 D. 480

48. 某大学金融班原有的男女比例为2:5，本学期从外班转入4个男学生，则男女学生之间的比例为3:5。请问原金融班里有多少个男生？（ ）

- A. 4 B. 6 C. 8 D. 10

49. 某办公室接到15份公文的处理任务，分配给甲、乙、丙三名工作人员处理。假如每名工作人员处理的公文份数不得少于3份，也不得多于10份，则共有（ ）种分配方式。

- A. 15 B. 18 C. 21 D. 28

50. 沿一个平面将长、宽和高分别为8、5和3厘米的长方体切割为两部分，问两部分的表面积之和最大是多少平方厘米？（ ）

A. 206

B. 238

C.

$158+16\sqrt{34}$

D.

$158+10\sqrt{73}$

三、判断推理

51. 琵琶：木材：乐器

- A. 鼎：青铜：用具 B. 水墨画：宣纸：工艺 C. 浮雕：石块：建筑 D. 竹筒：竹片：书籍

52. 上下：前后

- A. 有无：朝暮 B. 左右：东西 C. 多少：正反 D. 异同：生死

53. 35464536

- A. 36525632 B. 38583656 C. 52662959 D. 42162146

54. 叮咬：蚊香：花露水

- A. 攻击：雷达：鱼雷 B. 美化：绿化：装饰 C. 淋雨：雨伞：雨衣 D. 事故：红绿灯：交警

55. 劳动产品：商品：物美价廉

- A. 兰花：植物：香气宜人 B. 金属：铜：导电
C. 天然气：甲烷：燃烧 D. 动物：哺乳动物：穴居

56. 唐诗：七律

- A. 曲艺：越剧 B. 自行车：汽车 C. 瓷器：茶杯 D. 哺乳动物：老虎

57. 工人之于（ ）相当于农民之于（ ）

- A. 建设 园圃 B. 工厂 农田 C. 砖瓦 昆虫 D. 工程师 教授

58. h8icc33f6

- A. f6gbb22d4 B. dd22f6gh6 C. 4de66f7h9 D. cg7dee55d

59. 女性不都爱化妆，但男性都不爱化妆。

如果上述第一个判断为真，第二个判断为假，则以下哪项据此可以确定真假？（ ）

- (1) 女性都爱化妆，有的男性也爱化妆
- (2) 有的女性爱化妆，有的男性不爱化妆
- (3) 女性都不爱化妆，男性都爱化妆

- A. 只有 (1)
- B. 只有 (2)
- C. 只有 (3)
- D. (1) (3)

60. 煤炭采掘业发言人提出了建议：为了维持国产煤炭的价格，必须限制较便宜的国外煤炭的进口，否则，我国的煤炭采掘业将难以经营。有色金属冶炼业发言人对上述建议的反应：我国有色金属冶炼业购买的煤炭75%都是国产的，如果煤炭的价格不是按国际价格支付，那么，由于成本的提高，国产的有色金属就会卖不出去，这样对国产煤炭的需求就会下跌。

以下（ ）是对有色金属冶炼业发言人的论证的最恰当评价。

- A. 该论证无的放矢，和煤炭采掘业发言人的建议无关
- B. 该论证是循环论证，它预先假设了为了评论煤炭采掘业发言人的建议而需要证明的东西
- C. 该论证说明煤炭采掘业发言人的建议如果实施的话将会对其自身产生负面影响
- D. 该论证没有给出理由说明为什么上述建议的实施并不能减轻煤炭采掘业难以经营的担心

61. 某经济学院从国外引进了30种教材，其中，金融类教材12种，非金融类的英文教材10种，从美国引进的非金融类教材7种，从美国以外国家引进的非英文教材9种。

根据上文，可以推知（ ）。

- A. 从美国引进的、非英文的金融类教材不超过8种
- B. 从美国引进的、非英文的金融类教材至少有8种
- C. 从美国以外国家引进的、非英文的金融类教材不超过8种
- D. 从美国以外国家引进的、非英文的金融类教材至少有8种

62. 甲、乙、丙、丁、戊5支球队进行小组单循环赛，每两个队之间互赛一场。循环赛结束后，各队胜负情况如下表所示：

球队	胜	负
甲	2	2
乙	0	4
丙	1	3
丁	4	0
戊		

根据以上信息，可以推出的是（ ）。

- A. 甲队战胜了丙队和戊队
- B. 甲队负于丙队和戊队
- C. 甲队战胜了戊队，但负于丙队
- D. 甲队战胜了丙队，但负于戊队

63. 考古学家对安第斯地区出土的900年到2800年前的人类骨骼进行了研究，从中提取出的某些化学同位素成分，反映出那里的人当时多以玉米为食。“玉米文化”带动了安第斯地区的人口增长，当时爆发的几次大规模战争也与争夺稀缺的适种玉米的土壤有关，战争导致了社会体系不断变革和发展。因此他们得出结论“农业推动了古代安第斯社会的发展”。

以下哪项如果为真，最能质疑上述结论？（ ）

- A. 安第斯地区的印加文明早在2800年前就经历了几次较大的社会变革
- B. 安第斯地区3600年前的人类以沿海打鱼为主，直到2800年前左右才逐渐向内陆迁徙 C.
- 从人类骨骼中提取的另一些化学同位素反映了人们当时也食用马铃薯和豆类
- D. 安第斯地区的社会体系拥有中央政府和地方政府，后又衍生出多种社会形态

64. 根据《2015~2024年农业展望》报告，发展中国家对粮食的需求将会发生重大变化。因为随着人口、人均收入和城镇化的不断扩大，对食品的需求也将增加。收入的提高将促使消费者的饮食进一步多样化，尤其是增加相对于淀粉类食物的动物蛋白的消费。

由此可以推出（ ）。

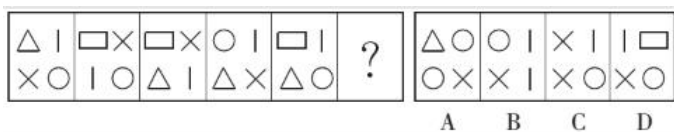
- A. 随着收入的提高，发展中国家对生活质量的要求将与日俱增 B.
- 发展中国家今后必须面对肥胖以及其他与饮食相关疾病问题 C.
- 肉类和奶制品的需求会进一步增加，其价格可能会一路攀升 D.
- 如果消费者饮食进一步多样化，就会引起主粮作物价格下降

65. 随处可见的榨菜，在中国经济舞台上正扮演着越来越重要的角色。从2007年到2011年，涪陵榨菜在华南地区的市场份额从49%一路跌破30%，与此对应的是珠三角地区劳动密集型企业转移；2012年，在中西部地区务工的农民工数量增长较快，与此同时，该地区涪陵榨菜销售额创造了接近50%的增长。有专家就此指出，榨菜销售量与农民工的流动趋势存在巨大的相关性，政府可根据“榨菜指数”变化情况提前制定政策，从容应对人口骤增后带来的就业、治安、教育、社保等公共服务问题。

以下哪项如果为真，最能支持上述专家的言论？（ ）

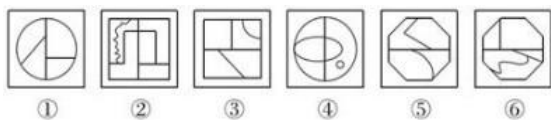
- A. 榨菜是大众喜爱的食品，四川、重庆人尤其酷爱榨菜，而四川、重庆两地又都是农民工输出地 B.
- 榨菜美味可口、价格低廉，购买、携带均很方便，在外地务工的农民工是榨菜的主要消费群体 C. 据传，国家某权威部门根据“榨菜指数”变化情况将全国分为“人口流入区”和“人口流出区”，但近期该部门对此传闻予以明确否认
- D. 浙江、福建等地生产的榨菜可能与涪陵榨菜销量情况相似，其销量的区域变化也能体现农民工的流动趋势

66. 从所给的四个选项中，选择最合适的一个填入问号处，使之呈现一定的规律性。



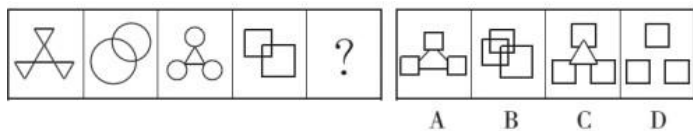
- A. A
- B. B
- C. C
- D. D

67. 把下面的六个图形分为两类，使每一类图形都有各自的共同特征或规律，分类正确的一项是（ ）。



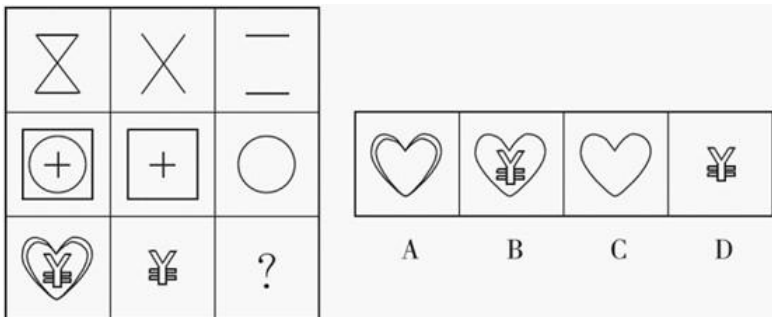
- A. ①②③，④⑤⑥
- B. ①②④，③⑤⑥
- C. ①③⑥，②④⑤
- D. ①④⑥，②③⑤

68. 从所给的四个选项中，选择最合适的一个填入问号处，使之呈现一定的规律性。



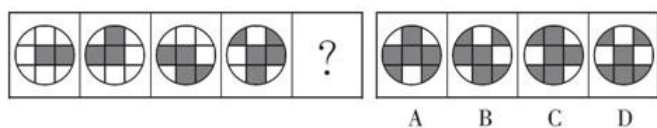
- A. A B. B C. C D. D

69. 从所给的四个选项中，选择最合适的一个填入问号处，使之呈现一定的规律性。



- A. A B. B C. C D. D

70. 请选择最适合的一项填入问号处，使之符合之前四个图形的变化规律。



- A. A B. B C. C D. D

四、常识判断

71. 关于成语或俗语所揭示的声学、热学现象，下列表述错误的是（ ）。

- A. 长啸一声，山鸣谷应：声音在山谷之间发生多次反射，形成回声
 B. 曲高和寡：频率越大，所发声音的音调越高，能跟着唱的人越少
 C. 瑞雪兆丰年：雪覆盖在农作物上面，防止热传导和空气对流，起到保温作用
 D. 弦外之音：声音在传播过程中，会发生衍射，所以有些声音我们听不到

72. 海拔是以海平面为基准点，地面某个地点高出海平面的垂直距离。以下几个城市海拔从高到低的排序关系中，正确的是（ ）。

- A. 武汉、厦门、昆明 B. 沈阳、包头、海口 C. 成都、长沙、西安 D. 拉萨、贵阳、北京

73. 中药材的主要来源包括动物、植物、矿物等，下列选项属于动物类药材的是（ ）。

- A. 田七、阿胶 B. 地龙、牛黄 C. 龙骨、鸡内金 D. 决明子、蝉衣

74. 以下关于我国古代命令文书的运用，说法一定错误的是（ ）。

- A. 皇帝即位或驾崩，须昭告天下，颁布“诏书”
 B. 皇帝封赠五品以下、七品以上官员，颁发“诰命”
 C. 开馆修书、修史，大都先由皇帝颁发“敕谕”
 D. 皇帝册立皇后、三公长官，颁发“册书”

75. 下列企业排污行为，违背法律规定的是（ ）。

- A. 某印染企业排污前依照法律规定上缴环境保护税，不缴排污费
 B. 某石化企业取得排污许可证，只按照许可证的要求排放污染物

C. 某橡胶厂排污导致突发环境事件，未通报可能受到危害的居民 D.

某家禽屠宰场属一般排污企业，未向社会公开其污染物的名称

76. 下列说法错误的是（ ）。

A. 条形码的编码规则具有唯一性

B. 印刷在纸制品上的二维码是无效的

C. 一维条形码支持阿拉伯数字及英文

D. 现有的二维码生成技术可将文字、照片等内容进行数字化编码

77. 下列关于生物的说法正确的是（ ）。

A. 植物是异养型生物 B. 木耳属于植物界 C. 哺乳动物是恒温动物 D. 病毒的细胞为原核细胞

78. 如何提高老年人生活质量与幸福满意度已经逐渐成为国家立法所关注的热点话题，以下行为不违反《老年人权益保障法》的是（ ）。

A. 子女与生活不能自理的老年人分开居住

B. 子女阻止老年人再婚

C. 子女长时间不回家探望老人

D. 子女干涉老年人处置个人财产

79. 在黄河入海口，下列哪一天白天最长？（ ）

A. 植树节

B. 劳动节

C. 教师节

D. 元旦

80. 佛教有“大乘佛教”和“小乘佛教”的分别。其中，“乘”指的是（ ）。

A. 车辆

B. 智慧

C. 超度

D. 佛法僧

81. 下列战役与成语典故对应不正确的是（ ）。

A. 长平之战——纸上谈兵

B. 巨鹿之战——破釜沉舟

C. 赤壁之战——投鞭断流

D. 淝水之战——草木皆兵

82. 关于化石燃料，下列说法不正确的是（ ）。

A. 是古代生物遗体在特定地质条件下形成的、可作燃料和化工原料的沉积矿产

B. 包括煤、石油和沼气

C. 大量使用该燃料，会引起全球气候变暖

D. 是不可再生的资源

83. “旧时王谢堂前燕，飞入寻常百姓家。”唐代诗人刘禹锡的这两句诗词，常被用来形容过去的一些昂贵商品现在变成了大众消费品。导致这种变化的根本原因是（ ）。

A. 人民生活质量提高

B. 社会劳动生产率提高

C. 商品市场日益繁荣

D. 大众消费观念发生变化

84. 用一杯水救一车着了火的柴禾而无济于事，谓之杯水车薪。如今在一些地方，通过新技术，只需一瓶矿泉水的水量，就能使一辆汽车洁净如新，不妨称之为“杯水车新”。“杯水车新”说明（ ）。

(1) 事物之间都存在着满足人们现实需要的客观联系

(2) 人们根据自身需要，必然能建立起事物间的新的具体的联系

(3) 事物的人为联系是在主客观条件相互作用下形成的

(4) 世界并不缺乏联系，缺乏的是善于发现联系的创新意识

- A. (1) (4) B. (2) (3) C. (1) (2) D. (3) (4)

85. 人类对宇宙空间的认识，由探索阶段进入开发利用阶段的是（ ）。

- A. 由苏联发射的“火星”号探测器 B. 美国的“阿波罗”登月计划实施
C. 世界第一架航天飞机试航成功 D. 我国第一颗人造地球卫星发射成功

五、资料分析

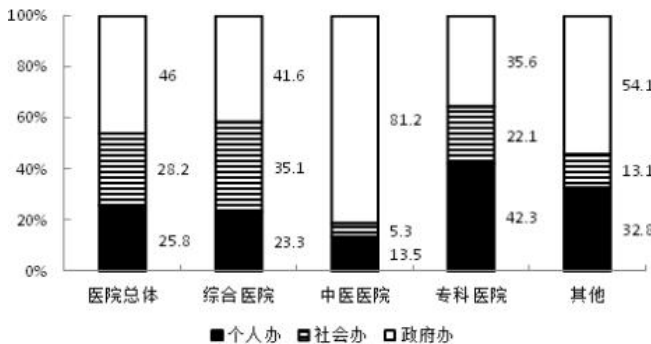
2010年，我国医院总数为20918家，较上年增长627家，医院接待诊疗20.40亿人次，比上年增长1.18亿人次，综合医院接待诊疗人次占全部医院接待诊疗人次的74.1%，是位居第二的中医医院诊疗人次的4.6

2006~2010年我国医疗卫生机构分布状况

年份	2006	2007	2008	2009	2010
医院总数(家)	19246	19852	19712	20291	20918
综合医院(%)	68.2	67.4	66.6	65.9	65.4
中医医院(%)	13.8	13.7	13.6	13.4	13.3
专科医院(%)	15.7	16.5	17.4	18.3	18.9
其他类(%)	2.3	2.4	2.4	2.4	2.4

倍。

2010年我国各类医疗卫生机构按主办单位分类的分布情况



86. 2007~2010年间，中医医院占医院总数比重同比下降最快的一年是（ ）。

- A. 2007年 B. 2008年 C. 2009年 D. 2010年

87. 与2009年相比，2010年我国约增加了多少家其他类医院？（ ）

- A. 15 B. 54 C. 128 D. 627

88. 2010年，我国政府的专科医院有多少家？（ ）

- A. 1100 B. 1400 C. 1700 D. 2000

89. 2010年，平均每家综合医院的接待诊疗者人次约是中医医院接诊人次的多少倍？（ ）

- A. 0.94 B. 1.05 C. 1.16 D. 1.27

90. 能够从上述资料中推出的是（ ）。

- A. 2006~2010年间，医院总数持续增加
B. 2009年全国医院共接待诊疗者21.58亿人次
C. 2010年的政府办医院中，一半以上是中医医院
D. 与2006年相比，2010年专科医院增速高于综合医院

2015年1~3月，国有企业营业总收入103155.5亿元，同比下降6%。其中，中央企业收入63191.3亿元，同比下降7%；地方国有企业收入39964.2亿元，同比下降4.2%。

1~3月，国有企业营业总成本100345.5亿元，同比下降5.1%，其中销售费用、管理费用和财务费用同比分别下降2.9%、增长2.3%和增长7.3%。其中，中央企业成本60216.5亿元，同比下降6.4%；地方国有企

业成本40129亿元，同比下降3.1%。

1~3月，国有企业利润总额4997.3亿元，同比下降8%。国有企业应交税金9383亿元，同比增长0.13%。

3月末，国有企业资产总额1054875.4亿元，同比增长12%；负债总额685766.3亿元，同比增长11.9%；所有者权益合计369109.1亿元，同比增长12.2%。其中，中央企业资产总额554658.3亿元，同比增长10.5%；负债总额363304亿元，同比增长10.4%；所有者权益为191354.4亿元，同比增长10.7%。地方国有企业资产总额500217.1亿元，同比增长13.8%；负债总额322462.3亿元，同比增长13.7%；所有者权益为177754.7亿元，同比增长13.9%。

91. 2014年1~3月，国有企业营业总收入最接近（ ）。

- A. 10.5万亿元 B. 11万亿元 C. 11.5万亿元 D. 12万亿元

92. 2015年1~3月，在销售费用、管理费用和财务费用中，占国有企业营业总成本的比重同比上升的有几项？（ ）

- A. 0 B. 1 C. 2 D. 3

93. 2015年3月末，中央企业所有者权益占国有企业总体比重比上年同期约（ ）。

- A. 下降了0.7个百分点 B. 下降了1.5个百分点 C. 上升了0.7个百分点 D. 上升了1.5个百分点

94. 2015年3月末，中央企业的资产负债率（负债总额÷资产总额）约在以下哪个范围内？（ ）

- A. 50%以下 B. 50%~60% C. 60%~70% D. 70%以上

95. 能够从上述资料中推出的是（ ）。

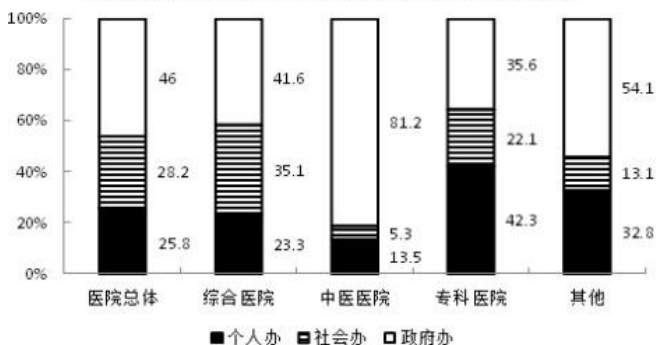
- A. 2015年1~3月，中央和地方国有企业营业成本均低于同期营业收入
 B. 2014年1~3月，国有企业应交税金占同期营业总收入的一成以上
 C. 2015年3月末，国有企业资产总额同比增长不到12万亿元
 D. 2015年3月末，地方国有企业资产负债率高于上年同期水平

2010年，我国医院总数为20918家，较上年增长627家，医院接待诊疗20.40亿人次，比上年增长1.18亿人次，综合医院接待诊疗人次占全部医院接待诊疗人次的74.1%，是位居第二的中医医院诊疗人次的4.6倍。

2006~2010年我国医疗卫生机构分布状况

年份	2006	2007	2008	2009	2010
医院总数(家)	19246	19852	19712	20291	20918
综合医院(%)	68.2	67.4	66.6	65.9	65.4
中医医院(%)	13.8	13.7	13.6	13.4	13.3
专科医院(%)	15.7	16.5	17.4	18.3	18.9
其他类(%)	2.3	2.4	2.4	2.4	2.4

2010年我国各类医疗卫生机构按主办单位分类的分布情况



96. 2007~2010年间, 中医医院占医院总数比重同比下降最快的一年是 ()。
- A. 2007年 B. 2008年 C. 2009年 D. 2010年
97. 与2009年相比, 2010年我国约增加了多少家其他类医院? ()
- A. 15 B. 54 C. 128 D. 627
98. 2010年, 我国政府的专科医院有多少家? ()
- A. 1100 B. 1400 C. 1700 D. 2000
99. 2010年, 平均每家综合医院的接待诊疗者人次数约是中医医院接诊人次的多少倍?
() A. 0.94 B. 1.05 C. 1.16
D. 1.27
100. 能够从上述资料中推出的是 ()。
- A. 2006~2010年间, 医院总数持续增加
- B. 2009年全国医院共接待诊疗者21.58亿人次
- C. 2010年的政府办医院中, 一半以上是中医医院
- D. 与2006年相比, 2010年专科医院增速高于综合医院