

江山模拟卷（六）

一、言语理解与表达

1. 城市文明指人类创造的城市这种形式本身，以及以城市作为物质载体而创造的一切物质和精神成果。“城市文明”_____着有城市出现，“文明”虽然有着更为_____和抽象的含义，但是基本是指与城市和文字相联系的特定文化阶段，大多数情况下，城市与文字是同时存在的。

依次填入划横线部分最恰当的一项是（ ）。

- A. 意味 宽泛
B. 代表 特殊
C. 标志 深刻
D. 隐含 广阔

2. 中国绘画是以庄子哲学为精神宗旨的，其最高境界是在人与对象的双重自然状态下实现物我浑融。《庄子·田子方》载，宋元君招试画师，应试者皆_____，唯有一后至者，“解衣盘礴赢”，任性自然地投身于画作。宋元君称此人为“真画者”。所谓“真画者”，指的是突破规范束缚而进入自由率真的创作状态的画家。这是庄子为后世中国画家塑造的模范。

填入划横线部分最恰当的一项是（ ）。

- A. 循规拘礼
B. 循规蹈矩
C. 墨守成规
D. 按部就班

3. 很多人对励志书籍的阅读体验是，读的时候_____，但激动了几天之后却发现生活还在继续，自己的人生道路并没有多大_____。

- A. 心潮澎湃 改变
B. 思潮起伏 改变
C. 热血沸腾 转变
D. 慷慨激昂 转变

4. 从认识论来讲，一个理论的产生与发展，需要从人类社会方方面面的火热实践中去_____、去升华；一个理论对实践的指导，也需要循环往复地到实际中去检验、去_____。

依次填入划横线部分最恰当的一项是（ ）。

- A. 锤炼 矫正
B. 提炼 补正
C. 锻炼 修正
D. 凝练 校正

5. 当公众把税和预算的治理权交给公共权力的代理者——政府的时候，并没有放弃自己对这个国家 财政资源的所有权和统治权。政治只能在人民授予的范围之内行使权力，否则就是_____。市场经济中政府所拥有的权力，只是政府履行社会责任和提供公共服务的_____，政府是一个服务于全体纳税人的载体。

依次填入下面横线处的词语最恰当的是（ ）。

- A. 渎职 结果
B. 垄断 基础
C. 僭越 条件
D. 侵权 核心

6. 观察过去五年广东的发展路径，可以_____地看到当地政府、企业、民众从歧路彷徨到艰难转型的过程。要触动既得利益，要牺牲眼前利益，不仅需要勇气，更需要智慧。要_____已有的“获利”路径，要_____用惯了的政策“拐杖”，不仅需要“自我革命”，还需要“群体参与”。依次填入划横线部分最恰当的一项是（ ）。

- A. 完整 抛弃 脱离
- B. 欣慰 放弃 放开
- C. 客观 背弃 松开
- D. 清楚 舍弃 扔掉

7. “铁打的营盘流水的兵”，描述的是兵营与士兵的关系。这句俗语同样可以用于阐释大学与师生之间的关系。大学作为相对_____的机构，师生的驻留和流动促进了大学气质与个性的形成和保存。对师生来说，他们既是大学氛围的建设者，也是感受者；对大学来说，它既是已有气质和个性的保存者，又在不断接受教师和学生每日对大学气质与个性的_____。

依次填入划横线部分最恰当的一项是（ ）。

- A. 特殊 影响
- B. 独立 改变
- C. 固定 塑造
- D. 成熟 渗透

8. 研究历史要“有一分证据说一分话”，如同警察破案，必须掌握足够的证据，使各种证据之间形成_____的逻辑关系。因为是凭证据说话，因此，研究历史依靠的是搜集证据、分析证据和论证证据关系的能力，而不是看你能提出怎样_____的观点。

依次填入划横线部分最恰当的一项是（ ）。

- A. 真实 尖锐
- B. 合理 新鲜
- C. 准确 独特
- D. 严密 超前

9. 从时代的发展方向来看，在相当一段时间以内，传统文化与现代观念不可能_____成为人们行为的绝对指导思想。现在的情况是两者共存并时常交锋，待相互_____一段时间后，必然是将两者中适合中国国情的内容，熔铸成新的既能推进社会前进、又能让大多数中国人乐于接受并自觉实践的伦理观、道德观与社会观。

填入划横线部分最恰当的一项是（ ）。

- A. 单独 磨合
- B. 同时 接触
- C. 先后 融合
- D. 独立 交汇

10. 有位作家说，要想使自己生活的扁舟轻驶，务必要让它的_____仅限于必不可少之物，不然轻则_____无以进，重则可能_____自己的生活之舟。道理很明白，什么都舍不得撒手，往往_____什么都不得不_____。

- A. 装载 徜徉 压塌 致使 割爱
- B. 承载 徜徉 压垮 导致 割爱
- C. 装载 徘徊 压垮 致使 舍弃
- D. 承载 徘徊 压沉 导致 舍弃

11. 下列句子有语病的一项是（ ）。

- A. 近些年来，中国经济快速增长，走出国门看世界已成为一种精神诉求B.

奇克拉纳是西班牙南部的一座小镇，位于西班牙著名葡萄酒产地赫雷斯

C. 近日，一位营养与食品安全专家指出，食品添加剂在国内被“妖魔化”了，真正由食品添加剂引发的食品安全事件从来没有发生过

D. 即使是《科学》这样国际公认的权威杂志，挑选论文的首要标准也是新颖，论文真正的学术价值仍有待业内检验

12. 填入下面一段文字横线处的语句，衔接最恰当的一项是（ ）。

习近平总书记在讲话中提到了“中国梦”的问题，_____因此，“中国梦”成为中国人的热门话题。

①因为每个人都渴望实现自己的梦想，个人梦想的实现又是建立在国家繁荣基础上的。

②其实，换一个角度，中国梦与我们每个人息息相关。

③它使人联想到民族奋进的滚滚大潮，气势磅礴的宏伟蓝图。

④所以，我们每一天向着自己的梦想出发，也是在缔造着中华民族的复兴之梦。

⑤“中国梦”即中华民族的复兴之梦，是十三亿中华儿女共同拥有的伟大梦想。

A. ⑤④②③① B. ③⑤①④② C. ②①④⑤③ D. ⑤③②①④

13. ①笑是一种复杂的神经反射作用，当外界的一种笑料变成信号，通过感官传入大脑皮层，大脑皮层接到信号，就会立刻指挥肌肉动作起来

②小则嫣然一笑，笑容可掬，这不过是一种轻微的肌肉动作

③笑，是心情愉快的表现，对于健康是有益的

④捧腹大笑，手舞足蹈，甚至全身肌肉、骨骼都动员起来了

⑤一般的微笑，就是这样

⑥大则是爽朗的笑，放声的笑，不仅脸部肌肉在动作，就是发声器官也动作起来

将以上6个句子重新排列，语序正确的是（ ）。

A. ①⑤②⑥④③ B. ③①②⑤⑥④ C. ①③②⑤④⑥ D. ③①⑤②④⑥

14. ①再比如财产公开不需要保护隐私，但香港把保护隐私作为财产申报公示制度的基本原则，保护申报人隐私也是一项国际惯例

②但在如何公开，何时公开，怎样公开等问题上还远没达到共识的程度

③有人分析称，各界在认识上存在不少误区，比如认为所有公务员都要公开，但香港就并非如此

④从现实情况看，就官员财产要不要公开的问题，早有基本共识

⑤这就需要我们静下心来研究问题，而不是流于情绪的宣泄

⑥这样的冷静分析不是没有道理

将以上6个句子重新排列，语序正确的是（ ）。

A. ④③②①⑤⑥ B. ③①④②⑤⑥ C. ④②③①⑥⑤ D. ③②④①⑥⑤

15. 当你在家里拍了张炫富的钻戒照片，然后上传到自己的微博或者朋友圈，那么事情可能就不只是你想炫耀一下那么简单了。你分享的照片不是一张单纯的照片，它还隐藏着诸多信息，如拍照时间、相机或手机型号、拍照地点的经纬度。所以当这张照片摆上互联网时，对熟悉科技的窃贼来说，你就是一个明确且不需要踩点的目标。如果你还发布了“今天去看场电影或者明天去哪里旅游”的分享，那就是在进一步指引窃贼可以什么时候来偷了。

无法从这段文字推出的是（ ）。

- A. 犯罪分子可能会利用大数据分析去作案
- B. 个人信息泄露主要发生在网络社交平台
- C. 在网络社交平台炫富很可能会泄露隐私
- D. 面向公众的信息安全教育需要引起重视

16. 近期网上流传一种观点，认为暴利的眼镜行业造就了99%的近视眼。一些网友称商家只会一味推销眼镜，其实近视后视力仍可恢复，但眼镜戴了就摘不下来了，因此能不戴眼镜尽量不要戴。这引发了不少人对眼镜店唯利是图、牟取暴利的斥责，进而引起关于“越戴眼镜越近视”的讨论。然而临床研究 表明，当青少年时期近视现象被诱发出来后，不管戴不戴眼镜，近视程度都会不断加深。这是因为正在 成长发育的青少年，他们的眼球也在发育，因而近视的度数并不稳定。但只要准确检测出近视度数，眼 镜不会成为加深度数的罪魁祸首。

这段文字意在说明（ ）。

- A. 佩戴近视眼镜之后仍可以恢复视力
- B. 佩戴眼镜与近视加深完全没有关系
- C. 近视加深与佩戴眼镜没有必然联系
- D. 眼镜商家并非仅因暴利而推销眼镜

17. 字库塔，也称字库、惜字塔、焚字塔、敬字亭等等，顾名思义，是古时焚烧字纸的塔形建筑。古人认为文字神圣而崇高，写有文字的纸张不应随意丢弃，哪怕废纸也需洗净焚化。焚烧字纸时非常郑重，不但有专人，还有专门的礼仪。有些地方的村民还组织“惜字会”，除了自愿外，人们义务上街收 集字纸。所有用过的经史子集，磨损残破之后，要先将其供奉在字塔库内十年八载，然后择良辰吉日行 礼祭奠之后，再点火焚化。从明代开始，字库塔在中国南方出现，至清代，敬惜字纸的信仰发展巅峰， 现在 遗存的字库塔也多为清代建造。

根据这段文字，可以看出作者的主要意图是（ ）。

- A. 呼吁今人勿失对字体的敬畏
- B. 肯定古人对字纸的神圣信仰
- C. 阐述古人惜字敬字具体仪式
- D. 说明字库塔建造的历史变迁

18. “报刊的有机运动”是马克思提出的关于报刊报道新闻的过程理论，它被通俗地解释为新闻真实是一个动态的过程。很多时候，在事件发生初期，由于报道的不深入，没有充分的消息源，新闻传达 给受众的信息往往是片面的，受众的判断也建立在这种片面的事实上。这正是新闻传播的一种特性，无 论是受过专业训练的记者，还是现在活跃在各种社交平台的“公民记者”，都没有能力以“上帝视 角”观察事件。而且，新闻报道不是给出最终结论的判决，而是对一个阶段所发生的新闻事实的描述。 这段文字旨在强调（ ）。

- A. 新闻真实是客观实际不断演变的过程
- B. 新闻应充分挖掘消息源进行深入报道
- C. 新闻报道是与事实真相逐渐接近的过程
- D. 专业记者和公民记者都难以达到新闻真实

19. 社会思潮是一面镜子，对社会思潮进行观察认识，可以帮助我们从中从社会的精神层面更加深入地 了解当代中国社会的历史发展与变迁。中国在经济现代化的同时，也在经历一个文化现代化的过程。譬 如，自由主义、民族主义和“新左派”等思潮无不突出而集中地反映了当代中国社会发展的矛盾，反映 了不同阶层、不同群体在一个急剧变动的社会中的感受、经验以及他们的愿望。

这段文字意在说明（ ）。

- A. 社会应当包容多元思想
- B. 不同阶层的文化观念不同
- C. 社会的现代化离不开传统文化
- D. 研究社会思潮有助于理解社会

20. 如今一个不争的事实是，家庭医生的数量并不充足，社区人口与家庭医生的配置比例存在失衡。即便家庭医生能够为居民提供医疗服务，但囿于客观原因的羁绊和影响，也难以满足居民的心理预期。更为重要的是，从社区居民角度来说，其首要目的是获得高质量的医疗服务，那么家庭医生的质量和水平如何，则显得尤为重要。假如，家庭医生不是“全科医生”，对居民各种各样的疾病缺乏全面高水平的诊疗，必然不能调动居民签约家庭医生的积极性。

根据文意，影响居民签约家庭医生最重要的因素是（ ）。

- A. 家庭医生的数量是否与居民需求相匹配
- B. 家庭医生是否能够满足居民的心理预期
- C. 家庭医生是否能够提供高质量的医疗服务
- D. 家庭医生是否能够诊治居民所患所有疾病

21. 当《枪支管理法》通过的时候，受到该法禁止的攻击性武器之中，有一种是仿苏式半自动步枪AK47。仅此一种型号，美国民间当时就已经有100万支。最近20年美国校园不断发生恶性枪击事件，见诸世界各大媒体，并引发了一场有关《枪支管理法》的大讨论。看了大量的类似报道，国人一定会想为什么美国允许公民拥有枪支。

接下来最有可能介绍的是（ ）。

- A. 美国各界对《枪支管理法》的观点
- B. 近年来美国发生的各类枪击案件的特点
- C. 当前美国政府对于民间枪支的管理制度
- D. 美国各个时期的法律关于公民拥有枪支的规定

22. 公共舆论是各种社会意见的集合，在不同意见表象的背后都有着内在的理性认知逻辑。再简单的意见都有其“道理”，并非只是人们情绪化的反映，情绪往往是伴随一定的认知逻辑出现的。就政府形象舆论而言，影响人们对政府评价的意见，除了个体的利益诉求和直接体验外，很大程度上是基于人们对社会的基本认知态度和价值选择，这就构成了人们对政府形象认知的基础逻辑。当人们从自身的认知逻辑出发，能够对政府的行政作为进行合理的逻辑构架时，就可以得出积极的、肯定性的意见评价；而当人们无法从认知逻辑上对政府决策对其管理行为加以合理解释时，自然就会形成消极的、否定性的意见评价。

这段文字主要评论（ ）。

- A. 应从理性逻辑层面解读公共舆论
- B. 公共舆论的形成有其内在逻辑基础
- C. 应引导大众理性分析政府行政决策认知的差异
- D. 个体认知逻辑决定了对政府形象认知的差异

23. “中央机关新录公务员超过八成来自普通家庭”，正是公务员考试“阳光”之体现。当前，还须让公务员考试更加阳光，需要有关部门进一步努力和探索，为招录优秀人才进公务员队伍提供平等机会。我国从1993年10月1日开始实施《国家公务员暂行条例》，2006年1月1日开始实施《公务员法》，“凡进必考”逐渐成为公务员人才招录的主要途径，国家公务员考试吸引了大批高校毕业生及社会人士踊跃报考。可以说，是这些制度的保障与支撑，让公务员考试赢得了公众的信任。

依据文意筛选信息，要让公务员考试更加阳光的关键在于（ ）。

- A. 提供平等机会
- B. “凡进必考”
- C. 依法招录
- D. 加强制度建设

24. 近来，随着一批高替代性的“情感机器人”面世，做出简单的情感互动已经不再是制造情感机器人的最大挑战。空巢老人、自闭儿童和病患等社会问题的呈现使越来越多的商家看好“互动型”“陪伴型”机器人的未来市场。但是，独居老人无人陪伴，孩子在家无人照料，用机器人陪伴的方式解决而不是增加对人的关怀和陪伴，就像科学家为保护医生而研制“防砍制服”，从短期来看似乎是个令人振

奋的好方法，但由此可能引发人们的情感错位、社会问题被加倍漠视以及机器人进一步类人而导致的伦理问题都需要提前考量。

这段文字的主要内容是（ ）。

- A. 很理解客户对情感机器人的需求
- B. 关注情感机器人的“陪伴”功能
- C. 赞赏不断突破难题的机器人技术
- D. 质疑靠情感机器人解决社会问题

25. 使市场在资源配置中起决定性作用，绝不是说市场是万能的，可以把一切交给市场；更不是认为政府对市场可以撒手不管。更好发挥政府作用，一方面是要解决政府越位，即对市场干预过多和干预不当问题；另一方面是要解决政府缺位，政府要把该做的事做好，把该管的事管好。政府“有形的手”有效配合市场“无形的手”发挥作用，才能保证市场经济健康发展。

对这段文字的主旨理解最准确的是（ ）。

- A. 政府要把该管的事管牢管好
- B. 要正确处理政府与市场的关系
- C. 市场在资源配置中具有天然优势
- D. 政府的监管是对市场失灵的矫正

二、数量关系

26. 4, 5, 7, 16, 80, ()

- A. 296
- B. 423
- C. 592
- D. 705

27. 1, -4, 4, 8, 40, ()

- A. 160
- B. 240
- C. 320
- D. 480

28. 0.1, 3.1, 10.1, 25.1, ()

- A. 46.1
- B. 50.1
- C. 54.1
- D. 56.1

29. 1.1, 3.4, 6.9, 10.16, ()

- A. 12.49
- B. 15.25
- C. 13.36
- D. 14.49

30. 2, 3, 10, 26, 72, ()

- A. 124
- B. 170
- C. 196
- D. 218

31. 10, 12, 13, 22, 25, 35, ()

- A. 60
- B. 50
- C. 47
- D. 37

32. 1, -5, 10, 10, 40, ()

- A. -35
- B. 50
- C. 135
- D. 280

33. 2 1 1 2 8 ()

- A. 16
- B. 32
- C. 64
- D. 128

34. 38 16 30 1 29.5 ()

- A. 14.75
- B. 13.75
- C. -13.75
- D. -14.75

35. 1716, 2523, 3330, 4642, 5853, ()

- A. 6862
- B. 6765
- C. 6662
- D. 6460

36. 同时打开游泳池的A、B两个进水管，加满水需1小时30分钟，且A管比B管多进水180立方米，若

单独打开A管，加满水需2小时40分钟，则B管每分钟进水多少立方米？（ ）

- A. 6 B. 7 C. 8 D. 9

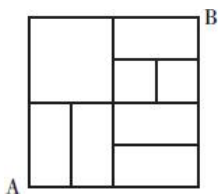
37. 某运输公司组织甲、乙、丙三种型号的货车共30辆刚好把190吨货物从A地一次运往B地。已知甲、乙、丙三种货车数量和乙货车数量之和是丙货车数量的两倍，甲、乙、丙货车的载重量分别为5吨、7吨、8吨。车辆返程时需装载100吨货物从B地运到A地，则至少需要装载多少辆货车才能把货物全部运回A地？（ ）

- A. 13 B. 14 C. 15 D. 16

38. 某公司研发出了一款新产品，当每件新产品的售价为3000元时，恰好能售出15万件；新产品的售价每增加200元时，就要少售出1万件。如果该公司仅售出12万件新产品，那么该公司新产品的销售总额为（ ）。

- A. 4. 72亿元 B. 4. 46亿元 C. 4. 64亿元 D. 4. 32亿元

39. 从A地到B地的道路如图所示，所有转弯均为直角，问如果要以最短距离从A地到达B地，有多少种不同的走法可以选择？（ ）



- A. 14 B. 15 C. 18 D. 21

40. 已知一内直径为50cm，内高100cm的圆柱形木桶，灌满了浓度为20%的盐水溶液，使其倾斜45度倒出部分溶液后放平，再加满清水。问此时木桶内盐水溶液的浓度是多少？（ ）

- A. 10% B. 12. 5% C. 13. 3% D. 15%

41. 一辆汽车从A地运货到B地，若该车的速度增加20千米/小时，可以提前45分钟到达B地；若该车的速度减少12千米/小时，到达B地的时间将延迟45分钟。则A地与B地之间的距离为（ ）千米。

- A. 164
B. 176
C. 180
D. 196
E. 200
F. 212
G. 244
H. 256

42. 甲、乙两支工程队负责高校自来水管道的改造工作，如果由甲队或乙队单独施工，预计分别需要20天和30天完成。实际工作中一开始由甲队单独施工，10天后乙队加入。问工程从开始到结束共用时多少天？（ ）

- A. 15 B. 16 C. 18 D. 25

43. 某医院门诊大楼最多容纳1500人，进出大楼有4个门，其中2个大门大小一致，2个小门大小一致。大楼安全员对4个门的通行能力进行测试，同时打开1个大门和2个小门，2分钟内可通过600人；同

时打开1个大门和1个小门，3分钟内可通过720人。当紧急情况发生时，出门效率降低30%。根据安全标准，紧急情况下大楼所有人员需在5分钟内撤离，那么发生紧急情况时这4个门最多能够通过多少人？（ ）

- A. 1440 B. 1500 C. 1600 D. 1680

44. 甲、乙两人共同投资一件收藏品，约定好费用支出均分，利润也均分。某次甲给了乙500元用于支付专家鉴定费，结果专家只向乙收取了300元鉴定费，但乙忘记将余下的钱给甲。后收藏品以20000元的价格转手，问此时甲、乙应该各拿走多少钱？（ ）

- A. 甲10050元，乙9950元 B. 甲10200元，乙9800元
C. 甲10150元，乙9850元 D. 甲10350元，乙9650元

45. 某班级共有学生52人，从小琳、小宇、小菲、小筠、小铭五人中选出班长，全班每人限投票一张，不能弃权。结果是：小琳得票最多；小宇得票第二，比小琳少3票；小菲和小筠得票相同且并列第三；小铭只有5票，得票最少。那么，小琳当选班长的票数可能是（ ）票。

- A. 12 B. 13 C. 14 D. 15

46. 一次校友聚会共有50人参加，在参加聚会的同学中，每个男生认识的女生的人数各不相同，而且恰好构成一串连续的自然数。已知认识女生最少的一个男生认识15名女生，并有一名男生认识所有的女生，则参加这次聚会的男生一共有（ ）。

- A. 16名 B. 17名 C. 18名 D. 19名

47. 张先生在某个闰年中的生日是某个月的第四个也是最后一个星期五，他生日的前一个和后一个月正好也只有4个星期五。问当年的六一儿童节是星期几？（ ）

- A. 星期一 B. 星期三 C. 星期五 D. 星期日

48. 某慈善机构募捐，按捐款数额排名前五位的依次是甲、乙、丙、丁、戊，五人共捐款10万元，且数额都不相同。如果甲的捐款刚好是乙、丙之和，乙的捐款刚好是丁、戊之和，那么丙的捐款最多为（ ）元。（捐款金额均是1000元的整数倍）

- A. 17000 B. 18000 C. 19000 D. 20000

49. 有一项工程，甲公司花6天，乙公司再花9天可以完成；或者甲公司花8天，乙公司再花3天可以完成。如果这项工程由甲公司或乙公司单独完成，则甲公司所需天数比乙公司少（ ）天。

- A. 15 B. 18 C. 24 D. 27

50. 小船顺流而下航行36公里到达目的地。已知小船返回时多用了1小时30分钟，小船在静水中速度为10公里/时，问水流速度是多少？（ ）

- A. 8公里/时 B. 6公里/时 C. 4公里/时 D. 2公里/时

三、判断推理

51. 小麦：馒头

- A. 麋鹿：麝香 B. 叶绿体：细胞 C. 乌贼：墨汁 D. 棉花：布鞋

52. 饭店：厨师：菜肴

- A. 监狱：狱警：囚犯 B. 工厂：工人：产品 C. 舞台：演员：道具 D. 学校：教师：学生

53. 火药：烟花

- A. 汽油：汽车 B. 金属：指南针 C. 无线电：手机 D. 玻璃：放大镜

54. () 对于 蜜蜂 相当于 产品 对于 ()

- A. 蜂蜜 工人 B. 昆虫 企业 C. 鲜花 商店 D. 蝴蝶 原料

55. 种子：经得住埋没的考验

- A. 蔬菜：一种草本植物 B. 萝卜：叶子羽状分裂
C. 青苗：未来希望所在 D. 木薯：可用来制作淀粉

56. 水：冻：冰

- A. 牛：耕：田 B. 纸张：书写：书籍 C. 单身：结婚：已婚 D. 衣服：缝制：布

57. 摇头：反对

- A. 愤怒：心情 B. 手语：意思 C. 困乏：休息 D. 微笑：开心

58. 乐队：听众：音乐

- A. 酒店：游客：食宿 B. 电视剧：儿童：故事 C. 俱乐部：会员：车辆 D. 工会：权益：员工

59. 在下列的正方形矩阵中，每个小方格可填入一个汉字，要求每行每列以及粗线框成的4个小正方形中均含有天、地、日、月4个汉字。

			月
	地	日	
		①	
天			

根据上述条件，方格①中应填入的汉字是 ()。

- A. 地 B. 天 C. 月 D. 日

60. 几乎所有的数学家都是这样：他们能够识别正确的证明以及不正确证明的无效之处，尽管他们无法定义一个证明的准确意义。

由此，可以推知以下哪项一定为真？ ()

- A. 能识别正确证明和不正确证明的人可能无法定义证明的准确意义
B. 有的数学家不能识别不正确证明的无效之处
C. 数学家都不能定义一个证明的准确意义
D. 有的数学家不能识别正确的证明，但能识别不正确的证明

61. 五对夫妻结伴自驾游。从出发点到目的地，正好有三个服务区，将他们的行程分为四段路，他们在每个服务区都休息了一会儿，有的夫妻也刚好可以换人驾车走下一段路。车队行进过程中，每对夫妻均在自家车中，一人驾车，一人休息。小孙因头晚喝了不少酒，所以今天一直未敢碰方向盘，只是与驾车的妻子说着闲话。已知：

- 第一段路驾车的是：张、王、李、赵、周；
第二段路驾车的是：吴、王、张、赵、郑；
第三段路驾车的是：李、钱、张、刘、吴；
第四段路驾车的是：郑、张、王、钱、周。

依据以上信息，可以推出这五对夫妻分别是 ()。

- A. 李吴、周郑、赵钱、孙张、刘王
C. 孙张、李郑、吴周、刘王、赵钱

- B. 刘赵、钱王、孙李、郑张、周吴
D. 孙张、周郑、李吴、刘赵、王钱

62. 只有实行依法治国，才能从根本上杜绝腐败；如果不能从根本上杜绝腐败，我们终将失去人民的信任和支持。只有赢得人民的信任和支持，我们的事业才能拥有牢固的政治基础。

根据以上陈述，可以推出的是（ ）。

- A. 如果实行依法治国，我们就能赢得人民的信任和支持
B. 如果从根本上杜绝腐败，我们的事业就能拥有牢固的政治基础 C.
如果不实行依法治国，我们终将失去人民的信任和支持
D. 如果不能从根本上杜绝腐败，就不能实行依法治国

63. 最新研究发现，脑内一种名为SIRT1的基因，会在人的丘脑部位指导合成相应的蛋白质。SIRT1 基因会随年龄增长而弱化，它指导合成的蛋白质也逐渐减少。因此研究人员推测该基因会导致中年发福。

上述结论要想成立，必须基于以下哪项前提？（ ）

- A. 丘脑与控制体重有关，丘脑中相应的蛋白质合成得越多，越能有效遏制体重的上升
B. 年龄越大的人，SIRT1基因突变的概率越高，突变会使该基因逐渐失去指导蛋白质合成的功能 C.
已有动物实验显示，人为增强SIRT1基因的功能可以减少实验对象的食欲，同时增加热量消耗
D. SIRT1基因存在于许多组织器官中，只有存在于丘脑中的基因才能影响机体蛋白质的合成

64. 一项研究指出，倒班十年或更长时间的人可能会出现记忆力和智力衰退，并警告高风险工种存在安全问题。

由此，可以推出（ ）。

- A. 偶尔倒班对大脑的功能不会产生影响
B. 对经常全班的人应当进行医学监控
C. 长期倒班是引起认知衰退的罪魁祸首
D. 长期倒班和慢性认知损伤之间存在关联

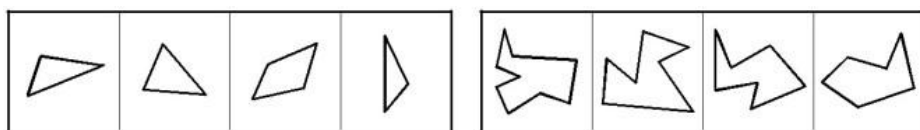
65. 美国大律师赫梅尔，在一件赔偿案中代表某保险公司出庭辩护。原告声称他的肩膀被摔下来的升降机轴打伤，至今右臂仍抬不起来。“请给陪审员们看看，你的右臂现在能举多高？”赫梅尔说道。原告慢慢地将手臂举到齐耳的高度，并表现出非常吃力的样子，以示不能再举得更高了。“那么，你在受伤前能举多高呢？”赫梅尔话音刚落，原告不由自主地一下将手臂举过了头顶，引起全庭哄堂大笑。原告所犯的逻辑错误是（ ）。

- A. 因果倒置
B. 机械类比
C. 模棱两可
D. 自相矛盾

66.

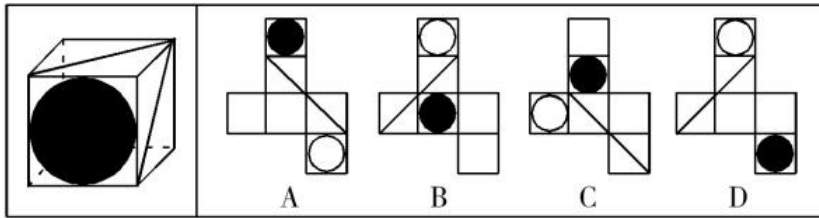
下面四个图形中，只有一个是上面四个图形拼合（只能通过上、下、左、右平移）而成的，请把它

找出来。



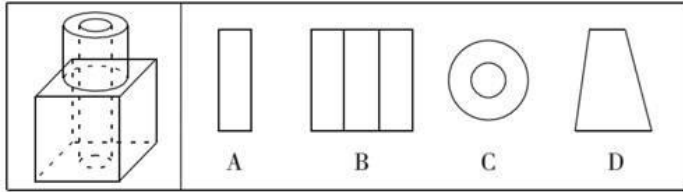
- A. A
B. B
C. C
D. D

67.



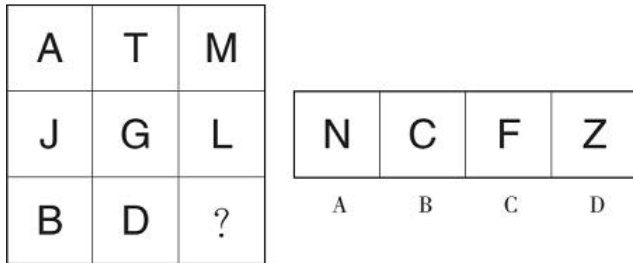
- A. A B. B C. C D. D

68. 如图所示，立方体上叠加圆柱体再打通一个圆柱孔，然后从任意面剖开，下面哪一项不可能是该立体的截面？（ ）



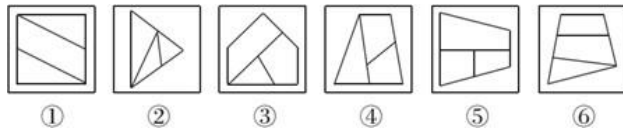
- A. A B. B C. C D. D

69. 从所给的四个选项中，选择最合适的一个填入问号处，使之呈现一定的规律性。



- A. A B. B C. C D. D

70. 把下面的六个图形分为两类，使每一类图形都有各自的共同特征或规律，分类正确的一项是（ ）。



- A. ①②⑥，③④⑤ B. ①②③，④⑤⑥ C. ①③⑥，②④⑤ D. ①③④，②⑤⑥

四、常识判断

71. 首因效应也叫第一印象效应，是指个体在社会认知过程中，通过“第一印象”最先输入的信息对客体以后的认知产生的影响作用。下列选项符合首因效应的是（ ）。

- A. 物以类聚 B. 削足适履 C. 恶人先告状 D. 一俊遮百丑

72. “无言独上西楼，月如钩，寂寞梧桐深院锁清秋。剪不断，理还乱，是离愁，别是一番滋味在心头”。这种文学的特点是（ ）。

- A. 辞藻华丽，手法夸张 B. 长短不齐，便于抒发感情
C. 可雅可俗，抒情叙事兼长 D. 题材多样，表现手法丰富

73. 甲市新华区人民政府决定将其管理的国有电缆厂出售，该厂的承包人张某以侵犯其经营自主权为由提出行政复议。张某可以提请行政复议的机关是（ ）。

- A. 甲市人民政府 B. 甲市新华区国资委 C. 甲市新华区人民政府 D. 甲市国资委

74. 关于灭火器的原理和使用方法，下列说法不正确的是（ ）。

- A. 泡沫灭火器使用时会产生大量的二氧化碳，将燃烧物与空气隔绝 B.
使用干粉灭火器时需要将灭火器倒立，使两种物质混合产生干粉 C.
在使用二氧化碳灭火器时，要将手放在钢瓶的木柄上以防冻伤D.
电路失火在没切断电源之前不能使用泡沫灭火器灭火

75. 经考古工作者发掘考证，礼制很早就已经出现了。《说文·示部》云：“礼，履也，……从示，从豊”，又云：“示，天垂象，见吉凶，所以告人也。”《甲骨文字集释》云：“事神之器则为豊。”由此可以推断，礼的原义是（ ）。

- A. 分等别贵贱 B. 谦卑爱臣民 C. 处世慎言行 D. 敬神以祈福

76. 农业是国民经济中的第一产业，对于中国这样的人口大国，农业具有战略性地位。以下关于我国农业的表述，错误的是（ ）。

- A. 我国最早的耕作技术是原始社会的人力耕作
B. 《三字经》中，将稻、粱、菽、麦、黍、稷并成为六谷
C. 今天我国广为种植的一些作物并非原产我国，而是外来引进，例如玉米
D. 休闲农业是利用农业景观资源和农业生产条件，发展阳光、休闲、旅游的一种新型农业生产经营形态

77. 关于亚洲政坛女性首脑，下列说法错误的是（ ）。

- A. 科拉松·阿基诺夫人是亚洲首位女总统 B. 阿罗约曾任菲律宾总统之职
C. 朴槿惠的父亲曾任韩国总统 D. 英拉·西那瓦是马来西亚总理

78. 下列关于石灰的说法错误的是（ ）。

- A. 生石灰通常可以作为食品干燥剂 B. 澄清石灰水放置在空气中易变浑浊
C. 汉白玉与石灰石的主要成分相同 D. “烈火焚烧若等闲”指熟石灰的高温煅烧

79. 下列关于金属的说法错误的是（ ）。

- A. 金属的光泽由光的反射率决定 B. 金属的颜色由可见光的选择反射决定
C. 抗菌金属主要利用活性氧或金属离子灭菌D. 根据金属的耐腐蚀性，金属分重金属和轻金属

80. 下列哪组事件全都发生在“二战”期间？（ ）

- A. 中途岛战役、华沙战役 B. 索姆河战役、北非登陆
C. 西西里登陆、萨拉热窝事件 D. 斯大林格勒会战、珍珠港事件

81. 海洋观测是了解认识海洋自然和环境特征的基本手段，我国在东海建立了第一个海底综合观测试验与示范系统，目前，海洋观测主要是依靠（ ）方式进行。

- A. 科学考察船 B. 海底光缆 C. 卫星遥感技术 D. 海底观测网络

82. 对下列对联依次所指的文学家，判断正确的一项是（ ）。

- ①哀怨托离骚，生而独开诗赋立；孤忠报楚国，余风波及汉湘人。
②兵甲富于胸中，一代功名高宋室；忧乐关乎天下，千秋俎豆重苏台。
③质而绮，真而醇，自可传之千古；樽中酒，篱下诗，岂甘了此一生。
④笔诤时政，心在苍生，万户争传新乐府；堤建西湖，神归东洛，千秋永祀老诗翁。

- A. 孔子 李白 李煜 陆游

- B. 屈原 陶潜 李煜 白居易
 C. 屈原 范仲淹 陶潜 白居易
 D. 孔子 李白 白居易 范仲淹

83. 交响乐团通常由（ ）三大声部组成。

- A. 管乐、弦乐、钢琴
 B. 弦乐、管乐、打击乐
 C. 管乐、钢琴、打击乐
 D. 弦乐、钢琴、打击乐

84. 下列中国名花与其美称对应正确的是（ ）。

- A. 牡丹——花魁 B. 杜鹃——花中君子 C. 月季——花中皇后 D. 荷花——凌波仙子

85. 行政法在法律体系中的地位和作用，是由（ ）。

- A. 行政法律规范数量众多决定的
 B. 行政管理在国家生活中的地位决定的
 C. 行政法是本部门法决定的
 D. 行政法关系到公民的权利和义务决定的

五、资料分析

2011年底，全国共有乡镇综合文化站34139个，平均每站面积由2006年的277.01平方米，增长到2011年的516.38平方米，平均每站文化活动用房面积由2006年的175.49平方米增长到2011年的391.00平方米。

2006~2011年，每年乡镇综合文化站从业人员和专职人员增长比例均保持在5%左右。2011年底，全国乡镇综合文化站从业人员78148人，专职人员52718人。

2011年，全国各级财政对乡镇综合文化站的财政拨款达到42.76亿元，比2006年增加31.84亿元，增幅高达291.6%，年均增长28.6%。各级财政对乡镇综合文化站的投入占全国文化事业总投入的10.9%，占群众文化投入的41.1%，分别比2006年提高4.0个百分点和7.3个百分点。

2011年，全国乡镇综合文化站共组织文艺活动32.64万次，比2006年增长20.0%；举办训练班15万次，比2006年增长26.8%；培训人次1232万人次，比2006年增长230%。

2011年底，全国乡镇综合文化站共指导群众业余文艺团队154799支，辖区内社区（村）文化活动室360649个。

86. 2011年底，全国乡镇综合文化站总面积约为多少万平方米？（ ）

- A. 1763 B. 1335 C. 946 D. 599

87. 2011年全国群众文化投入约为多少亿元？（ ）

- A. 77 B. 96 C. 104 D. 123

88. 2011年全国文化事业总投入约是2006年的多少倍？（ ）

- A. 1.6倍 B. 2.5倍 C. 3.9倍 D. 5.3倍

89. 2011年，平均每个乡镇综合文化站从业人员约组织文艺活动多少次？（ ）

- A. 2 B. 4 C. 6 D. 8

90. 能够从资料中推出的是（ ）。

- A. 1年文化活动用房面积占乡镇综合文化站总面积的63%
 B. 1年乡镇综合文化站举办的训练班平均每次有超过90人接受培训
 C. 2011年平均每个乡镇综合文化站指导群众业余文艺团队约4.5支

D. 2011年各级财政对乡镇综合文化站的财政拨款是2006年的2.9倍

S省统计局日前发布《2014年S省果业发展统计公报》，初步核算，2014年全省果业增加值达320亿元，比上年增加3.5%，占全省种植业增加值30.2%，比上年提高0.1%。

2014年主要果品投入及收益情况

名称	水果产量		生产投入		经济纯收益	
	产量(万吨)	增长率(%)	生产投入(元/亩)	增长率(%)	纯收益(元/亩)	增长率(%)
苹果	942.82	-2.3	1691.29	12.5	3452.97	2.6
梨	97.26	8.4	1792.43	9.8	1436.62	18.3
柑橘	47.69	29.6	589.83	16.6	3737.25	13.5
猕猴桃	103.38	25.6	1517.56	-6.9	6644.84	8.3
红枣	67.60	-0.4	189.12	8.9	1514.40	3.5
葡萄	60.66	30.5	-	-	-	-
柿子	39.64	19.1	-	-	-	-
杏	20.36	-0.2	-	-	-	-
石榴	9.82	14.0	-	-	-	-
樱桃	11.23	17.6	-	-	-	-

91. 资料显示，2014年S省种植业增加值为（ ）。

- A. 1039.6亿元 B. 1059.6亿元 C. 1027.6亿元 D. 1047.6亿元

92. 2014年，苹果、梨、柑橘、猕猴桃和红枣等主要果品总投入占总收益的比例为（ ）。

- A. 0.34:1 B. 0.38:1 C. 0.43:1 D. 0.54:1

93. 2014年，S省主要水果产量最高增速与最低增速之差为（ ）。

- A. 27.3个百分点 B. 28.2个百分点 C. 31.9个百分点 D. 32.8个百分点

94. 资料显示，2013年S省果业增加值占种植业增加值的比重为（ ）。

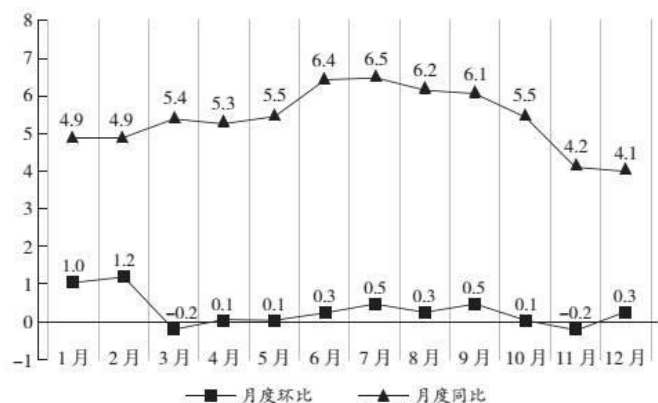
- A. 26.7% B. 29.2% C. 30.1% D. 31.2%

95. 下列说法正确的是（ ）。

- A. 资料表明，2013年S省石榴产量为11.9万吨
 B. 2014年红枣收益与投入比为8:1
 C. 2013年S省果业增加值为310亿元 D. 2014年主要果品中，收益与投入比值最大的是柑橘

我国2011年居民消费价格指数资料如下：

2011年居民消费价格月度涨跌幅度（单位：%）



2011年我国居民消费价格比上年涨跌幅度(单位:%)

指 标	全 国	城 市	农 村
居民消费价格指数	5.4	5.3	5.8
食 品	11.8	11.6	12.4
烟酒及用品	2.8	3.0	2.4
衣 着	2.1	2.2	1.9
家庭设备用品及维修服务	2.4	2.7	1.5
医疗保健和个人用品	3.4	3.4	3.3
交通和通信	0.5	0.2	1.3
娱乐教育文化用品及服务	0.4	0.3	0.8
居 住	5.3	2.1	5.7

96. 在全国居民消费价格指数中, 增幅最大的为()。
- A. 居住 B. 衣着 C. 食品 D. 交通和通信
97. 在城市与农村的居民消费价格指数中, 涨跌变化方向一致的项目有()。
- A. 8个 B. 4个 C. 1个 D. 0个
98. 在我国居民消费价格月指数中, 比上月下降的月份有()。
- A. 0个 B. 2个 C. 3个 D. 4个
99. 在城市与农村的居民消费价格指数中, 差异最大的指标项目是()。
- A. 交通和通信 B. 烟酒及用品 C. 食品 D. 家庭设备用品及维修服务
100. 从上图、表资料中可以得出()。
- A. 我国城市居民消费价格涨幅大于农村
- B. 城市医疗保健和个人用品涨幅与全国保持一致
- C. 在食品消费中, 农村居民消费价格的增长低于城市居民消费价格的增长 D.
- 在居民消费价格的涨跌变化中, 涨幅最大的是居住类消费的价格