

江山职测模拟（二）

一、言语理解与表达

1. 在现实生活中，“读什么信什么”的现象并不少见，这可能产生两种不同的后果：或者是被一种_____的观念俘虏，变成错误学说的信徒；或者由于自己没有主见，觉得书中讲的都有道理，观点一日三变，特别是当书中的观点彼此矛盾时，更是_____。

依次填入划横线部分最恰当的一项是（ ）。

- A. 先入为主 无所适从
B. 口耳相传 手足无措
C. 模棱两可 莫衷一是
D. 深入人心 朝令夕改

2. 天池经历了漫长的无名时期，后来伴随着天池传说的兴起，天池也开始_____。谈到天池传说，还有一个缘由：人们面对神奇的山水之境时，总爱把神灵的光环罩在山水的头上，使山水之景与神灵之气_____，即所谓山不在高，有仙则名。

依次填入划横线部分最恰当的一项是（ ）。

- A. 声名鹊起 相得益彰
B. 门庭若市 相映成趣
C. 脱颖而出 相濡以沫
D. 广为人知 相视莫逆

3. 自然界的各种物种之间，都有着_____的联系，共同编织着错综复杂的生物链条。每一根链条的断裂，都会或多或少地影响到整个生态系统的平衡，进而可能招致一些未知的灾难。生活在这个_____的世界，每一个物种都有着它独有的_____，不要等到成了稀有物种才想着去保护。

依次填入划横线部分最恰当的一项是（ ）。

- A. 千头万绪 休戚与共 意义
B. 千丝万缕 互利共同 价值
C. 唇齿相依 互惠共赢 属性
D. 密不可分 弱肉强食 贡献

4. 在历史使命的_____下，唯有深化改革开放，才能实现广东“三个定位，两个率先”的总目标。

- A. 指引
B. 召唤
C. 指导
D. 召集

5. 我们要时刻牢记，农民是农村改革创新的_____，农村改革创新靠的是农民，为的也是农民。

- A. 主人
B. 主体
C. 主持
D. 主创

6. 现在全世界的人口一共70亿，扣掉中国的13亿人，剩下都是外国人。而我国平均每人每年给每一位外国人做三件半衣服、三双鞋，其中有相当一部分是晋江的品牌。_____，中国第二产业在_____没有问题，问题在于大而不强，还是缺少核心技术。

依次填入划横线部分最恰当的一项是（ ）。

- A. 显然 规模上
- B. 当然 数量上
- C. 固然 宏观上
- D. 虽然 技术上

7. 那时在我们家里，主人和客人均彬彬有礼，但常因观点相异而激烈争论，_____，互不相让。不但洋溢着自由争论的热烈气氛，也体现出“_____”的传统精神。

依次填入划横线部分最恰当的一项是（ ）。

- A. 各持己见 君子和而不同
- B. 各执一词 君子喻于义
- C. 各抒己见 君子成人之美
- D. 各持己见 君子之交淡如水

8. 依次填入下列横线处的词语，最恰当的一组是（ ）。

在危机出现之前，不少美国大银行由于在住房抵押贷款方面提供不实信息，_____了投资者，因此投资者提出了上千亿美元的巨额现金赔偿要求，相关的法律诉讼和监管调查给这些经营刚刚有所好转的银行带来了新的_____。

- A. 误导 压力
- B. 诱导 阻力
- C. 误导 阻力
- D. 诱导 压力

9. 依次填入下列横线处的词语，最恰当的一组是（ ）。

_____《现代世界的诞生》《政治秩序的起源》等书并未冠以“现代化”的字眼，_____都是紧紧围绕现代化的某些侧面展开的，_____它们也都出于各自的理论视角重点探讨了中国现代化问题。

- A. 因为 所以 并且
- B. 尽管 但是 而且
- C. 既然 并非 虽然
- D. 如果 除非 那么

10. 填入下列横线处的词语，最恰当的一项是（ ）。

马航MH370上发生了什么，依然是一个难以揭开的谜团。在飞机黑匣子最终找到之前，具体细节的付之阙如、权威渠道的口径不一、官方消息的前后矛盾，让飞机的去向_____，也给围绕此事进行的各方解读提供了巨大的想象空间。

- A. 扑朔迷离
- B. 虚无缥缈
- C. 错综复杂
- D. 眼花缭乱

11. 下列句子没有歧义、表述准确的一项是（ ）。

- A. 如果你能抽出宝贵时间，亲自参加我们的婚礼，那是我们求之不得的
- B. 老人80岁的时候，还记得哥哥参加学生运动时对自己的评价：一个温情主义者 C. 我看见他很高兴，和他聊起了很快就要举行的国庆晚会的筹备情况
- D. 入秋以来，北京和河北的部分地区接连下了两场雨

12. “夫礼，天之经也，地之义也，民之行也。”从宏观上说，礼是用来济世安民的，“经国家，定社稷，序人民”。从微观上说，礼是用于典礼仪式的。中国古代作为仪式的礼非常多，有吉礼、凶礼、宾礼、军礼、嘉礼这五礼之分，_____。所以古人有言，经礼三百，曲礼三千，可以一言蔽之曰：毋不敬。可见，礼是通过一定的形式表达恭敬、尊敬之意。

填入划横线部分最恰当的一句是（ ）。

- A. 被古人看作是天经地义、人道所依的最高原则
- B. 但本质上都是通过祭祀神灵以求取幸福的宗教活动 C.

从形式到内容都反映着一定的社会规范和道德规范

D. 但所有的形式都要反映同一个理念，即恭敬

13. 一个极有想象力，经济价值极高的创意，很可能被用于道德上非常坏的目的，甚至被用来破坏人类文明乃至毁灭人类。一直以来的一个错误观念是，一个能赚钱的创意就是一个好的创意。现在必须改变观念：_____。

填入划横线部分最恰当的一句是（ ）。

- A. 创意的好坏是无法用金钱来衡量的 B. 人文价值应该渗透到产业和经济中
C. 想象力才是评价一个创意价值的重要标准 D. 一个好的创意应该是一个有益于人类文明的创意

14. 下列句子组成语意连贯的语段，排序最恰当的一项是（ ）。

- ①“常形”是指现实生活中客观物象的正常自然形态
②艺术美学所研究的，是正常的自然形态在艺术变形中的变化及美学意义
③“变形”是指客观物象反映在艺术中的形态的改变
④所谓“变形”是相对“常形”而言
⑤例如两头蛇、三脚鸡等，这种“变形”虽然怪异，但不是艺术美学研究的对象
⑥在现实生活中，由于种种原因，物象的形态有时会出现变异

- A. ④①③⑥②⑤ B. ⑥⑤②④①③ C. ④③①⑥⑤② D. ④③①②⑥⑤

15. 从某种意义上来说，试点导游自由执业，借助互联网技术搭建导游统一预约平台，让导游和消费者在透明机制下进行双向选择，有利于双方信息对称，从而促使市场定价趋于更加科学合理。而导游不再受旅行社盈利目标制约，可以靠自己的真正本领吃饭。这样不仅能够有效遏制旅游市场相关乱象，也有助于让导游价值回归到其所提供的服务本身上来。如此，国内旅游生态的真正改善还会远吗？

这段文字意在强调（ ）。

- A. 导游自由执业有利于实现导游服务价值 B. 导游自由执业有利于市场定价趋于合理
C. 导游自由执业有利于改善国内旅游生态 D. 导游自由执业有利于遏制旅游市场乱象

16. 虽然现代医学已经相当发达，但对导致儿童性早熟的原因却还知之甚少。因为找不到原因，也就给了人们胡乱猜想的空间。但是，科学理论和实践都显示，植物激素不会是原因。而所谓奶粉中的雌激素，也不是原因——因为，所有检测过的奶粉中的雌激素含量，比母乳中的雌激素含量还要低。

而“奶粉导致婴儿性早熟”的新闻，后来已被曝出是某些奶粉企业为陷害竞争对手而编造的。以下

概括与文意不符的一项是（ ）。

- A. 很多关于儿童性早熟的说法并不符合事实 B. 现代医学尚未对儿童性早熟原因进行研究
C. 母乳中含有的雌激素比很多奶粉中的还要高 D. 植物激素不会导致儿童性早熟已被研究证明

17. 所谓“环境资源商品化”就是赋予自然以经济价值，并将环境纳入市场经济体系中，将环境转化成像其他商品那样也可以进行分析的产品。只要在经济决策中赋予环境适当的价值，环境就能得到更好的保护。这种观点认为，各种生态环境问题的出现，正是由于资源环境没有被视为“商品”，没有拿到市场上进行交易造成的。

这段文字意在说明（ ）。

- A. 自然和环境应被赋予经济的价值
B. 环境是当今市场经济中的重要元素

C. 环境资源商品化可以更好地对环境进行保护

D. 生态问题的出现与资源环境未被视为“商品”有关

18. 文学作品有时会由于描写内容与普通人人生的亲近性而获得较广泛的读者。中国现代一部分作家曾力求以“写大众”实现“为大众”。事实上，尽管大众可能欢迎以自己的生活为描写对象的作品，他们仍然不会满足于这种亲近感。他们并非都爱看、只爱看、特别爱看反映自己处境的故事。

依据文意推断，下面结论不恰当的一项是（ ）。

A. 只有描写内容与普通人人生亲近的作家才能获得最为广泛的读者

B. 一些小说家不去表现平凡的、平常的生活，也能吸引数以万计的读者 C.

在“为大众”“写大众”与“被大众读”之间，潜藏着深刻的矛盾D.

鲁迅提倡和向往“文艺的大众化”，但是也难以获得普及性效果

19. 对地方权力实施监督，显然有一个“及时到达”的问题，监督必须属地化。地方权力支配地方资源，影响民众切身利益，理应受到当地纳税人和媒体的监督制约。对于权力的滥用，当地民众和媒体有着天然的敏感，在感知上也有时间与空间的便利，相应的监督制约离开他们是不可想象的。

对上述文字理解不正确的是（ ）。

A. 地方权力的属地化监督即地方权力属地政府层层监督B. 对地方权力要实施属地化监督

C. 地方权力的监督主体包括了媒体和属地民众D. “对地方权力实施监督”不能“山高皇帝远”

20. 一个国际科学家小组携带数吨硫酸粉末启航前往南极，以研究能否以硫酸铁为“肥料”促进南极海域海藻等微生物的生长来减缓全球变暖的速度。铁元素可提高海洋生态系统生产力的理论在20世纪20年代就被提出，此后科学家们一直在对这一理论进行检验完善。科学家们近年来在位于赤道的太平洋海域进行实验时曾发现，硫酸铁不仅可大幅提高该海域硅藻等藻类的生长，而且一些微生物体内的叶绿素还因此增加了30多倍。

国际科学家小组所进行的研究，其可行性的依据是（ ）。

A. 20世纪20年代即已提出的铁元素可提高海洋生态系统生产力的理论 B.

科学家们一直致力于对海洋生产力提高理论的检验完善

C. 铁元素可提高海洋生态系统生产力，并已在某些海域试验成功 D.

硫酸铁使微生物体内的叶绿素增加30多倍

21. 很多农贸市场，对超薄塑料袋的使用几乎是不闻不问。执法部门对于超薄塑料袋往往采用突击查的方法，但商贩却玩起了“猫捉老鼠”的游戏。检查时，超薄塑料袋就被藏了起来，不见踪迹；检查一结束，却仍是老样子。处罚力度小也是“限塑令”难以彻底执行的原因之一。小商贩们一天的营业额三五百元，执法人员对其处罚时，金额多在数十元至百余元间，这样的处罚力度显然很难起到警示作用。同时，整个限塑工作事关工商、质监、城市执法、环保等多个行政部门，多部门管理容易造成推诿扯皮，最终导致无人管理。

这段文字没有告诉我们的是（ ）。

A. 塑料袋泛滥在于监管缺位

B. 执法部门的限塑检查应有常态机制

C. 三个和尚没水吃

D. 农贸市场是最大的塑料袋流出地

22. “爱美之心，人皆有之”。通过整容可以立刻获得的外在美，能满足人们对“美”的急切愿

望，为走进人群加深交往带来自信，这无可厚非，也是事实。但如果一味强调“好看”，而忽视了人品、学识、实力等方面的积累，只有外在美，没有内在美，就可能适得其反。对全社会来说，一旦相貌成为评价一个人的主要标准，对美丽的欣赏就变成了对“脸蛋”的纵容。那么，我们据此创造的未来，很可能不那么“美丽”。

对这段文字概括最恰当的一项是（ ）。

- A. 整容导致许多人一味强调外在美
- B. 整容能为人际交往带来良好自信
- C. 通过整容获得外在美是一种欺骗
- D. 美丽无罪但不应沉溺整容和外在

23. 我和父亲感情极深，但直至他老人家临终我都没能说一句“爸爸我爱你”，不是不想说而是说不出口。我二十几岁时看西方电影，见外国人搂着老父亲说“爸爸我爱你”，心中感慨万分，就决心在儿子身上试验。当儿子可以交流时候，我就和儿子深情地说：“儿子，爸爸爱你，你得说，我爱爸爸。”不懂事的儿子就此和我共同与传统的含蓄文化抗衡，天天上演国人觉得很肉麻的一幕。这是一场文化与制度博弈的试验，10年后，试验有了结果。儿子小学四年级的一天，我把他摁在床上深情地说：“儿子，爸爸爱你！”儿子毫不犹豫地对我说：“少来这一套！”

这段文字最想说明的是（ ）。

- A. 我国传统文化中有含蓄表达的积习
- B. 东方的含蓄与西方的直白是一种文化差异
- C. 制度与作为社会背景的文化抗衡往往徒劳
- D. 父子之间的感情交流须契合传统文化

24. 历史的经验告诉我们穷则思变，这里的穷就是人们生活饥寒交迫，艰难困苦，就是民生问题没有保障，没有改善。历史上的改朝换代从根本上说都是人民群众为保障和改善民生而奋争的结果。90多年来，无论是新民主主义的胜利，还是社会主义革命的胜利；不论是社会主义建设取得的成就，还是改革开放取得的成功，都是我们党员团结和依靠人民群众而取得的，都是因为人民群众相信只有跟党走，才能够使他们生活得更好，才支持我们党的，因此_____。

填入横线处最恰当的一项是（ ）。

- A. 维护人民群众根本利益，改善群众的生活条件是我们党开展一切工作的根本目的
- B. 密切联系群众，解决民生问题是我们加强社会建设各项工作的出发点和落脚点
- C. 解决群众的生产生活困难，走共同富裕的道路是我们党重视民生的充分体现
- D. 不断解放和发展社会生产力，保持党同人民群众的血肉联系是我们党前进的重要法宝

25. 企业培训，中国最热。场次频，人数多，规模宏，业者众，课程杂，消费巨。世界各地，管理培训如此热烈，落后国家做不到，发达国家用不着。最令人称奇的是，不仅《孙子兵法》《易经》都是管理学，就连佛家、道家都上了企业管理讲台。笔者没有资格否认中国古代典籍包含部分的管理思想，更不敢说佛道没有人文元素的管理哲学，但是管理学就是管理学，企业管理就是企业管理。任何人都可以从人的修养的角度学习一切对人的修养有价值的知识，但不要因为土豪的钱好挣就都拿管理学说事。这段文字主要批评的是（ ）。

- A. 企业管理培训挂羊头卖狗肉
- B. 所谓古代管理思想大多是牵强附会
- C. 企业管理培训模糊了管理学的边界
- D. 企业管理培训旧瓶装新酒

二、数量关系

26. 2, 6, 15, 28, 55, ()

- A. 72
- B. 78
- C. 86
- D. 160

27. 2, 3, 6, 15, ()

- A. 25
- B. 36
- C. 42
- D. 64

28.

1, 1, $\frac{3}{4}$, $\frac{4}{8}$, ()

A.

$\frac{5}{16}$

B.

$\frac{8}{16}$

C.

$\frac{6}{32}$

D.

$\frac{16}{32}$

29. 2, 3, 5, 9, (), 33

- A. 15
- B. 17
- C. 18
- D. 19

30. 4, 1, 0, 2, 10, 29, 66, ()

- A. 101
- B. 116
- C. 125
- D. 130

31. 3, 7, 12, 15, 9, -18, ()

- A. -27
- B. -45
- C. -81
- D. -102

32. 0.5, 3, 8, 18, 38, ()

- A. 75
- B. 78
- C. 82
- D. 85

33. 3.2, 8.6, 15.12, 24.20, 35.30, ()

- A. 42.42
- B. 48.42
- C. 42.56
- D. 48.56

34.

$\frac{1}{2}$	6
1	$\frac{1}{3}$

4	2
4	2

10	5
25	5

7	?
9	4

- A. 3
- B. 6
- C. 9
- D. 12

35.

4	2
1	1

7	4
1	2

11	5
2	4

?	8
3	2

- A. 10
- B. 11
- C. 12
- D. 13

36. 小张需要在5个长度分别为15秒、53秒、22秒、47秒和23秒的视频片段中选取若干个，合成为一个长度在80~90秒之间的宣传视频。如果每个片段均需完整使用且最多使用一次，并且片段间没有空闲

时段，问他按照要求可能做出多少个不同的视频？（ ）

- A. 6 B. 12 C. 18 D. 24

37. 小王在每周的周一和周三值夜班，某月他共值夜班10次，则下月他第一次值夜班可能是几号？

()

- A. 2 B. 3 C. 4 D. 5

38. 某商场销售某种商品，第一个月将此商品的进价加价20%作为销售价，共获利6000元，第二个月 商场搞促销活动，将商品的进价加价10%作为销售价，第二个月的销售量比第一个月增加了100件，并且 商场第二个月比第一个月多获利2000元。此商品第二个月的销售件数是（ ）。

- A. 270 B. 260 C. 170 D. 160

39. 某年2月份有5个星期日，4个星期六，则2月1日是（ ）。

- A. 星期四 B. 星期五 C. 星期六 D. 星期日

40. 在电脑里先输入一个数，它会按给定的指令进行如下运算：如果输入的数是偶数，就把它除以 2；如果输入的是奇数，就把它加上3；对产生的数继续进行同样的运算。这样进行了3次，得出结果是

27。原来输入的数有（ ）种情况。

- A. 五 B. 四 C. 三 D. 一

41. 李木在某次考试中，课程甲和课程乙得178分，课程丙和课程丁得171分，课程乙和课程丙得174分，课程丁比课程甲高1分。问李木四门课程中哪门课程得分最高？（ ）

- A. 课程甲 B. 课程乙 C. 课程丙 D. 课程丁

42. 一艘海军的训练船上共有60人，其中有驾驶员、船员、见习驾驶员、见习船员，还有一些陆战 队员。已知见习人员的总人数是驾驶员和船员总数的四分之一，船员（含见习船员）总人数是驾驶员（含见习驾驶员）总数的7倍，则船上有（ ）个陆战队员。

- A. 12 B. 15 C. 20 D. 25

43. 某旅行团共有48名游客，都报名参观了三个景点中的至少一个。其中，只参观了一个景点的人 数与至少参观了两个景点的人数相同，是参观了三个景点的人数的4倍。则需要为这些游客购买多少张 景点门票？（ ）

- A. 48 B. 72 C. 78 D. 84

44. 小伟从家到学校去上学，先上坡后下坡。到学校后，小伟发现没带物理课本，他立即回家拿书（假设在学校耽误时间忽略不计），往返共用时36分钟。假设小伟上坡速度为80米/分钟，下坡速度为 100米/分钟，小明家到学校有多远？（ ）

- A. 2400米 B. 1720米 C. 1600米 D. 1200米

45. 从装有4个红球、4个白球的袋中任取4个球，则所取的4个球中包括两种不同颜色的球的概率是（ ）。

- A. $\frac{33}{35}$
B. $\frac{34}{35}$
C. $\frac{69}{70}$
D. $\frac{7}{8}$

46. 一家人晚饭后去散步，爸爸给晓宇出了一道数学题：甲、乙两人年龄之和比丙大70岁，又已知甲比乙大1岁，比丙的2倍还多13岁。请你帮晓宇算出乙、丙的年龄之和是多少岁？（ ）

- A. 55 B. 56 C. 57 D. 58

47. 有89吨货物要从甲地运往乙地，大卡车的载重量是7吨，小卡车的载重量是4吨。大卡车与小卡车每次的耗油量分别是14升、9升，如果使所派车辆运完货物耗油量最小，则最小耗油量是（ ）。

- A. 141升 B. 162升 C. 181升 D. 193升

48. 甲、乙两人分别从A、B两地同时出发，相向而行，匀速前进。以原速度前进，4小时相遇；如果各自每小时比原计划少走1千米，5小时相遇。则甲、乙两地的距离是（ ）。

- A. 0千米 B. 20千米 C. 30千米 D. 10千米

49. 局长找甲、乙、丙三位处长谈话，计划与甲交谈10分钟，与乙交谈12分钟，与丙交谈8分钟。办公室助理通过合理调整三人交谈的顺序，使得三人交谈和等待的总时间最少。请问调整后的总时间为多少？（ ）

- A. 6分钟 B. 48分钟 C. 50分钟 D. 56分钟

50. 某大学音乐系学生在学校礼堂举行音乐会，第一场音乐会前三排位置的座位票价是每张10元，其他座位的票价是6元，全场的营业收入为2040元；第二场音乐会第四排位置的座位票价也被提升到每张10元，全场的营业收入为2120元。如果两场音乐会都满座，而且每一排的座位数量也都一样，那么该礼堂一共有（ ）座位。

- A. 300个 B. 320个 C. 480个 D. 500个

三、判断推理

51. 树根：根雕：工艺品

- A. 纸张：风筝：春天 B. 粘土：唐三彩：古董 C. 消费：借贷：信用 D. 泥沙：混凝土：建筑

52. 1223△※xxHG

- A. 6779☆&ssHg B. 3449&@ddMW
C. 8829@☆kkJY D. 3112◎&JjNH

53. 杯：碗

- A. 锯：刀 B. 灯：光 C. 木：椅 D. 火：炉

54. 高大：渺小

- A. 无穷：无尽 B. 春种：秋收 C. 赞誉：诋毁 D. 牛奶：面包

55. 胎生动物：蝴蝶

- A. 男教师：女青年 B. 实数：正数 C. 哺乳动物：鸭嘴兽 D. 文科：化学

56. 火柴：打火机：取火

- A. 煤炉：燃气灶：煮饭 B. 锄头：马车：耕地 C. 镜子：梳子：梳妆 D. 皂角：浣纱：洗衣

57. 水面：镜子

- A. 毛笔：钢笔 B. 藤条：绳子 C. 图画：照片 D. 火把：电灯

58. 解决之于（ ）相当于克服之于（ ）

- A. 问题 障碍 B. 顺利 惰性 C. 完成 克制 D. 理念 困难

59. 干细胞遍布人体，因为拥有变成任何类型细胞的能力而令科学家们着迷，这种能力意味着它们有可能修复或者取代受损的组织。而通过激光刺激干细胞生长很有可能实现组织生长，因此研究人员认为激光技术或许将成为医学领域的一种变革工具。

以下哪项如果为真，最能支持上述结论？（ ）

- A. 不同波段的激光对机体组织作用的原理尚不清楚
B. 已有病例表明，激光会对儿童视网膜造成损伤，影响视力
C. 目前激光刺激生长法尚未在人类机体上进行试验，风险还待评估 D.
用激光治疗带有牙洞的白齿，受损的牙体组织能逐渐恢复

60. 媒体A报道称：今年以来，患季节性皮肤病的人数大幅上升，这是因为城市水污染日益严重和空气质量恶化造成的。

媒体B报道称：患季节性皮肤病的人数大幅上升与城市水污染、空气质量恶化没有关系，主要是因为人们缺乏锻炼，身体素质下降造成的。

以下哪项如果为真，最能对媒体B的观点提出质疑？（ ）

- A. 目前7~12周岁儿童的身体素质比10年前普遍下降
B. 大多数春季患皮肤病的人，在秋冬季节症状会有所好转 C.
环保局承认，城市水污染和空气质量问题日益严重
D. 游泳运动员患季节性皮肤病的人数逐年增多

61. 英国“首席捕鼠官”虎斑猫拉里因为不勤于捕鼠，而被部分人以“未尽职工作”为由，要求下台。但同时一些媒体也发起支持行动，表示“权利义务不对等”，唐宁街（英国政府代称）没有任何理由让这位捕鼠官下台。

以下各项如果为真，最能支持媒体观点的是（ ）。

- A. 调查显示，拉里任捕鼠官后全国得到收养的流浪猫增加了20%，拉里的任职起到了良好的社会示范作用
B. 拉里天生不善捕鼠，它被选为捕鼠官并未经过唐宁街工作人员仔细考察 C.
唐宁街并未支付拉里薪水，其口粮全部由唐宁街工作人员花费购买
D. 由于外形可爱，性格温顺，拉里经常被安排额外的外交接待任务

62. 甲、乙、丙、丁四人外出旅游，旅游地点为桂林、三亚、杭州、张家界。一个人只去一个地方，且每个地方都有人去。在问到他们各自去哪旅游时，甲说：“乙没有去桂林。”乙说：“丁没有去杭州。”丙说：“我去了张家界。”如果甲、乙、丙三人中有一个人去了张家界，而且只有这个人的陈述与事实相符。

那么去桂林旅游的人是（ ）。

- A. 甲或乙 B. 乙或丙 C. 丙或丁 D. 丁或甲

63. 甲、乙、丙、丁四辆车要经过A、B、C、D四个路段，每辆车只经过其中一个路段且每个路段都有车经过。已知A路段星期三禁行，B路段星期一禁行，C路段星期一与星期四禁行，D路段只在星期二、星期四和星期六通行，星期天四个路段都禁行。某天，甲、乙、丙、丁四辆车的司机进行交谈，甲车司

甲说：“我所经过的路段前天禁行。”乙车司机说：“我所经过的路段明天禁行。”丙车司机说：“我所经过的路段今天禁行，明天就不禁行了。”丁车司机说：“从今天起，我所经过的路段四天都不禁行。”

那么甲车所经过的路段为（ ）。

- A. D B. C C. B D. A

64. 五位同学对毕业去向进行讨论。小张说：“小王去了百度，小李去了顺丰。”小王说：“小李去了阿里，小赵去了浦发。”小李说：“小赵去了顺丰，小周去了浦发。”小赵说：“小周去了腾讯，小李去了阿里。”小周说：“小张去了阿里，小李去了腾讯。”已知每个人所去的单位不同，而且每个人的去向都有人说对。

那么，每个人的毕业去向为（ ）。

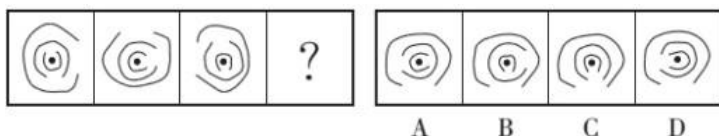
- A. 小李去了阿里，小赵去了百度，小张去了腾讯，小王去了顺丰，小周去了浦发
B. 小周去了阿里，小王去了百度，小赵去了腾讯，小张去了顺丰，小李去了浦发
C. 小张去了阿里，小王去了百度，小李去了腾讯，小赵去了顺丰，小周去了浦发
D. 小赵去了阿里，小李去了百度，小周去了腾讯，小张去了顺丰，小王去了浦发

65. 一项研究表明，螨虫不能饮水，它们通过从空气中吸收水分来保持身体的含水量，故螨虫只能生活在潮湿的环境下，对螨虫过敏的人搬到干燥地区就可以避免这一问题。

以下哪项如果为真，最能削弱这一结论？（ ）

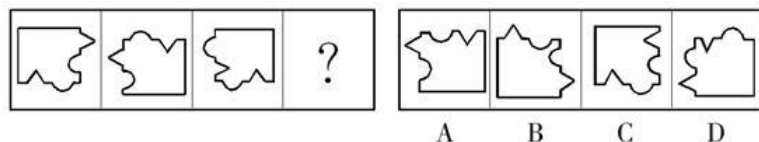
- A. 经常使用高效微粒空气过滤器净化空气可有效抑制螨虫
B. 调查发现在我国西部山区的大部分地方，室内螨虫很少
C. 从潮湿地区搬到干旱地区的床垫、毯子等也会滋生螨虫
D. 螨虫的分泌物、排泄物以及螨虫的尸体，都会致人过敏

66. 从所给的四个选项中，选择最合适的一个填入问号处，使之呈现一定规律性。



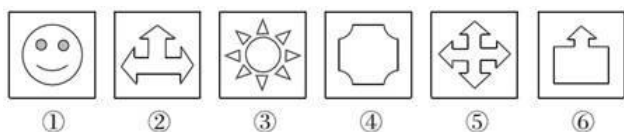
- A. A B. B C. C D. D

67. 从所给的四个选项中，选择最合适的一个填入问号处，使之呈现一定的规律性。



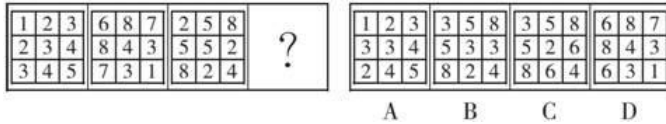
- A. A B. B C. C D. D

68. 把下面的六个图形分为两类，使每一类图形都有各自的共同特征或规律，分类正确的一项是（ ）。



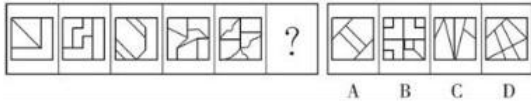
- A. ①②⑤, ③④⑥ B. ①②⑥, ③④⑤ C. ①④⑤, ②③⑥ D. ①⑤⑥, ②③④

69. 从所给的四个选项中, 选择最合适的一个填入问号处, 使之呈现一定的规律性。



- A. A B. B C. C D. D

70. 从所给四个选项中, 选择最合适的一个填入问号处, 使之呈现一定规律性。



- A. A B. B C. C D. D

四、常识判断

71. 小王冬季从北京首都国际机场乘坐航班去某个机场, 到达后发现手表显示的时间为18点30分, 而机场所在地时间为22点30分, 他去的可能是以下哪个城市? ()

- A. 华盛顿 B. 马尼拉 C. 惠灵顿 D. 曼彻斯特

72. 党员的党龄从何时开始计算? ()

- A. 支部大会通过其为预备党员之日起 B. 支部大会通过其为正式党员之日起
C. 党的基层委员会通过其为预备党员之日起 D. 党的基层委员会通过其为正式党员之日起

73. 我国近代著名启蒙思想家严复为宣传维新变法思想, 翻译了许多西方名著, 其中《天演论》一书特别强调“物竞天择, 适者生存”的观点, 这一观点源自于 ()。

- A. 牛顿 B. 爱因斯坦 C. 达尔文 D. 伏尔泰

74. 根据我国刑事诉讼法的规定, 下列证据应当予以直接排除的是 ()。

- A. 采用刑讯逼供的方法收集的犯罪嫌疑人的供述
B. 收集犯罪嫌疑人贪污所得现金不符合法定程序的
C. 收集合同诈骗罪涉案支票不符合法定程序, 可能严重影响司法公正的
D. 收集盗窃自行车不符合法定程序, 不会影响司法公正, 但无法作出合理解释的

75. 王某最近失业了, 因其有失业保险, 在一定时期内, 每个月可领一笔失业救济金, 所以他不用过于担心生活问题, 可以继续安心找工作。而李某失业后没有失业保险, 一段时间后, 仍然没有找到新工作, 积蓄也花光了, 生活陷入困境, 于是他开始小偷小摸。上述材料中的失业保险体现了下列社会保障的哪一项功能? ()

- A. 促进经济发展 B. 保持社会公平 C. 维护社会稳定 D. 增进国民福祉

76. 在催化剂中, 能够使化学反应加快速度的称为正催化剂, 使化学反应速度减慢的称为负催化剂。下列属于负催化剂的是 ()。

- A. 为防止食用油脂酸化而加入的没食子酸正丙酯 B.
在分解氯酸钾制备氧气实验时加入的二氧化锰 C.
在用锌和稀硫酸反应制备氢气时加入的硫酸铜 D.
在大雪后为促使积雪融化而在马路上撒下的盐

77. 我国古代创造了灿烂的青铜文明, 司母戊鼎和四羊方尊是青铜器的代表。以下关于青铜的说

法，不正确的是（ ）。

A. 青铜属于纯净物 B. 青铜属于金属材料 C. 青铜的硬度比铜大 D. 青铜耐腐蚀，易铸造成形

78. 魏某因曾被赵某当众羞辱，一直对赵某怀恨在心，时时想着报复赵某。一天，魏某在外喝酒后驾车回家，不料在路上撞死一行人，下车查看后发现此人正是赵某。那么，魏某的行为应当属于（ ）。

A. 故意杀人 B. 过失致人死亡 C. 交通肇事 D. 报复陷害

79. 随着电子商务的发展，近年来团购作为一种新型商务模式出现于大众视野并风靡全国。在国际上，团购属于下列哪种电子商务模式？（ ）

A. B2B B. C2C C. B2C D. B2T

80. 下列关于台风的说法，错误的是（ ）。

A. 台风是热带气旋的一个类别

B. 台风和飓风都是一种风，只是发生地点不同，叫法不同 C.

大西洋地区是世界上台风活动最频繁的地区

D. 台风经过时常伴随着暴雨或特大暴雨等强对流天气

81. 宗教不是下列哪一战争的原因？（ ）

A. 两伊战争 B. 巴以冲突 C. 十字军东征 D. 伊拉克战争

82. 下列说法错误的是（ ）。

A. 在太阳系中，太阳是中心天体，其他天体都在太阳的引力下，绕太阳公转。其他的主要成员是水星、金星、地球、火星、木星、土星、天王星、海王星等

B. 光年是天文学中常用的距离单位，光在真空中一年所走的距离叫光年C.

生物具有遗传和变异，既能保持物种相对稳定，又能促使生物不断演化

D. 染色体是细胞核中载有遗传信息（基因）的物质，由核酸和蛋白质组成。哺乳动物雄性个体细胞的性染色体对为XX，雌性则为XY

83. 下列关于大气层知识的描述正确的是（ ）。

A. 大气层含量最多的气体是氧气，约占78.1%

B. 大气层从低到高依次是平流层、对流层、中间层、暖层和散逸层 C.

平流层温度随高度增加而升高，对流层温度随高度增加而降低D.

臭氧层空洞的形成主要是由于植被被大量破坏

84. 下列哪一建筑与古代图书收藏有关？（ ）

A. 天一阁 B. 铜雀台 C. 文华殿 D. 沧浪亭

85. 下列说法不正确的是（ ）。

A. 民间文学一般为口头形式

B. 小提琴曲《梁祝》以民间传说为素材

C. “信天游”是我国西北地区的一种民歌形式

D. “乐府双璧”指的是《孔雀东南飞》和《长恨歌》

五、资料分析

2010年人民法院审理婚姻家庭、继承一审案件收结案情况

项 目	收 案		结 案 (件)			
	数量 (件)	增长率 (%)	合计	调解	判决	其他
合 计	1423180	3.15	1428340	698900	387185	342255
婚 姻 家 庭	1374136	2.47	1379463	673749	373883	331831
离 婚	1164521	1.92	1168810	567374	321316	280120
赡 养 纠 纷	26648	-7.74	26704	11237	6838	8629
抚 养、扶 养 关 系 纠 纷	50499	2.65	50547	31082	9584	9881
抚 育 费 纠 纷	24020	-6.27	24269	11502	6902	5865
其 他	108448	14.47	109133	52554	29243	27336
继 承	49044	26.85	48877	25151	13302	10424
法 定 继 承	28439	25.45	28285	15935	6861	5489
遗 嘱 继 承	4054	21.38	4076	1790	1439	847
其 他	16551	30.81	16516	7426	5002	4088

86. 2010年收到的法定继承案件比上年增加了多少件? ()
- A. 4535 B. 5769 C. 7238 D. 9022
87. 以下案件类型中, 2010年收案数占当年婚姻家庭类案件总收案数比重比上年有所提升的是 ()。
- A. 离婚类案件 B. 赡养纠纷类案件 C. 抚养、扶养关系纠纷案件 D. 抚育费纠纷案件
88. 2010年结案的婚姻家庭类案件中, 以调解方式结案的比重比判决方式约高多少个百分点? ()
- A. 11 B. 16 C. 22 D. 26
89. 以下案件类型中, 2010年以调解方式结案的案件占该类型总结案数的比重最高的是 ()。
- A. 抚养、扶养关系纠纷案件 B. 抚育费纠纷案件 C. 其他类婚姻家庭案件 D. 其他类继承案件
90. 与其他类型案件相比, 2010年遗嘱继承案件体现出什么样的特点? ()
- A. 只有遗嘱继承案件的总结案数多于收案数
B. 只有遗嘱继承案件的收案数比上年有所上升
C. 只有遗嘱继承案件的调解案件数不足总结案数的40%
D. 只有遗嘱继承案件的已判决案件数超过总结案数的

2012年, 全国国内旅游人数29.57亿人次, 比上年增长 12.0% 。其中, 城镇居民19.33亿人次。2012年, 全国国内旅游收入22706.22亿元人民币, 比上年增长 17.6% 。2012年全国入境外国游客人数比上年增长 0.3% , 其中, 亚洲市场入境人数1664.88万人次, 与上年基本持平, 占入境外国游客人数的 61.2% ; 欧洲市场入境人数593.16万人次, 增长 0.2% ; 美洲市场入境人数317.95万人次, 减少 0.7% ; 大洋洲市场入境人数91.49万人次, 增长 6.5% ; 非洲市场入境人数52.49万人次, 增长 7.4% 。

2012年主要客源国入境旅游情况

国 家	入境旅游人数 (万人次)	与上年比较 (%)
美 国	211.81	0.1
日 本	351.82	-3.8
俄罗斯	242.62	-4.3
韩 国	406.99	-2.8
英 国	61.84	3.8
德 国	65.96	3.5
马来西亚	123.55	-0.8
越 南	113.72	13.0
澳大利亚	77.43	6.6
蒙 古	101.05	1.6
菲律宾	96.20	7.6
新加坡	102.77	-3.3
加拿大	70.83	-5.3
意大利	25.20	7.2
印 尼	62.20	2.2
哈萨克斯坦	49.14	-2.9
緬 甸	20.59	7.8
泰 国	64.76	6.5
印 度	61.02	0.6
法 国	52.48	6.4

91. 2011年，全国国内的旅游收入约为（ ）。

- A. 15247.11亿元人民币
B. 17354.03亿元人民币
C. 18642.37亿元人民币
D. 19308.01亿元人民币

92. 2012年，农村居民国内旅游人数占全国国内旅游人数的比例约为（ ）。

- A. 30.53% B. 32.43% C. 34.63% D. 38.83%

93. 2012年，欧洲各国入境游客量占欧洲入境游客总量比例超过11%的国家有（ ）。

- A. 1个 B. 2个 C. 3个 D. 4个

94. 2011年，除美国、加拿大以外的美洲国家游客入境旅游人数约为（ ）。

- A. 13.8万人次 B. 23.8万人次 C. 33.8万人次 D. 43.8万人次

95. 根据上述资料，不能推出的是（ ）。

- A. 2012年，韩国为我国第一大入境客源国
B. 2012年，在20个主要客源国中，六成来自亚洲
C. 2012年，非洲市场入境游客量占入境外国游客总量的2%
D. 2012年，越南是入境旅游人数增长最快的客源国

2015年1~3月，国有企业营业总收入103155.5亿元，同比下降6%。其中，中央企业收入63191.3亿元，同比下降7%；地方国有企业收入39964.2亿元，同比下降4.2%。

1~3月，国有企业营业总成本100345.5亿元，同比下降5.1%，其中销售费用、管理费用和财务费用同比分别下降2.9%、增长2.3%和增长7.3%。其中，中央企业成本60216.5亿元，同比下降6.4%；地方国有企业成本40129亿元，同比下降3.1%。

1~3月，国有企业利润总额4997.3亿元，同比下降8%。国有企业应交税金9383亿元，同比增长0.13%。

3月末，国有企业资产总额1054875.4亿元，同比增长12%；负债总额685766.3亿元，同比增长11.9%；所有者权益合计369109.1亿元，同比增长12.2%。其中，中央企业资产总额554658.3亿元，同比增长

10.5%；负债总额363304亿元，同比增长10.4%；所有者权益为191354.4亿元，同比增长10.7%。地方国有企业资产总额500217.1亿元，同比增长13.8%；负债总额322462.3亿元，同比增长13.7%；所有者权益为177754.7亿元，同比增长13.9%。

96. 2014年1~3月，国有企业营业总收入最接近（ ）。

A. 10.5万亿元 B. 11万亿元 C. 11.5万亿元 D. 12万亿元

97. 2015年1~3月，在销售费用、管理费用和财务费用中，占国有企业营业总成本的比重同比上升的有几项？（ ）

A. 0 B. 1 C. 2 D. 3

98. 2015年3月末，中央企业所有者权益占国有企业总体比重比上年同期约（ ）。

A. 下降了0.7个百分点 B. 下降了1.5个百分点 C. 上升了0.7个百分点 D. 上升了1.5个百分点

99. 2015年3月末，中央企业的资产负债率（负债总额÷资产总额）约在以下哪个范围内？（ ）

A. 50%以下 B. 50%~60% C. 60%~70% D. 70%以上

100. 能够从上述资料中推出的是（ ）。

- A. 2015年1~3月，中央和地方国有企业营业成本均低于同期营业收入
- B. 2014年1~3月，国有企业应交税金占同期营业总收入的一成以上
- C. 2015年3月末，国有企业资产总额同比增长不到12万亿元
- D. 2015年3月末，地方国有企业资产负债率高于上年同期水平