

## 江山模拟卷（三）

### 一、言语理解与表达

1. 新媒体的发展，尤其是自媒体的兴起，挑战着传统的新闻生产机制，在信息超载的同时，使新闻生产“去中心化”，新闻流动的把关功能\_\_\_\_\_，不实消息\_\_\_\_\_网络。米尔顿设想的“意见的自由市场”的自净功能并未实现，很多情况下谣言往往“\_\_\_\_\_”真相。

依次填入划横线部分最恰当的一项是（ ）。

- A. 消减 充满 淡化                      B. 降低 充盈 消溶  
C. 削弱 充溢 消淡                      D. 减弱 充斥 稀释

2. 党的十八大以来，中央以猛药去疴、重典治乱的\_\_\_\_\_，以刮骨疗毒、壮士断腕的\_\_\_\_\_，不断加大党风廉政建设和巡视的力度，效果显著。

依次填入划横线部分最恰当的一项是（ ）。

- A. 意念 底气                                      B. 恒心 气势  
C. 意志 气魄                                      D. 决心 勇气

3. 统计学家告诉我们，买一张彩票正好中大奖的概率\_\_\_\_\_——比如说，英国国家彩票的中奖概率大概就只有1400万分之一，相当于你连续投24次硬币全是正面朝上，远远低于被\_\_\_\_\_的陨石砸中的可能性。

依次填入划横线处最恰当的一项是（ ）。

- A. 微不足道 祸从天降                      B. 绝无仅有 不期而至  
C. 不可多得 不期而遇                      D. 微乎其微 从天而降

4. 书店应当想方设法降低书价或改善服务，让读者\_\_\_\_\_地掏钱，而不是\_\_\_\_\_，指责消费者说，我们费了这么大心思，你怎么还是跑去网上买书，太不道德了！

填入划横线部分最恰当的一项是（ ）。

- A. 真心诚意 悲天悯人                      B. 心悦诚服 自怨自艾  
C. 心甘情愿 怨天尤人                      D. 慷慨解囊 自说自话

5. 推进法治政府建设，是各级政府的基础性和\_\_\_\_\_工作，具有长期性、系统性和艰巨性，必须\_\_\_\_\_、常抓不懈。

依次填入划横线部分最恰当的一项是（ ）。

- A. 全面性 不离不弃                      B. 全程性 锲而不舍  
C. 全员性 夜以继日                      D. 全局性 持之以恒

6. 清正廉洁，不仅是党员干部的自我追求，也是老百姓的\_\_\_\_\_希望。

- A. 深切                                      B. 急切                                      C. 殷切                                      D. 恳切

7. 公共生活中的某些失范行为和无序现象若得不到及时治理，就可能会产生反面的\_\_\_\_\_效应，个体在这种环境中很容易被激发和诱导，随波逐流，助长无序。很多国家的法律在公共场所禁烟、维护环境卫生等方面都有明确规定且有效执行，正是为了\_\_\_\_\_，在微小的失范和无序积累前就加以制止。

依次填入划横线部分最恰当的一项是（ ）。

- A. 示范 防微杜渐 B. 辐射 惩前毖后 C. 连锁 上行下效 D. 扩张 以儆效尤

8. 互联网时代，热点事件层出不穷，“新闻”盖“旧闻”也符合传播规律。“热点”可以变“冷”，但涉事单位的问责处理机制要继续运转并发挥作用。如何运转需按照法律法规和制度运行，而不是根据公众关注度的高低、媒体参与热情的变化而“\_\_\_\_\_”。

填入划横线部分最恰当的一项是（ ）。

- A. 随机应变                                      B. 急不择途                                      C. 顾此失彼                                      D. 八面玲珑

9. 美国的硅谷、加拿大的渥太华、印度的班加罗尔等典型的国际科技创新型城市的兴起，无论在地缘还是机制上都与大学存在密切关联。大学不仅为城市和企业的发展提供创新技术，更重要的是逐渐\_\_\_\_\_一种大学参与城市与公共领域建设的新格局。而我国的大学与研究机构对科技创新中心的引导功能\_\_\_\_\_进一步开发。

依次填入划横线部分最恰当的一项是（ ）。

- A. 建立 还未                                      B. 绘制 亟需  
C. 形成 尚待                                      D. 构建 无须

10. 我们在这里驻足聆听，触摸\_\_\_\_\_跳动的脉搏，在与先人的凝视和对话中，铭刻人生信念的方位，增进砥砺前行的动力。

填入下列横线处的词语，最恰当的一项是（ ）。

- A. 社会                                      B. 当下                                      C. 未来                                      D. 历史

11. 下列句子没有语病的是（ ）。

- A. 科学家最新研制发现人类并不是宇宙中唯一生命，但可能是第一批智慧生命  
B. 交通拥堵和空气污染，不仅在中国，同样是国际性的难题  
C. 1981年6月7日，以色列空军的战斗机悄悄地偷袭了伊拉克的原子能中心  
D. 外贸发展不仅对稳增长、保就业至关重要，而且有利于促进中国经济与世界经济深度融合

12. ①旧大陆的大西洋沿岸，漂浮的低气压风暴穿越墨西哥洋流的温暖水域，在西欧形成了比较湿润和温暖的气候

- ②接着，这又为原始人类和其他大型食肉动物提供了丰富的食物来源  
③因此，植物生长茂盛，维持了北极圈以南地区大量食草动物的生存，比如猛犸象、驯鹿、野牛等  
④大约3万年前，欧洲、亚洲北部和美洲的冰川开始融化  
⑤触发人类历史的生态变化都与北半球大陆冰川最后一次消退有关  
⑥在光秃秃的地表上，冻原和稀疏的森林首次生长出来

将以上6个句子重新排列，语序正确的是（ ）。

- A. ①②⑤④⑥③      B. ④⑥①②③⑤      C. ⑤④⑥①③②      D. ⑥①③⑤④②

13. 在校园里结缘的友谊之所以显得那么纯粹感人，\_\_\_\_\_，只是单纯地悲伤与快乐，完全不在乎对方的家世背景，也不琢磨对方是否会成为日后的资源。这些在懵懂彷徨中一起走过的同学、老友都有一种神奇的力量，无论多久未见，只要相视一笑就会让人立刻回到过去，不设防，不计算，不演不装，以诚相待。

填入划横线部分最恰当一项是（ ）。

- A. 是因为那个年龄未被成人世界的功利所裹挟  
B. 其实是我们都需要这样的情感回归和慰藉  
C. 是因为那个时期建立起来的感情特别牢固  
D. 因为我们毫不怀疑真挚的友谊可以净化心灵

14. 春天时，湖水涨满，湖天一色，船行湖中，如行天上；秋日里，山色斑斓，山景如画，人游山中，如行画中。

根据语境，以“春水船如天上坐”为上联，最贴切的下联是（ ）。

- A. 秋色人如画中行      B. 秋景人若行画中      C. 秋日人行景中画      D. 秋山人似画中游

15. 我国各地的雾霾，从总的方面来说是各种来源污染排放物经过一系列的化学和物理过程的产物，这里既有一次排放，还有二次化学转化和物理过程。从南到北情况十分复杂，当下的普遍情况既不同于当年伦敦的情况，也不同于洛杉矶的情况。曾有学者讲北京的情况属于“伦敦型”和“洛杉矶型”的复合型，实际上事情绝非是一个“复合型”可以概括。还让人担心的是：眼下从上到下、各省各地，都认为燃煤是问题的根子，似乎解决了城市燃气化以后，问题就可以大大解决了，其实我们的一次排放物或者说二次过程的产生物质绝不只是一个二氧化硫，或者说再加上一个氮氧化物那么简单。对这段文字概括最适当的是（ ）。

- A. 雾霾形成的原因复杂      B. 雾霾形成的主要特点  
C. 雾霾类型具有多样性      D. 雾霾危害具有普遍性

16. 作为世界上第一部关于农业和手工业生产的综合性科技著作，《天工开物》十分重视理论阐述，而非单纯的技术描述，否则比之那些食谱、棋谱高明不了多少。有专家认为：“《天工开物》不只是中国，而且是整个东亚的一部代表性技术书，其包罗技术门类之广是欧洲技术书无法比拟的。”

根据这段文字，可以看出《天工开物》与食谱、棋谱最本质的区别在于（ ）。

- A. 前者为技术书，后者为工具书      B. 前者重在逻辑，后者重在说明  
C. 前者重视理论，后者重视技术      D. 前者是科技理论，后者是操作技术

17. “互联网+”下的“荷尔蒙经济”，烧旺了网络直播产业。与土豪粉丝一掷千金、千金买笑相伴的，是丑小鸭变天鹅、一夜暴富的传说，让美女、靓仔、资本都趋之若鹜，但也应该在法律法规与道德伦理容许的范围内。度没把握好，问题就来了。网络直播从最初的“主要看气质”到今天的主要拼胆量，以“直播造人”为标志，“无聊经济”“荷尔蒙经济”有低俗化、无耻化风险，受到公众诟病乃至法律惩戒是必然的。

这段文字意在强调（ ）。

- A. 网络直播面临的困局      B. 网络直播盛行的原因  
C. 网络直播要自律更要他律      D. 网络直播的社会影响

18. 智慧以一定的知识为前提，在人的思考和实践中体现出来，但它本身是不稳定的、非规范性的，表现为某种洞幽烛微、触类旁通、融会贯通、举重若轻的能力。知识可以让人按照已有的方式思考和行动，智慧则使人立足已知探索未知，善于发现问题、提出问题、分析问题、进而自主地、创造性解决问题。而哲学思想是人类智慧的结晶。理解已有的哲学、感悟其中闪耀的智慧之光，有助于启迪、催化我们本已有根的智慧。

这段文字的关键词可概括为（ ）。

- A. 智慧 能力 问题
- B. 智慧 知识 哲学
- C. 知识 思考 实践
- D. 知识 哲学 创造

19. 内容产业包括三个层次：信息、知识和智慧。报业更多是生产信息，而出版业主要集中在知识和智慧层面，生产信息的必然先于生产知识和智慧的受到互联网冲击。其实原先不少报纸有在知识层面生产的传统，但近年来，报纸的这一特色日益褪色。如果报纸不能从知识层面生产信息，只是在海量信息层面做文章，竞争不过新媒体是自然而然的。

这段文字重在说明（ ）。

- A. 报业竞争不过新媒体是毋庸置疑的事情
- B. 报业相比出版业更早受到互联网的冲击
- C. 互联网的海量信息是其取胜的关键武器
- D. 今天报业欲生存应多在知识层面生产信息

20. 屏幕阅读与在线阅读的兴起，以及海量信息的便捷搜索，使人们的阅读呈现出“浅阅读”的特征。即时的在线阅读取代了传统的青灯黄卷式的经典阅读。快餐式、浏览式、随意性、跳跃性、碎片化的阅读是典型的浅阅读。其实，不仅在网络阅读中有较为突出的浅阅读，纸面阅读中的浅阅读同样不容忽视。

作者通过这段文字意在说明（ ）。

- A. 浅阅读形成的客观原因
- B. 浅阅读有哪些基本特点
- C. 浅阅读存在于哪些领域
- D. 浅阅读显现的消极影响

21. “经济金融化”成为产生金融危机的直接原因。当货币拥有了在市场上购买一切的魔力，它就成为财富的象征，使那些重利轻义者陷入货币拜物教泥潭，无限追求货币财富自古以来都会给社会带来灾难。在经济全球化的今天，其危害更大，会迅速蔓延成为全球化危机。为此，必须重视对金融业的治理与监管。

关于这段文字，以下理解准确的是（ ）。

- A. 货币是财富的象征
- B. 货币使人陷入拜物教泥潭
- C. 经济全球化可能导致全球金融危机
- D. 追求货币财富可能会给社会带来灾难

22. 在现实中的卢浮宫，你需要在蒙娜丽莎的外围等上数十分钟，才能凑近那发黄的小画看上片刻。虚拟博物馆此时就可以发挥效用：攒动的人潮没有了，距离没有了，推到眼前的只有高度还原的展厅景观和70亿像素无限细腻的细节和质感。而且博物馆虽然有丰富的馆藏和长期列展，但因为空间有限，并不会将所有作品同时展示在展厅里，但在数字展厅，那些难得一见的艺术品你都可以随时观览。这段文字主要介绍了（ ）。

- A. 数字博物馆的优势
- B. 博物馆的未来发展方向
- C. 传统博物馆的技术局限
- D. 建设数字博物馆的重要性

23. 工作或职位的内涵，本来就是一个复杂的组合，每一项工作都有它创意、趣味、多元的一面，更有它辛苦、无聊、重复发生、令人讨厌的一面。许多有才气的人，最后一事无成，不是他才气不足，只是他耐心不够，无法通过无聊、无趣的考验，以至于才气被怨气蒸发了。多少才气纵横但怨气冲天的人，最后成为组织边缘人、成为组织的问题人物，成为领导不得不放弃的马谡。

作者通过这段文字所表达的主要观点是（ ）。

- A. 人在工作中往往不会一帆风顺
- B. 对工作存在怨气是失败的根本
- C. 有才华的人不一定能在工作中取得成功
- D. 我们应该耐心对待工作中的无聊与无趣

24. 世界上还没有包治百病的万应丹。平常所谓良药，用之得法固然可以去沉疴，但用之不得法也许会杀人。泰戈尔劝人少读书，他对于东方的文艺，虽然洞见症结，对准了毛病发药，可是说给现在的中国人听，实在像煎了一剂催命汤。新中国诚然有许多地方用得着外国朋友的指导，可是不读书那一层是无须劝驾了。

作者这段话主要想表达的观点是（ ）。

- A. 新中国的发展需要外国朋友的指导
- B. 现在的中国人本就读书少，不应如泰戈尔所劝人少读书
- C. 泰戈尔对于东方的文艺可谓洞见症结，对准了毛病发药
- D. 世界上没有包治百病的万应丹

25. 千年以降，端午节始终氤氲着浓郁的历史气息、厚重的人文情怀和深刻的伦理内涵，不断渗透着丰富的精神文化，给我们以醇厚绵长的心灵滋养，给民族以生生不息的动力。也由此，越是在现代化和城市化对传统文化的冲刷下，我们越是要有延续自身文化的自觉和自信。寄托情感和文化符号的固有仪式或可以简化，浓郁的民俗表现形式或可以进化，但端午节的肃穆价值不能抹掉，你我心中的敬畏不能消退，对历史和文化的尊崇更不能抛弃。

这段文字的主旨是（ ）。

- A. 应重视端午节等传统节日的内在价值
- B. 应警惕现代化对传统文化的冲击
- C. 应深入发掘端午节厚重的文化内涵
- D. 应增强延续自身文化的自觉性

## 二、数量关系

26.  $\frac{1}{3}, \frac{1}{2}, \frac{3}{7}, \frac{5}{11}, \frac{4}{9}, ( )$

- A.  $\frac{13}{29}$
- B.  $\frac{11}{27}$
- C.  $\frac{9}{25}$
- D.  $\frac{15}{31}$

27. -53, 28, 1, 10, 7, ( )

- A. 9
- B. 3
- C. 8
- D. 13

28. 1, 3, 9, 15, 25, ( ), 49, 63, 81

- A. 34 B. 37 C. 36 D. 35

29. 4, 6, 12, 30, 84, ( )

- A. 96 B. 128 C. 192 D. 246

30. 0, 4, 18, ( )

- A. 48 B. 46 C. 36 D. 28

31. 1, 2, 3, 7, 22, ( )

- A. 100 B. 133 C. 155 D. 165

32. 9, 10, 65, 26, 217, ( )

- A. 289 B. 89 C. 64 D. 50

33.  $\sqrt{3}$ , 1,  $\frac{3\sqrt{3}}{7}$ ,  $\frac{3}{5}$ ,  $\frac{9\sqrt{3}}{31}$ , ( )

- A.  $\frac{10\sqrt{3}}{47}$   
B.  $\frac{27}{53}$   
C.  $\frac{3}{7}$   
D.  $\frac{5}{9}$

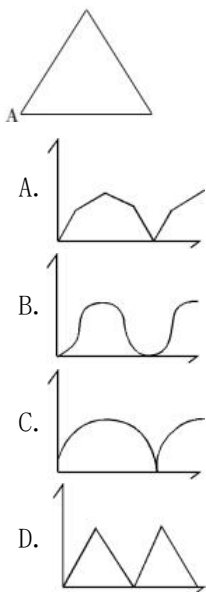
34.

- A. 32 B. 40 C. 48 D. 56

35. 1716, 2523, 3330, 4642, 5853, ( )

- A. 6862 B. 6765 C. 6662 D. 6460

36. 一正三角形小路如下图所示，甲乙两人从A点同时出发，朝不同方向沿小路散步。已知甲的速度是乙的2倍，问以下哪个坐标图能准确描述两人之间的直线距离与时间的关系（横轴为时间，纵轴为直线距离）？（ ）



37. 两同学需托运行李，托运收费标准为10公斤以下6元/公斤，超出10公斤部分每公斤收费标准略低一些。已知甲、乙两人托运费分别为109.5元和78元，甲的行李比乙重了50%。那么，超出10公斤部分

每公斤收费标准比10公斤以内的低了多少元？（ ）

- A. 1.5元                      B. 2.5元                      C. 3.5元                      D. 4.5元

38. 张大爷用20000元投资了一只股价为10元的股票，两周后股票价格跌到6元，此时张大爷又买入该股票若干，当股票价格涨到12元时张大爷卖出了所有股票。如不计税费的话，张大爷交易这只股票总计获利16000元，问张大爷第二次花了多少元买这只股票？（ ）

- A. 6000                      B. 9000                      C. 12000                      D. 18000

39. 某市出租车运营方案调整如下：起步价由过去的5元2公里调整为8元3公里，运价由每公里1.2元上调至每公里1.6元。调整前后行程超过10公里则超出部分均需加收半价返程费。现在王先生打车由甲地去乙地，两地相距12公里，王先生所付出租车费比调整前多付多少元？（不计候车计费）（ ）

- A. 4.6                      B. 5.8                      C. 6.6                      D. 7.2

40. 小区内空着一排相邻的8个车位，现有4辆车随机停进车位，恰好没有连续空位的停车方式共有多少种？（ ）

- A. 48                      B. 120                      C. 360                      D. 1440

41. 为响应建设“绿色城市”的号召，某社区义务植树300棵，由于参加植树的全体党员植树的积极性高涨，实际工作效率为原来的1.2倍，结果提前20分钟完成任务。则原来每小时植树多少棵？（ ）

- A. 120                      B. 150                      C. 135                      D. 125

42. 一次校友聚会共有50人参加，在参加聚会的同学中，每个男生认识的女生的人数各不相同，而且恰好构成一串连续的自然数。已知认识女生最少的一个男生认识15名女生，并有一名男生认识所有的女生，则参加这次聚会的男生一共有（ ）。

- A. 16名                      B. 17名                      C. 18名                      D. 19名

43. 环形跑道长400米，老张、小王、小刘从同一地点同向出发，围绕跑道分别慢走、跑步和骑自行车。已知三人的速度分别是1米/秒、3米/秒和6米/秒。问小王第3次超越老张时，小刘已经超越了小王多少次？（ ）

- A. 3                      B. 4                      C. 5                      D. 6

44. 工厂需要加工一批零件，甲单独工作需要96个小时完成，乙需要90个小时，丙需要80个小时。现在按照第一天甲、乙合作，第二天甲、丙合作，第三天乙、丙合作的顺序轮班工作，每天工作8小时，当全部零件完成时，乙工作了多少小时？（ ）

- A.  $16\frac{5}{27}$   
B.  $24\frac{1}{3}$   
C.  $28\frac{4}{17}$   
D.  $44\frac{5}{31}$   
E. 32  
F. 38  
G. 44  
H. 46

45. 自行车运动员在400米长的环形跑道上骑行了一圈，他前一半时间的平均速度是6米/秒，后一半时间的平均速度是10米/秒。问他第一圈用时为多少秒？（ ）

- A. 50                                      B. 60                                      C. 70                                      D. 80

46. 某旅行团共有48名游客，都报名参观了三个景点中的至少一个。其中，只参观了一个景点的人数与至少参观了两个景点的人数相同，是参观了三个景点的人数的4倍。则需要为这些游客购买多少张景点门票？（ ）

- A. 48                                      B. 72                                      C. 78                                      D. 84

47. 一个20人的班级举行百分制测验，平均分为79分，所有人得分都是整数且任意两人得分不同。班级前5名的平均分正好是16到20名平均分的2倍。则班级第6名和第15名之间的分差最大为多少分？（ ）

- A. 34                                      B. 37                                      C. 40                                      D. 43

48. 一名顾客购买两件均低于100元的商品，售货员在收款时错将其中一件商品标价的个位数和十位数弄反了，该顾客因此少付了27元。被弄错价格的这件商品的标价不可能是（ ）元。

- A. 42                                      B. 63                                      C. 85                                      D. 96

49. 货车A由甲城开往乙城，货车B由乙城开往甲城，它们同时出发并以各自恒定的速度行驶，在途中第一次相遇时，它们离甲城为35千米。相遇后两车继续以原来的速度行驶至目的地城市后立即折返，途中再一次相遇，这时它们离乙城为25千米。则甲、乙两城相距（ ）千米。

- A. 80                                      B. 85                                      C. 90                                      D. 95

50. 盒子里有红、黄、绿三种颜色的大小相等的球，其中红球有7个，黄球有5个。从盒中任意拿出一个球，拿到黄球的可能性为  $\frac{1}{3}$ ，问拿到绿球的可能性是多少？（ ）

- A.  $\frac{1}{3}$   
B.  $\frac{1}{4}$   
C.  $\frac{1}{5}$   
D.  $\frac{1}{7}$

### 三、判断推理

51. ▼★☆△▼★△☆

- A. ★☆▼△☆★▼△    B. ★▼☆△★▼☆△    C. △▼★☆▼★☆△    D. ★△▼☆★△☆▼

52. 构思：写作：修改

- A. 上车：驾驶：下车    B. 请客：赴约：回家    C. 生病：住院：打针    D. 洗菜：切菜：炒菜

53. 衣领 之于 （ ） 相当于 车座 之于 （ ）

- A. 衣服 汽车                      B. 手工 驾驶                      C. 服装 座位                      D. 袖口 车辆

54. 太阳 对于 （ ） 相当于 （ ） 对于 相机

- A. 手表 倒影                      B. 能源 科技                      C. 烛光 胶卷                      D. 向日葵 望远镜

55. 劳动产品：商品：物美价廉



A. 兰花：植物：香气宜人

B. 金属：铜：导电

C. 天然气：甲烷：燃烧

D. 动物：哺乳动物：穴居

56. 应聘者：招聘会：招聘者

A. 原告：判决书：被告

B. 医生：挂号处：病人

C. 生产者：销售者：经营者

D. 甲方：签约仪式：乙方

57. ( ) 对于 治理 相当于 学业 对于 ( )

A. 污染 攻读

B. 顽症 学习

C. 清理 功课

D. 整顿 作业

58. 解放：束缚

A. 犯罪：惩罚

B. 蜕变：堕落

C. 伶俐：笨拙

D. 黎明：拂晓

59. 小区居民代表说：“附近垃圾处理厂引起的污染危害了本小区居民的健康。”垃圾处理厂负责人说：“责任不在本厂。我们的研究表明，贵小区居民健康受损是由变异病菌引起的。”

下列哪一项如果成立，则能最有力削弱垃圾处理厂负责人的论断？( )

A. 垃圾处理厂的研究没有涉及该厂排出的有害物质的危害 B.

小区居民的生活方式近年来没有什么变化

C. 垃圾处理厂负责人所说的变异病菌由来已久D.

垃圾处理厂引起的污染促生了变异病菌

60. 记者采访时的提问要具体、简洁明了，切忌空泛、笼统、不着边际。约翰·布雷迪在《采访技巧》中剖析了记者采访时向访问对象提出诸如“您感觉如何？”等问题的弊端，认为这些提问“实际上在信息获取上等于原地踏步，它使采访对象没法回答，除非用含混不清或枯燥无味的话来应付”。

由此可以推出( )。

A. 记者采访时的提问如果具体、简洁明了，就不会给采访对象带来回答的困难 B.

采访对象如果没法回答提问，说明他没有用含混不清或枯燥无味的话来应付

C. 诸如“您感觉如何？”这样的问题，只能使采访对象抓不住问题的要点而作泛泛的或言不由衷的回答

D. 采访对象只有用含混不清或枯燥无味的话来应付，才能回答那些空泛、笼统的提问

61. 某市举办了一场职业技能竞赛。有甲、乙、丙、丁四支代表队进入决赛，每支队伍有两名参赛选手，获得第一名的选手将得10分，第二名得8分，第三名到第八名分别得6、5、4、3、2、1分，最后总分最高的队伍将获得冠军。比赛的排名情况如下：

①甲队选手的排名都是偶数，乙队两名选手的排名相连，丙队选手的排名一个是奇数一个是偶数，丁队选手的排名都是奇数；

②第一名是丁队选手，第八名是丙队选手；

③乙队两名选手的排名在甲队两名选手之间，同时也在丙队两名选手之间。根

据以上条件，可以判断各队总分由高到低的排列顺序为( )。

A. 丁 > 甲 > 丙 > 乙

B. 甲 > 丁 > 乙 > 丙

C. 甲 > 丁 > 丙 > 乙

D. 丁 > 甲 > 乙 > 丙

62. 考古学家对安第斯地区出土的900年到2800年前的人类骨骼进行了研究，从中提取出的某些化学同位素成分，反映出那里的人当时多以玉米为食。“玉米文化”带动了安第斯地区的人口增长，当时爆

发的几次大规模战争也与争夺稀缺的适种玉米的土壤有关，战争导致了社会体系不断变革和发展。因此 他们得出结论“农业推动了古代安第斯社会的发展”。

以下哪项如果为真，最能质疑上述结论？（ ）

- A. 安第斯地区的印加文明早在2800年前就经历了几次较大的社会变革
- B. 安第斯地区3600年前的人类以沿海打鱼为主，直到2800年前左右才逐渐向内陆迁徙 C.
- 从人类骨骼中提取的另一些化学同位素反映了人们当时也食用马铃薯和豆类
- D. 安第斯地区的社会体系拥有中央政府和地方政府，后又衍生出多种社会形态

63. 近年来，学术不端甚至学术腐败现象愈演愈烈。有些人剽窃他人研究成果，有些人编造实验数据，有些人私自拿患者做实验，不仅丧失了学者的底线，甚至是连最起码的做人底线都没有了，身为学者的李教授对此感到非常痛心，他认为学术腐败已经到了非惩治不可的地步，但是同样身为学者的妻子 说：“我不同意你的观点，我们学院的张教授治学严谨，他从来没有学术不端的行为。”

以下哪项最能反驳李教授妻子的观点？（ ）

- A. 惩治学术腐败光靠榜样的力量是不够的，更需要法律的约束 B.
- 张教授也可能存在学术不端行为，只是没有被发现而已
- C. 作为一名公共知识分子，张教授要注意自己在公众面前的正面形象 D.
- 张教授的情况属于个别案例，并不能反驳带有普遍性的某种规律

64. 某研究员认为，人类语言最初直接来源于鸟类和灵长类，因为如果重新审视现代人类语言，我们可以看到人类的相互交流是如何从鸟类和其他灵长类古老的交流模式系统演化而来的。他宣称，从鸟类身上，我们获得了语言的旋律部分；从其他灵长类身上，我们获得了语言的实用性内容部分。在过去 10万年里的某个时候，这些能力最终演化成我们今天所知的人类语言。

上述结论还需基于以下哪一前提？（ ）

- A. 人类的交流与其他动物的交流之间的相似度比我们一般认为的要多
- B. 人类语言包含两个不同层面：与句子可变结构相关的表达层面以及表达句子核心内容的词汇层面 C.
- 人类语言的交流在过去和现在变化不大
- D. 鸟类和除人类以外的其他哺乳动物有自己的交流语言


65. 某校学生家长：现在学生学习压力太大，每天做作业到晚上十点多，都没有童年的快乐了！

该校老师：学校本身没给孩子们太多压力，布置作业很少，是家长给孩子们报的补习班太多，导致各种作业做完就很晚了。孩子们没有时间玩，所以没有快乐的童年。

以下哪项如果为真，最能质疑该校老师的解释？（ ）

- A. 该校学生作业与其它学校相比确实不多
- B. 学校老师觉得作业布置得少，但学生仍然觉得很多
- C. 老师虽没布置多少书面作业，但作业的要求使得学生必须报班补习 D.
- 学生压力大是普遍的社会问题，不是该校老师减少作业就能解决的

66. 从所给的四个选项中，选择最合适的一个填入问号处，使之呈现一定的规律性。



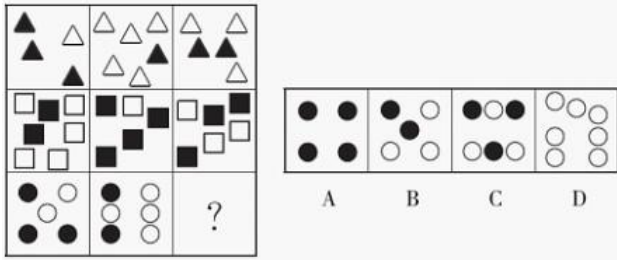
A. A

B. B

C. C

D. D

67. 请选择最适合的一项填入问号处，使之符合整个图形的变化规律。



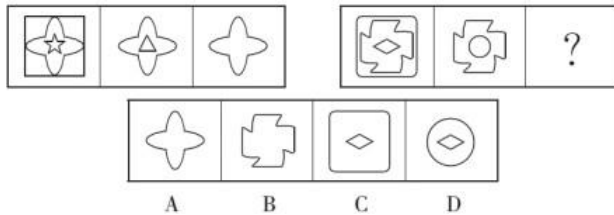
A. A

B. B

C. C

D. D

68. 从所给的四个选项中，选择最合适的一个填入问号处，使之呈现一定的规律性。



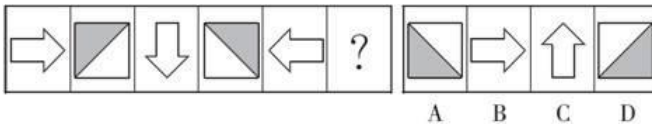
A. A

B. B

C. C

D. D

69. 从所给的四个选项中，选择最合适的一个填入问号处，使之呈现一定的规律性。



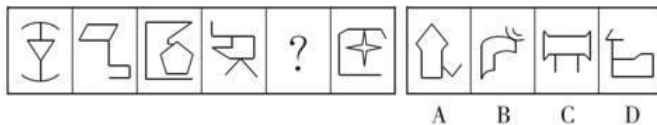
A. A

B. B

C. C

D. D

70. 从所给的四个选项中，选择最合适的一个填入问号处，使之呈现一定的规律性。



A. A

B. B

C. C

D. D

#### 四、常识判断

71. 在公共场所中常有各种各样的提示语，下列选项中，提示语使用最恰当的是（ ）。

A. 盘山公路转弯处：亲爱的司机朋友们，为了您和家人的幸福，请将车速控制在每小时20千米，前方为本段公路转弯处，是本路段的事故高发点

B. 公共绿地：你我垃圾乱扔，谁来掩埋填坑？爱护环境靠大家，想想后代子孙

C. 超市：内有监控，小偷自重，一经确认，偷一罚十

D. 餐厅：无烟场所，请勿吸烟；面阻不雅，利己利他

72. 某街道工委、办事处、社区党委会同当地公安部门发动社区群众成立劝导队，劝导不文明行为，维护社区生活秩序，举报违法犯罪，将矛盾化解在源头，实现了社区环境的有效改善。劝导队的经验表明（ ）。

- A. 集中民智更有利于增强决策的科学性  
民主管理是公民社会参与的重要渠道
- B. 群众组织是社会公共服务的主要载体  
D. 群众自治是基层事务管理的有效途径

73. 科举是我国古代通过考试选拔官吏的一种制度。假如古代某位考生在参加某级科举考试中获 得“解元”，即该级考试第一名，那么，他之后通常应参加的更高一级考试是（ ）。

- A. 乡试 B. 殿试 C. 会试 D. 童试

74. 下述特定时间里，气温最高的是（ ）。

- A. 夏季阴天正午 B. 春季晴天14时 C. 春季晴天正午 D. 夏季晴天日出前

75. 2014年11月5日至11日，2014年亚太经合组织（APEC）领导人会议周各项活动由北京市主办，其 间11月10日至11日召开了APEC第二十二次领导人非正式会议。下列有关APEC的说法有误的是（ ）。

- A. 采取自主自愿、协商一致的合作方式  
B. 是亚太地区层级最高、领域最广、最具影响力的经济合作机制  
本次领导人非正式会议的主题是“参与、合作，促进共同繁荣”  
D. 其运行机制包括领导人非正式会议、部长级会议、高官会、委员会和工作组、秘书处五个层次

76. 下列选项中诗句与所描述的事物对应不正确的是（ ）。

- A. 出淤泥而不染，濯清涟而不妖——莲 B. 一节复一节，千枝攒万叶——竹  
C. 嘈嘈切切错杂弹，大珠小珠落玉盘——二胡 D. 千锤万凿出深山，烈火焚烧若等闲——石灰

77. 我国古代思想家史伯提出“和实生物”“以土与金、木、水、火杂，以成百物”，该观点属于（ ）。

- A. 多元论观点 B. 辩证唯物主义观点 C. 朴素唯物主义观点 D. 主张矛盾调和的形而上学观点

78. 下列关于科技常识的表述中，不正确的是（ ）。

- A. 弗莱明发明了青霉素 B. 魏格纳提出了大陆漂移学说  
C. 爱因斯坦创立了狭义相对论 D. 麦克斯韦发现了电磁感应

79. 以下说法正确的是（ ）。

- A. 15世纪末，哥伦布发现了新大陆——印度，并称当地的土著居民为印第安人 B.

瓦特对蒸汽机的改良，标志着工业革命开始

- C. 16世纪中期，西班牙战胜了拥有号称“无敌舰队”的英国，确定了海上霸主的地位 D.

英国颁布的《权利法案》，标志着君主立宪制的资产阶级统治正式确立

80. 金花茶是广西特有花卉，国内誉其为“植物界的熊猫”，国外称它为“梦幻中的黄色山茶花”，目前广西（ ）建立了世界上唯一的金花茶自然保护区。

- A. 龙州 B. 钦州 C. 南宁 D. 防城港

81. 下列说法错误的是（ ）。

- A. 我国第一部新歌剧是《白毛女》 B. “信天游”流行于陕北一带  
C. 京剧已经有200多年历史 D. 黄梅戏是流行于湖北黄梅的地方戏剧

82. 在证券投资中，证券发行人无法按期支付利息或本金的风险称为（ ）。

- A. 利率风险 B. 违约风险 C. 购买风险 D. 流动性风险

83. 关于行政许可听证制度，下列说法不正确的是（ ）。

- A. 行政许可听证程序既可以由行政机关主动启动，也可因许可事项的申请人、利害关系人的申请而启动
- B. 行政许可涉及申请人与他人之间重大利益关系的，行政机关在作出行政许可决定前应当告知申请人、利害关系人享有要求听证的权利
- C. 行政许可的实施和结果应当公开
- D. 申请人、利害关系人不承担行政机关组织听证的费用
84. 将行政领导体制划分为层级制与职能制的依据在于（ ）。
- A. 行政领导机关中决策人数多少的不同
- B. 行政领导体系中各层级领导机关与领导者职权的集中与分散程度的不同
- C. 行政领导体系内部各机构的职权性质与范围的不同
- D. 上级行政领导机关对下级行政领导机关的指挥、控制方式与程度的不同
85. 在20世纪60年代，焦裕禄成为那个时代精神的象征。今天，我们仍然敬仰焦裕禄，最主要是因为他身上折射着（ ）。
- A. 为万世开太平的责任意识
- B. 勇于创新的时代精神
- C. 己所不欲勿施于人的理性精神
- D. 强烈的社会责任感和历史使命感

## 五、资料分析

2010年人民法院审理婚姻家庭、继承一审案件收结案情况

项目	收案		结案(件)			
	数量(件)	增长率(%)	合计	调解	判决	其他
合计	1423180	3.15	1428340	698900	387185	342255
婚姻家庭	1374136	2.47	1379463	673749	373883	331831
离婚	1164521	1.92	1168810	567374	321316	280120
赡养纠纷	26648	-7.74	26704	11237	6838	8629
抚养、扶养关系纠纷	50499	2.65	50547	31082	9584	9881
抚养费纠纷	24020	-6.27	24269	11502	6902	5865
其他	108448	14.47	109133	52554	29243	27336
继承	49044	26.85	48877	25151	13302	10424
法定继承	28439	25.45	28285	15935	6861	5489
遗嘱继承	4054	21.38	4076	1790	1439	847
其他	16551	30.81	16516	7426	5002	4088

86. 2010年收到的法定继承案件比上年增加了多少件？（ ）
- A. 4535
- B. 5769
- C. 7238
- D. 9022
87. 以下案件类型中，2010年收案数占当年婚姻家庭类案件总收案数比重比上年有所提升的是（ ）。
- A. 离婚类案件
- B. 赡养纠纷类案件
- C. 抚养、扶养关系纠纷案件
- D. 抚养费纠纷案件
88. 2010年结案的婚姻家庭类案件中，以调解方式结案的比重比判决方式约高多少个百分点？（ ）
- A. 11
- B. 16
- C. 22
- D. 26
89. 以下案件类型中，2010年以调解方式结案的案件占该类型总结案数的比重最高的是（ ）。
- A. 抚养、扶养关系纠纷案件
- B. 抚养费纠纷案件
- C. 其他类婚姻家庭案件
- D. 其他类继承案件
90. 与其他类型案件相比，2010年遗嘱继承案件体现出什么样的特点？（ ）
- A. 只有遗嘱继承案件的总结案数多于收案数

- B. 只有遗嘱继承案件的收案数比上年有所上升  
 C. 只有遗嘱继承案件的调解案件数不足总结案数的40% D.

只有遗嘱继承案件的已判决案件数超过总结案数的

免费午餐基金自2011年4月正式启动，截止2012年底，<sup>1</sup>/<sub>3</sub>总收入为4377.4万元，总支出为1459.1万元，结

余2918.3万元。

表1 免费午餐基金收入明细表

分 类	2011 年度		2012 年度	
	金额 (万元)	占总收入比重 (%)	金额 (万元)	占总收入比重 (%)
1. 捐赠收入	1824.9	99.53	2473.1	97.22
其中：银行捐赠汇款收入	1196.5	65.25	1402.0	55.12
在线捐款收入	254.6	13.89	353.4	13.89
网上商城捐款收入	373.8	20.39	573.2	22.53
物质捐赠收入	-	-	144.5	5.68
2. 其他收入	8.6	0.47	70.8	2.78
收入合计	1833.5	100	2543.9	100

表2 免费午餐基金支出明细表

分 类	2011 年度		2012 年度	
	金额 (万元)	占总收入比重 (%)	金额 (万元)	占总收入比重 (%)
1. 业务活动成本	321.0	92.56	999.5	89.86
其中：捐赠支出	311.0	89.68	945.1	84.97
现金捐赠支出	311.0	89.68	801.0	72.01
物质捐赠支出	-	-	144.1	12.96
其他	10.0	2.88	54.4	4.89
2. 筹资费用	8.5	2.45	48.0	4.32
3. 管理费用	17.3	4.99	64.8	5.83
支出合计	346.8	100	1112.3	100

91. 2012年度免费午餐基金接受的在线捐款比上年约增长了（ ）。
- A. 28.9%                      B. 35.5%                      C. 38.8%                      D. 53.3%
92. 2012年度免费午餐基金接受的捐赠收入中，银行捐赠汇款所占比重约是（ ）。
- A. 55.1%                      B. 56.7%                      C. 58.9%                      D. 60.3%
93. 2012年度筹资费用约是2011年度的多少倍？（ ）
- A. 5.6                          B. 4.2                          C. 2.9                          D. 1.7
94. 2011~2012年，捐赠支出占免费午餐基金支出的比重约是（ ）。
- A. 84.9%                      B. 86.1%                      C. 89.6%                      D. 90.5%
95. 以下说法正确的是（ ）。
- A. 在线捐款收入是免费午餐基金接受捐赠的主要方式 B.  
 物质捐赠支出是免费午餐基金捐赠支出的主要方式  
 C. 自启动以来免费午餐在2011年的月均捐赠收入不到200万元  
 D. 2012年度免费午餐基金的支出总额是2011年度的3倍以上

2013年，全国商品房销售面积130551万平方米，比上年增长17.3%，增速比1~11月份回落3.5个百分点，比2012年提高15.5个百分点。其中，住宅销售面积增长17.5%，办公楼销售面积增长27.9%，商业营业用房销售面积增长9.1%。商品房销售额81428亿元，增长26.3%，增速比1~11月份回落4.4个百分点，比2012年提高16.3个百分点。其中，住宅销售额增长26.6%，办公楼销售额增长35.1%，商业营业用房销售额增长18.3%。

2013年末，全国商品房待售面积49295万平方米，比11月末增加2489万平方米，比2012年末增加12835万平方米。其中，住宅待售面积比11月末增加1696万平方米，办公楼待售面积增加156万平方米，商业营业用房待售面积增加346万平方米。

2013年东中西部地区房地产销售情况

地 区	商品房销售面积		商品房销售额	
	绝对数（万平方米）	比上年增长（%）	绝对数（亿元）	比上年增长（%）
全国总计	130551	17.3	81428	26.3
东部地区	63476	19.3	49327	28.4
中部地区	35192	16.8	16525	26.9
西部地区	31883	14.1	15576	19.6

96. 2011年全国商品房销售面积约为多少亿平方米？（ ）

- A. 8.4                                      B. 9.2                                      C. 9.8                                      D. 10.9

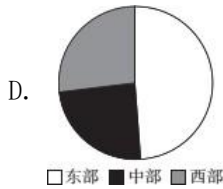
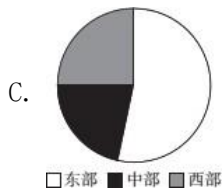
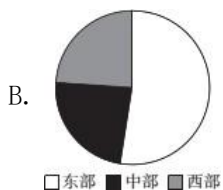
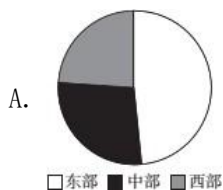
97. 2013年全国商品房单位面积的平均销售价格约比上年增长了多少（ ）。

- A. 4.4%                                      B. 7.7%                                      C. 11.1%                                      D. 15.5%

98. 与同年11月末相比，2013年12月末全国住宅、办公楼和商业营业用房待售面积的增量之和约占商品房总待售面积增量的（ ）。

- A. 79%                                      B. 88%                                      C. 94%                                      D. 100%

99. 以下哪张统计图准确地表示了2013年东部、中部和西部地区商品房销售面积占当年全国总销售面积的比重？（ ）



100. 关于2013年房地产市场，能够从上述资料中推出的是（ ）。

- A. 12月当月全国商品房销售额同比增速超过30% B. 中部地区商品房销售单价超过5000元/平方 C. 东部地区商品房销售额占全国比重低于上年 D. 平均每个月新增1000多万平方米待售商品房

