

江山模拟卷(五)

一、 言语理解与表达

1. 在“互联网+”时代，通过教育信息化建设，可以突破_____障碍，逐步缩小区域、城乡数字差距，扩大优质教育资源覆盖面，把优秀的教育资源送到农村去，让更多的孩子送到最需要的地方去，让更多的孩子同在蓝天下共享优质教育。

填入划横线部分最恰当的一项是（ ）。

- A. 认知 B. 空间 C. 文化 D. 思维

2. 诗歌是地方的，又是民族的，更是世界的。每一个诗人都有自己的故乡，只有深深扎根于地方的生命血脉，不断_____本民族文化和语言的营养，才能创造出来自于个人又超越个人的伟大诗篇。诗歌在推动不同区域、不同民族的文化交流和对话中发挥的重要作用_____。

依次填入划横线处最恰当的一项是（ ）。

- A. 摄入 有口皆碑 B. 汲取 有目共睹
C. 渗入 人所共知 D. 发掘 众所周知

3. 法治意味着对合法权利的保护，对公平正义的_____，对可预期未来的_____。它不是一个宏大抽象的概念，而确实实实关乎每个人的_____。

填入划横线部分最恰当的一项是（ ）。

- A. 坚持 保卫 福音 B. 坚信 守望 福利
C. 坚守 庇佑 福祉 D. 坚称 维护 福分

4. 凡是用破折号连接的，都是正文_____的一部分，去掉这部分内容会影响正文的_____性。

依次填入划横线部分最恰当的一项是（ ）。

- A. 不可分割 完整 B. 不可分离 完全
C. 不可或缺 完美 D. 不可缺少 完善

5. 杰克逊从一个美国黑人蓝领家庭中具有歌唱天赋的儿童，成长为_____的超级巨星。在上世纪80、90年代，他在世界流行乐坛的地位_____。

- A. 家喻户晓 高高在上 B. 享誉全球 无人能及
C. 世界知名 鹤立鸡群 D. 闻名中外 独当一面

6. 阿伦特指出，歧视是一项不可分割的政治权利，实际且正当的目标不是完全_____歧视，而是控制在社会领域。如今的时代与阿伦特发布的这些论述的时代已经_____，种族歧视已绝对成为“政治不正确”。

依次填入划横线部分最恰当的一项是（ ）。

- A. 消灭 天差地别
B. 解除 泾渭分明
C. 消除 截然不同
D. 破除 相去甚远

7. 地球村内，防疫无国界，需要吸取教训、分享经验、共同御敌。抗击疫情，这是“我们”的战争，在_____的全球网络中，置身事外的“我”无法取胜，只有身处命运共同体的“我们”，才能有效_____不断发起“军备竞赛”的病菌株。

依次填入划横线部分最恰当的一项是（ ）。

- A. 变幻莫测 抵抗
B. 唇齿相依 对抗
C. 瞬息万变 抵挡
D. 休戚相关 对付

8. 从根本上讲，一部电视剧是因为故事、人物与情境让观众在大呼过瘾的同时有所感悟，才能_____人气甚至_____为社会文化现象，而并非依赖IP热钱或是演员颜值的_____。

依次填入划横线部分最恰当的一项是（ ）。

- A. 提升 演变 比试
B. 聚拢 发酵 比拼
C. 增加 延伸 较量
D. 积累 发展 拼争

9. 东北人口流失由一系列复杂的原因造成，有很多是全国性问题，也有一些是东北独有的，无需过度渲染，也不可_____。具体考察外流人口，大部分主要从事保洁、保安等简单劳动，这是近年来东北经济发展不振的一个结果，而不是一个原因。人口由经济欠发达地区向发达地区集中的普遍现象，本质上体现的则是地区间资源配置失衡。_____，趋利避害是人的本性，没有什么能够阻止人_____。

依次填入划横线部分最恰当的一项是（ ）。

- A. 视而不见 但是 远走高飞
B. 粗心大意 然而 择木而栖
C. 漠然置之 而且 北雁南飞
D. 掉以轻心 毕竟 用脚投票

10. 真正的批评，总是建立在对等的基础之上的。只有修养与_____对等的人的批评，才值得_____和理会。至于无边无际的谩骂，除了_____之外，没有任何意义。

依次填入划横线部分最恰当的一项是（ ）。

- A. 才华 关心 气急败坏
B. 学识 关注 自我贬低
C. 才情 注目 贻笑大方
D. 知识 注视 自娱自乐

11. 将下列句子组成一段逻辑严谨、语言流畅的文字，排列顺序最合理的是（ ）。

- ①亚投行的成立，受益最大的是这些能够从亚投行获得建设资金的发展中国家和地区
②对于亚洲发展中国家来说，每年区域内国家都有巨大的基础设施投资需求，也同样存在巨大的基础设施投资资金缺口
③但与此同时，发达国家也会从中受益，因为基础设施项目建好了，能够进一步带动经济发展，推动国际贸易，发达国家也会从国际贸易扩张中获益
④亚投行的发起，不管对发展中国家还是对发达国家来说，都是一个共赢的选择

A. ①②④③

B. ③②①④

C. ②③④①

D. ④②①③

12. 互联网改变了世界，互联网也成就了马云。以成功上市开启一个时代的马云，谈起了梦想，享受着告白理想的特权。站在成功者的立场，他说：“今天非常残酷，明天会更加残酷，后天会非常美好，但是绝大多数人都死在了明天晚上。”但审视这个阶层固化的时代，真正的残酷，并不是梦想的煎熬，而是理想不孕不育的苦恼。

对加横线的句子解释最恰当的一项是（ ）。

- A. 不是为成功而奋斗时的艰难，而是不再梦想着成功
B. 不是不想做马云第二，而是马云的成功难以复制
C. 不是死在明天晚上，而是没有死在明天晚上的机会
D. 不是奋斗中的半途而废，而是被固化在社会底层

13. ①随着核磁共振等技术的不断进步，科学家们基本达成了共识，那就是记忆储存在大脑的海马区

②科学家们发现，记忆储存于神经细胞的链接方式之中

③这个改变是由一系列基因负责实现的

④要想研究记忆，首先必须弄清记忆究竟储存在什么地方

⑤接下来的问题是，记忆是如何被储存的呢？这个问题也已经有了答案

⑥大脑通过改变神经细胞的连接方式和连接强度，将某个外来刺激永久的固定于大脑之中 将

以上6个句子重新排列，语序正确的是（ ）。

A. ①⑥②④⑤③

B. ①④②⑤③⑥

C. ④①⑤②⑥③

D. ④③①⑤⑥②

14. 下列各句中，有语病的一句是（ ）。

A. 中方呼吁乌克兰有关各方通过对话和谈判寻求政治途径解决分歧，维护地区和平稳定 B.

怎样才能使改变风气的一时成效转为常态化、长效化，似乎是一个永恒的课题

C. 凯恩斯说，市场的非理性比理性的寿命还长

D. 红嘴鸥被授予“春城”昆明的“荣誉市民”，每年秋冬季节都会来到昆明越冬，与昆明市民人鸥同乐，其乐融融

15. 精准科学选人用人，要以坚持考实评准为基本前提。知人不深、察人不准，对干部的了解仅停留在感性上、印象上，往往会出现用人不当、用人失误。操千曲而后晓声，观千剑而后识器。精准科学识别一名干部的德才高低、能力强弱、作风好坏，必须经过长期的观察与了解。但在实际操作中，有的仅通过定期有限的考察就想掌握班子，仅依靠数次谈话就想吃透干部，这是不切实际的。要坚持把功夫下在平时，建立经常性分析研判制度，主动深入班子、走近干部，通过民主生活会、谈心谈话、实地调研等方式，全方位、多角度、立体式考察干部。

根据这段文字，下列对精准科学识别干部理解错误的是（ ）。

A. 是用好人的基本前提

B. 其关键是看干部的平时表现

C. 需要多维度、长时间的考察评价

D. 必须包括才德、作风等多方面内容

16. 沙尘暴是一种风与沙相互作用的灾害性天气现象，它的形成与地球温室效应、厄尔尼诺现象、森林锐减、植被破坏、物种灭绝、气候异常等因素有着不可分割的关系。其中，人口膨胀导致的过度开

发自然资源、过量砍伐森林、过度开垦土地是沙尘暴频发的主要原因。沙尘暴作为一种高强度风沙灾害，并不是所有有风的地方都能发生，只有那些气候干旱、植被稀疏的地区，才有可能发生沙尘暴。裸露的土地表层浮土很容易被大风卷起形成沙尘暴甚至强沙尘暴。沙尘暴对人畜和建筑的危害绝不亚于台风和龙卷风。近年来，我国西北乃至东北地区都有沙尘暴的出现，尤以西北地区最为厉害，目前已遭沙尘暴肆虐逾20次。

下列几种说法，与原文意思不一致的一项是（ ）。

- A. 沙尘暴的形成与多种自然和人为因素密不可分
- B. 人类的过度砍伐树木是沙尘暴发生的主要原因之一
- C. 沙尘暴是高强度风沙灾害，对人畜和建筑的危害已高于台风和龙卷风
- D. 近年来，西北地区多次遭遇沙尘暴，饱受荼毒

17. 当今时代，随着娱乐业的发展和电子产品的出现，多样化的娱乐生活和碎片化的手机浏览侵占了人的大部分空闲时间，“静下心来阅读一本书”则被排到时间表的最末端。阅读与碎片化信息浏览的区别无须赘述，阅读让人沉静、沉淀。而阅读正是浮躁时代所稀缺的品质，也是一个理性民族所需要的品质。

这段文字意在强调（ ）。

- A. 碎片化信息阅读是浮躁时代的产物
- B. 阅读和碎片化浏览有根本区别
- C. 当今时代需要推动国民阅读
- D. “静下心来阅读一本书”在当今时代已非常难得

18. 电影、电视会强有力地抑制读者对文本的自由想象。与电影相比，小说更像是漫画，一方面漫画能教人怎样用寥寥数笔定义人物和物体；另一方面漫画场景之间的方格，代表着漫画家省略了的内容，同时又让我们注意到创作者构思取景的能力，而在阅读小说时，这些场景（方格）会由读者自行串联起来，合成了一整篇说得通的故事。

这段文字意在说明（ ）。

- A. 小说与漫画有很多相似之处
- B. 小说多注重故事情节的完整性
- C. 小说为读者留下自由想象的空间
- D. 漫画比电影和小说的表现力更强

19. 20世纪30年代，一个英国学者曾根据自己的研究结果预测，世界范围内将发生严重的铜资源短缺。现在的情况是，美国地质调查局在地质勘探后推算，地球地表的铜资源储量至少可达30亿吨，可供人类使用18.5万年。随着人类勘探技术的提高，这个数字在未来还有可能继续攀升。

这段文字最适合的标题是（ ）。

- A. 不断改正错误科技才能进步
- B. 地球铜资源远未枯竭
- C. 铜资源短缺问题已经得到解决
- D. 权威学者也会犯大错误

20. 徽州文化具有自然与人文、物质文化遗产与非物质文化遗产相融合的整体性特征，独特而集中。村落依山而建，讲究水系与自然的和谐，目连戏和村落、宗族信仰、文化活动紧密联系，徽剧演出的戏台就是村落建筑的组成部分；文房四宝与古建筑中的“文气”融为一体；罗盘制作源于徽州人对堪舆风水的重视；医学与宗族以及山区的药材资源有密切关联；楹联匾额不仅突出了徽州文化的品位，也体现山区丰富的竹木资源……凡此种种，无不是其文化生态的整体性的体现。

这段文字意在说明（ ）。

- A. 徽州文化的突出特征
- C. 徽州文化的传承关系

- B. 徽州文化的组成部分
- D. 徽州文化的存在基础

21. 是否构成抄袭，要结合主观动机和客观结果两方面来判断：主观上是有意还是无意，有没有欺诈的成分；客观上自己是否从中获利，是否对原作者造成伤害。当人们依这一标准再度审视古往今来那 些有着抄袭倾向的“借鉴”时，怎样的行为应该受到舆论谴责，渐渐明朗。比如文学创作领域，早在17 世纪，莎士比亚就曾经身陷“抄袭门”，其作品中的很多句子均与前人作品雷同。绝大多数的人默许了 莎翁的“抄袭”，甚至坚定不移地将其奉为文坛巨匠，这是因为在他所处的时代，这样的借鉴有利于传 播知识、惠及大众，而对原作者不构成实质性的伤害或者伤害几乎可以忽略不计。

下列陈述符合作者观点的是（ ）。

- A. 句子雷同是判定是否为抄袭的重要标准
- B. 为传播知识的“借鉴”会得到读者赞同
- C. 时代局限使得抄袭行为不能被明确界定
- D. 在特定时代，对原作者造成实质侵害的抄袭才会被谴责

22. 随着科技的发展、物质的丰富，如今的娱乐形式越来越缤纷多样，如电视剧、流行音乐、网络等。它们在给人快乐、满足人的欲望方面，更加快捷方便，也有着更大的刺激性和吸引力，比诗歌有着 强得多的优势。人天生是寻求快乐的动物，既然有更好的娱乐方式，可以使人迅速消除烦恼，得到快感 和精神享受，那么何必还要阅读诗歌？只有一些俗世高人，他们在空暇之日或夜阑人静时，或许会悄悄 打开诗集，去聆听诗人梦幻般的自言自语，分享诗人心灵的孤独。

这段文字意在说明（ ）。

- A. 快捷多元的娱乐方式导致了诗歌的衰落
- B. 如今只有少数俗世高人能够理解诗人心灵的孤独
- C. 诗歌应与时俱进，积极寻求走出困境的方式
- D. 诗歌不再是能给人带来快感和精神享受的文学样式

23. 总体来说，银行获得的存款量决定了银行的贷款能力。但是，在许多时候银行的贷款数量会超 出它所获得的存款数量，这是一个众所周知的事实。如果这种贷款的数量超出过多，就会造成通货膨 胀。

这段文字意在说明（ ）。

- A. 银行的贷款数量超出它所获得的存款数量是一个众所周知的事实
- B. 银行向外的贷款数量超过了存款数量会造成通货膨胀
- C. 应该采取一种有效的策略用以控制通货膨胀
- D. 银行的贷款量与银行获得的存款量成正比

24. 现代的火锅，最初是随北方游牧民族传入中原，并催生不同的形制。北京的涮肉火锅，羊肉细 薄如纸，吃的是嫩。云南的菌子火锅，菌菇清甜鲜美，吃的是香。潮汕的牛肉火锅，牛肉丸筋道多汁， 吃的是韧。火锅，最集中地体现了中国人对于团圆的向往。但是，谁都比不上重庆人对火锅的挚爱。山 城里，遍布2万多家火锅餐厅，每30个重庆人就有1个从事与火锅相关的职业。花椒和辣椒的香艳相逢， 不仅是味蕾和神经之间电光火石般的碰撞，也是亚洲和美洲之间的越洋聚首。

下列说法与原文意思不符的是（ ）。

- A. 火锅形制因地域不同而存在差异
- B. 火锅产生于北方游牧民族
- C. 人们爱吃火锅最主要的原因是对团圆的向往
- D. 人类的迁徙推动食物的发展融合

25. 科学上有两种时间计量系统：基于地球自转的天文测量而得出的“世界时”和以原子振荡周期确定的“原子时”。“世界时”由于地球自转的不稳定会带来时间的差异，“原子时”则是相对恒定不变的。这两种时间尺度速率上的差异，一般来说一至两年会差大约1秒时间。

从这段话中可知（ ）。

- A. 世界时精度比原子时差
- B. 世界时不能用于科学计量
- C. 目前使用的是原子时
- D. 原子时已取代世界时

二、数量关系

26. 11, 22, 13, 26, 15, 30, 17, ()

- A. 32
- B. 34
- C. 36
- D. 38

27. 30, 16, 22, 18, 19, ()

- A. 16
- B. 16.5
- C. 17
- D. 17.5

28. 5, 5, 15, 75, ()

- A. 125
- B. 350
- C. 455
- D. 525

29. 768, 199, 827, 69, 904, ()

- A. 92
- B. 77
- C. 53
- D. 39

30. 0.1, 3.1, 10.1, 25.1, ()

- A. 46.1
- B. 50.1
- C. 54.1
- D. 56.1

31. 2.1, 5.2, 8.4, 11.8, 14.16, ()

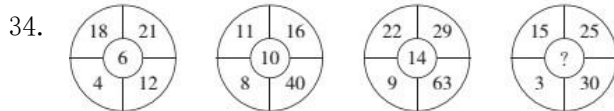
- A. 19.52
- B. 19.24
- C. 17.82
- D. 17.32

32. 3 5 10 18 29 ()

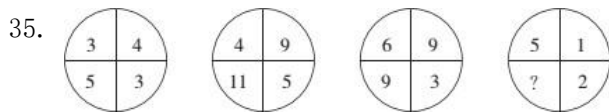
- A. 43
- B. 47
- C. 58
- D. 65

33. 2 1 2 6 14 ()

- A. 27
- B. 28
- C. 29
- D. 30



- A. 16
- B. 18
- C. 20
- D. 22



- A. 8
- B. 9
- C. 10
- D. 11

36. 某新建小区计划在小区主干道两侧种植银杏树和梧桐树绿化环境，一侧每隔3棵银杏树种1棵梧桐树，另一侧每隔4棵梧桐树种1棵银杏树，最终两侧各种植了35棵树。问最多栽种了多少棵银杏

树? ()

A. 33 B. 34 C. 36 D. 37

37. 某检修工作由李和王二人负责, 两人如一同工作4天, 剩下工作量李需要6天, 或王需要3天完成。现李和王共同工作了5天, 则剩下的工作李单独检修还需几天完成? ()

A. 2 B. 3 C. 4 D. 5

38. 某年的3月有5个星期一和4个星期二, 则该年的国庆节是 ()。

A. 星期二 B. 星期三 C. 星期四 D. 星期五

39. 从1、2、3、4、5中随机抽取3个数, 问这3个数之和至少能被其中一个数整除的概率是多少? ()

A. 10% B. 30% C. 60% D. 90%

40. 某剧场A、B两间影视厅分别坐有观众43人和37人, 如果把B厅的人往A厅调动, 当A厅满座后, B厅内剩下的人数占B厅容量的 $\frac{1}{5}$, 如果将A厅的人往B厅调动, 当B厅满座后, A厅内剩下的人数占A厅容量的 $\frac{1}{3}$ 。问B厅能容纳多少人? ()

A. 56 B. 54 C. 64 D. 60

41. 某单位组织参加理论学习的党员和入党积极分子进行分组讨论, 如果每组分配7名党员和3名入党积极分子, 则还剩下4名党员未安排; 如果每组分配5名党员和2名入党积极分子, 则还剩下2名党员未安排。问参加理论学习的党员比入党积极分子多多少人? ()

A. 16 B. 20 C. 24 D. 28

42. 在正方形草坪的正中有一个长方形池塘, 池塘的周长是草坪的一半, 面积是除池塘之外草坪面积的 $\frac{1}{3}$, 则池塘的长和宽之比为 ()。

A. 1:1
B. 2:1
C. 4:1
D. $\sqrt{2}:(2-\sqrt{2})$

43. 小周记住了自己身份证号码的前14位, 但他肯定, 后面4位数字全是奇数, 最后一个数字是1, 且后4个数字中相邻数字不相同, 那么小周的身份证号码有 () 种可能。

A. 24 B. 27 C. 48 D. 64

44. 小张、小王二人同时从甲地出发, 驾车匀速在甲、乙两地之间往返行驶。小张的车速比小王快, 两人出发后第一次和第二次相遇都在同一地点, 那么小张的车速是小王的 () 倍。

A. 1.5 B. 2 C. 2.5 D. 3

45. 七夕节, 某市举办大型公益相亲会, 共42人参加。其中女生20名, 每人至少相亲一次, 共相亲61次, 则至少有一名女生至少相亲多少次? ()

A. 6 B. 4 C. 5 D. 3

46. 某单位购买了10台新电脑, 计划分配给甲、乙、丙3个部门使用。已知每个部门都需要新电脑, 且每个部门最多得到5台, 那么电脑分配方法共有 () 种。

A. 9 B. 12 C. 18 D. 27

47. 某新能源汽车企业计划在A、B、C、D四个城市建设72个充电站，其中在B市建设的充电站数量占总数的三分之一，在C市建设的充电站数量比A市多6个，在D市建设的充电站数量少于其他任一城市。问至少要在C市建设多少个充电站？（ ）

- A. 22 B. 21 C. 20 D. 18

48. 小王购买甲、乙两种特价商品。甲商品打八折后每件52元，乙商品打八五折后每件34元，小王购买这些商品总共比打折前节省了83元。问他购买这两种特价商品总共支出了多少元？（ ）

- A. 544 B. 445 C. 427 D. 362

49. 甲和乙两家工厂各开一条产量为250件/天的生产线，完成相同数量的某种产品生产任务。完成部分生产任务后，供货商向乙工厂追加了相当于两家工厂当前已完成任务总量的订单。此时乙工厂增开一条产量为200件/天的生产线，生产10整天后与甲工厂同时完成任务。问供货商是在开始生产多少天后追加的订单？（ ）

- A. 2 B. 4 C. 6 D. 8

50. 某单位举行象棋比赛，计分规则为：赢者得2分，负者得0分，平局各得1分，每位选手与其他选手各下一局。已知男选手数是女选手的10倍，而得分是女选手的4.5倍，则参加比赛的男选手数是（ ）。

- A. 40人 B. 30人 C. 20人 D. 10人

三、判断推理

51. 谎言：欺骗

- A. 谣言：抱怨 B. 谗言：无知 C. 佯言：委婉 D. 诤言：劝诫

52. 河流：水

- A. 沙漠：泥 B. 森林：树木 C. 草原：动物 D. 山脉：冰雪

53. 实干兴邦：空谈误国

- A. 任人唯亲：任人唯贤 B. 趋炎附势：铁骨铮铮
C. 破旧立新：墨守成规 D. 滴水不漏：破绽百出

54. 道路：车辆：行人

- A. 脑袋：头发：眼睛 B. 月亮：嫦娥：后羿 C. 眼镜：鼻子：耳朵 D. 手提包：钱包：手机

55. ◎◎~!!&~※&※

- A. &&~◎~◎!※!※ B. ~~&&※!!◎※◎
C. ※※~&&!~◎!◎ D. !!◎※※◎~&~&

56. 弓弩：射箭

- A. 杠铃：举重 B. 步枪：击剑 C. 跨栏：跳远 D. 泳池：跳水

57. 聘请 之于 （ ） 相当于 推动 之于 （ ）

- A. 工作 现象 B. 雇佣 促进 C. 程序 积极 D. 请求 扩大

58. 软件：程序员：编写

- A. 木头：木匠：打制 B. 渔网：渔民：编织 C. 车票：乘客：购买 D. 麦克风：歌手：唱歌

59. 如果用户手机里安装了企业的手机客户端，那么就可以大大提高用户浏览手机时看到企业标识和名称的机会，进而达到宣传企业形象和品牌的目的是，提高企业的知名度。

上述结论的假设前提是（ ）。

- A. 手机用户数量增长势头强劲
- B. 手机客户端是项成熟的技术
- C. 手机用户有浏览手机的习惯
- D. 手机管制的时效强、成本低

60. 甲、乙、丙、丁、戊5支足球队进行小组单循环赛。比赛规定，每队胜一场得3分，平一场得1分，负一场得0分；积分前两名出线。比赛结束后发现，没有积分相同的球队，乙队只胜了3场，丙队、丁队均只胜了两场。

根据以上陈述，可以得出以下哪项？（ ）

- A. 甲队一定出线
- B. 丙队一定出线
- C. 丁队一定没出线
- D. 戊队一定没出线

61. 在一项关于商业广告的研究中，研究人员将被试人员分为两组，均为他们提供相同的零食。其中一组被试人员先观看10分钟的热门喜剧短片，然后再观看5分钟关于食品的商业广告；另外一组被试人员则充当参照小组，他们一直观看15分钟的热门喜剧短片。研究发现，观看食品商业广告的被试人员消耗的零食量显著高于另外一组被试人员。研究认为，食品商业广告能有效提升人们对零食的消耗。下面如果哪项为真，最能削弱以上研究的推论？（ ）

- A. 当被试人员观看与食品无关的广告时，零食消耗量与观看食品广告时无显著差别
- B. 当研究人员将播放的热门喜剧短片改为悲剧短片时，观看食品广告的小组被试人员的零食消耗量仍然高于参照小组
- C. 食品广告的播放时间越长，该小组的零食消耗量就越大
- D. 当研究人员将播放的热门喜剧短片改为悲剧短片时，两个小组的零食消耗量都下降了

62. 某企业家说：“初创的互联网公司只有建立用户思维，才能发展壮大为一家成功的互联网公司。”

如果该企业家所述为真，则以下不可能出现的情况是（ ）。

- A. 某家初创互联网公司没有用户思维，没有成为成功的互联网公司
- B. 某家初创互联网公司没有用户思维，成为一家成功的互联网公司
- C. 某家初创互联网公司没有用户思维，没有成为成功的互联网公司
- D. 某家初创互联网公司没有用户思维，成为一家成功的互联网公司

63. 对于权力，有人这样主张：有实权干大事，有虚权干实事，没权了干好事。以下哪项最不可能从上述主张中推出？（ ）

- A. 没有权，不干好事
- B. 没有虚权，不干实事
- C. 有权了，干好事
- D. 没有实权，不干大事

64. 某单位员工除了基本工资之外，其收入很大一部分来源于绩效工资。在今年4月份，该单位第一项目组所有员工的绩效工资高于第二组员工的最高绩效工资，但是该单位本月绩效工资最高的员工并不在第一项目组。

由此可以推出（ ）。

- A. 该单位领导的绩效工资最高

B. 该单位其他项目组有些员工的绩效工资没有第一、第二项目组平均的高 C.

该单位有些员工既不属于第一项目组也不属于第二项目组

D. 第二项目组的平均绩效工资低于单位的平均绩效工资

65. 研究人员设计了这样一个实验。他们从实验鼠体内收集了神经细胞并且将它们植入到家鼠大脑内。实验鼠的寿命大约只有18个月，而家鼠的寿命是它们的两倍。研究人员发现，当家鼠死亡的时候，从实验鼠植入的神经细胞依然存活。

以下哪项可以作为上述实验的结论？（ ）

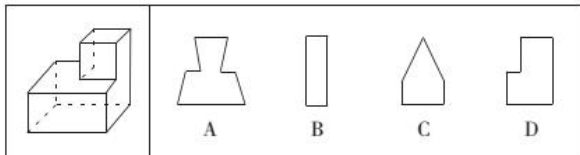
A. 实验鼠的神经细胞比它们所属的生物体的寿命更长 B.

家鼠的神经细胞寿命长于实验鼠的神经细胞寿命C.

实验鼠的神经细胞寿命长于家鼠的神经细胞寿命D.

神经细胞可以通过移植而得到无限期的存活

66. 一正方体如下图所示切掉了上半部分。现从任意面剖开，下面哪一项不可能是该多面体的截面？（ ）



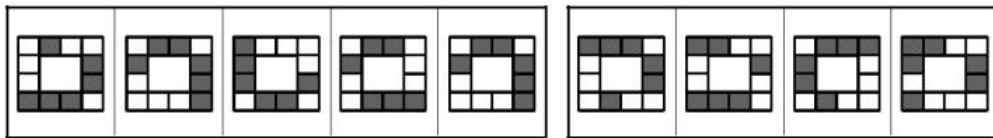
A. A

B. B

C. C

D. D

67.



A B C D

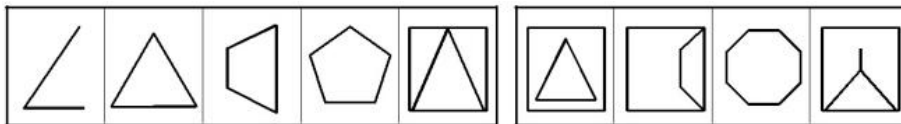
A. A

B. B

C. C

D. D

68.



A B C D

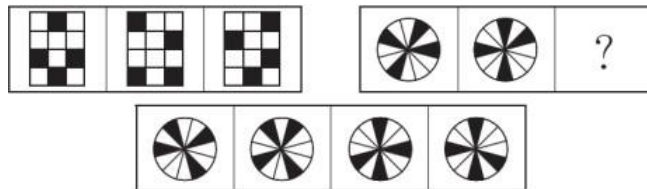
A. A

B. B

C. C

D. D

69. 从所给的四个选项中，选择最合适的一个填入问号处，使之呈现一定的规律性。



A B C D

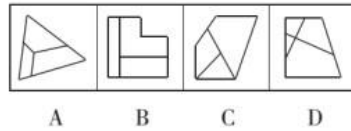

A. A

B. B

C. C

D. D

70. 从所给的四个选项中选择最合适的一个填入问号处，使之呈现一定的规律性。



A. A

B. B

C. C

D. D

四、常识判断

71. 参会代表在主席台前合影后，某专家要求拍一张单身照，摄影师应采取的方法是（ ）。

A. 使照相机靠近他，同时镜头往后缩，离胶片近一些 B.

使照相机靠近他，同时镜头向前伸，离胶片远一些 C.

使照相机远离他，同时镜头往后缩，离胶片近一些 D.

使照相机远离他，同时镜头向前伸，离胶片远一些

72. 某公司非法占用公路堆放建筑材料，交通主管部门对其作出了行政处罚。在处罚前，交通主管部门向该公司告知了作出处罚决定的事实、理由及依据，并告之依法享有的权利。这一做法体现的行政法基本原则是（ ）。

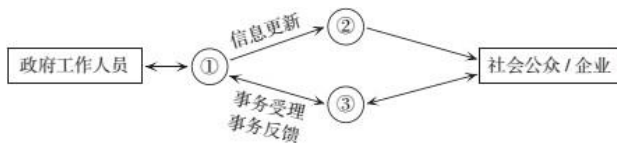
A. 合法行政原则

B. 合理行政原则

C. 高效便民原则

D. 程序正当原则

73. 通常情况下，电子政务信息分为政务信息查询、公共政务办公、政府办公自动化3个领域，其业务流程如下图所示。下列选项依次填入图①②③空缺处正确的是（ ）。



A. 政务信息发布系统、政务业务办理系统、办公自动化系统 B.

办公自动化系统、政务信息发布系统、政务业务办理系统 C.

政务业务办理系统、办公自动化系统、政务信息发布系统 D.

政务业务办理系统、政务信息发布系统、办公自动化系统

74. 五禽戏是依据中医基础理论创编的一种传统养生健身拳法。下列关于五禽戏的说法错误的是（ ）。

A. 五禽戏的创编者是华佗

B. 五禽戏对后世医学的发展有重要的影响C.

五禽戏模仿的是虎、鹿、熊、猿、鸟的动作 D. 五禽戏已经获批国家级物质文化遗产项目

75. 图中人物的服饰，与下列哪部作品中描写的人物最为接近？（ ）



- A. 关汉卿的《窦娥冤》
B. 白居易的《长恨歌》
C. 吴敬梓的《儒林外史》
D. 汉乐府《孔雀东南飞》

76. 全国两会开幕前，人大代表、政协委员们为了提交议案、提案，会对社会经济发展问题进行深入的调查研究。这体现的哲理是（ ）。

- A. 主观与客观具体的历史的统一
B. 具体问题具体分析
C. 科学理论对实践具有指导作用
D. 意识是人脑对客观事物的正确反映

77. 生物质能就是太阳能以化学能形式贮存在生物质中的能量形式，即以生物质为载体的能量。它直接或间接地来源于绿色植物的光合作用，可转化为常规的固态、液态和气态燃料。下列关于生物质能，说法正确的是（ ）。

- A. 生物质能是一种可再生能源
B. 沼气不属于生物质能转化来的燃料
C. 生物质的直接燃烧是生物质能利用的主要方式之一
D. 生物甲醇是由生物质制成的液体燃料

78. 关于诺贝尔文学奖，下列说法不正确的是（ ）。

- A. 中国、印度都有人获奖
B. 《雪国》是获奖作家川端康成的作品
C. 《百年孤独》是获奖作品
D. 列夫·托尔斯泰是获奖作家

79. 下列做法中符合用电安全的是（ ）。

- A. 为使用方便，应将销售到农村地区的空调三脚插头改为两脚插头
B. 发生触电事故后，应先切断电源再救治
C. 为安全起见，保险丝应尽可能粗
D. 当电器发生起火事故时，应迅速泼水灭火

80. 转变政府职能是深化行政体制改革的核心，而政府职能转变的核心则在于处理好（ ）的关系。

- A. 政府与市场
B. 政府与人民
C. 计划与市场
D. 政府与企业

81. 朋友见面打招呼，过去是“吃饭了吗”，如今流行“搬新家了吗”“旅游了吗”“进修了吗”。这种现象可以反映出（ ）。

- A. 恩格尔系数时小时大
B. 恩格尔系数变小
C. 恩格尔系数不变
D. 恩格尔系数变大

82. 下列关于生活常识的表述错误的是（ ）。

- A. 水在真空中会先沸腾后结冰
B. 颜色深的汽车隔热膜，隔热效果好
C. 纯水（只有水分子）在0℃时不会结冰
D. 天凉时，湿润的地方比干旱的地方使人觉得更冷

83. 关于中国陶瓷业的发展，下面说法不正确的是（ ）。

- A. 明代最早烧出了青花瓷
B. “唐三彩”以青、绿、黄三色为主
C. 汝、官、哥、钧、定是宋代五大名窑
D. 仰韶文化中出现了绘有彩绘花纹的陶器

84. 关于亚洲政坛女性首脑，下列说法错误的是（ ）。

- A. 科拉松·阿基诺夫人是亚洲首位女总统
B. 阿罗约曾任菲律宾总统之职
C. 朴槿惠的父亲曾任韩国总统
D. 英拉·西那瓦是马来西亚总理

85. 下列说法不正确的是（ ）。

- A. 宇宙中的星球除了恒星外都不会发光
B. 太阳黑子会对地球磁场产生干扰

C. 太阳系中距离太阳最远的行星是冥王星

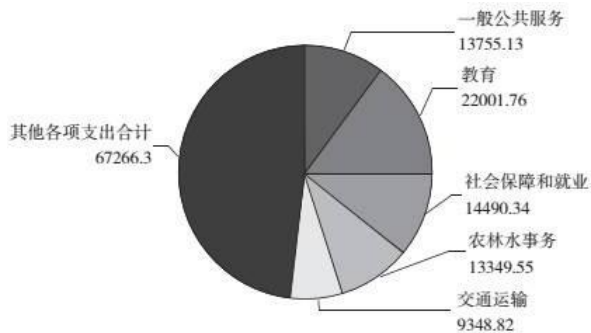
D. 春分时，太阳光直射在赤道附近

五、资料分析

2009~2013年公共财政收支情况(单位:亿元)

年份	公共财政收入		公共财政支出	
	中央	地方	中央	地方
2009	35915.71	32602.59	15255.79	61044.14
2010	42488.47	40613.04	15989.73	73884.43
2011	51327.32	52547.11	16514.11	92733.68
2012	56175.23	61078.29	18764.63	107188.34
2013	60198.48	69011.16	20471.76	119740.34

2013年公共财政支出情况(单位:亿元)



86. 2013年公共财政收入增速约为()。

- A. 7% B. 10% C. 13% D. 15%

87. 2010年中央财政收入增长额与2011年中央财政收入增长额的比率约为()。

- A. 1.4 B. 0.7 C. 1.1 D. 2

88. 若2014年地方公共财政收入增速不低于2013年,则2014年地方公共财政收入不低于()。

- A. 9.6万亿元 B. 8.5万亿元 C. 10.4万亿元 D. 7.7万亿元

89. 下列年份中,地方公共财政赤字较少的是()。

- A. 2010年 B. 2011年 C. 2012年 D. 2013年

90. 关于2013年公共财政支出额的情况,下列说法正确的是()。

- A. 农林水事务占公共财政支出比最小
 B. 教育支出占公共财政支出比约为18%
 C. 交通运输支出不到公共财政支出的十分之一
 D. 社会保障和就业支出不到公共财政支出的十分之一

免费午餐基金自2011年4月正式启动,截止2012年底,总收入为4377.4万元,总支出为1459.1万元,结

表1 免费午餐基金收入明细表

分类	2011年度		2012年度	
	金额(万元)	占总收入比重(%)	金额(万元)	占总收入比重(%)
1. 捐赠收入	1824.9	99.53	2473.1	97.22
其中: 银行捐赠汇款收入	1196.5	65.25	1402.0	55.12
在线捐款收入	254.6	13.89	353.4	13.89
网上商城捐款收入	373.8	20.39	573.2	22.53
物质捐赠收入	-	-	144.5	5.68
2. 其他收入	8.6	0.47	70.8	2.78
收入合计	1833.5	100	2543.9	100

余2918.3万元。

表2 免费午餐基金支出明细表

分 类	2011 年度		2012 年度	
	金额 (万元)	占总收入比重 (%)	金额 (万元)	占总收入比重 (%)
1. 业务活动成本	321.0	92.56	999.5	89.86
其中: 捐赠支出	311.0	89.68	945.1	84.97
现金捐赠支出	311.0	89.68	801.0	72.01
物质捐赠支出	-	-	144.1	12.96
其他	10.0	2.88	54.4	4.89
2. 筹资费用	8.5	2.45	48.0	4.32
3. 管理费用	17.3	4.99	64.8	5.83
支出合计	346.8	100	1112.3	100

91. 2012年度免费午餐基金接受的在线捐款比上年约增长了()。
- A. 28.9% B. 35.5% C. 38.8% D. 53.3%
92. 2012年度免费午餐基金接受的捐赠收入中, 银行捐赠汇款所占比重约是()。
- A. 55.1% B. 56.7% C. 58.9% D. 60.3%
93. 2012年度筹资费用约是2011年度的多少倍?()
- A. 5.6 B. 4.2 C. 2.9 D. 1.7
94. 2011~2012年, 捐赠支出占免费午餐基金支出的比重约是()。
- A. 84.9% B. 86.1% C. 89.6% D. 90.5%
95. 以下说法正确的是()。
- A. 在线捐款收入是免费午餐基金接受捐赠的主要方式 B. 物质捐赠支出是免费午餐基金捐赠支出的主要方式
- C. 自启动以来免费午餐在2011年的月均捐赠收入不到200万元
- D. 2012年度免费午餐基金的支出总额是2011年度的3倍以上

2015年7月, D市共监测电视、广播、平面和重点网络媒体首页页面广告297207条次, 涉嫌违法广告594 条次, 广告涉嫌违法率0.20%, 比6月下降0.07个百分点。

表1 2015年7月D市监测各类媒体广告情况(单位: 条次)

媒体类型	检测量	涉嫌违法量	涉嫌违法率
电 视	157860	88	0.06%
广 播	63299	10	?
平 面	62134	496	0.08%
网 络	13914	0	0.00%
合 计	297204	594	0.20%

表2 2015年7月D市广告涉嫌违法量居前十位的商品、服务类别(单位:条次)

商品服务类型	监测量	涉嫌违法量	涉嫌违法率
医疗诊疗服务	1692	185	10.93%
人用药品	6941	107	1.54%
医疗美容	428	63	14.72%
医疗器械	1969	59	3.01%
其他食品类	2002	40	2.00%
保健食品	7959	35	0.44%
房地产	2257	35	1.55%
保健用品	52	19	36.54%
报刊书籍	2077	16	0.77%
卫生消毒用品	39	8	20.51%

96. 2015年7月, 平均每日监测到平面媒体涉嫌违法广告约多少条次? ()
- A. 16 B. 17 C. 19 D. 20
97. 表1中“?”处应当填写的数字是()。
- A. 0.005% B. 0.02% C. 0.04% D. 0.08%
98. 在2015年7月广告涉嫌违法量居前十位的商品、服务类别中, 有几类涉嫌违法率高于10%? ()
- A. 1 B. 2 C. 3 D. 4
99. 2015年7月广告涉嫌违法量居前十位的商品、服务类别中, 监测量最多的3个类别涉嫌违法量之和约占所有广告总涉嫌违法量的()。
- A. 一成左右 B. 二成左右 C. 三成左右 D. 四成左右
100. 能够从上述资料中推出的是()。
- A. 5年6月, 广告涉嫌违法率为0.13%
- B. 5年7月, 电视广告监测量占广告总监测量的四成多
- C. 5年7月, 大部分涉嫌违法的医疗诊疗服务广告出现在非电视媒体中
- D. 5年7月, 表二中监测量最低的商品、服务类别广告涉嫌违法率约为监测量最高的14倍