

江山模拟卷（四）

一、言语理解与表达

1. 许多人善意地对某人建言，内容值得一提，但时机不对，反而造成当事人的_____与羞愤。有的人讲话内容_____，时机也对，但对象不够成熟，讲得再多也_____。对不同的对象，要能讲出适合他听的话。

依次填入划横线部分最恰当的一项是（ ）。

- A. 尴尬 精辟 徒劳无益
B. 不齿 丰富 白费口舌
C. 误解 透彻 无济于事
D. 苦恼 鲜明 枉费心机

2. 中央政令下达后，除了加大督查力度，更需要强化政策信息_____，通过各种渠道让政策为民众所熟知，利用舆论和公众的监督，提高政策执行的_____。

依次填入划横线部分最恰当的一项是（ ）。

- A. 公布 水平
B. 发布 速度
C. 宣传 力度
D. 公开 效率

3. 200年前，徽班进京、花雅之争，更为通俗的京剧最终战胜昆曲，_____了整个梨园。但京剧如今却处境尴尬。近年来，对昆曲打捞热度不减，国粹京剧反倒像一个_____的贵族。

依次填入划横线部分最恰当的一项是（ ）。

- A. 占据 失意
B. 垄断 落寞
C. 统治 失宠
D. 霸占 没落

4. 成人礼应该托起什么样的青春？无论什么样的成人礼，都应该是对青春活力的一种确认和激发。仪式_____很重要，经由严肃的仪式，往昔的青涩少年将走向人生的新岸；不过，也不能刻意强调仪式、神化仪式，_____走形变味，甚至成为枷锁和禁锢。毕竟，青春是无法固化的。

依次填入划横线部分最恰当的一项是（ ）。

- A. 虽然 导致
B. 当然 乃至
C. 固然 以致
D. 诚然 以至

5. 要因地制宜、_____，不搞“一刀切”、不追求一步到位，允许采取差异性、过渡性的制度和政策安排。

填入划横线部分最恰当的一项是（ ）。

- A. 量体裁衣
B. 因时制宜
C. 循序渐进
D. 对症下药

6. “一带一路”_____是产品、企业、投资走出去，服务、标准_____应走出去，_____

要“走出去”——关键是产能、服务要走出去，走进“一带一路”沿线六十五个国家。依

次填入下列横线处的词语，最恰当的一组是（ ）。

- A. 既然 还 更加 B. 不仅 也 而且
C. 如果 但 并且 D. 即使 都 甚至

7. 民主化、信息化、全球化浪潮叠加，思想观念的裂变塑造了一个时代生机蓬勃的心灵图景，也提示我们，多元时代更需要凝聚共识。当观点_____，看法不尽相同时，共识是社会交流的基础。但多元并非意味着正确的价值不复存在，包容也不意味着可以_____公理。正因此我们对现在的认识可以各持己见，但对公平正义的追求却应_____。

依次填入划横线部分最恰当的一项是（ ）。

- A. 众说纷纭 轻视 不谋而合
B. 莫衷一是 漠视 殊途同归
C. 无所适从 藐视 不约而同
D. 五花八门 无视 异曲同工

8. 中国经学，假使我们慎重点说，上追到西汉初年为止，也已经有二千一百多年的历史。这二千多年中，经部书籍，因为传统的因袭的思想关系，只就量说，也可以配得说“_____”。不说别的，我们只要一看纳兰性德汇刊的《通志堂经解》，阮元、王先谦汇刊的《正续清经解》，也几乎使你目眩；至若列举朱彝尊《经义考》的书目，那真所谓“_____”了。

依次填入划横线部分最恰当的一项是（ ）。

- A. 汗牛充栋 更仆难数 B. 罄竹难书 博大精深
C. 不能枚举 洋洋大观 D. 数不胜数 望洋兴叹

9. 金融市场是一个信息的市场，金融市场的信息不对称是_____金融机构道德风险行为的主要原因，而金融自由化和金融创新_____了市场的信息不对称，也激发了金融机构更多也更为_____的道德风险行为。

依次填入划横线部分最恰当的一项是（ ）。

- A. 引发 加剧 隐蔽 B. 诱发 凸显 严重
C. 构成 加快 频繁 D. 导致 强化 直接

10. 依次填入下列横线处的词语，最恰当的一组是（ ）。

英雄、英雄主义、英雄文化是互为依托、_____的，没有英雄就谈不上英雄主义，谈不上英雄文化，而英雄文化又会源源不断地_____、_____英雄与英雄主义。

- A. 相濡以沫 产生 滋养 B. 相依相伴 孕育 生长
C. 相伴相生 孕育 滋养 D. 生死相随 出现 滋长

11. 新兴产业发展有可能催生世界经济新增长点。虽然目前在多个技术领域有望突破，如新一代信息技术、生物医药技术、新能源、新材料等，但从技术突破到产业化存在一定的实践过程。“十三五”时期，相对比较成熟的是第三次信息化浪潮将继续深入，_____。未来5~8年即我国“十三五”时期，世界总体上将处于第三次信息化浪潮的产业扩散效应之中，有可能带动世界经济最终走出低迷，并进入复苏上升期。我国在物联网、云计算等领域拥有一定的技术准备和市场优势，可以

说，这是我国一个重要的发展机遇。

填入划横线部分最恰当的一项是（ ）。

- A. 信息化仍然是未来世界经济发展的趋势 B. 全球信息化技术会得到前所未有的发展
C. 将推动新兴优势产业和新经济增长点的形成 D. 将有助于产业结构化的合理调整和优化整合

12. “孩子们带我们看帆船落日、出海、沙滩散步、跳伞，很开心。”这是一位高中数学老师在鸡年春节发布的一则朋友圈，也是无数中国家庭春节团圆相聚的新缩影。春节期间的数据显示，团聚主题没有变，但团聚的方式却有了新变化，许多家庭“要么在景区，要么在去景区的路上”。旅游_____。

填入划横线处最恰当的一句是（ ）。

- A. 为春节团聚提供了新形式 B. 正成为春节消费的新热点
C. 是观察当代中国的新窗口 D. 为子女尽孝提供了新样板

13. 下列各项中，没有语病的一项是（ ）

- A. 班长关心我们，不让我们再加班了，我们再三恳求，终于答应了 B.
有没有好的学习方法，是提高学习成绩的一个不可少的因素
C. 在战争年代，人们对一身灰布制服，一件本色的粗毛线衣，或者自己打的衣服手套，编的一双草鞋，都很有感情
D. 蒲松龄的《聊斋志异》，行世300多年来，各种版本难于计数，至今仍拥有广大读者群

14. ①为了储存足够的水分，多肉植物的根、茎、叶部进化成富有大量浆液的组织

②多肉植物来自高山、沙漠等气候干燥的环境

③不用太多浇水和打理，它们就能存活

④以帮助它们在干旱恶劣的气候环境中得以生存

⑤因此，它们非常适合室内种植

⑥它们有特别的代谢方式，它们会在夜间吸收CO₂，产生苹果酸，白天放出CO₂，进行光合作用 将

以上6个句子重新排列，语序正确的是（ ）。

- A. ②①④③⑥⑤ B. ②③①④⑥⑤ C. ①④⑥②③⑤ D. ①⑥②③⑤④

15. 过去几十年中，视觉革命伴随着新的媒体形态和消费方式而到来。上世纪初，人们只能通过报纸、杂志等平面媒体了解信息。此后，显示管技术的成熟让电视机走到台前，极大地改变了人们的生活方式，1969年7月11日，数以千万的美国人守在电视机旁，收看阿姆斯特朗迈上月球的第一步。而现在，手机这种更便捷的智能终端，再次改变了人们的工作和生活，新型的直播方式，使突破时间和地域障碍的沟通成为可能。

这段文字主要介绍了（ ）。

- A. 新的媒体形态和消费方式产生的过程 B. 视觉革命对生活和工作方式的改变
C. 媒体领域出现的技术突破 D. 媒体形态和消费方式的关系

16. 有“明清古建筑博物馆”之称的三坊七巷街区，有人将其比喻为鱼骨与鱼刺，有人则形容为菩提树叶，或直呼为“非”字形。笔者觉得，它倒更像一片优美的棕榈树枝叶，南后街似叶片的主脉，向西伸出的三条支脉为三坊，向东伸出的七条细脉是七巷。由北向南的三坊依次为衣锦坊、光禄坊、文儒

坊，七巷的顺序依次为杨桥巷、郎官巷、塔巷、黄巷、安民巷、官巷和吉庇巷。对这段文字的内容概括最恰当的一项是（ ）。

- A. 三坊七巷的历史 B. 三坊七巷的走向 C. 三坊七巷的建筑 D. 三坊七巷的格局

17. 作为一个信息大平台、文化大熔炉，互联网对亿万网民的求知途径、思维方式、价值观念产生着重要影响。互联网的传播优势和舆论功能，为推动信息交流、促进文化繁荣、凝聚社会共识提供了全新的渠道和手段。然而网络不是世外桃源，离开法治和道德，网络谣言、网络诈骗、网络陷阱等就会大行其道，广大网民特别是青少年就可能深受其害。全国7亿多人上网，肯定需要建设和管理，我们要加强网络内容建设，做强网上正面宣传，培育积极健康、向上向善的网络文化。

对这段文字概括最恰当的一项是（ ）。

- A. 网络是把双刃剑，需要加强管理 B. 网络犯罪猖獗，需加强法治约束
C. 网络既促进交流也带来网络犯罪 D. 网络使用需加强引导，扬长避短

18. 由于在科普和科学传播方面的贡献，中国科学院国家天文台郑永春博士前段时间获得了美国天文学会行星科学分会颁发的卡尔·萨根奖，令人高兴。但面对这一新闻，不少科学界朋友都谈到：中国科学家的科普工作做得究竟如何？观察和思考告诉我们，中国科普工作其实不是做得多，而是太少；不是做得好，而是很不够；不是强于，而是输于世界同行，至少比发达国家差很多。

作者接下来最有可能讲述的是（ ）。

- A. 中国科普比发达国家少的原因 B. 中国科普的现实
C. 科普的重要性 D. 改善中国科学家不热衷科普的途径

19. 舒马赫、施耐德、施密特、穆勒、施泰因曼……这些流行的德国姓氏有什么共同点？在德语里，它们都代表一门手艺：制鞋匠、裁缝、铁匠、磨坊主、石匠等。从中世纪开始，老师傅带几个学徒做手艺，就成为德国人的职业常态。时移势易，工业化取代了小作坊，但“手艺人”的基本精神没有变。今天，德国经济结构中30%为制造业，如果算上出口，工业制造几乎占据德国经济的半壁江山。

这段文字意在说明（ ）。

- A. 德国制造业的文化遗产 B. 制造业在德国经济结构中的重要地位
C. 德国姓氏都源于制造业 D. 德国人“严谨”“认真”的职业精神

20. 2010年调查研究显示，参与研究的老年人中，拥有适度社交的人比孤独的人活到研究结束时的几率高50%。另一份研究，追踪了两千余名中老年英国公民，显示那些报告孤独感最高的人在六年的研究期间死亡的概率是那些孤独感最低的人的几乎两倍。

这段文字主要说明的是（ ）。

- A. 老年人孤独致死比例高 B. 适当的社交可延长寿命
C. 孤独感较强的人往往不会长寿 D. 孤独感对人的寿命有消极影响

21. 一个寒冷的冬天，纽约一条繁华的大街上，有一个双目失明的乞丐。那乞丐的脖子上挂一块牌子，上面写着：“自幼失明”。有一天，一个诗人走近他身旁，他便向诗人乞讨。诗人说：“我也很穷，不过我给你点别的吧。”说完，他便随手在乞丐的牌子上写了一句话，那一天，乞丐得到很多人的同情和施舍。后来，他又碰到那诗人，很奇怪地问：“你给我写了什么呢？”那诗人笑笑，念那牌子上他所写的句子道：“春天就要来了，可我不能见到它。”

最适合这段文字标题的是（ ）。

- A. 幸运的乞丐 B. 温暖的冬天 C. 春天的收获 D. 诗歌的妙用

22. 协同共享是一种新的经济模式，甚至有学者预言其会在21世纪下半叶取代资本主义，成为人类社会主导的经济形态之一。届时，生产率将大幅提高，发达的物联网将使边际成本趋近于零。数十亿人既是生产者也是消费者，在互联网上共享能源、信息和实物，所有权被使用权代替，“交换价值”也将被“共享价值”取代，这个结论看似耸人听闻，理论上却符合社会发展的趋势。“共享经济”在金融和经济危机中被接受和广泛传播，最初的功能是给身陷困顿的人们提供了赚钱和省钱的方法。它继而飞得更高，被赋予了更多的意义。

下列说法与原文相符的是（ ）。

- A. 经济危机促使了共享经济的产生 B. 共享经济是物联网迅猛发展的基础
C. 共享经济可以避免边际成本的产生 D. 共享经济促使生产者和消费者角色统一

23. 全球变暖是老天爷对人类开出的罚单，便宜且容易利用的矿石燃料，是推动近现代经济增长的重要源泉之一，但科学证明这可能带来灾难性的气候变化。目前不得不面对的现实是，人类必须为自己的排放埋单。如果世界上只有一个国家，此事就相对简单，不管成本多大，最终都由这个国家承担。但问题是，世界上有许多国家，国情历史大不相同，这张巨额罚单究竟在各国间如何分配，就成了关于全球变暖问题谈判最核心的问题。所有的国家，他们作出的所有的减排承诺，最后都会有一张价格标签，承诺越多，价码越高。

这段文字意在说明（ ）。

- A. 减排成本份额应按各国的排放量合理分配 B. 沉重的减排成本有可能拖累全球经济增长
C. 遏制全球变暖需要支付巨额经济成本 D. 利益是应对全球变暖问题的最大症结

24. 从山水画史的观点来看，北宋、南宋皇帝虽然都姓赵，但是画风迥异，通常都被分作两部分来讲；明代是朱元璋的天下，清代姓爱新觉罗，统治者既非一家一姓，时间跨度亦有540余年之久，却常被合在一起讲述。这是因为政治史和美术史并不一定要平行，换言之，明清两代绘画史的主要潮流几乎全在元代画风的影响之下，临摹风盛，创意式微，不像两宋绘画有着显著不同的特色。

下列说法与原文相符的是（ ）。

- A. 宋代帝王很少直接干预绘画创作 B. 元代绘画继承了两宋绘画的特色
C. 明清两朝的绘画风格具有相似性 D. 绘画研究中应特别注重时代背景

25. 决定健康的因素是多样的，经济学家常使用健康生产函数来表示健康状况与投入要素(包括健康禀赋、医疗保健、生活方式、社会经济状况、环境等)之间的关系。其中，健康禀赋差异是先天的、不可避免的。从宏观上分析区域之间的健康差异要从收入、教育和医疗保健利用等方面的差异着眼。

这段文字意在强调（ ）。

- A. 人口健康禀赋差异是不可改变的 B. 分析人口健康应着眼非先天因素
C. 区域间存在不同的健康生产函数 D. 投入要素决定了区域间健康差异

二、数量关系

26. 4, 2, 2, 0, (), -2, 4

A. -2 C. 1 D. 2

27. 2.1, 2.2, 4.1, 4.4, ()

A. 32.4 B. C. 32.16 D. 16.16

28. 0.5 3 8 18 38 ()

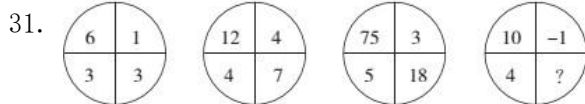
A. 75 C. 82 D. 85

29. 2.1, 3.4, (), 8.16, 13.25

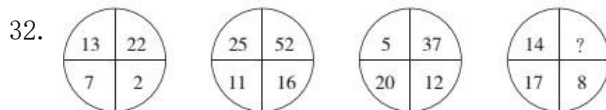
A. 4.3 B. 7.8 C. 5.9 D. 5.1

30. 12 18 30 42 66 ()

A. 78 B. 108 C. 138 D. 152




A. $\frac{1}{2}$
B. $\frac{3}{2}$
C. $\frac{5}{2}$
D. $\frac{7}{2}$



A. 28 B. 31 C. 39 D. 41

33. 按此规律，第7行的数字和为 ()。



A. 155 B. 165 C. 175 D. 185

34. 12 18 30 42 66 ()

A. 78 B. 108 C. 138 D. 152

35. 1, 5, 20, 60, 120, ()

A. 0 B. 120 C. 210 D. 240

36. 同时打开游泳池的A、B两个进水管，加满水需1小时30分钟，且A管比B管多进水180立方米，若单独打开A管，加满水需2小时40分钟，则B管每分钟进水多少立方米？ ()

A. 6 B. 7 C. 8 D. 9

37. 某次军事演习中，一架无人机停在空中对三个地面目标进行侦察。已知三个目标点在地面上的连线为直角三角形，两个点之间的最远距离为600米。问无人机与三个点同时保持500米距离时，其飞行高度为多少米？ ()

A. 300 B. 400 C. 500 D. 600

38. 杂货店打烊后，收银机中有1元、10元和100元的纸币共60张，问这些纸币的总面值可能为多少元？（ ）

- A. 2100 B. 2400 C. 2700 D. 3000

39. 在长581米的道路两侧植树，假设该路段仅两端有路口，要求在道路路口15米范围内最多植1棵树，并且相邻了两棵树间的距离为4米，问最多能植多少棵树？（ ）

- A. 137 B. 139 C. 278 D. 280

40. 某单位实行无纸化办公，本月比上个月少买了5包A4纸和6包B5纸，共节省了197元。已知每包A4纸的价格比B5纸的贵2元，并且本月用于购买A4纸和B5纸的费用相同（大于0元），那么该单位本月用于购买纸张的费用至少多少元？（ ）

- A. 646 B. 520 C. 323 D. 197

41. 2014年某种中药材的价格是17.3元/公斤，2015年药农老黄的该种药材预计产量比上年增加25%，总收入预计能比上年增加50%，老黄决定将药材存放到2016年再销售。如2016年该种中药材的价格涨幅与2015年相同，那么预计老黄销售这批药材的收入能比2014年销售该种药材的收入增加（ ）。

- A. 60% B. 80% C. 100% D. 120%

42. 植树节到来之际，120人参加义务植树活动，共分成人数不等且每组不少于10人的六个小组，每人只能参加一个小组，则参加人数第二多的组最多有（ ）人。

- A. 32
B. 33
C. 34
D. 35
E. 36
F. 37
G. 38
H. 39

43. 张村村长和李村村支书到对方村中调研。两人以相同的速度同时相向出发，相遇后，张村村长的速度提高了 $\frac{1}{3}$ ，又用2.5小时到达李村，李村村支书的的速度减少了 $\frac{1}{6}$ ，则再用几个小时可到达张村？（ ）

- A. 3 B. 4.5 C. 4 D. 3.5

44. 某高校学生处要在大一新生中组织篮球比赛，赛制为单循环形式，即每两个队之间都赛一场。如果学生处计划安排21场比赛，则应邀请多少支球队参加比赛？（ ）

- A. 5 B. 8 C. 7 D. 6

45. 某批发市场有大、小两种规格的盒装鸡蛋，每个大盒里装有23个鸡蛋，每个小盒里装有16个鸡蛋。餐厅采购员小王去该市场买了500个鸡蛋，则大盒装一共比小盒装（ ）。

- A. 多2盒 B. 少1盒 C. 少46个鸡蛋 D. 多52个鸡蛋

46. $\triangle ABC$ 为等边三角形，若D、E、F为三角形三个边的中点，用A、B、C、D、E、F六个点中的任意三个作顶点，可有多少种面积不等的三角形？（ ）

A. 3

B. 4

C. 5

D. 6

47. 有一个水池，池底不断有泉水涌出，且每小时涌出的水量相同。现要把水池里的水抽干，若用5 台抽水机40小时可以抽完，若用10台抽水机15小时可以抽完。现在用14台抽水机，多少小时可以把水抽完？

()

A. 10小时

B. 9小时

C. 8小时

D. 7小时

48. 从装有4个红球、4个白球的袋中任取4个球，则所取的4个球中包括两种不同颜色的球的概率是

()。

A. $\frac{33}{35}$

B. $\frac{34}{35}$

C. $\frac{69}{70}$

D. $\frac{7}{8}$

49. 某高校举办一次读书会，共有37位同学报名参加，其中中文、历史、哲学专业各有10位同学报名参加此次读书会，另外还有4位化学专业学生和3位物理专业学生也报名参加此次读书会，那么一次至少选出 () 位学生，将能保证选出的学生中至少有5位学生是同一专业的。

A. 17

B. 20

C. 19

D. 39

50. 一个公比为2的等比数列，第n项与前n-1项和的差等于5，则此数列前4项之和为 ()。

A. 70

B. 85

C. 80

D. 75

三、判断推理

51. 沟通：手机：金属

A. 招聘：面试：简介 B. 物流：运输：公路 C. 卫星：科技：科学家 D. 露营：帐篷：帆布

52. 兔：青草

A. 蚕：桑叶

B. 狗：老鼠

C. 鱼：河水

D. 虫：小鸡

53. 火药：烟花

A. 汽油：汽车

B. 金属：指南针

C. 无线电：手机

D. 玻璃：放大镜

54. 拍卖会：拍卖师：艺术品

A. 果园：农民：水果

B. 奥运会：运动员：跑道

C. 商场：售货员：商品

D. 山峰：登山者：帐篷

55. 树根 对于 () 相当于 () 对于 楼房

A. 树叶 房梁

B. 大树 地基

C. 树干 屋顶

D. 大树 大楼

56. 健身：器械：形体

A. 阅兵：坦克：广场 B. 教育：书本：知识 C. 勘探：矿产：石油 D. 导航：汽车：卫星

57. 报警：救援

A. 毕业：就业

B. 违章：罚款

C. 手术：住院

D. 消费：生产

58. 堵车 对于 () 相当于 () 对于 寒流

A. 迟到 降温

B. 交通 对流

C. 车流 寒潮

D. 红灯 冬季

59. 互联网旅游金融服务是指旅游业依托互联网工具，实现资金融通、支付和信息中介等业务的一种新兴金融服务。未来，互联网旅游金融服务也更具有优势。

以下哪项如果为真，最能支持上述观点？（ ）

A. 随着收入的增加，人们越来越热衷于旅游

B. 目前已经使用旅游金融产品的用户只占到8.6%

C. 中国在线旅游用户中36~45岁选择旅游金融服务的比例较高

D. 旅游金融服务具有覆盖用户面更广、服务更便捷高效的优点

60. 某项研究中，研究者追踪了该国19万名在1974年至1994年期间出生的人的医疗数据，他们在2006年至2012年期间做过智力测试。在做智力测试时，大约有35%的调查对象正因感染而住院。研究人员发现，那些因感染而住院者的智商分数平均比一般人低1.76分。而那些因感染住了5次及以上医院的人，智商分数平均比一般人低9.44分。研究人员指出，人体感染会造成个体智商下降。

以下哪项如果为真，最能削弱以上结论？（ ）

A. 大脑周围组织感染会影响大脑的智力水平

B. 有证据表明，感染会影响痴呆病人的认知能力

C. 智商是对心智能力的评价方式，存在着测量误差

D. 患病使得患者情绪紧张，测试时注意力不集中

61. 某公司招聘业务经理，小张和小李前来应聘。小张说：“如果我做了业务经理，我会积极进取，开拓新业务。”小李说：“如果我做了经理，我会优化管理，精减人员。”最终，他们其中一人当上了业务经理，并顺利实现了自己的工作主张。

由此可知，以下说法必定为真的是（ ）。

A. 该公司不仅开拓了新业务，还精减了人员

B. 如果该公司开拓了新业务，那么肯定是小张当上了业务经理

C. 如果该公司精减了人员，那么肯定是小李当上了业务经理

D. 如果该公司没有开拓新业务，就肯定精减了人员

62. 很多家长认为，孩子不听话，“打屁屁”惩罚一下，至少能让孩子注意到自己的行为不当，变得更听话一些。还有一些人坚持“不严加管教会惯坏孩子”的传统信息，认为“打屁屁”是为孩子好。研究者对16万名儿童在过去5年里的经历进行研究，通过收集“打屁屁”行为的元数据加以分析，发现：打屁股会在儿童成长过程中造成智商低、攻击性行为高等多种负面影响。

以下哪项如果为真，最能支持上述结论？（ ）

A. 最新调查表示，智商相对较低的孩子大多数经常被家长打屁股

B. 本身不听话且更容易惹祸的孩子更有可能受到父母的严厉惩罚

C. 研究报告称全球大约80%的父母都有以打屁股管教孩子的经历

D. 被打屁股而困惑的孩子只懂得按家长要求去做而不会独立思考

63. 根据经济学家最新的研究显示，年收入在10000美元以下时，随着家庭收入的增加，家庭成员的

幸福感会明显增强。但是，一旦年收入达到10000美元以上，即使经济持续繁荣，家庭收入持续增加，家庭成员幸福感的增强却很缓慢。

根据上述观点，可以推出（ ）。

- A. 年收入不足10000美元的家庭可能会更加幸福
- B. 研究显示，幸福感和金钱之间并没有直接关系
- C. 调查表明，幸福感随家庭年收入的增加而增加
- D. 收入10000美元以上的家庭将面临幸福感危机

64. 科学就是不断接近真理的过程，我们深信不疑的事情中很大部分是会过期的，所有理解这一点的人，都明白在发展过程中不断更新知识才是科学进步的正道，然而这个过程有时会令人困惑和不安。如果以下各项为真，最能质疑上述论断的是（ ）。

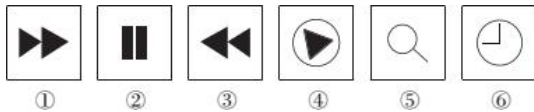
- A. 婴儿该仰睡还是趴着睡，孕妇抽烟喝酒是否安全，答案一代和一代不同
- B. 医学院的老师会告诉学生，五年内他们所学的知识里有一半都不会适用
- C. 我一直以为“雷龙”这个名字正确无误，但后来才发现根本没有雷龙
- D. 吸烟有害健康被大量科学研究和事实所证实，这一结论至今难以改变

65. 某中学甲班学生中，所有喜欢奥数的同学也都喜欢下围棋。

若以上陈述为真，再加上以下哪项，则可以合乎逻辑地推出有些喜欢看话剧的同学不喜欢奥数？（ ）

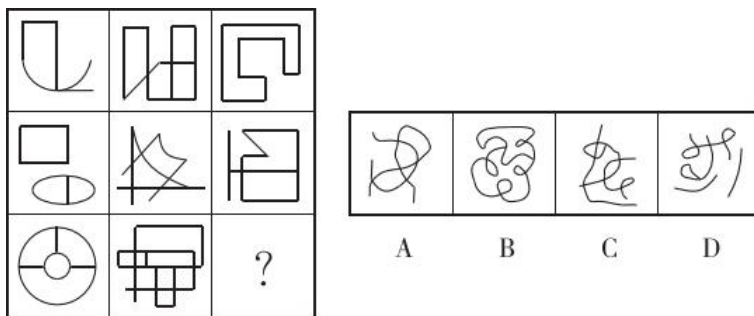
- A. 有些喜欢看话剧的同学也喜欢下围棋
- B. 有些喜欢奥数的同学不喜欢看话剧
- C. 有些不喜欢下围棋的同学喜欢看话剧
- D. 有些不喜欢看话剧的同学喜欢下围棋

66. 把下面的六个图形分为两类，使每一类图形都有各自的共同特征和规律，分类正确的一项是（ ）。



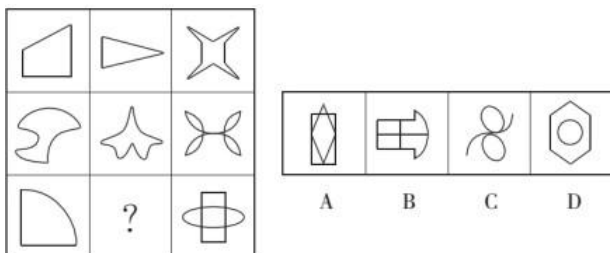
- A. ①②⑥，③④⑤
- B. ①③④，②⑤⑥
- C. ①⑤⑥，②③④
- D. ①③⑤，②④⑥

67. 从所给的四个选项中，选择最合适的一个填入问号处，使之呈现一定的规律性。



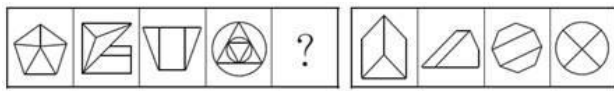
- A. A
- B. B
- C. C
- D. D

68. 从所给的四个选项中，选择最合适的一个填入问号处，使之呈现一定的规律性。



- A. A
- B. B
- C. C
- D. D

69. 从所给的四个选项中，选择最合适的一个填入问号处，使之呈现一定的规律性。



A B C D

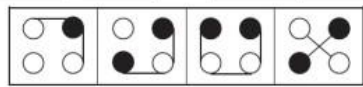
A. A

B. B

C. C

D. D

70.



A

B

C

D

A. A

B. B

C. C

D. D

四、常识判断

71. 名联“风声雨声读书声声声入耳，家事国事天下事事事关心”的作者是（ ）。

A. 朱熹

B. 顾炎武

C. 黄宗羲

D. 顾宪成

72. 与其他投资基金相比，下列哪项不是货币型基金的特点？（ ）

A. 高流动性

B. 风险性较高

C. 收益率较低

D. 投资费用低

73. 蔡元培先生曾经撰联挽某人曰：“为地方兴教育诸业，继起有人，岂惟孝子慈孙，尤属望南通后进；以文学名光宣两期，日记若在，用裨征文考献，当不让常熟遗篇。”该挽联所悼念之人的主要历史贡献是（ ）。

A. 领导革命，倡导民主共和

B. 热心洋务，主张中体西用

C. 兴办实业，投身实业救国

D. 思想解放，宣传民主科学

74. 日前，习近平主席在亚太经合组织工商领导人峰会上表示，新常态将给中国带来新的发展机遇。下列关于我国经济发展“新常态”的主要特点描述正确的一项是（ ）。

A. 从高速增长转为低速增

B. 从投资驱动转向要素驱动

C. 经济结构不断优化升级

D. 面临的挑战趋于常态化

75. 北京的山由两大山脉组成，分别位于北京的西部和北部。这两大山脉是（ ）。

A. 灵山山脉

B. 太行山脉

C. 军都山脉

D. 燕山山脉

76. 2014年4月24日，十二届全国人大常委会第八次会议表决通过了修订后的《中华人民共和国环境保护法》。该法增加了“对拒不改正的排污企业实施按日计罚”“对严重的违法行为采取行政拘留”以及“政府的主要负责人在面对政府的违法行为造成严重后果时要引咎辞职”等内容，被称为“史上最严”的环保法。这是国家运用（ ）。

A. 经济手段和法律手段规范环境保护工作的开展

B. 宏观调控手段保障环境保护工作健康发展

C. 财政政策和货币政策保证环境保护工作快速发展

D. 经济手段和行政手段对环境保护进行调控

77. 下列生物及其生殖方式对应不正确的是（ ）。

A. 酵母菌——出芽生殖

B. 变形虫——分裂生殖

C. 蘑菇——孢子生殖

D. 大肠杆菌——营养生殖

78. 要把权力关进制度的笼子，这就需要（ ）。

A. 政府行使立法权

B. 人民直接行使国家权力

C. 完善权力监督体系

D. 社会实现绝对公平

79. 在日常生活中，佩戴饰品有一定的学问和讲究，下列不符合饰品佩戴礼仪的是（ ）。

- A. 同时佩戴多种饰品，一般不应超过3种
- B. 佩戴饰品应与性别、年龄、职业等匹配
- C. 戒指戴在中指上，一般表示已婚
- D. 佩戴两种以上饰品，一般要求同质

80. 下列对于作用力的分析正确的是（ ）。

- A. 推出的铅球在空中受到重力和推力的作用
- B. 桨对水的推力是木船前进的动力
- C. 丢入池塘的石子没入水中后，在不同深度所受浮力不同
- D. 匀速行驶的汽车对放在车上的货物没有静摩擦力作用

81. 吉林雾凇形成的条件是（ ）。

- A. 松花江江心常年不封冻，容易形成大量水蒸气
- B. 松花湖作为人工湖泊处于十分独特的地理位置
- C. 丰满水电站放出的暖水与冷空气间的相互作用
- D. 松花江吉林市段河道变窄，水流湍急形成大雾

82. “但愿苍生俱温饱，不辞辛苦出山林”“些小吾曹州县吏，一枝一叶总关情”“但得众生皆得饱，不辞羸病卧残阳”，这些名言体现了古人的为官之道，中国共产党的群众观点中与之相近的是（ ）。

- A. 一切为了人民群众
- B. 向人民群众学习
- C. 一切依靠人民群众
- D. 向人民群众负责

83. 某省人大通过的地方性法规与国家发改委出台的部门规章对同一事项规定不一致时（ ）。

- A. 应该直接适用发改委的部门规章
- B. 应该直接适用该省人大通过的地方性法规
- C. 国务院认为应当适用地方性法规的，应当决定在该地方适用地方性法规
- D. 国务院认为应当适用部门规章的，由国务院作出最终裁决

84. 下列关于地理常识的表述中，不正确的是（ ）。

- A. 北回归线和南回归线都穿过非洲
- B. 南极洲是地球上平均海拔最高的大洲
- C. 昆仑山脉和秦岭山脉大致走向均为东西方向
- D. 长江是仅次于密西西比河和亚马逊河的世界第三长河

85. 关于中国陶瓷业的发展，下面说法不正确的是（ ）。

- A. 明代最早烧出了青花瓷
- B. “唐三彩”以青、绿、黄三色为主
- C. 汝、官、哥、钧、定是宋代五大名窑
- D. 仰韶文化中出现了绘有彩绘花纹的陶器

五、资料分析

免费午餐基金自2011年4月正式启动，截止2012年底，总收入为4377.4万元，总支出为1459.1万元，结

表1 免费午餐基金收入明细表

分 类	2011 年度		2012 年度	
	金额 (万元)	占总收入比重 (%)	金额 (万元)	占总收入比重 (%)
1. 捐赠收入	1824.9	99.53	2473.1	97.22
其中：银行捐赠汇款收入	1196.5	65.25	1402.0	55.12
在线捐款收入	254.6	13.89	353.4	13.89
网上商城捐款收入	373.8	20.39	573.2	22.53
物质捐赠收入	-	-	144.5	5.68
2. 其他收入	8.6	0.47	70.8	2.78
收入合计	1833.5	100	2543.9	100

余2918.3万元。

表2 免费午餐支出明细表

分 类	2011 年度		2012 年度	
	金额 (万元)	占总收入比重 (%)	金额 (万元)	占总收入比重 (%)
1. 业务活动成本	321.0	92.56	999.5	89.86
其中：捐赠支出	311.0	89.68	945.1	84.97
现金捐赠支出	311.0	89.68	801.0	72.01
物质捐赠支出	-	-	144.1	12.96
其他	10.0	2.88	54.4	4.89
2. 筹资费用	8.5	2.45	48.0	4.32
3. 管理费用	17.3	4.99	64.8	5.83
支出合计	346.8	100	1112.3	100

86. 2012年度免费午餐基金接受的在线捐款比上年约增长了（ ）。

- A. 28.9% B. 35.5% C. 38.8% D. 53.3%

87. 2012年度免费午餐基金接受的捐赠收入中，银行捐赠汇款所占比重约是（ ）。

- A. 55.1% B. 56.7% C. 58.9% D. 60.3%

88. 2012年度筹资费用约是2011年度的多少倍？（ ）

- A. 5.6 B. 4.2 C. 2.9 D. 1.7

89. 2011~2012年，捐赠支出占免费午餐基金支出的比重约是（ ）。

- A. 84.9% B. 86.1% C. 89.6% D. 90.5%

90. 以下说法正确的是（ ）。

- A. 在线捐款收入是免费午餐基金接受捐赠的主要方式
 B. 物质捐赠支出是免费午餐基金捐赠支出的主要方式
 C. 自启动以来免费午餐在2011年的月均捐赠收入不到200万元
 D. 2012年度免费午餐基金的支出总额是2011年度的3倍以上

抽样调查数据显示，2014年1~5月A区农村居民人均现金收入9053元，同比增长10.3%，增速较去年同期提高0.4个百分点，其中人均工资性收入为5421元，同比增长8.5%；人均家庭经营收入为760元，同比下降0.6%；人均财产性收入为1241元，同比增长28.7%；人均转移性收入为1631元，同比增长10%。2014年1~5月A区农村居民人均消费性支出5081元，同比增长9.9%，增速较去年同期下降1.7个百分点。

2014年1~5月A区农村居民人均生活消费支出情况

	1~5月(元)	同比增长(%)
生活消费支出	5081	9.9
1.食品消费	2250	4.8
2.衣着	472	8.6
3.居住	695	18.0
4.家庭设备、用品及服务	314	1.1
5.交通和通讯	491	22.9
6.文化教育娱乐用品及服务	305	4.5
7.医疗保健	416	22.3
8.其他商品和服务	138	21.9

91. 2013年1~5月A区农村居民人均现金收入增速比人均消费性支出增速()。

- A. 高0.4个百分点 B. 高2.1个百分点 C. 低1.3个百分点 D. 低1.7个百分点

92. 2014年1~5月A区农村居民四项人均现金收入同比增量由高到低依次为()。

- A. 工资性收入、转移性收入、财产性收入、经营性收入
 B. 财产性收入、转移性收入、工资性收入、经营性收入
 C. 工资性收入、财产性收入、转移性收入、经营性收入
 D. 经营性收入、工资性收入、转移性收入、财产性收入

93. 一个支出水平与平均水平相当的A区农村居民三口之家，其2014年1~5月月均居住支出为多少元？()

- A. 139 B. 417 C. 695 D. 2085

94. 2013年1~5月A区农村居民8类生活消费支出中，人均支出最多的三类是()。

- A. 家庭设备用品及服务、文化体育娱乐用品及服务、其他商品和服务
 B. 交通和通讯、居住、食品消费
 C. 交通和通讯、医疗保健、其他商品和服务
 D. 食品消费、衣着、居住

95. 下列关于2014年1~5月A区农村居民收入和支出情况的说法，正确的是()。

- A. 人均现金收入比人均消费性支出高4000多元
 B. 人均食品消费支出超过生活消费支出的一半
 C. 人均医疗保健支出同比增量高于人均衣着支出同比增量
 D. 人均交通和通讯支出占消费性支出比重低于上年水平

免费午餐基金自2011年4月正式启动，截止2012年底，总收入为4377.4万元，总支出为1459.1万元，结余2918.3万元。

表 1 免费午餐基金收入明细表

分 类	2011 年度		2012 年度	
	金额 (万元)	占总收入比重 (%)	金额 (万元)	占总收入比重 (%)
1. 捐赠收入	1824.9	99.53	2473.1	97.22
其中: 银行捐赠汇款收入	1196.5	65.25	1402.0	55.12
在线捐款收入	254.6	13.89	353.4	13.89
网上商城捐款收入	373.8	20.39	573.2	22.53
物质捐赠收入	-	-	144.5	5.68
2. 其他收入	8.6	0.47	70.8	2.78
收入合计	1833.5	100	2543.9	100

表 2 免费午餐基金支出明细表

分 类	2011 年度		2012 年度	
	金额 (万元)	占总收入比重 (%)	金额 (万元)	占总收入比重 (%)
1. 业务活动成本	321.0	92.56	999.5	89.86
其中: 捐赠支出	311.0	89.68	945.1	84.97
现金捐赠支出	311.0	89.68	801.0	72.01
物质捐赠支出	-	-	144.1	12.96
其他	10.0	2.88	54.4	4.89
2. 筹资费用	8.5	2.45	48.0	4.32
3. 管理费用	17.3	4.99	64.8	5.83
支出合计	346.8	100	1112.3	100

96. 2012年度免费午餐基金接受的在线捐款比上年约增长了 ()。

- A. 28.9% B. 35.5% C. 38.8% D. 53.3%

97. 2012年度免费午餐基金接受的捐赠收入中, 银行捐赠汇款所占比重约是 ()。

- A. 55.1% B. 56.7% C. 58.9% D. 60.3%

98. 2012年度筹资费用约是2011年度的多少倍? ()

- A. 5.6 B. 4.2 C. 2.9 D. 1.7

99. 2011~2012年, 捐赠支出占免费午餐基金支出的比重约是 ()。

- A. 84.9% B. 86.1% C. 89.6% D. 90.5%

100. 以下说法正确的是 ()。

- A. 在线捐款收入是免费午餐基金接受捐赠的主要方式
 B. 物质捐赠支出是免费午餐基金捐赠支出的主要方式
 C. 自启动以来免费午餐在2011年的月均捐赠收入不到200万元
 D. 2012年度免费午餐基金的支出总额是2011年度的3倍以上