

职测模拟卷（十四）

一、言语理解与表达

1. 在人类文明史上，古埃及人和两河流域的苏美尔人，都曾创造过古老的文字。然而，随着时间的流逝，这些文字早已消亡。时至今日，_____的古老文字，唯有中国人创立的汉字。作为伟大的汉文化的载体和媒介，汉字依然_____，堪称当今世界上最有生命力的文字之一。

依次填入划横线部分最恰当的一项是（ ）。

- A. 硕果仅存 长盛不衰
B. 凤毛麟角 源远流长
C. 出类拔萃 博大精深
D. 鹤立鸡群 方兴未艾

2. 阿兹特克文明的帝国都城——特诺奇蒂特兰，在给人以神秘感的同时，也透出一丝淡淡的忧伤。神话传说与真实故事的_____，光辉帝国史与悲惨殖民史的_____，令人在心驰神往的同时，感慨时过境迁、沧海桑田。

依次填入划横线部分最恰当的一项是（ ）。

- A. 纠缠 消散
B. 交织 更迭
C. 重叠 嬗变
D. 合契 幻灭

3. 人口迁移改变了中国城乡的人口格局，以最_____的方式推动了移民城市的形成，这一城市形态与传统的_____城市在性质上有着本质的区别。

依次填入划横线处最恰当的一项是（ ）。

- A. 直接 地域
B. 一般 地方
C. 简单 地区
D. 基本 区域

4. 书店应当想方设法降低书价或改善服务，让读者_____地掏钱，而不是_____，指责消费者说，我们费了这么大心思，你怎么还是跑去网上买书，太不道德了！

填入划横线部分最恰当的一项是（ ）。

- A. 真心诚意 悲天悯人
B. 心悦诚服 自怨自艾
C. 心甘情愿 怨天尤人
D. 慷慨解囊 自说自话

5. 批评者该如何批评艺术家？此处的批评当然不只是_____的批评，毫不留情的“炮轰”、恨铁不成钢的指责，还包括善意的提醒、温和的建议以及诚恳的交流等等。但是，无论是声色俱厉还是_____，都应该坚守一个底线，即真实、善意、有真见解、_____内心的操守。

依次填入划横线部分最恰当的一项是（ ）。

- A. 消极 和风细雨 守护
B. 苛刻 循循善诱 笃定

C.激烈 推心置腹 遵循D.严厉 温文尔雅 秉持

6.如果说清末的红学还只是一种开玩笑式的诨号,1921年后红学则确实已成为一种_____的专门之学。由于胡适的提倡,《红楼梦》的考证工作已和中国近代学术的主流——从乾、嘉考据学到“五四”之后的国故整理——汇合了。因此,从学术史的观点来看,“红学”无疑地可以和其他当代的显学——如“甲骨学”或“敦煌学”等_____，而毫无愧色。

填入划横线部分最恰当的一项是()。

- A.严格 平分秋色
B.严谨 三足鼎立
C.严密 等量齐观
D.严肃 并驾齐驱

7.文字是人们现实生活中的一部分,是人类思维方式、生活方式等最生动的_____。一种文字发明、演变的过程越是漫长,它所反映的这些方面的内容就越深刻。

填入划横线部分最恰当的一项是()。

- A.工具
B.形式
C.载体
D.记录

8.所谓城市文化,说到底是一个城市的灵魂,它可以体现为_____的城市建筑,也可以体现为传统遗存的保证和文化产业的生长,但归根结底,它体现的应是一个城市的价值和精神。如此,城市才可宜居,不同社会阶层之间的关系才可_____，一代又一代的居民才可扎根,经济发展才可能藉此获得自己的文化面孔。

依次填入下面横线处的词语最恰当的是()。

- A.气势恢宏 平衡
B.千姿百态 亲密
C.别具一格 和睦
D.美轮美奂 和谐

9.为什么一些商品的供求关系会落入尴尬境地?为什么人们对中国品牌信心不足?_____可见,这种营商理念下的商业模式,迷失了产业优化升级的方向,破坏了我国经济的微观基础,造成了供求的不匹配。

- ①如果一种产品利润极低,则肯定无法投入资金进行创新和提升品牌形象
②这一营商理念的问题在哪里呢
③在过去很长的一段时间里,我国企业实行的是低成本低利润扩张、追求市场份额最大化的做法
④我们知道,对于任何产品,只有存在合理利润,才有可能继续投入资金进行研发,促使产品更新换代,促使品牌深入人心
⑤这需要分析我国企业的营商理念与商业模式
⑥同时,极低利润基础上的低成本竞争极易导致假冒伪劣商品横行,这又进一步损害了品牌形象
- 将以上6个句子重新排列后插入横线中,语序正确的是()。

- A.②⑤③④①⑥
B.⑤③②④①⑥
C.⑤③②①⑥④
D.②⑤③①④⑥

10.随着计算机网络的快速发展,手机使用的普遍化,汉字书写由原来的毛笔与硬笔日益转变为键盘和拇指。调查显示:37%的人经常提笔忘字,甚至很多不难的字都忘了怎么写;22%的人要写字时首先想依靠的是电脑,而不是笔;13%的人去外面听课或者开会,最怕的就是记笔记。网络化、键盘化、拇指化,已经不仅让人们体验不到汉字书写带来的愉悦,还造成了对汉字的隔膜与疏离。提高国人对汉字传承的认识,已是一种迫在眉睫的大事。

对这段文字概括最准确的是（ ）。

- A. 当下语言文字传承面临着内忧外患
- B. 提笔忘字成了当下国人的普遍现象
- C. 国人对于汉字的重视程度不容乐观
- D. 媒介转型加速人们对汉字的遗忘

11. 魏文王问名医扁鹊说：“你们家兄弟三人，都精于医术，到底哪一位最好呢？”扁鹊回答说：“长兄最好，中兄次之，我最差。”文王再问：“那么为什么你最出名呢？”扁鹊回答说：“我长兄治病，是治病于病情发作之前。由于一般人不知道他事先能铲除病因，所以他的名气无法传出去，只有我们家的人才知道。我中兄治病，是治病于病情初起之时。一般人认为他只能治轻微的小病，所以他的名气只及于本乡里。而我扁鹊治病，是治病于病情严重之时。一般人都看到我在经脉上穿针管来放血、在皮肤上敷药等大手术，所以认为我的医术高明，名气因此响遍全国。”文王说：“你说得好极了。”

这个故事不能给公务员工作带来的启示是（ ）。

- A. 事后处理不如事中处理
- B. 事中处理不如事前处理
- C. 疏忽可能造成重大损失
- D. 不要为表面现象所迷惑

12. 目前上班每天8小时，中间吃一顿饭，因为这顿饭至少浪费一小时时间，得不偿失。如果吃两顿，上午10点上班，下午4点下班，两头吃饭时间都宽裕，对身体也好，符合早吃饱、晚吃早的养生理念。每天6小时上班效率高，精力集中，不间断就不浪费时间，晚上还能拉动社会消费，第二天早起会无碍。

这段文字主要想说明（ ）。

- A. 吃三顿饭弊大于利
- B. 吃饭是民生头等事
- C. 吃饭要讲时间成本
- D. 吃两顿饭好处多多

13. 目前，研究人员尚不能确定，是先有抑郁症，还是先有沉溺网络，但有一点是肯定的，即两者之间是一种恶性循环。抑郁症可以使青少年更加沉溺于网络，有抑郁症状的青少年基本没有生活目标，网络游戏中获得的虚拟奖励对他们来讲很有吸引力，虽然网络世界热闹非凡，但沉溺其中的青少年内心却异常孤独。

这段文字表达的中心意思是（ ）。

- A. 研究人员对抑郁症和沉溺网络的关系还没有搞清楚
- B. 沉溺网络对青少年心理健康产生了严重不良影响
- C. 网络游戏中的虚拟奖励对青少年吸引力很大
- D. 抑郁症和沉溺网络之间存在着一种恶性循环的关系

14. 一个民族作为稳定的共同体而存在，维系它的核心是内在的价值认同。文学“虚无”历史，以相对主义的态度从文化源头和根脉处进行拆解，剔除了彰显历史趋向、代表文明进步的文化价值。历史人物和历史事件所体现的政治价值、伦理价值、审美价值，是经过历史积淀和检验所形成的结论，这些结论构成了具有稳定性的价值坐标。一旦这座价值坐标被铲除夷平，也就没有了野蛮与文明、落后与进步的分野，没有了是非之辩、善恶之分、美丑之心，这只能导致文化价值进一步碎片化，造成种种精神乱象，影响民族文化认知的深度和广度。

根据这段文字，下列特征符合文学“虚无”历史现象的是（ ）。

- A. 学说体系支离破碎
- B. 事件阐释生搬硬套
- C. 历史评论去价值化
- D. 文化认知浅显庸俗

15. 究竟什么是地震预警呢？专家指出，“地震预警”是在地震已经发生，抢在严重灾难尚未形成

之前发出警报，从而缩短反应时间，采取紧急措施来减少人员伤亡以及由地震引起的高铁、地铁、输油气、燃气管线、化工厂和核设施等重点工程的次生灾害。而“地震预报”是对尚未发生的可能地震事件提前发出通知。王墩说：“地震预报在全世界范围内仍是一道难题，但地震预警是完全可行的，地震预警技术的核心就是利用地震波和电波的时间差发出警报。”

从地震知识角度看，地震预警与预报的主要区别是（ ）。

- A. 时间不同 B. 内容不同 C. 科研难度不同 D. 使用的技术不同

二、数量关系

16. $0, 1, \frac{3}{5}, \frac{11}{8}, \frac{25}{13}, (\quad)$

- A. $\frac{137}{30}$
 B. $\frac{137}{60}$
 C. $\frac{137}{72}$
 D. $\frac{137}{90}$

17. $2, 1, 4, 5, 8, 9, 16, 13, 32, 17, (\quad)$

- A. 64. 19 B. 64. 21 C. 128. 19 D. 128. 21

18. $0, 6, 24, (\quad)$

- A. 48 B. 60 C. 72 D. 96

19. $1, 2, 1+\sqrt{2}, 1+\sqrt{3}, 3, (\quad)$

- A. $1+\sqrt{5}$
 B. 4
 C. $3+\sqrt{3}$
 D. $3+\sqrt{5}$

20. $4, 1, 0, 2, 10, 29, 66, (\quad)$

- A. 101 B. 116 C. 125 D. 130

21. 阳光下，电线杆的影子投射在墙面及地面上，其中墙面部分的高度为1米，地面部分的长度为7米。甲某身高1.8米，同一时刻在地面形成的影子长0.9米。则该电线杆的高度为（ ）。

- A. 12米 B. 14米 C. 15米 D. 16米

22. 植树节当天，某学校的两个班自发组织了一些人去植树。甲班每人植树3棵，乙班每人植树5棵，两个班共植树115棵。那么，两班植树人数之和最多为（ ）人。

- A. 36 B. 37 C. 38 D. 39

23. 用40厘米×60厘米的方砖铺一个长方形房间的地面，在不破坏方砖的情况下，正好需要用60块方砖。假设该长方形地面的周长的最小值为X米，那么X的值在以下哪个范围内？（ ）

- A. $X < 15$ B. $15 \leq X < 16$ C. $16 \leq X < 17$ D. $X \geq 17$

24. 有A、B两瓶混合液，A瓶中水、油、醋的比例为3:8:5，B瓶中水、油、醋的比例为1:2:3，将A、B两瓶混合液倒在一起后，得到的混合液中水、油、醋的比例可能为（ ）。

A. 4:5:2

B. 2:3:5

C. 3:7:7

D. 1:3:1

25. 甲、乙工程队需要在规定的工期内完成某项工程。若甲队单独做，则要超工期9天才能完成；若乙队单独做，则要超工期16天才能完成；若两队合做，则恰好按期完成。那么，该项工程规定的工期是（ ）。

A. 8天

B. 6天

C. 12天

D. 5天

26. 某汽车座垫加工厂生产一种汽车座垫，每套成本是144元，售价是200元。一个经销商订购了120套这种汽车座垫，并提出：如果每套座垫的售价每降低2元，就多订购6套。按经销商的要求，该加工厂获得最大利润需售出的套数是（ ）。

A. 144

B. 136

C. 128

D. 142

27. 某次考试前三道试题的总分值是60分，已知第一题比第二题的分值少4分，第二题比第三题的分值少4分，问第三题的分值是多少分？（ ）

A. 18

B. 16

C. 24

D. 22

28. 设有编号为1、2、3、……、10的10张背面向上的纸牌，现有10名游戏者，第1名游戏者将所有编号是1的倍数的纸牌翻成另一面向上的状态，接着第2名游戏者将所有编号是2的倍数的纸牌翻成另一面向上的状态，……，第n名（ $n \leq 10$ ）游戏者，将所有编号是n的倍数的纸牌翻成另一面向上的状态，如此下去，当第10名游戏者翻完纸牌后，那些纸牌正面向上的最大编号与最小编号的差是（ ）。

A. 2

B. 3

C. 4

D. 5

E. 6

F. 7

G. 8

H. 9

29. 为响应建设“绿色城市”的号召，某社区义务植树300棵，由于参加植树的全体党员植树的积极性高涨，实际工作效率为原来的1.2倍，结果提前20分钟完成任务。则原来每小时植树多少棵？（ ）

A. 120

B. 150

C. 135

D. 125

30. 某商场搞促销活动，消费100元送20元代金券，再买东西可顶20元。某顾客先花100元买了一件衬衫，再用代金券及现金买了同样的衬衫，则顾客得到的优惠率为（ ）。

A. 9.5折

B. 9折

C. 8.5折

D. 8折

三、判断推理

31.

◎!&~※~&!◎※

A.

!◎&~※~&※◎!

B. ~◎!&※&!※~◎

C. ※&!~◎~!&※◎

D. &!◎※~!※◎&~

32. 流芳百世：遗臭万年

A. 佳偶天成：夫唱妇随

B. 近朱者赤：近墨者黑

C. 富商大贾：小商小贩

D. 卧虎藏龙：藏污纳垢

33. 合同：签字

A. 申请：同意

B. 文件：存档

C. 婚姻：结婚

D. 毕业证：盖章

34. 游轮 对于 () 相当于 () 对于 宣传

A. 观光 海报

B. 航行 飞机

C. 客轮 讲座

D. 港口 广告

35. 轮船：运输

A. 跑步机：长寿

B. 蛋糕：生日

C. 导航仪：路线

D. 医生：治病

36. 某刑事人类学家在对260名杀人犯的外貌进行了考察后，发现他们具有一些共同的生理特征，于是得出“杀人犯具有广颧、颧骨突出、头发黑而短特征”的结论。

以下哪项与上述推理方式相同？()

A. 24~28之间没有质数

B. 八月十五云遮月，正月十五雪打灯

C. 植物种子经超声波处理后可增产，所以玉米种子经超声波处理后也可以增产D.

某高校在对全校学生进行调查后，得出“我校同学学习态度普遍较好”的结论

37. 鞋厂工人打算举行罢工，除非老板给他们涨工资。为给工人涨工资，老板必须卖掉一部分厂房。现在，工人的工资没涨。

根据上述信息可以确定()。

A. 鞋厂老板将会蒙受更大损失

B. 鞋厂工人会罢工

C. 鞋厂老板没有能力满足工人的涨工资要求

D. 鞋厂的厂房没有被卖掉

38. 最近几十年，花生过敏问题因其潜在的危险性及全球不断增加的发病率而日益受到关注。在美国国家过敏症和传染病研究所的资助下，英国伦敦大学国王学院研究人员得出一个结论：从小就开始吃 含花生的食品，会使人对花生过敏的风险大幅降低。

以下哪项如果为真，最能支持上述结论？()

A. 婴儿从4个月就开始吃鸡蛋，会使其对鸡蛋过敏的风险大幅降低

B. 小孩停止定期食用花生制品之后，防止花生过敏的效果会仍然存在 C.

美国国家过敏症和传染病研究所建议婴儿摄取花生制品以预防过敏 D.

定期吃花生制品的婴儿，到5岁时对花生过敏的风险降低了81%

39. 人类排放温室气体导致北极冰川开始消融，海平面扩大。冰川可以反射85%的太阳光，而海水只

反射5%的太阳光，越来越多的海水吸收更多能量，进一步加速冰川消融。以

下哪一项中的因果关系与题干最为相同？（ ）

A. 商场为某名牌香水做推广和宣传，顾客购买几次后发现该香水香氛淡雅，持久清新，成为了该品牌香水的忠实顾客

B. 英语考试在即，王强不得不每天早起诵读英语，早上空气清新，精神抖擞，英语考试结束后，王强依然坚持早起

C. 张楠在爸爸的引荐下，认识了一些证券交易的客户，这个圈子的客户发展是滚雪球式的，张楠认识的客户越来越多

D. 使用新方法后，刘丹的平面几何成绩迅速提高，由于平面几何很多原理可用在立体几何中，刘丹的立体几何成绩也很快提高

40. 笔迹，广义上讲，是运用各种工具在一定界面上书写的带有文字规范限制的痕迹。狭义上讲，就是指在自然状态下由书写人留在纸张上的带有文字规范限制的书写痕迹。因为书写者的性格和心理特征是不同的，由此可以推测，研究人的笔迹可以分析书写者的性格特点和心理状态。

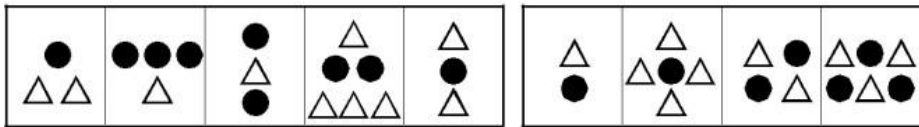
以下哪项如果为真，最能支持上述推测？（ ）

A. 不同笔迹的连笔程度和笔画结构是不同的

B. 近代以来，很多先进的理论和仪器被用来进行笔迹鉴定

C. 据调查，现在很多公司在招聘员工时加入了笔迹分析这一项

D. 书写的压力、笔画结构和字体大小能反映人的自我意识和对外部世界的态度



A. A

B. B

A

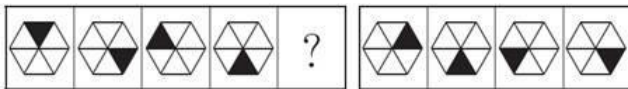
B

C

D

D. D

42. 请选择最适合的一项填入问号处，使之符合之前四个图形的变化规律。



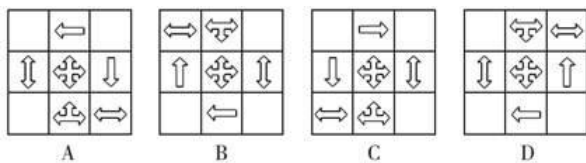
A. A

B. B

C. C

D. D

43. 下列四个图形中，与其他三个图形不相称的一个图形是（ ）。



A. A

B. B

C. C

D. D

44. 从所给的四个选项中，选择最合适的一项填入问号处，使之呈现一定的规律性。



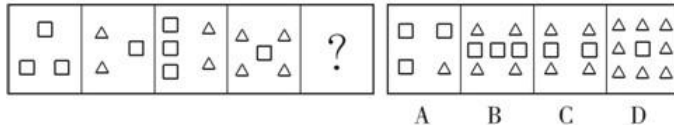
A. A

B. B

C. C

D. D

45. 从所给的四个选项中，选择最合适的一个填入问号处，使之呈现一定的规律性。



A. A

B. B

C. C

D. D

四、常识判断

46. 下列哪项是我国在“十二五”开局之年取得的科技成就？（ ）

A. 我国首辆高速磁浮国产化样车交付使用，标志着我国已经具备了磁浮车辆国产化设计、整车集成和制造能力

B. 我国具有自主知识产权的戊型肝炎疫苗研制成功，标志着我国在戊型肝炎疫苗研制上已经处于世界领先地位

C. 我国第一台自行设计，自主集成研制的“蛟龙号”载人潜水器3000米级海试取得成功，标志着我国成为世界上掌握3500米以上大深度载人深潜技术的国家之一

D. 国内首套具有自主知识产权的“机载SAR测图系统”研制成功，至此，我国可成功实现全天候、全天候从万米高空获取高分辨率测绘数据，及时动态监测地理国情

47. 长城是我国首批世界文化遗产，下列不属于长城沿线世界文化遗产的是（ ）。

A. 莫高窟

B. 云冈石窟

C. 秦始皇陵及兵马俑坑

D. 安阳殷墟

48. 新型城市目标是建设绿色城市、智慧城市、创新城市、人文城市、紧凑城市、海绵城市。下列关于海绵城市的举措哪项为正确的？（ ）

A. 提高城市开发度和包容性

B. 加强城市现代信息基础设施建设

C. 加强城市空间开发利用管理

D. 加强城市防洪与调蓄设施建设

49. 下列古诗词与所涉及的历史人物对应错误的是（ ）。

A. 三十功名尘与土，八千里路云和月——岳飞

B. 人生自古谁无死，留取丹心照汗青——文天祥

C. 三顾频频天下计，两朝开济老臣心——诸葛亮

D. 恸哭六军俱缟素，冲冠一怒为红颜——唐玄宗

50. “正义不仅要实现，而且要以看得见的方式实现”，这句话体现了程序正义，即裁判结论要得到人们的普遍认可，裁判者必须确保判决符合公正、正义的要求。下列说法违背了程序正义的是（ ）。

A. 刑事案件的判处要重证据，不轻信口供

B. 罚款应当由作出罚款决定的行政机关收缴

C. 与案件有利害关系的审判人员，应当回避

D. 证人证言必须在法庭上经过询问、质证并查证属实后才能作为定案依据

51. 行政法是调整行政活动的法律规范的总称，分为一般行政法和特别行政法两个部分。下列法律属于一般行政法的是（ ）。

- A. 《国防法》 B. 《预算法》 C. 《国家安全法》 D. 《公务员法》

52. 调查研究发现，由于原料、人工等成本大幅攀升，很多农产品的价格上涨是成本推动型的，还有些是周期性的。这种通过调查研究得出结论的做法符合（ ）。

- A. 一切从实际出发，实事求是的要求 B. 用发展的观点看问题的要求
C. 两点论和重点论相统一的要求 D. 唯物主义的方法论要求

53. 雨后晴朗的月夜，为了防止踩到地上的积水，下列判断正确的是（ ）。

- A. 迎着月光走，地上发亮处是水；背着月光走，地上暗处是水 B.
迎着月光走或背着月光走，都应该是地上暗处是水
C. 迎着月光走或背着月光走，都应该是地上发亮处是水
D. 迎着月光走，地上暗处是水；背着月光走，地上发亮处是水

54. 下列关于我国京剧的表述中，不正确的是（ ）。

- A. 京剧已列入人类非物质文化遗产代表作名录B.
京剧中一般用黑色脸谱来表示忠勇侠义
C. 京剧“四大名旦”是指梅兰芳、程砚秋、尚小云和荀慧生 D.
唱、念、做、打是京剧表演的四种艺术手法

55. 关于危险物品的保存和运输，下列做法错误的是（ ）。

- A. 用铁罐储存和运输浓硫酸 B. 在氯气泄漏时喷洒石灰水
C. 在放射性物质污染区域佩戴防毒面具 D. 用泡沫灭火器扑灭钠、镁等活泼金属火灾

五、资料分析

经过50多年的发展，我国台湾地区资本市场建立起由“证券交易所集中市场—上柜市场—兴柜市场”构成的完善成熟的多层次资本市场体系。近年由于金融海啸、欧债危机等因素影响，台湾多层次资本市场总体市值从2010至2012年连续3年下降，2012年较2011年衰退23.38%。周转率也呈现逐年下降趋势，2012年证券交易所集中市场周转率为97%，上柜市场周转率为175%，兴柜市场周转率为27%。

2012年台湾多层次资本市场一览表（单位：10亿新台币）

项 目	证交所集中市场	上柜市场	兴柜市场
挂牌公司数（家）	809	638	285
资本额	6384	667	335
总市值	21352	1737	538
挂牌公司营收	20083	1384	497
总成交值	20789	2987	154

台湾资本市场第一层次是证券交易所集中市场。在准入门槛方面，台湾证交所要求上市企业实收资本6亿新台币以上；从设立年限来看，要求上市企业设立满3年以上；从获利能力来看，要求上市企业最近1个会计年度无累计亏损，且税前利润占财务报表中的比率最近5个年度达到3%以上，或最近2个年度都达6%。至2012年底止，上市公司有809家，资本额6.384兆新台币，台湾证券交易所总市值在世界交易所联合会（WFE）会员中排名与前一年份相同，为第22名，所占比重仍为1.34%；成交值排名第15名，排名不变，所占比重由1.41%略微降至1.39%；周转率排名为第9名，较2011年下降2名。

台湾资本市场第二层次是上柜市场。在准入门槛方面，上柜市场要求公司实收资本额必须在新台币5000万元以上；从获利能力来看，上柜公司要求个别及合并财务报表获利能力最近年度达4%以上，且其最近

一个会计年度结算无累积亏损，或最近二个年度获利能力均达2%以上。至2012年底，上柜公司有638家，资本额0.667兆新台币，总市值1.737兆新台币。

台湾资本市场第三层次是兴柜市场。在准入门槛方面，兴柜市场没有营业利润、资本额、设立年限的限制，只须符合已经申报上市或上柜辅导且有两家以上证券商书面推荐。至2012年底，兴柜公司有285家，资本额0.335兆新台币，总市值0.538兆新台币。

56. 2012年，台湾某企业家实收资本为2亿新台币，该企业最近2个年度财务报表获利能力均为3%，该企业最适合进入台湾哪个资本市场？（ ）

- A. 证券交易所集中市场 B. 上柜市场 C. 兴柜市场 D. 无法进入

57. 2012年世界交易所联合会（WFE）会员总市值为（ ）。

- A. 894.73兆新台币 B. 1593.43兆新台币 C. 1799.73兆新台币 D. 2135.22兆新台币

58. 2012年台湾证券交易所集中市场平均每家公司成交值约是兴柜市场平均每家公司成交值的（ ）。

- A. 17.6倍 B. 27.6倍 C. 37.6倍 D. 47.6倍

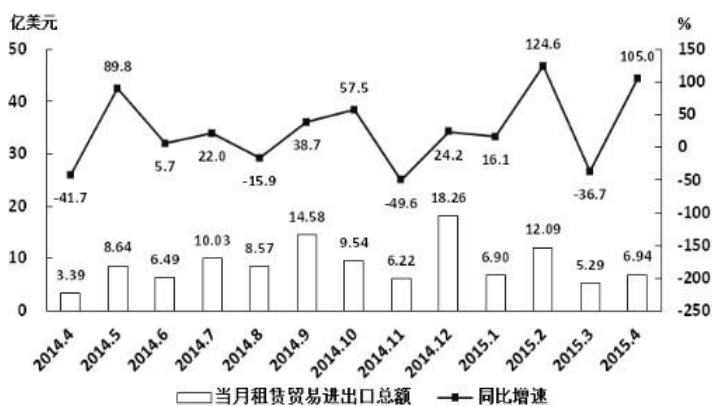
59. 2011年台湾三个层次资本市场的总成交值约为（ ）。

- A. 15.441兆新台币 B. 23.931兆新台币 C. 31.232兆新台币 D. 45.023兆新台币

60. 同2011年相比，2012年台湾证券交易所在世界交易所联合会（WFE）中，发生变化的是（ ）。

- A. 总市值排名 B. 总市值比重 C. 成交值比重 D. 成交值排名

2014年4月~2015年4月全国租赁贸易进出口总额及增速统计



61. 2014年下半年全国租赁贸易进出口总额约为多少亿美元？（ ）

- A. 55 B. 62 C. 67 D. 74

62. 下列月份中，全国租赁贸易进出口总额环比增速最快的是（ ）。

- A. 2014年5月 B. 2014年9月 C. 2014年12月 D. 2015年2月

63. 2015年一季度全国租赁贸易进出口总额较上一季度约（ ）。

- A. 增长了30% B. 降低了30% C. 增长了40% D. 降低了40%

64. 2014年5月~2015年4月间，全国租赁贸易进出口总额及同比增速均高于上月的月份有几个？（ ）

- A. 5 B. 6 C. 7 D. 8

65. 能够从上述资料中推出的是（ ）。

- A. 2015年4月全国租赁贸易进出口额比2013年4月翻了一番
- B. 2015年1~4月月均全国租赁贸易进出口额超过8亿美元
- C. 2013年8~9月全国租赁贸易进出口额超过20亿美元
- D. 图中全国租赁贸易进出口额同比下降的月份占总数的三分之一